



ESTADO DO TOCANTINS  
PODER LEGISLATIVO

# DIÁRIO DA ASSEMBLEIA

— Instituído pela Lei Nº 4.294, de 6 de dezembro de 2023 —

ASSEMBLÉIA LEGISLATIVA  
ESTADO DO TOCANTINS  
PALÁCIO DEPUTADO JOÃO D'ABREU

**10ª LEGISLATURA**  
2ª SESSÃO LEGISLATIVA

PALMAS/TO, TERÇA-FEIRA, 16 DE ABRIL DE 2024.

ANO XXXIV - EDIÇÃO Nº **3771 - SUPLEMENTO**



Deputados(as) 10ª Legislatura



Mesa Diretora



Comissões

## Sumário

Esta edição contém 710 Páginas

<b>ATOS ADMINISTRATIVOS.....</b>	<b>2</b>
<b>DEMAIS ATOS ADMINISTRATIVOS.....</b>	<b>2</b>

**DIRETORIA DE ÁREA LEGISLATIVA**  
**Diretoria de Documentação e Informação**  
Coordenadoria de Publicações Oficiais

Palácio Deputado João D'Abreu  
Praça dos Girassóis - CEP 77003-905  
Palmas - TO

Autenticidade da edição garantida quando  
visualizada diretamente no portal  
<https://www.al.to.leg.br/diario>

# ATOS ADMINISTRATIVOS

## Demais Atos Administrativos

### COMISSÃO DE CONCURSO PÚBLICO DA ALETO Decreto Administrativo nº 1440/2023 Ata nº 23, de 15 de abril de 2024

Ata da vigésima terceira reunião da Comissão de Concurso Público da Assembleia Legislativa do Estado do Tocantins, realizada no dia 15 de abril de 2024, às 14h, no Gabinete da Diretoria de Área Administrativa da Assembleia Legislativa, nesta capital Palmas-TO, compareceram na reunião o Senhor Presidente, Alcir Raineri Filho, os membros Antonio Lopes Braga Junior e Regismarques Soares Camarço, e a Advogada representante da Ordem dos Advogados do Brasil - OAB/TO, Dra. Tereza Ibiapina. O Senhor Presidente declarou aberta a reunião, apresentando as provas Objetivas Tipo 1 - Branca e Tipo 2 - Verde, e Prova Discursiva - Manhã Nível Superior - Tipo 1 - Branca, bem como os gabaritos preliminares, do Edital nº 02/2023, para o cargo de Procurador Jurídico. Em seguida o Senhor Presidente passou a apresentação das Provas do Edital nº 01/2023 para provimento de vagas para os cargos de Analista Legislativo: Administração - Provas Tipos 1 e 2; Auditoria e Controle Interno - Prova Tipo 1; Ciências Contábeis - Prova Tipo 1; Ciências Econômicas - Prova Tipo 1; Cerimonial - Prova Tipo 1; Direito - Provas Tipos 1, 2, 3 e 4; Enfermagem - Provas Tipos 1 e 2; Análise de Sistema - Provas Tipo 1; Análise de Suporte em Informática - Prova Tipo 1; Suporte

Técnico em Informática - Prova Tipo 1; Desenvolvimento de Sistema - Prova Tipo 1; Web Designer - Prova Tipo 1; Jornalismo - Prova Tipo 1; Medicina - Prova Tipo 1; Pedagogia - Provas Tipo 1 e 2; Psicologia - Prova Tipo 1; Publicidade - Prova Tipo 1; Relações Públicas - Prova Tipo 1; Revisão - Prova Tipos 1 e 2; Engenharia - Prova Tipo 1; Arquitetura - Prova Tipo 1; Técnico Jurídico - Prova Tipo 1. Para o cargo de Policial Legislativo II, Polícia e Segurança II - Provas Tipos 1, 2, 3 e 4. Para os cargos de Técnico Legislativo: Assistência Administrativa - Provas Tipos 1, 2, 3 e 4; Audioeditoração - Prova Tipo 1; Cinegrafia - Prova Tipo 1; Fotografia - Prova Tipo 1; Técnico em Audio - Prova Tipo 1; Técnico em Enfermagem - Provas Tipos 1 e 2; Técnico em Segurança do Trabalho - Prova Tipo 1; Tradutor e Interpretador de LIBRAS - Prova Tipo 1; Técnico em Design Gráfico - Prova Tipo 1. Após análise de todos os documentos, cadernos de provas e gabaritos preliminares, apresentados pela FGV, os membros da comissão deliberaram, por unanimidade, pelo prosseguimento do certame autorizando a publicação no Diário Oficial Eletrônico da Assembleia Legislativa e no site da Fundação Getúlio Vargas - FGV. Para constar, lavrou-se a presente Ata que segue assinada.

Alcir Raineri Filho  
Presidente

Antônio Lopes Braga Júnior  
Membro

Regismarques Soares Camarço  
Membro

Tereza Ibiapina  
Representante da OAB



## ASSEMBLEIA LEGISLATIVA DO ESTADO DO TOCANTINS

CONCURSO PÚBLICO — EDITAL Nº 01/2023

### PROVA OBJETIVA — TARDE

#### ANALISTA LEGISLATIVO ADMINISTRAÇÃO NÍVEL SUPERIOR — TIPO 1 — BRANCA



#### SUA PROVA

- Além deste caderno contendo **70 (setenta)** questões objetivas, você receberá do fiscal de prova o cartão de respostas;
- As questões objetivas têm **5 (cinco)** opções de resposta (A, B, C, D) e somente uma delas está correta.



#### TEMPO

- Você dispõe de **5 (cinco) horas** para a realização da prova, já incluído o tempo para a marcação do cartão de respostas;
- 3 (três) horas** após o início da prova, é possível retirar-se da sala, sem levar o caderno de questões;
- A partir dos **30 (trinta) minutos** anteriores ao término da prova é possível retirar-se da sala **levando o caderno de questões**.



#### NÃO SERÁ PERMITIDO

- Qualquer tipo de comunicação entre os candidatos durante a aplicação da prova;
- Anotar informações relativas às respostas em qualquer outro meio que não seja o caderno de questões;
- Levantar da cadeira sem autorização do fiscal de sala;
- Usar o sanitário ao término da prova, após deixar a sala.



#### INFORMAÇÕES GERAIS

- Verifique se seu caderno de questões está completo, sem repetição de questões ou falhas. Caso contrário, **notifique imediatamente o fiscal da sala**, para que sejam tomadas as devidas providências;
- Confira seus dados pessoais, especialmente nome, número de inscrição e documento de identidade e leia atentamente as instruções para preencher o cartão de respostas;
- Para o preenchimento do cartão de respostas, use somente caneta esferográfica, fabricada em material transparente, com tinta preta ou azul;
- Assine seu nome apenas no(s) espaço(s) reservado(s) no cartão de respostas;
- Confira seu cargo, cor e tipo do caderno de questões. Caso tenha recebido caderno de cargo ou cor ou tipo diferente do impresso em seu cartão de respostas, o fiscal deve ser **obrigatoriamente** informado para o devido registro na ata da sala;
- Reserve tempo suficiente para o preenchimento do seu cartão de respostas. O preenchimento é de sua responsabilidade e **não será permitida a troca do cartão de respostas em caso de erro cometido pelo candidato**;
- Para fins de avaliação, serão levadas em consideração apenas as marcações realizadas no cartão de respostas;
- A FGV coletará as impressões digitais dos candidatos na lista de presença;
- Os candidatos serão submetidos ao sistema de detecção de metais quando do ingresso e da saída de sanitários durante a realização das provas.
- Boa prova!**

## CONHECIMENTOS BÁSICOS

### Língua Portuguesa

1

Observe o seguinte texto:

*Quando entrei no terrível vagão, ele estava ocupado por duas pessoas. Uma, dobrada, coberta, dormia profundamente. A coberta superior estava manchada, de fundo amarelado, como pele de leopardo. Vendem-se muitas mantas assim nas lojas de artigos de viagens, mas pude notar logo depois que se tratava realmente da pele de um animal selvagem; do mesmo modo, o boné da pessoa adormecida me pareceu ser de feltro branco bastante delicado. O outro viajante, uma aparência simpática, parecia ter passado dos trinta anos e mostrava-se como figura insignificante que passa confortavelmente as noites em estradas de ferro.*

Nesse fragmento textual, para criar sinais de história realista e verdadeira, o narrador apela para a seguinte estratégia:

- (A) seleciona uma situação banal da qual não precisa fornecer muitos detalhes, exatamente por sua banalidade.
- (B) fornece algumas marcas caracterizadoras dos dois personagens presentes no texto, destacando sua banalidade.
- (C) indica traços descritivos do ambiente, mostrando-o como se nada houvesse nele de excepcional.
- (D) mostra detalhes variados e bastante pitorescos dos objetos descritos.
- (E) dá ao leitor informações sobre personagens e ambiente, mostrando-os como bastante conhecidos do narrador.

2

Assinale a frase que mostra a palavra *mais* numa classe gramatical **diferente** das demais.

- (A) O mercado está prisioneiro de mais um círculo vicioso: piora porque piorou e porque piorou, piora.
- (B) Os ingleses conquistaram o mundo porque não aguentavam mais a própria cozinha.
- (C) Quanto mais vejo o estrangeiro, mais amo a minha pátria.
- (D) Não é mais possível aprender tudo de cor. Um homem instruído não é mais o homem que sabe muitas coisas; é o homem que sabe onde buscar informações.
- (E) Muda-se mais facilmente de religião do que de café

3

As frases a seguir mostram termos ligados pela conjunção OU.

Assinale a frase em que essa conjunção mantém o valor de alternativa (e não de adição).

- (A) João ou Pedro deve ser eleito presidente da empresa.
- (B) A alegria ou a tristeza fazem parte da vida.
- (C) Inglês ou francês são idiomas falados pelos turistas
- (D) Os clientes leem livros ou revistas enquanto esperam.
- (E) Vasco ou Flamengo são times de longa tradição.

4

Um guitarrista americano produziu o seguinte pensamento:

*O crítico de rock é alguém que não sabe escrever, entrevistando gente que não sabe falar, para gente que não sabe ler.*

Sobre a estruturação ou a significação desse pequeno texto, assinale a afirmativa **incorreta**.

- (A) O termo “de rock” funciona como complemento nominal do termo anterior.
- (B) Todos os elementos da cadeia comunicativa citados no texto são marcados pela ignorância.
- (C) O pensamento acima revela um preconceito fortíssimo contra os amantes de rock.
- (D) A opinião expressa no texto pode advir da experiência pessoal do autor, já que se trata de um guitarrista.
- (E) A injustiça desse texto provém de ser uma opinião fundamentada em uma autoridade duvidosa.

5

John Steinbeck, prêmio Nobel, declarou o seguinte:

*O homem é o único animal que bebe sem ter sede, come sem ter fome e fala sem ter nada a dizer.*

Em relação ao significado e à estruturação desse pequeno texto, assinale a afirmativa **incorreta**.

- (A) A frase ficaria mais enfática se invertêssemos a posição do termo inicial: O único animal que bebe sem ter sede, come sem ter fome e fala sem ter nada a dizer é o homem.
- (B) A inversão de alguns segmentos do texto em nada modificaria o sentido da frase: O homem é o único animal que come sem ter fome, bebe sem ter sede e fala sem ter nada a dizer.
- (C) Os segmentos finais do texto mostram preocupação com rigoroso paralelismo sintático.
- (D) Segundo a opinião do autor do texto, a marca principal do homem é a irracionalidade.
- (E) Nem todas as ações citadas como marcas humanas estão presentes, por oposição, nos outros animais.

6

Assinale a frase que **não** expressa uma noção de tempo abstrato.

- (A) Nas asas do tempo, a tristeza voa.
- (B) Quem mata o tempo não é assassino, é suicida.
- (C) O tempo perdido não se encontra nunca mais.
- (D) O tempo é o melhor professor. Infelizmente, ele mata todos os seus estudantes
- (E) O tempo gasto na viagem foi de duas horas.

7

Assinale a frase em que a utilização do acento grave indicativo da crase é realizada de forma **errada**.

- (A) Jamais alguém se arrependeu de ter-se acostumado à madrugar e à ter-se casado jovem.
- (B) Tempo é o suspiro de adeus do sol à terra.
- (C) Saio todos os dias às cinco horas e não permito que o meu trabalho interfira no meu jogo de tênis.
- (D) O momento de extrair uma lição da história está sempre à mão para os sábios.
- (E) Quando assumi, quatro anos atrás, estávamos à beira do precipício.

8

Os adjetivos podem representar estados, qualidades, características e relações.

Assinale a frase que mostra um tipo de adjetivo **diferente** dos demais.

- (A) Nunca houve criança tão amável que a própria mãe não ficasse satisfeita ao conseguir adormecê-la.
- (B) Nada mais perversamente cruel que uma adorável criança.
- (C) Mesmo estando doentes, as crianças não ficam caladas.
- (D) Quando as crianças estão quietas é porque fizeram alguma coisa errada.
- (E) As tangerinas verdes não amadurecem fora do pé.

9

Assinale a frase em que o adjetivo sublinhado mostra uma função sintática **diferente** das demais.

- (A) Por fora bela viola, por dentro pão bolorento.
- (B) Tiradentes, heroico, tentou organizar uma revolução.
- (C) Um rosto bonito altera-se depressa.
- (D) Eu não podia acreditar que existem múmias tão lindas.
- (E) Um homem belo é um homem insignificante.

10

Assinale a opção que mostra uma impropriedade léxica, ou seja, um emprego **inadequado** da expressão “cerca de”.

- (A) Havia cerca de três dúzias de convidados no final da festa.
- (B) Chegaram cerca de 100 cartas no mesmo dia.
- (C) Cerca de 18 lojas fecharam as portas mais cedo.
- (D) Os cantores receberam cerca de uma centena de convites.
- (E) A plantação produziu cerca de uma tonelada de legumes.

11

Muitas palavras portuguesas mostram o prefixo A- sem qualquer valor semântico, sendo equivalentes ao mesmo vocábulo sem esse prefixo.

Assinale a palavra a seguir que exemplifica esse A protético.

- (A) amostrar
- (B) abraçar
- (C) atenuar
- (D) aguardar
- (E) aparar

12

Observe o seguinte texto:

*A felicidade depende da habilidade que tenhamos naquelas atividades que consideramos importantes: somente se lhes damos um real valor aos pequenos detalhes cotidianos, poderemos ter instantes felizes. A felicidade absoluta não existe, e já que só podemos acessar os pequenos detalhes daquilo que nos interessa, devemos contentar-nos com isso. Por isso, a infelicidade é um sinal claro de nossa incompetência na arte de viver.*

Sobre a estrutura e a significação desse texto, assinale a afirmativa **inadequada**.

- (A) O tema do texto gira em torno do que consiste a felicidade e o que viria a ser o seu oposto.
- (B) A afirmação de que “A felicidade absoluta não existe” é de cunho pessoal do autor do texto, representando uma opinião.
- (C) O raciocínio utilizado na estruturação argumentativa é do tipo dedutivo.
- (D) O conector “Por isso” mostra a preocupação com o caráter lógico da argumentação.
- (E) A tese do texto é a de que a infelicidade é fruto de nossa incompetência na arte de viver.

## Raciocínio Lógico Matemático

13

Certo programa de rádio tem 1 hora e 55 minutos de duração. A partir do momento em que o programa é iniciado, há blocos temáticos de 7 minutos intercalados por blocos de propagandas de 2 minutos.

Em todos os blocos de propaganda, ouve-se o comercial do restaurante R, que sempre dura 18 segundos.

Se o programa começa e termina com um bloco temático, então, o tempo total do programa dedicado ao anúncio do restaurante R é

- (A) 3 minutos e 54 segundos.
- (B) 3 minutos e 36 segundos.
- (C) 3 minutos e 18 segundos.
- (D) 3 minutos.
- (E) 2 minutos e 48 segundos.

14

A linha de produção de certa fábrica produz 1100 latas de sardinhas a cada hora. Certo dia, por um defeito de calibragem do sistema, entre 13h e 14h, o volume de produção foi reduzido em 30% durante exatos 12 minutos.

A quantidade de latas de sardinhas produzidas no intervalo supracitado foi

- (A) 946.
- (B) 964.
- (C) 1022.
- (D) 1034.
- (E) 1046.

15

Marcelo está parado de frente para uma das paredes de uma sala quadrada. Nesta posição, ele está a 1m e 20cm da parede que se encontra à sua direita e a 1m e 70cm da parede que está às suas costas.

Ele, então, se desloca paralelamente às paredes da sala sendo 40cm para a frente e 80cm para a direita. Nessa nova posição, ele passou a distar 1m e 90cm da parede que antes estava à sua esquerda.

Desprezando-se as dimensões de Marcelo, a sua atual distância à parede que, antes dos movimentos, estava à sua frente, é

- (A) 20cm.
- (B) 30cm.
- (C) 40cm.
- (D) 50cm.
- (E) 60cm.

**16**

Um dado é dito comum quando tem a forma de um cubo e suas 6 faces são numeradas de 1 a 6, de tal forma que a soma dos números estampados em faces opostas, quaisquer que sejam elas, sempre somam 7.

Quando um dado comum é lançado, diz-se que o resultado do lançamento é o número estampado na face voltada para cima.

Um dado foi lançado 3 vezes seguidas. Se o produto dos resultados obtidos nos lançamentos vale 75, a soma desses resultados é igual a

- (A) 12.
- (B) 13.
- (C) 14.
- (D) 15.
- (E) 16.

**17**

Em certo ano, o dia 1º de agosto cai em um domingo. Logo, o dia 1º de novembro cairá em

- (A) um sábado.
- (B) um domingo.
- (C) uma segunda-feira.
- (D) uma quarta-feira.
- (E) uma sexta-feira.

**18**

Considere a seguinte proposição condicional:

*Se todos os alunos da Escola Aristarco gostam de matemática, então, ao menos um deles ganha medalha na Olimpíada Nacional de Matemática.*

Se essa proposição é verdadeira, é correto afirmar que

- (A) se nenhum dos alunos da Escola Aristarco gosta de Matemática, então nenhum deles ganha medalha na Olimpíada Nacional de Matemática.
- (B) se todos os alunos da Escola Aristarco ganham medalha na Olimpíada Nacional de Matemática, então, todos esses alunos gostam de Matemática.
- (C) se algum aluno da Escola Aristarco ganha medalha na Olimpíada Nacional de Matemática, então todos esses alunos gostam de Matemática.
- (D) se nenhum aluno da Escola Aristarco ganha medalha na Olimpíada Nacional de Matemática, então nenhum desses alunos gosta de Matemática.
- (E) se nenhum aluno da Escola Aristarco ganha medalha na Olimpíada Nacional de Matemática, então algum desses alunos não gosta de Matemática.

**19**

Em uma caixa, há muitas canetas esferográficas. Classificadas conforme a cor, elas podem ser azuis, vermelhas ou pretas. Classificadas quanto à espessura da esfera, elas podem ser de ponta fina ou de ponta grossa.

Metade das canetas vermelhas tem a ponta grossa. A quantidade total de canetas pretas é igual à quantidade total de canetas vermelhas. Entre as canetas de ponta grossa, a quantidade de azuis é igual à de pretas. A quantidade de canetas azuis com ponta fina é o dobro da quantidade de canetas pretas de ponta grossa.

Se, nessa caixa, 18 são azuis e 20 têm ponta grossa, então a quantidade total de canetas na caixa é

- (A) 30.
- (B) 40.
- (C) 48.
- (D) 50.
- (E) 52.

**20**

Tucídides possuía uma dívida e, em vez de quitá-la, pagou apenas 20% do seu valor, deixando o restante para ser quitado em data futura, com acréscimo de 12% a título de juros sobre o saldo devedor.

No ato de quitação, Tucídides pagou R\$2.329,60. Logo, o valor original da dívida é o resultado da seguinte expressão:

(A)  $2.329,60 \times 0,88 - 20$

(B)  $\frac{2.329,60}{0,88} \times 1,20$

(C)  $\frac{2.329,60}{1,12} \times 1,20$

(D)  $\frac{2.329,60}{1,12 \times 1,20}$

(E)  $\frac{2.329,60}{1,12 \times 0,8}$

**21**

As filhas de Nepomuceno têm 5 e 9 anos de idade. Ele dividirá R\$420,00 entre elas de forma inversamente proporcional às suas idades.

Logo

- (A) a mais nova receberá R\$120,00 a mais que a mais velha.
- (B) a mais nova receberá R\$150,00 a mais que a mais velha.
- (C) a mais nova receberá R\$270,00 a mais que a mais velha.
- (D) a mais velha receberá R\$120,00 a mais que a mais nova.
- (E) a mais velha receberá R\$150,00 a mais que a mais nova.

**22**

A negação da proposição:

$$\text{Se } y \neq 0, \text{ então } x > 2 \text{ e } x \leq 5$$

é dada por

- (A) Se  $y = 0$ , então  $x > 2$  e  $x \leq 5$
- (B) Se  $y = 0$ , então  $x < 2$  ou  $x \geq 5$
- (C)  $y = 0$  e  $x \leq 2$  ou  $x > 5$
- (D)  $y \neq 0$  e  $x \leq 2$  ou  $x > 5$
- (E)  $y \neq 0$  e  $x \leq 2$  e  $x > 5$

## Atualidades

23

De acordo com o censo demográfico de 2022 (IBGE), mais da metade da população brasileira (51,13%) é feminina, e elas representam, segundo o Tribunal Superior Eleitoral, 53% do eleitorado. No entanto, elas ocupam, hoje, menos de 15% dos cargos eletivos.

A respeito da baixa participação das mulheres na política, assinale a afirmativa que apresenta um dispositivo existente na legislação brasileira para alterar esse cenário.

- (A) Reserva de pelo menos 50% dos recursos do Fundo Especial de Financiamento de Campanha, o Fundo Eleitoral, para financiar candidaturas femininas.
- (B) Suspensão dos direitos eleitorais aos partidos em caso de não observância do percentual de pelo menos 30% de candidatas mulheres em cada ciclo eleitoral
- (C) Reserva de assentos, em ambas as casas legislativas, para mulheres, com preferência para as representantes de povos originários.
- (D) Cota de gênero, que obriga cada partido ou coligação a preencher o mínimo de 30% e o máximo de 70% de candidaturas de cada sexo.
- (E) Repasse de até 30% dos recursos dos Fundos Partidário para custear o tempo da propaganda eleitoral gratuita de candidatas em rádio e televisão.

24

A França se tornou o primeiro país do mundo a incluir na Constituição a liberdade de a mulher abortar. A mudança na Carta Magna foi aprovada em uma sessão conjunta das duas Casas legislativas, a Assembleia Nacional e o Senado, e será promulgada pelo presidente Emmanuel Macron ainda em março de 2024.

Adaptado de <https://www1.folha.uol.com.br/mundo/2024/03/>

Diferentemente da França, a legislação brasileira

- (A) equipara o aborto ao infanticídio.
- (B) considera o aborto uma prática ilegal em todas as situações.
- (C) descriminaliza a interrupção da gravidez em caso de deficiência da gestante.
- (D) estabelece um limite temporal para interromper a gravidez, desde que respaldada por laudo médico.
- (E) autoriza a interrupção de gestação em caso de não haver outro meio de salvar a vida da gestante.

25

Desde os anos 2000, o interior do Brasil ultrapassou o litoral na incidência de dengue. A região costeira que vai de Santos, em São Paulo, até Belém, no Pará, apresentava tipicamente maior proporção de casos de dengue em comparação com sua população. Entretanto, recentemente, o oeste do Paraná, o oeste de Santa Catarina o oeste de São Paulo, o interior de Minas Gerais, uma parte do Tocantins, o Goiás e o Mato Grosso do Sul viram a transmissão da doença aumentar e muitas de suas cidades foram obrigadas a decretar emergência.

Adaptado de <https://www.estadao.com.br>

A respeito dos fatores relacionados ao aumento e à interiorização dos casos de dengue no Brasil, analise as afirmativas a seguir.

- I. A maior frequência de períodos com temperaturas acima da média, inclusive com ondas de calor no período invernal em todo território, tem reforçado o padrão sazonal da doença.
- II. A expansão urbana desvinculada de melhoras nos serviços sanitários tem propiciado a formação de ilhas de calor e, portanto, uma alta na incidência da dengue.
- III. O desmatamento do cerrado, convertido em pasto, por exemplo, tem contribuído para aumentar a temperatura média e o número de casos da doença no interior do Brasil.

Está correto o que se afirma em

- (A) I, apenas.
- (B) I e II, apenas.
- (C) I e III, apenas.
- (D) II e III, apenas.
- (E) I, II e III.

26

As afirmativas a seguir descrevem corretamente o desempenho da economia brasileira em 2023, à exceção de uma. Assinale-a.

- (A) A expansão econômica ampliou a geração de empregos informais, em um contexto recessivo e de flexibilização das leis trabalhistas.
- (B) O dinamismo da economia foi marcado pelo aumento de exportações, no setor agrícola, e da demanda, no setor de serviços, em função da alta no consumo das famílias.
- (C) A alta progressiva nas cotações internacionais de commodities acelerou o ritmo das exportações, mesmo em um cenário cambial desfavorável para os exportadores.
- (D) A retração do Brasil no mercado regional e internacional ocorreu em função da maior competitividade dos produtos agrícolas argentinos e pela retomada da economia chinesa.
- (E) A persistência do alto nível da inflação foi ocasionada pela alta da cesta básica, sobretudo dos alimentos, cujas safras foram afetadas pelas condições climáticas adversas.

**27**

Em 2024, o Tribunal Superior Eleitoral (TSE) aprovou uma resolução para regulamentar o uso da inteligência artificial (IA) durante as eleições municipais a serem realizadas em outubro. A norma proíbe manipulações de conteúdo falso para criar ou substituir imagem ou voz de candidato com objetivo de prejudicar ou favorecer candidaturas. Também foi aprovada a restrição do uso de chatbots humanizados e avatares para intermediar a comunicação das campanhas com pessoas reais nas redes sociais.

Adaptado de <https://agenciabrasil.ebc.com.br/>

A resolução sobre IA objetiva

- (A) coibir a produção e circulação de *deepfakes*.
- (B) restringir o uso de ferramentas de IA simbólica.
- (C) retomar a veiculação de propagandas eleitorais em mídias tradicionais, como rádio e televisão.
- (D) proibir o uso de ferramentas de coleta e seleção em bases de dados com fins eleitorais.
- (E) limitar o uso de assistente virtual programado por AI para divulgação do programa partidário.

**28**

Assinale a afirmativa que descreve corretamente um aspecto do panorama global da economia em 2023.

- (A) Nos Estados Unidos, a economia foi alavancada pela adoção de uma política de ampliação do crédito e baixa da taxa de juros.
- (B) Na China, o PIB cresceu acima do esperado, em um cenário marcado pela retomada econômica pós pandemia, inclusive no setor imobiliário.
- (C) Na Zona do Euro, a alta dos preços da energia pesou nas despesas familiares e no setor industrial, confirmando a manutenção de um quadro de crise.
- (D) Na Rússia, o PIB decresceu, em função do impacto prolongado da guerra com a Ucrânia e dos embargos à venda de petróleo e gás russos.
- (E) Na América do Sul, foi mantido um caminho geral de crescimento, apoiado por investimentos externos e pela intensificação de políticas estatistas.

**29**

Um supercomputador consiste em milhares de pequenos computadores chamados nós. Cada nó é equipado com sua própria memória e com vários processadores. Atuando em conjunto, eles são capazes de realizar cálculos extremamente complexos em elevada velocidade. Hoje, o maior supercomputador da América Latina é o Pégaso, da Petrobras, com 678 TB de memória RAM e mais de 233 mil núcleos.

Adaptado de <https://revistapesquisa.fapesp.br>

A respeito do poder computacional de alto desempenho dos supercomputadores, analise as afirmativas a seguir e assinale (V) para a verdadeira e (F) para a falsa.

- ( ) Essas máquinas são instrumentos valiosos de pesquisa e de suporte a setores da economia como defesa, energia e saúde, permitindo a resolução de problemas complexos em menor tempo.
- ( ) Esses equipamentos permitem realizar tarefas que exigem altíssimos níveis de processamento, como simulações da formação do universo ou modelagem molecular para novos fármacos.
- ( ) Esses aparelhos trabalham em alta velocidade de processamento pelo somatório de diversos núcleos, o que potencializa a velocidades do processador, medidas em gigahertz (GHz).

As afirmativas são, respectivamente,

- (A) V – V – F.
- (B) V – F – V.
- (C) F – V – F.
- (D) F – V – V.
- (E) V – V – V.

**30**

No início do ano corrente, a Petrobras anunciou ter alcançado em 2023 o segundo maior valor de lucro líquido de sua história. Mesmo assim, suas ações caíram no mercado financeiro, em função da disputa sobre os dividendos.

A respeito dos resultados financeiros da Petrobras nos últimos anos e da política de distribuição de dividendos da empresa, assinale a afirmativa correta.

- (A) A Petrobras é uma empresa estatal de economia mista que monopoliza a indústria petroleira no Brasil.
- (B) A Petrobras é uma estatal administrada diretamente por órgãos governamentais que controlam o valor das suas ações.
- (C) A Petrobras direciona parte dos dividendos para investidores privados, e outra parte para o governo federal, que controla a empresa via Tesouro e BNDES.
- (D) A Petrobras, sob o Governo Bolsonaro, reduziu o pagamento de dividendos a acionistas privados para reinvesti-los em energia renovável.
- (E) A Petrobras, no atual governo, vendeu ativos e distribuiu o lucro e os valores recordes de dividendos entre seus acionistas para financiar projetos do BNDES.

31

Dados da última década mostram que, em relação aos Estados, o Pará é o que apresenta o maior número de registros de resgates de trabalho análogo à escravidão, com 9.853, seguido por Mato Grosso (4.302); Tocantins (2.896); São Paulo (1.529) e Rio de Janeiro (1.653), em 2017.

Adaptado de <https://www.jota.info/justica/em-14-anos-434-mil-foram-resgatados-de-trabalho-escravo-30102017>

A respeito da definição moderna de escravidão, analise as afirmativas a seguir.

- I. Em Tocantins, a maior incidência de escravidão moderna ocorre na zona rural, associada a atividades agropecuárias e ao extrativismo mineral, como nas carvoarias, por exemplo.
- II. A Organização Internacional do Trabalho determina a condição de escravidão por uma série de componentes, como o trabalho forçado análogo ao de escravo e o casamento forçado.
- III. Pessoas obrigadas a trabalhar por dívida ou por ameaça, sem direitos trabalhistas garantidos estão em situação de escravidão, uma vez que lhes é impedida a liberdade de ir e vir.

Está correto o que se afirma em

- (A) I, apenas.
- (B) I e II, apenas.
- (C) I e III, apenas.
- (D) II e III, apenas.
- (E) I, II e III.

32

Energia gerada por recursos naturais renováveis que, no Brasil, provém da lenha, carvão vegetal, carvão mineral, bagaço de cana e outros resíduos combustíveis. Essa energia é a matéria orgânica vegetal ou animal usada como fonte de energia limpa e sustentável.

O trecho descreve o seguinte componente importante do desenvolvimento sustentável:

- (A) compostagem.
- (B) biodiversidade.
- (C) créditos de carbono.
- (D) ciclo de vida.
- (E) biomassa.

## História e Geografia do Estado de Tocantins

33

Leia a descrição de uma classe de vegetação presente no estado do Tocantins, a seguir.

*Esta vegetação, também conhecida como floresta pluvial tropical, é caracterizada por árvores de porte elevado, além de trepadeiras lenhosas e epífitas (bromélias e orquídeas, por exemplo) em abundância, o que a diferencia de outras classes de formação vegetal. Sua característica ecológica principal é estar presente em ambientes de chuvas abundantes, como na parte noroeste do Estado, onde as temperaturas médias são de 25°C e os elevados índices de precipitação estão bem distribuídos ao longo do ano.*

Adaptado de Luís Antônio G. C. Silva. *Biomias presentes no Estado do Tocantins*. Brasília: Câmara dos Deputados, 2007, p. 4.

O trecho caracteriza a região conhecida como Floresta

- (A) Estacional Semidecidual.
- (B) Tropical Subcaducifólia.
- (C) de Mata Atlântica.
- (D) Ombrófila Densa.
- (E) Temperada Decidual.

34

Comparando dados dos censos do IBGE, pode-se elaborar um retrato da evolução demográfica da população residente no Estado de Tocantins. O grupo na faixa etária de 0 a 14 representava 41,7% da população em 1991, 28,8% em 2010, e passou para 24% em 2022. A população acima de 65 anos era de 3,8% em 1991 e 5,8% em 2010, e ficou em 8,6% em 2022. O censo de 2022 mostrou ainda que a faixa etária de 15 a 29 anos representa 15% da população e que 41% da população é composta por pessoas de 30 a 59 anos.

Com base no trecho, assinale a opção que apresenta a dinâmica populacional do Tocantins entre 1991 e 2022.

- (A) Expansão da base da pirâmide etária.
- (B) Diminuição da taxa de fecundidade.
- (C) Estreitamento do topo da pirâmide.
- (D) Aumento da idade mediana.
- (E) Redução do índice de envelhecimento.



35

*Foram inegáveis os desdobramentos socioeconômicos sobre o antigo Norte Goiano fruto da construção da rodovia BR-153, a partir do final da década de 1950. O novo urbanismo da Belém-Brasília trouxe enorme impacto no que se refere ao conjunto de cidades que existiam às margens do rio Tocantins, aos fluxos migratórios e às atividades econômicas da região.*

Adaptado de AQUINO, N. *Tocantins: cidades e urbanismo em três modelos históricos*. In: III Encontro da ANPPAS. Brasília, 2006, p. 8.

As afirmativas a seguir descrevem corretamente impactos da rodovia BR-153 no processo de territorialização do Tocantins, **à exceção de uma**. Assinale-a.

- (A) A rodovia foi construída no governo Kubitschek, em um contexto desenvolvimentista que considerava a expansão rodoviária como um meio para integrar econômica e territorialmente as regiões do país, inclusive o norte goiano que, então, vivia uma situação de abandono.
- (B) A rodovia Belém-Brasília teve grande importância para a urbanização do atual Tocantins, o que é exemplificado pela quantidade de novas cidades criadas após a sua construção, como Araguaína, Gurupi, Paraíso do Tocantins, Colinas do Tocantins e Guaraí.
- (C) A construção da BR-153 alavancou também os municípios ribeirinhos, pois a navegação fluvial foi intensificada para abastecer as obras em curso, o que transformou esses municípios em satélites econômicos da nova malha urbana instalada ao longo da rodovia.
- (D) Após a abertura da rodovia, as principais áreas que receberam fluxos migratórios foram a Microrregião de Gurupi – Gurupi e a Microrregião de Porto Nacional – Palmas, para onde se dirigiram pessoas interessadas em trabalhar na construção civil, nos serviços e no comércio, entre outros.
- (E) A BR-153 permitiu interligar o norte de Goiás, atual Estado do Tocantins, a outras localidades do país, facilitando o escoamento da produção e o acesso a produtos para a região, promovendo o fluxo de mercadorias e serviços.

36

O Memorial Coluna Prestes (2001) é uma obra do arquiteto Oscar Niemeyer localizada na Praça dos Girassóis, no centro de Palmas (TO).



Fonte: <https://central.to.gov.br/image/146145?f=1>

A respeito da relação entre essa obra e a constituição de uma memória histórica para o Estado do Tocantins, analise as afirmativas a seguir.

- I. O monumento refere-se à Coluna Prestes, que percorreu o Brasil para divulgar seu programa revolucionário entre 1924 e 1927, tendo passado pelo Norte do então Estado de Goiás (atual Tocantins) durante seu percurso.
- II. A obra foi realizada em concreto e apresenta curvas sinuosas, características próprias do Barroco das cidades mineradoras, estabelecendo visualmente uma continuidade entre o Barroco do passado das cidades mineradoras e o presente do Tocantins.
- III. A construção do memorial permite inserir simbolicamente a história do Tocantins nos grandes processos da história republicana nacional, e homenagear o Tenente Antônio de Siqueira Campos, cujo sobrenome é homônimo ao do ex-governador do Estado.

Está correto o que se afirma em

- (A) I, apenas.
- (B) I e II, apenas.
- (C) I e III, apenas.
- (D) II e III, apenas.
- (E) I, II e III.

37

Até 1988, o território que hoje corresponde ao Estado do Tocantins pertencia ao antigo norte de Goiás e à Região Centro-Oeste, tendo como capital política a cidade de Goiânia. Com a emancipação política, da noite para o dia, as pessoas amanheceram tocantinenses, mas sem referências culturais que as representassem como tais.

A respeito da projeção simbólica do novo Estado e de sua nova capital, assinale a opção que interpreta corretamente o processo de construção e atribuição de uma identidade ao Tocantins.

- (A) Desde o primeiro mandato do governador Siqueira Campos, os símbolos oficiais do Tocantins continuaram sendo o brasão de armas, a bandeira, o selo estadual e a canção "Hino ao Tocantins", de Liberato Costa Póvoa e Abiezer Alves da Rocha.
- (B) O girassol foi reconhecido oficialmente como símbolo da natureza do Estado, por ser uma planta nativa dos cerrados tocantinenses e estar associada à prosperidade e à esperança.
- (C) A Praça dos Girassóis, centro cívico de Palmas, foi concebida para receber edifícios esteticamente associados à cultura do Tocantins, como o Palácio do Araguaia, cujos pórticos remetem ao capim dourado, símbolo da tradição do artesanato de alta qualidade da região.
- (D) A monumentalidade da Praça dos Girassóis é enfatizada pelo seu pavimento, que contém figuras simbólicas como o mapa do Tocantins, a rosa dos ventos, o brasão de armas e a Praça Krahô.
- (E) O meio ambiente também foi utilizado para fortalecer o sentimento identitário, inserindo o girassol, a fava-de-bolota, a arara-canindé e a granada como símbolos da natureza do Tocantins, desde a promulgação da Constituição Estadual em 1989.

38

A respeito da matriz energética do Estado e dos investimentos em biocombustíveis, analise as afirmativas a seguir e assinale (V) para a verdadeira e (F) para a falsa.

- ( ) O Estado tem condições de clima e solo desfavoráveis para o plantio de matérias-primas usadas na fabricação de biocombustíveis, mas a expansão do modal logístico (Ferrovia Norte-Sul) permitirá o acesso à soja do planalto goiano.
- ( ) O Tocantins conta com duas usinas de biodiesel em funcionamento, utilizando o pinhão-mansão, a soja, a mamona e outras oleaginosas como matéria-prima.
- ( ) O Estado tem alto potencial de geração de energia solar, pela elevada irradiação solar e pelas políticas públicas voltadas para produção de energia limpa e renovável, como a Política Estadual de Incentivo à Geração e ao Uso da Energia Solar (Pró-Solar)

As afirmativas são, respectivamente,

- (A) V – F – V.  
 (B) F – V – V.  
 (C) F – F – V.  
 (D) V – V – F.  
 (E) V – V – V.

39

*As belas paisagens como serras, cachoeiras, praias e até mesmo dunas, fazem do Tocantins um paraíso de paisagens naturais, atraindo turistas de várias regiões para conhecer o mais novo Estado brasileiro. A potencialidade para o ecoturismo e a preocupação em conservar a biodiversidade e recursos naturais nele contidos fez com que o Governo do Estado, criasse e implementasse as Unidades de Conservação Ambiental (UC).*

Adaptado de <https://www.to.gov.br/secom/>

A respeito das Unidades de Conservação (UC) do Tocantins, assinale a afirmativa correta.

- (A) São espaços territoriais legalmente instituídos pelo poder público e podem ser de proteção integral federal, como no caso dos Parques Cantão, Jalapão e Lajeado.
- (B) As UCs federais estão subordinadas ao Instituto Chico Mendes de Conservação da Biodiversidade (ICMBio), como no caso do Monumento Natural das Árvores Fossilizadas.
- (C) As UCs estaduais estão subordinadas ao Instituto Natureza do Tocantins (Naturatins), que supervisiona o Parque do Araguaia e o das Nascentes do rio Parnaíba.
- (D) As UCs de uso sustentável são compostas exclusivamente por áreas públicas, sendo permitida sua utilização apenas para o ecoturismo, pesquisa e educação ambiental.
- (E) As UCs municipais estão subordinadas às secretarias de meio ambiente, como no caso do Monumento Natural dos Cânions e Corredeiras do Rio Sono e do Parque Ecológico Roberto Guedes Pereira.

40

O Estado do Tocantins possui diversas comunidades quilombolas certificadas e outras com processo formalizado para regularização fundiária de seus territórios. A definição de comunidade quilombola é dada pelo Art. 2º do Decreto nº 4.887/2003:

*Consideram-se remanescentes das comunidades dos quilombos, para os fins deste Decreto, os grupos étnico-raciais, segundo critérios de auto-atribuição, com trajetória histórica própria, dotados de relações territoriais específicas, com presunção de ancestralidade negra relacionada com a resistência à opressão histórica sofrida.*

A respeito dos órgãos e processos envolvidos na identificação e regularização de territórios quilombolas no Estado do Tocantins, assinale a afirmativa correta.

- (A) O acesso dessas comunidades às políticas públicas de educação, saúde, moradia e regularização fundiária depende de o Estado emitir uma certidão de identificação de comunidade quilombola, mediante Fundação Palmares.
- (B) Os critérios para reconhecimento de um grupo enquanto remanescente de quilombo depende da comprovação de sua ancestralidade, seu parentesco e da preservação viva de religiosidades autenticamente africanas.
- (C) A Coordenação Nacional de Articulação de Comunidades Negras Rurais Quilombolas (CONAQ) luta pela incorporação constitucional do direito à autodefinição dos remanescentes de quilombos.
- (D) A certificação quilombola é realizada pela Fundação Cultural Palmares, que avalia com visitas técnicas a autenticidade do legado quilombola pretendido e, caso o aprove, emite a certidão de comunidade quilombola e a inscreve em um cadastro geral.
- (E) O acesso às terras ocupadas pelos remanescentes das comunidades dos quilombos é garantido por sua delimitação e titulação, a cargo da autoridade municipal em que a mesma se localiza.

## CONHECIMENTOS ESPECÍFICOS

41

A Administração, uma ciência relativamente recente, tem sua origem há pouco mais de um século. Como criação emblemática do século XX, rapidamente adotou uma natureza interdisciplinar, incorporou ideias de diversas áreas do conhecimento e experimentou transformações substanciais e marcantes. Atualmente, encontra-se diante do desafio de mudanças exponenciais que impactam as organizações e a maneira como são geridas.

Com relação aos *conceitos* e *objetivos* da Administração, analise os itens a seguir.

- I. No novo milênio, as organizações estão evoluindo para se tornarem mais ágeis, flexíveis e enxutas, destacando-se pela comunicação eficaz, colaboração em equipe, exploração de mercados globais e um direcionamento atento às demandas dos clientes.
- II. A emergência e o fortalecimento da sociedade e da economia baseadas no conhecimento caracterizam-se pela geração de valor por intermédio do capital intelectual e pela valorização da inovação.
- III. As organizações estão intensificando sua dedicação à educação e ao aprendizado com o objetivo de amplificar o conhecimento corporativo, buscando um processo de aprendizagem efêmero para cultivar habilidades mais diversificadas e complexas.

Está correto o que se afirma em

- (A) I, apenas.
- (B) I e II, apenas.
- (C) I e III, apenas.
- (D) II e III, apenas.
- (E) I, II e III.

42

A Indústria 4.0 representa a fusão de inovações tecnológicas, como a robótica de ponta, a inteligência artificial, a Internet das Coisas e os processos de fabricação digital, dentro de um ecossistema de valor global partilhado por companhias internacionais.

Diante desses avanços, é imperativo repensar o papel dos gestores, afastando-se da concepção tradicional de que eles são os únicos responsáveis por definir e liderar o rumo futuro da organização. A nova função gerencial envolve habilitar, delegar e promover a instabilidade necessária para ativar os talentos e potenciais únicos nas pessoas, criando um ambiente propício ao aprendizado e à troca de informações através de interações dinâmicas.

Assinale a opção que apresenta uma *competência gerencial* dos gestores da atualidade.

- (A) Nova compreensão das condições ambientais internas.
- (B) Coaching para orientar as ações das pessoas em direção a metas estabelecidas anteriormente.
- (C) Promoção da desordem para fomentar a criatividade e a inovação.
- (D) Validação da ordem para alterar padrões de comportamento estagnados e arraigados.
- (E) Estímulo à identidade organizacional em meio a mudanças transitórias e à modernização.

43

Os princípios fundamentais da Teoria Administrativa estão passando por uma redefinição e realinhamento para se adequar à nova realidade. O processo administrativo está se ajustando a transformações importantes decorrentes da globalização, avanços tecnológicos e mudanças nas expectativas dos consumidores e partes interessadas. Tradicionalmente centrado em planejamento, organização, direção e controle, está sendo adaptado para atender às exigências emergentes do cenário atual.

Assinale a opção que apresenta, corretamente, uma *mudança da função de planejamento*.

- (A) A incerteza e a aleatoriedade proporcionam oportunidades para a liberdade, possibilitando a exploração de um amplo espectro de estratégias.
- (B) A orientação para o potencial cede lugar à ênfase na previsão, focalizando-se na criação de cenários futuros.
- (C) A mudança de uma estrutura organizacional horizontal e aberta para um processo flexível, em que as relações que facilitam a troca de informações predominam.
- (D) As fronteiras entre o estratégico e o tático se entrelaçam de forma dissociável.
- (E) O conteúdo estratégico é mais relevante do que o processo estratégico.

44

A crescente volatilidade de preços, oferta e demanda de produtos e serviços está afetando diversos setores da economia, especialmente aqueles fortemente dependentes de tecnologia, como o setor financeiro, o de comunicação e mídia, o de tecnologia da informação e comunicação, além do das indústrias. A disrupção tecnológica, o surgimento de novos modelos de negócio e a transformação digital são exemplos evidentes desse fenômeno em curso. Diante desses novos desafios, a gestão estratégica torna-se crucial para alinhar os recursos e esforços de uma organização com seus objetivos de longo prazo, garantindo sua competitividade e sustentabilidade no mercado.

Com relação à *gestão estratégica*, analise as afirmativas a seguir.

- I. Na abordagem convencional de formulação estratégica, o método mais comum tem sido o prescritivo, derivado do desenvolvimento das escolas de planejamento, gestão estratégica e posicionamento.
- II. Organizações menos focadas na formalização das atividades de formulação estratégica têm adotado métodos descritivos, como aqueles alinhados às escolas de aprendizagem organizacional, à escola cognitiva e à escola empreendedora.
- III. As organizações, frente a cenários imprevisíveis e em constante mutação, necessitarão de abordagens que proporcionem respostas ágeis às incertezas futuras, aproveitando a interação contínua com seus *stakeholders* e ajustando-se conforme exigido.

Está correto o que se afirma em

- (A) I, apenas.
- (B) I e II, apenas.
- (C) I e III, apenas.
- (D) II e III, apenas.
- (E) I, II e III.

45

Na abordagem tradicional, a gestão estratégica se apoia na previsibilidade, na elaboração de cenários e na avaliação e gestão de impactos para manter o posicionamento. Já no cenário dinâmico, as estratégias ágeis buscam vantagem na imprevisibilidade, transformando incertezas em oportunidades para obter lucro.

Assinale a opção que apresenta uma característica de formulação de *estratégia ágil*.

- (A) A análise do ambiente externo visa avaliar as capacidades distintas presentes na organização.
- (B) A análise do ambiente interno visa identificar as tendências e incertezas relacionadas aos movimentos globais e regionais.
- (C) As capacidades distintas desempenham um papel fundamental na sustentação de vantagens competitivas, sendo desafiadoras de imitar devido à sua natureza estável e previsível.
- (D) O propósito estratégico é o componente que pode instigar entusiasmo.
- (E) A capacidade estratégica surge da competência em habilidades específicas, como visão de negócios e mentalidade estratégica.

46

Recentemente, a abordagem de *gestão por resultados* tem ganhado destaque e sido amplamente adotada por governos em diversas partes do mundo. Essa abordagem visa orientar a Administração Pública para alcançar resultados mensuráveis e tangíveis, em vez de focar apenas nos processos internos. Ao implementar essa abordagem, os governos buscam promover maior eficiência, transparência e *accountability* na gestão dos recursos públicos.

Com relação à gestão por resultados, analise as afirmativas a seguir.

- I. No seu modelo inicial, a gestão por resultados buscava, principalmente, adaptar técnicas da administração privada para aplicação na administração pública.
- II. No Brasil, os instrumentos de gestão por resultados foram amplamente adotados na administração pública, com ênfase inicial em avaliações, especialmente na área da segurança pública.
- III. A aplicação de ferramentas adequadas de gestão por resultados pode levar ao aumento do controle social.

Está correto o que se afirma em

- (A) I, apenas.
- (B) I e II, apenas.
- (C) I e III, apenas.
- (D) II e III, apenas.
- (E) I, II e III.

47

Conforme as organizações crescem e amadurecem, passam por um processo de diferenciação. Esse processo ocorre à medida que se torna menos eficiente para o fundador coordenar todas as atividades devido ao aumento no número de pessoas, clientes, bens e serviços. Assim, unidades menores são criadas sob liderança independente, iniciando seus próprios processos de formação cultural à medida que a organização se expande e se desenvolve.

Assinale a opção que apresenta o agrupamento de todas as funções em torno de determinada tecnologia, conjunto de produtos ou grupo de clientes, permitindo maior alinhamento entre as subculturas.

- (A) Departamentalização.
- (B) Descentralização Geográfica.
- (C) Diferenciação por Tecnologia.
- (D) Diferenciação Ocupacional.
- (E) Diferenciação por Nível Hierárquico.

48

A estrutura organizacional é o esqueleto que define como as atividades são dirigidas para alcançar os objetivos da organização. Essa estrutura é composta por diferentes níveis hierárquicos e pode variar amplamente entre organizações, dependendo de fatores como tamanho, setor e estratégia. Atualmente, há uma tendência nítida para a descentralização nas organizações. Todavia, algumas grandes organizações estão tentando exatamente o oposto, que é a centralização de funções que antes eram descentralizadas.

Assinale a opção que apresenta uma *vantagem da centralização*.

- (A) Foco no cliente.
- (B) Autonomia.
- (C) Independência.
- (D) Agilidade.
- (E) Economia de escala.

49

Um processo é uma sucessão organizada e cronológica de ações que transforma insumos, adicionando valor por meio de recursos e tecnologias, visando à produção de bens ou serviços de qualidade para satisfazer as demandas dos clientes.

Relacione os conceitos listados a seguir às respectivas definições.

1. Atividade
  2. Recursos
  3. Insumos
  4. Tempos
- ( ) componente essencial de todo e qualquer processo.
  - ( ) tudo que é consumido por cada atividade quando da sua operação.
  - ( ) conjunto de fatores que entram na produção de bens ou serviços.
  - ( ) unidade de trabalho existente em todo e qualquer processo.

Assinale a opção que indica a relação correta, segundo a ordem apresentada.

- (A) 1 – 3 – 2 – 4.
- (B) 1 – 4 – 2 – 3.
- (C) 4 – 1 – 3 – 2.
- (D) 4 – 2 – 3 – 1.
- (E) 4 – 3 – 2 – 1.

50

A gestão estratégica de pessoas é essencial para o sucesso da organização, posicionando os colaboradores no centro da realização dos objetivos organizacionais. Esta abordagem transcende a administração de recursos humanos convencional, alinhando as políticas de gestão de talentos com a estratégia geral da organização.

Assinale a opção que apresenta um modelo de planejamento de gestão estratégica de pessoas, no qual a utilização de análises históricas sobre admissões, desligamentos, promoções e movimentações internas dos colaboradores viabiliza a previsão de curto prazo das necessidades de pessoal na organização.

- (A) Modelo de substituição de postos-chave.
- (B) Modelo baseado no fluxo de pessoal.
- (C) Modelo baseado em segmentos de cargos.
- (D) Modelo baseado na procura estimada do produto ou serviço.
- (E) Modelo de planejamento operacional integrado.

51

O conceito de Qualidade de Vida no Trabalho (QVT) foi introduzido por Louis Davis na década de 1970, em meio a um estudo sobre a estruturação de cargos. Davis definiu QVT como uma abordagem focada no bem-estar e na saúde dos colaboradores enquanto executam suas tarefas. Posteriormente, diversos autores europeus expandiram o conceito, incorporando perspectivas da abordagem sociotécnica e da democracia industrial. Hoje, a noção de QVT abrange tanto elementos físicos e ambientais do ambiente de trabalho quanto fatores psicológicos, enfatizando uma visão holística do bem-estar no ambiente laboral.

Assinale a opção que apresenta o indicador que trata da igualdade de oportunidades para que o colaborador perceba que o seu crescimento profissional é o que vale para o seu futuro.

- (A) Meritocracia.
- (B) Significado da tarefa.
- (C) Retroação recebida.
- (D) Autonomia.
- (E) Integração social.

52

A disciplina que investiga as interações, atitudes e ações dos indivíduos dentro do ambiente organizacional é conhecida como estudo do comportamento humano nas organizações.

Com relação ao *comportamento humano nas organizações*, analise os itens a seguir.

- I. Trata-se do comportamento organizacional e da dinâmica de grupos dentro das organizações.
- II. Pode ser caracterizado como a compreensão, previsão e administração do comportamento humano nas organizações.
- III. Constitui uma ferramenta humana em prol do benefício humano.

Está correto o que se afirma em

- (A) I, apenas.
- (B) I e II, apenas.
- (C) I e III, apenas.
- (D) II e III, apenas.
- (E) I, II e III.

53

A pesquisa sobre o comportamento humano nas organizações é enriquecida por contribuições de diversas ciências comportamentais. Essas disciplinas incluem psicologia, sociologia, antropologia, ciências políticas e economia, entre outras. Cada uma dessas áreas oferece perspectivas únicas e *insights* valiosos para entender como as pessoas se comportam dentro do contexto organizacional.

Assinale a opção que indica os conceitos da Antropologia que são usados nas organizações para compreender o comportamento humano.

- (A) Política organizacional, conflito e poder.
- (B) Análise cultural, valores e atitudes.
- (C) Dinâmica de grupo, comunicação e liderança.
- (D) Prestígio, poder e conflito.
- (E) Conflito, liderança e poder.

54

Os processos relacionados aos grupos dentro das organizações são essenciais para o funcionamento eficaz e a dinâmica harmoniosa dos ambientes de trabalho. Eles incluem aspectos como equipes e processos sociais, liderança, comunicação, tomada de decisão, conflito, poder e política. Esses processos moldam a dinâmica organizacional e influenciam diretamente o desempenho das equipes e organizações.

Assinale a opção que indica a competência que compreende confiança e vontade de transladar palavras em ações.

- (A) Motivação para liderar.
- (B) Autoconfiança.
- (C) Inteligência emocional.
- (D) Integridade.
- (E) Poder socializado.

55

Recentemente, tem-se observado uma ampliação do escopo das competências necessárias para a liderança, incorporando habilidades essenciais para lidar com os desafios contemporâneos.

Com relação às habilidades de liderança críticas para o sucesso na economia global, analise as afirmativas a seguir.

- I. A adaptação cultural nos negócios internacionais envolve a consideração e a sensibilidade cultural. Dentro das organizações nacionais, essas mesmas habilidades emergem como cruciais para o sucesso, especialmente diante do aumento da diversidade.
- II. A criatividade na resolução de problemas, inovação e geração de ideias proporciona uma vantagem competitiva no atual mercado global. O líder deve eludir um ambiente que encoraje a criatividade das pessoas.
- III. A gestão autônoma da aprendizagem reflete a importância da aprendizagem ao longo da vida. Em um período de mudanças significativas e competição global, os líderes devem estar em constante processo de autotransformação.

Está correto o que se afirma em

- (A) I, apenas.
- (B) I e II, apenas.
- (C) I e III, apenas.
- (D) II e III, apenas.
- (E) I, II e III.

56

A cultura organizacional é o conjunto de valores, crenças, rituais, normas, linguagem e práticas compartilhadas que definem a essência de uma organização. Ela molda o comportamento, influencia a moral e guia as decisões internas, tornando-se uma força invisível que permeia todos os aspectos do ambiente de trabalho.

Com relação à *cultura organizacional*, analise as afirmativas a seguir.

- I. O *conceito de cultura* implica uma estrutura estável, profundidade, abrangência e regularidades decorrentes da noção de que a cultura, para um coletivo, é um fenômeno adquirido, da mesma forma que a personalidade e o caráter se desenvolvem em um indivíduo.
- II. As *premissas básicas e o DNA cultural* formam o núcleo fundamental e oculto da cultura organizacional, consistindo em crenças, percepções e sentimentos inconscientes desenvolvidos como respostas aos desafios internos e externos enfrentados pela organização.
- III. A *padronização cultural* é o processo de internalização e homogeneização de crenças, valores e comportamentos entre seus membros, resultando em práticas e normas coesas.

Está correto o que se afirma em

- (A) I, apenas.
- (B) I e II, apenas.
- (C) I e III, apenas.
- (D) II e III, apenas.
- (E) I, II e III.

57

A cultura organizacional tem sido objeto de estudo por antropólogos e sociólogos ao longo de muitas décadas, resultando em diversas categorias e definições. Esses estudiosos exploraram as complexidades das interações humanas dentro do contexto organizacional, analisando os valores, crenças, normas, rituais e símbolos que moldam a identidade de uma organização.

Assinale a opção que indica a categoria que compreende as normas implícitas, não escritas, para se adaptar à organização.

- (A) Regras do jogo.
- (B) Metáforas raízes.
- (C) Rituais.
- (D) Celebrações.
- (E) Clima.

58

A mudança organizacional abrange toda a organização e envolve passos progressivos, como identificação do problema, análise das causas, formulação de estratégias e avaliação do processo de mudança. A pesquisa-ação combina pesquisa e ação para fornecer uma abordagem científica na gestão da mudança planejada, seguindo cinco etapas semelhantes ao método científico: diagnóstico, análise, retroação, ação e avaliação.

Assinale a opção que indica a *etapa* em que o agente de mudança envolve ativamente as pessoas na identificação do problema e na criação da solução.

- (A) Ação.
- (B) Diagnóstico.
- (C) Avaliação.
- (D) Retroação.
- (E) Análise.

59

A Administração de Recursos Materiais foca na gestão eficiente dos recursos físicos, como materiais, estoques, equipamentos e instalações. Uma administração eficaz desses recursos promove eficiência operacional, reduzindo desperdícios e garantindo a satisfação dos clientes.

Assinale a opção que indica o início da sequência de operações da administração dos recursos materiais.

- (A) Transporte interno do bem.
- (B) Identificação do fornecedor.
- (C) Compra do bem.
- (D) Recebimento do bem.
- (E) Acondicionamento do bem.

60

A Administração de Recursos Materiais e Patrimoniais engloba desde a compra de matérias-primas e equipamentos até a obtenção de instalações e propriedades. O processo envolve várias etapas, como identificação de necessidades, pesquisa de fornecedores, negociação, compra e registro dos bens adquiridos.

Assinale a opção que apresenta a forma de solicitação de compras que emite um novo pedido de compra para um certo item de estoque após um tempo predeterminado.

- (A) Reposição Periódica.
- (B) Caixeiro-Viajante.
- (C) Contrato de Fornecimento.
- (D) Reposição Contínua.
- (E) Acordo de Abastecimento.

61

A Lei nº 14.133/2021 estabelece normas gerais de licitação e contratação para as Administrações Públicas diretas, autárquicas e fundacionais da União, dos Estados, do Distrito Federal e dos Municípios.

Com relação aos *procedimentos de licitação*, analise as afirmativas a seguir.

- I. A *pré-qualificação* é o procedimento seletivo anterior à licitação, convocado por meio de edital, destinado à análise das condições de homologação, total ou parcial, dos interessados ou do objeto.
- II. Nos procedimentos realizados por meio eletrônico, a Administração poderá determinar, como condição de validade e eficácia, que os licitantes pratiquem seus atos em formato eletrônico.
- III. Os *órgãos da Administração* com competências regulamentares relativas às atividades de administração de materiais, de obras e serviços e de licitações e contratos deverão instituir instrumentos que permitam, preferencialmente, a centralização dos procedimentos de aquisição e contratação de bens e serviços.

Está correto o que se afirma em

- (A) I, apenas.
- (B) I e II, apenas.
- (C) I e III, apenas.
- (D) II e III, apenas.
- (E) I, II e III.

**62**

A Constituição da República de 1988 estabelece os princípios fundamentais da Administração Pública. Esses princípios, delineados no Art. 37 da Constituição Federal, caracterizam a base para uma gestão pública transparente, responsável e comprometida com o bem-estar da sociedade.

Assinale a opção que indica o *princípio* que está relacionado ao modo de atuação do agente público, do qual se espera o melhor desempenho possível de suas atribuições, para lograr os melhores resultados.

- (A) Legalidade.
- (B) Impessoalidade.
- (C) Moralidade.
- (D) Publicidade.
- (E) Eficiência.

**63**

Durante muitos anos, o controle e a auditoria no Brasil ficaram restritos às exigências da tributação na área privada e ao suporte aos tribunais de contas na área pública. O interesse pela governança na Administração Pública tem sido uma constante nos últimos anos, motivado por uma maior exigência e rigor na utilização dos recursos públicos. Com isso, busca-se uma maximização do *value for money* e do valor público da ação governativa em benefício dos cidadãos.

Com relação aos mecanismos de controle, analise as afirmativas a seguir.

- I. *Accountability* pode ser definida como uma proteção dos cidadãos às práticas da má administração.
- II. Quanto mais avançado o estágio democrático, maior o interesse pela *accountability* que tende a acompanhar os avanços dos valores democráticos.
- III. Os controles burocráticos tradicionais são suficientes para defender a sociedade do aparelho estatal.

Está correto o que se afirma em

- (A) I, apenas.
- (B) I e II, apenas.
- (C) I e III, apenas.
- (D) II e III, apenas.
- (E) I, II e III.

**64**

A Constituição da República Federativa do Brasil de 1988 estabelece, do Art. 37 ao Art. 41, os princípios e diretrizes para a Administração Pública, abrangendo tanto a esfera federal quanto as esferas estaduais e municipais, além de tratar dos direitos e deveres dos servidores públicos.

Com relação aos *direitos e deveres dos servidores públicos*, analise os itens a seguir.

- I. É vedada a incorporação de vantagens de caráter temporário ou vinculadas ao exercício de função de confiança ou de cargo em comissão à remuneração do cargo efetivo.
- II. O servidor abrangido por regime próprio de previdência social será aposentado por incapacidade permanente para o trabalho, no cargo em que estiver investido, quando suscetível de readaptação, hipótese em que será obrigatória a realização de avaliações periódicas para verificação da continuidade das condições que ensejaram a concessão da aposentadoria.
- III. O regime próprio de previdência social dos servidores titulares de cargos efetivos terá caráter contributivo e solidário, mediante contribuição do respectivo ente federativo, de servidores ativos, de aposentados e de pensionistas, observados critérios que preservem o equilíbrio financeiro e atuarial.

Está correto o que se afirma em

- (A) I, apenas.
- (B) I e II, apenas.
- (C) I e III, apenas.
- (D) II e III, apenas.
- (E) I, II e III.

**65**

Receitas Orçamentárias Correntes são arrecadadas dentro do exercício financeiro, aumentam as disponibilidades financeiras do Estado e constituem instrumento para financiar os objetivos definidos nos programas e ações orçamentários, com vistas a satisfazer finalidades públicas.

Assinale a opção que indica a *receita corrente* cuja finalidade é obter recursos financeiros para o Estado custear as atividades que lhe são correlatas.

- (A) Contribuições.
- (B) Receita Patrimonial.
- (C) Transferências Correntes.
- (D) Receita de Serviços.
- (E) Impostos, Taxas e Contribuições de Melhoria.

## LEGISLAÇÃO INSTITUCIONAL

66

Nos termos da Constituição do Estado do Tocantins, constitui objeto de lei complementar a seguinte matéria:

- (A) os prazos de prescrição para ilícitos praticados por qualquer agente, servidor ou não, que causem prejuízos ao erário.
- (B) os limites de idade, a estabilidade e outras condições de transferência do servidor militar para a inatividade.
- (C) os casos de contratação por tempo determinado para atender à necessidade temporária de excepcional interesse público.
- (D) as regras para cálculo de proventos de aposentadoria e pensão por morte.
- (E) os requisitos e as restrições ao ocupante de cargo ou emprego da administração direta e indireta que possibilite o acesso a informações privilegiadas.

67

Considerando o exercício da função legislativa por parte da Assembleia Legislativa de Tocantins, nos termos de seu Regimento Interno, é correto afirmar que

- (A) projetos de lei delegada podem se destinar a regular as matérias de exclusiva competência do Poder Executivo, com a sanção do Governador do Estado.
- (B) projetos de resolução podem se destinar a regular, com eficácia de lei ordinária, matéria de competência privativa da Assembleia Legislativa.
- (C) projetos de lei complementar visam regular matéria infraconstitucional.
- (D) projetos de lei têm por objetivo regular matérias de competência do Poder Legislativo, sem a sanção do Governador do Estado.
- (E) projetos de decreto legislativo destinam-se à delegação de competência, na forma estabelecida na Constituição Estadual.

68

Aline, servidora pública estadual, revelou segredo do qual se apropriou em razão do cargo que ocupa. A Administração Pública, ao tomar conhecimento do fato, instaurou procedimento administrativo disciplinar a fim de apurar a conduta e garantir à servidora os princípios da ampla defesa e do contraditório.

À luz do Estatuto dos Servidores Públicos Cíveis do Estado do Tocantins, caso punida, Aline poderá ser sancionada com

- (A) advertência.
- (B) suspensão.
- (C) prestação de serviço.
- (D) multa.
- (E) demissão.

69

Ana, servidora pública efetiva e estável, ocupante de cargo de nível superior, objetivando inteirar-se sobre os requisitos para a progressão na carreira, consultou a Lei nº 4.208/2023, que trata sobre o plano de cargos, carreiras e remuneração dos Servidores da Assembleia de Tocantins.

Assim, para fazer jus à progressão, Ana terá que

- (A) possuir no máximo três faltas injustificadas por exercício referente ao período avaliado.
- (B) obter conceito igual ou superior a 70% (setenta por cento) dos pontos possíveis em todos os procedimentos de sua Avaliação.
- (C) concluir curso de pós-graduação *lato sensu* com duração mínima de 360 (trezentos e sessenta) horas.
- (D) cumprir trinta meses de efetivo exercício na classe em que se encontra.
- (E) concluir cursos de aperfeiçoamento em sua área de atuação que tenha, no mínimo, 80 (oitenta) horas de duração.

70

Antônio foi nomeado para o cargo de Controlador Interno da Assembleia Legislativa de Tocantins.

À luz da Lei nº 4.209/2023, que dispõe sobre a estrutura administrativa da Aletto, durante o exercício da função, Antônio será competente para:

- (A) opinar, conclusivamente, em processos de direitos, deveres e obrigações dos servidores do Poder Legislativo.
- (B) constituir Comissão Permanente de Licitação.
- (C) examinar a observância das normas de licitações.
- (D) apresentar à Mesa Diretora o balancete mensal e, no início de cada exercício, o balancete geral das contas da Assembleia Legislativa, relativo ao exercício anterior.
- (E) planejar, coordenar, orientar, controlar e dirigir as atividades administrativas, orçamentárias, financeiras, de comunicação social, de tecnologia de informação e de apoio legislativo da Assembleia Legislativa.





# ASSEMBLEIA LEGISLATIVA DO ESTADO DO TOCANTINS

CONCURSO PÚBLICO – EDITAL Nº 01/2023

## PROVA OBJETIVA – TARDE

### ANALISTA LEGISLATIVO ADMINISTRAÇÃO

NÍVEL SUPERIOR – TIPO 2 – VERDE



#### SUA PROVA

- Além deste caderno contendo **70 (setenta)** questões objetivas, você receberá do fiscal de prova o cartão de respostas;
- As questões objetivas têm **5 (cinco)** opções de resposta (A, B, C, D) e somente uma delas está correta.



#### TEMPO

- Você dispõe de **5 (cinco) horas** para a realização da prova, já incluído o tempo para a marcação do cartão de respostas;
- **3 (três) horas** após o início da prova, é possível retirar-se da sala, sem levar o caderno de questões;
- A partir dos **30 (trinta) minutos** anteriores ao término da prova é possível retirar-se da sala **levando o caderno de questões**.



#### NÃO SERÁ PERMITIDO

- Qualquer tipo de comunicação entre os candidatos durante a aplicação da prova;
- Anotar informações relativas às respostas em qualquer outro meio que não seja o caderno de questões;
- Levantar da cadeira sem autorização do fiscal de sala;
- Usar o sanitário ao término da prova, após deixar a sala.



#### INFORMAÇÕES GERAIS

- Verifique se seu caderno de questões está completo, sem repetição de questões ou falhas. Caso contrário, **notifique imediatamente o fiscal da sala**, para que sejam tomadas as devidas providências;
- Confira seus dados pessoais, especialmente nome, número de inscrição e documento de identidade e leia atentamente as instruções para preencher o cartão de respostas;
- Para o preenchimento do cartão de respostas, use somente caneta esferográfica, fabricada em material transparente, com tinta preta ou azul;
- Assine seu nome apenas no(s) espaço(s) reservado(s) no cartão de respostas;
- Confira seu cargo, cor e tipo do caderno de questões. Caso tenha recebido caderno de cargo ou cor ou tipo **diferente** do impresso em seu cartão de respostas, o fiscal deve ser **obrigatoriamente** informado para o devido registro na ata da sala;
- Reserve tempo suficiente para o preenchimento do seu cartão de respostas. O preenchimento é de sua responsabilidade e **não será permitida a troca do cartão de respostas em caso de erro cometido pelo candidato**;
- Para fins de avaliação, serão levadas em consideração apenas as marcações realizadas no cartão de respostas;
- A FGV coletará as impressões digitais dos candidatos na lista de presença;
- Os candidatos serão submetidos ao sistema de detecção de metais quando do ingresso e da saída de sanitários durante a realização das provas.
- **Boa prova!**

## CONHECIMENTOS BÁSICOS

### Língua Portuguesa

1

Assinale a frase que mostra a palavra *mais* numa classe gramatical **diferente** das demais.

- (A) O mercado está prisioneiro de mais um círculo vicioso: piora porque piorou e porque piorou, piora.
- (B) Os ingleses conquistaram o mundo porque não aguentavam mais a própria cozinha.
- (C) Quanto mais vejo o estrangeiro, mais amo a minha pátria.
- (D) Não é mais possível aprender tudo de cor. Um homem instruído não é mais o homem que sabe muitas coisas; é o homem que sabe onde buscar informações.
- (E) Muda-se mais facilmente de religião do que de café

2

Um guitarrista americano produziu o seguinte pensamento:

*O crítico de rock é alguém que não sabe escrever, entrevistando gente que não sabe falar, para gente que não sabe ler.*

Sobre a estruturação ou a significação desse pequeno texto, assinale a afirmativa **incorreta**.

- (A) O termo “de rock” funciona como complemento nominal do termo anterior.
- (B) Todos os elementos da cadeia comunicativa citados no texto são marcados pela ignorância.
- (C) O pensamento acima revela um preconceito fortíssimo contra os amantes de rock.
- (D) A opinião expressa no texto pode advir da experiência pessoal do autor, já que se trata de um guitarrista.
- (E) A injustiça desse texto provém de ser uma opinião fundamentada em uma autoridade duvidosa.

3

John Steinbeck, prêmio Nobel, declarou o seguinte:

*O homem é o único animal que bebe sem ter sede, come sem ter fome e fala sem ter nada a dizer.*

Em relação ao significado e à estruturação desse pequeno texto, assinale a afirmativa **incorreta**.

- (A) A frase ficaria mais enfática se invertêssemos a posição do termo inicial: O único animal que bebe sem ter sede, come sem ter fome e fala sem ter nada a dizer é o homem.
- (B) A inversão de alguns segmentos do texto em nada modificaria o sentido da frase: O homem é o único animal que come sem ter fome, bebe sem ter sede e fala sem ter nada a dizer.
- (C) Os segmentos finais do texto mostram preocupação com rigoroso paralelismo sintático.
- (D) Segundo a opinião do autor do texto, a marca principal do homem é a irracionalidade.
- (E) Nem todas as ações citadas como marcas humanas estão presentes, por oposição, nos outros animais.

4

Assinale a frase em que a utilização do acento grave indicativo da crase é realizada de forma **errada**.

- (A) Jamais alguém se arrependeu de ter-se acostumado à madrugar e à ter-se casado jovem.
- (B) Tempo é o suspiro de adeus do sol à terra.
- (C) Saio todos os dias às cinco horas e não permito que o meu trabalho interfira no meu jogo de tênis.
- (D) O momento de extrair uma lição da história está sempre à mão para os sábios.
- (E) Quando assumi, quatro anos atrás, estávamos à beira do precipício.

5

Assinale a frase que **não** expressa uma noção de tempo abstrato.

- (A) Nas asas do tempo, a tristeza voa.
- (B) Quem mata o tempo não é assassino, é suicida.
- (C) O tempo perdido não se encontra nunca mais.
- (D) O tempo é o melhor professor. Infelizmente, ele mata todos os seus estudantes
- (E) O tempo gasto na viagem foi de duas horas.

6

Observe o seguinte texto:

*Quando entrei no terrível vagão, ele estava ocupado por duas pessoas. Uma, dobrada, coberta, dormia profundamente. A coberta superior estava manchada, de fundo amarelado, como pele de leopardo. Vendem-se muitas mantas assim nas lojas de artigos de viagens, mas pude notar logo depois que se tratava realmente da pele de um animal selvagem; do mesmo modo, o boné da pessoa adormecida me pareceu ser de feltro branco bastante delicado. O outro viajante, uma aparência simpática, parecia ter passado dos trinta anos e mostrava-se como figura insignificante que passa confortavelmente as noites em estradas de ferro.*

Nesse fragmento textual, para criar sinais de história realista e verdadeira, o narrador apela para a seguinte estratégia:

- (A) seleciona uma situação banal da qual não precisa fornecer muitos detalhes, exatamente por sua banalidade.
- (B) fornece algumas marcas caracterizadoras dos dois personagens presentes no texto, destacando sua banalidade.
- (C) indica traços descritivos do ambiente, mostrando-o como se nada houvesse nele de excepcional.
- (D) mostra detalhes variados e bastante pitorescos dos objetos descritos.
- (E) dá ao leitor informações sobre personagens e ambiente, mostrando-os como bastante conhecidos do narrador.

7

Assinale a frase em que o adjetivo sublinhado mostra uma função sintática **diferente** das demais.

- (A) Por fora bela viola, por dentro pão bolorento.
- (B) Tiradentes, heroico, tentou organizar uma revolução.
- (C) Um rosto bonito altera-se depressa.
- (D) Eu não podia acreditar que existem múmias tão lindas.
- (E) Um homem belo é um homem insignificante.

8

Observe o seguinte texto:

*A felicidade depende da habilidade que tenhamos naquelas atividades que consideramos importantes: somente se lhes damos um real valor aos pequenos detalhes cotidianos, poderemos ter instantes felizes. A felicidade absoluta não existe, e já que só podemos acessar os pequenos detalhes daquilo que nos interessa, devemos contentar-nos com isso. Por isso, a infelicidade é um sinal claro de nossa incompetência na arte de viver.*

Sobre a estrutura e a significação desse texto, assinale a afirmativa **inadequada**.

- (A) O tema do texto gira em torno do que consiste a felicidade e o que viria a ser o seu oposto.
- (B) A afirmação de que “A felicidade absoluta não existe” é de cunho pessoal do autor do texto, representando uma opinião.
- (C) O raciocínio utilizado na estruturação argumentativa é do tipo dedutivo.
- (D) O conector “Por isso” mostra a preocupação com o caráter lógico da argumentação.
- (E) A tese do texto é a de que a infelicidade é fruto de nossa incompetência na arte de viver.

9

As frases a seguir mostram termos ligados pela conjunção OU.

Assinale a frase em que essa conjunção mantém o valor de alternativa (e não de adição).

- (A) João ou Pedro deve ser eleito presidente da empresa.
- (B) A alegria ou a tristeza fazem parte da vida.
- (C) Inglês ou francês são idiomas falados pelos turistas
- (D) Os clientes leem livros ou revistas enquanto esperam.
- (E) Vasco ou Flamengo são times de longa tradição.

10

Muitas palavras portuguesas mostram o prefixo A- sem qualquer valor semântico, sendo equivalentes ao mesmo vocábulo sem esse prefixo.

Assinale a palavra a seguir que exemplifica esse A protético.

- (A) amostrar
- (B) abraçar
- (C) atenuar
- (D) aguardar
- (E) aparar

11

Assinale a opção que mostra uma impropriedade léxica, ou seja, um emprego **inadequado** da expressão “cerca de”.

- (A) Havia cerca de três dúzias de convidados no final da festa.
- (B) Chegaram cerca de 100 cartas no mesmo dia.
- (C) Cerca de 18 lojas fecharam as portas mais cedo.
- (D) Os cantores receberam cerca de uma centena de convites.
- (E) A plantação produziu cerca de uma tonelada de legumes.

12

Os adjetivos podem representar estados, qualidades, características e relações.

Assinale a frase que mostra um tipo de adjetivo **diferente** dos demais.

- (A) Nunca houve criança tão amável que a própria mãe não ficasse satisfeita ao conseguir adormecê-la.
- (B) Nada mais perversamente cruel que uma adorável criança.
- (C) Mesmo estando doentes, as crianças não ficam caladas.
- (D) Quando as crianças estão quietas é porque fizeram alguma coisa errada.
- (E) As tangerinas verdes não amadurecem fora do pé.

## Raciocínio Lógico Matemático

13

Em uma caixa, há muitas canetas esferográficas. Classificadas conforme a cor, elas podem ser azuis, vermelhas ou pretas. Classificadas quanto à espessura da esfera, elas podem ser de ponta fina ou de ponta grossa.

Metade das canetas vermelhas tem a ponta grossa. A quantidade total de canetas pretas é igual à quantidade total de canetas vermelhas. Entre as canetas de ponta grossa, a quantidade de azuis é igual à de pretas. A quantidade de canetas azuis com ponta fina é o dobro da quantidade de canetas pretas de ponta grossa.

Se, nessa caixa, 18 são azuis e 20 têm ponta grossa, então a quantidade total de canetas na caixa é

- (A) 30.
- (B) 40.
- (C) 48.
- (D) 50.
- (E) 52.

14

Certo programa de rádio tem 1 hora e 55 minutos de duração. A partir do momento em que o programa é iniciado, há blocos temáticos de 7 minutos intercalados por blocos de propagandas de 2 minutos.

Em todos os blocos de propaganda, ouve-se o comercial do restaurante R, que sempre dura 18 segundos.

Se o programa começa e termina com um bloco temático, então, o tempo total do programa dedicado ao anúncio do restaurante R é

- (A) 3 minutos e 54 segundos.
- (B) 3 minutos e 36 segundos.
- (C) 3 minutos e 18 segundos.
- (D) 3 minutos.
- (E) 2 minutos e 48 segundos.

15

Em certo ano, o dia 1º de agosto cai em um domingo. Logo, o dia 1º de novembro cairá em

- (A) um sábado.
- (B) um domingo.
- (C) uma segunda-feira.
- (D) uma quarta-feira.
- (E) uma sexta-feira.

**16**

Considere a seguinte proposição condicional:

*Se todos os alunos da Escola Aristarco gostam de matemática, então, ao menos um deles ganha medalha na Olimpíada Nacional de Matemática.*

Se essa proposição é verdadeira, é correto afirmar que

- (A) se nenhum dos alunos da Escola Aristarco gosta de Matemática, então nenhum deles ganha medalha na Olimpíada Nacional de Matemática.
- (B) se todos os alunos da Escola Aristarco ganham medalha na Olimpíada Nacional de Matemática, então, todos esses alunos gostam de Matemática.
- (C) se algum aluno da Escola Aristarco ganha medalha na Olimpíada Nacional de Matemática, então todos esses alunos gostam de Matemática.
- (D) se nenhum aluno da Escola Aristarco ganha medalha na Olimpíada Nacional de Matemática, então nenhum desses alunos gosta de Matemática.
- (E) se nenhum aluno da Escola Aristarco ganha medalha na Olimpíada Nacional de Matemática, então algum desses alunos não gosta de Matemática.

**17**

A linha de produção de certa fábrica produz 1100 latas de sardinhas a cada hora. Certo dia, por um defeito de calibragem do sistema, entre 13h e 14h, o volume de produção foi reduzido em 30% durante exatos 12 minutos.

A quantidade de latas de sardinhas produzidas no intervalo supracitado foi

- (A) 946.  
(B) 964.  
(C) 1022.  
(D) 1034.  
(E) 1046.

**18**

Um dado é dito comum quando tem a forma de um cubo e suas 6 faces são numeradas de 1 a 6, de tal forma que a soma dos números estampados em faces opostas, quaisquer que sejam elas, sempre somam 7.

Quando um dado comum é lançado, diz-se que o resultado do lançamento é o número estampado na face voltada para cima.

Um dado foi lançado 3 vezes seguidas. Se o produto dos resultados obtidos nos lançamentos vale 75, a soma desses resultados é igual a

- (A) 12.  
(B) 13.  
(C) 14.  
(D) 15.  
(E) 16.

**19**

Marcelo está parado de frente para uma das paredes de uma sala quadrada. Nesta posição, ele está a 1m e 20cm da parede que se encontra à sua direita e a 1m e 70cm da parede que está às suas costas.

Ele, então, se desloca paralelamente às paredes da sala sendo 40cm para a frente e 80cm para a direita. Nessa nova posição, ele passou a distar 1m e 90cm da parede que antes estava à sua esquerda.

Desprezando-se as dimensões de Marcelo, a sua atual distância à parede que, antes dos movimentos, estava à sua frente, é

- (A) 20cm.  
(B) 30cm.  
(C) 40cm.  
(D) 50cm.  
(E) 60cm.

**20**

A negação da proposição:

$$\text{Se } y \neq 0, \text{ então } x > 2 \text{ e } x \leq 5$$

é dada por

- (A) Se  $y = 0$ , então  $x > 2$  e  $x \leq 5$   
(B) Se  $y = 0$ , então  $x < 2$  ou  $x \geq 5$   
(C)  $y = 0$  e  $x \leq 2$  ou  $x > 5$   
(D)  $y \neq 0$  e  $x \leq 2$  ou  $x > 5$   
(E)  $y \neq 0$  e  $x \leq 2$  e  $x > 5$

**21**

Tucídides possuía uma dívida e, em vez de quitá-la, pagou apenas 20% do seu valor, deixando o restante para ser quitado em data futura, com acréscimo de 12% a título de juros sobre o saldo devedor.

No ato de quitação, Tucídides pagou R\$2.329,60. Logo, o valor original da dívida é o resultado da seguinte expressão:

- (A)  $2.329,60 \times 0,88 - 20$   
(B)  $\frac{2.329,60}{0,88} \times 1,20$   
(C)  $\frac{2.329,60}{1,12} \times 1,20$   
(D)  $\frac{2.329,60}{1,12 \times 1,20}$   
(E)  $\frac{2.329,60}{1,12 \times 0,8}$

**22**

As filhas de Nepomuceno têm 5 e 9 anos de idade. Ele dividirá R\$420,00 entre elas de forma inversamente proporcional às suas idades.

Logo

- (A) a mais nova receberá R\$120,00 a mais que a mais velha.  
(B) a mais nova receberá R\$150,00 a mais que a mais velha.  
(C) a mais nova receberá R\$270,00 a mais que a mais velha.  
(D) a mais velha receberá R\$120,00 a mais que a mais nova.  
(E) a mais velha receberá R\$150,00 a mais que a mais nova.

## Atualidades

23

Assinale a afirmativa que descreve corretamente um aspecto do panorama global da economia em 2023.

- (A) Nos Estados Unidos, a economia foi alavancada pela adoção de uma política de ampliação do crédito e baixa da taxa de juros.
- (B) Na China, o PIB cresceu acima do esperado, em um cenário marcado pela retomada econômica pós pandemia, inclusive no setor imobiliário.
- (C) Na Zona do Euro, a alta dos preços da energia pesou nas despesas familiares e no setor industrial, confirmando a manutenção de um quadro de crise.
- (D) Na Rússia, o PIB decresceu, em função do impacto prolongado da guerra com a Ucrânia e dos embargos à venda de petróleo e gás russos.
- (E) Na América do Sul, foi mantido um caminho geral de crescimento, apoiado por investimentos externos e pela intensificação de políticas estatistas.

24

Energia gerada por recursos naturais renováveis que, no Brasil, provém da lenha, carvão vegetal, carvão mineral, bagaço de cana e outros resíduos combustíveis. Essa energia é a matéria orgânica vegetal ou animal usada como fonte de energia limpa e sustentável.

O trecho descreve o seguinte componente importante do desenvolvimento sustentável:

- (A) compostagem.
- (B) biodiversidade.
- (C) créditos de carbono.
- (D) ciclo de vida.
- (E) biomassa.

25

As afirmativas a seguir descrevem corretamente o desempenho da economia brasileira em 2023, **à exceção de uma**. Assinale-a.

- (A) A expansão econômica ampliou a geração de empregos informais, em um contexto recessivo e de flexibilização das leis trabalhistas.
- (B) O dinamismo da economia foi marcado pelo aumento de exportações, no setor agrícola, e da demanda, no setor de serviços, em função da alta no consumo das famílias.
- (C) A alta progressiva nas cotações internacionais de commodities acelerou o ritmo das exportações, mesmo em um cenário cambial desfavorável para os exportadores.
- (D) A retração do Brasil no mercado regional e internacional ocorreu em função da maior competitividade dos produtos agrícolas argentinos e pela retomada da economia chinesa.
- (E) A persistência do alto nível da inflação foi ocasionada pela alta da cesta básica, sobretudo dos alimentos, cujas safras foram afetadas pelas condições climáticas adversas.

26

Em 2024, o Tribunal Superior Eleitoral (TSE) aprovou uma resolução para regulamentar o uso da inteligência artificial (IA) durante as eleições municipais a serem realizadas em outubro. A norma proíbe manipulações de conteúdo falso para criar ou substituir imagem ou voz de candidato com objetivo de prejudicar ou favorecer candidaturas. Também foi aprovada a restrição do uso de chatbots humanizados e avatares para intermediar a comunicação das campanhas com pessoas reais nas redes sociais.

Adaptado de <https://agenciabrasil.ebc.com.br/>

A resolução sobre IA objetiva

- (A) coibir a produção e circulação de *deepfakes*.
- (B) restringir o uso de ferramentas de IA simbólica.
- (C) retomar a veiculação de propagandas eleitorais em mídias tradicionais, como rádio e televisão.
- (D) proibir o uso de ferramentas de coleta e seleção em bases de dados com fins eleitorais.
- (E) limitar o uso de assistente virtual programado por AI para divulgação do programa partidário.

27

No início do ano corrente, a Petrobras anunciou ter alcançado em 2023 o segundo maior valor de lucro líquido de sua história. Mesmo assim, suas ações caíram no mercado financeiro, em função da disputa sobre os dividendos.

A respeito dos resultados financeiros da Petrobrás nos últimos anos e da política de distribuição de dividendos da empresa, assinale a afirmativa correta.

- (A) A Petrobras é uma empresa estatal de economia mista que monopoliza a indústria petrolífera no Brasil.
- (B) A Petrobras é uma estatal administrada diretamente por órgãos governamentais que controlam o valor das suas ações.
- (C) A Petrobras direciona parte dos dividendos para investidores privados, e outra parte para o governo federal, que controla a empresa via Tesouro e BNDES.
- (D) A Petrobras, sob o Governo Bolsonaro, reduziu o pagamento de dividendos a acionistas privados para reinvesti-los em energia renovável.
- (E) A Petrobras, no atual governo, vendeu ativos e distribuiu o lucro e os valores recordes de dividendos entre seus acionistas para financiar projetos do BNDES.

28

De acordo com o censo demográfico de 2022 (IBGE), mais da metade da população brasileira (51,13%) é feminina, e elas representam, segundo o Tribunal Superior Eleitoral, 53% do eleitorado. No entanto, elas ocupam, hoje, menos de 15% dos cargos eletivos.

A respeito da baixa participação das mulheres na política, assinale a afirmativa que apresenta um dispositivo existente na legislação brasileira para alterar esse cenário.

- (A) Reserva de pelo menos 50% dos recursos do Fundo Especial de Financiamento de Campanha, o Fundo Eleitoral, para financiar candidaturas femininas.
- (B) Suspensão dos direitos eleitorais aos partidos em caso de não observância do percentual de pelo menos 30% de candidatas mulheres em cada ciclo eleitoral
- (C) Reserva de assentos, em ambas as casas legislativas, para mulheres, com preferência para as representantes de povos originários.
- (D) Cota de gênero, que obriga cada partido ou coligação a preencher o mínimo de 30% e o máximo de 70% de candidaturas de cada sexo.
- (E) Repasse de até 30% dos recursos dos Fundos Partidário para custear o tempo da propaganda eleitoral gratuita de candidatas em rádio e televisão.

29

*Dados da última década mostram que, em relação aos Estados, o Pará é o que apresenta o maior número de registros de resgates de trabalho análogo à escravidão, com 9.853, seguido por Mato Grosso (4.302); Tocantins (2.896); São Paulo (1.529) e Rio de Janeiro (1.653), em 2017.*

Adaptado de <https://www.jota.info/justica/em-14-anos-434-mil-foram-resgatados-de-trabalho-escravo-30102017>

A respeito da definição moderna de escravidão, analise as afirmativas a seguir.

- I. Em Tocantins, a maior incidência de escravidão moderna ocorre na zona rural, associada a atividades agropecuárias e ao extrativismo mineral, como nas carvoarias, por exemplo.
- II. A Organização Internacional do Trabalho determina a condição de escravidão por uma série de componentes, como o trabalho forçado análogo ao de escravo e o casamento forçado.
- III. Pessoas obrigadas a trabalhar por dívida ou por ameaça, sem direitos trabalhistas garantidos estão em situação de escravidão, uma vez que lhes é impedida a liberdade de ir e vir.

Está correto o que se afirma em

- (A) I, apenas.
- (B) I e II, apenas.
- (C) I e III, apenas.
- (D) II e III, apenas.
- (E) I, II e III.

30

*Desde os anos 2000, o interior do Brasil ultrapassou o litoral na incidência de dengue. A região costeira que vai de Santos, em São Paulo, até Belém, no Pará, apresentava tipicamente maior proporção de casos de dengue em comparação com sua população. Entretanto, recentemente, o oeste do Paraná, o oeste de Santa Catarina o oeste de São Paulo, o interior de Minas Gerais, uma parte do Tocantins, o Goiás e o Mato Grosso do Sul viram a transmissão da doença aumentar e muitas de suas cidades foram obrigadas a decretar emergência.*

Adaptado de <https://www.estadao.com.br>

A respeito dos fatores relacionados ao aumento e à interiorização dos casos de dengue no Brasil, analise as afirmativas a seguir.

- I. A maior frequência de períodos com temperaturas acima da média, inclusive com ondas de calor no período invernal em todo território, tem reforçado o padrão sazonal da doença.
- II. A expansão urbana desvinculada de melhoras nos serviços sanitários tem propiciado a formação de ilhas de calor e, portanto, uma alta na incidência da dengue.
- III. O desmatamento do cerrado, convertido em pasto, por exemplo, tem contribuído para aumentar a temperatura média e o número de casos da doença no interior do Brasil.

Está correto o que se afirma em

- (A) I, apenas.
- (B) I e II, apenas.
- (C) I e III, apenas.
- (D) II e III, apenas.
- (E) I, II e III.

31

*Um supercomputador consiste em milhares de pequenos computadores chamados nós. Cada nó é equipado com sua própria memória e com vários processadores. Atuando em conjunto, eles são capazes de realizar cálculos extremamente complexos em elevada velocidade. Hoje, o maior supercomputador da América Latina é o Pégaso, da Petrobras, com 678 TB de memória RAM e mais de 233 mil núcleos.*

Adaptado de <https://revistapesquisa.fapesp.br>

A respeito do poder computacional de alto desempenho dos supercomputadores, analise as afirmativas a seguir e assinale (V) para a verdadeira e (F) para a falsa.

- ( ) Essas máquinas são instrumentos valiosos de pesquisa e de suporte a setores da economia como defesa, energia e saúde, permitindo a resolução de problemas complexos em menor tempo.
- ( ) Esses equipamentos permitem realizar tarefas que exigem altíssimos níveis de processamento, como simulações da formação do universo ou modelagem molecular para novos fármacos.
- ( ) Esses aparelhos trabalham em alta velocidade de processamento pelo somatório de diversos núcleos, o que potencializa a velocidades do processador, medidas em gigahertz (GHz).

As afirmativas são, respectivamente,

- (A) V – V – F.
- (B) V – F – V.
- (C) F – V – F.
- (D) F – V – V.
- (E) V – V – V.

32

A França se tornou o primeiro país do mundo a incluir na Constituição a liberdade de a mulher abortar. A mudança na Carta Magna foi aprovada em uma sessão conjunta das duas Casas legislativas, a Assembleia Nacional e o Senado, e será promulgada pelo presidente Emmanuel Macron ainda em março de 2024.

Adaptado de <https://www1.folha.uol.com.br/mundo/2024/03/>

Diferentemente da França, a legislação brasileira

- (A) equipara o aborto ao infanticídio.
- (B) considera o aborto uma prática ilegal em todas as situações.
- (C) descriminaliza a interrupção da gravidez em caso de deficiência da gestante.
- (D) estabelece um limite temporal para interromper a gravidez, desde que respaldada por laudo médico.
- (E) autoriza a interrupção de gestação em caso de não haver outro meio de salvar a vida da gestante.

## História e Geografia do Estado de Tocantins

33

O Estado do Tocantins possui diversas comunidades quilombolas certificadas e outras com processo formalizado para regularização fundiária de seus territórios. A definição de comunidade quilombola é dada pelo Art. 2º do Decreto nº 4.887/2003:

*Consideram-se remanescentes das comunidades dos quilombos, para os fins deste Decreto, os grupos étnico-raciais, segundo critérios de auto-atribuição, com trajetória histórica própria, dotados de relações territoriais específicas, com presunção de ancestralidade negra relacionada com a resistência à opressão histórica sofrida.*

A respeito dos órgãos e processos envolvidos na identificação e regularização de territórios quilombolas no Estado do Tocantins, assinale a afirmativa correta.

- (A) O acesso dessas comunidades às políticas públicas de educação, saúde, moradia e regularização fundiária depende de o Estado emitir uma certidão de identificação de comunidade quilombola, mediante Fundação Palmares.
- (B) Os critérios para reconhecimento de um grupo enquanto remanescente de quilombo depende da comprovação de sua ancestralidade, seu parentesco e da preservação viva de religiosidades autenticamente africanas.
- (C) A Coordenação Nacional de Articulação de Comunidades Negras Rurais Quilombolas (CONAQ) luta pela incorporação constitucional do direito à autodefinição dos remanescentes de quilombos.
- (D) A certificação quilombola é realizada pela Fundação Cultural Palmares, que avalia com visitas técnicas a autenticidade do legado quilombola pretendido e, caso o aprove, emite a certidão de comunidade quilombola e a inscreve em um cadastro geral.
- (E) O acesso às terras ocupadas pelos remanescentes das comunidades dos quilombos é garantido por sua delimitação e titulação, a cargo da autoridade municipal em que a mesma se localiza.

34

O Memorial Coluna Prestes (2001) é uma obra do arquiteto Oscar Niemeyer localizada na Praça dos Girassóis, no centro de Palmas (TO).



Fonte: <https://central.to.gov.br/image/146145?f=1>

A respeito da relação entre essa obra e a constituição de uma memória histórica para o Estado do Tocantins, analise as afirmativas a seguir.

- I. O monumento refere-se à Coluna Prestes, que percorreu o Brasil para divulgar seu programa revolucionário entre 1924 e 1927, tendo passado pelo Norte do então Estado de Goiás (atual Tocantins) durante seu percurso.
- II. A obra foi realizada em concreto e apresenta curvas sinuosas, características próprias do Barroco das cidades mineradoras, estabelecendo visualmente uma continuidade entre o Barroco do passado das cidades mineradoras e o presente do Tocantins.
- III. A construção do memorial permite inserir simbolicamente a história do Tocantins nos grandes processos da história republicana nacional, e homenagear o Tenente Antônio de Siqueira Campos, cujo sobrenome é homônimo ao do ex-governador do Estado.

Está correto o que se afirma em

- (A) I, apenas.
- (B) I e II, apenas.
- (C) I e III, apenas.
- (D) II e III, apenas.
- (E) I, II e III.

35

As belas paisagens como serras, cachoeiras, praias e até mesmo dunas, fazem do Tocantins um paraíso de paisagens naturais, atraindo turistas de várias regiões para conhecer o mais novo Estado brasileiro. A potencialidade para o ecoturismo e a preocupação em conservar a biodiversidade e recursos naturais nele contidos fez com que o Governo do Estado, criasse e implementasse as Unidades de Conservação Ambiental (UC).

Adaptado de <https://www.to.gov.br/secom/>

A respeito das Unidades de Conservação (UC) do Tocantins, assinale a afirmativa correta.

- (A) São espaços territoriais legalmente instituídos pelo poder público e podem ser de proteção integral federal, como no caso dos Parques Cantão, Jalapão e Lajeado.
- (B) As UCs federais estão subordinadas ao Instituto Chico Mendes de Conservação da Biodiversidade (ICMBio), como no caso do Monumento Natural das Árvores Fossilizadas.
- (C) As Ucs estaduais estão subordinadas ao Instituto Natureza do Tocantins (Naturatins), que supervisiona o Parque do Araguaia e o das Nascentes do rio Parnaíba.
- (D) As Ucs de uso sustentável são compostas exclusivamente por áreas públicas, sendo permitida sua utilização apenas para o ecoturismo, pesquisa e educação ambiental.
- (E) As UCs municipais estão subordinadas às secretarias de meio ambiente, como no caso do Monumento Natural dos Cânions e Corredeiras do Rio Sono e do Parque Ecológico Roberto Guedes Pereira.

36

Leia a descrição de uma classe de vegetação presente no estado do Tocantins, a seguir.

*Esta vegetação, também conhecida como floresta pluvial tropical, é caracterizada por árvores de porte elevado, além de trepadeiras lenhosas e epífitas (bromélias e orquídeas, por exemplo) em abundância, o que a diferencia de outras classes de formação vegetal. Sua característica ecológica principal é estar presente em ambientes de chuvas abundantes, como na parte noroeste do Estado, onde as temperaturas médias são de 25°C e os elevados índices de precipitação estão bem distribuídos ao longo do ano.*

Adaptado de Luís Antônio G. C. Silva. *Biomas presentes no Estado do Tocantins*. Brasília: Câmara dos Deputados, 2007, p. 4.

O trecho caracteriza a região conhecida como Floresta

- (A) Estacional Semidecidual.
- (B) Tropical Subcaducifólia.
- (C) de Mata Atlântica.
- (D) Ombrófila Densa.
- (E) Temperada Decidual.

37

Foram inegáveis os desdobramentos socioeconômicos sobre o antigo Norte Goiano fruto da construção da rodovia BR-153, a partir do final da década de 1950. O novo urbanismo da Belém-Brasília trouxe enorme impacto no que se refere ao conjunto de cidades que existiam às margens do rio Tocantins, aos fluxos migratórios e às atividades econômicas da região.

Adaptado de AQUINO, N. *Tocantins: cidades e urbanismo em três modelos históricos*. In: III Encontro da ANPPAS. Brasília, 2006, p. 8.

As afirmativas a seguir descrevem corretamente impactos da rodovia BR-153 no processo de territorialização do Tocantins, **à exceção de uma**. Assinale-a.

- (A) A rodovia foi construída no governo Kubitschek, em um contexto desenvolvimentista que considerava a expansão rodoviária como um meio para integrar econômica e territorialmente as regiões do país, inclusive o norte goiano que, então, vivia uma situação de abandono.
- (B) A rodovia Belém-Brasília teve grande importância para a urbanização do atual Tocantins, o que é exemplificado pela quantidade de novas cidades criadas após a sua construção, como Araguaína, Gurupi, Paraíso do Tocantins, Colinas do Tocantins e Guaraí.
- (C) A construção da BR-153 alavancou também os municípios ribeirinhos, pois a navegação fluvial foi intensificada para abastecer as obras em curso, o que transformou esses municípios em satélites econômicos da nova malha urbana instalada ao longo da rodovia.
- (D) Após a abertura da rodovia, as principais áreas que receberam fluxos migratórios foram a Microrregião de Gurupi – Gurupi e a Microrregião de Porto Nacional – Palmas, para onde se dirigiram pessoas interessadas em trabalhar na construção civil, nos serviços e no comércio, entre outros.
- (E) A BR-153 permitiu interligar o norte de Goiás, atual Estado do Tocantins, a outras localidades do país, facilitando o escoamento da produção e o acesso a produtos para a região, promovendo o fluxo de mercadorias e serviços.



38

Até 1988, o território que hoje corresponde ao Estado do Tocantins pertencia ao antigo norte de Goiás e à Região Centro-Oeste, tendo como capital política a cidade de Goiânia. Com a emancipação política, da noite para o dia, as pessoas amanheceram tocantinenses, mas sem referências culturais que as representassem como tais.

A respeito da projeção simbólica do novo Estado e de sua nova capital, assinale a opção que interpreta corretamente o processo de construção e atribuição de uma identidade ao Tocantins.

- (A) Desde o primeiro mandato do governador Siqueira Campos, os símbolos oficiais do Tocantins continuaram sendo o brasão de armas, a bandeira, o selo estadual e a canção "Hino ao Tocantins", de Liberato Costa Póvoa e Abiezer Alves da Rocha.
- (B) O girassol foi reconhecido oficialmente como símbolo da natureza do Estado, por ser uma planta nativa dos cerrados tocantinenses e estar associada à prosperidade e à esperança.
- (C) A Praça dos Girassóis, centro cívico de Palmas, foi concebida para receber edifícios esteticamente associados à cultura do Tocantins, como o Palácio do Araguaia, cujos pórticos remetem ao capim dourado, símbolo da tradição do artesanato de alta qualidade da região.
- (D) A monumentalidade da Praça dos Girassóis é enfatizada pelo seu pavimento, que contém figuras simbólicas como o mapa do Tocantins, a rosa dos ventos, o brasão de armas e a Praça Krahô.
- (E) O meio ambiente também foi utilizado para fortalecer o sentimento identitário, inserindo o girassol, a fava-de-bolota, a arara-canindé e a granada como símbolos da natureza do Tocantins, desde a promulgação da Constituição Estadual em 1989.

39

Comparando dados dos censos do IBGE, pode-se elaborar um retrato da evolução demográfica da população residente no Estado de Tocantins. O grupo na faixa etária de 0 a 14 representava 41,7% da população em 1991, 28,8% em 2010, e passou para 24% em 2022. A população acima de 65 anos era de 3,8% em 1991 e 5,8% em 2010, e ficou em 8,6% em 2022. O censo de 2022 mostrou ainda que a faixa etária de 15 a 29 anos representa 15% da população e que 41% da população é composta por pessoas de 30 a 59 anos.

Com base no trecho, assinale a opção que apresenta a dinâmica populacional do Tocantins entre 1991 e 2022.

- (A) Expansão da base da pirâmide etária.
- (B) Diminuição da taxa de fecundidade.
- (C) Estreitamento do topo da pirâmide.
- (D) Aumento da idade mediana.
- (E) Redução do índice de envelhecimento.

40

A respeito da matriz energética do Estado e dos investimentos em biocombustíveis, analise as afirmativas a seguir e assinale (V) para a verdadeira e (F) para a falsa.

- ( ) O Estado tem condições de clima e solo desfavoráveis para o plantio de matérias-primas usadas na fabricação de biocombustíveis, mas a expansão do modal logístico (Ferrovia Norte-Sul) permitirá o acesso à soja do planalto goiano.
- ( ) O Tocantins conta com duas usinas de biodiesel em funcionamento, utilizando o pinhão-manso, a soja, a mamona e outras oleaginosas como matéria-prima.
- ( ) O Estado tem alto potencial de geração de energia solar, pela elevada irradiação solar e pelas políticas públicas voltadas para produção de energia limpa e renovável, como a Política Estadual de Incentivo à Geração e ao Uso da Energia Solar (Pró-Solar)

As afirmativas são, respectivamente,

- (A) V – F – V.
- (B) F – V – V.
- (C) F – F – V.
- (D) V – V – F.
- (E) V – V – V.

## CONHECIMENTOS ESPECÍFICOS

41

A estrutura organizacional é o esqueleto que define como as atividades são dirigidas para alcançar os objetivos da organização. Essa estrutura é composta por diferentes níveis hierárquicos e pode variar amplamente entre organizações, dependendo de fatores como tamanho, setor e estratégia. Atualmente, há uma tendência nítida para a descentralização nas organizações. Todavia, algumas grandes organizações estão tentando exatamente o oposto, que é a centralização de funções que antes eram descentralizadas.

Assinale a opção que apresenta uma *vantagem da centralização*.

- (A) Foco no cliente.
- (B) Autonomia.
- (C) Independência.
- (D) Agilidade.
- (E) Economia de escala.

42

Receitas Orçamentárias Correntes são arrecadadas dentro do exercício financeiro, aumentam as disponibilidades financeiras do Estado e constituem instrumento para financiar os objetivos definidos nos programas e ações orçamentários, com vistas a satisfazer finalidades públicas.

Assinale a opção que indica a *receita corrente* cuja finalidade é obter recursos financeiros para o Estado custear as atividades que lhe são correlatas.

- (A) Contribuições.
- (B) Receita Patrimonial.
- (C) Transferências Correntes.
- (D) Receita de Serviços.
- (E) Impostos, Taxas e Contribuições de Melhoria.

43

Um processo é uma sucessão organizada e cronológica de ações que transforma insumos, adicionando valor por meio de recursos e tecnologias, visando à produção de bens ou serviços de qualidade para satisfazer as demandas dos clientes.

Relacione os conceitos listados a seguir às respectivas definições.

1. Atividade
2. Recursos
3. Insumos
4. Tempos

- ( ) componente essencial de todo e qualquer processo.  
 ( ) tudo que é consumido por cada atividade quando da sua operação.  
 ( ) conjunto de fatores que entram na produção de bens ou serviços.  
 ( ) unidade de trabalho existente em todo e qualquer processo.

Assinale a opção que indica a relação correta, segundo a ordem apresentada.

- (A) 1 – 3 – 2 – 4.  
 (B) 1 – 4 – 2 – 3.  
 (C) 4 – 1 – 3 – 2.  
 (D) 4 – 2 – 3 – 1.  
 (E) 4 – 3 – 2 – 1.

44

Recentemente, tem-se observado uma ampliação do escopo das competências necessárias para a liderança, incorporando habilidades essenciais para lidar com os desafios contemporâneos.

Com relação às habilidades de liderança críticas para o sucesso na economia global, analise as afirmativas a seguir.

- I. A adaptação cultural nos negócios internacionais envolve a consideração e a sensibilidade cultural. Dentro das organizações nacionais, essas mesmas habilidades emergem como cruciais para o sucesso, especialmente diante do aumento da diversidade.
- II. A criatividade na resolução de problemas, inovação e geração de ideias proporciona uma vantagem competitiva no atual mercado global. O líder deve eludir um ambiente que encoraje a criatividade das pessoas.
- III. A gestão autônoma da aprendizagem reflete a importância da aprendizagem ao longo da vida. Em um período de mudanças significativas e competição global, os líderes devem estar em constante processo de autotransformação.

Está correto o que se afirma em

- (A) I, apenas.  
 (B) I e II, apenas.  
 (C) I e III, apenas.  
 (D) II e III, apenas.  
 (E) I, II e III.

45

A Constituição da República de 1988 estabelece os princípios fundamentais da Administração Pública. Esses princípios, delineados no Art. 37 da Constituição Federal, caracterizam a base para uma gestão pública transparente, responsável e comprometida com o bem-estar da sociedade.

Assinale a opção que indica o *princípio* que está relacionado ao modo de atuação do agente público, do qual se espera o melhor desempenho possível de suas atribuições, para lograr os melhores resultados.

- (A) Legalidade.  
 (B) Impessoalidade.  
 (C) Moralidade.  
 (D) Publicidade.  
 (E) Eficiência.

46

A Administração de Recursos Materiais foca na gestão eficiente dos recursos físicos, como materiais, estoques, equipamentos e instalações. Uma administração eficaz desses recursos promove eficiência operacional, reduzindo desperdícios e garantindo a satisfação dos clientes.

Assinale a opção que indica o início da sequência de operações da administração dos recursos materiais.

- (A) Transporte interno do bem.  
 (B) Identificação do fornecedor.  
 (C) Compra do bem.  
 (D) Recebimento do bem.  
 (E) Acondicionamento do bem.

47

A crescente volatilidade de preços, oferta e demanda de produtos e serviços está afetando diversos setores da economia, especialmente aqueles fortemente dependentes de tecnologia, como o setor financeiro, o de comunicação e mídia, o de tecnologia da informação e comunicação, além do das indústrias. A disrupção tecnológica, o surgimento de novos modelos de negócio e a transformação digital são exemplos evidentes desse fenômeno em curso. Diante desses novos desafios, a gestão estratégica torna-se crucial para alinhar os recursos e esforços de uma organização com seus objetivos de longo prazo, garantindo sua competitividade e sustentabilidade no mercado.

Com relação à *gestão estratégica*, analise as afirmativas a seguir.

- I. Na abordagem convencional de formulação estratégica, o método mais comum tem sido o prescritivo, derivado do desenvolvimento das escolas de planejamento, gestão estratégica e posicionamento.
- II. Organizações menos focadas na formalização das atividades de formulação estratégica têm adotado métodos descritivos, como aqueles alinhados às escolas de aprendizagem organizacional, à escola cognitiva e à escola empreendedora.
- III. As organizações, frente a cenários imprevisíveis e em constante mutação, necessitarão de abordagens que proporcionem respostas ágeis às incertezas futuras, aproveitando a interação contínua com seus *stakeholders* e ajustando-se conforme exigido.

Está correto o que se afirma em

- (A) I, apenas.  
 (B) I e II, apenas.  
 (C) I e III, apenas.  
 (D) II e III, apenas.  
 (E) I, II e III.

48

O conceito de Qualidade de Vida no Trabalho (QVT) foi introduzido por Louis Davis na década de 1970, em meio a um estudo sobre a estruturação de cargos. Davis definiu QVT como uma abordagem focada no bem-estar e na saúde dos colaboradores enquanto executam suas tarefas. Posteriormente, diversos autores europeus expandiram o conceito, incorporando perspectivas da abordagem sociotécnica e da democracia industrial. Hoje, a noção de QVT abrange tanto elementos físicos e ambientais do ambiente de trabalho quanto fatores psicológicos, enfatizando uma visão holística do bem-estar no ambiente laboral.

Assinale a opção que apresenta o *indicador* que trata da igualdade de oportunidades para que o colaborador perceba que o seu crescimento profissional é o que vale para o seu futuro.

- (A) Meritocracia.
- (B) Significado da tarefa.
- (C) Retroação recebida.
- (D) Autonomia.
- (E) Integração social.

49

A Constituição da República Federativa do Brasil de 1988 estabelece, do Art. 37 ao Art. 41, os princípios e diretrizes para a Administração Pública, abrangendo tanto a esfera federal quanto as esferas estaduais e municipais, além de tratar dos direitos e deveres dos servidores públicos.

Com relação aos *direitos e deveres dos servidores públicos*, analise os itens a seguir.

- I. É vedada a incorporação de vantagens de caráter temporário ou vinculadas ao exercício de função de confiança ou de cargo em comissão à remuneração do cargo efetivo.
- II. O servidor abrangido por regime próprio de previdência social será aposentado por incapacidade permanente para o trabalho, no cargo em que estiver investido, quando suscetível de readaptação, hipótese em que será obrigatória a realização de avaliações periódicas para verificação da continuidade das condições que ensejaram a concessão da aposentadoria.
- III. O regime próprio de previdência social dos servidores titulares de cargos efetivos terá caráter contributivo e solidário, mediante contribuição do respectivo ente federativo, de servidores ativos, de aposentados e de pensionistas, observados critérios que preservem o equilíbrio financeiro e atuarial.

Está correto o que se afirma em

- (A) I, apenas.
- (B) I e II, apenas.
- (C) I e III, apenas.
- (D) II e III, apenas.
- (E) I, II e III.

50

A Indústria 4.0 representa a fusão de inovações tecnológicas, como a robótica de ponta, a inteligência artificial, a Internet das Coisas e os processos de fabricação digital, dentro de um ecossistema de valor global partilhado por companhias internacionais.

Diante desses avanços, é imperativo repensar o papel dos gestores, afastando-se da concepção tradicional de que eles são os únicos responsáveis por definir e liderar o rumo futuro da organização. A nova função gerencial envolve habilitar, delegar e promover a instabilidade necessária para ativar os talentos e potenciais únicos nas pessoas, criando um ambiente propício ao aprendizado e à troca de informações através de interações dinâmicas.

Assinale a opção que apresenta uma *competência gerencial* dos gestores da atualidade.

- (A) Nova compreensão das condições ambientais internas.
- (B) Coaching para orientar as ações das pessoas em direção a metas estabelecidas anteriormente.
- (C) Promoção da desordem para fomentar a criatividade e a inovação.
- (D) Validação da ordem para alterar padrões de comportamento estagnados e arraigados.
- (E) Estimulo à identidade organizacional em meio a mudanças transitórias e à modernização.

51

A gestão estratégica de pessoas é essencial para o sucesso da organização, posicionando os colaboradores no centro da realização dos objetivos organizacionais. Esta abordagem transcende a administração de recursos humanos convencional, alinhando as políticas de gestão de talentos com a estratégia geral da organização.

Assinale a opção que apresenta um modelo de planejamento de gestão estratégica de pessoas, no qual a utilização de análises históricas sobre admissões, desligamentos, promoções e movimentações internas dos colaboradores viabiliza a predição de curto prazo das necessidades de pessoal na organização.

- (A) Modelo de substituição de postos-chave.
- (B) Modelo baseado no fluxo de pessoal.
- (C) Modelo baseado em segmentos de cargos.
- (D) Modelo baseado na procura estimada do produto ou serviço.
- (E) Modelo de planejamento operacional integrado.

52

A cultura organizacional é o conjunto de valores, crenças, rituais, normas, linguagem e práticas compartilhadas que definem a essência de uma organização. Ela molda o comportamento, influencia a moral e guia as decisões internas, tornando-se uma força invisível que permeia todos os aspectos do ambiente de trabalho.

Com relação à *cultura organizacional*, analise as afirmativas a seguir.

- I. O *conceito de cultura* implica uma estrutura estável, profundidade, abrangência e regularidades decorrentes da noção de que a cultura, para um coletivo, é um fenômeno adquirido, da mesma forma que a personalidade e o caráter se desenvolvem em um indivíduo.
- II. As *premissas básicas e o DNA cultural* formam o núcleo fundamental e oculto da cultura organizacional, consistindo em crenças, percepções e sentimentos inconscientes desenvolvidos como respostas aos desafios internos e externos enfrentados pela organização.
- III. A *padronização cultural* é o processo de internalização e homogeneização de crenças, valores e comportamentos entre seus membros, resultando em práticas e normas coesas.

Está correto o que se afirma em

- (A) I, apenas.
- (B) I e II, apenas.
- (C) I e III, apenas.
- (D) II e III, apenas.
- (E) I, II e III.

53

Durante muitos anos, o controle e a auditoria no Brasil ficaram restritos às exigências da tributação na área privada e ao suporte aos tribunais de contas na área pública. O interesse pela governança na Administração Pública tem sido uma constante nos últimos anos, motivado por uma maior exigência e rigor na utilização dos recursos públicos. Com isso, busca-se uma maximização do *value for money* e do valor público da ação governativa em benefício dos cidadãos.

Com relação aos mecanismos de controle, analise as afirmativas a seguir.

- I. *Accountability* pode ser definida como uma proteção dos cidadãos às práticas da má administração.
- II. Quanto mais avançado o estágio democrático, maior o interesse pela *accountability* que tende a acompanhar os avanços dos valores democráticos.
- III. Os controles burocráticos tradicionais são suficientes para defender a sociedade do aparelho estatal.

Está correto o que se afirma em

- (A) I, apenas.
- (B) I e II, apenas.
- (C) I e III, apenas.
- (D) II e III, apenas.
- (E) I, II e III.

54

A mudança organizacional abrange toda a organização e envolve passos progressivos, como identificação do problema, análise das causas, formulação de estratégias e avaliação do processo de mudança. A pesquisa-ação combina pesquisa e ação para fornecer uma abordagem científica na gestão da mudança planejada, seguindo cinco etapas semelhantes ao método científico: diagnóstico, análise, retroação, ação e avaliação.

Assinale a opção que indica a *etapa* em que o agente de mudança envolve ativamente as pessoas na identificação do problema e na criação da solução.

- (A) Ação.
- (B) Diagnóstico.
- (C) Avaliação.
- (D) Retroação.
- (E) Análise.

55

Conforme as organizações crescem e amadurecem, passam por um processo de diferenciação. Esse processo ocorre à medida que se torna menos eficiente para o fundador coordenar todas as atividades devido ao aumento no número de pessoas, clientes, bens e serviços. Assim, unidades menores são criadas sob liderança independente, iniciando seus próprios processos de formação cultural à medida que a organização se expande e se desenvolve.

Assinale a opção que apresenta o agrupamento de todas as funções em torno de determinada tecnologia, conjunto de produtos ou grupo de clientes, permitindo maior alinhamento entre as subculturas.

- (A) Departamentalização.
- (B) Descentralização Geográfica.
- (C) Diferenciação por Tecnologia.
- (D) Diferenciação Ocupacional.
- (E) Diferenciação por Nível Hierárquico.

56

Recentemente, a abordagem de *gestão por resultados* tem ganhado destaque e sido amplamente adotada por governos em diversas partes do mundo. Essa abordagem visa orientar a Administração Pública para alcançar resultados mensuráveis e tangíveis, em vez de focar apenas nos processos internos. Ao implementar essa abordagem, os governos buscam promover maior eficiência, transparência e *accountability* na gestão dos recursos públicos.

Com relação à *gestão por resultados*, analise as afirmativas a seguir.

- I. No seu modelo inicial, a *gestão por resultados* buscava, principalmente, adaptar técnicas da administração privada para aplicação na administração pública.
- II. No Brasil, os instrumentos de *gestão por resultados* foram amplamente adotados na administração pública, com ênfase inicial em avaliações, especialmente na área da segurança pública.
- III. A aplicação de ferramentas adequadas de *gestão por resultados* pode levar ao aumento do controle social.

Está correto o que se afirma em

- (A) I, apenas.
- (B) I e II, apenas.
- (C) I e III, apenas.
- (D) II e III, apenas.
- (E) I, II e III.

**57**

A Administração de Recursos Materiais e Patrimoniais engloba desde a compra de matérias-primas e equipamentos até a obtenção de instalações e propriedades. O processo envolve várias etapas, como identificação de necessidades, pesquisa de fornecedores, negociação, compra e registro dos bens adquiridos. Assinale a opção que apresenta a forma de solicitação de compras que emite um novo pedido de compra para um certo item de estoque após um tempo predeterminado.

- (A) Reposição Periódica.
- (B) Caixeiro-Viajante.
- (C) Contrato de Fornecimento.
- (D) Reposição Contínua.
- (E) Acordo de Abastecimento.

**58**

A Administração, uma ciência relativamente recente, tem sua origem há pouco mais de um século. Como criação emblemática do século XX, rapidamente adotou uma natureza interdisciplinar, incorporou ideias de diversas áreas do conhecimento e experimentou transformações substanciais e marcantes. Atualmente, encontra-se diante do desafio de mudanças exponenciais que impactam as organizações e a maneira como são geridas.

Com relação aos *conceitos* e *objetivos* da Administração, analise os itens a seguir.

- I. No novo milênio, as organizações estão evoluindo para se tornarem mais ágeis, flexíveis e enxutas, destacando-se pela comunicação eficaz, colaboração em equipe, exploração de mercados globais e um direcionamento atento às demandas dos clientes.
- II. A emergência e o fortalecimento da sociedade e da economia baseadas no conhecimento caracterizam-se pela geração de valor por intermédio do capital intelectual e pela valorização da inovação.
- III. As organizações estão intensificando sua dedicação à educação e ao aprendizado com o objetivo de amplificar o conhecimento corporativo, buscando um processo de aprendizagem efêmero para cultivar habilidades mais diversificadas e complexas.

Está correto o que se afirma em

- (A) I, apenas.
- (B) I e II, apenas.
- (C) I e III, apenas.
- (D) II e III, apenas.
- (E) I, II e III.

**59**

A Lei nº 14.133/2021 estabelece normas gerais de licitação e contratação para as Administrações Públicas diretas, autárquicas e fundacionais da União, dos Estados, do Distrito Federal e dos Municípios.

Com relação aos *procedimentos de licitação*, analise as afirmativas a seguir.

- I. A pré-qualificação é o procedimento seletivo anterior à licitação, convocado por meio de edital, destinado à análise das condições de homologação, total ou parcial, dos interessados ou do objeto.
- II. Nos procedimentos realizados por meio eletrônico, a Administração poderá determinar, como condição de validade e eficácia, que os licitantes pratiquem seus atos em formato eletrônico.
- III. Os órgãos da Administração com competências regulamentares relativas às atividades de administração de materiais, de obras e serviços e de licitações e contratos deverão instituir instrumentos que permitam, preferencialmente, a centralização dos procedimentos de aquisição e contratação de bens e serviços.

Está correto o que se afirma em

- (A) I, apenas.
- (B) I e II, apenas.
- (C) I e III, apenas.
- (D) II e III, apenas.
- (E) I, II e III.

**60**

A cultura organizacional tem sido objeto de estudo por antropólogos e sociólogos ao longo de muitas décadas, resultando em diversas categorias e definições. Esses estudiosos exploraram as complexidades das interações humanas dentro do contexto organizacional, analisando os valores, crenças, normas, rituais e símbolos que moldam a identidade de uma organização.

Assinale a opção que indica a categoria que compreende as normas implícitas, não escritas, para se adaptar à organização.

- (A) Regras do jogo.
- (B) Metáforas raízes.
- (C) Rituais.
- (D) Celebrações.
- (E) Clima.

61

Os princípios fundamentais da Teoria Administrativa estão passando por uma redefinição e realinhamento para se adequar à nova realidade. O processo administrativo está se ajustando a transformações importantes decorrentes da globalização, avanços tecnológicos e mudanças nas expectativas dos consumidores e partes interessadas. Tradicionalmente centrado em planejamento, organização, direção e controle, está sendo adaptado para atender às exigências emergentes do cenário atual.

Assinale a opção que apresenta, corretamente, uma *mudança da função de planejamento*.

- (A) A incerteza e a aleatoriedade proporcionam oportunidades para a liberdade, possibilitando a exploração de um amplo espectro de estratégias.
- (B) A orientação para o potencial cede lugar à ênfase na previsão, focalizando-se na criação de cenários futuros.
- (C) A mudança de uma estrutura organizacional horizontal e aberta para um processo flexível, em que as relações que facilitam a troca de informações predominam.
- (D) As fronteiras entre o estratégico e o tático se entrelaçam de forma dissociável.
- (E) O conteúdo estratégico é mais relevante do que o processo estratégico.

62

Na abordagem tradicional, a gestão estratégica se apoia na previsibilidade, na elaboração de cenários e na avaliação e gestão de impactos para manter o posicionamento. Já no cenário dinâmico, as estratégias ágeis buscam vantagem na imprevisibilidade, transformando incertezas em oportunidades para obter lucro.

Assinale a opção que apresenta uma característica de formulação de *estratégia ágil*.

- (A) A análise do ambiente externo visa avaliar as capacidades distintas presentes na organização.
- (B) A análise do ambiente interno visa identificar as tendências e incertezas relacionadas aos movimentos globais e regionais.
- (C) As capacidades distintas desempenham um papel fundamental na sustentação de vantagens competitivas, sendo desafiadoras de imitar devido à sua natureza estável e previsível.
- (D) O propósito estratégico é o componente que pode instigar entusiasmo.
- (E) A capacidade estratégica surge da competência em habilidades específicas, como visão de negócios e mentalidade estratégica.

63

A pesquisa sobre o comportamento humano nas organizações é enriquecida por contribuições de diversas ciências comportamentais. Essas disciplinas incluem psicologia, sociologia, antropologia, ciências políticas e economia, entre outras. Cada uma dessas áreas oferece perspectivas únicas e *insights* valiosos para entender como as pessoas se comportam dentro do contexto organizacional.

Assinale a opção que indica os conceitos da Antropologia que são usados nas organizações para compreender o comportamento humano.

- (A) Política organizacional, conflito e poder.
- (B) Análise cultural, valores e atitudes.
- (C) Dinâmica de grupo, comunicação e liderança.
- (D) Prestígio, poder e conflito.
- (E) Conflito, liderança e poder.

64

Os processos relacionados aos grupos dentro das organizações são essenciais para o funcionamento eficaz e a dinâmica harmoniosa dos ambientes de trabalho. Eles incluem aspectos como equipes e processos sociais, liderança, comunicação, tomada de decisão, conflito, poder e política. Esses processos moldam a dinâmica organizacional e influenciam diretamente o desempenho das equipes e organizações.

Assinale a opção que indica a *competência* que compreende confiança e vontade de transladar palavras em ações.

- (A) Motivação para liderar.
- (B) Autoconfiança.
- (C) Inteligência emocional.
- (D) Integridade.
- (E) Poder socializado.

65

A disciplina que investiga as interações, atitudes e ações dos indivíduos dentro do ambiente organizacional é conhecida como estudo do comportamento humano nas organizações.

Com relação ao *comportamento humano nas organizações*, analise os itens a seguir.

- I. Trata-se do comportamento organizacional e da dinâmica de grupos dentro das organizações.
- II. Pode ser caracterizado como a compreensão, previsão e administração do comportamento humano nas organizações.
- III. Constitui uma ferramenta humana em prol do benefício humano.

Está correto o que se afirma em

- (A) I, apenas.
- (B) I e II, apenas.
- (C) I e III, apenas.
- (D) II e III, apenas.
- (E) I, II e III.

## LEGISLAÇÃO INSTITUCIONAL

66

Antônio foi nomeado para o cargo de Controlador Interno da Assembleia Legislativa de Tocantins.

À luz da Lei nº 4.209/2023, que dispõe sobre a estrutura administrativa da Aletto, durante o exercício da função, Antônio será competente para:

- (A) opinar, conclusivamente, em processos de direitos, deveres e obrigações dos servidores do Poder Legislativo.
- (B) constituir Comissão Permanente de Licitação.
- (C) examinar a observância das normas de licitações.
- (D) apresentar à Mesa Diretora o balancete mensal e, no início de cada exercício, o balancete geral das contas da Assembleia Legislativa, relativo ao exercício anterior.
- (E) planejar, coordenar, orientar, controlar e dirigir as atividades administrativas, orçamentárias, financeiras, de comunicação social, de tecnologia de informação e de apoio legislativo da Assembleia Legislativa.

**67**

Nos termos da Constituição do Estado do Tocantins, constitui objeto de lei complementar a seguinte matéria:

- (A) os prazos de prescrição para ilícitos praticados por qualquer agente, servidor ou não, que causem prejuízos ao erário.
- (B) os limites de idade, a estabilidade e outras condições de transferência do servidor militar para a inatividade.
- (C) os casos de contratação por tempo determinado para atender à necessidade temporária de excepcional interesse público.
- (D) as regras para cálculo de proventos de aposentadoria e pensão por morte.
- (E) os requisitos e as restrições ao ocupante de cargo ou emprego da administração direta e indireta que possibilite o acesso a informações privilegiadas.

**68**

Considerando o exercício da função legislativa por parte da Assembleia Legislativa de Tocantins, nos termos de seu Regimento Interno, é correto afirmar que

- (A) projetos de lei delegada podem se destinar a regular as matérias de exclusiva competência do Poder Executivo, com a sanção do Governador do Estado.
- (B) projetos de resolução podem se destinar a regular, com eficácia de lei ordinária, matéria de competência privativa da Assembleia Legislativa.
- (C) projetos de lei complementar visam regular matéria infraconstitucional.
- (D) projetos de lei têm por objetivo regular matérias de competência do Poder Legislativo, sem a sanção do Governador do Estado.
- (E) projetos de decreto legislativo destinam-se à delegação de competência, na forma estabelecida na Constituição Estadual.

**69**

Aline, servidora pública estadual, revelou segredo do qual se apropriou em razão do cargo que ocupa. A Administração Pública, ao tomar conhecimento do fato, instaurou procedimento administrativo disciplinar a fim de apurar a conduta e garantir à servidora os princípios da ampla defesa e do contraditório.

À luz do Estatuto dos Servidores Públicos Cíveis do Estado do Tocantins, caso punida, Aline poderá ser sancionada com

- (A) advertência.
- (B) suspensão.
- (C) prestação de serviço.
- (D) multa.
- (E) demissão.

**70**

Ana, servidora pública efetiva e estável, ocupante de cargo de nível superior, objetivando inteirar-se sobre os requisitos para a progressão na carreira, consultou a Lei nº 4.208/2023, que trata sobre o plano de cargos, carreiras e remuneração dos Servidores da Assembleia de Tocantins.

Assim, para fazer jus à progressão, Ana terá que

- (A) possuir no máximo três faltas injustificadas por exercício referente ao período avaliado.
- (B) obter conceito igual ou superior a 70% (setenta por cento) dos pontos possíveis em todos os procedimentos de sua Avaliação.
- (C) concluir curso de pós-graduação *lato sensu* com duração mínima de 360 (trezentos e sessenta) horas.
- (D) cumprir trinta meses de efetivo exercício na classe em que se encontra.
- (E) concluir cursos de aperfeiçoamento em sua área de atuação que tenha, no mínimo, 80 (oitenta) horas de duração.



# ASSEMBLEIA LEGISLATIVA DO ESTADO DO TOCANTINS

CONCURSO PÚBLICO – EDITAL Nº 01/2023

## PROVA OBJETIVA – TARDE

### ANALISTA LEGISLATIVO ANALISE DE SISTEMA

NÍVEL SUPERIOR – TIPO 1 – BRANCA



#### SUA PROVA

- Além deste caderno contendo **70 (setenta)** questões objetivas, você receberá do fiscal de prova o cartão de respostas;
- As questões objetivas têm **5 (cinco)** opções de resposta (A, B, C, D) e somente uma delas está correta.



#### TEMPO

- Você dispõe de **5 (cinco) horas** para a realização da prova, já incluído o tempo para a marcação do cartão de respostas;
- **3 (três) horas** após o início da prova, é possível retirar-se da sala, sem levar o caderno de questões;
- A partir dos **30 (trinta) minutos** anteriores ao término da prova é possível retirar-se da sala **levando o caderno de questões**.



#### NÃO SERÁ PERMITIDO

- Qualquer tipo de comunicação entre os candidatos durante a aplicação da prova;
- Anotar informações relativas às respostas em qualquer outro meio que não seja o caderno de questões;
- Levantar da cadeira sem autorização do fiscal de sala;
- Usar o sanitário ao término da prova, após deixar a sala.



#### INFORMAÇÕES GERAIS

- Verifique se seu caderno de questões está completo, sem repetição de questões ou falhas. Caso contrário, **notifique imediatamente o fiscal da sala**, para que sejam tomadas as devidas providências;
- Confira seus dados pessoais, especialmente nome, número de inscrição e documento de identidade e leia atentamente as instruções para preencher o cartão de respostas;
- Para o preenchimento do cartão de respostas, use somente caneta esferográfica, fabricada em material transparente, com tinta preta ou azul;
- Assine seu nome apenas no(s) espaço(s) reservado(s) no cartão de respostas;
- Confira seu cargo, cor e tipo do caderno de questões. Caso tenha recebido caderno de cargo ou cor ou tipo **diferente** do impresso em seu cartão de respostas, o fiscal deve ser **obrigatoriamente** informado para o devido registro na ata da sala;
- Reserve tempo suficiente para o preenchimento do seu cartão de respostas. O preenchimento é de sua responsabilidade e **não será permitida a troca do cartão de respostas em caso de erro cometido pelo candidato**;
- Para fins de avaliação, serão levadas em consideração apenas as marcações realizadas no cartão de respostas;
- A FGV coletará as impressões digitais dos candidatos na lista de presença;
- Os candidatos serão submetidos ao sistema de detecção de metais quando do ingresso e da saída de sanitários durante a realização das provas.
- **Boa prova!**



## CONHECIMENTOS BÁSICOS

### Língua Portuguesa

1

Observe o seguinte texto:

*Quando entrei no terrível vagão, ele estava ocupado por duas pessoas. Uma, dobrada, coberta, dormia profundamente. A coberta superior estava manchada, de fundo amarelado, como pele de leopardo. Vendem-se muitas mantas assim nas lojas de artigos de viagens, mas pude notar logo depois que se tratava realmente da pele de um animal selvagem; do mesmo modo, o boné da pessoa adormecida me pareceu ser de feltro branco bastante delicado. O outro viajante, uma aparência simpática, parecia ter passado dos trinta anos e mostrava-se como figura insignificante que passa confortavelmente as noites em estradas de ferro.*

Nesse fragmento textual, para criar sinais de história realista e verdadeira, o narrador apela para a seguinte estratégia:

- (A) seleciona uma situação banal da qual não precisa fornecer muitos detalhes, exatamente por sua banalidade.
- (B) fornece algumas marcas caracterizadoras dos dois personagens presentes no texto, destacando sua banalidade.
- (C) indica traços descritivos do ambiente, mostrando-o como se nada houvesse nele de excepcional.
- (D) mostra detalhes variados e bastante pitorescos dos objetos descritos.
- (E) dá ao leitor informações sobre personagens e ambiente, mostrando-os como bastante conhecidos do narrador.

2

Assinale a frase que mostra a palavra *mais* numa classe gramatical **diferente** das demais.

- (A) O mercado está prisioneiro de mais um círculo vicioso: piora porque piorou e porque piorou, piora.
- (B) Os ingleses conquistaram o mundo porque não aguentavam mais a própria cozinha.
- (C) Quanto mais vejo o estrangeiro, mais amo a minha pátria.
- (D) Não é mais possível aprender tudo de cor. Um homem instruído não é mais o homem que sabe muitas coisas; é o homem que sabe onde buscar informações.
- (E) Muda-se mais facilmente de religião do que de café

3

As frases a seguir mostram termos ligados pela conjunção OU.

Assinale a frase em que essa conjunção mantém o valor de alternativa (e não de adição).

- (A) João ou Pedro deve ser eleito presidente da empresa.
- (B) A alegria ou a tristeza fazem parte da vida.
- (C) Inglês ou francês são idiomas falados pelos turistas
- (D) Os clientes leem livros ou revistas enquanto esperam.
- (E) Vasco ou Flamengo são times de longa tradição.

4

Um guitarrista americano produziu o seguinte pensamento:

*O crítico de rock é alguém que não sabe escrever, entrevistando gente que não sabe falar, para gente que não sabe ler.*

Sobre a estruturação ou a significação desse pequeno texto, assinale a afirmativa **incorreta**.

- (A) O termo “de rock” funciona como complemento nominal do termo anterior.
- (B) Todos os elementos da cadeia comunicativa citados no texto são marcados pela ignorância.
- (C) O pensamento acima revela um preconceito fortíssimo contra os amantes de rock.
- (D) A opinião expressa no texto pode advir da experiência pessoal do autor, já que se trata de um guitarrista.
- (E) A injustiça desse texto provém de ser uma opinião fundamentada em uma autoridade duvidosa.

5

John Steinbeck, prêmio Nobel, declarou o seguinte:

*O homem é o único animal que bebe sem ter sede, come sem ter fome e fala sem ter nada a dizer.*

Em relação ao significado e à estruturação desse pequeno texto, assinale a afirmativa **incorreta**.

- (A) A frase ficaria mais enfática se invertêssemos a posição do termo inicial: O único animal que bebe sem ter sede, come sem ter fome e fala sem ter nada a dizer é o homem.
- (B) A inversão de alguns segmentos do texto em nada modificaria o sentido da frase: O homem é o único animal que come sem ter fome, bebe sem ter sede e fala sem ter nada a dizer.
- (C) Os segmentos finais do texto mostram preocupação com rigoroso paralelismo sintático.
- (D) Segundo a opinião do autor do texto, a marca principal do homem é a irracionalidade.
- (E) Nem todas as ações citadas como marcas humanas estão presentes, por oposição, nos outros animais.

6

Assinale a frase que **não** expressa uma noção de tempo abstrato.

- (A) Nas asas do tempo, a tristeza voa.
- (B) Quem mata o tempo não é assassino, é suicida.
- (C) O tempo perdido não se encontra nunca mais.
- (D) O tempo é o melhor professor. Infelizmente, ele mata todos os seus estudantes
- (E) O tempo gasto na viagem foi de duas horas.

7

Assinale a frase em que a utilização do acento grave indicativo da crase é realizada de forma **errada**.

- (A) Jamais alguém se arrependeu de ter-se acostumado à madrugara e à ter-se casado jovem.
- (B) Tempo é o suspiro de adeus do sol à terra.
- (C) Saio todos os dias às cinco horas e não permito que o meu trabalho interfira no meu jogo de tênis.
- (D) O momento de extrair uma lição da história está sempre à mão para os sábios.
- (E) Quando assumi, quatro anos atrás, estávamos à beira do precipício.

8

Os adjetivos podem representar estados, qualidades, características e relações.

Assinale a frase que mostra um tipo de adjetivo **diferente** dos demais.

- (A) Nunca houve criança tão amável que a própria mãe não ficasse satisfeita ao conseguir adormecê-la.
- (B) Nada mais perversamente cruel que uma adorável criança.
- (C) Mesmo estando doentes, as crianças não ficam caladas.
- (D) Quando as crianças estão quietas é porque fizeram alguma coisa errada.
- (E) As tangerinas verdes não amadurecem fora do pé.

9

Assinale a frase em que o adjetivo sublinhado mostra uma função sintática **diferente** das demais.

- (A) Por fora bela viola, por dentro pão bolorento.
- (B) Tiradentes, heroico, tentou organizar uma revolução.
- (C) Um rosto bonito altera-se depressa.
- (D) Eu não podia acreditar que existem múmias tão lindas.
- (E) Um homem belo é um homem insignificante.

10

Assinale a opção que mostra uma impropriedade léxica, ou seja, um emprego **inadequado** da expressão “cerca de”.

- (A) Havia cerca de três dúzias de convidados no final da festa.
- (B) Chegaram cerca de 100 cartas no mesmo dia.
- (C) Cerca de 18 lojas fecharam as portas mais cedo.
- (D) Os cantores receberam cerca de uma centena de convites.
- (E) A plantação produziu cerca de uma tonelada de legumes.

11

Muitas palavras portuguesas mostram o prefixo A- sem qualquer valor semântico, sendo equivalentes ao mesmo vocábulo sem esse prefixo.

Assinale a palavra a seguir que exemplifica esse A protético.

- (A) amostrar
- (B) abraçar
- (C) atenuar
- (D) aguardar
- (E) aparar

12

Observe o seguinte texto:

*A felicidade depende da habilidade que tenhamos naquelas atividades que consideramos importantes: somente se lhes damos um real valor aos pequenos detalhes cotidianos, poderemos ter instantes felizes. A felicidade absoluta não existe, e já que só podemos acessar os pequenos detalhes daquilo que nos interessa, devemos contentar-nos com isso. Por isso, a infelicidade é um sinal claro de nossa incompetência na arte de viver.*

Sobre a estrutura e a significação desse texto, assinale a afirmativa **inadequada**.

- (A) O tema do texto gira em torno do que consiste a felicidade e o que viria a ser o seu oposto.
- (B) A afirmação de que “A felicidade absoluta não existe” é de cunho pessoal do autor do texto, representando uma opinião.
- (C) O raciocínio utilizado na estruturação argumentativa é do tipo dedutivo.
- (D) O conector “Por isso” mostra a preocupação com o caráter lógico da argumentação.
- (E) A tese do texto é a de que a infelicidade é fruto de nossa incompetência na arte de viver.

## Raciocínio Lógico Matemático

13

Certo programa de rádio tem 1 hora e 55 minutos de duração. A partir do momento em que o programa é iniciado, há blocos temáticos de 7 minutos intercalados por blocos de propagandas de 2 minutos.

Em todos os blocos de propaganda, ouve-se o comercial do restaurante R, que sempre dura 18 segundos.

Se o programa começa e termina com um bloco temático, então, o tempo total do programa dedicado ao anúncio do restaurante R é

- (A) 3 minutos e 54 segundos.
- (B) 3 minutos e 36 segundos.
- (C) 3 minutos e 18 segundos.
- (D) 3 minutos.
- (E) 2 minutos e 48 segundos.

14

A linha de produção de certa fábrica produz 1100 latas de sardinhas a cada hora. Certo dia, por um defeito de calibragem do sistema, entre 13h e 14h, o volume de produção foi reduzido em 30% durante exatos 12 minutos.

A quantidade de latas de sardinhas produzidas no intervalo supracitado foi

- (A) 946.
- (B) 964.
- (C) 1022.
- (D) 1034.
- (E) 1046.

15

Marcelo está parado de frente para uma das paredes de uma sala quadrada. Nesta posição, ele está a 1m e 20cm da parede que se encontra à sua direita e a 1m e 70cm da parede que está às suas costas.

Ele, então, se desloca paralelamente às paredes da sala sendo 40cm para a frente e 80cm para a direita. Nessa nova posição, ele passou a distar 1m e 90cm da parede que antes estava à sua esquerda.

Desprezando-se as dimensões de Marcelo, a sua atual distância à parede que, antes dos movimentos, estava à sua frente, é

- (A) 20cm.
- (B) 30cm.
- (C) 40cm.
- (D) 50cm.
- (E) 60cm.

**16**

Um dado é dito comum quando tem a forma de um cubo e suas 6 faces são numeradas de 1 a 6, de tal forma que a soma dos números estampados em faces opostas, quaisquer que sejam elas, sempre somam 7.

Quando um dado comum é lançado, diz-se que o resultado do lançamento é o número estampado na face voltada para cima.

Um dado foi lançado 3 vezes seguidas. Se o produto dos resultados obtidos nos lançamentos vale 75, a soma desses resultados é igual a

- (A) 12.
- (B) 13.
- (C) 14.
- (D) 15.
- (E) 16.

**17**

Em certo ano, o dia 1º de agosto cai em um domingo. Logo, o dia 1º de novembro cairá em

- (A) um sábado.
- (B) um domingo.
- (C) uma segunda-feira.
- (D) uma quarta-feira.
- (E) uma sexta-feira.

**18**

Considere a seguinte proposição condicional:

*Se todos os alunos da Escola Aristarco gostam de matemática, então, ao menos um deles ganha medalha na Olimpíada Nacional de Matemática.*

Se essa proposição é verdadeira, é correto afirmar que

- (A) se nenhum dos alunos da Escola Aristarco gosta de Matemática, então nenhum deles ganha medalha na Olimpíada Nacional de Matemática.
- (B) se todos os alunos da Escola Aristarco ganham medalha na Olimpíada Nacional de Matemática, então, todos esses alunos gostam de Matemática.
- (C) se algum aluno da Escola Aristarco ganha medalha na Olimpíada Nacional de Matemática, então todos esses alunos gostam de Matemática.
- (D) se nenhum aluno da Escola Aristarco ganha medalha na Olimpíada Nacional de Matemática, então nenhum desses alunos gosta de Matemática.
- (E) se nenhum aluno da Escola Aristarco ganha medalha na Olimpíada Nacional de Matemática, então algum desses alunos não gosta de Matemática.

**19**

Em uma caixa, há muitas canetas esferográficas. Classificadas conforme a cor, elas podem ser azuis, vermelhas ou pretas. Classificadas quanto à espessura da esfera, elas podem ser de ponta fina ou de ponta grossa.

Metade das canetas vermelhas tem a ponta grossa. A quantidade total de canetas pretas é igual à quantidade total de canetas vermelhas. Entre as canetas de ponta grossa, a quantidade de azuis é igual à de pretas. A quantidade de canetas azuis com ponta fina é o dobro da quantidade de canetas pretas de ponta grossa.

Se, nessa caixa, 18 são azuis e 20 têm ponta grossa, então a quantidade total de canetas na caixa é

- (A) 30.
- (B) 40.
- (C) 48.
- (D) 50.
- (E) 52.

**20**

Tucídides possuía uma dívida e, em vez de quitá-la, pagou apenas 20% do seu valor, deixando o restante para ser quitado em data futura, com acréscimo de 12% a título de juros sobre o saldo devedor.

No ato de quitação, Tucídides pagou R\$2.329,60. Logo, o valor original da dívida é o resultado da seguinte expressão:

(A)  $2.329,60 \times 0,88 - 20$

(B)  $\frac{2.329,60}{0,88} \times 1,20$

(C)  $\frac{2.329,60}{1,12} \times 1,20$

(D)  $\frac{2.329,60}{1,12 \times 1,20}$

(E)  $\frac{2.329,60}{1,12 \times 0,8}$

**21**

As filhas de Nepomuceno têm 5 e 9 anos de idade. Ele dividirá R\$420,00 entre elas de forma inversamente proporcional às suas idades.

Logo

- (A) a mais nova receberá R\$120,00 a mais que a mais velha.
- (B) a mais nova receberá R\$150,00 a mais que a mais velha.
- (C) a mais nova receberá R\$270,00 a mais que a mais velha.
- (D) a mais velha receberá R\$120,00 a mais que a mais nova.
- (E) a mais velha receberá R\$150,00 a mais que a mais nova.

**22**

A negação da proposição:

$$\text{Se } y \neq 0, \text{ então } x > 2 \text{ e } x \leq 5$$

é dada por

- (A) Se  $y = 0$ , então  $x > 2$  e  $x \leq 5$
- (B) Se  $y = 0$ , então  $x < 2$  ou  $x \geq 5$
- (C)  $y = 0$  e  $x \leq 2$  ou  $x > 5$
- (D)  $y \neq 0$  e  $x \leq 2$  ou  $x > 5$
- (E)  $y \neq 0$  e  $x \leq 2$  e  $x > 5$

## Atualidades

23

De acordo com o censo demográfico de 2022 (IBGE), mais da metade da população brasileira (51,13%) é feminina, e elas representam, segundo o Tribunal Superior Eleitoral, 53% do eleitorado. No entanto, elas ocupam, hoje, menos de 15% dos cargos eletivos.

A respeito da baixa participação das mulheres na política, assinale a afirmativa que apresenta um dispositivo existente na legislação brasileira para alterar esse cenário.

- (A) Reserva de pelo menos 50% dos recursos do Fundo Especial de Financiamento de Campanha, o Fundo Eleitoral, para financiar candidaturas femininas.
- (B) Suspensão dos direitos eleitorais aos partidos em caso de não observância do percentual de pelo menos 30% de candidatas mulheres em cada ciclo eleitoral
- (C) Reserva de assentos, em ambas as casas legislativas, para mulheres, com preferência para as representantes de povos originários.
- (D) Cota de gênero, que obriga cada partido ou coligação a preencher o mínimo de 30% e o máximo de 70% de candidaturas de cada sexo.
- (E) Repasse de até 30% dos recursos dos Fundos Partidário para custear o tempo da propaganda eleitoral gratuita de candidatas em rádio e televisão.

24

A França se tornou o primeiro país do mundo a incluir na Constituição a liberdade de a mulher abortar. A mudança na Carta Magna foi aprovada em uma sessão conjunta das duas Casas legislativas, a Assembleia Nacional e o Senado, e será promulgada pelo presidente Emmanuel Macron ainda em março de 2024.

Adaptado de <https://www1.folha.uol.com.br/mundo/2024/03/>

Diferentemente da França, a legislação brasileira

- (A) equipara o aborto ao infanticídio.
- (B) considera o aborto uma prática ilegal em todas as situações.
- (C) descriminaliza a interrupção da gravidez em caso de deficiência da gestante.
- (D) estabelece um limite temporal para interromper a gravidez, desde que respaldada por laudo médico.
- (E) autoriza a interrupção de gestação em caso de não haver outro meio de salvar a vida da gestante.

25

Desde os anos 2000, o interior do Brasil ultrapassou o litoral na incidência de dengue. A região costeira que vai de Santos, em São Paulo, até Belém, no Pará, apresentava tipicamente maior proporção de casos de dengue em comparação com sua população. Entretanto, recentemente, o oeste do Paraná, o oeste de Santa Catarina o oeste de São Paulo, o interior de Minas Gerais, uma parte do Tocantins, o Goiás e o Mato Grosso do Sul viram a transmissão da doença aumentar e muitas de suas cidades foram obrigadas a decretar emergência.

Adaptado de <https://www.estadao.com.br>

A respeito dos fatores relacionados ao aumento e à interiorização dos casos de dengue no Brasil, analise as afirmativas a seguir.

- I. A maior frequência de períodos com temperaturas acima da média, inclusive com ondas de calor no período invernal em todo território, tem reforçado o padrão sazonal da doença.
- II. A expansão urbana desvinculada de melhoras nos serviços sanitários tem propiciado a formação de ilhas de calor e, portanto, uma alta na incidência da dengue.
- III. O desmatamento do cerrado, convertido em pasto, por exemplo, tem contribuído para aumentar a temperatura média e o número de casos da doença no interior do Brasil.

Está correto o que se afirma em

- (A) I, apenas.
- (B) I e II, apenas.
- (C) I e III, apenas.
- (D) II e III, apenas.
- (E) I, II e III.

26

As afirmativas a seguir descrevem corretamente o desempenho da economia brasileira em 2023, à exceção de uma. Assinale-a.

- (A) A expansão econômica ampliou a geração de empregos informais, em um contexto recessivo e de flexibilização das leis trabalhistas.
- (B) O dinamismo da economia foi marcado pelo aumento de exportações, no setor agrícola, e da demanda, no setor de serviços, em função da alta no consumo das famílias.
- (C) A alta progressiva nas cotações internacionais de commodities acelerou o ritmo das exportações, mesmo em um cenário cambial desfavorável para os exportadores.
- (D) A retração do Brasil no mercado regional e internacional ocorreu em função da maior competitividade dos produtos agrícolas argentinos e pela retomada da economia chinesa.
- (E) A persistência do alto nível da inflação foi ocasionada pela alta da cesta básica, sobretudo dos alimentos, cujas safras foram afetadas pelas condições climáticas adversas.

**27**

Em 2024, o Tribunal Superior Eleitoral (TSE) aprovou uma resolução para regulamentar o uso da inteligência artificial (IA) durante as eleições municipais a serem realizadas em outubro. A norma proíbe manipulações de conteúdo falso para criar ou substituir imagem ou voz de candidato com objetivo de prejudicar ou favorecer candidaturas. Também foi aprovada a restrição do uso de chatbots humanizados e avatares para intermediar a comunicação das campanhas com pessoas reais nas redes sociais.

Adaptado de <https://agenciabrasil.etc.com.br/>

A resolução sobre IA objetiva

- (A) coibir a produção e circulação de *deepfakes*.
- (B) restringir o uso de ferramentas de IA simbólica.
- (C) retomar a veiculação de propagandas eleitorais em mídias tradicionais, como rádio e televisão.
- (D) proibir o uso de ferramentas de coleta e seleção em bases de dados com fins eleitorais.
- (E) limitar o uso de assistente virtual programado por AI para divulgação do programa partidário.

**28**

Assinale a afirmativa que descreve corretamente um aspecto do panorama global da economia em 2023.

- (A) Nos Estados Unidos, a economia foi alavancada pela adoção de uma política de ampliação do crédito e baixa da taxa de juros.
- (B) Na China, o PIB cresceu acima do esperado, em um cenário marcado pela retomada econômica pós pandemia, inclusive no setor imobiliário.
- (C) Na Zona do Euro, a alta dos preços da energia pesou nas despesas familiares e no setor industrial, confirmando a manutenção de um quadro de crise.
- (D) Na Rússia, o PIB decresceu, em função do impacto prolongado da guerra com a Ucrânia e dos embargos à venda de petróleo e gás russos.
- (E) Na América do Sul, foi mantido um caminho geral de crescimento, apoiado por investimentos externos e pela intensificação de políticas estatistas.

**29**

Um supercomputador consiste em milhares de pequenos computadores chamados nós. Cada nó é equipado com sua própria memória e com vários processadores. Atuando em conjunto, eles são capazes de realizar cálculos extremamente complexos em elevada velocidade. Hoje, o maior supercomputador da América Latina é o Pégaso, da Petrobras, com 678 TB de memória RAM e mais de 233 mil núcleos.

Adaptado de <https://revistapesquisa.fapesp.br>

A respeito do poder computacional de alto desempenho dos supercomputadores, analise as afirmativas a seguir e assinale (V) para a verdadeira e (F) para a falsa.

- ( ) Essas máquinas são instrumentos valiosos de pesquisa e de suporte a setores da economia como defesa, energia e saúde, permitindo a resolução de problemas complexos em menor tempo.
- ( ) Esses equipamentos permitem realizar tarefas que exigem altíssimos níveis de processamento, como simulações da formação do universo ou modelagem molecular para novos fármacos.
- ( ) Esses aparelhos trabalham em alta velocidade de processamento pelo somatório de diversos núcleos, o que potencializa a velocidades do processador, medidas em gigahertz (GHz).

As afirmativas são, respectivamente,

- (A) V – V – F.
- (B) V – F – V.
- (C) F – V – F.
- (D) F – V – V.
- (E) V – V – V.

**30**

No início do ano corrente, a Petrobras anunciou ter alcançado em 2023 o segundo maior valor de lucro líquido de sua história. Mesmo assim, suas ações caíram no mercado financeiro, em função da disputa sobre os dividendos.

A respeito dos resultados financeiros da Petrobras nos últimos anos e da política de distribuição de dividendos da empresa, assinale a afirmativa correta.

- (A) A Petrobras é uma empresa estatal de economia mista que monopoliza a indústria petroleira no Brasil.
- (B) A Petrobras é uma estatal administrada diretamente por órgãos governamentais que controlam o valor das suas ações.
- (C) A Petrobras direciona parte dos dividendos para investidores privados, e outra parte para o governo federal, que controla a empresa via Tesouro e BNDES.
- (D) A Petrobras, sob o Governo Bolsonaro, reduziu o pagamento de dividendos a acionistas privados para reinvesti-los em energia renovável.
- (E) A Petrobras, no atual governo, vendeu ativos e distribuiu o lucro e os valores recordes de dividendos entre seus acionistas para financiar projetos do BNDES.

31

Dados da última década mostram que, em relação aos Estados, o Pará é o que apresenta o maior número de registros de resgates de trabalho análogo à escravidão, com 9.853, seguido por Mato Grosso (4.302); Tocantins (2.896); São Paulo (1.529) e Rio de Janeiro (1.653), em 2017.

Adaptado de <https://www.jota.info/justica/em-14-anos-434-mil-foram-resgatados-de-trabalho-escravo-30102017>

A respeito da definição moderna de escravidão, analise as afirmativas a seguir.

- I. Em Tocantins, a maior incidência de escravidão moderna ocorre na zona rural, associada a atividades agropecuárias e ao extrativismo mineral, como nas carvoarias, por exemplo.
- II. A Organização Internacional do Trabalho determina a condição de escravidão por uma série de componentes, como o trabalho forçado análogo ao de escravo e o casamento forçado.
- III. Pessoas obrigadas a trabalhar por dívida ou por ameaça, sem direitos trabalhistas garantidos estão em situação de escravidão, uma vez que lhes é impedida a liberdade de ir e vir.

Está correto o que se afirma em

- (A) I, apenas.
- (B) I e II, apenas.
- (C) I e III, apenas.
- (D) II e III, apenas.
- (E) I, II e III.

32

Energia gerada por recursos naturais renováveis que, no Brasil, provém da lenha, carvão vegetal, carvão mineral, bagaço de cana e outros resíduos combustíveis. Essa energia é a matéria orgânica vegetal ou animal usada como fonte de energia limpa e sustentável.

O trecho descreve o seguinte componente importante do desenvolvimento sustentável:

- (A) compostagem.
- (B) biodiversidade.
- (C) créditos de carbono.
- (D) ciclo de vida.
- (E) biomassa.

## História e Geografia do Estado de Tocantins

33

Leia a descrição de uma classe de vegetação presente no estado do Tocantins, a seguir.

*Esta vegetação, também conhecida como floresta pluvial tropical, é caracterizada por árvores de porte elevado, além de trepadeiras lenhosas e epífitas (bromélias e orquídeas, por exemplo) em abundância, o que a diferencia de outras classes de formação vegetal. Sua característica ecológica principal é estar presente em ambientes de chuvas abundantes, como na parte noroeste do Estado, onde as temperaturas médias são de 25°C e os elevados índices de precipitação estão bem distribuídos ao longo do ano.*

Adaptado de Luís Antônio G. C. Silva. *Biomas presentes no Estado do Tocantins*. Brasília: Câmara dos Deputados, 2007, p. 4.

O trecho caracteriza a região conhecida como Floresta

- (A) Estacional Semidecidual.
- (B) Tropical Subcaducifólia.
- (C) de Mata Atlântica.
- (D) Ombrófila Densa.
- (E) Temperada Decidual.

34

Comparando dados dos censos do IBGE, pode-se elaborar um retrato da evolução demográfica da população residente no Estado de Tocantins. O grupo na faixa etária de 0 a 14 representava 41,7% da população em 1991, 28,8% em 2010, e passou para 24% em 2022. A população acima de 65 anos era de 3,8% em 1991 e 5,8% em 2010, e ficou em 8,6% em 2022. O censo de 2022 mostrou ainda que a faixa etária de 15 a 29 anos representa 15% da população e que 41% da população é composta por pessoas de 30 a 59 anos.

Com base no trecho, assinale a opção que apresenta a dinâmica populacional do Tocantins entre 1991 e 2022.

- (A) Expansão da base da pirâmide etária.
- (B) Diminuição da taxa de fecundidade.
- (C) Estreitamento do topo da pirâmide.
- (D) Aumento da idade mediana.
- (E) Redução do índice de envelhecimento.

35

*Foram inegáveis os desdobramentos socioeconômicos sobre o antigo Norte Goiano fruto da construção da rodovia BR-153, a partir do final da década de 1950. O novo urbanismo da Belém-Brasília trouxe enorme impacto no que se refere ao conjunto de cidades que existiam às margens do rio Tocantins, aos fluxos migratórios e às atividades econômicas da região.*

Adaptado de AQUINO, N. *Tocantins: cidades e urbanismo em três modelos históricos*. In: III Encontro da ANPPAS. Brasília, 2006, p. 8.

As afirmativas a seguir descrevem corretamente impactos da rodovia BR-153 no processo de territorialização do Tocantins, **à exceção de uma**. Assinale-a.

- (A) A rodovia foi construída no governo Kubitscheck, em um contexto desenvolvimentista que considerava a expansão rodoviária como um meio para integrar econômica e territorialmente as regiões do país, inclusive o norte goiano que, então, vivia uma situação de abandono.
- (B) A rodovia Belém-Brasília teve grande importância para a urbanização do atual Tocantins, o que é exemplificado pela quantidade de novas cidades criadas após a sua construção, como Araguaína, Gurupi, Paraíso do Tocantins, Colinas do Tocantins e Guaraí.
- (C) A construção da BR-153 alavancou também os municípios ribeirinhos, pois a navegação fluvial foi intensificada para abastecer as obras em curso, o que transformou esses municípios em satélites econômicos da nova malha urbana instalada ao longo da rodovia.
- (D) Após a abertura da rodovia, as principais áreas que receberam fluxos migratórios foram a Microrregião de Gurupi – Gurupi e a Microrregião de Porto Nacional – Palmas, para onde se dirigiram pessoas interessadas em trabalhar na construção civil, nos serviços e no comércio, entre outros.
- (E) A BR-153 permitiu interligar o norte de Goiás, atual Estado do Tocantins, a outras localidades do país, facilitando o escoamento da produção e o acesso a produtos para a região, promovendo o fluxo de mercadorias e serviços.

36

O Memorial Coluna Prestes (2001) é uma obra do arquiteto Oscar Niemeyer localizada na Praça dos Girassóis, no centro de Palmas (TO).



Fonte: <https://central.to.gov.br/image/146145?f=1>

A respeito da relação entre essa obra e a constituição de uma memória histórica para o Estado do Tocantins, analise as afirmativas a seguir.

- I. O monumento refere-se à Coluna Prestes, que percorreu o Brasil para divulgar seu programa revolucionário entre 1924 e 1927, tendo passado pelo Norte do então Estado de Goiás (atual Tocantins) durante seu percurso.
- II. A obra foi realizada em concreto e apresenta curvas sinuosas, características próprias do Barroco das cidades mineradoras, estabelecendo visualmente uma continuidade entre o Barroco do passado das cidades mineradoras e o presente do Tocantins.
- III. A construção do memorial permite inserir simbolicamente a história do Tocantins nos grandes processos da história republicana nacional, e homenagear o Tenente Antônio de Siqueira Campos, cujo sobrenome é homônimo ao do ex-governador do Estado.

Está correto o que se afirma em

- (A) I, apenas.
- (B) I e II, apenas.
- (C) I e III, apenas.
- (D) II e III, apenas.
- (E) I, II e III.

37

Até 1988, o território que hoje corresponde ao Estado do Tocantins pertencia ao antigo norte de Goiás e à Região Centro-Oeste, tendo como capital política a cidade de Goiânia. Com a emancipação política, da noite para o dia, as pessoas amanheceram tocantinenses, mas sem referências culturais que as representassem como tais.

A respeito da projeção simbólica do novo Estado e de sua nova capital, assinale a opção que interpreta corretamente o processo de construção e atribuição de uma identidade ao Tocantins.

- (A) Desde o primeiro mandato do governador Siqueira Campos, os símbolos oficiais do Tocantins continuaram sendo o brasão de armas, a bandeira, o selo estadual e a canção “Hino ao Tocantins”, de Liberato Costa Póvoa e Abiezer Alves da Rocha.
- (B) O girassol foi reconhecido oficialmente como símbolo da natureza do Estado, por ser uma planta nativa dos cerrados tocantinenses e estar associada à prosperidade e à esperança.
- (C) A Praça dos Girassóis, centro cívico de Palmas, foi concebida para receber edifícios esteticamente associados à cultura do Tocantins, como o Palácio do Araguaia, cujos pórticos remetem ao capim dourado, símbolo da tradição do artesanato de alta qualidade da região.
- (D) A monumentalidade da Praça dos Girassóis é enfatizada pelo seu pavimento, que contém figuras simbólicas como o mapa do Tocantins, a rosa dos ventos, o brasão de armas e a Praça Krahô.
- (E) O meio ambiente também foi utilizado para fortalecer o sentimento identitário, inserindo o girassol, a fava-de-bolota, a arara-canindé e a granada como símbolos da natureza do Tocantins, desde a promulgação da Constituição Estadual em 1989.

38

A respeito da matriz energética do Estado e dos investimentos em biocombustíveis, analise as afirmativas a seguir e assinale (V) para a verdadeira e (F) para a falsa.

- ( ) O Estado tem condições de clima e solo desfavoráveis para o plantio de matérias-primas usadas na fabricação de biocombustíveis, mas a expansão do modal logístico (Ferrovia Norte-Sul) permitirá o acesso à soja do planalto goiano.
- ( ) O Tocantins conta com duas usinas de biodiesel em funcionamento, utilizando o pinhão-mansão, a soja, a mamona e outras oleaginosas como matéria-prima.
- ( ) O Estado tem alto potencial de geração de energia solar, pela elevada irradiação solar e pelas políticas públicas voltadas para produção de energia limpa e renovável, como a Política Estadual de Incentivo à Geração e ao Uso da Energia Solar (Pró-Solar)

As afirmativas são, respectivamente,

- (A) V – F – V.  
 (B) F – V – V.  
 (C) F – F – V.  
 (D) V – V – F.  
 (E) V – V – V.

39

*As belas paisagens como serras, cachoeiras, praias e até mesmo dunas, fazem do Tocantins um paraíso de paisagens naturais, atraindo turistas de várias regiões para conhecer o mais novo Estado brasileiro. A potencialidade para o ecoturismo e a preocupação em conservar a biodiversidade e recursos naturais nele contidos fez com que o Governo do Estado, criasse e implementasse as Unidades de Conservação Ambiental (UC).*

Adaptado de <https://www.to.gov.br/secom/>

A respeito das Unidades de Conservação (UC) do Tocantins, assinale a afirmativa correta.

- (A) São espaços territoriais legalmente instituídos pelo poder público e podem ser de proteção integral federal, como no caso dos Parques Cantão, Jalapão e Lajeado.
- (B) As UCs federais estão subordinadas ao Instituto Chico Mendes de Conservação da Biodiversidade (ICMBio), como no caso do Monumento Natural das Árvores Fossilizadas.
- (C) As UCs estaduais estão subordinadas ao Instituto Natureza do Tocantins (Naturatins), que supervisiona o Parque do Araguaia e o das Nascentes do rio Parnaíba.
- (D) As UCs de uso sustentável são compostas exclusivamente por áreas públicas, sendo permitida sua utilização apenas para o ecoturismo, pesquisa e educação ambiental.
- (E) As UCs municipais estão subordinadas às secretarias de meio ambiente, como no caso do Monumento Natural dos Cânions e Corredeiras do Rio Sono e do Parque Ecológico Roberto Guedes Pereira.

40

O Estado do Tocantins possui diversas comunidades quilombolas certificadas e outras com processo formalizado para regularização fundiária de seus territórios. A definição de comunidade quilombola é dada pelo Art. 2º do Decreto nº 4.887/2003:

*Consideram-se remanescentes das comunidades dos quilombos, para os fins deste Decreto, os grupos étnico-raciais, segundo critérios de auto-atribuição, com trajetória histórica própria, dotados de relações territoriais específicas, com presunção de ancestralidade negra relacionada com a resistência à opressão histórica sofrida.*

A respeito dos órgãos e processos envolvidos na identificação e regularização de territórios quilombolas no Estado do Tocantins, assinale a afirmativa correta.

- (A) O acesso dessas comunidades às políticas públicas de educação, saúde, moradia e regularização fundiária depende de o Estado emitir uma certidão de identificação de comunidade quilombola, mediante Fundação Palmares.
- (B) Os critérios para reconhecimento de um grupo enquanto remanescente de quilombo depende da comprovação de sua ancestralidade, seu parentesco e da preservação viva de religiosidades autenticamente africanas.
- (C) A Coordenação Nacional de Articulação de Comunidades Negras Rurais Quilombolas (CONAQ) luta pela incorporação constitucional do direito à autodefinição dos remanescentes de quilombos.
- (D) A certificação quilombola é realizada pela Fundação Cultural Palmares, que avalia com visitas técnicas a autenticidade do legado quilombola pretendido e, caso o aprove, emite a certidão de comunidade quilombola e a inscreve em um cadastro geral.
- (E) O acesso às terras ocupadas pelos remanescentes das comunidades dos quilombos é garantido por sua delimitação e titulação, a cargo da autoridade municipal em que a mesma se localiza.



## CONHECIMENTOS ESPECÍFICOS

41

Em um projeto de desenvolvimento de *software* orientado a objetos para um sistema de gerenciamento de biblioteca, temos diagramas para capturar tanto os requisitos funcionais quanto os não funcionais. A garantia de tempo de resposta inferior a dois segundos para busca no catálogo de livros é um requisito não funcional.

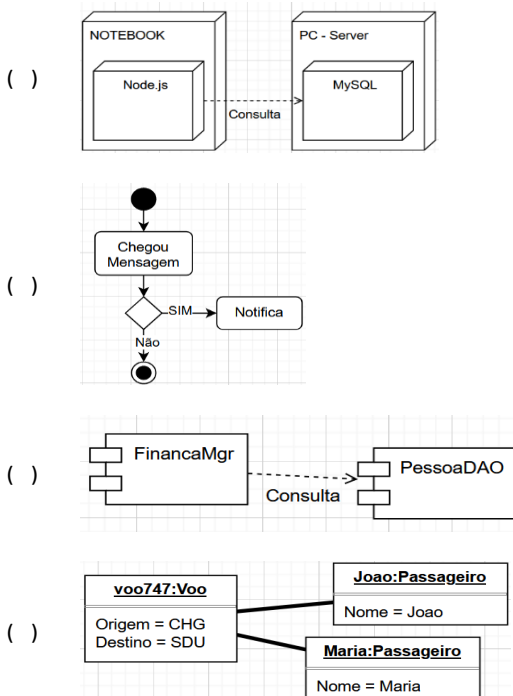
O *diagrama UML* utilizado para representar as partes do sistema responsável por esse requisito é denominado

- (A) Diagrama de Classes.
- (B) Diagrama de Casos de Uso.
- (C) Diagrama de Atividades.
- (D) Diagrama de Componentes.
- (E) Diagrama de Sequência.

42

Associe os diagramas listados a seguir às respectivas estruturas.

- I. Diagrama de Objetos
- II. Diagrama de Atividades
- III. Diagrama de Componentes
- IV. Diagrama de Implantação

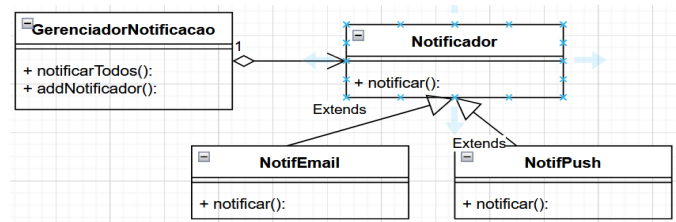


Assinale a opção que apresenta a associação correta, na ordem apresentada.

- (A) I – II – IV – III.
- (B) I – II – III – IV.
- (C) IV – II – III – I.
- (D) IV – II – I – III.
- (E) II – III – IV – I.

43

O diagrama a seguir mostra um módulo de notificação para uma aplicação de *e-commerce* para permitir diversos serviços de notificação, tais como, *e-mail* e *push*.



Assinale a opção que indica o padrão de projeto usado nesse módulo.

- (A) *Singleton*.
- (B) *Factory Method*.
- (C) *Abstract Factory*.
- (D) *Observer*.
- (E) *Prototype*.

44

Assinale a opção que indica o padrão responsável pela criação de objetos de várias classes graças à especialização de sua classe principal.

- (A) *Abstract Factory*.
- (B) *Decorator*.
- (C) *Strategy*.
- (D) *Builder*.
- (E) *Adapter*.

45

A Prefeitura de Nova Esperança planeja criar um sistema de gestão para aumentar a eficiência dos serviços e a interação cidadã. Ele precisa se aproveitar de um sistema de bancos de dados legado. E as regras fiscais serão projetadas futuramente pelos especialistas e legisladores.

Sobre a hipótese apresentada, assinale a afirmativa correta.

- (A) Uma arquitetura de três camadas, permitindo integração imediata com o banco de dados e suportar adição futura das regras dos legisladores.
- (B) Uma arquitetura de três camadas em que a camada central irá interagir com o sistema de banco de dados legado e a primeira camada irá incorporar as regras fiscais.
- (C) Uma arquitetura de duas camadas, sendo a primeira para a nova interface com o usuário e a segunda para interagir com o banco de dados legado.
- (D) Uma arquitetura monolítica de microsserviços para compensar a perda de performance para acesso aos bancos de dados legados.
- (E) Uma arquitetura Web distribuída de 3 camadas em que a última camada irá disponibilizar a interface com o usuário, a segunda constará as regras de negócio e a primeira camada, a de apresentação, irá interagir com os bancos de dados legados.

46

Sobre *Engenharia de Requisitos*, analise as afirmativas a seguir.

- I. A validação de requisitos é um processo que visa assegurar que os requisitos atendem às necessidades e expectativas dos *stakeholders*.
- II. As técnicas de elicitação de requisitos, como *brainstorming*, entrevistas e prototipagem, são utilizadas para coletar requisitos de forma passiva, sem interação com os *stakeholders*.
- III. A priorização de requisitos ajuda a definir a ordem de importância para o projeto.

Está correto o que se afirma em

- (A) II, apenas.
- (B) I e III, apenas.
- (C) II e III, apenas.
- (D) I e II, apenas.
- (E) I, II e III.

47

Durante o desenvolvimento de um *software* de gerenciamento de estoque, a equipe focou nas funcionalidades sem considerar a escalabilidade necessária para o rápido crescimento do varejista. A falta de comunicação com *stakeholders* e o pouco engajamento dos usuários finais não revelou esse problema. Após a implementação, o *software* apresentou problemas de desempenho, causando atrasos e insatisfação.

Para evitar esse problema é necessário

- (A) focar exclusivamente no desenvolvimento de funcionalidades adicionais para aumentar a satisfação do cliente no curto prazo.
- (B) limitar o envolvimento dos usuários finais no processo de validação dos requisitos, mas aumentar o envolvimento dos *stakeholders* para acelerar o desenvolvimento.
- (C) aumentar a dependência em ferramentas automatizadas de validação de requisitos para reduzir a necessidade de *feedback* direto dos usuários finais.
- (D) utilizar uma abordagem de desenvolvimento *waterfall*, garantindo que todas as etapas sejam completadas sequencialmente com interação do usuário apenas antes do lançamento.
- (E) implementar um processo de comunicação mais eficaz que inclua revisões frequentes dos requisitos com *stakeholders* e sessões de *feedback* com usuários finais para garantir que todos os requisitos sejam devidamente entendidos e documentados.

48

Considerando os conceitos fundamentais da Engenharia de *Software*, o Ciclo de Vida do Desenvolvimento de *Software* (CVDS) e os critérios de Qualidade de *Software*, sobre a implementação de práticas de qualidade ao longo do CVDS, analise as afirmativas a seguir.

- I. A análise de requisitos, uma fase inicial do CVDS possui menor impacto na qualidade do *software* final que os testes finais do *software*.
- II. Testes de *software*, realizados apenas na fase final do desenvolvimento, são suficientes para garantir a qualidade do *software*.
- III. A revisão de código e a refatoração são práticas que podem ser aplicadas em várias fases do CVDS para melhorar a manutenibilidade e a qualidade do *software*, mas são mais eficazes na fase de elaboração e construção.

Está correto o que se afirma em

- (A) I, apenas.
- (B) III, apenas.
- (C) I e II, apenas.
- (D) I e III, apenas.
- (E) II e III, apenas.

49

Relacione as metodologias listadas a seguir às suas características específicas.

1. Scrum
  2. Programação Extrema (XP)
  3. Modelo V
  4. Lean Software Development
  5. Feature-Driven Development (FDD)
- ( ) Enfatiza a redução de desperdícios no processo de desenvolvimento de *software*.
- ( ) Caracteriza-se por sua abordagem iterativa e incremental focada no desenvolvimento de características específicas do *software*.
- ( ) Diferencia-se por sua estrutura em que o teste é planejado e executado de forma a refletir inversamente as etapas de desenvolvimento
- ( ) Implementa práticas como programação em pares, desenvolvimento orientado a testes e integração contínua.
- ( ) Emprega *sprints* como unidades de tempo fixas para o desenvolvimento de incrementos do produto

Assinale a opção que indica a relação correta, na ordem apresentada.

- (A) 4 – 5 – 3 – 2 – 1.
- (B) 5 – 3 – 4 – 1 – 2.
- (C) 2 – 1 – 5 – 3 – 4.
- (D) 3 – 2 – 1 – 4 – 5.
- (E) 1 – 4 – 2 – 5 – 3.

50

Sobre as Metodologias de Desenvolvimento de *Software* e o Processo Unificado, analise as afirmativas a seguir.

- I. O Processo Unificado é uma metodologia de desenvolvimento de *software* que se destaca por ser iterativa e incremental com entregas sucessivas e refinadas do projeto.
- II. A análise orientada a objeto não é considerada uma metodologia de desenvolvimento de *software*.
- III. No Processo Unificado, artefatos como casos de uso e diagramas de classe podem ser compartilhados entre diferentes fases, como a concepção e a elaboração.

Está correto o que se afirma em

- (A) I, apenas.
- (B) I e II, apenas.
- (C) I e III, apenas.
- (D) II e III, apenas.
- (E) I, II, III.

51

Considerando as características e as práticas comuns às metodologias ágeis, analise as afirmativas a seguir.

- I. O *manifesto ágil* enfatiza a importância da colaboração com o cliente mais do que a negociação de contratos.
- II. O *desenvolvimento iterativo e incremental* é um princípio chave, permitindo entregas frequentes de partes funcionais do *software*.
- III. A *rigidez* nos processos de desenvolvimento é essencial para garantir a qualidade e a previsibilidade do produto final.

Está correto o que se afirma em

- (A) I, apenas.
- (B) I e II, apenas.
- (C) I e III, apenas.
- (D) II e III, apenas.
- (E) I, II e III.

52

A respeito da Arquitetura Orientada a Serviços (SOA), analise as afirmativas a seguir.

- I. Dentro de uma arquitetura orientada a serviços (SOA), a transferência bancária usando PIX estimula que cada instituição financeira desenvolva seu próprio protocolo de comunicação.
- II. O pagamento de boletos utilizando o PIX, inserido em uma SOA, exige mecanismos de segurança robustos.
- III. Um problema relevante na implementação de SOA é a gestão de serviços, que pode se tornar complexa necessitando de ferramentas eficientes de governança.

Está correto o que se afirma em

- (A) II e III, apenas.
- (B) I e III, apenas.
- (C) I e II, apenas.
- (D) III, apenas.
- (E) II, apenas.

53

Considerando os princípios do Gerenciamento de Projetos conforme o PMBOK, 6ª edição, assinale a afirmativa correta.

- (A) Projetos operam isoladamente das operações organizacionais, não influenciando nem sendo influenciados pela cultura, estrutura e processos da organização.
- (B) A integração de projetos na organização é uma responsabilidade exclusiva do gerente de projetos, não necessitando de envolvimento de outras partes interessadas.
- (C) Projetos e operações organizacionais são componentes independentes, onde o sucesso de um não afeta o desempenho do outro.
- (D) A integração de projetos na organização é um processo automático, que ocorre sem a necessidade de planejamento ou esforço de adaptação às características organizacionais.
- (E) Os projetos são concebidos de forma a atender objetivos estratégicos da organização, sendo assim, sua integração envolve alinhamento com os objetivos e as estratégias corporativas.

54

Uma empresa de tecnologia pretende implementar um escritório de projetos (PMO). Assinale a afirmativa que descreve o modelo PMO correto.

- (A) O *PMO Controle* fornece suporte administrativo aos gerentes de projeto, limitando-se à gestão de documentos e ao controle de recursos, sem intervir nas decisões estratégicas do projeto.
- (B) O *PMO Organizacional* atua como uma entidade consultiva, oferecendo diretrizes, padrões, e políticas para a gestão de projetos, mas não possui autoridade para gerenciar ou tomar decisões sobre projetos específicos.
- (C) O *PMO de Apoio* oferece uma gama de serviços de suporte aos projetos, incluindo treinamento, *software* de gerenciamento de projetos e melhores práticas, atuando de maneira consultiva e, em alguns casos, administrativa.
- (D) O *PMO Diretivo* assume a responsabilidade integral pela gestão de projetos, controlando-os diretamente e tomando todas as decisões estratégicas e operacionais, o que garante que estejam alinhados com os objetivos organizacionais.
- (E) O *PMO de Integração* é responsável exclusivamente pela coordenação de interfaces entre diversos projetos, não oferecendo nenhum tipo de serviço de suporte, treinamento ou diretriz metodológica.

55

Considerando as melhores práticas em Engenharia de Usabilidade, assinale a opção que apresenta a forma correta de utilizar a prototipação.

- (A) A equipe desenvolve um protótipo de alta fidelidade detalhado e funcional no início do projeto, sem coletar *feedback* dos usuários, focando em ajustes técnicos antes de validar as necessidades do usuário.
- (B) Utilizando protótipos de baixa fidelidade, a equipe rapidamente testa diversas ideias de interfaces com um pequeno grupo de usuários internos, sem alterar a diversidade na amostra de testes para manter uma base de comparação mas iterar com base no *feedback* recebido.
- (C) A equipe cria um único protótipo de alta fidelidade e realiza testes com um grande número de usuários finais e planeja ajustes com base nas observações coletadas.
- (D) Inicialmente, são desenvolvidos protótipos de baixa fidelidade para explorar conceitos de *design* e fluxos de interação. Após coletar e analisar *feedback* dos usuários, a equipe itera sobre os protótipos, aumentando progressivamente a fidelidade.
- (E) Os protótipos são desenvolvidos exclusivamente pelo time de *design*, sem comunicação com a equipe de desenvolvimento, e os testes de usabilidade são realizados apenas após a conclusão do desenvolvimento do aplicativo.

56

Um formulário para cadastro de usuários segue o guia de estilo da *Web Content Accessibility Guidelines (WCAG)*.

Assinale a implementação que está mais alinhada às diretrizes desse guia e aos princípios de usabilidade.

- (A) Utilizar cores vibrantes nos botões de ação, sem considerar contraste mas incluir indicativos textuais para ação.
- (B) Empregar apenas ícones sem rótulos textuais nos botões, presumindo que a interpretação visual será universal.
- (C) Implementar mensagens de erro para falhas de validação de campos, sem especificar o erro mas apenas como corrigi-lo.
- (D) Omitir a implementação de atalhos de teclado, deixando apenas para usuários avançados que venham a ler anotações no manual, considerando que todos os usuários preferem navegar utilizando o *mouse*.
- (E) Assegurar que os campos de formulário tenham rótulos claramente associados e mensagens de erro específicas que guiam o usuário na correção de entradas inválidas.

57

Assinale a ação mais apropriada para realizar uma análise de requisitos de usabilidade eficaz.

- (A) Limitar a análise aos requisitos funcionais do sistema para acelerar o desenvolvimento.
- (B) Consultar apenas a equipe de desenvolvimento para definir os requisitos de usabilidade, evitando influências externas.
- (C) Realizar testes de usabilidade apenas nas fases finais de desenvolvimento para ajustes finos.
- (D) Envolver usuários finais e *stakeholders* no processo de definição de requisitos desde o início do projeto.
- (E) Ignorar as diferenças culturais e de idioma dos usuários finais, focando unicamente na funcionalidade.

58

A análise de tarefas é um método eficaz para avaliar a usabilidade na qualidade de *software*.

Assinale a opção que descreve um problema comum dessa abordagem.

- (A) Sobreposição excessiva de funcionalidades, o que pode confundir o usuário.
- (B) Aumento da carga de trabalho para a equipe de desenvolvimento devido à necessidade de manter duas versões do *software*.
- (C) Obtenção de dados quantitativos insuficientes para uma análise estatística rigorosa.
- (D) Efeito do observador, em que a presença do analista pode alterar o comportamento do usuário.
- (E) Ambiguidade das perguntas, o que pode levar a respostas não confiáveis.

59

A *sociedade empresária Max Tech* produz um aplicativo de gerenciamento de tarefas para equipes remotas. Após o lançamento, vários usuários relataram problemas de usabilidade e desempenho do aplicativo, especialmente em condições de rede variáveis. A diretoria reconheceu a necessidade de aprimorar a qualidade do *software* e solicitou uma revisão nos Requisitos Não Funcionais (RNFs) que foram negligenciados.

No contexto apresentado, assinale a ação capaz de garantir a qualidade do *software*

- (A) Realizar uma pesquisa de mercado para identificar as principais funcionalidades ausentes no aplicativo e integrá-las no menor tempo possível.
- (B) Priorizar a adição de novos recursos ao aplicativo, assumindo que isso automaticamente resolverá os problemas de desempenho e usabilidade relatados pelos usuários.
- (C) Implementar uma estratégia de marketing mais agressiva para melhorar a percepção do produto pelo mercado, desviando a atenção dos problemas de desempenho e usabilidade.
- (D) Focar na otimização do código para melhorar o desempenho do aplicativo, assim como aprimorar a interface com o usuário, garantindo uma execução mais rápida em todas as condições de rede e melhor usabilidade para o usuário.
- (E) Conduzir uma revisão focada nos Requisitos Não Funcionais, especialmente aqueles relacionados à usabilidade e ao desempenho em condições de rede variáveis, para identificar lacunas e oportunidades de melhoria.

60

Em relação ao Modelo de Maturidade de Capacidade Integrado (CMMI), versão 2.0, sobre as características e partes estruturais do modelo analise as afirmativas a seguir.

- I. O CMMI é uma abordagem de melhoria de processo que fornece organizações com os elementos essenciais para um processo eficaz. Ele pode ser usado para guiar a melhoria de processo em um projeto, uma divisão ou uma organização inteira.
- II. Existem cinco níveis de maturidade no CMMI, do nível 1, caracterizado por processos imprevisíveis e pouco controlados, até o nível 5, onde os processos são otimizados continuamente.
- III. Um exemplo de problema em grandes empresas, que pode ser mitigado com a aplicação do CMMI, é o atraso significativo no lançamento de um *software* devido à falta de processos padronizados e à má gestão de riscos.

Está correto o que se afirma em

- (A) I e II, apenas.
- (B) I, II e III.
- (C) II e III, apenas.
- (D) I e III, apenas.
- (E) III, apenas.

61

Em relação às funções de dados e às funções de transação na análise por *pontos de função*, assinale a afirmativa correta.

- (A) As *funções de dados* são as únicas consideradas na análise por pontos de função, pois representam o único aspecto relevante do tamanho do *software*.
- (B) As *funções de transação* são menos importantes que as *funções de dados*, pois apenas manipulam os dados sem contribuir para o tamanho funcional do *software*.
- (C) Tanto as *funções de dados* quanto as *funções de transação* são essenciais e complementares na análise por pontos de função, contribuindo juntas para uma estimativa precisa do esforço de desenvolvimento.
- (D) A análise por pontos de função desconsidera as *funções de transação*, focando exclusivamente na complexidade dos algoritmos internos do *software*.
- (E) As *funções de transação* substituem a necessidade de análise das *funções de dados*, pois oferecem uma visão mais integrada do funcionamento do *software*.

62

Uma empresa de tecnologia está planejando utilizar a análise por *pontos de função* para estimar o esforço e os custos envolvidos. Sobre a implementação dessa técnica de estimativa, assinale a afirmativa correta.

- (A) A contagem de pontos de função IFPUG é mais adequada para projetos de manutenção, pois considera apenas os ajustes diretos em funcionalidades existentes.
- (B) A Nesma oferece uma abordagem alternativa que não diferencia projetos de desenvolvimento e de manutenção, tratando todos os esforços de *software* igualmente.
- (C) A análise por pontos de função, independente da metodologia escolhida, não pode ser aplicada em projetos que utilizam metodologias ágeis devido à sua rigidez estrutural.
- (D) A metodologia IFPUG para contagem de pontos de função em projetos de manutenção considera três tipos de funções: consultas internas, consultas externas e arquivos de interface interna.
- (E) O uso de deflatores é uma prática recomendada pela Nesma para aumentar a precisão da contagem de pontos de função em projetos de desenvolvimento, ajustando o tamanho funcional do *software* em função da complexidade técnica.

63

Em um diagrama de modelagem de processos de negócio utilizando a notação BPMN (*Business Process Model and Notation*), assinale a principal função das *Swimlanes*.

- (A) Indicar diferentes tipos de eventos que ocorrem dentro do processo.
- (B) Representar as variáveis que serão manipuladas durante o processo.
- (C) Dividir o diagrama em seções para representar diferentes entidades ou papéis responsáveis por partes específicas do processo.
- (D) Mostrar a sequência temporal das atividades de forma cronológica.
- (E) Detalhar os recursos tecnológicos utilizados em cada etapa do processo.

64

Para integrar um departamento de desenvolvimento de *software* e um de operações de TI, assinale a ação correta.

- (A) Implementação da *metodologia Agile*, concentrando-se na melhoria contínua e colaboração entre as equipes de desenvolvimento de *software* e operações de TI.
- (B) Utilização da técnica de *Benchmarking*, comparando os processos internos com os de organizações líderes do setor para identificar melhores práticas.
- (C) Adoção do *modelo ITIL* para a gestão de serviços de TI, focando na padronização dos processos de entrega e suporte de serviços de TI.
- (D) Aplicação do *framework DevOps*, integrando os departamentos de desenvolvimento de *software* e o de operações de TI para agilizar a entrega de projetos e melhorar a comunicação e a colaboração.
- (E) Introdução da *técnica Six Sigma*, com o objetivo de reduzir a variabilidade nos processos de desenvolvimento de *software* e operações de TI, aumentando a qualidade das entregas.

65

Um analista de processos é encarregado de revisar e otimizar os procedimentos operacionais de uma empresa. Ele identificou uma oportunidade significativa de melhoria que, no entanto, implicaria na redução do número de empregados.

Nesse caso, a conduta mais apropriada do analista é

- (A) proceder com a recomendação da otimização sem consultar os impactos humanos, priorizando exclusivamente os ganhos de eficiência.
- (B) ignorar a oportunidade de melhoria para evitar conflitos internos e possíveis demissões, mantendo a situação atual.
- (C) avaliar cuidadosamente as possíveis consequências da implementação, buscando alternativas que possam realocar ou requalificar os empregados afetados.
- (D) comunicar a descoberta exclusivamente à alta direção, deixando a decisão de implementação e gestão das consequências a seu critério.
- (E) propor a otimização como uma medida temporária, revertendo-a caso haja insatisfação significativa entre os empregados.

## LEGISLAÇÃO INSTITUCIONAL

66

Nos termos da Constituição do Estado do Tocantins, constitui objeto de lei complementar a seguinte matéria:

- (A) os prazos de prescrição para ilícitos praticados por qualquer agente, servidor ou não, que causem prejuízos ao erário.
- (B) os limites de idade, a estabilidade e outras condições de transferência do servidor militar para a inatividade.
- (C) os casos de contratação por tempo determinado para atender à necessidade temporária de excepcional interesse público.
- (D) as regras para cálculo de proventos de aposentadoria e pensão por morte.
- (E) os requisitos e as restrições ao ocupante de cargo ou emprego da administração direta e indireta que possibilite o acesso a informações privilegiadas.

67

Considerando o exercício da função legislativa por parte da Assembleia Legislativa de Tocantins, nos termos de seu Regimento Interno, é correto afirmar que

- (A) projetos de lei delegada podem se destinar a regular as matérias de exclusiva competência do Poder Executivo, com a sanção do Governador do Estado.
- (B) projetos de resolução podem se destinar a regular, com eficácia de lei ordinária, matéria de competência privativa da Assembleia Legislativa.
- (C) projetos de lei complementar visam regular matéria infraconstitucional.
- (D) projetos de lei têm por objetivo regular matérias de competência do Poder Legislativo, sem a sanção do Governador do Estado.
- (E) projetos de decreto legislativo destinam-se à delegação de competência, na forma estabelecida na Constituição Estadual.

68

Aline, servidora pública estadual, revelou segredo do qual se apropriou em razão do cargo que ocupa. A Administração Pública, ao tomar conhecimento do fato, instaurou procedimento administrativo disciplinar a fim de apurar a conduta e garantir à servidora os princípios da ampla defesa e do contraditório.

À luz do Estatuto dos Servidores Públicos Cíveis do Estado do Tocantins, caso punida, Aline poderá ser sancionada com

- (A) advertência.
- (B) suspensão.
- (C) prestação de serviço.
- (D) multa.
- (E) demissão.

69

Ana, servidora pública efetiva e estável, ocupante de cargo de nível superior, objetivando inteirar-se sobre os requisitos para a progressão na carreira, consultou a Lei nº 4.208/2023, que trata sobre o plano de cargos, carreiras e remuneração dos Servidores da Assembleia de Tocantins.

Assim, para fazer jus à progressão, Ana terá que

- (A) possuir no máximo três faltas injustificadas por exercício referente ao período avaliado.
- (B) obter conceito igual ou superior a 70% (setenta por cento) dos pontos possíveis em todos os procedimentos de sua Avaliação.
- (C) concluir curso de pós-graduação *lato sensu* com duração mínima de 360 (trezentos e sessenta) horas.
- (D) cumprir trinta meses de efetivo exercício na classe em que se encontra.
- (E) concluir cursos de aperfeiçoamento em sua área de atuação que tenha, no mínimo, 80 (oitenta) horas de duração.

70

Antônio foi nomeado para o cargo de Controlador Interno da Assembleia Legislativa de Tocantins.

À luz da Lei nº 4.209/2023, que dispõe sobre a estrutura administrativa da Aletto, durante o exercício da função, Antônio será competente para:

- (A) opinar, conclusivamente, em processos de direitos, deveres e obrigações dos servidores do Poder Legislativo.
- (B) constituir Comissão Permanente de Licitação.
- (C) examinar a observância das normas de licitações.
- (D) apresentar à Mesa Diretora o balancete mensal e, no início de cada exercício, o balancete geral das contas da Assembleia Legislativa, relativo ao exercício anterior.
- (E) planejar, coordenar, orientar, controlar e dirigir as atividades administrativas, orçamentárias, financeiras, de comunicação social, de tecnologia de informação e de apoio legislativo da Assembleia Legislativa.



# ASSEMBLEIA LEGISLATIVA DO ESTADO DO TOCANTINS

CONCURSO PÚBLICO – EDITAL Nº 01/2023

## PROVA OBJETIVA – TARDE

### ANALISTA LEGISLATIVO ANÁLISE DE SUPORTE EM INFORMÁTICA

NÍVEL SUPERIOR – TIPO 1 – BRANCA



#### SUA PROVA

- Além deste caderno contendo **70 (setenta)** questões objetivas, você receberá do fiscal de prova o cartão de respostas;
- As questões objetivas têm **5 (cinco)** opções de resposta (A, B, C, D) e somente uma delas está correta.



#### TEMPO

- Você dispõe de **5 (cinco) horas** para a realização da prova, já incluído o tempo para a marcação do cartão de respostas;
- **3 (três) horas** após o início da prova, é possível retirar-se da sala, sem levar o caderno de questões;
- A partir dos **30 (trinta) minutos** anteriores ao término da prova é possível retirar-se da sala **levando o caderno de questões**.



#### NÃO SERÁ PERMITIDO

- Qualquer tipo de comunicação entre os candidatos durante a aplicação da prova;
- Anotar informações relativas às respostas em qualquer outro meio que não seja o caderno de questões;
- Levantar da cadeira sem autorização do fiscal de sala;
- Usar o sanitário ao término da prova, após deixar a sala.



#### INFORMAÇÕES GERAIS

- Verifique se seu caderno de questões está completo, sem repetição de questões ou falhas. Caso contrário, **notifique imediatamente o fiscal da sala**, para que sejam tomadas as devidas providências;
- Confira seus dados pessoais, especialmente nome, número de inscrição e documento de identidade e leia atentamente as instruções para preencher o cartão de respostas;
- Para o preenchimento do cartão de respostas, use somente caneta esferográfica, fabricada em material transparente, com tinta preta ou azul;
- Assine seu nome apenas no(s) espaço(s) reservado(s) no cartão de respostas;
- Confira seu cargo, cor e tipo do caderno de questões. Caso tenha recebido caderno de cargo ou cor ou tipo **diferente** do impresso em seu cartão de respostas, o fiscal deve ser **obrigatoriamente** informado para o devido registro na ata da sala;
- Reserve tempo suficiente para o preenchimento do seu cartão de respostas. O preenchimento é de sua responsabilidade e **não será permitida a troca do cartão de respostas em caso de erro cometido pelo candidato**;
- Para fins de avaliação, serão levadas em consideração apenas as marcações realizadas no cartão de respostas;
- A FGV coletará as impressões digitais dos candidatos na lista de presença;
- Os candidatos serão submetidos ao sistema de detecção de metais quando do ingresso e da saída de sanitários durante a realização das provas.
- **Boa prova!**

## CONHECIMENTOS BÁSICOS

### Língua Portuguesa

1

Observe o seguinte texto:

*Quando entrei no terrível vagão, ele estava ocupado por duas pessoas. Uma, dobrada, coberta, dormia profundamente. A coberta superior estava manchada, de fundo amarelado, como pele de leopardo. Vendem-se muitas mantas assim nas lojas de artigos de viagens, mas pude notar logo depois que se tratava realmente da pele de um animal selvagem; do mesmo modo, o boné da pessoa adormecida me pareceu ser de feltro branco bastante delicado. O outro viajante, uma aparência simpática, parecia ter passado dos trinta anos e mostrava-se como figura insignificante que passa confortavelmente as noites em estradas de ferro.*

Nesse fragmento textual, para criar sinais de história realista e verdadeira, o narrador apela para a seguinte estratégia:

- (A) seleciona uma situação banal da qual não precisa fornecer muitos detalhes, exatamente por sua banalidade.
- (B) fornece algumas marcas caracterizadoras dos dois personagens presentes no texto, destacando sua banalidade.
- (C) indica traços descritivos do ambiente, mostrando-o como se nada houvesse nele de excepcional.
- (D) mostra detalhes variados e bastante pitorescos dos objetos descritos.
- (E) dá ao leitor informações sobre personagens e ambiente, mostrando-os como bastante conhecidos do narrador.

2

Assinale a frase que mostra a palavra *mais* numa classe gramatical **diferente** das demais.

- (A) O mercado está prisioneiro de mais um círculo vicioso: piora porque piorou e porque piorou, piora.
- (B) Os ingleses conquistaram o mundo porque não aguentavam mais a própria cozinha.
- (C) Quanto mais vejo o estrangeiro, mais amo a minha pátria.
- (D) Não é mais possível aprender tudo de cor. Um homem instruído não é mais o homem que sabe muitas coisas; é o homem que sabe onde buscar informações.
- (E) Muda-se mais facilmente de religião do que de café

3

As frases a seguir mostram termos ligados pela conjunção OU.

Assinale a frase em que essa conjunção mantém o valor de alternativa (e não de adição).

- (A) João ou Pedro deve ser eleito presidente da empresa.
- (B) A alegria ou a tristeza fazem parte da vida.
- (C) Inglês ou francês são idiomas falados pelos turistas
- (D) Os clientes leem livros ou revistas enquanto esperam.
- (E) Vasco ou Flamengo são times de longa tradição.

4

Um guitarrista americano produziu o seguinte pensamento:

*O crítico de rock é alguém que não sabe escrever, entrevistando gente que não sabe falar, para gente que não sabe ler.*

Sobre a estruturação ou a significação desse pequeno texto, assinale a afirmativa **incorreta**.

- (A) O termo “de rock” funciona como complemento nominal do termo anterior.
- (B) Todos os elementos da cadeia comunicativa citados no texto são marcados pela ignorância.
- (C) O pensamento acima revela um preconceito fortíssimo contra os amantes de rock.
- (D) A opinião expressa no texto pode advir da experiência pessoal do autor, já que se trata de um guitarrista.
- (E) A injustiça desse texto provém de ser uma opinião fundamentada em uma autoridade duvidosa.

5

John Steinbeck, prêmio Nobel, declarou o seguinte:

*O homem é o único animal que bebe sem ter sede, come sem ter fome e fala sem ter nada a dizer.*

Em relação ao significado e à estruturação desse pequeno texto, assinale a afirmativa **incorreta**.

- (A) A frase ficaria mais enfática se invertêssemos a posição do termo inicial: O único animal que bebe sem ter sede, come sem ter fome e fala sem ter nada a dizer é o homem.
- (B) A inversão de alguns segmentos do texto em nada modificaria o sentido da frase: O homem é o único animal que come sem ter fome, bebe sem ter sede e fala sem ter nada a dizer.
- (C) Os segmentos finais do texto mostram preocupação com rigoroso paralelismo sintático.
- (D) Segundo a opinião do autor do texto, a marca principal do homem é a irracionalidade.
- (E) Nem todas as ações citadas como marcas humanas estão presentes, por oposição, nos outros animais.

6

Assinale a frase que **não** expressa uma noção de tempo abstrato.

- (A) Nas asas do tempo, a tristeza voa.
- (B) Quem mata o tempo não é assassino, é suicida.
- (C) O tempo perdido não se encontra nunca mais.
- (D) O tempo é o melhor professor. Infelizmente, ele mata todos os seus estudantes
- (E) O tempo gasto na viagem foi de duas horas.

7

Assinale a frase em que a utilização do acento grave indicativo da crase é realizada de forma **errada**.

- (A) Jamais alguém se arrependeu de ter-se acostumado à madrugada e à ter-se casado jovem.
- (B) Tempo é o suspiro de adeus do sol à terra.
- (C) Saio todos os dias às cinco horas e não permito que o meu trabalho interfira no meu jogo de tênis.
- (D) O momento de extrair uma lição da história está sempre à mão para os sábios.
- (E) Quando assumi, quatro anos atrás, estávamos à beira do precipício.



8

Os adjetivos podem representar estados, qualidades, características e relações.

Assinale a frase que mostra um tipo de adjetivo **diferente** dos demais.

- (A) Nunca houve criança tão amável que a própria mãe não ficasse satisfeita ao conseguir adormecê-la.
- (B) Nada mais perversamente cruel que uma adorável criança.
- (C) Mesmo estando doentes, as crianças não ficam caladas.
- (D) Quando as crianças estão quietas é porque fizeram alguma coisa errada.
- (E) As tangerinas verdes não amadurecem fora do pé.

9

Assinale a frase em que o adjetivo sublinhado mostra uma função sintática **diferente** das demais.

- (A) Por fora bela viola, por dentro pão bolorento.
- (B) Tiradentes, heroico, tentou organizar uma revolução.
- (C) Um rosto bonito altera-se depressa.
- (D) Eu não podia acreditar que existem múmias tão lindas.
- (E) Um homem belo é um homem insignificante.

10

Assinale a opção que mostra uma impropriedade léxica, ou seja, um emprego **inadequado** da expressão “cerca de”.

- (A) Havia cerca de três dúzias de convidados no final da festa.
- (B) Chegaram cerca de 100 cartas no mesmo dia.
- (C) Cerca de 18 lojas fecharam as portas mais cedo.
- (D) Os cantores receberam cerca de uma centena de convites.
- (E) A plantação produziu cerca de uma tonelada de legumes.

11

Muitas palavras portuguesas mostram o prefixo A- sem qualquer valor semântico, sendo equivalentes ao mesmo vocábulo sem esse prefixo.

Assinale a palavra a seguir que exemplifica esse A protético.

- (A) amostrar
- (B) abraçar
- (C) atenuar
- (D) aguardar
- (E) aparar

12

Observe o seguinte texto:

*A felicidade depende da habilidade que tenhamos naquelas atividades que consideramos importantes: somente se lhes damos um real valor aos pequenos detalhes cotidianos, poderemos ter instantes felizes. A felicidade absoluta não existe, e já que só podemos acessar os pequenos detalhes daquilo que nos interessa, devemos contentar-nos com isso. Por isso, a infelicidade é um sinal claro de nossa incompetência na arte de viver.*

Sobre a estrutura e a significação desse texto, assinale a afirmativa **inadequada**.

- (A) O tema do texto gira em torno do que consiste a felicidade e o que viria a ser o seu oposto.
- (B) A afirmação de que “A felicidade absoluta não existe” é de cunho pessoal do autor do texto, representando uma opinião.
- (C) O raciocínio utilizado na estruturação argumentativa é do tipo dedutivo.
- (D) O conector “Por isso” mostra a preocupação com o caráter lógico da argumentação.
- (E) A tese do texto é a de que a infelicidade é fruto de nossa incompetência na arte de viver.

## Raciocínio Lógico Matemático

13

Certo programa de rádio tem 1 hora e 55 minutos de duração. A partir do momento em que o programa é iniciado, há blocos temáticos de 7 minutos intercalados por blocos de propagandas de 2 minutos.

Em todos os blocos de propaganda, ouve-se o comercial do restaurante R, que sempre dura 18 segundos.

Se o programa começa e termina com um bloco temático, então, o tempo total do programa dedicado ao anúncio do restaurante R é

- (A) 3 minutos e 54 segundos.
- (B) 3 minutos e 36 segundos.
- (C) 3 minutos e 18 segundos.
- (D) 3 minutos.
- (E) 2 minutos e 48 segundos.

14

A linha de produção de certa fábrica produz 1100 latas de sardinhas a cada hora. Certo dia, por um defeito de calibragem do sistema, entre 13h e 14h, o volume de produção foi reduzido em 30% durante exatos 12 minutos.

A quantidade de latas de sardinhas produzidas no intervalo supracitado foi

- (A) 946.
- (B) 964.
- (C) 1022.
- (D) 1034.
- (E) 1046.

15

Marcelo está parado de frente para uma das paredes de uma sala quadrada. Nesta posição, ele está a 1m e 20cm da parede que se encontra à sua direita e a 1m e 70cm da parede que está às suas costas.

Ele, então, se desloca paralelamente às paredes da sala sendo 40cm para a frente e 80cm para a direita. Nessa nova posição, ele passou a distar 1m e 90cm da parede que antes estava à sua esquerda.

Desprezando-se as dimensões de Marcelo, a sua atual distância à parede que, antes dos movimentos, estava à sua frente, é

- (A) 20cm.
- (B) 30cm.
- (C) 40cm.
- (D) 50cm.
- (E) 60cm.

**16**

Um dado é dito comum quando tem a forma de um cubo e suas 6 faces são numeradas de 1 a 6, de tal forma que a soma dos números estampados em faces opostas, quaisquer que sejam elas, sempre somam 7.

Quando um dado comum é lançado, diz-se que o resultado do lançamento é o número estampado na face voltada para cima.

Um dado foi lançado 3 vezes seguidas. Se o produto dos resultados obtidos nos lançamentos vale 75, a soma desses resultados é igual a

- (A) 12.
- (B) 13.
- (C) 14.
- (D) 15.
- (E) 16.

**17**

Em certo ano, o dia 1º de agosto cai em um domingo. Logo, o dia 1º de novembro cairá em

- (A) um sábado.
- (B) um domingo.
- (C) uma segunda-feira.
- (D) uma quarta-feira.
- (E) uma sexta-feira.

**18**

Considere a seguinte proposição condicional:

*Se todos os alunos da Escola Aristarco gostam de matemática, então, ao menos um deles ganha medalha na Olimpíada Nacional de Matemática.*

Se essa proposição é verdadeira, é correto afirmar que

- (A) se nenhum dos alunos da Escola Aristarco gosta de Matemática, então nenhum deles ganha medalha na Olimpíada Nacional de Matemática.
- (B) se todos os alunos da Escola Aristarco ganham medalha na Olimpíada Nacional de Matemática, então, todos esses alunos gostam de Matemática.
- (C) se algum aluno da Escola Aristarco ganha medalha na Olimpíada Nacional de Matemática, então todos esses alunos gostam de Matemática.
- (D) se nenhum aluno da Escola Aristarco ganha medalha na Olimpíada Nacional de Matemática, então nenhum desses alunos gosta de Matemática.
- (E) se nenhum aluno da Escola Aristarco ganha medalha na Olimpíada Nacional de Matemática, então algum desses alunos não gosta de Matemática.

**19**

Em uma caixa, há muitas canetas esferográficas. Classificadas conforme a cor, elas podem ser azuis, vermelhas ou pretas. Classificadas quanto à espessura da esfera, elas podem ser de ponta fina ou de ponta grossa.

Metade das canetas vermelhas tem a ponta grossa. A quantidade total de canetas pretas é igual à quantidade total de canetas vermelhas. Entre as canetas de ponta grossa, a quantidade de azuis é igual à de pretas. A quantidade de canetas azuis com ponta fina é o dobro da quantidade de canetas pretas de ponta grossa.

Se, nessa caixa, 18 são azuis e 20 têm ponta grossa, então a quantidade total de canetas na caixa é

- (A) 30.
- (B) 40.
- (C) 48.
- (D) 50.
- (E) 52.

**20**

Tucídides possuía uma dívida e, em vez de quitá-la, pagou apenas 20% do seu valor, deixando o restante para ser quitado em data futura, com acréscimo de 12% a título de juros sobre o saldo devedor.

No ato de quitação, Tucídides pagou R\$2.329,60. Logo, o valor original da dívida é o resultado da seguinte expressão:

(A)  $2.329,60 \times 0,88 - 20$

(B)  $\frac{2.329,60}{0,88} \times 1,20$

(C)  $\frac{2.329,60}{1,12} \times 1,20$

(D)  $\frac{2.329,60}{1,12 \times 1,20}$

(E)  $\frac{2.329,60}{1,12 \times 0,8}$

**21**

As filhas de Nepomuceno têm 5 e 9 anos de idade. Ele dividirá R\$420,00 entre elas de forma inversamente proporcional às suas idades.

Logo

- (A) a mais nova receberá R\$120,00 a mais que a mais velha.
- (B) a mais nova receberá R\$150,00 a mais que a mais velha.
- (C) a mais nova receberá R\$270,00 a mais que a mais velha.
- (D) a mais velha receberá R\$120,00 a mais que a mais nova.
- (E) a mais velha receberá R\$150,00 a mais que a mais nova.

**22**

A negação da proposição:

$$\text{Se } y \neq 0, \text{ então } x > 2 \text{ e } x \leq 5$$

é dada por

- (A) Se  $y = 0$ , então  $x > 2$  e  $x \leq 5$
- (B) Se  $y = 0$ , então  $x < 2$  ou  $x \geq 5$
- (C)  $y = 0$  e  $x \leq 2$  ou  $x > 5$
- (D)  $y \neq 0$  e  $x \leq 2$  ou  $x > 5$
- (E)  $y \neq 0$  e  $x \leq 2$  e  $x > 5$

## Atualidades

23

De acordo com o censo demográfico de 2022 (IBGE), mais da metade da população brasileira (51,13%) é feminina, e elas representam, segundo o Tribunal Superior Eleitoral, 53% do eleitorado. No entanto, elas ocupam, hoje, menos de 15% dos cargos eletivos.

A respeito da baixa participação das mulheres na política, assinale a afirmativa que apresenta um dispositivo existente na legislação brasileira para alterar esse cenário.

- (A) Reserva de pelo menos 50% dos recursos do Fundo Especial de Financiamento de Campanha, o Fundo Eleitoral, para financiar candidaturas femininas.
- (B) Suspensão dos direitos eleitorais aos partidos em caso de não observância do percentual de pelo menos 30% de candidatas mulheres em cada ciclo eleitoral
- (C) Reserva de assentos, em ambas as casas legislativas, para mulheres, com preferência para as representantes de povos originários.
- (D) Cota de gênero, que obriga cada partido ou coligação a preencher o mínimo de 30% e o máximo de 70% de candidaturas de cada sexo.
- (E) Repasse de até 30% dos recursos dos Fundos Partidário para custear o tempo da propaganda eleitoral gratuita de candidatas em rádio e televisão.

24

A França se tornou o primeiro país do mundo a incluir na Constituição a liberdade de a mulher abortar. A mudança na Carta Magna foi aprovada em uma sessão conjunta das duas Casas legislativas, a Assembleia Nacional e o Senado, e será promulgada pelo presidente Emmanuel Macron ainda em março de 2024.

Adaptado de <https://www1.folha.uol.com.br/mundo/2024/03/>

Diferentemente da França, a legislação brasileira

- (A) equipara o aborto ao infanticídio.
- (B) considera o aborto uma prática ilegal em todas as situações.
- (C) descriminaliza a interrupção da gravidez em caso de deficiência da gestante.
- (D) estabelece um limite temporal para interromper a gravidez, desde que respaldada por laudo médico.
- (E) autoriza a interrupção de gestação em caso de não haver outro meio de salvar a vida da gestante.

25

Desde os anos 2000, o interior do Brasil ultrapassou o litoral na incidência de dengue. A região costeira que vai de Santos, em São Paulo, até Belém, no Pará, apresentava tipicamente maior proporção de casos de dengue em comparação com sua população. Entretanto, recentemente, o oeste do Paraná, o oeste de Santa Catarina o oeste de São Paulo, o interior de Minas Gerais, uma parte do Tocantins, o Goiás e o Mato Grosso do Sul viram a transmissão da doença aumentar e muitas de suas cidades foram obrigadas a decretar emergência.

Adaptado de <https://www.estadao.com.br>

A respeito dos fatores relacionados ao aumento e à interiorização dos casos de dengue no Brasil, analise as afirmativas a seguir.

- I. A maior frequência de períodos com temperaturas acima da média, inclusive com ondas de calor no período invernal em todo território, tem reforçado o padrão sazonal da doença.
- II. A expansão urbana desvinculada de melhoras nos serviços sanitários tem propiciado a formação de ilhas de calor e, portanto, uma alta na incidência da dengue.
- III. O desmatamento do cerrado, convertido em pasto, por exemplo, tem contribuído para aumentar a temperatura média e o número de casos da doença no interior do Brasil.

Está correto o que se afirma em

- (A) I, apenas.
- (B) I e II, apenas.
- (C) I e III, apenas.
- (D) II e III, apenas.
- (E) I, II e III.

26

As afirmativas a seguir descrevem corretamente o desempenho da economia brasileira em 2023, **à exceção de uma**. Assinale-a.

- (A) A expansão econômica ampliou a geração de empregos informais, em um contexto recessivo e de flexibilização das leis trabalhistas.
- (B) O dinamismo da economia foi marcado pelo aumento de exportações, no setor agrícola, e da demanda, no setor de serviços, em função da alta no consumo das famílias.
- (C) A alta progressiva nas cotações internacionais de commodities acelerou o ritmo das exportações, mesmo em um cenário cambial desfavorável para os exportadores.
- (D) A retração do Brasil no mercado regional e internacional ocorreu em função da maior competitividade dos produtos agrícolas argentinos e pela retomada da economia chinesa.
- (E) A persistência do alto nível da inflação foi ocasionada pela alta da cesta básica, sobretudo dos alimentos, cujas safras foram afetadas pelas condições climáticas adversas.

27

Em 2024, o Tribunal Superior Eleitoral (TSE) aprovou uma resolução para regulamentar o uso da inteligência artificial (IA) durante as eleições municipais a serem realizadas em outubro. A norma proíbe manipulações de conteúdo falso para criar ou substituir imagem ou voz de candidato com objetivo de prejudicar ou favorecer candidaturas. Também foi aprovada a restrição do uso de chatbots humanizados e avatares para intermediar a comunicação das campanhas com pessoas reais nas redes sociais.

Adaptado de <https://agenciabrasil.ebc.com.br/>

A resolução sobre IA objetiva

- (A) coibir a produção e circulação de *deepfakes*.
- (B) restringir o uso de ferramentas de IA simbólica.
- (C) retomar a veiculação de propagandas eleitorais em mídias tradicionais, como rádio e televisão.
- (D) proibir o uso de ferramentas de coleta e seleção em bases de dados com fins eleitorais.
- (E) limitar o uso de assistente virtual programado por AI para divulgação do programa partidário.

28

Assinale a afirmativa que descreve corretamente um aspecto do panorama global da economia em 2023.

- (A) Nos Estados Unidos, a economia foi alavancada pela adoção de uma política de ampliação do crédito e baixa da taxa de juros.
- (B) Na China, o PIB cresceu acima do esperado, em um cenário marcado pela retomada econômica pós pandemia, inclusive no setor imobiliário.
- (C) Na Zona do Euro, a alta dos preços da energia pesou nas despesas familiares e no setor industrial, confirmando a manutenção de um quadro de crise.
- (D) Na Rússia, o PIB decresceu, em função do impacto prolongado da guerra com a Ucrânia e dos embargos à venda de petróleo e gás russos.
- (E) Na América do Sul, foi mantido um caminho geral de crescimento, apoiado por investimentos externos e pela intensificação de políticas estatistas.

29

Um supercomputador consiste em milhares de pequenos computadores chamados nós. Cada nó é equipado com sua própria memória e com vários processadores. Atuando em conjunto, eles são capazes de realizar cálculos extremamente complexos em elevada velocidade. Hoje, o maior supercomputador da América Latina é o Pégaso, da Petrobras, com 678 TB de memória RAM e mais de 233 mil núcleos.

Adaptado de <https://revistapesquisa.fapesp.br>

A respeito do poder computacional de alto desempenho dos supercomputadores, analise as afirmativas a seguir e assinale (V) para a verdadeira e (F) para a falsa.

- ( ) Essas máquinas são instrumentos valiosos de pesquisa e de suporte a setores da economia como defesa, energia e saúde, permitindo a resolução de problemas complexos em menor tempo.
- ( ) Esses equipamentos permitem realizar tarefas que exigem altíssimos níveis de processamento, como simulações da formação do universo ou modelagem molecular para novos fármacos.
- ( ) Esses aparelhos trabalham em alta velocidade de processamento pelo somatório de diversos núcleos, o que potencializa a velocidades do processador, medidas em gigahertz (GHz).

As afirmativas são, respectivamente,

- (A) V – V – F.
- (B) V – F – V.
- (C) F – V – F.
- (D) F – V – V.
- (E) V – V – V.

30

No início do ano corrente, a Petrobras anunciou ter alcançado em 2023 o segundo maior valor de lucro líquido de sua história. Mesmo assim, suas ações caíram no mercado financeiro, em função da disputa sobre os dividendos.

A respeito dos resultados financeiros da Petrobras nos últimos anos e da política de distribuição de dividendos da empresa, assinale a afirmativa correta.

- (A) A Petrobras é uma empresa estatal de economia mista que monopoliza a indústria petroleira no Brasil.
- (B) A Petrobras é uma estatal administrada diretamente por órgãos governamentais que controlam o valor das suas ações.
- (C) A Petrobras direciona parte dos dividendos para investidores privados, e outra parte para o governo federal, que controla a empresa via Tesouro e BNDES.
- (D) A Petrobras, sob o Governo Bolsonaro, reduziu o pagamento de dividendos a acionistas privados para reinvesti-los em energia renovável.
- (E) A Petrobras, no atual governo, vendeu ativos e distribuiu o lucro e os valores recordes de dividendos entre seus acionistas para financiar projetos do BNDES.

31

Dados da última década mostram que, em relação aos Estados, o Pará é o que apresenta o maior número de registros de resgates de trabalho análogo à escravidão, com 9.853, seguido por Mato Grosso (4.302); Tocantins (2.896); São Paulo (1.529) e Rio de Janeiro (1.653), em 2017.

Adaptado de <https://www.jota.info/justica/em-14-anos-434-mil-foram-resgatados-de-trabalho-escravo-30102017>

A respeito da definição moderna de escravidão, analise as afirmativas a seguir.

- I. Em Tocantins, a maior incidência de escravidão moderna ocorre na zona rural, associada a atividades agropecuárias e ao extrativismo mineral, como nas carvoarias, por exemplo.
- II. A Organização Internacional do Trabalho determina a condição de escravidão por uma série de componentes, como o trabalho forçado análogo ao de escravo e o casamento forçado.
- III. Pessoas obrigadas a trabalhar por dívida ou por ameaça, sem direitos trabalhistas garantidos estão em situação de escravidão, uma vez que lhes é impedida a liberdade de ir e vir.

Está correto o que se afirma em

- (A) I, apenas.
- (B) I e II, apenas.
- (C) I e III, apenas.
- (D) II e III, apenas.
- (E) I, II e III.

32

Energia gerada por recursos naturais renováveis que, no Brasil, provém da lenha, carvão vegetal, carvão mineral, bagaço de cana e outros resíduos combustíveis. Essa energia é a matéria orgânica vegetal ou animal usada como fonte de energia limpa e sustentável.

O trecho descreve o seguinte componente importante do desenvolvimento sustentável:

- (A) compostagem.
- (B) biodiversidade.
- (C) créditos de carbono.
- (D) ciclo de vida.
- (E) biomassa.

## História e Geografia do Estado de Tocantins

33

Leia a descrição de uma classe de vegetação presente no estado do Tocantins, a seguir.

*Esta vegetação, também conhecida como floresta pluvial tropical, é caracterizada por árvores de porte elevado, além de trepadeiras lenhosas e epífitas (bromélias e orquídeas, por exemplo) em abundância, o que a diferencia de outras classes de formação vegetal. Sua característica ecológica principal é estar presente em ambientes de chuvas abundantes, como na parte noroeste do Estado, onde as temperaturas médias são de 25°C e os elevados índices de precipitação estão bem distribuídos ao longo do ano.*

Adaptado de Luís Antônio G. C. Silva. *Biomias presentes no Estado do Tocantins*. Brasília: Câmara dos Deputados, 2007, p. 4.

O trecho caracteriza a região conhecida como Floresta

- (A) Estacional Semidecidual.
- (B) Tropical Subcaducifólia.
- (C) de Mata Atlântica.
- (D) Ombrófila Densa.
- (E) Temperada Decidual.

34

Comparando dados dos censos do IBGE, pode-se elaborar um retrato da evolução demográfica da população residente no Estado de Tocantins. O grupo na faixa etária de 0 a 14 representava 41,7% da população em 1991, 28,8% em 2010, e passou para 24% em 2022. A população acima de 65 anos era de 3,8% em 1991 e 5,8% em 2010, e ficou em 8,6% em 2022. O censo de 2022 mostrou ainda que a faixa etária de 15 a 29 anos representa 15% da população e que 41% da população é composta por pessoas de 30 a 59 anos.

Com base no trecho, assinale a opção que apresenta a dinâmica populacional do Tocantins entre 1991 e 2022.

- (A) Expansão da base da pirâmide etária.
- (B) Diminuição da taxa de fecundidade.
- (C) Estreitamento do topo da pirâmide.
- (D) Aumento da idade mediana.
- (E) Redução do índice de envelhecimento.

35

*Foram inegáveis os desdobramentos socioeconômicos sobre o antigo Norte Goiano fruto da construção da rodovia BR-153, a partir do final da década de 1950. O novo urbanismo da Belém-Brasília trouxe enorme impacto no que se refere ao conjunto de cidades que existiam às margens do rio Tocantins, aos fluxos migratórios e às atividades econômicas da região.*

Adaptado de AQUINO, N. *Tocantins: cidades e urbanismo em três modelos históricos*. In: III Encontro da ANPPAS. Brasília, 2006, p. 8.

As afirmativas a seguir descrevem corretamente impactos da rodovia BR-153 no processo de territorialização do Tocantins, **à exceção de uma**. Assinale-a.

- (A) A rodovia foi construída no governo Kubitscheck, em um contexto desenvolvimentista que considerava a expansão rodoviária como um meio para integrar econômica e territorialmente as regiões do país, inclusive o norte goiano que, então, vivia uma situação de abandono.
- (B) A rodovia Belém-Brasília teve grande importância para a urbanização do atual Tocantins, o que é exemplificado pela quantidade de novas cidades criadas após a sua construção, como Araguaína, Gurupi, Paraíso do Tocantins, Colinas do Tocantins e Guaraí.
- (C) A construção da BR-153 alavancou também os municípios ribeirinhos, pois a navegação fluvial foi intensificada para abastecer as obras em curso, o que transformou esses municípios em satélites econômicos da nova malha urbana instalada ao longo da rodovia.
- (D) Após a abertura da rodovia, as principais áreas que receberam fluxos migratórios foram a Microrregião de Gurupi – Gurupi e a Microrregião de Porto Nacional – Palmas, para onde se dirigiram pessoas interessadas em trabalhar na construção civil, nos serviços e no comércio, entre outros.
- (E) A BR-153 permitiu interligar o norte de Goiás, atual Estado do Tocantins, a outras localidades do país, facilitando o escoamento da produção e o acesso a produtos para a região, promovendo o fluxo de mercadorias e serviços.

36

O Memorial Coluna Prestes (2001) é uma obra do arquiteto Oscar Niemeyer localizada na Praça dos Girassóis, no centro de Palmas (TO).



Fonte: <https://central.to.gov.br/image/146145?f=1>

A respeito da relação entre essa obra e a constituição de uma memória histórica para o Estado do Tocantins, analise as afirmativas a seguir.

- I. O monumento refere-se à Coluna Prestes, que percorreu o Brasil para divulgar seu programa revolucionário entre 1924 e 1927, tendo passado pelo Norte do então Estado de Goiás (atual Tocantins) durante seu percurso.
- II. A obra foi realizada em concreto e apresenta curvas sinuosas, características próprias do Barroco das cidades mineradoras, estabelecendo visualmente uma continuidade entre o Barroco do passado das cidades mineradoras e o presente do Tocantins.
- III. A construção do memorial permite inserir simbolicamente a história do Tocantins nos grandes processos da história republicana nacional, e homenagear o Tenente Antônio de Siqueira Campos, cujo sobrenome é homônimo ao do ex-governador do Estado.

Está correto o que se afirma em

- (A) I, apenas.
- (B) I e II, apenas.
- (C) I e III, apenas.
- (D) II e III, apenas.
- (E) I, II e III.

37

Até 1988, o território que hoje corresponde ao Estado do Tocantins pertencia ao antigo norte de Goiás e à Região Centro-Oeste, tendo como capital política a cidade de Goiânia. Com a emancipação política, da noite para o dia, as pessoas amanheceram tocantinenses, mas sem referências culturais que as representassem como tais.

A respeito da projeção simbólica do novo Estado e de sua nova capital, assinale a opção que interpreta corretamente o processo de construção e atribuição de uma identidade ao Tocantins.

- (A) Desde o primeiro mandato do governador Siqueira Campos, os símbolos oficiais do Tocantins continuaram sendo o brasão de armas, a bandeira, o selo estadual e a canção "Hino ao Tocantins", de Liberato Costa Póvoa e Abiezer Alves da Rocha.
- (B) O girassol foi reconhecido oficialmente como símbolo da natureza do Estado, por ser uma planta nativa dos cerrados tocantinenses e estar associada à prosperidade e à esperança.
- (C) A Praça dos Girassóis, centro cívico de Palmas, foi concebida para receber edifícios esteticamente associados à cultura do Tocantins, como o Palácio do Araguaia, cujos pórticos remetem ao capim dourado, símbolo da tradição do artesanato de alta qualidade da região.
- (D) A monumentalidade da Praça dos Girassóis é enfatizada pelo seu pavimento, que contém figuras simbólicas como o mapa do Tocantins, a rosa dos ventos, o brasão de armas e a Praça Krahô.
- (E) O meio ambiente também foi utilizado para fortalecer o sentimento identitário, inserindo o girassol, a fava-de-bolota, a arara-canindé e a granada como símbolos da natureza do Tocantins, desde a promulgação da Constituição Estadual em 1989.

38

A respeito da matriz energética do Estado e dos investimentos em biocombustíveis, analise as afirmativas a seguir e assinale (V) para a verdadeira e (F) para a falsa.

- ( ) O Estado tem condições de clima e solo desfavoráveis para o plantio de matérias-primas usadas na fabricação de biocombustíveis, mas a expansão do modal logístico (Ferrovia Norte-Sul) permitirá o acesso à soja do planalto goiano.
- ( ) O Tocantins conta com duas usinas de biodiesel em funcionamento, utilizando o pinhão-mansô, a soja, a mamona e outras oleaginosas como matéria-prima.
- ( ) O Estado tem alto potencial de geração de energia solar, pela elevada irradiação solar e pelas políticas públicas voltadas para produção de energia limpa e renovável, como a Política Estadual de Incentivo à Geração e ao Uso da Energia Solar (Pró-Solar)

As afirmativas são, respectivamente,

- (A) V – F – V.  
 (B) F – V – V.  
 (C) F – F – V.  
 (D) V – V – F.  
 (E) V – V – V.

39

*As belas paisagens como serras, cachoeiras, praias e até mesmo dunas, fazem do Tocantins um paraíso de paisagens naturais, atraindo turistas de várias regiões para conhecer o mais novo Estado brasileiro. A potencialidade para o ecoturismo e a preocupação em conservar a biodiversidade e recursos naturais nele contidos fez com que o Governo do Estado, criasse e implementasse as Unidades de Conservação Ambiental (UC).*

Adaptado de <https://www.to.gov.br/secom/>

A respeito das Unidades de Conservação (UC) do Tocantins, assinale a afirmativa correta.

- (A) São espaços territoriais legalmente instituídos pelo poder público e podem ser de proteção integral federal, como no caso dos Parques Cantão, Jalapão e Lajeado.
- (B) As UCs federais estão subordinadas ao Instituto Chico Mendes de Conservação da Biodiversidade (ICMBio), como no caso do Monumento Natural das Árvores Fossilizadas.
- (C) As UCs estaduais estão subordinadas ao Instituto Natureza do Tocantins (Naturatins), que supervisiona o Parque do Araguaia e o das Nascentes do rio Parnaíba.
- (D) As UCs de uso sustentável são compostas exclusivamente por áreas públicas, sendo permitida sua utilização apenas para o ecoturismo, pesquisa e educação ambiental.
- (E) As UCs municipais estão subordinadas às secretarias de meio ambiente, como no caso do Monumento Natural dos Cânions e Corredeiras do Rio Sono e do Parque Ecológico Roberto Guedes Pereira.

40

O Estado do Tocantins possui diversas comunidades quilombolas certificadas e outras com processo formalizado para regularização fundiária de seus territórios. A definição de comunidade quilombola é dada pelo Art. 2º do Decreto nº 4.887/2003:

*Consideram-se remanescentes das comunidades dos quilombos, para os fins deste Decreto, os grupos étnico-raciais, segundo critérios de auto-atribuição, com trajetória histórica própria, dotados de relações territoriais específicas, com presunção de ancestralidade negra relacionada com a resistência à opressão histórica sofrida.*

A respeito dos órgãos e processos envolvidos na identificação e regularização de territórios quilombolas no Estado do Tocantins, assinale a afirmativa correta.

- (A) O acesso dessas comunidades às políticas públicas de educação, saúde, moradia e regularização fundiária depende de o Estado emitir uma certidão de identificação de comunidade quilombola, mediante Fundação Palmares.
- (B) Os critérios para reconhecimento de um grupo enquanto remanescente de quilombo depende da comprovação de sua ancestralidade, seu parentesco e da preservação viva de religiosidades autenticamente africanas.
- (C) A Coordenação Nacional de Articulação de Comunidades Negras Rurais Quilombolas (CONAQ) luta pela incorporação constitucional do direito à autodefinição dos remanescentes de quilombos.
- (D) A certificação quilombola é realizada pela Fundação Cultural Palmares, que avalia com visitas técnicas a autenticidade do legado quilombola pretendido e, caso o aprove, emite a certidão de comunidade quilombola e a inscreve em um cadastro geral.
- (E) O acesso às terras ocupadas pelos remanescentes das comunidades dos quilombos é garantido por sua delimitação e titulação, a cargo da autoridade municipal em que a mesma se localiza.

## CONHECIMENTOS ESPECÍFICOS

41

O modelo OSI da ISO é uma referência para interconexão de sistemas abertos.

Em relação às camadas desse modelo, analise as afirmações a seguir e assinale (V) para verdadeira e (F) para a falsa.

- ( ) A camada de enlace de dados gerencia o circuito físico de transmissão na camada subjacente, transformando-o em um circuito livre de erros de transmissão. São exemplos de protocolos dessa camada o CSMA, PPP e HDLC.
- ( ) A camada de rede determina o próximo computador para qual a mensagem deve ser enviada. São exemplos de protocolos dessa camada o IP, ARP e SNMP.
- ( ) A camada de transporte lida com ligações nos terminais, como os procedimentos para entrada e saída da rede. O TCP e o UDP são exemplos de protocolos dessa camada.

As afirmativas são, respectivamente,

- (A) V – F – V.  
 (B) F – F – V.  
 (C) V – V – V.  
 (D) V – V – F.  
 (E) V – F – F.

42

A respeito do protocolo de controle de acesso ao meio das redes 802.11 (MAC 802.11), analise os itens a seguir.

- I. O protocolo utilizado é o CSMA/CA.  
 II. A sigla "CA", do protocolo CSMA/CA, indica que o protocolo previne colisões.  
 III. O protocolo CSMA/CA possui um esquema de reserva inteligente (mas opcional) que ajuda a evitar colisões mesmo na presença de terminais ocultos. Para isso, são utilizados quadros de controle chamados de DIFS e SIFS.

Está correto o que se afirma em

- (A) I, apenas.  
 (B) I e II apenas.  
 (C) I e III apenas.  
 (D) II e III apenas.  
 (E) I, II e III.

43

Cada endereço IP versão 4 (IPv4) tem comprimento de 32 bits, equivalente a 4 bytes. Esses endereços são escritos em notação decimal separada por pontos, na qual cada byte do endereço é escrito em sua forma decimal.

Considere um computador com endereço IPv4 193.32.216.9 e máscara de rede igual a 255.255.248.0.

Assinale a opção que indica o endereço de *broadcast* da sub-rede a qual esse computador pertence.

- (A) 193.32.216.255  
 (B) 193.32.219.255  
 (C) 193.32.223.255  
 (D) 193.32.248.255  
 (E) 193.32.255.255

44

Os segmentos UDP e TCP possuem campos especiais que indicam a porta para a qual cada segmento deve ser entregue. Esses campos são o de número de porta de fonte e número de porta de destino. Cada número de porta é um número de 16 bits na faixa de 0 a 65535. Os números de porta entre 0 e 1023 são denominados números de porta bem conhecidos e são restritos. Isso significa que estão reservados para utilização por protocolos de aplicação bem conhecidos, como o HTTP, que usa a porta de número 80.

Relacione os protocolos de aplicação a seguir a suas respectivas portas.

- |           |        |
|-----------|--------|
| 1. DNS    | ( ) 21 |
| 2. FTP    | ( ) 23 |
| 3. SMTP   | ( ) 25 |
| 4. TELNET | ( ) 53 |

Assinale a opção que indica a relação correta, segundo a ordem apresentada.

- (A) 1 – 3 – 2 – 4.  
 (B) 1 – 4 – 2 – 3.  
 (C) 4 – 2 – 3 – 1.  
 (D) 2 – 4 – 3 – 1.  
 (E) 4 – 3 – 2 – 1.

45

Uma das maneiras de se evitar o acesso não autorizado à informação é o uso de algoritmos de criptografia, cuja função é disfarçar a informação por meio de regras matemáticas. A respeito desses *algoritmos*, analise os itens a seguir.

- I. O algoritmo DES utiliza exponenciação, um processo que consome muito tempo. Já o algoritmo RSA não, por isso ele é, no mínimo, cem vezes mais veloz em software e entre mil e dez mil vezes mais veloz em *hardware*.  
 II. O DES é um algoritmo de criptografia de chave pública, cuja principal característica é a utilização de um par de chaves, uma para criptografar a informação e outra para descriptografar.  
 III. O RC4 é um algoritmo de criptografia de chave simétrica, cuja principal característica é utilizar a mesma chave para criptografar e descriptografar a informação.

Está correto o que se afirma em

- (A) I, II e III.  
 (B) II e III, apenas.  
 (C) I e III, apenas.  
 (D) I e II, apenas.  
 (E) III, apenas.

46

A quantidade de algarismos disponíveis em um dado sistema de numeração é chamada de *base*. A base serve para contarmos grandezas maiores, indicando a noção de agrupamento. O endereçamento IPv6 utiliza a base 16, ou hexadecimal, para representação dos seus endereços. Um exemplo de endereço IPv6 seria 2001:bce4:5641:3412:341:45ae:fe32:65.

Fazendo a conversão para decimal, de cada parte desse endereço, separadamente, teríamos o equivalente a

- (A) 8193 48356 22081 13330 833 17838 65074 101  
 (B) 8193 48356 22081 13330 833 17839 65074 100  
 (C) 8192 48356 21825 13329 849 17838 65034 101  
 (D) 8192 48340 22081 13329 849 17839 65034 100  
 (E) 8193 48340 21825 13329 833 17839 65034 101



47

Com relação ao redirecionamento da saída de um comando, em ambientes operacionais GNU/Linux, analise as afirmativas a seguir e assinale (V) para a verdadeira e (F) para a falsa.

- ( ) Ao executar "comando 1> /dev/null", a saída do comando é exibida no terminal e todos os possíveis erros são ignorados.
- ( ) Ao executar "comando > file 1> file2", a saída do comando é enviada para um arquivo e os possíveis erros para um arquivo diferente.
- ( ) Ao executar "comando &> file", tanto a saída quanto os possíveis erros do comando são acrescentados ao conteúdo existente de um mesmo arquivo.

As afirmativas são, respectivamente,

- (A) V – V – V.
- (B) F – V – F.
- (C) F – F – F.
- (D) F – F – V.
- (E) V – V – F.

48

A respeito de permissões do sistema de arquivos GNU/Linux, analise as afirmativas a seguir.

- I. O comando "[user@host ~]\$ chmod a+x file2" indica que as permissões configuradas para *file2* são de leitura, gravação e execução para todos os usuários.
- II. Somente o usuário *root* pode alterar o usuário proprietário de um arquivo. No entanto, a propriedade do grupo pode ser definida pelo *root* ou pelo proprietário do arquivo.
- III. O comando "[user@host ~]# chmod 750 file" indica que as permissões configuradas para *file* são de leitura, gravação e execução para *user*; gravação e execução para o grupo; e nenhuma permissão para os outros usuários.

Está correto o que se afirma em

- (A) I, II e III.
- (B) II e III, apenas.
- (C) I e III, apenas.
- (D) I e II, apenas.
- (E) II, apenas.

49

O *OpenSSH* implementa o *Secure Shell* ou o protocolo SSH em sistemas GNU/Linux. O protocolo SSH permite que os sistemas se comuniquem de maneira criptografada e segura em uma rede insegura.

A respeito do serviço de acesso remoto com SSH em sistemas GNU/Linux, analise os itens a seguir:

- I. O arquivo de configuração principal do servidor SSH é o `/etc/ssh/sshd.conf`
- II. Com o parâmetro `PermitRootLogin` definido como `without-password`, os usuários têm permissão para fazer *login* diretamente como usuário *root* apenas utilizando autenticação baseada em chaves, mas não em senha.
- III. O SSH garante a segurança da comunicação por meio da criptografia de chaves públicas. As chaves públicas são armazenadas no arquivo `/etc/ssh/ssh_known_hosts` e no arquivo `~/.ssh/known_hosts` de cada usuário no cliente SSH.

Está correto o que se afirma em

- (A) I, apenas.
- (B) I e II, apenas.
- (C) I e III, apenas.
- (D) II e III, apenas.
- (E) I, II e III.

50

O protocolo IPv6 destina-se a ser um substituto eventual do protocolo de rede IPv4. A respeito do endereçamento no IPv6, assinale a opção que não apresenta um endereço IPv6 válido.

- (A) 2003:0000:0000:0000:0000:0000:0001
- (B) 23::1
- (C) 2003:0023::0065::0001:0003
- (D) ff02::1:0:0
- (E) 2001:3::7:0:2

51

A norma NBR 14565 trata do procedimento básico para elaboração de projetos de cabeamento de telecomunicações para rede interna estruturada, também conhecida como cabeamento estruturado.

A respeito do tema, relacione os elementos principais do cabeamento estruturado a suas respectivas definições.

1. Sala de equipamentos
  2. Rede primária de nível 1
  3. Rede secundária
  4. Armário de telecomunicações
- ( ) Espaço destinado à transição entre o caminho primário e o secundário com conexão cruzada, podendo abrigar equipamento ativo.
  - ( ) Espaço necessário para os equipamentos de telecomunicações.
  - ( ) Cabo que interliga os distribuidores secundários à área de trabalho.
  - ( ) Cabo que interliga o distribuidor geral de telecomunicações aos distribuidores secundários ou distribuidores intermediários.

Assinale a opção que indica a relação correta, segundo a ordem apresentada.

- (A) 1 – 3 – 2 – 4.
- (B) 1 – 4 – 3 – 2.
- (C) 4 – 2 – 3 – 1.
- (D) 2 – 4 – 3 – 1.
- (E) 4 – 1 – 3 – 2.

52

Um protocolo define o formato e a ordem das mensagens trocadas entre duas ou mais entidades comunicantes, bem como as ações realizadas na transmissão e/ou no recebimento de uma mensagem ou outro evento.

Relacione os protocolos listados a seguir, às respectivas funções.

1. IMAP
  2. SMTP
  3. ARP
  4. POP3
- ( ) Enviar mensagens de correio eletrônico de forma confiável e eficiente.
- ( ) Permite que um cliente acesse e manipule mensagens de correio eletrônico em um servidor.
- ( ) Não se destina a fornecer operações extensas de manipulação de mensagens de correio eletrônico em um servidor; normalmente, o e-mail é baixado e excluído do servidor.
- ( ) Conversão de endereços IP para endereços MAC.

Assinale a opção que indica a relação correta, segundo a ordem apresentada.

- (A) 1 – 3 – 2 – 4.  
 (B) 2 – 1 – 4 – 3.  
 (C) 1 – 4 – 3 – 2.  
 (D) 2 – 4 – 3 – 1.  
 (E) 4 – 1 – 3 – 2.

53

A sigla RAID significa *Redundant Array of Independent Disks*, ou Conjunto Redundante de Discos Independentes.

Sobre o RAID 5, assinale a afirmativa correta.

- (A) São usados a partir de 3 discos. Independentemente da quantidade de discos usados, sempre temos sacrificado o espaço equivalente a um deles. Usa um sistema de paridade para manter a integridade dos dados.
- (B) São usados dois discos (ou qualquer outro número par). O primeiro disco armazena dados e o segundo armazena uma cópia exata do primeiro, atualizada em tempo real. Metade do espaço de armazenamento é sacrificado.
- (C) São usados a partir de 4 discos. Metade dos discos são usados em modo de distribuição dos dados, enquanto a outra metade armazena uma cópia dos dados dos primeiros, oferecendo redundância.
- (D) São usados a partir de 4 discos. Utiliza um sistema de paridade dupla. A porcentagem de espaço sacrificado decai conforme são acrescentando mais discos.
- (E) Todos os discos passam a ser acessados como se fossem um único disco. Melhora a taxa de leitura e de gravação e utiliza 100% do espaço disponível nos discos. Não existe redundância.

54

Considere que um número N foi escrito utilizando-se o sistema binário (base de numeração igual a 2), da seguinte forma:

$$N = (b_3b_2b_1b_0)_2$$

sendo  $b_3$ ,  $b_2$ ,  $b_1$  e  $b_0$  algarismos de N.

Ao analisar o número N, pode-se inferir que

- (A) a soma dos algarismos resultará, em decimal, em um número primo.
- (B) cada algarismo pode variar seus valores entre 0 e 9.
- (C) o produto dos algarismos de N resulta em um número em decimal.
- (D) o valor do algarismo  $b_3$  é maior que o valor do algarismo  $b_0$ .
- (E) será representado por um único algarismo na base hexadecimal.

55

Sejam os números X e Y a seguir, representados respectivamente em hexadecimal e em binário:  $X = A03_{16}$  e  $Y = 1010\ 1101_2$ . Considere que S é obtido pela soma de X e Y, ou seja,  $S = X + Y$ .

Considerando que os números em subscrito indicam as bases de numeração, assinale a opção que indica o resultado de S, expresso em notação decimal.

- (A)  $1010\ 1101_2$   
 (B)  $1010011010011_2$   
 (C)  $2768_{10}$   
 (D)  $5320_{16}$   
 (E)  $A0D_{16}$

56

Os sistemas de arquivos dos sistemas operacionais têm a responsabilidade implementam um esquema de abstração que facilita a utilização do meio de armazenamento secundário, isolando os usuários das questões inerentes ao funcionamento físico dos dispositivos de armazenamento.

No que concerne a operações em diretórios, existe uma importante chamada de sistema que implementa a operação com diretórios conhecida como *ligação simbólica*, que

- (A) cria um arquivo minúsculo, que nomeia outro arquivo.  
 (B) libera espaço na tabela interna de blocos fragmentados.  
 (C) remove uma entrada de diretório do sistema de arquivos.  
 (D) renomeia a estrutura de um diretório em todos os níveis.  
 (E) retorna a próxima entrada em um diretório aberto.

57

Os registradores são unidades de memória dispostas no interior de processadores de computadores. Sua função é armazenar elementos que permitam o correto funcionamento do sistema computacional, evitando, sempre que possível, o acesso à memória principal.

Considerando uma arquitetura de um processador (ou UCP, de Unidade Central de Processamento), assinale a opção que indica o registrador que contém *bits* de controle tais como o modo de execução (núcleo ou usuário) e a prioridade da UCP.

- (A) *Instruction Register* (IR).  
 (B) *Memory Address Register* (MAR).  
 (C) *Memory Data Register* (MDR).  
 (D) *Program Counter* (PC).  
 (E) *Program Status Word* (PSW).

58

Memórias cache são dispositivos de armazenamento existentes nos sistemas computacionais com o propósito de acelerar o processamento, respondendo às requisições do processador em um intervalo de tempo quando comparada à memória principal (RAM – *Random Access Memory*).

A técnica LRU (*Least Recently Used*), quando utilizada no contexto de *memórias cache*, relaciona-se ao(à)

- (A) algoritmo de mapeamento.
- (B) política de substituição.
- (C) latência de acesso.
- (D) política de escrita.
- (E) nível da cache.

59

Em arquiteturas de computadores, existem diversos tipos de dispositivos de memória secundária, que colaboram com a persistência de dados no contexto computacional.

Assinale a opção que indica o dispositivo de memória secundária que possui os elementos *trilha* e *cilindro* como componentes lógicas de gravação.

- (A) Discos rígidos (*Hard Disks*).
- (B) *Pen drives*.
- (C) Portas USB-C.
- (D) Registradores.
- (E) SSD (*Solid State Disks*).

62

Considere uma tabela fictícia que registre as doações recebidas por projetos sociais de uma determinada prefeitura, criada com o seguinte comando SQL:

```
CREATE TABLE doacoes (
  SiglaProjeto text,
  DataDoacao text,
  Valor REAL,
  DocumentoDoador text,
  NomeDoador text);
```

Considere, ainda, que uma certa consulta SQL produziu a seguinte saída:

SiglaProjeto	total_recebido
PA	57865.01
PB	37199.87
PC	18025.90
PD	17828.83
PE	8201.47

Assinale a opção que indica, corretamente, a consulta que poderia ter produzido a saída acima.

- (A) `SELECT SiglaProjeto, count(valor) as total_recebido FROM doacoes GROUP BY SiglaProjeto ORDER BY total_recebido DESC LIMIT 5.`
- (B) `SELECT SiglaProjeto, sum(Valor) as total_recebido FROM doacoes GROUP BY SiglaProjeto ORDER BY total_recebido DESC LIMIT 5.`
- (C) `SELECT SiglaProjeto, sum(Valor) as total_recebido FROM doacoes GROUP BY SiglaProjeto ORDER BY total_recebido LIMIT 5.`
- (D) `SELECT SiglaProjeto, count(valor) as total_recebido FROM doacoes GROUP BY SiglaProjeto ORDER BY total_recebido LIMIT 5.`
- (E) `SELECT SiglaProjeto, total_recebido FROM doacoes GROUP BY SiglaProjeto ORDER BY total_recebido DESC LIMIT 5.`

60

A utilização de discos RAID (de *Redundant Array of Inexpensive Disks*, na sua versão original) é uma solução de armazenamento secundário com melhor desempenho e confiança frente à solução clássica SLED (*Single Large Expensive Disk*) de armazenamento centralizado. Existem diferentes configurações padrão de arquitetura para os discos RAID, conhecidas como *níveis RAID*.

Nesse contexto, assinale a opção que indica um esquema de nível RAID que implementa *bits* de paridade em um disco concentrados em um único disco físico do arranjo.

- (A) RAID 0
- (B) RAID 1
- (C) RAID 10
- (D) RAID 2
- (E) RAID 3

61

Questões envolvendo segurança de sistemas computacionais sempre demandarão a atenção das equipes de Tecnologia da Informação das organizações e os aspectos inerentes à segurança em sistemas operacionais possuem relevância indiscutível.

Assinale a opção que **não** se relaciona com o princípio POLA – *Principle of Least Authority* de segurança em sistemas operacionais.

- (A) ACL – *Access Control Lists*.
- (B) Arquitetura marcada (*tagged*).
- (C) FIFO – *First In, First Out*.
- (D) Listas de capacidades.
- (E) TCB – *Trusted Computing Base*.

63

Analise a saída do comando "[root@host ~]# systemctl status sshd.service", listada a seguir.

```
● sshd.service - OpenSSH server daemon
Loaded: loaded (/usr/lib/systemd/system/sshd.service; enabled; vendor preset:enabled)
Active: active (running) since Thu 2024-02-14 12:07:45 IST; 7h ago
Main PID: 1073 (sshd)
CGroup: /system.slice/sshd.service
└─1073 /usr/sbin/sshd -D ...
Feb 14 11:51:39 host.example.com systemd[1]: Started OpenSSH server daemon.
Feb 14 11:51:39 host.example.com sshd[1073]: Could not load host key: /et...y
Feb 14 11:51:39 host.example.com sshd[1073]: Server listening on 0.0.0.0 ....
Feb 14 11:51:39 host.example.com sshd[1073]: Server listening on :: port 22.
Feb 14 11:53:21 host.example.com sshd[1270]: error: Could not load host k...y
Feb 14 11:53:22 host.example.com sshd[1270]: Accepted password for root f...
```

Com base na saída do comando, assinale a afirmativa correta.

- (A) O serviço não está em execução.
- (B) O serviço não está carregado na memória.
- (C) O ID do processo principal do serviço é 1270.
- (D) O serviço foi iniciado no momento da inicialização do sistema.
- (E) A porta na qual o serviço está atendendo as requisições é 1073.

**Atenção: o enunciado a seguir a seguir refere-se às duas próximas questões.**

Considere o seguinte esquema de um banco de dados relacional, expresso em linguagem SQL:

```
create table editora
(
    cod_editora integer primary key,
    nome_editora varchar(30) not null,
    telefone char(11)
);
create table livro
(
    cod_livro integer primary key,
    num_isbn char(10) unique not null,
    titulo varchar(20) not null,
    edicao integer default 1 not null,
    cod_editora integer references editora
);
```

64

Após criadas, os comandos de inserção a seguir foram executados:

```
insert into editora values (1,'Ed1','2222-3333'), (2,'Ed2',NULL);
insert into livro values (1,'111','Livro1',2,NULL), (2,'222','Livro2',2,1), (5,'555','Livro5',1,1);
insert into livro(cod_livro,num_isbn,titulo,cod_editora) values (3,'333','Livro3',2),
(4,'444','Livro4',2);
```

A consulta `select * from livro where exists (select distinct * from editora) and edicao%2 <> 0` produz como resultado a seguinte quantidade de linhas:

- (A) 0.
- (B) 1.
- (C) 2.
- (D) 3.
- (E) 4.

65

A consulta

```
select titulo
from livro left join editora
on livro.cod_editora = editora.cod_editora
where editora.nome_editora is null
```

apresenta os títulos dos livros

- (A) cadastrados na tabela "editora".
- (B) ligados a editoras sem ramal cadastrado.
- (C) localizados ao lado esquerdo das editoras.
- (D) não vinculados a uma editora.
- (E) relacionados a editoras sem nome cadastrado (*null*).

## LEGISLAÇÃO INSTITUCIONAL

66

Nos termos da Constituição do Estado do Tocantins, constitui objeto de lei complementar a seguinte matéria:

- (A) os prazos de prescrição para ilícitos praticados por qualquer agente, servidor ou não, que causem prejuízos ao erário.
- (B) os limites de idade, a estabilidade e outras condições de transferência do servidor militar para a inatividade.
- (C) os casos de contratação por tempo determinado para atender à necessidade temporária de excepcional interesse público.
- (D) as regras para cálculo de proventos de aposentadoria e pensão por morte.
- (E) os requisitos e as restrições ao ocupante de cargo ou emprego da administração direta e indireta que possibilite o acesso a informações privilegiadas.

67

Considerando o exercício da função legislativa por parte da Assembleia Legislativa de Tocantins, nos termos de seu Regimento Interno, é correto afirmar que

- (A) projetos de lei delegada podem se destinar a regular as matérias de exclusiva competência do Poder Executivo, com a sanção do Governador do Estado.
- (B) projetos de resolução podem se destinar a regular, com eficácia de lei ordinária, matéria de competência privativa da Assembleia Legislativa.
- (C) projetos de lei complementar visam regular matéria infraconstitucional.
- (D) projetos de lei têm por objetivo regular matérias de competência do Poder Legislativo, sem a sanção do Governador do Estado.
- (E) projetos de decreto legislativo destinam-se à delegação de competência, na forma estabelecida na Constituição Estadual.

68

Aline, servidora pública estadual, revelou segredo do qual se apropriou em razão do cargo que ocupa. A Administração Pública, ao tomar conhecimento do fato, instaurou procedimento administrativo disciplinar a fim de apurar a conduta e garantir à servidora os princípios da ampla defesa e do contraditório.

À luz do Estatuto dos Servidores Públicos Cíveis do Estado do Tocantins, caso punida, Aline poderá ser sancionada com

- (A) advertência.
- (B) suspensão.
- (C) prestação de serviço.
- (D) multa.
- (E) demissão.

69

Ana, servidora pública efetiva e estável, ocupante de cargo de nível superior, objetivando inteirar-se sobre os requisitos para a progressão na carreira, consultou a Lei nº 4.208/2023, que trata sobre o plano de cargos, carreiras e remuneração dos Servidores da Assembleia de Tocantins.

Assim, para fazer jus à progressão, Ana terá que

- (A) possuir no máximo três faltas injustificadas por exercício referente ao período avaliado.
- (B) obter conceito igual ou superior a 70% (setenta por cento) dos pontos possíveis em todos os procedimentos de sua Avaliação.
- (C) concluir curso de pós-graduação *lato sensu* com duração mínima de 360 (trezentos e sessenta) horas.
- (D) cumprir trinta meses de efetivo exercício na classe em que se encontra.
- (E) concluir cursos de aperfeiçoamento em sua área de atuação que tenha, no mínimo, 80 (oitenta) horas de duração.

70

Antônio foi nomeado para o cargo de Controlador Interno da Assembleia Legislativa de Tocantins.

À luz da Lei nº 4.209/2023, que dispõe sobre a estrutura administrativa da Aletto, durante o exercício da função, Antônio será competente para:

- (A) opinar, conclusivamente, em processos de direitos, deveres e obrigações dos servidores do Poder Legislativo.
- (B) constituir Comissão Permanente de Licitação.
- (C) examinar a observância das normas de licitações.
- (D) apresentar à Mesa Diretora o balancete mensal e, no início de cada exercício, o balancete geral das contas da Assembleia Legislativa, relativo ao exercício anterior.
- (E) planejar, coordenar, orientar, controlar e dirigir as atividades administrativas, orçamentárias, financeiras, de comunicação social, de tecnologia de informação e de apoio legislativo da Assembleia Legislativa.



# ASSEMBLEIA LEGISLATIVA DO ESTADO DO TOCANTINS

CONCURSO PÚBLICO – EDITAL Nº 01/2023

## PROVA OBJETIVA – TARDE

### ANALISTA LEGISLATIVO **ARQUITETURA**

NÍVEL SUPERIOR – TIPO 1 – BRANCA



#### SUA PROVA

- Além deste caderno contendo **70 (setenta)** questões objetivas, você receberá do fiscal de prova o cartão de respostas;
- As questões objetivas têm **5 (cinco)** opções de resposta (A, B, C, D) e somente uma delas está correta.



#### TEMPO

- Você dispõe de **5 (cinco) horas** para a realização da prova, já incluído o tempo para a marcação do cartão de respostas;
- **3 (três) horas** após o início da prova, é possível retirar-se da sala, sem levar o caderno de questões;
- A partir dos **30 (trinta) minutos** anteriores ao término da prova é possível retirar-se da sala **levando o caderno de questões**.



#### NÃO SERÁ PERMITIDO

- Qualquer tipo de comunicação entre os candidatos durante a aplicação da prova;
- Anotar informações relativas às respostas em qualquer outro meio que não seja o caderno de questões;
- Levantar da cadeira sem autorização do fiscal de sala;
- Usar o sanitário ao término da prova, após deixar a sala.



#### INFORMAÇÕES GERAIS

- Verifique se seu caderno de questões está completo, sem repetição de questões ou falhas. Caso contrário, **notifique imediatamente o fiscal da sala**, para que sejam tomadas as devidas providências;
- Confira seus dados pessoais, especialmente nome, número de inscrição e documento de identidade e leia atentamente as instruções para preencher o cartão de respostas;
- Para o preenchimento do cartão de respostas, use somente caneta esferográfica, fabricada em material transparente, com tinta preta ou azul;
- Assine seu nome apenas no(s) espaço(s) reservado(s) no cartão de respostas;
- Confira seu cargo, cor e tipo do caderno de questões. Caso tenha recebido caderno de cargo ou cor ou tipo **diferente** do impresso em seu cartão de respostas, o fiscal deve ser **obrigatoriamente** informado para o devido registro na ata da sala;
- Reserve tempo suficiente para o preenchimento do seu cartão de respostas. O preenchimento é de sua responsabilidade e **não será permitida a troca do cartão de respostas em caso de erro cometido pelo candidato**;
- Para fins de avaliação, serão levadas em consideração apenas as marcações realizadas no cartão de respostas;
- A FGV coletará as impressões digitais dos candidatos na lista de presença;
- Os candidatos serão submetidos ao sistema de detecção de metais quando do ingresso e da saída de sanitários durante a realização das provas.
- **Boa prova!**

## CONHECIMENTOS BÁSICOS

### Língua Portuguesa

1

Observe o seguinte texto:

*Quando entrei no terrível vagão, ele estava ocupado por duas pessoas. Uma, dobrada, coberta, dormia profundamente. A coberta superior estava manchada, de fundo amarelado, como pele de leopardo. Vendem-se muitas mantas assim nas lojas de artigos de viagens, mas pude notar logo depois que se tratava realmente da pele de um animal selvagem; do mesmo modo, o boné da pessoa adormecida me pareceu ser de feltro branco bastante delicado. O outro viajante, uma aparência simpática, parecia ter passado dos trinta anos e mostrava-se como figura insignificante que passa confortavelmente as noites em estradas de ferro.*

Nesse fragmento textual, para criar sinais de história realista e verdadeira, o narrador apela para a seguinte estratégia:

- (A) seleciona uma situação banal da qual não precisa fornecer muitos detalhes, exatamente por sua banalidade.
- (B) fornece algumas marcas caracterizadoras dos dois personagens presentes no texto, destacando sua banalidade.
- (C) indica traços descritivos do ambiente, mostrando-o como se nada houvesse nele de excepcional.
- (D) mostra detalhes variados e bastante pitorescos dos objetos descritos.
- (E) dá ao leitor informações sobre personagens e ambiente, mostrando-os como bastante conhecidos do narrador.

2

Assinale a frase que mostra a palavra *mais* numa classe gramatical **diferente** das demais.

- (A) O mercado está prisioneiro de mais um círculo vicioso: piora porque piorou e porque piorou, piora.
- (B) Os ingleses conquistaram o mundo porque não aguentavam mais a própria cozinha.
- (C) Quanto mais vejo o estrangeiro, mais amo a minha pátria.
- (D) Não é mais possível aprender tudo de cor. Um homem instruído não é mais o homem que sabe muitas coisas; é o homem que sabe onde buscar informações.
- (E) Muda-se mais facilmente de religião do que de café

3

As frases a seguir mostram termos ligados pela conjunção OU.

Assinale a frase em que essa conjunção mantém o valor de alternativa (e não de adição).

- (A) João ou Pedro deve ser eleito presidente da empresa.
- (B) A alegria ou a tristeza fazem parte da vida.
- (C) Inglês ou francês são idiomas falados pelos turistas
- (D) Os clientes leem livros ou revistas enquanto esperam.
- (E) Vasco ou Flamengo são times de longa tradição.

4

Um guitarrista americano produziu o seguinte pensamento:

*O crítico de rock é alguém que não sabe escrever, entrevistando gente que não sabe falar, para gente que não sabe ler.*

Sobre a estruturação ou a significação desse pequeno texto, assinale a afirmativa **incorreta**.

- (A) O termo “de rock” funciona como complemento nominal do termo anterior.
- (B) Todos os elementos da cadeia comunicativa citados no texto são marcados pela ignorância.
- (C) O pensamento acima revela um preconceito fortíssimo contra os amantes de rock.
- (D) A opinião expressa no texto pode advir da experiência pessoal do autor, já que se trata de um guitarrista.
- (E) A injustiça desse texto provém de ser uma opinião fundamentada em uma autoridade duvidosa.

5

John Steinbeck, prêmio Nobel, declarou o seguinte:

*O homem é o único animal que bebe sem ter sede, come sem ter fome e fala sem ter nada a dizer.*

Em relação ao significado e à estruturação desse pequeno texto, assinale a afirmativa **incorreta**.

- (A) A frase ficaria mais enfática se invertêssemos a posição do termo inicial: O único animal que bebe sem ter sede, come sem ter fome e fala sem ter nada a dizer é o homem.
- (B) A inversão de alguns segmentos do texto em nada modificaria o sentido da frase: O homem é o único animal que come sem ter fome, bebe sem ter sede e fala sem ter nada a dizer.
- (C) Os segmentos finais do texto mostram preocupação com rigoroso paralelismo sintático.
- (D) Segundo a opinião do autor do texto, a marca principal do homem é a irracionalidade.
- (E) Nem todas as ações citadas como marcas humanas estão presentes, por oposição, nos outros animais.

6

Assinale a frase que **não** expressa uma noção de tempo abstrato.

- (A) Nas asas do tempo, a tristeza voa.
- (B) Quem mata o tempo não é assassino, é suicida.
- (C) O tempo perdido não se encontra nunca mais.
- (D) O tempo é o melhor professor. Infelizmente, ele mata todos os seus estudantes
- (E) O tempo gasto na viagem foi de duas horas.

7

Assinale a frase em que a utilização do acento grave indicativo da crase é realizada de forma **errada**.

- (A) Jamais alguém se arrependeu de ter-se acostumado à madrugada e à ter-se casado jovem.
- (B) Tempo é o suspiro de adeus do sol à terra.
- (C) Saio todos os dias às cinco horas e não permito que o meu trabalho interfira no meu jogo de tênis.
- (D) O momento de extrair uma lição da história está sempre à mão para os sábios.
- (E) Quando assumi, quatro anos atrás, estávamos à beira do precipício.

8

Os adjetivos podem representar estados, qualidades, características e relações.

Assinale a frase que mostra um tipo de adjetivo **diferente** dos demais.

- (A) Nunca houve criança tão amável que a própria mãe não ficasse satisfeita ao conseguir adormecê-la.
- (B) Nada mais perversamente cruel que uma adorável criança.
- (C) Mesmo estando doentes, as crianças não ficam caladas.
- (D) Quando as crianças estão quietas é porque fizeram alguma coisa errada.
- (E) As tangerinas verdes não amadurecem fora do pé.

9

Assinale a frase em que o adjetivo sublinhado mostra uma função sintática **diferente** das demais.

- (A) Por fora bela viola, por dentro pão bolorento.
- (B) Tiradentes, heroico, tentou organizar uma revolução.
- (C) Um rosto bonito altera-se depressa.
- (D) Eu não podia acreditar que existem múmias tão lindas.
- (E) Um homem belo é um homem insignificante.

10

Assinale a opção que mostra uma impropriedade léxica, ou seja, um emprego **inadequado** da expressão “cerca de”.

- (A) Havia cerca de três dúzias de convidados no final da festa.
- (B) Chegaram cerca de 100 cartas no mesmo dia.
- (C) Cerca de 18 lojas fecharam as portas mais cedo.
- (D) Os cantores receberam cerca de uma centena de convites.
- (E) A plantação produziu cerca de uma tonelada de legumes.

11

Muitas palavras portuguesas mostram o prefixo A- sem qualquer valor semântico, sendo equivalentes ao mesmo vocábulo sem esse prefixo.

Assinale a palavra a seguir que exemplifica esse A protético.

- (A) amostrar
- (B) abraçar
- (C) atenuar
- (D) aguardar
- (E) aparar

12

Observe o seguinte texto:

*A felicidade depende da habilidade que tenhamos naquelas atividades que consideramos importantes: somente se lhes damos um real valor aos pequenos detalhes cotidianos, poderemos ter instantes felizes. A felicidade absoluta não existe, e já que só podemos acessar os pequenos detalhes daquilo que nos interessa, devemos contentar-nos com isso. Por isso, a infelicidade é um sinal claro de nossa incompetência na arte de viver.*

Sobre a estrutura e a significação desse texto, assinale a afirmativa **inadequada**.

- (A) O tema do texto gira em torno do que consiste a felicidade e o que viria a ser o seu oposto.
- (B) A afirmação de que “A felicidade absoluta não existe” é de cunho pessoal do autor do texto, representando uma opinião.
- (C) O raciocínio utilizado na estruturação argumentativa é do tipo dedutivo.
- (D) O conector “Por isso” mostra a preocupação com o caráter lógico da argumentação.
- (E) A tese do texto é a de que a infelicidade é fruto de nossa incompetência na arte de viver.

## Raciocínio Lógico Matemático

13

Certo programa de rádio tem 1 hora e 55 minutos de duração. A partir do momento em que o programa é iniciado, há blocos temáticos de 7 minutos intercalados por blocos de propagandas de 2 minutos.

Em todos os blocos de propaganda, ouve-se o comercial do restaurante R, que sempre dura 18 segundos.

Se o programa começa e termina com um bloco temático, então, o tempo total do programa dedicado ao anúncio do restaurante R é

- (A) 3 minutos e 54 segundos.
- (B) 3 minutos e 36 segundos.
- (C) 3 minutos e 18 segundos.
- (D) 3 minutos.
- (E) 2 minutos e 48 segundos.

14

A linha de produção de certa fábrica produz 1100 latas de sardinhas a cada hora. Certo dia, por um defeito de calibragem do sistema, entre 13h e 14h, o volume de produção foi reduzido em 30% durante exatos 12 minutos.

A quantidade de latas de sardinhas produzidas no intervalo supracitado foi

- (A) 946.
- (B) 964.
- (C) 1022.
- (D) 1034.
- (E) 1046.

15

Marcelo está parado de frente para uma das paredes de uma sala quadrada. Nesta posição, ele está a 1m e 20cm da parede que se encontra à sua direita e a 1m e 70cm da parede que está às suas costas.

Ele, então, se desloca paralelamente às paredes da sala sendo 40cm para a frente e 80cm para a direita. Nessa nova posição, ele passou a distar 1m e 90cm da parede que antes estava à sua esquerda.

Desprezando-se as dimensões de Marcelo, a sua atual distância à parede que, antes dos movimentos, estava à sua frente, é

- (A) 20cm.
- (B) 30cm.
- (C) 40cm.
- (D) 50cm.
- (E) 60cm.



**16**

Um dado é dito comum quando tem a forma de um cubo e suas 6 faces são numeradas de 1 a 6, de tal forma que a soma dos números estampados em faces opostas, quaisquer que sejam elas, sempre somam 7.

Quando um dado comum é lançado, diz-se que o resultado do lançamento é o número estampado na face voltada para cima.

Um dado foi lançado 3 vezes seguidas. Se o produto dos resultados obtidos nos lançamentos vale 75, a soma desses resultados é igual a

- (A) 12.
- (B) 13.
- (C) 14.
- (D) 15.
- (E) 16.

**17**

Em certo ano, o dia 1º de agosto cai em um domingo. Logo, o dia 1º de novembro cairá em

- (A) um sábado.
- (B) um domingo.
- (C) uma segunda-feira.
- (D) uma quarta-feira.
- (E) uma sexta-feira.

**18**

Considere a seguinte proposição condicional:

*Se todos os alunos da Escola Aristarco gostam de matemática, então, ao menos um deles ganha medalha na Olimpíada Nacional de Matemática.*

Se essa proposição é verdadeira, é correto afirmar que

- (A) se nenhum dos alunos da Escola Aristarco gosta de Matemática, então nenhum deles ganha medalha na Olimpíada Nacional de Matemática.
- (B) se todos os alunos da Escola Aristarco ganham medalha na Olimpíada Nacional de Matemática, então, todos esses alunos gostam de Matemática.
- (C) se algum aluno da Escola Aristarco ganha medalha na Olimpíada Nacional de Matemática, então todos esses alunos gostam de Matemática.
- (D) se nenhum aluno da Escola Aristarco ganha medalha na Olimpíada Nacional de Matemática, então nenhum desses alunos gosta de Matemática.
- (E) se nenhum aluno da Escola Aristarco ganha medalha na Olimpíada Nacional de Matemática, então algum desses alunos não gosta de Matemática.

**19**

Em uma caixa, há muitas canetas esferográficas. Classificadas conforme a cor, elas podem ser azuis, vermelhas ou pretas. Classificadas quanto à espessura da esfera, elas podem ser de ponta fina ou de ponta grossa.

Metade das canetas vermelhas tem a ponta grossa. A quantidade total de canetas pretas é igual à quantidade total de canetas vermelhas. Entre as canetas de ponta grossa, a quantidade de azuis é igual à de pretas. A quantidade de canetas azuis com ponta fina é o dobro da quantidade de canetas pretas de ponta grossa.

Se, nessa caixa, 18 são azuis e 20 têm ponta grossa, então a quantidade total de canetas na caixa é

- (A) 30.
- (B) 40.
- (C) 48.
- (D) 50.
- (E) 52.

**20**

Tucídides possuía uma dívida e, em vez de quitá-la, pagou apenas 20% do seu valor, deixando o restante para ser quitado em data futura, com acréscimo de 12% a título de juros sobre o saldo devedor.

No ato de quitação, Tucídides pagou R\$2.329,60. Logo, o valor original da dívida é o resultado da seguinte expressão:

(A)  $2.329,60 \times 0,88 - 20$

(B)  $\frac{2.329,60}{0,88} \times 1,20$

(C)  $\frac{2.329,60}{1,12} \times 1,20$

(D)  $\frac{2.329,60}{1,12 \times 1,20}$

(E)  $\frac{2.329,60}{1,12 \times 0,8}$

**21**

As filhas de Nepomuceno têm 5 e 9 anos de idade. Ele dividirá R\$420,00 entre elas de forma inversamente proporcional às suas idades.

Logo

- (A) a mais nova receberá R\$120,00 a mais que a mais velha.
- (B) a mais nova receberá R\$150,00 a mais que a mais velha.
- (C) a mais nova receberá R\$270,00 a mais que a mais velha.
- (D) a mais velha receberá R\$120,00 a mais que a mais nova.
- (E) a mais velha receberá R\$150,00 a mais que a mais nova.

**22**

A negação da proposição:

$$\text{Se } y \neq 0, \text{ então } x > 2 \text{ e } x \leq 5$$

é dada por

- (A) Se  $y = 0$ , então  $x > 2$  e  $x \leq 5$
- (B) Se  $y = 0$ , então  $x < 2$  ou  $x \geq 5$
- (C)  $y = 0$  e  $x \leq 2$  ou  $x > 5$
- (D)  $y \neq 0$  e  $x \leq 2$  ou  $x > 5$
- (E)  $y \neq 0$  e  $x \leq 2$  e  $x > 5$

## Atualidades

23

De acordo com o censo demográfico de 2022 (IBGE), mais da metade da população brasileira (51,13%) é feminina, e elas representam, segundo o Tribunal Superior Eleitoral, 53% do eleitorado. No entanto, elas ocupam, hoje, menos de 15% dos cargos eletivos.

A respeito da baixa participação das mulheres na política, assinale a afirmativa que apresenta um dispositivo existente na legislação brasileira para alterar esse cenário.

- Reserva de pelo menos 50% dos recursos do Fundo Especial de Financiamento de Campanha, o Fundo Eleitoral, para financiar candidaturas femininas.
- Suspensão dos direitos eleitorais aos partidos em caso de não observância do percentual de pelo menos 30% de candidatas mulheres em cada ciclo eleitoral
- Reserva de assentos, em ambas as casas legislativas, para mulheres, com preferência para as representantes de povos originários.
- Cota de gênero, que obriga cada partido ou coligação a preencher o mínimo de 30% e o máximo de 70% de candidaturas de cada sexo.
- Repasse de até 30% dos recursos dos Fundos Partidário para custear o tempo da propaganda eleitoral gratuita de candidatas em rádio e televisão.

24

A França se tornou o primeiro país do mundo a incluir na Constituição a liberdade de a mulher abortar. A mudança na Carta Magna foi aprovada em uma sessão conjunta das duas Casas legislativas, a Assembleia Nacional e o Senado, e será promulgada pelo presidente Emmanuel Macron ainda em março de 2024.

Adaptado de <https://www1.folha.uol.com.br/mundo/2024/03/>

Diferentemente da França, a legislação brasileira

- equipara o aborto ao infanticídio.
- considera o aborto uma prática ilegal em todas as situações.
- descriminaliza a interrupção da gravidez em caso de deficiência da gestante.
- estabelece um limite temporal para interromper a gravidez, desde que respaldada por laudo médico.
- autoriza a interrupção de gestação em caso de não haver outro meio de salvar a vida da gestante.

25

Desde os anos 2000, o interior do Brasil ultrapassou o litoral na incidência de dengue. A região costeira que vai de Santos, em São Paulo, até Belém, no Pará, apresentava tipicamente maior proporção de casos de dengue em comparação com sua população. Entretanto, recentemente, o oeste do Paraná, o oeste de Santa Catarina o oeste de São Paulo, o interior de Minas Gerais, uma parte do Tocantins, o Goiás e o Mato Grosso do Sul viram a transmissão da doença aumentar e muitas de suas cidades foram obrigadas a decretar emergência.

Adaptado de <https://www.estadao.com.br>

A respeito dos fatores relacionados ao aumento e à interiorização dos casos de dengue no Brasil, analise as afirmativas a seguir.

- A maior frequência de períodos com temperaturas acima da média, inclusive com ondas de calor no período invernal em todo território, tem reforçado o padrão sazonal da doença.
- A expansão urbana desvinculada de melhoras nos serviços sanitários tem propiciado a formação de ilhas de calor e, portanto, uma alta na incidência da dengue.
- O desmatamento do cerrado, convertido em pasto, por exemplo, tem contribuído para aumentar a temperatura média e o número de casos da doença no interior do Brasil.

Está correto o que se afirma em

- I, apenas.
- I e II, apenas.
- I e III, apenas.
- II e III, apenas.
- I, II e III.

26

As afirmativas a seguir descrevem corretamente o desempenho da economia brasileira em 2023, à exceção de uma. Assinale-a.

- A expansão econômica ampliou a geração de empregos informais, em um contexto recessivo e de flexibilização das leis trabalhistas.
- O dinamismo da economia foi marcado pelo aumento de exportações, no setor agrícola, e da demanda, no setor de serviços, em função da alta no consumo das famílias.
- A alta progressiva nas cotações internacionais de commodities acelerou o ritmo das exportações, mesmo em um cenário cambial desfavorável para os exportadores.
- A retração do Brasil no mercado regional e internacional ocorreu em função da maior competitividade dos produtos agrícolas argentinos e pela retomada da economia chinesa.
- A persistência do alto nível da inflação foi ocasionada pela alta da cesta básica, sobretudo dos alimentos, cujas safras foram afetadas pelas condições climáticas adversas.

**27**

Em 2024, o Tribunal Superior Eleitoral (TSE) aprovou uma resolução para regulamentar o uso da inteligência artificial (IA) durante as eleições municipais a serem realizadas em outubro. A norma proíbe manipulações de conteúdo falso para criar ou substituir imagem ou voz de candidato com objetivo de prejudicar ou favorecer candidaturas. Também foi aprovada a restrição do uso de chatbots humanizados e avatares para intermediar a comunicação das campanhas com pessoas reais nas redes sociais.

Adaptado de <https://agenciabrasil.ebc.com.br/>

A resolução sobre IA objetiva

- (A) coibir a produção e circulação de *deepfakes*.
- (B) restringir o uso de ferramentas de IA simbólica.
- (C) retomar a veiculação de propagandas eleitorais em mídias tradicionais, como rádio e televisão.
- (D) proibir o uso de ferramentas de coleta e seleção em bases de dados com fins eleitorais.
- (E) limitar o uso de assistente virtual programado por AI para divulgação do programa partidário.

**28**

Assinale a afirmativa que descreve corretamente um aspecto do panorama global da economia em 2023.

- (A) Nos Estados Unidos, a economia foi alavancada pela adoção de uma política de ampliação do crédito e baixa da taxa de juros.
- (B) Na China, o PIB cresceu acima do esperado, em um cenário marcado pela retomada econômica pós pandemia, inclusive no setor imobiliário.
- (C) Na Zona do Euro, a alta dos preços da energia pesou nas despesas familiares e no setor industrial, confirmando a manutenção de um quadro de crise.
- (D) Na Rússia, o PIB decresceu, em função do impacto prolongado da guerra com a Ucrânia e dos embargos à venda de petróleo e gás russos.
- (E) Na América do Sul, foi mantido um caminho geral de crescimento, apoiado por investimentos externos e pela intensificação de políticas estatistas.

**29**

Um supercomputador consiste em milhares de pequenos computadores chamados nós. Cada nó é equipado com sua própria memória e com vários processadores. Atuando em conjunto, eles são capazes de realizar cálculos extremamente complexos em elevada velocidade. Hoje, o maior supercomputador da América Latina é o Pégaso, da Petrobras, com 678 TB de memória RAM e mais de 233 mil núcleos.

Adaptado de <https://revistapesquisa.fapesp.br>

A respeito do poder computacional de alto desempenho dos supercomputadores, analise as afirmativas a seguir e assinale (V) para a verdadeira e (F) para a falsa.

- ( ) Essas máquinas são instrumentos valiosos de pesquisa e de suporte a setores da economia como defesa, energia e saúde, permitindo a resolução de problemas complexos em menor tempo.
- ( ) Esses equipamentos permitem realizar tarefas que exigem altíssimos níveis de processamento, como simulações da formação do universo ou modelagem molecular para novos fármacos.
- ( ) Esses aparelhos trabalham em alta velocidade de processamento pelo somatório de diversos núcleos, o que potencializa a velocidades do processador, medidas em gigahertz (GHz).

As afirmativas são, respectivamente,

- (A) V – V – F.
- (B) V – F – V.
- (C) F – V – F.
- (D) F – V – V.
- (E) V – V – V.

**30**

No início do ano corrente, a Petrobras anunciou ter alcançado em 2023 o segundo maior valor de lucro líquido de sua história. Mesmo assim, suas ações caíram no mercado financeiro, em função da disputa sobre os dividendos.

A respeito dos resultados financeiros da Petrobras nos últimos anos e da política de distribuição de dividendos da empresa, assinale a afirmativa correta.

- (A) A Petrobras é uma empresa estatal de economia mista que monopoliza a indústria petroleira no Brasil.
- (B) A Petrobras é uma estatal administrada diretamente por órgãos governamentais que controlam o valor das suas ações.
- (C) A Petrobras direciona parte dos dividendos para investidores privados, e outra parte para o governo federal, que controla a empresa via Tesouro e BNDES.
- (D) A Petrobras, sob o Governo Bolsonaro, reduziu o pagamento de dividendos a acionistas privados para reinvesti-los em energia renovável.
- (E) A Petrobras, no atual governo, vendeu ativos e distribuiu o lucro e os valores recordes de dividendos entre seus acionistas para financiar projetos do BNDES.

**31**

*Dados da última década mostram que, em relação aos Estados, o Pará é o que apresenta o maior número de registros de resgates de trabalho análogo à escravidão, com 9.853, seguido por Mato Grosso (4.302); Tocantins (2.896); São Paulo (1.529) e Rio de Janeiro (1.653), em 2017.*

Adaptado de <https://www.jota.info/justica/em-14-anos-434-mil-foram-resgatados-de-trabalho-escravo-30102017>

A respeito da definição moderna de escravidão, analise as afirmativas a seguir.

- I. Em Tocantins, a maior incidência de escravidão moderna ocorre na zona rural, associada a atividades agropecuárias e ao extrativismo mineral, como nas carvoarias, por exemplo.
- II. A Organização Internacional do Trabalho determina a condição de escravidão por uma série de componentes, como o trabalho forçado análogo ao de escravo e o casamento forçado.
- III. Pessoas obrigadas a trabalhar por dívida ou por ameaça, sem direitos trabalhistas garantidos estão em situação de escravidão, uma vez que lhes é impedida a liberdade de ir e vir.

Está correto o que se afirma em

- (A) I, apenas.
- (B) I e II, apenas.
- (C) I e III, apenas.
- (D) II e III, apenas.
- (E) I, II e III.

**32**

Energia gerada por recursos naturais renováveis que, no Brasil, provém da lenha, carvão vegetal, carvão mineral, bagaço de cana e outros resíduos combustíveis. Essa energia é a matéria orgânica vegetal ou animal usada como fonte de energia limpa e sustentável.

O trecho descreve o seguinte componente importante do desenvolvimento sustentável:

- (A) compostagem.
- (B) biodiversidade.
- (C) créditos de carbono.
- (D) ciclo de vida.
- (E) biomassa.

## História e Geografia do Estado de Tocantins

**33**

Leia a descrição de uma classe de vegetação presente no estado do Tocantins, a seguir.

*Esta vegetação, também conhecida como floresta pluvial tropical, é caracterizada por árvores de porte elevado, além de trepadeiras lenhosas e epífitas (bromélias e orquídeas, por exemplo) em abundância, o que a diferencia de outras classes de formação vegetal. Sua característica ecológica principal é estar presente em ambientes de chuvas abundantes, como na parte noroeste do Estado, onde as temperaturas médias são de 25°C e os elevados índices de precipitação estão bem distribuídos ao longo do ano.*

Adaptado de Luís Antônio G. C. Silva. *Biomias presentes no Estado do Tocantins*. Brasília: Câmara dos Deputados, 2007, p. 4.

O trecho caracteriza a região conhecida como Floresta

- (A) Estacional Semidecidual.
- (B) Tropical Subcaducifólia.
- (C) de Mata Atlântica.
- (D) Ombrófila Densa.
- (E) Temperada Decidual.

**34**

Comparando dados dos censos do IBGE, pode-se elaborar um retrato da evolução demográfica da população residente no Estado de Tocantins. O grupo na faixa etária de 0 a 14 representava 41,7% da população em 1991, 28,8% em 2010, e passou para 24% em 2022. A população acima de 65 anos era de 3,8% em 1991 e 5,8% em 2010, e ficou em 8,6% em 2022. O censo de 2022 mostrou ainda que a faixa etária de 15 a 29 anos representa 15% da população e que 41% da população é composta por pessoas de 30 a 59 anos.

Com base no trecho, assinale a opção que apresenta a dinâmica populacional do Tocantins entre 1991 e 2022.

- (A) Expansão da base da pirâmide etária.
- (B) Diminuição da taxa de fecundidade.
- (C) Estreitamento do topo da pirâmide.
- (D) Aumento da idade mediana.
- (E) Redução do índice de envelhecimento.

35

*Foram inegáveis os desdobramentos socioeconômicos sobre o antigo Norte Goiano fruto da construção da rodovia BR-153, a partir do final da década de 1950. O novo urbanismo da Belém-Brasília trouxe enorme impacto no que se refere ao conjunto de cidades que existiam às margens do rio Tocantins, aos fluxos migratórios e às atividades econômicas da região.*

Adaptado de AQUINO, N. *Tocantins: cidades e urbanismo em três modelos históricos*. In: III Encontro da ANPPAS. Brasília, 2006, p. 8.

As afirmativas a seguir descrevem corretamente impactos da rodovia BR-153 no processo de territorialização do Tocantins, **à exceção de uma**. Assinale-a.

- (A) A rodovia foi construída no governo Kubitscheck, em um contexto desenvolvimentista que considerava a expansão rodoviária como um meio para integrar econômica e territorialmente as regiões do país, inclusive o norte goiano que, então, vivia uma situação de abandono.
- (B) A rodovia Belém-Brasília teve grande importância para a urbanização do atual Tocantins, o que é exemplificado pela quantidade de novas cidades criadas após a sua construção, como Araguaína, Gurupi, Paraíso do Tocantins, Colinas do Tocantins e Guaraí.
- (C) A construção da BR-153 alavancou também os municípios ribeirinhos, pois a navegação fluvial foi intensificada para abastecer as obras em curso, o que transformou esses municípios em satélites econômicos da nova malha urbana instalada ao longo da rodovia.
- (D) Após a abertura da rodovia, as principais áreas que receberam fluxos migratórios foram a Microrregião de Gurupi – Gurupi e a Microrregião de Porto Nacional – Palmas, para onde se dirigiram pessoas interessadas em trabalhar na construção civil, nos serviços e no comércio, entre outros.
- (E) A BR-153 permitiu interligar o norte de Goiás, atual Estado do Tocantins, a outras localidades do país, facilitando o escoamento da produção e o acesso a produtos para a região, promovendo o fluxo de mercadorias e serviços.

36

O Memorial Coluna Prestes (2001) é uma obra do arquiteto Oscar Niemeyer localizada na Praça dos Girassóis, no centro de Palmas (TO).



Fonte: <https://central.to.gov.br/image/146145?f=1>

A respeito da relação entre essa obra e a constituição de uma memória histórica para o Estado do Tocantins, analise as afirmativas a seguir.

- I. O monumento refere-se à Coluna Prestes, que percorreu o Brasil para divulgar seu programa revolucionário entre 1924 e 1927, tendo passado pelo Norte do então Estado de Goiás (atual Tocantins) durante seu percurso.
- II. A obra foi realizada em concreto e apresenta curvas sinuosas, características próprias do Barroco das cidades mineradoras, estabelecendo visualmente uma continuidade entre o Barroco do passado das cidades mineradoras e o presente do Tocantins.
- III. A construção do memorial permite inserir simbolicamente a história do Tocantins nos grandes processos da história republicana nacional, e homenagear o Tenente Antônio de Siqueira Campos, cujo sobrenome é homônimo ao do ex-governador do Estado.

Está correto o que se afirma em

- (A) I, apenas.
- (B) I e II, apenas.
- (C) I e III, apenas.
- (D) II e III, apenas.
- (E) I, II e III.

## 37

Até 1988, o território que hoje corresponde ao Estado do Tocantins pertencia ao antigo norte de Goiás e à Região Centro-Oeste, tendo como capital política a cidade de Goiânia. Com a emancipação política, da noite para o dia, as pessoas amanheceram tocantinenses, mas sem referências culturais que as representassem como tais.

A respeito da projeção simbólica do novo Estado e de sua nova capital, assinale a opção que interpreta corretamente o processo de construção e atribuição de uma identidade ao Tocantins.

- (A) Desde o primeiro mandato do governador Siqueira Campos, os símbolos oficiais do Tocantins continuaram sendo o brasão de armas, a bandeira, o selo estadual e a canção "Hino ao Tocantins", de Liberato Costa Póvoa e Abiezer Alves da Rocha.
- (B) O girassol foi reconhecido oficialmente como símbolo da natureza do Estado, por ser uma planta nativa dos cerrados tocantinenses e estar associada à prosperidade e à esperança.
- (C) A Praça dos Girassóis, centro cívico de Palmas, foi concebida para receber edifícios esteticamente associados à cultura do Tocantins, como o Palácio do Araguaia, cujos pórticos remetem ao capim dourado, símbolo da tradição do artesanato de alta qualidade da região.
- (D) A monumentalidade da Praça dos Girassóis é enfatizada pelo seu pavimento, que contém figuras simbólicas como o mapa do Tocantins, a rosa dos ventos, o brasão de armas e a Praça Krahô.
- (E) O meio ambiente também foi utilizado para fortalecer o sentimento identitário, inserindo o girassol, a fava-de-bolota, a arara-canindé e a granada como símbolos da natureza do Tocantins, desde a promulgação da Constituição Estadual em 1989.

## 38

A respeito da matriz energética do Estado e dos investimentos em biocombustíveis, analise as afirmativas a seguir e assinale (V) para a verdadeira e (F) para a falsa.

- ( ) O Estado tem condições de clima e solo desfavoráveis para o plantio de matérias-primas usadas na fabricação de biocombustíveis, mas a expansão do modal logístico (Ferrovia Norte-Sul) permitirá o acesso à soja do planalto goiano.
- ( ) O Tocantins conta com duas usinas de biodiesel em funcionamento, utilizando o pinhão-mansão, a soja, a mamona e outras oleaginosas como matéria-prima.
- ( ) O Estado tem alto potencial de geração de energia solar, pela elevada irradiação solar e pelas políticas públicas voltadas para produção de energia limpa e renovável, como a Política Estadual de Incentivo à Geração e ao Uso da Energia Solar (Pró-Solar)

As afirmativas são, respectivamente,

- (A) V – F – V.  
 (B) F – V – V.  
 (C) F – F – V.  
 (D) V – V – F.  
 (E) V – V – V.

## 39

*As belas paisagens como serras, cachoeiras, praias e até mesmo dunas, fazem do Tocantins um paraíso de paisagens naturais, atraindo turistas de várias regiões para conhecer o mais novo Estado brasileiro. A potencialidade para o ecoturismo e a preocupação em conservar a biodiversidade e recursos naturais nele contidos fez com que o Governo do Estado, criasse e implementasse as Unidades de Conservação Ambiental (UC).*

Adaptado de <https://www.to.gov.br/secom/>

A respeito das Unidades de Conservação (UC) do Tocantins, assinale a afirmativa correta.

- (A) São espaços territoriais legalmente instituídos pelo poder público e podem ser de proteção integral federal, como no caso dos Parques Cantão, Jalapão e Lajeado.
- (B) As UCs federais estão subordinadas ao Instituto Chico Mendes de Conservação da Biodiversidade (ICMBio), como no caso do Monumento Natural das Árvores Fossilizadas.
- (C) As UCs estaduais estão subordinadas ao Instituto Natureza do Tocantins (Naturatins), que supervisiona o Parque do Araguaia e o das Nascentes do rio Parnaíba.
- (D) As UCs de uso sustentável são compostas exclusivamente por áreas públicas, sendo permitida sua utilização apenas para o ecoturismo, pesquisa e educação ambiental.
- (E) As UCs municipais estão subordinadas às secretarias de meio ambiente, como no caso do Monumento Natural dos Cânions e Corredeiras do Rio Sono e do Parque Ecológico Roberto Guedes Pereira.

## 40

O Estado do Tocantins possui diversas comunidades quilombolas certificadas e outras com processo formalizado para regularização fundiária de seus territórios. A definição de comunidade quilombola é dada pelo Art. 2º do Decreto nº 4.887/2003:

*Consideram-se remanescentes das comunidades dos quilombos, para os fins deste Decreto, os grupos étnico-raciais, segundo critérios de auto-atribuição, com trajetória histórica própria, dotados de relações territoriais específicas, com presunção de ancestralidade negra relacionada com a resistência à opressão histórica sofrida.*

A respeito dos órgãos e processos envolvidos na identificação e regularização de territórios quilombolas no Estado do Tocantins, assinale a afirmativa correta.

- (A) O acesso dessas comunidades às políticas públicas de educação, saúde, moradia e regularização fundiária depende de o Estado emitir uma certidão de identificação de comunidade quilombola, mediante Fundação Palmares.
- (B) Os critérios para reconhecimento de um grupo enquanto remanescente de quilombo depende da comprovação de sua ancestralidade, seu parentesco e da preservação viva de religiosidades autenticamente africanas.
- (C) A Coordenação Nacional de Articulação de Comunidades Negras Rurais Quilombolas (CONAQ) luta pela incorporação constitucional do direito à autodefinição dos remanescentes de quilombos.
- (D) A certificação quilombola é realizada pela Fundação Cultural Palmares, que avalia com visitas técnicas a autenticidade do legado quilombola pretendido e, caso o aprove, emite a certidão de comunidade quilombola e a inscreve em um cadastro geral.
- (E) O acesso às terras ocupadas pelos remanescentes das comunidades dos quilombos é garantido por sua delimitação e titulação, a cargo da autoridade municipal em que a mesma se localiza.

## CONHECIMENTOS ESPECÍFICOS

41

O arquiteto Oscar Niemeyer foi o responsável pelo projeto do Memorial Coluna Prestes, integrante do conjunto arquitetônico da Praça dos Girassóis. Relacione outros edifícios icônicos que abrigam as sedes dos poderes, listados a seguir, a seus respectivos autores.

- I. Palácio João D'Abreu, sede da Aletto.
  - II. Palácio Araguaia, sede do Governo.
  - III. Palácio Feliciano Machado Braga, sede do Judiciário.
  - IV. Edifício da Prefeitura de Palmas.
- ( ) Luiz Fernando Cruvinel Teixeira.  
 ( ) Escritório Grupo Quatro.  
 ( ) Manoel Balbino de Carvalho Neto.  
 ( ) Ernani Vilela e Maria Luci da Costa.

Assinale a opção que apresenta a relação correta, segundo a ordem apresentada.

- (A) II – III – IV – I.  
 (B) II – IV – III – I.  
 (C) I – IV – III – II.  
 (D) III – II – IV – I.  
 (E) III – IV – I – II.

42

Um arquiteto da Aletto, ao organizar as indicações de cortes nas plantas baixas em que estava trabalhando, deparou-se com uma dúvida quanto à numeração das visadas.

Em uma consulta à NBR 6492 – que versa sobre a representação de projetos de arquitetura –, observou a forma correta de preenchimento da simbologia indicativa da localização dos cortes, expressa por meio de uma circunferência dotada de seta indicativa.

Assinale a opção que apresenta a explicação correta para o uso da simbologia mencionada.

- (A) Na metade da circunferência onde se encontra circunscrita a seta, deve constar o número da folha (prancha) em que se encontra o desenho do corte e, na metade não abrangida pela seta, deve constar o número do desenho em relação a outros, que estejam na mesma folha.
- (B) Sempre na metade superior, ou na metade da esquerda da circunferência, deve constar o número da folha (prancha) em que se encontra o desenho do corte, e sempre na metade inferior, ou na metade da direita da circunferência, deve constar o número do desenho em relação a outros, que estejam na mesma folha.
- (C) Na metade da circunferência em que se encontra circunscrita a seta, deve constar o número do desenho em relação a outros na mesma folha (prancha), e na metade não abrangida pela seta, deve constar o número da folha onde se encontra o desenho do corte.
- (D) Sempre na metade superior, ou na metade da esquerda da circunferência, deve constar o número do desenho em relação a outros na mesma folha (prancha), e sempre na metade inferior, ou na metade da direita da circunferência, deve constar o número da folha onde se encontra o desenho do corte.
- (E) A seta indicativa de corte, na planta baixa, aponta para a posição em que se encontra o observador, indicando o ponto de vista adotado para a execução do corte.

43

O encarregado pelo arquivo central da Assembleia Legislativa necessitava de mais espaço para colocar novos arquivos deslizantes e sugeriu ao arquiteto responsável na instituição, que uma sala no segundo pavimento talvez pudesse ser utilizada para este fim.

O arquiteto consultou a NBR 6120 – que trata de ações para o cálculo de estruturas de edificações –, para avaliar a sobrecarga estrutural representada por este tipo de uso. Após a leitura do tópico específico na norma, o profissional constatou que a laje de piso do segundo pavimento deveria estar dimensionada para receber, de modo uniformemente distribuído, uma sobrecarga de, no máximo,

- (A) 3kN/m<sup>2</sup>.  
 (B) 2kN/m.  
 (C) 5kN/m<sup>2</sup>.  
 (D) 2,5kN/m<sup>2</sup>.  
 (E) 1,5kN/m<sup>2</sup>.

44

Um dos gabinetes da ALETO vai receber um servidor PCR (Pessoa em Cadeira de Rodas), e foi solicitado ao arquiteto que especificasse as dimensões para a aquisição de uma mesa que deveria compor a estação de trabalho do novo funcionário.

Em relação às áreas de alcance na superfície de trabalho prevista, segundo a NBR 9050, assinale a afirmativa correta.

- (A) Deve ter altura livre de no mínimo 0,70m entre o piso e a superfície inferior.
- (B) Deve ter altura entre 0,75m a 0,85m, entre o piso e a sua superfície superior.
- (C) Deve ter profundidade inferior livre mínima de 0,30m, para garantir a aproximação da pessoa em cadeira de rodas.
- (D) Deve possibilitar, no plano lateral, o apoio dos cotovelos com 15° de abertura do braço em relação ao tronco.
- (E) Deve possibilitar, no plano frontal, o apoio dos cotovelos com ângulo entre 10° e 15° de abertura do braço em relação ao tronco.

45

Na constituição do concreto são empregados aglomerantes de naturezas diversas.

Relacione os materiais listados a seguir às suas respectivas definições.

- I. Aglomerante de origem mineral
  - II. Aglomerante aéreo
  - III. Aglomerante hidráulico
- ( ) endurece em reação com a água e após endurecer, torna-se resistente à ação do líquido.
- ( ) após o endurecimento não resiste satisfatoriamente à ação da água.
- ( ) na presença de água forma uma pasta com características aglutinantes.

Assinale a opção que indica a relação correta, segundo a ordem apresentada.

- (A) II – III – I.  
 (B) I – II – III.  
 (C) I – III – II.  
 (D) III – II – I.  
 (E) III – I – II.

46

O Corpo de Bombeiros Militar do Estado do Tocantins (CBMTO) é a corporação responsável pela aprovação dos projetos das instalações preventivas de segurança contra incêndio e emergência.

Sobre o tema, segundo o Código de Segurança contra Incêndio e Emergência em edificações e áreas de risco no Estado do Tocantins, assinale a afirmativa correta.

- (A) O autor do projeto é o responsável pelo detalhamento técnico em relação às medidas de segurança contra incêndio e emergência, facultando-se a incumbência do desenvolvimento dos sistemas de proteção correlacionados, a outro profissional.
- (B) O prazo para análise dos projetos é de 15 dias úteis, contados a partir da data do protocolo, podendo ser prorrogado por igual período.
- (C) Qualquer obra ou construção poderá ser iniciada antes da aprovação pelo CBMTO, desde que o responsável técnico protocolize o compromisso de entrega dos projetos, que deverão ser apresentados no prazo máximo de 90 dias após o início da obra, sem direito à prorrogação.
- (D) A empresa ou o profissional responsável pela execução do projeto aprovado junto ao CBMTO, não necessariamente deverá acompanhar a execução e instalação das medidas de segurança contra incêndio e emergência por ele elaborada.
- (E) Para as instalações elétricas e o Sistema de Proteção contra Descargas Elétricas – SPDA, basta a observância das prescrições expedidas pelas concessionárias dos serviços locais.

47

A concepção da cidade de Palmas se deu no contexto da criação do Estado do Tocantins, em 1988. A essa altura o urbanismo funcionalista já havia sido objeto de críticas e novos paradigmas foram definidos para as cidades que surgiriam a partir da segunda metade do século XX.

Sobre o plano básico do escritório “Grupo Quatro” – responsável pelo projeto de Palmas – analise as afirmativas a seguir.

- I. Na cidade efetivamente construída percebe-se a priorização do transporte motorizado individual, em detrimento do transporte público de massa, ou mesmo do emprego de ciclovias.
- II. Na cidade efetivamente construída percebe-se que o traçado adotado foi o da repetição de quadriculas resultantes de eixos cartesianos, descartando-se a possibilidade de um desenho mais orgânico, em consonância com as características naturais do sítio onde foi implantada.
- III. Na cidade efetivamente construída percebe-se uma realidade onde ainda predomina a setorização por usos, desestimulando o dinamismo espontâneo proporcionado pela coexistência de atividades espacialmente descentralizadas, o que traria maior vitalidade à paisagem urbana.

Está correto o que se afirma em

- (A) I, II e III.
- (B) II e III, apenas.
- (C) I e III, apenas.
- (D) I e II, apenas.
- (E) II, apenas.

48

A cidade de Palmas se insere no rol das cidades planejadas do século XX, configurando-se como o último exemplar do gênero, segundo afirma o arquiteto e pesquisador Hugo Segawa.

Fruto de um projeto elaborado por um escritório goiano, entre os arquitetos que coordenaram os trabalhos para a sua concepção, é correto citar

- (A) Luiz Nunes.
- (B) Walfredo Antunes de Oliveira Filho.
- (C) Lucio Costa.
- (D) Severiano Porto.
- (E) Oswaldo Bratke.

49

O Cadastro Territorial Multifinalitário (CTM) compõe um banco de dados com informações espaciais, sendo um instrumento de suma importância para a administração dos municípios, auxiliando na tomada de decisões para a ocupação ordenada do território e para a preservação ambiental. Para o seu funcionamento foi estabelecido o conceito de parcela cadastral, entendida como toda e qualquer porção da superfície no município a ser cadastrada.

Sobre o CTM, assinale a afirmativa correta.

- (A) Desempenha o papel de inventário territorial oficial e sistemático desses municípios, embasando-se no levantamento dos limites de cada parcela, que recebe uma identificação numérica inequívoca.
- (B) Atende às necessidades sociais, ambientais, apenas, excluindo-se as de natureza econômicas, da Administração Pública e de segurança jurídica da sociedade.
- (C) Não incorpora a Carta Cartográfica do município.
- (D) Dispensa o emprego de levantamentos topográficos e geodésicos para definir com precisão os limites legais das parcelas.
- (E) É de responsabilidade da União, quanto à sua gestão.



50

O geoprocessamento utiliza técnicas matemáticas e de computação para tratar de informações geográficas, operando através de Sistemas de Informação Geográfica (SIG). O que antes era realizado por meio de documentos e mapas físicos, atualmente pode ser executado por uma tecnologia de baixo custo operacional, possibilitando análises complexas a partir de bases integradas.

Em relação aos tipos de dados utilizados em geoprocessamento, relacione os termos às suas definições.

- I. Dados cadastrais
  - II. Dados temáticos
  - III. Modelos numéricos do terreno
  - IV. Redes
- ( ) descrevem, de modo qualitativo, a distribuição espacial de uma grandeza geográfica.
- ( ) dados que podem ser associados à altimetria.
- ( ) a cada objeto corresponde uma localização geográfica, sempre associado a atributos existentes no banco de dados.
- ( ) elementos individualizados com atributos, podendo estar associados a diversas representações gráficas.

Assinale a opção que indica a relação correta, na ordem apresentada.

- (A) IV – II – III – I.
- (B) II – III – IV – I.
- (C) I – III – IV – II.
- (D) II – IV – III – I.
- (E) I – IV – III – II.

51

O Plano Diretor Participativo do Município de Palmas, aprovado em 2018, é o instrumento básico e estratégico da política de desenvolvimento do Município.

No âmbito da criação de áreas de interesse turístico e cultural sustentáveis, uma das zonas instituídas foi a Zona de Interesse Turístico Sustentável I – ZITS I, localizada entre o córrego Ronca, ao Sul, e o córrego Mirindiba, ao Norte.

A respeito da ZITS I, segundo os critérios de sustentabilidade definidos pelo Plano Diretor, assinale a opção que indica a atividade admitida.

- (A) Mineração.
- (B) Rural, com atividades agrícolas.
- (C) Indústrias de pequeno porte.
- (D) Condomínios convencionais, de alta densidade.
- (E) Comércio e serviços, de um modo geral.

52

As Áreas Especiais de Relevante Interesse Ambiental – AERIAS são espaços destinados à conservação e à preservação da natureza, localizados na área urbana e rural do Município de Palmas. Para tanto, formalizou-se uma categorização dentro do Plano Diretor, no intuito de melhor definir as metas ambientais a serem atingidas por cada área, visando ao equilíbrio entre a atividade humana e a preservação do meio ambiente.

Relacione as nomenclaturas a seguir às suas respectivas definições.

- I. Áreas Ambientalmente Protegidas – AAPs
  - II. Corredores Verdes – CVs
  - III. Áreas Verdes Urbanas – AVUs
  - IV. Áreas Ambientalmente Controladas – AACs
- ( ) Formações vegetais com a função de interligar as diversas áreas do Sistema Municipal de Infraestrutura Verde do Município.
- ( ) Remanescentes florestais contíguos às Áreas de Preservação Permanente – APPs.
- ( ) Espaços territoriais de propriedade pública ou privada, com tratamento ambiental diferenciado, conforme atividade desenvolvida, para controle e monitoramento de impactos ambientais.
- ( ) Criadas pelo Poder Executivo Municipal, são espaços territoriais urbanos que apresentam ou não cobertura vegetal nativa ou outras formas de vegetação.

Assinale a opção que indica a relação correta, segundo a ordem apresentada.

- (A) II – IV – I – III.
- (B) III – II – IV – I.
- (C) I – IV – III – II.
- (D) II – I – IV – III.
- (E) I – III – IV – II.

53

O arquiteto dinamarquês Jan Gehl no livro *Cidades para pessoas*, tece uma rica reflexão sobre a qualidade urbana, abordando questões como a utilização da cidade pelos pedestres e meios alternativos de locomoção, destacando o transporte cicloviário. Chamando a atenção para o conceito da mobilidade ativa, a cidade de Palmas conta atualmente com apenas 18,8% de modos ativos (a pé ou de bicicleta).

Segundo o Art. 133 do Plano Diretor, analise as estratégias da mobilidade urbana elencadas a seguir e assinale (V) para a verdadeira e (F) para a falsa.

- ( ) Redução das exigências quanto a quantidade de vagas de estacionamento nos empreendimentos próximos aos eixos de transporte prioritários, bem como dos atendidos por estacionamentos públicos.
- ( ) Melhoria das redes cicloviárias e das calçadas existentes, porém facultando a aplicação de padronização municipal quando da implantação de novos parcelamentos.
- ( ) Inserção parcimoniosa de paraciclos e de arborização nos logradouros públicos, de modo que não interfiram nos estacionamentos destinados a veículos motorizados, já existentes.

As afirmativas são, respectivamente,

- (A) V – F – F.
- (B) V – F – V.
- (C) F – V – V.
- (D) V – V – F.
- (E) F – V – F.

54

O conceito de paisagem cultural estabelecido pela Unesco em 1992, e regulamentado pelo IPHAN, em 2009, foi incorporado ao patrimônio cultural brasileiro como um novo instrumento de preservação, concebido como o reconhecimento de um recorte territorial representativo do *convívio entre a natureza, os espaços construídos e ocupados, os modos de produção e as atividades culturais e sociais*.

O Art. 173, § 1º, do Plano Diretor de Palmas aborda o tema da paisagem urbana – muito próximo ao da paisagem cultural –, sendo definida como *a interação entre o patrimônio natural e o construído, incluindo o ser humano*.

Sobre os princípios da paisagem urbana mencionadas no Plano Diretor, assinale a afirmativa correta.

- (A) Devem zelar pelas ambiências urbanas que possuem significado especial para a população, em específico os espaços físicos e seus processos culturais e sociais, acima de outros valores.
- (B) Devem categorizar as regiões da cidade, promovendo sua distinção física, social e cultural, preservando, dessa forma, apenas a singularidade pertinente a cada uma delas.
- (C) Devem ser introduzidos como critério de composição do sistema edificado.
- (D) Devem valorizar a paisagem como elemento de identidade da cidade, de modo homogêneo.
- (E) Devem priorizar as iniciativas de grupos especializados, respeitando sua importância na concepção dos projetos de desenho urbano.

55

A cidade de Palmas insere-se predominantemente no bioma do cerrado, caracterizado por espécimes arbustivos, gramíneas e árvores de troncos grossos e tortuosos.

Em harmonia com a paisagem natural, o plantio de árvores em logradouros públicos vai ao encontro de políticas públicas que visam à melhoria da qualidade ambiental dos núcleos urbanos.

Baseado nas recomendações divulgadas pelo Plano da Arborização de Palmas – mencionado no Art. 129 do Plano Diretor –, assinale a opção que indica a espécie adequada para o plantio em estacionamentos.

- (A) Ficus.
- (B) Brasileirinho.
- (C) Eucalipto.
- (D) Casuarina.
- (E) Ipê branco.

56

A respeito das diretrizes para a gestão dos resíduos sólidos industriais, comerciais, agrossilvopastoris, de serviços de transportes, de mineração, de construção civil e de saúde do município de Palmas, preconizadas pelo seu Plano Diretor, analise as afirmativas a seguir.

- I. Mitigar os efeitos da geração dos resíduos sólidos, mas sem interferir na escala da produção atual, compreendendo ser um ônus inerente à atividade industrial.
- II. Responsabilizar os agentes produtores pelos resíduos gerados em razão dos seus produtos ou dos seus sistemas de produção e suas consequências externalidades negativas.
- III. Controlar os efeitos potencialmente danosos ao meio ambiente e à saúde nas áreas de armazenamento, tratamento e destinação final de resíduos sólidos.

Está correto o que se afirma em

- (A) I, apenas.
- (B) I e II, apenas.
- (C) I e III, apenas.
- (D) II e III, apenas.
- (E) I, II e III.

57

O Plano Diretor de Palmas possui mecanismos para promover o direito social à moradia, por meio da aplicação dos instrumentos urbanísticos cabíveis. Entre esses instrumentos está a regularização fundiária que, a partir da análise de diversos fatores, tem como objetivo final, a incorporação de núcleos urbanos informais consolidados ao tecido urbano legalmente reconhecido.

Sobre as diretrizes para a regularização fundiária presentes no Plano Diretor, assinale a afirmativa correta.

- (A) Reduzir os impactos de núcleos urbanos informais exclusivamente sobre unidades de conservação dos parques estaduais, deixando os parques municipais a critério de legislação específica.
- (B) Priorizar o atendimento à população residente em áreas de risco e áreas de preservação permanente, reservando ao governo federal a incumbência de realocar residentes em imóveis ou áreas insalubres, através de programas sociais com recursos da União.
- (C) Viabilizar a demarcação urbanística e a legitimação da posse, inclusive em área de preservação ambiental, quando presentes os requisitos legais.
- (D) Implementar um processo de participação popular em caráter especial, apenas na etapa final das discussões das ações de regularização fundiária, facultando-se a criação da Comissão de Regularização Fundiária (CRF), se a administração pública assim julgar conveniente.
- (E) Permitir que os assentos informais se desenvolvam de forma orgânica, reservando políticas de monitoramento apenas para casos em que interfiram em áreas de preservação ambiental.

58

A valorização de projetos com soluções baseadas na natureza já contava com experimentações anteriores à década de 1980. Nesse contexto, na Região Amazônica dois nomes se destacaram com uma produção que poderia ser qualificada de *neovernacular* ou tipificada como *regionalismo crítico* (Segawa, 1998).

Assinale a opção que apresenta dois arquitetos proeminentes nesse cenário, autores do projeto do Centro de Proteção Ambiental de Balbina, AM, erguido entre 1984 e 1989.

- (A) Oswaldo Bratke e Lucio Costa.
- (B) Cândido Malta Campos Filho e Luís Carlos Costa.
- (C) João Batista Vilanova Artigas e Paulo Mendes da Rocha.
- (D) Milton Monte e João Castro Filho.
- (E) Severiano Porto e Mário Emílio Ribeiro.

59

Um projetista está desenhando, no programa *AutoCad 2020*, uma divisão interna para uma sala no edifício da ALETO. Após fazer o contorno da nova parede a ser construída, recorreu a um recurso existente no programa para realizar o preenchimento do elemento de modo monocromático.

Assinale a opção que indica a sequência correta de comandos para realizar a operação mencionada.

- (A) Modify > Hatch > Pattern > Solid > Pick Points > Enter.
- (B) Draw > Hatch > Pattern > Solid > Pick Points > Enter.
- (C) Draw > Hatch > Pattern > Gradient > Pick Points > Enter.
- (D) Modify > Hatch > Solid > Pattern > Pick Points > Enter.
- (E) Draw > Hatch > Solid > Pattern > Pick Points > Enter.

60

O *Revit* é um programa que se utiliza da plataforma *BIM* (Modelagem de Informação da Construção), permitindo a reunião de dados de modo estruturado, obtendo-se como resultado um desenho digital integrado a toda uma rede de informações necessárias para o planejamento e execução de um projeto. Um dos comandos básicos do *Revit* está relacionado à inserção de paredes (*Walls*), elementos construtivos de uso frequente na atividade projetual.

Sobre o comando *paredes*, assinale a afirmativa correta.

- (A) A base das paredes não se ajusta automaticamente à base do pavimento onde estão sendo inseridas.
- (B) A opção “cadeia” permite atrelar uma parede a outra.
- (C) As famílias de paredes existentes são: básica, cortina e agregada.
- (D) Integra o *template*, não necessitando ser importado de arquivos externos.
- (E) As paredes têm a propriedade de se ajustar automaticamente aos elementos do tipo forro e telhado.

61

A partir do projeto e dos quantitativos gerados inicia-se a produção do orçamento, documento que fornecerá, com certo grau de precisão, o valor total de gastos incidentes sobre uma empreitada, abrangendo custos diretos e indiretos, acrescidos das despesas indiretas.

Relacione os termos relacionados à elaboração de um orçamento a seguir às suas respectivas definições.

- I. Orçamento analítico
  - II. Orçamento sintético
  - III. BDI
  - IV. Custo unitário
- ( ) Relaciona insumos, coeficientes e consumo.
  - ( ) Abrange a discriminação e especificação técnica dos serviços necessários à execução da obra ou serviço de engenharia.
  - ( ) É uma parcela, expressa em percentual ou valor que, acrescida aos custos operacionais, pode resultar no preço do serviço.
  - ( ) Reúne grupos de serviços, com seus respectivos totais e o preço total do orçamento da obra ou serviço de engenharia.

Assinale a opção que indica a relação correta, segundo a ordem apresentada.

- (A) II – III – IV – I.
- (B) IV – II – III – I.
- (C) IV – I – III – II.
- (D) III – II – IV – I.
- (E) III – I – IV – II.

62

Segundo a Seção IV do Código Municipal de Obras de Palmas, o “habite-se” será concedido a uma edificação após a finalização de sua construção ou reforma, observados os requisitos estipulados pela referida legislação, visando à garantia de habitabilidade dos espaços que a constituem. Dentre essas exigências, encontra-se a vistoria do Corpo de Bombeiros, uma das etapas necessárias para a obtenção do documento.

Não obstante, em relação ao “*Certificado de Conformidade do Corpo de Bombeiros*”, há situações em que não é obrigatória a sua apresentação.

Assinale a opção que indica, corretamente, uma das **exceções** previstas na Lei.

- (A) Edificações destinadas a habitações individuais de até dois pavimentos, desde que a área construída seja inferior a 750,00m<sup>2</sup> (setecentos e cinquenta metros quadrados).
- (B) Poderá ser concedido o habite-se parcial, a critério da prefeitura, quando se tratar de edificações de mais de 1 (um) pavimento, que a estrutura, a alvenaria e o revestimento externo estejam parcialmente concluídos.
- (C) Condomínios horizontais compostos por unidades isoladas de até dois pavimentos, desde que as unidades tenham área construída inferior a 750,00m<sup>2</sup> (setecentos e cinquenta metros quadrados).
- (D) Poderá ser concedido o habite-se parcial, a critério da prefeitura, quando se tratar de edificações de interesse social, em caráter de urgência, ainda que a edificação não preencha integralmente as condições de uso fixadas por este Código.
- (E) Condomínios horizontais compostos por unidades isoladas de até três pavimentos, desde que as unidades tenham área construída inferior a 750,00m<sup>2</sup> (setecentos e cinquenta metros quadrados).

63

No Lago Sul, Carlos vai executar uma obra na cozinha de sua casa e decidiu consultar o Código de Obras de Palmas. Em relação aos revestimentos a serem empregados, assinale a opção que expressa de modo correto o que diz a norma.

- (A) Nas cozinhas, banheiros e sanitários, o revestimento das paredes, até o mínimo 1,50m de altura, bem como o dos pisos, poderá ser em qualquer material, desde que antiderrapante.
- (B) Nas cozinhas, banheiros e sanitários, o revestimento das paredes, até o mínimo 1,20m de altura, bem como o dos pisos, deverá ser de material impermeável e lavável.
- (C) Nas cozinhas, banheiros e sanitários, o revestimento das paredes, até o mínimo 1,20m de altura, bem como o dos pisos, poderá ser em qualquer material, desde que antiderrapante.
- (D) Nas cozinhas, banheiros e sanitários, o revestimento das paredes deverá obrigatoriamente se estender do piso até o teto.
- (E) Nas cozinhas, banheiros e sanitários, o revestimento das paredes, até o mínimo 1,50m de altura, bem como o dos pisos, deverá ser de material impermeável e lavável.

64

Pedro está abrindo uma sorveteria no bairro Taquaralto e deseja instalar uma marquise, resguardando a entrada do estabelecimento. Como a fachada da loja se encontra no alinhamento do logradouro, voltada para o passeio, precisa observar algumas determinações específicas do Código de Obras de Palmas, para a benfeitoria em questão.

Assinale a opção que indica, corretamente, a especificação preconizada para marquises, segundo a norma citada.

- (A) É dispensável o uso de coberturas protetoras, ainda que revestidas de vidro estilhaçável ou de material quebrável.
- (B) Devem ser construídas com a maior parte de seus elementos em material resistente ao fogo, e com alguma resistência à ação do tempo.
- (C) Não deverão apresentar quaisquer de seus elementos estruturais ou decorativos abaixo da cota de 3,00m.
- (D) As marquises da mesma quadra sempre deverão ter altura e balanço uniformes, ainda que o logradouro seja nitidamente em declive.
- (E) No caso de ocultamento de placas de nomenclatura e outras indicações oficiais dos logradouros, o proprietário comunicará à administração pública, que deverá realizar o remanejamento das mesmas, sem ônus para o solicitante.

65

Um arquiteto está fazendo o projeto de reforma de uma casa, com previsão para o acréscimo de mais um quarto para o filho recém-nascido do cliente. O quarto possuirá 3,00m de largura, por 5,00m de comprimento e a janela ficará voltada para o quintal, em um trecho aberto, livre de cobertura.

De acordo com o Código de Obras de Palmas, assinale a opção que indica a área mínima para o vão da janela, para atender aos critérios de iluminação e ventilação em compartimentos de permanência prolongada.

- (A) 2,50m.
- (B) 1,87m.
- (C) 3,75m
- (D) 2,00m.
- (E) 2,25m.

## LEGISLAÇÃO INSTITUCIONAL

66

Nos termos da Constituição do Estado do Tocantins, constitui objeto de lei complementar a seguinte matéria:

- (A) os prazos de prescrição para ilícitos praticados por qualquer agente, servidor ou não, que causem prejuízos ao erário.
- (B) os limites de idade, a estabilidade e outras condições de transferência do servidor militar para a inatividade.
- (C) os casos de contratação por tempo determinado para atender à necessidade temporária de excepcional interesse público.
- (D) as regras para cálculo de proventos de aposentadoria e pensão por morte.
- (E) os requisitos e as restrições ao ocupante de cargo ou emprego da administração direta e indireta que possibilite o acesso a informações privilegiadas.

67

Considerando o exercício da função legislativa por parte da Assembleia Legislativa de Tocantins, nos termos de seu Regimento Interno, é correto afirmar que

- (A) projetos de lei delegada podem se destinar a regular as matérias de exclusiva competência do Poder Executivo, com a sanção do Governador do Estado.
- (B) projetos de resolução podem se destinar a regular, com eficácia de lei ordinária, matéria de competência privativa da Assembleia Legislativa.
- (C) projetos de lei complementar visam regular matéria infraconstitucional.
- (D) projetos de lei têm por objetivo regular matérias de competência do Poder Legislativo, sem a sanção do Governador do Estado.
- (E) projetos de decreto legislativo destinam-se à delegação de competência, na forma estabelecida na Constituição Estadual.

68

Aline, servidora pública estadual, revelou segredo do qual se apropriou em razão do cargo que ocupa. A Administração Pública, ao tomar conhecimento do fato, instaurou procedimento administrativo disciplinar a fim de apurar a conduta e garantir à servidora os princípios da ampla defesa e do contraditório.

À luz do Estatuto dos Servidores Públicos Civis do Estado do Tocantins, caso punida, Aline poderá ser sancionada com

- (A) advertência.
- (B) suspensão.
- (C) prestação de serviço.
- (D) multa.
- (E) demissão.

**69**

Ana, servidora pública efetiva e estável, ocupante de cargo de nível superior, objetivando inteirar-se sobre os requisitos para a progressão na carreira, consultou a Lei nº 4.208/2023, que trata sobre o plano de cargos, carreiras e remuneração dos Servidores da Assembleia de Tocantins.

Assim, para fazer jus à progressão, Ana terá que

- (A) possuir no máximo três faltas injustificadas por exercício referente ao período avaliado.
- (B) obter conceito igual ou superior a 70% (setenta por cento) dos pontos possíveis em todos os procedimentos de sua Avaliação.
- (C) concluir curso de pós-graduação *lato sensu* com duração mínima de 360 (trezentos e sessenta) horas.
- (D) cumprir trinta meses de efetivo exercício na classe em que se encontra.
- (E) concluir cursos de aperfeiçoamento em sua área de atuação que tenha, no mínimo, 80 (oitenta) horas de duração.

**70**

Antônio foi nomeado para o cargo de Controlador Interno da Assembleia Legislativa de Tocantins.

À luz da Lei nº 4.209/2023, que dispõe sobre a estrutura administrativa da Aletto, durante o exercício da função, Antônio será competente para:

- (A) opinar, conclusivamente, em processos de direitos, deveres e obrigações dos servidores do Poder Legislativo.
- (B) constituir Comissão Permanente de Licitação.
- (C) examinar a observância das normas de licitações.
- (D) apresentar à Mesa Diretora o balancete mensal e, no início de cada exercício, o balancete geral das contas da Assembleia Legislativa, relativo ao exercício anterior.
- (E) planejar, coordenar, orientar, controlar e dirigir as atividades administrativas, orçamentárias, financeiras, de comunicação social, de tecnologia de informação e de apoio legislativo da Assembleia Legislativa.



# ASSEMBLEIA LEGISLATIVA DO ESTADO DO TOCANTINS

CONCURSO PÚBLICO – EDITAL Nº 01/2023

## PROVA OBJETIVA – TARDE

### ANALISTA LEGISLATIVO

# AUDITORIA E CONTROLE INTERNO

NÍVEL SUPERIOR – TIPO 1 – BRANCA



#### SUA PROVA

- Além deste caderno contendo **70 (setenta)** questões objetivas, você receberá do fiscal de prova o cartão de respostas;
- As questões objetivas têm **5 (cinco)** opções de resposta (A, B, C, D) e somente uma delas está correta.



#### TEMPO

- Você dispõe de **5 (cinco) horas** para a realização da prova, já incluído o tempo para a marcação do cartão de respostas;
- **3 (três) horas** após o início da prova, é possível retirar-se da sala, sem levar o caderno de questões;
- A partir dos **30 (trinta) minutos** anteriores ao término da prova é possível retirar-se da sala **levando o caderno de questões**.



#### NÃO SERÁ PERMITIDO

- Qualquer tipo de comunicação entre os candidatos durante a aplicação da prova;
- Anotar informações relativas às respostas em qualquer outro meio que não seja o caderno de questões;
- Levantar da cadeira sem autorização do fiscal de sala;
- Usar o sanitário ao término da prova, após deixar a sala.



#### INFORMAÇÕES GERAIS

- Verifique se seu caderno de questões está completo, sem repetição de questões ou falhas. Caso contrário, **notifique imediatamente o fiscal da sala**, para que sejam tomadas as devidas providências;
- Confira seus dados pessoais, especialmente nome, número de inscrição e documento de identidade e leia atentamente as instruções para preencher o cartão de respostas;
- Para o preenchimento do cartão de respostas, use somente caneta esferográfica, fabricada em material transparente, com tinta preta ou azul;
- Assine seu nome apenas no(s) espaço(s) reservado(s) no cartão de respostas;
- Confira seu cargo, cor e tipo do caderno de questões. Caso tenha recebido caderno de cargo ou cor ou tipo **diferente** do impresso em seu cartão de respostas, o fiscal deve ser **obrigatoriamente** informado para o devido registro na ata da sala;
- Reserve tempo suficiente para o preenchimento do seu cartão de respostas. O preenchimento é de sua responsabilidade e **não será permitida a troca do cartão de respostas em caso de erro cometido pelo candidato**;
- Para fins de avaliação, serão levadas em consideração apenas as marcações realizadas no cartão de respostas;
- A FGV coletará as impressões digitais dos candidatos na lista de presença;
- Os candidatos serão submetidos ao sistema de detecção de metais quando do ingresso e da saída de sanitários durante a realização das provas.
- **Boa prova!**

## CONHECIMENTOS BÁSICOS

### Língua Portuguesa

1

Observe o seguinte texto:

*Quando entrei no terrível vagão, ele estava ocupado por duas pessoas. Uma, dobrada, coberta, dormia profundamente. A coberta superior estava manchada, de fundo amarelado, como pele de leopardo. Vendem-se muitas mantas assim nas lojas de artigos de viagens, mas pude notar logo depois que se tratava realmente da pele de um animal selvagem; do mesmo modo, o boné da pessoa adormecida me pareceu ser de feltro branco bastante delicado. O outro viajante, uma aparência simpática, parecia ter passado dos trinta anos e mostrava-se como figura insignificante que passa confortavelmente as noites em estradas de ferro.*

Nesse fragmento textual, para criar sinais de história realista e verdadeira, o narrador apela para a seguinte estratégia:

- (A) seleciona uma situação banal da qual não precisa fornecer muitos detalhes, exatamente por sua banalidade.
- (B) fornece algumas marcas caracterizadoras dos dois personagens presentes no texto, destacando sua banalidade.
- (C) indica traços descritivos do ambiente, mostrando-o como se nada houvesse nele de excepcional.
- (D) mostra detalhes variados e bastante pitorescos dos objetos descritos.
- (E) dá ao leitor informações sobre personagens e ambiente, mostrando-os como bastante conhecidos do narrador.

2

Assinale a frase que mostra a palavra *mais* numa classe gramatical **diferente** das demais.

- (A) O mercado está prisioneiro de mais um círculo vicioso: piora porque piorou e porque piorou, piora.
- (B) Os ingleses conquistaram o mundo porque não aguentavam mais a própria cozinha.
- (C) Quanto mais vejo o estrangeiro, mais amo a minha pátria.
- (D) Não é mais possível aprender tudo de cor. Um homem instruído não é mais o homem que sabe muitas coisas; é o homem que sabe onde buscar informações.
- (E) Muda-se mais facilmente de religião do que de café

3

As frases a seguir mostram termos ligados pela conjunção OU.

Assinale a frase em que essa conjunção mantém o valor de alternativa (e não de adição).

- (A) João ou Pedro deve ser eleito presidente da empresa.
- (B) A alegria ou a tristeza fazem parte da vida.
- (C) Inglês ou francês são idiomas falados pelos turistas
- (D) Os clientes leem livros ou revistas enquanto esperam.
- (E) Vasco ou Flamengo são times de longa tradição.

4

Um guitarrista americano produziu o seguinte pensamento:

*O crítico de rock é alguém que não sabe escrever, entrevistando gente que não sabe falar, para gente que não sabe ler.*

Sobre a estruturação ou a significação desse pequeno texto, assinale a afirmativa **incorreta**.

- (A) O termo “de rock” funciona como complemento nominal do termo anterior.
- (B) Todos os elementos da cadeia comunicativa citados no texto são marcados pela ignorância.
- (C) O pensamento acima revela um preconceito fortíssimo contra os amantes de rock.
- (D) A opinião expressa no texto pode advir da experiência pessoal do autor, já que se trata de um guitarrista.
- (E) A injustiça desse texto provém de ser uma opinião fundamentada em uma autoridade duvidosa.

5

John Steinbeck, prêmio Nobel, declarou o seguinte:

*O homem é o único animal que bebe sem ter sede, come sem ter fome e fala sem ter nada a dizer.*

Em relação ao significado e à estruturação desse pequeno texto, assinale a afirmativa **incorreta**.

- (A) A frase ficaria mais enfática se invertêssemos a posição do termo inicial: O único animal que bebe sem ter sede, come sem ter fome e fala sem ter nada a dizer é o homem.
- (B) A inversão de alguns segmentos do texto em nada modificaria o sentido da frase: O homem é o único animal que come sem ter fome, bebe sem ter sede e fala sem ter nada a dizer.
- (C) Os segmentos finais do texto mostram preocupação com rigoroso paralelismo sintático.
- (D) Segundo a opinião do autor do texto, a marca principal do homem é a irracionalidade.
- (E) Nem todas as ações citadas como marcas humanas estão presentes, por oposição, nos outros animais.

6

Assinale a frase que **não** expressa uma noção de tempo abstrato.

- (A) Nas asas do tempo, a tristeza voa.
- (B) Quem mata o tempo não é assassino, é suicida.
- (C) O tempo perdido não se encontra nunca mais.
- (D) O tempo é o melhor professor. Infelizmente, ele mata todos os seus estudantes
- (E) O tempo gasto na viagem foi de duas horas.

7

Assinale a frase em que a utilização do acento grave indicativo da crase é realizada de forma **errada**.

- (A) Jamais alguém se arrependeu de ter-se acostumado à madrugada e à ter-se casado jovem.
- (B) Tempo é o suspiro de adeus do sol à terra.
- (C) Saio todos os dias às cinco horas e não permito que o meu trabalho interfira no meu jogo de tênis.
- (D) O momento de extrair uma lição da história está sempre à mão para os sábios.
- (E) Quando assumi, quatro anos atrás, estávamos à beira do precipício.

8

Os adjetivos podem representar estados, qualidades, características e relações.

Assinale a frase que mostra um tipo de adjetivo **diferente** dos demais.

- (A) Nunca houve criança tão amável que a própria mãe não ficasse satisfeita ao conseguir adormecê-la.
- (B) Nada mais perversamente cruel que uma adorável criança.
- (C) Mesmo estando doentes, as crianças não ficam caladas.
- (D) Quando as crianças estão quietas é porque fizeram alguma coisa errada.
- (E) As tangerinas verdes não amadurecem fora do pé.

9

Assinale a frase em que o adjetivo sublinhado mostra uma função sintática **diferente** das demais.

- (A) Por fora bela viola, por dentro pão **bolorento**.
- (B) Tiradentes, **heroico**, tentou organizar uma revolução.
- (C) Um rosto **bonito** altera-se depressa.
- (D) Eu não podia acreditar que existem múmias tão **lindas**.
- (E) Um homem belo é um homem **insignificante**.

10

Assinale a opção que mostra uma impropriedade léxica, ou seja, um emprego **inadequado** da expressão “cerca de”.

- (A) Havia cerca de três dúzias de convidados no final da festa.
- (B) Chegaram cerca de 100 cartas no mesmo dia.
- (C) Cerca de 18 lojas fecharam as portas mais cedo.
- (D) Os cantores receberam cerca de uma centena de convites.
- (E) A plantação produziu cerca de uma tonelada de legumes.

11

Muitas palavras portuguesas mostram o prefixo A- sem qualquer valor semântico, sendo equivalentes ao mesmo vocábulo sem esse prefixo.

Assinale a palavra a seguir que exemplifica esse A protético.

- (A) amostrar
- (B) abraçar
- (C) atenuar
- (D) aguardar
- (E) aparar

12

Observe o seguinte texto:

*A felicidade depende da habilidade que tenhamos naquelas atividades que consideramos importantes: somente se lhes damos um real valor aos pequenos detalhes cotidianos, poderemos ter instantes felizes. A felicidade absoluta não existe, e já que só podemos acessar os pequenos detalhes daquilo que nos interessa, devemos contentar-nos com isso. Por isso, a infelicidade é um sinal claro de nossa incompetência na arte de viver.*

Sobre a estrutura e a significação desse texto, assinale a afirmativa **inadequada**.

- (A) O tema do texto gira em torno do que consiste a felicidade e o que viria a ser o seu oposto.
- (B) A afirmação de que “A felicidade absoluta não existe” é de cunho pessoal do autor do texto, representando uma opinião.
- (C) O raciocínio utilizado na estruturação argumentativa é do tipo dedutivo.
- (D) O conector “Por isso” mostra a preocupação com o caráter lógico da argumentação.
- (E) A tese do texto é a de que a infelicidade é fruto de nossa incompetência na arte de viver.

## Raciocínio Lógico Matemático

13

Certo programa de rádio tem 1 hora e 55 minutos de duração. A partir do momento em que o programa é iniciado, há blocos temáticos de 7 minutos intercalados por blocos de propagandas de 2 minutos.

Em todos os blocos de propaganda, ouve-se o comercial do restaurante R, que sempre dura 18 segundos.

Se o programa começa e termina com um bloco temático, então, o tempo total do programa dedicado ao anúncio do restaurante R é

- (A) 3 minutos e 54 segundos.
- (B) 3 minutos e 36 segundos.
- (C) 3 minutos e 18 segundos.
- (D) 3 minutos.
- (E) 2 minutos e 48 segundos.

14

A linha de produção de certa fábrica produz 1100 latas de sardinhas a cada hora. Certo dia, por um defeito de calibragem do sistema, entre 13h e 14h, o volume de produção foi reduzido em 30% durante exatos 12 minutos.

A quantidade de latas de sardinhas produzidas no intervalo supracitado foi

- (A) 946.
- (B) 964.
- (C) 1022.
- (D) 1034.
- (E) 1046.

15

Marcelo está parado de frente para uma das paredes de uma sala quadrada. Nesta posição, ele está a 1m e 20cm da parede que se encontra à sua direita e a 1m e 70cm da parede que está às suas costas.

Ele, então, se desloca paralelamente às paredes da sala sendo 40cm para a frente e 80cm para a direita. Nessa nova posição, ele passou a distar 1m e 90cm da parede que antes estava à sua esquerda.

Desprezando-se as dimensões de Marcelo, a sua atual distância à parede que, antes dos movimentos, estava à sua frente, é

- (A) 20cm.
- (B) 30cm.
- (C) 40cm.
- (D) 50cm.
- (E) 60cm.



**16**

Um dado é dito comum quando tem a forma de um cubo e suas 6 faces são numeradas de 1 a 6, de tal forma que a soma dos números estampados em faces opostas, quaisquer que sejam elas, sempre somam 7.

Quando um dado comum é lançado, diz-se que o resultado do lançamento é o número estampado na face voltada para cima.

Um dado foi lançado 3 vezes seguidas. Se o produto dos resultados obtidos nos lançamentos vale 75, a soma desses resultados é igual a

- (A) 12.
- (B) 13.
- (C) 14.
- (D) 15.
- (E) 16.

**17**

Em certo ano, o dia 1º de agosto cai em um domingo. Logo, o dia 1º de novembro cairá em

- (A) um sábado.
- (B) um domingo.
- (C) uma segunda-feira.
- (D) uma quarta-feira.
- (E) uma sexta-feira.

**18**

Considere a seguinte proposição condicional:

*Se todos os alunos da Escola Aristarco gostam de matemática, então, ao menos um deles ganha medalha na Olimpíada Nacional de Matemática.*

Se essa proposição é verdadeira, é correto afirmar que

- (A) se nenhum dos alunos da Escola Aristarco gosta de Matemática, então nenhum deles ganha medalha na Olimpíada Nacional de Matemática.
- (B) se todos os alunos da Escola Aristarco ganham medalha na Olimpíada Nacional de Matemática, então, todos esses alunos gostam de Matemática.
- (C) se algum aluno da Escola Aristarco ganha medalha na Olimpíada Nacional de Matemática, então todos esses alunos gostam de Matemática.
- (D) se nenhum aluno da Escola Aristarco ganha medalha na Olimpíada Nacional de Matemática, então nenhum desses alunos gosta de Matemática.
- (E) se nenhum aluno da Escola Aristarco ganha medalha na Olimpíada Nacional de Matemática, então algum desses alunos não gosta de Matemática.

**19**

Em uma caixa, há muitas canetas esferográficas. Classificadas conforme a cor, elas podem ser azuis, vermelhas ou pretas. Classificadas quanto à espessura da esfera, elas podem ser de ponta fina ou de ponta grossa.

Metade das canetas vermelhas tem a ponta grossa. A quantidade total de canetas pretas é igual à quantidade total de canetas vermelhas. Entre as canetas de ponta grossa, a quantidade de azuis é igual à de pretas. A quantidade de canetas azuis com ponta fina é o dobro da quantidade de canetas pretas de ponta grossa.

Se, nessa caixa, 18 são azuis e 20 têm ponta grossa, então a quantidade total de canetas na caixa é

- (A) 30.
- (B) 40.
- (C) 48.
- (D) 50.
- (E) 52.

**20**

Tucídides possuía uma dívida e, em vez de quitá-la, pagou apenas 20% do seu valor, deixando o restante para ser quitado em data futura, com acréscimo de 12% a título de juros sobre o saldo devedor.

No ato de quitação, Tucídides pagou R\$2.329,60. Logo, o valor original da dívida é o resultado da seguinte expressão:

(A)  $2.329,60 \times 0,88 - 20$

(B)  $\frac{2.329,60}{0,88} \times 1,20$

(C)  $\frac{2.329,60}{1,12} \times 1,20$

(D)  $\frac{2.329,60}{1,12 \times 1,20}$

(E)  $\frac{2.329,60}{1,12 \times 0,8}$

**21**

As filhas de Nepomuceno têm 5 e 9 anos de idade. Ele dividirá R\$420,00 entre elas de forma inversamente proporcional às suas idades.

Logo

- (A) a mais nova receberá R\$120,00 a mais que a mais velha.
- (B) a mais nova receberá R\$150,00 a mais que a mais velha.
- (C) a mais nova receberá R\$270,00 a mais que a mais velha.
- (D) a mais velha receberá R\$120,00 a mais que a mais nova.
- (E) a mais velha receberá R\$150,00 a mais que a mais nova.

**22**

A negação da proposição:

$$\text{Se } y \neq 0, \text{ então } x > 2 \text{ e } x \leq 5$$

é dada por

- (A) Se  $y = 0$ , então  $x > 2$  e  $x \leq 5$
- (B) Se  $y = 0$ , então  $x < 2$  ou  $x \geq 5$
- (C)  $y = 0$  e  $x \leq 2$  ou  $x > 5$
- (D)  $y \neq 0$  e  $x \leq 2$  ou  $x > 5$
- (E)  $y \neq 0$  e  $x \leq 2$  e  $x > 5$

## Atualidades

23

De acordo com o censo demográfico de 2022 (IBGE), mais da metade da população brasileira (51,13%) é feminina, e elas representam, segundo o Tribunal Superior Eleitoral, 53% do eleitorado. No entanto, elas ocupam, hoje, menos de 15% dos cargos eletivos.

A respeito da baixa participação das mulheres na política, assinale a afirmativa que apresenta um dispositivo existente na legislação brasileira para alterar esse cenário.

- (A) Reserva de pelo menos 50% dos recursos do Fundo Especial de Financiamento de Campanha, o Fundo Eleitoral, para financiar candidaturas femininas.
- (B) Suspensão dos direitos eleitorais aos partidos em caso de não observância do percentual de pelo menos 30% de candidatas mulheres em cada ciclo eleitoral
- (C) Reserva de assentos, em ambas as casas legislativas, para mulheres, com preferência para as representantes de povos originários.
- (D) Cota de gênero, que obriga cada partido ou coligação a preencher o mínimo de 30% e o máximo de 70% de candidaturas de cada sexo.
- (E) Repasse de até 30% dos recursos dos Fundos Partidário para custear o tempo da propaganda eleitoral gratuita de candidatas em rádio e televisão.

24

A França se tornou o primeiro país do mundo a incluir na Constituição a liberdade de a mulher abortar. A mudança na Carta Magna foi aprovada em uma sessão conjunta das duas Casas legislativas, a Assembleia Nacional e o Senado, e será promulgada pelo presidente Emmanuel Macron ainda em março de 2024.

Adaptado de <https://www1.folha.uol.com.br/mundo/2024/03/>

Diferentemente da França, a legislação brasileira

- (A) equipara o aborto ao infanticídio.
- (B) considera o aborto uma prática ilegal em todas as situações.
- (C) descriminaliza a interrupção da gravidez em caso de deficiência da gestante.
- (D) estabelece um limite temporal para interromper a gravidez, desde que respaldada por laudo médico.
- (E) autoriza a interrupção de gestação em caso de não haver outro meio de salvar a vida da gestante.

25

Desde os anos 2000, o interior do Brasil ultrapassou o litoral na incidência de dengue. A região costeira que vai de Santos, em São Paulo, até Belém, no Pará, apresentava tipicamente maior proporção de casos de dengue em comparação com sua população. Entretanto, recentemente, o oeste do Paraná, o oeste de Santa Catarina o oeste de São Paulo, o interior de Minas Gerais, uma parte do Tocantins, o Goiás e o Mato Grosso do Sul viram a transmissão da doença aumentar e muitas de suas cidades foram obrigadas a decretar emergência.

Adaptado de <https://www.estadao.com.br>

A respeito dos fatores relacionados ao aumento e à interiorização dos casos de dengue no Brasil, analise as afirmativas a seguir.

- I. A maior frequência de períodos com temperaturas acima da média, inclusive com ondas de calor no período invernal em todo território, tem reforçado o padrão sazonal da doença.
- II. A expansão urbana desvinculada de melhoras nos serviços sanitários tem propiciado a formação de ilhas de calor e, portanto, uma alta na incidência da dengue.
- III. O desmatamento do cerrado, convertido em pasto, por exemplo, tem contribuído para aumentar a temperatura média e o número de casos da doença no interior do Brasil.

Está correto o que se afirma em

- (A) I, apenas.
- (B) I e II, apenas.
- (C) I e III, apenas.
- (D) II e III, apenas.
- (E) I, II e III.

26

As afirmativas a seguir descrevem corretamente o desempenho da economia brasileira em 2023, à exceção de uma. Assinale-a.

- (A) A expansão econômica ampliou a geração de empregos informais, em um contexto recessivo e de flexibilização das leis trabalhistas.
- (B) O dinamismo da economia foi marcado pelo aumento de exportações, no setor agrícola, e da demanda, no setor de serviços, em função da alta no consumo das famílias.
- (C) A alta progressiva nas cotações internacionais de commodities acelerou o ritmo das exportações, mesmo em um cenário cambial desfavorável para os exportadores.
- (D) A retração do Brasil no mercado regional e internacional ocorreu em função da maior competitividade dos produtos agrícolas argentinos e pela retomada da economia chinesa.
- (E) A persistência do alto nível da inflação foi ocasionada pela alta da cesta básica, sobretudo dos alimentos, cujas safras foram afetadas pelas condições climáticas adversas.

## 27

Em 2024, o Tribunal Superior Eleitoral (TSE) aprovou uma resolução para regulamentar o uso da inteligência artificial (IA) durante as eleições municipais a serem realizadas em outubro. A norma proíbe manipulações de conteúdo falso para criar ou substituir imagem ou voz de candidato com objetivo de prejudicar ou favorecer candidaturas. Também foi aprovada a restrição do uso de chatbots humanizados e avatares para intermediar a comunicação das campanhas com pessoas reais nas redes sociais.

Adaptado de <https://agenciabrasil.ebc.com.br/>

A resolução sobre IA objetiva

- (A) coibir a produção e circulação de *deepfakes*.
- (B) restringir o uso de ferramentas de IA simbólica.
- (C) retomar a veiculação de propagandas eleitorais em mídias tradicionais, como rádio e televisão.
- (D) proibir o uso de ferramentas de coleta e seleção em bases de dados com fins eleitorais.
- (E) limitar o uso de assistente virtual programado por AI para divulgação do programa partidário.

## 28

Assinale a afirmativa que descreve corretamente um aspecto do panorama global da economia em 2023.

- (A) Nos Estados Unidos, a economia foi alavancada pela adoção de uma política de ampliação do crédito e baixa da taxa de juros.
- (B) Na China, o PIB cresceu acima do esperado, em um cenário marcado pela retomada econômica pós pandemia, inclusive no setor imobiliário.
- (C) Na Zona do Euro, a alta dos preços da energia pesou nas despesas familiares e no setor industrial, confirmando a manutenção de um quadro de crise.
- (D) Na Rússia, o PIB decresceu, em função do impacto prolongado da guerra com a Ucrânia e dos embargos à venda de petróleo e gás russos.
- (E) Na América do Sul, foi mantido um caminho geral de crescimento, apoiado por investimentos externos e pela intensificação de políticas estatistas.

## 29

Um supercomputador consiste em milhares de pequenos computadores chamados nós. Cada nó é equipado com sua própria memória e com vários processadores. Atuando em conjunto, eles são capazes de realizar cálculos extremamente complexos em elevada velocidade. Hoje, o maior supercomputador da América Latina é o Pégaso, da Petrobras, com 678 TB de memória RAM e mais de 233 mil núcleos.

Adaptado de <https://revistapesquisa.fapesp.br>

A respeito do poder computacional de alto desempenho dos supercomputadores, analise as afirmativas a seguir e assinale (V) para a verdadeira e (F) para a falsa.

- ( ) Essas máquinas são instrumentos valiosos de pesquisa e de suporte a setores da economia como defesa, energia e saúde, permitindo a resolução de problemas complexos em menor tempo.
- ( ) Esses equipamentos permitem realizar tarefas que exigem altíssimos níveis de processamento, como simulações da formação do universo ou modelagem molecular para novos fármacos.
- ( ) Esses aparelhos trabalham em alta velocidade de processamento pelo somatório de diversos núcleos, o que potencializa a velocidades do processador, medidas em gigahertz (GHz).

As afirmativas são, respectivamente,

- (A) V – V – F.
- (B) V – F – V.
- (C) F – V – F.
- (D) F – V – V.
- (E) V – V – V.

## 30

No início do ano corrente, a Petrobras anunciou ter alcançado em 2023 o segundo maior valor de lucro líquido de sua história. Mesmo assim, suas ações caíram no mercado financeiro, em função da disputa sobre os dividendos.

A respeito dos resultados financeiros da Petrobrás nos últimos anos e da política de distribuição de dividendos da empresa, assinale a afirmativa correta.

- (A) A Petrobras é uma empresa estatal de economia mista que monopoliza a indústria petroleira no Brasil.
- (B) A Petrobras é uma estatal administrada diretamente por órgãos governamentais que controlam o valor das suas ações.
- (C) A Petrobras direciona parte dos dividendos para investidores privados, e outra parte para o governo federal, que controla a empresa via Tesouro e BNDES.
- (D) A Petrobras, sob o Governo Bolsonaro, reduziu o pagamento de dividendos a acionistas privados para reinvesti-los em energia renovável.
- (E) A Petrobras, no atual governo, vendeu ativos e distribuiu o lucro e os valores recordes de dividendos entre seus acionistas para financiar projetos do BNDES.

31

Dados da última década mostram que, em relação aos Estados, o Pará é o que apresenta o maior número de registros de resgates de trabalho análogo à escravidão, com 9.853, seguido por Mato Grosso (4.302); Tocantins (2.896); São Paulo (1.529) e Rio de Janeiro (1.653), em 2017.

Adaptado de <https://www.jota.info/justica/em-14-anos-434-mil-foram-resgatados-de-trabalho-escravo-30102017>

A respeito da definição moderna de escravidão, analise as afirmativas a seguir.

- I. Em Tocantins, a maior incidência de escravidão moderna ocorre na zona rural, associada a atividades agropecuárias e ao extrativismo mineral, como nas carvoarias, por exemplo.
- II. A Organização Internacional do Trabalho determina a condição de escravidão por uma série de componentes, como o trabalho forçado análogo ao de escravo e o casamento forçado.
- III. Pessoas obrigadas a trabalhar por dívida ou por ameaça, sem direitos trabalhistas garantidos estão em situação de escravidão, uma vez que lhes é impedida a liberdade de ir e vir.

Está correto o que se afirma em

- (A) I, apenas.
- (B) I e II, apenas.
- (C) I e III, apenas.
- (D) II e III, apenas.
- (E) I, II e III.

32

Energia gerada por recursos naturais renováveis que, no Brasil, provém da lenha, carvão vegetal, carvão mineral, bagaço de cana e outros resíduos combustíveis. Essa energia é a matéria orgânica vegetal ou animal usada como fonte de energia limpa e sustentável.

O trecho descreve o seguinte componente importante do desenvolvimento sustentável:

- (A) compostagem.
- (B) biodiversidade.
- (C) créditos de carbono.
- (D) ciclo de vida.
- (E) biomassa.

## História e Geografia do Estado de Tocantins

33

Leia a descrição de uma classe de vegetação presente no estado do Tocantins, a seguir.

*Esta vegetação, também conhecida como floresta pluvial tropical, é caracterizada por árvores de porte elevado, além de trepadeiras lenhosas e epífitas (bromélias e orquídeas, por exemplo) em abundância, o que a diferencia de outras classes de formação vegetal. Sua característica ecológica principal é estar presente em ambientes de chuvas abundantes, como na parte noroeste do Estado, onde as temperaturas médias são de 25°C e os elevados índices de precipitação estão bem distribuídos ao longo do ano.*

Adaptado de Luís Antônio G. C. Silva. *Biomias presentes no Estado do Tocantins*. Brasília: Câmara dos Deputados, 2007, p. 4.

O trecho caracteriza a região conhecida como Floresta

- (A) Estacional Semidecidual.
- (B) Tropical Subcaducifólia.
- (C) de Mata Atlântica.
- (D) Ombrófila Densa.
- (E) Temperada Decidual.

34

Comparando dados dos censos do IBGE, pode-se elaborar um retrato da evolução demográfica da população residente no Estado de Tocantins. O grupo na faixa etária de 0 a 14 representava 41,7% da população em 1991, 28,8% em 2010, e passou para 24% em 2022. A população acima de 65 anos era de 3,8% em 1991 e 5,8% em 2010, e ficou em 8,6% em 2022. O censo de 2022 mostrou ainda que a faixa etária de 15 a 29 anos representa 15% da população e que 41% da população é composta por pessoas de 30 a 59 anos.

Com base no trecho, assinale a opção que apresenta a dinâmica populacional do Tocantins entre 1991 e 2022.

- (A) Expansão da base da pirâmide etária.
- (B) Diminuição da taxa de fecundidade.
- (C) Estreitamento do topo da pirâmide.
- (D) Aumento da idade mediana.
- (E) Redução do índice de envelhecimento.

35

*Foram inegáveis os desdobramentos socioeconômicos sobre o antigo Norte Goiano fruto da construção da rodovia BR-153, a partir do final da década de 1950. O novo urbanismo da Belém-Brasília trouxe enorme impacto no que se refere ao conjunto de cidades que existiam às margens do rio Tocantins, aos fluxos migratórios e às atividades econômicas da região.*

Adaptado de AQUINO, N. *Tocantins: cidades e urbanismo em três modelos históricos*. In: III Encontro da ANPPAS. Brasília, 2006, p. 8.

As afirmativas a seguir descrevem corretamente impactos da rodovia BR-153 no processo de territorialização do Tocantins, **à exceção de uma**. Assinale-a.

- (A) A rodovia foi construída no governo Kubitschek, em um contexto desenvolvimentista que considerava a expansão rodoviária como um meio para integrar econômica e territorialmente as regiões do país, inclusive o norte goiano que, então, vivia uma situação de abandono.
- (B) A rodovia Belém-Brasília teve grande importância para a urbanização do atual Tocantins, o que é exemplificado pela quantidade de novas cidades criadas após a sua construção, como Araguaína, Gurupi, Paraíso do Tocantins, Colinas do Tocantins e Guaraí.
- (C) A construção da BR-153 alavancou também os municípios ribeirinhos, pois a navegação fluvial foi intensificada para abastecer as obras em curso, o que transformou esses municípios em satélites econômicos da nova malha urbana instalada ao longo da rodovia.
- (D) Após a abertura da rodovia, as principais áreas que receberam fluxos migratórios foram a Microrregião de Gurupi – Gurupi e a Microrregião de Porto Nacional – Palmas, para onde se dirigiram pessoas interessadas em trabalhar na construção civil, nos serviços e no comércio, entre outros.
- (E) A BR-153 permitiu interligar o norte de Goiás, atual Estado do Tocantins, a outras localidades do país, facilitando o escoamento da produção e o acesso a produtos para a região, promovendo o fluxo de mercadorias e serviços.

36

O Memorial Coluna Prestes (2001) é uma obra do arquiteto Oscar Niemeyer localizada na Praça dos Girassóis, no centro de Palmas (TO).



Fonte: <https://central.to.gov.br/image/1461457f=1>

A respeito da relação entre essa obra e a constituição de uma memória histórica para o Estado do Tocantins, analise as afirmativas a seguir.

- I. O monumento refere-se à Coluna Prestes, que percorreu o Brasil para divulgar seu programa revolucionário entre 1924 e 1927, tendo passado pelo Norte do então Estado de Goiás (atual Tocantins) durante seu percurso.
- II. A obra foi realizada em concreto e apresenta curvas sinuosas, características próprias do Barroco das cidades mineradoras, estabelecendo visualmente uma continuidade entre o Barroco do passado das cidades mineradoras e o presente do Tocantins.
- III. A construção do memorial permite inserir simbolicamente a história do Tocantins nos grandes processos da história republicana nacional, e homenagear o Tenente Antônio de Siqueira Campos, cujo sobrenome é homônimo ao do ex-governador do Estado.

Está correto o que se afirma em

- (A) I, apenas.
- (B) I e II, apenas.
- (C) I e III, apenas.
- (D) II e III, apenas.
- (E) I, II e III.

**37**

Até 1988, o território que hoje corresponde ao Estado do Tocantins pertencia ao antigo norte de Goiás e à Região Centro-Oeste, tendo como capital política a cidade de Goiânia. Com a emancipação política, da noite para o dia, as pessoas amanheceram tocantinenses, mas sem referências culturais que as representassem como tais.

A respeito da projeção simbólica do novo Estado e de sua nova capital, assinale a opção que interpreta corretamente o processo de construção e atribuição de uma identidade ao Tocantins.

- (A) Desde o primeiro mandato do governador Siqueira Campos, os símbolos oficiais do Tocantins continuaram sendo o brasão de armas, a bandeira, o selo estadual e a canção "Hino ao Tocantins", de Liberato Costa Póvoa e Abiezer Alves da Rocha.
- (B) O girassol foi reconhecido oficialmente como símbolo da natureza do Estado, por ser uma planta nativa dos cerrados tocantinenses e estar associada à prosperidade e à esperança.
- (C) A Praça dos Girassóis, centro cívico de Palmas, foi concebida para receber edifícios esteticamente associados à cultura do Tocantins, como o Palácio do Araguaia, cujos pórticos remetem ao capim dourado, símbolo da tradição do artesanato de alta qualidade da região.
- (D) A monumentalidade da Praça dos Girassóis é enfatizada pelo seu pavimento, que contém figuras simbólicas como o mapa do Tocantins, a rosa dos ventos, o brasão de armas e a Praça Krahô.
- (E) O meio ambiente também foi utilizado para fortalecer o sentimento identitário, inserindo o girassol, a fava-de-bolota, a arara-canindé e a granada como símbolos da natureza do Tocantins, desde a promulgação da Constituição Estadual em 1989.

**38**

A respeito da matriz energética do Estado e dos investimentos em biocombustíveis, analise as afirmativas a seguir e assinale (V) para a verdadeira e (F) para a falsa.

- ( ) O Estado tem condições de clima e solo desfavoráveis para o plantio de matérias-primas usadas na fabricação de biocombustíveis, mas a expansão do modal logístico (Ferrovia Norte-Sul) permitirá o acesso à soja do planalto goiano.
- ( ) O Tocantins conta com duas usinas de biodiesel em funcionamento, utilizando o pinhão-manso, a soja, a mamona e outras oleaginosas como matéria-prima.
- ( ) O Estado tem alto potencial de geração de energia solar, pela elevada irradiação solar e pelas políticas públicas voltadas para produção de energia limpa e renovável, como a Política Estadual de Incentivo à Geração e ao Uso da Energia Solar (Pró-Solar)

As afirmativas são, respectivamente,

- (A) V – F – V.  
 (B) F – V – V.  
 (C) F – F – V.  
 (D) V – V – F.  
 (E) V – V – V.

**39**

*As belas paisagens como serras, cachoeiras, praias e até mesmo dunas, fazem do Tocantins um paraíso de paisagens naturais, atraindo turistas de várias regiões para conhecer o mais novo Estado brasileiro. A potencialidade para o ecoturismo e a preocupação em conservar a biodiversidade e recursos naturais nele contidos fez com que o Governo do Estado, criasse e implementasse as Unidades de Conservação Ambiental (UC).*

Adaptado de <https://www.to.gov.br/secom/>

A respeito das Unidades de Conservação (UC) do Tocantins, assinale a afirmativa correta.

- (A) São espaços territoriais legalmente instituídos pelo poder público e podem ser de proteção integral federal, como no caso dos Parques Cantão, Jalapão e Lajeado.
- (B) As UCs federais estão subordinadas ao Instituto Chico Mendes de Conservação da Biodiversidade (ICMBio), como no caso do Monumento Natural das Árvores Fossilizadas.
- (C) As UCs estaduais estão subordinadas ao Instituto Natureza do Tocantins (Naturatins), que supervisiona o Parque do Araguaia e o das Nascentes do rio Parnaíba.
- (D) As UCs de uso sustentável são compostas exclusivamente por áreas públicas, sendo permitida sua utilização apenas para o ecoturismo, pesquisa e educação ambiental.
- (E) As UCs municipais estão subordinadas às secretarias de meio ambiente, como no caso do Monumento Natural dos Cânions e Corredeiras do Rio Sono e do Parque Ecológico Roberto Guedes Pereira.

**40**

O Estado do Tocantins possui diversas comunidades quilombolas certificadas e outras com processo formalizado para regularização fundiária de seus territórios. A definição de comunidade quilombola é dada pelo Art. 2º do Decreto nº 4.887/2003:

*Consideram-se remanescentes das comunidades dos quilombos, para os fins deste Decreto, os grupos étnico-raciais, segundo critérios de auto-atribuição, com trajetória histórica própria, dotados de relações territoriais específicas, com presunção de ancestralidade negra relacionada com a resistência à opressão histórica sofrida.*

A respeito dos órgãos e processos envolvidos na identificação e regularização de territórios quilombolas no Estado do Tocantins, assinale a afirmativa correta.

- (A) O acesso dessas comunidades às políticas públicas de educação, saúde, moradia e regularização fundiária depende de o Estado emitir uma certidão de identificação de comunidade quilombola, mediante Fundação Palmares.
- (B) Os critérios para reconhecimento de um grupo enquanto remanescente de quilombo depende da comprovação de sua ancestralidade, seu parentesco e da preservação viva de religiosidades autenticamente africanas.
- (C) A Coordenação Nacional de Articulação de Comunidades Negras Rurais Quilombolas (CONAQ) luta pela incorporação constitucional do direito à autodefinição dos remanescentes de quilombos.
- (D) A certificação quilombola é realizada pela Fundação Cultural Palmares, que avalia com visitas técnicas a autenticidade do legado quilombola pretendido e, caso o aprove, emite a certidão de comunidade quilombola e a inscreve em um cadastro geral.
- (E) O acesso às terras ocupadas pelos remanescentes das comunidades dos quilombos é garantido por sua delimitação e titulação, a cargo da autoridade municipal em que a mesma se localiza.

## CONHECIMENTOS ESPECÍFICOS

41

Quanto ao controle da Administração Pública, assinale a afirmativa correta.

- (A) Uma das características do controle da Administração Pública no Brasil é a sua codificação, o que conduz a maior integração entre sistemas.
- (B) O controle da Administração Pública decorre da formação do Estado democrático de direito e visa restringir excessos daqueles que operam a máquina estatal.
- (C) Um dos princípios que alicerçam o controle da Administração Pública é a disponibilidade do interesse público.
- (D) O controle da atividade estatal ocorre por provocação, carecendo da iniciativa do particular para retirar-lhe da inação ou de parlamentar no exercício da função fiscalizatória.
- (E) O princípio da prestação de contas, que cinge o controle estatal, abrange os gestores públicos e os órgãos da Administração Pública, não cabendo ao particular que atua junto à Administração.

42

Quanto aos tipos e formas de controle assinale a afirmativa **incorreta**.

- (A) O controle exercido por uma Secretaria de Estado em uma autarquia a ela associada revela-se como controle por subordinação.
- (B) O exame da modelagem econômica que embasará edital de concessão de serviços públicos a ser elaborado pela Administração revela-se como controle prévio.
- (C) A apresentação de denúncia por cidadão ao Tribunal de Contas com anúncio de irregularidades, devidamente embasadas em evidência, caracteriza-se como controle por provocação.
- (D) A apresentação de denúncia por cidadão ao Tribunal de Contas com anúncio de irregularidades, devidamente embasadas em evidência, caracteriza-se como exercício de controle social.
- (E) O controle do mérito administrativo a partir de parâmetros de proporcionalidade e de razoabilidade revela-se como controle de legalidade.

43

*O Governo do Estado recebeu recursos federais mediante convênio para a execução de programa habitacional, cabendo por fim, prestar contas dos recursos utilizados, bem como daqueles não aplicados na política pública.*

Com base na situação descrita, assinale a afirmativa **incorreta**.

- (A) A aferição do cumprimento do plano de trabalho do convênio é exemplo de exercício de controle de índole interna.
- (B) A execução do convênio poderá ser objeto de fiscalização por órgão de controle interno.
- (C) A execução do convênio poderá ser objeto de fiscalização por órgão de controle externo.
- (D) Órgão de controle externo poderá propor sanções por irregularidades verificadas na apreciação das prestações de contas de convênio.
- (E) Órgão de controle externo deverá elaborar prestação de contas da utilização pelo órgão jurisdicionado dos recursos do convênio.

44

Analise as afirmativas a seguir e as classifique como controle administrativo (1), parlamentar (2) ou judicial (3).

- ( ) Seus contornos estão definidos no texto constitucional e é exercido por mandatários de cargo eletivo sobre os atos da Administração Pública.
- ( ) Visa a correção ou a alteração do comportamento administrativo em decorrência do poder de autotutela.
- ( ) Atua somente por provocação e a ele compete a resolução de litígios de forma definitiva.

Assinale a opção que indica a relação correta, na ordem apresentada.

- (A) 1 – 3 – 2.
- (B) 1 – 2 – 3.
- (C) 2 – 3 – 1.
- (D) 2 – 1 – 3.
- (E) 3 – 1 – 3.

45

Quanto ao Controle Legislativo, assinale a afirmativa **incorreta**.

- (A) O controle parlamentar pode ser realizado de forma direta ou mediante o auxílio dos Tribunais de Contas.
- (B) Os Tribunais de Contas são órgãos autônomos constitucionalmente instituídos e que compõem a função legislativa no que concerne à fiscalização da gestão do patrimônio público.
- (C) O controle parlamentar, quando exercido diretamente, pode, em casos previstos na Carta Magna, adentrar a conveniência e a oportunidade do ato administrativo.
- (D) O controle de legalidade referente à suspensão dos atos normativos editados por Chefe do Poder Executivo que extrapolem os limites da lei é um exemplo de controle parlamentar direto.
- (E) O controle legislativo sobre as atividades da Administração Pública ocorre nos casos previstos em resolução da mesa diretora da Casa Parlamentar.

46

Quanto ao Controle Judicial, assinale a afirmativa **incorreta**.

- (A) O direito brasileiro adota o sistema de jurisdição única, o que permite ao particular acionar o judiciário sem o necessário esgotamento da instância administrativa, com exceção da justiça desportiva e do processo controlador no âmbito dos Tribunais de Contas.
- (B) A coisa julgada administrativa não impede a sua revisão na esfera judicial.
- (C) Mandado de Segurança contra ato do Governador do Estado possui como réu o Governo do Estado e será processado pelo Tribunal de Justiça.
- (D) Ação Popular contra ato da administração da Assembleia Legislativa será processada por juiz estadual.
- (E) O mandado de injunção é o remédio constitucional para a omissão normativa que impeça o exercício de direitos.

47

Quanto ao Controle Administrativo, assinale a afirmativa **incorreta**.

- (A) É possível o exercício do controle administrativo no âmbito dos poderes Legislativo e Judiciário.
- (B) Na seara do controle administrativo se busca a verdade formal e, por isso, o controle administrativo deve constituir-se em processo.
- (C) A fiscalização hierárquica abrange o controle de legalidade, bem como o de mérito.
- (D) A impugnação de um edital realizada por um cidadão é exemplo do exercício do direito de petição.
- (E) As corregedorias são órgãos que possuem a função de verificar a atuação dos agentes pelo prisma da legalidade, da impessoalidade e da moralidade.

48

Em 1988, a Assembleia Constituinte promulgou a Constituição que seria conhecida como a *Carta Cidadã*. Esta trouxe, como nunca antes em um texto constitucional, um arcabouço robusto para o controle interno da Administração Pública, doravante concebido em forma de sistema.

Quanto aos entendimentos atuais sobre o sistema de controle interno, assinale a afirmativa correta.

- (A) O sistema de controle interno é entendido como a segunda linha de defesa da Administração Pública.
- (B) Dada a necessidade de atuação, a Administração Pública deve implementar os controles necessários, independente do custo em mantê-los.
- (C) Atualmente o sistema de controle interno, previsto na Constituição, é entendido como estrutura de controle interno, dada a amplitude do conceito.
- (D) Como o Brasil possui muitos entes federados de diminuto tamanho populacional, aceita-se a possibilidade do acúmulo de funções de contabilização e controle.
- (E) A essência da instituição de controles internos reside na eliminação da materialização de riscos que possuem o condão de impedir o alcance dos objetivos.

49

Quanto aos sistemas de controle externo da atividade financeira do Estado, analise as afirmativas a seguir.

- I. O sistema Tribunal de Contas é caracterizado pela sua natureza colegiada e por exercer jurisdição atípica.
- II. O sistema de auditorias-gerais é caracteriza pelo seu caráter unipessoal e suas manifestações possuem caráter opinativo.
- III. Tanto os tribunais de contas, como as auditorias-gerais (ou controladorias-gerais) são órgãos de controle de índole externa.

Está coreto o que se afirma em

- (A) I, II e III.
- (B) II e III, apenas.
- (C) I e III, apenas.
- (D) I e II, apenas.
- (E) II, apenas.

50

Quanto ao controle exercido pelos Tribunais de Contas, assinale a afirmativa **incorreta**.

- (A) Compete ao Tribunal de Contas julgar as contas dos administradores e demais responsáveis por dinheiros, bens e valores públicos da administração direta e indireta.
- (B) Compete ao Tribunal de Contas realizar, por iniciativa própria inspeções e auditorias de natureza contábil, financeira, orçamentária, operacional e patrimonial.
- (C) Compete ao Tribunal de Contas prestar as informações solicitadas pelo Parlamento sobre resultados de auditorias e inspeções realizadas.
- (D) Compete ao Tribunal de Contas sustar diretamente a execução de contratos.
- (E) Compete ao Tribunal de Contas aplicar aos responsáveis, em caso de ilegalidade de despesa ou irregularidade de contas, as sanções previstas em lei.

51

Teria dito Rui Barbosa ao justificar a criação do Tribunal de Contas: *convém levantar entre o poder que autoriza periodicamente a despesa e o poder que cotidianamente a executa, um mediador independente, auxiliar de um e de outro, que, comunicando com a Legislatura e intervindo na Administração, seja não só o vigia, como a mão forte da primeira sobre a Segunda, obstando a perpetração de infrações orçamentárias por um veto oportuno aos atos do Executivo, que direta ou indiretamente, próxima ou remotamente, discrepem das linhas rigorosas das leis de finanças,*

Em relação aos Tribunais de Contas, assinale a afirmativa **incorreta**.

- (A) São dotados de um corpo deliberativo composto por brasileiros com idoneidade moral e reputação ilibada e notórios conhecimentos jurídicos, contábeis, econômicos e financeiros ou de administração pública, dentre outros quesitos.
- (B) Para o exercício da função de fiscalização estipulada pela Constituição, de modo a garantir o devido processo legal, no âmbito das Cortes de Contas deve haver um corpo de auditores dotados de independência técnica.
- (C) O Ministério Público de Contas, em âmbito estadual, é regido pela Lei Orgânica do Ministério Público Comum, em capítulo específico.
- (D) Compete ao Ministério Público de Contas recorrer no âmbito do processo controlador em salvaguarda do patrimônio e interesse públicos.
- (E) O Supremo Tribunal Federal reconhece aos Tribunais de Contas as prerrogativas de autonomia e autogoverno.



52

Determinada Secretaria de Estado do Governo de Tocantins estabeleceu política pública com enfoque em específico público-alvo. A Controladoria Geral do Estado incluiu a política pública em seu plano anual de auditoria governamental, objetivando avaliar o seu alcance em face dos resultados alcançados.

Considerando a situação hipotética, assinale a afirmativa correta.

- (A) O melhor instrumento para a avaliação é a auditoria de conformidade em controle prévio.
- (B) Dada a necessidade de aferição dos dados da política pública, convém a realização de auditoria financeira.
- (C) Uma alternativa é a realização de auditoria operacional para verificação da eficácia da política pública.
- (D) A auditoria de conformidade apresenta as melhores técnica para avaliação do alcance dos resultados.
- (E) O monitoramento teria o condão de trazer as informações necessárias.

53

As atribuições da unidade de controle interno da Assembleia Legislativa do Tocantins são definidas pela Lei Estadual nº 4.209/2023.

Quanto as atribuições da Controladoria Interna da Aletto, assinale a afirmativa **incorreta**.

- (A) Exercer o acompanhamento e a avaliação da gestão e dos recursos geridos pela Assembleia, visando comprovar a legalidade e a legitimidade dos atos.
- (B) Receber, examinar e encaminhar aos órgãos competentes as reclamações ou representações de pessoas físicas ou jurídicas sobre ilegalidades ou abuso de poder.
- (C) Executar a avaliação do processo de contas.
- (D) Realizar ações de controle planejadas ou não, por determinação da Presidência.
- (E) Realizar perícias, relativas às atividades financeiras, patrimoniais e de pessoal, dos atos administrativos da Assembleia Legislativa.

54

As atribuições da unidade de controle interno da Assembleia Legislativa do Tocantins são definidas pela Lei Estadual nº 4.209/2023.

Quanto às atribuições da Controladoria Interna da Aletto, assinale a afirmativa correta.

- (A) Propor medidas para sanar as violações, as ilegalidades e os abusos constatados.
- (B) Propor, quando cabível, a abertura de sindicância ou inquérito destinado a apurar irregularidades de que tenha conhecimento.
- (C) Encaminhar ao Tribunal de Contas do Estado, à Polícia Civil, ao Ministério Público, ou a outro órgão competente as denúncias recebidas que necessitem maiores esclarecimentos.
- (D) Responder aos cidadãos e às entidades quanto às providências tomadas pela Assembleia Legislativa sobre os procedimentos legislativos e administrativos de seu interesse.
- (E) Aperfeiçoar a gestão das unidades organizacionais, nos aspectos de formulação, planejamento, coordenação, execução e monitoramento de suas atribuições.

55

Quanto à auditoria governamental, assinale a afirmativa **incorreta**.

- (A) A auditoria do setor público aumenta a confiança dos usuários previstos, fornecendo informações e avaliações independentes e objetivas a respeito de desvios dos padrões aceitos ou dos princípios de boa governança.
- (B) Os trabalhos de auditoria no setor público podem ser classificados em dois tipos diferentes: trabalhos de certificação e trabalhos de relatório direto.
- (C) O objeto da auditoria refere-se à informação, condição ou atividade que é mensurada ou avaliada de acordo com certos critérios.
- (D) Critérios são as conclusões do trabalho de auditoria governamental.
- (E) O objeto da auditoria pode assumir várias formas e ter diferentes características, dependendo do objetivo da auditoria.

56

Leia o fragmento a seguir.

*O(A) \_\_\_\_\_ é o instrumento de fiscalização utilizado pelo Tribunal para: examinar, ao longo de um período predeterminado, a legalidade e a legitimidade dos atos de gestão dos responsáveis sujeitos a sua jurisdição, quanto ao aspecto contábil, financeiro, orçamentário e patrimonial; e avaliar, ao longo de um período predeterminado, o desempenho dos órgãos e entidades jurisdicionadas, assim como dos sistemas, programas, projetos e atividades governamentais, quanto aos aspectos de economicidade, eficiência e eficácia dos atos praticados.*

(Fonte: Regimento Interno TCU. Brasília, 2023.)

Assinale a opção que completa corretamente a lacuna do fragmento acima.

- (A) acompanhamento.
- (B) auditoria de conformidade.
- (C) auditoria operacional.
- (D) monitoramento.
- (E) auditoria especial.

57

Assinale a opção que indica o *instrumento de fiscalização* utilizado para suprir omissões e lacunas de informações, esclarecer dúvidas ou apurar denúncias ou representações quanto à legalidade, à legitimidade e à economicidade de fatos da administração e de atos administrativos.

- (A) Auditoria.
- (B) Inspeção.
- (C) Acompanhamento.
- (D) Levantamento.
- (E) Monitoramento.

58

Os trabalhos de auditoria devem ser devidamente planejados. Quanto ao *planejamento de auditoria*, assinale a afirmativa **incorreta**.

- (A) O planejamento de auditoria é a fase que define a estratégia e a programação dos trabalhos de auditoria, estabelecendo a natureza, a oportunidade e a extensão dos exames.
- (B) O planejamento tem por finalidade definir questões essenciais à realização da auditoria, razão pela qual pressupõe adequado conhecimento da missão, atividades e práticas operacionais do auditado.
- (C) No Planejamento da Auditoria, em particular na elaboração da Matriz de Planejamento, a equipe de auditoria deverá ponderar a relação entre o custo e o benefício dos trabalhos a serem realizados.
- (D) Para a realização do planejamento, são utilizadas fontes de critérios ou informações que permitam alcançar o conhecimento do objeto a ser auditado, suas atividades-chave, sistemas e controles.
- (E) A abertura de cada auditoria deve ser marcada pela preparação de um plano específico para a análise do seu objeto, que levará em conta os parâmetros estabelecidos no Plano Anual de Auditoria, como o tempo e o pessoal alocado, não podendo, posteriormente a sua aprovação, ser alterado.

59

*No ambiente de negócios atual, a auditoria interna eficaz exige um planejamento preciso, combinado com uma resposta flexível às mudanças rápidas dos riscos. Para agregar valor e melhorar a eficácia de uma organização, as prioridades de auditoria interna devem se alinhar aos objetivos da organização e devem abordar os riscos com maior potencial de afetar a capacidade da organização de atingir esses objetivos.*

*International Professional Practices Framework. Institute of Internal Auditors.*

Quanto ao planejamento de auditoria baseado em riscos (ABR) assinale a afirmativa **incorreta**.

- (A) Alguns métodos comuns para identificar, documentar e avaliar riscos são a abordagem de risco específico, a abordagem de risco por processo e a abordagem de fator de risco.
- (B) O *feedback* da alta administração deve ser levado em consideração ao selecionar uma abordagem e critérios para a avaliação abrangente dos riscos.
- (C) O chefe de auditoria deve escolher uma abordagem para avaliação de risco, não sendo possível mesclar as abordagens por questões metodológicas.
- (D) As avaliações de riscos normalmente incluem metodologias quantitativas e qualitativas.
- (E) Impacto e probabilidade são duas métricas reconhecidas na definição de risco.

60

Na elaboração do plano anual de auditoria interna da Assembleia Legislativa do Tocantins, foram selecionados três objetos, com a devida justificativa, a saber:

01	Folha de Pagamento
JUSTIFICATIVA	
Verificar a fidedignidade dos registros contábeis referentes a despesa de pessoal, que no exercício de 2023 correspondeu a 251 milhões, o equivalente a 80% do orçamento programado na LOA para o mesmo exercício.	

02	Contratação de serviços de publicidade e propaganda para divulgação de ações da Assembleia Legislativa
JUSTIFICATIVA	
Verificar a conformidade da contratação, considerando dados que afirmam essa espécie de contratação ser a segunda colocada no ranking de detecção de irregularidades em contratações públicas.	

03	Transparência Pública
JUSTIFICATIVA	
Monitoramento do cumprimento de recomendações, realizadas em auditoria pretérita, relativas à transparência das decisões da Assembleia Legislativa em seu <i>web site</i> institucional, de modo a viabilizar e induzir o controle social e a participação popular.	

Assinale a opção que demonstra a conclusão mais correta quanto aos critérios de significância utilizados para seleção dos objetos de auditoria com base nas justificativas apresentadas.

- (A) O objeto 1 foi escolhido pela sua materialidade, assim como o objeto 3.
- (B) O objeto 2 foi selecionado por critério de rotação de ênfase, apesar de seu baixo risco.
- (C) Os objetos foram escolhidos de forma aleatória, mediante sorteio.
- (D) O objeto 3 foi escolhido pela sua relevância e o objeto 1 pela sua materialidade.
- (E) O objeto 2 foi selecionado pelo seu risco e os objetos 1 e 2 pela materialidade.

61

Na avaliação dos controles internos cinco componentes se demonstram relevantes de serem examinados.

Assinale a opção que **não** apresenta um desses elementos.

- (A) Avaliação de riscos.
- (B) Atividade de controle.
- (C) Informação e comunicação.
- (D) Ambiente de controle.
- (E) Aporte de recursos.

62

Assinale a alternativa que apresenta características relativas ao *risco de detecção*.

- (A) Consiste em um risco do auditor e depende das técnicas empregadas por ele, podendo ser controlado.
- (B) Risco de que a opinião expressa pelo auditor seja inadequada quando existirem distorções relevantes no objeto auditado.
- (C) Não é passível de controle, mas deve ser avaliado pelo auditor para que alcance um nível aceitável.
- (D) É a suscetibilidade de uma afirmação anteriormente da consideração dos controles.
- (E) Risco de que a entidade não alcance os seus objetivos

63

A matriz de planejamento de uma auditoria apresenta uma descrição concisa do objetivo de auditoria e de fatores críticos para o sucesso da fiscalização a ser realizada.

Sobre o tema, assinale a afirmativa **incorreta**.

- (A) A matriz de planejamento permite a delimitação da auditoria e a estruturação de procedimentos.
- (B) Ponto essencial da matriz de planejamento são as questões de auditoria, que balizarão os exames a serem realizados e sua extensão.
- (C) Na matriz, para cada questão de auditoria, são identificadas as informações necessárias para a obtenção da resposta.
- (D) Na matriz de planejamento devem estar discriminadas as evidências que sustentam a opinião da equipe de auditoria.
- (E) Na matriz de planejamento figuram as conclusões ou resultados que poderão ser alcançados.

64

As evidências podem ser classificadas em tipos e, para cada tipo de evidência, existe um rol de técnicas passíveis de serem utilizadas.

Veja a descrição de duas técnicas:

- I. Encaminhamento de ofício para terceiros com o objetivo de confirmar informações e fatos.
- II. Cotejamento de elementos numéricos correlacionados presentes em demonstrativo financeiro.

Assinale a opção que indica, respectivamente, o tipo de evidência buscado por cada técnica.

- (A) testemunhal e documental.
- (B) testemunhal e analítica.
- (C) documental e analítica.
- (D) documental e física.
- (E) documental e documental.

65

Os resultados das auditorias governamentais são descritos em relatório e devem ser reduzidos nas matrizes de achados e de responsabilização.

Quanto a estas, assinale a opção que apresenta alguma **incorrecção**.

- (A) Na matriz de achados são elencados os resultados da auditoria devidamente embasados por evidências e normativamente referenciados.
- (B) Na matriz de responsabilização é apresentada a memória de cálculo de suposto dano a ser processado mediante tomada de contas especial instaurada *ex officio*.
- (C) Para a definição das responsabilidades dos agentes, mostre-se imprescindível a observância aos preceitos da Lei de Introdução ao Direito Brasileiro.
- (D) Quando da responsabilização, as condutas que lhe deram causa podem sofrer os efeitos das excludentes de ilicitude, de culpabilidade e de causalidade.
- (E) Matriz de achados é o documento no qual são correlacionadas as propostas que são sugeridas para cada resultado (achado de auditoria) identificado.

## LEGISLAÇÃO INSTITUCIONAL

66

Nos termos da Constituição do Estado do Tocantins, constitui objeto de lei complementar a seguinte matéria:

- (A) os prazos de prescrição para ilícitos praticados por qualquer agente, servidor ou não, que causem prejuízos ao erário.
- (B) os limites de idade, a estabilidade e outras condições de transferência do servidor militar para a inatividade.
- (C) os casos de contratação por tempo determinado para atender à necessidade temporária de excepcional interesse público.
- (D) as regras para cálculo de proventos de aposentadoria e pensão por morte.
- (E) os requisitos e as restrições ao ocupante de cargo ou emprego da administração direta e indireta que possibilite o acesso a informações privilegiadas.

67

Considerando o exercício da função legislativa por parte da Assembleia Legislativa de Tocantins, nos termos de seu Regimento Interno, é correto afirmar que

- (A) projetos de lei delegada podem se destinar a regular as matérias de exclusiva competência do Poder Executivo, com a sanção do Governador do Estado.
- (B) projetos de resolução podem se destinar a regular, com eficácia de lei ordinária, matéria de competência privativa da Assembleia Legislativa.
- (C) projetos de lei complementar visam regular matéria infraconstitucional.
- (D) projetos de lei têm por objetivo regular matérias de competência do Poder Legislativo, sem a sanção do Governador do Estado.
- (E) projetos de decreto legislativo destinam-se à delegação de competência, na forma estabelecida na Constituição Estadual.

**68**

Aline, servidora pública estadual, revelou segredo do qual se apropriou em razão do cargo que ocupa. A Administração Pública, ao tomar conhecimento do fato, instaurou procedimento administrativo disciplinar a fim de apurar a conduta e garantir à servidora os princípios da ampla defesa e do contraditório.

À luz do Estatuto dos Servidores Públicos Cíveis do Estado do Tocantins, caso punida, Aline poderá ser sancionada com

- (A) advertência.
- (B) suspensão.
- (C) prestação de serviço.
- (D) multa.
- (E) demissão.

**69**

Ana, servidora pública efetiva e estável, ocupante de cargo de nível superior, objetivando inteirar-se sobre os requisitos para a progressão na carreira, consultou a Lei nº 4.208/2023, que trata sobre o plano de cargos, carreiras e remuneração dos Servidores da Assembleia de Tocantins.

Assim, para fazer jus à progressão, Ana terá que

- (A) possuir no máximo três faltas injustificadas por exercício referente ao período avaliado.
- (B) obter conceito igual ou superior a 70% (setenta por cento) dos pontos possíveis em todos os procedimentos de sua Avaliação.
- (C) concluir curso de pós-graduação *lato sensu* com duração mínima de 360 (trezentos e sessenta) horas.
- (D) cumprir trinta meses de efetivo exercício na classe em que se encontra.
- (E) concluir cursos de aperfeiçoamento em sua área de atuação que tenha, no mínimo, 80 (oitenta) horas de duração.

**70**

Antônio foi nomeado para o cargo de Controlador Interno da Assembleia Legislativa de Tocantins.

À luz da Lei nº 4.209/2023, que dispõe sobre a estrutura administrativa da Aletto, durante o exercício da função, Antônio será competente para:

- (A) opinar, conclusivamente, em processos de direitos, deveres e obrigações dos servidores do Poder Legislativo.
- (B) constituir Comissão Permanente de Licitação.
- (C) examinar a observância das normas de licitações.
- (D) apresentar à Mesa Diretora o balancete mensal e, no início de cada exercício, o balancete geral das contas da Assembleia Legislativa, relativo ao exercício anterior.
- (E) planejar, coordenar, orientar, controlar e dirigir as atividades administrativas, orçamentárias, financeiras, de comunicação social, de tecnologia de informação e de apoio legislativo da Assembleia Legislativa.



# ASSEMBLEIA LEGISLATIVA DO ESTADO DO TOCANTINS

CONCURSO PÚBLICO – EDITAL Nº 01/2023

## PROVA OBJETIVA – TARDE

### ANALISTA LEGISLATIVO CERIMONIAL

NÍVEL SUPERIOR – TIPO 1 – BRANCA



#### SUA PROVA

- Além deste caderno contendo **70 (setenta)** questões objetivas, você receberá do fiscal de prova o cartão de respostas;
- As questões objetivas têm **5 (cinco)** opções de resposta (A, B, C, D) e somente uma delas está correta.



#### TEMPO

- Você dispõe de **5 (cinco) horas** para a realização da prova, já incluído o tempo para a marcação do cartão de respostas;
- **3 (três) horas** após o início da prova, é possível retirar-se da sala, sem levar o caderno de questões;
- A partir dos **30 (trinta) minutos** anteriores ao término da prova é possível retirar-se da sala **levando o caderno de questões**.



#### NÃO SERÁ PERMITIDO

- Qualquer tipo de comunicação entre os candidatos durante a aplicação da prova;
- Anotar informações relativas às respostas em qualquer outro meio que não seja o caderno de questões;
- Levantar da cadeira sem autorização do fiscal de sala;
- Usar o sanitário ao término da prova, após deixar a sala.



#### INFORMAÇÕES GERAIS

- Verifique se seu caderno de questões está completo, sem repetição de questões ou falhas. Caso contrário, **notifique imediatamente o fiscal da sala**, para que sejam tomadas as devidas providências;
- Confira seus dados pessoais, especialmente nome, número de inscrição e documento de identidade e leia atentamente as instruções para preencher o cartão de respostas;
- Para o preenchimento do cartão de respostas, use somente caneta esferográfica, fabricada em material transparente, com tinta preta ou azul;
- Assine seu nome apenas no(s) espaço(s) reservado(s) no cartão de respostas;
- Confira seu cargo, cor e tipo do caderno de questões. Caso tenha recebido caderno de cargo ou cor ou tipo **diferente** do impresso em seu cartão de respostas, o fiscal deve ser **obrigatoriamente** informado para o devido registro na ata da sala;
- Reserve tempo suficiente para o preenchimento do seu cartão de respostas. O preenchimento é de sua responsabilidade e **não será permitida a troca do cartão de respostas em caso de erro cometido pelo candidato**;
- Para fins de avaliação, serão levadas em consideração apenas as marcações realizadas no cartão de respostas;
- A FGV coletará as impressões digitais dos candidatos na lista de presença;
- Os candidatos serão submetidos ao sistema de detecção de metais quando do ingresso e da saída de sanitários durante a realização das provas.
- **Boa prova!**

## CONHECIMENTOS BÁSICOS

### Língua Portuguesa

1

Observe o seguinte texto:

*Quando entrei no terrível vagão, ele estava ocupado por duas pessoas. Uma, dobrada, coberta, dormia profundamente. A coberta superior estava manchada, de fundo amarelado, como pele de leopardo. Vendem-se muitas mantas assim nas lojas de artigos de viagens, mas pude notar logo depois que se tratava realmente da pele de um animal selvagem; do mesmo modo, o boné da pessoa adormecida me pareceu ser de feltro branco bastante delicado. O outro viajante, uma aparência simpática, parecia ter passado dos trinta anos e mostrava-se como figura insignificante que passa confortavelmente as noites em estradas de ferro.*

Nesse fragmento textual, para criar sinais de história realista e verdadeira, o narrador apela para a seguinte estratégia:

- (A) seleciona uma situação banal da qual não precisa fornecer muitos detalhes, exatamente por sua banalidade.
- (B) fornece algumas marcas caracterizadoras dos dois personagens presentes no texto, destacando sua banalidade.
- (C) indica traços descritivos do ambiente, mostrando-o como se nada houvesse nele de excepcional.
- (D) mostra detalhes variados e bastante pitorescos dos objetos descritos.
- (E) dá ao leitor informações sobre personagens e ambiente, mostrando-os como bastante conhecidos do narrador.

2

Assinale a frase que mostra a palavra *mais* numa classe gramatical **diferente** das demais.

- (A) O mercado está prisioneiro de mais um círculo vicioso: piora porque piorou e porque piorou, piora.
- (B) Os ingleses conquistaram o mundo porque não aguentavam mais a própria cozinha.
- (C) Quanto mais vejo o estrangeiro, mais amo a minha pátria.
- (D) Não é mais possível aprender tudo de cor. Um homem instruído não é mais o homem que sabe muitas coisas; é o homem que sabe onde buscar informações.
- (E) Muda-se mais facilmente de religião do que de café

3

As frases a seguir mostram termos ligados pela conjunção OU.

Assinale a frase em que essa conjunção mantém o valor de alternativa (e não de adição).

- (A) João ou Pedro deve ser eleito presidente da empresa.
- (B) A alegria ou a tristeza fazem parte da vida.
- (C) Inglês ou francês são idiomas falados pelos turistas
- (D) Os clientes leem livros ou revistas enquanto esperam.
- (E) Vasco ou Flamengo são times de longa tradição.

4

Um guitarrista americano produziu o seguinte pensamento:

*O crítico de rock é alguém que não sabe escrever, entrevistando gente que não sabe falar, para gente que não sabe ler.*

Sobre a estruturação ou a significação desse pequeno texto, assinale a afirmativa **incorreta**.

- (A) O termo “de rock” funciona como complemento nominal do termo anterior.
- (B) Todos os elementos da cadeia comunicativa citados no texto são marcados pela ignorância.
- (C) O pensamento acima revela um preconceito fortíssimo contra os amantes de rock.
- (D) A opinião expressa no texto pode advir da experiência pessoal do autor, já que se trata de um guitarrista.
- (E) A injustiça desse texto provém de ser uma opinião fundamentada em uma autoridade duvidosa.

5

John Steinbeck, prêmio Nobel, declarou o seguinte:

*O homem é o único animal que bebe sem ter sede, come sem ter fome e fala sem ter nada a dizer.*

Em relação ao significado e à estruturação desse pequeno texto, assinale a afirmativa **incorreta**.

- (A) A frase ficaria mais enfática se invertêssemos a posição do termo inicial: O único animal que bebe sem ter sede, come sem ter fome e fala sem ter nada a dizer é o homem.
- (B) A inversão de alguns segmentos do texto em nada modificaria o sentido da frase: O homem é o único animal que come sem ter fome, bebe sem ter sede e fala sem ter nada a dizer.
- (C) Os segmentos finais do texto mostram preocupação com rigoroso paralelismo sintático.
- (D) Segundo a opinião do autor do texto, a marca principal do homem é a irracionalidade.
- (E) Nem todas as ações citadas como marcas humanas estão presentes, por oposição, nos outros animais.

6

Assinale a frase que **não** expressa uma noção de tempo abstrato.

- (A) Nas asas do tempo, a tristeza voa.
- (B) Quem mata o tempo não é assassino, é suicida.
- (C) O tempo perdido não se encontra nunca mais.
- (D) O tempo é o melhor professor. Infelizmente, ele mata todos os seus estudantes
- (E) O tempo gasto na viagem foi de duas horas.

7

Assinale a frase em que a utilização do acento grave indicativo da crase é realizada de forma **errada**.

- (A) Jamais alguém se arrependeu de ter-se acostumado à madrugar e à ter-se casado jovem.
- (B) Tempo é o suspiro de adeus do sol à terra.
- (C) Saio todos os dias às cinco horas e não permito que o meu trabalho interfira no meu jogo de tênis.
- (D) O momento de extrair uma lição da história está sempre à mão para os sábios.
- (E) Quando assumi, quatro anos atrás, estávamos à beira do precipício.

8

Os adjetivos podem representar estados, qualidades, características e relações.

Assinale a frase que mostra um tipo de adjetivo **diferente** dos demais.

- (A) Nunca houve criança tão amável que a própria mãe não ficasse satisfeita ao conseguir adormecê-la.
- (B) Nada mais perversamente cruel que uma adorável criança.
- (C) Mesmo estando doentes, as crianças não ficam caladas.
- (D) Quando as crianças estão quietas é porque fizeram alguma coisa errada.
- (E) As tangerinas verdes não amadurecem fora do pé.

9

Assinale a frase em que o adjetivo sublinhado mostra uma função sintática **diferente** das demais.

- (A) Por fora bela viola, por dentro pão bolorento.
- (B) Tiradentes, heroico, tentou organizar uma revolução.
- (C) Um rosto bonito altera-se depressa.
- (D) Eu não podia acreditar que existem múmias tão lindas.
- (E) Um homem belo é um homem insignificante.

10

Assinale a opção que mostra uma impropriedade léxica, ou seja, um emprego **inadequado** da expressão “cerca de”.

- (A) Havia cerca de três dúzias de convidados no final da festa.
- (B) Chegaram cerca de 100 cartas no mesmo dia.
- (C) Cerca de 18 lojas fecharam as portas mais cedo.
- (D) Os cantores receberam cerca de uma centena de convites.
- (E) A plantação produziu cerca de uma tonelada de legumes.

11

Muitas palavras portuguesas mostram o prefixo A- sem qualquer valor semântico, sendo equivalentes ao mesmo vocábulo sem esse prefixo.

Assinale a palavra a seguir que exemplifica esse A protético.

- (A) amostrar
- (B) abraçar
- (C) atenuar
- (D) aguardar
- (E) aparar

12

Observe o seguinte texto:

*A felicidade depende da habilidade que tenhamos naquelas atividades que consideramos importantes: somente se lhes damos um real valor aos pequenos detalhes cotidianos, poderemos ter instantes felizes. A felicidade absoluta não existe, e já que só podemos acessar os pequenos detalhes daquilo que nos interessa, devemos contentar-nos com isso. Por isso, a infelicidade é um sinal claro de nossa incompetência na arte de viver.*

Sobre a estrutura e a significação desse texto, assinale a afirmativa **inadequada**.

- (A) O tema do texto gira em torno do que consiste a felicidade e o que viria a ser o seu oposto.
- (B) A afirmação de que “A felicidade absoluta não existe” é de cunho pessoal do autor do texto, representando uma opinião.
- (C) O raciocínio utilizado na estruturação argumentativa é do tipo dedutivo.
- (D) O conector “Por isso” mostra a preocupação com o caráter lógico da argumentação.
- (E) A tese do texto é a de que a infelicidade é fruto de nossa incompetência na arte de viver.

## Raciocínio Lógico Matemático

13

Certo programa de rádio tem 1 hora e 55 minutos de duração. A partir do momento em que o programa é iniciado, há blocos temáticos de 7 minutos intercalados por blocos de propagandas de 2 minutos.

Em todos os blocos de propaganda, ouve-se o comercial do restaurante R, que sempre dura 18 segundos.

Se o programa começa e termina com um bloco temático, então, o tempo total do programa dedicado ao anúncio do restaurante R é

- (A) 3 minutos e 54 segundos.
- (B) 3 minutos e 36 segundos.
- (C) 3 minutos e 18 segundos.
- (D) 3 minutos.
- (E) 2 minutos e 48 segundos.

14

A linha de produção de certa fábrica produz 1100 latas de sardinhas a cada hora. Certo dia, por um defeito de calibragem do sistema, entre 13h e 14h, o volume de produção foi reduzido em 30% durante exatos 12 minutos.

A quantidade de latas de sardinhas produzidas no intervalo supracitado foi

- (A) 946.
- (B) 964.
- (C) 1022.
- (D) 1034.
- (E) 1046.

15

Marcelo está parado de frente para uma das paredes de uma sala quadrada. Nesta posição, ele está a 1m e 20cm da parede que se encontra à sua direita e a 1m e 70cm da parede que está às suas costas.

Ele, então, se desloca paralelamente às paredes da sala sendo 40cm para a frente e 80cm para a direita. Nessa nova posição, ele passou a distar 1m e 90cm da parede que antes estava à sua esquerda.

Desprezando-se as dimensões de Marcelo, a sua atual distância à parede que, antes dos movimentos, estava à sua frente, é

- (A) 20cm.
- (B) 30cm.
- (C) 40cm.
- (D) 50cm.
- (E) 60cm.

**16**

Um dado é dito comum quando tem a forma de um cubo e suas 6 faces são numeradas de 1 a 6, de tal forma que a soma dos números estampados em faces opostas, quaisquer que sejam elas, sempre somam 7.

Quando um dado comum é lançado, diz-se que o resultado do lançamento é o número estampado na face voltada para cima.

Um dado foi lançado 3 vezes seguidas. Se o produto dos resultados obtidos nos lançamentos vale 75, a soma desses resultados é igual a

- (A) 12.
- (B) 13.
- (C) 14.
- (D) 15.
- (E) 16.

**17**

Em certo ano, o dia 1º de agosto cai em um domingo. Logo, o dia 1º de novembro cairá em

- (A) um sábado.
- (B) um domingo.
- (C) uma segunda-feira.
- (D) uma quarta-feira.
- (E) uma sexta-feira.

**18**

Considere a seguinte proposição condicional:

*Se todos os alunos da Escola Aristarco gostam de matemática, então, ao menos um deles ganha medalha na Olimpíada Nacional de Matemática.*

Se essa proposição é verdadeira, é correto afirmar que

- (A) se nenhum dos alunos da Escola Aristarco gosta de Matemática, então nenhum deles ganha medalha na Olimpíada Nacional de Matemática.
- (B) se todos os alunos da Escola Aristarco ganham medalha na Olimpíada Nacional de Matemática, então, todos esses alunos gostam de Matemática.
- (C) se algum aluno da Escola Aristarco ganha medalha na Olimpíada Nacional de Matemática, então todos esses alunos gostam de Matemática.
- (D) se nenhum aluno da Escola Aristarco ganha medalha na Olimpíada Nacional de Matemática, então nenhum desses alunos gosta de Matemática.
- (E) se nenhum aluno da Escola Aristarco ganha medalha na Olimpíada Nacional de Matemática, então algum desses alunos não gosta de Matemática.

**19**

Em uma caixa, há muitas canetas esferográficas. Classificadas conforme a cor, elas podem ser azuis, vermelhas ou pretas. Classificadas quanto à espessura da esfera, elas podem ser de ponta fina ou de ponta grossa.

Metade das canetas vermelhas tem a ponta grossa. A quantidade total de canetas pretas é igual à quantidade total de canetas vermelhas. Entre as canetas de ponta grossa, a quantidade de azuis é igual à de pretas. A quantidade de canetas azuis com ponta fina é o dobro da quantidade de canetas pretas de ponta grossa.

Se, nessa caixa, 18 são azuis e 20 têm ponta grossa, então a quantidade total de canetas na caixa é

- (A) 30.
- (B) 40.
- (C) 48.
- (D) 50.
- (E) 52.

**20**

Tucídides possuía uma dívida e, em vez de quitá-la, pagou apenas 20% do seu valor, deixando o restante para ser quitado em data futura, com acréscimo de 12% a título de juros sobre o saldo devedor.

No ato de quitação, Tucídides pagou R\$2.329,60. Logo, o valor original da dívida é o resultado da seguinte expressão:

- (A)  $2.329,60 \times 0,88 - 20$
- (B)  $\frac{2.329,60}{0,88} \times 1,20$
- (C)  $\frac{2.329,60}{1,12} \times 1,20$
- (D)  $\frac{2.329,60}{1,12 \times 1,20}$
- (E)  $\frac{2.329,60}{1,12 \times 0,8}$

**21**

As filhas de Nepomuceno têm 5 e 9 anos de idade. Ele dividirá R\$420,00 entre elas de forma inversamente proporcional às suas idades.

Logo

- (A) a mais nova receberá R\$120,00 a mais que a mais velha.
- (B) a mais nova receberá R\$150,00 a mais que a mais velha.
- (C) a mais nova receberá R\$270,00 a mais que a mais velha.
- (D) a mais velha receberá R\$120,00 a mais que a mais nova.
- (E) a mais velha receberá R\$150,00 a mais que a mais nova.

**22**

A negação da proposição:

$$\text{Se } y \neq 0, \text{ então } x > 2 \text{ e } x \leq 5$$

é dada por

- (A) Se  $y = 0$ , então  $x > 2$  e  $x \leq 5$
- (B) Se  $y = 0$ , então  $x < 2$  ou  $x \geq 5$
- (C)  $y = 0$  e  $x \leq 2$  ou  $x > 5$
- (D)  $y \neq 0$  e  $x \leq 2$  ou  $x > 5$
- (E)  $y \neq 0$  e  $x \leq 2$  e  $x > 5$



## Atualidades

23

De acordo com o censo demográfico de 2022 (IBGE), mais da metade da população brasileira (51,13%) é feminina, e elas representam, segundo o Tribunal Superior Eleitoral, 53% do eleitorado. No entanto, elas ocupam, hoje, menos de 15% dos cargos eletivos.

A respeito da baixa participação das mulheres na política, assinale a afirmativa que apresenta um dispositivo existente na legislação brasileira para alterar esse cenário.

- (A) Reserva de pelo menos 50% dos recursos do Fundo Especial de Financiamento de Campanha, o Fundo Eleitoral, para financiar candidaturas femininas.
- (B) Suspensão dos direitos eleitorais aos partidos em caso de não observância do percentual de pelo menos 30% de candidatas mulheres em cada ciclo eleitoral
- (C) Reserva de assentos, em ambas as casas legislativas, para mulheres, com preferência para as representantes de povos originários.
- (D) Cota de gênero, que obriga cada partido ou coligação a preencher o mínimo de 30% e o máximo de 70% de candidaturas de cada sexo.
- (E) Repasse de até 30% dos recursos dos Fundos Partidário para custear o tempo da propaganda eleitoral gratuita de candidatas em rádio e televisão.

24

A França se tornou o primeiro país do mundo a incluir na Constituição a liberdade de a mulher abortar. A mudança na Carta Magna foi aprovada em uma sessão conjunta das duas Casas legislativas, a Assembleia Nacional e o Senado, e será promulgada pelo presidente Emmanuel Macron ainda em março de 2024.

Adaptado de <https://www1.folha.uol.com.br/mundo/2024/03/>

Diferentemente da França, a legislação brasileira

- (A) equipara o aborto ao infanticídio.
- (B) considera o aborto uma prática ilegal em todas as situações.
- (C) descriminaliza a interrupção da gravidez em caso de deficiência da gestante.
- (D) estabelece um limite temporal para interromper a gravidez, desde que respaldada por laudo médico.
- (E) autoriza a interrupção de gestação em caso de não haver outro meio de salvar a vida da gestante.

25

Desde os anos 2000, o interior do Brasil ultrapassou o litoral na incidência de dengue. A região costeira que vai de Santos, em São Paulo, até Belém, no Pará, apresentava tipicamente maior proporção de casos de dengue em comparação com sua população. Entretanto, recentemente, o oeste do Paraná, o oeste de Santa Catarina o oeste de São Paulo, o interior de Minas Gerais, uma parte do Tocantins, o Goiás e o Mato Grosso do Sul viram a transmissão da doença aumentar e muitas de suas cidades foram obrigadas a decretar emergência.

Adaptado de <https://www.estadao.com.br>

A respeito dos fatores relacionados ao aumento e à interiorização dos casos de dengue no Brasil, analise as afirmativas a seguir.

- I. A maior frequência de períodos com temperaturas acima da média, inclusive com ondas de calor no período invernal em todo território, tem reforçado o padrão sazonal da doença.
- II. A expansão urbana desvinculada de melhoras nos serviços sanitários tem propiciado a formação de ilhas de calor e, portanto, uma alta na incidência da dengue.
- III. O desmatamento do cerrado, convertido em pasto, por exemplo, tem contribuído para aumentar a temperatura média e o número de casos da doença no interior do Brasil.

Está correto o que se afirma em

- (A) I, apenas.
- (B) I e II, apenas.
- (C) I e III, apenas.
- (D) II e III, apenas.
- (E) I, II e III.

26

As afirmativas a seguir descrevem corretamente o desempenho da economia brasileira em 2023, à exceção de uma. Assinale-a.

- (A) A expansão econômica ampliou a geração de empregos informais, em um contexto recessivo e de flexibilização das leis trabalhistas.
- (B) O dinamismo da economia foi marcado pelo aumento de exportações, no setor agrícola, e da demanda, no setor de serviços, em função da alta no consumo das famílias.
- (C) A alta progressiva nas cotações internacionais de commodities acelerou o ritmo das exportações, mesmo em um cenário cambial desfavorável para os exportadores.
- (D) A retração do Brasil no mercado regional e internacional ocorreu em função da maior competitividade dos produtos agrícolas argentinos e pela retomada da economia chinesa.
- (E) A persistência do alto nível da inflação foi ocasionada pela alta da cesta básica, sobretudo dos alimentos, cujas safras foram afetadas pelas condições climáticas adversas.

27

Em 2024, o Tribunal Superior Eleitoral (TSE) aprovou uma resolução para regulamentar o uso da inteligência artificial (IA) durante as eleições municipais a serem realizadas em outubro. A norma proíbe manipulações de conteúdo falso para criar ou substituir imagem ou voz de candidato com objetivo de prejudicar ou favorecer candidaturas. Também foi aprovada a restrição do uso de chatbots humanizados e avatares para intermediar a comunicação das campanhas com pessoas reais nas redes sociais.

Adaptado de <https://agenciabrasil.ebc.com.br/>

A resolução sobre IA objetiva

- (A) coibir a produção e circulação de *deepfakes*.
- (B) restringir o uso de ferramentas de IA simbólica.
- (C) retomar a veiculação de propagandas eleitorais em mídias tradicionais, como rádio e televisão.
- (D) proibir o uso de ferramentas de coleta e seleção em bases de dados com fins eleitorais.
- (E) limitar o uso de assistente virtual programado por AI para divulgação do programa partidário.

28

Assinale a afirmativa que descreve corretamente um aspecto do panorama global da economia em 2023.

- (A) Nos Estados Unidos, a economia foi alavancada pela adoção de uma política de ampliação do crédito e baixa da taxa de juros.
- (B) Na China, o PIB cresceu acima do esperado, em um cenário marcado pela retomada econômica pós pandemia, inclusive no setor imobiliário.
- (C) Na Zona do Euro, a alta dos preços da energia pesou nas despesas familiares e no setor industrial, confirmando a manutenção de um quadro de crise.
- (D) Na Rússia, o PIB decresceu, em função do impacto prolongado da guerra com a Ucrânia e dos embargos à venda de petróleo e gás russos.
- (E) Na América do Sul, foi mantido um caminho geral de crescimento, apoiado por investimentos externos e pela intensificação de políticas estatistas.

29

Um supercomputador consiste em milhares de pequenos computadores chamados nós. Cada nó é equipado com sua própria memória e com vários processadores. Atuando em conjunto, eles são capazes de realizar cálculos extremamente complexos em elevada velocidade. Hoje, o maior supercomputador da América Latina é o Pégaso, da Petrobras, com 678 TB de memória RAM e mais de 233 mil núcleos.

Adaptado de <https://revistapesquisa.fapesp.br>

A respeito do poder computacional de alto desempenho dos supercomputadores, analise as afirmativas a seguir e assinale (V) para a verdadeira e (F) para a falsa.

- ( ) Essas máquinas são instrumentos valiosos de pesquisa e de suporte a setores da economia como defesa, energia e saúde, permitindo a resolução de problemas complexos em menor tempo.
- ( ) Esses equipamentos permitem realizar tarefas que exigem altíssimos níveis de processamento, como simulações da formação do universo ou modelagem molecular para novos fármacos.
- ( ) Esses aparelhos trabalham em alta velocidade de processamento pelo somatório de diversos núcleos, o que potencializa a velocidades do processador, medidas em gigahertz (GHz).

As afirmativas são, respectivamente,

- (A) V – V – F.
- (B) V – F – V.
- (C) F – V – F.
- (D) F – V – V.
- (E) V – V – V.

30

No início do ano corrente, a Petrobras anunciou ter alcançado em 2023 o segundo maior valor de lucro líquido de sua história. Mesmo assim, suas ações caíram no mercado financeiro, em função da disputa sobre os dividendos.

A respeito dos resultados financeiros da Petrobras nos últimos anos e da política de distribuição de dividendos da empresa, assinale a afirmativa correta.

- (A) A Petrobras é uma empresa estatal de economia mista que monopoliza a indústria petroleira no Brasil.
- (B) A Petrobras é uma estatal administrada diretamente por órgãos governamentais que controlam o valor das suas ações.
- (C) A Petrobras direciona parte dos dividendos para investidores privados, e outra parte para o governo federal, que controla a empresa via Tesouro e BNDES.
- (D) A Petrobras, sob o Governo Bolsonaro, reduziu o pagamento de dividendos a acionistas privados para reinvesti-los em energia renovável.
- (E) A Petrobras, no atual governo, vendeu ativos e distribuiu o lucro e os valores recordes de dividendos entre seus acionistas para financiar projetos do BNDES.

31

Dados da última década mostram que, em relação aos Estados, o Pará é o que apresenta o maior número de registros de resgates de trabalho análogo à escravidão, com 9.853, seguido por Mato Grosso (4.302); Tocantins (2.896); São Paulo (1.529) e Rio de Janeiro (1.653), em 2017.

Adaptado de <https://www.jota.info/justica/em-14-anos-434-mil-foram-resgatados-de-trabalho-escravo-30102017>

A respeito da definição moderna de escravidão, analise as afirmativas a seguir.

- I. Em Tocantins, a maior incidência de escravidão moderna ocorre na zona rural, associada a atividades agropecuárias e ao extrativismo mineral, como nas carvoarias, por exemplo.
- II. A Organização Internacional do Trabalho determina a condição de escravidão por uma série de componentes, como o trabalho forçado análogo ao de escravo e o casamento forçado.
- III. Pessoas obrigadas a trabalhar por dívida ou por ameaça, sem direitos trabalhistas garantidos estão em situação de escravidão, uma vez que lhes é impedida a liberdade de ir e vir.

Está correto o que se afirma em

- (A) I, apenas.
- (B) I e II, apenas.
- (C) I e III, apenas.
- (D) II e III, apenas.
- (E) I, II e III.

32

Energia gerada por recursos naturais renováveis que, no Brasil, provém da lenha, carvão vegetal, carvão mineral, bagaço de cana e outros resíduos combustíveis. Essa energia é a matéria orgânica vegetal ou animal usada como fonte de energia limpa e sustentável.

O trecho descreve o seguinte componente importante do desenvolvimento sustentável:

- (A) compostagem.
- (B) biodiversidade.
- (C) créditos de carbono.
- (D) ciclo de vida.
- (E) biomassa.

## História e Geografia do Estado de Tocantins

33

Leia a descrição de uma classe de vegetação presente no estado do Tocantins, a seguir.

*Esta vegetação, também conhecida como floresta pluvial tropical, é caracterizada por árvores de porte elevado, além de trepadeiras lenhosas e epífitas (bromélias e orquídeas, por exemplo) em abundância, o que a diferencia de outras classes de formação vegetal. Sua característica ecológica principal é estar presente em ambientes de chuvas abundantes, como na parte noroeste do Estado, onde as temperaturas médias são de 25°C e os elevados índices de precipitação estão bem distribuídos ao longo do ano.*

Adaptado de Luís Antônio G. C. Silva. *Biomias presentes no Estado do Tocantins*. Brasília: Câmara dos Deputados, 2007, p. 4.

O trecho caracteriza a região conhecida como Floresta

- (A) Estacional Semidecidual.
- (B) Tropical Subcaducifólia.
- (C) de Mata Atlântica.
- (D) Ombrófila Densa.
- (E) Temperada Decidual.

34

Comparando dados dos censos do IBGE, pode-se elaborar um retrato da evolução demográfica da população residente no Estado de Tocantins. O grupo na faixa etária de 0 a 14 representava 41,7% da população em 1991, 28,8% em 2010, e passou para 24% em 2022. A população acima de 65 anos era de 3,8% em 1991 e 5,8% em 2010, e ficou em 8,6% em 2022. O censo de 2022 mostrou ainda que a faixa etária de 15 a 29 anos representa 15% da população e que 41% da população é composta por pessoas de 30 a 59 anos.

Com base no trecho, assinale a opção que apresenta a dinâmica populacional do Tocantins entre 1991 e 2022.

- (A) Expansão da base da pirâmide etária.
- (B) Diminuição da taxa de fecundidade.
- (C) Estreitamento do topo da pirâmide.
- (D) Aumento da idade mediana.
- (E) Redução do índice de envelhecimento.

35

*Foram inegáveis os desdobramentos socioeconômicos sobre o antigo Norte Goiano fruto da construção da rodovia BR-153, a partir do final da década de 1950. O novo urbanismo da Belém-Brasília trouxe enorme impacto no que se refere ao conjunto de cidades que existiam às margens do rio Tocantins, aos fluxos migratórios e às atividades econômicas da região.*

Adaptado de AQUINO, N. *Tocantins: cidades e urbanismo em três modelos históricos*. In: III Encontro da ANPPAS. Brasília, 2006, p. 8.

As afirmativas a seguir descrevem corretamente impactos da rodovia BR-153 no processo de territorialização do Tocantins, **à exceção de uma**. Assinale-a.

- (A) A rodovia foi construída no governo Kubitschek, em um contexto desenvolvimentista que considerava a expansão rodoviária como um meio para integrar econômica e territorialmente as regiões do país, inclusive o norte goiano que, então, vivia uma situação de abandono.
- (B) A rodovia Belém-Brasília teve grande importância para a urbanização do atual Tocantins, o que é exemplificado pela quantidade de novas cidades criadas após a sua construção, como Araguaína, Gurupi, Paraíso do Tocantins, Colinas do Tocantins e Guaraí.
- (C) A construção da BR-153 alavancou também os municípios ribeirinhos, pois a navegação fluvial foi intensificada para abastecer as obras em curso, o que transformou esses municípios em satélites econômicos da nova malha urbana instalada ao longo da rodovia.
- (D) Após a abertura da rodovia, as principais áreas que receberam fluxos migratórios foram a Microrregião de Gurupi – Gurupi e a Microrregião de Porto Nacional – Palmas, para onde se dirigiram pessoas interessadas em trabalhar na construção civil, nos serviços e no comércio, entre outros.
- (E) A BR-153 permitiu interligar o norte de Goiás, atual Estado do Tocantins, a outras localidades do país, facilitando o escoamento da produção e o acesso a produtos para a região, promovendo o fluxo de mercadorias e serviços.

36

O Memorial Coluna Prestes (2001) é uma obra do arquiteto Oscar Niemeyer localizada na Praça dos Girassóis, no centro de Palmas (TO).



Fonte: <https://central.to.gov.br/image/146145?f=1>

A respeito da relação entre essa obra e a constituição de uma memória histórica para o Estado do Tocantins, analise as afirmativas a seguir.

- I. O monumento refere-se à Coluna Prestes, que percorreu o Brasil para divulgar seu programa revolucionário entre 1924 e 1927, tendo passado pelo Norte do então Estado de Goiás (atual Tocantins) durante seu percurso.
- II. A obra foi realizada em concreto e apresenta curvas sinuosas, características próprias do Barroco das cidades mineradoras, estabelecendo visualmente uma continuidade entre o Barroco do passado das cidades mineradoras e o presente do Tocantins.
- III. A construção do memorial permite inserir simbolicamente a história do Tocantins nos grandes processos da história republicana nacional, e homenagear o Tenente Antônio de Siqueira Campos, cujo sobrenome é homônimo ao do ex-governador do Estado.

Está correto o que se afirma em

- (A) I, apenas.
- (B) I e II, apenas.
- (C) I e III, apenas.
- (D) II e III, apenas.
- (E) I, II e III.

37

Até 1988, o território que hoje corresponde ao Estado do Tocantins pertencia ao antigo norte de Goiás e à Região Centro-Oeste, tendo como capital política a cidade de Goiânia. Com a emancipação política, da noite para o dia, as pessoas amanheceram tocantinenses, mas sem referências culturais que as representassem como tais.

A respeito da projeção simbólica do novo Estado e de sua nova capital, assinale a opção que interpreta corretamente o processo de construção e atribuição de uma identidade ao Tocantins.

- (A) Desde o primeiro mandato do governador Siqueira Campos, os símbolos oficiais do Tocantins continuaram sendo o brasão de armas, a bandeira, o selo estadual e a canção "Hino ao Tocantins", de Liberato Costa Póvoa e Abiezer Alves da Rocha.
- (B) O girassol foi reconhecido oficialmente como símbolo da natureza do Estado, por ser uma planta nativa dos cerrados tocantinenses e estar associada à prosperidade e à esperança.
- (C) A Praça dos Girassóis, centro cívico de Palmas, foi concebida para receber edifícios esteticamente associados à cultura do Tocantins, como o Palácio do Araguaia, cujos pórticos remetem ao capim dourado, símbolo da tradição do artesanato de alta qualidade da região.
- (D) A monumentalidade da Praça dos Girassóis é enfatizada pelo seu pavimento, que contém figuras simbólicas como o mapa do Tocantins, a rosa dos ventos, o brasão de armas e a Praça Krahô.
- (E) O meio ambiente também foi utilizado para fortalecer o sentimento identitário, inserindo o girassol, a fava-de-bolota, a arara-canindé e a granada como símbolos da natureza do Tocantins, desde a promulgação da Constituição Estadual em 1989.

38

A respeito da matriz energética do Estado e dos investimentos em biocombustíveis, analise as afirmativas a seguir e assinale (V) para a verdadeira e (F) para a falsa.

- ( ) O Estado tem condições de clima e solo desfavoráveis para o plantio de matérias-primas usadas na fabricação de biocombustíveis, mas a expansão do modal logístico (Ferrovia Norte-Sul) permitirá o acesso à soja do planalto goiano.
- ( ) O Tocantins conta com duas usinas de biodiesel em funcionamento, utilizando o pinhão-manso, a soja, a mamona e outras oleaginosas como matéria-prima.
- ( ) O Estado tem alto potencial de geração de energia solar, pela elevada irradiação solar e pelas políticas públicas voltadas para produção de energia limpa e renovável, como a Política Estadual de Incentivo à Geração e ao Uso da Energia Solar (Pró-Solar)

As afirmativas são, respectivamente,

- (A) V – F – V.  
 (B) F – V – V.  
 (C) F – F – V.  
 (D) V – V – F.  
 (E) V – V – V.

39

*As belas paisagens como serras, cachoeiras, praias e até mesmo dunas, fazem do Tocantins um paraíso de paisagens naturais, atraindo turistas de várias regiões para conhecer o mais novo Estado brasileiro. A potencialidade para o ecoturismo e a preocupação em conservar a biodiversidade e recursos naturais nele contidos fez com que o Governo do Estado, criasse e implementasse as Unidades de Conservação Ambiental (UC).*

Adaptado de <https://www.to.gov.br/secom/>

A respeito das Unidades de Conservação (UC) do Tocantins, assinale a afirmativa correta.

- (A) São espaços territoriais legalmente instituídos pelo poder público e podem ser de proteção integral federal, como no caso dos Parques Cantão, Jalapão e Lajeado.
- (B) As UCs federais estão subordinadas ao Instituto Chico Mendes de Conservação da Biodiversidade (ICMBio), como no caso do Monumento Natural das Árvores Fossilizadas.
- (C) As UCs estaduais estão subordinadas ao Instituto Natureza do Tocantins (Naturatins), que supervisiona o Parque do Araguaia e o das Nascentes do rio Parnaíba.
- (D) As UCs de uso sustentável são compostas exclusivamente por áreas públicas, sendo permitida sua utilização apenas para o ecoturismo, pesquisa e educação ambiental.
- (E) As UCs municipais estão subordinadas às secretarias de meio ambiente, como no caso do Monumento Natural dos Cânions e Corredeiras do Rio Sono e do Parque Ecológico Roberto Guedes Pereira.

40

O Estado do Tocantins possui diversas comunidades quilombolas certificadas e outras com processo formalizado para regularização fundiária de seus territórios. A definição de comunidade quilombola é dada pelo Art. 2º do Decreto nº 4.887/2003:

*Consideram-se remanescentes das comunidades dos quilombos, para os fins deste Decreto, os grupos étnico-raciais, segundo critérios de auto-atribuição, com trajetória histórica própria, dotados de relações territoriais específicas, com presunção de ancestralidade negra relacionada com a resistência à opressão histórica sofrida.*

A respeito dos órgãos e processos envolvidos na identificação e regularização de territórios quilombolas no Estado do Tocantins, assinale a afirmativa correta.

- (A) O acesso dessas comunidades às políticas públicas de educação, saúde, moradia e regularização fundiária depende de o Estado emitir uma certidão de identificação de comunidade quilombola, mediante Fundação Palmares.
- (B) Os critérios para reconhecimento de um grupo enquanto remanescente de quilombo depende da comprovação de sua ancestralidade, seu parentesco e da preservação viva de religiosidades autenticamente africanas.
- (C) A Coordenação Nacional de Articulação de Comunidades Negras Rurais Quilombolas (CONAQ) luta pela incorporação constitucional do direito à autodefinição dos remanescentes de quilombos.
- (D) A certificação quilombola é realizada pela Fundação Cultural Palmares, que avalia com visitas técnicas a autenticidade do legado quilombola pretendido e, caso o aprove, emite a certidão de comunidade quilombola e a inscreve em um cadastro geral.
- (E) O acesso às terras ocupadas pelos remanescentes das comunidades dos quilombos é garantido por sua delimitação e titulação, a cargo da autoridade municipal em que a mesma se localiza.

## CONHECIMENTOS ESPECÍFICOS

41


Na organização de um evento, um aspecto importante é o controle da realização daquilo que foi planejado. Um recurso eficiente para este acompanhamento detalhado é o uso de uma lista que contém os itens básicos para a efetivação de um evento bem sucedido.

Esta lista é denominada

- (A) *check-out*.
- (B) *check-in*.
- (C) *check-list*.
- (D) *check-over*.
- (E) *check-up*.

42

Em uma cerimônia, a mesa será composta por oito autoridades. A figura a seguir representa a mesa como vista da plateia.



Nesse caso, a quarta autoridade na ordem de precedência ocupará a posição indicada pelo número

- (A) I.
- (B) II.
- (C) III.
- (D) IV.
- (E) V.

43

Leia a definição a seguir.

*“Reunião formal e periódica de profissionais que atuam numa mesma área, promovida por entidades associativas, com o objetivo de apresentar temas específicos, debater e extrair conclusões.”*

O texto define o seguinte tipo de evento:

- (A) conferência.
- (B) mesa-redonda.
- (C) painel.
- (D) congresso.
- (E) seminário.

44

Na confecção de convites formais para um evento, as seguintes providências devem ser tomadas, **à exceção de uma**. Assinale-a.

- (A) Definição do formato a ser adotado: convites eletrônicos, impressos ou ambos.
- (B) O texto deve ser preferencialmente redigido na ordem direta (sujeito, predicado e complementos) e respeitar as normas cultas da língua portuguesa.
- (C) Ao utilizar siglas, não escrevê-las por extenso.
- (D) Usar adjetivos somente quando indispensáveis para complementar a informação.
- (E) Exibir formas de contato para confirmações ou recusas (*e-mail*, *site*, telefone, entre outros).

45

Em relação aos convites para uma cerimônia, avalie se os seguintes aspectos devem ser considerados:

- I. Checar se os dados dos destinatários cadastrados estão corretos.
- II. Avaliar prazos mínimos de antecedência para o envio, de forma a garantir que o convidado, ao receber o convite tenha tempo suficiente para organizar a sua participação.
- III. Monitorar o envio e conferir protocolos de entrega.
- IV. Deixar pronta a lista de confirmações e escusas para registrar os retornos dos convidados confirmando presença ou não.

Estão corretas as ações

- (A) I e II, apenas.
- (B) III e IV, apenas.
- (C) I, II e III, apenas.
- (D) II, III e IV, apenas.
- (E) I, II, III e IV.

46

O registro da relação dos convidados presentes numa solenidade, elaborado basicamente com os mesmos dados extraídos e revisados da lista de confirmações e escusas, apenas acrescida da forma de tratamento devida a cada convidado, é denominado

- (A) nominativa.
- (B) relativa.
- (C) *check-list*.
- (D) catálogo.
- (E) relacionada.

47

A etapa de preparação de um evento começa com uma ideia inicial e se desenvolve na definição da linha mestra do propósito do evento. Avalie se os passos seguintes da preparação do evento envolvem as seguintes providências:

- I. Definição de atividades, prazos e custos.
- II. Aprovação dos organizadores e dos financiadores.
- III. Acompanhamento do fluxo financeiro e do cronograma.

Está correto o que se apresenta em

- (A) I, apenas.
- (B) I e II, apenas.
- (C) I e III, apenas.
- (D) II e III, apenas.
- (E) I, II e III.

48

O conjunto de formalidades a ser seguido em um ato solene denomina-se

- (A) cerimonial.
- (B) protocolo.
- (C) evento.
- (D) precedência.
- (E) atividade-fim.

49

Em relação aos convites para uma cerimônia ou para um evento, avalie as afirmativas a seguir e assinale (F) para a falsa e (V) para a verdadeira.

- ( ) Devem ter *design* discreto e elegante.
- ( ) Devem apresentar texto claro e objetivo.
- ( ) Devem estimular a participação do convidado.

As afirmativas são, respectivamente,

- (A) F – V – V.
- (B) V – F – F.
- (C) V – F – V.
- (D) F – F – F.
- (E) V – V – V.

50

Avalie se os convites para um evento devem conter os seguintes elementos básicos:

- I. Cargo e instituição da pessoa que convida.
- II. Nome do evento, local, data, hora.
- III. Nome completo do convidado.
- IV. Informações para contato (telefone, e-mail).
- V. Pedido de confirmação, se necessário.

Estão corretos os itens

- (A) I, II e III, apenas.
- (B) III, IV e V, apenas.
- (C) I, II, IV e V, apenas.
- (D) II, III, IV e V, apenas.
- (E) I, II, III, IV e V.

51

Leia o texto a seguir.

*Apresentação de um tema de grande interesse, técnico ou científico, a um público selecionado, com a participação de especialistas no assunto. Em geral, os expositores não debatem entre si, embora suas manifestações sejam sobre o mesmo assunto. O público, ao participar de modo ativo dos trabalhos, mediante intervenções, fornece o clima para desenrolar os debates. O coordenador ou mediador, no final, apresenta uma conclusão, representando a maioria das opiniões que é submetida à aprovação do grupo e transformada em documento, que servirá de orientação para a área.*

O texto define o seguinte tipo de evento:

- (A) Congresso.
- (B) Simpósio.
- (C) Seminário.
- (D) Convenção.
- (E) Colóquio.

52

Suponha que se planeja organizar um evento de porte médio, como um congresso nacional, que envolverá convidados e palestrantes de vários estados diferentes inclusive internacionais. Esse tipo de evento exige planejamento minucioso. Há de se pensar no local do evento, na logística de transporte, na hospedagem dos convidados, na alimentação dos participantes, entre muitos outros aspectos.

Em relação a transporte e receptivo, avalie se as afirmativas a seguir são falsas (F) ou verdadeiras (V).

- ( ) A recepção aos participantes do evento pode ser realizada nos pontos de chegada, como aeroporto ou estação rodoviária e pode também ser feita nos hotéis ou no próprio local do evento.
- ( ) Palestrantes e autoridades geralmente requerem transporte aéreo. Nesses casos, é necessária uma meticulosa organização para reserva, troca de horários de voos.
- ( ) Desaconselha-se uma aproximação da instituição promotora com agências de viagens ou com empresas aéreas para a coordenação do transporte aéreo dos participantes do evento, de modo a evitar que interesses comerciais se sobreponham aos institucionais.
- ( ) O transporte terrestre assume caráter bem relevante quando o evento se desenvolve em local afastado dos locais de hospedagem; dessa forma, providências quanto a transportes opcionais podem ser requeridas.

As afirmativas são, respectivamente,

- (A) V – V – V – V.
- (B) F – F – V – V.
- (C) V – V – F – V.
- (D) F – V – V – F.
- (E) V – F – V – F.

53

*Parte importante do cerimonial e constitui-se do conjunto de normas para conduzir atos oficiais sob as regras da diplomacia, tais como a ordem geral de precedência. Em alguns eventos, principalmente aqueles nos quais estão presentes várias autoridades municipais, estaduais, federais, com a formação de mesa de honra, soluciona as dúvidas de quem deverá ser chamado primeiro, quem deverá ficar ao lado de quem ou quando irá pronunciar-se.*

Guia de eventos da rede federal de educação profissional e tecnológica, p. 9. (Adaptado)

O texto se refere a

- (A) protocolo.
- (B) pronunciamento.
- (C) precedência.
- (D) representação.
- (E) plano de ação.

54

Em relação à precedência em solenidades públicas estaduais, avalie, com base no Decreto Federal nº 70.274/1972, as afirmativas a seguir.

- I. O Governador presidirá as solenidades a que comparecer, salvo as dos Poderes Legislativo e Judiciário e as de caráter exclusivamente militar, nas quais será observado o respectivo cerimonial.
- II. No respectivo Estado, o Governador, o Vice-Governador, o Presidente da Assembleia Legislativa e o Presidente do Tribunal de Justiça terão, nessa ordem, precedência sobre as autoridades federais.
- III. A precedência entre os Governadores dos Estados, do Distrito Federal e dos Territórios é determinada pela ordem de constituição histórica dessas entidades.

Está correto o que se afirma em

- (A) I, apenas.
- (B) I e II, apenas.
- (C) I e III, apenas.
- (D) II e III, apenas.
- (E) I, II e III.

55

De acordo com o que dispõe o Decreto Federal nº 70.274/1972, as seguintes afirmativas acerca da precedência em solenidades públicas estão corretas, **à exceção de uma**. Assinale-a.

- (A) Nos casos omissos, o Chefe do Cerimonial, quando solicitado, prestará esclarecimento de natureza protocolar, bem como determinará a colocação de autoridades e personalidades que não constem da Ordem Geral de Precedência.
- (B) Em jantares e almoços, nenhum convidado poderá fazer-se representar.
- (C) Quando o Presidente da República se fizer representar em solenidades ou cerimônias, o lugar que compete a seu representante é à esquerda da autoridade que as presidir.
- (D) Os representantes dos Poderes Legislativo e Judiciário, quando membros dos referidos Poderes, terão a colocação, que compete aos respectivos Presidentes.
- (E) Nenhum convidado poderá fazer-se representar nas cerimônias a que comparecer o Presidente da República.

56

Em uma solenidade de posse de autoridade pública, considere os seguintes atos que ocorrem depois do início da solenidade, pelo mestre de cerimônias e antes do encerramento:

1. Execução do Hino Nacional.
2. Anúncio das autoridades presentes.
3. Discurso do empossado.
4. Discurso do atual ocupante do cargo.
5. Leitura e assinatura do termo de posse.
6. Composição da mesa de honra.
7. Discurso da mais alta autoridade presente.

A ordem correta dos atos na solenidade é:

- (A) 1 – 2 – 6 – 5 – 4 – 3 – 7.
- (B) 1 – 2 – 6 – 4 – 5 – 7 – 3.
- (C) 2 – 1 – 6 – 5 – 4 – 7 – 3.
- (D) 6 – 1 – 2 – 4 – 5 – 3 – 7.
- (E) 6 – 2 – 4 – 5 – 1 – 7 – 3.

57

Suponha que o Governador do Estado A deseja enviar um ofício para o Governador do Estado B e que você seja escalado para estruturar e esboçar o documento. Nesse sentido, você deve tomar os cuidados a seguir, **à exceção de um**. Assinale-o.

- (A) Cabeçalho: O cabeçalho indica o emissor do ofício, por meio de uma folha timbrada contendo o logo, brasão ou identificador de quem emite e deve incluir os dados do emissor para contato, tais como endereço, telefone, sítio eletrônico oficial.
- (B) Número do ofício: A numeração do ofício tem como finalidade organizar internamente as notificações enviadas com a respostas recebidas.
- (C) Local e data: O local e data tem importância relevante para o controle de quem emite e de quem recebe o ofício.
- (D) Destinatário: Importante definir com clareza o responsável pelo recebimento do ofício, indicando pormenorizadamente o nome, cargo e endereço de sua localização, incluindo o setor, se possível.
- (E) Assunto: Indique o tema tratado; quanto mais objetivo e claro, melhor; o Assunto direciona o ofício internamente para quem de fato tem a responsabilidade de respondê-lo.

58

Palestras, *workshops* e cursos são melhor classificados como exemplos de eventos

- (A) promocionais
- (B) técnico-científicos.
- (C) de capacitação e treinamento.
- (D) de socialização.
- (E) protocolares.

59

Na escolha do local para a realização de um evento, avalie se os seguintes aspectos, entre outros, devem ser considerados:

- I. Estimativa do número de participantes. Espaços vazios sugerem fracasso. Espaços cheios demais indicam inadequação do local ao tipo de evento.
- II. Condições de acomodação dos participantes: o local deve ser capaz de oferecer conforto aos participantes mesmo em jornadas de dia inteiro.
- III. Facilidade de acesso ao local: avaliar as opções de transporte coletivo, se as vias de acesso são adequadas, se há local para estacionar.
- IV. Acessibilidade: verificar se o local é de fácil acesso para pessoas com dificuldade de locomoção.
- V. Existência de espaços de apoio: avaliar cuidadosamente se há, por exemplo, espaços como copa, sala de autoridades, depósito de materiais, para expositores e também para montagem da secretaria.
- VI. Condições técnicas e operacionais para a uso de recursos audiovisuais.

Estão corretos os itens

- (A) I, II, III, IV, V e VI.
- (B) I, III e V, apenas.
- (C) II, III, IV e V, apenas.
- (D) I, II, III e VI, apenas.
- (E) III, IV, V e VI, apenas.



60

Ao trabalhar com os recursos financeiros, alguns aspectos são de fundamental importância.

Em relação ao tema, analise as afirmativas a seguir.

- I. Atenção com o cronograma de desembolso dos recursos e com o valor total disponível no orçamento; os prazos para a liberação das receitas podem ser escalonados e eventos com várias etapas e diferentes tipos de despesa precisam se adaptar ao calendário de liberações.
- II. Sistematizar rigorosamente e objetivamente o fluxo de entrada e saída de recursos para a prestação de contas a qualquer tempo durante o período de organização e no relatório final.
- III. Recursos extras: preveja em detalhe os custos operacionais, logísticos, de pessoal e de divulgação, pois recursos extras para despesas extraordinárias ou de última hora denotam falta de planejamento e desorganização e não podem estar disponíveis.

Está correto o que se afirma em

- (A) I, apenas.
- (B) I e II, apenas.
- (C) I e III, apenas.
- (D) II e III, apenas.
- (E) I, II e III.

61

Em uma cerimônia estão presentes os Ministros de Estado da Justiça, das Relações Exteriores e de Minas e Energia.

A precedência entre eles se dá na seguinte ordem:

- (A) Justiça, Relações Exteriores e Minas e Energia.
- (B) Relações Exteriores, Justiça e Minas e Energia.
- (C) Minas e Energia, Justiça, Relações Exteriores.
- (D) Justiça, Minas e Energia e Relações Exteriores.
- (E) Minas e Energia, Relações Exteriores e Justiça.

62

Em relação à representação em cerimônias, analise as afirmativas a seguir.

- I. Em jantares e almoços, nenhum convidado poderá fazer-se representar.
- II. Quando o Presidente da República se fizer representar em solenidades ou cerimônias, o lugar que compete a seu representante é à esquerda da autoridade que as presidir.
- III. Nenhum convidado poderá fazer-se representar nas cerimônias a que comparecer o Presidente da República.

Está correto o que se afirma em

- (A) I, apenas.
- (B) I e II, apenas.
- (C) I e III, apenas.
- (D) II e III, apenas.
- (E) I, II e III.

63

Em relação ao hasteamento da Bandeira Nacional, de acordo com o Decreto nº 70.274, de 1972, as seguintes afirmativas estão corretas, **à exceção de uma**. Assinale-a.

- (A) A Bandeira Nacional estará permanentemente no topo de um mastro especial plantado na Praça dos Três Poderes de Brasília, no Distrito Federal, como símbolo perene da Pátria e sob a guarda do povo brasileiro.
- (B) A substituição da Bandeira será feita com solenidades especiais no 1º domingo de cada mês, devendo o novo exemplar atingir o topo do mastro antes que o exemplar substituído comece a ser arriado.
- (C) Na base do mastro especial estarão inscritos exclusivamente os seguintes dizeres: Sob a guarda do povo brasileiro, nesta Praça dos Três Poderes, a Bandeira sempre no alto - visão permanente da Pátria.
- (D) A Bandeira Nacional só pode ser hasteada e arriada durante o dia, nunca à noite.
- (E) Hasteia-se diariamente a Bandeira Nacional no Palácio da Presidência da República.

64

Em relação à conferência, avalie as afirmativas a seguir.

- I. Caracteriza-se pela apresentação de um tema informativo, técnico ou científico, por autoridade em determinado assunto.
- II. Em geral é apresentada para um grande número de pessoas.
- III. É mais informal do que a palestra, e não exige, portanto, a presença de um presidente de mesa.
- IV. As perguntas devem ser feitas depois do término da conferência.

Está correto o que se afirma em

- (A) I e II, apenas.
- (B) III e IV, apenas.
- (C) I, II e III, apenas.
- (D) I, II e IV, apenas.
- (E) I, II, III e IV.

65

Durante o evento, a secretaria é a responsável por todo o apoio administrativo do evento, isto é, toda a infraestrutura necessária instalada no local, que apoiará, direta ou indiretamente, a realização do evento. Assim, a Secretaria é o centro administrativo do evento, nela devem ficar os recepcionistas sob a orientação de um coordenador.

Avalie se as funções da secretaria durante o evento incluem, entre outras, as seguintes atividades:

- I. Recepcionar os participantes, convidados e autoridades, entregar materiais aos participantes, prestar informações em geral.
- II. Preparar com antecedência os impressos e outros materiais necessários ao evento.
- III. Supervisionar os serviços oferecidos aos participantes, convidados e autoridades.
- IV. Efetuar novas inscrições e, ao final, entregar certificados.

Estão corretas as atividades

- (A) I e II, apenas.
- (B) III e IV, apenas.
- (C) I, II e III, apenas.
- (D) II, III e IV, apenas.
- (E) I, II, III e IV.

## LEGISLAÇÃO INSTITUCIONAL

66

Nos termos da Constituição do Estado do Tocantins, constitui objeto de lei complementar a seguinte matéria:

- (A) os prazos de prescrição para ilícitos praticados por qualquer agente, servidor ou não, que causem prejuízos ao erário.
- (B) os limites de idade, a estabilidade e outras condições de transferência do servidor militar para a inatividade.
- (C) os casos de contratação por tempo determinado para atender à necessidade temporária de excepcional interesse público.
- (D) as regras para cálculo de proventos de aposentadoria e pensão por morte.
- (E) os requisitos e as restrições ao ocupante de cargo ou emprego da administração direta e indireta que possibilite o acesso a informações privilegiadas.

67

Considerando o exercício da função legislativa por parte da Assembleia Legislativa de Tocantins, nos termos de seu Regimento Interno, é correto afirmar que

- (A) projetos de lei delegada podem se destinar a regular as matérias de exclusiva competência do Poder Executivo, com a sanção do Governador do Estado.
- (B) projetos de resolução podem se destinar a regular, com eficácia de lei ordinária, matéria de competência privativa da Assembleia Legislativa.
- (C) projetos de lei complementar visam regular matéria infraconstitucional.
- (D) projetos de lei têm por objetivo regular matérias de competência do Poder Legislativo, sem a sanção do Governador do Estado.
- (E) projetos de decreto legislativo destinam-se à delegação de competência, na forma estabelecida na Constituição Estadual.

68

Aline, servidora pública estadual, revelou segredo do qual se apropriou em razão do cargo que ocupa. A Administração Pública, ao tomar conhecimento do fato, instaurou procedimento administrativo disciplinar a fim de apurar a conduta e garantir à servidora os princípios da ampla defesa e do contraditório.

À luz do Estatuto dos Servidores Públicos Cíveis do Estado do Tocantins, caso punida, Aline poderá ser sancionada com

- (A) advertência.
- (B) suspensão.
- (C) prestação de serviço.
- (D) multa.
- (E) demissão.

Ana, servidora pública efetiva e estável, ocupante de cargo de nível superior, objetivando inteirar-se sobre os requisitos para a progressão na carreira, consultou a Lei nº 4.208/2023, que trata sobre o plano de cargos, carreiras e remuneração dos Servidores da Assembleia de Tocantins.

Assim, para fazer jus à progressão, Ana terá que

- (A) possuir no máximo três faltas injustificadas por exercício referente ao período avaliado.
- (B) obter conceito igual ou superior a 70% (setenta por cento) dos pontos possíveis em todos os procedimentos de sua Avaliação.
- (C) concluir curso de pós-graduação *lato sensu* com duração mínima de 360 (trezentos e sessenta) horas.
- (D) cumprir trinta meses de efetivo exercício na classe em que se encontra.
- (E) concluir cursos de aperfeiçoamento em sua área de atuação que tenha, no mínimo, 80 (oitenta) horas de duração.

70

Antônio foi nomeado para o cargo de Controlador Interno da Assembleia Legislativa de Tocantins.

À luz da Lei nº 4.209/2023, que dispõe sobre a estrutura administrativa da Aletto, durante o exercício da função, Antônio será competente para:

- (A) opinar, conclusivamente, em processos de direitos, deveres e obrigações dos servidores do Poder Legislativo.
- (B) constituir Comissão Permanente de Licitação.
- (C) examinar a observância das normas de licitações.
- (D) apresentar à Mesa Diretora o balancete mensal e, no início de cada exercício, o balancete geral das contas da Assembleia Legislativa, relativo ao exercício anterior.
- (E) planejar, coordenar, orientar, controlar e dirigir as atividades administrativas, orçamentárias, financeiras, de comunicação social, de tecnologia de informação e de apoio legislativo da Assembleia Legislativa.



# ASSEMBLEIA LEGISLATIVA DO ESTADO DO TOCANTINS

CONCURSO PÚBLICO – EDITAL Nº 01/2023

## PROVA OBJETIVA – TARDE

### ANALISTA LEGISLATIVO CIÊNCIAS CONTÁBEIS

NÍVEL SUPERIOR – TIPO 1 – BRANCA



#### SUA PROVA

- Além deste caderno contendo **70 (setenta)** questões objetivas, você receberá do fiscal de prova o cartão de respostas;
- As questões objetivas têm **5 (cinco)** opções de resposta (A, B, C, D) e somente uma delas está correta.



#### INFORMAÇÕES GERAIS

- Verifique se seu caderno de questões está completo, sem repetição de questões ou falhas. Caso contrário, **notifique imediatamente o fiscal da sala**, para que sejam tomadas as devidas providências;
- Confira seus dados pessoais, especialmente nome, número de inscrição e documento de identidade e leia atentamente as instruções para preencher o cartão de respostas;
- Para o preenchimento do cartão de respostas, use somente caneta esferográfica, fabricada em material transparente, com tinta preta ou azul;
- Assine seu nome apenas no(s) espaço(s) reservado(s) no cartão de respostas;
- Confira seu cargo, cor e tipo do caderno de questões. Caso tenha recebido caderno de cargo ou cor ou tipo **diferente** do impresso em seu cartão de respostas, o fiscal deve ser **obrigatoriamente** informado para o devido registro na ata da sala;
- Reserve tempo suficiente para o preenchimento do seu cartão de respostas. O preenchimento é de sua responsabilidade e **não será permitida a troca do cartão de respostas em caso de erro cometido pelo candidato**;
- Para fins de avaliação, serão levadas em consideração apenas as marcações realizadas no cartão de respostas;
- A FGV coletará as impressões digitais dos candidatos na lista de presença;
- Os candidatos serão submetidos ao sistema de detecção de metais quando do ingresso e da saída de sanitários durante a realização das provas.
- **Boa prova!**



#### TEMPO

- Você dispõe de **5 (cinco) horas** para a realização da prova, já incluído o tempo para a marcação do cartão de respostas;
- **3 (três) horas** após o início da prova, é possível retirar-se da sala, sem levar o caderno de questões;
- A partir dos **30 (trinta) minutos** anteriores ao término da prova é possível retirar-se da sala **levando o caderno de questões**.



#### NÃO SERÁ PERMITIDO

- Qualquer tipo de comunicação entre os candidatos durante a aplicação da prova;
- Anotar informações relativas às respostas em qualquer outro meio que não seja o caderno de questões;
- Levantar da cadeira sem autorização do fiscal de sala;
- Usar o sanitário ao término da prova, após deixar a sala.

## CONHECIMENTOS BÁSICOS

### Língua Portuguesa

1

Observe o seguinte texto:

*Quando entrei no terrível vagão, ele estava ocupado por duas pessoas. Uma, dobrada, coberta, dormia profundamente. A coberta superior estava manchada, de fundo amarelado, como pele de leopardo. Vendem-se muitas mantas assim nas lojas de artigos de viagens, mas pude notar logo depois que se tratava realmente da pele de um animal selvagem; do mesmo modo, o boné da pessoa adormecida me pareceu ser de feltro branco bastante delicado. O outro viajante, uma aparência simpática, parecia ter passado dos trinta anos e mostrava-se como figura insignificante que passa confortavelmente as noites em estradas de ferro.*

Nesse fragmento textual, para criar sinais de história realista e verdadeira, o narrador apela para a seguinte estratégia:

- (A) seleciona uma situação banal da qual não precisa fornecer muitos detalhes, exatamente por sua banalidade.
- (B) fornece algumas marcas caracterizadoras dos dois personagens presentes no texto, destacando sua banalidade.
- (C) indica traços descritivos do ambiente, mostrando-o como se nada houvesse nele de excepcional.
- (D) mostra detalhes variados e bastante pitorescos dos objetos descritos.
- (E) dá ao leitor informações sobre personagens e ambiente, mostrando-os como bastante conhecidos do narrador.

2

Assinale a frase que mostra a palavra *mais* numa classe gramatical **diferente** das demais.

- (A) O mercado está prisioneiro de mais um círculo vicioso: piora porque piorou e porque piorou, piora.
- (B) Os ingleses conquistaram o mundo porque não aguentavam mais a própria cozinha.
- (C) Quanto mais vejo o estrangeiro, mais amo a minha pátria.
- (D) Não é mais possível aprender tudo de cor. Um homem instruído não é mais o homem que sabe muitas coisas; é o homem que sabe onde buscar informações.
- (E) Muda-se mais facilmente de religião do que de café

3

As frases a seguir mostram termos ligados pela conjunção OU.

Assinale a frase em que essa conjunção mantém o valor de alternativa (e não de adição).

- (A) João ou Pedro deve ser eleito presidente da empresa.
- (B) A alegria ou a tristeza fazem parte da vida.
- (C) Inglês ou francês são idiomas falados pelos turistas
- (D) Os clientes leem livros ou revistas enquanto esperam.
- (E) Vasco ou Flamengo são times de longa tradição.

4

Um guitarrista americano produziu o seguinte pensamento:

*O crítico de rock é alguém que não sabe escrever, entrevistando gente que não sabe falar, para gente que não sabe ler.*

Sobre a estruturação ou a significação desse pequeno texto, assinale a afirmativa **incorreta**.

- (A) O termo “de rock” funciona como complemento nominal do termo anterior.
- (B) Todos os elementos da cadeia comunicativa citados no texto são marcados pela ignorância.
- (C) O pensamento acima revela um preconceito fortíssimo contra os amantes de rock.
- (D) A opinião expressa no texto pode advir da experiência pessoal do autor, já que se trata de um guitarrista.
- (E) A injustiça desse texto provém de ser uma opinião fundamentada em uma autoridade duvidosa.

5

John Steinbeck, prêmio Nobel, declarou o seguinte:

*O homem é o único animal que bebe sem ter sede, come sem ter fome e fala sem ter nada a dizer.*

Em relação ao significado e à estruturação desse pequeno texto, assinale a afirmativa **incorreta**.

- (A) A frase ficaria mais enfática se invertêssemos a posição do termo inicial: O único animal que bebe sem ter sede, come sem ter fome e fala sem ter nada a dizer é o homem.
- (B) A inversão de alguns segmentos do texto em nada modificaria o sentido da frase: O homem é o único animal que come sem ter fome, bebe sem ter sede e fala sem ter nada a dizer.
- (C) Os segmentos finais do texto mostram preocupação com rigoroso paralelismo sintático.
- (D) Segundo a opinião do autor do texto, a marca principal do homem é a irracionalidade.
- (E) Nem todas as ações citadas como marcas humanas estão presentes, por oposição, nos outros animais.

6

Assinale a frase que **não** expressa uma noção de tempo abstrato.

- (A) Nas asas do tempo, a tristeza voa.
- (B) Quem mata o tempo não é assassino, é suicida.
- (C) O tempo perdido não se encontra nunca mais.
- (D) O tempo é o melhor professor. Infelizmente, ele mata todos os seus estudantes
- (E) O tempo gasto na viagem foi de duas horas.

7

Assinale a frase em que a utilização do acento grave indicativo da crase é realizada de forma **errada**.

- (A) Jamais alguém se arrependeu de ter-se acostumado à madrugada e à ter-se casado jovem.
- (B) Tempo é o suspiro de adeus do sol à terra.
- (C) Saio todos os dias às cinco horas e não permito que o meu trabalho interfira no meu jogo de tênis.
- (D) O momento de extrair uma lição da história está sempre à mão para os sábios.
- (E) Quando assumi, quatro anos atrás, estávamos à beira do precipício.

8

Os adjetivos podem representar estados, qualidades, características e relações.

Assinale a frase que mostra um tipo de adjetivo **diferente** dos demais.

- (A) Nunca houve criança tão amável que a própria mãe não ficasse satisfeita ao conseguir adormecê-la.
- (B) Nada mais perversamente cruel que uma adorável criança.
- (C) Mesmo estando doentes, as crianças não ficam caladas.
- (D) Quando as crianças estão quietas é porque fizeram alguma coisa errada.
- (E) As tangerinas verdes não amadurecem fora do pé.

9

Assinale a frase em que o adjetivo sublinhado mostra uma função sintática **diferente** das demais.

- (A) Por fora bela viola, por dentro pão **bolorento**.
- (B) Tiradentes, **heroico**, tentou organizar uma revolução.
- (C) Um rosto **bonito** altera-se depressa.
- (D) Eu não podia acreditar que existem múmias tão **lindas**.
- (E) Um homem belo é um homem **insignificante**.

10

Assinale a opção que mostra uma impropriedade léxica, ou seja, um emprego **inadequado** da expressão “cerca de”.

- (A) Havia cerca de três dúzias de convidados no final da festa.
- (B) Chegaram cerca de 100 cartas no mesmo dia.
- (C) Cerca de 18 lojas fecharam as portas mais cedo.
- (D) Os cantores receberam cerca de uma centena de convites.
- (E) A plantação produziu cerca de uma tonelada de legumes.

11

Muitas palavras portuguesas mostram o prefixo A- sem qualquer valor semântico, sendo equivalentes ao mesmo vocábulo sem esse prefixo.

Assinale a palavra a seguir que exemplifica esse A protético.

- (A) amostrar
- (B) abraçar
- (C) atenuar
- (D) aguardar
- (E) aparar

12

Observe o seguinte texto:

*A felicidade depende da habilidade que tenhamos naquelas atividades que consideramos importantes: somente se lhes damos um real valor aos pequenos detalhes cotidianos, poderemos ter instantes felizes. A felicidade absoluta não existe, e já que só podemos acessar os pequenos detalhes daquilo que nos interessa, devemos contentar-nos com isso. Por isso, a infelicidade é um sinal claro de nossa incompetência na arte de viver.*

Sobre a estrutura e a significação desse texto, assinale a afirmativa **inadequada**.

- (A) O tema do texto gira em torno do que consiste a felicidade e o que viria a ser o seu oposto.
- (B) A afirmação de que “A felicidade absoluta não existe” é de cunho pessoal do autor do texto, representando uma opinião.
- (C) O raciocínio utilizado na estruturação argumentativa é do tipo dedutivo.
- (D) O conector “Por isso” mostra a preocupação com o caráter lógico da argumentação.
- (E) A tese do texto é a de que a infelicidade é fruto de nossa incompetência na arte de viver.

## Raciocínio Lógico Matemático

13

Certo programa de rádio tem 1 hora e 55 minutos de duração. A partir do momento em que o programa é iniciado, há blocos temáticos de 7 minutos intercalados por blocos de propagandas de 2 minutos.

Em todos os blocos de propaganda, ouve-se o comercial do restaurante R, que sempre dura 18 segundos.

Se o programa começa e termina com um bloco temático, então, o tempo total do programa dedicado ao anúncio do restaurante R é

- (A) 3 minutos e 54 segundos.
- (B) 3 minutos e 36 segundos.
- (C) 3 minutos e 18 segundos.
- (D) 3 minutos.
- (E) 2 minutos e 48 segundos.

14

A linha de produção de certa fábrica produz 1100 latas de sardinhas a cada hora. Certo dia, por um defeito de calibragem do sistema, entre 13h e 14h, o volume de produção foi reduzido em 30% durante exatos 12 minutos.

A quantidade de latas de sardinhas produzidas no intervalo supracitado foi

- (A) 946.
- (B) 964.
- (C) 1022.
- (D) 1034.
- (E) 1046.

15

Marcelo está parado de frente para uma das paredes de uma sala quadrada. Nesta posição, ele está a 1m e 20cm da parede que se encontra à sua direita e a 1m e 70cm da parede que está às suas costas.

Ele, então, se desloca paralelamente às paredes da sala sendo 40cm para a frente e 80cm para a direita. Nessa nova posição, ele passou a distar 1m e 90cm da parede que antes estava à sua esquerda.

Desprezando-se as dimensões de Marcelo, a sua atual distância à parede que, antes dos movimentos, estava à sua frente, é

- (A) 20cm.
- (B) 30cm.
- (C) 40cm.
- (D) 50cm.
- (E) 60cm.

16

Um dado é dito comum quando tem a forma de um cubo e suas 6 faces são numeradas de 1 a 6, de tal forma que a soma dos números estampados em faces opostas, quaisquer que sejam elas, sempre somam 7.

Quando um dado comum é lançado, diz-se que o resultado do lançamento é o número estampado na face voltada para cima.

Um dado foi lançado 3 vezes seguidas. Se o produto dos resultados obtidos nos lançamentos vale 75, a soma desses resultados é igual a

- (A) 12.
- (B) 13.
- (C) 14.
- (D) 15.
- (E) 16.

17

Em certo ano, o dia 1º de agosto cai em um domingo. Logo, o dia 1º de novembro cairá em

- (A) um sábado.
- (B) um domingo.
- (C) uma segunda-feira.
- (D) uma quarta-feira.
- (E) uma sexta-feira.

18

Considere a seguinte proposição condicional:

*Se todos os alunos da Escola Aristarco gostam de matemática, então, ao menos um deles ganha medalha na Olimpíada Nacional de Matemática.*

Se essa proposição é verdadeira, é correto afirmar que

- (A) se nenhum dos alunos da Escola Aristarco gosta de Matemática, então nenhum deles ganha medalha na Olimpíada Nacional de Matemática.
- (B) se todos os alunos da Escola Aristarco ganham medalha na Olimpíada Nacional de Matemática, então, todos esses alunos gostam de Matemática.
- (C) se algum aluno da Escola Aristarco ganha medalha na Olimpíada Nacional de Matemática, então todos esses alunos gostam de Matemática.
- (D) se nenhum aluno da Escola Aristarco ganha medalha na Olimpíada Nacional de Matemática, então nenhum desses alunos gosta de Matemática.
- (E) se nenhum aluno da Escola Aristarco ganha medalha na Olimpíada Nacional de Matemática, então algum desses alunos não gosta de Matemática.

19

Em uma caixa, há muitas canetas esferográficas. Classificadas conforme a cor, elas podem ser azuis, vermelhas ou pretas. Classificadas quanto à espessura da esfera, elas podem ser de ponta fina ou de ponta grossa.

Metade das canetas vermelhas tem a ponta grossa. A quantidade total de canetas pretas é igual à quantidade total de canetas vermelhas. Entre as canetas de ponta grossa, a quantidade de azuis é igual à de pretas. A quantidade de canetas azuis com ponta fina é o dobro da quantidade de canetas pretas de ponta grossa.

Se, nessa caixa, 18 são azuis e 20 têm ponta grossa, então a quantidade total de canetas na caixa é

- (A) 30.
- (B) 40.
- (C) 48.
- (D) 50.
- (E) 52.

20

Tucídides possuía uma dívida e, em vez de quitá-la, pagou apenas 20% do seu valor, deixando o restante para ser quitado em data futura, com acréscimo de 12% a título de juros sobre o saldo devedor.

No ato de quitação, Tucídides pagou R\$2.329,60. Logo, o valor original da dívida é o resultado da seguinte expressão:

(A)  $2.329,60 \times 0,88 - 20$

(B)  $\frac{2.329,60}{0,88} \times 1,20$

(C)  $\frac{2.329,60}{1,12} \times 1,20$

(D)  $\frac{2.329,60}{1,12 \times 1,20}$

(E)  $\frac{2.329,60}{1,12 \times 0,8}$

21

As filhas de Nepomuceno têm 5 e 9 anos de idade. Ele dividirá R\$420,00 entre elas de forma inversamente proporcional às suas idades.

Logo

- (A) a mais nova receberá R\$120,00 a mais que a mais velha.
- (B) a mais nova receberá R\$150,00 a mais que a mais velha.
- (C) a mais nova receberá R\$270,00 a mais que a mais velha.
- (D) a mais velha receberá R\$120,00 a mais que a mais nova.
- (E) a mais velha receberá R\$150,00 a mais que a mais nova.

22

A negação da proposição:

$$\text{Se } y \neq 0, \text{ então } x > 2 \text{ e } x \leq 5$$

é dada por

- (A) Se  $y = 0$ , então  $x > 2$  e  $x \leq 5$
- (B) Se  $y = 0$ , então  $x < 2$  ou  $x \geq 5$
- (C)  $y = 0$  e  $x \leq 2$  ou  $x > 5$
- (D)  $y \neq 0$  e  $x \leq 2$  ou  $x > 5$
- (E)  $y \neq 0$  e  $x \leq 2$  e  $x > 5$

## Atualidades

23

De acordo com o censo demográfico de 2022 (IBGE), mais da metade da população brasileira (51,13%) é feminina, e elas representam, segundo o Tribunal Superior Eleitoral, 53% do eleitorado. No entanto, elas ocupam, hoje, menos de 15% dos cargos eletivos.

A respeito da baixa participação das mulheres na política, assinale a afirmativa que apresenta um dispositivo existente na legislação brasileira para alterar esse cenário.

- (A) Reserva de pelo menos 50% dos recursos do Fundo Especial de Financiamento de Campanha, o Fundo Eleitoral, para financiar candidaturas femininas.
- (B) Suspensão dos direitos eleitorais aos partidos em caso de não observância do percentual de pelo menos 30% de candidatas mulheres em cada ciclo eleitoral
- (C) Reserva de assentos, em ambas as casas legislativas, para mulheres, com preferência para as representantes de povos originários.
- (D) Cota de gênero, que obriga cada partido ou coligação a preencher o mínimo de 30% e o máximo de 70% de candidaturas de cada sexo.
- (E) Repasse de até 30% dos recursos dos Fundos Partidário para custear o tempo da propaganda eleitoral gratuita de candidatas em rádio e televisão.

24

A França se tornou o primeiro país do mundo a incluir na Constituição a liberdade de a mulher abortar. A mudança na Carta Magna foi aprovada em uma sessão conjunta das duas Casas legislativas, a Assembleia Nacional e o Senado, e será promulgada pelo presidente Emmanuel Macron ainda em março de 2024.

Adaptado de <https://www1.folha.uol.com.br/mundo/2024/03/>

Diferentemente da França, a legislação brasileira

- (A) equipara o aborto ao infanticídio.
- (B) considera o aborto uma prática ilegal em todas as situações.
- (C) descriminaliza a interrupção da gravidez em caso de deficiência da gestante.
- (D) estabelece um limite temporal para interromper a gravidez, desde que respaldada por laudo médico.
- (E) autoriza a interrupção de gestação em caso de não haver outro meio de salvar a vida da gestante.

25

Desde os anos 2000, o interior do Brasil ultrapassou o litoral na incidência de dengue. A região costeira que vai de Santos, em São Paulo, até Belém, no Pará, apresentava tipicamente maior proporção de casos de dengue em comparação com sua população. Entretanto, recentemente, o oeste do Paraná, o oeste de Santa Catarina o oeste de São Paulo, o interior de Minas Gerais, uma parte do Tocantins, o Goiás e o Mato Grosso do Sul viram a transmissão da doença aumentar e muitas de suas cidades foram obrigadas a decretar emergência.

Adaptado de <https://www.estadao.com.br>

A respeito dos fatores relacionados ao aumento e à interiorização dos casos de dengue no Brasil, analise as afirmativas a seguir.

- I. A maior frequência de períodos com temperaturas acima da média, inclusive com ondas de calor no período invernal em todo território, tem reforçado o padrão sazonal da doença.
- II. A expansão urbana desvinculada de melhoras nos serviços sanitários tem propiciado a formação de ilhas de calor e, portanto, uma alta na incidência da dengue.
- III. O desmatamento do cerrado, convertido em pasto, por exemplo, tem contribuído para aumentar a temperatura média e o número de casos da doença no interior do Brasil.

Está correto o que se afirma em

- (A) I, apenas.
- (B) I e II, apenas.
- (C) I e III, apenas.
- (D) II e III, apenas.
- (E) I, II e III.

26

As afirmativas a seguir descrevem corretamente o desempenho da economia brasileira em 2023, à exceção de uma. Assinale-a.

- (A) A expansão econômica ampliou a geração de empregos informais, em um contexto recessivo e de flexibilização das leis trabalhistas.
- (B) O dinamismo da economia foi marcado pelo aumento de exportações, no setor agrícola, e da demanda, no setor de serviços, em função da alta no consumo das famílias.
- (C) A alta progressiva nas cotações internacionais de commodities acelerou o ritmo das exportações, mesmo em um cenário cambial desfavorável para os exportadores.
- (D) A retração do Brasil no mercado regional e internacional ocorreu em função da maior competitividade dos produtos agrícolas argentinos e pela retomada da economia chinesa.
- (E) A persistência do alto nível da inflação foi ocasionada pela alta da cesta básica, sobretudo dos alimentos, cujas safras foram afetadas pelas condições climáticas adversas.

27

Em 2024, o Tribunal Superior Eleitoral (TSE) aprovou uma resolução para regulamentar o uso da inteligência artificial (IA) durante as eleições municipais a serem realizadas em outubro. A norma proíbe manipulações de conteúdo falso para criar ou substituir imagem ou voz de candidato com objetivo de prejudicar ou favorecer candidaturas. Também foi aprovada a restrição do uso de chatbots humanizados e avatares para intermediar a comunicação das campanhas com pessoas reais nas redes sociais.

Adaptado de <https://agenciabrasil.ebc.com.br/>

A resolução sobre IA objetiva

- (A) coibir a produção e circulação de *deepfakes*.
- (B) restringir o uso de ferramentas de IA simbólica.
- (C) retomar a veiculação de propagandas eleitorais em mídias tradicionais, como rádio e televisão.
- (D) proibir o uso de ferramentas de coleta e seleção em bases de dados com fins eleitorais.
- (E) limitar o uso de assistente virtual programado por AI para divulgação do programa partidário.

28

Assinale a afirmativa que descreve corretamente um aspecto do panorama global da economia em 2023.

- (A) Nos Estados Unidos, a economia foi alavancada pela adoção de uma política de ampliação do crédito e baixa da taxa de juros.
- (B) Na China, o PIB cresceu acima do esperado, em um cenário marcado pela retomada econômica pós pandemia, inclusive no setor imobiliário.
- (C) Na Zona do Euro, a alta dos preços da energia pesou nas despesas familiares e no setor industrial, confirmando a manutenção de um quadro de crise.
- (D) Na Rússia, o PIB decresceu, em função do impacto prolongado da guerra com a Ucrânia e dos embargos à venda de petróleo e gás russos.
- (E) Na América do Sul, foi mantido um caminho geral de crescimento, apoiado por investimentos externos e pela intensificação de políticas estatistas.

29

Um supercomputador consiste em milhares de pequenos computadores chamados nós. Cada nó é equipado com sua própria memória e com vários processadores. Atuando em conjunto, eles são capazes de realizar cálculos extremamente complexos em elevada velocidade. Hoje, o maior supercomputador da América Latina é o Pégaso, da Petrobras, com 678 TB de memória RAM e mais de 233 mil núcleos.

Adaptado de <https://revistapesquisa.fapesp.br>

A respeito do poder computacional de alto desempenho dos supercomputadores, analise as afirmativas a seguir e assinale (V) para a verdadeira e (F) para a falsa.

- ( ) Essas máquinas são instrumentos valiosos de pesquisa e de suporte a setores da economia como defesa, energia e saúde, permitindo a resolução de problemas complexos em menor tempo.
- ( ) Esses equipamentos permitem realizar tarefas que exigem altíssimos níveis de processamento, como simulações da formação do universo ou modelagem molecular para novos fármacos.
- ( ) Esses aparelhos trabalham em alta velocidade de processamento pelo somatório de diversos núcleos, o que potencializa a velocidades do processador, medidas em gigahertz (GHz).

As afirmativas são, respectivamente,

- (A) V – V – F.
- (B) V – F – V.
- (C) F – V – F.
- (D) F – V – V.
- (E) V – V – V.

30

No início do ano corrente, a Petrobras anunciou ter alcançado em 2023 o segundo maior valor de lucro líquido de sua história. Mesmo assim, suas ações caíram no mercado financeiro, em função da disputa sobre os dividendos.

A respeito dos resultados financeiros da Petrobras nos últimos anos e da política de distribuição de dividendos da empresa, assinale a afirmativa correta.

- (A) A Petrobras é uma empresa estatal de economia mista que monopoliza a indústria petroleira no Brasil.
- (B) A Petrobras é uma estatal administrada diretamente por órgãos governamentais que controlam o valor das suas ações.
- (C) A Petrobras direciona parte dos dividendos para investidores privados, e outra parte para o governo federal, que controla a empresa via Tesouro e BNDES.
- (D) A Petrobras, sob o Governo Bolsonaro, reduziu o pagamento de dividendos a acionistas privados para reinvesti-los em energia renovável.
- (E) A Petrobras, no atual governo, vendeu ativos e distribuiu o lucro e os valores recordes de dividendos entre seus acionistas para financiar projetos do BNDES.



31

*Dados da última década mostram que, em relação aos Estados, o Pará é o que apresenta o maior número de registros de resgates de trabalho análogo à escravidão, com 9.853, seguido por Mato Grosso (4.302); Tocantins (2.896); São Paulo (1.529) e Rio de Janeiro (1.653), em 2017.*

Adaptado de <https://www.jota.info/justica/em-14-anos-434-mil-foram-resgatados-de-trabalho-escravo-30102017>

A respeito da definição moderna de escravidão, analise as afirmativas a seguir.

- I. Em Tocantins, a maior incidência de escravidão moderna ocorre na zona rural, associada a atividades agropecuárias e ao extrativismo mineral, como nas carvoarias, por exemplo.
- II. A Organização Internacional do Trabalho determina a condição de escravidão por uma série de componentes, como o trabalho forçado análogo ao de escravo e o casamento forçado.
- III. Pessoas obrigadas a trabalhar por dívida ou por ameaça, sem direitos trabalhistas garantidos estão em situação de escravidão, uma vez que lhes é impedida a liberdade de ir e vir.

Está correto o que se afirma em

- (A) I, apenas.
- (B) I e II, apenas.
- (C) I e III, apenas.
- (D) II e III, apenas.
- (E) I, II e III.

32

Energia gerada por recursos naturais renováveis que, no Brasil, provém da lenha, carvão vegetal, carvão mineral, bagaço de cana e outros resíduos combustíveis. Essa energia é a matéria orgânica vegetal ou animal usada como fonte de energia limpa e sustentável.

O trecho descreve o seguinte componente importante do desenvolvimento sustentável:

- (A) compostagem.
- (B) biodiversidade.
- (C) créditos de carbono.
- (D) ciclo de vida.
- (E) biomassa.

## História e Geografia do Estado de Tocantins

33

Leia a descrição de uma classe de vegetação presente no estado do Tocantins, a seguir.

*Esta vegetação, também conhecida como floresta pluvial tropical, é caracterizada por árvores de porte elevado, além de trepadeiras lenhosas e epífitas (bromélias e orquídeas, por exemplo) em abundância, o que a diferencia de outras classes de formação vegetal. Sua característica ecológica principal é estar presente em ambientes de chuvas abundantes, como na parte noroeste do Estado, onde as temperaturas médias são de 25°C e os elevados índices de precipitação estão bem distribuídos ao longo do ano.*

Adaptado de Luís Antônio G. C. Silva. *Biomias presentes no Estado do Tocantins*. Brasília: Câmara dos Deputados, 2007, p. 4.

O trecho caracteriza a região conhecida como Floresta

- (A) Estacional Semidecidual.
- (B) Tropical Subcaducifólia.
- (C) de Mata Atlântica.
- (D) Ombrófila Densa.
- (E) Temperada Decidual.

34

Comparando dados dos censos do IBGE, pode-se elaborar um retrato da evolução demográfica da população residente no Estado de Tocantins. O grupo na faixa etária de 0 a 14 representava 41,7% da população em 1991, 28,8% em 2010, e passou para 24% em 2022. A população acima de 65 anos era de 3,8% em 1991 e 5,8% em 2010, e ficou em 8,6% em 2022. O censo de 2022 mostrou ainda que a faixa etária de 15 a 29 anos representa 15% da população e que 41% da população é composta por pessoas de 30 a 59 anos.

Com base no trecho, assinale a opção que apresenta a dinâmica populacional do Tocantins entre 1991 e 2022.

- (A) Expansão da base da pirâmide etária.
- (B) Diminuição da taxa de fecundidade.
- (C) Estreitamento do topo da pirâmide.
- (D) Aumento da idade mediana.
- (E) Redução do índice de envelhecimento.

35

*Foram inegáveis os desdobramentos socioeconômicos sobre o antigo Norte Goiano fruto da construção da rodovia BR-153, a partir do final da década de 1950. O novo urbanismo da Belém-Brasília trouxe enorme impacto no que se refere ao conjunto de cidades que existiam às margens do rio Tocantins, aos fluxos migratórios e às atividades econômicas da região.*

Adaptado de AQUINO, N. *Tocantins: cidades e urbanismo em três modelos históricos*. In: III Encontro da ANPPAS. Brasília, 2006, p. 8.

As afirmativas a seguir descrevem corretamente impactos da rodovia BR-153 no processo de territorialização do Tocantins, **à exceção de uma**. Assinale-a.

- (A) A rodovia foi construída no governo Kubitscheck, em um contexto desenvolvimentista que considerava a expansão rodoviária como um meio para integrar econômica e territorialmente as regiões do país, inclusive o norte goiano que, então, vivia uma situação de abandono.
- (B) A rodovia Belém-Brasília teve grande importância para a urbanização do atual Tocantins, o que é exemplificado pela quantidade de novas cidades criadas após a sua construção, como Araguaína, Gurupi, Paraíso do Tocantins, Colinas do Tocantins e Guaraí.
- (C) A construção da BR-153 alavancou também os municípios ribeirinhos, pois a navegação fluvial foi intensificada para abastecer as obras em curso, o que transformou esses municípios em satélites econômicos da nova malha urbana instalada ao longo da rodovia.
- (D) Após a abertura da rodovia, as principais áreas que receberam fluxos migratórios foram a Microrregião de Gurupi – Gurupi e a Microrregião de Porto Nacional – Palmas, para onde se dirigiram pessoas interessadas em trabalhar na construção civil, nos serviços e no comércio, entre outros.
- (E) A BR-153 permitiu interligar o norte de Goiás, atual Estado do Tocantins, a outras localidades do país, facilitando o escoamento da produção e o acesso a produtos para a região, promovendo o fluxo de mercadorias e serviços.

36

O Memorial Coluna Prestes (2001) é uma obra do arquiteto Oscar Niemeyer localizada na Praça dos Girassóis, no centro de Palmas (TO).



Fonte: <https://central.to.gov.br/image/146145?f=1>

A respeito da relação entre essa obra e a constituição de uma memória histórica para o Estado do Tocantins, analise as afirmativas a seguir.

- I. O monumento refere-se à Coluna Prestes, que percorreu o Brasil para divulgar seu programa revolucionário entre 1924 e 1927, tendo passado pelo Norte do então Estado de Goiás (atual Tocantins) durante seu percurso.
- II. A obra foi realizada em concreto e apresenta curvas sinuosas, características próprias do Barroco das cidades mineradoras, estabelecendo visualmente uma continuidade entre o Barroco do passado das cidades mineradoras e o presente do Tocantins.
- III. A construção do memorial permite inserir simbolicamente a história do Tocantins nos grandes processos da história republicana nacional, e homenagear o Tenente Antônio de Siqueira Campos, cujo sobrenome é homônimo ao do ex-governador do Estado.

Está correto o que se afirma em

- (A) I, apenas.
- (B) I e II, apenas.
- (C) I e III, apenas.
- (D) II e III, apenas.
- (E) I, II e III.

37

Até 1988, o território que hoje corresponde ao Estado do Tocantins pertencia ao antigo norte de Goiás e à Região Centro-Oeste, tendo como capital política a cidade de Goiânia. Com a emancipação política, da noite para o dia, as pessoas amanheceram tocantinenses, mas sem referências culturais que as representassem como tais.

A respeito da projeção simbólica do novo Estado e de sua nova capital, assinale a opção que interpreta corretamente o processo de construção e atribuição de uma identidade ao Tocantins.

- (A) Desde o primeiro mandato do governador Siqueira Campos, os símbolos oficiais do Tocantins continuaram sendo o brasão de armas, a bandeira, o selo estadual e a canção "Hino ao Tocantins", de Liberato Costa Póvoa e Abiezer Alves da Rocha.
- (B) O girassol foi reconhecido oficialmente como símbolo da natureza do Estado, por ser uma planta nativa dos cerrados tocantinenses e estar associada à prosperidade e à esperança.
- (C) A Praça dos Girassóis, centro cívico de Palmas, foi concebida para receber edifícios esteticamente associados à cultura do Tocantins, como o Palácio do Araguaia, cujos pórticos remetem ao capim dourado, símbolo da tradição do artesanato de alta qualidade da região.
- (D) A monumentalidade da Praça dos Girassóis é enfatizada pelo seu pavimento, que contém figuras simbólicas como o mapa do Tocantins, a rosa dos ventos, o brasão de armas e a Praça Krahô.
- (E) O meio ambiente também foi utilizado para fortalecer o sentimento identitário, inserindo o girassol, a fava-de-bolota, a arara-canindé e a granada como símbolos da natureza do Tocantins, desde a promulgação da Constituição Estadual em 1989.

38

A respeito da matriz energética do Estado e dos investimentos em biocombustíveis, analise as afirmativas a seguir e assinale (V) para a verdadeira e (F) para a falsa.

- ( ) O Estado tem condições de clima e solo desfavoráveis para o plantio de matérias-primas usadas na fabricação de biocombustíveis, mas a expansão do modal logístico (Ferrovia Norte-Sul) permitirá o acesso à soja do planalto goiano.
- ( ) O Tocantins conta com duas usinas de biodiesel em funcionamento, utilizando o pinhão-mansão, a soja, a mamona e outras oleaginosas como matéria-prima.
- ( ) O Estado tem alto potencial de geração de energia solar, pela elevada irradiação solar e pelas políticas públicas voltadas para produção de energia limpa e renovável, como a Política Estadual de Incentivo à Geração e ao Uso da Energia Solar (Pró-Solar)

As afirmativas são, respectivamente,

- (A) V – F – V.
- (B) F – V – V.
- (C) F – F – V.
- (D) V – V – F.
- (E) V – V – V.

39

*As belas paisagens como serras, cachoeiras, praias e até mesmo dunas, fazem do Tocantins um paraíso de paisagens naturais, atraindo turistas de várias regiões para conhecer o mais novo Estado brasileiro. A potencialidade para o ecoturismo e a preocupação em conservar a biodiversidade e recursos naturais nele contidos fez com que o Governo do Estado, criasse e implementasse as Unidades de Conservação Ambiental (UC).*

Adaptado de <https://www.to.gov.br/secom/>

A respeito das Unidades de Conservação (UC) do Tocantins, assinale a afirmativa correta.

- (A) São espaços territoriais legalmente instituídos pelo poder público e podem ser de proteção integral federal, como no caso dos Parques Cantão, Jalapão e Lajeado.
- (B) As UCs federais estão subordinadas ao Instituto Chico Mendes de Conservação da Biodiversidade (ICMBio), como no caso do Monumento Natural das Árvores Fossilizadas.
- (C) As UCs estaduais estão subordinadas ao Instituto Natureza do Tocantins (Naturatins), que supervisiona o Parque do Araguaia e o das Nascentes do rio Parnaíba.
- (D) As UCs de uso sustentável são compostas exclusivamente por áreas públicas, sendo permitida sua utilização apenas para o ecoturismo, pesquisa e educação ambiental.
- (E) As UCs municipais estão subordinadas às secretarias de meio ambiente, como no caso do Monumento Natural dos Cânions e Corredeiras do Rio Sono e do Parque Ecológico Roberto Guedes Pereira.

40

O Estado do Tocantins possui diversas comunidades quilombolas certificadas e outras com processo formalizado para regularização fundiária de seus territórios. A definição de comunidade quilombola é dada pelo Art. 2º do Decreto nº 4.887/2003:

*Consideram-se remanescentes das comunidades dos quilombos, para os fins deste Decreto, os grupos étnico-raciais, segundo critérios de auto-atribuição, com trajetória histórica própria, dotados de relações territoriais específicas, com presunção de ancestralidade negra relacionada com a resistência à opressão histórica sofrida.*

A respeito dos órgãos e processos envolvidos na identificação e regularização de territórios quilombolas no Estado do Tocantins, assinale a afirmativa correta.

- (A) O acesso dessas comunidades às políticas públicas de educação, saúde, moradia e regularização fundiária depende de o Estado emitir uma certidão de identificação de comunidade quilombola, mediante Fundação Palmares.
- (B) Os critérios para reconhecimento de um grupo enquanto remanescente de quilombo depende da comprovação de sua ancestralidade, seu parentesco e da preservação viva de religiosidades autenticamente africanas.
- (C) A Coordenação Nacional de Articulação de Comunidades Negras Rurais Quilombolas (CONAQ) luta pela incorporação constitucional do direito à autodefinição dos remanescentes de quilombos.
- (D) A certificação quilombola é realizada pela Fundação Cultural Palmares, que avalia com visitas técnicas a autenticidade do legado quilombola pretendido e, caso o aprove, emite a certidão de comunidade quilombola e a inscreve em um cadastro geral.
- (E) O acesso às terras ocupadas pelos remanescentes das comunidades dos quilombos é garantido por sua delimitação e titulação, a cargo da autoridade municipal em que a mesma se localiza.

## CONHECIMENTOS ESPECÍFICOS

41

Em fevereiro de 2024, uma entidade contratou um motorista para realizar as entregas de seus produtos aos clientes. O salário mensal do motorista é pago sempre no dia 05 do mês posterior ao mês trabalhado. O motorista iniciou suas atividades em março.

Assinale a opção que indica as variações nos saldos dos elementos patrimoniais na equação patrimonial básica em 31/03/2024.

- (A) Aumento no ativo e aumento no passivo.
- (B) Diminuição no ativo e diminuição no passivo.
- (C) Aumento no passivo e diminuição no patrimônio líquido.
- (D) Diminuição no ativo e diminuição no patrimônio líquido.
- (E) Diminuição no passivo e diminuição no patrimônio líquido.

42

Uma loja vendeu R\$100.000 em estoques em janeiro de 2024. Para a realização da venda, incorreu nos seguintes desembolsos:

Comissão dos vendedores: .....R\$10.000;  
Frete para entrega: .....R\$5.000;  
Embalagem para presente: .....R\$2.000.

Assinale a opção que indica o valor contabilizado como *Despesas de Vendas* em janeiro de 2024.

- (A) R\$5.000.
- (B) R\$10.000.
- (C) R\$12.000.
- (D) R\$15.000.
- (E) R\$17.000.

43

Uma entidade organiza os eventos em sua contabilidade por natureza de gasto, conforme a entrada e a saída de dinheiro em caixa.

Essa organização se assemelha à elaboração da seguinte demonstração contábil:

- (A) Balanço Patrimonial.
- (B) Demonstração do Resultado do Exercício.
- (C) Demonstração dos Fluxos de Caixa- método direto.
- (D) Demonstração dos Fluxos de Caixa- método indireto.
- (E) Demonstração das Mutações do Patrimônio Líquido.

44

Em junho de 2023, uma loja de roupas recebeu uma encomenda para o fornecimento de uniformes a uma empresa de segurança. O pagamento foi recebido em duas parcelas, nos meses de julho e agosto. Em agosto, os uniformes foram entregues.

Assinale a opção que indica o(s) mês(es) em que o reconhecimento da receita de acordo com o Regime de Caixa e o Regime de Competência, foi de igual valor.

- (A) Junho.
- (B) Julho.
- (C) Agosto.
- (D) Julho e agosto.
- (E) Junho, julho e agosto.

45

Em janeiro de 2024, os sócios de uma sociedade empresária aumentaram o seu capital social, por meio da integralização de um terreno, no valor de R\$50.000, e de estoques, no valor de R\$80.000.

Em fevereiro, o terreno e os estoques foram vendidos à vista a terceiros, por R\$70.000 e R\$110.000, respectivamente.

Assinale a opção que indica o impacto das vendas no saldo da conta capital social da sociedade empresária, em fevereiro.

- (A) Zero.
- (B) R\$20.000.
- (C) R\$30.000.
- (D) R\$50.000.
- (E) R\$180.000.

46

Em 01/02/2024, uma loja de celulares tinha em seu estoque 2 unidades do modelo X. O estoque estava contabilizado por R\$2.000.

Em fevereiro, a loja adquiriu mais unidades do modelo X, do seguinte modo:

10/02: ..... Compra à vista de 4 unidades, por R\$1.100 cada.  
15/02: ..... Compra a prazo de 3 unidades, por R\$1.200 cada.  
22/02: ..... Compra à vista de 6 unidades, por R\$1.300 cada.

Em fevereiro, não houve vendas do modelo X.

Em março, foram vendidas 10 unidades do celular por R\$2.000 cada.

Assinale a opção que indica o lucro bruto da loja, considerando que ela utiliza o método PEPS para controle de estoque.

- (A) R\$8.100.
- (B) R\$8.400.
- (C) R\$8.700.
- (D) R\$9.100.
- (E) R\$10.000.

47

A *Cia. Alfa* assinou um contrato de aluguel de dois anos de uma van para realizar o transporte de seus funcionários diariamente. A vida útil da van é estimada em cinco anos.

Logo após a assinatura do contrato, a van foi pintada, para ficar com as mesmas cores do logo da sociedade empresária, e recebeu novos bancos, para oferecer mais conforto aos funcionários. A pintura e os bancos novos custaram, respectivamente, R\$400 e R\$10.000.

Em relação à pintura e à troca dos bancos, a sociedade empresária deve contabilizar, anualmente, *despesa de amortizações, depreciações e exaustões* de

- (A) R\$80.
- (B) R\$2.000.
- (C) R\$2.080.
- (D) R\$5.000.
- (E) R\$5.200.

48

Uma loja realiza vendas à vista ou a prazo.

Em 31/12/2022, a loja contabilizou receita de vendas de R\$500.000, para recebimento em 2024. Na data, estimava inadimplência de 4%. Em 31/12/2023, a loja auferiu receita de vendas de R\$400.000, para recebimento em 2025. Na data, sua estimativa em relação ao risco de inadimplência foi reduzido para R\$3%.

Assinale a opção que indica o saldo em *perdas estimadas com crédito de liquidação duvidosa* em 31/12/2022 e em 31/12/2023, respectivamente.

- (A) R\$15.000 e R\$12.000.
- (B) R\$15.000 e R\$27.000.
- (C) R\$20.000 e R\$12.000.
- (D) R\$20.000 e R\$27.000.
- (E) R\$20.000 e R\$32.000.

49

De acordo com a Lei nº 6.404/1976 e alterações, no balanço patrimonial de uma companhia, os investimentos em sociedades que fazem parte de um mesmo grupo são avaliados pelo método

- (A) do valor presente.
- (B) do valor de mercado.
- (C) do custo de aquisição.
- (D) da equivalência patrimonial.
- (E) do fluxo de caixa descontado.

50

Uma sociedade empresária adquiriu uma lista de clientes por R\$6.000, esperando que traga benefícios econômicos futuros por dois anos. Para otimizar os benefícios, a sociedade empresária contratou um funcionário com salário mensal de R\$800 e alugou uma estação de trabalho para ele, por R\$500 mensais.

Assinale a opção que indica o custo de aquisição do ativo no balanço patrimonial da sociedade empresária.

- (A) Zero.
- (B) R\$6.000.
- (C) R\$6.500.
- (D) R\$6.800.
- (E) R\$7.300.

51

De acordo com a Lei nº 6.404/1976 e modificações, ao fim de cada exercício social, as seguintes demonstrações deverão ser elaboradas pelas companhias, **à exceção de uma**. Assinale-a.

- (A) Balanço patrimonial.
- (B) Demonstração dos fluxos de caixa.
- (C) Demonstração do resultado do exercício.
- (D) Demonstração dos lucros ou prejuízos acumulados.
- (E) Demonstração das origens e aplicações de recursos.

52

Uma sociedade empresária presta serviços de consultoria jurídica.

Em 02/01/2024, ela adquiriu 3 terrenos vizinhos, mas de tamanhos diferentes, pelos seguintes custos e com os seguintes objetivos:

- Terreno A: R\$30.000; construção de estacionamento para que os funcionários estacionem seus carros.
- Terreno B: R\$40.000; valorização de capital a longo prazo.
- Terreno C: R\$50.000; construção da nova sede da empresa.

Assinale a opção que indica os montantes adicionados a cada grupo do balanço patrimonial da sociedade empresária, com a compra dos terrenos.

- (A) Investimentos: R\$40.000; Imobilizado: R\$80.000.
- (B) Investimentos: R\$70.000; Imobilizado: R\$50.000.
- (C) Realizável a Longo Prazo: R\$40.000; Imobilizado: R\$80.000.
- (D) Realizável a Longo Prazo: R\$40.000; Investimentos: R\$80.000.
- (E) Realizável a Longo Prazo: R\$40.000; Investimentos: R\$30.000; Imobilizado: R\$50.000.

53

Os seguintes fatos foram observados no patrimônio líquido de uma sociedade empresária no ano de 2023:

- Reconhecimento e pagamento de juros sobre o capital próprio: R\$30.000;
- Reconhecimento de dividendos do período: R\$50.000;
- Aumento de capital social por meio da apropriação de reservas de lucros: R\$100.000.

Assinale a opção que indica a variação do patrimônio líquido da sociedade empresária, no ano de 2023.

- (A) Aumento de R\$20.000.
- (B) Aumento de R\$50.000.
- (C) Aumento de R\$100.000.
- (D) Diminuição de R\$50.000.
- (E) Diminuição de R\$80.000.

54

A Cia X adquiriu 100% de participação na Cia Y por R\$50.000.

Uma parcela do custo de aquisição do investimento não foi absorvida na consolidação.

Essa parcela deve ser mantida, no balanço patrimonial consolidado, em

- (A) ativo circulante.
- (B) ativo não circulante.
- (C) passivo circulante.
- (D) passivo não circulante.
- (E) patrimônio líquido.

55

As Cias Laranja e Amarela apresentavam os seguintes balanços patrimoniais, em 31/12/2023.

	Cia Laranja	Cia Amarela
Ativo Circulante	50.000	10.000
Ativo não Circulante	120.000	30.000
Total do Ativo	170.000	40.000
Passivo Circulante	15.000	8.000
Passivo não Circulante	25.000	12.000
Patrimônio Líquido	130.000	20.000
Total do Passivo + PL	170.000	40.000

Em 01/01/2024, a Cia Laranja incorporou a Cia Amarela.

Na data, não havia transações entre as duas entidades.

Em relação ao balanço patrimonial da Cia Laranja após a incorporação, analise as afirmativas a seguir:

- I. O ativo circulante era de R\$60.000.
- II. O ativo não circulante era de R\$140.000.
- III. O passivo circulante era de R\$23.000.
- IV. O passivo não circulante era de R\$37.000.
- V. O patrimônio líquido era de R\$130.000.

Em relação aos saldos apresentados no balanço patrimonial da Cia Laranja após a incorporação, está correto o que se afirma em

- (A) I, III e IV, apenas.
- (B) II, III e IV, apenas.
- (C) II, III e V apenas.
- (D) I, III, IV e V, apenas.
- (E) I, II, III, IV e V.

56

Entre as competências do órgão central do Sistema de Contabilidade Federal está realizar tomadas de contas dos ordenadores de despesa e demais responsáveis por bens e valores públicos e de todo aquele que der causa a perda, extravio ou outra irregularidade de que resulte danos ao erário.

As atribuições do Sistema de Contabilidade Federal em relação à essas tomadas de contas limitam-se a efetuar o registro contábil dos responsáveis pelo débito apurado, verificar o cálculo do débito e efetuar a baixa contábil, por meio de

- (A) recebimento do débito, apenas.
- (B) cancelamento do débito, apenas.
- (C) pagamento do débito, apenas.
- (D) recebimento ou cancelamento do débito.
- (E) pagamento ou cancelamento do débito.

57

Com relação ao Relatório Contábil de Propósito Geral das Entidades do Setor Público, assinale (V) para a afirmativa verdadeira e (F) para a falsa.

- ( ) São os componentes centrais da transparência da informação contábil dos governos e de outras entidades do setor público, aprimorando-a e favorecendo-a.
- ( ) São elaborados para atender às necessidades específicas dos usuários primários, representados pelos usuários dos serviços e dos provedores de recursos, quando estes não detêm a prerrogativa de exigir que a entidade do setor público divulgue as informações que atendam às suas necessidades específicas.
- ( ) Podem compreender múltiplos relatórios, cada qual atendendo a certos aspectos dos objetivos e do alcance da elaboração e divulgação da informação contábil.

As afirmativas são, respectivamente,

- (A) V – V – V.
- (B) V – F – V.
- (C) V – V – F.
- (D) V – F – F.
- (E) F – F – V.

58

No Plano de Contas Aplicado ao Setor Público, as variações patrimoniais aumentativas (VPA) e as variações patrimoniais diminutivas (VPD) registram as transações que aumentam ou diminuem o patrimônio líquido, devendo ser reconhecidas nos períodos a que se referem, segundo

- (A) a ordem cronológica.
- (B) a realização financeira.
- (C) o seu fato gerador.
- (D) o ordenamento jurídico.
- (E) a execução orçamentária.

59

Em 2023, um hospital do setor público comunicou que não iria mais oferecer serviços de emergência e partos, após prestar serviços contínuos por 40 anos. O hospital registrou uma provisão para reestruturação, tendo elaborado um plano formal para a reestruturação.

Neste plano, o hospital deve identificar o que se afirma a seguir, **exceto**

- (A) os principais locais afetados.
- (B) quando o plano será executado.
- (C) os desembolsos que serão realizados.
- (D) quais são as soluções oferecidas à população pelo fim do oferecimento dos serviços.
- (E) o local, a função e o número aproximado de empregados que serão compensados financeiramente por seu desligamento.

60

Uma entidade do setor público adquiriu mesas para os seus funcionários trabalharem por R\$10.000. O frete para a entrega foi de R\$500. Na data da compra, a entidade planejava utilizar as mesas durante dez anos e vende-las por R\$2.000.

Assinale a opção que indica o valor depreciável das mesas, na data da compra.

- (A) R\$8.000.
- (B) R\$8.500.
- (C) R\$9.500.
- (D) R\$10.000.
- (E) R\$10.500.

**61**

Em relação aos ativos intangíveis, em uma entidade do setor público, analise os itens a seguir.

- I. Geração interna.
  - II. Aquisição separada.
  - III. Aquisição por meio de transações sem contraprestação.
- O reconhecimento inicial de um ativo intangível pode ocorrer por meio do que se afirma em
- (A) I, apenas.
  - (B) II, apenas.
  - (C) I e II, apenas.
  - (D) II e III, apenas.
  - (E) I, II e III.

**62**

Entre os atributos da informação de custos no setor público está o valor social.

- De acordo com esse atributo, a informação de custos deve
- (A) ser útil à gestão, tendo a sua relação custo benefício sempre positiva.
  - (B) proporcionar maior transparência e evidência do uso dos recursos públicos.
  - (C) ser elaborada de acordo com a finalidade específica pretendida pelos usuários.
  - (D) permitir o detalhamento das informações em razão das diferentes expectativas e necessidades informacionais das diversas unidades organizacionais.
  - (E) ser capaz de produzir informações em diferentes níveis de detalhamento, mediante a geração de diferentes relatórios, sem perder o atributo da comparabilidade.

**63**

Ao separar o ativo e o passivo em Financeiro e Permanente, em função da dependência ou não de autorização legislativa ou orçamentária para realização dos itens que o compõe, a Lei nº 4.320/1964 confere ao Balanço Patrimonial um viés

- (A) contábil.
- (B) legislativo.
- (C) orçamentário.
- (D) operacional.
- (E) patrimonial.

**64**

Uma universidade do setor público contrata seguro contra incêndio para os seus prédios, pagando à vista a apólice anual.

Na Demonstração dos Fluxos de Caixa, o pagamento representa uma diminuição relacionada à atividade

- (A) operacional.
- (B) de patrimônio.
- (C) de investimento.
- (D) de financiamento.
- (E) de equivalentes de caixa.

**65**

A classificação por fontes ou destinações de recursos tem como objetivo agrupar receitas que possuem as mesmas normas de aplicação na despesa, de modo a evidenciar os meios para atingir os objetivos públicos.

A destinação pode ser classificada em

- (A) patrimonial e financeira.
- (B) financeira e permanente.
- (C) de curto prazo e de longo prazo.
- (D) orçamentária e extra orçamentária.
- (E) vinculada e livre.

## LEGISLAÇÃO INSTITUCIONAL

**66**

Nos termos da Constituição do Estado do Tocantins, constitui objeto de lei complementar a seguinte matéria:

- (A) os prazos de prescrição para ilícitos praticados por qualquer agente, servidor ou não, que causem prejuízos ao erário.
- (B) os limites de idade, a estabilidade e outras condições de transferência do servidor militar para a inatividade.
- (C) os casos de contratação por tempo determinado para atender à necessidade temporária de excepcional interesse público.
- (D) as regras para cálculo de proventos de aposentadoria e pensão por morte.
- (E) os requisitos e as restrições ao ocupante de cargo ou emprego da administração direta e indireta que possibilite o acesso a informações privilegiadas.

**67**

Considerando o exercício da função legislativa por parte da Assembleia Legislativa de Tocantins, nos termos de seu Regimento Interno, é correto afirmar que

- (A) projetos de lei delegada podem se destinar a regular as matérias de exclusiva competência do Poder Executivo, com a sanção do Governador do Estado.
- (B) projetos de resolução podem se destinar a regular, com eficácia de lei ordinária, matéria de competência privativa da Assembleia Legislativa.
- (C) projetos de lei complementar visam regular matéria infraconstitucional.
- (D) projetos de lei têm por objetivo regular matérias de competência do Poder Legislativo, sem a sanção do Governador do Estado.
- (E) projetos de decreto legislativo destinam-se à delegação de competência, na forma estabelecida na Constituição Estadual.

**68**

Aline, servidora pública estadual, revelou segredo do qual se apropriou em razão do cargo que ocupa. A Administração Pública, ao tomar conhecimento do fato, instaurou procedimento administrativo disciplinar a fim de apurar a conduta e garantir à servidora os princípios da ampla defesa e do contraditório.

À luz do Estatuto dos Servidores Públicos Cíveis do Estado do Tocantins, caso punida, Aline poderá ser sancionada com

- (A) advertência.
- (B) suspensão.
- (C) prestação de serviço.
- (D) multa.
- (E) demissão.

**69**

Ana, servidora pública efetiva e estável, ocupante de cargo de nível superior, objetivando inteirar-se sobre os requisitos para a progressão na carreira, consultou a Lei nº 4.208/2023, que trata sobre o plano de cargos, carreiras e remuneração dos Servidores da Assembleia de Tocantins.

Assim, para fazer jus à progressão, Ana terá que

- (A) possuir no máximo três faltas injustificadas por exercício referente ao período avaliado.
- (B) obter conceito igual ou superior a 70% (setenta por cento) dos pontos possíveis em todos os procedimentos de sua Avaliação.
- (C) concluir curso de pós-graduação *lato sensu* com duração mínima de 360 (trezentos e sessenta) horas.
- (D) cumprir trinta meses de efetivo exercício na classe em que se encontra.
- (E) concluir cursos de aperfeiçoamento em sua área de atuação que tenha, no mínimo, 80 (oitenta) horas de duração.

**70**

Antônio foi nomeado para o cargo de Controlador Interno da Assembleia Legislativa de Tocantins.

À luz da Lei nº 4.209/2023, que dispõe sobre a estrutura administrativa da Aleto, durante o exercício da função, Antônio será competente para:

- (A) opinar, conclusivamente, em processos de direitos, deveres e obrigações dos servidores do Poder Legislativo.
- (B) constituir Comissão Permanente de Licitação.
- (C) examinar a observância das normas de licitações.
- (D) apresentar à Mesa Diretora o balancete mensal e, no início de cada exercício, o balancete geral das contas da Assembleia Legislativa, relativo ao exercício anterior.
- (E) planejar, coordenar, orientar, controlar e dirigir as atividades administrativas, orçamentárias, financeiras, de comunicação social, de tecnologia de informação e de apoio legislativo da Assembleia Legislativa.





# ASSEMBLEIA LEGISLATIVA DO ESTADO DO TOCANTINS

CONCURSO PÚBLICO – EDITAL Nº 01/2023

## PROVA OBJETIVA – TARDE

### ANALISTA LEGISLATIVO CIÊNCIAS ECONÔMICAS

NÍVEL SUPERIOR – TIPO 1 – BRANCA



#### SUA PROVA

- Além deste caderno contendo **70 (setenta)** questões objetivas, você receberá do fiscal de prova o cartão de respostas;
- As questões objetivas têm **5 (cinco)** opções de resposta (A, B, C, D) e somente uma delas está correta.



#### TEMPO

- Você dispõe de **5 (cinco) horas** para a realização da prova, já incluído o tempo para a marcação do cartão de respostas;
- **3 (três) horas** após o início da prova, é possível retirar-se da sala, sem levar o caderno de questões;
- A partir dos **30 (trinta) minutos** anteriores ao término da prova é possível retirar-se da sala **levando o caderno de questões**.



#### NÃO SERÁ PERMITIDO

- Qualquer tipo de comunicação entre os candidatos durante a aplicação da prova;
- Anotar informações relativas às respostas em qualquer outro meio que não seja o caderno de questões;
- Levantar da cadeira sem autorização do fiscal de sala;
- Usar o sanitário ao término da prova, após deixar a sala.



#### INFORMAÇÕES GERAIS

- Verifique se seu caderno de questões está completo, sem repetição de questões ou falhas. Caso contrário, **notifique imediatamente o fiscal da sala**, para que sejam tomadas as devidas providências;
- Confira seus dados pessoais, especialmente nome, número de inscrição e documento de identidade e leia atentamente as instruções para preencher o cartão de respostas;
- Para o preenchimento do cartão de respostas, use somente caneta esferográfica, fabricada em material transparente, com tinta preta ou azul;
- Assine seu nome apenas no(s) espaço(s) reservado(s) no cartão de respostas;
- Confira seu cargo, cor e tipo do caderno de questões. Caso tenha recebido caderno de cargo ou cor ou tipo **diferente** do impresso em seu cartão de respostas, o fiscal deve ser **obrigatoriamente** informado para o devido registro na ata da sala;
- Reserve tempo suficiente para o preenchimento do seu cartão de respostas. O preenchimento é de sua responsabilidade e **não será permitida a troca do cartão de respostas em caso de erro cometido pelo candidato**;
- Para fins de avaliação, serão levadas em consideração apenas as marcações realizadas no cartão de respostas;
- A FGV coletará as impressões digitais dos candidatos na lista de presença;
- Os candidatos serão submetidos ao sistema de detecção de metais quando do ingresso e da saída de sanitários durante a realização das provas.
- **Boa prova!**

## CONHECIMENTOS BÁSICOS

### Língua Portuguesa

1

Observe o seguinte texto:

*Quando entrei no terrível vagão, ele estava ocupado por duas pessoas. Uma, dobrada, coberta, dormia profundamente. A coberta superior estava manchada, de fundo amarelado, como pele de leopardo. Vendem-se muitas mantas assim nas lojas de artigos de viagens, mas pude notar logo depois que se tratava realmente da pele de um animal selvagem; do mesmo modo, o boné da pessoa adormecida me pareceu ser de feltro branco bastante delicado. O outro viajante, uma aparência simpática, parecia ter passado dos trinta anos e mostrava-se como figura insignificante que passa confortavelmente as noites em estradas de ferro.*

Nesse fragmento textual, para criar sinais de história realista e verdadeira, o narrador apela para a seguinte estratégia:

- (A) seleciona uma situação banal da qual não precisa fornecer muitos detalhes, exatamente por sua banalidade.
- (B) fornece algumas marcas caracterizadoras dos dois personagens presentes no texto, destacando sua banalidade.
- (C) indica traços descritivos do ambiente, mostrando-o como se nada houvesse nele de excepcional.
- (D) mostra detalhes variados e bastante pitorescos dos objetos descritos.
- (E) dá ao leitor informações sobre personagens e ambiente, mostrando-os como bastante conhecidos do narrador.

2

Assinale a frase que mostra a palavra *mais* numa classe gramatical **diferente** das demais.

- (A) O mercado está prisioneiro de mais um círculo vicioso: piora porque piorou e porque piorou, piora.
- (B) Os ingleses conquistaram o mundo porque não aguentavam mais a própria cozinha.
- (C) Quanto mais vejo o estrangeiro, mais amo a minha pátria.
- (D) Não é mais possível aprender tudo de cor. Um homem instruído não é mais o homem que sabe muitas coisas; é o homem que sabe onde buscar informações.
- (E) Muda-se mais facilmente de religião do que de café

3

As frases a seguir mostram termos ligados pela conjunção OU.

Assinale a frase em que essa conjunção mantém o valor de alternativa (e não de adição).

- (A) João ou Pedro deve ser eleito presidente da empresa.
- (B) A alegria ou a tristeza fazem parte da vida.
- (C) Inglês ou francês são idiomas falados pelos turistas
- (D) Os clientes leem livros ou revistas enquanto esperam.
- (E) Vasco ou Flamengo são times de longa tradição.

4

Um guitarrista americano produziu o seguinte pensamento:

*O crítico de rock é alguém que não sabe escrever, entrevistando gente que não sabe falar, para gente que não sabe ler.*

Sobre a estruturação ou a significação desse pequeno texto, assinale a afirmativa **incorreta**.

- (A) O termo “de rock” funciona como complemento nominal do termo anterior.
- (B) Todos os elementos da cadeia comunicativa citados no texto são marcados pela ignorância.
- (C) O pensamento acima revela um preconceito fortíssimo contra os amantes de rock.
- (D) A opinião expressa no texto pode advir da experiência pessoal do autor, já que se trata de um guitarrista.
- (E) A injustiça desse texto provém de ser uma opinião fundamentada em uma autoridade duvidosa.

5

John Steinbeck, prêmio Nobel, declarou o seguinte:

*O homem é o único animal que bebe sem ter sede, come sem ter fome e fala sem ter nada a dizer.*

Em relação ao significado e à estruturação desse pequeno texto, assinale a afirmativa **incorreta**.

- (A) A frase ficaria mais enfática se invertêssemos a posição do termo inicial: O único animal que bebe sem ter sede, come sem ter fome e fala sem ter nada a dizer é o homem.
- (B) A inversão de alguns segmentos do texto em nada modificaria o sentido da frase: O homem é o único animal que come sem ter fome, bebe sem ter sede e fala sem ter nada a dizer.
- (C) Os segmentos finais do texto mostram preocupação com rigoroso paralelismo sintático.
- (D) Segundo a opinião do autor do texto, a marca principal do homem é a irracionalidade.
- (E) Nem todas as ações citadas como marcas humanas estão presentes, por oposição, nos outros animais.

6

Assinale a frase que **não** expressa uma noção de tempo abstrato.

- (A) Nas asas do tempo, a tristeza voa.
- (B) Quem mata o tempo não é assassino, é suicida.
- (C) O tempo perdido não se encontra nunca mais.
- (D) O tempo é o melhor professor. Infelizmente, ele mata todos os seus estudantes
- (E) O tempo gasto na viagem foi de duas horas.

7

Assinale a frase em que a utilização do acento grave indicativo da crase é realizada de forma **errada**.

- (A) Jamais alguém se arrependeu de ter-se acostumado à madrugada e à ter-se casado jovem.
- (B) Tempo é o suspiro de adeus do sol à terra.
- (C) Saio todos os dias às cinco horas e não permito que o meu trabalho interfira no meu jogo de tênis.
- (D) O momento de extrair uma lição da história está sempre à mão para os sábios.
- (E) Quando assumi, quatro anos atrás, estávamos à beira do precipício.

8

Os adjetivos podem representar estados, qualidades, características e relações.

Assinale a frase que mostra um tipo de adjetivo **diferente** dos demais.

- (A) Nunca houve criança tão amável que a própria mãe não ficasse satisfeita ao conseguir adormecê-la.
- (B) Nada mais perversamente cruel que uma adorável criança.
- (C) Mesmo estando doentes, as crianças não ficam caladas.
- (D) Quando as crianças estão quietas é porque fizeram alguma coisa errada.
- (E) As tangerinas verdes não amadurecem fora do pé.

9

Assinale a frase em que o adjetivo sublinhado mostra uma função sintática **diferente** das demais.

- (A) Por fora bela viola, por dentro pão **bolorento**.
- (B) Tiradentes, **heroico**, tentou organizar uma revolução.
- (C) Um rosto **bonito** altera-se depressa.
- (D) Eu não podia acreditar que existem múmias tão **lindas**.
- (E) Um homem belo é um homem **insignificante**.

10

Assinale a opção que mostra uma impropriedade léxica, ou seja, um emprego **inadequado** da expressão “cerca de”.

- (A) Havia cerca de três dúzias de convidados no final da festa.
- (B) Chegaram cerca de 100 cartas no mesmo dia.
- (C) Cerca de 18 lojas fecharam as portas mais cedo.
- (D) Os cantores receberam cerca de uma centena de convites.
- (E) A plantação produziu cerca de uma tonelada de legumes.

11

Muitas palavras portuguesas mostram o prefixo A- sem qualquer valor semântico, sendo equivalentes ao mesmo vocábulo sem esse prefixo.

Assinale a palavra a seguir que exemplifica esse A protético.

- (A) amostrar
- (B) abraçar
- (C) atenuar
- (D) aguardar
- (E) aparar

12

Observe o seguinte texto:

*A felicidade depende da habilidade que tenhamos naquelas atividades que consideramos importantes: somente se lhes damos um real valor aos pequenos detalhes cotidianos, poderemos ter instantes felizes. A felicidade absoluta não existe, e já que só podemos acessar os pequenos detalhes daquilo que nos interessa, devemos contentar-nos com isso. Por isso, a infelicidade é um sinal claro de nossa incompetência na arte de viver.*

Sobre a estrutura e a significação desse texto, assinale a afirmativa **inadequada**.

- (A) O tema do texto gira em torno do que consiste a felicidade e o que viria a ser o seu oposto.
- (B) A afirmação de que “A felicidade absoluta não existe” é de cunho pessoal do autor do texto, representando uma opinião.
- (C) O raciocínio utilizado na estruturação argumentativa é do tipo dedutivo.
- (D) O conector “Por isso” mostra a preocupação com o caráter lógico da argumentação.
- (E) A tese do texto é a de que a infelicidade é fruto de nossa incompetência na arte de viver.

## Raciocínio Lógico Matemático

13

Certo programa de rádio tem 1 hora e 55 minutos de duração. A partir do momento em que o programa é iniciado, há blocos temáticos de 7 minutos intercalados por blocos de propagandas de 2 minutos.

Em todos os blocos de propaganda, ouve-se o comercial do restaurante R, que sempre dura 18 segundos.

Se o programa começa e termina com um bloco temático, então, o tempo total do programa dedicado ao anúncio do restaurante R é

- (A) 3 minutos e 54 segundos.
- (B) 3 minutos e 36 segundos.
- (C) 3 minutos e 18 segundos.
- (D) 3 minutos.
- (E) 2 minutos e 48 segundos.

14

A linha de produção de certa fábrica produz 1100 latas de sardinhas a cada hora. Certo dia, por um defeito de calibragem do sistema, entre 13h e 14h, o volume de produção foi reduzido em 30% durante exatos 12 minutos.

A quantidade de latas de sardinhas produzidas no intervalo supracitado foi

- (A) 946.
- (B) 964.
- (C) 1022.
- (D) 1034.
- (E) 1046.

15

Marcelo está parado de frente para uma das paredes de uma sala quadrada. Nesta posição, ele está a 1m e 20cm da parede que se encontra à sua direita e a 1m e 70cm da parede que está às suas costas.

Ele, então, se desloca paralelamente às paredes da sala sendo 40cm para a frente e 80cm para a direita. Nessa nova posição, ele passou a distar 1m e 90cm da parede que antes estava à sua esquerda.

Desprezando-se as dimensões de Marcelo, a sua atual distância à parede que, antes dos movimentos, estava à sua frente, é

- (A) 20cm.
- (B) 30cm.
- (C) 40cm.
- (D) 50cm.
- (E) 60cm.

**16**

Um dado é dito comum quando tem a forma de um cubo e suas 6 faces são numeradas de 1 a 6, de tal forma que a soma dos números estampados em faces opostas, quaisquer que sejam elas, sempre somam 7.

Quando um dado comum é lançado, diz-se que o resultado do lançamento é o número estampado na face voltada para cima.

Um dado foi lançado 3 vezes seguidas. Se o produto dos resultados obtidos nos lançamentos vale 75, a soma desses resultados é igual a

- (A) 12.
- (B) 13.
- (C) 14.
- (D) 15.
- (E) 16.

**17**

Em certo ano, o dia 1º de agosto cai em um domingo. Logo, o dia 1º de novembro cairá em

- (A) um sábado.
- (B) um domingo.
- (C) uma segunda-feira.
- (D) uma quarta-feira.
- (E) uma sexta-feira.

**18**

Considere a seguinte proposição condicional:

*Se todos os alunos da Escola Aristarco gostam de matemática, então, ao menos um deles ganha medalha na Olimpíada Nacional de Matemática.*

Se essa proposição é verdadeira, é correto afirmar que

- (A) se nenhum dos alunos da Escola Aristarco gosta de Matemática, então nenhum deles ganha medalha na Olimpíada Nacional de Matemática.
- (B) se todos os alunos da Escola Aristarco ganham medalha na Olimpíada Nacional de Matemática, então, todos esses alunos gostam de Matemática.
- (C) se algum aluno da Escola Aristarco ganha medalha na Olimpíada Nacional de Matemática, então todos esses alunos gostam de Matemática.
- (D) se nenhum aluno da Escola Aristarco ganha medalha na Olimpíada Nacional de Matemática, então nenhum desses alunos gosta de Matemática.
- (E) se nenhum aluno da Escola Aristarco ganha medalha na Olimpíada Nacional de Matemática, então algum desses alunos não gosta de Matemática.

**19**

Em uma caixa, há muitas canetas esferográficas. Classificadas conforme a cor, elas podem ser azuis, vermelhas ou pretas. Classificadas quanto à espessura da esfera, elas podem ser de ponta fina ou de ponta grossa.

Metade das canetas vermelhas tem a ponta grossa. A quantidade total de canetas pretas é igual à quantidade total de canetas vermelhas. Entre as canetas de ponta grossa, a quantidade de azuis é igual à de pretas. A quantidade de canetas azuis com ponta fina é o dobro da quantidade de canetas pretas de ponta grossa.

Se, nessa caixa, 18 são azuis e 20 têm ponta grossa, então a quantidade total de canetas na caixa é

- (A) 30.
- (B) 40.
- (C) 48.
- (D) 50.
- (E) 52.

**20**

Tucídides possuía uma dívida e, em vez de quitá-la, pagou apenas 20% do seu valor, deixando o restante para ser quitado em data futura, com acréscimo de 12% a título de juros sobre o saldo devedor.

No ato de quitação, Tucídides pagou R\$2.329,60. Logo, o valor original da dívida é o resultado da seguinte expressão:

(A)  $2.329,60 \times 0,88 - 20$

(B)  $\frac{2.329,60}{0,88} \times 1,20$

(C)  $\frac{2.329,60}{1,12} \times 1,20$

(D)  $\frac{2.329,60}{1,12 \times 1,20}$

(E)  $\frac{2.329,60}{1,12 \times 0,8}$

**21**

As filhas de Nepomuceno têm 5 e 9 anos de idade. Ele dividirá R\$420,00 entre elas de forma inversamente proporcional às suas idades.

Logo

- (A) a mais nova receberá R\$120,00 a mais que a mais velha.
- (B) a mais nova receberá R\$150,00 a mais que a mais velha.
- (C) a mais nova receberá R\$270,00 a mais que a mais velha.
- (D) a mais velha receberá R\$120,00 a mais que a mais nova.
- (E) a mais velha receberá R\$150,00 a mais que a mais nova.

**22**

A negação da proposição:

$$\text{Se } y \neq 0, \text{ então } x > 2 \text{ e } x \leq 5$$

é dada por

- (A) Se  $y = 0$ , então  $x > 2$  e  $x \leq 5$
- (B) Se  $y = 0$ , então  $x < 2$  ou  $x \geq 5$
- (C)  $y = 0$  e  $x \leq 2$  ou  $x > 5$
- (D)  $y \neq 0$  e  $x \leq 2$  ou  $x > 5$
- (E)  $y \neq 0$  e  $x \leq 2$  e  $x > 5$

## Atualidades

23

De acordo com o censo demográfico de 2022 (IBGE), mais da metade da população brasileira (51,13%) é feminina, e elas representam, segundo o Tribunal Superior Eleitoral, 53% do eleitorado. No entanto, elas ocupam, hoje, menos de 15% dos cargos eletivos.

A respeito da baixa participação das mulheres na política, assinale a afirmativa que apresenta um dispositivo existente na legislação brasileira para alterar esse cenário.

- (A) Reserva de pelo menos 50% dos recursos do Fundo Especial de Financiamento de Campanha, o Fundo Eleitoral, para financiar candidaturas femininas.
- (B) Suspensão dos direitos eleitorais aos partidos em caso de não observância do percentual de pelo menos 30% de candidatas mulheres em cada ciclo eleitoral
- (C) Reserva de assentos, em ambas as casas legislativas, para mulheres, com preferência para as representantes de povos originários.
- (D) Cota de gênero, que obriga cada partido ou coligação a preencher o mínimo de 30% e o máximo de 70% de candidaturas de cada sexo.
- (E) Repasse de até 30% dos recursos dos Fundos Partidário para custear o tempo da propaganda eleitoral gratuita de candidatas em rádio e televisão.

24

A França se tornou o primeiro país do mundo a incluir na Constituição a liberdade de a mulher abortar. A mudança na Carta Magna foi aprovada em uma sessão conjunta das duas Casas legislativas, a Assembleia Nacional e o Senado, e será promulgada pelo presidente Emmanuel Macron ainda em março de 2024.

Adaptado de <https://www1.folha.uol.com.br/mundo/2024/03/>

Diferentemente da França, a legislação brasileira

- (A) equipara o aborto ao infanticídio.
- (B) considera o aborto uma prática ilegal em todas as situações.
- (C) descriminaliza a interrupção da gravidez em caso de deficiência da gestante.
- (D) estabelece um limite temporal para interromper a gravidez, desde que respaldada por laudo médico.
- (E) autoriza a interrupção de gestação em caso de não haver outro meio de salvar a vida da gestante.

25

Desde os anos 2000, o interior do Brasil ultrapassou o litoral na incidência de dengue. A região costeira que vai de Santos, em São Paulo, até Belém, no Pará, apresentava tipicamente maior proporção de casos de dengue em comparação com sua população. Entretanto, recentemente, o oeste do Paraná, o oeste de Santa Catarina o oeste de São Paulo, o interior de Minas Gerais, uma parte do Tocantins, o Goiás e o Mato Grosso do Sul viram a transmissão da doença aumentar e muitas de suas cidades foram obrigadas a decretar emergência.

Adaptado de <https://www.estadao.com.br>

A respeito dos fatores relacionados ao aumento e à interiorização dos casos de dengue no Brasil, analise as afirmativas a seguir.

- I. A maior frequência de períodos com temperaturas acima da média, inclusive com ondas de calor no período invernal em todo território, tem reforçado o padrão sazonal da doença.
- II. A expansão urbana desvinculada de melhoras nos serviços sanitários tem propiciado a formação de ilhas de calor e, portanto, uma alta na incidência da dengue.
- III. O desmatamento do cerrado, convertido em pasto, por exemplo, tem contribuído para aumentar a temperatura média e o número de casos da doença no interior do Brasil.

Está correto o que se afirma em

- (A) I, apenas.
- (B) I e II, apenas.
- (C) I e III, apenas.
- (D) II e III, apenas.
- (E) I, II e III.

26

As afirmativas a seguir descrevem corretamente o desempenho da economia brasileira em 2023, à exceção de uma. Assinale-a.

- (A) A expansão econômica ampliou a geração de empregos informais, em um contexto recessivo e de flexibilização das leis trabalhistas.
- (B) O dinamismo da economia foi marcado pelo aumento de exportações, no setor agrícola, e da demanda, no setor de serviços, em função da alta no consumo das famílias.
- (C) A alta progressiva nas cotações internacionais de commodities acelerou o ritmo das exportações, mesmo em um cenário cambial desfavorável para os exportadores.
- (D) A retração do Brasil no mercado regional e internacional ocorreu em função da maior competitividade dos produtos agrícolas argentinos e pela retomada da economia chinesa.
- (E) A persistência do alto nível da inflação foi ocasionada pela alta da cesta básica, sobretudo dos alimentos, cujas safras foram afetadas pelas condições climáticas adversas.

27

Em 2024, o Tribunal Superior Eleitoral (TSE) aprovou uma resolução para regulamentar o uso da inteligência artificial (IA) durante as eleições municipais a serem realizadas em outubro. A norma proíbe manipulações de conteúdo falso para criar ou substituir imagem ou voz de candidato com objetivo de prejudicar ou favorecer candidaturas. Também foi aprovada a restrição do uso de chatbots humanizados e avatares para intermediar a comunicação das campanhas com pessoas reais nas redes sociais.

Adaptado de <https://agenciabrasil.ebc.com.br/>

A resolução sobre IA objetiva

- (A) coibir a produção e circulação de *deepfakes*.
- (B) restringir o uso de ferramentas de IA simbólica.
- (C) retomar a veiculação de propagandas eleitorais em mídias tradicionais, como rádio e televisão.
- (D) proibir o uso de ferramentas de coleta e seleção em bases de dados com fins eleitorais.
- (E) limitar o uso de assistente virtual programado por AI para divulgação do programa partidário.

28

Assinale a afirmativa que descreve corretamente um aspecto do panorama global da economia em 2023.

- (A) Nos Estados Unidos, a economia foi alavancada pela adoção de uma política de ampliação do crédito e baixa da taxa de juros.
- (B) Na China, o PIB cresceu acima do esperado, em um cenário marcado pela retomada econômica pós pandemia, inclusive no setor imobiliário.
- (C) Na Zona do Euro, a alta dos preços da energia pesou nas despesas familiares e no setor industrial, confirmando a manutenção de um quadro de crise.
- (D) Na Rússia, o PIB decresceu, em função do impacto prolongado da guerra com a Ucrânia e dos embargos à venda de petróleo e gás russos.
- (E) Na América do Sul, foi mantido um caminho geral de crescimento, apoiado por investimentos externos e pela intensificação de políticas estatistas.

29

Um supercomputador consiste em milhares de pequenos computadores chamados nós. Cada nó é equipado com sua própria memória e com vários processadores. Atuando em conjunto, eles são capazes de realizar cálculos extremamente complexos em elevada velocidade. Hoje, o maior supercomputador da América Latina é o Pégaso, da Petrobras, com 678 TB de memória RAM e mais de 233 mil núcleos.

Adaptado de <https://revistapesquisa.fapesp.br>

A respeito do poder computacional de alto desempenho dos supercomputadores, analise as afirmativas a seguir e assinale (V) para a verdadeira e (F) para a falsa.

- ( ) Essas máquinas são instrumentos valiosos de pesquisa e de suporte a setores da economia como defesa, energia e saúde, permitindo a resolução de problemas complexos em menor tempo.
- ( ) Esses equipamentos permitem realizar tarefas que exigem altíssimos níveis de processamento, como simulações da formação do universo ou modelagem molecular para novos fármacos.
- ( ) Esses aparelhos trabalham em alta velocidade de processamento pelo somatório de diversos núcleos, o que potencializa a velocidades do processador, medidas em gigahertz (GHz).

As afirmativas são, respectivamente,

- (A) V – V – F.
- (B) V – F – V.
- (C) F – V – F.
- (D) F – V – V.
- (E) V – V – V.

30

No início do ano corrente, a Petrobras anunciou ter alcançado em 2023 o segundo maior valor de lucro líquido de sua história. Mesmo assim, suas ações caíram no mercado financeiro, em função da disputa sobre os dividendos.

A respeito dos resultados financeiros da Petrobras nos últimos anos e da política de distribuição de dividendos da empresa, assinale a afirmativa correta.

- (A) A Petrobras é uma empresa estatal de economia mista que monopoliza a indústria petroleira no Brasil.
- (B) A Petrobras é uma estatal administrada diretamente por órgãos governamentais que controlam o valor das suas ações.
- (C) A Petrobras direciona parte dos dividendos para investidores privados, e outra parte para o governo federal, que controla a empresa via Tesouro e BNDES.
- (D) A Petrobras, sob o Governo Bolsonaro, reduziu o pagamento de dividendos a acionistas privados para reinvesti-los em energia renovável.
- (E) A Petrobras, no atual governo, vendeu ativos e distribuiu o lucro e os valores recordes de dividendos entre seus acionistas para financiar projetos do BNDES.

31

Dados da última década mostram que, em relação aos Estados, o Pará é o que apresenta o maior número de registros de resgates de trabalho análogo à escravidão, com 9.853, seguido por Mato Grosso (4.302); Tocantins (2.896); São Paulo (1.529) e Rio de Janeiro (1.653), em 2017.

Adaptado de <https://www.jota.info/justica/em-14-anos-434-mil-foram-resgatados-de-trabalho-escravo-30102017>

A respeito da definição moderna de escravidão, analise as afirmativas a seguir.

- I. Em Tocantins, a maior incidência de escravidão moderna ocorre na zona rural, associada a atividades agropecuárias e ao extrativismo mineral, como nas carvoarias, por exemplo.
- II. A Organização Internacional do Trabalho determina a condição de escravidão por uma série de componentes, como o trabalho forçado análogo ao de escravo e o casamento forçado.
- III. Pessoas obrigadas a trabalhar por dívida ou por ameaça, sem direitos trabalhistas garantidos estão em situação de escravidão, uma vez que lhes é impedida a liberdade de ir e vir.

Está correto o que se afirma em

- (A) I, apenas.
- (B) I e II, apenas.
- (C) I e III, apenas.
- (D) II e III, apenas.
- (E) I, II e III.

32

Energia gerada por recursos naturais renováveis que, no Brasil, provém da lenha, carvão vegetal, carvão mineral, bagaço de cana e outros resíduos combustíveis. Essa energia é a matéria orgânica vegetal ou animal usada como fonte de energia limpa e sustentável.

O trecho descreve o seguinte componente importante do desenvolvimento sustentável:

- (A) compostagem.
- (B) biodiversidade.
- (C) créditos de carbono.
- (D) ciclo de vida.
- (E) biomassa.

## História e Geografia do Estado de Tocantins

33

Leia a descrição de uma classe de vegetação presente no estado do Tocantins, a seguir.

*Esta vegetação, também conhecida como floresta pluvial tropical, é caracterizada por árvores de porte elevado, além de trepadeiras lenhosas e epífitas (bromélias e orquídeas, por exemplo) em abundância, o que a diferencia de outras classes de formação vegetal. Sua característica ecológica principal é estar presente em ambientes de chuvas abundantes, como na parte noroeste do Estado, onde as temperaturas médias são de 25°C e os elevados índices de precipitação estão bem distribuídos ao longo do ano.*

Adaptado de Luís Antônio G. C. Silva. *Biomias presentes no Estado do Tocantins*. Brasília: Câmara dos Deputados, 2007, p. 4.

O trecho caracteriza a região conhecida como Floresta

- (A) Estacional Semidecidual.
- (B) Tropical Subcaducifolia.
- (C) de Mata Atlântica.
- (D) Ombrófila Densa.
- (E) Temperada Decidual.

34

Comparando dados dos censos do IBGE, pode-se elaborar um retrato da evolução demográfica da população residente no Estado de Tocantins. O grupo na faixa etária de 0 a 14 representava 41,7% da população em 1991, 28,8% em 2010, e passou para 24% em 2022. A população acima de 65 anos era de 3,8% em 1991 e 5,8% em 2010, e ficou em 8,6% em 2022. O censo de 2022 mostrou ainda que a faixa etária de 15 a 29 anos representa 15% da população e que 41% da população é composta por pessoas de 30 a 59 anos.

Com base no trecho, assinale a opção que apresenta a dinâmica populacional do Tocantins entre 1991 e 2022.

- (A) Expansão da base da pirâmide etária.
- (B) Diminuição da taxa de fecundidade.
- (C) Estreitamento do topo da pirâmide.
- (D) Aumento da idade mediana.
- (E) Redução do índice de envelhecimento.

35

*Foram inegáveis os desdobramentos socioeconômicos sobre o antigo Norte Goiano fruto da construção da rodovia BR-153, a partir do final da década de 1950. O novo urbanismo da Belém-Brasília trouxe enorme impacto no que se refere ao conjunto de cidades que existiam às margens do rio Tocantins, aos fluxos migratórios e às atividades econômicas da região.*

Adaptado de AQUINO, N. *Tocantins: cidades e urbanismo em três modelos históricos*. In: III Encontro da ANPPAS. Brasília, 2006, p. 8.

As afirmativas a seguir descrevem corretamente impactos da rodovia BR-153 no processo de territorialização do Tocantins, **à exceção de uma**. Assinale-a.

- (A) A rodovia foi construída no governo Kubitscheck, em um contexto desenvolvimentista que considerava a expansão rodoviária como um meio para integrar econômica e territorialmente as regiões do país, inclusive o norte goiano que, então, vivia uma situação de abandono.
- (B) A rodovia Belém-Brasília teve grande importância para a urbanização do atual Tocantins, o que é exemplificado pela quantidade de novas cidades criadas após a sua construção, como Araguaína, Gurupi, Paraíso do Tocantins, Colinas do Tocantins e Guaraí.
- (C) A construção da BR-153 alavancou também os municípios ribeirinhos, pois a navegação fluvial foi intensificada para abastecer as obras em curso, o que transformou esses municípios em satélites econômicos da nova malha urbana instalada ao longo da rodovia.
- (D) Após a abertura da rodovia, as principais áreas que receberam fluxos migratórios foram a Microrregião de Gurupi – Gurupi e a Microrregião de Porto Nacional – Palmas, para onde se dirigiram pessoas interessadas em trabalhar na construção civil, nos serviços e no comércio, entre outros.
- (E) A BR-153 permitiu interligar o norte de Goiás, atual Estado do Tocantins, a outras localidades do país, facilitando o escoamento da produção e o acesso a produtos para a região, promovendo o fluxo de mercadorias e serviços.

36

O Memorial Coluna Prestes (2001) é uma obra do arquiteto Oscar Niemeyer localizada na Praça dos Girassóis, no centro de Palmas (TO).



Fonte: <https://central.to.gov.br/image/146145?f=1>

A respeito da relação entre essa obra e a constituição de uma memória histórica para o Estado do Tocantins, analise as afirmativas a seguir.

- I. O monumento refere-se à Coluna Prestes, que percorreu o Brasil para divulgar seu programa revolucionário entre 1924 e 1927, tendo passado pelo Norte do então Estado de Goiás (atual Tocantins) durante seu percurso.
- II. A obra foi realizada em concreto e apresenta curvas sinuosas, características próprias do Barroco das cidades mineradoras, estabelecendo visualmente uma continuidade entre o Barroco do passado das cidades mineradoras e o presente do Tocantins.
- III. A construção do memorial permite inserir simbolicamente a história do Tocantins nos grandes processos da história republicana nacional, e homenagear o Tenente Antônio de Siqueira Campos, cujo sobrenome é homônimo ao do ex-governador do Estado.

Está correto o que se afirma em

- (A) I, apenas.
- (B) I e II, apenas.
- (C) I e III, apenas.
- (D) II e III, apenas.
- (E) I, II e III.



37

Até 1988, o território que hoje corresponde ao Estado do Tocantins pertencia ao antigo norte de Goiás e à Região Centro-Oeste, tendo como capital política a cidade de Goiânia. Com a emancipação política, da noite para o dia, as pessoas amanheceram tocaninenses, mas sem referências culturais que as representassem como tais.

A respeito da projeção simbólica do novo Estado e de sua nova capital, assinale a opção que interpreta corretamente o processo de construção e atribuição de uma identidade ao Tocantins.

- (A) Desde o primeiro mandato do governador Siqueira Campos, os símbolos oficiais do Tocantins continuaram sendo o brasão de armas, a bandeira, o selo estadual e a canção “Hino ao Tocantins”, de Liberato Costa Póvoa e Abiezer Alves da Rocha.
- (B) O girassol foi reconhecido oficialmente como símbolo da natureza do Estado, por ser uma planta nativa dos cerrados tocaninenses e estar associada à prosperidade e à esperança.
- (C) A Praça dos Girassóis, centro cívico de Palmas, foi concebida para receber edifícios esteticamente associados à cultura do Tocantins, como o Palácio do Araguaia, cujos pórticos remetem ao capim dourado, símbolo da tradição do artesanato de alta qualidade da região.
- (D) A monumentalidade da Praça dos Girassóis é enfatizada pelo seu pavimento, que contém figuras simbólicas como o mapa do Tocantins, a rosa dos ventos, o brasão de armas e a Praça Krahô.
- (E) O meio ambiente também foi utilizado para fortalecer o sentimento identitário, inserindo o girassol, a fava-de-bolota, a arara-canindé e a granada como símbolos da natureza do Tocantins, desde a promulgação da Constituição Estadual em 1989.

38

A respeito da matriz energética do Estado e dos investimentos em biocombustíveis, analise as afirmativas a seguir e assinale (V) para a verdadeira e (F) para a falsa.

- ( ) O Estado tem condições de clima e solo desfavoráveis para o plantio de matérias-primas usadas na fabricação de biocombustíveis, mas a expansão do modal logístico (Ferrovia Norte-Sul) permitirá o acesso à soja do planalto goiano.
- ( ) O Tocantins conta com duas usinas de biodiesel em funcionamento, utilizando o pinhão-mansô, a soja, a mamona e outras oleaginosas como matéria-prima.
- ( ) O Estado tem alto potencial de geração de energia solar, pela elevada irradiação solar e pelas políticas públicas voltadas para produção de energia limpa e renovável, como a Política Estadual de Incentivo à Geração e ao Uso da Energia Solar (Pró-Solar)

As afirmativas são, respectivamente,

- (A) V – F – V.  
 (B) F – V – V.  
 (C) F – F – V.  
 (D) V – V – F.  
 (E) V – V – V.

39

*As belas paisagens como serras, cachoeiras, praias e até mesmo dunas, fazem do Tocantins um paraíso de paisagens naturais, atraindo turistas de várias regiões para conhecer o mais novo Estado brasileiro. A potencialidade para o ecoturismo e a preocupação em conservar a biodiversidade e recursos naturais nele contidos fez com que o Governo do Estado, criasse e implementasse as Unidades de Conservação Ambiental (UC).*

Adaptado de <https://www.to.gov.br/secom/>

A respeito das Unidades de Conservação (UC) do Tocantins, assinale a afirmativa correta.

- (A) São espaços territoriais legalmente instituídos pelo poder público e podem ser de proteção integral federal, como no caso dos Parques Cantão, Jalapão e Lajeado.
- (B) As UCs federais estão subordinadas ao Instituto Chico Mendes de Conservação da Biodiversidade (ICMBio), como no caso do Monumento Natural das Árvores Fossilizadas.
- (C) As UCs estaduais estão subordinadas ao Instituto Natureza do Tocantins (Naturatins), que supervisiona o Parque do Araguaia e o das Nascentes do rio Parnaíba.
- (D) As UCs de uso sustentável são compostas exclusivamente por áreas públicas, sendo permitida sua utilização apenas para o ecoturismo, pesquisa e educação ambiental.
- (E) As UCs municipais estão subordinadas às secretarias de meio ambiente, como no caso do Monumento Natural dos Cânions e Corredeiras do Rio Sono e do Parque Ecológico Roberto Guedes Pereira.

40

O Estado do Tocantins possui diversas comunidades quilombolas certificadas e outras com processo formalizado para regularização fundiária de seus territórios. A definição de comunidade quilombola é dada pelo Art. 2º do Decreto nº 4.887/2003:

*Consideram-se remanescentes das comunidades dos quilombos, para os fins deste Decreto, os grupos étnico-raciais, segundo critérios de auto-atribuição, com trajetória histórica própria, dotados de relações territoriais específicas, com presunção de ancestralidade negra relacionada com a resistência à opressão histórica sofrida.*

A respeito dos órgãos e processos envolvidos na identificação e regularização de territórios quilombolas no Estado do Tocantins, assinale a afirmativa correta.

- (A) O acesso dessas comunidades às políticas públicas de educação, saúde, moradia e regularização fundiária depende de o Estado emitir uma certidão de identificação de comunidade quilombola, mediante Fundação Palmares.
- (B) Os critérios para reconhecimento de um grupo enquanto remanescente de quilombo depende da comprovação de sua ancestralidade, seu parentesco e da preservação viva de religiosidades autenticamente africanas.
- (C) A Coordenação Nacional de Articulação de Comunidades Negras Rurais Quilombolas (CONAQ) luta pela incorporação constitucional do direito à autodefinição dos remanescentes de quilombos.
- (D) A certificação quilombola é realizada pela Fundação Cultural Palmares, que avalia com visitas técnicas a autenticidade do legado quilombola pretendido e, caso o aprove, emite a certidão de comunidade quilombola e a inscreve em um cadastro geral.
- (E) O acesso às terras ocupadas pelos remanescentes das comunidades dos quilombos é garantido por sua delimitação e titulação, a cargo da autoridade municipal em que a mesma se localiza.

## CONHECIMENTOS ESPECÍFICOS

41

A atividade econômica pode ser organizada por meio de diferentes formas.

Relacione cada sistema econômico às respectivas características.

- ( ) Economia de mercado  
 ( ) Economia planificada  
 ( ) Economia mista

1. Caracterizada pela existência e cumprimento dos direitos à propriedade privada dos meios de produção.
2. O sistema de preços pode indicar se determinado segmento é ineficiente, mas o nível de produção desse setor é decidido de forma centralizada.
3. O setor privado, em conjunto com o Estado, decide os fundamentos da economia.

Assinale a opção que indica a relação correta, segundo a ordem apresentada.

- (A) 1 – 2 – 3.  
 (B) 1 – 3 – 2.  
 (C) 2 – 1 – 3.  
 (D) 2 – 3 – 1.  
 (E) 3 – 2 – 1.

42

A Curva de Possibilidades de Produção (CPP) representa a relação entre

- (A) o preço de um bem e a quantidade ofertada.  
 (B) o tempo de produção de um bem e a quantidade de trabalhadores.  
 (C) as quantidades máximas de dois bens que podem ser produzidas com recursos e tecnologia dados.  
 (D) o nível de renda de um país e sua taxa de crescimento.  
 (E) as importações e exportações de um país.

43

Imagine um consumidor que possui R\$100 para gastar em dois bens: pizza e refrigerante. O preço de uma pizza é R\$20 e o preço de um litro de refrigerante é R\$5.

A Restrição Orçamentária desse consumidor representa unicamente

- (A) a quantidade máxima de pizzas que ele pode comprar, ou seja, 5 unidades.  
 (B) a quantidade mínima de refrigerantes que ele precisa comprar, ou seja, 0 unidades.  
 (C) todas as combinações de pizzas e refrigerantes que ele pode comprar com sua renda, dados os preços dos bens.  
 (D) a diferença entre a renda do consumidor e o preço de uma pizza ou um refrigerante.  
 (E) a quantidade de pizzas que ele compra no mercado.

44

No contexto da teoria do consumidor, o Equilíbrio do Consumidor é alcançado quando

- (A) o consumidor maximiza a utilidade total obtida com a compra de um bem.  
 (B) o consumidor minimiza os custos de transação associados à aquisição de um bem.  
 (C) a restrição orçamentária do consumidor é tangente à curva de indiferença.  
 (D) a função de utilidade do consumidor é diferenciável em todos os pontos.  
 (E) a elasticidade-preço da demanda do consumidor é igual à unidade.

45

Um deslocamento para a direita da curva de demanda de um bem ocorre quando há

- (A) uma queda do preço desse bem.  
 (B) um aumento do preço de um bem complementar.  
 (C) uma queda no preço do insumo desse bem.  
 (D) um aumento do preço de um bem substituto.  
 (E) um choque tecnológico positivo.

46

Considere uma economia de 2 bens, em que um dos bens é um bem inferior. Um aumento na renda dos consumidores tende a

- (A) aumentar a demanda pelo bem inferior e diminuir a demanda pelo outro bem.  
 (B) diminuir a demanda pelo bem inferior e inalterar a demanda pelo outro bem.  
 (C) aumentar a demanda pelo bem inferior e inalterar a demanda pelo outro bem.  
 (D) diminuir a demanda pelo bem inferior e aumentar a demanda pelo outro bem.  
 (E) aumentar a demanda pelos dois bens.

47

Uma sociedade empresária vende um produto a R\$10 por unidade e sua curva de demanda é  $Q = 100 - 2P$ . A sociedade empresária está pensando em aumentar o preço para R\$12 por unidade.

O impacto desse aumento de preço na receita total da empresa será

- (A) de aumento de 14%.  
 (B) de redução de 14%.  
 (C) neutro.  
 (D) de aumento de 20%.  
 (E) de redução de 5%.

48

Considere a seguinte função de produção de tomates:

Fator fixo	# trabalhadores	PT
1	1	6
1	2	14
1	3	24
1	4	32
1	5	38
1	6	42
1	7	44
1	8	44
1	9	42
1	10	38

# = número. PT = produção total.

O produto marginal atinge seu máximo e a função de produção apresenta retornos constantes de escala, nos níveis de produção, respectivamente, de

- (A) 24 e 24.
- (B) 24 e 32.
- (C) 32 e 32.
- (D) 44 e 42.
- (E) 44 e 44.

49

Um monopolista **nunca** opera (obtem máximo lucro)

- (A) na parte elástica da demanda.
- (B) no ponto em que o custo marginal iguala a receita marginal.
- (C) no ponto em que o custo marginal iguala o preço, se a demanda for perfeitamente elástica.
- (D) com *markup* não negativo.
- (E) quando o peso morto é positivo, se a demanda for perfeitamente elástica.

50

Relacione cada estrutura de mercado às suas respectivas características.

1. Concorrência Perfeita.
  2. Oligopólio.
  3. Concorrência Monopolítica.
  4. Oligopsônio.
- ( ) Há muitos compradores e vendedores, não há diferenciação do produto e há liberdade de entrada e saída do mercado.
  - ( ) Há muitos compradores e poucos vendedores, não há diferenciação do produto e há dificuldade de entrada e saída do mercado.
  - ( ) Há poucos compradores e muitos vendedores, não há diferenciação do produto e há dificuldade de entrada e saída do mercado.
  - ( ) Há muitos compradores e vendedores, há diferenciação do produto e há liberdade de entrada e saída do mercado.

Assinale a opção que indica a relação correta, segundo a ordem apresentada.

- (A) 1 – 2 – 3 – 4.
- (B) 1 – 2 – 4 – 3.
- (C) 2 – 1 – 3 – 4.
- (D) 3 – 2 – 4 – 1.
- (E) 4 – 3 – 2 – 1.

51

Em um mercado, o grau de concentração econômica pode ser um importante indicador da estrutura de mercado e da competitividade entre as empresas.

Considerando os diferentes índices e conceitos relacionados à concentração de mercado, assinale a opção que melhor descreve um cenário de alta concentração econômica em um determinado mercado.

- (A) A presença de muitas pequenas empresas, cada uma com uma participação de mercado insignificante, indicando uma estrutura de mercado perfeitamente competitiva.
- (B) Um mercado caracterizado pela liderança de três empresas que possuem uma participação de 50% do mercado, sugerindo um ambiente de competição moderada, mas com indícios de concentração de poder de mercado.
- (C) Um mercado em que as quatro maiores empresas controlam mais de 80% da quota de mercado total, indicando um domínio oligopolista e uma significativa limitação na competição devido à predominância destas empresas.
- (D) Um cenário em que a empresa líder detém uma participação de mercado de 25%, enquanto muitas outras empresas dividem o restante, refletindo uma estrutura de mercado fragmentada.
- (E) Um mercado com alta entrada de novas empresas e inovação constante, onde a participação de mercado se altera rapidamente e não se concentra em poucas empresas

52

Considere um sistema econômico simplificado que consiste apenas de famílias e sociedades empresárias. As famílias fornecem fatores de produção (como trabalho e capital) para as sociedades empresárias e, em troca, recebem renda. As sociedades empresárias, por sua vez, produzem bens e serviços que são comprados pelas famílias usando a renda que receberam.

Agora, suponha que houve um aumento na produtividade do trabalho devido a melhorias tecnológicas. Isso afeta o fluxo circular da atividade econômica. Assim, especificamente, indique os impactos prováveis sobre o produto e a renda.

- (A) Aumento do fluxo de produtos e diminuição do fluxo de renda, ambos através do mercado de bens.
- (B) Diminuição do fluxo de produtos para o mercado de bens devido à redução do fluxo de insumos oriundos do mercado de trabalho e aumento do fluxo de renda das empresas para as famílias.
- (C) Diminuição tanto do fluxo monetário do produto quanto da renda, em todos os mercados do modelo.
- (D) Aumento do fluxo monetário do produto das empresas para o mercado de bens e do fluxo de bens monetários das empresas para as famílias através do mercado de fatores de produção.
- (E) Aumento do fluxo do produto das empresas para o mercado de bens e do fluxo de monetário de salários das empresas para as famílias através do mercado de fatores de produção.

53

Considere uma economia fechada com os seguintes dados:

- Propensão marginal a consumir (PMC): 0,8
- Investimento autônomo (I): R\$ 100
- Gastos do governo (G): R\$ 200

Com base no modelo keynesiano, o nível de renda de equilíbrio (Y) será igual a

- (A) 500.
- (B) 750.
- (C) 1.000.
- (D) 1250.
- (E) 1.500.

54

Considere o modelo IS-LM. Um aumento da produtividade do capital gera

- (A) um aumento do produto, da renda e da taxa de juros.
- (B) um aumento do produto e da renda e uma redução da taxa de juros.
- (C) um aumento do produto, uma redução da renda e um aumento da taxa de juros.
- (D) uma redução do produto, da renda e da taxa de juros.
- (E) uma redução do produto e da renda e um aumento da taxa de juros.

55

Em relação aos conceitos, tipos e efeitos da inflação, analise as afirmativas a seguir e assinale (V) para a verdadeira e (F) para a falsa.

- ( ) A inflação ocorre quando a demanda agregada excede o produto potencial.
- ( ) A inflação de demanda é mais provável de ocorrer quanto maior for o grau de utilização da capacidade produtiva da economia.
- ( ) Um dos efeitos da inflação é o aumento dos custos de transação.

As afirmativas são, respectivamente,

- (A) V – V – V.
- (B) V – V – F.
- (C) V – F – V.
- (D) F – V – V.
- (E) F – F – F.

56

A concepção estruturalista da inflação nasceu na Comissão Econômica para América Latina e Caribe (Cepal), organismo da ONU sediado no Chile.

Uma característica dessa visão é que

- (A) parte de um diagnóstico de inflação de demanda, com políticas fiscais restritivas como forma de combatê-la.
- (B) parte de um diagnóstico de inflação de custos, com políticas monetárias ou de renda restritivas como forma de combatê-la.
- (C) a inflação é causada por um problema estrutural, de reduzida capacidade ociosa, incorrendo em restrições de ampliação da oferta de todos os setores econômicos.
- (D) a inflação é de oferta, decorrente de problemas associados ao processo de industrialização latino-americano, que gerou pontos de estrangulamento.
- (E) a inflação decorre de mecanismos de indexação, levando a inflação inercial, cujo combate se dá através de aumento da taxa de juros e contenção dos gastos públicos.

57

O desemprego friccional ocorre quando

- (A) há deflação.
- (B) há recessão econômica.
- (C) há ganhos de produtividade do trabalho.
- (D) as vagas de emprego estão em regiões que exige deslocamento.
- (E) há demora na geração de empregos decorrente de choque tecnológico.

58

Em relação à dinâmica do mercado de trabalho, analise os itens a seguir.

- I. Um aumento da PEA, reduz a taxa de desemprego.
- II. Um salário-mínimo fixado acima do salário de equilíbrio de mercado, gera excesso de oferta de trabalho, ou seja, desemprego.
- III. Se a PEA é igual a 100 e a PO é igual a 95, então a taxa de desemprego é igual a 5%.

Está correto o que se afirma em

- (A) I, apenas.
- (B) I e II, apenas.
- (C) II e III, apenas.
- (D) III, apenas.
- (E) I, II e III.

59

A teoria clássica do comércio internacional, elaborada por David Ricardo em 1817, considera 2 países, 2 produtos e 1 fator de produção.

Assinale a opção que apresenta uma característica que **não** pode ser atribuída a essa teoria.

- (A) Os mercados dos produtos e do fator de produção são de concorrência perfeita.
- (B) Há inexistência de mobilidade internacional do trabalho.
- (C) Um país tem vantagem relativa na produção de um bem e o outro país na produção do outro bem.
- (D) Cada país se especializa e exporta o bem cujo custo for relativamente menor em relação ao outro país.
- (E) Não há diferenças tecnológicas relativas entre os dois países.

60

Considere um país que apresenta um superávit em conta corrente e um déficit em conta capital e financeira. Portanto, pode-se concluir que esse país

- (A) está exportando mais capital do que importando.
- (B) está recebendo mais investimentos do que aplicando no exterior.
- (C) está com déficit no saldo geral do balanço de pagamentos.
- (D) está com reservas internacionais em queda.
- (E) está com a taxa de câmbio em desvalorização.

61

**Não** representa uma função fundamental do Estado na economia, a função

- (A) alocativa, que visa corrigir falhas de mercado.
- (B) distributiva, que visa reduzir desigualdades sociais e promover justiça social.
- (C) estabilizadora, que visa intervir na economia para minimizar flutuações e garantir crescimento sustentável.
- (D) alocativa, que visa estabelecer regras e normas para o bom funcionamento dos serviços públicos e semi-públicos.
- (E) promocional, que visa incentivar o desenvolvimento de setores estratégicos da economia.

62

Os princípios orçamentários são premissas a serem observadas na elaboração e na execução da lei orçamentária.

Relacione cada um dos seguintes princípios orçamentários às suas respectivas características.

1. Unidade.
  2. Totalidade.
  3. Universalidade
  4. Pureza
- ( ) Deve existir um orçamento para cada exercício financeiro e para determinado ente, contendo todas as receitas e despesas.
  - ( ) Possibilita a coexistência de vários orçamentos autônomos, mas que podem ser vistos de forma consolidada, permitindo-se assim uma visão ao mesmo tempo segregada e geral das finanças públicas.
  - ( ) A adoção desse princípio possibilita: conhecer a priori todas as receitas e despesas do governo e dar prévia autorização para respectiva arrecadação e realização, além de garantir que todos os órgãos e unidades da administração pública estejam contemplados no orçamento.
  - ( ) Estabelece que a LOA não conterá dispositivo estranho à previsão da receita e à fixação da despesa, ressalvados a autorização para abertura de créditos suplementares e a contratação de operações de crédito.

Assinale a opção que indica a relação correta, segundo a ordem apresentada.

- (A) 1 – 2 – 3 – 4.
- (B) 1 – 3 – 2 – 4.
- (C) 3 – 2 – 1 – 4.
- (D) 3 – 4 – 1 – 2.
- (E) 4 – 1 – 2 – 3.

63

Em relação ao modelo de Solow, avalie as afirmativas a seguir e assinale (V) para a verdadeira e (F) para a falsa.

- ( ) Um aumento da taxa de poupança, eleva os investimentos por trabalhador acima da taxa de depreciação, levando ao acúmulo de capital por trabalhador.
- ( ) Economias com altas taxas de crescimento populacional tendem a apresentar baixos níveis de renda per capita.
- ( ) Somente o progresso tecnológico pode explicar o crescimento do produto por trabalhador ao longo do tempo.

As afirmativas são, respectivamente,

- (A) V – V – V.
- (B) V – V – F.
- (C) V – F – V.
- (D) F – V – F.
- (E) F – F – F.

64

No regime de juros simples, as taxas de juros anuais proporcional e equivalente à taxa de 10% ao mês, são iguais, respectivamente, a

- (A) 100% e 120%.
- (B) 120% e 120%.
- (C) 214% e 120%.
- (D) 120% e 214%.
- (E) 214% e 214%.

65

Em relação aos sistemas de amortização, avalie as afirmativas a seguir e assinale (V) para a verdadeira e (F) para a falsa.

- ( ) Os juros no sistema SAC decrescem a cada período a uma taxa constante igual a  $i \times VA$ , em que  $i$  é a taxa de juros e  $VA$  é o valor da amortização.
- ( ) O valor da amortização no sistema francês cresce a cada período, a uma razão de progressão geométrica igual a  $(1+i)$ , em que  $i$  é a taxa de juros.
- ( ) A última prestação no sistema SAC pode ser calculada como  $VA \times (1+i)$ , em que  $i$  é a taxa de juros e  $VA$  é o valor da amortização.

As afirmativas são, respectivamente,

- (A) V – V – V.
- (B) V – V – F.
- (C) V – F – V.
- (D) F – F – V.
- (E) F – F – F.

## LEGISLAÇÃO INSTITUCIONAL

66

Nos termos da Constituição do Estado do Tocantins, constitui objeto de lei complementar a seguinte matéria:

- (A) os prazos de prescrição para ilícitos praticados por qualquer agente, servidor ou não, que causem prejuízos ao erário.
- (B) os limites de idade, a estabilidade e outras condições de transferência do servidor militar para a inatividade.
- (C) os casos de contratação por tempo determinado para atender à necessidade temporária de excepcional interesse público.
- (D) as regras para cálculo de proventos de aposentadoria e pensão por morte.
- (E) os requisitos e as restrições ao ocupante de cargo ou emprego da administração direta e indireta que possibilite o acesso a informações privilegiadas.

**67**

Considerando o exercício da função legislativa por parte da Assembleia Legislativa de Tocantins, nos termos de seu Regimento Interno, é correto afirmar que

- (A) projetos de lei delegada podem se destinar a regular as matérias de exclusiva competência do Poder Executivo, com a sanção do Governador do Estado.
- (B) projetos de resolução podem se destinar a regular, com eficácia de lei ordinária, matéria de competência privativa da Assembleia Legislativa.
- (C) projetos de lei complementar visam regular matéria infraconstitucional.
- (D) projetos de lei têm por objetivo regular matérias de competência do Poder Legislativo, sem a sanção do Governador do Estado.
- (E) projetos de decreto legislativo destinam-se à delegação de competência, na forma estabelecida na Constituição Estadual.

**68**

Aline, servidora pública estadual, revelou segredo do qual se apropriou em razão do cargo que ocupa. A Administração Pública, ao tomar conhecimento do fato, instaurou procedimento administrativo disciplinar a fim de apurar a conduta e garantir à servidora os princípios da ampla defesa e do contraditório.

À luz do Estatuto dos Servidores Públicos Cíveis do Estado do Tocantins, caso punida, Aline poderá ser sancionada com

- (A) advertência.
- (B) suspensão.
- (C) prestação de serviço.
- (D) multa.
- (E) demissão.

**69**

Ana, servidora pública efetiva e estável, ocupante de cargo de nível superior, objetivando inteirar-se sobre os requisitos para a progressão na carreira, consultou a Lei nº 4.208/2023, que trata sobre o plano de cargos, carreiras e remuneração dos Servidores da Assembleia de Tocantins.

Assim, para fazer jus à progressão, Ana terá que

- (A) possuir no máximo três faltas injustificadas por exercício referente ao período avaliado.
- (B) obter conceito igual ou superior a 70% (setenta por cento) dos pontos possíveis em todos os procedimentos de sua Avaliação.
- (C) concluir curso de pós-graduação *lato sensu* com duração mínima de 360 (trezentos e sessenta) horas.
- (D) cumprir trinta meses de efetivo exercício na classe em que se encontra.
- (E) concluir cursos de aperfeiçoamento em sua área de atuação que tenha, no mínimo, 80 (oitenta) horas de duração.

**70**

Antônio foi nomeado para o cargo de Controlador Interno da Assembleia Legislativa de Tocantins.

À luz da Lei nº 4.209/2023, que dispõe sobre a estrutura administrativa da Aletto, durante o exercício da função, Antônio será competente para:

- (A) opinar, conclusivamente, em processos de direitos, deveres e obrigações dos servidores do Poder Legislativo.
- (B) constituir Comissão Permanente de Licitação.
- (C) examinar a observância das normas de licitações.
- (D) apresentar à Mesa Diretora o balancete mensal e, no início de cada exercício, o balancete geral das contas da Assembleia Legislativa, relativo ao exercício anterior.
- (E) planejar, coordenar, orientar, controlar e dirigir as atividades administrativas, orçamentárias, financeiras, de comunicação social, de tecnologia de informação e de apoio legislativo da Assembleia Legislativa.



# ASSEMBLEIA LEGISLATIVA DO ESTADO DO TOCANTINS

CONCURSO PÚBLICO – EDITAL Nº 01/2023

## PROVA OBJETIVA – TARDE

ANALISTA LEGISLATIVO

# DESENVOLVIMENTO DE SISTEMA

NÍVEL SUPERIOR – TIPO 1 – BRANCA



### SUA PROVA

- Além deste caderno contendo **70 (setenta)** questões objetivas, você receberá do fiscal de prova o cartão de respostas;
- As questões objetivas têm **5 (cinco)** opções de resposta (A, B, C, D) e somente uma delas está correta.



### TEMPO

- Você dispõe de **5 (cinco) horas** para a realização da prova, já incluído o tempo para a marcação do cartão de respostas;
- **3 (três) horas** após o início da prova, é possível retirar-se da sala, sem levar o caderno de questões;
- A partir dos **30 (trinta) minutos** anteriores ao término da prova é possível retirar-se da sala **levando o caderno de questões**.



### NÃO SERÁ PERMITIDO

- Qualquer tipo de comunicação entre os candidatos durante a aplicação da prova;
- Anotar informações relativas às respostas em qualquer outro meio que não seja o caderno de questões;
- Levantar da cadeira sem autorização do fiscal de sala;
- Usar o sanitário ao término da prova, após deixar a sala.



### INFORMAÇÕES GERAIS

- Verifique se seu caderno de questões está completo, sem repetição de questões ou falhas. Caso contrário, **notifique imediatamente o fiscal da sala**, para que sejam tomadas as devidas providências;
- Confira seus dados pessoais, especialmente nome, número de inscrição e documento de identidade e leia atentamente as instruções para preencher o cartão de respostas;
- Para o preenchimento do cartão de respostas, use somente caneta esferográfica, fabricada em material transparente, com tinta preta ou azul;
- Assine seu nome apenas no(s) espaço(s) reservado(s) no cartão de respostas;
- Confira seu cargo, cor e tipo do caderno de questões. Caso tenha recebido caderno de cargo ou cor ou tipo **diferente** do impresso em seu cartão de respostas, o fiscal deve ser **obrigatoriamente** informado para o devido registro na ata da sala;
- Reserve tempo suficiente para o preenchimento do seu cartão de respostas. O preenchimento é de sua responsabilidade e **não será permitida a troca do cartão de respostas em caso de erro cometido pelo candidato**;
- Para fins de avaliação, serão levadas em consideração apenas as marcações realizadas no cartão de respostas;
- A FGV coletará as impressões digitais dos candidatos na lista de presença;
- Os candidatos serão submetidos ao sistema de detecção de metais quando do ingresso e da saída de sanitários durante a realização das provas.
- **Boa prova!**

## CONHECIMENTOS BÁSICOS

### Língua Portuguesa

1

Observe o seguinte texto:

*Quando entrei no terrível vagão, ele estava ocupado por duas pessoas. Uma, dobrada, coberta, dormia profundamente. A coberta superior estava manchada, de fundo amarelado, como pele de leopardo. Vendem-se muitas mantas assim nas lojas de artigos de viagens, mas pude notar logo depois que se tratava realmente da pele de um animal selvagem; do mesmo modo, o boné da pessoa adormecida me pareceu ser de feltro branco bastante delicado. O outro viajante, uma aparência simpática, parecia ter passado dos trinta anos e mostrava-se como figura insignificante que passa confortavelmente as noites em estradas de ferro.*

Nesse fragmento textual, para criar sinais de história realista e verdadeira, o narrador apela para a seguinte estratégia:

- (A) seleciona uma situação banal da qual não precisa fornecer muitos detalhes, exatamente por sua banalidade.
- (B) fornece algumas marcas caracterizadoras dos dois personagens presentes no texto, destacando sua banalidade.
- (C) indica traços descritivos do ambiente, mostrando-o como se nada houvesse nele de excepcional.
- (D) mostra detalhes variados e bastante pitorescos dos objetos descritos.
- (E) dá ao leitor informações sobre personagens e ambiente, mostrando-os como bastante conhecidos do narrador.

2

Assinale a frase que mostra a palavra *mais* numa classe gramatical **diferente** das demais.

- (A) O mercado está prisioneiro de mais um círculo vicioso: piora porque piorou e porque piorou, piora.
- (B) Os ingleses conquistaram o mundo porque não aguentavam mais a própria cozinha.
- (C) Quanto mais vejo o estrangeiro, mais amo a minha pátria.
- (D) Não é mais possível aprender tudo de cor. Um homem instruído não é mais o homem que sabe muitas coisas; é o homem que sabe onde buscar informações.
- (E) Muda-se mais facilmente de religião do que de café

3

As frases a seguir mostram termos ligados pela conjunção OU.

Assinale a frase em que essa conjunção mantém o valor de alternativa (e não de adição).

- (A) João ou Pedro deve ser eleito presidente da empresa.
- (B) A alegria ou a tristeza fazem parte da vida.
- (C) Inglês ou francês são idiomas falados pelos turistas
- (D) Os clientes leem livros ou revistas enquanto esperam.
- (E) Vasco ou Flamengo são times de longa tradição.

4

Um guitarrista americano produziu o seguinte pensamento:

*O crítico de rock é alguém que não sabe escrever, entrevistando gente que não sabe falar, para gente que não sabe ler.*

Sobre a estruturação ou a significação desse pequeno texto, assinale a afirmativa **incorreta**.

- (A) O termo “de rock” funciona como complemento nominal do termo anterior.
- (B) Todos os elementos da cadeia comunicativa citados no texto são marcados pela ignorância.
- (C) O pensamento acima revela um preconceito fortíssimo contra os amantes de rock.
- (D) A opinião expressa no texto pode advir da experiência pessoal do autor, já que se trata de um guitarrista.
- (E) A injustiça desse texto provém de ser uma opinião fundamentada em uma autoridade duvidosa.

5

John Steinbeck, prêmio Nobel, declarou o seguinte:

*O homem é o único animal que bebe sem ter sede, come sem ter fome e fala sem ter nada a dizer.*

Em relação ao significado e à estruturação desse pequeno texto, assinale a afirmativa **incorreta**.

- (A) A frase ficaria mais enfática se invertêssemos a posição do termo inicial: O único animal que bebe sem ter sede, come sem ter fome e fala sem ter nada a dizer é o homem.
- (B) A inversão de alguns segmentos do texto em nada modificaria o sentido da frase: O homem é o único animal que come sem ter fome, bebe sem ter sede e fala sem ter nada a dizer.
- (C) Os segmentos finais do texto mostram preocupação com rigoroso paralelismo sintático.
- (D) Segundo a opinião do autor do texto, a marca principal do homem é a irracionalidade.
- (E) Nem todas as ações citadas como marcas humanas estão presentes, por oposição, nos outros animais.

6

Assinale a frase que **não** expressa uma noção de tempo abstrato.

- (A) Nas asas do tempo, a tristeza voa.
- (B) Quem mata o tempo não é assassino, é suicida.
- (C) O tempo perdido não se encontra nunca mais.
- (D) O tempo é o melhor professor. Infelizmente, ele mata todos os seus estudantes
- (E) O tempo gasto na viagem foi de duas horas.

7

Assinale a frase em que a utilização do acento grave indicativo da crase é realizada de forma **errada**.

- (A) Jamais alguém se arrependeu de ter-se acostumado à madrugada e à ter-se casado jovem.
- (B) Tempo é o suspiro de adeus do sol à terra.
- (C) Saio todos os dias às cinco horas e não permito que o meu trabalho interfira no meu jogo de tênis.
- (D) O momento de extrair uma lição da história está sempre à mão para os sábios.
- (E) Quando assumi, quatro anos atrás, estávamos à beira do precipício.



8

Os adjetivos podem representar estados, qualidades, características e relações.

Assinale a frase que mostra um tipo de adjetivo **diferente** dos demais.

- (A) Nunca houve criança tão amável que a própria mãe não ficasse satisfeita ao conseguir adormecê-la.
- (B) Nada mais perversamente cruel que uma adorável criança.
- (C) Mesmo estando doentes, as crianças não ficam caladas.
- (D) Quando as crianças estão quietas é porque fizeram alguma coisa errada.
- (E) As tangerinas verdes não amadurecem fora do pé.

9

Assinale a frase em que o adjetivo sublinhado mostra uma função sintática **diferente** das demais.

- (A) Por fora bela viola, por dentro pão bolorento.
- (B) Tiradentes, heroico, tentou organizar uma revolução.
- (C) Um rosto bonito altera-se depressa.
- (D) Eu não podia acreditar que existem múmias tão lindas.
- (E) Um homem belo é um homem insignificante.

10

Assinale a opção que mostra uma impropriedade léxica, ou seja, um emprego **inadequado** da expressão “cerca de”.

- (A) Havia cerca de três dúzias de convidados no final da festa.
- (B) Chegaram cerca de 100 cartas no mesmo dia.
- (C) Cerca de 18 lojas fecharam as portas mais cedo.
- (D) Os cantores receberam cerca de uma centena de convites.
- (E) A plantação produziu cerca de uma tonelada de legumes.

11

Muitas palavras portuguesas mostram o prefixo A- sem qualquer valor semântico, sendo equivalentes ao mesmo vocábulo sem esse prefixo.

Assinale a palavra a seguir que exemplifica esse A protético.

- (A) amostrar
- (B) abraçar
- (C) atenuar
- (D) aguardar
- (E) aparar

12

Observe o seguinte texto:

*A felicidade depende da habilidade que tenhamos naquelas atividades que consideramos importantes: somente se lhes damos um real valor aos pequenos detalhes cotidianos, poderemos ter instantes felizes. A felicidade absoluta não existe, e já que só podemos acessar os pequenos detalhes daquilo que nos interessa, devemos contentar-nos com isso. Por isso, a infelicidade é um sinal claro de nossa incompetência na arte de viver.*

Sobre a estrutura e a significação desse texto, assinale a afirmativa **inadequada**.

- (A) O tema do texto gira em torno do que consiste a felicidade e o que viria a ser o seu oposto.
- (B) A afirmação de que “A felicidade absoluta não existe” é de cunho pessoal do autor do texto, representando uma opinião.
- (C) O raciocínio utilizado na estruturação argumentativa é do tipo dedutivo.
- (D) O conector “Por isso” mostra a preocupação com o caráter lógico da argumentação.
- (E) A tese do texto é a de que a infelicidade é fruto de nossa incompetência na arte de viver.

## Raciocínio Lógico Matemático

13

Certo programa de rádio tem 1 hora e 55 minutos de duração. A partir do momento em que o programa é iniciado, há blocos temáticos de 7 minutos intercalados por blocos de propagandas de 2 minutos.

Em todos os blocos de propaganda, ouve-se o comercial do restaurante R, que sempre dura 18 segundos.

Se o programa começa e termina com um bloco temático, então, o tempo total do programa dedicado ao anúncio do restaurante R é

- (A) 3 minutos e 54 segundos.
- (B) 3 minutos e 36 segundos.
- (C) 3 minutos e 18 segundos.
- (D) 3 minutos.
- (E) 2 minutos e 48 segundos.

14

A linha de produção de certa fábrica produz 1100 latas de sardinhas a cada hora. Certo dia, por um defeito de calibragem do sistema, entre 13h e 14h, o volume de produção foi reduzido em 30% durante exatos 12 minutos.

A quantidade de latas de sardinhas produzidas no intervalo supracitado foi

- (A) 946.
- (B) 964.
- (C) 1022.
- (D) 1034.
- (E) 1046.

15

Marcelo está parado de frente para uma das paredes de uma sala quadrada. Nesta posição, ele está a 1m e 20cm da parede que se encontra à sua direita e a 1m e 70cm da parede que está às suas costas.

Ele, então, se desloca paralelamente às paredes da sala sendo 40cm para a frente e 80cm para a direita. Nessa nova posição, ele passou a distar 1m e 90cm da parede que antes estava à sua esquerda.

Desprezando-se as dimensões de Marcelo, a sua atual distância à parede que, antes dos movimentos, estava à sua frente, é

- (A) 20cm.
- (B) 30cm.
- (C) 40cm.
- (D) 50cm.
- (E) 60cm.

16

Um dado é dito comum quando tem a forma de um cubo e suas 6 faces são numeradas de 1 a 6, de tal forma que a soma dos números estampados em faces opostas, quaisquer que sejam elas, sempre somam 7.

Quando um dado comum é lançado, diz-se que o resultado do lançamento é o número estampado na face voltada para cima.

Um dado foi lançado 3 vezes seguidas. Se o produto dos resultados obtidos nos lançamentos vale 75, a soma desses resultados é igual a

- (A) 12.
- (B) 13.
- (C) 14.
- (D) 15.
- (E) 16.

17

Em certo ano, o dia 1º de agosto cai em um domingo. Logo, o dia 1º de novembro cairá em

- (A) um sábado.
- (B) um domingo.
- (C) uma segunda-feira.
- (D) uma quarta-feira.
- (E) uma sexta-feira.

18

Considere a seguinte proposição condicional:

*Se todos os alunos da Escola Aristarco gostam de matemática, então, ao menos um deles ganha medalha na Olimpíada Nacional de Matemática.*

Se essa proposição é verdadeira, é correto afirmar que

- (A) se nenhum dos alunos da Escola Aristarco gosta de Matemática, então nenhum deles ganha medalha na Olimpíada Nacional de Matemática.
- (B) se todos os alunos da Escola Aristarco ganham medalha na Olimpíada Nacional de Matemática, então, todos esses alunos gostam de Matemática.
- (C) se algum aluno da Escola Aristarco ganha medalha na Olimpíada Nacional de Matemática, então todos esses alunos gostam de Matemática.
- (D) se nenhum aluno da Escola Aristarco ganha medalha na Olimpíada Nacional de Matemática, então nenhum desses alunos gosta de Matemática.
- (E) se nenhum aluno da Escola Aristarco ganha medalha na Olimpíada Nacional de Matemática, então algum desses alunos não gosta de Matemática.

19

Em uma caixa, há muitas canetas esferográficas. Classificadas conforme a cor, elas podem ser azuis, vermelhas ou pretas. Classificadas quanto à espessura da esfera, elas podem ser de ponta fina ou de ponta grossa.

Metade das canetas vermelhas tem a ponta grossa. A quantidade total de canetas pretas é igual à quantidade total de canetas vermelhas. Entre as canetas de ponta grossa, a quantidade de azuis é igual à de pretas. A quantidade de canetas azuis com ponta fina é o dobro da quantidade de canetas pretas de ponta grossa.

Se, nessa caixa, 18 são azuis e 20 têm ponta grossa, então a quantidade total de canetas na caixa é

- (A) 30.
- (B) 40.
- (C) 48.
- (D) 50.
- (E) 52.

20

Tucídides possuía uma dívida e, em vez de quitá-la, pagou apenas 20% do seu valor, deixando o restante para ser quitado em data futura, com acréscimo de 12% a título de juros sobre o saldo devedor.

No ato de quitação, Tucídides pagou R\$2.329,60. Logo, o valor original da dívida é o resultado da seguinte expressão:

- (A)  $2.329,60 \times 0,88 - 20$
- (B)  $\frac{2.329,60}{0,88} \times 1,20$
- (C)  $\frac{2.329,60}{1,12} \times 1,20$
- (D)  $\frac{2.329,60}{1,12 \times 1,20}$
- (E)  $\frac{2.329,60}{1,12 \times 0,8}$

21

As filhas de Nepomuceno têm 5 e 9 anos de idade. Ele dividirá R\$420,00 entre elas de forma inversamente proporcional às suas idades.

Logo

- (A) a mais nova receberá R\$120,00 a mais que a mais velha.
- (B) a mais nova receberá R\$150,00 a mais que a mais velha.
- (C) a mais nova receberá R\$270,00 a mais que a mais velha.
- (D) a mais velha receberá R\$120,00 a mais que a mais nova.
- (E) a mais velha receberá R\$150,00 a mais que a mais nova.

22

A negação da proposição:

$$\text{Se } y \neq 0, \text{ então } x > 2 \text{ e } x \leq 5$$

é dada por

- (A) Se  $y = 0$ , então  $x > 2$  e  $x \leq 5$
- (B) Se  $y = 0$ , então  $x < 2$  ou  $x \geq 5$
- (C)  $y = 0$  e  $x \leq 2$  ou  $x > 5$
- (D)  $y \neq 0$  e  $x \leq 2$  ou  $x > 5$
- (E)  $y \neq 0$  e  $x \leq 2$  e  $x > 5$

## Atualidades

23

De acordo com o censo demográfico de 2022 (IBGE), mais da metade da população brasileira (51,13%) é feminina, e elas representam, segundo o Tribunal Superior Eleitoral, 53% do eleitorado. No entanto, elas ocupam, hoje, menos de 15% dos cargos eletivos.

A respeito da baixa participação das mulheres na política, assinale a afirmativa que apresenta um dispositivo existente na legislação brasileira para alterar esse cenário.

- (A) Reserva de pelo menos 50% dos recursos do Fundo Especial de Financiamento de Campanha, o Fundo Eleitoral, para financiar candidaturas femininas.
- (B) Suspensão dos direitos eleitorais aos partidos em caso de não observância do percentual de pelo menos 30% de candidatas mulheres em cada ciclo eleitoral
- (C) Reserva de assentos, em ambas as casas legislativas, para mulheres, com preferência para as representantes de povos originários.
- (D) Cota de gênero, que obriga cada partido ou coligação a preencher o mínimo de 30% e o máximo de 70% de candidaturas de cada sexo.
- (E) Repasse de até 30% dos recursos dos Fundos Partidário para custear o tempo da propaganda eleitoral gratuita de candidatas em rádio e televisão.

24

A França se tornou o primeiro país do mundo a incluir na Constituição a liberdade de a mulher abortar. A mudança na Carta Magna foi aprovada em uma sessão conjunta das duas Casas legislativas, a Assembleia Nacional e o Senado, e será promulgada pelo presidente Emmanuel Macron ainda em março de 2024.

Adaptado de <https://www1.folha.uol.com.br/mundo/2024/03/>

Diferentemente da França, a legislação brasileira

- (A) equipara o aborto ao infanticídio.
- (B) considera o aborto uma prática ilegal em todas as situações.
- (C) descriminaliza a interrupção da gravidez em caso de deficiência da gestante.
- (D) estabelece um limite temporal para interromper a gravidez, desde que respaldada por laudo médico.
- (E) autoriza a interrupção de gestação em caso de não haver outro meio de salvar a vida da gestante.

25

Desde os anos 2000, o interior do Brasil ultrapassou o litoral na incidência de dengue. A região costeira que vai de Santos, em São Paulo, até Belém, no Pará, apresentava tipicamente maior proporção de casos de dengue em comparação com sua população. Entretanto, recentemente, o oeste do Paraná, o oeste de Santa Catarina o oeste de São Paulo, o interior de Minas Gerais, uma parte do Tocantins, o Goiás e o Mato Grosso do Sul viram a transmissão da doença aumentar e muitas de suas cidades foram obrigadas a decretar emergência.

Adaptado de <https://www.estadao.com.br>

A respeito dos fatores relacionados ao aumento e à interiorização dos casos de dengue no Brasil, analise as afirmativas a seguir.

- I. A maior frequência de períodos com temperaturas acima da média, inclusive com ondas de calor no período invernal em todo território, tem reforçado o padrão sazonal da doença.
- II. A expansão urbana desvinculada de melhoras nos serviços sanitários tem propiciado a formação de ilhas de calor e, portanto, uma alta na incidência da dengue.
- III. O desmatamento do cerrado, convertido em pasto, por exemplo, tem contribuído para aumentar a temperatura média e o número de casos da doença no interior do Brasil.

Está correto o que se afirma em

- (A) I, apenas.
- (B) I e II, apenas.
- (C) I e III, apenas.
- (D) II e III, apenas.
- (E) I, II e III.

26

As afirmativas a seguir descrevem corretamente o desempenho da economia brasileira em 2023, **à exceção de uma**. Assinale-a.

- (A) A expansão econômica ampliou a geração de empregos informais, em um contexto recessivo e de flexibilização das leis trabalhistas.
- (B) O dinamismo da economia foi marcado pelo aumento de exportações, no setor agrícola, e da demanda, no setor de serviços, em função da alta no consumo das famílias.
- (C) A alta progressiva nas cotações internacionais de commodities acelerou o ritmo das exportações, mesmo em um cenário cambial desfavorável para os exportadores.
- (D) A retração do Brasil no mercado regional e internacional ocorreu em função da maior competitividade dos produtos agrícolas argentinos e pela retomada da economia chinesa.
- (E) A persistência do alto nível da inflação foi ocasionada pela alta da cesta básica, sobretudo dos alimentos, cujas safras foram afetadas pelas condições climáticas adversas.

27

Em 2024, o Tribunal Superior Eleitoral (TSE) aprovou uma resolução para regulamentar o uso da inteligência artificial (IA) durante as eleições municipais a serem realizadas em outubro. A norma proíbe manipulações de conteúdo falso para criar ou substituir imagem ou voz de candidato com objetivo de prejudicar ou favorecer candidaturas. Também foi aprovada a restrição do uso de chatbots humanizados e avatares para intermediar a comunicação das campanhas com pessoas reais nas redes sociais.

Adaptado de <https://agenciabrasil.ebc.com.br/>

A resolução sobre IA objetiva

- (A) coibir a produção e circulação de *deepfakes*.
- (B) restringir o uso de ferramentas de IA simbólica.
- (C) retomar a veiculação de propagandas eleitorais em mídias tradicionais, como rádio e televisão.
- (D) proibir o uso de ferramentas de coleta e seleção em bases de dados com fins eleitorais.
- (E) limitar o uso de assistente virtual programado por AI para divulgação do programa partidário.

28

Assinale a afirmativa que descreve corretamente um aspecto do panorama global da economia em 2023.

- (A) Nos Estados Unidos, a economia foi alavancada pela adoção de uma política de ampliação do crédito e baixa da taxa de juros.
- (B) Na China, o PIB cresceu acima do esperado, em um cenário marcado pela retomada econômica pós pandemia, inclusive no setor imobiliário.
- (C) Na Zona do Euro, a alta dos preços da energia pesou nas despesas familiares e no setor industrial, confirmando a manutenção de um quadro de crise.
- (D) Na Rússia, o PIB decresceu, em função do impacto prolongado da guerra com a Ucrânia e dos embargos à venda de petróleo e gás russos.
- (E) Na América do Sul, foi mantido um caminho geral de crescimento, apoiado por investimentos externos e pela intensificação de políticas estatistas.

29

Um supercomputador consiste em milhares de pequenos computadores chamados nós. Cada nó é equipado com sua própria memória e com vários processadores. Atuando em conjunto, eles são capazes de realizar cálculos extremamente complexos em elevada velocidade. Hoje, o maior supercomputador da América Latina é o Pégaso, da Petrobras, com 678 TB de memória RAM e mais de 233 mil núcleos.

Adaptado de <https://revistapesquisa.fapesp.br>

A respeito do poder computacional de alto desempenho dos supercomputadores, analise as afirmativas a seguir e assinale (V) para a verdadeira e (F) para a falsa.

- ( ) Essas máquinas são instrumentos valiosos de pesquisa e de suporte a setores da economia como defesa, energia e saúde, permitindo a resolução de problemas complexos em menor tempo.
- ( ) Esses equipamentos permitem realizar tarefas que exigem altíssimos níveis de processamento, como simulações da formação do universo ou modelagem molecular para novos fármacos.
- ( ) Esses aparelhos trabalham em alta velocidade de processamento pelo somatório de diversos núcleos, o que potencializa a velocidades do processador, medidas em gigahertz (GHz).

As afirmativas são, respectivamente,

- (A) V – V – F.
- (B) V – F – V.
- (C) F – V – F.
- (D) F – V – V.
- (E) V – V – V.

30

No início do ano corrente, a Petrobras anunciou ter alcançado em 2023 o segundo maior valor de lucro líquido de sua história. Mesmo assim, suas ações caíram no mercado financeiro, em função da disputa sobre os dividendos.

A respeito dos resultados financeiros da Petrobras nos últimos anos e da política de distribuição de dividendos da empresa, assinale a afirmativa correta.

- (A) A Petrobras é uma empresa estatal de economia mista que monopoliza a indústria petroleira no Brasil.
- (B) A Petrobras é uma estatal administrada diretamente por órgãos governamentais que controlam o valor das suas ações.
- (C) A Petrobras direciona parte dos dividendos para investidores privados, e outra parte para o governo federal, que controla a empresa via Tesouro e BNDES.
- (D) A Petrobras, sob o Governo Bolsonaro, reduziu o pagamento de dividendos a acionistas privados para reinvesti-los em energia renovável.
- (E) A Petrobras, no atual governo, vendeu ativos e distribuiu o lucro e os valores recordes de dividendos entre seus acionistas para financiar projetos do BNDES.

**31**

Dados da última década mostram que, em relação aos Estados, o Pará é o que apresenta o maior número de registros de resgates de trabalho análogo à escravidão, com 9.853, seguido por Mato Grosso (4.302); Tocantins (2.896); São Paulo (1.529) e Rio de Janeiro (1.653), em 2017.

Adaptado de <https://www.jota.info/justica/em-14-anos-434-mil-foram-resgatados-de-trabalho-escravo-30102017>

A respeito da definição moderna de escravidão, analise as afirmativas a seguir.

- I. Em Tocantins, a maior incidência de escravidão moderna ocorre na zona rural, associada a atividades agropecuárias e ao extrativismo mineral, como nas carvoarias, por exemplo.
- II. A Organização Internacional do Trabalho determina a condição de escravidão por uma série de componentes, como o trabalho forçado análogo ao de escravo e o casamento forçado.
- III. Pessoas obrigadas a trabalhar por dívida ou por ameaça, sem direitos trabalhistas garantidos estão em situação de escravidão, uma vez que lhes é impedida a liberdade de ir e vir.

Está correto o que se afirma em

- (A) I, apenas.
- (B) I e II, apenas.
- (C) I e III, apenas.
- (D) II e III, apenas.
- (E) I, II e III.

**32**

Energia gerada por recursos naturais renováveis que, no Brasil, provém da lenha, carvão vegetal, carvão mineral, bagaço de cana e outros resíduos combustíveis. Essa energia é a matéria orgânica vegetal ou animal usada como fonte de energia limpa e sustentável.

O trecho descreve o seguinte componente importante do desenvolvimento sustentável:

- (A) compostagem.
- (B) biodiversidade.
- (C) créditos de carbono.
- (D) ciclo de vida.
- (E) biomassa.

## História e Geografia do Estado de Tocantins

**33**

Leia a descrição de uma classe de vegetação presente no estado do Tocantins, a seguir.

*Esta vegetação, também conhecida como floresta pluvial tropical, é caracterizada por árvores de porte elevado, além de trepadeiras lenhosas e epífitas (bromélias e orquídeas, por exemplo) em abundância, o que a diferencia de outras classes de formação vegetal. Sua característica ecológica principal é estar presente em ambientes de chuvas abundantes, como na parte noroeste do Estado, onde as temperaturas médias são de 25°C e os elevados índices de precipitação estão bem distribuídos ao longo do ano.*

Adaptado de Luís Antônio G. C. Silva. *Biomias presentes no Estado do Tocantins*. Brasília: Câmara dos Deputados, 2007, p. 4.

O trecho caracteriza a região conhecida como Floresta

- (A) Estacional Semidecidual.
- (B) Tropical Subcaducifólia.
- (C) de Mata Atlântica.
- (D) Ombrófila Densa.
- (E) Temperada Decidual.

**34**

Comparando dados dos censos do IBGE, pode-se elaborar um retrato da evolução demográfica da população residente no Estado de Tocantins. O grupo na faixa etária de 0 a 14 representava 41,7% da população em 1991, 28,8% em 2010, e passou para 24% em 2022. A população acima de 65 anos era de 3,8% em 1991 e 5,8% em 2010, e ficou em 8,6% em 2022. O censo de 2022 mostrou ainda que a faixa etária de 15 a 29 anos representa 15% da população e que 41% da população é composta por pessoas de 30 a 59 anos.

Com base no trecho, assinale a opção que apresenta a dinâmica populacional do Tocantins entre 1991 e 2022.

- (A) Expansão da base da pirâmide etária.
- (B) Diminuição da taxa de fecundidade.
- (C) Estreitamento do topo da pirâmide.
- (D) Aumento da idade mediana.
- (E) Redução do índice de envelhecimento.

35

*Foram inegáveis os desdobramentos socioeconômicos sobre o antigo Norte Goiano fruto da construção da rodovia BR-153, a partir do final da década de 1950. O novo urbanismo da Belém-Brasília trouxe enorme impacto no que se refere ao conjunto de cidades que existiam às margens do rio Tocantins, aos fluxos migratórios e às atividades econômicas da região.*

Adaptado de AQUINO, N. *Tocantins: cidades e urbanismo em três modelos históricos*. In: III Encontro da ANPPAS. Brasília, 2006, p. 8.

As afirmativas a seguir descrevem corretamente impactos da rodovia BR-153 no processo de territorialização do Tocantins, **à exceção de uma**. Assinale-a.

- (A) A rodovia foi construída no governo Kubitschek, em um contexto desenvolvimentista que considerava a expansão rodoviária como um meio para integrar econômica e territorialmente as regiões do país, inclusive o norte goiano que, então, vivia uma situação de abandono.
- (B) A rodovia Belém-Brasília teve grande importância para a urbanização do atual Tocantins, o que é exemplificado pela quantidade de novas cidades criadas após a sua construção, como Araguaína, Gurupi, Paraíso do Tocantins, Colinas do Tocantins e Guarái.
- (C) A construção da BR-153 alavancou também os municípios ribeirinhos, pois a navegação fluvial foi intensificada para abastecer as obras em curso, o que transformou esses municípios em satélites econômicos da nova malha urbana instalada ao longo da rodovia.
- (D) Após a abertura da rodovia, as principais áreas que receberam fluxos migratórios foram a Microrregião de Gurupi – Gurupi e a Microrregião de Porto Nacional – Palmas, para onde se dirigiram pessoas interessadas em trabalhar na construção civil, nos serviços e no comércio, entre outros.
- (E) A BR-153 permitiu interligar o norte de Goiás, atual Estado do Tocantins, a outras localidades do país, facilitando o escoamento da produção e o acesso a produtos para a região, promovendo o fluxo de mercadorias e serviços.

36

O Memorial Coluna Prestes (2001) é uma obra do arquiteto Oscar Niemeyer localizada na Praça dos Girassóis, no centro de Palmas (TO).



Fonte: <https://central.to.gov.br/image/146145?f=1>

A respeito da relação entre essa obra e a constituição de uma memória histórica para o Estado do Tocantins, analise as afirmativas a seguir.

- I. O monumento refere-se à Coluna Prestes, que percorreu o Brasil para divulgar seu programa revolucionário entre 1924 e 1927, tendo passado pelo Norte do então Estado de Goiás (atual Tocantins) durante seu percurso.
- II. A obra foi realizada em concreto e apresenta curvas sinuosas, características próprias do Barroco das cidades mineradoras, estabelecendo visualmente uma continuidade entre o Barroco do passado das cidades mineradoras e o presente do Tocantins.
- III. A construção do memorial permite inserir simbolicamente a história do Tocantins nos grandes processos da história republicana nacional, e homenagear o Tenente Antônio de Siqueira Campos, cujo sobrenome é homônimo ao do ex-governador do Estado.

Está correto o que se afirma em

- (A) I, apenas.
- (B) I e II, apenas.
- (C) I e III, apenas.
- (D) II e III, apenas.
- (E) I, II e III.

37

Até 1988, o território que hoje corresponde ao Estado do Tocantins pertencia ao antigo norte de Goiás e à Região Centro-Oeste, tendo como capital política a cidade de Goiânia. Com a emancipação política, da noite para o dia, as pessoas amanheceram tocantinenses, mas sem referências culturais que as representassem como tais.

A respeito da projeção simbólica do novo Estado e de sua nova capital, assinale a opção que interpreta corretamente o processo de construção e atribuição de uma identidade ao Tocantins.

- (A) Desde o primeiro mandato do governador Siqueira Campos, os símbolos oficiais do Tocantins continuaram sendo o brasão de armas, a bandeira, o selo estadual e a canção “Hino ao Tocantins”, de Liberato Costa Póvoa e Abiezer Alves da Rocha.
- (B) O girassol foi reconhecido oficialmente como símbolo da natureza do Estado, por ser uma planta nativa dos cerrados tocantinenses e estar associada à prosperidade e à esperança.
- (C) A Praça dos Girassóis, centro cívico de Palmas, foi concebida para receber edifícios esteticamente associados à cultura do Tocantins, como o Palácio do Araguaia, cujos pórticos remetem ao capim dourado, símbolo da tradição do artesanato de alta qualidade da região.
- (D) A monumentalidade da Praça dos Girassóis é enfatizada pelo seu pavimento, que contém figuras simbólicas como o mapa do Tocantins, a rosa dos ventos, o brasão de armas e a Praça Krahô.
- (E) O meio ambiente também foi utilizado para fortalecer o sentimento identitário, inserindo o girassol, a fava-de-bolota, a arara-canindé e a granada como símbolos da natureza do Tocantins, desde a promulgação da Constituição Estadual em 1989.

38

A respeito da matriz energética do Estado e dos investimentos em biocombustíveis, analise as afirmativas a seguir e assinale (V) para a verdadeira e (F) para a falsa.

- ( ) O Estado tem condições de clima e solo desfavoráveis para o plantio de matérias-primas usadas na fabricação de biocombustíveis, mas a expansão do modal logístico (Ferrovia Norte-Sul) permitirá o acesso à soja do planalto goiano.
- ( ) O Tocantins conta com duas usinas de biodiesel em funcionamento, utilizando o pinhão-manso, a soja, a mamona e outras oleaginosas como matéria-prima.
- ( ) O Estado tem alto potencial de geração de energia solar, pela elevada irradiação solar e pelas políticas públicas voltadas para produção de energia limpa e renovável, como a Política Estadual de Incentivo à Geração e ao Uso da Energia Solar (Pró-Solar)

As afirmativas são, respectivamente,

- (A) V – F – V.  
 (B) F – V – V.  
 (C) F – F – V.  
 (D) V – V – F.  
 (E) V – V – V.

39

*As belas paisagens como serras, cachoeiras, praias e até mesmo dunas, fazem do Tocantins um paraíso de paisagens naturais, atraindo turistas de várias regiões para conhecer o mais novo Estado brasileiro. A potencialidade para o ecoturismo e a preocupação em conservar a biodiversidade e recursos naturais nele contidos fez com que o Governo do Estado, criasse e implementasse as Unidades de Conservação Ambiental (UC).*

Adaptado de <https://www.to.gov.br/secom/>

A respeito das Unidades de Conservação (UC) do Tocantins, assinale a afirmativa correta.

- (A) São espaços territoriais legalmente instituídos pelo poder público e podem ser de proteção integral federal, como no caso dos Parques Cantão, Jalapão e Lajeado.
- (B) As UCs federais estão subordinadas ao Instituto Chico Mendes de Conservação da Biodiversidade (ICMBio), como no caso do Monumento Natural das Árvores Fossilizadas.
- (C) As UCs estaduais estão subordinadas ao Instituto Natureza do Tocantins (Naturatins), que supervisiona o Parque do Araguaia e o das Nascentes do rio Parnaíba.
- (D) As UCs de uso sustentável são compostas exclusivamente por áreas públicas, sendo permitida sua utilização apenas para o ecoturismo, pesquisa e educação ambiental.
- (E) As UCs municipais estão subordinadas às secretarias de meio ambiente, como no caso do Monumento Natural dos Cânions e Cordeiras do Rio Sono e do Parque Ecológico Roberto Guedes Pereira.

40

O Estado do Tocantins possui diversas comunidades quilombolas certificadas e outras com processo formalizado para regularização fundiária de seus territórios. A definição de comunidade quilombola é dada pelo Art. 2º do Decreto nº 4.887/2003:

*Consideram-se remanescentes das comunidades dos quilombos, para os fins deste Decreto, os grupos étnico-raciais, segundo critérios de auto-atribuição, com trajetória histórica própria, dotados de relações territoriais específicas, com presunção de ancestralidade negra relacionada com a resistência à opressão histórica sofrida.*

A respeito dos órgãos e processos envolvidos na identificação e regularização de territórios quilombolas no Estado do Tocantins, assinale a afirmativa correta.

- (A) O acesso dessas comunidades às políticas públicas de educação, saúde, moradia e regularização fundiária depende de o Estado emitir uma certidão de identificação de comunidade quilombola, mediante Fundação Palmares.
- (B) Os critérios para reconhecimento de um grupo enquanto remanescente de quilombo depende da comprovação de sua ancestralidade, seu parentesco e da preservação viva de religiosidades autenticamente africanas.
- (C) A Coordenação Nacional de Articulação de Comunidades Negras Rurais Quilombolas (CONAQ) luta pela incorporação constitucional do direito à autodefinição dos remanescentes de quilombos.
- (D) A certificação quilombola é realizada pela Fundação Cultural Palmares, que avalia com visitas técnicas a autenticidade do legado quilombola pretendido e, caso o aprove, emite a certidão de comunidade quilombola e a inscreve em um cadastro geral.
- (E) O acesso às terras ocupadas pelos remanescentes das comunidades dos quilombos é garantido por sua delimitação e titulação, a cargo da autoridade municipal em que a mesma se localiza.

## CONHECIMENTOS ESPECÍFICOS

41

Considere que você esteja trabalhando com bancos de dados que contêm informações sobre livros e autores utilizando o SGBD SQLServer.

Analise o *script* a seguir.

```
CREATE TABLE #Livros (
    LivroID INT,
    Titulo VARCHAR(100)
);
CREATE TABLE #Autores (
    Nome VARCHAR(100),
    LivroID INT
);
```

Avalie se os itens a seguir apresentam a escrita correta em uma consulta SQL nesse banco, que faça um JOIN entre as tabelas de livros e autores, em que cada livro é listado junto com uma lista de todos os seus autores (nomes de autores agregados em uma única *String*).

- I. SELECT L.Titulo, STRING\_AGG(A.Nome, ', ') AS Autores FROM #Livros L INNER JOIN #Autores A ON L.LivroID = A.LivroID GROUP BY L.Titulo;
- II. SELECT L.Titulo, GROUP\_CONTACT(A.Nome, ', ') AS Autores FROM Livros L JOIN Autores A ON L.LivroID = A.LivroID GROUP BY L.AutorID;
- III. SELECT L.Titulo, STRING\_AGG(A.Nome) AS Autores FROM Livros L JOIN Autores A ON L.LivroID = A.LivroID GROUP BY L.Titulo
- IV. SELECT L.Titulo, STRING\_AGG(A.Nome) AS Autores FROM #Livros L LEFT JOIN #Autores A ON L.LivroID = A.LivroID GROUP BY L.Titulo, A.Nome;

A escrita dessa consulta SQL está correta em

- (A) I, apenas.
- (B) IV, apenas.
- (C) I e III, apenas.
- (D) I e IV, apenas.
- (E) I, III e IV.

42

Para analisar as vendas dos vários livros correspondentes a vários autores em uma rede de livrarias, construiu-se um *DataMart* com uma nova tabela "FATO" que armazenará os preços dos livros, chamada #VendaLivro (LivroID, AutorID, PreçoVenda).

Assinale a opção que descreve a ação correta para incluir esta nova tabela no banco de dados, considerando que já há dados nas tabelas #Livro e #Autor.

- (A) CREATE TABLE #VendaLivro (
 LivroID INT,
 AutorID INT,
 PreçoVenda DECIMAL(10, 2),
 FOREIGN KEY (AutorID) REFERENCES #Autor(AutorID) );
- (B) CREATE TABLE #VendaLivro (
 LivroID INT,
 PreçoVenda DECIMAL(10, 2),
 QuantidadeVendida INT,
 FOREIGN KEY (LivroID) REFERENCES #Autor(LivroID) );
- (C) CREATE TABLE #VendaLivro (
 LivroID INT,
 AutorID INT,
 PreçoVenda DECIMAL(10, 2),
 FOREIGN KEY (LivroID) REFERENCES #Livro(LivroID) ,
 FOREIGN KEY (AutorID) REFERENCES #Autor(AutorID) );
- (D) CREATE TABLE #VendaLivro (
 AutorID INT,
 PreçoVenda DECIMAL(10, 2),
 FOREIGN KEY (AutorID) REFERENCES #Autor(LivroID) );
- (E) CREATE TABLE #VendaLivro (
 PreçoVenda DECIMAL(10, 2),
 FOREIGN KEY (LivroID) REFERENCES #Livro(LivroID) ,
 FOREIGN KEY (AutorID) REFERENCES #Autor(AutorID) );

43

A prefeitura de uma cidade deseja criar um portal de serviços públicos *online* para integrar diversos sistemas (como IPTU, iluminação pública etc.) e ser acessível.

A esse respeito, analise as afirmativas a seguir e assinale (F) para os requisitos funcionais e (N) para os não-funcionais.

- ( ) Deve permitir o cadastro de usuários, utilizando documentos pessoais e um método de verificação, além de suportar a autenticação segura para acesso aos serviços personalizados.
- ( ) O portal deve apresentar tempos de carregamento rápidos e ser capaz de lidar com um grande número de usuários simultâneos sem degradação
- ( ) O sistema deve permitir o uso por pessoas com diferentes tipos de deficiência, incluindo leitores de tela e navegação por teclado.

As afirmativas são, segundo a ordem apresentada, corretamente classificadas como

- (A) F – N – N.
- (B) F – F – N.
- (C) F – N – F.
- (D) N – F – N.
- (E) N – N – N.



44

Relacione os conceitos envolvidos na construção de um *software*, listados a seguir às respectivas características.

1. Análise de Pontos de Função (APF).
  2. Medição não Funcional de *Software* (*Software non-Functional Assessment Process – SNAP*).
  3. Ciclo de vida do *software*.
  4. Modelos de processos de *software*.
- ( ) Importante para se estimar custos e tamanho da equipe de desenvolvimento.
- ( ) Diz como as funções do *software* devem se comportar num ponto de vista mais geral do sistema como um todo.
- ( ) Em algum momento deve levantar os requisitos do sistema que será construído.
- ( ) Adaptação e melhoria contínua de processos.

Assinale a opção que indica a relação correta, segundo a ordem apresentada.

- (A) 3 – 2 – 1 – 4.  
(B) 3 – 1 – 4 – 2.  
(C) 4 – 1 – 2 – 3.  
(D) 3 – 1 – 2 – 4.  
(E) 1 – 3 – 2 – 4.

45

Assinale a opção que indica o procedimento que garante tanto a qualidade quanto a segurança do código em aplicações *web*.

- (A) Implementação de Captchas em todas as páginas do aplicativo ignorando a necessidade de revisões de código e testes de penetração.
- (B) Uso exclusivo de HTTPS para encriptação de dados sem revisões adicionais de código ou práticas de programação segura.
- (C) Adoção de práticas de programação segura e revisão de código por pares, incluindo testes de segurança específicos como SQL Injection e Cross-Site Scripting (XSS)
- (D) Realização de testes de estresse em servidores de aplicação regularmente, sem realizar testes de segurança específicos ou revisões de código.
- (E) Confiança na obfuscação de código como método principal de segurança, evitando testes de penetração sob a premissa de que código difícil de ler é seguro.

46

Os portais corporativos são pontos centrais de acesso a informações e aplicações em uma organização e os *portlets* e o uso de RSS (*Really Simple Syndication*) são um grande apoio para integração de diferentes fontes de informação, personalização e atualização de conteúdo e distribuição eficiente de atualizações.

Nesse cenário, assinale a afirmativa correta.

- (A) Os *portlets* são componentes de *software* desatualizados e não são mais utilizados em portais corporativos modernos devido à evolução das tecnologias *web*.
- (B) O RSS é uma tecnologia que permite apenas a visualização de notícias, sendo incompatível com a integração em portais corporativos para distribuição de conteúdo personalizado.
- (C) *Frameworks* como o *Spring Portlet MVC* e plataformas como o *Liferay* são exemplos de tecnologias que suportam a implementação de arquiteturas de portais corporativos, permitindo a criação de *portlets* e a integração de *feeds* RSS.
- (D) A arquitetura da informação é irrelevante para a implementação de portais corporativos, uma vez que o foco deve estar exclusivamente no desenvolvimento técnico dos *portlets*.
- (E) *Portlets* são elementos que só podem ser implementados utilizando linguagens de programação orientadas a objeto, como Java, impossibilitando seu uso em plataformas baseadas em outras linguagens.

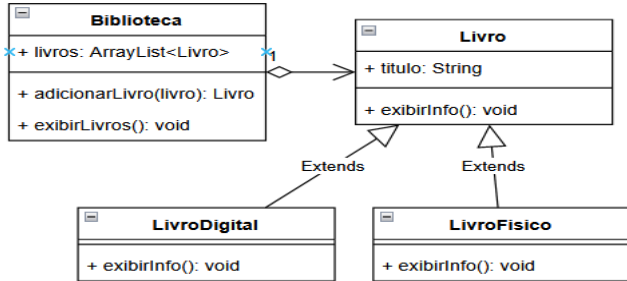
47

No contexto do Modelo de Acessibilidade do Governo Eletrônico (eMAG), assinale a afirmativa que melhor descreve sua principal finalidade.

- (A) Estabelecer padrões internacionais de segurança cibernética para *websites* governamentais, garantindo a proteção de dados sensíveis.
- (B) Fornecer diretrizes para o desenvolvimento de jogos educativos digitais que serão utilizados em escolas públicas.
- (C) Assegurar que as informações e serviços digitais do governo sejam acessíveis a todos os cidadãos, incluindo pessoas com deficiência.
- (D) Promover o uso de *software* livre na Administração Pública, reduzindo custos com licenças de *softwares* proprietários.
- (E) Criar um sistema unificado de *e-mails* para todos os servidores públicos, melhorando a comunicação interna do governo.

48

Considere o cenário de um sistema de gerenciamento de biblioteca, onde Livro representa diferentes tipos de livros e Biblioteca é uma classe que agrega esses livros, como mostra o diagrama a seguir.



Os trechos de código em Java a seguir são parte dessa implementação; assuma que o resto do código não apresentado foi implementado com base no diagrama.

```

class LivroFísico extends Livro {
    public void exibirInfo() {
        System.out.println(titulo + " - livro Físico");
    }
    ...
class LivroDigital extends Livro {
    public void exibirInfo() {
        System.out.println(titulo + " - Livro Digital");
    }
    ...
class Biblioteca {
    public void exibirLivros() {
        for(Livro livro : livros) {
            livro.exibirInfo();
        }
    }
    ...
bib.adicionarLivro(new LivroFísico("1984"));
bib.adicionarLivro(new LivroDigital("Macunaíma"));
bib.exibirLivros();
  
```

Quando executado, esse código exibirá o seguinte resultado:

- (A) 1984 - Livro Físico Macunaíma - Livro Digital  
 (B) Livro Físico - 1984 Livro Digital - Macunaíma  
 (C) 1984 Macunaíma  
 (D) Macunaíma - Livro Digital 1984 - Livro Físico  
 (E) Erros de compilação ou exceções em tempo de execução

49

Em um projeto de *web design* moderno que explora as funcionalidades do HTML e CSS mais recentes, analise o trecho a seguir.

```

<head>
  <style>
    .artigo {
      Background-color: #f0f0f0;
      Padding: 20px;
      Max-width: 300px;
      Margin: 20px auto;
    }
    .artigo header h1 {
      Color: #333;
      Text-shadow: 0 5 px 10px rgba(26, 6, 59, 0.5);
    }
  </style>
</head>
<body>
  <article class="artigo">
    <header>
      <h1>Tendências em Tecnologia</h1>
    </header>
  </article>
</body>
  
```

Assinale a descrição que melhor representa a aparência e a estrutura do trecho acima.

- (A) Um artigo com fundo cinza claro e conteúdo centralizado. Sombra sutil ao redor do artigo, parágrafos em tamanho regular ou data de publicação em itálico centralizada no rodapé, conforme o código não define esses elementos ou estilos.  
 (B) O artigo com texto alinhado à esquerda, sem formatação especial além do texto em itálico para a data de publicação. Não há aplicação de sombras ou bordas arredondadas, conforme especificado no CSS3.  
 (C) O artigo apresenta interatividade com elementos que mudam ao passar do mouse, incluindo animações no título e parágrafos, apesar do código CSS3 fornecido não especificar tais efeitos.  
 (D) A visualização do artigo é inconsistente entre diferentes navegadores, destacando somente o título, com seções e rodapé potencialmente não renderizados devido a problemas de compatibilidade.  
 (E) A página mostra o artigo com formatação padrão do navegador, sugerindo que o arquivo CSS3 não foi corretamente vinculado ou carregado.

50

No desenvolvimento *web*, é comum a utilização de *frameworks* e bibliotecas JavaScript para facilitar a criação de aplicações ricas e interativas.

Considerando vários *frameworks* e bibliotecas, tais como Vue, jQuery, React, Webpack, Bootstrap, NPM, entre outros, assinale a opção que indica os comandos ou trechos de código utilizados em todos esses *frameworks* para iniciar um novo projeto ou adicionar dependências.

- (A) `document.getElementById('app')`  
 (B) `<script src="framework.js"></script>`  
 (C) `@Component`  
 (D) `npm install nome-do-pacote`  
 (E) `import { componente } from 'biblioteca'`

51

Um sistema do Departamento de Trânsito tem um serviço implementado por meio de uma Servlet, com o trecho de código a seguir, que retorna o dono de um carro de uma placa específica.

```
protected void doGet (HttpServletRequest request,
    HttpServletResponse response) ...
String placa = request.getParameter("placa"); ...
Response.getWriter().write("O dono é: " + dono); ...
```

Assinale o código que mostra a função javascript que utiliza a biblioteca AJAX para fazer esta consulta a Servlet.

- (A) 

```
function consultarDono (placa) {
    fetch(`/buscarDono?placa=${placa}`)
    .then(response => response.text() )
    .then(dados => console.log(dados) );
}
```
- (B) 

```
function consultarDono (placa) {
    $.ajax({
        url: '/buscarDono', type: 'POST',
        DATA: { placa: placa },
        success: function(response) {
            console.log(response);
        } });
}
```
- (C) 

```
function consultarDono (placa) {
    const xhr = new XMLHttpRequest();
    xhr.open('POST' /buscarDono, true);
    xhr.setRequestHeader('Content-Type');
    xhr.send(placa=${placa});
}
```
- (D) 

```
function consultarDono (placa) {
    fetch(/buscarDono, {
        method: 'GET',
        headers: { 'application/json'},
        body: JSON.stringify({ placa: placa })
    })
    .then(response => response.json() )
    .then(dados => console.log(dados) );
}
```
- (E) 

```
function consultarDono (placa) {
    axios.get(/buscarDono, {
        params: { id: placa } })
    .then(function(response) {
        console.log(response.data) });
}
```

52

Analise as afirmativas relativas ao desenvolvimento de serviços web, considerando aspectos de segurança.

- I. Para implementar um EndPoint SOAP, é necessário utilizar um arquivo WSDL para definir os serviços e suas operações.
- II. Em REST, a segurança contra injeção de SQL pode ser reforçada pelo uso da JPA, que permite consultas parametrizadas, reduzindo os riscos.
- III. Na segurança de serviços SOAP, os mecanismos como WS-Security para autenticação e criptografia já são automaticamente pré-configurados pelo protocolo https.

Está correto o que se afirma em

- (A) I, apenas.  
 (B) I e II, apenas.  
 (C) I e III, apenas.  
 (D) II e III, apenas.  
 (E) I, II e III.

53

Temos uma aplicação Spring Boot, utilizando Gradle e o H2. Assinale a opção que descreve, corretamente, os passos para migrar esta aplicação para usar o Maven com MySQL.

- (A) 1 - Remover todas as configurações do Gradle  
 2 - Adicionar dependência do MySQL no build.gradle  
 3 - Alterar as configurações do MySQL
- (B) 1 - Manter o arquivo build.gradle e renomeá-lo para pom.xml  
 2 - Atualizar as configurações do MySQL  
 3 - Criar o esquema do banco de dados manualmente
- (C) 1 - Converter o build.gradle para pom.xml  
 2 - Adicionar a dependência do MySQL no pom.xml  
 3 - Atualizar o application.properties para o MySQL
- (D) 1 - Criar um novo projeto usando o npm (Node Package Manager) com configurações para Maven e MySQL.  
 2 - Copiar o código fonte do projeto antigo para o novo  
 3 - Reconfigurar o application.properties para o MySQL.
- (E) 1 - Adicionar a dependência do MySQL no pom.xml  
 2 - Remover a dependência do H2 do pom.xml  
 3 - Adicionar as configurações do MySQL no pom.xml

54

Considere inicialmente o seguinte código, escrito utilizando a linguagem de programação R:

```
v <- 1:10
i <- 3
f <- 6
```

Tomando por base esse contexto, assinale a opção que apresenta um código que produz resultado equivalente a:

```
p <- i
for (q in (f+1):length(v)) {
    v[p] <- v[q]
    p <- p+1 }
for (q in p:length(v))
    v[q] <- NA
length(v) <- p-1
```

- (A) `v <- v[c(f)]-v[c(i)]`  
 (B) `v <- v[-c(i:f)]`  
 (C) `v <- v[f:i]`  
 (D) `v <- v[f]-v[i]`  
 (E) `v<-v[c(i:f)]`

55

Seja o seguinte código, escrito em linguagem Python:

```
def func(n):
    if n == 0:
        return []
    return [n] + func(n-1) + [n]

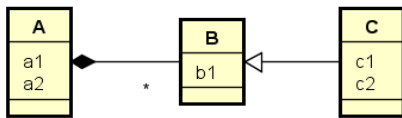
n = int(input("Valor de n positivo: "))
seq = func(n)
print(' '.join(map(str, seq)))
```

Sobre esse código, é correto afirmar que

- (A) define uma chamada de função que utiliza a estrutura de dicionários.
- (B) imprime como resultado a saída 4 3 2 1 1 2 3 4, se digitado o valor 4 na console de entrada.
- (C) retorna o resultado [3, 2, 1, 1, 2, 3] se digitado o valor 3 na console de entrada.
- (D) sincroniza a execução de threads na chamada do método `print(' '.join(map(str, seq)))`.
- (E) utiliza uma estrutura de chamada concorrente da função `func()` como um `fork`.

56

A partir da análise do seguinte diagrama de classes da UML



é correto auferir que

- (A) a classe B atua como classe associativa entre as classes A e C.
- (B) o relacionamento entre as classes A e B é do tipo associação qualificada.
- (C) o relacionamento entre B e C é representado por uma dependência estereotipada.
- (D) os objetos da classe B herdam as características da classe C.
- (E) um objeto da classe B está vinculado a exatamente um objeto da classe A.

57

A Linguagem de Modelagem Unificada (de UML – *Unified Modeling Language*) é uma linguagem padrão e visual utilizada para modelar sistemas de software. Ela busca facilitar a comunicação entre equipes, documenta sistemas, apoia o teste de software, e é útil em prototipagem e design iterativo.

No que concerne aos artefatos da UML, assinale a afirmativa correta.

- (A) A herança múltipla descreve uma condição de modelagem na qual uma classe possui mais de uma subclasse.
- (B) A temporalidade dos processos é explicitamente capturada na sequência de interações do diagrama de comunicação.
- (C) Estereótipos são mecanismos de uso geral que estendem o significado de um elemento de um diagrama.
- (D) O diagrama de pacotes representa a interação entre objetos na ordem temporal em que acontecem.
- (E) O empacotamento do diagrama de sequência é possível pela composição do diagrama de transição estado.

58

Os catálogos do sistema (*system catalogs*) do servidor PostgreSQL, versão 16.2, servem para gerenciar e acessar informações sobre o banco de dados e seus objetos. Eles desempenham um papel fundamental nas operações internas do PostgreSQL, contribuindo para tarefas como otimização de consultas, controle de acesso e gerenciamento de transações.

Considerando os *system catalogs* do PostgreSQL, versão 16.2, o catálogo

- (A) `pg_attrdef`, que armazena valores padrão da coluna, com as principais informações sobre colunas armazenadas em `pg_attribute`.
- (B) `pg_database`, que armazena informações sobre os bancos de dados disponíveis, uma cópia por banco de dados.
- (C) `pg_sequence`, que armazena informações sobre transformações, mecanismo de adaptação de tipos de dados a linguagens procedurais.
- (D) `pg_shseclabel`, que armazena informações sobre funções de suporte associadas a famílias de operadores de métodos de acesso.
- (E) `pg_statistic_ext`, que armazena definições de wrapper de dados externos.

59

Visões em SQL possuem um papel relevante em bancos de dados relacionais. Ela oferece mecanismos importantes, tais como abstração de dados, segurança e simplificação das consultas.

Nesse contexto, é correto afirmar que

- (A) a cláusula `WITH CHECK OPTION` da SQL é demandada no final da especificação da visão, a fim de que a tornar uma asserção.
- (B) a estratégia de modificação de consultas para a implementação de visões é eficaz para consultas complexas.
- (C) a responsabilidade pela atualização do estado de uma visão é do usuário, que necessita enviar um comando *refresh* a cada execução.
- (D) uma visão em linha (*view* em linha) consiste na definição de uma visão na cláusula `HAVING` de uma consulta SQL.
- (E) visões materializadas criam uma tabela temporária, utilizando técnicas como a atualização incremental.

60

Considere o seguinte script SQL de um banco de dados relacional:

```
create table fornecedor
(
  id integer primary key,
  nome varchar(30) not null );
create table produto
(
  id integer primary key,
  descricao varchar(40) not null );
create table fornecimento
(
  id_fornecedor integer references fornecedor,
  id_produto integer references produto,
  primary key(id_fornecedor, id_produto) );
```

Assinale a consulta que imprime a descrição dos produtos que não são fornecidos por nenhum fornecedor

- (A) `select produto.descricao from produto join fornecimento on produto.id != fornecimento.id_produto`
- (B) `select produto.descricao from produto join fornecimento on produto.id = fornecimento.id_produto where id_fornecedor > all (select id from fornecedor)`
- (C) `select produto.descricao from produto join fornecimento on produto.id = fornecimento.id_produto`
- (D) `select produto.descricao from produto left join fornecimento on produto.id = fornecimento.id_produto where fornecimento.id_fornecedor is null`
- (E) `select produto.descricao from produto right join fornecimento on produto.id = fornecimento.id_produto join fornecedor on fornecedor.id = fornecimento.id_fornecedor`

61

A otimização de consultas em sistemas de bancos de dados relacionais envolve melhorar o desempenho das consultas SQL para garantir uma execução eficiente. Isso inclui ações como a escrita eficiente e reescrita de consultas, análise de plano de execução, manutenção de estatísticas de tabelas, entre outras. O objetivo é minimizar o tempo de resposta e maximizar o desempenho geral do sistema.

No contexto de otimização de consultas, assinale a opção que indica uma equivalência que **não** é verdadeira.

- (A)  $\delta_c(R \bowtie S) \equiv (\delta_c(R)) \bowtie S$ , sendo que a condição C envolve apenas atributos da relação R.
- (B)  $\delta_{c_1}(\delta_{c_2}(R)) \equiv \delta_{c_1 \text{ OU } c_2}(R)$ , sendo  $c_1$  e  $c_2$  são condições lógicas, e R, uma relação.
- (C)  $\pi_{A_1, A_2}(\delta_c(R))$  equivale a  $\delta_c(\pi_{A_1, A_2}(R))$ , sendo c é condição, e A1 e A2, atributos.
- (D)  $\pi_{L_1}(\pi_{L_2}(\pi_{L_3}(R))) \equiv \pi_{L_1}(R)$ , sendo L1, L2 e L3 listas de atributos de R, e  $L_1 \subset L_2 \subset L_3$ .
- (E)  $R \bowtie (S \bowtie T) \equiv (R \bowtie S) \bowtie T$ , sendo R, S e T, relações.

62

Armazéns de dados (ou *data warehouses*) são bases de dados que se mostram como uma interessante opção em processos de tomada de decisão. Elas armazenam grandes volumes de dados históricos e agregados para apoiar a tomada de decisões estratégicas e operacionais da organização.

Assinale a opção que apresenta uma característica correta de um *data warehouse*.

- (A) Adequam-se a sistemas OLTP (*On Line Transaction Processing*).
- (B) Apresentam como característica a dimensão temporal.
- (C) Armazenam especificamente dados de natureza transacional.
- (D) Orientam seu conteúdo à aplicação.
- (E) Possuem dados de natureza volátil.

63

A implementação de sistemas OLAP (*On Line Analytical Processing*) pode utilizar alguma opção tecnológica tal como ROLAP, MOLAP, entre outras.

Assinale a opção que descreve corretamente uma característica do ROLAP (Relational OLAP).

- (A) armazena os dados em arquivos de texto simples, com manipulação ágil e eficiente dos dados.
- (B) armazena os dados em cubos multidimensionais pré-calculados para consultas rápidas.
- (C) armazena os dados em um banco de dados relacional, aproveitando o poder das consultas SQL para análises.
- (D) otimiza consultas em tempo real, armazenando os dados em cubos multidimensionais pré-calculados.
- (E) requer a criação de uma estrutura de dados hierárquica multinível para armazenar os dados.

64

O Departamento de Trânsito possui um serviço *web* para retornar o dono de uma placa de carro utilizando páginas JSP do *framework* JEE v8.

Assinale o trecho que representa a parte de uma JSP responsável por receber a placa para consulta e apresentá-la, no *frontend* de saída, em uma *tag* dentro de uma página formatada em HTML.

- (A) 

```
<% String placa = request.getParameter("placa");...
ResultSet rs = stmt.executeQuery(...); ...
dono = rs.getString("dono"); ...
out.println("O dono do carro é:"+dono); ... %>
```
- (B) 

```
<% String placa = request.getParameter("placa"); ...
Carro carro = (Carro)session.get(Carro.class,placa);...
out.println("O dono do carro é:"+carro.getDono());... %>
```
- (C) 

```
<% String placa = request.getParameter("placa");...
dono = (String) query.uniqueResult(); ...
request.setAttribute("carro", dono); ... %>
...
<html> ...
<p>O dono do carro é: ${carro}</p> ...
</html>
```
- (D) 

```
<% String placa = request.getParameter("placa");...
dono = ((Carro) resultados.get(0)).getDono();... %>
<html> ...
<p>O dono do carro é: ${dono}</p> ...
</html>
```
- (E) 

```
<% String placa = request.getParameter("placa");...
dono = (String) query.uniqueResult(); ... %>
<html> ...
<p>O dono do carro é: ${dono}</p> ...
</html>
```

65

Uma prefeitura deseja analisar a mobilidade urbana sobre acidentes de trânsito em duas regiões da cidade. Ela criou o código em R a seguir para checar a média por regiões:

```
MES:   Jan  Feb  Mar
Reg1   20   22   23
Reg2   25   24   26

Reg1 <- c(20, 22, 23)
Reg2 <- c(25, 24, 26)
media <- function(valores) {
  soma <- sum(valores)
  n <- length(valores)
  media <- soma / n
  return(media)
}
med_reg1 <- media(Reg1)
med_reg2 <- media(Reg2)
cat("Média Mensal por Região:\n")
cat(sprintf("Reg 1: %f\n", med_reg1))
cat(sprintf("Reg 2: %f\n", med_reg2))
```

Assinale a opção que indica os códigos em Python que se encaixa no <TRECHO EM PYTHON> para produzir corretamente o mesmo resultado que o código em R.

```
dados = {
  'Mês': ['Jan', 'Fev', 'Mar'],
  'Reg 1': [20, 22, 23],
  'Reg 2': [25, 24, 26],
}
< CODIGO EM PYTHON >
print("Média Mensal por Região:")
for regioao, media in med_mes_reg.items():
  print(f"{regiao}: {media}")

del dados['Mês']
med_mes_reg = {}
(A) for regioao, acidentes in dados.items():
    soma_acidentes = sum(acidentes)
    med_mes_reg[regiao] = soma_acidentes/len(acidentes)

del dados['Mês']
med_mes_reg = {}
(B) for regioao, acidentes in dados.items():
    soma_acidentes = sum(acidentes)
    med_mes_reg[regiao] = soma_acidentes/(len(acidentes) - 1)

del dados['Mês']
med_mes_reg = {}
for regioao, acidentes in dados.items():
(C) soma_acidentes = 1
    for acidente in acidentes:
        soma_acidentes += acidente
    med_mes_reg[regiao] = soma_acidentes/ len(acidentes)

media_mensal_por_regiao = {}
for regioao, acidentes in dados.items():
(D) soma_acidentes = sum(acidentes)
    med_mes_reg[regiao] = soma_acidentes/ len(acidentes)

del dados['Mês']
med_mes_reg = {}
(E) for regioao, acidentes in dados.items():
    med_mes_reg[regiao] = sum(acidentes) / 100
```

## Legislação Institucional

66

Nos termos da Constituição do Estado do Tocantins, constitui objeto de lei complementar a seguinte matéria:

- (A) os prazos de prescrição para ilícitos praticados por qualquer agente, servidor ou não, que causem prejuízos ao erário.
- (B) os limites de idade, a estabilidade e outras condições de transferência do servidor militar para a inatividade.
- (C) os casos de contratação por tempo determinado para atender à necessidade temporária de excepcional interesse público.
- (D) as regras para cálculo de proventos de aposentadoria e pensão por morte.
- (E) os requisitos e as restrições ao ocupante de cargo ou emprego da administração direta e indireta que possibilite o acesso a informações privilegiadas.

67

Considerando o exercício da função legislativa por parte da Assembleia Legislativa de Tocantins, nos termos de seu Regimento Interno, é correto afirmar que

- (A) projetos de lei delegada podem se destinar a regular as matérias de exclusiva competência do Poder Executivo, com a sanção do Governador do Estado.
- (B) projetos de resolução podem se destinar a regular, com eficácia de lei ordinária, matéria de competência privativa da Assembleia Legislativa.
- (C) projetos de lei complementar visam regular matéria infraconstitucional.
- (D) projetos de lei têm por objetivo regular matérias de competência do Poder Legislativo, sem a sanção do Governador do Estado.
- (E) projetos de decreto legislativo destinam-se à delegação de competência, na forma estabelecida na Constituição Estadual.

68

Aline, servidora pública estadual, revelou segredo do qual se apropriou em razão do cargo que ocupa. A Administração Pública, ao tomar conhecimento do fato, instaurou procedimento administrativo disciplinar a fim de apurar a conduta e garantir à servidora os princípios da ampla defesa e do contraditório.

À luz do Estatuto dos Servidores Públicos Cíveis do Estado do Tocantins, caso punida, Aline poderá ser sancionada com

- (A) advertência.
- (B) suspensão.
- (C) prestação de serviço.
- (D) multa.
- (E) demissão.

69

Ana, servidora pública efetiva e estável, ocupante de cargo de nível superior, objetivando inteirar-se sobre os requisitos para a progressão na carreira, consultou a Lei nº 4.208/2023, que trata sobre o plano de cargos, carreiras e remuneração dos Servidores da Assembleia de Tocantins.

Assim, para fazer jus à progressão, Ana terá que

- (A) possuir no máximo três faltas injustificadas por exercício referente ao período avaliado.
- (B) obter conceito igual ou superior a 70% (setenta por cento) dos pontos possíveis em todos os procedimentos de sua Avaliação.
- (C) concluir curso de pós-graduação *lato sensu* com duração mínima de 360 (trezentos e sessenta) horas.
- (D) cumprir trinta meses de efetivo exercício na classe em que se encontra.
- (E) concluir cursos de aperfeiçoamento em sua área de atuação que tenha, no mínimo, 80 (oitenta) horas de duração.

70

Antônio foi nomeado para o cargo de Controlador Interno da Assembleia Legislativa de Tocantins.

À luz da Lei nº 4.209/2023, que dispõe sobre a estrutura administrativa da Aletto, durante o exercício da função, Antônio será competente para:

- (A) opinar, conclusivamente, em processos de direitos, deveres e obrigações dos servidores do Poder Legislativo.
- (B) constituir Comissão Permanente de Licitação.
- (C) examinar a observância das normas de licitações.
- (D) apresentar à Mesa Diretora o balancete mensal e, no início de cada exercício, o balancete geral das contas da Assembleia Legislativa, relativo ao exercício anterior.
- (E) planejar, coordenar, orientar, controlar e dirigir as atividades administrativas, orçamentárias, financeiras, de comunicação social, de tecnologia de informação e de apoio legislativo da Assembleia Legislativa.



# ASSEMBLEIA LEGISLATIVA DO ESTADO DO TOCANTINS

CONCURSO PÚBLICO – EDITAL Nº 01/2023

## PROVA OBJETIVA – TARDE

### ANALISTA LEGISLATIVO DIREITO

NÍVEL SUPERIOR – TIPO 1 – BRANCA



#### SUA PROVA

- Além deste caderno contendo **70 (setenta)** questões objetivas, você receberá do fiscal de prova o cartão de respostas;
- As questões objetivas têm **5 (cinco)** opções de resposta (A, B, C, D) e somente uma delas está correta.



#### TEMPO

- Você dispõe de **5 (cinco) horas** para a realização da prova, já incluído o tempo para a marcação do cartão de respostas;
- **3 (três) horas** após o início da prova, é possível retirar-se da sala, sem levar o caderno de questões;
- A partir dos **30 (trinta) minutos** anteriores ao término da prova é possível retirar-se da sala **levando o caderno de questões**.



#### NÃO SERÁ PERMITIDO

- Qualquer tipo de comunicação entre os candidatos durante a aplicação da prova;
- Anotar informações relativas às respostas em qualquer outro meio que não seja o caderno de questões;
- Levantar da cadeira sem autorização do fiscal de sala;
- Usar o sanitário ao término da prova, após deixar a sala.



#### INFORMAÇÕES GERAIS

- Verifique se seu caderno de questões está completo, sem repetição de questões ou falhas. Caso contrário, **notifique imediatamente o fiscal da sala**, para que sejam tomadas as devidas providências;
- Confira seus dados pessoais, especialmente nome, número de inscrição e documento de identidade e leia atentamente as instruções para preencher o cartão de respostas;
- Para o preenchimento do cartão de respostas, use somente caneta esferográfica, fabricada em material transparente, com tinta preta ou azul;
- Assine seu nome apenas no(s) espaço(s) reservado(s) no cartão de respostas;
- Confira seu cargo, cor e tipo do caderno de questões. Caso tenha recebido caderno de cargo ou cor ou tipo **diferente** do impresso em seu cartão de respostas, o fiscal deve ser **obrigatoriamente** informado para o devido registro na ata da sala;
- Reserve tempo suficiente para o preenchimento do seu cartão de respostas. O preenchimento é de sua responsabilidade e **não será permitida a troca do cartão de respostas em caso de erro cometido pelo candidato**;
- Para fins de avaliação, serão levadas em consideração apenas as marcações realizadas no cartão de respostas;
- A FGV coletará as impressões digitais dos candidatos na lista de presença;
- Os candidatos serão submetidos ao sistema de detecção de metais quando do ingresso e da saída de sanitários durante a realização das provas.
- **Boa prova!**



## CONHECIMENTOS BÁSICOS

### Língua Portuguesa

1

Observe o seguinte texto:

*Quando entrei no terrível vagão, ele estava ocupado por duas pessoas. Uma, dobrada, coberta, dormia profundamente. A coberta superior estava manchada, de fundo amarelado, como pele de leopardo. Vendem-se muitas mantas assim nas lojas de artigos de viagens, mas pude notar logo depois que se tratava realmente da pele de um animal selvagem; do mesmo modo, o boné da pessoa adormecida me pareceu ser de feltro branco bastante delicado. O outro viajante, uma aparência simpática, parecia ter passado dos trinta anos e mostrava-se como figura insignificante que passa confortavelmente as noites em estradas de ferro.*

Nesse fragmento textual, para criar sinais de história realista e verdadeira, o narrador apela para a seguinte estratégia:

- (A) seleciona uma situação banal da qual não precisa fornecer muitos detalhes, exatamente por sua banalidade.
- (B) fornece algumas marcas caracterizadoras dos dois personagens presentes no texto, destacando sua banalidade.
- (C) indica traços descritivos do ambiente, mostrando-o como se nada houvesse nele de excepcional.
- (D) mostra detalhes variados e bastante pitorescos dos objetos descritos.
- (E) dá ao leitor informações sobre personagens e ambiente, mostrando-os como bastante conhecidos do narrador.

2

Assinale a frase que mostra a palavra *mais* numa classe gramatical **diferente** das demais.

- (A) O mercado está prisioneiro de mais um círculo vicioso: piora porque piorou e porque piorou, piora.
- (B) Os ingleses conquistaram o mundo porque não aguentavam mais a própria cozinha.
- (C) Quanto mais vejo o estrangeiro, mais amo a minha pátria.
- (D) Não é mais possível aprender tudo de cor. Um homem instruído não é mais o homem que sabe muitas coisas; é o homem que sabe onde buscar informações.
- (E) Muda-se mais facilmente de religião do que de café

3

As frases a seguir mostram termos ligados pela conjunção OU.

Assinale a frase em que essa conjunção mantém o valor de alternativa (e não de adição).

- (A) João ou Pedro deve ser eleito presidente da empresa.
- (B) A alegria ou a tristeza fazem parte da vida.
- (C) Inglês ou francês são idiomas falados pelos turistas
- (D) Os clientes leem livros ou revistas enquanto esperam.
- (E) Vasco ou Flamengo são times de longa tradição.

4

Um guitarrista americano produziu o seguinte pensamento:

*O crítico de rock é alguém que não sabe escrever, entrevistando gente que não sabe falar, para gente que não sabe ler.*

Sobre a estruturação ou a significação desse pequeno texto, assinale a afirmativa **incorreta**.

- (A) O termo “de rock” funciona como complemento nominal do termo anterior.
- (B) Todos os elementos da cadeia comunicativa citados no texto são marcados pela ignorância.
- (C) O pensamento acima revela um preconceito fortíssimo contra os amantes de rock.
- (D) A opinião expressa no texto pode advir da experiência pessoal do autor, já que se trata de um guitarrista.
- (E) A injustiça desse texto provém de ser uma opinião fundamentada em uma autoridade duvidosa.

5

John Steinbeck, prêmio Nobel, declarou o seguinte:

*O homem é o único animal que bebe sem ter sede, come sem ter fome e fala sem ter nada a dizer.*

Em relação ao significado e à estruturação desse pequeno texto, assinale a afirmativa **incorreta**.

- (A) A frase ficaria mais enfática se invertêssemos a posição do termo inicial: O único animal que bebe sem ter sede, come sem ter fome e fala sem ter nada a dizer é o homem.
- (B) A inversão de alguns segmentos do texto em nada modificaria o sentido da frase: O homem é o único animal que come sem ter fome, bebe sem ter sede e fala sem ter nada a dizer.
- (C) Os segmentos finais do texto mostram preocupação com rigoroso paralelismo sintático.
- (D) Segundo a opinião do autor do texto, a marca principal do homem é a irracionalidade.
- (E) Nem todas as ações citadas como marcas humanas estão presentes, por oposição, nos outros animais.

6

Assinale a frase que **não** expressa uma noção de tempo abstrato.

- (A) Nas asas do tempo, a tristeza voa.
- (B) Quem mata o tempo não é assassino, é suicida.
- (C) O tempo perdido não se encontra nunca mais.
- (D) O tempo é o melhor professor. Infelizmente, ele mata todos os seus estudantes
- (E) O tempo gasto na viagem foi de duas horas.

7

Assinale a frase em que a utilização do acento grave indicativo da crase é realizada de forma **errada**.

- (A) Jamais alguém se arrependeu de ter-se acostumado à madrugada e à ter-se casado jovem.
- (B) Tempo é o suspiro de adeus do sol à terra.
- (C) Saio todos os dias às cinco horas e não permito que o meu trabalho interfira no meu jogo de tênis.
- (D) O momento de extrair uma lição da história está sempre à mão para os sábios.
- (E) Quando assumi, quatro anos atrás, estávamos à beira do precipício.

8

Os adjetivos podem representar estados, qualidades, características e relações.

Assinale a frase que mostra um tipo de adjetivo **diferente** dos demais.

- (A) Nunca houve criança tão amável que a própria mãe não ficasse satisfeita ao conseguir adormecê-la.
- (B) Nada mais perversamente cruel que uma adorável criança.
- (C) Mesmo estando doentes, as crianças não ficam caladas.
- (D) Quando as crianças estão quietas é porque fizeram alguma coisa errada.
- (E) As tangerinas verdes não amadurecem fora do pé.

9

Assinale a frase em que o adjetivo sublinhado mostra uma função sintática **diferente** das demais.

- (A) Por fora bela viola, por dentro pão bolorento.
- (B) Tiradentes, heroico, tentou organizar uma revolução.
- (C) Um rosto bonito altera-se depressa.
- (D) Eu não podia acreditar que existem múmias tão lindas.
- (E) Um homem belo é um homem insignificante.

10

Assinale a opção que mostra uma impropriedade léxica, ou seja, um emprego **inadequado** da expressão “cerca de”.

- (A) Havia cerca de três dúzias de convidados no final da festa.
- (B) Chegaram cerca de 100 cartas no mesmo dia.
- (C) Cerca de 18 lojas fecharam as portas mais cedo.
- (D) Os cantores receberam cerca de uma centena de convites.
- (E) A plantação produziu cerca de uma tonelada de legumes.

11

Muitas palavras portuguesas mostram o prefixo A- sem qualquer valor semântico, sendo equivalentes ao mesmo vocábulo sem esse prefixo.

Assinale a palavra a seguir que exemplifica esse A protético.

- (A) amostrar
- (B) abraçar
- (C) atenuar
- (D) aguardar
- (E) aparar

12

Observe o seguinte texto:

*A felicidade depende da habilidade que tenhamos naquelas atividades que consideramos importantes: somente se lhes damos um real valor aos pequenos detalhes cotidianos, poderemos ter instantes felizes. A felicidade absoluta não existe, e já que só podemos acessar os pequenos detalhes daquilo que nos interessa, devemos contentar-nos com isso. Por isso, a infelicidade é um sinal claro de nossa incompetência na arte de viver.*

Sobre a estrutura e a significação desse texto, assinale a afirmativa **inadequada**.

- (A) O tema do texto gira em torno do que consiste a felicidade e o que viria a ser o seu oposto.
- (B) A afirmação de que “A felicidade absoluta não existe” é de cunho pessoal do autor do texto, representando uma opinião.
- (C) O raciocínio utilizado na estruturação argumentativa é do tipo dedutivo.
- (D) O conector “Por isso” mostra a preocupação com o caráter lógico da argumentação.
- (E) A tese do texto é a de que a infelicidade é fruto de nossa incompetência na arte de viver.

## Raciocínio Lógico Matemático

13

Certo programa de rádio tem 1 hora e 55 minutos de duração. A partir do momento em que o programa é iniciado, há blocos temáticos de 7 minutos intercalados por blocos de propagandas de 2 minutos.

Em todos os blocos de propaganda, ouve-se o comercial do restaurante R, que sempre dura 18 segundos.

Se o programa começa e termina com um bloco temático, então, o tempo total do programa dedicado ao anúncio do restaurante R é

- (A) 3 minutos e 54 segundos.
- (B) 3 minutos e 36 segundos.
- (C) 3 minutos e 18 segundos.
- (D) 3 minutos.
- (E) 2 minutos e 48 segundos.

14

A linha de produção de certa fábrica produz 1100 latas de sardinhas a cada hora. Certo dia, por um defeito de calibragem do sistema, entre 13h e 14h, o volume de produção foi reduzido em 30% durante exatos 12 minutos.

A quantidade de latas de sardinhas produzidas no intervalo supracitado foi

- (A) 946.
- (B) 964.
- (C) 1022.
- (D) 1034.
- (E) 1046.

15

Marcelo está parado de frente para uma das paredes de uma sala quadrada. Nesta posição, ele está a 1m e 20cm da parede que se encontra à sua direita e a 1m e 70cm da parede que está às suas costas.

Ele, então, se desloca paralelamente às paredes da sala sendo 40cm para a frente e 80cm para a direita. Nessa nova posição, ele passou a distar 1m e 90cm da parede que antes estava à sua esquerda.

Desprezando-se as dimensões de Marcelo, a sua atual distância à parede que, antes dos movimentos, estava à sua frente, é

- (A) 20cm.
- (B) 30cm.
- (C) 40cm.
- (D) 50cm.
- (E) 60cm.

**16**

Um dado é dito comum quando tem a forma de um cubo e suas 6 faces são numeradas de 1 a 6, de tal forma que a soma dos números estampados em faces opostas, quaisquer que sejam elas, sempre somam 7.

Quando um dado comum é lançado, diz-se que o resultado do lançamento é o número estampado na face voltada para cima.

Um dado foi lançado 3 vezes seguidas. Se o produto dos resultados obtidos nos lançamentos vale 75, a soma desses resultados é igual a

- (A) 12.
- (B) 13.
- (C) 14.
- (D) 15.
- (E) 16.

**17**

Em certo ano, o dia 1º de agosto cai em um domingo. Logo, o dia 1º de novembro cairá em

- (A) um sábado.
- (B) um domingo.
- (C) uma segunda-feira.
- (D) uma quarta-feira.
- (E) uma sexta-feira.

**18**

Considere a seguinte proposição condicional:

*Se todos os alunos da Escola Aristarco gostam de matemática, então, ao menos um deles ganha medalha na Olimpíada Nacional de Matemática.*

Se essa proposição é verdadeira, é correto afirmar que

- (A) se nenhum dos alunos da Escola Aristarco gosta de Matemática, então nenhum deles ganha medalha na Olimpíada Nacional de Matemática.
- (B) se todos os alunos da Escola Aristarco ganham medalha na Olimpíada Nacional de Matemática, então, todos esses alunos gostam de Matemática.
- (C) se algum aluno da Escola Aristarco ganha medalha na Olimpíada Nacional de Matemática, então todos esses alunos gostam de Matemática.
- (D) se nenhum aluno da Escola Aristarco ganha medalha na Olimpíada Nacional de Matemática, então nenhum desses alunos gosta de Matemática.
- (E) se nenhum aluno da Escola Aristarco ganha medalha na Olimpíada Nacional de Matemática, então algum desses alunos não gosta de Matemática.

**19**

Em uma caixa, há muitas canetas esferográficas. Classificadas conforme a cor, elas podem ser azuis, vermelhas ou pretas. Classificadas quanto à espessura da esfera, elas podem ser de ponta fina ou de ponta grossa.

Metade das canetas vermelhas tem a ponta grossa. A quantidade total de canetas pretas é igual à quantidade total de canetas vermelhas. Entre as canetas de ponta grossa, a quantidade de azuis é igual à de pretas. A quantidade de canetas azuis com ponta fina é o dobro da quantidade de canetas pretas de ponta grossa.

Se, nessa caixa, 18 são azuis e 20 têm ponta grossa, então a quantidade total de canetas na caixa é

- (A) 30.
- (B) 40.
- (C) 48.
- (D) 50.
- (E) 52.

**20**

Tucídides possuía uma dívida e, em vez de quitá-la, pagou apenas 20% do seu valor, deixando o restante para ser quitado em data futura, com acréscimo de 12% a título de juros sobre o saldo devedor.

No ato de quitação, Tucídides pagou R\$2.329,60. Logo, o valor original da dívida é o resultado da seguinte expressão:

(A)  $2.329,60 \times 0,88 - 20$

(B)  $\frac{2.329,60}{0,88} \times 1,20$

(C)  $\frac{2.329,60}{1,12} \times 1,20$

(D)  $\frac{2.329,60}{1,12 \times 1,20}$

(E)  $\frac{2.329,60}{1,12 \times 0,8}$

**21**

As filhas de Nepomuceno têm 5 e 9 anos de idade. Ele dividirá R\$420,00 entre elas de forma inversamente proporcional às suas idades.

Logo

- (A) a mais nova receberá R\$120,00 a mais que a mais velha.
- (B) a mais nova receberá R\$150,00 a mais que a mais velha.
- (C) a mais nova receberá R\$270,00 a mais que a mais velha.
- (D) a mais velha receberá R\$120,00 a mais que a mais nova.
- (E) a mais velha receberá R\$150,00 a mais que a mais nova.

**22**

A negação da proposição:

$$\text{Se } y \neq 0, \text{ então } x > 2 \text{ e } x \leq 5$$

é dada por

- (A) Se  $y = 0$ , então  $x > 2$  e  $x \leq 5$
- (B) Se  $y = 0$ , então  $x < 2$  ou  $x \geq 5$
- (C)  $y = 0$  e  $x \leq 2$  ou  $x > 5$
- (D)  $y \neq 0$  e  $x \leq 2$  ou  $x > 5$
- (E)  $y \neq 0$  e  $x \leq 2$  e  $x > 5$

## Atualidades

23

De acordo com o censo demográfico de 2022 (IBGE), mais da metade da população brasileira (51,13%) é feminina, e elas representam, segundo o Tribunal Superior Eleitoral, 53% do eleitorado. No entanto, elas ocupam, hoje, menos de 15% dos cargos eletivos.

A respeito da baixa participação das mulheres na política, assinale a afirmativa que apresenta um dispositivo existente na legislação brasileira para alterar esse cenário.

- (A) Reserva de pelo menos 50% dos recursos do Fundo Especial de Financiamento de Campanha, o Fundo Eleitoral, para financiar candidaturas femininas.
- (B) Suspensão dos direitos eleitorais aos partidos em caso de não observância do percentual de pelo menos 30% de candidatas mulheres em cada ciclo eleitoral
- (C) Reserva de assentos, em ambas as casas legislativas, para mulheres, com preferência para as representantes de povos originários.
- (D) Cota de gênero, que obriga cada partido ou coligação a preencher o mínimo de 30% e o máximo de 70% de candidaturas de cada sexo.
- (E) Repasse de até 30% dos recursos dos Fundos Partidário para custear o tempo da propaganda eleitoral gratuita de candidatas em rádio e televisão.

24

A França se tornou o primeiro país do mundo a incluir na Constituição a liberdade de a mulher abortar. A mudança na Carta Magna foi aprovada em uma sessão conjunta das duas Casas legislativas, a Assembleia Nacional e o Senado, e será promulgada pelo presidente Emmanuel Macron ainda em março de 2024.

Adaptado de <https://www1.folha.uol.com.br/mundo/2024/03/>

Diferentemente da França, a legislação brasileira

- (A) equipara o aborto ao infanticídio.
- (B) considera o aborto uma prática ilegal em todas as situações.
- (C) descriminaliza a interrupção da gravidez em caso de deficiência da gestante.
- (D) estabelece um limite temporal para interromper a gravidez, desde que respaldada por laudo médico.
- (E) autoriza a interrupção de gestação em caso de não haver outro meio de salvar a vida da gestante.

25

Desde os anos 2000, o interior do Brasil ultrapassou o litoral na incidência de dengue. A região costeira que vai de Santos, em São Paulo, até Belém, no Pará, apresentava tipicamente maior proporção de casos de dengue em comparação com sua população. Entretanto, recentemente, o oeste do Paraná, o oeste de Santa Catarina o oeste de São Paulo, o interior de Minas Gerais, uma parte do Tocantins, o Goiás e o Mato Grosso do Sul viram a transmissão da doença aumentar e muitas de suas cidades foram obrigadas a decretar emergência.

Adaptado de <https://www.estadao.com.br>

A respeito dos fatores relacionados ao aumento e à interiorização dos casos de dengue no Brasil, analise as afirmativas a seguir.

- I. A maior frequência de períodos com temperaturas acima da média, inclusive com ondas de calor no período invernal em todo território, tem reforçado o padrão sazonal da doença.
- II. A expansão urbana desvinculada de melhoras nos serviços sanitários tem propiciado a formação de ilhas de calor e, portanto, uma alta na incidência da dengue.
- III. O desmatamento do cerrado, convertido em pasto, por exemplo, tem contribuído para aumentar a temperatura média e o número de casos da doença no interior do Brasil.

Está correto o que se afirma em

- (A) I, apenas.
- (B) I e II, apenas.
- (C) I e III, apenas.
- (D) II e III, apenas.
- (E) I, II e III.

26

As afirmativas a seguir descrevem corretamente o desempenho da economia brasileira em 2023, à exceção de uma. Assinale-a.

- (A) A expansão econômica ampliou a geração de empregos informais, em um contexto recessivo e de flexibilização das leis trabalhistas.
- (B) O dinamismo da economia foi marcado pelo aumento de exportações, no setor agrícola, e da demanda, no setor de serviços, em função da alta no consumo das famílias.
- (C) A alta progressiva nas cotações internacionais de commodities acelerou o ritmo das exportações, mesmo em um cenário cambial desfavorável para os exportadores.
- (D) A retração do Brasil no mercado regional e internacional ocorreu em função da maior competitividade dos produtos agrícolas argentinos e pela retomada da economia chinesa.
- (E) A persistência do alto nível da inflação foi ocasionada pela alta da cesta básica, sobretudo dos alimentos, cujas safras foram afetadas pelas condições climáticas adversas.

27

Em 2024, o Tribunal Superior Eleitoral (TSE) aprovou uma resolução para regulamentar o uso da inteligência artificial (IA) durante as eleições municipais a serem realizadas em outubro. A norma proíbe manipulações de conteúdo falso para criar ou substituir imagem ou voz de candidato com objetivo de prejudicar ou favorecer candidaturas. Também foi aprovada a restrição do uso de chatbots humanizados e avatares para intermediar a comunicação das campanhas com pessoas reais nas redes sociais.

Adaptado de <https://agenciabrasil.ebc.com.br/>

A resolução sobre IA objetiva

- (A) coibir a produção e circulação de *deepfakes*.
- (B) restringir o uso de ferramentas de IA simbólica.
- (C) retomar a veiculação de propagandas eleitorais em mídias tradicionais, como rádio e televisão.
- (D) proibir o uso de ferramentas de coleta e seleção em bases de dados com fins eleitorais.
- (E) limitar o uso de assistente virtual programado por AI para divulgação do programa partidário.

28

Assinale a afirmativa que descreve corretamente um aspecto do panorama global da economia em 2023.

- (A) Nos Estados Unidos, a economia foi alavancada pela adoção de uma política de ampliação do crédito e baixa da taxa de juros.
- (B) Na China, o PIB cresceu acima do esperado, em um cenário marcado pela retomada econômica pós pandemia, inclusive no setor imobiliário.
- (C) Na Zona do Euro, a alta dos preços da energia pesou nas despesas familiares e no setor industrial, confirmando a manutenção de um quadro de crise.
- (D) Na Rússia, o PIB decresceu, em função do impacto prolongado da guerra com a Ucrânia e dos embargos à venda de petróleo e gás russos.
- (E) Na América do Sul, foi mantido um caminho geral de crescimento, apoiado por investimentos externos e pela intensificação de políticas estatistas.

29

Um supercomputador consiste em milhares de pequenos computadores chamados nós. Cada nó é equipado com sua própria memória e com vários processadores. Atuando em conjunto, eles são capazes de realizar cálculos extremamente complexos em elevada velocidade. Hoje, o maior supercomputador da América Latina é o Pégaso, da Petrobras, com 678 TB de memória RAM e mais de 233 mil núcleos.

Adaptado de <https://revistapesquisa.fapesp.br>

A respeito do poder computacional de alto desempenho dos supercomputadores, analise as afirmativas a seguir e assinale (V) para a verdadeira e (F) para a falsa.

- ( ) Essas máquinas são instrumentos valiosos de pesquisa e de suporte a setores da economia como defesa, energia e saúde, permitindo a resolução de problemas complexos em menor tempo.
- ( ) Esses equipamentos permitem realizar tarefas que exigem altíssimos níveis de processamento, como simulações da formação do universo ou modelagem molecular para novos fármacos.
- ( ) Esses aparelhos trabalham em alta velocidade de processamento pelo somatório de diversos núcleos, o que potencializa a velocidades do processador, medidas em gigahertz (GHz).

As afirmativas são, respectivamente,

- (A) V – V – F.
- (B) V – F – V.
- (C) F – V – F.
- (D) F – V – V.
- (E) V – V – V.

30

No início do ano corrente, a Petrobras anunciou ter alcançado em 2023 o segundo maior valor de lucro líquido de sua história. Mesmo assim, suas ações caíram no mercado financeiro, em função da disputa sobre os dividendos.

A respeito dos resultados financeiros da Petrobras nos últimos anos e da política de distribuição de dividendos da empresa, assinale a afirmativa correta.

- (A) A Petrobras é uma empresa estatal de economia mista que monopoliza a indústria petroleira no Brasil.
- (B) A Petrobras é uma estatal administrada diretamente por órgãos governamentais que controlam o valor das suas ações.
- (C) A Petrobras direciona parte dos dividendos para investidores privados, e outra parte para o governo federal, que controla a empresa via Tesouro e BNDES.
- (D) A Petrobras, sob o Governo Bolsonaro, reduziu o pagamento de dividendos a acionistas privados para reinvesti-los em energia renovável.
- (E) A Petrobras, no atual governo, vendeu ativos e distribuiu o lucro e os valores recordes de dividendos entre seus acionistas para financiar projetos do BNDES.

31

Dados da última década mostram que, em relação aos Estados, o Pará é o que apresenta o maior número de registros de resgates de trabalho análogo à escravidão, com 9.853, seguido por Mato Grosso (4.302); Tocantins (2.896); São Paulo (1.529) e Rio de Janeiro (1.653), em 2017.

Adaptado de <https://www.jota.info/justica/em-14-anos-434-mil-foram-resgatados-de-trabalho-escravo-30102017>

A respeito da definição moderna de escravidão, analise as afirmativas a seguir.

- I. Em Tocantins, a maior incidência de escravidão moderna ocorre na zona rural, associada a atividades agropecuárias e ao extrativismo mineral, como nas carvoarias, por exemplo.
- II. A Organização Internacional do Trabalho determina a condição de escravidão por uma série de componentes, como o trabalho forçado análogo ao de escravo e o casamento forçado.
- III. Pessoas obrigadas a trabalhar por dívida ou por ameaça, sem direitos trabalhistas garantidos estão em situação de escravidão, uma vez que lhes é impedida a liberdade de ir e vir.

Está correto o que se afirma em

- (A) I, apenas.
- (B) I e II, apenas.
- (C) I e III, apenas.
- (D) II e III, apenas.
- (E) I, II e III.

32

Energia gerada por recursos naturais renováveis que, no Brasil, provém da lenha, carvão vegetal, carvão mineral, bagaço de cana e outros resíduos combustíveis. Essa energia é a matéria orgânica vegetal ou animal usada como fonte de energia limpa e sustentável.

O trecho descreve o seguinte componente importante do desenvolvimento sustentável:

- (A) compostagem.
- (B) biodiversidade.
- (C) créditos de carbono.
- (D) ciclo de vida.
- (E) biomassa.

## História e Geografia do Estado de Tocantins

33

Leia a descrição de uma classe de vegetação presente no estado do Tocantins, a seguir.

*Esta vegetação, também conhecida como floresta pluvial tropical, é caracterizada por árvores de porte elevado, além de trepadeiras lenhosas e epífitas (bromélias e orquídeas, por exemplo) em abundância, o que a diferencia de outras classes de formação vegetal. Sua característica ecológica principal é estar presente em ambientes de chuvas abundantes, como na parte noroeste do Estado, onde as temperaturas médias são de 25°C e os elevados índices de precipitação estão bem distribuídos ao longo do ano.*

Adaptado de Luís Antônio G. C. Silva. *Biomias presentes no Estado do Tocantins*. Brasília: Câmara dos Deputados, 2007, p. 4.

O trecho caracteriza a região conhecida como Floresta

- (A) Estacional Semidecidual.
- (B) Tropical Subcaducifólia.
- (C) de Mata Atlântica.
- (D) Ombrófila Densa.
- (E) Temperada Decidual.

34

Comparando dados dos censos do IBGE, pode-se elaborar um retrato da evolução demográfica da população residente no Estado de Tocantins. O grupo na faixa etária de 0 a 14 representava 41,7% da população em 1991, 28,8% em 2010, e passou para 24% em 2022. A população acima de 65 anos era de 3,8% em 1991 e 5,8% em 2010, e ficou em 8,6% em 2022. O censo de 2022 mostrou ainda que a faixa etária de 15 a 29 anos representa 15% da população e que 41% da população é composta por pessoas de 30 a 59 anos.

Com base no trecho, assinale a opção que apresenta a dinâmica populacional do Tocantins entre 1991 e 2022.

- (A) Expansão da base da pirâmide etária.
- (B) Diminuição da taxa de fecundidade.
- (C) Estreitamento do topo da pirâmide.
- (D) Aumento da idade mediana.
- (E) Redução do índice de envelhecimento.

35

*Foram inegáveis os desdobramentos socioeconômicos sobre o antigo Norte Goiano fruto da construção da rodovia BR-153, a partir do final da década de 1950. O novo urbanismo da Belém-Brasília trouxe enorme impacto no que se refere ao conjunto de cidades que existiam às margens do rio Tocantins, aos fluxos migratórios e às atividades econômicas da região.*

Adaptado de AQUINO, N. *Tocantins: cidades e urbanismo em três modelos históricos*. In: III Encontro da ANPPAS. Brasília, 2006, p. 8.

As afirmativas a seguir descrevem corretamente impactos da rodovia BR-153 no processo de territorialização do Tocantins, **à exceção de uma**. Assinale-a.

- (A) A rodovia foi construída no governo Kubitschek, em um contexto desenvolvimentista que considerava a expansão rodoviária como um meio para integrar econômica e territorialmente as regiões do país, inclusive o norte goiano que, então, vivia uma situação de abandono.
- (B) A rodovia Belém-Brasília teve grande importância para a urbanização do atual Tocantins, o que é exemplificado pela quantidade de novas cidades criadas após a sua construção, como Araguaína, Gurupi, Paraíso do Tocantins, Colinas do Tocantins e Guaraí.
- (C) A construção da BR-153 alavancou também os municípios ribeirinhos, pois a navegação fluvial foi intensificada para abastecer as obras em curso, o que transformou esses municípios em satélites econômicos da nova malha urbana instalada ao longo da rodovia.
- (D) Após a abertura da rodovia, as principais áreas que receberam fluxos migratórios foram a Microrregião de Gurupi – Gurupi e a Microrregião de Porto Nacional – Palmas, para onde se dirigiram pessoas interessadas em trabalhar na construção civil, nos serviços e no comércio, entre outros.
- (E) A BR-153 permitiu interligar o norte de Goiás, atual Estado do Tocantins, a outras localidades do país, facilitando o escoamento da produção e o acesso a produtos para a região, promovendo o fluxo de mercadorias e serviços.

36

O Memorial Coluna Prestes (2001) é uma obra do arquiteto Oscar Niemeyer localizada na Praça dos Girassóis, no centro de Palmas (TO).



Fonte: <https://central.to.gov.br/image/146145?f=1>

A respeito da relação entre essa obra e a constituição de uma memória histórica para o Estado do Tocantins, analise as afirmativas a seguir.

- I. O monumento refere-se à Coluna Prestes, que percorreu o Brasil para divulgar seu programa revolucionário entre 1924 e 1927, tendo passado pelo Norte do então Estado de Goiás (atual Tocantins) durante seu percurso.
- II. A obra foi realizada em concreto e apresenta curvas sinuosas, características próprias do Barroco das cidades mineradoras, estabelecendo visualmente uma continuidade entre o Barroco do passado das cidades mineradoras e o presente do Tocantins.
- III. A construção do memorial permite inserir simbolicamente a história do Tocantins nos grandes processos da história republicana nacional, e homenagear o Tenente Antônio de Siqueira Campos, cujo sobrenome é homônimo ao do ex-governador do Estado.

Está correto o que se afirma em

- (A) I, apenas.
- (B) I e II, apenas.
- (C) I e III, apenas.
- (D) II e III, apenas.
- (E) I, II e III.

## 37

Até 1988, o território que hoje corresponde ao Estado do Tocantins pertencia ao antigo norte de Goiás e à Região Centro-Oeste, tendo como capital política a cidade de Goiânia. Com a emancipação política, da noite para o dia, as pessoas amanheceram tocantinenses, mas sem referências culturais que as representassem como tais.

A respeito da projeção simbólica do novo Estado e de sua nova capital, assinale a opção que interpreta corretamente o processo de construção e atribuição de uma identidade ao Tocantins.

- (A) Desde o primeiro mandato do governador Siqueira Campos, os símbolos oficiais do Tocantins continuaram sendo o brasão de armas, a bandeira, o selo estadual e a canção “Hino ao Tocantins”, de Liberato Costa Póvoa e Abiezer Alves da Rocha.
- (B) O girassol foi reconhecido oficialmente como símbolo da natureza do Estado, por ser uma planta nativa dos cerrados tocantinenses e estar associada à prosperidade e à esperança.
- (C) A Praça dos Girassóis, centro cívico de Palmas, foi concebida para receber edifícios esteticamente associados à cultura do Tocantins, como o Palácio do Araguaia, cujos pórticos remetem ao capim dourado, símbolo da tradição do artesanato de alta qualidade da região.
- (D) A monumentalidade da Praça dos Girassóis é enfatizada pelo seu pavimento, que contém figuras simbólicas como o mapa do Tocantins, a rosa dos ventos, o brasão de armas e a Praça Krahô.
- (E) O meio ambiente também foi utilizado para fortalecer o sentimento identitário, inserindo o girassol, a fava-de-bolota, a arara-canindé e a granada como símbolos da natureza do Tocantins, desde a promulgação da Constituição Estadual em 1989.

## 38

A respeito da matriz energética do Estado e dos investimentos em biocombustíveis, analise as afirmativas a seguir e assinale (V) para a verdadeira e (F) para a falsa.

- ( ) O Estado tem condições de clima e solo desfavoráveis para o plantio de matérias-primas usadas na fabricação de biocombustíveis, mas a expansão do modal logístico (Ferrovia Norte-Sul) permitirá o acesso à soja do planalto goiano.
- ( ) O Tocantins conta com duas usinas de biodiesel em funcionamento, utilizando o pinhão-manso, a soja, a mamona e outras oleaginosas como matéria-prima.
- ( ) O Estado tem alto potencial de geração de energia solar, pela elevada irradiação solar e pelas políticas públicas voltadas para produção de energia limpa e renovável, como a Política Estadual de Incentivo à Geração e ao Uso da Energia Solar (Pró-Solar)

As afirmativas são, respectivamente,

- (A) V – F – V.  
 (B) F – V – V.  
 (C) F – F – V.  
 (D) V – V – F.  
 (E) V – V – V.

## 39

*As belas paisagens como serras, cachoeiras, praias e até mesmo dunas, fazem do Tocantins um paraíso de paisagens naturais, atraindo turistas de várias regiões para conhecer o mais novo Estado brasileiro. A potencialidade para o ecoturismo e a preocupação em conservar a biodiversidade e recursos naturais nele contidos fez com que o Governo do Estado, criasse e implementasse as Unidades de Conservação Ambiental (UC).*

Adaptado de <https://www.to.gov.br/secom/>

A respeito das Unidades de Conservação (UC) do Tocantins, assinale a afirmativa correta.

- (A) São espaços territoriais legalmente instituídos pelo poder público e podem ser de proteção integral federal, como no caso dos Parques Cantão, Jalapão e Lajeado.
- (B) As UCs federais estão subordinadas ao Instituto Chico Mendes de Conservação da Biodiversidade (ICMBio), como no caso do Monumento Natural das Árvores Fossilizadas.
- (C) As UCs estaduais estão subordinadas ao Instituto Natureza do Tocantins (Naturatins), que supervisiona o Parque do Araguaia e o das Nascentes do rio Parnaíba.
- (D) As UCs de uso sustentável são compostas exclusivamente por áreas públicas, sendo permitida sua utilização apenas para o ecoturismo, pesquisa e educação ambiental.
- (E) As UCs municipais estão subordinadas às secretarias de meio ambiente, como no caso do Monumento Natural dos Cânions e Corredeiras do Rio Sono e do Parque Ecológico Roberto Guedes Pereira.

## 40

O Estado do Tocantins possui diversas comunidades quilombolas certificadas e outras com processo formalizado para regularização fundiária de seus territórios. A definição de comunidade quilombola é dada pelo Art. 2º do Decreto nº 4.887/2003:

*Consideram-se remanescentes das comunidades dos quilombos, para os fins deste Decreto, os grupos étnico-raciais, segundo critérios de auto-atribuição, com trajetória histórica própria, dotados de relações territoriais específicas, com presunção de ancestralidade negra relacionada com a resistência à opressão histórica sofrida.*

A respeito dos órgãos e processos envolvidos na identificação e regularização de territórios quilombolas no Estado do Tocantins, assinale a afirmativa correta.

- (A) O acesso dessas comunidades às políticas públicas de educação, saúde, moradia e regularização fundiária depende de o Estado emitir uma certidão de identificação de comunidade quilombola, mediante Fundação Palmares.
- (B) Os critérios para reconhecimento de um grupo enquanto remanescente de quilombo depende da comprovação de sua ancestralidade, seu parentesco e da preservação viva de religiosidades autenticamente africanas.
- (C) A Coordenação Nacional de Articulação de Comunidades Negras Rurais Quilombolas (CONAQ) luta pela incorporação constitucional do direito à autodefinição dos remanescentes de quilombos.
- (D) A certificação quilombola é realizada pela Fundação Cultural Palmares, que avalia com visitas técnicas a autenticidade do legado quilombola pretendido e, caso o aprove, emite uma certidão de comunidade quilombola e a inscreve em um cadastro geral.
- (E) O acesso às terras ocupadas pelos remanescentes das comunidades dos quilombos é garantido por sua delimitação e titulação, a cargo da autoridade municipal em que a mesma se localiza.



## CONHECIMENTOS ESPECÍFICOS

41

A Constituição pode ser compreendida como um conjunto de normas que criam e fixam competências dos principais órgãos do Estado, e disciplinam as interações e controles recíprocos entre os mesmos.

A respeito da Constituição, analise as afirmativas a seguir e assinale (V) para a afirmativa verdadeira e (F) para a falsa.

- ( ) Com base na ideia de que existem temas típicos de uma Constituição, é possível falar em normas materialmente constitucionais, o que, no entanto, recebe crítica devido à influência ideológica dominante em certo momento da história do constitucionalismo.
- ( ) As normas formalmente constitucionais são aquelas encontradas no texto da Constituição e elas só podem ser aí inseridas pelo Poder Constituinte quando materialmente constitucionais.
- ( ) A inserção de um tema como norma constitucional encontra razão, dentre outras, na concessão de maior estabilidade conferida pelo *status* constitucional, independentemente da categorização da Constituição como rígida.

As afirmativas são, respectivamente,

- (A) V – F – F.
- (B) F – F – V.
- (C) V – V – F.
- (D) F – V – V.
- (E) V – V – V.

42

A interpretação constitucional é importante matéria na busca pela compreensão do Texto Maior.

Com relação a alguns de seus princípios, analise os itens a seguir.

- I. Por conta da origem das normas constitucionais e em razão da diferenciação entre Poder Constituinte e Poderes Constituídos, o princípio da supremacia da constituição significa a ocupação de uma posição hierárquica superior pelas normas constitucionais, em relação a toda e qualquer outra norma.
- II. Devido à sua feição meramente política, da Constituição não se deve atribuir o sentido que assegure maior eficácia e força normativa às suas disposições.
- III. É possível enxergar que na operação de interpretação das leis em conformidade com a Constituição, empreende-se uma interpretação constitucionalmente guiada da norma infraconstitucional e atribui-se um sentido à norma constitucional.

Está correto o que se afirma em

- (A) I, II e III.
- (B) I e II, apenas.
- (C) I e III, apenas.
- (D) II e III, apenas.
- (E) I, apenas.

43

O Poder Constituinte Originário tem sua fundamentação assentada, sobretudo na França, no período da sua revolução liberal.

Sobre o Poder Constituinte Originário, analise as afirmativas a seguir e assinale (V) para a afirmativa verdadeira e (F) para a falsa.

- ( ) A base estrutural do Poder Constituinte Originário foi fincada na ideia de afastar a legitimação do poder na tradição, na dinastia e na vinculação de uma família ao Estado.
- ( ) É do povo, compreendido como pessoas de origem étnica ou cultural comum, que se delimita e reúne politicamente, a titularidade do Poder Constituinte Originário e, por isso, não se admite que fração dele se arvore a ser sua representação, ainda que tenha obtido um reconhecimento tal para atuar como Poder Constituinte Originário.
- ( ) Disse-se que o Poder Constituinte Originário é inicial, ilimitado e incondicionado. No entanto, é possível apontar duas objeções ao caráter ilimitado. Quanto à liberdade contra imposições vindas da ordem jurídica anterior, é preciso ressaltar a existência de limitações políticas próprias do exercício de tal poder, tais como valores éticos, religiosos e culturais de uma nação. Quanto a decisões totalitárias, existe mais uma limitação ao aludido poder, posto que a ordenação jurídica do poder do Estado se dá para a instituição de um Estado com poderes limitados.

As afirmativas são, respectivamente,

- (A) V – V – V.
- (B) V – F – V.
- (C) V – V – F.
- (D) F – F – F.
- (E) F – V – F.

44

Alberto, servidor público estável ocupante de cargo efetivo na Assembleia Legislativa do Estado Beta, foi demitido por falta funcional, conforme restou decidido no bojo de processo administrativo disciplinar. Ocorre que, posteriormente, foi invalidada por sentença judicial a demissão de Alberto.

De acordo com a Constituição da República de 1988, Alberto será reintegrado, e o eventual ocupante da vaga

- (A) independentemente de ser estável ou não, será posto em disponibilidade, com remuneração proporcional ao tempo de serviço, até o prazo que possa se aposentar.
- (B) independentemente de ser estável ou não, posto em disponibilidade, com remuneração proporcional ao tempo de contribuição, até o prazo que possa se aposentar voluntariamente ou até que surja nova vaga.
- (C) se estável, aproveitado em cargo de semelhante remuneração e escolaridade, tendo o direito subjetivo de antecipar sua aposentaria em cinco anos.
- (D) se estável, reconduzido ao cargo de origem, sem direito a indenização, aproveitado em outro cargo ou posto em disponibilidade com remuneração proporcional ao tempo de serviço.
- (E) se estável, reconduzido ao cargo de origem, com direito a indenização, aproveitado em outro cargo de semelhante remuneração e escolaridade ou posto em disponibilidade com remuneração proporcional ao tempo de contribuição.

45

Entre as características do regime jurídico administrativo, o *princípio da supremacia do interesse público* tem espaço de relevo e suscita alguns questionamentos, notadamente no âmbito do direito administrativo moderno.

É correto afirmar que se trata de

- (A) princípio absoluto da Administração Pública, expressamente consagrado na Constituição, de modo que deve sempre prevalecer no âmbito da ponderação de interesses.
- (B) princípio que não pode mais ser admitido, por não estar expresso na Constituição, considerando que o consensualismo passou a ser o eixo do direito administrativo, razão pela qual não mais se admite as cláusulas exorbitantes no âmbito dos contratos administrativos.
- (C) princípio que é inexorável à atuação administrativa, expresso na Constituição, que juntamente com o princípio da indisponibilidade do interesse público, importam na vedação de que a Administração Pública formalize instrumentos consensuais com particulares.
- (D) princípio que não é expressamente consagrado na Constituição, devendo ser ponderado com os demais princípios do ordenamento jurídico nas situações de conflito, considerando, inclusive, que, no mais das vezes, a efetivação de direitos fundamentais promove a materialização do interesse público.
- (E) princípio expresso na Constituição, que deve ser invocado para fazer prevalecer a vontade dos gestores públicos, que tem ampla discricionariedade no exercício de suas atividades, a qual encontra limites apenas na vinculação à lei.

46

O Art. 37, XXI, da CRFB/88 consagra que *ressalvados os casos especificados na legislação, as obras, serviços, compras e alienações serão contratados mediante processo de licitação pública que assegure igualdade de condições a todos os concorrentes, com cláusulas que estabeleçam obrigações de pagamento, mantidas as condições efetivas da proposta, nos termos da lei, o qual somente permitirá as exigências de qualificação técnica e econômica indispensáveis à garantia do cumprimento das obrigações*, sendo certo a matéria atinente às licitações e contratações, atualmente, tem como principal diploma a Lei nº 14.133/2021.

Nesse contexto, com relação aos contornos atinentes à contratação direta pela Administração Pública, ou seja, sem a realização de procedimento licitatório, preenchidos os requisitos estabelecidos em lei, é correto afirmar que

- (A) não é admitida pelo ordenamento nenhuma hipótese de contratação direta pela Administração Pública.
- (B) com relação às compras e às alienações a serem realizadas pelo Poder Público não há possibilidade de contratação direta.
- (C) existindo pluralidade de competidores e viabilidade de competição, é inconstitucional a norma que possibilite a contratação direta.
- (D) em situações em que há viabilidade de competição, a licitação pode ser dispensável nas hipóteses expressamente previstas em lei, em relação as quais haverá discricionariedade do administrador com relação à contratação direta.
- (E) a contratação direta pela Administração Pública é situação excepcional, de modo que apenas é admitida nas situações em que há inviabilidade de competição, taxativamente consagradas em lei.

47

Determinado servidor público estável, ao ser questionado sobre as disposições gerais da Lei nº 8.429/92, com a redação conferida pela Lei nº 14.230/2021, no âmbito da improbidade administrativa, respondeu corretamente que

- (A) apenas respondem por improbidade administrativa, os agentes públicos que atuem na Administração Direta e Indireta.
- (B) o mero exercício da função ou desempenho de competências públicas, sem comprovação de ato doloso com fim ilícito, é suficiente para caracterizar a responsabilidade por ato de improbidade administrativa que importa em enriquecimento ilícito.
- (C) no que se refere a recursos de origem pública, sujeita-se às sanções previstas na lei de improbidade o particular, pessoa física ou jurídica, que celebra com a administração pública convênio, contrato de repasse, contrato de gestão, termo de parceria, termo de cooperação ou ajuste administrativo equivalente.
- (D) considera-se dolo a vontade livre e consciente de alcançar o resultado ilícito tipificado como ato de improbidade, não bastando a voluntariedade do agente, salvo com relação aos atos de improbidade que importam em lesão ao erário, que podem ensejar responsabilização por negligência ou imprudência.
- (E) a possibilidade de responsabilidade sucessória restringe-se aos herdeiros da pessoa física, nos limites da herança ou do patrimônio transferido, não podendo ser aplicada na hipótese de alteração contratual, de transformação, de incorporação, de fusão ou de cisão societária.

48

Diante da intenção de implementar determinado projeto importante para o desenvolvimento econômico da localidade, o Estado Delta verificou que será necessário alterar certa unidade de conservação instituída pelo próprio ente federativo por meio de Decreto, no sentido de que deixe de ser de proteção integral e passe a ser de uso sustentável. Além disso, concluiu-se que será indispensável reduzir o espaço especialmente protegido, a importar, portanto, em sua supressão.

Diante dessa situação hipotética, é correto afirmar que

- (A) a alteração ou supressão da unidade de conservação ambiental em questão apenas pode ser realizada por lei do respectivo ente federativo.
- (B) tanto a supressão quanto a alteração da unidade de conservação ambiental em questão pode ser realizada por lei ou por decreto.
- (C) a alteração da unidade de conservação em questão pode ser realizada por lei ou por decreto do respectivo ente federativo, mas a supressão apenas pode ser efetuada por lei da União.
- (D) apesar de não ser possível a supressão ou alteração da unidade de conservação ambiental em questão por decreto, é cabível a edição de uma medida provisória do respectivo ente federativo para tais finalidades.
- (E) é viável a supressão da unidade de conservação ambiental em questão por meio de decreto, mas não a alteração do espaço ambientalmente protegido, que somente pode ser realizada por lei do respectivo ente federativo.

49

Antônio, Tereza e Gabriela Balbuíno adquirem por meio da herança de seu pai diversas obras de arte, tornando-se condôminos de todos os bens. No mês passado, alienaram para Dorival Caribé um famoso quadro de Tarsila do Amaral. Comprometeram-se a entregar a obra de arte no dia de ontem, contudo, por culpa exclusiva, de Gabriela, o quadro foi destruído, sem possibilidade de reparo. A cláusula terceira do contrato atribui solidariedade aos devedores pela entrega do bem.

Diante da situação hipotética narrada, com base no tema obrigações, assinale a afirmativa correta.

- (A) Antônio, Tereza e Gabriela respondem pelo equivalente e as perdas e danos.
- (B) Gabriela responde exclusivamente tanto pelo equivalente, quanto pelas perdas e danos.
- (C) Antônio, Tereza e Gabriela respondem pelas perdas e danos, havendo isenção de responsabilidade pelo equivalente.
- (D) Gabriela responde exclusivamente pelo equivalente, já os outros irmãos somente pelas perdas e danos.
- (E) Antônio, Tereza e Gabriela respondem pelo equivalente, porém pelas perdas e danos somente Tereza.

50

Em uma cidade do interior brasileiro, o Prefeito realizou obras em diversos bens públicos, com destaque as feitas no museu municipal, na rua principal, na maior praça da cidade e na sede da prefeitura. Contudo, sofre muitas críticas por ter deixado de fora um terreno baldio.

Com relação ao tema bens, assinale a afirmativa correta.

- (A) O museu municipal e o terreno baldio são classificados como bens dominicais.
- (B) A praça da cidade e a sede da prefeitura são classificadas como bens de uso comum.
- (C) Na classificação dos bens de uso comum, encontram-se a praça e a rua.
- (D) O terreno baldio e o museu municipal, caso a entrada seja gratuita, são considerados como bens de uso especial.
- (E) A sede da prefeitura e a rua são enquadradas pela doutrina como bem de uso comum.

51

Jonas ajuizou ação de procedimento comum em face de João. O pedido foi julgado procedente, condenando João a pagar dez mil reais a título de danos materiais em favor de Jonas.

Três anos após o trânsito em julgado da última decisão proferida no processo, o Supremo Tribunal Federal declarou, em controle concentrado, a inconstitucionalidade da lei que amparou a pretensão indenizatória de Jonas. Não houve modulação dos efeitos da decisão.

Inconformado, dois meses após a decisão do Supremo Tribunal Federal, João ajuizou ação rescisória em face de Jonas, requerendo a desconstituição da decisão proferida no processo movido por Jonas.

Com base na hipótese narrada, é correto afirmar que

- (A) João teve que efetuar depósito equivalente a dez por cento sobre o valor da causa, o qual se converterá em multa caso a ação rescisória seja declarada inadmissível ou improcedente.
- (B) o relator ordenará a citação de Jonas, designando prazo de dez dias para, querendo, apresentar resposta.
- (C) João ajuizou a ação rescisória dentro do prazo decadencial previsto em lei, razão pela qual não se extinguiu o direito à rescisão da decisão proferida no processo movido por Jonas.
- (D) com a propositura da ação rescisória, a decisão rescindenda não poderá ser objeto de cumprimento de sentença, dado o efeito suspensivo automático decorrente do ajuizamento de tal ação autônoma de impugnação.
- (E) julgando procedente o pedido, o tribunal rescindir a decisão, vedado novo julgamento da causa, em toda e qualquer hipótese.

52

Pedro propôs ação de procedimento comum em face do Estado *Alfa*, na qual postulou a condenação do ente estadual a implementar pensionamento mensal decorrente do óbito de sua esposa, bem como o pagamento dos valores alegadamente em atraso.

Em sede de contestação, o Estado *Alfa* não se opôs ao pedido de implementação da pensão. Todavia, impugnou especificamente os índices de juros e correção monetária dos valores em atraso requeridos por Pedro.

Com base nesse caso concreto, assinale a afirmativa correta.

- (A) O juízo poderá julgar o mérito de forma antecipada e parcial em relação ao pedido de implementação de pensão por morte, hipótese em que a decisão será impugnável por meio de agravo de instrumento.
- (B) A impugnação do Estado *Alfa* em relação ao pedido de condenação dos valores em atraso impede o julgamento antecipado de mérito, o qual somente poderá incidir sobre todo o mérito do processo.
- (C) Eventual decisão que julgar antecipadamente o pedido de concessão de pensão será objeto de execução provisória até eventual decisão sobre o pedido de pagamento dos valores em atraso, ainda que haja seu trânsito em julgado.
- (D) Não impugnado o pedido de implementação de pensão por morte, haverá incidência do efeito material da revelia em relação ao ente público, por não ter ofertado contestação em face de tal pedido.
- (E) O juiz deverá, em decisão de saneamento e organização do processo, delimitar as questões de fato sobre as quais recairá a atividade probatória, a qual necessariamente incidirá sobre o direito ao recebimento da pensão.

53

Sérgio transitava pela Avenida Paraíso, quando foi atingido por uma forte explosão. Foi socorrido por uma ambulância e, ao acordar no hospital com queimaduras de primeiro e segundo grau em partes do seu corpo, soube que a explosão veio de uma loja que prestava serviços de impermeabilização de sofás sem as devidas medidas de segurança.

Sérgio espera atrair a incidência das normas do Código de Defesa do Consumidor para o seu caso, de forma a facilitar o ônus da prova na busca pela indenização.

Para exercer a pretensão indenizatória, Sérgio

- (A) não pode ser considerado consumidor, pois não foi exposto à prática comercial exercida pela loja de impermeabilização de sofás.
- (B) pode ser considerado consumidor, pois, embora não tenha participado de relação de consumo, foi vítima de evento danoso desta.
- (C) pode ser considerado consumidor, pois é pessoa exposta à prática comercial abusiva.
- (D) pode ser considerado consumidor, pois era destinatário final do serviço e existia vulnerabilidade.
- (E) não pode ser considerado consumidor, pois, embora vulnerável, não era destinatário final do serviço.

54

Raquel, estudante de Direito, em uma aula de Direito Previdenciário, recebeu a explicação do seu professor que a Constituição Federal de 1988 prevê que *nenhum benefício ou serviço da seguridade social poderá ser criado, majorado ou estendido sem a correspondente fonte de custeio total*.

Nesse sentido, regra constitucional explicada refere-se à

- (A) regra da seletividade e distributividade.
- (B) regra de contrapartida.
- (C) regra da diversidade da base de financiamento.
- (D) regra da noventena.
- (E) regra da equidade na forma de participação no custeio.

55

Jerônimo trabalhava em um estabelecimento comercial situado em Araguaína-TO e sofreu um grave acidente do trabalho, ficando afastado das atividades laborais por sete meses.

Jerônimo se recuperou, mas ficou com sequelas, tendo a capacidade laborativa reduzida. O segurado em questão foi submetido a processo de reabilitação pelo INSS e, tempos depois, passou a exercer outra atividade na condição de reabilitado junto ao mesmo empregador.

De acordo com a norma de regência, assinale o benefício que Jerônimo poderá requerer da Previdência Social após seu retorno ao trabalho.

- (A) Abono de permanência no serviço.
- (B) Salário família.
- (C) Auxílio por incapacidade temporária.
- (D) Auxílio acidente.
- (E) Aposentadoria.

56

Determinada lei estadual, quando do início da sua vigência, concedeu perdão das infrações à legislação tributária, especificamente decorrentes dos créditos de IPVA já inscritos em dívida ativa.

A referida lei trata de desoneração tributária denominada

- (A) remissão.
- (B) anistia.
- (C) transação.
- (D) moratória.
- (E) isenção.

57

No âmbito da Administração Tributária, algumas informações estão protegidas sob o manto do sigilo fiscal ou bancário. No entanto, a proteção não é absoluta, admitindo-se, em caráter excepcional, a divulgação, pela Fazenda Pública, de informação obtida sobre situação econômica ou financeira do sujeito passivo. Sobre o tema, viola o sigilo fiscal ou bancário, sendo vedada a sua divulgação

- (A) a informação relativa à obtenção e deferimento de parcelamento ou moratória do sujeito passivo.
- (B) a quebra de sigilo bancário em execução fiscal, por meio do sistema BACEN-JUD, o qual viabiliza o bloqueio eletrônico de depósitos do executado, sem o esaurimento de diligências extrajudiciais por parte do exequente.
- (C) as informações relativas a representações fiscais para fins penais.
- (D) a solicitação de quebra de sigilo bancário e fiscal pelas Comissões Parlamentares de Inquérito (CPIs), quando não prescindida de justificativa adequada.
- (E) as informações relativas a incentivo, renúncia, benefício ou imunidade de natureza tributária cujo beneficiário seja pessoa jurídica.

58

João, maior e capaz, aproveitando-se de que a residência do seu vizinho estava vazia, ingressou no local e subtraiu, sem violência ou grave ameaça à pessoa, mil reais em espécie. Ao retornar ao seu domicílio, o agente se deparou com os seus genitores trabalhando de forma árdua para garantir o sustento da família. Dessa forma, tocado pela atitude dos pais, João restituiu os valores pecuniários aos legítimos proprietários, antes da deflagração de qualquer investigação em seu desfavor.

Nesse cenário, considerando as disposições do Código Penal, é correto afirmar que a reprimenda de João, na persecução penal superveniente, será reduzida, em razão

- (A) do arrependimento posterior, que é uma causa de diminuição de pena.
- (B) do arrependimento eficaz, que é uma causa de diminuição de pena.
- (C) do arrependimento posterior, que é uma atenuante.
- (D) do arrependimento eficaz, que é uma atenuante.
- (E) da desistência voluntária, que é uma atenuante.

59

Ao caminhar pela rua, João foi atingido, de inopino, por três golpes de faca, desferidos por José, sem um motivo aparente. Em razão do pronto e imediato socorro, a vítima sobreviveu, sem ostentar qualquer seqüela física proveniente da empreitada delituosa. No curso do processo penal deflagrado para apurar os fatos, José narrou que algumas vezes lhe obrigaram a desferir os golpes com a arma branca. Em assim sendo, após a instauração de um incidente de insanidade mental, constatou-se que José, por força de esquizofrenia, era, ao tempo da ação, inteiramente incapaz de entender o caráter ilícito do fato.

Nesse cenário, considerando as disposições do Código Penal, é correto afirmar que José

- (A) responderá pelo crime perpetrado, mas a pena será reduzida de um sexto a dois terços, em razão da semi-imputabilidade penal.
- (B) responderá pelo crime perpetrado, mas a pena será reduzida de um a dois terços, em razão da semi-imputabilidade penal.
- (C) é isento de pena, em razão da inimputabilidade penal, causa de exclusão de ilicitude.
- (D) é isento de pena, em razão da inimputabilidade penal, causa justificante.
- (E) é isento de pena, em razão da inimputabilidade penal, causa dirimente.

60

No curso de um processo deflagrado para apurar, em tese, o crime de roubo circunstanciado pelo emprego de arma de fogo, o juiz, após a oitiva das partes, reconheceu a prescrição da pretensão punitiva estatal, extinguindo a punibilidade do réu, na forma da lei. Nada obstante, o Ministério Público discordou dos marcos temporais empregados pelo juízo para reconhecer a prescrição, motivo pelo qual pretende interpor o recurso cabível na espécie.

Nesse cenário, considerando as disposições do Código de Processo Penal, é correto afirmar que o Ministério Público interporá

- (A) recurso em sentido estrito.
- (B) carta testemunhável.
- (C) recurso inominado.
- (D) correição parcial.
- (E) apelação.

61

No curso de uma persecução penal deflagrada para apurar um suposto crime de latrocínio tentado, a vítima, por intermédio de um advogado, intervém como assistente de acusação, em observância às formalidades legais. Nesse contexto, o ofendido e o advogado contratado debatem sobre os poderes do assistente de acusação, em especial sobre a possibilidade ou não de se propor meios de prova, requerer perguntas às testemunhas, participar do debate oral e arrazoar os recursos interpostos pelo Ministério Público.

Nesse cenário, considerando as disposições do Código de Processo Penal, é correto afirmar que o assistente de acusação poderá

- (A) requerer perguntas às testemunhas e participar do debate oral, não se admitindo que proponha meios de prova ou arrazoe os recursos interpostos pelo Ministério Público.
- (B) requerer perguntas às testemunhas e arrazoar os recursos interpostos pelo Ministério Público, não se admitindo que participe do debate oral ou proponha meios de prova.
- (C) propor meios de prova, requerer perguntas às testemunhas e participar do debate oral, não se admitindo que arrazoe os recursos interpostos pelo Ministério Público.
- (D) propor meios de prova e requerer perguntas às testemunhas, não se admitindo que participe do debate oral ou arrazoe os recursos interpostos pelo Ministério Público.
- (E) propor meios de prova, requerer perguntas às testemunhas, participar do debate oral e arrazoar os recursos interpostos pelo Ministério Público.

62

De acordo com o Código Civil e em relação à caracterização, inscrição e capacidade do empresário individual, analise as afirmativas a seguir.

- I. A inscrição do empresário individual na Junta Comercial é uma exigência dispensável para sua caracterização.
- II. Desde que haja prévia autorização judicial, após exame das circunstâncias e dos riscos da empresa, bem como da conveniência em continuá-la, o incapaz poderá, por meio de representante ou devidamente assistido, continuar a empresa antes exercida por ele enquanto capaz, por seus pais ou pelo autor de herança.
- III. Não se considera empresário, em qualquer situação, quem exerce profissão intelectual, de natureza científica, literária ou artística, ainda com o concurso de auxiliares ou colaboradores.

Está correto o que se afirma em

- (A) I, II e III.
- (B) II, apenas.
- (C) I e II, apenas.
- (D) III, apenas.
- (E) I e III, apenas.

63

*Curtume Palmeirante Ltda.*, com sede em Talismã, sacou duplicata escritural em face de *Combinado, Sampaio e Tabocão Ltda.* por conta de venda de produtos da primeira sociedade a segunda. O valor da duplicata é de R\$87.000,00 (oitenta e sete mil reais) e o vencimento foi à vista.

Considerados esses dados e as disposições legais sobre a duplicata escritural, é correto afirmar que

- (A) a duplicata escritural à vista não está sujeita a endosso, mas pode ser transferida por cessão eletrônica de crédito e ter seu pagamento garantido por aval.
- (B) a emissão de duplicata sob a forma escritural é feita mediante lançamento em sistema eletrônico de escrituração gerido por quaisquer das entidades que exerçam a atividade de escrituração de duplicatas escriturais.
- (C) a apresentação da duplicata escritural à vista ao sacado será efetuada por meio eletrônico, no prazo de 5 (cinco) dias úteis contados de sua emissão.
- (D) o sacado poderá aceitar ou recusar o aceite na duplicata à vista no prazo de 10 (dez) dias contado do dia de sua apresentação no sistema de escrituração de duplicatas.
- (E) a duplicata emitida sob a forma escritural ou o extrato emitido pelo sacador com base no livro de registro de duplicatas são títulos executivos extrajudiciais.

64

Em uma empresa com 50 empregados, situada em Gurupi-TO, ocorreram os seguintes episódios na semana em curso:

- o empregado Carlos marcou na entrada o seu cartão de ponto e o do colega de trabalho Claudio, que não estava na empresa mas pediu esse favor porque chegaria mais tarde; Jerusa apresentou um atestado médico falso para abono de dois dias de faltas;
- Pedro agrediu verbalmente o seu colega de trabalho Fernando, que exerce a mesma função, quando ambos por acaso se encontraram no final de semana no Shopping Gurupi e se desentenderam;
- Luísa foi flagrada fumando cigarro, malgrado saber que na empresa é proibido fumar em razão dos materiais inflamáveis que lá existem, já tendo sido advertida e suspensa anteriormente pelo mesmo motivo.

Considerando essas hipóteses e o que prevê a CLT, assinale a opção que contempla os empregados que poderão ser dispensados por justa causa.

- (A) Jerusa, Carlos, Pedro, Claudio, Luísa e Fernando.
- (B) Carlos, Jerusa e Pedro, apenas.
- (C) Claudio, Pedro, Carlos e Luísa, apenas.
- (D) Jerusa e Carlos, apenas.
- (E) Luísa, Carlos, Jerusa e Claudio, apenas.

65

Na 10ª Vara do Trabalho de Dianópolis/TO tramitam duas reclamações trabalhistas contra uma sociedade empresária local. Em uma delas, o reclamante Pedro busca o pagamento de R\$8.000,00 pelas verbas resilitórias não pagas e, na outra demanda, o reclamante Walter persegue o pagamento de horas extras e reflexos, tendo atribuído à causa o valor de R\$90.000,00. Há ainda, na mesma Vara do Trabalho, um inquérito judicial movido pela mesma sociedade empresária contra Karina, uma dirigente sindical que teria praticado falta grave.

Considerando os procedimentos referentes a cada um dos processos, e de acordo com a CLT, assinale a afirmativa correta.

- (A) Na ação de Karina cada parte poderá indicar até três testemunhas e nas de Pedro e Walter, até duas.
- (B) Em todas as ações cada parte poderá indicar até três testemunhas.
- (C) Na ação de Pedro cada parte poderá indicar até duas testemunhas, na de Karina não há limite e na de Walter, até três.
- (D) Na ação de Walter cada parte poderá indicar até três testemunhas, na de Karina até 6 e na de Pedro, até duas.
- (E) Na ação de Karina e Pedro cada parte poderá indicar até duas testemunhas e na de Walter, até três.

## LEGISLAÇÃO INSTITUCIONAL

66

Nos termos da Constituição do Estado do Tocantins, constitui objeto de lei complementar a seguinte matéria:

- (A) os prazos de prescrição para ilícitos praticados por qualquer agente, servidor ou não, que causem prejuízos ao erário.
- (B) os limites de idade, a estabilidade e outras condições de transferência do servidor militar para a inatividade.
- (C) os casos de contratação por tempo determinado para atender à necessidade temporária de excepcional interesse público.
- (D) as regras para cálculo de proventos de aposentadoria e pensão por morte.
- (E) os requisitos e as restrições ao ocupante de cargo ou emprego da administração direta e indireta que possibilite o acesso a informações privilegiadas.

67

Considerando o exercício da função legislativa por parte da Assembleia Legislativa de Tocantins, nos termos de seu Regimento Interno, é correto afirmar que

- (A) projetos de lei delegada podem se destinar a regular as matérias de exclusiva competência do Poder Executivo, com a sanção do Governador do Estado.
- (B) projetos de resolução podem se destinar a regular, com eficácia de lei ordinária, matéria de competência privativa da Assembleia Legislativa.
- (C) projetos de lei complementar visam regular matéria infraconstitucional.
- (D) projetos de lei têm por objetivo regular matérias de competência do Poder Legislativo, sem a sanção do Governador do Estado.
- (E) projetos de decreto legislativo destinam-se à delegação de competência, na forma estabelecida na Constituição Estadual.

**68**

Aline, servidora pública estadual, revelou segredo do qual se apropriou em razão do cargo que ocupa. A Administração Pública, ao tomar conhecimento do fato, instaurou procedimento administrativo disciplinar a fim de apurar a conduta e garantir à servidora os princípios da ampla defesa e do contraditório.

À luz do Estatuto dos Servidores Públicos Cíveis do Estado do Tocantins, caso punida, Aline poderá ser sancionada com

- (A) advertência.
- (B) suspensão.
- (C) prestação de serviço.
- (D) multa.
- (E) demissão.

**69**

Ana, servidora pública efetiva e estável, ocupante de cargo de nível superior, objetivando inteirar-se sobre os requisitos para a progressão na carreira, consultou a Lei nº 4.208/2023, que trata sobre o plano de cargos, carreiras e remuneração dos Servidores da Assembleia de Tocantins.

Assim, para fazer jus à progressão, Ana terá que

- (A) possuir no máximo três faltas injustificadas por exercício referente ao período avaliado.
- (B) obter conceito igual ou superior a 70% (setenta por cento) dos pontos possíveis em todos os procedimentos de sua Avaliação.
- (C) concluir curso de pós-graduação *lato sensu* com duração mínima de 360 (trezentos e sessenta) horas.
- (D) cumprir trinta meses de efetivo exercício na classe em que se encontra.
- (E) concluir cursos de aperfeiçoamento em sua área de atuação que tenha, no mínimo, 80 (oitenta) horas de duração.

**70**

Antônio foi nomeado para o cargo de Controlador Interno da Assembleia Legislativa de Tocantins.

À luz da Lei nº 4.209/2023, que dispõe sobre a estrutura administrativa da Aletto, durante o exercício da função, Antônio será competente para:

- (A) opinar, conclusivamente, em processos de direitos, deveres e obrigações dos servidores do Poder Legislativo.
- (B) constituir Comissão Permanente de Licitação.
- (C) examinar a observância das normas de licitações.
- (D) apresentar à Mesa Diretora o balancete mensal e, no início de cada exercício, o balancete geral das contas da Assembleia Legislativa, relativo ao exercício anterior.
- (E) planejar, coordenar, orientar, controlar e dirigir as atividades administrativas, orçamentárias, financeiras, de comunicação social, de tecnologia de informação e de apoio legislativo da Assembleia Legislativa.



# ASSEMBLEIA LEGISLATIVA DO ESTADO DO TOCANTINS

CONCURSO PÚBLICO – EDITAL Nº 01/2023

## PROVA OBJETIVA – TARDE

### ANALISTA LEGISLATIVO **DIREITO**

NÍVEL SUPERIOR – TIPO 2 – VERDE



#### SUA PROVA

- Além deste caderno contendo **70 (setenta)** questões objetivas, você receberá do fiscal de prova o cartão de respostas;
- As questões objetivas têm **5 (cinco)** opções de resposta (A, B, C, D) e somente uma delas está correta.



#### TEMPO

- Você dispõe de **5 (cinco) horas** para a realização da prova, já incluído o tempo para a marcação do cartão de respostas;
- **3 (três) horas** após o início da prova, é possível retirar-se da sala, sem levar o caderno de questões;
- A partir dos **30 (trinta) minutos** anteriores ao término da prova é possível retirar-se da sala **levando o caderno de questões**.



#### NÃO SERÁ PERMITIDO

- Qualquer tipo de comunicação entre os candidatos durante a aplicação da prova;
- Anotar informações relativas às respostas em qualquer outro meio que não seja o caderno de questões;
- Levantar da cadeira sem autorização do fiscal de sala;
- Usar o sanitário ao término da prova, após deixar a sala.



#### INFORMAÇÕES GERAIS

- Verifique se seu caderno de questões está completo, sem repetição de questões ou falhas. Caso contrário, **notifique imediatamente o fiscal da sala**, para que sejam tomadas as devidas providências;
- Confira seus dados pessoais, especialmente nome, número de inscrição e documento de identidade e leia atentamente as instruções para preencher o cartão de respostas;
- Para o preenchimento do cartão de respostas, use somente caneta esferográfica, fabricada em material transparente, com tinta preta ou azul;
- Assine seu nome apenas no(s) espaço(s) reservado(s) no cartão de respostas;
- Confira seu cargo, cor e tipo do caderno de questões. Caso tenha recebido caderno de cargo ou cor ou tipo **diferente** do impresso em seu cartão de respostas, o fiscal deve ser **obrigatoriamente** informado para o devido registro na ata da sala;
- Reserve tempo suficiente para o preenchimento do seu cartão de respostas. O preenchimento é de sua responsabilidade e **não será permitida a troca do cartão de respostas em caso de erro cometido pelo candidato**;
- Para fins de avaliação, serão levadas em consideração apenas as marcações realizadas no cartão de respostas;
- A FGV coletará as impressões digitais dos candidatos na lista de presença;
- Os candidatos serão submetidos ao sistema de detecção de metais quando do ingresso e da saída de sanitários durante a realização das provas.
- **Boa prova!**



## CONHECIMENTOS BÁSICOS

### Língua Portuguesa

1

Assinale a frase que mostra a palavra *mais* numa classe gramatical **diferente** das demais.

- (A) O mercado está prisioneiro de mais um círculo vicioso: piora porque piorou e porque piorou, piora.
- (B) Os ingleses conquistaram o mundo porque não aguentavam mais a própria cozinha.
- (C) Quanto mais vejo o estrangeiro, mais amo a minha pátria.
- (D) Não é mais possível aprender tudo de cor. Um homem instruído não é mais o homem que sabe muitas coisas; é o homem que sabe onde buscar informações.
- (E) Muda-se mais facilmente de religião do que de café

2

Um guitarrista americano produziu o seguinte pensamento:  
*O crítico de rock é alguém que não sabe escrever, entrevistando gente que não sabe falar, para gente que não sabe ler.*

Sobre a estruturação ou a significação desse pequeno texto, assinale a afirmativa **incorreta**.

- (A) O termo “de rock” funciona como complemento nominal do termo anterior.
- (B) Todos os elementos da cadeia comunicativa citados no texto são marcados pela ignorância.
- (C) O pensamento acima revela um preconceito fortíssimo contra os amantes de rock.
- (D) A opinião expressa no texto pode advir da experiência pessoal do autor, já que se trata de um guitarrista.
- (E) A injustiça desse texto provém de ser uma opinião fundamentada em uma autoridade duvidosa.

3

John Steinbeck, prêmio Nobel, declarou o seguinte:

*O homem é o único animal que bebe sem ter sede, come sem ter fome e fala sem ter nada a dizer.*

Em relação ao significado e à estruturação desse pequeno texto, assinale a afirmativa **incorreta**.

- (A) A frase ficaria mais enfática se invertêssemos a posição do termo inicial: O único animal que bebe sem ter sede, come sem ter fome e fala sem ter nada a dizer é o homem.
- (B) A inversão de alguns segmentos do texto em nada modificaria o sentido da frase: O homem é o único animal que come sem ter fome, bebe sem ter sede e fala sem ter nada a dizer.
- (C) Os segmentos finais do texto mostram preocupação com rigoroso paralelismo sintático.
- (D) Segundo a opinião do autor do texto, a marca principal do homem é a irracionalidade.
- (E) Nem todas as ações citadas como marcas humanas estão presentes, por oposição, nos outros animais.

4

Assinale a frase em que a utilização do acento grave indicativo da crase é realizada de forma **errada**.

- (A) Jamais alguém se arrependeu de ter-se acostumado à madrugar e à ter-se casado jovem.
- (B) Tempo é o suspiro de adeus do sol à terra.
- (C) Saio todos os dias às cinco horas e não permito que o meu trabalho interfira no meu jogo de tênis.
- (D) O momento de extrair uma lição da história está sempre à mão para os sábios.
- (E) Quando assumi, quatro anos atrás, estávamos à beira do precipício.

5

Assinale a frase que **não** expressa uma noção de tempo abstrato.

- (A) Nas asas do tempo, a tristeza voa.
- (B) Quem mata o tempo não é assassino, é suicida.
- (C) O tempo perdido não se encontra nunca mais.
- (D) O tempo é o melhor professor. Infelizmente, ele mata todos os seus estudantes
- (E) O tempo gasto na viagem foi de duas horas.

6

Observe o seguinte texto:

*Quando entrei no terrível vagão, ele estava ocupado por duas pessoas. Uma, dobrada, coberta, dormia profundamente. A coberta superior estava manchada, de fundo amarelado, como pele de leopardo. Vendem-se muitas mantas assim nas lojas de artigos de viagens, mas pude notar logo depois que se tratava realmente da pele de um animal selvagem; do mesmo modo, o boné da pessoa adormecida me pareceu ser de feltro branco bastante delicado. O outro viajante, uma aparência simpática, parecia ter passado dos trinta anos e mostrava-se como figura insignificante que passa confortavelmente as noites em estradas de ferro.*

Nesse fragmento textual, para criar sinais de história realista e verdadeira, o narrador apela para a seguinte estratégia:

- (A) seleciona uma situação banal da qual não precisa fornecer muitos detalhes, exatamente por sua banalidade.
- (B) fornece algumas marcas caracterizadoras dos dois personagens presentes no texto, destacando sua banalidade.
- (C) indica traços descritivos do ambiente, mostrando-o como se nada houvesse nele de excepcional.
- (D) mostra detalhes variados e bastante pitorescos dos objetos descritos.
- (E) dá ao leitor informações sobre personagens e ambiente, mostrando-os como bastante conhecidos do narrador.

7

Assinale a frase em que o adjetivo sublinhado mostra uma função sintática **diferente** das demais.

- (A) Por fora bela viola, por dentro pão bolorento.
- (B) Tiradentes, heroico, tentou organizar uma revolução.
- (C) Um rosto bonito altera-se depressa.
- (D) Eu não podia acreditar que existem múmias tão lindas.
- (E) Um homem belo é um homem insignificante.

8

Observe o seguinte texto:

*A felicidade depende da habilidade que tenhamos naquelas atividades que consideramos importantes: somente se lhes damos um real valor aos pequenos detalhes cotidianos, poderemos ter instantes felizes. A felicidade absoluta não existe, e já que só podemos acessar os pequenos detalhes daquilo que nos interessa, devemos contentar-nos com isso. Por isso, a infelicidade é um sinal claro de nossa incompetência na arte de viver.*

Sobre a estrutura e a significação desse texto, assinale a afirmativa **inadequada**.

- (A) O tema do texto gira em torno do que consiste a felicidade e o que viria a ser o seu oposto.
- (B) A afirmação de que “A felicidade absoluta não existe” é de cunho pessoal do autor do texto, representando uma opinião.
- (C) O raciocínio utilizado na estruturação argumentativa é do tipo dedutivo.
- (D) O conector “Por isso” mostra a preocupação com o caráter lógico da argumentação.
- (E) A tese do texto é a de que a infelicidade é fruto de nossa incompetência na arte de viver.

9

As frases a seguir mostram termos ligados pela conjunção OU.

Assinale a frase em que essa conjunção mantém o valor de alternativa (e não de adição).

- (A) João ou Pedro deve ser eleito presidente da empresa.
- (B) A alegria ou a tristeza fazem parte da vida.
- (C) Inglês ou francês são idiomas falados pelos turistas
- (D) Os clientes leem livros ou revistas enquanto esperam.
- (E) Vasco ou Flamengo são times de longa tradição.

10

Muitas palavras portuguesas mostram o prefixo A- sem qualquer valor semântico, sendo equivalentes ao mesmo vocábulo sem esse prefixo.

Assinale a palavra a seguir que exemplifica esse A protético.

- (A) amostrar
- (B) abraçar
- (C) atenuar
- (D) aguardar
- (E) aparar

11

Assinale a opção que mostra uma impropriedade léxica, ou seja, um emprego **inadequado** da expressão “cerca de”.

- (A) Havia cerca de três dúzias de convidados no final da festa.
- (B) Chegaram cerca de 100 cartas no mesmo dia.
- (C) Cerca de 18 lojas fecharam as portas mais cedo.
- (D) Os cantores receberam cerca de uma centena de convites.
- (E) A plantação produziu cerca de uma tonelada de legumes.

12

Os adjetivos podem representar estados, qualidades, características e relações.

Assinale a frase que mostra um tipo de adjetivo **diferente** dos demais.

- (A) Nunca houve criança tão amável que a própria mãe não ficasse satisfeita ao conseguir adormecê-la.
- (B) Nada mais perversamente cruel que uma adorável criança.
- (C) Mesmo estando doentes, as crianças não ficam caladas.
- (D) Quando as crianças estão quietas é porque fizeram alguma coisa errada.
- (E) As tangerinas verdes não amadurecem fora do pé.

## Raciocínio Lógico Matemático

13

Em uma caixa, há muitas canetas esferográficas. Classificadas conforme a cor, elas podem ser azuis, vermelhas ou pretas. Classificadas quanto à espessura da esfera, elas podem ser de ponta fina ou de ponta grossa.

Metade das canetas vermelhas tem a ponta grossa. A quantidade total de canetas pretas é igual à quantidade total de canetas vermelhas. Entre as canetas de ponta grossa, a quantidade de azuis é igual à de pretas. A quantidade de canetas azuis com ponta fina é o dobro da quantidade de canetas pretas de ponta grossa.

Se, nessa caixa, 18 são azuis e 20 têm ponta grossa, então a quantidade total de canetas na caixa é

- (A) 30.
- (B) 40.
- (C) 48.
- (D) 50.
- (E) 52.

14

Certo programa de rádio tem 1 hora e 55 minutos de duração. A partir do momento em que o programa é iniciado, há blocos temáticos de 7 minutos intercalados por blocos de propagandas de 2 minutos.

Em todos os blocos de propaganda, ouve-se o comercial do restaurante R, que sempre dura 18 segundos.

Se o programa começa e termina com um bloco temático, então, o tempo total do programa dedicado ao anúncio do restaurante R é

- (A) 3 minutos e 54 segundos.
- (B) 3 minutos e 36 segundos.
- (C) 3 minutos e 18 segundos.
- (D) 3 minutos.
- (E) 2 minutos e 48 segundos.

15

Em certo ano, o dia 1º de agosto cai em um domingo. Logo, o dia 1º de novembro cairá em

- (A) um sábado.
- (B) um domingo.
- (C) uma segunda-feira.
- (D) uma quarta-feira.
- (E) uma sexta-feira.

**16**

Considere a seguinte proposição condicional:

*Se todos os alunos da Escola Aristarco gostam de matemática, então, ao menos um deles ganha medalha na Olimpíada Nacional de Matemática.*

Se essa proposição é verdadeira, é correto afirmar que

- (A) se nenhum dos alunos da Escola Aristarco gosta de Matemática, então nenhum deles ganha medalha na Olimpíada Nacional de Matemática.
- (B) se todos os alunos da Escola Aristarco ganham medalha na Olimpíada Nacional de Matemática, então, todos esses alunos gostam de Matemática.
- (C) se algum aluno da Escola Aristarco ganha medalha na Olimpíada Nacional de Matemática, então todos esses alunos gostam de Matemática.
- (D) se nenhum aluno da Escola Aristarco ganha medalha na Olimpíada Nacional de Matemática, então nenhum desses alunos gosta de Matemática.
- (E) se nenhum aluno da Escola Aristarco ganha medalha na Olimpíada Nacional de Matemática, então algum desses alunos não gosta de Matemática.

**17**

A linha de produção de certa fábrica produz 1100 latas de sardinhas a cada hora. Certo dia, por um defeito de calibragem do sistema, entre 13h e 14h, o volume de produção foi reduzido em 30% durante exatos 12 minutos.

A quantidade de latas de sardinhas produzidas no intervalo supracitado foi

- (A) 946.
- (B) 964.
- (C) 1022.
- (D) 1034.
- (E) 1046.

**18**

Um dado é dito comum quando tem a forma de um cubo e suas 6 faces são numeradas de 1 a 6, de tal forma que a soma dos números estampados em faces opostas, quaisquer que sejam elas, sempre somam 7.

Quando um dado comum é lançado, diz-se que o resultado do lançamento é o número estampado na face voltada para cima.

Um dado foi lançado 3 vezes seguidas. Se o produto dos resultados obtidos nos lançamentos vale 75, a soma desses resultados é igual a

- (A) 12.
- (B) 13.
- (C) 14.
- (D) 15.
- (E) 16.

**19**

Marcelo está parado de frente para uma das paredes de uma sala quadrada. Nesta posição, ele está a 1m e 20cm da parede que se encontra à sua direita e a 1m e 70cm da parede que está às suas costas.

Ele, então, se desloca paralelamente às paredes da sala sendo 40cm para a frente e 80cm para a direita. Nessa nova posição, ele passou a distar 1m e 90cm da parede que antes estava à sua esquerda.

Desprezando-se as dimensões de Marcelo, a sua atual distância à parede que, antes dos movimentos, estava à sua frente, é

- (A) 20cm.
- (B) 30cm.
- (C) 40cm.
- (D) 50cm.
- (E) 60cm.

**20**

A negação da proposição:

$$\text{Se } y \neq 0, \text{ então } x > 2 \text{ e } x \leq 5$$

é dada por

- (A) Se  $y = 0$ , então  $x > 2$  e  $x \leq 5$
- (B) Se  $y = 0$ , então  $x < 2$  ou  $x \geq 5$
- (C)  $y = 0$  e  $x \leq 2$  ou  $x > 5$
- (D)  $y \neq 0$  e  $x \leq 2$  ou  $x > 5$
- (E)  $y \neq 0$  e  $x \leq 2$  e  $x > 5$

**21**

Tucídides possuía uma dívida e, em vez de quitá-la, pagou apenas 20% do seu valor, deixando o restante para ser quitado em data futura, com acréscimo de 12% a título de juros sobre o saldo devedor.

No ato de quitação, Tucídides pagou R\$2.329,60. Logo, o valor original da dívida é o resultado da seguinte expressão:

- (A)  $2.329,60 \times 0,88 - 20$
- (B)  $\frac{2.329,60}{0,88} \times 1,20$
- (C)  $\frac{2.329,60}{1,12} \times 1,20$
- (D)  $\frac{2.329,60}{1,12 \times 1,20}$
- (E)  $\frac{2.329,60}{1,12 \times 0,8}$

**22**

As filhas de Nepomuceno têm 5 e 9 anos de idade. Ele dividirá R\$420,00 entre elas de forma inversamente proporcional às suas idades.

Logo

- (A) a mais nova receberá R\$120,00 a mais que a mais velha.
- (B) a mais nova receberá R\$150,00 a mais que a mais velha.
- (C) a mais nova receberá R\$270,00 a mais que a mais velha.
- (D) a mais velha receberá R\$120,00 a mais que a mais nova.
- (E) a mais velha receberá R\$150,00 a mais que a mais nova.

## Atualidades

23

Assinale a afirmativa que descreve corretamente um aspecto do panorama global da economia em 2023.

- (A) Nos Estados Unidos, a economia foi alavancada pela adoção de uma política de ampliação do crédito e baixa da taxa de juros.
- (B) Na China, o PIB cresceu acima do esperado, em um cenário marcado pela retomada econômica pós pandemia, inclusive no setor imobiliário.
- (C) Na Zona do Euro, a alta dos preços da energia pesou nas despesas familiares e no setor industrial, confirmando a manutenção de um quadro de crise.
- (D) Na Rússia, o PIB decresceu, em função do impacto prolongado da guerra com a Ucrânia e dos embargos à venda de petróleo e gás russos.
- (E) Na América do Sul, foi mantido um caminho geral de crescimento, apoiado por investimentos externos e pela intensificação de políticas estatistas.

24

Energia gerada por recursos naturais renováveis que, no Brasil, provém da lenha, carvão vegetal, carvão mineral, bagaço de cana e outros resíduos combustíveis. Essa energia é a matéria orgânica vegetal ou animal usada como fonte de energia limpa e sustentável.

O trecho descreve o seguinte componente importante do desenvolvimento sustentável:

- (A) compostagem.
- (B) biodiversidade.
- (C) créditos de carbono.
- (D) ciclo de vida.
- (E) biomassa.

25

As afirmativas a seguir descrevem corretamente o desempenho da economia brasileira em 2023, à exceção de uma. Assinale-a.

- (A) A expansão econômica ampliou a geração de empregos informais, em um contexto recessivo e de flexibilização das leis trabalhistas.
- (B) O dinamismo da economia foi marcado pelo aumento de exportações, no setor agrícola, e da demanda, no setor de serviços, em função da alta no consumo das famílias.
- (C) A alta progressiva nas cotações internacionais de commodities acelerou o ritmo das exportações, mesmo em um cenário cambial desfavorável para os exportadores.
- (D) A retração do Brasil no mercado regional e internacional ocorreu em função da maior competitividade dos produtos agrícolas argentinos e pela retomada da economia chinesa.
- (E) A persistência do alto nível da inflação foi ocasionada pela alta da cesta básica, sobretudo dos alimentos, cujas safras foram afetadas pelas condições climáticas adversas.

26

Em 2024, o Tribunal Superior Eleitoral (TSE) aprovou uma resolução para regulamentar o uso da inteligência artificial (IA) durante as eleições municipais a serem realizadas em outubro. A norma proíbe manipulações de conteúdo falso para criar ou substituir imagem ou voz de candidato com objetivo de prejudicar ou favorecer candidaturas. Também foi aprovada a restrição do uso de chatbots humanizados e avatares para intermediar a comunicação das campanhas com pessoas reais nas redes sociais.

Adaptado de <https://agenciabrasil.ebc.com.br/>

A resolução sobre IA objetiva

- (A) coibir a produção e circulação de *deepfakes*.
- (B) restringir o uso de ferramentas de IA simbólica.
- (C) retomar a veiculação de propagandas eleitorais em mídias tradicionais, como rádio e televisão.
- (D) proibir o uso de ferramentas de coleta e seleção em bases de dados com fins eleitorais.
- (E) limitar o uso de assistente virtual programado por AI para divulgação do programa partidário.

27

No início do ano corrente, a Petrobras anunciou ter alcançado em 2023 o segundo maior valor de lucro líquido de sua história. Mesmo assim, suas ações caíram no mercado financeiro, em função da disputa sobre os dividendos.

A respeito dos resultados financeiros da Petrobrás nos últimos anos e da política de distribuição de dividendos da empresa, assinale a afirmativa correta.

- (A) A Petrobras é uma empresa estatal de economia mista que monopoliza a indústria petroleira no Brasil.
- (B) A Petrobras é uma estatal administrada diretamente por órgãos governamentais que controlam o valor das suas ações.
- (C) A Petrobras direciona parte dos dividendos para investidores privados, e outra parte para o governo federal, que controla a empresa via Tesouro e BNDES.
- (D) A Petrobras, sob o Governo Bolsonaro, reduziu o pagamento de dividendos a acionistas privados para reinvesti-los em energia renovável.
- (E) A Petrobras, no atual governo, vendeu ativos e distribuiu o lucro e os valores recordes de dividendos entre seus acionistas para financiar projetos do BNDES.

28

De acordo com o censo demográfico de 2022 (IBGE), mais da metade da população brasileira (51,13%) é feminina, e elas representam, segundo o Tribunal Superior Eleitoral, 53% do eleitorado. No entanto, elas ocupam, hoje, menos de 15% dos cargos eletivos.

A respeito da baixa participação das mulheres na política, assinale a afirmativa que apresenta um dispositivo existente na legislação brasileira para alterar esse cenário.

- (A) Reserva de pelo menos 50% dos recursos do Fundo Especial de Financiamento de Campanha, o Fundo Eleitoral, para financiar candidaturas femininas.
- (B) Suspensão dos direitos eleitorais aos partidos em caso de não observância do percentual de pelo menos 30% de candidatas mulheres em cada ciclo eleitoral
- (C) Reserva de assentos, em ambas as casas legislativas, para mulheres, com preferência para as representantes de povos originários.
- (D) Cota de gênero, que obriga cada partido ou coligação a preencher o mínimo de 30% e o máximo de 70% de candidaturas de cada sexo.
- (E) Repasse de até 30% dos recursos dos Fundos Partidário para custear o tempo da propaganda eleitoral gratuita de candidatas em rádio e televisão.

29

*Dados da última década mostram que, em relação aos Estados, o Pará é o que apresenta o maior número de registros de resgastes de trabalho análogo à escravidão, com 9.853, seguido por Mato Grosso (4.302); Tocantins (2.896); São Paulo (1.529) e Rio de Janeiro (1.653), em 2017.*

Adaptado de <https://www.jota.info/justica/em-14-anos-434-mil-foram-resgatados-de-trabalho-escravo-30102017>

A respeito da definição moderna de escravidão, analise as afirmativas a seguir.

- I. Em Tocantins, a maior incidência de escravidão moderna ocorre na zona rural, associada a atividades agropecuárias e ao extrativismo mineral, como nas carvoarias, por exemplo.
- II. A Organização Internacional do Trabalho determina a condição de escravidão por uma série de componentes, como o trabalho forçado análogo ao de escravo e o casamento forçado.
- III. Pessoas obrigadas a trabalhar por dívida ou por ameaça, sem direitos trabalhistas garantidos estão em situação de escravidão, uma vez que lhes é impedida a liberdade de ir e vir.

Está correto o que se afirma em

- (A) I, apenas.
- (B) I e II, apenas.
- (C) I e III, apenas.
- (D) II e III, apenas.
- (E) I, II e III.

30

*Desde os anos 2000, o interior do Brasil ultrapassou o litoral na incidência de dengue. A região costeira que vai de Santos, em São Paulo, até Belém, no Pará, apresentava tipicamente maior proporção de casos de dengue em comparação com sua população. Entretanto, recentemente, o oeste do Paraná, o oeste de Santa Catarina o oeste de São Paulo, o interior de Minas Gerais, uma parte do Tocantins, o Goiás e o Mato Grosso do Sul viram a transmissão da doença aumentar e muitas de suas cidades foram obrigadas a decretar emergência.*

Adaptado de <https://www.estadao.com.br>

A respeito dos fatores relacionados ao aumento e à interiorização dos casos de dengue no Brasil, analise as afirmativas a seguir.

- I. A maior frequência de períodos com temperaturas acima da média, inclusive com ondas de calor no período invernal em todo território, tem reforçado o padrão sazonal da doença.
- II. A expansão urbana desvinculada de melhoras nos serviços sanitários tem propiciado a formação de ilhas de calor e, portanto, uma alta na incidência da dengue.
- III. O desmatamento do cerrado, convertido em pasto, por exemplo, tem contribuído para aumentar a temperatura média e o número de casos da doença no interior do Brasil.

Está correto o que se afirma em

- (A) I, apenas.
- (B) I e II, apenas.
- (C) I e III, apenas.
- (D) II e III, apenas.
- (E) I, II e III.

31

*Um supercomputador consiste em milhares de pequenos computadores chamados nós. Cada nó é equipado com sua própria memória e com vários processadores. Atuando em conjunto, eles são capazes de realizar cálculos extremamente complexos em elevada velocidade. Hoje, o maior supercomputador da América Latina é o Pégaso, da Petrobras, com 678 TB de memória RAM e mais de 233 mil núcleos.*

Adaptado de <https://revistapesquisa.fapesp.br>

A respeito do poder computacional de alto desempenho dos supercomputadores, analise as afirmativas a seguir e assinale (V) para a verdadeira e (F) para a falsa.

- ( ) Essas máquinas são instrumentos valiosos de pesquisa e de suporte a setores da economia como defesa, energia e saúde, permitindo a resolução de problemas complexos em menor tempo.
- ( ) Esses equipamentos permitem realizar tarefas que exigem altíssimos níveis de processamento, como simulações da formação do universo ou modelagem molecular para novos fármacos.
- ( ) Esses aparelhos trabalham em alta velocidade de processamento pelo somatório de diversos núcleos, o que potencializa a velocidades do processador, medidas em gigahertz (GHz).

As afirmativas são, respectivamente,

- (A) V – V – F.
- (B) V – F – V.
- (C) F – V – F.
- (D) F – V – V.
- (E) V – V – V.

32

A França se tornou o primeiro país do mundo a incluir na Constituição a liberdade de a mulher abortar. A mudança na Carta Magna foi aprovada em uma sessão conjunta das duas Casas legislativas, a Assembleia Nacional e o Senado, e será promulgada pelo presidente Emmanuel Macron ainda em março de 2024.

Adaptado de <https://www1.folha.uol.com.br/mundo/2024/03/>

Diferentemente da França, a legislação brasileira

- (A) equipara o aborto ao infanticídio.
- (B) considera o aborto uma prática ilegal em todas as situações.
- (C) descriminaliza a interrupção da gravidez em caso de deficiência da gestante.
- (D) estabelece um limite temporal para interromper a gravidez, desde que respaldada por laudo médico.
- (E) autoriza a interrupção de gestação em caso de não haver outro meio de salvar a vida da gestante.

## História e Geografia do Estado de Tocantins

33

O Estado do Tocantins possui diversas comunidades quilombolas certificadas e outras com processo formalizado para regularização fundiária de seus territórios. A definição de comunidade quilombola é dada pelo Art. 2º do Decreto nº 4.887/2003:

*Consideram-se remanescentes das comunidades dos quilombos, para os fins deste Decreto, os grupos étnico-raciais, segundo critérios de auto-atribuição, com trajetória histórica própria, dotados de relações territoriais específicas, com presunção de ancestralidade negra relacionada com a resistência à opressão histórica sofrida.*

A respeito dos órgãos e processos envolvidos na identificação e regularização de territórios quilombolas no Estado do Tocantins, assinale a afirmativa correta.

- (A) O acesso dessas comunidades às políticas públicas de educação, saúde, moradia e regularização fundiária depende de o Estado emitir uma certidão de identificação de comunidade quilombola, mediante Fundação Palmares.
- (B) Os critérios para reconhecimento de um grupo enquanto remanescente de quilombo depende da comprovação de sua ancestralidade, seu parentesco e da preservação viva de religiosidades autenticamente africanas.
- (C) A Coordenação Nacional de Articulação de Comunidades Negras Rurais Quilombolas (CONAQ) luta pela incorporação constitucional do direito à autodefinição dos remanescentes de quilombos.
- (D) A certificação quilombola é realizada pela Fundação Cultural Palmares, que avalia com visitas técnicas a autenticidade do legado quilombola pretendido e, caso o aprove, emite a certidão de comunidade quilombola e a inscreve em um cadastro geral.
- (E) O acesso às terras ocupadas pelos remanescentes das comunidades dos quilombos é garantido por sua delimitação e titulação, a cargo da autoridade municipal em que a mesma se localiza.

34

O Memorial Coluna Prestes (2001) é uma obra do arquiteto Oscar Niemeyer localizada na Praça dos Girassóis, no centro de Palmas (TO).



Fonte: <https://central.to.gov.br/image/146145?f=1>

A respeito da relação entre essa obra e a constituição de uma memória histórica para o Estado do Tocantins, analise as afirmativas a seguir.

- I. O monumento refere-se à Coluna Prestes, que percorreu o Brasil para divulgar seu programa revolucionário entre 1924 e 1927, tendo passado pelo Norte do então Estado de Goiás (atual Tocantins) durante seu percurso.
- II. A obra foi realizada em concreto e apresenta curvas sinuosas, características próprias do Barroco das cidades mineradoras, estabelecendo visualmente uma continuidade entre o Barroco do passado das cidades mineradoras e o presente do Tocantins.
- III. A construção do memorial permite inserir simbolicamente a história do Tocantins nos grandes processos da história republicana nacional, e homenagear o Tenente Antônio de Siqueira Campos, cujo sobrenome é homônimo ao do ex-governador do Estado.

Está correto o que se afirma em

- (A) I, apenas.
- (B) I e II, apenas.
- (C) I e III, apenas.
- (D) II e III, apenas.
- (E) I, II e III.

35

*As belas paisagens como serras, cachoeiras, praias e até mesmo dunas, fazem do Tocantins um paraíso de paisagens naturais, atraindo turistas de várias regiões para conhecer o mais novo Estado brasileiro. A potencialidade para o ecoturismo e a preocupação em conservar a biodiversidade e recursos naturais nele contidos fez com que o Governo do Estado, criasse e implementasse as Unidades de Conservação Ambiental (UC).*

Adaptado de <https://www.to.gov.br/secom/>

A respeito das Unidades de Conservação (UC) do Tocantins, assinale a afirmativa correta.

- (A) São espaços territoriais legalmente instituídos pelo poder público e podem ser de proteção integral federal, como no caso dos Parques Cantão, Jalapão e Lajeado.
- (B) As UCs federais estão subordinadas ao Instituto Chico Mendes de Conservação da Biodiversidade (ICMBio), como no caso do Monumento Natural das Árvores Fossilizadas.
- (C) As UCs estaduais estão subordinadas ao Instituto Natureza do Tocantins (Naturatins), que supervisiona o Parque do Araguaia e o das Nascentes do rio Parnaíba.
- (D) As UCs de uso sustentável são compostas exclusivamente por áreas públicas, sendo permitida sua utilização apenas para o ecoturismo, pesquisa e educação ambiental.
- (E) As UCs municipais estão subordinadas às secretarias de meio ambiente, como no caso do Monumento Natural dos Cânions e Corredeiras do Rio Sono e do Parque Ecológico Roberto Guedes Pereira.

36

Leia a descrição de uma classe de vegetação presente no estado do Tocantins, a seguir.

*Esta vegetação, também conhecida como floresta pluvial tropical, é caracterizada por árvores de porte elevado, além de trepadeiras lenhosas e epífitas (bromélias e orquídeas, por exemplo) em abundância, o que a diferencia de outras classes de formação vegetal. Sua característica ecológica principal é estar presente em ambientes de chuvas abundantes, como na parte noroeste do Estado, onde as temperaturas médias são de 25°C e os elevados índices de precipitação estão bem distribuídos ao longo do ano.*

Adaptado de Luís Antônio G. C. Silva. *Biomias presentes no Estado do Tocantins*. Brasília: Câmara dos Deputados, 2007, p. 4.

O trecho caracteriza a região conhecida como Floresta

- (A) Estacional Semidecidual.
- (B) Tropical Subcaducifólia.
- (C) de Mata Atlântica.
- (D) Ombrófila Densa.
- (E) Temperada Decidual.

37

*Foram inegáveis os desdobramentos socioeconômicos sobre o antigo Norte Goiano fruto da construção da rodovia BR-153, a partir do final da década de 1950. O novo urbanismo da Belém-Brasília trouxe enorme impacto no que se refere ao conjunto de cidades que existiam às margens do rio Tocantins, aos fluxos migratórios e às atividades econômicas da região.*

Adaptado de AQUINO, N. *Tocantins: cidades e urbanismo em três modelos históricos*. In: III Encontro da ANPPAS. Brasília, 2006, p. 8.

As afirmativas a seguir descrevem corretamente impactos da rodovia BR-153 no processo de territorialização do Tocantins, **à exceção de uma**. Assinale-a.

- (A) A rodovia foi construída no governo Kubitschek, em um contexto desenvolvimentista que considerava a expansão rodoviária como um meio para integrar econômica e territorialmente as regiões do país, inclusive o norte goiano que, então, vivia uma situação de abandono.
- (B) A rodovia Belém-Brasília teve grande importância para a urbanização do atual Tocantins, o que é exemplificado pela quantidade de novas cidades criadas após a sua construção, como Araguaína, Gurupi, Paraíso do Tocantins, Colinas do Tocantins e Guaraí.
- (C) A construção da BR-153 alavancou também os municípios ribeirinhos, pois a navegação fluvial foi intensificada para abastecer as obras em curso, o que transformou esses municípios em satélites econômicos da nova malha urbana instalada ao longo da rodovia.
- (D) Após a abertura da rodovia, as principais áreas que receberam fluxos migratórios foram a Microrregião de Gurupi – Gurupi e a Microrregião de Porto Nacional – Palmas, para onde se dirigiram pessoas interessadas em trabalhar na construção civil, nos serviços e no comércio, entre outros.
- (E) A BR-153 permitiu interligar o norte de Goiás, atual Estado do Tocantins, a outras localidades do país, facilitando o escoamento da produção e o acesso a produtos para a região, promovendo o fluxo de mercadorias e serviços.

38

Até 1988, o território que hoje corresponde ao Estado do Tocantins pertencia ao antigo norte de Goiás e à Região Centro-Oeste, tendo como capital política a cidade de Goiânia. Com a emancipação política, da noite para o dia, as pessoas amanheceram tocantinenses, mas sem referências culturais que as representassem como tais.

A respeito da projeção simbólica do novo Estado e de sua nova capital, assinale a opção que interpreta corretamente o processo de construção e atribuição de uma identidade ao Tocantins.

- (A) Desde o primeiro mandato do governador Siqueira Campos, os símbolos oficiais do Tocantins continuaram sendo o brasão de armas, a bandeira, o selo estadual e a canção "Hino ao Tocantins", de Liberato Costa Póvoa e Abiezer Alves da Rocha.
- (B) O girassol foi reconhecido oficialmente como símbolo da natureza do Estado, por ser uma planta nativa dos cerrados tocantinenses e estar associada à prosperidade e à esperança.
- (C) A Praça dos Girassóis, centro cívico de Palmas, foi concebida para receber edifícios esteticamente associados à cultura do Tocantins, como o Palácio do Araguaia, cujos pórticos remetem ao capim dourado, símbolo da tradição do artesanato de alta qualidade da região.
- (D) A monumentalidade da Praça dos Girassóis é enfatizada pelo seu pavimento, que contém figuras simbólicas como o mapa do Tocantins, a rosa dos ventos, o brasão de armas e a Praça Krahô.
- (E) O meio ambiente também foi utilizado para fortalecer o sentimento identitário, inserindo o girassol, a fava-de-bolota, a arara-canindé e a granada como símbolos da natureza do Tocantins, desde a promulgação da Constituição Estadual em 1989.

39

Comparando dados dos censos do IBGE, pode-se elaborar um retrato da evolução demográfica da população residente no Estado de Tocantins. O grupo na faixa etária de 0 a 14 representava 41,7% da população em 1991, 28,8% em 2010, e passou para 24% em 2022. A população acima de 65 anos era de 3,8% em 1991 e 5,8% em 2010, e ficou em 8,6% em 2022. O censo de 2022 mostrou ainda que a faixa etária de 15 a 29 anos representa 15% da população e que 41% da população é composta por pessoas de 30 a 59 anos.

Com base no trecho, assinale a opção que apresenta a dinâmica populacional do Tocantins entre 1991 e 2022.

- (A) Expansão da base da pirâmide etária.
- (B) Diminuição da taxa de fecundidade.
- (C) Estreitamento do topo da pirâmide.
- (D) Aumento da idade mediana.
- (E) Redução do índice de envelhecimento.

40

A respeito da matriz energética do Estado e dos investimentos em biocombustíveis, analise as afirmativas a seguir e assinale (V) para a verdadeira e (F) para a falsa.

- ( ) O Estado tem condições de clima e solo desfavoráveis para o plantio de matérias-primas usadas na fabricação de biocombustíveis, mas a expansão do modal logístico (Ferrovia Norte-Sul) permitirá o acesso à soja do planalto goiano.
- ( ) O Tocantins conta com duas usinas de biodiesel em funcionamento, utilizando o pinhão-manso, a soja, a mamona e outras oleaginosas como matéria-prima.
- ( ) O Estado tem alto potencial de geração de energia solar, pela elevada irradiação solar e pelas políticas públicas voltadas para produção de energia limpa e renovável, como a Política Estadual de Incentivo à Geração e ao Uso da Energia Solar (Pró-Solar)

As afirmativas são, respectivamente,

- (A) V – F – V.
- (B) F – V – V.
- (C) F – F – V.
- (D) V – V – F.
- (E) V – V – V.

## CONHECIMENTOS ESPECÍFICOS

41

Alberto, servidor público estável ocupante de cargo efetivo na Assembleia Legislativa do Estado Beta, foi demitido por falta funcional, conforme restou decidido no bojo de processo administrativo disciplinar. Ocorre que, posteriormente, foi invalidada por sentença judicial a demissão de Alberto.

De acordo com a Constituição da República de 1988, Alberto será reintegrado, e o eventual ocupante da vaga

- (A) independentemente de ser estável ou não, será posto em disponibilidade, com remuneração proporcional ao tempo de serviço, até o prazo que possa se aposentar.
- (B) independentemente de ser estável ou não, posto em disponibilidade, com remuneração proporcional ao tempo de contribuição, até o prazo que possa se aposentar voluntariamente ou até que surja nova vaga.
- (C) se estável, aproveitado em cargo de semelhante remuneração e escolaridade, tendo o direito subjetivo de antecipar sua aposentaria em cinco anos.
- (D) se estável, reconduzido ao cargo de origem, sem direito a indenização, aproveitado em outro cargo ou posto em disponibilidade com remuneração proporcional ao tempo de serviço.
- (E) se estável, reconduzido ao cargo de origem, com direito a indenização, aproveitado em outro cargo de semelhante remuneração e escolaridade ou posto em disponibilidade com remuneração proporcional ao tempo de contribuição.



42

A Constituição pode ser compreendida como um conjunto de normas que criam e fixam competências dos principais órgãos do Estado, e disciplinam as interações e controles recíprocos entre os mesmos.

A respeito da Constituição, analise as afirmativas a seguir e assinale (V) para a afirmativa verdadeira e (F) para a falsa.

- ( ) Com base na ideia de que existem temas típicos de uma Constituição, é possível falar em normas materialmente constitucionais, o que, no entanto, recebe crítica devido à influência ideológica dominante em certo momento da história do constitucionalismo.
- ( ) As normas formalmente constitucionais são aquelas encontradas no texto da Constituição e elas só podem ser aí inseridas pelo Poder Constituinte quando materialmente constitucionais.
- ( ) A inserção de um tema como norma constitucional encontra razão, dentre outras, na concessão de maior estabilidade conferida pelo *status* constitucional, independentemente da categorização da Constituição como rígida.

As afirmativas são, respectivamente,

- (A) V – F – F.
- (B) F – F – V.
- (C) V – V – F.
- (D) F – V – V.
- (E) V – V – V.

43

A interpretação constitucional é importante matéria na busca pela compreensão do Texto Maior.

Com relação a alguns de seus princípios, analise os itens a seguir.

- I. Por conta da origem das normas constitucionais e em razão da diferenciação entre Poder Constituinte e Poderes Constituídos, o princípio da supremacia da constituição significa a ocupação de uma posição hierárquica superior pelas normas constitucionais, em relação a toda e qualquer outra norma.
- II. Devido à sua feição meramente política, da Constituição não se deve atribuir o sentido que assegure maior eficácia e força normativa às suas disposições.
- III. É possível enxergar que na operação de interpretação das leis em conformidade com a Constituição, empreende-se uma interpretação constitucionalmente guiada da norma infraconstitucional e atribui-se um sentido à norma constitucional.

Está correto o que se afirma em

- (A) I, II e III.
- (B) I e II, apenas.
- (C) I e III, apenas.
- (D) II e III, apenas.
- (E) I, apenas.

44

O Poder Constituinte Originário tem sua fundamentação assentada, sobretudo na França, no período da sua revolução liberal.

Sobre o Poder Constituinte Originário, analise as afirmativas a seguir e assinale (V) para a afirmativa verdadeira e (F) para a falsa.

- ( ) A base estrutural do Poder Constituinte Originário foi fincada na ideia de afastar a legitimação do poder na tradição, na dinastia e na vinculação de uma família ao Estado.
- ( ) É do povo, compreendido como pessoas de origem étnica ou cultural comum, que se delimita e reúne politicamente, a titularidade do Poder Constituinte Originário e, por isso, não se admite que fração dele se arvore a ser sua representação, ainda que tenha obtido um reconhecimento tal para atuar como Poder Constituinte Originário.
- ( ) Disse-se que o Poder Constituinte Originário é inicial, ilimitado e incondicionado. No entanto, é possível apontar duas objeções ao caráter ilimitado. Quanto à liberdade contra imposições vindas da ordem jurídica anterior, é preciso ressaltar a existência de limitações políticas próprias do exercício de tal poder, tais como valores éticos, religiosos e culturais de uma nação. Quanto a decisões totalitárias, existe mais uma limitação ao aludido poder, posto que a ordenação jurídica do poder do Estado se dá para a instituição de um Estado com poderes limitados.

As afirmativas são, respectivamente,

- (A) V – V – V.
- (B) V – F – V.
- (C) V – V – F.
- (D) F – F – F.
- (E) F – V – F.

45

Determinado servidor público estável, ao ser questionado sobre as disposições gerais da Lei nº 8.429/92, com a redação conferida pela Lei nº 14.230/2021, no âmbito da improbidade administrativa, respondeu corretamente que

- (A) apenas respondem por improbidade administrativa, os agentes públicos que atuem na Administração Direta e Indireta.
- (B) o mero exercício da função ou desempenho de competências públicas, sem comprovação de ato doloso com fim ilícito, é suficiente para caracterizar a responsabilidade por ato de improbidade administrativa que importa em enriquecimento ilícito.
- (C) no que se refere a recursos de origem pública, sujeita-se às sanções previstas na lei de improbidade o particular, pessoa física ou jurídica, que celebra com a administração pública convênio, contrato de repasse, contrato de gestão, termo de parceria, termo de cooperação ou ajuste administrativo equivalente.
- (D) considera-se dolo a vontade livre e consciente de alcançar o resultado ilícito tipificado como ato de improbidade, não bastando a voluntariedade do agente, salvo com relação aos atos de improbidade que importam em lesão ao erário, que podem ensejar responsabilização por negligência ou imprudência.
- (E) a possibilidade de responsabilidade sucessória restringe-se aos herdeiros da pessoa física, nos limites da herança ou do patrimônio transferido, não podendo ser aplicada na hipótese de alteração contratual, de transformação, de incorporação, de fusão ou de cisão societária.

46

Entre as características do regime jurídico administrativo, o *princípio da supremacia do interesse público* tem espaço de relevo e suscita alguns questionamentos, notadamente no âmbito do direito administrativo moderno.

É correto afirmar que se trata de

- (A) princípio absoluto da Administração Pública, expressamente consagrado na Constituição, de modo que deve sempre prevalecer no âmbito da ponderação de interesses.
- (B) princípio que não pode mais ser admitido, por não estar expresso na Constituição, considerando que o consensualismo passou a ser o eixo do direito administrativo, razão pela qual não mais se admite as cláusulas exorbitantes no âmbito dos contratos administrativos.
- (C) princípio que é inexorável à atuação administrativa, expresso na Constituição, que juntamente com o princípio da indisponibilidade do interesse público, importam na vedação de que a Administração Pública formalize instrumentos consensuais com particulares.
- (D) princípio que não é expressamente consagrado na Constituição, devendo ser ponderado com os demais princípios do ordenamento jurídico nas situações de conflito, considerando, inclusive, que, no mais das vezes, a efetivação de direitos fundamentais promove a materialização do interesse público.
- (E) princípio expresso na Constituição, que deve ser invocado para fazer prevalecer a vontade dos gestores públicos, que tem ampla discricionariedade no exercício de suas atividades, a qual encontra limites apenas na vinculação à lei.

47

O Art. 37, XXI, da CRFB/88 consagra que *ressalvados os casos especificados na legislação, as obras, serviços, compras e alienações serão contratados mediante processo de licitação pública que assegure igualdade de condições a todos os concorrentes, com cláusulas que estabeleçam obrigações de pagamento, mantidas as condições efetivas da proposta, nos termos da lei, o qual somente permitirá as exigências de qualificação técnica e econômica indispensáveis à garantia do cumprimento das obrigações*, sendo certo a matéria atinente às licitações e contratações, atualmente, tem como principal diploma a Lei nº 14.133/2021.

Nesse contexto, com relação aos contornos atinentes à contratação direta pela Administração Pública, ou seja, sem a realização de procedimento licitatório, preenchidos os requisitos estabelecidos em lei, é correto afirmar que

- (A) não é admitida pelo ordenamento nenhuma hipótese de contratação direta pela Administração Pública.
- (B) com relação às compras e às alienações a serem realizadas pelo Poder Público não há possibilidade de contratação direta.
- (C) existindo pluralidade de competidores e viabilidade de competição, é inconstitucional a norma que possibilite a contratação direta.
- (D) em situações em que há viabilidade de competição, a licitação pode ser dispensável nas hipóteses expressamente previstas em lei, em relação as quais haverá discricionariedade do administrador com relação à contratação direta.
- (E) a contratação direta pela Administração Pública é situação excepcional, de modo que apenas é admitida nas situações em que há inviabilidade de competição, taxativamente consagradas em lei.

48

Diante da intenção de implementar determinado projeto importante para o desenvolvimento econômico da localidade, o Estado Delta verificou que será necessário alterar certa unidade de conservação instituída pelo próprio ente federativo por meio de Decreto, no sentido de que deixe de ser de proteção integral e passe a ser de uso sustentável. Além disso, concluiu-se que será indispensável reduzir o espaço especialmente protegido, a importar, portanto, em sua supressão.

Diante dessa situação hipotética, é correto afirmar que

- (A) a alteração ou supressão da unidade de conservação ambiental em questão apenas pode ser realizada por lei do respectivo ente federativo.
- (B) tanto a supressão quanto a alteração da unidade de conservação ambiental em questão pode ser realizada por lei ou por decreto.
- (C) a alteração da unidade de conservação em questão pode ser realizada por lei ou por decreto do respectivo ente federativo, mas a supressão apenas pode ser efetuada por lei da União.
- (D) apesar de não ser possível a supressão ou alteração da unidade de conservação ambiental em questão por decreto, é cabível a edição de uma medida provisória do respectivo ente federativo para tais finalidades.
- (E) é viável a supressão da unidade de conservação ambiental em questão por meio de decreto, mas não a alteração do espaço ambientalmente protegido, que somente pode ser realizada por lei do respectivo ente federativo.

49

Em uma cidade do interior brasileiro, o Prefeito realizou obras em diversos bens públicos, com destaque as feitas no museu municipal, na rua principal, na maior praça da cidade e na sede da prefeitura. Contudo, sofre muitas críticas por ter deixado de fora um terreno baldio.

Com relação ao tema bens, assinale a afirmativa correta.

- (A) O museu municipal e o terreno baldio são classificados como bens dominicais.
- (B) A praça da cidade e a sede da prefeitura são classificadas como bens de uso comum.
- (C) Na classificação dos bens de uso comum, encontram-se a praça e a rua.
- (D) O terreno baldio e o museu municipal, caso a entrada seja gratuita, são considerados como bens de uso especial.
- (E) A sede da prefeitura e a rua são enquadradas pela doutrina como bem de uso comum.

50

Antônio, Tereza e Gabriela Balbuíno adquirem por meio da herança de seu pai diversas obras de arte, tornando-se condôminos de todos os bens. No mês passado, alienaram para Dorival Caribé um famoso quadro de Tarsila do Amaral. Comprometeram-se a entregar a obra de arte no dia de ontem, contudo, por culpa exclusiva, de Gabriela, o quadro foi destruído, sem possibilidade de reparo. A cláusula terceira do contrato atribui solidariedade aos devedores pela entrega do bem.

Diante da situação hipotética narrada, com base no tema obrigações, assinale a afirmativa correta.

- (A) Antônio, Tereza e Gabriela respondem pelo equivalente e as perdas e danos.
- (B) Gabriela responde exclusivamente tanto pelo equivalente, quanto pelas perdas e danos.
- (C) Antônio, Tereza e Gabriela respondem pelas perdas e danos, havendo isenção de responsabilidade pelo equivalente.
- (D) Gabriela responde exclusivamente pelo equivalente, já os outros irmãos somente pelas perdas e danos.
- (E) Antônio, Tereza e Gabriela respondem pelo equivalente, porém pelas perdas e danos somente Tereza.

51

Pedro propôs ação de procedimento comum em face do Estado *Alfa*, na qual postulou a condenação do ente estadual a implementar pensionamento mensal decorrente do óbito de sua esposa, bem como o pagamento dos valores alegadamente em atraso.

Em sede de contestação, o Estado *Alfa* não se opôs ao pedido de implementação da pensão. Todavia, impugnou especificamente os índices de juros e correção monetária dos valores em atraso requeridos por Pedro.

Com base nesse caso concreto, assinale a afirmativa correta.

- (A) O juízo poderá julgar o mérito de forma antecipada e parcial em relação ao pedido de implementação de pensão por morte, hipótese em que a decisão será impugnável por meio de agravo de instrumento.
- (B) A impugnação do Estado *Alfa* em relação ao pedido de condenação dos valores em atraso impede o julgamento antecipado de mérito, o qual somente poderá incidir sobre todo o mérito do processo.
- (C) Eventual decisão que julgar antecipadamente o pedido de concessão de pensão será objeto de execução provisória até eventual decisão sobre o pedido de pagamento dos valores em atraso, ainda que haja seu trânsito em julgado.
- (D) Não impugnado o pedido de implementação de pensão por morte, haverá incidência do efeito material da revelia em relação ao ente público, por não ter ofertado contestação em face de tal pedido.
- (E) O juiz deverá, em decisão de saneamento e organização do processo, delimitar as questões de fato sobre as quais recairá a atividade probatória, a qual necessariamente incidirá sobre o direito ao recebimento da pensão.

52

Jonas ajuizou ação de procedimento comum em face de João. O pedido foi julgado procedente, condenando João a pagar dez mil reais a título de danos materiais em favor de Jonas.

Três anos após o trânsito em julgado da última decisão proferida no processo, o Supremo Tribunal Federal declarou, em controle concentrado, a inconstitucionalidade da lei que amparou a pretensão indenizatória de Jonas. Não houve modulação dos efeitos da decisão.

Inconformado, dois meses após a decisão do Supremo Tribunal Federal, João ajuizou ação rescisória em face de Jonas, requerendo a desconstituição da decisão proferida no processo movido por Jonas.

Com base na hipótese narrada, é correto afirmar que

- (A) João teve que efetuar depósito equivalente a dez por cento sobre o valor da causa, o qual se converterá em multa caso a ação rescisória seja declarada inadmissível ou improcedente.
- (B) o relator ordenará a citação de Jonas, designando prazo de dez dias para, querendo, apresentar resposta.
- (C) João ajuizou a ação rescisória dentro do prazo decadencial previsto em lei, razão pela qual não se extinguiu o direito à rescisão da decisão proferida no processo movido por Jonas.
- (D) com a propositura da ação rescisória, a decisão rescindenda não poderá ser objeto de cumprimento de sentença, dado o efeito suspensivo automático decorrente do ajuizamento de tal ação autônoma de impugnação.
- (E) julgando procedente o pedido, o tribunal rescindir a decisão, vedado novo julgamento da causa, em toda e qualquer hipótese.

53

Sérgio transitava pela Avenida Paraíso, quando foi atingido por uma forte explosão. Foi socorrido por uma ambulância e, ao acordar no hospital com queimaduras de primeiro e segundo grau em partes do seu corpo, soube que a explosão veio de uma loja que prestava serviços de impermeabilização de sofás sem as devidas medidas de segurança.

Sérgio espera atrair a incidência das normas do Código de Defesa do Consumidor para o seu caso, de forma a facilitar o ônus da prova na busca pela indenização.

Para exercer a pretensão indenizatória, Sérgio

- (A) não pode ser considerado consumidor, pois não foi exposto à prática comercial exercida pela loja de impermeabilização de sofás.
- (B) pode ser considerado consumidor, pois, embora não tenha participado de relação de consumo, foi vítima de evento danoso desta.
- (C) pode ser considerado consumidor, pois é pessoa exposta à prática comercial abusiva.
- (D) pode ser considerado consumidor, pois era destinatário final do serviço e existia vulnerabilidade.
- (E) não pode ser considerado consumidor, pois, embora vulnerável, não era destinatário final do serviço.

54

Jerônimo trabalhava em um estabelecimento comercial situado em Araguaína-TO e sofreu um grave acidente do trabalho, ficando afastado das atividades laborais por sete meses.

Jerônimo se recuperou, mas ficou com sequelas, tendo a capacidade laborativa reduzida. O segurado em questão foi submetido a processo de reabilitação pelo INSS e, tempos depois, passou a exercer outra atividade na condição de reabilitado junto ao mesmo empregador.

De acordo com a norma de regência, assinale o benefício que Jerônimo poderá requerer da Previdência Social após seu retorno ao trabalho.

- (A) Abono de permanência no serviço.
- (B) Salário família.
- (C) Auxílio por incapacidade temporária.
- (D) Auxílio acidente.
- (E) Aposentadoria.

55

Raquel, estudante de Direito, em uma aula de Direito Previdenciário, recebeu a explicação do seu professor que a Constituição Federal de 1988 prevê que *nenhum benefício ou serviço da seguridade social poderá ser criado, majorado ou estendido sem a correspondente fonte de custeio total*.

Nesse sentido, regra constitucional explicada refere-se à

- (A) regra da seletividade e distributividade.
- (B) regra de contrapartida.
- (C) regra da diversidade da base de financiamento.
- (D) regra da noventena.
- (E) regra da equidade na forma de participação no custeio.

56

Determinada lei estadual, quando do início da sua vigência, concedeu perdão das infrações à legislação tributária, especificamente decorrentes dos créditos de IPVA já inscritos em dívida ativa.

A referida lei trata de desoneração tributária denominada

- (A) remissão.
- (B) anistia.
- (C) transação.
- (D) moratória.
- (E) isenção.

57

No âmbito da Administração Tributária, algumas informações estão protegidas sob o manto do sigilo fiscal ou bancário. No entanto, a proteção não é absoluta, admitindo-se, em caráter excepcional, a divulgação, pela Fazenda Pública, de informação obtida sobre situação econômica ou financeira do sujeito passivo. Sobre o tema, viola o sigilo fiscal ou bancário, sendo vedada a sua divulgação

- (A) a informação relativa à obtenção e deferimento de parcelamento ou moratória do sujeito passivo.
- (B) a quebra de sigilo bancário em execução fiscal, por meio do sistema BACEN-JUD, o qual viabiliza o bloqueio eletrônico de depósitos do executado, sem o exaurimento de diligências extrajudiciais por parte do exequente.
- (C) as informações relativas a representações fiscais para fins penais.
- (D) a solicitação de quebra de sigilo bancário e fiscal pelas Comissões Parlamentares de Inquérito (CPIs), quando não prescindida de justificativa adequada.
- (E) as informações relativas a incentivo, renúncia, benefício ou imunidade de natureza tributária cujo beneficiário seja pessoa jurídica.

58

Ao caminhar pela rua, João foi atingido, de inopino, por três golpes de faca, desferidos por José, sem um motivo aparente. Em razão do pronto e imediato socorro, a vítima sobreviveu, sem ostentar qualquer sequela física proveniente da empreitada delituosa. No curso do processo penal deflagrado para apurar os fatos, José narrou que algumas vezes lhe obrigaram a desferir os golpes com a arma branca. Em assim sendo, após a instauração de um incidente de insanidade mental, constatou-se que José, por força de esquizofrenia, era, ao tempo da ação, inteiramente incapaz de entender o caráter ilícito do fato.

Nesse cenário, considerando as disposições do Código Penal, é correto afirmar que José

- (A) responderá pelo crime perpetrado, mas a pena será reduzida de um sexto a dois terços, em razão da semi-imputabilidade penal.
- (B) responderá pelo crime perpetrado, mas a pena será reduzida de um a dois terços, em razão da semi-imputabilidade penal.
- (C) é isento de pena, em razão da inimputabilidade penal, causa de exclusão de ilicitude.
- (D) é isento de pena, em razão da inimputabilidade penal, causa justificante.
- (E) é isento de pena, em razão da inimputabilidade penal, causa dirimente.

59

João, maior e capaz, aproveitando-se de que a residência do seu vizinho estava vazia, ingressou no local e subtraiu, sem violência ou grave ameaça à pessoa, mil reais em espécie. Ao retornar ao seu domicílio, o agente se deparou com os seus genitores trabalhando de forma árdua para garantir o sustento da família. Dessa forma, tocado pela atitude dos pais, João restituiu os valores pecuniários aos legítimos proprietários, antes da deflagração de qualquer investigação em seu desfavor.

Nesse cenário, considerando as disposições do Código Penal, é correto afirmar que a reprimenda de João, na persecução penal superveniente, será reduzida, em razão

- (A) do arrependimento posterior, que é uma causa de diminuição de pena.
- (B) do arrependimento eficaz, que é uma causa de diminuição de pena.
- (C) do arrependimento posterior, que é uma atenuante.
- (D) do arrependimento eficaz, que é uma atenuante.
- (E) da desistência voluntária, que é uma atenuante.

60

No curso de uma persecução penal deflagrada para apurar um suposto crime de latrocínio tentado, a vítima, por intermédio de um advogado, intervém como assistente de acusação, em observância às formalidades legais. Nesse contexto, o ofendido e o advogado contratado debatem sobre os poderes do assistente de acusação, em especial sobre a possibilidade ou não de se propor meios de prova, requerer perguntas às testemunhas, participar do debate oral e arrazoar os recursos interpostos pelo Ministério Público.

Nesse cenário, considerando as disposições do Código de Processo Penal, é correto afirmar que o assistente de acusação poderá

- (A) requerer perguntas às testemunhas e participar do debate oral, não se admitindo que proponha meios de prova ou arrazoe os recursos interpostos pelo Ministério Público.
- (B) requerer perguntas às testemunhas e arrazoar os recursos interpostos pelo Ministério Público, não se admitindo que participe do debate oral ou proponha meios de prova.
- (C) propor meios de prova, requerer perguntas às testemunhas e participar do debate oral, não se admitindo que arrazoe os recursos interpostos pelo Ministério Público.
- (D) propor meios de prova e requerer perguntas às testemunhas, não se admitindo que participe do debate oral ou arrazoe os recursos interpostos pelo Ministério Público.
- (E) propor meios de prova, requerer perguntas às testemunhas, participar do debate oral e arrazoar os recursos interpostos pelo Ministério Público.

61

No curso de um processo deflagrado para apurar, em tese, o crime de roubo circunstanciado pelo emprego de arma de fogo, o juiz, após a oitiva das partes, reconheceu a prescrição da pretensão punitiva estatal, extinguindo a punibilidade do réu, na forma da lei. Nada obstante, o Ministério Público discordou dos marcos temporais empregados pelo juízo para reconhecer a prescrição, motivo pelo qual pretende interpor o recurso cabível na espécie.

Nesse cenário, considerando as disposições do Código de Processo Penal, é correto afirmar que o Ministério Público interporá

- (A) recurso em sentido estrito.
- (B) carta testemunhável.
- (C) recurso inominado.
- (D) correição parcial.
- (E) apelação.

62

*Curtume Palmeirante Ltda.*, com sede em Talismã, sacou duplicata escritural em face de *Combinado, Sampaio e Tabocão Ltda.* por conta de venda de produtos da primeira sociedade a segunda. O valor da duplicata é de R\$87.000,00 (oitenta e sete mil reais) e o vencimento foi à vista.

Considerados esses dados e as disposições legais sobre a duplicata escritural, é correto afirmar que

- (A) a duplicata escritural à vista não está sujeita a endosso, mas pode ser transferida por cessão eletrônica de crédito e ter seu pagamento garantido por aval.
- (B) a emissão de duplicata sob a forma escritural é feita mediante lançamento em sistema eletrônico de escrituração gerido por quaisquer das entidades que exerçam a atividade de escrituração de duplicatas escriturais.
- (C) a apresentação da duplicata escritural à vista ao sacado será efetuada por meio eletrônico, no prazo de 5 (cinco) dias úteis contados de sua emissão.
- (D) o sacado poderá aceitar ou recusar o aceite na duplicata à vista no prazo de 10 (dez) dias contado do dia de sua apresentação no sistema de escrituração de duplicatas.
- (E) a duplicata emitida sob a forma escritural ou o extrato emitido pelo sacador com base no livro de registro de duplicatas são títulos executivos extrajudiciais.

63

De acordo com o Código Civil e em relação à caracterização, inscrição e capacidade do empresário individual, analise as afirmativas a seguir.

- I. A inscrição do empresário individual na Junta Comercial é uma exigência dispensável para sua caracterização.
- II. Desde que haja prévia autorização judicial, após exame das circunstâncias e dos riscos da empresa, bem como da conveniência em continuá-la, o incapaz poderá, por meio de representante ou devidamente assistido, continuar a empresa antes exercida por ele enquanto capaz, por seus pais ou pelo autor de herança.
- III. Não se considera empresário, em qualquer situação, quem exerce profissão intelectual, de natureza científica, literária ou artística, ainda com o concurso de auxiliares ou colaboradores.

Está correto o que se afirma em

- (A) I, II e III.
- (B) II, apenas.
- (C) I e II, apenas.
- (D) III, apenas.
- (E) I e III, apenas.

64

Em uma empresa com 50 empregados, situada em Gurupi-TO, ocorreram os seguintes episódios na semana em curso:

- o empregado Carlos marcou na entrada o seu cartão de ponto e o do colega de trabalho Claudio, que não estava na empresa mas pediu esse favor porque chegaria mais tarde; Jerusa apresentou um atestado médico falso para abono de dois dias de faltas;
- Pedro agrediu verbalmente o seu colega de trabalho Fernando, que exerce a mesma função, quando ambos por acaso se encontraram no final de semana no Shopping Gurupi e se desentenderam;
- Luísa foi flagrada fumando cigarro, malgrado saber que na empresa é proibido fumar em razão dos materiais inflamáveis que lá existem, já tendo sido advertida e suspensa anteriormente pelo mesmo motivo.

Considerando essas hipóteses e o que prevê a CLT, assinale a opção que contempla os empregados que poderão ser dispensados por justa causa.

- (A) Jerusa, Carlos, Pedro, Claudio, Luísa e Fernando.
- (B) Carlos, Jerusa e Pedro, apenas.
- (C) Claudio, Pedro, Carlos e Luísa, apenas.
- (D) Jerusa e Carlos, apenas.
- (E) Luísa, Carlos, Jerusa e Claudio, apenas.

65

Na 10ª Vara do Trabalho de Dianópolis/TO tramitam duas reclamações trabalhistas contra uma sociedade empresária local. Em uma delas, o reclamante Pedro busca o pagamento de R\$8.000,00 pelas verbas resilitórias não pagas e, na outra demanda, o reclamante Walter persegue o pagamento de horas extras e reflexos, tendo atribuído à causa o valor de R\$90.000,00. Há ainda, na mesma Vara do Trabalho, um inquérito judicial movido pela mesma sociedade empresária contra Karina, uma dirigente sindical que teria praticado falta grave.

Considerando os procedimentos referentes a cada um dos processos, e de acordo com a CLT, assinale a afirmativa correta.

- (A) Na ação de Karina cada parte poderá indicar até três testemunhas e nas de Pedro e Walter, até duas.
- (B) Em todas as ações cada parte poderá indicar até três testemunhas.
- (C) Na ação de Pedro cada parte poderá indicar até duas testemunhas, na de Karina não há limite e na de Walter, até três.
- (D) Na ação de Walter cada parte poderá indicar até três testemunhas, na de Karina até 6 e na de Pedro, até duas.
- (E) Na ação de Karina e Pedro cada parte poderá indicar até duas testemunhas e na de Walter, até três.

## LEGISLAÇÃO INSTITUCIONAL

66

Antônio foi nomeado para o cargo de Controlador Interno da Assembleia Legislativa de Tocantins.

À luz da Lei nº 4.209/2023, que dispõe sobre a estrutura administrativa da Aletto, durante o exercício da função, Antônio será competente para:

- (A) opinar, conclusivamente, em processos de direitos, deveres e obrigações dos servidores do Poder Legislativo.
- (B) constituir Comissão Permanente de Licitação.
- (C) examinar a observância das normas de licitações.
- (D) apresentar à Mesa Diretora o balancete mensal e, no início de cada exercício, o balancete geral das contas da Assembleia Legislativa, relativo ao exercício anterior.
- (E) planejar, coordenar, orientar, controlar e dirigir as atividades administrativas, orçamentárias, financeiras, de comunicação social, de tecnologia de informação e de apoio legislativo da Assembleia Legislativa.

67

Nos termos da Constituição do Estado do Tocantins, constitui objeto de lei complementar a seguinte matéria:

- (A) os prazos de prescrição para ilícitos praticados por qualquer agente, servidor ou não, que causem prejuízos ao erário.
- (B) os limites de idade, a estabilidade e outras condições de transferência do servidor militar para a inatividade.
- (C) os casos de contratação por tempo determinado para atender à necessidade temporária de excepcional interesse público.
- (D) as regras para cálculo de proventos de aposentadoria e pensão por morte.
- (E) os requisitos e as restrições ao ocupante de cargo ou emprego da administração direta e indireta que possibilite o acesso a informações privilegiadas.

**68**

Considerando o exercício da função legislativa por parte da Assembleia Legislativa de Tocantins, nos termos de seu Regimento Interno, é correto afirmar que

- (A) projetos de lei delegada podem se destinar a regular as matérias de exclusiva competência do Poder Executivo, com a sanção do Governador do Estado.
- (B) projetos de resolução podem se destinar a regular, com eficácia de lei ordinária, matéria de competência privativa da Assembleia Legislativa.
- (C) projetos de lei complementar visam regular matéria infraconstitucional.
- (D) projetos de lei têm por objetivo regular matérias de competência do Poder Legislativo, sem a sanção do Governador do Estado.
- (E) projetos de decreto legislativo destinam-se à delegação de competência, na forma estabelecida na Constituição Estadual.

**69**

Aline, servidora pública estadual, revelou segredo do qual se apropriou em razão do cargo que ocupa. A Administração Pública, ao tomar conhecimento do fato, instaurou procedimento administrativo disciplinar a fim de apurar a conduta e garantir à servidora os princípios da ampla defesa e do contraditório.

À luz do Estatuto dos Servidores Públicos Cíveis do Estado do Tocantins, caso punida, Aline poderá ser sancionada com

- (A) advertência.
- (B) suspensão.
- (C) prestação de serviço.
- (D) multa.
- (E) demissão.

**70**

Ana, servidora pública efetiva e estável, ocupante de cargo de nível superior, objetivando inteirar-se sobre os requisitos para a progressão na carreira, consultou a Lei nº 4.208/2023, que trata sobre o plano de cargos, carreiras e remuneração dos Servidores da Assembleia de Tocantins.

Assim, para fazer jus à progressão, Ana terá que

- (A) possuir no máximo três faltas injustificadas por exercício referente ao período avaliado.
- (B) obter conceito igual ou superior a 70% (setenta por cento) dos pontos possíveis em todos os procedimentos de sua Avaliação.
- (C) concluir curso de pós-graduação *lato sensu* com duração mínima de 360 (trezentos e sessenta) horas.
- (D) cumprir trinta meses de efetivo exercício na classe em que se encontra.
- (E) concluir cursos de aperfeiçoamento em sua área de atuação que tenha, no mínimo, 80 (oitenta) horas de duração.



# ASSEMBLEIA LEGISLATIVA DO ESTADO DO TOCANTINS

CONCURSO PÚBLICO – EDITAL Nº 01/2023

## PROVA OBJETIVA – TARDE

### ANALISTA LEGISLATIVO DIREITO

NÍVEL SUPERIOR – TIPO 3 – AMARELA



#### SUA PROVA

- Além deste caderno contendo **70 (setenta)** questões objetivas, você receberá do fiscal de prova o cartão de respostas;
- As questões objetivas têm **5 (cinco)** opções de resposta (A, B, C, D) e somente uma delas está correta.



#### TEMPO

- Você dispõe de **5 (cinco) horas** para a realização da prova, já incluído o tempo para a marcação do cartão de respostas;
- **3 (três) horas** após o início da prova, é possível retirar-se da sala, sem levar o caderno de questões;
- A partir dos **30 (trinta) minutos** anteriores ao término da prova é possível retirar-se da sala **levando o caderno de questões**.



#### NÃO SERÁ PERMITIDO

- Qualquer tipo de comunicação entre os candidatos durante a aplicação da prova;
- Anotar informações relativas às respostas em qualquer outro meio que não seja o caderno de questões;
- Levantar da cadeira sem autorização do fiscal de sala;
- Usar o sanitário ao término da prova, após deixar a sala.



#### INFORMAÇÕES GERAIS

- Verifique se seu caderno de questões está completo, sem repetição de questões ou falhas. Caso contrário, **notifique imediatamente o fiscal da sala**, para que sejam tomadas as devidas providências;
- Confira seus dados pessoais, especialmente nome, número de inscrição e documento de identidade e leia atentamente as instruções para preencher o cartão de respostas;
- Para o preenchimento do cartão de respostas, use somente caneta esferográfica, fabricada em material transparente, com tinta preta ou azul;
- Assine seu nome apenas no(s) espaço(s) reservado(s) no cartão de respostas;
- Confira seu cargo, cor e tipo do caderno de questões. Caso tenha recebido caderno de cargo ou cor ou tipo **diferente** do impresso em seu cartão de respostas, o fiscal deve ser **obrigatoriamente** informado para o devido registro na ata da sala;
- Reserve tempo suficiente para o preenchimento do seu cartão de respostas. O preenchimento é de sua responsabilidade e **não será permitida a troca do cartão de respostas em caso de erro cometido pelo candidato**;
- Para fins de avaliação, serão levadas em consideração apenas as marcações realizadas no cartão de respostas;
- A FGV coletará as impressões digitais dos candidatos na lista de presença;
- Os candidatos serão submetidos ao sistema de detecção de metais quando do ingresso e da saída de sanitários durante a realização das provas.
- **Boa prova!**



## CONHECIMENTOS BÁSICOS

### Língua Portuguesa

1

Os adjetivos podem representar estados, qualidades, características e relações.

Assinale a frase que mostra um tipo de adjetivo **diferente** dos demais.

- (A) Nunca houve criança tão amável que a própria mãe não ficasse satisfeita ao conseguir adormecê-la.
- (B) Nada mais perversamente cruel que uma adorável criança.
- (C) Mesmo estando doentes, as crianças não ficam caladas.
- (D) Quando as crianças estão quietas é porque fizeram alguma coisa errada.
- (E) As tangerinas verdes não amadurecem fora do pé.

2

Assinale a frase em que o adjetivo sublinhado mostra uma função sintática **diferente** das demais.

- (A) Por fora bela viola, por dentro pão bolorento.
- (B) Tiradentes, heroico, tentou organizar uma revolução.
- (C) Um rosto bonito altera-se depressa.
- (D) Eu não podia acreditar que existem múmias tão lindas.
- (E) Um homem belo é um homem insignificante.

3

Assinale a frase que mostra a palavra *mais* numa classe gramatical **diferente** das demais.

- (A) O mercado está prisioneiro de mais um círculo vicioso: piora porque piorou e porque piorou, piora.
- (B) Os ingleses conquistaram o mundo porque não aguentavam mais a própria cozinha.
- (C) Quanto mais vejo o estrangeiro, mais amo a minha pátria.
- (D) Não é mais possível aprender tudo de cor. Um homem instruído não é mais o homem que sabe muitas coisas; é o homem que sabe onde buscar informações.
- (E) Muda-se mais facilmente de religião do que de café

4

Assinale a frase que **não** expressa uma noção de tempo abstrato.

- (A) Nas asas do tempo, a tristeza voa.
- (B) Quem mata o tempo não é assassino, é suicida.
- (C) O tempo perdido não se encontra nunca mais.
- (D) O tempo é o melhor professor. Infelizmente, ele mata todos os seus estudantes
- (E) O tempo gasto na viagem foi de duas horas.

5

Assinale a opção que mostra uma impropriedade léxica, ou seja, um emprego **inadequado** da expressão “cerca de”.

- (A) Havia cerca de três dúzias de convidados no final da festa.
- (B) Chegaram cerca de 100 cartas no mesmo dia.
- (C) Cerca de 18 lojas fecharam as portas mais cedo.
- (D) Os cantores receberam cerca de uma centena de convites.
- (E) A plantação produziu cerca de uma tonelada de legumes.

6

John Steinbeck, prêmio Nobel, declarou o seguinte:

*O homem é o único animal que bebe sem ter sede, come sem ter fome e fala sem ter nada a dizer.*

Em relação ao significado e à estruturação desse pequeno texto, assinale a afirmativa **incorreta**.

- (A) A frase ficaria mais enfática se invertêssemos a posição do termo inicial: O único animal que bebe sem ter sede, come sem ter fome e fala sem ter nada a dizer é o homem.
- (B) A inversão de alguns segmentos do texto em nada modificaria o sentido da frase: O homem é o único animal que come sem ter fome, bebe sem ter sede e fala sem ter nada a dizer.
- (C) Os segmentos finais do texto mostram preocupação com rigoroso paralelismo sintático.
- (D) Segundo a opinião do autor do texto, a marca principal do homem é a irracionalidade.
- (E) Nem todas as ações citadas como marcas humanas estão presentes, por oposição, nos outros animais.

7

Muitas palavras portuguesas mostram o prefixo A- sem qualquer valor semântico, sendo equivalentes ao mesmo vocábulo sem esse prefixo.

Assinale a palavra a seguir que exemplifica esse A protético.

- (A) amostrar
- (B) abraçar
- (C) atenuar
- (D) aguardar
- (E) aparar

8

Um guitarrista americano produziu o seguinte pensamento:

*O crítico de rock é alguém que não sabe escrever, entrevistando gente que não sabe falar, para gente que não sabe ler.*

Sobre a estruturação ou a significação desse pequeno texto, assinale a afirmativa **incorreta**.

- (A) O termo “de rock” funciona como complemento nominal do termo anterior.
- (B) Todos os elementos da cadeia comunicativa citados no texto são marcados pela ignorância.
- (C) O pensamento acima revela um preconceito fortíssimo contra os amantes de rock.
- (D) A opinião expressa no texto pode advir da experiência pessoal do autor, já que se trata de um guitarrista.
- (E) A injustiça desse texto provém de ser uma opinião fundamentada em uma autoridade duvidosa.

9

Observe o seguinte texto:

*A felicidade depende da habilidade que tenhamos naquelas atividades que consideramos importantes: somente se lhes damos um real valor aos pequenos detalhes cotidianos, poderemos ter instantes felizes. A felicidade absoluta não existe, e já que só podemos acessar os pequenos detalhes daquilo que nos interessa, devemos contentar-nos com isso. Por isso, a infelicidade é um sinal claro de nossa incompetência na arte de viver.*

Sobre a estrutura e a significação desse texto, assinale a afirmativa **inadequada**.

- (A) O tema do texto gira em torno do que consiste a felicidade e o que viria a ser o seu oposto.
- (B) A afirmação de que “A felicidade absoluta não existe” é de cunho pessoal do autor do texto, representando uma opinião.
- (C) O raciocínio utilizado na estruturação argumentativa é do tipo dedutivo.
- (D) O conector “Por isso” mostra a preocupação com o caráter lógico da argumentação.
- (E) A tese do texto é a de que a infelicidade é fruto de nossa incompetência na arte de viver.

10

Observe o seguinte texto:

*Quando entrei no terrível vagão, ele estava ocupado por duas pessoas. Uma, dobrada, coberta, dormia profundamente. A coberta superior estava manchada, de fundo amarelado, como pele de leopardo. Vendem-se muitas mantas assim nas lojas de artigos de viagens, mas pude notar logo depois que se tratava realmente da pele de um animal selvagem; do mesmo modo, o bonê da pessoa adormecida me pareceu ser de feltro branco bastante delicado. O outro viajante, uma aparência simpática, parecia ter passado dos trinta anos e mostrava-se como figura insignificante que passa confortavelmente as noites em estradas de ferro.*

Nesse fragmento textual, para criar sinais de história realista e verdadeira, o narrador apela para a seguinte estratégia:

- (A) seleciona uma situação banal da qual não precisa fornecer muitos detalhes, exatamente por sua banalidade.
- (B) fornece algumas marcas caracterizadoras dos dois personagens presentes no texto, destacando sua banalidade.
- (C) indica traços descritivos do ambiente, mostrando-o como se nada houvesse nele de excepcional.
- (D) mostra detalhes variados e bastante pitorescos dos objetos descritos.
- (E) dá ao leitor informações sobre personagens e ambiente, mostrando-os como bastante conhecidos do narrador.

11

Assinale a frase em que a utilização do acento grave indicativo da crase é realizada de forma **errada**.

- (A) Jamais alguém se arrependeu de ter-se acostumado à madrugar e à ter-se casado jovem.
- (B) Tempo é o suspiro de adeus do sol à terra.
- (C) Saio todos os dias às cinco horas e não permito que o meu trabalho interfira no meu jogo de tênis.
- (D) O momento de extrair uma lição da história está sempre à mão para os sábios.
- (E) Quando assumi, quatro anos atrás, estávamos à beira do precipício.

12

As frases a seguir mostram termos ligados pela conjunção OU.

Assinale a frase em que essa conjunção mantém o valor de alternativa (e não de adição).

- (A) João ou Pedro deve ser eleito presidente da empresa.
- (B) A alegria ou a tristeza fazem parte da vida.
- (C) Inglês ou francês são idiomas falados pelos turistas
- (D) Os clientes leem livros ou revistas enquanto esperam.
- (E) Vasco ou Flamengo são times de longa tradição.

## Raciocínio Lógico Matemático

13

As filhas de Nepomuceno têm 5 e 9 anos de idade. Ele dividirá R\$420,00 entre elas de forma inversamente proporcional às suas idades.

Logo

- (A) a mais nova receberá R\$120,00 a mais que a mais velha.
- (B) a mais nova receberá R\$150,00 a mais que a mais velha.
- (C) a mais nova receberá R\$270,00 a mais que a mais velha.
- (D) a mais velha receberá R\$120,00 a mais que a mais nova.
- (E) a mais velha receberá R\$150,00 a mais que a mais nova.

14

Marcelo está parado de frente para uma das paredes de uma sala quadrada. Nesta posição, ele está a 1m e 20cm da parede que se encontra à sua direita e a 1m e 70cm da parede que está às suas costas.

Ele, então, se desloca paralelamente às paredes da sala sendo 40cm para a frente e 80cm para a direita. Nessa nova posição, ele passou a distar 1m e 90cm da parede que antes estava à sua esquerda.

Desprezando-se as dimensões de Marcelo, a sua atual distância à parede que, antes dos movimentos, estava à sua frente, é

- (A) 20cm.
- (B) 30cm.
- (C) 40cm.
- (D) 50cm.
- (E) 60cm.

15

A negação da proposição:

$$\text{Se } y \neq 0, \text{ então } x > 2 \text{ e } x \leq 5$$

é dada por

- (A) Se  $y = 0$ , então  $x > 2$  e  $x \leq 5$
- (B) Se  $y = 0$ , então  $x < 2$  ou  $x \geq 5$
- (C)  $y = 0$  e  $x \leq 2$  ou  $x > 5$
- (D)  $y \neq 0$  e  $x \leq 2$  ou  $x > 5$
- (E)  $y \neq 0$  e  $x \leq 2$  e  $x > 5$

**16**

A linha de produção de certa fábrica produz 1100 latas de sardinhas a cada hora. Certo dia, por um defeito de calibragem do sistema, entre 13h e 14h, o volume de produção foi reduzido em 30% durante exatos 12 minutos.

A quantidade de latas de sardinhas produzidas no intervalo supracitado foi

- (A) 946.
- (B) 964.
- (C) 1022.
- (D) 1034.
- (E) 1046.

**17**

Um dado é dito comum quando tem a forma de um cubo e suas 6 faces são numeradas de 1 a 6, de tal forma que a soma dos números estampados em faces opostas, quaisquer que sejam elas, sempre somam 7.

Quando um dado comum é lançado, diz-se que o resultado do lançamento é o número estampado na face voltada para cima.

Um dado foi lançado 3 vezes seguidas. Se o produto dos resultados obtidos nos lançamentos vale 75, a soma desses resultados é igual a

- (A) 12.
- (B) 13.
- (C) 14.
- (D) 15.
- (E) 16.

**18**

Certo programa de rádio tem 1 hora e 55 minutos de duração. A partir do momento em que o programa é iniciado, há blocos temáticos de 7 minutos intercalados por blocos de propagandas de 2 minutos.

Em todos os blocos de propaganda, ouve-se o comercial do restaurante R, que sempre dura 18 segundos.

Se o programa começa e termina com um bloco temático, então, o tempo total do programa dedicado ao anúncio do restaurante R é

- (A) 3 minutos e 54 segundos.
- (B) 3 minutos e 36 segundos.
- (C) 3 minutos e 18 segundos.
- (D) 3 minutos.
- (E) 2 minutos e 48 segundos.

**19**

Em certo ano, o dia 1º de agosto cai em um domingo. Logo, o dia 1º de novembro cairá em

- (A) um sábado.
- (B) um domingo.
- (C) uma segunda-feira.
- (D) uma quarta-feira.
- (E) uma sexta-feira.

**20**

Em uma caixa, há muitas canetas esferográficas. Classificadas conforme a cor, elas podem ser azuis, vermelhas ou pretas. Classificadas quanto à espessura da esfera, elas podem ser de ponta fina ou de ponta grossa.

Metade das canetas vermelhas tem a ponta grossa. A quantidade total de canetas pretas é igual à quantidade total de canetas vermelhas. Entre as canetas de ponta grossa, a quantidade de azuis é igual à de pretas. A quantidade de canetas azuis com ponta fina é o dobro da quantidade de canetas pretas de ponta grossa.

Se, nessa caixa, 18 são azuis e 20 têm ponta grossa, então a quantidade total de canetas na caixa é

- (A) 30.
- (B) 40.
- (C) 48.
- (D) 50.
- (E) 52.

**21**

Considere a seguinte proposição condicional:

*Se todos os alunos da Escola Aristarco gostam de matemática, então, ao menos um deles ganha medalha na Olimpíada Nacional de Matemática.*

Se essa proposição é verdadeira, é correto afirmar que

- (A) se nenhum dos alunos da Escola Aristarco gosta de Matemática, então nenhum deles ganha medalha na Olimpíada Nacional de Matemática.
- (B) se todos os alunos da Escola Aristarco ganham medalha na Olimpíada Nacional de Matemática, então, todos esses alunos gostam de Matemática.
- (C) se algum aluno da Escola Aristarco ganha medalha na Olimpíada Nacional de Matemática, então todos esses alunos gostam de Matemática.
- (D) se nenhum aluno da Escola Aristarco ganha medalha na Olimpíada Nacional de Matemática, então nenhum desses alunos gosta de Matemática.
- (E) se nenhum aluno da Escola Aristarco ganha medalha na Olimpíada Nacional de Matemática, então algum desses alunos não gosta de Matemática.

22

Tucídides possuía uma dívida e, em vez de quitá-la, pagou apenas 20% do seu valor, deixando o restante para ser quitado em data futura, com acréscimo de 12% a título de juros sobre o saldo devedor.

No ato de quitação, Tucídides pagou R\$2.329,60. Logo, o valor original da dívida é o resultado da seguinte expressão:

(A)  $2.329,60 \times 0,88 - 20$

(B)  $\frac{2.329,60}{0,88} \times 1,20$

(C)  $\frac{2.329,60}{1,12} \times 1,20$

(D)  $\frac{2.329,60}{1,12 \times 1,20}$

(E)  $\frac{2.329,60}{1,12 \times 0,8}$

## Atualidades

23

A França se tornou o primeiro país do mundo a incluir na Constituição a liberdade de a mulher abortar. A mudança na Carta Magna foi aprovada em uma sessão conjunta das duas Casas legislativas, a Assembleia Nacional e o Senado, e será promulgada pelo presidente Emmanuel Macron ainda em março de 2024.

Adaptado de <https://www1.folha.uol.com.br/mundo/2024/03/>

Diferentemente da França, a legislação brasileira

- (A) equipara o aborto ao infanticídio.
- (B) considera o aborto uma prática ilegal em todas as situações.
- (C) descriminaliza a interrupção da gravidez em caso de deficiência da gestante.
- (D) estabelece um limite temporal para interromper a gravidez, desde que respaldada por laudo médico.
- (E) autoriza a interrupção de gestação em caso de não haver outro meio de salvar a vida da gestante.

24

Assinale a afirmativa que descreve corretamente um aspecto do panorama global da economia em 2023.

- (A) Nos Estados Unidos, a economia foi alavancada pela adoção de uma política de ampliação do crédito e baixa da taxa de juros.
- (B) Na China, o PIB cresceu acima do esperado, em um cenário marcado pela retomada econômica pós pandemia, inclusive no setor imobiliário.
- (C) Na Zona do Euro, a alta dos preços da energia pesou nas despesas familiares e no setor industrial, confirmando a manutenção de um quadro de crise.
- (D) Na Rússia, o PIB decresceu, em função do impacto prolongado da guerra com a Ucrânia e dos embargos à venda de petróleo e gás russos.
- (E) Na América do Sul, foi mantido um caminho geral de crescimento, apoiado por investimentos externos e pela intensificação de políticas estatistas.

25

No início do ano corrente, a Petrobras anunciou ter alcançado em 2023 o segundo maior valor de lucro líquido de sua história. Mesmo assim, suas ações caíram no mercado financeiro, em função da disputa sobre os dividendos.

A respeito dos resultados financeiros da Petrobras nos últimos anos e da política de distribuição de dividendos da empresa, assinale a afirmativa correta.

- (A) A Petrobras é uma empresa estatal de economia mista que monopoliza a indústria petroleira no Brasil.
- (B) A Petrobras é uma estatal administrada diretamente por órgãos governamentais que controlam o valor das suas ações.
- (C) A Petrobras direciona parte dos dividendos para investidores privados, e outra parte para o governo federal, que controla a empresa via Tesouro e BNDES.
- (D) A Petrobras, sob o Governo Bolsonaro, reduziu o pagamento de dividendos a acionistas privados para reinvesti-los em energia renovável.
- (E) A Petrobras, no atual governo, vendeu ativos e distribuiu o lucro e os valores recordes de dividendos entre seus acionistas para financiar projetos do BNDES.

26

Energia gerada por recursos naturais renováveis que, no Brasil, provém da lenha, carvão vegetal, carvão mineral, bagaço de cana e outros resíduos combustíveis. Essa energia é a matéria orgânica vegetal ou animal usada como fonte de energia limpa e sustentável.

O trecho descreve o seguinte componente importante do desenvolvimento sustentável:

- (A) compostagem.
- (B) biodiversidade.
- (C) créditos de carbono.
- (D) ciclo de vida.
- (E) biomassa.

27

As afirmativas a seguir descrevem corretamente o desempenho da economia brasileira em 2023, à exceção de uma. Assinale-a.

- (A) A expansão econômica ampliou a geração de empregos informais, em um contexto recessivo e de flexibilização das leis trabalhistas.
- (B) O dinamismo da economia foi marcado pelo aumento de exportações, no setor agrícola, e da demanda, no setor de serviços, em função da alta no consumo das famílias.
- (C) A alta progressiva nas cotações internacionais de commodities acelerou o ritmo das exportações, mesmo em um cenário cambial desfavorável para os exportadores.
- (D) A retração do Brasil no mercado regional e internacional ocorreu em função da maior competitividade dos produtos agrícolas argentinos e pela retomada da economia chinesa.
- (E) A persistência do alto nível da inflação foi ocasionada pela alta da cesta básica, sobretudo dos alimentos, cujas safras foram afetadas pelas condições climáticas adversas.

28

Em 2024, o Tribunal Superior Eleitoral (TSE) aprovou uma resolução para regulamentar o uso da inteligência artificial (IA) durante as eleições municipais a serem realizadas em outubro. A norma proíbe manipulações de conteúdo falso para criar ou substituir imagem ou voz de candidato com objetivo de prejudicar ou favorecer candidaturas. Também foi aprovada a restrição do uso de chatbots humanizados e avatares para intermediar a comunicação das campanhas com pessoas reais nas redes sociais.

Adaptado de <https://agenciabrasil.ebc.com.br>

A resolução sobre IA objetiva

- (A) coibir a produção e circulação de *deepfakes*.
- (B) restringir o uso de ferramentas de IA simbólica.
- (C) retomar a veiculação de propagandas eleitorais em mídias tradicionais, como rádio e televisão.
- (D) proibir o uso de ferramentas de coleta e seleção em bases de dados com fins eleitorais.
- (E) limitar o uso de assistente virtual programado por AI para divulgação do programa partidário.

29

De acordo com o censo demográfico de 2022 (IBGE), mais da metade da população brasileira (51,13%) é feminina, e elas representam, segundo o Tribunal Superior Eleitoral, 53% do eleitorado. No entanto, elas ocupam, hoje, menos de 15% dos cargos eletivos.

A respeito da baixa participação das mulheres na política, assinale a afirmativa que apresenta um dispositivo existente na legislação brasileira para alterar esse cenário.

- (A) Reserva de pelo menos 50% dos recursos do Fundo Especial de Financiamento de Campanha, o Fundo Eleitoral, para financiar candidaturas femininas.
- (B) Suspensão dos direitos eleitorais aos partidos em caso de não observância do percentual de pelo menos 30% de candidatas mulheres em cada ciclo eleitoral
- (C) Reserva de assentos, em ambas as casas legislativas, para mulheres, com preferência para as representantes de povos originários.
- (D) Cota de gênero, que obriga cada partido ou coligação a preencher o mínimo de 30% e o máximo de 70% de candidaturas de cada sexo.
- (E) Repasse de até 30% dos recursos dos Fundos Partidário para custear o tempo da propaganda eleitoral gratuita de candidatas em rádio e televisão.

30

Dados da última década mostram que, em relação aos Estados, o Pará é o que apresenta o maior número de registros de resgates de trabalho análogo à escravidão, com 9.853, seguido por Mato Grosso (4.302); Tocantins (2.896); São Paulo (1.529) e Rio de Janeiro (1.653), em 2017.

Adaptado de <https://www.jota.info/justica/em-14-anos-434-mil-foram-resgatados-de-trabalho-escravo-30102017>

A respeito da definição moderna de escravidão, analise as afirmativas a seguir.

- I. Em Tocantins, a maior incidência de escravidão moderna ocorre na zona rural, associada a atividades agropecuárias e ao extrativismo mineral, como nas carvoarias, por exemplo.
- II. A Organização Internacional do Trabalho determina a condição de escravidão por uma série de componentes, como o trabalho forçado análogo ao de escravo e o casamento forçado.
- III. Pessoas obrigadas a trabalhar por dívida ou por ameaça, sem direitos trabalhistas garantidos estão em situação de escravidão, uma vez que lhes é impedida a liberdade de ir e vir.

Está correto o que se afirma em

- (A) I, apenas.
- (B) I e II, apenas.
- (C) I e III, apenas.
- (D) II e III, apenas.
- (E) I, II e III.

31

Desde os anos 2000, o interior do Brasil ultrapassou o litoral na incidência de dengue. A região costeira que vai de Santos, em São Paulo, até Belém, no Pará, apresentava tipicamente maior proporção de casos de dengue em comparação com sua população. Entretanto, recentemente, o oeste do Paraná, o oeste de Santa Catarina o oeste de São Paulo, o interior de Minas Gerais, uma parte do Tocantins, o Goiás e o Mato Grosso do Sul viram a transmissão da doença aumentar e muitas de suas cidades foram obrigadas a decretar emergência.

Adaptado de <https://www.estadao.com.br>

A respeito dos fatores relacionados ao aumento e à interiorização dos casos de dengue no Brasil, analise as afirmativas a seguir.

- I. A maior frequência de períodos com temperaturas acima da média, inclusive com ondas de calor no período invernal em todo território, tem reforçado o padrão sazonal da doença.
- II. A expansão urbana desvinculada de melhoras nos serviços sanitários tem propiciado a formação de ilhas de calor e, portanto, uma alta na incidência da dengue.
- III. O desmatamento do cerrado, convertido em pasto, por exemplo, tem contribuído para aumentar a temperatura média e o número de casos da doença no interior do Brasil.

Está correto o que se afirma em

- (A) I, apenas.
- (B) I e II, apenas.
- (C) I e III, apenas.
- (D) II e III, apenas.
- (E) I, II e III.

32

Um supercomputador consiste em milhares de pequenos computadores chamados nós. Cada nó é equipado com sua própria memória e com vários processadores. Atuando em conjunto, eles são capazes de realizar cálculos extremamente complexos em elevada velocidade. Hoje, o maior supercomputador da América Latina é o Pégaso, da Petrobras, com 678 TB de memória RAM e mais de 233 mil núcleos.

Adaptado de <https://revistapesquisa.fapesp.br>

A respeito do poder computacional de alto desempenho dos supercomputadores, analise as afirmativas a seguir e assinale (V) para a verdadeira e (F) para a falsa.

- ( ) Essas máquinas são instrumentos valiosos de pesquisa e de suporte a setores da economia como defesa, energia e saúde, permitindo a resolução de problemas complexos em menor tempo.
- ( ) Esses equipamentos permitem realizar tarefas que exigem altíssimos níveis de processamento, como simulações da formação do universo ou modelagem molecular para novos fármacos.
- ( ) Esses aparelhos trabalham em alta velocidade de processamento pelo somatório de diversos núcleos, o que potencializa a velocidades do processador, medidas em gigahertz (GHz).

As afirmativas são, respectivamente,

- (A) V – V – F.  
 (B) V – F – V.  
 (C) F – V – F.  
 (D) F – V – V.  
 (E) V – V – V.

## História e Geografia do Estado de Tocantins

33

Foram inegáveis os desdobramentos socioeconômicos sobre o antigo Norte Goiano fruto da construção da rodovia BR-153, a partir do final da década de 1950. O novo urbanismo da Belém-Brasília trouxe enorme impacto no que se refere ao conjunto de cidades que existiam às margens do rio Tocantins, aos fluxos migratórios e às atividades econômicas da região.

Adaptado de AQUINO, N. *Tocantins: cidades e urbanismo em três modelos históricos*. In: III Encontro da ANPPAS. Brasília, 2006, p. 8.

As afirmativas a seguir descrevem corretamente impactos da rodovia BR-153 no processo de territorialização do Tocantins, **à exceção de uma**. Assinale-a.

- (A) A rodovia foi construída no governo Kubitscheck, em um contexto desenvolvimentista que considerava a expansão rodoviária como um meio para integrar econômica e territorialmente as regiões do país, inclusive o norte goiano que, então, vivia uma situação de abandono.
- (B) A rodovia Belém-Brasília teve grande importância para a urbanização do atual Tocantins, o que é exemplificado pela quantidade de novas cidades criadas após a sua construção, como Araguaína, Gurupi, Paraíso do Tocantins, Colinas do Tocantins e Guaraí.
- (C) A construção da BR-153 alavancou também os municípios ribeirinhos, pois a navegação fluvial foi intensificada para abastecer as obras em curso, o que transformou esses municípios em satélites econômicos da nova malha urbana instalada ao longo da rodovia.
- (D) Após a abertura da rodovia, as principais áreas que receberam fluxos migratórios foram a Microrregião de Gurupi – Gurupi e a Microrregião de Porto Nacional – Palmas, para onde se dirigiram pessoas interessadas em trabalhar na construção civil, nos serviços e no comércio, entre outros.
- (E) A BR-153 permitiu interligar o norte de Goiás, atual Estado do Tocantins, a outras localidades do país, facilitando o escoamento da produção e o acesso a produtos para a região, promovendo o fluxo de mercadorias e serviços.

34

Leia a descrição de uma classe de vegetação presente no estado do Tocantins, a seguir.

*Esta vegetação, também conhecida como floresta pluvial tropical, é caracterizada por árvores de porte elevado, além de trepadeiras lenhosas e epífitas (bromélias e orquídeas, por exemplo) em abundância, o que a diferencia de outras classes de formação vegetal. Sua característica ecológica principal é estar presente em ambientes de chuvas abundantes, como na parte noroeste do Estado, onde as temperaturas médias são de 25°C e os elevados índices de precipitação estão bem distribuídos ao longo do ano.*

Adaptado de Luís Antônio G. C. Silva. *Biomias presentes no Estado do Tocantins*. Brasília: Câmara dos Deputados, 2007, p. 4.

O trecho caracteriza a região conhecida como Floresta

- (A) Estacional Semidecidual.  
 (B) Tropical Subcaducifólia.  
 (C) de Mata Atlântica.  
 (D) Ombrófila Densa.  
 (E) Temperada Decidual.

35

Comparando dados dos censos do IBGE, pode-se elaborar um retrato da evolução demográfica da população residente no Estado de Tocantins. O grupo na faixa etária de 0 a 14 representava 41,7% da população em 1991, 28,8% em 2010, e passou para 24% em 2022. A população acima de 65 anos era de 3,8% em 1991 e 5,8% em 2010, e ficou em 8,6% em 2022. O censo de 2022 mostrou ainda que a faixa etária de 15 a 29 anos representa 15% da população e que 41% da população é composta por pessoas de 30 a 59 anos.

Com base no trecho, assinale a opção que apresenta a dinâmica populacional do Tocantins entre 1991 e 2022.

- (A) Expansão da base da pirâmide etária.
- (B) Diminuição da taxa de fecundidade.
- (C) Estreitamento do topo da pirâmide.
- (D) Aumento da idade mediana.
- (E) Redução do índice de envelhecimento.

36

A respeito da matriz energética do Estado e dos investimentos em biocombustíveis, analise as afirmativas a seguir e assinale (V) para a verdadeira e (F) para a falsa.

- ( ) O Estado tem condições de clima e solo desfavoráveis para o plantio de matérias-primas usadas na fabricação de biocombustíveis, mas a expansão do modal logístico (Ferrovia Norte-Sul) permitirá o acesso à soja do planalto goiano.
- ( ) O Tocantins conta com duas usinas de biodiesel em funcionamento, utilizando o pinhão-manso, a soja, a mamona e outras oleaginosas como matéria-prima.
- ( ) O Estado tem alto potencial de geração de energia solar, pela elevada irradiação solar e pelas políticas públicas voltadas para produção de energia limpa e renovável, como a Política Estadual de Incentivo à Geração e ao Uso da Energia Solar (Pró-Solar)

As afirmativas são, respectivamente,

- (A) V – F – V.
- (B) F – V – V.
- (C) F – F – V.
- (D) V – V – F.
- (E) V – V – V.

37

O Memorial Coluna Prestes (2001) é uma obra do arquiteto Oscar Niemeyer localizada na Praça dos Girassóis, no centro de Palmas (TO).



Fonte: <https://central.to.gov.br/image/146145?f=1>

A respeito da relação entre essa obra e a constituição de uma memória histórica para o Estado do Tocantins, analise as afirmativas a seguir.

- I. O monumento refere-se à Coluna Prestes, que percorreu o Brasil para divulgar seu programa revolucionário entre 1924 e 1927, tendo passado pelo Norte do então Estado de Goiás (atual Tocantins) durante seu percurso.
- II. A obra foi realizada em concreto e apresenta curvas sinuosas, características próprias do Barroco das cidades mineradoras, estabelecendo visualmente uma continuidade entre o Barroco do passado das cidades mineradoras e o presente do Tocantins.
- III. A construção do memorial permite inserir simbolicamente a história do Tocantins nos grandes processos da história republicana nacional, e homenagear o Tenente Antônio de Siqueira Campos, cujo sobrenome é homônimo ao do ex-governador do Estado.

Está correto o que se afirma em

- (A) I, apenas.
- (B) I e II, apenas.
- (C) I e III, apenas.
- (D) II e III, apenas.
- (E) I, II e III.

38

*As belas paisagens como serras, cachoeiras, praias e até mesmo dunas, fazem do Tocantins um paraíso de paisagens naturais, atraindo turistas de várias regiões para conhecer o mais novo Estado brasileiro. A potencialidade para o ecoturismo e a preocupação em conservar a biodiversidade e recursos naturais nele contidos fez com que o Governo do Estado, criasse e implementasse as Unidades de Conservação Ambiental (UC).*

Adaptado de <https://www.to.gov.br/secom/>

A respeito das Unidades de Conservação (UC) do Tocantins, assinale a afirmativa correta.

- (A) São espaços territoriais legalmente instituídos pelo poder público e podem ser de proteção integral federal, como no caso dos Parques Cantão, Jalapão e Lajeado.
- (B) As UCs federais estão subordinadas ao Instituto Chico Mendes de Conservação da Biodiversidade (ICMBio), como no caso do Monumento Natural das Árvores Fossilizadas.
- (C) As UCs estaduais estão subordinadas ao Instituto Natureza do Tocantins (Naturatins), que supervisiona o Parque do Araguaia e o das Nascentes do rio Parnaíba.
- (D) As UCs de uso sustentável são compostas exclusivamente por áreas públicas, sendo permitida sua utilização apenas para ecoturismo, pesquisa e educação ambiental.
- (E) As UCs municipais estão subordinadas às secretarias de meio ambiente, como no caso do Monumento Natural dos Cânions e Corredeiras do Rio Sono e do Parque Ecológico Roberto Guedes Pereira.

39

O Estado do Tocantins possui diversas comunidades quilombolas certificadas e outras com processo formalizado para regularização fundiária de seus territórios. A definição de comunidade quilombola é dada pelo Art. 2º do Decreto nº 4.887/2003:

*Consideram-se remanescentes das comunidades dos quilombos, para os fins deste Decreto, os grupos étnico-raciais, segundo critérios de auto-atribuição, com trajetória histórica própria, dotados de relações territoriais específicas, com presunção de ancestralidade negra relacionada com a resistência à opressão histórica sofrida.*

A respeito dos órgãos e processos envolvidos na identificação e regularização de territórios quilombolas no Estado do Tocantins, assinale a afirmativa correta.

- (A) O acesso dessas comunidades às políticas públicas de educação, saúde, moradia e regularização fundiária depende de o Estado emitir uma certidão de identificação de comunidade quilombola, mediante Fundação Palmares.
- (B) Os critérios para reconhecimento de um grupo enquanto remanescente de quilombo depende da comprovação de sua ancestralidade, seu parentesco e da preservação viva de religiosidades autenticamente africanas.
- (C) A Coordenação Nacional de Articulação de Comunidades Negras Rurais Quilombolas (CONAQ) luta pela incorporação constitucional do direito à autodefinição dos remanescentes de quilombos.
- (D) A certificação quilombola é realizada pela Fundação Cultural Palmares, que avalia com visitas técnicas a autenticidade do legado quilombola pretendido e, caso o aprove, emite a certidão de comunidade quilombola e a inscreve em um cadastro geral.
- (E) O acesso às terras ocupadas pelos remanescentes das comunidades dos quilombos é garantido por sua delimitação e titulação, a cargo da autoridade municipal em que a mesma se localiza.

40

Até 1988, o território que hoje corresponde ao Estado do Tocantins pertencia ao antigo norte de Goiás e à Região Centro-Oeste, tendo como capital política a cidade de Goiânia. Com a emancipação política, da noite para o dia, as pessoas amanheceram tocantinenses, mas sem referências culturais que as representassem como tais.

A respeito da projeção simbólica do novo Estado e de sua nova capital, assinale a opção que interpreta corretamente o processo de construção e atribuição de uma identidade ao Tocantins.

- (A) Desde o primeiro mandato do governador Siqueira Campos, os símbolos oficiais do Tocantins continuaram sendo o brasão de armas, a bandeira, o selo estadual e a canção “Hino ao Tocantins”, de Liberato Costa Póvoa e Abiezer Alves da Rocha.
- (B) O girassol foi reconhecido oficialmente como símbolo da natureza do Estado, por ser uma planta nativa dos cerrados tocantinenses e estar associada à prosperidade e à esperança.
- (C) A Praça dos Girassóis, centro cívico de Palmas, foi concebida para receber edifícios esteticamente associados à cultura do Tocantins, como o Palácio do Araguaia, cujos pórticos remetem ao capim dourado, símbolo da tradição do artesanato de alta qualidade da região.
- (D) A monumentalidade da Praça dos Girassóis é enfatizada pelo seu pavimento, que contém figuras simbólicas como o mapa do Tocantins, a rosa dos ventos, o brasão de armas e a Praça Krahô.
- (E) O meio ambiente também foi utilizado para fortalecer o sentimento identitário, inserindo o girassol, a fava-de-bolota, a arara-canindé e a granada como símbolos da natureza do Tocantins, desde a promulgação da Constituição Estadual em 1989.



## CONHECIMENTOS ESPECÍFICOS

41

O Poder Constituinte Originário tem sua fundamentação assentada, sobretudo na França, no período da sua revolução liberal.

Sobre o Poder Constituinte Originário, analise as afirmativas a seguir e assinale (V) para a afirmativa verdadeira e (F) para a falsa.

- ( ) A base estrutural do Poder Constituinte Originário foi fincada na ideia de afastar a legitimação do poder na tradição, na dinastia e na vinculação de uma família ao Estado.
- ( ) É do povo, compreendido como pessoas de origem étnica ou cultural comum, que se delimita e reúne politicamente, a titularidade do Poder Constituinte Originário e, por isso, não se admite que fração dele se arvore a ser sua representação, ainda que tenha obtido um reconhecimento tal para atuar como Poder Constituinte Originário.
- ( ) Disse-se que o Poder Constituinte Originário é inicial, ilimitado e incondicionado. No entanto, é possível apontar duas objeções ao caráter ilimitado. Quanto à liberdade contra imposições vindas da ordem jurídica anterior, é preciso ressaltar a existência de limitações políticas próprias do exercício de tal poder, tais como valores éticos, religiosos e culturais de uma nação. Quanto a decisões totalitárias, existe mais uma limitação ao aludido poder, posto que a ordenação jurídica do poder do Estado se dá para a instituição de um Estado com poderes limitados.

As afirmativas são, respectivamente,

- (A) V – V – V.
- (B) V – F – V.
- (C) V – V – F.
- (D) F – F – F.
- (E) F – V – F.

42

Alberto, servidor público estável ocupante de cargo efetivo na Assembleia Legislativa do Estado Beta, foi demitido por falta funcional, conforme restou decidido no bojo de processo administrativo disciplinar. Ocorre que, posteriormente, foi invalidada por sentença judicial a demissão de Alberto.

De acordo com a Constituição da República de 1988, Alberto será reintegrado, e o eventual ocupante da vaga

- (A) independentemente de ser estável ou não, será posto em disponibilidade, com remuneração proporcional ao tempo de serviço, até o prazo que possa se aposentar.
- (B) independentemente de ser estável ou não, posto em disponibilidade, com remuneração proporcional ao tempo de contribuição, até o prazo que possa se aposentar voluntariamente ou até que surja nova vaga.
- (C) se estável, aproveitado em cargo de semelhante remuneração e escolaridade, tendo o direito subjetivo de antecipar sua aposentaria em cinco anos.
- (D) se estável, reconduzido ao cargo de origem, sem direito a indenização, aproveitado em outro cargo ou posto em disponibilidade com remuneração proporcional ao tempo de serviço.
- (E) se estável, reconduzido ao cargo de origem, com direito a indenização, aproveitado em outro cargo de semelhante remuneração e escolaridade ou posto em disponibilidade com remuneração proporcional ao tempo de contribuição.

43

A Constituição pode ser compreendida como um conjunto de normas que criam e fixam competências dos principais órgãos do Estado, e disciplinam as interações e controles recíprocos entre os mesmos.

A respeito da Constituição, analise as afirmativas a seguir e assinale (V) para a afirmativa verdadeira e (F) para a falsa.

- ( ) Com base na ideia de que existem temas típicos de uma Constituição, é possível falar em normas materialmente constitucionais, o que, no entanto, recebe crítica devido à influência ideológica dominante em certo momento da história do constitucionalismo.
- ( ) As normas formalmente constitucionais são aquelas encontradas no texto da Constituição e elas só podem ser aí inseridas pelo Poder Constituinte quando materialmente constitucionais.
- ( ) A inserção de um tema como norma constitucional encontra razão, dentre outras, na concessão de maior estabilidade conferida pelo *status* constitucional, independentemente da categorização da Constituição como rígida.

As afirmativas são, respectivamente,

- (A) V – F – F.
- (B) F – F – V.
- (C) V – V – F.
- (D) F – V – V.
- (E) V – V – V.

44

A interpretação constitucional é importante matéria na busca pela compreensão do Texto Maior.

Com relação a alguns de seus princípios, analise os itens a seguir.

- I. Por conta da origem das normas constitucionais e em razão da diferenciação entre Poder Constituinte e Poderes Constituídos, o princípio da supremacia da constituição significa a ocupação de uma posição hierárquica superior pelas normas constitucionais, em relação a toda e qualquer outra norma.
- II. Devido à sua feição meramente política, da Constituição não se deve atribuir o sentido que assegure maior eficácia e força normativa às suas disposições.
- III. É possível enxergar que na operação de interpretação das leis em conformidade com a Constituição, empreende-se uma interpretação constitucionalmente guiada da norma infraconstitucional e atribui-se um sentido à norma constitucional.

Está correto o que se afirma em

- (A) I, II e III.
- (B) I e II, apenas.
- (C) I e III, apenas.
- (D) II e III, apenas.
- (E) I, apenas.

45

O Art. 37, XXI, da CRFB/88 consagra que *ressalvados os casos especificados na legislação, as obras, serviços, compras e alienações serão contratados mediante processo de licitação pública que assegure igualdade de condições a todos os concorrentes, com cláusulas que estabeleçam obrigações de pagamento, mantidas as condições efetivas da proposta, nos termos da lei, o qual somente permitirá as exigências de qualificação técnica e econômica indispensáveis à garantia do cumprimento das obrigações*, sendo certo a matéria atinente às licitações e contratações, atualmente, tem como principal diploma a Lei nº 14.133/2021.

Nesse contexto, com relação aos contornos atinentes à contratação direta pela Administração Pública, ou seja, sem a realização de procedimento licitatório, preenchidos os requisitos estabelecidos em lei, é correto afirmar que

- (A) não é admitida pelo ordenamento nenhuma hipótese de contratação direta pela Administração Pública.
- (B) com relação às compras e às alienações a serem realizadas pelo Poder Público não há possibilidade de contratação direta.
- (C) existindo pluralidade de competidores e viabilidade de competição, é inconstitucional a norma que possibilite a contratação direta.
- (D) em situações em que há viabilidade de competição, a licitação pode ser dispensável nas hipóteses expressamente previstas em lei, em relação as quais haverá discricionariedade do administrador com relação à contratação direta.
- (E) a contratação direta pela Administração Pública é situação excepcional, de modo que apenas é admitida nas situações em que há inviabilidade de competição, taxativamente consagradas em lei.

46

Determinado servidor público estável, ao ser questionado sobre as disposições gerais da Lei nº 8.429/92, com a redação conferida pela Lei nº 14.230/2021, no âmbito da improbidade administrativa, respondeu corretamente que

- (A) apenas respondem por improbidade administrativa, os agentes públicos que atuem na Administração Direta e Indireta.
- (B) o mero exercício da função ou desempenho de competências públicas, sem comprovação de ato doloso com fim ilícito, é suficiente para caracterizar a responsabilidade por ato de improbidade administrativa que importa em enriquecimento ilícito.
- (C) no que se refere a recursos de origem pública, sujeita-se às sanções previstas na lei de improbidade o particular, pessoa física ou jurídica, que celebra com a administração pública convênio, contrato de repasse, contrato de gestão, termo de parceria, termo de cooperação ou ajuste administrativo equivalente.
- (D) considera-se dolo a vontade livre e consciente de alcançar o resultado ilícito tipificado como ato de improbidade, não bastando a voluntariedade do agente, salvo com relação aos atos de improbidade que importam em lesão ao erário, que podem ensejar responsabilização por negligência ou imprudência.
- (E) a possibilidade de responsabilidade sucessória restringe-se aos herdeiros da pessoa física, nos limites da herança ou do patrimônio transferido, não podendo ser aplicada na hipótese de alteração contratual, de transformação, de incorporação, de fusão ou de cisão societária.

47

Entre as características do regime jurídico administrativo, o *princípio da supremacia do interesse público* tem espaço de relevo e suscita alguns questionamentos, notadamente no âmbito do direito administrativo moderno.

É correto afirmar que se trata de

- (A) princípio absoluto da Administração Pública, expressamente consagrado na Constituição, de modo que deve sempre prevalecer no âmbito da ponderação de interesses.
- (B) princípio que não pode mais ser admitido, por não estar expresso na Constituição, considerando que o consensualismo passou a ser o eixo do direito administrativo, razão pela qual não mais se admite as cláusulas exorbitantes no âmbito dos contratos administrativos.
- (C) princípio que é inexorável à atuação administrativa, expresso na Constituição, que juntamente com o princípio da indisponibilidade do interesse público, importam na vedação de que a Administração Pública formalize instrumentos consensuais com particulares.
- (D) princípio que não é expressamente consagrado na Constituição, devendo ser ponderado com os demais princípios do ordenamento jurídico nas situações de conflito, considerando, inclusive, que, no mais das vezes, a efetivação de direitos fundamentais promove a materialização do interesse público.
- (E) princípio expresso na Constituição, que deve ser invocado para fazer prevalecer a vontade dos gestores públicos, que tem ampla discricionariedade no exercício de suas atividades, a qual encontra limites apenas na vinculação à lei.

48

Diante da intenção de implementar determinado projeto importante para o desenvolvimento econômico da localidade, o Estado Delta verificou que será necessário alterar certa unidade de conservação instituída pelo próprio ente federativo por meio de Decreto, no sentido de que deixe de ser de proteção integral e passe a ser de uso sustentável. Além disso, concluiu-se que será indispensável reduzir o espaço especialmente protegido, a importar, portanto, em sua supressão.

Diante dessa situação hipotética, é correto afirmar que

- (A) a alteração ou supressão da unidade de conservação ambiental em questão apenas pode ser realizada por lei do respectivo ente federativo.
- (B) tanto a supressão quanto a alteração da unidade de conservação ambiental em questão pode ser realizada por lei ou por decreto.
- (C) a alteração da unidade de conservação em questão pode ser realizada por lei ou por decreto do respectivo ente federativo, mas a supressão apenas pode ser efetuada por lei da União.
- (D) apesar de não ser possível a supressão ou alteração da unidade de conservação ambiental em questão por decreto, é cabível a edição de uma medida provisória do respectivo ente federativo para tais finalidades.
- (E) é viável a supressão da unidade de conservação ambiental em questão por meio de decreto, mas não a alteração do espaço ambientalmente protegido, que somente pode ser realizada por lei do respectivo ente federativo.

49

Antônio, Tereza e Gabriela Balbuíno adquirem por meio da herança de seu pai diversas obras de arte, tornando-se condôminos de todos os bens. No mês passado, alienaram para Dorival Caribé um famoso quadro de Tarsila do Amaral. Comprometeram-se a entregar a obra de arte no dia de ontem, contudo, por culpa exclusiva, de Gabriela, o quadro foi destruído, sem possibilidade de reparo. A cláusula terceira do contrato atribui solidariedade aos devedores pela entrega do bem.

Diante da situação hipotética narrada, com base no tema obrigações, assinale a afirmativa correta.

- (A) Antônio, Tereza e Gabriela respondem pelo equivalente e as perdas e danos.
- (B) Gabriela responde exclusivamente tanto pelo equivalente, quanto pelas perdas e danos.
- (C) Antônio, Tereza e Gabriela respondem pelas perdas e danos, havendo isenção de responsabilidade pelo equivalente.
- (D) Gabriela responde exclusivamente pelo equivalente, já os outros irmãos somente pelas perdas e danos.
- (E) Antônio, Tereza e Gabriela respondem pelo equivalente, porém pelas perdas e danos somente Tereza.

50

Em uma cidade do interior brasileiro, o Prefeito realizou obras em diversos bens públicos, com destaque as feitas no museu municipal, na rua principal, na maior praça da cidade e na sede da prefeitura. Contudo, sofre muitas críticas por ter deixado de fora um terreno baldio.

Com relação ao tema bens, assinale a afirmativa correta.

- (A) O museu municipal e o terreno baldio são classificados como bens dominicais.
- (B) A praça da cidade e a sede da prefeitura são classificadas como bens de uso comum.
- (C) Na classificação dos bens de uso comum, encontram-se a praça e a rua.
- (D) O terreno baldio e o museu municipal, caso a entrada seja gratuita, são considerados como bens de uso especial.
- (E) A sede da prefeitura e a rua são enquadradas pela doutrina como bem de uso comum.

51

Jonas ajuizou ação de procedimento comum em face de João. O pedido foi julgado procedente, condenando João a pagar dez mil reais a título de danos materiais em favor de Jonas.

Três anos após o trânsito em julgado da última decisão proferida no processo, o Supremo Tribunal Federal declarou, em controle concentrado, a inconstitucionalidade da lei que amparou a pretensão indenizatória de Jonas. Não houve modulação dos efeitos da decisão.

Inconformado, dois meses após a decisão do Supremo Tribunal Federal, João ajuizou ação rescisória em face de Jonas, requerendo a desconstituição da decisão proferida no processo movido por Jonas.

Com base na hipótese narrada, é correto afirmar que

- (A) João teve que efetuar depósito equivalente a dez por cento sobre o valor da causa, o qual se converterá em multa caso a ação rescisória seja declarada inadmissível ou improcedente.
- (B) o relator ordenará a citação de Jonas, designando prazo de dez dias para, querendo, apresentar resposta.
- (C) João ajuizou a ação rescisória dentro do prazo decadencial previsto em lei, razão pela qual não se extinguiu o direito à rescisão da decisão proferida no processo movido por Jonas.
- (D) com a propositura da ação rescisória, a decisão rescindenda não poderá ser objeto de cumprimento de sentença, dado o efeito suspensivo automático decorrente do ajuizamento de tal ação autônoma de impugnação.
- (E) julgando procedente o pedido, o tribunal rescindir a decisão, vedado novo julgamento da causa, em toda e qualquer hipótese.

52

Pedro propôs ação de procedimento comum em face do Estado *Alfa*, na qual postulou a condenação do ente estadual a implementar pensionamento mensal decorrente do óbito de sua esposa, bem como o pagamento dos valores alegadamente em atraso.

Em sede de contestação, o Estado *Alfa* não se opôs ao pedido de implementação da pensão. Todavia, impugnou especificamente os índices de juros e correção monetária dos valores em atraso requeridos por Pedro.

Com base nesse caso concreto, assinale a afirmativa correta.

- (A) O juízo poderá julgar o mérito de forma antecipada e parcial em relação ao pedido de implementação de pensão por morte, hipótese em que a decisão será impugnável por meio de agravo de instrumento.
- (B) A impugnação do Estado *Alfa* em relação ao pedido de condenação dos valores em atraso impede o julgamento antecipado de mérito, o qual somente poderá incidir sobre todo o mérito do processo.
- (C) Eventual decisão que julgar antecipadamente o pedido de concessão de pensão será objeto de execução provisória até eventual decisão sobre o pedido de pagamento dos valores em atraso, ainda que haja seu trânsito em julgado.
- (D) Não impugnado o pedido de implementação de pensão por morte, haverá incidência do efeito material da revelia em relação ao ente público, por não ter ofertado contestação em face de tal pedido.
- (E) O juiz deverá, em decisão de saneamento e organização do processo, delimitar as questões de fato sobre as quais recairá a atividade probatória, a qual necessariamente incidirá sobre o direito ao recebimento da pensão.

53

Sérgio transitava pela Avenida Paraíso, quando foi atingido por uma forte explosão. Foi socorrido por uma ambulância e, ao acordar no hospital com queimaduras de primeiro e segundo grau em partes do seu corpo, soube que a explosão veio de uma loja que prestava serviços de impermeabilização de sofás sem as devidas medidas de segurança.

Sérgio espera atrair a incidência das normas do Código de Defesa do Consumidor para o seu caso, de forma a facilitar o ônus da prova na busca pela indenização.

Para exercer a pretensão indenizatória, Sérgio

- (A) não pode ser considerado consumidor, pois não foi exposto à prática comercial exercida pela loja de impermeabilização de sofás.
- (B) pode ser considerado consumidor, pois, embora não tenha participado de relação de consumo, foi vítima de evento danoso desta.
- (C) pode ser considerado consumidor, pois é pessoa exposta à prática comercial abusiva.
- (D) pode ser considerado consumidor, pois era destinatário final do serviço e existia vulnerabilidade.
- (E) não pode ser considerado consumidor, pois, embora vulnerável, não era destinatário final do serviço.

54

Raquel, estudante de Direito, em uma aula de Direito Previdenciário, recebeu a explicação do seu professor que a Constituição Federal de 1988 prevê que *nenhum benefício ou serviço da seguridade social poderá ser criado, majorado ou estendido sem a correspondente fonte de custeio total*.

Nesse sentido, regra constitucional explicada refere-se à

- (A) regra da seletividade e distributividade.
- (B) regra de contrapartida.
- (C) regra da diversidade da base de financiamento.
- (D) regra da noventena.
- (E) regra da equidade na forma de participação no custeio.

55

Jerônimo trabalhava em um estabelecimento comercial situado em Araguaína-TO e sofreu um grave acidente do trabalho, ficando afastado das atividades laborais por sete meses.

Jerônimo se recuperou, mas ficou com sequelas, tendo a capacidade laborativa reduzida. O segurado em questão foi submetido a processo de reabilitação pelo INSS e, tempos depois, passou a exercer outra atividade na condição de reabilitado junto ao mesmo empregador.

De acordo com a norma de regência, assinale o benefício que Jerônimo poderá requerer da Previdência Social após seu retorno ao trabalho.

- (A) Abono de permanência no serviço.
- (B) Salário família.
- (C) Auxílio por incapacidade temporária.
- (D) Auxílio acidente.
- (E) Aposentadoria.

56

Determinada lei estadual, quando do início da sua vigência, concedeu perdão das infrações à legislação tributária, especificamente decorrentes dos créditos de IPVA já inscritos em dívida ativa.

A referida lei trata de desoneração tributária denominada

- (A) remissão.
- (B) anistia.
- (C) transação.
- (D) moratória.
- (E) isenção.

57

No âmbito da Administração Tributária, algumas informações estão protegidas sob o manto do sigilo fiscal ou bancário. No entanto, a proteção não é absoluta, admitindo-se, em caráter excepcional, a divulgação, pela Fazenda Pública, de informação obtida sobre situação econômica ou financeira do sujeito passivo. Sobre o tema, viola o sigilo fiscal ou bancário, sendo vedada a sua divulgação

- (A) a informação relativa à obtenção e deferimento de parcelamento ou moratória do sujeito passivo.
- (B) a quebra de sigilo bancário em execução fiscal, por meio do sistema BACEN-JUD, o qual viabiliza o bloqueio eletrônico de depósitos do executado, sem o exaurimento de diligências extrajudiciais por parte do exequente.
- (C) as informações relativas a representações fiscais para fins penais.
- (D) a solicitação de quebra de sigilo bancário e fiscal pelas Comissões Parlamentares de Inquérito (CPIs), quando não prescindida de justificativa adequada.
- (E) as informações relativas a incentivo, renúncia, benefício ou imunidade de natureza tributária cujo beneficiário seja pessoa jurídica.

**58**

João, maior e capaz, aproveitando-se de que a residência do seu vizinho estava vazia, ingressou no local e subtraiu, sem violência ou grave ameaça à pessoa, mil reais em espécie. Ao retornar ao seu domicílio, o agente se deparou com os seus genitores trabalhando de forma árdua para garantir o sustento da família. Dessa forma, tocado pela atitude dos pais, João restituiu os valores pecuniários aos legítimos proprietários, antes da deflagração de qualquer investigação em seu desfavor.

Nesse cenário, considerando as disposições do Código Penal, é correto afirmar que a reprimenda de João, na persecução penal superveniente, será reduzida, em razão

- (A) do arrependimento posterior, que é uma causa de diminuição de pena.
- (B) do arrependimento eficaz, que é uma causa de diminuição de pena.
- (C) do arrependimento posterior, que é uma atenuante.
- (D) do arrependimento eficaz, que é uma atenuante.
- (E) da desistência voluntária, que é uma atenuante.

**59**

Ao caminhar pela rua, João foi atingido, de inopino, por três golpes de faca, desferidos por José, sem um motivo aparente. Em razão do pronto e imediato socorro, a vítima sobreviveu, sem ostentar qualquer sequela física proveniente da empreitada delituosa. No curso do processo penal deflagrado para apurar os fatos, José narrou que algumas vozes lhe obrigaram a desferir os golpes com a arma branca. Em assim sendo, após a instauração de um incidente de insanidade mental, constatou-se que José, por força de esquizofrenia, era, ao tempo da ação, inteiramente incapaz de entender o caráter ilícito do fato.

Nesse cenário, considerando as disposições do Código Penal, é correto afirmar que José

- (A) responderá pelo crime perpetrado, mas a pena será reduzida de um sexto a dois terços, em razão da semi-imputabilidade penal.
- (B) responderá pelo crime perpetrado, mas a pena será reduzida de um a dois terços, em razão da semi-imputabilidade penal.
- (C) é isento de pena, em razão da inimputabilidade penal, causa de exclusão de ilicitude.
- (D) é isento de pena, em razão da inimputabilidade penal, causa justificante.
- (E) é isento de pena, em razão da inimputabilidade penal, causa dirimente.

**60**

No curso de um processo deflagrado para apurar, em tese, o crime de roubo circunstanciado pelo emprego de arma de fogo, o juiz, após a oitiva das partes, reconheceu a prescrição da pretensão punitiva estatal, extinguindo a punibilidade do réu, na forma da lei. Nada obstante, o Ministério Público discordou dos marcos temporais empregados pelo juízo para reconhecer a prescrição, motivo pelo qual pretende interpor o recurso cabível na espécie.

Nesse cenário, considerando as disposições do Código de Processo Penal, é correto afirmar que o Ministério Público interporá

- (A) recurso em sentido estrito.
- (B) carta testemunhável.
- (C) recurso inominado.
- (D) correição parcial.
- (E) apelação.

**61**

No curso de uma persecução penal deflagrada para apurar um suposto crime de latrocínio tentado, a vítima, por intermédio de um advogado, intervém como assistente de acusação, em observância às formalidades legais. Nesse contexto, o ofendido e o advogado contratado debatem sobre os poderes do assistente de acusação, em especial sobre a possibilidade ou não de se propor meios de prova, requerer perguntas às testemunhas, participar do debate oral e arrazoar os recursos interpostos pelo Ministério Público.

Nesse cenário, considerando as disposições do Código de Processo Penal, é correto afirmar que o assistente de acusação poderá

- (A) requerer perguntas às testemunhas e participar do debate oral, não se admitindo que proponha meios de prova ou arrazoe os recursos interpostos pelo Ministério Público.
- (B) requerer perguntas às testemunhas e arrazoar os recursos interpostos pelo Ministério Público, não se admitindo que participe do debate oral ou proponha meios de prova.
- (C) propor meios de prova, requerer perguntas às testemunhas e participar do debate oral, não se admitindo que arrazoe os recursos interpostos pelo Ministério Público.
- (D) propor meios de prova e requerer perguntas às testemunhas, não se admitindo que participe do debate oral ou arrazoe os recursos interpostos pelo Ministério Público.
- (E) propor meios de prova, requerer perguntas às testemunhas, participar do debate oral e arrazoar os recursos interpostos pelo Ministério Público.

**62**

De acordo com o Código Civil e em relação à caracterização, inscrição e capacidade do empresário individual, analise as afirmativas a seguir.

- I. A inscrição do empresário individual na Junta Comercial é uma exigência dispensável para sua caracterização.
- II. Desde que haja prévia autorização judicial, após exame das circunstâncias e dos riscos da empresa, bem como da conveniência em continuá-la, o incapaz poderá, por meio de representante ou devidamente assistido, continuar a empresa antes exercida por ele enquanto capaz, por seus pais ou pelo autor de herança.
- III. Não se considera empresário, em qualquer situação, quem exerce profissão intelectual, de natureza científica, literária ou artística, ainda com o concurso de auxiliares ou colaboradores.

Está correto o que se afirma em

- (A) I, II e III.
- (B) II, apenas.
- (C) I e II, apenas.
- (D) III, apenas.
- (E) I e III, apenas.

63

*Curtume Palmeirante Ltda.*, com sede em Talismã, sacou duplicata escritural em face de *Combinado, Sampaio e Tabocão Ltda.* por conta de venda de produtos da primeira sociedade a segunda. O valor da duplicata é de R\$87.000,00 (oitenta e sete mil reais) e o vencimento foi à vista.

Considerados esses dados e as disposições legais sobre a duplicata escritural, é correto afirmar que

- (A) a duplicata escritural à vista não está sujeita a endosso, mas pode ser transferida por cessão eletrônica de crédito e ter seu pagamento garantido por aval.
- (B) a emissão de duplicata sob a forma escritural é feita mediante lançamento em sistema eletrônico de escrituração gerido por quaisquer das entidades que exerçam a atividade de escrituração de duplicatas escriturais.
- (C) a apresentação da duplicata escritural à vista ao sacado será efetuada por meio eletrônico, no prazo de 5 (cinco) dias úteis contados de sua emissão.
- (D) o sacado poderá aceitar ou recusar o aceite na duplicata à vista no prazo de 10 (dez) dias contado do dia de sua apresentação no sistema de escrituração de duplicatas.
- (E) a duplicata emitida sob a forma escritural ou o extrato emitido pelo sacador com base no livro de registro de duplicatas são títulos executivos extrajudiciais.

64

Em uma empresa com 50 empregados, situada em Gurupi-TO, ocorreram os seguintes episódios na semana em curso:

- o empregado Carlos marcou na entrada o seu cartão de ponto e o do colega de trabalho Claudio, que não estava na empresa mas pediu esse favor porque chegaria mais tarde; Jerusa apresentou um atestado médico falso para abono de dois dias de faltas;
- Pedro agrediu verbalmente o seu colega de trabalho Fernando, que exerce a mesma função, quando ambos por acaso se encontraram no final de semana no Shopping Gurupi e se desentenderam;
- Luísa foi flagrada fumando cigarro, malgrado saber que na empresa é proibido fumar em razão dos materiais inflamáveis que lá existem, já tendo sido advertida e suspensa anteriormente pelo mesmo motivo.

Considerando essas hipóteses e o que prevê a CLT, assinale a opção que contempla os empregados que poderão ser dispensados por justa causa.

- (A) Jerusa, Carlos, Pedro, Claudio, Luísa e Fernando.
- (B) Carlos, Jerusa e Pedro, apenas.
- (C) Claudio, Pedro, Carlos e Luísa, apenas.
- (D) Jerusa e Carlos, apenas.
- (E) Luísa, Carlos, Jerusa e Claudio, apenas.

65

Na 10ª Vara do Trabalho de Dianópolis/TO tramitam duas reclamações trabalhistas contra uma sociedade empresária local. Em uma delas, o reclamante Pedro busca o pagamento de R\$8.000,00 pelas verbas resilitórias não pagas e, na outra demanda, o reclamante Walter persegue o pagamento de horas extras e reflexos, tendo atribuído à causa o valor de R\$90.000,00. Há ainda, na mesma Vara do Trabalho, um inquérito judicial movido pela mesma sociedade empresária contra Karina, uma dirigente sindical que teria praticado falta grave.

Considerando os procedimentos referentes a cada um dos processos, e de acordo com a CLT, assinale a afirmativa correta.

- (A) Na ação de Karina cada parte poderá indicar até três testemunhas e nas de Pedro e Walter, até duas.
- (B) Em todas as ações cada parte poderá indicar até três testemunhas.
- (C) Na ação de Pedro cada parte poderá indicar até duas testemunhas, na de Karina não há limite e na de Walter, até três.
- (D) Na ação de Walter cada parte poderá indicar até três testemunhas, na de Karina até 6 e na de Pedro, até duas.
- (E) Na ação de Karina e Pedro cada parte poderá indicar até duas testemunhas e na de Walter, até três.

## LEGISLAÇÃO INSTITUCIONAL

66

Ana, servidora pública efetiva e estável, ocupante de cargo de nível superior, objetivando inteirar-se sobre os requisitos para a progressão na carreira, consultou a Lei nº 4.208/2023, que trata sobre o plano de cargos, carreiras e remuneração dos Servidores da Assembleia de Tocantins.

Assim, para fazer jus à progressão, Ana terá que

- (A) possuir no máximo três faltas injustificadas por exercício referente ao período avaliado.
- (B) obter conceito igual ou superior a 70% (setenta por cento) dos pontos possíveis em todos os procedimentos de sua Avaliação.
- (C) concluir curso de pós-graduação *lato sensu* com duração mínima de 360 (trezentos e sessenta) horas.
- (D) cumprir trinta meses de efetivo exercício na classe em que se encontra.
- (E) concluir cursos de aperfeiçoamento em sua área de atuação que tenha, no mínimo, 80 (oitenta) horas de duração.

67

Antônio foi nomeado para o cargo de Controlador Interno da Assembleia Legislativa de Tocantins.

À luz da Lei nº 4.209/2023, que dispõe sobre a estrutura administrativa da Aletto, durante o exercício da função, Antônio será competente para:

- (A) opinar, conclusivamente, em processos de direitos, deveres e obrigações dos servidores do Poder Legislativo.
- (B) constituir Comissão Permanente de Licitação.
- (C) examinar a observância das normas de licitações.
- (D) apresentar à Mesa Diretora o balancete mensal e, no início de cada exercício, o balancete geral das contas da Assembleia Legislativa, relativo ao exercício anterior.
- (E) planejar, coordenar, orientar, controlar e dirigir as atividades administrativas, orçamentárias, financeiras, de comunicação social, de tecnologia de informação e de apoio legislativo da Assembleia Legislativa.

68

Nos termos da Constituição do Estado do Tocantins, constitui objeto de lei complementar a seguinte matéria:

- (A) os prazos de prescrição para ilícitos praticados por qualquer agente, servidor ou não, que causem prejuízos ao erário.
- (B) os limites de idade, a estabilidade e outras condições de transferência do servidor militar para a inatividade.
- (C) os casos de contratação por tempo determinado para atender à necessidade temporária de excepcional interesse público.
- (D) as regras para cálculo de proventos de aposentadoria e pensão por morte.
- (E) os requisitos e as restrições ao ocupante de cargo ou emprego da administração direta e indireta que possibilite o acesso a informações privilegiadas.

69

Considerando o exercício da função legislativa por parte da Assembleia Legislativa de Tocantins, nos termos de seu Regimento Interno, é correto afirmar que

- (A) projetos de lei delegada podem se destinar a regular as matérias de exclusiva competência do Poder Executivo, com a sanção do Governador do Estado.
- (B) projetos de resolução podem se destinar a regular, com eficácia de lei ordinária, matéria de competência privativa da Assembleia Legislativa.
- (C) projetos de lei complementar visam regular matéria infraconstitucional.
- (D) projetos de lei têm por objetivo regular matérias de competência do Poder Legislativo, sem a sanção do Governador do Estado.
- (E) projetos de decreto legislativo destinam-se à delegação de competência, na forma estabelecida na Constituição Estadual.

70

Aline, servidora pública estadual, revelou segredo do qual se apropriou em razão do cargo que ocupa. A Administração Pública, ao tomar conhecimento do fato, instaurou procedimento administrativo disciplinar a fim de apurar a conduta e garantir à servidora os princípios da ampla defesa e do contraditório.

À luz do Estatuto dos Servidores Públicos Cíveis do Estado do Tocantins, caso punida, Aline poderá ser sancionada com

- (A) advertência.
- (B) suspensão.
- (C) prestação de serviço.
- (D) multa.
- (E) demissão.



# ASSEMBLEIA LEGISLATIVA DO ESTADO DO TOCANTINS

CONCURSO PÚBLICO – EDITAL Nº 01/2023

## PROVA OBJETIVA – TARDE

### ANALISTA LEGISLATIVO DIREITO

NÍVEL SUPERIOR – TIPO 4 – AZUL



#### SUA PROVA

- Além deste caderno contendo **70 (setenta)** questões objetivas, você receberá do fiscal de prova o cartão de respostas;
- As questões objetivas têm **5 (cinco)** opções de resposta (A, B, C, D) e somente uma delas está correta.



#### TEMPO

- Você dispõe de **5 (cinco) horas** para a realização da prova, já incluído o tempo para a marcação do cartão de respostas;
- **3 (três) horas** após o início da prova, é possível retirar-se da sala, sem levar o caderno de questões;
- A partir dos **30 (trinta) minutos** anteriores ao término da prova é possível retirar-se da sala **levando o caderno de questões**.



#### NÃO SERÁ PERMITIDO

- Qualquer tipo de comunicação entre os candidatos durante a aplicação da prova;
- Anotar informações relativas às respostas em qualquer outro meio que não seja o caderno de questões;
- Levantar da cadeira sem autorização do fiscal de sala;
- Usar o sanitário ao término da prova, após deixar a sala.



#### INFORMAÇÕES GERAIS

- Verifique se seu caderno de questões está completo, sem repetição de questões ou falhas. Caso contrário, **notifique imediatamente o fiscal da sala**, para que sejam tomadas as devidas providências;
- Confira seus dados pessoais, especialmente nome, número de inscrição e documento de identidade e leia atentamente as instruções para preencher o cartão de respostas;
- Para o preenchimento do cartão de respostas, use somente caneta esferográfica, fabricada em material transparente, com tinta preta ou azul;
- Assine seu nome apenas no(s) espaço(s) reservado(s) no cartão de respostas;
- Confira seu cargo, cor e tipo do caderno de questões. Caso tenha recebido caderno de cargo ou cor ou tipo **diferente** do impresso em seu cartão de respostas, o fiscal deve ser **obrigatoriamente** informado para o devido registro na ata da sala;
- Reserve tempo suficiente para o preenchimento do seu cartão de respostas. O preenchimento é de sua responsabilidade e **não será permitida a troca do cartão de respostas em caso de erro cometido pelo candidato**;
- Para fins de avaliação, serão levadas em consideração apenas as marcações realizadas no cartão de respostas;
- A FGV coletará as impressões digitais dos candidatos na lista de presença;
- Os candidatos serão submetidos ao sistema de detecção de metais quando do ingresso e da saída de sanitários durante a realização das provas.
- **Boa prova!**



## CONHECIMENTOS BÁSICOS

### Língua Portuguesa

1

Assinale a frase que **não** expressa uma noção de tempo abstrato.

- (A) Nas asas do tempo, a tristeza voa.
- (B) Quem mata o tempo não é assassino, é suicida.
- (C) O tempo perdido não se encontra nunca mais.
- (D) O tempo é o melhor professor. Infelizmente, ele mata todos os seus estudantes
- (E) O tempo gasto na viagem foi de duas horas.

2

Muitas palavras portuguesas mostram o prefixo A- sem qualquer valor semântico, sendo equivalentes ao mesmo vocábulo sem esse prefixo.

Assinale a palavra a seguir que exemplifica esse A protético.

- (A) amostrar
- (B) abraçar
- (C) atenuar
- (D) aguardar
- (E) aparar

3

Os adjetivos podem representar estados, qualidades, características e relações.

Assinale a frase que mostra um tipo de adjetivo **diferente** dos demais.

- (A) Nunca houve criança tão amável que a própria mãe não ficasse satisfeita ao conseguir adormecê-la.
- (B) Nada mais perversamente cruel que uma adorável criança.
- (C) Mesmo estando doentes, as crianças não ficam caladas.
- (D) Quando as crianças estão quietas é porque fizeram alguma coisa errada.
- (E) As tangerinas verdes não amadurecem fora do pé.

4

John Steinbeck, prêmio Nobel, declarou o seguinte:

*O homem é o único animal que bebe sem ter sede, come sem ter fome e fala sem ter nada a dizer.*

Em relação ao significado e à estruturação desse pequeno texto, assinale a afirmativa **incorreta**.

- (A) A frase ficaria mais enfática se invertêssemos a posição do termo inicial: O único animal que bebe sem ter sede, come sem ter fome e fala sem ter nada a dizer é o homem.
- (B) A inversão de alguns segmentos do texto em nada modificaria o sentido da frase: O homem é o único animal que come sem ter fome, bebe sem ter sede e fala sem ter nada a dizer.
- (C) Os segmentos finais do texto mostram preocupação com rigoroso paralelismo sintático.
- (D) Segundo a opinião do autor do texto, a marca principal do homem é a irracionalidade.
- (E) Nem todas as ações citadas como marcas humanas estão presentes, por oposição, nos outros animais.

5

Assinale a frase em que a utilização do acento grave indicativo da crase é realizada de forma **errada**.

- (A) Jamais alguém se arrependeu de ter-se acostumado à madrugar e à ter-se casado jovem.
- (B) Tempo é o suspiro de adeus do sol à terra.
- (C) Saio todos os dias às cinco horas e não permito que o meu trabalho interfira no meu jogo de tênis.
- (D) O momento de extrair uma lição da história está sempre à mão para os sábios.
- (E) Quando assumi, quatro anos atrás, estávamos à beira do precipício.

6

Assinale a frase em que o adjetivo sublinhado mostra uma função sintática **diferente** das demais.

- (A) Por fora bela viola, por dentro pão bolorento.
- (B) Tiradentes, heroico, tentou organizar uma revolução.
- (C) Um rosto bonito altera-se depressa.
- (D) Eu não podia acreditar que existem múmias tão lindas.
- (E) Um homem belo é um homem insignificante.

7

Observe o seguinte texto:

*A felicidade depende da habilidade que tenhamos naquelas atividades que consideramos importantes: somente se lhes damos um real valor aos pequenos detalhes cotidianos, poderemos ter instantes felizes. A felicidade absoluta não existe, e já que só podemos acessar os pequenos detalhes daquilo que nos interessa, devemos contentar-nos com isso. Por isso, a infelicidade é um sinal claro de nossa incompetência na arte de viver.*

Sobre a estrutura e a significação desse texto, assinale a afirmativa **inadequada**.

- (A) O tema do texto gira em torno do que consiste a felicidade e o que viria a ser o seu oposto.
- (B) A afirmação de que “A felicidade absoluta não existe” é de cunho pessoal do autor do texto, representando uma opinião.
- (C) O raciocínio utilizado na estruturação argumentativa é do tipo dedutivo.
- (D) O conector “Por isso” mostra a preocupação com o caráter lógico da argumentação.
- (E) A tese do texto é a de que a infelicidade é fruto de nossa incompetência na arte de viver.

8

As frases a seguir mostram termos ligados pela conjunção OU.

Assinale a frase em que essa conjunção mantém o valor de alternativa (e não de adição).

- (A) João ou Pedro deve ser eleito presidente da empresa.
- (B) A alegria ou a tristeza fazem parte da vida.
- (C) Inglês ou francês são idiomas falados pelos turistas
- (D) Os clientes leem livros ou revistas enquanto esperam.
- (E) Vasco ou Flamengo são times de longa tradição.

9

Assinale a opção que mostra uma impropriedade léxica, ou seja, um emprego **inadequado** da expressão “cerca de”.

- (A) Havia cerca de três dúzias de convidados no final da festa.
- (B) Chegaram cerca de 100 cartas no mesmo dia.
- (C) Cerca de 18 lojas fecharam as portas mais cedo.
- (D) Os cantores receberam cerca de uma centena de convites.
- (E) A plantação produziu cerca de uma tonelada de legumes.

10

Assinale a frase que mostra a palavra *mais* numa classe gramatical **diferente** das demais.

- (A) O mercado está prisioneiro de mais um círculo vicioso: piora porque piorou e porque piorou, piora.
- (B) Os ingleses conquistaram o mundo porque não aguentavam mais a própria cozinha.
- (C) Quanto mais vejo o estrangeiro, mais amo a minha pátria.
- (D) Não é mais possível aprender tudo de cor. Um homem instruído não é mais o homem que sabe muitas coisas; é o homem que sabe onde buscar informações.
- (E) Muda-se mais facilmente de religião do que de café

11

Um guitarrista americano produziu o seguinte pensamento:  
*O crítico de rock é alguém que não sabe escrever, entrevistando gente que não sabe falar, para gente que não sabe ler.*

Sobre a estruturação ou a significação desse pequeno texto, assinale a afirmativa **incorreta**.

- (A) O termo “de rock” funciona como complemento nominal do termo anterior.
- (B) Todos os elementos da cadeia comunicativa citados no texto são marcados pela ignorância.
- (C) O pensamento acima revela um preconceito fortíssimo contra os amantes de rock.
- (D) A opinião expressa no texto pode advir da experiência pessoal do autor, já que se trata de um guitarrista.
- (E) A injustiça desse texto provém de ser uma opinião fundamentada em uma autoridade duvidosa.

12

Observe o seguinte texto:

*Quando entrei no terrível vagão, ele estava ocupado por duas pessoas. Uma, dobrada, coberta, dormia profundamente. A coberta superior estava manchada, de fundo amarelado, como pele de leopardo. Vendem-se muitas mantas assim nas lojas de artigos de viagens, mas pude notar logo depois que se tratava realmente da pele de um animal selvagem; do mesmo modo, o boné da pessoa adormecida me pareceu ser de feltro branco bastante delicado. O outro viajante, uma aparência simpática, parecia ter passado dos trinta anos e mostrava-se como figura insignificante que passa confortavelmente as noites em estradas de ferro.*

Nesse fragmento textual, para criar sinais de história realista e verdadeira, o narrador apela para a seguinte estratégia:

- (A) seleciona uma situação banal da qual não precisa fornecer muitos detalhes, exatamente por sua banalidade.
- (B) fornece algumas marcas caracterizadoras dos dois personagens presentes no texto, destacando sua banalidade.
- (C) indica traços descritivos do ambiente, mostrando-o como se nada houvesse nele de excepcional.
- (D) mostra detalhes variados e bastante pitorescos dos objetos descritos.
- (E) dá ao leitor informações sobre personagens e ambiente, mostrando-os como bastante conhecidos do narrador.

## Raciocínio Lógico Matemático

13

Em certo ano, o dia 1º de agosto cai em um domingo. Logo, o dia 1º de novembro cairá em

- (A) um sábado.
- (B) um domingo.
- (C) uma segunda-feira.
- (D) uma quarta-feira.
- (E) uma sexta-feira.

14

Em uma caixa, há muitas canetas esferográficas. Classificadas conforme a cor, elas podem ser azuis, vermelhas ou pretas. Classificadas quanto à espessura da esfera, elas podem ser de ponta fina ou de ponta grossa.

Metade das canetas vermelhas tem a ponta grossa. A quantidade total de canetas pretas é igual à quantidade total de canetas vermelhas. Entre as canetas de ponta grossa, a quantidade de azuis é igual à de pretas. A quantidade de canetas azuis com ponta fina é o dobro da quantidade de canetas pretas de ponta grossa.

Se, nessa caixa, 18 são azuis e 20 têm ponta grossa, então a quantidade total de canetas na caixa é

- (A) 30.
- (B) 40.
- (C) 48.
- (D) 50.
- (E) 52.

15

Tucídides possuía uma dívida e, em vez de quitá-la, pagou apenas 20% do seu valor, deixando o restante para ser quitado em data futura, com acréscimo de 12% a título de juros sobre o saldo devedor.

No ato de quitação, Tucídides pagou R\$2.329,60. Logo, o valor original da dívida é o resultado da seguinte expressão:

- (A)  $2.329,60 \times 0,88 - 20$
- (B)  $\frac{2.329,60}{0,88} \times 1,20$
- (C)  $\frac{2.329,60}{1,12} \times 1,20$
- (D)  $\frac{2.329,60}{1,12 \times 1,20}$
- (E)  $\frac{2.329,60}{1,12 \times 0,8}$

16

As filhas de Nepomuceno têm 5 e 9 anos de idade. Ele dividirá R\$420,00 entre elas de forma inversamente proporcional às suas idades.

Logo

- (A) a mais nova receberá R\$120,00 a mais que a mais velha.
- (B) a mais nova receberá R\$150,00 a mais que a mais velha.
- (C) a mais nova receberá R\$270,00 a mais que a mais velha.
- (D) a mais velha receberá R\$120,00 a mais que a mais nova.
- (E) a mais velha receberá R\$150,00 a mais que a mais nova.

17

Certo programa de rádio tem 1 hora e 55 minutos de duração. A partir do momento em que o programa é iniciado, há blocos temáticos de 7 minutos intercalados por blocos de propagandas de 2 minutos.

Em todos os blocos de propaganda, ouve-se o comercial do restaurante R, que sempre dura 18 segundos.

Se o programa começa e termina com um bloco temático, então, o tempo total do programa dedicado ao anúncio do restaurante R é

- (A) 3 minutos e 54 segundos.
- (B) 3 minutos e 36 segundos.
- (C) 3 minutos e 18 segundos.
- (D) 3 minutos.
- (E) 2 minutos e 48 segundos.

18

Marcelo está parado de frente para uma das paredes de uma sala quadrada. Nesta posição, ele está a 1m e 20cm da parede que se encontra à sua direita e a 1m e 70cm da parede que está às suas costas.

Ele, então, se desloca paralelamente às paredes da sala sendo 40cm para a frente e 80cm para a direita. Nessa nova posição, ele passou a distar 1m e 90cm da parede que antes estava à sua esquerda.

Desprezando-se as dimensões de Marcelo, a sua atual distância à parede que, antes dos movimentos, estava à sua frente, é

- (A) 20cm.
- (B) 30cm.
- (C) 40cm.
- (D) 50cm.
- (E) 60cm.

19

Um dado é dito comum quando tem a forma de um cubo e suas 6 faces são numeradas de 1 a 6, de tal forma que a soma dos números estampados em faces opostas, quaisquer que sejam elas, sempre somam 7.

Quando um dado comum é lançado, diz-se que o resultado do lançamento é o número estampado na face voltada para cima.

Um dado foi lançado 3 vezes seguidas. Se o produto dos resultados obtidos nos lançamentos vale 75, a soma desses resultados é igual a

- (A) 12.
- (B) 13.
- (C) 14.
- (D) 15.
- (E) 16.

20

A linha de produção de certa fábrica produz 1100 latas de sardinhas a cada hora. Certo dia, por um defeito de calibragem do sistema, entre 13h e 14h, o volume de produção foi reduzido em 30% durante exatos 12 minutos.

A quantidade de latas de sardinhas produzidas no intervalo supracitado foi

- (A) 946.
- (B) 964.
- (C) 1022.
- (D) 1034.
- (E) 1046.

21

A negação da proposição:

$$\text{Se } y \neq 0, \text{ então } x > 2 \text{ e } x \leq 5$$

é dada por

- (A) Se  $y = 0$ , então  $x > 2$  e  $x \leq 5$
- (B) Se  $y = 0$ , então  $x < 2$  ou  $x \geq 5$
- (C)  $y = 0$  e  $x \leq 2$  ou  $x > 5$
- (D)  $y \neq 0$  e  $x \leq 2$  ou  $x > 5$
- (E)  $y \neq 0$  e  $x \leq 2$  e  $x > 5$

22

Considere a seguinte proposição condicional:

*Se todos os alunos da Escola Aristarco gostam de matemática, então, ao menos um deles ganha medalha na Olimpíada Nacional de Matemática.*

Se essa proposição é verdadeira, é correto afirmar que

- (A) se nenhum dos alunos da Escola Aristarco gosta de Matemática, então nenhum deles ganha medalha na Olimpíada Nacional de Matemática.
- (B) se todos os alunos da Escola Aristarco ganham medalha na Olimpíada Nacional de Matemática, então, todos esses alunos gostam de Matemática.
- (C) se algum aluno da Escola Aristarco ganha medalha na Olimpíada Nacional de Matemática, então todos esses alunos gostam de Matemática.
- (D) se nenhum aluno da Escola Aristarco ganha medalha na Olimpíada Nacional de Matemática, então nenhum desses alunos gosta de Matemática.
- (E) se nenhum aluno da Escola Aristarco ganha medalha na Olimpíada Nacional de Matemática, então algum desses alunos não gosta de Matemática.

## Atualidades

23

No início do ano corrente, a Petrobras anunciou ter alcançado em 2023 o segundo maior valor de lucro líquido de sua história. Mesmo assim, suas ações caíram no mercado financeiro, em função da disputa sobre os dividendos.

A respeito dos resultados financeiros da Petrobrás nos últimos anos e da política de distribuição de dividendos da empresa, assinale a afirmativa correta.

- (A) A Petrobras é uma empresa estatal de economia mista que monopoliza a indústria petroleira no Brasil.
- (B) A Petrobras é uma estatal administrada diretamente por órgãos governamentais que controlam o valor das suas ações.
- (C) A Petrobras direciona parte dos dividendos para investidores privados, e outra parte para o governo federal, que controla a empresa via Tesouro e BNDES.
- (D) A Petrobras, sob o Governo Bolsonaro, reduziu o pagamento de dividendos a acionistas privados para reinvesti-los em energia renovável.
- (E) A Petrobras, no atual governo, vendeu ativos e distribuiu o lucro e os valores recordes de dividendos entre seus acionistas para financiar projetos do BNDES.

24

Um supercomputador consiste em milhares de pequenos computadores chamados nós. Cada nó é equipado com sua própria memória e com vários processadores. Atuando em conjunto, eles são capazes de realizar cálculos extremamente complexos em elevada velocidade. Hoje, o maior supercomputador da América Latina é o Pégaso, da Petrobras, com 678 TB de memória RAM e mais de 233 mil núcleos.

Adaptado de <https://revistapesquisa.fapesp.br>

A respeito do poder computacional de alto desempenho dos supercomputadores, analise as afirmativas a seguir e assinale (V) para a verdadeira e (F) para a falsa.

- ( ) Essas máquinas são instrumentos valiosos de pesquisa e de suporte a setores da economia como defesa, energia e saúde, permitindo a resolução de problemas complexos em menor tempo.
- ( ) Esses equipamentos permitem realizar tarefas que exigem altíssimos níveis de processamento, como simulações da formação do universo ou modelagem molecular para novos fármacos.
- ( ) Esses aparelhos trabalham em alta velocidade de processamento pelo somatório de diversos núcleos, o que potencializa a velocidades do processador, medidas em gigahertz (GHz).

As afirmativas são, respectivamente,

- (A) V – V – F.
- (B) V – F – V.
- (C) F – V – F.
- (D) F – V – V.
- (E) V – V – V.

25

Energia gerada por recursos naturais renováveis que, no Brasil, provém da lenha, carvão vegetal, carvão mineral, bagaço de cana e outros resíduos combustíveis. Essa energia é a matéria orgânica vegetal ou animal usada como fonte de energia limpa e sustentável.

O trecho descreve o seguinte componente importante do desenvolvimento sustentável:

- (A) compostagem.
- (B) biodiversidade.
- (C) créditos de carbono.
- (D) ciclo de vida.
- (E) biomassa.

26

A França se tornou o primeiro país do mundo a incluir na Constituição a liberdade de a mulher abortar. A mudança na Carta Magna foi aprovada em uma sessão conjunta das duas Casas legislativas, a Assembleia Nacional e o Senado, e será promulgada pelo presidente Emmanuel Macron ainda em março de 2024.

Adaptado de <https://www1.folha.uol.com.br/mundo/2024/03/>

Diferentemente da França, a legislação brasileira

- (A) equipara o aborto ao infanticídio.
- (B) considera o aborto uma prática ilegal em todas as situações.
- (C) descriminaliza a interrupção da gravidez em caso de deficiência da gestante.
- (D) estabelece um limite temporal para interromper a gravidez, desde que respaldada por laudo médico.
- (E) autoriza a interrupção de gestação em caso de não haver outro meio de salvar a vida da gestante.

27

Assinale a afirmativa que descreve corretamente um aspecto do panorama global da economia em 2023.

- (A) Nos Estados Unidos, a economia foi alavancada pela adoção de uma política de ampliação do crédito e baixa da taxa de juros.
- (B) Na China, o PIB cresceu acima do esperado, em um cenário marcado pela retomada econômica pós pandemia, inclusive no setor imobiliário.
- (C) Na Zona do Euro, a alta dos preços da energia pesou nas despesas familiares e no setor industrial, confirmando a manutenção de um quadro de crise.
- (D) Na Rússia, o PIB decresceu, em função do impacto prolongado da guerra com a Ucrânia e dos embargos à venda de petróleo e gás russos.
- (E) Na América do Sul, foi mantido um caminho geral de crescimento, apoiado por investimentos externos e pela intensificação de políticas estatistas.

28

Desde os anos 2000, o interior do Brasil ultrapassou o litoral na incidência de dengue. A região costeira que vai de Santos, em São Paulo, até Belém, no Pará, apresentava tipicamente maior proporção de casos de dengue em comparação com sua população. Entretanto, recentemente, o oeste do Paraná, o oeste de Santa Catarina o oeste de São Paulo, o interior de Minas Gerais, uma parte do Tocantins, o Goiás e o Mato Grosso do Sul viram a transmissão da doença aumentar e muitas de suas cidades foram obrigadas a decretar emergência.

Adaptado de <https://www.estadao.com.br>

A respeito dos fatores relacionados ao aumento e à interiorização dos casos de dengue no Brasil, analise as afirmativas a seguir.

- I. A maior frequência de períodos com temperaturas acima da média, inclusive com ondas de calor no período invernal em todo território, tem reforçado o padrão sazonal da doença.
- II. A expansão urbana desvinculada de melhoras nos serviços sanitários tem propiciado a formação de ilhas de calor e, portanto, uma alta na incidência da dengue.
- III. O desmatamento do cerrado, convertido em pasto, por exemplo, tem contribuído para aumentar a temperatura média e o número de casos da doença no interior do Brasil.

Está correto o que se afirma em

- (A) I, apenas.
- (B) I e II, apenas.
- (C) I e III, apenas.
- (D) II e III, apenas.
- (E) I, II e III.

29

Em 2024, o Tribunal Superior Eleitoral (TSE) aprovou uma resolução para regulamentar o uso da inteligência artificial (IA) durante as eleições municipais a serem realizadas em outubro. A norma proíbe manipulações de conteúdo falso para criar ou substituir imagem ou voz de candidato com objetivo de prejudicar ou favorecer candidaturas. Também foi aprovada a restrição do uso de chatbots humanizados e avatares para intermediar a comunicação das campanhas com pessoas reais nas redes sociais.

Adaptado de <https://agenciabrasil.etc.com.br/>

A resolução sobre IA objetiva

- (A) coibir a produção e circulação de deepfakes.
- (B) restringir o uso de ferramentas de IA simbólica.
- (C) retomar a veiculação de propagandas eleitorais em mídias tradicionais, como rádio e televisão.
- (D) proibir o uso de ferramentas de coleta e seleção em bases de dados com fins eleitorais.
- (E) limitar o uso de assistente virtual programado por AI para divulgação do programa partidário.

30

De acordo com o censo demográfico de 2022 (IBGE), mais da metade da população brasileira (51,13%) é feminina, e elas representam, segundo o Tribunal Superior Eleitoral, 53% do eleitorado. No entanto, elas ocupam, hoje, menos de 15% dos cargos eletivos.

A respeito da baixa participação das mulheres na política, assinale a afirmativa que apresenta um dispositivo existente na legislação brasileira para alterar esse cenário.

- (A) Reserva de pelo menos 50% dos recursos do Fundo Especial de Financiamento de Campanha, o Fundo Eleitoral, para financiar candidaturas femininas.
- (B) Suspensão dos direitos eleitorais aos partidos em caso de não observância do percentual de pelo menos 30% de candidatas mulheres em cada ciclo eleitoral
- (C) Reserva de assentos, em ambas as casas legislativas, para mulheres, com preferência para as representantes de povos originários.
- (D) Cota de gênero, que obriga cada partido ou coligação a preencher o mínimo de 30% e o máximo de 70% de candidaturas de cada sexo.
- (E) Repasse de até 30% dos recursos dos Fundos Partidário para custear o tempo da propaganda eleitoral gratuita de candidatas em rádio e televisão.

31

As afirmativas a seguir descrevem o desempenho da economia brasileira em 2023, à exceção de uma. Assinale-a.

- (A) A expansão econômica ampliou a geração de empregos informais, em um contexto recessivo e de flexibilização das leis trabalhistas.
- (B) O dinamismo da economia foi marcado pelo aumento de exportações, no setor agrícola, e da demanda, no setor de serviços, em função da alta no consumo das famílias.
- (C) A alta progressiva nas cotações internacionais de commodities acelerou o ritmo das exportações, mesmo em um cenário cambial desfavorável para os exportadores.
- (D) A retração do Brasil no mercado regional e internacional ocorreu em função da maior competitividade dos produtos agrícolas argentinos e pela retomada da economia chinesa.
- (E) A persistência do alto nível da inflação foi ocasionada pela alta da cesta básica, sobretudo dos alimentos, cujas safras foram afetadas pelas condições climáticas adversas.

32

*Dados da última década mostram que, em relação aos Estados, o Pará é o que apresenta o maior número de registros de resgates de trabalho análogo à escravidão, com 9.853, seguido por Mato Grosso (4.302); Tocantins (2.896); São Paulo (1.529) e Rio de Janeiro (1.653), em 2017.*

Adaptado de <https://www.jota.info/justica/em-14-anos-434-mil-foram-resgatados-de-trabalho-escravo-30102017>

A respeito da definição moderna de escravidão, analise as afirmativas a seguir.

- I. Em Tocantins, a maior incidência de escravidão moderna ocorre na zona rural, associada a atividades agropecuárias e ao extrativismo mineral, como nas carvoárias, por exemplo.
- II. A Organização Internacional do Trabalho determina a condição de escravidão por uma série de componentes, como o trabalho forçado análogo ao de escravo e o casamento forçado.
- III. Pessoas obrigadas a trabalhar por dívida ou por ameaça, sem direitos trabalhistas garantidos estão em situação de escravidão, uma vez que lhes é impedida a liberdade de ir e vir.

Está correto o que se afirma em

- (A) I, apenas.
- (B) I e II, apenas.
- (C) I e III, apenas.
- (D) II e III, apenas.
- (E) I, II e III.

## História e Geografia do Estado de Tocantins

33

O Memorial Coluna Prestes (2001) é uma obra do arquiteto Oscar Niemeyer localizada na Praça dos Girassóis, no centro de Palmas (TO).



Fonte: <https://central.to.gov.br/image/1461457f=1>

A respeito da relação entre essa obra e a constituição de uma memória histórica para o Estado do Tocantins, analise as afirmativas a seguir.

- I. O monumento refere-se à Coluna Prestes, que percorreu o Brasil para divulgar seu programa revolucionário entre 1924 e 1927, tendo passado pelo Norte do então Estado de Goiás (atual Tocantins) durante seu percurso.
- II. A obra foi realizada em concreto e apresenta curvas sinuosas, características próprias do Barroco das cidades mineradoras, estabelecendo visualmente uma continuidade entre o Barroco do passado das cidades mineradoras e o presente do Tocantins.
- III. A construção do memorial permite inserir simbolicamente a história do Tocantins nos grandes processos da história republicana nacional, e homenagear o Tenente Antônio de Siqueira Campos, cujo sobrenome é homônimo ao do ex-governador do Estado.

Está correto o que se afirma em

- (A) I, apenas.
- (B) I e II, apenas.
- (C) I e III, apenas.
- (D) II e III, apenas.
- (E) I, II e III.

34

*As belas paisagens como serras, cachoeiras, praias e até mesmo dunas, fazem do Tocantins um paraíso de paisagens naturais, atraindo turistas de várias regiões para conhecer o mais novo Estado brasileiro. A potencialidade para o ecoturismo e a preocupação em conservar a biodiversidade e recursos naturais nele contidos fez com que o Governo do Estado, criasse e implementasse as Unidades de Conservação Ambiental (UC).*

Adaptado de <https://www.to.gov.br/secom/>

A respeito das Unidades de Conservação (UC) do Tocantins, assinale a afirmativa correta.

- (A) São espaços territoriais legalmente instituídos pelo poder público e podem ser de proteção integral federal, como no caso dos Parques Cantão, Jalapão e Lajeado.
- (B) As UCs federais estão subordinadas ao Instituto Chico Mendes de Conservação da Biodiversidade (ICMBio), como no caso do Monumento Natural das Árvores Fossilizadas.
- (C) As UCs estaduais estão subordinadas ao Instituto Natureza do Tocantins (Naturatins), que supervisiona o Parque do Araguaia e o das Nascentes do rio Parnaíba.
- (D) As UCs de uso sustentável são compostas exclusivamente por áreas públicas, sendo permitida sua utilização apenas para o ecoturismo, pesquisa e educação ambiental.
- (E) As UCs municipais estão subordinadas às secretarias de meio ambiente, como no caso do Monumento Natural dos Cânions e Corredeiras do Rio Sono e do Parque Ecológico Roberto Guedes Pereira.

35

O Estado do Tocantins possui diversas comunidades quilombolas certificadas e outras com processo formalizado para regularização fundiária de seus territórios. A definição de comunidade quilombola é dada pelo Art. 2º do Decreto nº 4.887/2003:

*Consideram-se remanescentes das comunidades dos quilombos, para os fins deste Decreto, os grupos étnico-raciais, segundo critérios de auto-atribuição, com trajetória histórica própria, dotados de relações territoriais específicas, com presunção de ancestralidade negra relacionada com a resistência à opressão histórica sofrida.*

A respeito dos órgãos e processos envolvidos na identificação e regularização de territórios quilombolas no Estado do Tocantins, assinale a afirmativa correta.

- (A) O acesso dessas comunidades às políticas públicas de educação, saúde, moradia e regularização fundiária depende de o Estado emitir uma certidão de identificação de comunidade quilombola, mediante Fundação Palmares.
- (B) Os critérios para reconhecimento de um grupo enquanto remanescente de quilombo depende da comprovação de sua ancestralidade, seu parentesco e da preservação viva de religiosidades autenticamente africanas.
- (C) A Coordenação Nacional de Articulação de Comunidades Negras Rurais Quilombolas (CONAQ) luta pela incorporação constitucional do direito à autodefinição dos remanescentes de quilombos.
- (D) A certificação quilombola é realizada pela Fundação Cultural Palmares, que avalia com visitas técnicas a autenticidade do legado quilombola pretendido e, caso o aprove, emite a certidão de comunidade quilombola e a inscreve em um cadastro geral.
- (E) O acesso às terras ocupadas pelos remanescentes das comunidades dos quilombos é garantido por sua delimitação e titulação, a cargo da autoridade municipal em que a mesma se localiza.

36

Até 1988, o território que hoje corresponde ao Estado do Tocantins pertencia ao antigo norte de Goiás e à Região Centro-Oeste, tendo como capital política a cidade de Goiânia. Com a emancipação política, da noite para o dia, as pessoas amanheceram tocantinenses, mas sem referências culturais que as representassem como tais.

A respeito da projeção simbólica do novo Estado e de sua nova capital, assinale a opção que interpreta corretamente o processo de construção e atribuição de uma identidade ao Tocantins.

- (A) Desde o primeiro mandato do governador Siqueira Campos, os símbolos oficiais do Tocantins continuaram sendo o brasão de armas, a bandeira, o selo estadual e a canção “Hino ao Tocantins”, de Liberato Costa Póvoa e Abiezer Alves da Rocha.
- (B) O girassol foi reconhecido oficialmente como símbolo da natureza do Estado, por ser uma planta nativa dos cerrados tocantinenses e estar associada à prosperidade e à esperança.
- (C) A Praça dos Girassóis, centro cívico de Palmas, foi concebida para receber edifícios esteticamente associados à cultura do Tocantins, como o Palácio do Araguaia, cujos pórticos remetem ao capim dourado, símbolo da tradição do artesanato de alta qualidade da região.
- (D) A monumentalidade da Praça dos Girassóis é enfatizada pelo seu pavimento, que contém figuras simbólicas como o mapa do Tocantins, a rosa dos ventos, o brasão de armas e a Praça Krahô.
- (E) O meio ambiente também foi utilizado para fortalecer o sentimento identitário, inserindo o girassol, a fava-de-bolota, a arara-canindé e a granada como símbolos da natureza do Tocantins, desde a promulgação da Constituição Estadual em 1989.

37

Leia a descrição de uma classe de vegetação presente no estado do Tocantins, a seguir.

*Esta vegetação, também conhecida como floresta pluvial tropical, é caracterizada por árvores de porte elevado, além de trepadeiras lenhosas e epífitas (bromélias e orquídeas, por exemplo) em abundância, o que a diferencia de outras classes de formação vegetal. Sua característica ecológica principal é estar presente em ambientes de chuvas abundantes, como na parte noroeste do Estado, onde as temperaturas médias são de 25°C e os elevados índices de precipitação estão bem distribuídos ao longo do ano.*

Adaptado de Luís Antônio G. C. Silva. *Biomas presentes no Estado do Tocantins*. Brasília: Câmara dos Deputados, 2007, p. 4.

O trecho caracteriza a região conhecida como Floresta

- (A) Estacional Semidecidual.
- (B) Tropical Subcaducifólia.
- (C) de Mata Atlântica.
- (D) Ombrófila Densa.
- (E) Temperada Decidual.

38

*Foram inegáveis os desdobramentos socioeconômicos sobre o antigo Norte Goiano fruto da construção da rodovia BR-153, a partir do final da década de 1950. O novo urbanismo da Belém-Brasília trouxe enorme impacto no que se refere ao conjunto de cidades que existiam às margens do rio Tocantins, aos fluxos migratórios e às atividades econômicas da região.*

Adaptado de AQUINO, N. *Tocantins: cidades e urbanismo em três modelos históricos*. In: III Encontro da ANPPAS. Brasília, 2006, p. 8.

As afirmativas a seguir descrevem corretamente impactos da rodovia BR-153 no processo de territorialização do Tocantins, **à exceção de uma**. Assinale-a.

- (A) A rodovia foi construída no governo Kubitscheck, em um contexto desenvolvimentista que considerava a expansão rodoviária como um meio para integrar econômica e territorialmente as regiões do país, inclusive o norte goiano que, então, vivia uma situação de abandono.
- (B) A rodovia Belém-Brasília teve grande importância para a urbanização do atual Tocantins, o que é exemplificado pela quantidade de novas cidades criadas após a sua construção, como Araguaína, Gurupi, Paraíso do Tocantins, Colinas do Tocantins e Guaraí.
- (C) A construção da BR-153 alavancou também os municípios ribeirinhos, pois a navegação fluvial foi intensificada para abastecer as obras em curso, o que transformou esses municípios em satélites econômicos da nova malha urbana instalada ao longo da rodovia.
- (D) Após a abertura da rodovia, as principais áreas que receberam fluxos migratórios foram a Microrregião de Gurupi – Gurupi e a Microrregião de Porto Nacional – Palmas, para onde se dirigiram pessoas interessadas em trabalhar na construção civil, nos serviços e no comércio, entre outros.
- (E) A BR-153 permitiu interligar o norte de Goiás, atual Estado do Tocantins, a outras localidades do país, facilitando o escoamento da produção e o acesso a produtos para a região, promovendo o fluxo de mercadorias e serviços.

39

A respeito da matriz energética do Estado e dos investimentos em biocombustíveis, analise as afirmativas a seguir e assinale (V) para a verdadeira e (F) para a falsa.

- ( ) O Estado tem condições de clima e solo desfavoráveis para o plantio de matérias-primas usadas na fabricação de biocombustíveis, mas a expansão do modal logístico (Ferrovia Norte-Sul) permitirá o acesso à soja do planalto goiano.
- ( ) O Tocantins conta com duas usinas de biodiesel em funcionamento, utilizando o pinhão-mansão, a soja, a mamona e outras oleaginosas como matéria-prima.
- ( ) O Estado tem alto potencial de geração de energia solar, pela elevada irradiação solar e pelas políticas públicas voltadas para produção de energia limpa e renovável, como a Política Estadual de Incentivo à Geração e ao Uso da Energia Solar (Pró-Solar)

As afirmativas são, respectivamente,

- (A) V – F – V.
- (B) F – V – V.
- (C) F – F – V.
- (D) V – V – F.
- (E) V – V – V.

40

Comparando dados dos censos do IBGE, pode-se elaborar um retrato da evolução demográfica da população residente no Estado de Tocantins. O grupo na faixa etária de 0 a 14 representava 41,7% da população em 1991, 28,8% em 2010, e passou para 24% em 2022. A população acima de 65 anos era de 3,8% em 1991 e 5,8% em 2010, e ficou em 8,6% em 2022. O censo de 2022 mostrou ainda que a faixa etária de 15 a 29 anos representa 15% da população e que 41% da população é composta por pessoas de 30 a 59 anos.

Com base no trecho, assinale a opção que apresenta a dinâmica populacional do Tocantins entre 1991 e 2022.

- (A) Expansão da base da pirâmide etária.
- (B) Diminuição da taxa de fecundidade.
- (C) Estreitamento do topo da pirâmide.
- (D) Aumento da idade mediana.
- (E) Redução do índice de envelhecimento.



## CONHECIMENTOS ESPECÍFICOS

41

A interpretação constitucional é importante matéria na busca pela compreensão do Texto Maior.

Com relação a alguns de seus princípios, analise os itens a seguir.

- I. Por conta da origem das normas constitucionais e em razão da diferenciação entre Poder Constituinte e Poderes Constituídos, o princípio da supremacia da constituição significa a ocupação de uma posição hierárquica superior pelas normas constitucionais, em relação a toda e qualquer outra norma.
- II. Devido à sua feição meramente política, da Constituição não se deve atribuir o sentido que assegure maior eficácia e força normativa às suas disposições.
- III. É possível enxergar que na operação de interpretação das leis em conformidade com a Constituição, empreende-se uma interpretação constitucionalmente guiada da norma infraconstitucional e atribui-se um sentido à norma constitucional.

Está correto o que se afirma em

- (A) I, II e III.
- (B) I e II, apenas.
- (C) I e III, apenas.
- (D) II e III, apenas.
- (E) I, apenas.

42

O Poder Constituinte Originário tem sua fundamentação assentada, sobretudo na França, no período da sua revolução liberal.

Sobre o Poder Constituinte Originário, analise as afirmativas a seguir e assinale (V) para a afirmativa verdadeira e (F) para a falsa.

- ( ) A base estrutural do Poder Constituinte Originário foi fundada na ideia de afastar a legitimação do poder na tradição, na dinastia e na vinculação de uma família ao Estado.
- ( ) É do povo, compreendido como pessoas de origem étnica ou cultural comum, que se delimita e reúne politicamente, a titularidade do Poder Constituinte Originário e, por isso, não se admite que fração dele se arvore a ser sua representação, ainda que tenha obtido um reconhecimento tal para atuar como Poder Constituinte Originário.
- ( ) Disse-se que o Poder Constituinte Originário é inicial, ilimitado e incondicionado. No entanto, é possível apontar duas objeções ao caráter ilimitado. Quanto à liberdade contra imposições vindas da ordem jurídica anterior, é preciso ressaltar a existência de limitações políticas próprias do exercício de tal poder, tais como valores éticos, religiosos e culturais de uma nação. Quanto a decisões totalitárias, existe mais uma limitação ao aludido poder, posto que a ordenação jurídica do poder do Estado se dá para a instituição de um Estado com poderes limitados.

As afirmativas são, respectivamente,

- (A) V – V – V.
- (B) V – F – V.
- (C) V – V – F.
- (D) F – F – F.
- (E) F – V – F.

43

Alberto, servidor público estável ocupante de cargo efetivo na Assembleia Legislativa do Estado Beta, foi demitido por falta funcional, conforme restou decidido no bojo de processo administrativo disciplinar. Ocorre que, posteriormente, foi invalidada por sentença judicial a demissão de Alberto.

De acordo com a Constituição da República de 1988, Alberto será reintegrado, e o eventual ocupante da vaga

- (A) independentemente de ser estável ou não, será posto em disponibilidade, com remuneração proporcional ao tempo de serviço, até o prazo que possa se aposentar.
- (B) independentemente de ser estável ou não, posto em disponibilidade, com remuneração proporcional ao tempo de contribuição, até o prazo que possa se aposentar voluntariamente ou até que surja nova vaga.
- (C) se estável, aproveitado em cargo de semelhante remuneração e escolaridade, tendo o direito subjetivo de antecipar sua aposentaria em cinco anos.
- (D) se estável, reconduzido ao cargo de origem, sem direito a indenização, aproveitado em outro cargo ou posto em disponibilidade com remuneração proporcional ao tempo de serviço.
- (E) se estável, reconduzido ao cargo de origem, com direito a indenização, aproveitado em outro cargo de semelhante remuneração e escolaridade ou posto em disponibilidade com remuneração proporcional ao tempo de contribuição.

44

A Constituição pode ser compreendida como um conjunto de normas que criam e fixam competências dos principais órgãos do Estado, e disciplinam as interações e controles recíprocos entre os mesmos.

A respeito da Constituição, analise as afirmativas a seguir e assinale (V) para a afirmativa verdadeira e (F) para a falsa.

- ( ) Com base na ideia de que existem temas típicos de uma Constituição, é possível falar em normas materialmente constitucionais, o que, no entanto, recebe crítica devido à influência ideológica dominante em certo momento da história do constitucionalismo.
- ( ) As normas formalmente constitucionais são aquelas encontradas no texto da Constituição e elas só podem ser aí inseridas pelo Poder Constituinte quando materialmente constitucionais.
- ( ) A inserção de um tema como norma constitucional encontra razão, dentre outras, na concessão de maior estabilidade conferida pelo *status* constitucional, independentemente da categorização da Constituição como rígida.

As afirmativas são, respectivamente,

- (A) V – F – F.
- (B) F – F – V.
- (C) V – V – F.
- (D) F – V – V.
- (E) V – V – V.

45

Determinado servidor público estável, ao ser questionado sobre as disposições gerais da Lei nº 8.429/92, com a redação conferida pela Lei nº 14.230/2021, no âmbito da improbidade administrativa, respondeu corretamente que

- (A) apenas respondem por improbidade administrativa, os agentes públicos que atuam na Administração Direta e Indireta.
- (B) o mero exercício da função ou desempenho de competências públicas, sem comprovação de ato doloso com fim ilícito, é suficiente para caracterizar a responsabilidade por ato de improbidade administrativa que importa em enriquecimento ilícito.
- (C) no que se refere a recursos de origem pública, sujeita-se às sanções previstas na lei de improbidade o particular, pessoa física ou jurídica, que celebra com a administração pública convênio, contrato de repasse, contrato de gestão, termo de parceria, termo de cooperação ou ajuste administrativo equivalente.
- (D) considera-se dolo a vontade livre e consciente de alcançar o resultado ilícito tipificado como ato de improbidade, não bastando a voluntariedade do agente, salvo com relação aos atos de improbidade que importam em lesão ao erário, que podem ensejar responsabilização por negligência ou imprudência.
- (E) a possibilidade de responsabilidade sucessória restringe-se aos herdeiros da pessoa física, nos limites da herança ou do patrimônio transferido, não podendo ser aplicada na hipótese de alteração contratual, de transformação, de incorporação, de fusão ou de cisão societária.

46

O Art. 37, XXI, da CRFB/88 consagra que *ressalvados os casos especificados na legislação, as obras, serviços, compras e alienações serão contratados mediante processo de licitação pública que assegure igualdade de condições a todos os concorrentes, com cláusulas que estabeleçam obrigações de pagamento, mantidas as condições efetivas da proposta, nos termos da lei, o qual somente permitirá as exigências de qualificação técnica e econômica indispensáveis à garantia do cumprimento das obrigações*, sendo certo a matéria atinente às licitações e contratações, atualmente, tem como principal diploma a Lei nº 14.133/2021.

Nesse contexto, com relação aos contornos atinentes à contratação direta pela Administração Pública, ou seja, sem a realização de procedimento licitatório, preenchidos os requisitos estabelecidos em lei, é correto afirmar que

- (A) não é admitida pelo ordenamento nenhuma hipótese de contratação direta pela Administração Pública.
- (B) com relação às compras e às alienações a serem realizadas pelo Poder Público não há possibilidade de contratação direta.
- (C) existindo pluralidade de competidores e viabilidade de competição, é inconstitucional a norma que possibilite a contratação direta.
- (D) em situações em que há viabilidade de competição, a licitação pode ser dispensável nas hipóteses expressamente previstas em lei, em relação as quais haverá discricionariedade do administrador com relação à contratação direta.
- (E) a contratação direta pela Administração Pública é situação excepcional, de modo que apenas é admitida nas situações em que há inviabilidade de competição, taxativamente consagradas em lei.

47

Entre as características do regime jurídico administrativo, o *princípio da supremacia do interesse público* tem espaço de relevo e suscita alguns questionamentos, notadamente no âmbito do direito administrativo moderno.

É correto afirmar que se trata de

- (A) princípio absoluto da Administração Pública, expressamente consagrado na Constituição, de modo que deve sempre prevalecer no âmbito da ponderação de interesses.
- (B) princípio que não pode mais ser admitido, por não estar expresso na Constituição, considerando que o consensualismo passou a ser o eixo do direito administrativo, razão pela qual não mais se admite as cláusulas exorbitantes no âmbito dos contratos administrativos.
- (C) princípio que é inexorável à atuação administrativa, expresso na Constituição, que juntamente com o princípio da indisponibilidade do interesse público, importam na vedação de que a Administração Pública formalize instrumentos consensuais com particulares.
- (D) princípio que não é expressamente consagrado na Constituição, devendo ser ponderado com os demais princípios do ordenamento jurídico nas situações de conflito, considerando, inclusive, que, no mais das vezes, a efetivação de direitos fundamentais promove a materialização do interesse público.
- (E) princípio expresso na Constituição, que deve ser invocado para fazer prevalecer a vontade dos gestores públicos, que tem ampla discricionariedade no exercício de suas atividades, a qual encontra limites apenas na vinculação à lei.

48

Diante da intenção de implementar determinado projeto importante para o desenvolvimento econômico da localidade, o Estado Delta verificou que será necessário alterar certa unidade de conservação instituída pelo próprio ente federativo por meio de Decreto, no sentido de que deixe de ser de proteção integral e passe a ser de uso sustentável. Além disso, concluiu-se que será indispensável reduzir o espaço especialmente protegido, a importar, portanto, em sua supressão.

Diante dessa situação hipotética, é correto afirmar que

- (A) a alteração ou supressão da unidade de conservação ambiental em questão apenas pode ser realizada por lei do respectivo ente federativo.
- (B) tanto a supressão quanto a alteração da unidade de conservação ambiental em questão pode ser realizada por lei ou por decreto.
- (C) a alteração da unidade de conservação em questão pode ser realizada por lei ou por decreto do respectivo ente federativo, mas a supressão apenas pode ser efetuada por lei da União.
- (D) apesar de não ser possível a supressão ou alteração da unidade de conservação ambiental em questão por decreto, é cabível a edição de uma medida provisória do respectivo ente federativo para tais finalidades.
- (E) é viável a supressão da unidade de conservação ambiental em questão por meio de decreto, mas não a alteração do espaço ambientalmente protegido, que somente pode ser realizada por lei do respectivo ente federativo.

49

Em uma cidade do interior brasileiro, o Prefeito realizou obras em diversos bens públicos, com destaque as feitas no museu municipal, na rua principal, na maior praça da cidade e na sede da prefeitura. Contudo, sofre muitas críticas por ter deixado de fora um terreno baldio.

Com relação ao tema bens, assinale a afirmativa correta.

- (A) O museu municipal e o terreno baldio são classificados como bens dominicais.
- (B) A praça da cidade e a sede da prefeitura são classificadas como bens de uso comum.
- (C) Na classificação dos bens de uso comum, encontram-se a praça e a rua.
- (D) O terreno baldio e o museu municipal, caso a entrada seja gratuita, são considerados como bens de uso especial.
- (E) A sede da prefeitura e a rua são enquadradas pela doutrina como bem de uso comum.

50

Antônio, Tereza e Gabriela Balbuíno adquirem por meio da herança de seu pai diversas obras de arte, tornando-se condôminos de todos os bens. No mês passado, alienaram para Dorival Caribé um famoso quadro de Tarsila do Amaral. Comprometeram-se a entregar a obra de arte no dia de ontem, contudo, por culpa exclusiva, de Gabriela, o quadro foi destruído, sem possibilidade de reparo. A cláusula terceira do contrato atribui solidariedade aos devedores pela entrega do bem.

Diante da situação hipotética narrada, com base no tema obrigações, assinale a afirmativa correta.

- (A) Antônio, Tereza e Gabriela respondem pelo equivalente e as perdas e danos.
- (B) Gabriela responde exclusivamente tanto pelo equivalente, quanto pelas perdas e danos.
- (C) Antônio, Tereza e Gabriela respondem pelas perdas e danos, havendo isenção de responsabilidade pelo equivalente.
- (D) Gabriela responde exclusivamente pelo equivalente, já os outros irmãos somente pelas perdas e danos.
- (E) Antônio, Tereza e Gabriela respondem pelo equivalente, porém pelas perdas e danos somente Tereza.

51

Pedro propôs ação de procedimento comum em face do Estado *Alfa*, na qual postulou a condenação do ente estadual a implementar pensionamento mensal decorrente do óbito de sua esposa, bem como o pagamento dos valores alegadamente em atraso.

Em sede de contestação, o Estado *Alfa* não se opôs ao pedido de implementação da pensão. Todavia, impugnou especificamente os índices de juros e correção monetária dos valores em atraso requeridos por Pedro.

Com base nesse caso concreto, assinale a afirmativa correta.

- (A) O juízo poderá julgar o mérito de forma antecipada e parcial em relação ao pedido de implementação de pensão por morte, hipótese em que a decisão será impugnável por meio de agravo de instrumento.
- (B) A impugnação do Estado *Alfa* em relação ao pedido de condenação dos valores em atraso impede o julgamento antecipado de mérito, o qual somente poderá incidir sobre todo o mérito do processo.
- (C) Eventual decisão que julgar antecipadamente o pedido de concessão de pensão será objeto de execução provisória até eventual decisão sobre o pedido de pagamento dos valores em atraso, ainda que haja seu trânsito em julgado.
- (D) Não impugnado o pedido de implementação de pensão por morte, haverá incidência do efeito material da revelia em relação ao ente público, por não ter ofertado contestação em face de tal pedido.
- (E) O juiz deverá, em decisão de saneamento e organização do processo, delimitar as questões de fato sobre as quais recairá a atividade probatória, a qual necessariamente incidirá sobre o direito ao recebimento da pensão.

52

Jonas ajuizou ação de procedimento comum em face de João. O pedido foi julgado procedente, condenando João a pagar dez mil reais a título de danos materiais em favor de Jonas.

Três anos após o trânsito em julgado da última decisão proferida no processo, o Supremo Tribunal Federal declarou, em controle concentrado, a inconstitucionalidade da lei que amparou a pretensão indenizatória de Jonas. Não houve modulação dos efeitos da decisão.

Inconformado, dois meses após a decisão do Supremo Tribunal Federal, João ajuizou ação rescisória em face de Jonas, requerendo a desconstituição da decisão proferida no processo movido por Jonas.

Com base na hipótese narrada, é correto afirmar que

- (A) João teve que efetuar depósito equivalente a dez por cento sobre o valor da causa, o qual se converterá em multa caso a ação rescisória seja declarada inadmissível ou improcedente.
- (B) o relator ordenará a citação de Jonas, designando prazo de dez dias para, querendo, apresentar resposta.
- (C) João ajuizou a ação rescisória dentro do prazo decadencial previsto em lei, razão pela qual não se extinguiu o direito à rescisão da decisão proferida no processo movido por Jonas.
- (D) com a propositura da ação rescisória, a decisão rescindenda não poderá ser objeto de cumprimento de sentença, dado o efeito suspensivo automático decorrente do ajuizamento de tal ação autônoma de impugnação.
- (E) julgando procedente o pedido, o tribunal rescindir a decisão, vedado novo julgamento da causa, em toda e qualquer hipótese.

53

Sérgio transitava pela Avenida Paraíso, quando foi atingido por uma forte explosão. Foi socorrido por uma ambulância e, ao acordar no hospital com queimaduras de primeiro e segundo grau em partes do seu corpo, soube que a explosão veio de uma loja que prestava serviços de impermeabilização de sofás sem as devidas medidas de segurança.

Sérgio espera atrair a incidência das normas do Código de Defesa do Consumidor para o seu caso, de forma a facilitar o ônus da prova na busca pela indenização.

Para exercer a pretensão indenizatória, Sérgio

- (A) não pode ser considerado consumidor, pois não foi exposto à prática comercial exercida pela loja de impermeabilização de sofás.
- (B) pode ser considerado consumidor, pois, embora não tenha participado de relação de consumo, foi vítima de evento danoso desta.
- (C) pode ser considerado consumidor, pois é pessoa exposta à prática comercial abusiva.
- (D) pode ser considerado consumidor, pois era destinatário final do serviço e existia vulnerabilidade.
- (E) não pode ser considerado consumidor, pois, embora vulnerável, não era destinatário final do serviço.

54

Jerônimo trabalhava em um estabelecimento comercial situado em Araguaína-TO e sofreu um grave acidente do trabalho, ficando afastado das atividades laborais por sete meses.

Jerônimo se recuperou, mas ficou com sequelas, tendo a capacidade laborativa reduzida. O segurado em questão foi submetido a processo de reabilitação pelo INSS e, tempos depois, passou a exercer outra atividade na condição de reabilitado junto ao mesmo empregador.

De acordo com a norma de regência, assinale o benefício que Jerônimo poderá requerer da Previdência Social após seu retorno ao trabalho.

- (A) Abono de permanência no serviço.
- (B) Salário família.
- (C) Auxílio por incapacidade temporária.
- (D) Auxílio acidente.
- (E) Aposentadoria.

55

Raquel, estudante de Direito, em uma aula de Direito Previdenciário, recebeu a explicação do seu professor que a Constituição Federal de 1988 prevê que *nenhum benefício ou serviço da seguridade social poderá ser criado, majorado ou estendido sem a correspondente fonte de custeio total*.

Nesse sentido, regra constitucional explicada refere-se à

- (A) regra da seletividade e distributividade.
- (B) regra de contrapartida.
- (C) regra da diversidade da base de financiamento.
- (D) regra da noventena.
- (E) regra da equidade na forma de participação no custeio.

56

Determinada lei estadual, quando do início da sua vigência, concedeu perdão das infrações à legislação tributária, especificamente decorrentes dos créditos de IPVA já inscritos em dívida ativa.

A referida lei trata de desoneração tributária denominada

- (A) remissão.
- (B) anistia.
- (C) transação.
- (D) moratória.
- (E) isenção.

57

No âmbito da Administração Tributária, algumas informações estão protegidas sob o manto do sigilo fiscal ou bancário. No entanto, a proteção não é absoluta, admitindo-se, em caráter excepcional, a divulgação, pela Fazenda Pública, de informação obtida sobre situação econômica ou financeira do sujeito passivo. Sobre o tema, viola o sigilo fiscal ou bancário, sendo vedada a sua divulgação

- (A) a informação relativa à obtenção e deferimento de parcelamento ou moratória do sujeito passivo.
- (B) a quebra de sigilo bancário em execução fiscal, por meio do sistema BACEN-JUD, o qual viabiliza o bloqueio eletrônico de depósitos do executado, sem o esaurimento de diligências extrajudiciais por parte do exequente.
- (C) as informações relativas a representações fiscais para fins penais.
- (D) a solicitação de quebra de sigilo bancário e fiscal pelas Comissões Parlamentares de Inquérito (CPIs), quando não prescindida de justificativa adequada.
- (E) as informações relativas a incentivo, renúncia, benefício ou imunidade de natureza tributária cujo beneficiário seja pessoa jurídica.

58

Ao caminhar pela rua, João foi atingido, de inopino, por três golpes de faca, desferidos por José, sem um motivo aparente. Em razão do pronto e imediato socorro, a vítima sobreviveu, sem ostentar qualquer sequela física proveniente da empreitada delituosa. No curso do processo penal deflagrado para apurar os fatos, José narrou que algumas vezes lhe obrigaram a desferir os golpes com a arma branca. Em assim sendo, após a instauração de um incidente de insanidade mental, constatou-se que José, por força de esquizofrenia, era, ao tempo da ação, inteiramente incapaz de entender o caráter ilícito do fato.

Nesse cenário, considerando as disposições do Código Penal, é correto afirmar que José

- (A) responderá pelo crime perpetrado, mas a pena será reduzida de um sexto a dois terços, em razão da semi-imputabilidade penal.
- (B) responderá pelo crime perpetrado, mas a pena será reduzida de um a dois terços, em razão da semi-imputabilidade penal.
- (C) é isento de pena, em razão da inimputabilidade penal, causa de exclusão de ilicitude.
- (D) é isento de pena, em razão da inimputabilidade penal, causa justificante.
- (E) é isento de pena, em razão da inimputabilidade penal, causa dirimente.

59

João, maior e capaz, aproveitando-se de que a residência do seu vizinho estava vazia, ingressou no local e subtraiu, sem violência ou grave ameaça à pessoa, mil reais em espécie. Ao retornar ao seu domicílio, o agente se deparou com os seus genitores trabalhando de forma árdua para garantir o sustento da família. Dessa forma, tocado pela atitude dos pais, João restituiu os valores pecuniários aos legítimos proprietários, antes da deflagração de qualquer investigação em seu desfavor.

Nesse cenário, considerando as disposições do Código Penal, é correto afirmar que a reprimenda de João, na persecução penal superveniente, será reduzida, em razão

- (A) do arrependimento posterior, que é uma causa de diminuição de pena.
- (B) do arrependimento eficaz, que é uma causa de diminuição de pena.
- (C) do arrependimento posterior, que é uma atenuante.
- (D) do arrependimento eficaz, que é uma atenuante.
- (E) da desistência voluntária, que é uma atenuante.

60

No curso de uma persecução penal deflagrada para apurar um suposto crime de latrocínio tentado, a vítima, por intermédio de um advogado, intervém como assistente de acusação, em observância às formalidades legais. Nesse contexto, o ofendido e o advogado contratado debatem sobre os poderes do assistente de acusação, em especial sobre a possibilidade ou não de se propor meios de prova, requerer perguntas às testemunhas, participar do debate oral e arrazoar os recursos interpostos pelo Ministério Público.

Nesse cenário, considerando as disposições do Código de Processo Penal, é correto afirmar que o assistente de acusação poderá

- (A) requerer perguntas às testemunhas e participar do debate oral, não se admitindo que proponha meios de prova ou arrazoe os recursos interpostos pelo Ministério Público.
- (B) requerer perguntas às testemunhas e arrazoar os recursos interpostos pelo Ministério Público, não se admitindo que participe do debate oral ou proponha meios de prova.
- (C) propor meios de prova, requerer perguntas às testemunhas e participar do debate oral, não se admitindo que arrazoe os recursos interpostos pelo Ministério Público.
- (D) propor meios de prova e requerer perguntas às testemunhas, não se admitindo que participe do debate oral ou arrazoe os recursos interpostos pelo Ministério Público.
- (E) propor meios de prova, requerer perguntas às testemunhas, participar do debate oral e arrazoar os recursos interpostos pelo Ministério Público.

61

No curso de um processo deflagrado para apurar, em tese, o crime de roubo circunstanciado pelo emprego de arma de fogo, o juiz, após a oitiva das partes, reconheceu a prescrição da pretensão punitiva estatal, extinguindo a punibilidade do réu, na forma da lei. Nada obstante, o Ministério Público discordou dos marcos temporais empregados pelo juízo para reconhecer a prescrição, motivo pelo qual pretende interpor o recurso cabível na espécie.

Nesse cenário, considerando as disposições do Código de Processo Penal, é correto afirmar que o Ministério Público interporá

- (A) recurso em sentido estrito.
- (B) carta testemunhável.
- (C) recurso inominado.
- (D) correição parcial.
- (E) apelação.

62

*Curtume Palmeirante Ltda.*, com sede em Talismã, sacou duplicata escritural em face de *Combinado, Sampaio e Tabocão Ltda.* por conta de venda de produtos da primeira sociedade a segunda. O valor da duplicata é de R\$87.000,00 (oitenta e sete mil reais) e o vencimento foi à vista.

Considerados esses dados e as disposições legais sobre a duplicata escritural, é correto afirmar que

- (A) a duplicata escritural à vista não está sujeita a endosso, mas pode ser transferida por cessão eletrônica de crédito e ter seu pagamento garantido por aval.
- (B) a emissão de duplicata sob a forma escritural é feita mediante lançamento em sistema eletrônico de escrituração gerido por quaisquer das entidades que exerçam a atividade de escrituração de duplicatas escriturais.
- (C) a apresentação da duplicata escritural à vista ao sacado será efetuada por meio eletrônico, no prazo de 5 (cinco) dias úteis contados de sua emissão.
- (D) o sacado poderá aceitar ou recusar o aceite na duplicata à vista no prazo de 10 (dez) dias contado do dia de sua apresentação no sistema de escrituração de duplicatas.
- (E) a duplicata emitida sob a forma escritural ou o extrato emitido pelo sacador com base no livro de registro de duplicatas são títulos executivos extrajudiciais.

63

De acordo com o Código Civil e em relação à caracterização, inscrição e capacidade do empresário individual, analise as afirmativas a seguir.

- I. A inscrição do empresário individual na Junta Comercial é uma exigência dispensável para sua caracterização.
- II. Desde que haja prévia autorização judicial, após exame das circunstâncias e dos riscos da empresa, bem como da conveniência em continuá-la, o incapaz poderá, por meio de representante ou devidamente assistido, continuar a empresa antes exercida por ele enquanto capaz, por seus pais ou pelo autor de herança.
- III. Não se considera empresário, em qualquer situação, quem exerce profissão intelectual, de natureza científica, literária ou artística, ainda com o concurso de auxiliares ou colaboradores.

Está correto o que se afirma em

- (A) I, II e III.
- (B) II, apenas.
- (C) I e II, apenas.
- (D) III, apenas.
- (E) I e III, apenas.

64

Em uma empresa com 50 empregados, situada em Gurupi-TO, ocorreram os seguintes episódios na semana em curso:

- o empregado Carlos marcou na entrada o seu cartão de ponto e o do colega de trabalho Claudio, que não estava na empresa mas pediu esse favor porque chegaria mais tarde; Jerusa apresentou um atestado médico falso para abono de dois dias de faltas;
- Pedro agrediu verbalmente o seu colega de trabalho Fernando, que exerce a mesma função, quando ambos por acaso se encontraram no final de semana no Shopping Gurupi e se desentenderam;
- Luísa foi flagrada fumando cigarro, malgrado saber que na empresa é proibido fumar em razão dos materiais inflamáveis que lá existem, já tendo sido advertida e suspensa anteriormente pelo mesmo motivo.

Considerando essas hipóteses e o que prevê a CLT, assinale a opção que contempla os empregados que poderão ser dispensados por justa causa.

- (A) Jerusa, Carlos, Pedro, Claudio, Luísa e Fernando.
- (B) Carlos, Jerusa e Pedro, apenas.
- (C) Claudio, Pedro, Carlos e Luísa, apenas.
- (D) Jerusa e Carlos, apenas.
- (E) Luísa, Carlos, Jerusa e Claudio, apenas.

65

Na 10ª Vara do Trabalho de Dianópolis/TO tramitam duas reclamações trabalhistas contra uma sociedade empresária local. Em uma delas, o reclamante Pedro busca o pagamento de R\$8.000,00 pelas verbas resilitórias não pagas e, na outra demanda, o reclamante Walter persegue o pagamento de horas extras e reflexos, tendo atribuído à causa o valor de R\$90.000,00. Há ainda, na mesma Vara do Trabalho, um inquérito judicial movido pela mesma sociedade empresária contra Karina, uma dirigente sindical que teria praticado falta grave.

Considerando os procedimentos referentes a cada um dos processos, e de acordo com a CLT, assinale a afirmativa correta.

- (A) Na ação de Karina cada parte poderá indicar até três testemunhas e nas de Pedro e Walter, até duas.
- (B) Em todas as ações cada parte poderá indicar até três testemunhas.
- (C) Na ação de Pedro cada parte poderá indicar até duas testemunhas, na de Karina não há limite e na de Walter, até três.
- (D) Na ação de Walter cada parte poderá indicar até três testemunhas, na de Karina até 6 e na de Pedro, até duas.
- (E) Na ação de Karina e Pedro cada parte poderá indicar até duas testemunhas e na de Walter, até três.

## LEGISLAÇÃO INSTITUCIONAL

66

Aline, servidora pública estadual, revelou segredo do qual se apropriou em razão do cargo que ocupa. A Administração Pública, ao tomar conhecimento do fato, instaurou procedimento administrativo disciplinar a fim de apurar a conduta e garantir à servidora os princípios da ampla defesa e do contraditório.

À luz do Estatuto dos Servidores Públicos Civis do Estado do Tocantins, caso punida, Aline poderá ser sancionada com

- (A) advertência.
- (B) suspensão.
- (C) prestação de serviço.
- (D) multa.
- (E) demissão.

67

Ana, servidora pública efetiva e estável, ocupante de cargo de nível superior, objetivando inteirar-se sobre os requisitos para a progressão na carreira, consultou a Lei nº 4.208/2023, que trata sobre o plano de cargos, carreiras e remuneração dos Servidores da Assembleia de Tocantins.

Assim, para fazer jus à progressão, Ana terá que

- (A) possuir no máximo três faltas injustificadas por exercício referente ao período avaliado.
- (B) obter conceito igual ou superior a 70% (setenta por cento) dos pontos possíveis em todos os procedimentos de sua Avaliação.
- (C) concluir curso de pós-graduação *lato sensu* com duração mínima de 360 (trezentos e sessenta) horas.
- (D) cumprir trinta meses de efetivo exercício na classe em que se encontra.
- (E) concluir cursos de aperfeiçoamento em sua área de atuação que tenha, no mínimo, 80 (oitenta) horas de duração.

**68**

Antônio foi nomeado para o cargo de Controlador Interno da Assembleia Legislativa de Tocantins.

À luz da Lei nº 4.209/2023, que dispõe sobre a estrutura administrativa da Aletto, durante o exercício da função, Antônio será competente para:

- (A) opinar, conclusivamente, em processos de direitos, deveres e obrigações dos servidores do Poder Legislativo.
- (B) constituir Comissão Permanente de Licitação.
- (C) examinar a observância das normas de licitações.
- (D) apresentar à Mesa Diretora o balancete mensal e, no início de cada exercício, o balancete geral das contas da Assembleia Legislativa, relativo ao exercício anterior.
- (E) planejar, coordenar, orientar, controlar e dirigir as atividades administrativas, orçamentárias, financeiras, de comunicação social, de tecnologia de informação e de apoio legislativo da Assembleia Legislativa.

**69**

Nos termos da Constituição do Estado do Tocantins, constitui objeto de lei complementar a seguinte matéria:

- (A) os prazos de prescrição para ilícitos praticados por qualquer agente, servidor ou não, que causem prejuízos ao erário.
- (B) os limites de idade, a estabilidade e outras condições de transferência do servidor militar para a inatividade.
- (C) os casos de contratação por tempo determinado para atender à necessidade temporária de excepcional interesse público.
- (D) as regras para cálculo de proventos de aposentadoria e pensão por morte.
- (E) os requisitos e as restrições ao ocupante de cargo ou emprego da administração direta e indireta que possibilite o acesso a informações privilegiadas.

**70**

Considerando o exercício da função legislativa por parte da Assembleia Legislativa de Tocantins, nos termos de seu Regimento Interno, é correto afirmar que

- (A) projetos de lei delegada podem se destinar a regular as matérias de exclusiva competência do Poder Executivo, com a sanção do Governador do Estado.
- (B) projetos de resolução podem se destinar a regular, com eficácia de lei ordinária, matéria de competência privativa da Assembleia Legislativa.
- (C) projetos de lei complementar visam regular matéria infraconstitucional.
- (D) projetos de lei têm por objetivo regular matérias de competência do Poder Legislativo, sem a sanção do Governador do Estado.
- (E) projetos de decreto legislativo destinam-se à delegação de competência, na forma estabelecida na Constituição Estadual.



# ASSEMBLEIA LEGISLATIVA DO ESTADO DO TOCANTINS

CONCURSO PÚBLICO – EDITAL Nº 01/2023

## PROVA OBJETIVA – TARDE

### ANALISTA LEGISLATIVO ENFERMAGEM

NÍVEL SUPERIOR – TIPO 1 – BRANCA



#### SUA PROVA

- Além deste caderno contendo **70 (setenta)** questões objetivas, você receberá do fiscal de prova o cartão de respostas;
- As questões objetivas têm **5 (cinco)** opções de resposta (A, B, C, D) e somente uma delas está correta.



#### TEMPO

- Você dispõe de **5 (cinco) horas** para a realização da prova, já incluído o tempo para a marcação do cartão de respostas;
- **3 (três) horas** após o início da prova, é possível retirar-se da sala, sem levar o caderno de questões;
- A partir dos **30 (trinta) minutos** anteriores ao término da prova é possível retirar-se da sala **levando o caderno de questões**.



#### NÃO SERÁ PERMITIDO

- Qualquer tipo de comunicação entre os candidatos durante a aplicação da prova;
- Anotar informações relativas às respostas em qualquer outro meio que não seja o caderno de questões;
- Levantar da cadeira sem autorização do fiscal de sala;
- Usar o sanitário ao término da prova, após deixar a sala.



#### INFORMAÇÕES GERAIS

- Verifique se seu caderno de questões está completo, sem repetição de questões ou falhas. Caso contrário, **notifique imediatamente o fiscal da sala**, para que sejam tomadas as devidas providências;
- Confira seus dados pessoais, especialmente nome, número de inscrição e documento de identidade e leia atentamente as instruções para preencher o cartão de respostas;
- Para o preenchimento do cartão de respostas, use somente caneta esferográfica, fabricada em material transparente, com tinta preta ou azul;
- Assine seu nome apenas no(s) espaço(s) reservado(s) no cartão de respostas;
- Confira seu cargo, cor e tipo do caderno de questões. Caso tenha recebido caderno de cargo ou cor ou tipo **diferente** do impresso em seu cartão de respostas, o fiscal deve ser **obrigatoriamente** informado para o devido registro na ata da sala;
- Reserve tempo suficiente para o preenchimento do seu cartão de respostas. O preenchimento é de sua responsabilidade e **não será permitida a troca do cartão de respostas em caso de erro cometido pelo candidato**;
- Para fins de avaliação, serão levadas em consideração apenas as marcações realizadas no cartão de respostas;
- A FGV coletará as impressões digitais dos candidatos na lista de presença;
- Os candidatos serão submetidos ao sistema de detecção de metais quando do ingresso e da saída de sanitários durante a realização das provas.
- **Boa prova!**



## CONHECIMENTOS BÁSICOS

### Língua Portuguesa

1

Observe o seguinte texto:

*Quando entrei no terrível vagão, ele estava ocupado por duas pessoas. Uma, dobrada, coberta, dormia profundamente. A coberta superior estava manchada, de fundo amarelado, como pele de leopardo. Vendem-se muitas mantas assim nas lojas de artigos de viagens, mas pude notar logo depois que se tratava realmente da pele de um animal selvagem; do mesmo modo, o boné da pessoa adormecida me pareceu ser de feltro branco bastante delicado. O outro viajante, uma aparência simpática, parecia ter passado dos trinta anos e mostrava-se como figura insignificante que passa confortavelmente as noites em estradas de ferro.*

Nesse fragmento textual, para criar sinais de história realista e verdadeira, o narrador apela para a seguinte estratégia:

- (A) seleciona uma situação banal da qual não precisa fornecer muitos detalhes, exatamente por sua banalidade.
- (B) fornece algumas marcas caracterizadoras dos dois personagens presentes no texto, destacando sua banalidade.
- (C) indica traços descritivos do ambiente, mostrando-o como se nada houvesse nele de excepcional.
- (D) mostra detalhes variados e bastante pitorescos dos objetos descritos.
- (E) dá ao leitor informações sobre personagens e ambiente, mostrando-os como bastante conhecidos do narrador.

2

Assinale a frase que mostra a palavra *mais* numa classe gramatical **diferente** das demais.

- (A) O mercado está prisioneiro de mais um círculo vicioso: piora porque piorou e porque piorou, piora.
- (B) Os ingleses conquistaram o mundo porque não aguentavam mais a própria cozinha.
- (C) Quanto mais vejo o estrangeiro, mais amo a minha pátria.
- (D) Não é mais possível aprender tudo de cor. Um homem instruído não é mais o homem que sabe muitas coisas; é o homem que sabe onde buscar informações.
- (E) Muda-se mais facilmente de religião do que de café

3

As frases a seguir mostram termos ligados pela conjunção OU.

Assinale a frase em que essa conjunção mantém o valor de alternativa (e não de adição).

- (A) João ou Pedro deve ser eleito presidente da empresa.
- (B) A alegria ou a tristeza fazem parte da vida.
- (C) Inglês ou francês são idiomas falados pelos turistas
- (D) Os clientes leem livros ou revistas enquanto esperam.
- (E) Vasco ou Flamengo são times de longa tradição.

4

Um guitarrista americano produziu o seguinte pensamento:

*O crítico de rock é alguém que não sabe escrever, entrevistando gente que não sabe falar, para gente que não sabe ler.*

Sobre a estruturação ou a significação desse pequeno texto, assinale a afirmativa **incorreta**.

- (A) O termo “de rock” funciona como complemento nominal do termo anterior.
- (B) Todos os elementos da cadeia comunicativa citados no texto são marcados pela ignorância.
- (C) O pensamento acima revela um preconceito fortíssimo contra os amantes de rock.
- (D) A opinião expressa no texto pode advir da experiência pessoal do autor, já que se trata de um guitarrista.
- (E) A injustiça desse texto provém de ser uma opinião fundamentada em uma autoridade duvidosa.

5

John Steinbeck, prêmio Nobel, declarou o seguinte:

*O homem é o único animal que bebe sem ter sede, come sem ter fome e fala sem ter nada a dizer.*

Em relação ao significado e à estruturação desse pequeno texto, assinale a afirmativa **incorreta**.

- (A) A frase ficaria mais enfática se invertêssemos a posição do termo inicial: O único animal que bebe sem ter sede, come sem ter fome e fala sem ter nada a dizer é o homem.
- (B) A inversão de alguns segmentos do texto em nada modificaria o sentido da frase: O homem é o único animal que come sem ter fome, bebe sem ter sede e fala sem ter nada a dizer.
- (C) Os segmentos finais do texto mostram preocupação com rigoroso paralelismo sintático.
- (D) Segundo a opinião do autor do texto, a marca principal do homem é a irracionalidade.
- (E) Nem todas as ações citadas como marcas humanas estão presentes, por oposição, nos outros animais.

6

Assinale a frase que **não** expressa uma noção de tempo abstrato.

- (A) Nas asas do tempo, a tristeza voa.
- (B) Quem mata o tempo não é assassino, é suicida.
- (C) O tempo perdido não se encontra nunca mais.
- (D) O tempo é o melhor professor. Infelizmente, ele mata todos os seus estudantes
- (E) O tempo gasto na viagem foi de duas horas.

7

Assinale a frase em que a utilização do acento grave indicativo da crase é realizada de forma **errada**.

- (A) Jamais alguém se arrependeu de ter-se acostumado à madrugar e à ter-se casado jovem.
- (B) Tempo é o suspiro de adeus do sol à terra.
- (C) Saio todos os dias às cinco horas e não permito que o meu trabalho interfira no meu jogo de tênis.
- (D) O momento de extrair uma lição da história está sempre à mão para os sábios.
- (E) Quando assumi, quatro anos atrás, estávamos à beira do precipício.

8

Os adjetivos podem representar estados, qualidades, características e relações.

Assinale a frase que mostra um tipo de adjetivo **diferente** dos demais.

- (A) Nunca houve criança tão amável que a própria mãe não ficasse satisfeita ao conseguir adormecê-la.
- (B) Nada mais perversamente cruel que uma adorável criança.
- (C) Mesmo estando doentes, as crianças não ficam caladas.
- (D) Quando as crianças estão quietas é porque fizeram alguma coisa errada.
- (E) As tangerinas verdes não amadurecem fora do pé.

9

Assinale a frase em que o adjetivo sublinhado mostra uma função sintática **diferente** das demais.

- (A) Por fora bela viola, por dentro pão **bolorento**.
- (B) Tiradentes, **heroico**, tentou organizar uma revolução.
- (C) Um rosto **bonito** altera-se depressa.
- (D) Eu não podia acreditar que existem múmias tão **lindas**.
- (E) Um homem belo é um homem **insignificante**.

10

Assinale a opção que mostra uma impropriedade léxica, ou seja, um emprego **inadequado** da expressão “cerca de”.

- (A) Havia cerca de três dúzias de convidados no final da festa.
- (B) Chegaram cerca de 100 cartas no mesmo dia.
- (C) Cerca de 18 lojas fecharam as portas mais cedo.
- (D) Os cantores receberam cerca de uma centena de convites.
- (E) A plantação produziu cerca de uma tonelada de legumes.

11

Muitas palavras portuguesas mostram o prefixo A- sem qualquer valor semântico, sendo equivalentes ao mesmo vocábulo sem esse prefixo.

Assinale a palavra a seguir que exemplifica esse A protético.

- (A) amostrar
- (B) abraçar
- (C) atenuar
- (D) aguardar
- (E) aparar

12

Observe o seguinte texto:

*A felicidade depende da habilidade que tenhamos naquelas atividades que consideramos importantes: somente se lhes damos um real valor aos pequenos detalhes cotidianos, poderemos ter instantes felizes. A felicidade absoluta não existe, e já que só podemos acessar os pequenos detalhes daquilo que nos interessa, devemos contentar-nos com isso. Por isso, a infelicidade é um sinal claro de nossa incompetência na arte de viver.*

Sobre a estrutura e a significação desse texto, assinale a afirmativa **inadequada**.

- (A) O tema do texto gira em torno do que consiste a felicidade e o que viria a ser o seu oposto.
- (B) A afirmação de que “A felicidade absoluta não existe” é de cunho pessoal do autor do texto, representando uma opinião.
- (C) O raciocínio utilizado na estruturação argumentativa é do tipo dedutivo.
- (D) O conector “Por isso” mostra a preocupação com o caráter lógico da argumentação.
- (E) A tese do texto é a de que a infelicidade é fruto de nossa incompetência na arte de viver.

## Raciocínio Lógico Matemático

13

Certo programa de rádio tem 1 hora e 55 minutos de duração. A partir do momento em que o programa é iniciado, há blocos temáticos de 7 minutos intercalados por blocos de propagandas de 2 minutos.

Em todos os blocos de propaganda, ouve-se o comercial do restaurante R, que sempre dura 18 segundos.

Se o programa começa e termina com um bloco temático, então, o tempo total do programa dedicado ao anúncio do restaurante R é

- (A) 3 minutos e 54 segundos.
- (B) 3 minutos e 36 segundos.
- (C) 3 minutos e 18 segundos.
- (D) 3 minutos.
- (E) 2 minutos e 48 segundos.

14

A linha de produção de certa fábrica produz 1100 latas de sardinhas a cada hora. Certo dia, por um defeito de calibragem do sistema, entre 13h e 14h, o volume de produção foi reduzido em 30% durante exatos 12 minutos.

A quantidade de latas de sardinhas produzidas no intervalo supracitado foi

- (A) 946.
- (B) 964.
- (C) 1022.
- (D) 1034.
- (E) 1046.

15

Marcelo está parado de frente para uma das paredes de uma sala quadrada. Nesta posição, ele está a 1m e 20cm da parede que se encontra à sua direita e a 1m e 70cm da parede que está às suas costas.

Ele, então, se desloca paralelamente às paredes da sala sendo 40cm para a frente e 80cm para a direita. Nessa nova posição, ele passou a distar 1m e 90cm da parede que antes estava à sua esquerda.

Desprezando-se as dimensões de Marcelo, a sua atual distância à parede que, antes dos movimentos, estava à sua frente, é

- (A) 20cm.
- (B) 30cm.
- (C) 40cm.
- (D) 50cm.
- (E) 60cm.

**16**

Um dado é dito comum quando tem a forma de um cubo e suas 6 faces são numeradas de 1 a 6, de tal forma que a soma dos números estampados em faces opostas, quaisquer que sejam elas, sempre somam 7.

Quando um dado comum é lançado, diz-se que o resultado do lançamento é o número estampado na face voltada para cima.

Um dado foi lançado 3 vezes seguidas. Se o produto dos resultados obtidos nos lançamentos vale 75, a soma desses resultados é igual a

- (A) 12.
- (B) 13.
- (C) 14.
- (D) 15.
- (E) 16.

**17**

Em certo ano, o dia 1º de agosto cai em um domingo. Logo, o dia 1º de novembro cairá em

- (A) um sábado.
- (B) um domingo.
- (C) uma segunda-feira.
- (D) uma quarta-feira.
- (E) uma sexta-feira.

**18**

Considere a seguinte proposição condicional:

*Se todos os alunos da Escola Aristarco gostam de matemática, então, ao menos um deles ganha medalha na Olimpíada Nacional de Matemática.*

Se essa proposição é verdadeira, é correto afirmar que

- (A) se nenhum dos alunos da Escola Aristarco gosta de Matemática, então nenhum deles ganha medalha na Olimpíada Nacional de Matemática.
- (B) se todos os alunos da Escola Aristarco ganham medalha na Olimpíada Nacional de Matemática, então, todos esses alunos gostam de Matemática.
- (C) se algum aluno da Escola Aristarco ganha medalha na Olimpíada Nacional de Matemática, então todos esses alunos gostam de Matemática.
- (D) se nenhum aluno da Escola Aristarco ganha medalha na Olimpíada Nacional de Matemática, então nenhum desses alunos gosta de Matemática.
- (E) se nenhum aluno da Escola Aristarco ganha medalha na Olimpíada Nacional de Matemática, então algum desses alunos não gosta de Matemática.

**19**

Em uma caixa, há muitas canetas esferográficas. Classificadas conforme a cor, elas podem ser azuis, vermelhas ou pretas. Classificadas quanto à espessura da esfera, elas podem ser de ponta fina ou de ponta grossa.

Metade das canetas vermelhas tem a ponta grossa. A quantidade total de canetas pretas é igual à quantidade total de canetas vermelhas. Entre as canetas de ponta grossa, a quantidade de azuis é igual à de pretas. A quantidade de canetas azuis com ponta fina é o dobro da quantidade de canetas pretas de ponta grossa.

Se, nessa caixa, 18 são azuis e 20 têm ponta grossa, então a quantidade total de canetas na caixa é

- (A) 30.
- (B) 40.
- (C) 48.
- (D) 50.
- (E) 52.

**20**

Tucídides possuía uma dívida e, em vez de quitá-la, pagou apenas 20% do seu valor, deixando o restante para ser quitado em data futura, com acréscimo de 12% a título de juros sobre o saldo devedor.

No ato de quitação, Tucídides pagou R\$2.329,60. Logo, o valor original da dívida é o resultado da seguinte expressão:

(A)  $2.329,60 \times 0,88 - 20$

(B)  $\frac{2.329,60}{0,88} \times 1,20$

(C)  $\frac{2.329,60}{1,12} \times 1,20$

(D)  $\frac{2.329,60}{1,12 \times 1,20}$

(E)  $\frac{2.329,60}{1,12 \times 0,8}$

**21**

As filhas de Nepomuceno têm 5 e 9 anos de idade. Ele dividirá R\$420,00 entre elas de forma inversamente proporcional às suas idades.

Logo

- (A) a mais nova receberá R\$120,00 a mais que a mais velha.
- (B) a mais nova receberá R\$150,00 a mais que a mais velha.
- (C) a mais nova receberá R\$270,00 a mais que a mais velha.
- (D) a mais velha receberá R\$120,00 a mais que a mais nova.
- (E) a mais velha receberá R\$150,00 a mais que a mais nova.

**22**

A negação da proposição:

$$\text{Se } y \neq 0, \text{ então } x > 2 \text{ e } x \leq 5$$

é dada por

- (A) Se  $y = 0$ , então  $x > 2$  e  $x \leq 5$
- (B) Se  $y = 0$ , então  $x < 2$  ou  $x \geq 5$
- (C)  $y = 0$  e  $x \leq 2$  ou  $x > 5$
- (D)  $y \neq 0$  e  $x \leq 2$  ou  $x > 5$
- (E)  $y \neq 0$  e  $x \leq 2$  e  $x > 5$

## Atualidades

23

De acordo com o censo demográfico de 2022 (IBGE), mais da metade da população brasileira (51,13%) é feminina, e elas representam, segundo o Tribunal Superior Eleitoral, 53% do eleitorado. No entanto, elas ocupam, hoje, menos de 15% dos cargos eletivos.

A respeito da baixa participação das mulheres na política, assinale a afirmativa que apresenta um dispositivo existente na legislação brasileira para alterar esse cenário.

- (A) Reserva de pelo menos 50% dos recursos do Fundo Especial de Financiamento de Campanha, o Fundo Eleitoral, para financiar candidaturas femininas.
- (B) Suspensão dos direitos eleitorais aos partidos em caso de não observância do percentual de pelo menos 30% de candidatas mulheres em cada ciclo eleitoral
- (C) Reserva de assentos, em ambas as casas legislativas, para mulheres, com preferência para as representantes de povos originários.
- (D) Cota de gênero, que obriga cada partido ou coligação a preencher o mínimo de 30% e o máximo de 70% de candidaturas de cada sexo.
- (E) Repasse de até 30% dos recursos dos Fundos Partidário para custear o tempo da propaganda eleitoral gratuita de candidatas em rádio e televisão.

24

A França se tornou o primeiro país do mundo a incluir na Constituição a liberdade de a mulher abortar. A mudança na Carta Magna foi aprovada em uma sessão conjunta das duas Casas legislativas, a Assembleia Nacional e o Senado, e será promulgada pelo presidente Emmanuel Macron ainda em março de 2024.

Adaptado de <https://www1.folha.uol.com.br/mundo/2024/03/>

Diferentemente da França, a legislação brasileira

- (A) equipara o aborto ao infanticídio.
- (B) considera o aborto uma prática ilegal em todas as situações.
- (C) descriminaliza a interrupção da gravidez em caso de deficiência da gestante.
- (D) estabelece um limite temporal para interromper a gravidez, desde que respaldada por laudo médico.
- (E) autoriza a interrupção de gestação em caso de não haver outro meio de salvar a vida da gestante.

25

Desde os anos 2000, o interior do Brasil ultrapassou o litoral na incidência de dengue. A região costeira que vai de Santos, em São Paulo, até Belém, no Pará, apresentava tipicamente maior proporção de casos de dengue em comparação com sua população. Entretanto, recentemente, o oeste do Paraná, o oeste de Santa Catarina o oeste de São Paulo, o interior de Minas Gerais, uma parte do Tocantins, o Goiás e o Mato Grosso do Sul viram a transmissão da doença aumentar e muitas de suas cidades foram obrigadas a decretar emergência.

Adaptado de <https://www.estadao.com.br>

A respeito dos fatores relacionados ao aumento e à interiorização dos casos de dengue no Brasil, analise as afirmativas a seguir.

- I. A maior frequência de períodos com temperaturas acima da média, inclusive com ondas de calor no período invernal em todo território, tem reforçado o padrão sazonal da doença.
- II. A expansão urbana desvinculada de melhoras nos serviços sanitários tem propiciado a formação de ilhas de calor e, portanto, uma alta na incidência da dengue.
- III. O desmatamento do cerrado, convertido em pasto, por exemplo, tem contribuído para aumentar a temperatura média e o número de casos da doença no interior do Brasil.

Está correto o que se afirma em

- (A) I, apenas.
- (B) I e II, apenas.
- (C) I e III, apenas.
- (D) II e III, apenas.
- (E) I, II e III.

26

As afirmativas a seguir descrevem corretamente o desempenho da economia brasileira em 2023, à exceção de uma. Assinale-a.

- (A) A expansão econômica ampliou a geração de empregos informais, em um contexto recessivo e de flexibilização das leis trabalhistas.
- (B) O dinamismo da economia foi marcado pelo aumento de exportações, no setor agrícola, e da demanda, no setor de serviços, em função da alta no consumo das famílias.
- (C) A alta progressiva nas cotações internacionais de commodities acelerou o ritmo das exportações, mesmo em um cenário cambial desfavorável para os exportadores.
- (D) A retração do Brasil no mercado regional e internacional ocorreu em função da maior competitividade dos produtos agrícolas argentinos e pela retomada da economia chinesa.
- (E) A persistência do alto nível da inflação foi ocasionada pela alta da cesta básica, sobretudo dos alimentos, cujas safras foram afetadas pelas condições climáticas adversas.

27

Em 2024, o Tribunal Superior Eleitoral (TSE) aprovou uma resolução para regulamentar o uso da inteligência artificial (IA) durante as eleições municipais a serem realizadas em outubro. A norma proíbe manipulações de conteúdo falso para criar ou substituir imagem ou voz de candidato com objetivo de prejudicar ou favorecer candidaturas. Também foi aprovada a restrição do uso de chatbots humanizados e avatares para intermediar a comunicação das campanhas com pessoas reais nas redes sociais.

Adaptado de <https://agenciabrasil.ebc.com.br>

A resolução sobre IA objetiva

- (A) coibir a produção e circulação de *deepfakes*.
- (B) restringir o uso de ferramentas de IA simbólica.
- (C) retomar a veiculação de propagandas eleitorais em mídias tradicionais, como rádio e televisão.
- (D) proibir o uso de ferramentas de coleta e seleção em bases de dados com fins eleitorais.
- (E) limitar o uso de assistente virtual programado por AI para divulgação do programa partidário.

28

Assinale a afirmativa que descreve corretamente um aspecto do panorama global da economia em 2023.

- (A) Nos Estados Unidos, a economia foi alavancada pela adoção de uma política de ampliação do crédito e baixa da taxa de juros.
- (B) Na China, o PIB cresceu acima do esperado, em um cenário marcado pela retomada econômica pós pandemia, inclusive no setor imobiliário.
- (C) Na Zona do Euro, a alta dos preços da energia pesou nas despesas familiares e no setor industrial, confirmando a manutenção de um quadro de crise.
- (D) Na Rússia, o PIB decresceu, em função do impacto prolongado da guerra com a Ucrânia e dos embargos à venda de petróleo e gás russos.
- (E) Na América do Sul, foi mantido um caminho geral de crescimento, apoiado por investimentos externos e pela intensificação de políticas estatistas.

29

Um supercomputador consiste em milhares de pequenos computadores chamados nós. Cada nó é equipado com sua própria memória e com vários processadores. Atuando em conjunto, eles são capazes de realizar cálculos extremamente complexos em elevada velocidade. Hoje, o maior supercomputador da América Latina é o Pégaso, da Petrobras, com 678 TB de memória RAM e mais de 233 mil núcleos.

Adaptado de <https://revistapesquisa.fapesp.br>

A respeito do poder computacional de alto desempenho dos supercomputadores, analise as afirmativas a seguir e assinale (V) para a verdadeira e (F) para a falsa.

- ( ) Essas máquinas são instrumentos valiosos de pesquisa e de suporte a setores da economia como defesa, energia e saúde, permitindo a resolução de problemas complexos em menor tempo.
- ( ) Esses equipamentos permitem realizar tarefas que exigem altíssimos níveis de processamento, como simulações da formação do universo ou modelagem molecular para novos fármacos.
- ( ) Esses aparelhos trabalham em alta velocidade de processamento pelo somatório de diversos núcleos, o que potencializa a velocidades do processador, medidas em gigahertz (GHz).

As afirmativas são, respectivamente,

- (A) V – V – F.
- (B) V – F – V.
- (C) F – V – F.
- (D) F – V – V.
- (E) V – V – V.

30

No início do ano corrente, a Petrobras anunciou ter alcançado em 2023 o segundo maior valor de lucro líquido de sua história. Mesmo assim, suas ações caíram no mercado financeiro, em função da disputa sobre os dividendos.

A respeito dos resultados financeiros da Petrobras nos últimos anos e da política de distribuição de dividendos da empresa, assinale a afirmativa correta.

- (A) A Petrobras é uma empresa estatal de economia mista que monopoliza a indústria petroleira no Brasil.
- (B) A Petrobras é uma estatal administrada diretamente por órgãos governamentais que controlam o valor das suas ações.
- (C) A Petrobras direciona parte dos dividendos para investidores privados, e outra parte para o governo federal, que controla a empresa via Tesouro e BNDES.
- (D) A Petrobras, sob o Governo Bolsonaro, reduziu o pagamento de dividendos a acionistas privados para reinvesti-los em energia renovável.
- (E) A Petrobras, no atual governo, vendeu ativos e distribuiu o lucro e os valores recordes de dividendos entre seus acionistas para financiar projetos do BNDES.

31

Dados da última década mostram que, em relação aos Estados, o Pará é o que apresenta o maior número de registros de resgates de trabalho análogo à escravidão, com 9.853, seguido por Mato Grosso (4.302); Tocantins (2.896); São Paulo (1.529) e Rio de Janeiro (1.653), em 2017.

Adaptado de <https://www.jota.info/justica/em-14-anos-434-mil-foram-resgatados-de-trabalho-escravo-30102017>

A respeito da definição moderna de escravidão, analise as afirmativas a seguir.

- I. Em Tocantins, a maior incidência de escravidão moderna ocorre na zona rural, associada a atividades agropecuárias e ao extrativismo mineral, como nas carvoarias, por exemplo.
- II. A Organização Internacional do Trabalho determina a condição de escravidão por uma série de componentes, como o trabalho forçado análogo ao de escravo e o casamento forçado.
- III. Pessoas obrigadas a trabalhar por dívida ou por ameaça, sem direitos trabalhistas garantidos estão em situação de escravidão, uma vez que lhes é impedida a liberdade de ir e vir.

Está correto o que se afirma em

- (A) I, apenas.
- (B) I e II, apenas.
- (C) I e III, apenas.
- (D) II e III, apenas.
- (E) I, II e III.

32

Energia gerada por recursos naturais renováveis que, no Brasil, provém da lenha, carvão vegetal, carvão mineral, bagaço de cana e outros resíduos combustíveis. Essa energia é a matéria orgânica vegetal ou animal usada como fonte de energia limpa e sustentável.

O trecho descreve o seguinte componente importante do desenvolvimento sustentável:

- (A) compostagem.
- (B) biodiversidade.
- (C) créditos de carbono.
- (D) ciclo de vida.
- (E) biomassa.

## História e Geografia do Estado de Tocantins

33

Leia a descrição de uma classe de vegetação presente no estado do Tocantins, a seguir.

*Esta vegetação, também conhecida como floresta pluvial tropical, é caracterizada por árvores de porte elevado, além de trepadeiras lenhosas e epífitas (bromélias e orquídeas, por exemplo) em abundância, o que a diferencia de outras classes de formação vegetal. Sua característica ecológica principal é estar presente em ambientes de chuvas abundantes, como na parte noroeste do Estado, onde as temperaturas médias são de 25°C e os elevados índices de precipitação estão bem distribuídos ao longo do ano.*

Adaptado de Luís Antônio G. C. Silva. *Biomias presentes no Estado do Tocantins*. Brasília: Câmara dos Deputados, 2007, p. 4.

O trecho caracteriza a região conhecida como Floresta

- (A) Estacional Semidecidual.
- (B) Tropical Subcaducifólia.
- (C) de Mata Atlântica.
- (D) Ombrófila Densa.
- (E) Temperada Decidual.

34

Comparando dados dos censos do IBGE, pode-se elaborar um retrato da evolução demográfica da população residente no Estado de Tocantins. O grupo na faixa etária de 0 a 14 representava 41,7% da população em 1991, 28,8% em 2010, e passou para 24% em 2022. A população acima de 65 anos era de 3,8% em 1991 e 5,8% em 2010, e ficou em 8,6% em 2022. O censo de 2022 mostrou ainda que a faixa etária de 15 a 29 anos representa 15% da população e que 41% da população é composta por pessoas de 30 a 59 anos.

Com base no trecho, assinale a opção que apresenta a dinâmica populacional do Tocantins entre 1991 e 2022.

- (A) Expansão da base da pirâmide etária.
- (B) Diminuição da taxa de fecundidade.
- (C) Estreitamento do topo da pirâmide.
- (D) Aumento da idade mediana.
- (E) Redução do índice de envelhecimento.

35

*Foram inegáveis os desdobramentos socioeconômicos sobre o antigo Norte Goiano fruto da construção da rodovia BR-153, a partir do final da década de 1950. O novo urbanismo da Belém-Brasília trouxe enorme impacto no que se refere ao conjunto de cidades que existiam às margens do rio Tocantins, aos fluxos migratórios e às atividades econômicas da região.*

Adaptado de AQUINO, N. *Tocantins: cidades e urbanismo em três modelos históricos*. In: III Encontro da ANPPAS. Brasília, 2006, p. 8.

As afirmativas a seguir descrevem corretamente impactos da rodovia BR-153 no processo de territorialização do Tocantins, **à exceção de uma**. Assinale-a.

- (A) A rodovia foi construída no governo Kubitschek, em um contexto desenvolvimentista que considerava a expansão rodoviária como um meio para integrar econômica e territorialmente as regiões do país, inclusive o norte goiano que, então, vivia uma situação de abandono.
- (B) A rodovia Belém-Brasília teve grande importância para a urbanização do atual Tocantins, o que é exemplificado pela quantidade de novas cidades criadas após a sua construção, como Araguaína, Gurupi, Paraíso do Tocantins, Colinas do Tocantins e Guarai.
- (C) A construção da BR-153 alavancou também os municípios ribeirinhos, pois a navegação fluvial foi intensificada para abastecer as obras em curso, o que transformou esses municípios em satélites econômicos da nova malha urbana instalada ao longo da rodovia.
- (D) Após a abertura da rodovia, as principais áreas que receberam fluxos migratórios foram a Microrregião de Gurupi – Gurupi e a Microrregião de Porto Nacional – Palmas, para onde se dirigiram pessoas interessadas em trabalhar na construção civil, nos serviços e no comércio, entre outros.
- (E) A BR-153 permitiu interligar o norte de Goiás, atual Estado do Tocantins, a outras localidades do país, facilitando o escoamento da produção e o acesso a produtos para a região, promovendo o fluxo de mercadorias e serviços.

36

O Memorial Coluna Prestes (2001) é uma obra do arquiteto Oscar Niemeyer localizada na Praça dos Girassóis, no centro de Palmas (TO).



Fonte: <https://central.to.gov.br/image/146145?f=1>

A respeito da relação entre essa obra e a constituição de uma memória histórica para o Estado do Tocantins, analise as afirmativas a seguir.

- I. O monumento refere-se à Coluna Prestes, que percorreu o Brasil para divulgar seu programa revolucionário entre 1924 e 1927, tendo passado pelo Norte do então Estado de Goiás (atual Tocantins) durante seu percurso.
- II. A obra foi realizada em concreto e apresenta curvas sinuosas, características próprias do Barroco das cidades mineradoras, estabelecendo visualmente uma continuidade entre o Barroco do passado das cidades mineradoras e o presente do Tocantins.
- III. A construção do memorial permite inserir simbolicamente a história do Tocantins nos grandes processos da história republicana nacional, e homenagear o Tenente Antônio de Siqueira Campos, cujo sobrenome é homônimo ao do ex-governador do Estado.

Está correto o que se afirma em

- (A) I, apenas.
- (B) I e II, apenas.
- (C) I e III, apenas.
- (D) II e III, apenas.
- (E) I, II e III.

## 37

Até 1988, o território que hoje corresponde ao Estado do Tocantins pertencia ao antigo norte de Goiás e à Região Centro-Oeste, tendo como capital política a cidade de Goiânia. Com a emancipação política, da noite para o dia, as pessoas amanheceram tocantinenses, mas sem referências culturais que as representassem como tais.

A respeito da projeção simbólica do novo Estado e de sua nova capital, assinale a opção que interpreta corretamente o processo de construção e atribuição de uma identidade ao Tocantins.

- (A) Desde o primeiro mandato do governador Siqueira Campos, os símbolos oficiais do Tocantins continuaram sendo o brasão de armas, a bandeira, o selo estadual e a canção “Hino ao Tocantins”, de Liberato Costa Póvoa e Abiezer Alves da Rocha.
- (B) O girassol foi reconhecido oficialmente como símbolo da natureza do Estado, por ser uma planta nativa dos cerrados tocantinenses e estar associada à prosperidade e à esperança.
- (C) A Praça dos Girassóis, centro cívico de Palmas, foi concebida para receber edifícios esteticamente associados à cultura do Tocantins, como o Palácio do Araguaia, cujos pórticos remetem ao capim dourado, símbolo da tradição do artesanato de alta qualidade da região.
- (D) A monumentalidade da Praça dos Girassóis é enfatizada pelo seu pavimento, que contém figuras simbólicas como o mapa do Tocantins, a rosa dos ventos, o brasão de armas e a Praça Krahô.
- (E) O meio ambiente também foi utilizado para fortalecer o sentimento identitário, inserindo o girassol, a fava-de-bolota, a arara-canindé e a granada como símbolos da natureza do Tocantins, desde a promulgação da Constituição Estadual em 1989.

## 38

A respeito da matriz energética do Estado e dos investimentos em biocombustíveis, analise as afirmativas a seguir e assinale (V) para a verdadeira e (F) para a falsa.

- ( ) O Estado tem condições de clima e solo desfavoráveis para o plantio de matérias-primas usadas na fabricação de biocombustíveis, mas a expansão do modal logístico (Ferrovia Norte-Sul) permitirá o acesso à soja do planalto goiano.
- ( ) O Tocantins conta com duas usinas de biodiesel em funcionamento, utilizando o pinhão-manso, a soja, a mamona e outras oleaginosas como matéria-prima.
- ( ) O Estado tem alto potencial de geração de energia solar, pela elevada irradiação solar e pelas políticas públicas voltadas para produção de energia limpa e renovável, como a Política Estadual de Incentivo à Geração e ao Uso da Energia Solar (Pró-Solar)

As afirmativas são, respectivamente,

- (A) V – F – V.  
 (B) F – V – V.  
 (C) F – F – V.  
 (D) V – V – F.  
 (E) V – V – V.

## 39

*As belas paisagens como serras, cachoeiras, praias e até mesmo dunas, fazem do Tocantins um paraíso de paisagens naturais, atraindo turistas de várias regiões para conhecer o mais novo Estado brasileiro. A potencialidade para o ecoturismo e a preocupação em conservar a biodiversidade e recursos naturais nele contidos fez com que o Governo do Estado, criasse e implementasse as Unidades de Conservação Ambiental (UC).*

Adaptado de <https://www.to.gov.br/secom/>

A respeito das Unidades de Conservação (UC) do Tocantins, assinale a afirmativa correta.

- (A) São espaços territoriais legalmente instituídos pelo poder público e podem ser de proteção integral federal, como no caso dos Parques Cantão, Jalapão e Lajeado.
- (B) As UCs federais estão subordinadas ao Instituto Chico Mendes de Conservação da Biodiversidade (ICMBio), como no caso do Monumento Natural das Árvores Fossilizadas.
- (C) As UCs estaduais estão subordinadas ao Instituto Natureza do Tocantins (Naturatins), que supervisiona o Parque do Araguaia e o das Nascentes do rio Parnaíba.
- (D) As UCs de uso sustentável são compostas exclusivamente por áreas públicas, sendo permitida sua utilização apenas para o ecoturismo, pesquisa e educação ambiental.
- (E) As UCs municipais estão subordinadas às secretarias de meio ambiente, como no caso do Monumento Natural dos Cânions e Corredeiras do Rio Sono e do Parque Ecológico Roberto Guedes Pereira.

## 40

O Estado do Tocantins possui diversas comunidades quilombolas certificadas e outras com processo formalizado para regularização fundiária de seus territórios. A definição de comunidade quilombola é dada pelo Art. 2º do Decreto nº 4.887/2003:

*Consideram-se remanescentes das comunidades dos quilombos, para os fins deste Decreto, os grupos étnico-raciais, segundo critérios de auto-atribuição, com trajetória histórica própria, dotados de relações territoriais específicas, com presunção de ancestralidade negra relacionada com a resistência à opressão histórica sofrida.*

A respeito dos órgãos e processos envolvidos na identificação e regularização de territórios quilombolas no Estado do Tocantins, assinale a afirmativa correta.

- (A) O acesso dessas comunidades às políticas públicas de educação, saúde, moradia e regularização fundiária depende de o Estado emitir uma certidão de identificação de comunidade quilombola, mediante Fundação Palmares.
- (B) Os critérios para reconhecimento de um grupo enquanto remanescente de quilombo depende da comprovação de sua ancestralidade, seu parentesco e da preservação viva de religiosidades autenticamente africanas.
- (C) A Coordenação Nacional de Articulação de Comunidades Negras Rurais Quilombolas (CONAQ) luta pela incorporação constitucional do direito à autodefinição dos remanescentes de quilombos.
- (D) A certificação quilombola é realizada pela Fundação Cultural Palmares, que avalia com visitas técnicas a autenticidade do legado quilombola pretendido e, caso o aprove, emite a certidão de comunidade quilombola e a inscreve em um cadastro geral.
- (E) O acesso às terras ocupadas pelos remanescentes das comunidades dos quilombos é garantido por sua delimitação e titulação, a cargo da autoridade municipal em que a mesma se localiza.



## CONHECIMENTOS ESPECÍFICOS

41

A organização dos serviços de saúde em atenção primária, secundária e terciária (níveis crescentes de complexidade) visando disponibilizar a assistência requerida para cada caso, diz respeito ao seguinte princípio do SUS:

- (A) Equidade.
- (B) Universalidade.
- (C) Descentralização.
- (D) Regionalização.
- (E) Hierarquização.

42

De acordo com as disposições do Decreto nº 7.508/11, analise as afirmativas a seguir e assinale (V) para a verdadeira e (F) para a falsa.

- ( ) O acordo de colaboração entre os entes federativos para a organização da rede interfederativa de atenção à saúde deve ser firmado por meio de Contrato Organizativo da Ação Pública da Saúde.
- ( ) O planejamento da saúde em âmbito estadual deve ser realizado de maneira regionalizada, a partir das necessidades dos Municípios, considerando o estabelecimento de metas de saúde.
- ( ) Entre as Portas de Entrada às ações e aos serviços de saúde nas Redes de Atenção à Saúde estão os serviços de Atenção Primária e os Ambulatórios de Especialidades.

As afirmativas são, respectivamente,

- (A) V – F – V.
- (B) F – F – F.
- (C) V – V – F.
- (D) F – V – F.
- (E) V – V – V.

43

Considerando as disposições da Lei nº 8.080/90 acerca da *telessaúde*, analise as afirmativas a seguir e assinale (V) para a verdadeira e (F) para a falsa.

- ( ) Entre os princípios que devem ser observados no exercício da telessaúde estão a assistência segura e com qualidade e a confidencialidade dos dados.
- ( ) Ao recusar o atendimento na modalidade telessaúde o paciente abre mão da possibilidade de atendimento presencial.
- ( ) Compete aos Conselhos Federais de fiscalização do exercício profissional a normatização ética relativa à prestação dos serviços na modalidade telessaúde.

As afirmativas são, respectivamente,

- (A) V – V – F.
- (B) F – V – F.
- (C) V – V – V.
- (D) F – F – F.
- (E) V – F – V.

44

Assinale a opção que corresponde a um tipo de estudo epidemiológico experimental.

- (A) Coorte.
- (B) Ecológico.
- (C) Caso-controle.
- (D) Transversal.
- (E) Ensaio de campo.

45

Com base nas diretrizes de atendimento a pacientes adultos e pediátricos em parada cardiorrespiratória, analise as afirmativas a seguir e assinale (V) para a verdadeira e (F) para a falsa.

- ( ) Recomenda-se o uso rotineiro de pressão cricoide durante a intubação endotraqueal de pacientes pediátricos.
- ( ) Na Cadeia de Sobrevivência da AHA para adultos em parada cardiorrespiratória extra hospitalar – PCREH, após o acionamento do serviço médico de emergência deve-se iniciar a RCP de alta qualidade.
- ( ) Um dos ritmos cardíacos chocáveis em uma parada cardiorrespiratória é a Taquicardia Ventricular Sem Pulso (TVSP).

As afirmativas são, respectivamente,

- (A) F – V – V.
- (B) V – V – V.
- (C) F – V – F.
- (D) V – F – V.
- (E) V – F – F.

46

Um paciente adulto internado com síndrome gripal apresenta sinais e sintomas de Síndrome Respiratória Aguda Grave.

Entre esses sintomas está saturação de oxigênio em ar ambiente abaixo de

- (A) 95%.
- (B) 96%.
- (C) 97%.
- (D) 98%.
- (E) 99%.

47

De acordo com as definições de *Hipertensão Arterial Resistente e Refratária*, previstas nas Diretrizes Brasileiras de Hipertensão Arterial, analise as afirmativas a seguir e assinale (V) para a verdadeira e (F) para a falsa.

- ( ) Hipertensão Arterial Resistente (HAR) é definida como a PA de consultório que permanece com valores  $\geq 139/90$ mmHg, com o uso de duas ou mais classes de fármacos anti-hipertensivos.
- ( ) Quando o paciente necessita do uso de quatro ou mais fármacos anti-hipertensivos para alcançar o controle da PA, ele também é considerado um hipertenso resistente, porém controlado.
- ( ) Para definir a Hipertensão Arterial como Refratária é necessário que o paciente esteja em uso de três ou mais fármacos anti-hipertensivos com ações sinérgicas e em doses máximas preconizadas.

As afirmativas são, respectivamente,

- (A) V – V – V.
- (B) F – F – F.
- (C) V – F – V.
- (D) F – V – F.
- (E) V – V – F.

48

Considerando as especificidades acerca das Hepatites Virais, analise as afirmativas a seguir.

- I - A imunidade para a hepatite E pode ser conferida indiretamente, por meio da vacina contra a hepatite B.
- II – O período prodromico da hepatite aguda ocorre após o período de incubação do agente etiológico e anteriormente ao aparecimento da icterícia.
- III – Hepatite fulminante é o termo utilizado para designar a insuficiência hepática aguda, caracterizada pelo surgimento de icterícia, coagulopatia e encefalopatia hepática em um intervalo de até oito semanas.

Está correto o que se afirma em

- (A) I, apenas.  
(B) II, apenas.  
(C) I e II, apenas.  
(D) II e III, apenas.  
(E) I, II e III.

49

Com base nas recomendações do Ministério da Saúde acerca do esquema terapêutico da Malária, a *primaquina* é **contraindicada** no tratamento de crianças menores de

- (A) 6 meses.  
(B) 9 meses.  
(C) 12 meses.  
(D) 2 anos.  
(E) 5 anos.

50

Durante a avaliação de um paciente, foi identificada *anisocoria*.

Essa alteração pupilar é caracterizada por

- (A) pupilas com forma anormal.  
(B) pupilas com tamanhos diferentes.  
(C) diminuição do tamanho pupilar abaixo de 2mm.  
(D) dilatação da pupila com reflexo fotomotor negativo.  
(E) dilatação da pupila com reflexo fotomotor positivo.

51

De acordo com o Calendário de Vacinação da Criança do Ministério da Saúde, o intervalo mínimo recomendado para administração da segunda dose da Vacina COVID 19 é de

- (A) duas semanas após 1ª dose.  
(B) três semanas após 1ª dose.  
(C) quatro semanas após 1ª dose.  
(D) seis semanas após 1ª dose.  
(E) oito semanas após 1ª dose.

52

Entre as condições clínicas necessárias para a administração de quimioterápicos está

- (A) leucócitos  $> 4.000/\text{mm}^3$ .  
(B) neutrófilos  $< 2.000/\text{mm}^3$ .  
(C) plaquetas  $> 100.000/\text{mm}^3$ .  
(D) hemoglobina  $> 8\text{g/dL}$ .  
(E) ureia  $< 1,7\text{mg/dL}$ .

53

O Ministério da Saúde recomenda evitar a concomitância da vacina Dengue Tetravalente (atenuada) com outras vacinas.

Nesse sentido, a orientação é que as vacinas inativadas podem ser administradas a partir de

- (A) 12 horas após a vacinação contra a dengue.  
(B) 24 horas após a vacinação contra a dengue.  
(C) 36 horas após a vacinação contra a dengue.  
(D) 48 horas após a vacinação contra a dengue.  
(E) 72 horas após a vacinação contra a dengue.

54

O *Programa de Volta para Casa* é uma política de inclusão social destinada às pessoas com sofrimento psíquico, egressas de internação de longa permanência em hospitais psiquiátricos e de custódia.

Esse programa faz parte do seguinte componente da *Rede de Atenção Psicossocial*:

- (A) Reabilitação Psicossocial.  
(B) Atenção Básica em Saúde.  
(C) Atenção psicossocial especializada.  
(D) Estratégia de desinstitucionalização.  
(E) Atenção residencial de caráter transitório.

55

Durante o exame físico um paciente apresentou pulso caracterizado pela *diminuição da amplitude das pulsações durante a inspiração forçada*.

Esse pulso é denominado

- (A) filiforme.  
(B) dicrótico.  
(C) bigeminado.  
(D) alternante.  
(E) paradoxal.

56

Uma criança com paralisia cerebral apresentou *marcha atáxica*.

Nesse tipo de marcha o paciente

- (A) Acentua a lordose lombar e inclina o tronco ora para a direita, ora para a esquerda.  
(B) Levanta acentuadamente o membro inferior para evitar tropeçar, lembrando o passo do ganso.  
(C) Apresenta perda de equilíbrio e de coordenação com tendência a ampliação da base de sustentação.  
(D) Apresenta um padrão de circundução do membro inferior plégico para fora e para frente.  
(E) Apresenta movimentos irregulares, espasmódicos e involuntários em todas as extremidades.

57

Um paciente adulto deu entrada na Unidade de Pronto Atendimento apresentando crise convulsiva repetida sem a recuperação completa da consciência entre os episódios; glicemia capilar = 68mg/dL; frequência respiratória = 10irpm; e frequência cardíaca = 40bpm.

Nesse caso, considerando o protocolo de classificação de risco do Ministério da Saúde, esse paciente deve ser classificado com a cor

- (A) azul.
- (B) verde.
- (C) amarela.
- (D) laranja.
- (E) vermelha.

58

De acordo com o Protocolo do Ministério da Saúde, uma criança com *anemia por deficiência de ferro* apresenta algumas alterações nos exames laboratoriais.

Entre os valores que determinam esse diagnóstico está

- (A) Hemoglobina < 11g/dL.
- (B) Ferritina < 40ng/mL.
- (C) Hematócrito < 50%.
- (D) Hemácias < 5,5 milhões/ $\mu$ L.
- (E) Eritrócitos < 6,1 milhões/ $\mu$ L.

59

O tempo máximo que cada órgão resiste à falta de circulação e oxigenação sanguínea é denominado tempo de isquemia, sendo fundamental para a efetivação do transplante.

De acordo com as orientações do Ministério da Saúde, o tempo máximo de *isquemia do rim* é de

- (A) seis horas.
- (B) oito horas.
- (C) doze horas.
- (D) vinte e quatro horas.
- (E) quarenta e oito horas.

60

De acordo com os níveis de avaliação na acreditação hospitalar, as *Práticas de Gestão e Qualidade* são parte dos princípios do

- (A) nível de avaliação 1.
- (B) nível de avaliação 2.
- (C) nível de avaliação 3.
- (D) nível de avaliação 4.
- (E) nível de avaliação 5.

61

Considerando as recomendações do Ministério da Saúde acerca dos acidentes de trabalho com exposição a material biológico, analise as afirmativas a seguir e assinale (V) para a verdadeira e (F) para a falsa.

- ( ) A exposição percutânea e cutânea com pele não integra são consideradas exposição de risco para transmissão do HIV, Hepatite B e Hepatite C.
- ( ) A primeira dose da Profilaxia Pós Exposição ao HIV - PEP deve ser administrada idealmente em até 4h após o acidente ou, no máximo, em até de 48h.
- ( ) Qualquer acidente de trabalho com exposição a material biológico deve ser notificado em até 24h após a ocorrência.

As afirmativas são, respectivamente,

- (A) F – V – F.
- (B) V – F – F.
- (C) F – F – F.
- (D) V – V – V.
- (E) F – V – V.

62

De acordo com as medidas de prevenção de infecção recomendadas pela ANVISA, a antibioticoprofilaxia para parto vaginal é indicada somente em algumas situações específicas, sendo uma delas a de

- (A) trabalho de parto prematuro.
- (B) remoção manual da placenta.
- (C) lacerações de períneo de 1º grau.
- (D) lacerações de períneo de 2º grau.
- (E) trabalho de parto superior a 8h.

63

Os componentes da tríade de Virchow correspondem a fatores que potencializam ou predispõem ao risco de desenvolver fenômenos tromboembólicos venosos.

Nesse sentido, assinale a opção que indica o fator de risco relacionado ao componente *lesão do endotélio*.

- (A) Varizes.
- (B) Gravidez.
- (C) Tabagismo.
- (D) Obesidade.
- (E) Reposição hormonal.

64

O método de rastreamento do câncer do colo do útero (exame de Papanicolau) deve ser oferecido às mulheres ou qualquer pessoa com colo do útero que já teve atividade sexual e encontra-se na faixa etária de

- (A) 18 a 45 anos.
- (B) 20 a 50 anos.
- (C) 25 a 64 anos.
- (D) 30 a 66 anos.
- (E) 35 a 64 anos.

65

Com base no Código de Ética dos Profissionais de Enfermagem, analise as afirmativas a seguir e assinale (V) para a verdadeira e (F) para a falsa.

- ( ) A advertência verbal consiste na repreensão que será divulgada nas publicações oficiais do Sistema dos Conselhos de Enfermagem e em jornais de grande circulação.
- ( ) Um profissional de enfermagem que promover ou participar de prática destinada a antecipar a morte do paciente, está sujeito à pena de cassação do direito ao exercício profissional.
- ( ) Uma das circunstâncias consideradas agravantes na aplicação da penalidade ao profissional de enfermagem, é o cometimento de infração por motivo fútil ou torpe.

As afirmativas são, respectivamente,

- (A) V – V – F.
- (B) F – V – F.
- (C) V – V – V.
- (D) F – V – V.
- (E) V – F – V.

## LEGISLAÇÃO INSTITUCIONAL

66

Nos termos da Constituição do Estado do Tocantins, constitui objeto de lei complementar a seguinte matéria:

- (A) os prazos de prescrição para ilícitos praticados por qualquer agente, servidor ou não, que causem prejuízos ao erário.
- (B) os limites de idade, a estabilidade e outras condições de transferência do servidor militar para a inatividade.
- (C) os casos de contratação por tempo determinado para atender à necessidade temporária de excepcional interesse público.
- (D) as regras para cálculo de proventos de aposentadoria e pensão por morte.
- (E) os requisitos e as restrições ao ocupante de cargo ou emprego da administração direta e indireta que possibilite o acesso a informações privilegiadas.

67

Considerando o exercício da função legislativa por parte da Assembleia Legislativa de Tocantins, nos termos de seu Regimento Interno, é correto afirmar que

- (A) projetos de lei delegada podem se destinar a regular as matérias de exclusiva competência do Poder Executivo, com a sanção do Governador do Estado.
- (B) projetos de resolução podem se destinar a regular, com eficácia de lei ordinária, matéria de competência privativa da Assembleia Legislativa.
- (C) projetos de lei complementar visam regular matéria infraconstitucional.
- (D) projetos de lei têm por objetivo regular matérias de competência do Poder Legislativo, sem a sanção do Governador do Estado.
- (E) projetos de decreto legislativo destinam-se à delegação de competência, na forma estabelecida na Constituição Estadual.

68

Aline, servidora pública estadual, revelou segredo do qual se apropriou em razão do cargo que ocupa. A Administração Pública, ao tomar conhecimento do fato, instaurou procedimento administrativo disciplinar a fim de apurar a conduta e garantir à servidora os princípios da ampla defesa e do contraditório.

À luz do Estatuto dos Servidores Públicos Cíveis do Estado do Tocantins, caso punida, Aline poderá ser sancionada com

- (A) advertência.
- (B) suspensão.
- (C) prestação de serviço.
- (D) multa.
- (E) demissão.

69

Ana, servidora pública efetiva e estável, ocupante de cargo de nível superior, objetivando inteirar-se sobre os requisitos para a progressão na carreira, consultou a Lei nº 4.208/2023, que trata sobre o plano de cargos, carreiras e remuneração dos Servidores da Assembleia de Tocantins.

Assim, para fazer jus à progressão, Ana terá que

- (A) possuir no máximo três faltas injustificadas por exercício referente ao período avaliado.
- (B) obter conceito igual ou superior a 70% (setenta por cento) dos pontos possíveis em todos os procedimentos de sua Avaliação.
- (C) concluir curso de pós-graduação *lato sensu* com duração mínima de 360 (trezentos e sessenta) horas.
- (D) cumprir trinta meses de efetivo exercício na classe em que se encontra.
- (E) concluir cursos de aperfeiçoamento em sua área de atuação que tenha, no mínimo, 80 (oitenta) horas de duração.

70

Antônio foi nomeado para o cargo de Controlador Interno da Assembleia Legislativa de Tocantins.

À luz da Lei nº 4.209/2023, que dispõe sobre a estrutura administrativa da Aletto, durante o exercício da função, Antônio será competente para:

- (A) opinar, conclusivamente, em processos de direitos, deveres e obrigações dos servidores do Poder Legislativo.
- (B) constituir Comissão Permanente de Licitação.
- (C) examinar a observância das normas de licitações.
- (D) apresentar à Mesa Diretora o balancete mensal e, no início de cada exercício, o balancete geral das contas da Assembleia Legislativa, relativo ao exercício anterior.
- (E) planejar, coordenar, orientar, controlar e dirigir as atividades administrativas, orçamentárias, financeiras, de comunicação social, de tecnologia de informação e de apoio legislativo da Assembleia Legislativa.



# ASSEMBLEIA LEGISLATIVA DO ESTADO DO TOCANTINS

CONCURSO PÚBLICO – EDITAL Nº 01/2023

## PROVA OBJETIVA – TARDE

### ANALISTA LEGISLATIVO ENFERMAGEM

NÍVEL SUPERIOR – TIPO 2 – VERDE



#### SUA PROVA

- Além deste caderno contendo **70 (setenta)** questões objetivas, você receberá do fiscal de prova o cartão de respostas;
- As questões objetivas têm **5 (cinco)** opções de resposta (A, B, C, D) e somente uma delas está correta.



#### TEMPO

- Você dispõe de **5 (cinco) horas** para a realização da prova, já incluído o tempo para a marcação do cartão de respostas;
- **3 (três) horas** após o início da prova, é possível retirar-se da sala, sem levar o caderno de questões;
- A partir dos **30 (trinta) minutos** anteriores ao término da prova é possível retirar-se da sala **levando o caderno de questões**.



#### NÃO SERÁ PERMITIDO

- Qualquer tipo de comunicação entre os candidatos durante a aplicação da prova;
- Anotar informações relativas às respostas em qualquer outro meio que não seja o caderno de questões;
- Levantar da cadeira sem autorização do fiscal de sala;
- Usar o sanitário ao término da prova, após deixar a sala.



#### INFORMAÇÕES GERAIS

- Verifique se seu caderno de questões está completo, sem repetição de questões ou falhas. Caso contrário, **notifique imediatamente o fiscal da sala**, para que sejam tomadas as devidas providências;
- Confira seus dados pessoais, especialmente nome, número de inscrição e documento de identidade e leia atentamente as instruções para preencher o cartão de respostas;
- Para o preenchimento do cartão de respostas, use somente caneta esferográfica, fabricada em material transparente, com tinta preta ou azul;
- Assine seu nome apenas no(s) espaço(s) reservado(s) no cartão de respostas;
- Confira seu cargo, cor e tipo do caderno de questões. Caso tenha recebido caderno de cargo ou cor ou tipo **diferente** do impresso em seu cartão de respostas, o fiscal deve ser **obrigatoriamente** informado para o devido registro na ata da sala;
- Reserve tempo suficiente para o preenchimento do seu cartão de respostas. O preenchimento é de sua responsabilidade e **não será permitida a troca do cartão de respostas em caso de erro cometido pelo candidato**;
- Para fins de avaliação, serão levadas em consideração apenas as marcações realizadas no cartão de respostas;
- A FGV coletará as impressões digitais dos candidatos na lista de presença;
- Os candidatos serão submetidos ao sistema de detecção de metais quando do ingresso e da saída de sanitários durante a realização das provas.
- **Boa prova!**

## CONHECIMENTOS BÁSICOS

### Língua Portuguesa

1

Assinale a frase que mostra a palavra *mais* numa classe gramatical **diferente** das demais.

- (A) O mercado está prisioneiro de mais um círculo vicioso: piora porque piorou e porque piorou, piora.
- (B) Os ingleses conquistaram o mundo porque não aguentavam mais a própria cozinha.
- (C) Quanto mais vejo o estrangeiro, mais amo a minha pátria.
- (D) Não é mais possível aprender tudo de cor. Um homem instruído não é mais o homem que sabe muitas coisas; é o homem que sabe onde buscar informações.
- (E) Muda-se mais facilmente de religião do que de café

2

Um guitarrista americano produziu o seguinte pensamento:

*O crítico de rock é alguém que não sabe escrever, entrevistando gente que não sabe falar, para gente que não sabe ler.*

Sobre a estruturação ou a significação desse pequeno texto, assinale a afirmativa **incorreta**.

- (A) O termo “de rock” funciona como complemento nominal do termo anterior.
- (B) Todos os elementos da cadeia comunicativa citados no texto são marcados pela ignorância.
- (C) O pensamento acima revela um preconceito fortíssimo contra os amantes de rock.
- (D) A opinião expressa no texto pode advir da experiência pessoal do autor, já que se trata de um guitarrista.
- (E) A injustiça desse texto provém de ser uma opinião fundamentada em uma autoridade duvidosa.

3

John Steinbeck, prêmio Nobel, declarou o seguinte:

*O homem é o único animal que bebe sem ter sede, come sem ter fome e fala sem ter nada a dizer.*

Em relação ao significado e à estruturação desse pequeno texto, assinale a afirmativa **incorreta**.

- (A) A frase ficaria mais enfática se invertêssemos a posição do termo inicial: O único animal que bebe sem ter sede, come sem ter fome e fala sem ter nada a dizer é o homem.
- (B) A inversão de alguns segmentos do texto em nada modificaria o sentido da frase: O homem é o único animal que come sem ter fome, bebe sem ter sede e fala sem ter nada a dizer.
- (C) Os segmentos finais do texto mostram preocupação com rigoroso paralelismo sintático.
- (D) Segundo a opinião do autor do texto, a marca principal do homem é a irracionalidade.
- (E) Nem todas as ações citadas como marcas humanas estão presentes, por oposição, nos outros animais.

4

Assinale a frase em que a utilização do acento grave indicativo da crase é realizada de forma **errada**.

- (A) Jamais alguém se arrependeu de ter-se acostumado à madrugar e à ter-se casado jovem.
- (B) Tempo é o suspiro de adeus do sol à terra.
- (C) Saio todos os dias às cinco horas e não permito que o meu trabalho interfira no meu jogo de tênis.
- (D) O momento de extrair uma lição da história está sempre à mão para os sábios.
- (E) Quando assumi, quatro anos atrás, estávamos à beira do precipício.

5

Assinale a frase que **não** expressa uma noção de tempo abstrato.

- (A) Nas asas do tempo, a tristeza voa.
- (B) Quem mata o tempo não é assassino, é suicida.
- (C) O tempo perdido não se encontra nunca mais.
- (D) O tempo é o melhor professor. Infelizmente, ele mata todos os seus estudantes
- (E) O tempo gasto na viagem foi de duas horas.

6

Observe o seguinte texto:

*Quando entrei no terrível vagão, ele estava ocupado por duas pessoas. Uma, dobrada, coberta, dormia profundamente. A coberta superior estava manchada, de fundo amarelado, como pele de leopardo. Vendem-se muitas mantas assim nas lojas de artigos de viagens, mas pude notar logo depois que se tratava realmente da pele de um animal selvagem; do mesmo modo, o boné da pessoa adormecida me pareceu ser de feltro branco bastante delicado. O outro viajante, uma aparência simpática, parecia ter passado dos trinta anos e mostrava-se como figura insignificante que passa confortavelmente as noites em estradas de ferro.*

Nesse fragmento textual, para criar sinais de história realista e verdadeira, o narrador apela para a seguinte estratégia:

- (A) seleciona uma situação banal da qual não precisa fornecer muitos detalhes, exatamente por sua banalidade.
- (B) fornece algumas marcas caracterizadoras dos dois personagens presentes no texto, destacando sua banalidade.
- (C) indica traços descritivos do ambiente, mostrando-o como se nada houvesse nele de excepcional.
- (D) mostra detalhes variados e bastante pitorescos dos objetos descritos.
- (E) dá ao leitor informações sobre personagens e ambiente, mostrando-os como bastante conhecidos do narrador.

7

Assinale a frase em que o adjetivo sublinhado mostra uma função sintática **diferente** das demais.

- (A) Por fora bela viola, por dentro pão bolorento.
- (B) Tiradentes, heroico, tentou organizar uma revolução.
- (C) Um rosto bonito altera-se depressa.
- (D) Eu não podia acreditar que existem múmias tão lindas.
- (E) Um homem belo é um homem insignificante.

8

Observe o seguinte texto:

*A felicidade depende da habilidade que tenhamos naquelas atividades que consideramos importantes: somente se lhes damos um real valor aos pequenos detalhes cotidianos, poderemos ter instantes felizes. A felicidade absoluta não existe, e já que só podemos acessar os pequenos detalhes daquilo que nos interessa, devemos contentar-nos com isso. Por isso, a infelicidade é um sinal claro de nossa incompetência na arte de viver.*

Sobre a estrutura e a significação desse texto, assinale a afirmativa **inadequada**.

- (A) O tema do texto gira em torno do que consiste a felicidade e o que viria a ser o seu oposto.
- (B) A afirmação de que “A felicidade absoluta não existe” é de cunho pessoal do autor do texto, representando uma opinião.
- (C) O raciocínio utilizado na estruturação argumentativa é do tipo dedutivo.
- (D) O conector “Por isso” mostra a preocupação com o caráter lógico da argumentação.
- (E) A tese do texto é a de que a infelicidade é fruto de nossa incompetência na arte de viver.

9

As frases a seguir mostram termos ligados pela conjunção OU.

Assinale a frase em que essa conjunção mantém o valor de alternativa (e não de adição).

- (A) João ou Pedro deve ser eleito presidente da empresa.
- (B) A alegria ou a tristeza fazem parte da vida.
- (C) Inglês ou francês são idiomas falados pelos turistas
- (D) Os clientes leem livros ou revistas enquanto esperam.
- (E) Vasco ou Flamengo são times de longa tradição.

10

Muitas palavras portuguesas mostram o prefixo A- sem qualquer valor semântico, sendo equivalentes ao mesmo vocábulo sem esse prefixo.

Assinale a palavra a seguir que exemplifica esse A protético.

- (A) amostrar
- (B) abraçar
- (C) atenuar
- (D) aguardar
- (E) aparar

11

Assinale a opção que mostra uma impropriedade léxica, ou seja, um emprego **inadequado** da expressão “cerca de”.

- (A) Havia cerca de três dúzias de convidados no final da festa.
- (B) Chegaram cerca de 100 cartas no mesmo dia.
- (C) Cerca de 18 lojas fecharam as portas mais cedo.
- (D) Os cantores receberam cerca de uma centena de convites.
- (E) A plantação produziu cerca de uma tonelada de legumes.

12

Os adjetivos podem representar estados, qualidades, características e relações.

Assinale a frase que mostra um tipo de adjetivo **diferente** dos demais.

- (A) Nunca houve criança tão amável que a própria mãe não ficasse satisfeita ao conseguir adormecê-la.
- (B) Nada mais perversamente cruel que uma adorável criança.
- (C) Mesmo estando doentes, as crianças não ficam caladas.
- (D) Quando as crianças estão quietas é porque fizeram alguma coisa errada.
- (E) As tangerinas verdes não amadurecem fora do pé.

## Raciocínio Lógico Matemático

13

Em uma caixa, há muitas canetas esferográficas. Classificadas conforme a cor, elas podem ser azuis, vermelhas ou pretas. Classificadas quanto à espessura da esfera, elas podem ser de ponta fina ou de ponta grossa.

Metade das canetas vermelhas tem a ponta grossa. A quantidade total de canetas pretas é igual à quantidade total de canetas vermelhas. Entre as canetas de ponta grossa, a quantidade de azuis é igual à de pretas. A quantidade de canetas azuis com ponta fina é o dobro da quantidade de canetas pretas de ponta grossa.

Se, nessa caixa, 18 são azuis e 20 têm ponta grossa, então a quantidade total de canetas na caixa é

- (A) 30.
- (B) 40.
- (C) 48.
- (D) 50.
- (E) 52.

14

Certo programa de rádio tem 1 hora e 55 minutos de duração. A partir do momento em que o programa é iniciado, há blocos temáticos de 7 minutos intercalados por blocos de propagandas de 2 minutos.

Em todos os blocos de propaganda, ouve-se o comercial do restaurante R, que sempre dura 18 segundos.

Se o programa começa e termina com um bloco temático, então, o tempo total do programa dedicado ao anúncio do restaurante R é

- (A) 3 minutos e 54 segundos.
- (B) 3 minutos e 36 segundos.
- (C) 3 minutos e 18 segundos.
- (D) 3 minutos.
- (E) 2 minutos e 48 segundos.

15

Em certo ano, o dia 1º de agosto cai em um domingo. Logo, o dia 1º de novembro cairá em

- (A) um sábado.
- (B) um domingo.
- (C) uma segunda-feira.
- (D) uma quarta-feira.
- (E) uma sexta-feira.

16

Considere a seguinte proposição condicional:

*Se todos os alunos da Escola Aristarco gostam de matemática, então, ao menos um deles ganha medalha na Olimpíada Nacional de Matemática.*

Se essa proposição é verdadeira, é correto afirmar que

- (A) se nenhum dos alunos da Escola Aristarco gosta de Matemática, então nenhum deles ganha medalha na Olimpíada Nacional de Matemática.
- (B) se todos os alunos da Escola Aristarco ganham medalha na Olimpíada Nacional de Matemática, então, todos esses alunos gostam de Matemática.
- (C) se algum aluno da Escola Aristarco ganha medalha na Olimpíada Nacional de Matemática, então todos esses alunos gostam de Matemática.
- (D) se nenhum aluno da Escola Aristarco ganha medalha na Olimpíada Nacional de Matemática, então nenhum desses alunos gosta de Matemática.
- (E) se nenhum aluno da Escola Aristarco ganha medalha na Olimpíada Nacional de Matemática, então algum desses alunos não gosta de Matemática.

17

A linha de produção de certa fábrica produz 1100 latas de sardinhas a cada hora. Certo dia, por um defeito de calibragem do sistema, entre 13h e 14h, o volume de produção foi reduzido em 30% durante exatos 12 minutos.

A quantidade de latas de sardinhas produzidas no intervalo supracitado foi

- (A) 946.
- (B) 964.
- (C) 1022.
- (D) 1034.
- (E) 1046.

18

Um dado é dito comum quando tem a forma de um cubo e suas 6 faces são numeradas de 1 a 6, de tal forma que a soma dos números estampados em faces opostas, quaisquer que sejam elas, sempre somam 7.

Quando um dado comum é lançado, diz-se que o resultado do lançamento é o número estampado na face voltada para cima.

Um dado foi lançado 3 vezes seguidas. Se o produto dos resultados obtidos nos lançamentos vale 75, a soma desses resultados é igual a

- (A) 12.
- (B) 13.
- (C) 14.
- (D) 15.
- (E) 16.

19

Marcelo está parado de frente para uma das paredes de uma sala quadrada. Nesta posição, ele está a 1m e 20cm da parede que se encontra à sua direita e a 1m e 70cm da parede que está às suas costas.

Ele, então, se desloca paralelamente às paredes da sala sendo 40cm para a frente e 80cm para a direita. Nessa nova posição, ele passou a distar 1m e 90cm da parede que antes estava à sua esquerda.

Desprezando-se as dimensões de Marcelo, a sua atual distância à parede que, antes dos movimentos, estava à sua frente, é

- (A) 20cm.
- (B) 30cm.
- (C) 40cm.
- (D) 50cm.
- (E) 60cm.

20

A negação da proposição:

$$\text{Se } y \neq 0, \text{ então } x > 2 \text{ e } x \leq 5$$

é dada por

- (A) Se  $y = 0$ , então  $x > 2$  e  $x \leq 5$
- (B) Se  $y = 0$ , então  $x < 2$  ou  $x \geq 5$
- (C)  $y = 0$  e  $x \leq 2$  ou  $x > 5$
- (D)  $y \neq 0$  e  $x \leq 2$  ou  $x > 5$
- (E)  $y \neq 0$  e  $x \leq 2$  e  $x > 5$

21

Tucídides possuía uma dívida e, em vez de quitá-la, pagou apenas 20% do seu valor, deixando o restante para ser quitado em data futura, com acréscimo de 12% a título de juros sobre o saldo devedor.

No ato de quitação, Tucídides pagou R\$2.329,60. Logo, o valor original da dívida é o resultado da seguinte expressão:

- (A)  $2.329,60 \times 0,88 - 20$
- (B)  $\frac{2.329,60}{0,88} \times 1,20$
- (C)  $\frac{2.329,60}{1,12} \times 1,20$
- (D)  $\frac{2.329,60}{1,12 \times 1,20}$
- (E)  $\frac{2.329,60}{1,12 \times 0,8}$

22

As filhas de Nepomuceno têm 5 e 9 anos de idade. Ele dividirá R\$420,00 entre elas de forma inversamente proporcional às suas idades.

Logo

- (A) a mais nova receberá R\$120,00 a mais que a mais velha.
- (B) a mais nova receberá R\$150,00 a mais que a mais velha.
- (C) a mais nova receberá R\$270,00 a mais que a mais velha.
- (D) a mais velha receberá R\$120,00 a mais que a mais nova.
- (E) a mais velha receberá R\$150,00 a mais que a mais nova.



## Atualidades

23

Assinale a afirmativa que descreve corretamente um aspecto do panorama global da economia em 2023.

- (A) Nos Estados Unidos, a economia foi alavancada pela adoção de uma política de ampliação do crédito e baixa da taxa de juros.
- (B) Na China, o PIB cresceu acima do esperado, em um cenário marcado pela retomada econômica pós pandemia, inclusive no setor imobiliário.
- (C) Na Zona do Euro, a alta dos preços da energia pesou nas despesas familiares e no setor industrial, confirmando a manutenção de um quadro de crise.
- (D) Na Rússia, o PIB decresceu, em função do impacto prolongado da guerra com a Ucrânia e dos embargos à venda de petróleo e gás russos.
- (E) Na América do Sul, foi mantido um caminho geral de crescimento, apoiado por investimentos externos e pela intensificação de políticas estatistas.

24

Energia gerada por recursos naturais renováveis que, no Brasil, provém da lenha, carvão vegetal, carvão mineral, bagaço de cana e outros resíduos combustíveis. Essa energia é a matéria orgânica vegetal ou animal usada como fonte de energia limpa e sustentável.

O trecho descreve o seguinte componente importante do desenvolvimento sustentável:

- (A) compostagem.
- (B) biodiversidade.
- (C) créditos de carbono.
- (D) ciclo de vida.
- (E) biomassa.

25

As afirmativas a seguir descrevem corretamente o desempenho da economia brasileira em 2023, **à exceção de uma**. Assinale-a.

- (A) A expansão econômica ampliou a geração de empregos informais, em um contexto recessivo e de flexibilização das leis trabalhistas.
- (B) O dinamismo da economia foi marcado pelo aumento de exportações, no setor agrícola, e da demanda, no setor de serviços, em função da alta no consumo das famílias.
- (C) A alta progressiva nas cotações internacionais de commodities acelerou o ritmo das exportações, mesmo em um cenário cambial desfavorável para os exportadores.
- (D) A retração do Brasil no mercado regional e internacional ocorreu em função da maior competitividade dos produtos agrícolas argentinos e pela retomada da economia chinesa.
- (E) A persistência do alto nível da inflação foi ocasionada pela alta da cesta básica, sobretudo dos alimentos, cujas safras foram afetadas pelas condições climáticas adversas.

26

Em 2024, o Tribunal Superior Eleitoral (TSE) aprovou uma resolução para regulamentar o uso da inteligência artificial (IA) durante as eleições municipais a serem realizadas em outubro. A norma proíbe manipulações de conteúdo falso para criar ou substituir imagem ou voz de candidato com objetivo de prejudicar ou favorecer candidaturas. Também foi aprovada a restrição do uso de chatbots humanizados e avatares para intermediar a comunicação das campanhas com pessoas reais nas redes sociais.

Adaptado de <https://agenciabrasil.ebc.com.br/>

A resolução sobre IA objetiva

- (A) coibir a produção e circulação de *deepfakes*.
- (B) restringir o uso de ferramentas de IA simbólica.
- (C) retomar a veiculação de propagandas eleitorais em mídias tradicionais, como rádio e televisão.
- (D) proibir o uso de ferramentas de coleta e seleção em bases de dados com fins eleitorais.
- (E) limitar o uso de assistente virtual programado por AI para divulgação do programa partidário.

27

No início do ano corrente, a Petrobras anunciou ter alcançado em 2023 o segundo maior valor de lucro líquido de sua história. Mesmo assim, suas ações caíram no mercado financeiro, em função da disputa sobre os dividendos.

A respeito dos resultados financeiros da Petrobrás nos últimos anos e da política de distribuição de dividendos da empresa, assinale a afirmativa correta.

- (A) A Petrobras é uma empresa estatal de economia mista que monopoliza a indústria petroleira no Brasil.
- (B) A Petrobras é uma estatal administrada diretamente por órgãos governamentais que controlam o valor das suas ações.
- (C) A Petrobras direciona parte dos dividendos para investidores privados, e outra parte para o governo federal, que controla a empresa via Tesouro e BNDES.
- (D) A Petrobras, sob o Governo Bolsonaro, reduziu o pagamento de dividendos a acionistas privados para reinvesti-los em energia renovável.
- (E) A Petrobras, no atual governo, vendeu ativos e distribuiu o lucro e os valores recordes de dividendos entre seus acionistas para financiar projetos do BNDES.

28

De acordo com o censo demográfico de 2022 (IBGE), mais da metade da população brasileira (51,13%) é feminina, e elas representam, segundo o Tribunal Superior Eleitoral, 53% do eleitorado. No entanto, elas ocupam, hoje, menos de 15% dos cargos eletivos.

A respeito da baixa participação das mulheres na política, assinale a afirmativa que apresenta um dispositivo existente na legislação brasileira para alterar esse cenário.

- (A) Reserva de pelo menos 50% dos recursos do Fundo Especial de Financiamento de Campanha, o Fundo Eleitoral, para financiar candidaturas femininas.
- (B) Suspensão dos direitos eleitorais aos partidos em caso de não observância do percentual de pelo menos 30% de candidatas mulheres em cada ciclo eleitoral
- (C) Reserva de assentos, em ambas as casas legislativas, para mulheres, com preferência para as representantes de povos originários.
- (D) Cota de gênero, que obriga cada partido ou coligação a preencher o mínimo de 30% e o máximo de 70% de candidaturas de cada sexo.
- (E) Repasse de até 30% dos recursos dos Fundos Partidário para custear o tempo da propaganda eleitoral gratuita de candidatas em rádio e televisão.

29

*Dados da última década mostram que, em relação aos Estados, o Pará é o que apresenta o maior número de registros de resgates de trabalho análogo à escravidão, com 9.853, seguido por Mato Grosso (4.302); Tocantins (2.896); São Paulo (1.529) e Rio de Janeiro (1.653), em 2017.*

Adaptado de <https://www.jota.info/justica/em-14-anos-434-mil-foram-resgatados-de-trabalho-escravo-30102017>

A respeito da definição moderna de escravidão, analise as afirmativas a seguir.

- I. Em Tocantins, a maior incidência de escravidão moderna ocorre na zona rural, associada a atividades agropecuárias e ao extrativismo mineral, como nas carvoarias, por exemplo.
- II. A Organização Internacional do Trabalho determina a condição de escravidão por uma série de componentes, como o trabalho forçado análogo ao de escravo e o casamento forçado.
- III. Pessoas obrigadas a trabalhar por dívida ou por ameaça, sem direitos trabalhistas garantidos estão em situação de escravidão, uma vez que lhes é impedida a liberdade de ir e vir.

Está correto o que se afirma em

- (A) I, apenas.
- (B) I e II, apenas.
- (C) I e III, apenas.
- (D) II e III, apenas.
- (E) I, II e III.

30

*Desde os anos 2000, o interior do Brasil ultrapassou o litoral na incidência de dengue. A região costeira que vai de Santos, em São Paulo, até Belém, no Pará, apresentava tipicamente maior proporção de casos de dengue em comparação com sua população. Entretanto, recentemente, o oeste do Paraná, o oeste de Santa Catarina o oeste de São Paulo, o interior de Minas Gerais, uma parte do Tocantins, o Goiás e o Mato Grosso do Sul viram a transmissão da doença aumentar e muitas de suas cidades foram obrigadas a decretar emergência.*

Adaptado de <https://www.estadao.com.br>

A respeito dos fatores relacionados ao aumento e à interiorização dos casos de dengue no Brasil, analise as afirmativas a seguir.

- I. A maior frequência de períodos com temperaturas acima da média, inclusive com ondas de calor no período invernal em todo território, tem reforçado o padrão sazonal da doença.
- II. A expansão urbana desvinculada de melhoras nos serviços sanitários tem propiciado a formação de ilhas de calor e, portanto, uma alta na incidência da dengue.
- III. O desmatamento do cerrado, convertido em pasto, por exemplo, tem contribuído para aumentar a temperatura média e o número de casos da doença no interior do Brasil.

Está correto o que se afirma em

- (A) I, apenas.
- (B) I e II, apenas.
- (C) I e III, apenas.
- (D) II e III, apenas.
- (E) I, II e III.

31

*Um supercomputador consiste em milhares de pequenos computadores chamados nós. Cada nó é equipado com sua própria memória e com vários processadores. Atuando em conjunto, eles são capazes de realizar cálculos extremamente complexos em elevada velocidade. Hoje, o maior supercomputador da América Latina é o Pégaso, da Petrobras, com 678 TB de memória RAM e mais de 233 mil núcleos.*

Adaptado de <https://revistapesquisa.fapesp.br>

A respeito do poder computacional de alto desempenho dos supercomputadores, analise as afirmativas a seguir e assinale (V) para a verdadeira e (F) para a falsa.

- ( ) Essas máquinas são instrumentos valiosos de pesquisa e de suporte a setores da economia como defesa, energia e saúde, permitindo a resolução de problemas complexos em menor tempo.
- ( ) Esses equipamentos permitem realizar tarefas que exigem altíssimos níveis de processamento, como simulações da formação do universo ou modelagem molecular para novos fármacos.
- ( ) Esses aparelhos trabalham em alta velocidade de processamento pelo somatório de diversos núcleos, o que potencializa a velocidades do processador, medidas em gigahertz (GHz).

As afirmativas são, respectivamente,

- (A) V – V – F.
- (B) V – F – V.
- (C) F – V – F.
- (D) F – V – V.
- (E) V – V – V.

32

A França se tornou o primeiro país do mundo a incluir na Constituição a liberdade de a mulher abortar. A mudança na Carta Magna foi aprovada em uma sessão conjunta das duas Casas legislativas, a Assembleia Nacional e o Senado, e será promulgada pelo presidente Emmanuel Macron ainda em março de 2024.

Adaptado de <https://www1.folha.uol.com.br/mundo/2024/03/>

Diferentemente da França, a legislação brasileira

- (A) equipara o aborto ao infanticídio.
- (B) considera o aborto uma prática ilegal em todas as situações.
- (C) descriminaliza a interrupção da gravidez em caso de deficiência da gestante.
- (D) estabelece um limite temporal para interromper a gravidez, desde que respaldada por laudo médico.
- (E) autoriza a interrupção de gestação em caso de não haver outro meio de salvar a vida da gestante.

## História e Geografia do Estado de Tocantins

33

O Estado do Tocantins possui diversas comunidades quilombolas certificadas e outras com processo formalizado para regularização fundiária de seus territórios. A definição de comunidade quilombola é dada pelo Art. 2º do Decreto nº 4.887/2003:

*Consideram-se remanescentes das comunidades dos quilombos, para os fins deste Decreto, os grupos étnico-raciais, segundo critérios de auto-atribuição, com trajetória histórica própria, dotados de relações territoriais específicas, com presunção de ancestralidade negra relacionada com a resistência à opressão histórica sofrida.*

A respeito dos órgãos e processos envolvidos na identificação e regularização de territórios quilombolas no Estado do Tocantins, assinale a afirmativa correta.

- (A) O acesso dessas comunidades às políticas públicas de educação, saúde, moradia e regularização fundiária depende de o Estado emitir uma certidão de identificação de comunidade quilombola, mediante Fundação Palmares.
- (B) Os critérios para reconhecimento de um grupo enquanto remanescente de quilombo depende da comprovação de sua ancestralidade, seu parentesco e da preservação viva de religiosidades autenticamente africanas.
- (C) A Coordenação Nacional de Articulação de Comunidades Negras Rurais Quilombolas (CONAQ) luta pela incorporação constitucional do direito à autodefinição dos remanescentes de quilombos.
- (D) A certificação quilombola é realizada pela Fundação Cultural Palmares, que avalia com visitas técnicas a autenticidade do legado quilombola pretendido e, caso o aprove, emite a certidão de comunidade quilombola e a inscreve em um cadastro geral.
- (E) O acesso às terras ocupadas pelos remanescentes das comunidades dos quilombos é garantido por sua delimitação e titulação, a cargo da autoridade municipal em que a mesma se localiza.

34

O Memorial Coluna Prestes (2001) é uma obra do arquiteto Oscar Niemeyer localizada na Praça dos Girassóis, no centro de Palmas (TO).



Fonte: <https://central.to.gov.br/image/146145?f=1>

A respeito da relação entre essa obra e a constituição de uma memória histórica para o Estado do Tocantins, analise as afirmativas a seguir.

- I. O monumento refere-se à Coluna Prestes, que percorreu o Brasil para divulgar seu programa revolucionário entre 1924 e 1927, tendo passado pelo Norte do então Estado de Goiás (atual Tocantins) durante seu percurso.
- II. A obra foi realizada em concreto e apresenta curvas sinuosas, características próprias do Barroco das cidades mineradoras, estabelecendo visualmente uma continuidade entre o Barroco do passado das cidades mineradoras e o presente do Tocantins.
- III. A construção do memorial permite inserir simbolicamente a história do Tocantins nos grandes processos da história republicana nacional, e homenagear o Tenente Antônio de Siqueira Campos, cujo sobrenome é homônimo ao do ex-governador do Estado.

Está correto o que se afirma em

- (A) I, apenas.
- (B) I e II, apenas.
- (C) I e III, apenas.
- (D) II e III, apenas.
- (E) I, II e III.

35

*As belas paisagens como serras, cachoeiras, praias e até mesmo dunas, fazem do Tocantins um paraíso de paisagens naturais, atraindo turistas de várias regiões para conhecer o mais novo Estado brasileiro. A potencialidade para o ecoturismo e a preocupação em conservar a biodiversidade e recursos naturais nele contidos fez com que o Governo do Estado, criasse e implementasse as Unidades de Conservação Ambiental (UC).*

Adaptado de <https://www.to.gov.br/secom/>

A respeito das Unidades de Conservação (UC) do Tocantins, assinale a afirmativa correta.

- (A) São espaços territoriais legalmente instituídos pelo poder público e podem ser de proteção integral federal, como no caso dos Parques Cantão, Jalapão e Lajeado.
- (B) As UCs federais estão subordinadas ao Instituto Chico Mendes de Conservação da Biodiversidade (ICMBio), como no caso do Monumento Natural das Árvores Fossilizadas.
- (C) As UCs estaduais estão subordinadas ao Instituto Natureza do Tocantins (Naturatins), que supervisiona o Parque do Araguaia e o das Nascentes do rio Parnaíba.
- (D) As UCs de uso sustentável são compostas exclusivamente por áreas públicas, sendo permitida sua utilização apenas para o ecoturismo, pesquisa e educação ambiental.
- (E) As UCs municipais estão subordinadas às secretarias de meio ambiente, como no caso do Monumento Natural dos Cânions e Corredeiras do Rio Sono e do Parque Ecológico Roberto Guedes Pereira.

36

Leia a descrição de uma classe de vegetação presente no estado do Tocantins, a seguir.

*Esta vegetação, também conhecida como floresta pluvial tropical, é caracterizada por árvores de porte elevado, além de trepadeiras lenhosas e epífitas (bromélias e orquídeas, por exemplo) em abundância, o que a diferencia de outras classes de formação vegetal. Sua característica ecológica principal é estar presente em ambientes de chuvas abundantes, como na parte noroeste do Estado, onde as temperaturas médias são de 25°C e os elevados índices de precipitação estão bem distribuídos ao longo do ano.*

Adaptado de Luís Antônio G. C. Silva. *Biomias presentes no Estado do Tocantins*. Brasília: Câmara dos Deputados, 2007, p. 4.

O trecho caracteriza a região conhecida como Floresta

- (A) Estacional Semidecidual.
- (B) Tropical Subcaducifólia.
- (C) de Mata Atlântica.
- (D) Ombrófila Densa.
- (E) Temperada Decidual.

37

*Foram inegáveis os desdobramentos socioeconômicos sobre o antigo Norte Goiano fruto da construção da rodovia BR-153, a partir do final da década de 1950. O novo urbanismo da Belém-Brasília trouxe enorme impacto no que se refere ao conjunto de cidades que existiam às margens do rio Tocantins, aos fluxos migratórios e às atividades econômicas da região.*

Adaptado de AQUINO, N. *Tocantins: cidades e urbanismo em três modelos históricos*. In: III Encontro da ANPPAS. Brasília, 2006, p. 8.

As afirmativas a seguir descrevem corretamente impactos da rodovia BR-153 no processo de territorialização do Tocantins, **à exceção de uma**. Assinale-a.

- (A) A rodovia foi construída no governo Kubitschek, em um contexto desenvolvimentista que considerava a expansão rodoviária como um meio para integrar econômica e territorialmente as regiões do país, inclusive o norte goiano que, então, vivia uma situação de abandono.
- (B) A rodovia Belém-Brasília teve grande importância para a urbanização do atual Tocantins, o que é exemplificado pela quantidade de novas cidades criadas após a sua construção, como Araguaína, Gurupi, Paraíso do Tocantins, Colinas do Tocantins e Guaraí.
- (C) A construção da BR-153 alavancou também os municípios ribeirinhos, pois a navegação fluvial foi intensificada para abastecer as obras em curso, o que transformou esses municípios em satélites econômicos da nova malha urbana instalada ao longo da rodovia.
- (D) Após a abertura da rodovia, as principais áreas que receberam fluxos migratórios foram a Microrregião de Gurupi – Gurupi e a Microrregião de Porto Nacional – Palmas, para onde se dirigiram pessoas interessadas em trabalhar na construção civil, nos serviços e no comércio, entre outros.
- (E) A BR-153 permitiu interligar o norte de Goiás, atual Estado do Tocantins, a outras localidades do país, facilitando o escoamento da produção e o acesso a produtos para a região, promovendo o fluxo de mercadorias e serviços.

**38**

Até 1988, o território que hoje corresponde ao Estado do Tocantins pertencia ao antigo norte de Goiás e à Região Centro-Oeste, tendo como capital política a cidade de Goiânia. Com a emancipação política, da noite para o dia, as pessoas amanheceram tocantinenses, mas sem referências culturais que as representassem como tais.

A respeito da projeção simbólica do novo Estado e de sua nova capital, assinale a opção que interpreta corretamente o processo de construção e atribuição de uma identidade ao Tocantins.

- (A) Desde o primeiro mandato do governador Siqueira Campos, os símbolos oficiais do Tocantins continuaram sendo o brasão de armas, a bandeira, o selo estadual e a canção "Hino ao Tocantins", de Liberato Costa Póvoa e Abiezer Alves da Rocha.
- (B) O girassol foi reconhecido oficialmente como símbolo da natureza do Estado, por ser uma planta nativa dos cerrados tocantinenses e estar associada à prosperidade e à esperança.
- (C) A Praça dos Girassóis, centro cívico de Palmas, foi concebida para receber edifícios esteticamente associados à cultura do Tocantins, como o Palácio do Araguaia, cujos pórticos remetem ao capim dourado, símbolo da tradição do artesanato de alta qualidade da região.
- (D) A monumentalidade da Praça dos Girassóis é enfatizada pelo seu pavimento, que contém figuras simbólicas como o mapa do Tocantins, a rosa dos ventos, o brasão de armas e a Praça Krahô.
- (E) O meio ambiente também foi utilizado para fortalecer o sentimento identitário, inserindo o girassol, a fava-de-bolota, a arara-canindé e a granada como símbolos da natureza do Tocantins, desde a promulgação da Constituição Estadual em 1989.

**39**

Comparando dados dos censos do IBGE, pode-se elaborar um retrato da evolução demográfica da população residente no Estado de Tocantins. O grupo na faixa etária de 0 a 14 representava 41,7% da população em 1991, 28,8% em 2010, e passou para 24% em 2022. A população acima de 65 anos era de 3,8% em 1991 e 5,8% em 2010, e ficou em 8,6% em 2022. O censo de 2022 mostrou ainda que a faixa etária de 15 a 29 anos representa 15% da população e que 41% da população é composta por pessoas de 30 a 59 anos.

Com base no trecho, assinale a opção que apresenta a dinâmica populacional do Tocantins entre 1991 e 2022.

- (A) Expansão da base da pirâmide etária.
- (B) Diminuição da taxa de fecundidade.
- (C) Estreitamento do topo da pirâmide.
- (D) Aumento da idade mediana.
- (E) Redução do índice de envelhecimento.

**40**

A respeito da matriz energética do Estado e dos investimentos em biocombustíveis, analise as afirmativas a seguir e assinale (V) para a verdadeira e (F) para a falsa.

- ( ) O Estado tem condições de clima e solo desfavoráveis para o plantio de matérias-primas usadas na fabricação de biocombustíveis, mas a expansão do modal logístico (Ferrovia Norte-Sul) permitirá o acesso à soja do planalto goiano.
- ( ) O Tocantins conta com duas usinas de biodiesel em funcionamento, utilizando o pinhão-manso, a soja, a mamona e outras oleaginosas como matéria-prima.
- ( ) O Estado tem alto potencial de geração de energia solar, pela elevada irradiação solar e pelas políticas públicas voltadas para produção de energia limpa e renovável, como a Política Estadual de Incentivo à Geração e ao Uso da Energia Solar (Pró-Solar)

As afirmativas são, respectivamente,

- (A) V – F – V.
- (B) F – V – V.
- (C) F – F – V.
- (D) V – V – F.
- (E) V – V – V.

## CONHECIMENTOS ESPECÍFICOS

**41**

De acordo com os níveis de avaliação na acreditação hospitalar, as *Práticas de Gestão e Qualidade* são parte dos princípios do

- (A) nível de avaliação 1.
- (B) nível de avaliação 2.
- (C) nível de avaliação 3.
- (D) nível de avaliação 4.
- (E) nível de avaliação 5.

**42**

De acordo com o Calendário de Vacinação da Criança do Ministério da Saúde, o intervalo mínimo recomendado para administração da segunda dose da Vacina COVID 19 é de

- (A) duas semanas após 1ª dose.
- (B) três semanas após 1ª dose.
- (C) quatro semanas após 1ª dose.
- (D) seis semanas após 1ª dose.
- (E) oito semanas após 1ª dose.

**43**

O Ministério da Saúde recomenda evitar a concomitância da vacina Dengue Tetravalente (atenuada) com outras vacinas.

Nesse sentido, a orientação é que as vacinas inativadas podem ser administradas a partir de

- (A) 12 horas após a vacinação contra a dengue.
- (B) 24 horas após a vacinação contra a dengue.
- (C) 36 horas após a vacinação contra a dengue.
- (D) 48 horas após a vacinação contra a dengue.
- (E) 72 horas após a vacinação contra a dengue.

44

Com base nas recomendações do Ministério da Saúde acerca do esquema terapêutico da Malária, a *primaquina* é **contraindicada** no tratamento de crianças menores de

- (A) 6 meses.
- (B) 9 meses.
- (C) 12 meses.
- (D) 2 anos.
- (E) 5 anos.

45

Durante a avaliação de um paciente, foi identificada *anisocoria*. Essa alteração pupilar é caracterizada por

- (A) pupilas com forma anormal.
- (B) pupilas com tamanhos diferentes.
- (C) diminuição do tamanho pupilar abaixo de 2mm.
- (D) dilatação da pupila com reflexo fotomotor negativo.
- (E) dilatação da pupila com reflexo fotomotor positivo.

46

O tempo máximo que cada órgão resiste à falta de circulação e oxigenação sanguínea é denominado tempo de isquemia, sendo fundamental para a efetivação do transplante.

De acordo com as orientações do Ministério da Saúde, o tempo máximo de *isquemia do rim* é de

- (A) seis horas.
- (B) oito horas.
- (C) doze horas.
- (D) vinte e quatro horas.
- (E) quarenta e oito horas.

47

Os componentes da tríade de Virchow correspondem a fatores que potencializam ou predisõem ao risco de desenvolver fenômenos tromboembólicos venosos.

Nesse sentido, assinale a opção que indica o fator de risco relacionado ao componente *lesão do endotélio*.

- (A) Varizes.
- (B) Gravidez.
- (C) Tabagismo.
- (D) Obesidade.
- (E) Reposição hormonal.

48

Considerando as recomendações do Ministério da Saúde acerca dos acidentes de trabalho com exposição a material biológico, analise as afirmativas a seguir e assinale (V) para a verdadeira e (F) para a falsa.

- ( ) A exposição percutânea e cutânea com pele não integra são consideradas exposição de risco para transmissão do HIV, Hepatite B e Hepatite C.
- ( ) A primeira dose da Profilaxia Pós Exposição ao HIV - PEP deve ser administrada idealmente em até 4h após o acidente ou, no máximo, em até de 48h.
- ( ) Qualquer acidente de trabalho com exposição a material biológico deve ser notificado em até 24h após a ocorrência.

As afirmativas são, respectivamente,

- (A) F – V – F.
- (B) V – F – F.
- (C) F – F – F.
- (D) V – V – V.
- (E) F – V – V.

49

Assinale a opção que corresponde a um tipo de estudo epidemiológico experimental.

- (A) Coorte.
- (B) Ecológico.
- (C) Caso-controlado.
- (D) Transversal.
- (E) Ensaio de campo.

50

O método de rastreamento do câncer do colo do útero (exame de Papanicolau) deve ser oferecido às mulheres ou qualquer pessoa com colo do útero que já teve atividade sexual e encontra-se na faixa etária de

- (A) 18 a 45 anos.
- (B) 20 a 50 anos.
- (C) 25 a 64 anos.
- (D) 30 a 66 anos.
- (E) 35 a 64 anos.

51

Entre as condições clínicas necessárias para a administração de quimioterápicos está

- (A) leucócitos > 4.000/mm<sup>3</sup>.
- (B) neutrófilos < 2.000/mm<sup>3</sup>.
- (C) plaquetas > 100.000/mm<sup>3</sup>.
- (D) hemoglobina > 8g/dL.
- (E) ureia < 1,7mg/dL.

52

O *Programa de Volta para Casa* é uma política de inclusão social destinada às pessoas com sofrimento psíquico, egressas de internação de longa permanência em hospitais psiquiátricos e de custódia.

Esse programa faz parte do seguinte componente da *Rede de Atenção Psicossocial*:

- (A) Reabilitação Psicossocial.
- (B) Atenção Básica em Saúde.
- (C) Atenção psicossocial especializada.
- (D) Estratégia de desinstitucionalização.
- (E) Atenção residencial de caráter transitório.

53

Um paciente adulto deu entrada na Unidade de Pronto Atendimento apresentando crise convulsiva repetida sem a recuperação completa da consciência entre os episódios; glicemia capilar = 68mg/dL; frequência respiratória = 10irpm; e frequência cardíaca = 40bpm.

Nesse caso, considerando o protocolo de classificação de risco do Ministério da Saúde, esse paciente deve ser classificado com a cor

- (A) azul.
- (B) verde.
- (C) amarela.
- (D) laranja.
- (E) vermelha.

54

Considerando as especificidades acerca das Hepatites Virais, analise as afirmativas a seguir.

- I - A imunidade para a hepatite E pode ser conferida indiretamente, por meio da vacina contra a hepatite B.
- II - O período prodromico da hepatite aguda ocorre após o período de incubação do agente etiológico e anteriormente ao aparecimento da icterícia.
- III - Hepatite fulminante é o termo utilizado para designar a insuficiência hepática aguda, caracterizada pelo surgimento de icterícia, coagulopatia e encefalopatia hepática em um intervalo de até oito semanas.

Está correto o que se afirma em

- (A) I, apenas.
- (B) II, apenas.
- (C) I e II, apenas.
- (D) II e III, apenas.
- (E) I, II e III.

55

Considerando as disposições da Lei nº 8.080/90 acerca da *telessaúde*, analise as afirmativas a seguir e assinale (V) para a verdadeira e (F) para a falsa.

- ( ) Entre os princípios que devem ser observados no exercício da telessaúde estão a assistência segura e com qualidade e a confidencialidade dos dados.
- ( ) Ao recusar o atendimento na modalidade telessaúde o paciente abre mão da possibilidade de atendimento presencial.
- ( ) Compete aos Conselhos Federais de fiscalização do exercício profissional a normatização ética relativa à prestação dos serviços na modalidade telessaúde.

As afirmativas são, respectivamente,

- (A) V – V – F.
- (B) F – V – F.
- (C) V – V – V.
- (D) F – F – F.
- (E) V – F – V.

56

De acordo com as disposições do Decreto nº 7.508/11, analise as afirmativas a seguir e assinale (V) para a verdadeira e (F) para a falsa.

- ( ) O acordo de colaboração entre os entes federativos para a organização da rede interfederativa de atenção à saúde deve ser firmado por meio de Contrato Organizativo da Ação Pública da Saúde.
- ( ) O planejamento da saúde em âmbito estadual deve ser realizado de maneira regionalizada, a partir das necessidades dos Municípios, considerando o estabelecimento de metas de saúde.
- ( ) Entre as Portas de Entrada às ações e aos serviços de saúde nas Redes de Atenção à Saúde estão os serviços de Atenção Primária e os Ambulatórios de Especialidades.

As afirmativas são, respectivamente,

- (A) V – F – V.
- (B) F – F – F.
- (C) V – V – F.
- (D) F – V – F.
- (E) V – V – V.

57

De acordo com as medidas de prevenção de infecção recomendadas pela ANVISA, a antibioticoprofilaxia para parto vaginal é indicada somente em algumas situações específicas, sendo uma delas a de

- (A) trabalho de parto prematuro.
- (B) remoção manual da placenta.
- (C) lacerações de períneo de 1º grau.
- (D) lacerações de períneo de 2º grau.
- (E) trabalho de parto superior a 8h.

58

A organização dos serviços de saúde em atenção primária, secundária e terciária (níveis crescentes de complexidade) visando disponibilizar a assistência requerida para cada caso, diz respeito ao seguinte princípio do SUS:

- (A) Equidade.
- (B) Universalidade.
- (C) Descentralização.
- (D) Regionalização.
- (E) Hierarquização.

59

Uma criança com paralisia cerebral apresentou *marcha atáxica*.

Nesse tipo de marcha o paciente

- (A) Acentua a lordose lombar e inclina o tronco ora para a direita, ora para a esquerda.
- (B) Levanta acentuadamente o membro inferior para evitar tropeçar, lembrando o passo do ganso.
- (C) Apresenta perda de equilíbrio e de coordenação com tendência a ampliação da base de sustentação.
- (D) Apresenta um padrão de circundução do membro inferior plégico para fora e para frente.
- (E) Apresenta movimentos irregulares, espasmódicos e involuntários em todas as extremidades.

60

Um paciente adulto internado com síndrome gripal apresenta sinais e sintomas de Síndrome Respiratória Aguda Grave.

Entre esses sintomas está saturação de oxigênio em ar ambiente abaixo de

- (A) 95%.
- (B) 96%.
- (C) 97%.
- (D) 98%.
- (E) 99%.

61

De acordo com as definições de *Hipertensão Arterial Resistente e Refratária*, previstas nas Diretrizes Brasileiras de Hipertensão Arterial, analise as afirmativas a seguir e assinale (V) para a verdadeira e (F) para a falsa.

- ( ) Hipertensão Arterial Resistente (HAR) é definida como a PA de consultório que permanece com valores  $\geq 139/90$ mmHg, com o uso de duas ou mais classes de fármacos anti-hipertensivos.
- ( ) Quando o paciente necessita do uso de quatro ou mais fármacos anti-hipertensivos para alcançar o controle da PA, ele também é considerado um hipertenso resistente, porém controlado.
- ( ) Para definir a Hipertensão Arterial como Refratária é necessário que o paciente esteja em uso de três ou mais fármacos anti-hipertensivos com ações sinérgicas e em doses máximas preconizadas.

As afirmativas são, respectivamente,

- (A) V – V – V.
- (B) F – F – F.
- (C) V – F – V.
- (D) F – V – F.
- (E) V – V – F.

62

De acordo com o Protocolo do Ministério da Saúde, uma criança com *anemia por deficiência de ferro* apresenta algumas alterações nos exames laboratoriais.

Entre os valores que determinam esse diagnóstico está

- (A) Hemoglobina < 11g/dL.
- (B) Ferritina < 40ng/mL.
- (C) Hematócrito < 50%.
- (D) Hemácias < 5,5 milhões/ $\mu$ L.
- (E) Eritrócitos < 6,1 milhões/ $\mu$ L.

63

Com base no Código de Ética dos Profissionais de Enfermagem, analise as afirmativas a seguir e assinale (V) para a verdadeira e (F) para a falsa.

- ( ) A advertência verbal consiste na repreensão que será divulgada nas publicações oficiais do Sistema dos Conselhos de Enfermagem e em jornais de grande circulação.
- ( ) Um profissional de enfermagem que promover ou participar de prática destinada a antecipar a morte do paciente, está sujeito à pena de cassação do direito ao exercício profissional.
- ( ) Uma das circunstâncias consideradas agravantes na aplicação da penalidade ao profissional de enfermagem, é o cometimento de infração por motivo fútil ou torpe.

As afirmativas são, respectivamente,

- (A) V – V – F.
- (B) F – V – F.
- (C) V – V – V.
- (D) F – V – V.
- (E) V – F – V.

64

Com base nas diretrizes de atendimento a pacientes adultos e pediátricos em parada cardiorrespiratória, analise as afirmativas a seguir e assinale (V) para a verdadeira e (F) para a falsa.

- ( ) Recomenda-se o uso rotineiro de pressão cricoide durante a intubação endotraqueal de pacientes pediátricos.
- ( ) Na Cadeia de Sobrevivência da AHA para adultos em parada cardiorrespiratória extra hospitalar – PCREH, após o acionamento do serviço médico de emergência deve-se iniciar a RCP de alta qualidade.
- ( ) Um dos ritmos cardíacos chocáveis em uma parada cardiorrespiratória é a Taquicardia Ventricular Sem Pulso (TVSP).

As afirmativas são, respectivamente,

- (A) F – V – V.
- (B) V – V – V.
- (C) F – V – F.
- (D) V – F – V.
- (E) V – F – F.

65

Durante o exame físico um paciente apresentou pulso caracterizado pela *diminuição da amplitude das pulsações durante a inspiração forçada*.

Esse pulso é denominado

- (A) filiforme.
- (B) dicrótico.
- (C) bigeminado.
- (D) alternante.
- (E) paradoxal.

## LEGISLAÇÃO INSTITUCIONAL

66

Antônio foi nomeado para o cargo de Controlador Interno da Assembleia Legislativa de Tocantins.

À luz da Lei nº 4.209/2023, que dispõe sobre a estrutura administrativa da Aletto, durante o exercício da função, Antônio será competente para:

- (A) opinar, conclusivamente, em processos de direitos, deveres e obrigações dos servidores do Poder Legislativo.
- (B) constituir Comissão Permanente de Licitação.
- (C) examinar a observância das normas de licitações.
- (D) apresentar à Mesa Diretora o balancete mensal e, no início de cada exercício, o balancete geral das contas da Assembleia Legislativa, relativo ao exercício anterior.
- (E) planejar, coordenar, orientar, controlar e dirigir as atividades administrativas, orçamentárias, financeiras, de comunicação social, de tecnologia de informação e de apoio legislativo da Assembleia Legislativa.



**67**

Nos termos da Constituição do Estado do Tocantins, constitui objeto de lei complementar a seguinte matéria:

- (A) os prazos de prescrição para ilícitos praticados por qualquer agente, servidor ou não, que causem prejuízos ao erário.
- (B) os limites de idade, a estabilidade e outras condições de transferência do servidor militar para a inatividade.
- (C) os casos de contratação por tempo determinado para atender à necessidade temporária de excepcional interesse público.
- (D) as regras para cálculo de proventos de aposentadoria e pensão por morte.
- (E) os requisitos e as restrições ao ocupante de cargo ou emprego da administração direta e indireta que possibilite o acesso a informações privilegiadas.

**68**

Considerando o exercício da função legislativa por parte da Assembleia Legislativa de Tocantins, nos termos de seu Regimento Interno, é correto afirmar que

- (A) projetos de lei delegada podem se destinar a regular as matérias de exclusiva competência do Poder Executivo, com a sanção do Governador do Estado.
- (B) projetos de resolução podem se destinar a regular, com eficácia de lei ordinária, matéria de competência privativa da Assembleia Legislativa.
- (C) projetos de lei complementar visam regular matéria infraconstitucional.
- (D) projetos de lei têm por objetivo regular matérias de competência do Poder Legislativo, sem a sanção do Governador do Estado.
- (E) projetos de decreto legislativo destinam-se à delegação de competência, na forma estabelecida na Constituição Estadual.

**69**

Aline, servidora pública estadual, revelou segredo do qual se apropriou em razão do cargo que ocupa. A Administração Pública, ao tomar conhecimento do fato, instaurou procedimento administrativo disciplinar a fim de apurar a conduta e garantir à servidora os princípios da ampla defesa e do contraditório.

À luz do Estatuto dos Servidores Públicos Cíveis do Estado do Tocantins, caso punida, Aline poderá ser sancionada com

- (A) advertência.
- (B) suspensão.
- (C) prestação de serviço.
- (D) multa.
- (E) demissão.

**70**

Ana, servidora pública efetiva e estável, ocupante de cargo de nível superior, objetivando inteirar-se sobre os requisitos para a progressão na carreira, consultou a Lei nº 4.208/2023, que trata sobre o plano de cargos, carreiras e remuneração dos Servidores da Assembleia de Tocantins.

Assim, para fazer jus à progressão, Ana terá que

- (A) possuir no máximo três faltas injustificadas por exercício referente ao período avaliado.
- (B) obter conceito igual ou superior a 70% (setenta por cento) dos pontos possíveis em todos os procedimentos de sua Avaliação.
- (C) concluir curso de pós-graduação *lato sensu* com duração mínima de 360 (trezentos e sessenta) horas.
- (D) cumprir trinta meses de efetivo exercício na classe em que se encontra.
- (E) concluir cursos de aperfeiçoamento em sua área de atuação que tenha, no mínimo, 80 (oitenta) horas de duração.



# ASSEMBLEIA LEGISLATIVA DO ESTADO DO TOCANTINS

CONCURSO PÚBLICO – EDITAL Nº 01/2023

## PROVA OBJETIVA – TARDE

### ANALISTA LEGISLATIVO ENGENHARIA

NÍVEL SUPERIOR – TIPO 1 – BRANCA



#### SUA PROVA

- Além deste caderno contendo **70 (setenta)** questões objetivas, você receberá do fiscal de prova o cartão de respostas;
- As questões objetivas têm **5 (cinco)** opções de resposta (A, B, C, D) e somente uma delas está correta.



#### TEMPO

- Você dispõe de **5 (cinco) horas** para a realização da prova, já incluído o tempo para a marcação do cartão de respostas;
- **3 (três) horas** após o início da prova, é possível retirar-se da sala, sem levar o caderno de questões;
- A partir dos **30 (trinta) minutos** anteriores ao término da prova é possível retirar-se da sala **levando o caderno de questões**.



#### NÃO SERÁ PERMITIDO

- Qualquer tipo de comunicação entre os candidatos durante a aplicação da prova;
- Anotar informações relativas às respostas em qualquer outro meio que não seja o caderno de questões;
- Levantar da cadeira sem autorização do fiscal de sala;
- Usar o sanitário ao término da prova, após deixar a sala.



#### INFORMAÇÕES GERAIS

- Verifique se seu caderno de questões está completo, sem repetição de questões ou falhas. Caso contrário, **notifique imediatamente o fiscal da sala**, para que sejam tomadas as devidas providências;
- Confira seus dados pessoais, especialmente nome, número de inscrição e documento de identidade e leia atentamente as instruções para preencher o cartão de respostas;
- Para o preenchimento do cartão de respostas, use somente caneta esferográfica, fabricada em material transparente, com tinta preta ou azul;
- Assine seu nome apenas no(s) espaço(s) reservado(s) no cartão de respostas;
- Confira seu cargo, cor e tipo do caderno de questões. Caso tenha recebido caderno de cargo ou cor ou tipo **diferente** do impresso em seu cartão de respostas, o fiscal deve ser **obrigatoriamente** informado para o devido registro na ata da sala;
- Reserve tempo suficiente para o preenchimento do seu cartão de respostas. O preenchimento é de sua responsabilidade e **não será permitida a troca do cartão de respostas em caso de erro cometido pelo candidato**;
- Para fins de avaliação, serão levadas em consideração apenas as marcações realizadas no cartão de respostas;
- A FGV coletará as impressões digitais dos candidatos na lista de presença;
- Os candidatos serão submetidos ao sistema de detecção de metais quando do ingresso e da saída de sanitários durante a realização das provas.
- **Boa prova!**

## CONHECIMENTOS BÁSICOS

### Língua Portuguesa

**1**

Observe o seguinte texto:

*Quando entrei no terrível vagão, ele estava ocupado por duas pessoas. Uma, dobrada, coberta, dormia profundamente. A coberta superior estava manchada, de fundo amarelado, como pele de leopardo. Vendem-se muitas mantas assim nas lojas de artigos de viagens, mas pude notar logo depois que se tratava realmente da pele de um animal selvagem; do mesmo modo, o boné da pessoa adormecida me pareceu ser de feltro branco bastante delicado. O outro viajante, uma aparência simpática, parecia ter passado dos trinta anos e mostrava-se como figura insignificante que passa confortavelmente as noites em estradas de ferro.*

Nesse fragmento textual, para criar sinais de história realista e verdadeira, o narrador apela para a seguinte estratégia:

- (A) seleciona uma situação banal da qual não precisa fornecer muitos detalhes, exatamente por sua banalidade.
- (B) fornece algumas marcas caracterizadoras dos dois personagens presentes no texto, destacando sua banalidade.
- (C) indica traços descritivos do ambiente, mostrando-o como se nada houvesse nele de excepcional.
- (D) mostra detalhes variados e bastante pitorescos dos objetos descritos.
- (E) dá ao leitor informações sobre personagens e ambiente, mostrando-os como bastante conhecidos do narrador.

**2**

Assinale a frase que mostra a palavra *mais* numa classe gramatical **diferente** das demais.

- (A) O mercado está prisioneiro de mais um círculo vicioso: piora porque piorou e porque piorou, piora.
- (B) Os ingleses conquistaram o mundo porque não aguentavam mais a própria cozinha.
- (C) Quanto mais vejo o estrangeiro, mais amo a minha pátria.
- (D) Não é mais possível aprender tudo de cor. Um homem instruído não é mais o homem que sabe muitas coisas; é o homem que sabe onde buscar informações.
- (E) Muda-se mais facilmente de religião do que de café

**3**

As frases a seguir mostram termos ligados pela conjunção OU.

Assinale a frase em que essa conjunção mantém o valor de alternativa (e não de adição).

- (A) João ou Pedro deve ser eleito presidente da empresa.
- (B) A alegria ou a tristeza fazem parte da vida.
- (C) Inglês ou francês são idiomas falados pelos turistas
- (D) Os clientes leem livros ou revistas enquanto esperam.
- (E) Vasco ou Flamengo são times de longa tradição.

**4**

Um guitarrista americano produziu o seguinte pensamento:

*O crítico de rock é alguém que não sabe escrever, entrevistando gente que não sabe falar, para gente que não sabe ler.*

Sobre a estruturação ou a significação desse pequeno texto, assinale a afirmativa **incorreta**.

- (A) O termo “de rock” funciona como complemento nominal do termo anterior.
- (B) Todos os elementos da cadeia comunicativa citados no texto são marcados pela ignorância.
- (C) O pensamento acima revela um preconceito fortíssimo contra os amantes de rock.
- (D) A opinião expressa no texto pode advir da experiência pessoal do autor, já que se trata de um guitarrista.
- (E) A injustiça desse texto provém de ser uma opinião fundamentada em uma autoridade duvidosa.

**5**

John Steinbeck, prêmio Nobel, declarou o seguinte:

*O homem é o único animal que bebe sem ter sede, come sem ter fome e fala sem ter nada a dizer.*

Em relação ao significado e à estruturação desse pequeno texto, assinale a afirmativa **incorreta**.

- (A) A frase ficaria mais enfática se invertêssemos a posição do termo inicial: O único animal que bebe sem ter sede, come sem ter fome e fala sem ter nada a dizer é o homem.
- (B) A inversão de alguns segmentos do texto em nada modificaria o sentido da frase: O homem é o único animal que come sem ter fome, bebe sem ter sede e fala sem ter nada a dizer.
- (C) Os segmentos finais do texto mostram preocupação com rigoroso paralelismo sintático.
- (D) Segundo a opinião do autor do texto, a marca principal do homem é a irracionalidade.
- (E) Nem todas as ações citadas como marcas humanas estão presentes, por oposição, nos outros animais.

**6**

Assinale a frase que **não** expressa uma noção de tempo abstrato.

- (A) Nas asas do tempo, a tristeza voa.
- (B) Quem mata o tempo não é assassino, é suicida.
- (C) O tempo perdido não se encontra nunca mais.
- (D) O tempo é o melhor professor. Infelizmente, ele mata todos os seus estudantes
- (E) O tempo gasto na viagem foi de duas horas.

**7**

Assinale a frase em que a utilização do acento grave indicativo da crase é realizada de forma **errada**.

- (A) Jamais alguém se arrependeu de ter-se acostumado à madrugada e à ter-se casado jovem.
- (B) Tempo é o suspiro de adeus do sol à terra.
- (C) Saio todos os dias às cinco horas e não permito que o meu trabalho interfira no meu jogo de tênis.
- (D) O momento de extrair uma lição da história está sempre à mão para os sábios.
- (E) Quando assumi, quatro anos atrás, estávamos à beira do precipício.

8

Os adjetivos podem representar estados, qualidades, características e relações.

Assinale a frase que mostra um tipo de adjetivo **diferente** dos demais.

- (A) Nunca houve criança tão amável que a própria mãe não ficasse satisfeita ao conseguir adormecê-la.
- (B) Nada mais perversamente cruel que uma adorável criança.
- (C) Mesmo estando doentes, as crianças não ficam caladas.
- (D) Quando as crianças estão quietas é porque fizeram alguma coisa errada.
- (E) As tangerinas verdes não amadurecem fora do pé.

9

Assinale a frase em que o adjetivo sublinhado mostra uma função sintática **diferente** das demais.

- (A) Por fora bela viola, por dentro pão **bolorento**.
- (B) Tiradentes, **heroico**, tentou organizar uma revolução.
- (C) Um rosto **bonito** altera-se depressa.
- (D) Eu não podia acreditar que existem múmias tão **lindas**.
- (E) Um homem belo é um homem **insignificante**.

10

Assinale a opção que mostra uma impropriedade léxica, ou seja, um emprego **inadequado** da expressão “cerca de”.

- (A) Havia cerca de três dúzias de convidados no final da festa.
- (B) Chegaram cerca de 100 cartas no mesmo dia.
- (C) Cerca de 18 lojas fecharam as portas mais cedo.
- (D) Os cantores receberam cerca de uma centena de convites.
- (E) A plantação produziu cerca de uma tonelada de legumes.

11

Muitas palavras portuguesas mostram o prefixo A- sem qualquer valor semântico, sendo equivalentes ao mesmo vocábulo sem esse prefixo.

Assinale a palavra a seguir que exemplifica esse A protético.

- (A) amostrar
- (B) abraçar
- (C) atenuar
- (D) aguardar
- (E) aparar

12

Observe o seguinte texto:

*A felicidade depende da habilidade que tenhamos naquelas atividades que consideramos importantes: somente se lhes damos um real valor aos pequenos detalhes cotidianos, poderemos ter instantes felizes. A felicidade absoluta não existe, e já que só podemos acessar os pequenos detalhes daquilo que nos interessa, devemos contentar-nos com isso. Por isso, a infelicidade é um sinal claro de nossa incompetência na arte de viver.*

Sobre a estrutura e a significação desse texto, assinale a afirmativa **inadequada**.

- (A) O tema do texto gira em torno do que consiste a felicidade e o que viria a ser o seu oposto.
- (B) A afirmação de que “A felicidade absoluta não existe” é de cunho pessoal do autor do texto, representando uma opinião.
- (C) O raciocínio utilizado na estruturação argumentativa é do tipo dedutivo.
- (D) O conector “Por isso” mostra a preocupação com o caráter lógico da argumentação.
- (E) A tese do texto é a de que a infelicidade é fruto de nossa incompetência na arte de viver.

## Raciocínio Lógico Matemático

13

Certo programa de rádio tem 1 hora e 55 minutos de duração. A partir do momento em que o programa é iniciado, há blocos temáticos de 7 minutos intercalados por blocos de propagandas de 2 minutos.

Em todos os blocos de propaganda, ouve-se o comercial do restaurante R, que sempre dura 18 segundos.

Se o programa começa e termina com um bloco temático, então, o tempo total do programa dedicado ao anúncio do restaurante R é

- (A) 3 minutos e 54 segundos.
- (B) 3 minutos e 36 segundos.
- (C) 3 minutos e 18 segundos.
- (D) 3 minutos.
- (E) 2 minutos e 48 segundos.

14

A linha de produção de certa fábrica produz 1100 latas de sardinhas a cada hora. Certo dia, por um defeito de calibragem do sistema, entre 13h e 14h, o volume de produção foi reduzido em 30% durante exatos 12 minutos.

A quantidade de latas de sardinhas produzidas no intervalo supracitado foi

- (A) 946.
- (B) 964.
- (C) 1022.
- (D) 1034.
- (E) 1046.

15

Marcelo está parado de frente para uma das paredes de uma sala quadrada. Nesta posição, ele está a 1m e 20cm da parede que se encontra à sua direita e a 1m e 70cm da parede que está às suas costas.

Ele, então, se desloca paralelamente às paredes da sala sendo 40cm para a frente e 80cm para a direita. Nessa nova posição, ele passou a distar 1m e 90cm da parede que antes estava à sua esquerda.

Desprezando-se as dimensões de Marcelo, a sua atual distância à parede que, antes dos movimentos, estava à sua frente, é

- (A) 20cm.
- (B) 30cm.
- (C) 40cm.
- (D) 50cm.
- (E) 60cm.

**16**

Um dado é dito comum quando tem a forma de um cubo e suas 6 faces são numeradas de 1 a 6, de tal forma que a soma dos números estampados em faces opostas, quaisquer que sejam elas, sempre somam 7.

Quando um dado comum é lançado, diz-se que o resultado do lançamento é o número estampado na face voltada para cima.

Um dado foi lançado 3 vezes seguidas. Se o produto dos resultados obtidos nos lançamentos vale 75, a soma desses resultados é igual a

- (A) 12.
- (B) 13.
- (C) 14.
- (D) 15.
- (E) 16.

**17**

Em certo ano, o dia 1º de agosto cai em um domingo. Logo, o dia 1º de novembro cairá em

- (A) um sábado.
- (B) um domingo.
- (C) uma segunda-feira.
- (D) uma quarta-feira.
- (E) uma sexta-feira.

**18**

Considere a seguinte proposição condicional:

*Se todos os alunos da Escola Aristarco gostam de matemática, então, ao menos um deles ganha medalha na Olimpíada Nacional de Matemática.*

Se essa proposição é verdadeira, é correto afirmar que

- (A) se nenhum dos alunos da Escola Aristarco gosta de Matemática, então nenhum deles ganha medalha na Olimpíada Nacional de Matemática.
- (B) se todos os alunos da Escola Aristarco ganham medalha na Olimpíada Nacional de Matemática, então, todos esses alunos gostam de Matemática.
- (C) se algum aluno da Escola Aristarco ganha medalha na Olimpíada Nacional de Matemática, então todos esses alunos gostam de Matemática.
- (D) se nenhum aluno da Escola Aristarco ganha medalha na Olimpíada Nacional de Matemática, então nenhum desses alunos gosta de Matemática.
- (E) se nenhum aluno da Escola Aristarco ganha medalha na Olimpíada Nacional de Matemática, então algum desses alunos não gosta de Matemática.

**19**

Em uma caixa, há muitas canetas esferográficas. Classificadas conforme a cor, elas podem ser azuis, vermelhas ou pretas. Classificadas quanto à espessura da esfera, elas podem ser de ponta fina ou de ponta grossa.

Metade das canetas vermelhas tem a ponta grossa. A quantidade total de canetas pretas é igual à quantidade total de canetas vermelhas. Entre as canetas de ponta grossa, a quantidade de azuis é igual à de pretas. A quantidade de canetas azuis com ponta fina é o dobro da quantidade de canetas pretas de ponta grossa.

Se, nessa caixa, 18 são azuis e 20 têm ponta grossa, então a quantidade total de canetas na caixa é

- (A) 30.
- (B) 40.
- (C) 48.
- (D) 50.
- (E) 52.

**20**

Tucídides possuía uma dívida e, em vez de quitá-la, pagou apenas 20% do seu valor, deixando o restante para ser quitado em data futura, com acréscimo de 12% a título de juros sobre o saldo devedor.

No ato de quitação, Tucídides pagou R\$2.329,60. Logo, o valor original da dívida é o resultado da seguinte expressão:

(A)  $2.329,60 \times 0,88 - 20$

(B)  $\frac{2.329,60}{0,88} \times 1,20$

(C)  $\frac{2.329,60}{1,12} \times 1,20$

(D)  $\frac{2.329,60}{1,12 \times 1,20}$

(E)  $\frac{2.329,60}{1,12 \times 0,8}$

**21**

As filhas de Nepomuceno têm 5 e 9 anos de idade. Ele dividirá R\$420,00 entre elas de forma inversamente proporcional às suas idades.

Logo

- (A) a mais nova receberá R\$120,00 a mais que a mais velha.
- (B) a mais nova receberá R\$150,00 a mais que a mais velha.
- (C) a mais nova receberá R\$270,00 a mais que a mais velha.
- (D) a mais velha receberá R\$120,00 a mais que a mais nova.
- (E) a mais velha receberá R\$150,00 a mais que a mais nova.

**22**

A negação da proposição:

$$\text{Se } y \neq 0, \text{ então } x > 2 \text{ e } x \leq 5$$

é dada por

- (A) Se  $y = 0$ , então  $x > 2$  e  $x \leq 5$
- (B) Se  $y = 0$ , então  $x < 2$  ou  $x \geq 5$
- (C)  $y = 0$  e  $x \leq 2$  ou  $x > 5$
- (D)  $y \neq 0$  e  $x \leq 2$  ou  $x > 5$
- (E)  $y \neq 0$  e  $x \leq 2$  e  $x > 5$

## Atualidades

23

De acordo com o censo demográfico de 2022 (IBGE), mais da metade da população brasileira (51,13%) é feminina, e elas representam, segundo o Tribunal Superior Eleitoral, 53% do eleitorado. No entanto, elas ocupam, hoje, menos de 15% dos cargos eletivos.

A respeito da baixa participação das mulheres na política, assinale a afirmativa que apresenta um dispositivo existente na legislação brasileira para alterar esse cenário.

- (A) Reserva de pelo menos 50% dos recursos do Fundo Especial de Financiamento de Campanha, o Fundo Eleitoral, para financiar candidaturas femininas.
- (B) Suspensão dos direitos eleitorais aos partidos em caso de não observância do percentual de pelo menos 30% de candidatas mulheres em cada ciclo eleitoral
- (C) Reserva de assentos, em ambas as casas legislativas, para mulheres, com preferência para as representantes de povos originários.
- (D) Cota de gênero, que obriga cada partido ou coligação a preencher o mínimo de 30% e o máximo de 70% de candidaturas de cada sexo.
- (E) Repasse de até 30% dos recursos dos Fundos Partidário para custear o tempo da propaganda eleitoral gratuita de candidatas em rádio e televisão.

24

A França se tornou o primeiro país do mundo a incluir na Constituição a liberdade de a mulher abortar. A mudança na Carta Magna foi aprovada em uma sessão conjunta das duas Casas legislativas, a Assembleia Nacional e o Senado, e será promulgada pelo presidente Emmanuel Macron ainda em março de 2024.

Adaptado de <https://www1.folha.uol.com.br/mundo/2024/03/>

Diferentemente da França, a legislação brasileira

- (A) equipara o aborto ao infanticídio.
- (B) considera o aborto uma prática ilegal em todas as situações.
- (C) descriminaliza a interrupção da gravidez em caso de deficiência da gestante.
- (D) estabelece um limite temporal para interromper a gravidez, desde que respaldada por laudo médico.
- (E) autoriza a interrupção de gestação em caso de não haver outro meio de salvar a vida da gestante.

25

Desde os anos 2000, o interior do Brasil ultrapassou o litoral na incidência de dengue. A região costeira que vai de Santos, em São Paulo, até Belém, no Pará, apresentava tipicamente maior proporção de casos de dengue em comparação com sua população. Entretanto, recentemente, o oeste do Paraná, o oeste de Santa Catarina o oeste de São Paulo, o interior de Minas Gerais, uma parte do Tocantins, o Goiás e o Mato Grosso do Sul viram a transmissão da doença aumentar e muitas de suas cidades foram obrigadas a decretar emergência.

Adaptado de <https://www.estadao.com.br>

A respeito dos fatores relacionados ao aumento e à interiorização dos casos de dengue no Brasil, analise as afirmativas a seguir.

- I. A maior frequência de períodos com temperaturas acima da média, inclusive com ondas de calor no período invernal em todo território, tem reforçado o padrão sazonal da doença.
- II. A expansão urbana desvinculada de melhoras nos serviços sanitários tem propiciado a formação de ilhas de calor e, portanto, uma alta na incidência da dengue.
- III. O desmatamento do cerrado, convertido em pasto, por exemplo, tem contribuído para aumentar a temperatura média e o número de casos da doença no interior do Brasil.

Está correto o que se afirma em

- (A) I, apenas.
- (B) I e II, apenas.
- (C) I e III, apenas.
- (D) II e III, apenas.
- (E) I, II e III.

26

As afirmativas a seguir descrevem corretamente o desempenho da economia brasileira em 2023, à exceção de uma. Assinale-a.

- (A) A expansão econômica ampliou a geração de empregos informais, em um contexto recessivo e de flexibilização das leis trabalhistas.
- (B) O dinamismo da economia foi marcado pelo aumento de exportações, no setor agrícola, e da demanda, no setor de serviços, em função da alta no consumo das famílias.
- (C) A alta progressiva nas cotações internacionais de commodities acelerou o ritmo das exportações, mesmo em um cenário cambial desfavorável para os exportadores.
- (D) A retração do Brasil no mercado regional e internacional ocorreu em função da maior competitividade dos produtos agrícolas argentinos e pela retomada da economia chinesa.
- (E) A persistência do alto nível da inflação foi ocasionada pela alta da cesta básica, sobretudo dos alimentos, cujas safras foram afetadas pelas condições climáticas adversas.

27

Em 2024, o Tribunal Superior Eleitoral (TSE) aprovou uma resolução para regulamentar o uso da inteligência artificial (IA) durante as eleições municipais a serem realizadas em outubro. A norma proíbe manipulações de conteúdo falso para criar ou substituir imagem ou voz de candidato com objetivo de prejudicar ou favorecer candidaturas. Também foi aprovada a restrição do uso de chatbots humanizados e avatares para intermediar a comunicação das campanhas com pessoas reais nas redes sociais.

Adaptado de <https://agenciabrasil.ebc.com.br/>

A resolução sobre IA objetiva

- (A) coibir a produção e circulação de *deepfakes*.
- (B) restringir o uso de ferramentas de IA simbólica.
- (C) retomar a veiculação de propagandas eleitorais em mídias tradicionais, como rádio e televisão.
- (D) proibir o uso de ferramentas de coleta e seleção em bases de dados com fins eleitorais.
- (E) limitar o uso de assistente virtual programado por AI para divulgação do programa partidário.

28

Assinale a afirmativa que descreve corretamente um aspecto do panorama global da economia em 2023.

- (A) Nos Estados Unidos, a economia foi alavancada pela adoção de uma política de ampliação do crédito e baixa da taxa de juros.
- (B) Na China, o PIB cresceu acima do esperado, em um cenário marcado pela retomada econômica pós pandemia, inclusive no setor imobiliário.
- (C) Na Zona do Euro, a alta dos preços da energia pesou nas despesas familiares e no setor industrial, confirmando a manutenção de um quadro de crise.
- (D) Na Rússia, o PIB decresceu, em função do impacto prolongado da guerra com a Ucrânia e dos embargos à venda de petróleo e gás russos.
- (E) Na América do Sul, foi mantido um caminho geral de crescimento, apoiado por investimentos externos e pela intensificação de políticas estatistas.

29

Um supercomputador consiste em milhares de pequenos computadores chamados nós. Cada nó é equipado com sua própria memória e com vários processadores. Atuando em conjunto, eles são capazes de realizar cálculos extremamente complexos em elevada velocidade. Hoje, o maior supercomputador da América Latina é o Pégaso, da Petrobras, com 678 TB de memória RAM e mais de 233 mil núcleos.

Adaptado de <https://revistapesquisa.fapesp.br>

A respeito do poder computacional de alto desempenho dos supercomputadores, analise as afirmativas a seguir e assinale (V) para a verdadeira e (F) para a falsa.

- ( ) Essas máquinas são instrumentos valiosos de pesquisa e de suporte a setores da economia como defesa, energia e saúde, permitindo a resolução de problemas complexos em menor tempo.
- ( ) Esses equipamentos permitem realizar tarefas que exigem altíssimos níveis de processamento, como simulações da formação do universo ou modelagem molecular para novos fármacos.
- ( ) Esses aparelhos trabalham em alta velocidade de processamento pelo somatório de diversos núcleos, o que potencializa a velocidades do processador, medidas em gigahertz (GHz).

As afirmativas são, respectivamente,

- (A) V – V – F.
- (B) V – F – V.
- (C) F – V – F.
- (D) F – V – V.
- (E) V – V – V.

30

No início do ano corrente, a Petrobras anunciou ter alcançado em 2023 o segundo maior valor de lucro líquido de sua história. Mesmo assim, suas ações caíram no mercado financeiro, em função da disputa sobre os dividendos.

A respeito dos resultados financeiros da Petrobras nos últimos anos e da política de distribuição de dividendos da empresa, assinale a afirmativa correta.

- (A) A Petrobras é uma empresa estatal de economia mista que monopoliza a indústria petroleira no Brasil.
- (B) A Petrobras é uma estatal administrada diretamente por órgãos governamentais que controlam o valor das suas ações.
- (C) A Petrobras direciona parte dos dividendos para investidores privados, e outra parte para o governo federal, que controla a empresa via Tesouro e BNDES.
- (D) A Petrobras, sob o Governo Bolsonaro, reduziu o pagamento de dividendos a acionistas privados para reinvesti-los em energia renovável.
- (E) A Petrobras, no atual governo, vendeu ativos e distribuiu o lucro e os valores recordes de dividendos entre seus acionistas para financiar projetos do BNDES.

31

Dados da última década mostram que, em relação aos Estados, o Pará é o que apresenta o maior número de registros de resgates de trabalho análogo à escravidão, com 9.853, seguido por Mato Grosso (4.302); Tocantins (2.896); São Paulo (1.529) e Rio de Janeiro (1.653), em 2017.

Adaptado de <https://www.jota.info/justica/em-14-anos-434-mil-foram-resgatados-de-trabalho-escravo-30102017>

A respeito da definição moderna de escravidão, analise as afirmativas a seguir.

- I. Em Tocantins, a maior incidência de escravidão moderna ocorre na zona rural, associada a atividades agropecuárias e ao extrativismo mineral, como nas carvoarias, por exemplo.
- II. A Organização Internacional do Trabalho determina a condição de escravidão por uma série de componentes, como o trabalho forçado análogo ao de escravo e o casamento forçado.
- III. Pessoas obrigadas a trabalhar por dívida ou por ameaça, sem direitos trabalhistas garantidos estão em situação de escravidão, uma vez que lhes é impedida a liberdade de ir e vir.

Está correto o que se afirma em

- (A) I, apenas.
- (B) I e II, apenas.
- (C) I e III, apenas.
- (D) II e III, apenas.
- (E) I, II e III.

32

Energia gerada por recursos naturais renováveis que, no Brasil, provém da lenha, carvão vegetal, carvão mineral, bagaço de cana e outros resíduos combustíveis. Essa energia é a matéria orgânica vegetal ou animal usada como fonte de energia limpa e sustentável.

O trecho descreve o seguinte componente importante do desenvolvimento sustentável:

- (A) compostagem.
- (B) biodiversidade.
- (C) créditos de carbono.
- (D) ciclo de vida.
- (E) biomassa.

## História e Geografia do Estado de Tocantins

33

Leia a descrição de uma classe de vegetação presente no estado do Tocantins, a seguir.

*Esta vegetação, também conhecida como floresta pluvial tropical, é caracterizada por árvores de porte elevado, além de trepadeiras lenhosas e epífitas (bromélias e orquídeas, por exemplo) em abundância, o que a diferencia de outras classes de formação vegetal. Sua característica ecológica principal é estar presente em ambientes de chuvas abundantes, como na parte noroeste do Estado, onde as temperaturas médias são de 25°C e os elevados índices de precipitação estão bem distribuídos ao longo do ano.*

Adaptado de Luís Antônio G. C. Silva. *Biomias presentes no Estado do Tocantins*. Brasília: Câmara dos Deputados, 2007, p. 4.

O trecho caracteriza a região conhecida como Floresta

- (A) Estacional Semidecidual.
- (B) Tropical Subcaducifolia.
- (C) de Mata Atlântica.
- (D) Ombrófila Densa.
- (E) Temperada Decidual.

34

Comparando dados dos censos do IBGE, pode-se elaborar um retrato da evolução demográfica da população residente no Estado de Tocantins. O grupo na faixa etária de 0 a 14 representava 41,7% da população em 1991, 28,8% em 2010, e passou para 24% em 2022. A população acima de 65 anos era de 3,8% em 1991 e 5,8% em 2010, e ficou em 8,6% em 2022. O censo de 2022 mostrou ainda que a faixa etária de 15 a 29 anos representa 15% da população e que 41% da população é composta por pessoas de 30 a 59 anos.

Com base no trecho, assinale a opção que apresenta a dinâmica populacional do Tocantins entre 1991 e 2022.

- (A) Expansão da base da pirâmide etária.
- (B) Diminuição da taxa de fecundidade.
- (C) Estreitamento do topo da pirâmide.
- (D) Aumento da idade mediana.
- (E) Redução do índice de envelhecimento.



35

*Foram inegáveis os desdobramentos socioeconômicos sobre o antigo Norte Goiano fruto da construção da rodovia BR-153, a partir do final da década de 1950. O novo urbanismo da Belém-Brasília trouxe enorme impacto no que se refere ao conjunto de cidades que existiam às margens do rio Tocantins, aos fluxos migratórios e às atividades econômicas da região.*

Adaptado de AQUINO, N. *Tocantins: cidades e urbanismo em três modelos históricos*. In: III Encontro da ANPPAS. Brasília, 2006, p. 8.

As afirmativas a seguir descrevem corretamente impactos da rodovia BR-153 no processo de territorialização do Tocantins, **à exceção de uma**. Assinale-a.

- (A) A rodovia foi construída no governo Kubitschek, em um contexto desenvolvimentista que considerava a expansão rodoviária como um meio para integrar econômica e territorialmente as regiões do país, inclusive o norte goiano que, então, vivia uma situação de abandono.
- (B) A rodovia Belém-Brasília teve grande importância para a urbanização do atual Tocantins, o que é exemplificado pela quantidade de novas cidades criadas após a sua construção, como Araguaína, Gurupi, Paraíso do Tocantins, Colinas do Tocantins e Guaraí.
- (C) A construção da BR-153 alavancou também os municípios ribeirinhos, pois a navegação fluvial foi intensificada para abastecer as obras em curso, o que transformou esses municípios em satélites econômicos da nova malha urbana instalada ao longo da rodovia.
- (D) Após a abertura da rodovia, as principais áreas que receberam fluxos migratórios foram a Microrregião de Gurupi – Gurupi e a Microrregião de Porto Nacional – Palmas, para onde se dirigiram pessoas interessadas em trabalhar na construção civil, nos serviços e no comércio, entre outros.
- (E) A BR-153 permitiu interligar o norte de Goiás, atual Estado do Tocantins, a outras localidades do país, facilitando o escoamento da produção e o acesso a produtos para a região, promovendo o fluxo de mercadorias e serviços.

36

O Memorial Coluna Prestes (2001) é uma obra do arquiteto Oscar Niemeyer localizada na Praça dos Girassóis, no centro de Palmas (TO).



Fonte: <https://central.to.gov.br/image/146145?f=1>

A respeito da relação entre essa obra e a constituição de uma memória histórica para o Estado do Tocantins, analise as afirmativas a seguir.

- I. O monumento refere-se à Coluna Prestes, que percorreu o Brasil para divulgar seu programa revolucionário entre 1924 e 1927, tendo passado pelo Norte do então Estado de Goiás (atual Tocantins) durante seu percurso.
- II. A obra foi realizada em concreto e apresenta curvas sinuosas, características próprias do Barroco das cidades mineradoras, estabelecendo visualmente uma continuidade entre o Barroco do passado das cidades mineradoras e o presente do Tocantins.
- III. A construção do memorial permite inserir simbolicamente a história do Tocantins nos grandes processos da história republicana nacional, e homenagear o Tenente Antônio de Siqueira Campos, cujo sobrenome é homônimo ao do ex-governador do Estado.

Está correto o que se afirma em

- (A) I, apenas.
- (B) I e II, apenas.
- (C) I e III, apenas.
- (D) II e III, apenas.
- (E) I, II e III.

37

Até 1988, o território que hoje corresponde ao Estado do Tocantins pertencia ao antigo norte de Goiás e à Região Centro-Oeste, tendo como capital política a cidade de Goiânia. Com a emancipação política, da noite para o dia, as pessoas amanheceram tocantinenses, mas sem referências culturais que as representassem como tais.

A respeito da projeção simbólica do novo Estado e de sua nova capital, assinale a opção que interpreta corretamente o processo de construção e atribuição de uma identidade ao Tocantins.

- (A) Desde o primeiro mandato do governador Siqueira Campos, os símbolos oficiais do Tocantins continuaram sendo o brasão de armas, a bandeira, o selo estadual e a canção “Hino ao Tocantins”, de Liberato Costa Póvoa e Abiezer Alves da Rocha.
- (B) O girassol foi reconhecido oficialmente como símbolo da natureza do Estado, por ser uma planta nativa dos cerrados tocantinenses e estar associada à prosperidade e à esperança.
- (C) A Praça dos Girassóis, centro cívico de Palmas, foi concebida para receber edifícios esteticamente associados à cultura do Tocantins, como o Palácio do Araguaia, cujos pórticos remetem ao capim dourado, símbolo da tradição do artesanato de alta qualidade da região.
- (D) A monumentalidade da Praça dos Girassóis é enfatizada pelo seu pavimento, que contém figuras simbólicas como o mapa do Tocantins, a rosa dos ventos, o brasão de armas e a Praça Krahô.
- (E) O meio ambiente também foi utilizado para fortalecer o sentimento identitário, inserindo o girassol, a fava-de-bolota, a arara-canindé e a granada como símbolos da natureza do Tocantins, desde a promulgação da Constituição Estadual em 1989.

38

A respeito da matriz energética do Estado e dos investimentos em biocombustíveis, analise as afirmativas a seguir e assinale (V) para a verdadeira e (F) para a falsa.

- ( ) O Estado tem condições de clima e solo desfavoráveis para o plantio de matérias-primas usadas na fabricação de biocombustíveis, mas a expansão do modal logístico (Ferrovia Norte-Sul) permitirá o acesso à soja do planalto goiano.
- ( ) O Tocantins conta com duas usinas de biodiesel em funcionamento, utilizando o pinhão-mansão, a soja, a mamona e outras oleaginosas como matéria-prima.
- ( ) O Estado tem alto potencial de geração de energia solar, pela elevada irradiação solar e pelas políticas públicas voltadas para produção de energia limpa e renovável, como a Política Estadual de Incentivo à Geração e ao Uso da Energia Solar (Pró-Solar)

As afirmativas são, respectivamente,

- (A) V – F – V.  
 (B) F – V – V.  
 (C) F – F – V.  
 (D) V – V – F.  
 (E) V – V – V.

39

*As belas paisagens como serras, cachoeiras, praias e até mesmo dunas, fazem do Tocantins um paraíso de paisagens naturais, atraindo turistas de várias regiões para conhecer o mais novo Estado brasileiro. A potencialidade para o ecoturismo e a preocupação em conservar a biodiversidade e recursos naturais nele contidos fez com que o Governo do Estado, criasse e implementasse as Unidades de Conservação Ambiental (UC).*

Adaptado de <https://www.to.gov.br/secom/>

A respeito das Unidades de Conservação (UC) do Tocantins, assinale a afirmativa correta.

- (A) São espaços territoriais legalmente instituídos pelo poder público e podem ser de proteção integral federal, como no caso dos Parques Cantão, Jalapão e Lajeado.
- (B) As UCs federais estão subordinadas ao Instituto Chico Mendes de Conservação da Biodiversidade (ICMBio), como no caso do Monumento Natural das Árvores Fossilizadas.
- (C) As UCs estaduais estão subordinadas ao Instituto Natureza do Tocantins (Naturatins), que supervisiona o Parque do Araguaia e o das Nascentes do rio Parnaíba.
- (D) As UCs de uso sustentável são compostas exclusivamente por áreas públicas, sendo permitida sua utilização apenas para o ecoturismo, pesquisa e educação ambiental.
- (E) As UCs municipais estão subordinadas às secretarias de meio ambiente, como no caso do Monumento Natural dos Cânions e Corredeiras do Rio Sono e do Parque Ecológico Roberto Guedes Pereira.

40

O Estado do Tocantins possui diversas comunidades quilombolas certificadas e outras com processo formalizado para regularização fundiária de seus territórios. A definição de comunidade quilombola é dada pelo Art. 2º do Decreto nº 4.887/2003:

*Consideram-se remanescentes das comunidades dos quilombos, para os fins deste Decreto, os grupos étnico-raciais, segundo critérios de auto-atribuição, com trajetória histórica própria, dotados de relações territoriais específicas, com presunção de ancestralidade negra relacionada com a resistência à opressão histórica sofrida.*

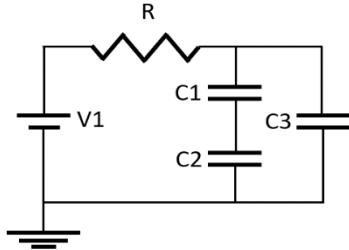
A respeito dos órgãos e processos envolvidos na identificação e regularização de territórios quilombolas no Estado do Tocantins, assinale a afirmativa correta.

- (A) O acesso dessas comunidades às políticas públicas de educação, saúde, moradia e regularização fundiária depende de o Estado emitir uma certidão de identificação de comunidade quilombola, mediante Fundação Palmares.
- (B) Os critérios para reconhecimento de um grupo enquanto remanescente de quilombo depende da comprovação de sua ancestralidade, seu parentesco e da preservação viva de religiosidades autenticamente africanas.
- (C) A Coordenação Nacional de Articulação de Comunidades Negras Rurais Quilombolas (CONAQ) luta pela incorporação constitucional do direito à autodefinição dos remanescentes de quilombos.
- (D) A certificação quilombola é realizada pela Fundação Cultural Palmares, que avalia com visitas técnicas a autenticidade do legado quilombola pretendido e, caso o aprove, emite a certidão de comunidade quilombola e a inscreve em um cadastro geral.
- (E) O acesso às terras ocupadas pelos remanescentes das comunidades dos quilombos é garantido por sua delimitação e titulação, a cargo da autoridade municipal em que a mesma se localiza.

## CONHECIMENTOS ESPECÍFICOS

41

No circuito abaixo, uma bateria de tensão  $V_1$  é utilizada para carregar três capacitores  $C_1$ ,  $C_2$  e  $C_3$ .



Componente	Valor
V1	2V
R	50Ω
C1	1μF
C2	3μF
C3	2μF

A energia armazenada nos capacitores, em ordem crescente, é:

- (A) C1, C3 e C2.  
 (B) C2, C1 e C3.  
 (C) C2, C3 e C1.  
 (D) C1, C2 e C3.  
 (E) C3, C1 e C2.

42

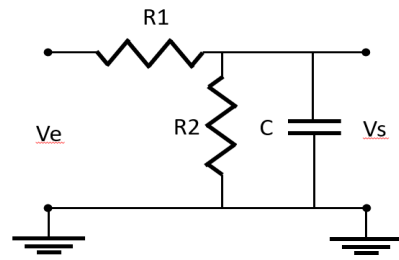
Um gerador de sinais na frequência de 1MHz possui impedância interna igual a 50Ω e tensão fasorial igual  $120\angle 0^\circ$  V rms entre seus terminais quando não existe carga conectada.

Uma carga com impedância igual a  $10 + j80$  é conectada à fonte. Com relação à tensão e à corrente na carga assinale a afirmativa correta.

- (A) A corrente possui módulo igual a 1,2Arms e está adiantada em relação à tensão.  
 (B) A corrente possui módulo igual a 1,2Arms e está atrasada em relação à tensão.  
 (C) A corrente possui módulo igual a 2Arms e está atrasada em relação à tensão.  
 (D) A corrente possui módulo igual a 2Arms e está adiantada em relação à tensão.  
 (E) A corrente possui módulo igual a 2Arms e está em fase em relação à tensão.

43

O circuito abaixo é composto de dois resistores  $R_1$  e  $R_2$  e um capacitor  $C$ . As tensões de entrada e saída são, respectivamente,  $V_e$  e  $V_s$ .



Componente	Valor
R1	50Ω
R2	50kΩ
C	1μF

Analise as afirmativas a seguir relativas ao circuito apresentado.

- I. O circuito é um filtro passa-altas.  
 II. A frequência de corte é aproximadamente igual a 3,18 kHz.  
 III. A função de transferência é aproximadamente igual a:

$$H(j\omega) = \frac{V_s}{V_e} = \frac{\frac{1}{R_2 C}}{j\omega + \frac{1}{R_1 C}}$$

Está correto o que se afirma em

- (A) I, apenas.  
 (B) II apenas.  
 (C) I e II, apenas.  
 (D) II e III, apenas.  
 (E) I, II e III.

44

Durante a realização de uma medição, a grandeza elétrica medida pode ser uma grandeza fundamental ou uma grandeza derivada.

O seguinte equipamento é capaz de realizar a medida de uma grandeza fundamental:

- (A) galvanômetro.  
 (B) voltímetro.  
 (C) amperímetro.  
 (D) medidor de potência.  
 (E) medidor de intensidade de campo elétrico.

45

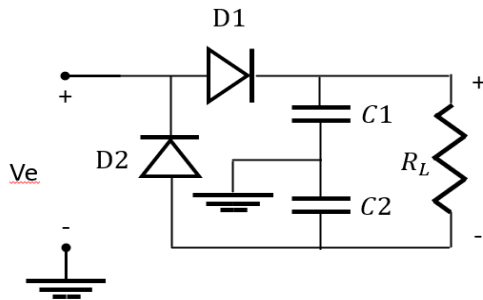
O transistor bipolar de junção do tipo npn possui duas junções pn e, portanto, pode funcionar como um diodo.

Para que isso ocorra,

- (A) o coletor e o emissor do transistor devem estar em curto e a corrente irá circular do coletor para a base.  
 (B) o coletor e a base do transistor devem estar em curto e a corrente irá circular do coletor para o emissor.  
 (C) o emissor e a base do transistor devem estar em curto e a corrente irá circular da base para o coletor.  
 (D) um capacitor conecta o emissor ao coletor e a corrente irá circular do coletor para o emissor.  
 (E) um indutor conecta o emissor ao coletor e a corrente irá circular do coletor para a base.

46

O circuito a seguir é composto de dois capacitores C1 e C2 e dois diodos D1 e D2. O sinal de entrada  $V_e$  é um sinal de tensão senoidal de amplitude e frequência fixos. O sinal de saída  $V_s$  é a queda de tensão no resistor  $R_L$  e é um sinal em corrente contínua.

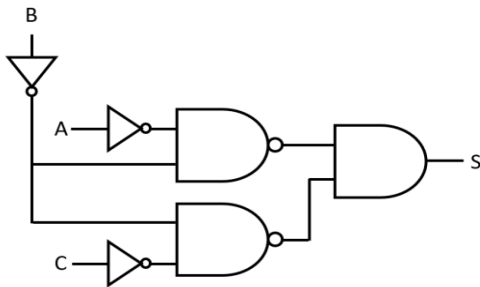


Este circuito é conhecido como

- (A) retificador de meia onda.  
 (B) retificador de onda completa com ponto neutro.  
 (C) retificador de onda completa em ponte.  
 (D) dobrador de tensão de onda completa.  
 (E) dobrador de tensão de meia-onda.

47

O circuito digital a seguir possui três entradas digitais A, B e C e uma saída S. Ele é composto de três portas inversoras, uma porta E e duas portas NÃO E.



A operação Booleana realizada pelo circuito é corretamente descrita como

- (A)  $S = AB + C$   
 (B)  $S = A + B + C$ .  
 (C)  $S = ABC$ .  
 (D)  $S = A + BC$   
 (E)  $S = AC + B$ .

48

Um terminal de comunicações via satélite possui uma potência isotrópica efetivamente radiada (EIRP) igual a 60 dBW na frequência de  $f = 3\text{GHz}$ . A antena é do tipo refletor parabólico com eficiência de abertura igual a  $\eta = 0,64$  e ganho igual a  $\left(\frac{\pi D f}{3 \times 10^8}\right)^2$ . Sabendo-se que no modo de transmissão, a potência na porta de entrada da antena é igual a 100W, o diâmetro  $D$  da antena é aproximadamente igual a

- (A) 2m.  
 (B) 4m.  
 (C) 6m.  
 (D) 8m.  
 (E) 10m.

49

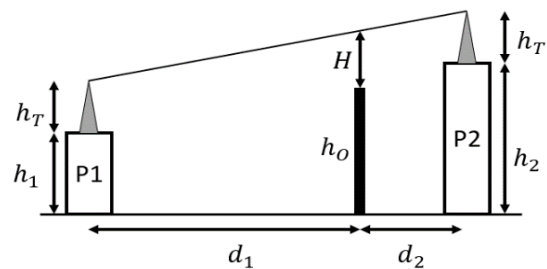
A frequência de operação possível de um enlace de comunicações que possui como mecanismo de propagação principal a reflexão ionosférica é igual a

- (A) 7MHz.  
 (B) 48MHz.  
 (C) 512MHz.  
 (D) 4,7GHz.  
 (E) 21THz.

50

Deseja-se estabelecer um enlace de micro-ondas na frequência de 10 GHz em visibilidade entre dois prédios P1 e P2. Duas torres idênticas serão instaladas no topo dos prédios de tal forma que as antenas sejam posicionadas a uma altura  $h_T$  acima do topo dos prédios.

Na visada do enlace existe um obstáculo do tipo gume-de-faca com altura  $h_o$  e distante  $d_2$  de P2. Sabe-se que um enlace é considerado em visibilidade quando a distância vertical ( $H$ ) entre a linha de visada e o obstáculo é maior do que 60% do raio da primeira zona de Fresnel ( $R = \sqrt{\frac{\lambda d_1 d_2}{d_1 + d_2}}$ ) na posição do obstáculo, onde  $\lambda$  é o comprimento de onda.



Parâmetro	Valor
$d_1$	7,5km
$d_2$	2,5km
$h_1$	15m
$h_2$	30m
$h_o$	26m

Na condição de Terra plana, o valor de  $h_T$  é igual a

- (A) 1,5m.  
 (B) 4,25m.  
 (C) 4,5m.  
 (D) 33,5m.  
 (E) 44,75m.

51

A potência de saída ( $P_s$ ) de um dispositivo eletrônico é igual a 0,0625W. O valor de  $P_s$  expresso em dBm é, aproximadamente, [Dado:  $\log_{10} 2 \sim 0,3$ ]

- (A) -12dBm.  
 (B) -1,2dBm.  
 (C) 1,8dBm.  
 (D) 12dBm.  
 (E) 18dBm.

52

Uma das maneiras de reduzir a taxa de erro de *bit* de uma transmissão em modulação 16-QAM é realizando a codificação de canal, que consiste na adição de *bits* redundantes com o objetivo de detectar e corrigir erros na recepção.

Considere a técnica de codificação de canal que consiste na transmissão de uma palavra código de 4 *bits* correspondente a 2 *bits* de mensagem, conforme a tabela a seguir.

Mensagem	Palavra código
00	0000
01	0101
10	1010
11	1111

Deseja-se transmitir um trem de *bits*, que em hexadecimal, é igual a E9.

O trem de *bits* transmitidos, em hexadecimal, será

- (A) FAA5.
- (B) F55A.
- (C) 599F.
- (D) 5BBE.
- (E) A55E.

53

Relacione as técnicas de acesso múltiplo elencadas a seguir às respectivas definições.

1. TDMA
  2. FDMA
  3. CDMA
- ( ) Divisão do tempo de uso do canal em intervalos fixos, chamados de quadros, que serão atribuídos a cada transmissor. Assim, vários dispositivos transmitem em um mesmo meio em intervalos bem definidos, podendo haver tempo de espera entre a requisição para transmitir e a transmissão de fato.
- ( ) Atribuição de códigos de espalhamento ortogonais entre si a um conjunto de usuários, que compartilham a mesma banda simultaneamente. Os sinais são processados na recepção por meio de operações de correlação baseadas nos códigos atribuídos. Estes códigos podem ser obtidos por espalhamento espectral e por saltos em frequência, por exemplo.
- ( ) Divisão de um canal em múltiplas subfaixas, com largura de banda determinada. Assim, os sinais são modulados em portadoras de diferentes frequências para minimizar a interferência entre eles.

Assinale a opção que indica a relação correta, na ordem apresentada.

- (A) 2 – 3 – 1.
- (B) 3 – 1 – 2.
- (C) 3 – 2 – 1.
- (D) 1 – 2 – 3.
- (E) 1 – 3 – 2.

54

Considere um sistema de amostragem hipotético que tem como objetivo digitalizar sinais analógicos limitados à banda de frequência  $-L < f < L$ . O sinal analógico, passa por um filtro anti-aliasing passa-baixas ideal de largura de banda igual a  $L$  antes de ser amostrado. O sinal é amostrado a cada  $100\mu s$  e cada amostra possui 7 *bits*. A frequência de amostragem é igual à frequência de Nyquist.

O valor de  $L$  é igual a

- (A) 10kHz.
- (B) 5kHz.
- (C) 20kHz.
- (D) 2,5kHz.
- (E) 40kHz.

55

Durante o processo de certificação da rede óptica de comunicação de dados de uma determinada organização são realizados diversos testes.

Os tipos de equipamentos mais indicados para a realização do teste de atenuação ponta a ponta são

- (A) fonte de luz e medidor óptico de potência.
- (B) fonte de luz e reflectômetro óptico no domínio do tempo.
- (C) analisador de espectro óptico e indicador visual de falhas.
- (D) identificador de fibras ativas e identificador visual de falhas.
- (E) analisador de espectro óptico e reflectômetro óptico no domínio do tempo.

56

Com relação à sincronização de sistemas de comunicações baseados em PDH (*Plesiochronous Digital Hierarchy*), analise as afirmações a seguir.

- I. Os relógios de cada nó da rede devem ser sincronizados com relógios mestres nível Stratum 2.
- II. A sincronização é realizada a partir de palavras de sincronismo enviadas no mesmo canal dos dados.
- III. A precisão da taxa de dados de um enlace do tipo E1, de acordo com a ITU-T G.703, é de  $\pm 102,4 \text{ bits/s}$ .

Está correto o que se afirma em

- (A) I, apenas.
- (B) II, apenas.
- (C) I e II.
- (D) I e III.
- (E) II e III.

57

O modelo OSI (*Open Systems Interconnection*) é uma importante ferramenta para entendermos o funcionamento de diversos protocolos de comunicações e sua implementação.

O protocolo SDH/SONET (*Synchronous Digital Hierarchy / Synchronous Optical Networking*), extensamente utilizado em sistemas de comunicações a altas taxas, pode ser subdividido em quatro camadas que se relacionam com as camadas do modelo OSI.

Com relação às camadas do protocolo SONET, é correto afirmar que

- (A) a camada de rotas é equivalente à camada de redes do modelo OSI.
- (B) a camada de regeneração é equivalente à camada de aplicação do modelo OSI.
- (C) a camada seção é equivalente à camada de seção do modelo OSI.
- (D) a camada de linha é equivalente à camada de transporte do modelo OSI.
- (E) a camada fotônica é equivalente à camada física do modelo OSI.

58

O *Asynchronous Transfer Mode* (ATM) é um protocolo desenvolvido para otimizar o uso de meios de transmissão de elevada velocidade, utilizando como arquitetura uma rede de comutação de células.

Sobre o protocolo ATM, é correto afirmar que

- (A) dispensa o uso de *switches* em sua implementação.
- (B) a multiplexação empregada no protocolo é a multiplexação por divisão em frequência.
- (C) os quadros transmitidos possuem tamanho fixo.
- (D) não é orientado a conexão.
- (E) não possui compatibilidade e interconectividade com sistemas de telecomunicações já existentes.

59

Um sistema de comunicações via satélite em baixa órbita (LEO) possui, em um mesmo plano orbital, satélites a uma altitude de 500km.

Sabendo-se que a frequência do enlace de descida é igual a 20GHz, a atenuação de espaço livre do enlace de descida, entre o satélite e o centro da área de cobertura (ponto subsatélital) é aproximadamente igual a

- (A) 112,4dB.
- (B) 152,4dB.
- (C) 172,4dB.
- (D) 192,4dB.
- (E) 232,4dB.

60

O padrão SDI (*Serial Digital Interface*) de codificação digital é muito utilizado em estúdios de produção de áudio e vídeo, pois possibilita o transporte de sinais digitais de áudio e vídeo não comprimidos entre equipamentos de captação e edição.

Em relação ao padrão SDI, regulado pelas normas da *Society of Motion Picture and Television Engineers* (SMPTE), analise as afirmativas a seguir.

- I. A interface elétrica do tipo SDI pode ser do tipo óptico ou cabo coaxial.
- II. De acordo com a SMPTE 292, a interface SDI pode ser utilizada para aplicações HDTV (1080i), pois possui uma taxa de dados nominal igual a 1,485Gbps.
- III. O comprimento máximo dos cabos coaxiais do tipo SDI é igual a 10 metros devido à elevada atenuação sofrida pelo sinal.

É correto o que se afirma em

- (A) III, apenas.
- (B) II e III, apenas.
- (C) I e III, apenas.
- (D) I e II, apenas.
- (E) I, II e III.

61

Em muitos sistemas de transmissão contemporâneos, como serviços de streaming *Over-the-top* (OTT) e também de televisão digital *Over-the-air* (OTA), uma técnica de compressão muito utilizada é a codificação de Huffman.

Sobre a codificação de Huffman, analise os itens a seguir e assinale (V) para o verdadeiro e (F) para o falso.

- ( ) É implementada em alguns *codecs* e contêineres de multimídia, como JPEG e MP3.
- ( ) É uma técnica de compressão sem perdas.
- ( ) Satisfaz a desigualdade de Kraft.

Os itens são, respectivamente,

- (A) V – V – F.
- (B) F – F – V.
- (C) V – F – F.
- (D) V – V – V.
- (E) F – V – F.

62

O roteamento entre dispositivos em uma mesma rede ou em redes diferentes é essencial à arquitetura da Internet. Nesse sentido, se destacam em aplicações práticas e atuais o *Open Shortest Path First* (OSPF) e o *Border Gateway Protocol* (BGP).

Com relação a estes algoritmos, analise as afirmativas a seguir e assinale (V) para a verdadeira e (F) para a falsa.

- ( ) O OSPF é um protocolo usado no roteamento entre Sistemas Autônomos diferentes.
- ( ) O OSPF possui como desvantagem, em redes com grande número de nós, o aumento do tráfego, sendo portanto implementado para roteamento dentro de um único domínio.
- ( ) O BGP é implementado em dois tipos de sessões: externa (entre sistemas autônomos diferentes) e interna (dentro de um mesmo sistema autônomo).

As afirmativas são, respectivamente,

- (A) F – F – V.
- (B) V – V – F.
- (C) F – V – V.
- (D) V – F – V.
- (E) F – V – F.

63

Um *malware* é um *software* malicioso, destinado a atividades como extorsão, espionagem e roubo de dados sensíveis, por exemplo. Nesse sentido, diversas políticas de segurança e proteção de dados são implementadas por empresas e indivíduos para proteção contra vários tipos de ataques cibernéticos.

Entre as boas práticas de segurança da informação, encontra-se o(a)

- (A) compartilhamento de senhas pessoais e corporativas com outros funcionários, conhecidos ou terceiros.
- (B) instalação de aplicativos não verificados.
- (C) atualização de aplicativos e sistemas com frequência, para incorporar correções contra falhas.
- (D) realização de *downloads* em sites não verificados.
- (E) dispensa do uso de antivírus e *firewalls*.

64

Uma fonte sonora, localizada a 10 metros de uma parede, possui a capacidade de emitir um sinal com intensidade constante cuja frequência varia lentamente na faixa de 100Hz a 1000Hz. Um observador, situado entre a fonte sonora e a parede, a uma distância de 1m da parede, percebe variações na intensidade sonora de acordo com a frequência da fonte sonora. A velocidade do som é igual a 340m/s.

Uma frequência do sinal emitido pela fonte sonora em que o observador percebeu uma diminuição acentuada em sua intensidade é

- (A) 510Hz.
- (B) 500Hz
- (C) 255Hz.
- (D) 250Hz
- (E) 150Hz.

65

O gerente de projetos (GP) é o profissional encarregado de garantir o resultado satisfatório do projeto para as partes envolvidas. Ele deve ter habilidades relativas a quatro áreas: Gestão de pessoas, Gestão do ambiente do Projeto, Administração e Conhecimentos técnicos.

A esse respeito, relacione as habilidades desejáveis do GP às respectivas propriedades.

1. Gestão de Pessoas
  2. Gestão do ambiente do Projeto
  3. Administração
  4. Conhecimentos técnicos
- ( ) Aplicação dos conhecimentos técnicos para a supervisão da qualidade e correção do trabalho do projeto.
  - ( ) Noções de cultura e comportamento organizacional.
  - ( ) Competência na gestão de projetos, gerenciamento financeiro e legislação.
  - ( ) Capacidade de liderar, influenciar e motivar.

Assinale a opção que indica a relação correta, na ordem apresentada.

- (A) 2 – 3 – 4 – 1.
- (B) 1 – 3 – 2 – 4.
- (C) 3 – 2 – 1 – 4.
- (D) 4 – 2 – 3 – 1.
- (E) 3 – 1 – 4 – 2.

## LEGISLAÇÃO INSTITUCIONAL

66

Nos termos da Constituição do Estado do Tocantins, constitui objeto de lei complementar a seguinte matéria:

- (A) os prazos de prescrição para ilícitos praticados por qualquer agente, servidor ou não, que causem prejuízos ao erário.
- (B) os limites de idade, a estabilidade e outras condições de transferência do servidor militar para a inatividade.
- (C) os casos de contratação por tempo determinado para atender à necessidade temporária de excepcional interesse público.
- (D) as regras para cálculo de proventos de aposentadoria e pensão por morte.
- (E) os requisitos e as restrições ao ocupante de cargo ou emprego da administração direta e indireta que possibilite o acesso a informações privilegiadas.

67

Considerando o exercício da função legislativa por parte da Assembleia Legislativa de Tocantins, nos termos de seu Regimento Interno, é correto afirmar que

- (A) projetos de lei delegada podem se destinar a regular as matérias de exclusiva competência do Poder Executivo, com a sanção do Governador do Estado.
- (B) projetos de resolução podem se destinar a regular, com eficácia de lei ordinária, matéria de competência privativa da Assembleia Legislativa.
- (C) projetos de lei complementar visam regular matéria infraconstitucional.
- (D) projetos de lei têm por objetivo regular matérias de competência do Poder Legislativo, sem a sanção do Governador do Estado.
- (E) projetos de decreto legislativo destinam-se à delegação de competência, na forma estabelecida na Constituição Estadual.

68

Aline, servidora pública estadual, revelou segredo do qual se apropriou em razão do cargo que ocupa. A Administração Pública, ao tomar conhecimento do fato, instaurou procedimento administrativo disciplinar a fim de apurar a conduta e garantir à servidora os princípios da ampla defesa e do contraditório.

À luz do Estatuto dos Servidores Públicos Civis do Estado do Tocantins, caso punida, Aline poderá ser sancionada com

- (A) advertência.
- (B) suspensão.
- (C) prestação de serviço.
- (D) multa.
- (E) demissão.

**69**

Ana, servidora pública efetiva e estável, ocupante de cargo de nível superior, objetivando inteirar-se sobre os requisitos para a progressão na carreira, consultou a Lei nº 4.208/2023, que trata sobre o plano de cargos, carreiras e remuneração dos Servidores da Assembleia de Tocantins.

Assim, para fazer jus à progressão, Ana terá que

- (A) possuir no máximo três faltas injustificadas por exercício referente ao período avaliado.
- (B) obter conceito igual ou superior a 70% (setenta por cento) dos pontos possíveis em todos os procedimentos de sua Avaliação.
- (C) concluir curso de pós-graduação *lato sensu* com duração mínima de 360 (trezentos e sessenta) horas.
- (D) cumprir trinta meses de efetivo exercício na classe em que se encontra.
- (E) concluir cursos de aperfeiçoamento em sua área de atuação que tenha, no mínimo, 80 (oitenta) horas de duração.

**70**

Antônio foi nomeado para o cargo de Controlador Interno da Assembleia Legislativa de Tocantins.

À luz da Lei nº 4.209/2023, que dispõe sobre a estrutura administrativa da ALETO, durante o exercício da função, Antônio será competente para:

- (A) opinar, conclusivamente, em processos de direitos, deveres e obrigações dos servidores do Poder Legislativo.
- (B) constituir Comissão Permanente de Licitação.
- (C) examinar a observância das normas de licitações.
- (D) apresentar à Mesa Diretora o balancete mensal e, no início de cada exercício, o balancete geral das contas da Assembleia Legislativa, relativo ao exercício anterior.
- (E) planejar, coordenar, orientar, controlar e dirigir as atividades administrativas, orçamentárias, financeiras, de comunicação social, de tecnologia de informação e de apoio legislativo da Assembleia Legislativa.





# ASSEMBLEIA LEGISLATIVA DO ESTADO DO TOCANTINS

CONCURSO PÚBLICO – EDITAL Nº 01/2023

## PROVA OBJETIVA – TARDE

### ANALISTA LEGISLATIVO JORNALISMO

NÍVEL SUPERIOR – TIPO 1 – BRANCA



#### SUA PROVA

- Além deste caderno contendo **70 (setenta)** questões objetivas e **1 (uma)** redação, você receberá do fiscal de prova o cartão de respostas e a folha de textos definitivos;
- As questões objetivas têm **5 (cinco)** opções de resposta (A, B, C, D) e somente uma delas está correta.



#### TEMPO

- Você dispõe de **5 (cinco) horas** para a realização da prova, já incluído o tempo para a marcação do cartão de respostas e da folha de textos definitivos;
- **3 (três) horas** após o início da prova, é possível retirar-se da sala, sem levar o caderno de questões;
- A partir dos **30 (trinta) minutos** anteriores ao término da prova é possível retirar-se da sala **levando o caderno de questões**.



#### NÃO SERÁ PERMITIDO

- Qualquer tipo de comunicação entre os candidatos durante a aplicação da prova;
- Anotar informações relativas às respostas em qualquer outro meio que não seja o caderno de questões;
- Levantar da cadeira sem autorização do fiscal de sala;
- Usar o sanitário ao término da prova, após deixar a sala.



#### INFORMAÇÕES GERAIS

- Verifique se seu caderno de questões está completo, sem repetição de questões ou falhas. Caso contrário, **notifique imediatamente o fiscal da sala**, para que sejam tomadas as devidas providências;
- Confira seus dados pessoais, especialmente nome, número de inscrição e documento de identidade e leia atentamente as instruções para preencher o cartão de respostas e a folha de textos definitivos;
- Para o preenchimento do cartão de respostas e da folha de textos definitivos, use somente caneta esferográfica, fabricada em material transparente, com tinta preta ou azul;
- Assine seu nome apenas no(s) espaço(s) reservado(s) no cartão de respostas e na folha de textos definitivos;
- Confira seu cargo, cor e tipo do caderno de questões. Caso tenha recebido caderno de cargo ou cor ou tipo **diferente** do impresso em seu cartão de respostas, o fiscal deve ser **obrigatoriamente** informado para o devido registro na ata da sala;
- Reserve tempo suficiente para o preenchimento do seu cartão de respostas e da sua folha de textos definitivos. O preenchimento é de sua responsabilidade e **não será permitida a troca do cartão de respostas e da folha de textos definitivos em caso de erro cometido pelo candidato**;
- Para fins de avaliação, serão levadas em consideração apenas as marcações realizadas no cartão de respostas e na folha de textos definitivos;
- A FGV coletará as impressões digitais dos candidatos na lista de presença;
- Os candidatos serão submetidos ao sistema de detecção de metais quando do ingresso e da saída de sanitários durante a realização das provas.
- **Boa prova!**

## CONHECIMENTOS BÁSICOS

### Língua Portuguesa

1

Observe o seguinte texto:

*Quando entrei no terrível vagão, ele estava ocupado por duas pessoas. Uma, dobrada, coberta, dormia profundamente. A coberta superior estava manchada, de fundo amarelado, como pele de leopardo. Vendem-se muitas mantas assim nas lojas de artigos de viagens, mas pude notar logo depois que se tratava realmente da pele de um animal selvagem; do mesmo modo, o boné da pessoa adormecida me pareceu ser de feltro branco bastante delicado. O outro viajante, uma aparência simpática, parecia ter passado dos trinta anos e mostrava-se como figura insignificante que passa confortavelmente as noites em estradas de ferro.*

Nesse fragmento textual, para criar sinais de história realista e verdadeira, o narrador apela para a seguinte estratégia:

- (A) seleciona uma situação banal da qual não precisa fornecer muitos detalhes, exatamente por sua banalidade.
- (B) fornece algumas marcas caracterizadoras dos dois personagens presentes no texto, destacando sua banalidade.
- (C) indica traços descritivos do ambiente, mostrando-o como se nada houvesse nele de excepcional.
- (D) mostra detalhes variados e bastante pitorescos dos objetos descritos.
- (E) dá ao leitor informações sobre personagens e ambiente, mostrando-os como bastante conhecidos do narrador.

2

Assinale a frase que mostra a palavra *mais* numa classe gramatical **diferente** das demais.

- (A) O mercado está prisioneiro de mais um círculo vicioso: piora porque piorou e porque piorou, piora.
- (B) Os ingleses conquistaram o mundo porque não aguentavam mais a própria cozinha.
- (C) Quanto mais vejo o estrangeiro, mais amo a minha pátria.
- (D) Não é mais possível aprender tudo de cor. Um homem instruído não é mais o homem que sabe muitas coisas; é o homem que sabe onde buscar informações.
- (E) Muda-se mais facilmente de religião do que de café

3

As frases a seguir mostram termos ligados pela conjunção OU.

Assinale a frase em que essa conjunção mantém o valor de alternativa (e não de adição).

- (A) João ou Pedro deve ser eleito presidente da empresa.
- (B) A alegria ou a tristeza fazem parte da vida.
- (C) Inglês ou francês são idiomas falados pelos turistas
- (D) Os clientes leem livros ou revistas enquanto esperam.
- (E) Vasco ou Flamengo são times de longa tradição.

4

Um guitarrista americano produziu o seguinte pensamento:

*O crítico de rock é alguém que não sabe escrever, entrevistando gente que não sabe falar, para gente que não sabe ler.*

Sobre a estruturação ou a significação desse pequeno texto, assinale a afirmativa **incorreta**.

- (A) O termo “de rock” funciona como complemento nominal do termo anterior.
- (B) Todos os elementos da cadeia comunicativa citados no texto são marcados pela ignorância.
- (C) O pensamento acima revela um preconceito fortíssimo contra os amantes de rock.
- (D) A opinião expressa no texto pode advir da experiência pessoal do autor, já que se trata de um guitarrista.
- (E) A injustiça desse texto provém de ser uma opinião fundamentada em uma autoridade duvidosa.

5

John Steinbeck, prêmio Nobel, declarou o seguinte:

*O homem é o único animal que bebe sem ter sede, come sem ter fome e fala sem ter nada a dizer.*

Em relação ao significado e à estruturação desse pequeno texto, assinale a afirmativa **incorreta**.

- (A) A frase ficaria mais enfática se invertêssemos a posição do termo inicial: O único animal que bebe sem ter sede, come sem ter fome e fala sem ter nada a dizer é o homem.
- (B) A inversão de alguns segmentos do texto em nada modificaria o sentido da frase: O homem é o único animal que come sem ter fome, bebe sem ter sede e fala sem ter nada a dizer.
- (C) Os segmentos finais do texto mostram preocupação com rigoroso paralelismo sintático.
- (D) Segundo a opinião do autor do texto, a marca principal do homem é a irracionalidade.
- (E) Nem todas as ações citadas como marcas humanas estão presentes, por oposição, nos outros animais.

6

Assinale a frase que **não** expressa uma noção de tempo abstrato.

- (A) Nas asas do tempo, a tristeza voa.
- (B) Quem mata o tempo não é assassino, é suicida.
- (C) O tempo perdido não se encontra nunca mais.
- (D) O tempo é o melhor professor. Infelizmente, ele mata todos os seus estudantes
- (E) O tempo gasto na viagem foi de duas horas.

7

Assinale a frase em que a utilização do acento grave indicativo da crase é realizada de forma **errada**.

- (A) Jamais alguém se arrependeu de ter-se acostumado à madrugada e à ter-se casado jovem.
- (B) Tempo é o suspiro de adeus do sol à terra.
- (C) Saio todos os dias às cinco horas e não permito que o meu trabalho interfira no meu jogo de tênis.
- (D) O momento de extrair uma lição da história está sempre à mão para os sábios.
- (E) Quando assumi, quatro anos atrás, estávamos à beira do precipício.

8

Os adjetivos podem representar estados, qualidades, características e relações.

Assinale a frase que mostra um tipo de adjetivo **diferente** dos demais.

- (A) Nunca houve criança tão amável que a própria mãe não ficasse satisfeita ao conseguir adormecê-la.
- (B) Nada mais perversamente cruel que uma adorável criança.
- (C) Mesmo estando doentes, as crianças não ficam caladas.
- (D) Quando as crianças estão quietas é porque fizeram alguma coisa errada.
- (E) As tangerinas verdes não amadurecem fora do pé.

9

Assinale a frase em que o adjetivo sublinhado mostra uma função sintática **diferente** das demais.

- (A) Por fora bela viola, por dentro pão **bolorento**.
- (B) Tiradentes, **heroico**, tentou organizar uma revolução.
- (C) Um rosto **bonito** altera-se depressa.
- (D) Eu não podia acreditar que existem múmias tão **lindas**.
- (E) Um homem belo é um homem **insignificante**.

10

Assinale a opção que mostra uma impropriedade léxica, ou seja, um emprego **inadequado** da expressão “cerca de”.

- (A) Havia cerca de três dúzias de convidados no final da festa.
- (B) Chegaram cerca de 100 cartas no mesmo dia.
- (C) Cerca de 18 lojas fecharam as portas mais cedo.
- (D) Os cantores receberam cerca de uma centena de convites.
- (E) A plantação produziu cerca de uma tonelada de legumes.

11

Muitas palavras portuguesas mostram o prefixo A- sem qualquer valor semântico, sendo equivalentes ao mesmo vocábulo sem esse prefixo.

Assinale a palavra a seguir que exemplifica esse A protético.

- (A) amostrar
- (B) abraçar
- (C) atenuar
- (D) aguardar
- (E) aparar

12

Observe o seguinte texto:

*A felicidade depende da habilidade que tenhamos naquelas atividades que consideramos importantes: somente se lhes damos um real valor aos pequenos detalhes cotidianos, poderemos ter instantes felizes. A felicidade absoluta não existe, e já que só podemos acessar os pequenos detalhes daquilo que nos interessa, devemos contentar-nos com isso. Por isso, a infelicidade é um sinal claro de nossa incompetência na arte de viver.*

Sobre a estrutura e a significação desse texto, assinale a afirmativa **inadequada**.

- (A) O tema do texto gira em torno do que consiste a felicidade e o que viria a ser o seu oposto.
- (B) A afirmação de que “A felicidade absoluta não existe” é de cunho pessoal do autor do texto, representando uma opinião.
- (C) O raciocínio utilizado na estruturação argumentativa é do tipo dedutivo.
- (D) O conector “Por isso” mostra a preocupação com o caráter lógico da argumentação.
- (E) A tese do texto é a de que a infelicidade é fruto de nossa incompetência na arte de viver.

## Raciocínio Lógico Matemático

13

Certo programa de rádio tem 1 hora e 55 minutos de duração. A partir do momento em que o programa é iniciado, há blocos temáticos de 7 minutos intercalados por blocos de propagandas de 2 minutos.

Em todos os blocos de propaganda, ouve-se o comercial do restaurante R, que sempre dura 18 segundos.

Se o programa começa e termina com um bloco temático, então, o tempo total do programa dedicado ao anúncio do restaurante R é

- (A) 3 minutos e 54 segundos.
- (B) 3 minutos e 36 segundos.
- (C) 3 minutos e 18 segundos.
- (D) 3 minutos.
- (E) 2 minutos e 48 segundos.

14

A linha de produção de certa fábrica produz 1100 latas de sardinhas a cada hora. Certo dia, por um defeito de calibragem do sistema, entre 13h e 14h, o volume de produção foi reduzido em 30% durante exatos 12 minutos.

A quantidade de latas de sardinhas produzidas no intervalo supracitado foi

- (A) 946.
- (B) 964.
- (C) 1022.
- (D) 1034.
- (E) 1046.

15

Marcelo está parado de frente para uma das paredes de uma sala quadrada. Nesta posição, ele está a 1m e 20cm da parede que se encontra à sua direita e a 1m e 70cm da parede que está às suas costas.

Ele, então, se desloca paralelamente às paredes da sala sendo 40cm para a frente e 80cm para a direita. Nessa nova posição, ele passou a distar 1m e 90cm da parede que antes estava à sua esquerda.

Desprezando-se as dimensões de Marcelo, a sua atual distância à parede que, antes dos movimentos, estava à sua frente, é

- (A) 20cm.
- (B) 30cm.
- (C) 40cm.
- (D) 50cm.
- (E) 60cm.

16

Um dado é dito comum quando tem a forma de um cubo e suas 6 faces são numeradas de 1 a 6, de tal forma que a soma dos números estampados em faces opostas, quaisquer que sejam elas, sempre somam 7.

Quando um dado comum é lançado, diz-se que o resultado do lançamento é o número estampado na face voltada para cima.

Um dado foi lançado 3 vezes seguidas. Se o produto dos resultados obtidos nos lançamentos vale 75, a soma desses resultados é igual a

- (A) 12.
- (B) 13.
- (C) 14.
- (D) 15.
- (E) 16.

17

Em certo ano, o dia 1º de agosto cai em um domingo. Logo, o dia 1º de novembro cairá em

- (A) um sábado.
- (B) um domingo.
- (C) uma segunda-feira.
- (D) uma quarta-feira.
- (E) uma sexta-feira.

18

Considere a seguinte proposição condicional:

*Se todos os alunos da Escola Aristarco gostam de matemática, então, ao menos um deles ganha medalha na Olimpíada Nacional de Matemática.*

Se essa proposição é verdadeira, é correto afirmar que

- (A) se nenhum dos alunos da Escola Aristarco gosta de Matemática, então nenhum deles ganha medalha na Olimpíada Nacional de Matemática.
- (B) se todos os alunos da Escola Aristarco ganham medalha na Olimpíada Nacional de Matemática, então, todos esses alunos gostam de Matemática.
- (C) se algum aluno da Escola Aristarco ganha medalha na Olimpíada Nacional de Matemática, então todos esses alunos gostam de Matemática.
- (D) se nenhum aluno da Escola Aristarco ganha medalha na Olimpíada Nacional de Matemática, então nenhum desses alunos gosta de Matemática.
- (E) se nenhum aluno da Escola Aristarco ganha medalha na Olimpíada Nacional de Matemática, então algum desses alunos não gosta de Matemática.

19

Em uma caixa, há muitas canetas esferográficas. Classificadas conforme a cor, elas podem ser azuis, vermelhas ou pretas. Classificadas quanto à espessura da esfera, elas podem ser de ponta fina ou de ponta grossa.

Metade das canetas vermelhas tem a ponta grossa. A quantidade total de canetas pretas é igual à quantidade total de canetas vermelhas. Entre as canetas de ponta grossa, a quantidade de azuis é igual à de pretas. A quantidade de canetas azuis com ponta fina é o dobro da quantidade de canetas pretas de ponta grossa.

Se, nessa caixa, 18 são azuis e 20 têm ponta grossa, então a quantidade total de canetas na caixa é

- (A) 30.
- (B) 40.
- (C) 48.
- (D) 50.
- (E) 52.

20

Tucídides possuía uma dívida e, em vez de quitá-la, pagou apenas 20% do seu valor, deixando o restante para ser quitado em data futura, com acréscimo de 12% a título de juros sobre o saldo devedor.

No ato de quitação, Tucídides pagou R\$2.329,60. Logo, o valor original da dívida é o resultado da seguinte expressão:

(A)  $2.329,60 \times 0,88 - 20$

(B)  $\frac{2.329,60}{0,88} \times 1,20$

(C)  $\frac{2.329,60}{1,12} \times 1,20$

(D)  $\frac{2.329,60}{1,12 \times 1,20}$

(E)  $\frac{2.329,60}{1,12 \times 0,8}$

21

As filhas de Nepomuceno têm 5 e 9 anos de idade. Ele dividirá R\$420,00 entre elas de forma inversamente proporcional às suas idades.

Logo

- (A) a mais nova receberá R\$120,00 a mais que a mais velha.
- (B) a mais nova receberá R\$150,00 a mais que a mais velha.
- (C) a mais nova receberá R\$270,00 a mais que a mais velha.
- (D) a mais velha receberá R\$120,00 a mais que a mais nova.
- (E) a mais velha receberá R\$150,00 a mais que a mais nova.

22

A negação da proposição:

$$\text{Se } y \neq 0, \text{ então } x > 2 \text{ e } x \leq 5$$

é dada por

- (A) Se  $y = 0$ , então  $x > 2$  e  $x \leq 5$
- (B) Se  $y = 0$ , então  $x < 2$  ou  $x \geq 5$
- (C)  $y = 0$  e  $x \leq 2$  ou  $x > 5$
- (D)  $y \neq 0$  e  $x \leq 2$  ou  $x > 5$
- (E)  $y \neq 0$  e  $x \leq 2$  e  $x > 5$

## Atualidades

23

De acordo com o censo demográfico de 2022 (IBGE), mais da metade da população brasileira (51,13%) é feminina, e elas representam, segundo o Tribunal Superior Eleitoral, 53% do eleitorado. No entanto, elas ocupam, hoje, menos de 15% dos cargos eletivos.

A respeito da baixa participação das mulheres na política, assinale a afirmativa que apresenta um dispositivo existente na legislação brasileira para alterar esse cenário.

- (A) Reserva de pelo menos 50% dos recursos do Fundo Especial de Financiamento de Campanha, o Fundo Eleitoral, para financiar candidaturas femininas.
- (B) Suspensão dos direitos eleitorais aos partidos em caso de não observância do percentual de pelo menos 30% de candidatas mulheres em cada ciclo eleitoral
- (C) Reserva de assentos, em ambas as casas legislativas, para mulheres, com preferência para as representantes de povos originários.
- (D) Cota de gênero, que obriga cada partido ou coligação a preencher o mínimo de 30% e o máximo de 70% de candidaturas de cada sexo.
- (E) Repasse de até 30% dos recursos dos Fundos Partidário para custear o tempo da propaganda eleitoral gratuita de candidatas em rádio e televisão.

24

A França se tornou o primeiro país do mundo a incluir na Constituição a liberdade de a mulher abortar. A mudança na Carta Magna foi aprovada em uma sessão conjunta das duas Casas legislativas, a Assembleia Nacional e o Senado, e será promulgada pelo presidente Emmanuel Macron ainda em março de 2024.

Adaptado de <https://www1.folha.uol.com.br/mundo/2024/03/>

Diferentemente da França, a legislação brasileira

- (A) equipara o aborto ao infanticídio.
- (B) considera o aborto uma prática ilegal em todas as situações.
- (C) descriminaliza a interrupção da gravidez em caso de deficiência da gestante.
- (D) estabelece um limite temporal para interromper a gravidez, desde que respaldada por laudo médico.
- (E) autoriza a interrupção de gestação em caso de não haver outro meio de salvar a vida da gestante.

25

Desde os anos 2000, o interior do Brasil ultrapassou o litoral na incidência de dengue. A região costeira que vai de Santos, em São Paulo, até Belém, no Pará, apresentava tipicamente maior proporção de casos de dengue em comparação com sua população. Entretanto, recentemente, o oeste do Paraná, o oeste de Santa Catarina o oeste de São Paulo, o interior de Minas Gerais, uma parte do Tocantins, o Goiás e o Mato Grosso do Sul viram a transmissão da doença aumentar e muitas de suas cidades foram obrigadas a decretar emergência.

Adaptado de <https://www.estadao.com.br>

A respeito dos fatores relacionados ao aumento e à interiorização dos casos de dengue no Brasil, analise as afirmativas a seguir.

- I. A maior frequência de períodos com temperaturas acima da média, inclusive com ondas de calor no período invernal em todo território, tem reforçado o padrão sazonal da doença.
- II. A expansão urbana desvinculada de melhoras nos serviços sanitários tem propiciado a formação de ilhas de calor e, portanto, uma alta na incidência da dengue.
- III. O desmatamento do cerrado, convertido em pasto, por exemplo, tem contribuído para aumentar a temperatura média e o número de casos da doença no interior do Brasil.

Está correto o que se afirma em

- (A) I, apenas.
- (B) I e II, apenas.
- (C) I e III, apenas.
- (D) II e III, apenas.
- (E) I, II e III.

26

As afirmativas a seguir descrevem corretamente o desempenho da economia brasileira em 2023, à exceção de uma. Assinale-a.

- (A) A expansão econômica ampliou a geração de empregos informais, em um contexto recessivo e de flexibilização das leis trabalhistas.
- (B) O dinamismo da economia foi marcado pelo aumento de exportações, no setor agrícola, e da demanda, no setor de serviços, em função da alta no consumo das famílias.
- (C) A alta progressiva nas cotações internacionais de commodities acelerou o ritmo das exportações, mesmo em um cenário cambial desfavorável para os exportadores.
- (D) A retração do Brasil no mercado regional e internacional ocorreu em função da maior competitividade dos produtos agrícolas argentinos e pela retomada da economia chinesa.
- (E) A persistência do alto nível da inflação foi ocasionada pela alta da cesta básica, sobretudo dos alimentos, cujas safras foram afetadas pelas condições climáticas adversas.

27

Em 2024, o Tribunal Superior Eleitoral (TSE) aprovou uma resolução para regulamentar o uso da inteligência artificial (IA) durante as eleições municipais a serem realizadas em outubro. A norma proíbe manipulações de conteúdo falso para criar ou substituir imagem ou voz de candidato com objetivo de prejudicar ou favorecer candidaturas. Também foi aprovada a restrição do uso de chatbots humanizados e avatares para intermediar a comunicação das campanhas com pessoas reais nas redes sociais.

Adaptado de <https://agenciabrasil.ebc.com.br>

A resolução sobre IA objetiva

- (A) coibir a produção e circulação de *deepfakes*.
- (B) restringir o uso de ferramentas de IA simbólica.
- (C) retomar a veiculação de propagandas eleitorais em mídias tradicionais, como rádio e televisão.
- (D) proibir o uso de ferramentas de coleta e seleção em bases de dados com fins eleitorais.
- (E) limitar o uso de assistente virtual programado por AI para divulgação do programa partidário.

28

Assinale a afirmativa que descreve corretamente um aspecto do panorama global da economia em 2023.

- (A) Nos Estados Unidos, a economia foi alavancada pela adoção de uma política de ampliação do crédito e baixa da taxa de juros.
- (B) Na China, o PIB cresceu acima do esperado, em um cenário marcado pela retomada econômica pós pandemia, inclusive no setor imobiliário.
- (C) Na Zona do Euro, a alta dos preços da energia pesou nas despesas familiares e no setor industrial, confirmando a manutenção de um quadro de crise.
- (D) Na Rússia, o PIB decresceu, em função do impacto prolongado da guerra com a Ucrânia e dos embargos à venda de petróleo e gás russos.
- (E) Na América do Sul, foi mantido um caminho geral de crescimento, apoiado por investimentos externos e pela intensificação de políticas estatistas.

29

Um supercomputador consiste em milhares de pequenos computadores chamados nós. Cada nó é equipado com sua própria memória e com vários processadores. Atuando em conjunto, eles são capazes de realizar cálculos extremamente complexos em elevada velocidade. Hoje, o maior supercomputador da América Latina é o Pégaso, da Petrobras, com 678 TB de memória RAM e mais de 233 mil núcleos.

Adaptado de <https://revistapesquisa.fapesp.br>

A respeito do poder computacional de alto desempenho dos supercomputadores, analise as afirmativas a seguir e assinale (V) para a verdadeira e (F) para a falsa.

- ( ) Essas máquinas são instrumentos valiosos de pesquisa e de suporte a setores da economia como defesa, energia e saúde, permitindo a resolução de problemas complexos em menor tempo.
- ( ) Esses equipamentos permitem realizar tarefas que exigem altíssimos níveis de processamento, como simulações da formação do universo ou modelagem molecular para novos fármacos.
- ( ) Esses aparelhos trabalham em alta velocidade de processamento pelo somatório de diversos núcleos, o que potencializa a velocidades do processador, medidas em gigahertz (GHz).

As afirmativas são, respectivamente,

- (A) V – V – F.
- (B) V – F – V.
- (C) F – V – F.
- (D) F – V – V.
- (E) V – V – V.

30

No início do ano corrente, a Petrobras anunciou ter alcançado em 2023 o segundo maior valor de lucro líquido de sua história. Mesmo assim, suas ações caíram no mercado financeiro, em função da disputa sobre os dividendos.

A respeito dos resultados financeiros da Petrobras nos últimos anos e da política de distribuição de dividendos da empresa, assinale a afirmativa correta.

- (A) A Petrobras é uma empresa estatal de economia mista que monopoliza a indústria petroleira no Brasil.
- (B) A Petrobras é uma estatal administrada diretamente por órgãos governamentais que controlam o valor das suas ações.
- (C) A Petrobras direciona parte dos dividendos para investidores privados, e outra parte para o governo federal, que controla a empresa via Tesouro e BNDES.
- (D) A Petrobras, sob o Governo Bolsonaro, reduziu o pagamento de dividendos a acionistas privados para reinvesti-los em energia renovável.
- (E) A Petrobras, no atual governo, vendeu ativos e distribuiu o lucro e os valores recordes de dividendos entre seus acionistas para financiar projetos do BNDES.

31

Dados da última década mostram que, em relação aos Estados, o Pará é o que apresenta o maior número de registros de resgates de trabalho análogo à escravidão, com 9.853, seguido por Mato Grosso (4.302); Tocantins (2.896); São Paulo (1.529) e Rio de Janeiro (1.653), em 2017.

Adaptado de <https://www.jota.info/justica/em-14-anos-434-mil-foram-resgatados-de-trabalho-escravo-30102017>

A respeito da definição moderna de escravidão, analise as afirmativas a seguir.

- I. Em Tocantins, a maior incidência de escravidão moderna ocorre na zona rural, associada a atividades agropecuárias e ao extrativismo mineral, como nas carvoarias, por exemplo.
- II. A Organização Internacional do Trabalho determina a condição de escravidão por uma série de componentes, como o trabalho forçado análogo ao de escravo e o casamento forçado.
- III. Pessoas obrigadas a trabalhar por dívida ou por ameaça, sem direitos trabalhistas garantidos estão em situação de escravidão, uma vez que lhes é impedida a liberdade de ir e vir.

Está correto o que se afirma em

- (A) I, apenas.
- (B) I e II, apenas.
- (C) I e III, apenas.
- (D) II e III, apenas.
- (E) I, II e III.

32

Energia gerada por recursos naturais renováveis que, no Brasil, provém da lenha, carvão vegetal, carvão mineral, bagaço de cana e outros resíduos combustíveis. Essa energia é a matéria orgânica vegetal ou animal usada como fonte de energia limpa e sustentável.

O trecho descreve o seguinte componente importante do desenvolvimento sustentável:

- (A) compostagem.
- (B) biodiversidade.
- (C) créditos de carbono.
- (D) ciclo de vida.
- (E) biomassa.

## História e Geografia do Estado de Tocantins

33

Leia a descrição de uma classe de vegetação presente no estado do Tocantins, a seguir.

*Esta vegetação, também conhecida como floresta pluvial tropical, é caracterizada por árvores de porte elevado, além de trepadeiras lenhosas e epífitas (bromélias e orquídeas, por exemplo) em abundância, o que a diferencia de outras classes de formação vegetal. Sua característica ecológica principal é estar presente em ambientes de chuvas abundantes, como na parte noroeste do Estado, onde as temperaturas médias são de 25°C e os elevados índices de precipitação estão bem distribuídos ao longo do ano.*

Adaptado de Luís Antônio G. C. Silva. *Biomas presentes no Estado do Tocantins*. Brasília: Câmara dos Deputados, 2007, p. 4.

O trecho caracteriza a região conhecida como Floresta

- (A) Estacional Semidecidual.
- (B) Tropical Subcaducifólia.
- (C) de Mata Atlântica.
- (D) Ombrófila Densa.
- (E) Temperada Decidual.

34

Comparando dados dos censos do IBGE, pode-se elaborar um retrato da evolução demográfica da população residente no Estado de Tocantins. O grupo na faixa etária de 0 a 14 representava 41,7% da população em 1991, 28,8% em 2010, e passou para 24% em 2022. A população acima de 65 anos era de 3,8% em 1991 e 5,8% em 2010, e ficou em 8,6% em 2022. O censo de 2022 mostrou ainda que a faixa etária de 15 a 29 anos representa 15% da população e que 41% da população é composta por pessoas de 30 a 59 anos.

Com base no trecho, assinale a opção que apresenta a dinâmica populacional do Tocantins entre 1991 e 2022.

- (A) Expansão da base da pirâmide etária.
- (B) Diminuição da taxa de fecundidade.
- (C) Estreitamento do topo da pirâmide.
- (D) Aumento da idade mediana.
- (E) Redução do índice de envelhecimento.

35

*Foram inegáveis os desdobramentos socioeconômicos sobre o antigo Norte Goiano fruto da construção da rodovia BR-153, a partir do final da década de 1950. O novo urbanismo da Belém-Brasília trouxe enorme impacto no que se refere ao conjunto de cidades que existiam às margens do rio Tocantins, aos fluxos migratórios e às atividades econômicas da região.*

Adaptado de AQUINO, N. *Tocantins: cidades e urbanismo em três modelos históricos*. In: III Encontro da ANPPAS. Brasília, 2006, p. 8.

As afirmativas a seguir descrevem corretamente impactos da rodovia BR-153 no processo de territorialização do Tocantins, **à exceção de uma**. Assinale-a.

- (A) A rodovia foi construída no governo Kubitschek, em um contexto desenvolvimentista que considerava a expansão rodoviária como um meio para integrar econômica e territorialmente as regiões do país, inclusive o norte goiano que, então, vivia uma situação de abandono.
- (B) A rodovia Belém-Brasília teve grande importância para a urbanização do atual Tocantins, o que é exemplificado pela quantidade de novas cidades criadas após a sua construção, como Araguaína, Gurupi, Paraíso do Tocantins, Colinas do Tocantins e Guarai.
- (C) A construção da BR-153 alavancou também os municípios ribeirinhos, pois a navegação fluvial foi intensificada para abastecer as obras em curso, o que transformou esses municípios em satélites econômicos da nova malha urbana instalada ao longo da rodovia.
- (D) Após a abertura da rodovia, as principais áreas que receberam fluxos migratórios foram a Microrregião de Gurupi – Gurupi e a Microrregião de Porto Nacional – Palmas, para onde se dirigiram pessoas interessadas em trabalhar na construção civil, nos serviços e no comércio, entre outros.
- (E) A BR-153 permitiu interligar o norte de Goiás, atual Estado do Tocantins, a outras localidades do país, facilitando o escoamento da produção e o acesso a produtos para a região, promovendo o fluxo de mercadorias e serviços.

36

O Memorial Coluna Prestes (2001) é uma obra do arquiteto Oscar Niemeyer localizada na Praça dos Girassóis, no centro de Palmas (TO).



Fonte: <https://central.to.gov.br/image/146145?f=1>

A respeito da relação entre essa obra e a constituição de uma memória histórica para o Estado do Tocantins, analise as afirmativas a seguir.

- I. O monumento refere-se à Coluna Prestes, que percorreu o Brasil para divulgar seu programa revolucionário entre 1924 e 1927, tendo passado pelo Norte do então Estado de Goiás (atual Tocantins) durante seu percurso.
- II. A obra foi realizada em concreto e apresenta curvas sinuosas, características próprias do Barroco das cidades mineradoras, estabelecendo visualmente uma continuidade entre o Barroco do passado das cidades mineradoras e o presente do Tocantins.
- III. A construção do memorial permite inserir simbolicamente a história do Tocantins nos grandes processos da história republicana nacional, e homenagear o Tenente Antônio de Siqueira Campos, cujo sobrenome é homônimo ao do ex-governador do Estado.

Está correto o que se afirma em

- (A) I, apenas.
- (B) I e II, apenas.
- (C) I e III, apenas.
- (D) II e III, apenas.
- (E) I, II e III.



37

Até 1988, o território que hoje corresponde ao Estado do Tocantins pertencia ao antigo norte de Goiás e à Região Centro-Oeste, tendo como capital política a cidade de Goiânia. Com a emancipação política, da noite para o dia, as pessoas amanheceram tocantinenses, mas sem referências culturais que as representassem como tais.

A respeito da projeção simbólica do novo Estado e de sua nova capital, assinale a opção que interpreta corretamente o processo de construção e atribuição de uma identidade ao Tocantins.

- (A) Desde o primeiro mandato do governador Siqueira Campos, os símbolos oficiais do Tocantins continuaram sendo o brasão de armas, a bandeira, o selo estadual e a canção "Hino ao Tocantins", de Liberato Costa Póvoa e Abiezer Alves da Rocha.
- (B) O girassol foi reconhecido oficialmente como símbolo da natureza do Estado, por ser uma planta nativa dos cerrados tocantinenses e estar associada à prosperidade e à esperança.
- (C) A Praça dos Girassóis, centro cívico de Palmas, foi concebida para receber edifícios esteticamente associados à cultura do Tocantins, como o Palácio do Araguaia, cujos pórticos remetem ao capim dourado, símbolo da tradição do artesanato de alta qualidade da região.
- (D) A monumentalidade da Praça dos Girassóis é enfatizada pelo seu pavimento, que contém figuras simbólicas como o mapa do Tocantins, a rosa dos ventos, o brasão de armas e a Praça Krahô.
- (E) O meio ambiente também foi utilizado para fortalecer o sentimento identitário, inserindo o girassol, a fava-de-bolota, a arara-canindé e a granada como símbolos da natureza do Tocantins, desde a promulgação da Constituição Estadual em 1989.

38

A respeito da matriz energética do Estado e dos investimentos em biocombustíveis, analise as afirmativas a seguir e assinale (V) para a verdadeira e (F) para a falsa.

- ( ) O Estado tem condições de clima e solo desfavoráveis para o plantio de matérias-primas usadas na fabricação de biocombustíveis, mas a expansão do modal logístico (Ferrovia Norte-Sul) permitirá o acesso à soja do planalto goiano.
- ( ) O Tocantins conta com duas usinas de biodiesel em funcionamento, utilizando o pinhão-manso, a soja, a mamona e outras oleaginosas como matéria-prima.
- ( ) O Estado tem alto potencial de geração de energia solar, pela elevada irradiação solar e pelas políticas públicas voltadas para produção de energia limpa e renovável, como a Política Estadual de Incentivo à Geração e ao Uso da Energia Solar (Pró-Solar)

As afirmativas são, respectivamente,

- (A) V – F – V.
- (B) F – V – V.
- (C) F – F – V.
- (D) V – V – F.
- (E) V – V – V.

39

*As belas paisagens como serras, cachoeiras, praias e até mesmo dunas, fazem do Tocantins um paraíso de paisagens naturais, atraindo turistas de várias regiões para conhecer o mais novo Estado brasileiro. A potencialidade para o ecoturismo e a preocupação em conservar a biodiversidade e recursos naturais nele contidos fez com que o Governo do Estado, criasse e implementasse as Unidades de Conservação Ambiental (UC).*

Adaptado de <https://www.to.gov.br/secom/>

A respeito das Unidades de Conservação (UC) do Tocantins, assinale a afirmativa correta.

- (A) São espaços territoriais legalmente instituídos pelo poder público e podem ser de proteção integral federal, como no caso dos Parques Cantão, Jalapão e Lajeado.
- (B) As UCs federais estão subordinadas ao Instituto Chico Mendes de Conservação da Biodiversidade (ICMBio), como no caso do Monumento Natural das Árvores Fossilizadas.
- (C) As UCs estaduais estão subordinadas ao Instituto Natureza do Tocantins (Naturatins), que supervisiona o Parque do Araguaia e o das Nascentes do rio Parnaíba.
- (D) As UCs de uso sustentável são compostas exclusivamente por áreas públicas, sendo permitida sua utilização apenas para o ecoturismo, pesquisa e educação ambiental.
- (E) As UCs municipais estão subordinadas às secretarias de meio ambiente, como no caso do Monumento Natural dos Cânions e Corredeiras do Rio Sono e do Parque Ecológico Roberto Guedes Pereira.

40

O Estado do Tocantins possui diversas comunidades quilombolas certificadas e outras com processo formalizado para regularização fundiária de seus territórios. A definição de comunidade quilombola é dada pelo Art. 2º do Decreto nº 4.887/2003:

*Consideram-se remanescentes das comunidades dos quilombos, para os fins deste Decreto, os grupos étnico-raciais, segundo critérios de auto-atribuição, com trajetória histórica própria, dotados de relações territoriais específicas, com presunção de ancestralidade negra relacionada com a resistência à opressão histórica sofrida.*

A respeito dos órgãos e processos envolvidos na identificação e regularização de territórios quilombolas no Estado do Tocantins, assinale a afirmativa correta.

- (A) O acesso dessas comunidades às políticas públicas de educação, saúde, moradia e regularização fundiária depende de o Estado emitir uma certidão de identificação de comunidade quilombola, mediante Fundação Palmares.
- (B) Os critérios para reconhecimento de um grupo enquanto remanescente de quilombo depende da comprovação de sua ancestralidade, seu parentesco e da preservação viva de religiosidades autenticamente africanas.
- (C) A Coordenação Nacional de Articulação de Comunidades Negras Rurais Quilombolas (CONAQ) luta pela incorporação constitucional do direito à autodefinição dos remanescentes de quilombos.
- (D) A certificação quilombola é realizada pela Fundação Cultural Palmares, que avalia com visitas técnicas a autenticidade do legado quilombola pretendido e, caso o aprove, emite a certidão de comunidade quilombola e a inscreve em um cadastro geral.
- (E) O acesso às terras ocupadas pelos remanescentes das comunidades dos quilombos é garantido por sua delimitação e titulação, a cargo da autoridade municipal em que a mesma se localiza.

## CONHECIMENTOS ESPECÍFICOS

41

Para estabelecer cotidianamente que fatos se tornarão ou não notícias, os jornalistas seguem critérios próprios, muitas vezes, por eles considerados óbvios e instintivos. Para sistematizar esses critérios, o teórico Mauro Wolf busca organizar os valores-notícia em cinco categorias, a saber: 1. Substantivas; 2. Relativas ao produto; 3. Relativas ao meio de informação; 4. Relativas ao público e 5. Relativas à concorrência.

Nesse contexto, avalie as duas situações a seguir:

- I. Um avião caiu nas proximidades do aeroporto de Congonhas, em São Paulo, matando toda a tripulação e 80 passageiros, dentre eles os cinco jovens integrantes de uma popular banda de rock brasileira.
- II. Um repórter de um jornal de abrangência nacional teve acesso exclusivo a documentos que comprovam o envolvimento de dois vereadores de um município do interior de São Paulo em um caso de desvio de pequenas quantias da verba pública. Ele conseguiu antes dos demais jornalistas uma entrevista exclusiva com o presidente da Câmara.

Os dois casos têm probabilidade de se tornarem notícias com base respectivamente nas categorias

- (A) relativas ao público e relativas ao produto.
- (B) relativas à concorrência e relativas ao meio.
- (C) substantivas e relativas à concorrência.
- (D) relativas ao público e substantivas.
- (E) relativas ao produto e relativas ao meio.

42

Leia o texto sobre os primeiros anos da televisão no Brasil.

*Tudo ia ao vivo – da novela Sua vida me pertence, transmitida duas vezes por semana pela \_\_\_\_\_, em 1951, ao primeiro telejornal, \_\_\_\_\_, na Tupi Paulista, ainda em 1950. Externas poucas, colhidas em câmaras que rodavam a corda, sem som, e passavam em negativo; a conversão para positivo fazia-se no equipamento eletrônico quando o programa ia ao ar, cabendo ao locutor narrar os fatos. Em suma, rádio ilustrado. Assim foi com o \_\_\_\_\_, que migrou para a TV em 1953. A mobilização no estúdio lembrava operações militares de infiltração, silenciosamente processadas diante do praticável onde ficava o locutor ou \_\_\_\_\_ que comandava o espetáculo, trocando imagens conforme as deixas calculadas pelo número de linhas. Troca complicada porque, nos primeiros anos, não havia \_\_\_\_\_ para aproximação da imagem ou o deslocamento lento (que dá a ilusão de movimento de câmara).*

(LAGE, Nilson, 2009.p.226 – versão digital)

Assinale a opção que completa corretamente as lacunas do texto acima.

- (A) TV Tupi – Imagens do Dia – Repórter Esso – na switch – o zoom.
- (B) TV Globo – Jornal da Globo – Jornal Nacional – no estúdio – a grua.
- (C) TV Record – Telenotícias da Panair – Repórter Esso – na ilha de edição – o dolly.
- (D) TV Tupi – Jornal de Vanguarda – Jornal Nacional – na unidade móvel – o tripé.
- (E) TV Record – Reportagem Ducal – Jornal de Vanguarda – na pós-produção – o carrinho.

43

O modelo de Comunicação Integrada, proposto por Margarida Kunsch contempla a comunicação mercadológica que envolve diversas áreas ou ações, entre elas o(a)

- (A) Marketing Direto.
- (B) Marketing Social.
- (C) Marketing Cultural.
- (D) Propaganda Institucional.
- (E) Imagem Corporativa.

44

Na história do Jornalismo, houve uma época em que os magazines não especializados por tema ou público utilizavam a ilustração fotográfica como elemento motivador de leitura, o que era decisivo na orientação e linha editorial das matérias. Bons exemplos desse tipo de publicação internacionalmente foram as revistas *Life*, *Look* e *Paris Match*.

Já no Brasil, destacam-se

- (A) *Veja e Senhor*.
- (B) *Isto É e Visão*.
- (C) *Caras e Carta Capital*.
- (D) *Manchete e O Cruzeiro*.
- (E) *Época e Piauí*.

45

O professor Nilson Lage afirma que as diferenças entre a notícia e a reportagem começam na pauta de cada uma delas, pois

- (A) as reportagens publicadas podem servir de gancho para as pautas de notícias.
- (B) como a profundidade e autonomia do jornalista no processo de construção da notícia é maior do que na reportagem, a primeira é menos pressionada pelo imediatismo.
- (C) pautas de reportagens são mais completas dos que as de notícias, pois tendem a trazer sugestões de tratamento editorial e prever custos e prazo de produção.
- (D) as pautas de notícias destinam-se aos veículos eletrônicos e digitais e as de reportagem aos impressos.
- (E) as pautas de notícias trazem obrigatoriamente sugestões de fotografias, imagens em vídeo e infográficos e as de reportagens não contemplam apoios visuais.

46

Ao avaliar os tipos de entrevistas jornalísticas, professor Nilson Lage as reúne em dois grandes grupos: o primeiro norteado pelos objetivos das entrevistas e o segundo, por suas circunstâncias de realização.

Pertencem à segunda classificação, as entrevistas listadas a seguir, **à exceção de uma**. Assinale-a.

- (A) Dialogais.
- (B) Em profundidade.
- (C) Ocasionais.
- (D) Coletivas.
- (E) Confrontos.

47

O *Manual de Redação da Folha de São Paulo*, atualizado em 2021, reforça algumas orientações clássicas e para a redação dos títulos noticiosos, que devem

- (A) usar estratégias de caça-cliques, tais como omissões que possam iludir o leitor desavisado.
- (B) dar preferência a construções frasais em voz passiva e usar pontos de exclamação para impactar o leitor;
- (C) começar com artigos definidos e inseri-los sempre que possível ao longo da frase.
- (D) redigir a frase em ordem indireta e usar tempos verbais no pretérito perfeito.
- (E) evitar o uso de siglas pouco conhecidas e/ou mais de uma sigla no mesmo título.

48

Em junho de 2023, a Associação Brasileira de Comunicação Empresarial apresentava os resultados da quarta edição da pesquisa *Tendências da Comunicação Organizacional*.

Leia o trecho que se refere aos canais de comunicação utilizados.

*A pesquisa aponta que para a maioria dos participantes (73%), a estrutura atual dos canais de comunicação, do ponto de vista da organização, atende de forma parcial as necessidades da comunicação e que os canais mais utilizados para se comunicarem com seu público externo, pelas áreas de Comunicação das empresas participantes, são: as redes sociais (87%), os jornais online (53%), o portal corporativo (47%), as feiras e eventos (40%), as revistas online (38%) e os jornais impressos (36%). Entre os canais menos utilizados destacam-se: os aplicativos para dispositivos móveis – app (10%), os blogs/fóruns online (12%), o rádio (14%), os influenciadores (16%).*

*Já para o público interno, os canais mais utilizados são: o portal corporativo (68%), o canal digital de conteúdo próprio (55%), as redes sociais (51%), os aplicativos para dispositivos móveis – app (37%) e as feiras e eventos (24%). Entre os canais menos utilizados destacam-se: o whatsapp (4%), as revistas de notícias impressas (6%), os blogs/fóruns online (7%), as revistas online (10%) e os influenciadores (10%).*

Com base nos resultados apresentados é possível perceber que

- (A) o portal corporativo é mais utilizado pelo público externo e pelos influenciadores do que pelo público interno.
- (B) as feiras e eventos tem uso mais significativo para o público interno, sendo uma estratégia pouco indicada para o externo.
- (C) o público interno recebe comunicações prioritariamente pelos *apps* de mensageria.
- (D) entre os canais mais utilizados para a comunicação estão as redes sociais, sobretudo para com o público externo.
- (E) veículos impressos e *blogs* e fóruns de discussão online tem participação significativa nos canais de comunicação.

49

A obra de arte na era de sua reprodutibilidade técnica é um dos textos mais conhecidos do teórico Walter Benjamin, no qual ele

- (A) discute os impactos de tecnologias como a fotografia e o cinema sobre a aura das obras de arte.
- (B) defende que as reproduções fiéis de uma obra de arte tenham o mesmo valor da obra original.
- (C) afirma que as obras de arte só puderam ser reproduzidas com o advento das linguagens técnicas como a fotografia.
- (D) afirma que, com a reprodutibilidade técnica, as falsificações de obras de arte feitas manualmente recobram a sua aura
- (E) propõe que aura inerente às obras de arte está presente também em suas reproduções.

50

Ao propor o modelo de Comunicação Integrada, a professora Margarida Kunsch destaca a comunicação interna, que é marcada por

- (A) ser planejada pelo CEO da companhia, sem levar em conta a comunicação administrativa e a externa, pois serve de base para a construção dos demais elementos do modelo.
- (B) focar-se na divulgação publicitária dos produtos e serviços da empresa, subordinando-se ao marketing de negócios.
- (C) produzir *house organs*, que destaquem apenas os pontos positivos da empresa e negativos da concorrência para fidelizar o público interno.
- (D) ser uma ferramenta estratégica para compatibilização dos interesses dos empregados e da empresa através do estímulo ao diálogo e à participação nos diversos níveis empresariais.
- (E) ser produzida e disseminada de modo descentralizado pelos diversos setores da empresa como forma de reivindicação de melhores condições de trabalho.

51

Apesar de o telejornalismo ser marcado pelo uso das imagens, em algumas circunstâncias, quando há uma notícia importante de última hora, ou quando não foi possível captar imagens é necessário que o apresentador do telejornal dê toda a informação relevante sem a cobertura de imagens.

Esse recurso é conhecido como

- (A) Nota coberta.
- (B) Nota pé.
- (C) *Off*.
- (D) Cabeça.
- (E) Nota Pelada.

52

O modelo do *News Diamond*, proposto por Paul Bradshaw, mostra como uma grande notícia pode passar por uma redação convergente, da velocidade à profundidade, em algumas etapas, **à exceção de uma**. Assinale-a.

- (A) Contexto.
- (B) Interatividade.
- (C) Customização.
- (D) Alerta.
- (E) Checagem.

53

Com as novas tecnologias digitais, os papéis do assessor de imprensa e as rotinas das assessorias passaram por transformações.

Sobre elas, avalie as afirmativas a seguir.

- I. Mídias sociais são ambientes unicamente de conflitos e enfrentamentos, cabendo ao assessor, diante da aspereza do interlocutor, agir no mesmo tom, publicamente e com firmeza.
- II. O advento das novas plataformas digitais gerou uma reconfiguração da imprensa, aumentando a influência dos veículos jornalísticos tradicionais, que devem ter prioridade absoluta no atendimento da assessoria.
- III. Antes, o assessor se relacionava com o jornalista para alcançar a sociedade, agora, com as mídias digitais, também informa diretamente um público final mais amplo.

Está correto o que se afirma em

- (A) I, apenas.
- (B) II, apenas.
- (C) III, apenas.
- (D) I e III, apenas.
- (E) I, II e III.

54

Uma das principais funções do assessor de imprensa é garantir uma boa convivência com os jornalistas, oferecendo um atendimento adequado às demandas dos profissionais.

Para isso, ele deve ter uma série de atributos, à exceção de um. Assinale-o.

- (A) Ter acesso fácil ao corpo dirigente da empresa, de modo a garantir agilidade nos processos de resposta aos jornalistas.
- (B) Conhecer bem a organização para qual trabalha de modo a oferecer pautas interessantes para imprensa e empresa.
- (C) Conhecer as rotinas produtivas da imprensa e a linha editorial dos veículos de mídia.
- (D) Distribuir brindes a cada contato com os jornalistas, sobretudo em processos de gerenciamento de crises;
- (E) Atuar como mediador qualificado para garantir atendimento rápido e personalizado aos jornalistas.

55

Sobre a organização de entrevistas coletivas, analise as afirmativas a seguir.

- I. As entrevistas coletivas devem ser organizadas quando há necessidade de reunir jornalistas de vários veículos, ao mesmo tempo, para passar informações relevantes e de interesse público imediato.
- II. A entrevista coletiva pode ser realizada em qualquer local da empresa escolhido pelos veículos de mídia, tendo apenas o cuidado de oferecer tomadas suficientes para atender aos equipamentos dos profissionais de TV.
- III. O sucesso de uma entrevista coletiva depende de uma boa preparação da fonte para responder apenas as perguntas positivas sobre a empresa, as demais devem ser excluídas da pauta e direcionadas posteriormente ao assessor.

Está correto o que se afirma em

- (A) I, apenas.
- (B) II, apenas.
- (C) III, apenas.
- (D) I e III, apenas.
- (E) I, II e III.

56

A atividade que consiste em monitorar, sistemática e rotineiramente, veículos de comunicação para identificar as citações sobre a organização ou temas previamente determinados, organizá-las, avaliá-las e encaminhar ou disponibilizar os resultados para conhecimento dos interessados é conhecida como

- (A) *follow up*.
- (B) *clipping*.
- (C) *release*.
- (D) *briefing*.
- (E) *mailing*.

57

Uma publicação empresarial, para atingir o público interno, além de tratar dos assuntos que efetivamente interessam aos funcionários, deve adotar uma abordagem adequada, que segundo House (1997) se concentra em cinco atitudes, que podem ser aplicadas tanto aos veículos quanto à comunicação face a face, a saber:

1. Atitude respeitosa
2. Atitude honesta
3. Atitude aberta
4. Atitude oportuna
5. Atitude receptiva

Cada uma dessas atitudes pode ser exemplificada de uma forma.

- ( ) Partir do princípio de que informar assuntos relevantes não prejudica a empresa, por isso é preciso saber o motivo de uma informação ser confidencial antes de se decidir por não a compartilhar com os empregados.
- ( ) Ouvir reclamações sem resistência e deixar claro que os funcionários, suas dúvidas e opiniões tem espaço nos veículos da empresa.
- ( ) Nos veículos de informação, usar linguagem profissional e objetiva, afastando atitudes paternalistas ou que indiquem que é a empresa que sabe o que é melhor para seus funcionários;
- ( ) Os empregados nunca devem ser surpreendidos por conteúdos de campanhas publicitárias ou reportagens, pois se sentem desrespeitados por não serem os primeiros a saber o que acontece na empresa.
- ( ) Conquistar credibilidade pela divulgação correta dos fatos, mesmo quando eles forem problemáticos ou trouxerem insatisfação para os funcionários.

Assinale a opção que apresenta a correta correspondência correta entre as atitudes e suas características, segundo a ordem apresentada.

- (A) 2 – 5 – 1 – 3 – 4.
- (B) 3 – 5 – 1 – 4 – 2.
- (C) 2 – 3 – 5 – 4 – 1.
- (D) 3 – 4 – 2 – 5 – 1.
- (E) 5 – 3 – 4 – 1 – 2.

58

Os autores José Marques de Melo e Francisco de Assis definem gênero jornalístico como uma categoria que agrupa diferentes formatos com características comuns e desempenha uma função social.

Eles listam cinco gêneros jornalísticos e suas respectivas funções, a saber:

- Gênero informativo: vigilância social;
- Gênero opinativo: fórum de ideias;
- Gênero interpretativo: papel educativo e esclarecedor;
- Gênero diversional: distração e lazer;
- Gênero utilitário: auxílio nas tomadas de decisões cotidianas

De acordo com a "Classificação Marques de Melo", provavelmente uma das mais difundidas no Brasil, os formatos: 1. Perfil; 2. Caricatura; 3. Nota pertencem respectivamente aos gêneros

- (A) diversional, interpretativo e utilitário.  
 (B) opinativo, diversional e informativo.  
 (C) interpretativo, opinativo e informativo.  
 (D) informativo, interpretativo e opinativo.  
 (E) interpretativo, diversional e utilitário.

59

Leia o último parágrafo do texto publicado em 2020 na versão online do *El País* e intitulado:

**Aborto, um sentimento de alívio,**

*Por Débora Diniz e Giselle Carino*

*Por que falamos em alegria como sentimento para o aborto voluntário? Porque só uma mulher convicta de sua própria existência e projeto de vida se move contra a cadeia e o inferno para abortar em condições clandestinas na América Latina. O aborto é uma necessidade de vida para as mulheres, por isso quando uma mulher aborta ela se distancia das normas de gênero como um destino para desafiá-la em uma de suas táticas de controle do corpo das mulheres – a reprodução biológica –. Arriscamos dizer que as mulheres que abortam não são levianas, tampouco alienadas das normas sociais de gênero que insistem em colonizar nossos sentimentos com culpa, vergonha ou arrependimento. Ao contrário: as mulheres que abortam vivem a experiência singular de estranhar o patriarcado, e deslocam a maternidade do campo do destino da natureza para o da norma social. Por isso, imaginamos essas mulheres com a alegria da esperança e não sendo o aborto um trauma que seja também um alívio.*

(Débora Diniz é brasileira, antropóloga, pesquisadora da Universidade de Brown. Giselle Carino é argentina, cientista política, diretora da IPPF/WHR.)

Esse trecho faz parte de um(a)

- (A) notícia.  
 (B) artigo.  
 (C) reportagem.  
 (D) crônica.  
 (E) editorial.

60

Leia o trecho da reportagem publicada pelo IJNet, em 2023, com o título:

**Ferramentas de IA que todo jornalista precisa conhecer**

*Ferramentas de IA podem ser um recurso \_\_\_\_\_ para jornalistas, mas a supervisão \_\_\_\_\_ precisa ser garantida para evitar a publicação de dados imprecisos ou alegações que não são verdadeiras", alerta Colin Porlezza, diretor do Observatório Europeu de Jornalismo e professor-assistente de jornalismo digital da Universidade de Lugano. (...) Além disso, à medida que softwares de chat, como o ChatGPT, e geradores de imagens, como o \_\_\_\_\_ ou Midjourney, se tornam mais difundidos, eles trazem novos desafios ao controle da disseminação da \_\_\_\_\_. As audiências podem \_\_\_\_\_ a mídia tradicional, por exemplo, e em vez disso acessar informação por meio desses sistemas. "Isso pode comprometer muito do ecossistema de negócios de jornalismo existente e trazer um excesso de problemas como validação de fontes e \_\_\_\_\_ de publicações e jornalistas", diz Sejin Paik, PhD da Universidade de Boston especializada em comunicação mediada por IA e interação entre humanos e computadores.*

Assinale a opção que completa corretamente o texto acima.

- (A) Imprescindível – digital – Microsoft Copilot – sátira – incorporar – precificação.  
 (B) Indiferente – externa – Trint – desordem informacional – preterir – acessibilidade.  
 (C) Inacessível – Automatizada – Newswhip – informação – descartar – conduta ética.  
 (D) Contra-indicado – editorial – Eleven Labs – deepfake – preferir – confiabilidade.  
 (E) Inestimável – humana – DALL-E – desinformação – ignorar – credibilidade.

61

O professor Nilson Lage, ao apresentar as características do texto jornalístico, elenca alguns tipos de *leads*. Aquele que apresenta a ordenação dos elementos da proposição – quem/ o que, fez o que, quando, onde, como, porque/ para que – a partir da notação mais importante, com a exclusão do verbo é denominado *lead*

- (A) resumo.  
 (B) narrativo.  
 (C) moderno.  
 (D) clássico.  
 (E) *flash*.

62

Nelson Traquina apresenta com critérios contextuais dos valores-notícia de seleção aqueles que dizem respeito ao contexto de produção.

Nesse sentido, seriam valores-notícia de seleção os listados a seguir, à exceção de um. Assinale-o.

- (A) Dramatização – o reforço dos aspectos mais críticos e emocionais de um acontecimento de natureza conflituosa.  
 (B) Equilíbrio – quantidade de notícias sobre o acontecimento ou assunto que já foram publicadas há pouco tempo.  
 (C) Disponibilidade – facilidade de executar a cobertura do acontecimento.  
 (D) Visualidade – dispor de elementos visuais, como fotografias ou vídeos.  
 (E) Concorrência – ter um furo jornalístico, uma informação exclusiva.

63

Em 5 de novembro de 2021, o avião no qual estava a cantora Marília Mendonça e mais quatro pessoas sofreu um acidente. Sua assessoria de imprensa chegou a informar que a cantora estava bem, mas logo depois os bombeiros comunicaram a morte de todos que estavam a bordo. A Globonews fez uma cobertura ao vivo do caso, pela qual foi muito criticada, pois mostrou nitidamente o momento em que Marília foi retirada sem vida do avião. Logo depois, os jornalistas entraram no avião para mostrar os pertences da cantora que lá permaneceram.

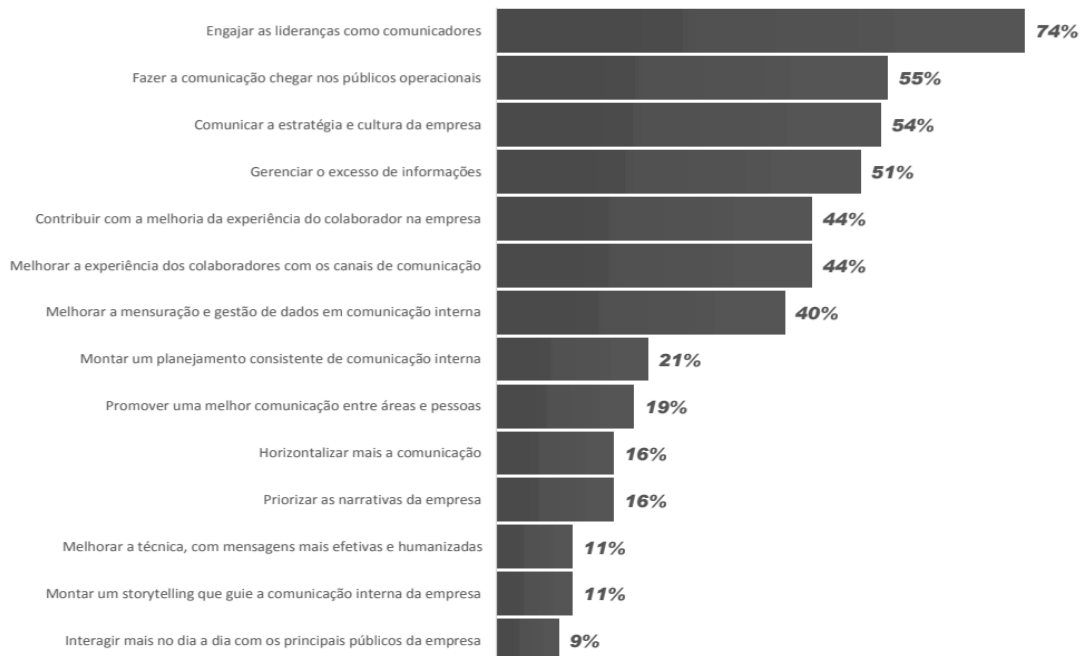
Entre os preceitos do Código de Ética do Jornalista Brasileiro que podem embasar essas críticas está o fato de que o jornalista

- (A) está autorizado a invadir a intimidade e a privacidade do cidadão desde que ele seja uma figura pública.
- (B) não deve divulgar imagens de caráter mórbido ou sensacionalista em cobertura de crimes e acidentes.
- (C) deve respeitar o sigilo da fonte e não expor pessoas ameaçadas de morte.
- (D) não pode divulgar imagens obtidas com o uso de identidades falsas, câmeras escondidas ou microfones ocultos.
- (E) deve informar claramente quando suas matérias tiverem caráter publicitário, pois a artista era da Som Livre.

65

O gráfico a seguir integra o relatório *Pesquisa de Tendências em Comunicação Interna 2023*, disponibilizado pela Associação Brasileira de Comunicação Empresarial – Aberje.

#### Principais desafios da Comunicação Interna nas empresas para 2023



Com base nele, identifica-se que ainda há uma dificuldade significativa em

- (A) limitar o acesso dos públicos operacionais às informações relevantes para a empresa;
- (B) guiar a comunicação interna das empresas através de um *storytelling* bem montado;
- (C) evitar que as lideranças participem diretamente dos processos de comunicação interna;
- (D) lidar com a escassez de informações que devem ser comunicadas na empresa;
- (E) comunicar internamente com clareza a estratégia e a cultura da empresa.

**LEGISLAÇÃO INSTITUCIONAL****66**

Nos termos da Constituição do Estado do Tocantins, constitui objeto de lei complementar a seguinte matéria:

- (A) os prazos de prescrição para ilícitos praticados por qualquer agente, servidor ou não, que causem prejuízos ao erário.
- (B) os limites de idade, a estabilidade e outras condições de transferência do servidor militar para a inatividade.
- (C) os casos de contratação por tempo determinado para atender à necessidade temporária de excepcional interesse público.
- (D) as regras para cálculo de proventos de aposentadoria e pensão por morte.
- (E) os requisitos e as restrições ao ocupante de cargo ou emprego da administração direta e indireta que possibilite o acesso a informações privilegiadas.

**67**

Considerando o exercício da função legislativa por parte da Assembleia Legislativa de Tocantins, nos termos de seu Regimento Interno, é correto afirmar que

- (A) projetos de lei delegada podem se destinar a regular as matérias de exclusiva competência do Poder Executivo, com a sanção do Governador do Estado.
- (B) projetos de resolução podem se destinar a regular, com eficácia de lei ordinária, matéria de competência privativa da Assembleia Legislativa.
- (C) projetos de lei complementar visam regular matéria infraconstitucional.
- (D) projetos de lei têm por objetivo regular matérias de competência do Poder Legislativo, sem a sanção do Governador do Estado.
- (E) projetos de decreto legislativo destinam-se à delegação de competência, na forma estabelecida na Constituição Estadual.

**68**

Aline, servidora pública estadual, revelou segredo do qual se apropriou em razão do cargo que ocupa. A Administração Pública, ao tomar conhecimento do fato, instaurou procedimento administrativo disciplinar a fim de apurar a conduta e garantir à servidora os princípios da ampla defesa e do contraditório.

À luz do Estatuto dos Servidores Públicos Cíveis do Estado do Tocantins, caso punida, Aline poderá ser sancionada com

- (A) advertência.
- (B) suspensão.
- (C) prestação de serviço.
- (D) multa.
- (E) demissão.

**69**

Ana, servidora pública efetiva e estável, ocupante de cargo de nível superior, objetivando inteirar-se sobre os requisitos para a progressão na carreira, consultou a Lei nº 4.208/2023, que trata sobre o plano de cargos, carreiras e remuneração dos Servidores da Assembleia de Tocantins.

Assim, para fazer jus à progressão, Ana terá que

- (A) possuir no máximo três faltas injustificadas por exercício referente ao período avaliado.
- (B) obter conceito igual ou superior a 70% (setenta por cento) dos pontos possíveis em todos os procedimentos de sua Avaliação.
- (C) concluir curso de pós-graduação *lato sensu* com duração mínima de 360 (trezentos e sessenta) horas.
- (D) cumprir trinta meses de efetivo exercício na classe em que se encontra.
- (E) concluir cursos de aperfeiçoamento em sua área de atuação que tenha, no mínimo, 80 (oitenta) horas de duração.

**70**

Antônio foi nomeado para o cargo de Controlador Interno da Assembleia Legislativa de Tocantins.

À luz da Lei nº 4.209/2023, que dispõe sobre a estrutura administrativa da Aletto, durante o exercício da função, Antônio será competente para:

- (A) opinar, conclusivamente, em processos de direitos, deveres e obrigações dos servidores do Poder Legislativo.
- (B) constituir Comissão Permanente de Licitação.
- (C) examinar a observância das normas de licitações.
- (D) apresentar à Mesa Diretora o balancete mensal e, no início de cada exercício, o balancete geral das contas da Assembleia Legislativa, relativo ao exercício anterior.
- (E) planejar, coordenar, orientar, controlar e dirigir as atividades administrativas, orçamentárias, financeiras, de comunicação social, de tecnologia de informação e de apoio legislativo da Assembleia Legislativa.

## REDAÇÃO

A tarefa de escrever bem parece ser um problema sério: escrever bem é escrever de forma correta, é escrever de forma culta e elaborada, é escrever de forma adequada à situação, é escrever como os literatos? E o que pode fazer para chegar-se a escrever bem? É preciso que os funcionários de uma assembleia legislativa escrevam bem, qual a importância disso para os trabalhos aí realizados? Para dinamizar o trabalho, seria conveniente adotar a língua escrita da Internet?

*Todas essas questões devem ser respondidas num texto-dissertativo-argumentativo de, aproximadamente, 30 (trinta) linhas, em língua culta, dando especial atenção à adequada estruturação do texto e aos argumentos apresentados.*

1

2

3

4

5

6

7

8

9

10

11

12

13

14

15

16

17

18

19

20

21

22

23

24

25

26

27

28

29

30





# ASSEMBLEIA LEGISLATIVA DO ESTADO DO TOCANTINS

CONCURSO PÚBLICO – EDITAL Nº 01/2023

## PROVA OBJETIVA – TARDE

### ANALISTA LEGISLATIVO MEDICINA

NÍVEL SUPERIOR – TIPO 1 – BRANCA



#### SUA PROVA

- Além deste caderno contendo **70 (setenta)** questões objetivas, você receberá do fiscal de prova o cartão de respostas;
- As questões objetivas têm **5 (cinco)** opções de resposta (A, B, C, D) e somente uma delas está correta.



#### TEMPO

- Você dispõe de **5 (cinco) horas** para a realização da prova, já incluído o tempo para a marcação do cartão de respostas;
- **3 (três) horas** após o início da prova, é possível retirar-se da sala, sem levar o caderno de questões;
- A partir dos **30 (trinta) minutos** anteriores ao término da prova é possível retirar-se da sala **levando o caderno de questões**.



#### NÃO SERÁ PERMITIDO

- Qualquer tipo de comunicação entre os candidatos durante a aplicação da prova;
- Anotar informações relativas às respostas em qualquer outro meio que não seja o caderno de questões;
- Levantar da cadeira sem autorização do fiscal de sala;
- Usar o sanitário ao término da prova, após deixar a sala.



#### INFORMAÇÕES GERAIS

- Verifique se seu caderno de questões está completo, sem repetição de questões ou falhas. Caso contrário, **notifique imediatamente o fiscal da sala**, para que sejam tomadas as devidas providências;
- Confira seus dados pessoais, especialmente nome, número de inscrição e documento de identidade e leia atentamente as instruções para preencher o cartão de respostas;
- Para o preenchimento do cartão de respostas, use somente caneta esferográfica, fabricada em material transparente, com tinta preta ou azul;
- Assine seu nome apenas no(s) espaço(s) reservado(s) no cartão de respostas;
- Confira seu cargo, cor e tipo do caderno de questões. Caso tenha recebido caderno de cargo ou cor ou tipo **diferente** do impresso em seu cartão de respostas, o fiscal deve ser **obrigatoriamente** informado para o devido registro na ata da sala;
- Reserve tempo suficiente para o preenchimento do seu cartão de respostas. O preenchimento é de sua responsabilidade e **não será permitida a troca do cartão de respostas em caso de erro cometido pelo candidato**;
- Para fins de avaliação, serão levadas em consideração apenas as marcações realizadas no cartão de respostas;
- A FGV coletará as impressões digitais dos candidatos na lista de presença;
- Os candidatos serão submetidos ao sistema de detecção de metais quando do ingresso e da saída de sanitários durante a realização das provas.
- **Boa prova!**

## CONHECIMENTOS BÁSICOS

### Língua Portuguesa

1

Observe o seguinte texto:

*Quando entrei no terrível vagão, ele estava ocupado por duas pessoas. Uma, dobrada, coberta, dormia profundamente. A coberta superior estava manchada, de fundo amarelado, como pele de leopardo. Vendem-se muitas mantas assim nas lojas de artigos de viagens, mas pude notar logo depois que se tratava realmente da pele de um animal selvagem; do mesmo modo, o boné da pessoa adormecida me pareceu ser de feltro branco bastante delicado. O outro viajante, uma aparência simpática, parecia ter passado dos trinta anos e mostrava-se como figura insignificante que passa confortavelmente as noites em estradas de ferro.*

Nesse fragmento textual, para criar sinais de história realista e verdadeira, o narrador apela para a seguinte estratégia:

- (A) seleciona uma situação banal da qual não precisa fornecer muitos detalhes, exatamente por sua banalidade.
- (B) fornece algumas marcas caracterizadoras dos dois personagens presentes no texto, destacando sua banalidade.
- (C) indica traços descritivos do ambiente, mostrando-o como se nada houvesse nele de excepcional.
- (D) mostra detalhes variados e bastante pitorescos dos objetos descritos.
- (E) dá ao leitor informações sobre personagens e ambiente, mostrando-os como bastante conhecidos do narrador.

2

Assinale a frase que mostra a palavra *mais* numa classe gramatical **diferente** das demais.

- (A) O mercado está prisioneiro de mais um círculo vicioso: piora porque piorou e porque piorou, piora.
- (B) Os ingleses conquistaram o mundo porque não aguentavam mais a própria cozinha.
- (C) Quanto mais vejo o estrangeiro, mais amo a minha pátria.
- (D) Não é mais possível aprender tudo de cor. Um homem instruído não é mais o homem que sabe muitas coisas; é o homem que sabe onde buscar informações.
- (E) Muda-se mais facilmente de religião do que de café

3

As frases a seguir mostram termos ligados pela conjunção OU.

Assinale a frase em que essa conjunção mantém o valor de alternativa (e não de adição).

- (A) João ou Pedro deve ser eleito presidente da empresa.
- (B) A alegria ou a tristeza fazem parte da vida.
- (C) Inglês ou francês são idiomas falados pelos turistas
- (D) Os clientes leem livros ou revistas enquanto esperam.
- (E) Vasco ou Flamengo são times de longa tradição.

4

Um guitarrista americano produziu o seguinte pensamento:

*O crítico de rock é alguém que não sabe escrever, entrevistando gente que não sabe falar, para gente que não sabe ler.*

Sobre a estruturação ou a significação desse pequeno texto, assinale a afirmativa **incorreta**.

- (A) O termo “de rock” funciona como complemento nominal do termo anterior.
- (B) Todos os elementos da cadeia comunicativa citados no texto são marcados pela ignorância.
- (C) O pensamento acima revela um preconceito fortíssimo contra os amantes de rock.
- (D) A opinião expressa no texto pode advir da experiência pessoal do autor, já que se trata de um guitarrista.
- (E) A injustiça desse texto provém de ser uma opinião fundamentada em uma autoridade duvidosa.

5

John Steinbeck, prêmio Nobel, declarou o seguinte:

*O homem é o único animal que bebe sem ter sede, come sem ter fome e fala sem ter nada a dizer.*

Em relação ao significado e à estruturação desse pequeno texto, assinale a afirmativa **incorreta**.

- (A) A frase ficaria mais enfática se invertêssemos a posição do termo inicial: O único animal que bebe sem ter sede, come sem ter fome e fala sem ter nada a dizer é o homem.
- (B) A inversão de alguns segmentos do texto em nada modificaria o sentido da frase: O homem é o único animal que come sem ter fome, bebe sem ter sede e fala sem ter nada a dizer.
- (C) Os segmentos finais do texto mostram preocupação com rigoroso paralelismo sintático.
- (D) Segundo a opinião do autor do texto, a marca principal do homem é a irracionalidade.
- (E) Nem todas as ações citadas como marcas humanas estão presentes, por oposição, nos outros animais.

6

Assinale a frase que **não** expressa uma noção de tempo abstrato.

- (A) Nas asas do tempo, a tristeza voa.
- (B) Quem mata o tempo não é assassino, é suicida.
- (C) O tempo perdido não se encontra nunca mais.
- (D) O tempo é o melhor professor. Infelizmente, ele mata todos os seus estudantes
- (E) O tempo gasto na viagem foi de duas horas.

7

Assinale a frase em que a utilização do acento grave indicativo da crase é realizada de forma **errada**.

- (A) Jamais alguém se arrependeu de ter-se acostumado à madrugada e à ter-se casado jovem.
- (B) Tempo é o suspiro de adeus do sol à terra.
- (C) Saio todos os dias às cinco horas e não permito que o meu trabalho interfira no meu jogo de tênis.
- (D) O momento de extrair uma lição da história está sempre à mão para os sábios.
- (E) Quando assumi, quatro anos atrás, estávamos à beira do precipício.

8

Os adjetivos podem representar estados, qualidades, características e relações.

Assinale a frase que mostra um tipo de adjetivo **diferente** dos demais.

- (A) Nunca houve criança tão amável que a própria mãe não ficasse satisfeita ao conseguir adormecê-la.
- (B) Nada mais perversamente cruel que uma adorável criança.
- (C) Mesmo estando doentes, as crianças não ficam caladas.
- (D) Quando as crianças estão quietas é porque fizeram alguma coisa errada.
- (E) As tangerinas verdes não amadurecem fora do pé.

9

Assinale a frase em que o adjetivo sublinhado mostra uma função sintática **diferente** das demais.

- (A) Por fora bela viola, por dentro pão bolorento.
- (B) Tiradentes, heroico, tentou organizar uma revolução.
- (C) Um rosto bonito altera-se depressa.
- (D) Eu não podia acreditar que existem múmias tão lindas.
- (E) Um homem belo é um homem insignificante.

10

Assinale a opção que mostra uma impropriedade léxica, ou seja, um emprego **inadequado** da expressão “cerca de”.

- (A) Havia cerca de três dúzias de convidados no final da festa.
- (B) Chegaram cerca de 100 cartas no mesmo dia.
- (C) Cerca de 18 lojas fecharam as portas mais cedo.
- (D) Os cantores receberam cerca de uma centena de convites.
- (E) A plantação produziu cerca de uma tonelada de legumes.

11

Muitas palavras portuguesas mostram o prefixo A- sem qualquer valor semântico, sendo equivalentes ao mesmo vocábulo sem esse prefixo.

Assinale a palavra a seguir que exemplifica esse A protético.

- (A) amostrar
- (B) abraçar
- (C) atenuar
- (D) aguardar
- (E) aparar

12

Observe o seguinte texto:

*A felicidade depende da habilidade que tenhamos naquelas atividades que consideramos importantes: somente se lhes damos um real valor aos pequenos detalhes cotidianos, poderemos ter instantes felizes. A felicidade absoluta não existe, e já que só podemos acessar os pequenos detalhes daquilo que nos interessa, devemos contentar-nos com isso. Por isso, a infelicidade é um sinal claro de nossa incompetência na arte de viver.*

Sobre a estrutura e a significação desse texto, assinale a afirmativa **inadequada**.

- (A) O tema do texto gira em torno do que consiste a felicidade e o que viria a ser o seu oposto.
- (B) A afirmação de que “A felicidade absoluta não existe” é de cunho pessoal do autor do texto, representando uma opinião.
- (C) O raciocínio utilizado na estruturação argumentativa é do tipo dedutivo.
- (D) O conector “Por isso” mostra a preocupação com o caráter lógico da argumentação.
- (E) A tese do texto é a de que a infelicidade é fruto de nossa incompetência na arte de viver.

## Raciocínio Lógico Matemático

13

Certo programa de rádio tem 1 hora e 55 minutos de duração. A partir do momento em que o programa é iniciado, há blocos temáticos de 7 minutos intercalados por blocos de propagandas de 2 minutos.

Em todos os blocos de propaganda, ouve-se o comercial do restaurante R, que sempre dura 18 segundos.

Se o programa começa e termina com um bloco temático, então, o tempo total do programa dedicado ao anúncio do restaurante R é

- (A) 3 minutos e 54 segundos.
- (B) 3 minutos e 36 segundos.
- (C) 3 minutos e 18 segundos.
- (D) 3 minutos.
- (E) 2 minutos e 48 segundos.

14

A linha de produção de certa fábrica produz 1100 latas de sardinhas a cada hora. Certo dia, por um defeito de calibragem do sistema, entre 13h e 14h, o volume de produção foi reduzido em 30% durante exatos 12 minutos.

A quantidade de latas de sardinhas produzidas no intervalo supracitado foi

- (A) 946.
- (B) 964.
- (C) 1022.
- (D) 1034.
- (E) 1046.

15

Marcelo está parado de frente para uma das paredes de uma sala quadrada. Nesta posição, ele está a 1m e 20cm da parede que se encontra à sua direita e a 1m e 70cm da parede que está às suas costas.

Ele, então, se desloca paralelamente às paredes da sala sendo 40cm para a frente e 80cm para a direita. Nessa nova posição, ele passou a distar 1m e 90cm da parede que antes estava à sua esquerda.

Desprezando-se as dimensões de Marcelo, a sua atual distância à parede que, antes dos movimentos, estava à sua frente, é

- (A) 20cm.
- (B) 30cm.
- (C) 40cm.
- (D) 50cm.
- (E) 60cm.

**16**

Um dado é dito comum quando tem a forma de um cubo e suas 6 faces são numeradas de 1 a 6, de tal forma que a soma dos números estampados em faces opostas, quaisquer que sejam elas, sempre somam 7.

Quando um dado comum é lançado, diz-se que o resultado do lançamento é o número estampado na face voltada para cima.

Um dado foi lançado 3 vezes seguidas. Se o produto dos resultados obtidos nos lançamentos vale 75, a soma desses resultados é igual a

- (A) 12.
- (B) 13.
- (C) 14.
- (D) 15.
- (E) 16.

**17**

Em certo ano, o dia 1º de agosto cai em um domingo. Logo, o dia 1º de novembro cairá em

- (A) um sábado.
- (B) um domingo.
- (C) uma segunda-feira.
- (D) uma quarta-feira.
- (E) uma sexta-feira.

**18**

Considere a seguinte proposição condicional:

*Se todos os alunos da Escola Aristarco gostam de matemática, então, ao menos um deles ganha medalha na Olimpíada Nacional de Matemática.*

Se essa proposição é verdadeira, é correto afirmar que

- (A) se nenhum dos alunos da Escola Aristarco gosta de Matemática, então nenhum deles ganha medalha na Olimpíada Nacional de Matemática.
- (B) se todos os alunos da Escola Aristarco ganham medalha na Olimpíada Nacional de Matemática, então, todos esses alunos gostam de Matemática.
- (C) se algum aluno da Escola Aristarco ganha medalha na Olimpíada Nacional de Matemática, então todos esses alunos gostam de Matemática.
- (D) se nenhum aluno da Escola Aristarco ganha medalha na Olimpíada Nacional de Matemática, então nenhum desses alunos gosta de Matemática.
- (E) se nenhum aluno da Escola Aristarco ganha medalha na Olimpíada Nacional de Matemática, então algum desses alunos não gosta de Matemática.

**19**

Em uma caixa, há muitas canetas esferográficas. Classificadas conforme a cor, elas podem ser azuis, vermelhas ou pretas. Classificadas quanto à espessura da esfera, elas podem ser de ponta fina ou de ponta grossa.

Metade das canetas vermelhas tem a ponta grossa. A quantidade total de canetas pretas é igual à quantidade total de canetas vermelhas. Entre as canetas de ponta grossa, a quantidade de azuis é igual à de pretas. A quantidade de canetas azuis com ponta fina é o dobro da quantidade de canetas pretas de ponta grossa.

Se, nessa caixa, 18 são azuis e 20 têm ponta grossa, então a quantidade total de canetas na caixa é

- (A) 30.
- (B) 40.
- (C) 48.
- (D) 50.
- (E) 52.

**20**

Tucídides possuía uma dívida e, em vez de quitá-la, pagou apenas 20% do seu valor, deixando o restante para ser quitado em data futura, com acréscimo de 12% a título de juros sobre o saldo devedor.

No ato de quitação, Tucídides pagou R\$2.329,60. Logo, o valor original da dívida é o resultado da seguinte expressão:

(A)  $2.329,60 \times 0,88 - 20$

(B)  $\frac{2.329,60}{0,88} \times 1,20$

(C)  $\frac{2.329,60}{1,12} \times 1,20$

(D)  $\frac{2.329,60}{1,12 \times 1,20}$

(E)  $\frac{2.329,60}{1,12 \times 0,8}$

**21**

As filhas de Nepomuceno têm 5 e 9 anos de idade. Ele dividirá R\$420,00 entre elas de forma inversamente proporcional às suas idades.

Logo

- (A) a mais nova receberá R\$120,00 a mais que a mais velha.
- (B) a mais nova receberá R\$150,00 a mais que a mais velha.
- (C) a mais nova receberá R\$270,00 a mais que a mais velha.
- (D) a mais velha receberá R\$120,00 a mais que a mais nova.
- (E) a mais velha receberá R\$150,00 a mais que a mais nova.

**22**

A negação da proposição:

$$\text{Se } y \neq 0, \text{ então } x > 2 \text{ e } x \leq 5$$

é dada por

- (A) Se  $y = 0$ , então  $x > 2$  e  $x \leq 5$
- (B) Se  $y = 0$ , então  $x < 2$  ou  $x \geq 5$
- (C)  $y = 0$  e  $x \leq 2$  ou  $x > 5$
- (D)  $y \neq 0$  e  $x \leq 2$  ou  $x > 5$
- (E)  $y \neq 0$  e  $x \leq 2$  e  $x > 5$

## Atualidades

23

De acordo com o censo demográfico de 2022 (IBGE), mais da metade da população brasileira (51,13%) é feminina, e elas representam, segundo o Tribunal Superior Eleitoral, 53% do eleitorado. No entanto, elas ocupam, hoje, menos de 15% dos cargos eletivos.

A respeito da baixa participação das mulheres na política, assinale a afirmativa que apresenta um dispositivo existente na legislação brasileira para alterar esse cenário.

- (A) Reserva de pelo menos 50% dos recursos do Fundo Especial de Financiamento de Campanha, o Fundo Eleitoral, para financiar candidaturas femininas.
- (B) Suspensão dos direitos eleitorais aos partidos em caso de não observância do percentual de pelo menos 30% de candidatas mulheres em cada ciclo eleitoral
- (C) Reserva de assentos, em ambas as casas legislativas, para mulheres, com preferência para as representantes de povos originários.
- (D) Cota de gênero, que obriga cada partido ou coligação a preencher o mínimo de 30% e o máximo de 70% de candidaturas de cada sexo.
- (E) Repasse de até 30% dos recursos dos Fundos Partidário para custear o tempo da propaganda eleitoral gratuita de candidatas em rádio e televisão.

24

A França se tornou o primeiro país do mundo a incluir na Constituição a liberdade de a mulher abortar. A mudança na Carta Magna foi aprovada em uma sessão conjunta das duas Casas legislativas, a Assembleia Nacional e o Senado, e será promulgada pelo presidente Emmanuel Macron ainda em março de 2024.

Adaptado de <https://www1.folha.uol.com.br/mundo/2024/03/>

Diferentemente da França, a legislação brasileira

- (A) equipara o aborto ao infanticídio.
- (B) considera o aborto uma prática ilegal em todas as situações.
- (C) descriminaliza a interrupção da gravidez em caso de deficiência da gestante.
- (D) estabelece um limite temporal para interromper a gravidez, desde que respaldada por laudo médico.
- (E) autoriza a interrupção de gestação em caso de não haver outro meio de salvar a vida da gestante.

25

Desde os anos 2000, o interior do Brasil ultrapassou o litoral na incidência de dengue. A região costeira que vai de Santos, em São Paulo, até Belém, no Pará, apresentava tipicamente maior proporção de casos de dengue em comparação com sua população. Entretanto, recentemente, o oeste do Paraná, o oeste de Santa Catarina o oeste de São Paulo, o interior de Minas Gerais, uma parte do Tocantins, o Goiás e o Mato Grosso do Sul viram a transmissão da doença aumentar e muitas de suas cidades foram obrigadas a decretar emergência.

Adaptado de <https://www.estadao.com.br>

A respeito dos fatores relacionados ao aumento e à interiorização dos casos de dengue no Brasil, analise as afirmativas a seguir.

- I. A maior frequência de períodos com temperaturas acima da média, inclusive com ondas de calor no período invernal em todo território, tem reforçado o padrão sazonal da doença.
- II. A expansão urbana desvinculada de melhoras nos serviços sanitários tem propiciado a formação de ilhas de calor e, portanto, uma alta na incidência da dengue.
- III. O desmatamento do cerrado, convertido em pasto, por exemplo, tem contribuído para aumentar a temperatura média e o número de casos da doença no interior do Brasil.

Está correto o que se afirma em

- (A) I, apenas.
- (B) I e II, apenas.
- (C) I e III, apenas.
- (D) II e III, apenas.
- (E) I, II e III.

26

As afirmativas a seguir descrevem corretamente o desempenho da economia brasileira em 2023, à exceção de uma. Assinale-a.

- (A) A expansão econômica ampliou a geração de empregos informais, em um contexto recessivo e de flexibilização das leis trabalhistas.
- (B) O dinamismo da economia foi marcado pelo aumento de exportações, no setor agrícola, e da demanda, no setor de serviços, em função da alta no consumo das famílias.
- (C) A alta progressiva nas cotações internacionais de commodities acelerou o ritmo das exportações, mesmo em um cenário cambial desfavorável para os exportadores.
- (D) A retração do Brasil no mercado regional e internacional ocorreu em função da maior competitividade dos produtos agrícolas argentinos e pela retomada da economia chinesa.
- (E) A persistência do alto nível da inflação foi ocasionada pela alta da cesta básica, sobretudo dos alimentos, cujas safras foram afetadas pelas condições climáticas adversas.

27

Em 2024, o Tribunal Superior Eleitoral (TSE) aprovou uma resolução para regulamentar o uso da inteligência artificial (IA) durante as eleições municipais a serem realizadas em outubro. A norma proíbe manipulações de conteúdo falso para criar ou substituir imagem ou voz de candidato com objetivo de prejudicar ou favorecer candidaturas. Também foi aprovada a restrição do uso de chatbots humanizados e avatares para intermediar a comunicação das campanhas com pessoas reais nas redes sociais.

Adaptado de <https://agenciabrasil.ebc.com.br/>

A resolução sobre IA objetiva

- (A) coibir a produção e circulação de *deepfakes*.
- (B) restringir o uso de ferramentas de IA simbólica.
- (C) retomar a veiculação de propagandas eleitorais em mídias tradicionais, como rádio e televisão.
- (D) proibir o uso de ferramentas de coleta e seleção em bases de dados com fins eleitorais.
- (E) limitar o uso de assistente virtual programado por AI para divulgação do programa partidário.

28

Assinale a afirmativa que descreve corretamente um aspecto do panorama global da economia em 2023.

- (A) Nos Estados Unidos, a economia foi alavancada pela adoção de uma política de ampliação do crédito e baixa da taxa de juros.
- (B) Na China, o PIB cresceu acima do esperado, em um cenário marcado pela retomada econômica pós pandemia, inclusive no setor imobiliário.
- (C) Na Zona do Euro, a alta dos preços da energia pesou nas despesas familiares e no setor industrial, confirmando a manutenção de um quadro de crise.
- (D) Na Rússia, o PIB decresceu, em função do impacto prolongado da guerra com a Ucrânia e dos embargos à venda de petróleo e gás russos.
- (E) Na América do Sul, foi mantido um caminho geral de crescimento, apoiado por investimentos externos e pela intensificação de políticas estatistas.

29

Um supercomputador consiste em milhares de pequenos computadores chamados nós. Cada nó é equipado com sua própria memória e com vários processadores. Atuando em conjunto, eles são capazes de realizar cálculos extremamente complexos em elevada velocidade. Hoje, o maior supercomputador da América Latina é o Pégaso, da Petrobras, com 678 TB de memória RAM e mais de 233 mil núcleos.

Adaptado de <https://revistapesquisa.fapesp.br>

A respeito do poder computacional de alto desempenho dos supercomputadores, analise as afirmativas a seguir e assinale (V) para a verdadeira e (F) para a falsa.

- ( ) Essas máquinas são instrumentos valiosos de pesquisa e de suporte a setores da economia como defesa, energia e saúde, permitindo a resolução de problemas complexos em menor tempo.
- ( ) Esses equipamentos permitem realizar tarefas que exigem altíssimos níveis de processamento, como simulações da formação do universo ou modelagem molecular para novos fármacos.
- ( ) Esses aparelhos trabalham em alta velocidade de processamento pelo somatório de diversos núcleos, o que potencializa a velocidades do processador, medidas em gigahertz (GHz).

As afirmativas são, respectivamente,

- (A) V – V – F.
- (B) V – F – V.
- (C) F – V – F.
- (D) F – V – V.
- (E) V – V – V.

30

No início do ano corrente, a Petrobras anunciou ter alcançado em 2023 o segundo maior valor de lucro líquido de sua história. Mesmo assim, suas ações caíram no mercado financeiro, em função da disputa sobre os dividendos.

A respeito dos resultados financeiros da Petrobras nos últimos anos e da política de distribuição de dividendos da empresa, assinale a afirmativa correta.

- (A) A Petrobras é uma empresa estatal de economia mista que monopoliza a indústria petroleira no Brasil.
- (B) A Petrobras é uma estatal administrada diretamente por órgãos governamentais que controlam o valor das suas ações.
- (C) A Petrobras direciona parte dos dividendos para investidores privados, e outra parte para o governo federal, que controla a empresa via Tesouro e BNDES.
- (D) A Petrobras, sob o Governo Bolsonaro, reduziu o pagamento de dividendos a acionistas privados para reinvesti-los em energia renovável.
- (E) A Petrobras, no atual governo, vendeu ativos e distribuiu o lucro e os valores recordes de dividendos entre seus acionistas para financiar projetos do BNDES.

31

Dados da última década mostram que, em relação aos Estados, o Pará é o que apresenta o maior número de registros de resgates de trabalho análogo à escravidão, com 9.853, seguido por Mato Grosso (4.302); Tocantins (2.896); São Paulo (1.529) e Rio de Janeiro (1.653), em 2017.

Adaptado de <https://www.jota.info/justica/em-14-anos-434-mil-foram-resgatados-de-trabalho-escravo-30102017>

A respeito da definição moderna de escravidão, analise as afirmativas a seguir.

- I. Em Tocantins, a maior incidência de escravidão moderna ocorre na zona rural, associada a atividades agropecuárias e ao extrativismo mineral, como nas carvoarias, por exemplo.
- II. A Organização Internacional do Trabalho determina a condição de escravidão por uma série de componentes, como o trabalho forçado análogo ao de escravo e o casamento forçado.
- III. Pessoas obrigadas a trabalhar por dívida ou por ameaça, sem direitos trabalhistas garantidos estão em situação de escravidão, uma vez que lhes é impedida a liberdade de ir e vir.

Está correto o que se afirma em

- (A) I, apenas.
- (B) I e II, apenas.
- (C) I e III, apenas.
- (D) II e III, apenas.
- (E) I, II e III.

32

Energia gerada por recursos naturais renováveis que, no Brasil, provém da lenha, carvão vegetal, carvão mineral, bagaço de cana e outros resíduos combustíveis. Essa energia é a matéria orgânica vegetal ou animal usada como fonte de energia limpa e sustentável.

O trecho descreve o seguinte componente importante do desenvolvimento sustentável:

- (A) compostagem.
- (B) biodiversidade.
- (C) créditos de carbono.
- (D) ciclo de vida.
- (E) biomassa.

## História e Geografia do Estado de Tocantins

33

Leia a descrição de uma classe de vegetação presente no estado do Tocantins, a seguir.

*Esta vegetação, também conhecida como floresta pluvial tropical, é caracterizada por árvores de porte elevado, além de trepadeiras lenhosas e epífitas (bromélias e orquídeas, por exemplo) em abundância, o que a diferencia de outras classes de formação vegetal. Sua característica ecológica principal é estar presente em ambientes de chuvas abundantes, como na parte noroeste do Estado, onde as temperaturas médias são de 25°C e os elevados índices de precipitação estão bem distribuídos ao longo do ano.*

Adaptado de Luís Antônio G. C. Silva. *Biomias presentes no Estado do Tocantins*. Brasília: Câmara dos Deputados, 2007, p. 4.

O trecho caracteriza a região conhecida como Floresta

- (A) Estacional Semidecidual.
- (B) Tropical Subcaducifólia.
- (C) de Mata Atlântica.
- (D) Ombrófila Densa.
- (E) Temperada Decidual.

34

Comparando dados dos censos do IBGE, pode-se elaborar um retrato da evolução demográfica da população residente no Estado de Tocantins. O grupo na faixa etária de 0 a 14 representava 41,7% da população em 1991, 28,8% em 2010, e passou para 24% em 2022. A população acima de 65 anos era de 3,8% em 1991 e 5,8% em 2010, e ficou em 8,6% em 2022. O censo de 2022 mostrou ainda que a faixa etária de 15 a 29 anos representa 15% da população e que 41% da população é composta por pessoas de 30 a 59 anos.

Com base no trecho, assinale a opção que apresenta a dinâmica populacional do Tocantins entre 1991 e 2022.

- (A) Expansão da base da pirâmide etária.
- (B) Diminuição da taxa de fecundidade.
- (C) Estreitamento do topo da pirâmide.
- (D) Aumento da idade mediana.
- (E) Redução do índice de envelhecimento.

35

*Foram inegáveis os desdobramentos socioeconômicos sobre o antigo Norte Goiano fruto da construção da rodovia BR-153, a partir do final da década de 1950. O novo urbanismo da Belém-Brasília trouxe enorme impacto no que se refere ao conjunto de cidades que existiam às margens do rio Tocantins, aos fluxos migratórios e às atividades econômicas da região.*

Adaptado de AQUINO, N. *Tocantins: cidades e urbanismo em três modelos históricos*. In: III Encontro da ANPPAS. Brasília, 2006, p. 8.

As afirmativas a seguir descrevem corretamente impactos da rodovia BR-153 no processo de territorialização do Tocantins, **à exceção de uma**. Assinale-a.

- (A) A rodovia foi construída no governo Kubitscheck, em um contexto desenvolvimentista que considerava a expansão rodoviária como um meio para integrar econômica e territorialmente as regiões do país, inclusive o norte goiano que, então, vivia uma situação de abandono.
- (B) A rodovia Belém-Brasília teve grande importância para a urbanização do atual Tocantins, o que é exemplificado pela quantidade de novas cidades criadas após a sua construção, como Araguaína, Gurupi, Paraíso do Tocantins, Colinas do Tocantins e Guaraí.
- (C) A construção da BR-153 alavancou também os municípios ribeirinhos, pois a navegação fluvial foi intensificada para abastecer as obras em curso, o que transformou esses municípios em satélites econômicos da nova malha urbana instalada ao longo da rodovia.
- (D) Após a abertura da rodovia, as principais áreas que receberam fluxos migratórios foram a Microrregião de Gurupi – Gurupi e a Microrregião de Porto Nacional – Palmas, para onde se dirigiram pessoas interessadas em trabalhar na construção civil, nos serviços e no comércio, entre outros.
- (E) A BR-153 permitiu interligar o norte de Goiás, atual Estado do Tocantins, a outras localidades do país, facilitando o escoamento da produção e o acesso a produtos para a região, promovendo o fluxo de mercadorias e serviços.

36

O Memorial Coluna Prestes (2001) é uma obra do arquiteto Oscar Niemeyer localizada na Praça dos Girassóis, no centro de Palmas (TO).



Fonte: <https://central.to.gov.br/image/146145?f=1>

A respeito da relação entre essa obra e a constituição de uma memória histórica para o Estado do Tocantins, analise as afirmativas a seguir.

- I. O monumento refere-se à Coluna Prestes, que percorreu o Brasil para divulgar seu programa revolucionário entre 1924 e 1927, tendo passado pelo Norte do então Estado de Goiás (atual Tocantins) durante seu percurso.
- II. A obra foi realizada em concreto e apresenta curvas sinuosas, características próprias do Barroco das cidades mineradoras, estabelecendo visualmente uma continuidade entre o Barroco do passado das cidades mineradoras e o presente do Tocantins.
- III. A construção do memorial permite inserir simbolicamente a história do Tocantins nos grandes processos da história republicana nacional, e homenagear o Tenente Antônio de Siqueira Campos, cujo sobrenome é homônimo ao do ex-governador do Estado.

Está correto o que se afirma em

- (A) I, apenas.
- (B) I e II, apenas.
- (C) I e III, apenas.
- (D) II e III, apenas.
- (E) I, II e III.



37

Até 1988, o território que hoje corresponde ao Estado do Tocantins pertencia ao antigo norte de Goiás e à Região Centro-Oeste, tendo como capital política a cidade de Goiânia. Com a emancipação política, da noite para o dia, as pessoas amanheceram tocantinenses, mas sem referências culturais que as representassem como tais.

A respeito da projeção simbólica do novo Estado e de sua nova capital, assinale a opção que interpreta corretamente o processo de construção e atribuição de uma identidade ao Tocantins.

- (A) Desde o primeiro mandato do governador Siqueira Campos, os símbolos oficiais do Tocantins continuaram sendo o brasão de armas, a bandeira, o selo estadual e a canção “Hino ao Tocantins”, de Liberato Costa Póvoa e Abiezer Alves da Rocha.
- (B) O girassol foi reconhecido oficialmente como símbolo da natureza do Estado, por ser uma planta nativa dos cerrados tocantinenses e estar associada à prosperidade e à esperança.
- (C) A Praça dos Girassóis, centro cívico de Palmas, foi concebida para receber edifícios esteticamente associados à cultura do Tocantins, como o Palácio do Araguaia, cujos pórticos remetem ao capim dourado, símbolo da tradição do artesanato de alta qualidade da região.
- (D) A monumentalidade da Praça dos Girassóis é enfatizada pelo seu pavimento, que contém figuras simbólicas como o mapa do Tocantins, a rosa dos ventos, o brasão de armas e a Praça Krahô.
- (E) O meio ambiente também foi utilizado para fortalecer o sentimento identitário, inserindo o girassol, a fava-de-bolota, a arara-canindé e a granada como símbolos da natureza do Tocantins, desde a promulgação da Constituição Estadual em 1989.

38

A respeito da matriz energética do Estado e dos investimentos em biocombustíveis, analise as afirmativas a seguir e assinale (V) para a verdadeira e (F) para a falsa.

- ( ) O Estado tem condições de clima e solo desfavoráveis para o plantio de matérias-primas usadas na fabricação de biocombustíveis, mas a expansão do modal logístico (Ferrovia Norte-Sul) permitirá o acesso à soja do planalto goiano.
- ( ) O Tocantins conta com duas usinas de biodiesel em funcionamento, utilizando o pinhão-mansão, a soja, a mamona e outras oleaginosas como matéria-prima.
- ( ) O Estado tem alto potencial de geração de energia solar, pela elevada irradiação solar e pelas políticas públicas voltadas para produção de energia limpa e renovável, como a Política Estadual de Incentivo à Geração e ao Uso da Energia Solar (Pró-Solar)

As afirmativas são, respectivamente,

- (A) V – F – V.  
 (B) F – V – V.  
 (C) F – F – V.  
 (D) V – V – F.  
 (E) V – V – V.

39

*As belas paisagens como serras, cachoeiras, praias e até mesmo dunas, fazem do Tocantins um paraíso de paisagens naturais, atraindo turistas de várias regiões para conhecer o mais novo Estado brasileiro. A potencialidade para o ecoturismo e a preocupação em conservar a biodiversidade e recursos naturais nele contidos fez com que o Governo do Estado, criasse e implementasse as Unidades de Conservação Ambiental (UC).*

Adaptado de <https://www.to.gov.br/secom/>

A respeito das Unidades de Conservação (UC) do Tocantins, assinale a afirmativa correta.

- (A) São espaços territoriais legalmente instituídos pelo poder público e podem ser de proteção integral federal, como no caso dos Parques Cantão, Jalapão e Lajeado.
- (B) As UCs federais estão subordinadas ao Instituto Chico Mendes de Conservação da Biodiversidade (ICMBio), como no caso do Monumento Natural das Árvores Fossilizadas.
- (C) As UCs estaduais estão subordinadas ao Instituto Natureza do Tocantins (Naturatins), que supervisiona o Parque do Araguaia e o das Nascentes do rio Parnaíba.
- (D) As UCs de uso sustentável são compostas exclusivamente por áreas públicas, sendo permitida sua utilização apenas para o ecoturismo, pesquisa e educação ambiental.
- (E) As UCs municipais estão subordinadas às secretarias de meio ambiente, como no caso do Monumento Natural dos Cânions e Corredeiras do Rio Sono e do Parque Ecológico Roberto Guedes Pereira.

40

O Estado do Tocantins possui diversas comunidades quilombolas certificadas e outras com processo formalizado para regularização fundiária de seus territórios. A definição de comunidade quilombola é dada pelo Art. 2º do Decreto nº 4.887/2003:

*Consideram-se remanescentes das comunidades dos quilombos, para os fins deste Decreto, os grupos étnico-raciais, segundo critérios de auto-atribuição, com trajetória histórica própria, dotados de relações territoriais específicas, com presunção de ancestralidade negra relacionada com a resistência à opressão histórica sofrida.*

A respeito dos órgãos e processos envolvidos na identificação e regularização de territórios quilombolas no Estado do Tocantins, assinale a afirmativa correta.

- (A) O acesso dessas comunidades às políticas públicas de educação, saúde, moradia e regularização fundiária depende de o Estado emitir uma certidão de identificação de comunidade quilombola, mediante Fundação Palmares.
- (B) Os critérios para reconhecimento de um grupo enquanto remanescente de quilombo depende da comprovação de sua ancestralidade, seu parentesco e da preservação viva de religiosidades autenticamente africanas.
- (C) A Coordenação Nacional de Articulação de Comunidades Negras Rurais Quilombolas (CONAQ) luta pela incorporação constitucional do direito à autodefinição dos remanescentes de quilombos.
- (D) A certificação quilombola é realizada pela Fundação Cultural Palmares, que avalia com visitas técnicas a autenticidade do legado quilombola pretendido e, caso o aprove, emite a certidão de comunidade quilombola e a inscreve em um cadastro geral.
- (E) O acesso às terras ocupadas pelos remanescentes das comunidades dos quilombos é garantido por sua delimitação e titulação, a cargo da autoridade municipal em que a mesma se localiza.

**CONHECIMENTOS ESPECÍFICOS****41**

Paciente do sexo masculino, 72 anos, com diagnósticos de hipertensão arterial sistêmica, diabetes mellitus tipo 2, cirrose hepática de origem biliar. É levado para emergência com quadro de hematemese. Ao exame – confuso, hipocorado, afebril, ictérico, acianótico. PA – 90x60mmHg; FC= 130BPM; Diurese 10mL/hora.

De acordo com o quadro descrito a perda volêmica desse paciente provavelmente é

- (A) Menor que 500mL.
- (B) Entre 500 e 750mL.
- (C) Entre 750 e 1000mL.
- (D) Entre 1000 e 1500mL.
- (E) Entre 1500 e 2000mL.

**42**

Paciente do sexo feminino, 55 anos, obesa, tabagista, procura atendimento na emergência com quadro de dor abdominal em andar superior de forte intensidade, associada a náuseas e vômitos. Nega uso de bebida alcoólica. Ao exame - lúcida, orientada no tempo e no espaço, com fácies de dor, afebril. Ausculta cardíaca e pulmonar sem alterações. Abdômen globoso, sem vísceromegalias, doloroso a palpação profunda em andar superior, sinal de Murphy negativo.

Exames laboratoriais – hemácias 4,000milhões/mm<sup>3</sup>; hemoglobina 10,5g/dL; hematócrito 34%; leucócitos 18 mil 6% de bastões; plaquetas 470 mil; glicemia 150mg/dL; amilase 516U/L; lipase 1233U/L; triglicerídeos 550mg/dL; glicemia 188mg/dL.

Assinale a opção que apresenta o diagnóstico correto para o quadro relato.

- (A) Colecistite aguda.
- (B) Pancreatite aguda.
- (C) Pancreatite crônica.
- (D) Apendicite.
- (E) Isquemia mesentérica.

**43**

Paciente do sexo masculino, 50 anos, tem diagnósticos de obesidade, hipertensão arterial sistêmica, diabetes mellitus tipo 2 e transtorno bipolar. Faz uso de losartana, anlodipina, metformina, semaglutida e lítio.

Tabagista, 50 maços/ano, que faz uso esporádico de bebida alcoólica, procura atendimento na emergência com queixa de desconforto torácico e palpitações há mais ou menos 3 dias que pioraram progressivamente.

Ao exame - ansioso, afebril, corado, anictérico., acianótico, hidratado, PA - 138x75mmHg, FC 158bpm, RCI, sem sopros, MVUA, sem RA e ECG = ausência de onda P e intervalos RR anormalmente irregulares.

Em relação a esse caso, assinale a opção que indica a conduta mais adequada.

- (A) Cardioversão elétrica.
- (B) Cardioversão química.
- (C) Controle da frequência cardíaca.
- (D) Benzodiazepínico.
- (E) Furosemida.

**44**

Gestante com 35 semanas, gesta 4 para 3, procura atendimento na unidade básica de saúde onde faz acompanhamento do pré-natal com queixa de cefaleia, escotomas cintilantes e epigastria. Ao exame – lúcida, orientada no tempo e no espaço, eupneica, corada, anictérica, afebril. PA= 160x100mmHg; FC 93bpm; FR 18 IRPM; Tax 36 graus; ausculta cardíaca e pulmonar sem alterações e edema bilateral em MMII.

Assinale a opção que indica a conduta mais adequada para o caso apresentado.

- (A) Administração de Captopril e observação na UBS
- (B) Solicitação de consulta com cardiologista
- (C) Solicitação de vaga zero
- (D) Agendamento de coleta de exames
- (E) Acompanhamento ambulatorial com prescrição de metildopa

**45**

Paciente do sexo masculino, 65 anos, procura atendimento na emergência com relato de início do quadro há quatro dias com febre alta, artralgia, mialgia, cefaleia e exantema. Há um dia sem febre. Nega comorbidades e uso regular de medicações. Ao exame apresenta-se lúcido, orientado no tempo e no espaço, afebril, eupneico. FC 80bpm; PA 130x80mmHg; ausculta cardíaca e pulmonar sem alterações, abdômen atípico, flácido, indolor e sem visceromegalias.

A conduta adequada para esse paciente é

- (A) acompanhamento ambulatorial
- (B) observação em leito até resultado dos exames e reavaliação clínica.
- (C) manter em leito de hidratação/internação por 24 horas
- (D) manter em leito de hidratação/internação por 48 horas
- (E) internação em leito de UTI

**46**

Paciente do sexo feminino, 59 anos, submetida, há três meses, à angioplastia coronariana com implante de *stents* farmacológicos; em uso de dupla agragação piquetaria, procura atendimento na emergência com sintomas de dengue.

Assinale a opção que indica a conduta adequada para o caso descrito.

- (A) Suspender a dupla antiagregação plaquetária imediatamente.
- (B) No caso de plaquetometria acima de 100x10<sup>9</sup>/L, manter a medicação e haverá a necessidade de admissão hospitalar.
- (C) Para plaquetas entre 30x10<sup>9</sup>/L e 50x10<sup>9</sup>/L, os pacientes deverão ser admitidos em leitos de observação, com controle diário da contagem de plaquetas; suspender a dupla antiagregação plaquetária.
- (D) Quando a contagem plaquetária for abaixo de 30x10<sup>9</sup>/L, pacientes terão suspensa a dupla antiagregação plaquetária.
- (E) Para plaquetas entre 30x10<sup>9</sup>/L e 50x10<sup>9</sup>/L, solicitar transfusão de plaquetas.

**47**

Paciente do sexo masculino, 43 anos, procura a emergência com quadro de dor lombar à direita, de forte intensidade, associada a náuseas e vômitos; história prévia de eliminação de cálculo urinário; não tem febre; ao exame – fácies de dor; agitado eupneico; afebril; PA 140X90mmHg; FC 85bpm; FR 17 IRPM; Sinal de Giordano positivo; EAS com hematúria; hemograma e bioquímica sem alterações significativas.

Assinale a opção que indica com o exame padrão ouro para fazer o diagnóstico do quadro apresentado.

- (A) Tomografia helicoidal de vias urinárias sem contraste.
- (B) Ultrassonografia de vias urinárias.
- (C) Urografia excretora.
- (D) Radiografia simples de abdômen.
- (E) Ressonância magnética de vias urinárias.

**48**

A cetoacidose diabética e o estado hiperosmolar hiperglicêmico são duas complicações associadas à hiperglicemia.

Em relação a essas duas situações, assinale a afirmativa correta.

- (A) Cetoacidose é definida pela glicemia maior que 600mg/dL, pH menor que 7,5 e cetonemia positiva.
- (B) Estado hiperosmolar hiperglicêmico é definido pela glicemia maior que 250mg/dL, osmolaridade maior que 340mosm/kg, pH arterial maior que 7,3.
- (C) Infecção é o fator precipitante na maioria dos casos de cetoacidose diabética e de estado hiperosmolar hiperglicêmico.
- (D) Na cetoacidose diabética a deficiência de insulina é relativa e no estado hiperosmolar hiperglicêmico essa deficiência é absoluta.
- (E) Na cetoacidose diabética a instalação do quadro é insidiosa em dias a semanas e no estado hiperosmolar hiperglicêmico a instalação é abrupta em horas.

**49**

Paciente do sexo masculino, 23 anos, é levado por amigos ao serviço de emergência com relato de uso de bebida alcoólica, apresentando confusão mental, diplopia e hipoglicemia.

Esses sinais de intoxicação por álcool indicam uma alcoolemia de

- (A) 20mg/dL.
- (B) 40mg/dL.
- (C) 60mg/dL.
- (D) 80mg/dL.
- (E) 100mg/dL.

**50**

Paciente do sexo feminino, 65 anos, tabagista 50 maços/ano, procura atendimento médico com queixa de tosse produtiva e dispneia aos moderados esforços. Sem queixa de emagrecimento. A espirometria do paciente tem os seguintes resultados: VEF1/CVF <70% e VEF1 ≥ 80%.

De acordo com esses resultados da espirometria, esse paciente é corretamente classificado como DPOC Gold

- (A) I.
- (B) II.
- (C) III.
- (D) IV.
- (E) V.

**51**

Paciente do sexo feminino, 35 anos, trabalha como enfermeira em uma unidade de emergência, procura atendimento médico com quadro de febre vespertina, emagrecimento importante, sudorese noturna. A radiografia de tórax realizada evidenciou derrame pleural.

Com base no quadro descrito, assinale a opção que indica o mecanismo do derrame pleural relacionado à etiologia suspeita.

- (A) Aumento do líquido intersticial no pulmão.
- (B) Aumento da permeabilidade do capilar pleural.
- (C) Aumento da pressão do capilar pleural.
- (D) Redução da pressão oncótica sérica.
- (E) Redução da pressão intrapleural.

**52**

Paciente do masculino, 75 anos, com diagnósticos de DPOC, hipertensão arterial, diabetes mellitus, infarto agudo do miocárdio há dois meses, terminou quimioterapia para tratamento de tumor maligno de cólon há seis meses.

Assinale a opção com o fator de risco alto desse paciente para tromboembolismo pulmonar.

- (A) DPOC.
- (B) Diabetes mellitus.
- (C) Infarto agudo do miocárdio.
- (D) Tumor maligno de cólon.
- (E) Quimioterapia.

**53**

Paciente do sexo masculino, 21 anos de idade, diagnóstico de HIV, é levado para emergência devido a quadro de confusão mental, cefaleia e hemiparesia direita. A tomografia computadorizada de crânio evidenciou múltiplas lesões hipodensas, com reforço anelar de contraste presente; carga viral HIV indetectável CD4 79/mm<sup>3</sup>; sorologia positiva para toxoplasmose.

O tratamento de primeira escolha indicado associado ao uso de ácido fólico é

- (A) azitromicina e clindamicina.
- (B) doxiciclina e ciprofloxacina.
- (C) metronidazol e claritromicina.
- (D) sulfadiazina e pirimetamina.
- (E) sulfametoxazol e trimetoprima.

**54**

Em casos de diagnóstico de bacteriúria assintomática, assinale a situação que indica necessidade de tratamento com antibiótico.

- (A) Idosos.
- (B) Diabéticos.
- (C) Neutropênicos.
- (D) Homens.
- (E) Crianças.

55

Paciente do sexo masculino, 64 anos, com diagnósticos de hipertensão arterial, diabetes, hipotireoidismo, tabagista e sedentário, é levado para atendimento na emergência com quadro de afasia, paralisia facial à direita e hemiparesia à direita. Assinale a opção com o território cerebrovascular acometido nesse quadro.

- (A) Artéria cerebral media direita.
- (B) Artéria cerebral media esquerda.
- (C) Artéria cerebral posterior.
- (D) Artéria do sistema vertebrobasilar.
- (E) Artéria cerebral anterior.

56

Paciente do sexo feminino, 53 anos, é levada para emergência com quadro de dor torácica em aperto com irradiação para membro superior esquerdo. O eletrocardiograma evidenciou supra de ST em DII, DIII e aVF. A paciente foi submetida a tratamento com fibrinolítico, pois não havia disponibilidade de angioplastia no tempo adequado.

Após o uso de fibrinolítico, a paciente deve ser submetida à cineangiocoronariografia em até

- (A) 24 horas.
- (B) 36 horas.
- (C) 48 horas.
- (D) 72 anos.
- (E) 96 horas.

57

Paciente do sexo masculino, 77 anos, com diagnósticos de hipertensão arterial, insuficiência cardíaca e diabetes mellitus, é levado para emergência com quadro de dispneia, expectoração rósea, sudorese, ao exame – PA 210x110mmHg; FC 95bpm; FR 25 IRPM RCR, ritmo cardíaco em galope, ausculta pulmonar com estertores bolhosos difusos e edema bilateral de membros inferiores.

Nesse caso, a medicação de escolha para o controle da PA é

- (A) Captopril.
- (B) Labetalol.
- (C) Hidralazina.
- (D) Nitroprussiato.
- (E) Nifedipina.

58

Paciente é atendido em serviço de pronto atendimento com diagnóstico de Covid, o médico da emergência deverá

- (A) orientar que o paciente procure a unidade básica onde é acompanhado para pegar o atestado de afastamento do trabalho.
- (B) fornecer atestado médico de afastamento do trabalho de acordo com os dias necessários.
- (C) orientar que o paciente procure o médico da empresa em que trabalha para pegar o atestado de afastamento do trabalho.
- (D) avaliar a gravidade do quadro do paciente para ver se ele precisa de afastamento do trabalho.
- (E) solicitar exames de imagem para avaliar a gravidade do quadro e necessidade de atestado médico.

59

Paciente do sexo feminino, 55 anos, hipertensa e diabética procura atendimento na unidade básica de saúde onde faz acompanhamento devido elevação da pressão arterial, PA 160X100mmHg e queixa de cefaleia.

Ao chegar à unidade, a equipe do acolhimento deverá

- (A) agendar uma consulta medica para quando tiver disponibilidade.
- (B) referenciar paciente para atendimento na unidade de pronto atendimento mais próxima da sua área.
- (C) encaminhar paciente para atendimento com cardiologista.
- (D) acolher a paciente e solicitar avaliação médica.
- (E) solicitar ambulância para que paciente seja transferida para emergência.

60

Paciente do sexo masculino, 27 anos, agitado, sudoreico, taquicárdico, com pupilas midriáticas, procura atendimento na emergência com elevação da pressão arterial (PA 190x110mmHg).

Assinale a medicação **contraindicada** para controle pressórico desse quadro.

- (A) Betaboqueador.
- (B) Clonidina.
- (C) Bloqueadores dos canais de cálcio.
- (D) Nitroprussiato.
- (E) Fentolaimina.

61

Paciente do sexo masculino, 42 anos procura atendimento com queixa de dor em região subesternal, de forte intensidade que irradia para o trapézio e alivia quando o paciente se inclina para frente. Além disso, apresenta febre e dispneia; ECG apresenta elevação difusa do segmento ST e radiografia de tórax apresentou aumento da área cardíaca, sem outras alterações.

Assinale a opção que indica o diagnóstico correto para o quadro acima descrito.

- (A) Embolia pulmonar.
- (B) Dissecção da aorta.
- (C) Miocardite.
- (D) Pericardite.
- (E) Infarto agudo do miocárdio.

62

No Brasil, a condição subjacente mais comum de endocardite infecciosa é

- (A) tuberculose.
- (B) uso de drogas injetáveis.
- (C) uso de marca-passo.
- (D) relato de cirurgia recente.
- (E) história de febre reumática.

63

Paciente do sexo masculino, com 18 anos, com quadro de febre, agitação psicomotora, rigidez de nuca, rebaixamento importante do nível de consciência, hipotensão arterial e taquicardia.

Assinale a situação em que a punção lombar é **contraindicada** para a investigação diagnóstica do caso descrito.

- (A) Rigidez de nuca.
- (B) Febre.
- (C) Taquicardia.
- (D) Hipotensão arterial.
- (E) Rebaixamento importante do nível de consciência.

64

Paciente do sexo feminino, 72 anos, com sintomas de febre, coriza, tosse, cefaleia e mialgia há três dias. Ao exame, lúcida, orientada no tempo e no espaço; febril; PA - 130x90mmHg; FR 23 IRPM FC 90bpm; Tax 37,9 graus e saturação de O<sub>2</sub> 95%; teste rápido positivo para COVID e ausculta cardíaca e pulmonar sem alterações.

Nesse caso, o tratamento indicado é

- (A) sintomático.
- (B) amoxicilina com clavulanato.
- (C) azitromicina.
- (D) prednisona.
- (E) nirmatrelvir e ritonavir.

65

Paciente do sexo masculino, 73 anos, procura atendimento médico com relato de episódios de síncope. Ausculta cardíaca se caracteriza por sopro sistólica em crescendo-descrescendo na borda esternal direita alta e no terceiro espaço intercostal na borda esternal esquerda, irradiando para os dois lados do pescoço.

Esse sopro é característico de

- (A) insuficiência aórtica.
- (B) insuficiência mitral.
- (C) insuficiência tricúspide.
- (D) estenose mitral.
- (E) estenose aórtica.

## LEGISLAÇÃO INSTITUCIONAL

66

Nos termos da Constituição do Estado do Tocantins, constitui objeto de lei complementar a seguinte matéria:

- (A) os prazos de prescrição para ilícitos praticados por qualquer agente, servidor ou não, que causem prejuízos ao erário.
- (B) os limites de idade, a estabilidade e outras condições de transferência do servidor militar para a inatividade.
- (C) os casos de contratação por tempo determinado para atender à necessidade temporária de excepcional interesse público.
- (D) as regras para cálculo de proventos de aposentadoria e pensão por morte.
- (E) os requisitos e as restrições ao ocupante de cargo ou emprego da administração direta e indireta que possibilite o acesso a informações privilegiadas.

67

Considerando o exercício da função legislativa por parte da Assembleia Legislativa de Tocantins, nos termos de seu Regimento Interno, é correto afirmar que

- (A) projetos de lei delegada podem se destinar a regular as matérias de exclusiva competência do Poder Executivo, com a sanção do Governador do Estado.
- (B) projetos de resolução podem se destinar a regular, com eficácia de lei ordinária, matéria de competência privativa da Assembleia Legislativa.
- (C) projetos de lei complementar visam regular matéria infraconstitucional.
- (D) projetos de lei têm por objetivo regular matérias de competência do Poder Legislativo, sem a sanção do Governador do Estado.
- (E) projetos de decreto legislativo destinam-se à delegação de competência, na forma estabelecida na Constituição Estadual.

68

Aline, servidora pública estadual, revelou segredo do qual se apropriou em razão do cargo que ocupa. A Administração Pública, ao tomar conhecimento do fato, instaurou procedimento administrativo disciplinar a fim de apurar a conduta e garantir à servidora os princípios da ampla defesa e do contraditório.

À luz do Estatuto dos Servidores Públicos Cíveis do Estado do Tocantins, caso punida, Aline poderá ser sancionada com

- (A) advertência.
- (B) suspensão.
- (C) prestação de serviço.
- (D) multa.
- (E) demissão.

69

Ana, servidora pública efetiva e estável, ocupante de cargo de nível superior, objetivando inteirar-se sobre os requisitos para a progressão na carreira, consultou a Lei nº 4.208/2023, que trata sobre o plano de cargos, carreiras e remuneração dos Servidores da Assembleia de Tocantins.

Assim, para fazer jus à progressão, Ana terá que

- (A) possuir no máximo três faltas injustificadas por exercício referente ao período avaliado.
- (B) obter conceito igual ou superior a 70% (setenta por cento) dos pontos possíveis em todos os procedimentos de sua Avaliação.
- (C) concluir curso de pós-graduação *lato sensu* com duração mínima de 360 (trezentos e sessenta) horas.
- (D) cumprir trinta meses de efetivo exercício na classe em que se encontra.
- (E) concluir cursos de aperfeiçoamento em sua área de atuação que tenha, no mínimo, 80 (oitenta) horas de duração.

**70**

Antônio foi nomeado para o cargo de Controlador Interno da Assembleia Legislativa de Tocantins.

À luz da Lei nº 4.209/2023, que dispõe sobre a estrutura administrativa da Aletto, durante o exercício da função, Antônio será competente para:

- (A) opinar, conclusivamente, em processos de direitos, deveres e obrigações dos servidores do Poder Legislativo.
- (B) constituir Comissão Permanente de Licitação.
- (C) examinar a observância das normas de licitações.
- (D) apresentar à Mesa Diretora o balancete mensal e, no início de cada exercício, o balancete geral das contas da Assembleia Legislativa, relativo ao exercício anterior.
- (E) planejar, coordenar, orientar, controlar e dirigir as atividades administrativas, orçamentárias, financeiras, de comunicação social, de tecnologia de informação e de apoio legislativo da Assembleia Legislativa.



# ASSEMBLEIA LEGISLATIVA DO ESTADO DO TOCANTINS

CONCURSO PÚBLICO – EDITAL Nº 01/2023

## PROVA OBJETIVA – TARDE

### ANALISTA LEGISLATIVO PEDAGOGIA

NÍVEL SUPERIOR – TIPO 1 – BRANCA



#### SUA PROVA

- Além deste caderno contendo **70 (setenta)** questões objetivas, você receberá do fiscal de prova o cartão de respostas;
- As questões objetivas têm **5 (cinco)** opções de resposta (A, B, C, D) e somente uma delas está correta.



#### TEMPO

- Você dispõe de **5 (cinco) horas** para a realização da prova, já incluído o tempo para a marcação do cartão de respostas;
- **3 (três) horas** após o início da prova, é possível retirar-se da sala, sem levar o caderno de questões;
- A partir dos **30 (trinta) minutos** anteriores ao término da prova é possível retirar-se da sala **levando o caderno de questões**.



#### NÃO SERÁ PERMITIDO

- Qualquer tipo de comunicação entre os candidatos durante a aplicação da prova;
- Anotar informações relativas às respostas em qualquer outro meio que não seja o caderno de questões;
- Levantar da cadeira sem autorização do fiscal de sala;
- Usar o sanitário ao término da prova, após deixar a sala.



#### INFORMAÇÕES GERAIS

- Verifique se seu caderno de questões está completo, sem repetição de questões ou falhas. Caso contrário, **notifique imediatamente o fiscal da sala**, para que sejam tomadas as devidas providências;
- Confira seus dados pessoais, especialmente nome, número de inscrição e documento de identidade e leia atentamente as instruções para preencher o cartão de respostas;
- Para o preenchimento do cartão de respostas, use somente caneta esferográfica, fabricada em material transparente, com tinta preta ou azul;
- Assine seu nome apenas no(s) espaço(s) reservado(s) no cartão de respostas;
- Confira seu cargo, cor e tipo do caderno de questões. Caso tenha recebido caderno de cargo ou cor ou tipo **diferente** do impresso em seu cartão de respostas, o fiscal deve ser **obrigatoriamente** informado para o devido registro na ata da sala;
- Reserve tempo suficiente para o preenchimento do seu cartão de respostas. O preenchimento é de sua responsabilidade e **não será permitida a troca do cartão de respostas em caso de erro cometido pelo candidato**;
- Para fins de avaliação, serão levadas em consideração apenas as marcações realizadas no cartão de respostas;
- A FGV coletará as impressões digitais dos candidatos na lista de presença;
- Os candidatos serão submetidos ao sistema de detecção de metais quando do ingresso e da saída de sanitários durante a realização das provas.
- **Boa prova!**

## CONHECIMENTOS BÁSICOS

### Língua Portuguesa

1

Observe o seguinte texto:

*Quando entrei no terrível vagão, ele estava ocupado por duas pessoas. Uma, dobrada, coberta, dormia profundamente. A coberta superior estava manchada, de fundo amarelado, como pele de leopardo. Vendem-se muitas mantas assim nas lojas de artigos de viagens, mas pude notar logo depois que se tratava realmente da pele de um animal selvagem; do mesmo modo, o boné da pessoa adormecida me pareceu ser de feltro branco bastante delicado. O outro viajante, uma aparência simpática, parecia ter passado dos trinta anos e mostrava-se como figura insignificante que passa confortavelmente as noites em estradas de ferro.*

Nesse fragmento textual, para criar sinais de história realista e verdadeira, o narrador apela para a seguinte estratégia:

- (A) seleciona uma situação banal da qual não precisa fornecer muitos detalhes, exatamente por sua banalidade.
- (B) fornece algumas marcas caracterizadoras dos dois personagens presentes no texto, destacando sua banalidade.
- (C) indica traços descritivos do ambiente, mostrando-o como se nada houvesse nele de excepcional.
- (D) mostra detalhes variados e bastante pitorescos dos objetos descritos.
- (E) dá ao leitor informações sobre personagens e ambiente, mostrando-os como bastante conhecidos do narrador.

2

Assinale a frase que mostra a palavra *mais* numa classe gramatical **diferente** das demais.

- (A) O mercado está prisioneiro de mais um círculo vicioso: piora porque piorou e porque piorou, piora.
- (B) Os ingleses conquistaram o mundo porque não aguentavam mais a própria cozinha.
- (C) Quanto mais vejo o estrangeiro, mais amo a minha pátria.
- (D) Não é mais possível aprender tudo de cor. Um homem instruído não é mais o homem que sabe muitas coisas; é o homem que sabe onde buscar informações.
- (E) Muda-se mais facilmente de religião do que de café

3

As frases a seguir mostram termos ligados pela conjunção OU.

Assinale a frase em que essa conjunção mantém o valor de alternativa (e não de adição).

- (A) João ou Pedro deve ser eleito presidente da empresa.
- (B) A alegria ou a tristeza fazem parte da vida.
- (C) Inglês ou francês são idiomas falados pelos turistas
- (D) Os clientes leem livros ou revistas enquanto esperam.
- (E) Vasco ou Flamengo são times de longa tradição.

4

Um guitarrista americano produziu o seguinte pensamento:

*O crítico de rock é alguém que não sabe escrever, entrevistando gente que não sabe falar, para gente que não sabe ler.*

Sobre a estruturação ou a significação desse pequeno texto, assinale a afirmativa **incorreta**.

- (A) O termo “de rock” funciona como complemento nominal do termo anterior.
- (B) Todos os elementos da cadeia comunicativa citados no texto são marcados pela ignorância.
- (C) O pensamento acima revela um preconceito fortíssimo contra os amantes de rock.
- (D) A opinião expressa no texto pode advir da experiência pessoal do autor, já que se trata de um guitarrista.
- (E) A injustiça desse texto provém de ser uma opinião fundamentada em uma autoridade duvidosa.

5

John Steinbeck, prêmio Nobel, declarou o seguinte:

*O homem é o único animal que bebe sem ter sede, come sem ter fome e fala sem ter nada a dizer.*

Em relação ao significado e à estruturação desse pequeno texto, assinale a afirmativa **incorreta**.

- (A) A frase ficaria mais enfática se invertêssemos a posição do termo inicial: O único animal que bebe sem ter sede, come sem ter fome e fala sem ter nada a dizer é o homem.
- (B) A inversão de alguns segmentos do texto em nada modificaria o sentido da frase: O homem é o único animal que come sem ter fome, bebe sem ter sede e fala sem ter nada a dizer.
- (C) Os segmentos finais do texto mostram preocupação com rigoroso paralelismo sintático.
- (D) Segundo a opinião do autor do texto, a marca principal do homem é a irracionalidade.
- (E) Nem todas as ações citadas como marcas humanas estão presentes, por oposição, nos outros animais.

6

Assinale a frase que **não** expressa uma noção de tempo abstrato.

- (A) Nas asas do tempo, a tristeza voa.
- (B) Quem mata o tempo não é assassino, é suicida.
- (C) O tempo perdido não se encontra nunca mais.
- (D) O tempo é o melhor professor. Infelizmente, ele mata todos os seus estudantes
- (E) O tempo gasto na viagem foi de duas horas.

7

Assinale a frase em que a utilização do acento grave indicativo da crase é realizada de forma **errada**.

- (A) Jamais alguém se arrependeu de ter-se acostumado à madrugada e à ter-se casado jovem.
- (B) Tempo é o suspiro de adeus do sol à terra.
- (C) Saio todos os dias às cinco horas e não permito que o meu trabalho interfira no meu jogo de tênis.
- (D) O momento de extrair uma lição da história está sempre à mão para os sábios.
- (E) Quando assumi, quatro anos atrás, estávamos à beira do precipício.



8

Os adjetivos podem representar estados, qualidades, características e relações.

Assinale a frase que mostra um tipo de adjetivo **diferente** dos demais.

- (A) Nunca houve criança tão amável que a própria mãe não ficasse satisfeita ao conseguir adormecê-la.
- (B) Nada mais perversamente cruel que uma adorável criança.
- (C) Mesmo estando doentes, as crianças não ficam caladas.
- (D) Quando as crianças estão quietas é porque fizeram alguma coisa errada.
- (E) As tangerinas verdes não amadurecem fora do pé.

9

Assinale a frase em que o adjetivo sublinhado mostra uma função sintática **diferente** das demais.

- (A) Por fora bela viola, por dentro pão **bolorento**.
- (B) Tiradentes, **heroico**, tentou organizar uma revolução.
- (C) Um rosto **bonito** altera-se depressa.
- (D) Eu não podia acreditar que existem múmias tão **lindas**.
- (E) Um homem belo é um homem **insignificante**.

10

Assinale a opção que mostra uma impropriedade léxica, ou seja, um emprego **inadequado** da expressão “cerca de”.

- (A) Havia cerca de três dúzias de convidados no final da festa.
- (B) Chegaram cerca de 100 cartas no mesmo dia.
- (C) Cerca de 18 lojas fecharam as portas mais cedo.
- (D) Os cantores receberam cerca de uma centena de convites.
- (E) A plantação produziu cerca de uma tonelada de legumes.

11

Muitas palavras portuguesas mostram o prefixo A- sem qualquer valor semântico, sendo equivalentes ao mesmo vocábulo sem esse prefixo.

Assinale a palavra a seguir que exemplifica esse A protético.

- (A) amostrar
- (B) abraçar
- (C) atenuar
- (D) aguardar
- (E) aparar

12

Observe o seguinte texto:

*A felicidade depende da habilidade que tenhamos naquelas atividades que consideramos importantes: somente se lhes damos um real valor aos pequenos detalhes cotidianos, poderemos ter instantes felizes. A felicidade absoluta não existe, e já que só podemos acessar os pequenos detalhes daquilo que nos interessa, devemos contentar-nos com isso. Por isso, a infelicidade é um sinal claro de nossa incompetência na arte de viver.*

Sobre a estrutura e a significação desse texto, assinale a afirmativa **inadequada**.

- (A) O tema do texto gira em torno do que consiste a felicidade e o que viria a ser o seu oposto.
- (B) A afirmação de que “A felicidade absoluta não existe” é de cunho pessoal do autor do texto, representando uma opinião.
- (C) O raciocínio utilizado na estruturação argumentativa é do tipo dedutivo.
- (D) O conector “Por isso” mostra a preocupação com o caráter lógico da argumentação.
- (E) A tese do texto é a de que a infelicidade é fruto de nossa incompetência na arte de viver.

## Raciocínio Lógico Matemático

13

Certo programa de rádio tem 1 hora e 55 minutos de duração. A partir do momento em que o programa é iniciado, há blocos temáticos de 7 minutos intercalados por blocos de propagandas de 2 minutos.

Em todos os blocos de propaganda, ouve-se o comercial do restaurante R, que sempre dura 18 segundos.

Se o programa começa e termina com um bloco temático, então, o tempo total do programa dedicado ao anúncio do restaurante R é

- (A) 3 minutos e 54 segundos.
- (B) 3 minutos e 36 segundos.
- (C) 3 minutos e 18 segundos.
- (D) 3 minutos.
- (E) 2 minutos e 48 segundos.

14

A linha de produção de certa fábrica produz 1100 latas de sardinhas a cada hora. Certo dia, por um defeito de calibragem do sistema, entre 13h e 14h, o volume de produção foi reduzido em 30% durante exatos 12 minutos.

A quantidade de latas de sardinhas produzidas no intervalo supracitado foi

- (A) 946.
- (B) 964.
- (C) 1022.
- (D) 1034.
- (E) 1046.

15

Marcelo está parado de frente para uma das paredes de uma sala quadrada. Nesta posição, ele está a 1m e 20cm da parede que se encontra à sua direita e a 1m e 70cm da parede que está às suas costas.

Ele, então, se desloca paralelamente às paredes da sala sendo 40cm para a frente e 80cm para a direita. Nessa nova posição, ele passou a distar 1m e 90cm da parede que antes estava à sua esquerda.

Desprezando-se as dimensões de Marcelo, a sua atual distância à parede que, antes dos movimentos, estava à sua frente, é

- (A) 20cm.
- (B) 30cm.
- (C) 40cm.
- (D) 50cm.
- (E) 60cm.

16

Um dado é dito comum quando tem a forma de um cubo e suas 6 faces são numeradas de 1 a 6, de tal forma que a soma dos números estampados em faces opostas, quaisquer que sejam elas, sempre somam 7.

Quando um dado comum é lançado, diz-se que o resultado do lançamento é o número estampado na face voltada para cima.

Um dado foi lançado 3 vezes seguidas. Se o produto dos resultados obtidos nos lançamentos vale 75, a soma desses resultados é igual a

- (A) 12.
- (B) 13.
- (C) 14.
- (D) 15.
- (E) 16.

17

Em certo ano, o dia 1º de agosto cai em um domingo. Logo, o dia 1º de novembro cairá em

- (A) um sábado.
- (B) um domingo.
- (C) uma segunda-feira.
- (D) uma quarta-feira.
- (E) uma sexta-feira.

18

Considere a seguinte proposição condicional:

*Se todos os alunos da Escola Aristarco gostam de matemática, então, ao menos um deles ganha medalha na Olimpíada Nacional de Matemática.*

Se essa proposição é verdadeira, é correto afirmar que

- (A) se nenhum dos alunos da Escola Aristarco gosta de Matemática, então nenhum deles ganha medalha na Olimpíada Nacional de Matemática.
- (B) se todos os alunos da Escola Aristarco ganham medalha na Olimpíada Nacional de Matemática, então, todos esses alunos gostam de Matemática.
- (C) se algum aluno da Escola Aristarco ganha medalha na Olimpíada Nacional de Matemática, então todos esses alunos gostam de Matemática.
- (D) se nenhum aluno da Escola Aristarco ganha medalha na Olimpíada Nacional de Matemática, então nenhum desses alunos gosta de Matemática.
- (E) se nenhum aluno da Escola Aristarco ganha medalha na Olimpíada Nacional de Matemática, então algum desses alunos não gosta de Matemática.

19

Em uma caixa, há muitas canetas esferográficas. Classificadas conforme a cor, elas podem ser azuis, vermelhas ou pretas. Classificadas quanto à espessura da esfera, elas podem ser de ponta fina ou de ponta grossa.

Metade das canetas vermelhas tem a ponta grossa. A quantidade total de canetas pretas é igual à quantidade total de canetas vermelhas. Entre as canetas de ponta grossa, a quantidade de azuis é igual à de pretas. A quantidade de canetas azuis com ponta fina é o dobro da quantidade de canetas pretas de ponta grossa.

Se, nessa caixa, 18 são azuis e 20 têm ponta grossa, então a quantidade total de canetas na caixa é

- (A) 30.
- (B) 40.
- (C) 48.
- (D) 50.
- (E) 52.

20

Tucídides possuía uma dívida e, em vez de quitá-la, pagou apenas 20% do seu valor, deixando o restante para ser quitado em data futura, com acréscimo de 12% a título de juros sobre o saldo devedor.

No ato de quitação, Tucídides pagou R\$2.329,60. Logo, o valor original da dívida é o resultado da seguinte expressão:

- (A)  $2.329,60 \times 0,88 - 20$
- (B)  $\frac{2.329,60}{0,88} \times 1,20$
- (C)  $\frac{2.329,60}{1,12} \times 1,20$
- (D)  $\frac{2.329,60}{1,12 \times 1,20}$
- (E)  $\frac{2.329,60}{1,12 \times 0,8}$

21

As filhas de Nepomuceno têm 5 e 9 anos de idade. Ele dividirá R\$420,00 entre elas de forma inversamente proporcional às suas idades.

Logo

- (A) a mais nova receberá R\$120,00 a mais que a mais velha.
- (B) a mais nova receberá R\$150,00 a mais que a mais velha.
- (C) a mais nova receberá R\$270,00 a mais que a mais velha.
- (D) a mais velha receberá R\$120,00 a mais que a mais nova.
- (E) a mais velha receberá R\$150,00 a mais que a mais nova.

22

A negação da proposição:

$$\text{Se } y \neq 0, \text{ então } x > 2 \text{ e } x \leq 5$$

é dada por

- (A) Se  $y = 0$ , então  $x > 2$  e  $x \leq 5$
- (B) Se  $y = 0$ , então  $x < 2$  ou  $x \geq 5$
- (C)  $y = 0$  e  $x \leq 2$  ou  $x > 5$
- (D)  $y \neq 0$  e  $x \leq 2$  ou  $x > 5$
- (E)  $y \neq 0$  e  $x \leq 2$  e  $x > 5$

## Atualidades

23

De acordo com o censo demográfico de 2022 (IBGE), mais da metade da população brasileira (51,13%) é feminina, e elas representam, segundo o Tribunal Superior Eleitoral, 53% do eleitorado. No entanto, elas ocupam, hoje, menos de 15% dos cargos eletivos.

A respeito da baixa participação das mulheres na política, assinale a afirmativa que apresenta um dispositivo existente na legislação brasileira para alterar esse cenário.

- (A) Reserva de pelo menos 50% dos recursos do Fundo Especial de Financiamento de Campanha, o Fundo Eleitoral, para financiar candidaturas femininas.
- (B) Suspensão dos direitos eleitorais aos partidos em caso de não observância do percentual de pelo menos 30% de candidatas mulheres em cada ciclo eleitoral
- (C) Reserva de assentos, em ambas as casas legislativas, para mulheres, com preferência para as representantes de povos originários.
- (D) Cota de gênero, que obriga cada partido ou coligação a preencher o mínimo de 30% e o máximo de 70% de candidaturas de cada sexo.
- (E) Repasse de até 30% dos recursos dos Fundos Partidário para custear o tempo da propaganda eleitoral gratuita de candidatas em rádio e televisão.

24

A França se tornou o primeiro país do mundo a incluir na Constituição a liberdade de a mulher abortar. A mudança na Carta Magna foi aprovada em uma sessão conjunta das duas Casas legislativas, a Assembleia Nacional e o Senado, e será promulgada pelo presidente Emmanuel Macron ainda em março de 2024.

Adaptado de <https://www1.folha.uol.com.br/mundo/2024/03/>

Diferentemente da França, a legislação brasileira

- (A) equipara o aborto ao infanticídio.
- (B) considera o aborto uma prática ilegal em todas as situações.
- (C) descriminaliza a interrupção da gravidez em caso de deficiência da gestante.
- (D) estabelece um limite temporal para interromper a gravidez, desde que respaldada por laudo médico.
- (E) autoriza a interrupção de gestação em caso de não haver outro meio de salvar a vida da gestante.

25

Desde os anos 2000, o interior do Brasil ultrapassou o litoral na incidência de dengue. A região costeira que vai de Santos, em São Paulo, até Belém, no Pará, apresentava tipicamente maior proporção de casos de dengue em comparação com sua população. Entretanto, recentemente, o oeste do Paraná, o oeste de Santa Catarina o oeste de São Paulo, o interior de Minas Gerais, uma parte do Tocantins, o Goiás e o Mato Grosso do Sul viram a transmissão da doença aumentar e muitas de suas cidades foram obrigadas a decretar emergência.

Adaptado de <https://www.estadao.com.br>

A respeito dos fatores relacionados ao aumento e à interiorização dos casos de dengue no Brasil, analise as afirmativas a seguir.

- I. A maior frequência de períodos com temperaturas acima da média, inclusive com ondas de calor no período invernal em todo território, tem reforçado o padrão sazonal da doença.
- II. A expansão urbana desvinculada de melhoras nos serviços sanitários tem propiciado a formação de ilhas de calor e, portanto, uma alta na incidência da dengue.
- III. O desmatamento do cerrado, convertido em pasto, por exemplo, tem contribuído para aumentar a temperatura média e o número de casos da doença no interior do Brasil.

Está correto o que se afirma em

- (A) I, apenas.
- (B) I e II, apenas.
- (C) I e III, apenas.
- (D) II e III, apenas.
- (E) I, II e III.

26

As afirmativas a seguir descrevem corretamente o desempenho da economia brasileira em 2023, à exceção de uma. Assinale-a.

- (A) A expansão econômica ampliou a geração de empregos informais, em um contexto recessivo e de flexibilização das leis trabalhistas.
- (B) O dinamismo da economia foi marcado pelo aumento de exportações, no setor agrícola, e da demanda, no setor de serviços, em função da alta no consumo das famílias.
- (C) A alta progressiva nas cotações internacionais de commodities acelerou o ritmo das exportações, mesmo em um cenário cambial desfavorável para os exportadores.
- (D) A retração do Brasil no mercado regional e internacional ocorreu em função da maior competitividade dos produtos agrícolas argentinos e pela retomada da economia chinesa.
- (E) A persistência do alto nível da inflação foi ocasionada pela alta da cesta básica, sobretudo dos alimentos, cujas safras foram afetadas pelas condições climáticas adversas.

27

Em 2024, o Tribunal Superior Eleitoral (TSE) aprovou uma resolução para regulamentar o uso da inteligência artificial (IA) durante as eleições municipais a serem realizadas em outubro. A norma proíbe manipulações de conteúdo falso para criar ou substituir imagem ou voz de candidato com objetivo de prejudicar ou favorecer candidaturas. Também foi aprovada a restrição do uso de chatbots humanizados e avatares para intermediar a comunicação das campanhas com pessoas reais nas redes sociais.

Adaptado de <https://agenciabrasil.ebc.com.br/>

A resolução sobre IA objetiva

- (A) coibir a produção e circulação de *deepfakes*.
- (B) restringir o uso de ferramentas de IA simbólica.
- (C) retomar a veiculação de propagandas eleitorais em mídias tradicionais, como rádio e televisão.
- (D) proibir o uso de ferramentas de coleta e seleção em bases de dados com fins eleitorais.
- (E) limitar o uso de assistente virtual programado por AI para divulgação do programa partidário.

28

Assinale a afirmativa que descreve corretamente um aspecto do panorama global da economia em 2023.

- (A) Nos Estados Unidos, a economia foi alavancada pela adoção de uma política de ampliação do crédito e baixa da taxa de juros.
- (B) Na China, o PIB cresceu acima do esperado, em um cenário marcado pela retomada econômica pós pandemia, inclusive no setor imobiliário.
- (C) Na Zona do Euro, a alta dos preços da energia pesou nas despesas familiares e no setor industrial, confirmando a manutenção de um quadro de crise.
- (D) Na Rússia, o PIB decresceu, em função do impacto prolongado da guerra com a Ucrânia e dos embargos à venda de petróleo e gás russos.
- (E) Na América do Sul, foi mantido um caminho geral de crescimento, apoiado por investimentos externos e pela intensificação de políticas estatistas.

29

Um supercomputador consiste em milhares de pequenos computadores chamados nós. Cada nó é equipado com sua própria memória e com vários processadores. Atuando em conjunto, eles são capazes de realizar cálculos extremamente complexos em elevada velocidade. Hoje, o maior supercomputador da América Latina é o Pégaso, da Petrobras, com 678 TB de memória RAM e mais de 233 mil núcleos.

Adaptado de <https://revistapesquisa.fapesp.br>

A respeito do poder computacional de alto desempenho dos supercomputadores, analise as afirmativas a seguir e assinale (V) para a verdadeira e (F) para a falsa.

- ( ) Essas máquinas são instrumentos valiosos de pesquisa e de suporte a setores da economia como defesa, energia e saúde, permitindo a resolução de problemas complexos em menor tempo.
- ( ) Esses equipamentos permitem realizar tarefas que exigem altíssimos níveis de processamento, como simulações da formação do universo ou modelagem molecular para novos fármacos.
- ( ) Esses aparelhos trabalham em alta velocidade de processamento pelo somatório de diversos núcleos, o que potencializa a velocidades do processador, medidas em gigahertz (GHz).

As afirmativas são, respectivamente,

- (A) V – V – F.
- (B) V – F – V.
- (C) F – V – F.
- (D) F – V – V.
- (E) V – V – V.

30

No início do ano corrente, a Petrobras anunciou ter alcançado em 2023 o segundo maior valor de lucro líquido de sua história. Mesmo assim, suas ações caíram no mercado financeiro, em função da disputa sobre os dividendos.

A respeito dos resultados financeiros da Petrobras nos últimos anos e da política de distribuição de dividendos da empresa, assinale a afirmativa correta.

- (A) A Petrobras é uma empresa estatal de economia mista que monopoliza a indústria petroleira no Brasil.
- (B) A Petrobras é uma estatal administrada diretamente por órgãos governamentais que controlam o valor das suas ações.
- (C) A Petrobras direciona parte dos dividendos para investidores privados, e outra parte para o governo federal, que controla a empresa via Tesouro e BNDES.
- (D) A Petrobras, sob o Governo Bolsonaro, reduziu o pagamento de dividendos a acionistas privados para reinvesti-los em energia renovável.
- (E) A Petrobras, no atual governo, vendeu ativos e distribuiu o lucro e os valores recordes de dividendos entre seus acionistas para financiar projetos do BNDES.

31

Dados da última década mostram que, em relação aos Estados, o Pará é o que apresenta o maior número de registros de resgates de trabalho análogo à escravidão, com 9.853, seguido por Mato Grosso (4.302); Tocantins (2.896); São Paulo (1.529) e Rio de Janeiro (1.653), em 2017.

Adaptado de <https://www.jota.info/justica/em-14-anos-434-mil-foram-resgatados-de-trabalho-escravo-30102017>

A respeito da definição moderna de escravidão, analise as afirmativas a seguir.

- I. Em Tocantins, a maior incidência de escravidão moderna ocorre na zona rural, associada a atividades agropecuárias e ao extrativismo mineral, como nas carvoarias, por exemplo.
- II. A Organização Internacional do Trabalho determina a condição de escravidão por uma série de componentes, como o trabalho forçado análogo ao de escravo e o casamento forçado.
- III. Pessoas obrigadas a trabalhar por dívida ou por ameaça, sem direitos trabalhistas garantidos estão em situação de escravidão, uma vez que lhes é impedida a liberdade de ir e vir.

Está correto o que se afirma em

- (A) I, apenas.
- (B) I e II, apenas.
- (C) I e III, apenas.
- (D) II e III, apenas.
- (E) I, II e III.

32

Energia gerada por recursos naturais renováveis que, no Brasil, provém da lenha, carvão vegetal, carvão mineral, bagaço de cana e outros resíduos combustíveis. Essa energia é a matéria orgânica vegetal ou animal usada como fonte de energia limpa e sustentável.

O trecho descreve o seguinte componente importante do desenvolvimento sustentável:

- (A) compostagem.
- (B) biodiversidade.
- (C) créditos de carbono.
- (D) ciclo de vida.
- (E) biomassa.

## História e Geografia do Estado de Tocantins

33

Leia a descrição de uma classe de vegetação presente no estado do Tocantins, a seguir.

*Esta vegetação, também conhecida como floresta pluvial tropical, é caracterizada por árvores de porte elevado, além de trepadeiras lenhosas e epífitas (bromélias e orquídeas, por exemplo) em abundância, o que a diferencia de outras classes de formação vegetal. Sua característica ecológica principal é estar presente em ambientes de chuvas abundantes, como na parte noroeste do Estado, onde as temperaturas médias são de 25°C e os elevados índices de precipitação estão bem distribuídos ao longo do ano.*

Adaptado de Luís Antônio G. C. Silva. *Biomias presentes no Estado do Tocantins*. Brasília: Câmara dos Deputados, 2007, p. 4.

O trecho caracteriza a região conhecida como Floresta

- (A) Estacional Semidecidual.
- (B) Tropical Subcaducifólia.
- (C) de Mata Atlântica.
- (D) Ombrófila Densa.
- (E) Temperada Decidual.

34

Comparando dados dos censos do IBGE, pode-se elaborar um retrato da evolução demográfica da população residente no Estado de Tocantins. O grupo na faixa etária de 0 a 14 representava 41,7% da população em 1991, 28,8% em 2010, e passou para 24% em 2022. A população acima de 65 anos era de 3,8% em 1991 e 5,8% em 2010, e ficou em 8,6% em 2022. O censo de 2022 mostrou ainda que a faixa etária de 15 a 29 anos representa 15% da população e que 41% da população é composta por pessoas de 30 a 59 anos.

Com base no trecho, assinale a opção que apresenta a dinâmica populacional do Tocantins entre 1991 e 2022.

- (A) Expansão da base da pirâmide etária.
- (B) Diminuição da taxa de fecundidade.
- (C) Estreitamento do topo da pirâmide.
- (D) Aumento da idade mediana.
- (E) Redução do índice de envelhecimento.

35

*Foram inegáveis os desdobramentos socioeconômicos sobre o antigo Norte Goiano fruto da construção da rodovia BR-153, a partir do final da década de 1950. O novo urbanismo da Belém-Brasília trouxe enorme impacto no que se refere ao conjunto de cidades que existiam às margens do rio Tocantins, aos fluxos migratórios e às atividades econômicas da região.*

Adaptado de AQUINO, N. *Tocantins: cidades e urbanismo em três modelos históricos*. In: III Encontro da ANPPAS. Brasília, 2006, p. 8.

As afirmativas a seguir descrevem corretamente impactos da rodovia BR-153 no processo de territorialização do Tocantins, **à exceção de uma**. Assinale-a.

- (A) A rodovia foi construída no governo Kubitschek, em um contexto desenvolvimentista que considerava a expansão rodoviária como um meio para integrar econômica e territorialmente as regiões do país, inclusive o norte goiano que, então, vivia uma situação de abandono.
- (B) A rodovia Belém-Brasília teve grande importância para a urbanização do atual Tocantins, o que é exemplificado pela quantidade de novas cidades criadas após a sua construção, como Araguaína, Gurupi, Paraíso do Tocantins, Colinas do Tocantins e Guarai.
- (C) A construção da BR-153 alavancou também os municípios ribeirinhos, pois a navegação fluvial foi intensificada para abastecer as obras em curso, o que transformou esses municípios em satélites econômicos da nova malha urbana instalada ao longo da rodovia.
- (D) Após a abertura da rodovia, as principais áreas que receberam fluxos migratórios foram a Microrregião de Gurupi – Gurupi e a Microrregião de Porto Nacional – Palmas, para onde se dirigiram pessoas interessadas em trabalhar na construção civil, nos serviços e no comércio, entre outros.
- (E) A BR-153 permitiu interligar o norte de Goiás, atual Estado do Tocantins, a outras localidades do país, facilitando o escoamento da produção e o acesso a produtos para a região, promovendo o fluxo de mercadorias e serviços.

36

O Memorial Coluna Prestes (2001) é uma obra do arquiteto Oscar Niemeyer localizada na Praça dos Girassóis, no centro de Palmas (TO).



Fonte: <https://central.to.gov.br/image/146145?f=1>

A respeito da relação entre essa obra e a constituição de uma memória histórica para o Estado do Tocantins, analise as afirmativas a seguir.

- I. O monumento refere-se à Coluna Prestes, que percorreu o Brasil para divulgar seu programa revolucionário entre 1924 e 1927, tendo passado pelo Norte do então Estado de Goiás (atual Tocantins) durante seu percurso.
- II. A obra foi realizada em concreto e apresenta curvas sinuosas, características próprias do Barroco das cidades mineradoras, estabelecendo visualmente uma continuidade entre o Barroco do passado das cidades mineradoras e o presente do Tocantins.
- III. A construção do memorial permite inserir simbolicamente a história do Tocantins nos grandes processos da história republicana nacional, e homenagear o Tenente Antônio de Siqueira Campos, cujo sobrenome é homônimo ao do ex-governador do Estado.

Está correto o que se afirma em

- (A) I, apenas.
- (B) I e II, apenas.
- (C) I e III, apenas.
- (D) II e III, apenas.
- (E) I, II e III.

37

Até 1988, o território que hoje corresponde ao Estado do Tocantins pertencia ao antigo norte de Goiás e à Região Centro-Oeste, tendo como capital política a cidade de Goiânia. Com a emancipação política, da noite para o dia, as pessoas amanheceram tocantinenses, mas sem referências culturais que as representassem como tais.

A respeito da projeção simbólica do novo Estado e de sua nova capital, assinale a opção que interpreta corretamente o processo de construção e atribuição de uma identidade ao Tocantins.

- (A) Desde o primeiro mandato do governador Siqueira Campos, os símbolos oficiais do Tocantins continuaram sendo o brasão de armas, a bandeira, o selo estadual e a canção “Hino ao Tocantins”, de Liberato Costa Póvoa e Abiezer Alves da Rocha.
- (B) O girassol foi reconhecido oficialmente como símbolo da natureza do Estado, por ser uma planta nativa dos cerrados tocantinenses e estar associada à prosperidade e à esperança.
- (C) A Praça dos Girassóis, centro cívico de Palmas, foi concebida para receber edifícios esteticamente associados à cultura do Tocantins, como o Palácio do Araguaia, cujos pórticos remetem ao capim dourado, símbolo da tradição do artesanato de alta qualidade da região.
- (D) A monumentalidade da Praça dos Girassóis é enfatizada pelo seu pavimento, que contém figuras simbólicas como o mapa do Tocantins, a rosa dos ventos, o brasão de armas e a Praça Krahô.
- (E) O meio ambiente também foi utilizado para fortalecer o sentimento identitário, inserindo o girassol, a fava-de-bolota, a arara-canindé e a granada como símbolos da natureza do Tocantins, desde a promulgação da Constituição Estadual em 1989.

38

A respeito da matriz energética do Estado e dos investimentos em biocombustíveis, analise as afirmativas a seguir e assinale (V) para a verdadeira e (F) para a falsa.

- ( ) O Estado tem condições de clima e solo desfavoráveis para o plantio de matérias-primas usadas na fabricação de biocombustíveis, mas a expansão do modal logístico (Ferrovia Norte-Sul) permitirá o acesso à soja do planalto goiano.
- ( ) O Tocantins conta com duas usinas de biodiesel em funcionamento, utilizando o pinhão-manso, a soja, a mamona e outras oleaginosas como matéria-prima.
- ( ) O Estado tem alto potencial de geração de energia solar, pela elevada irradiação solar e pelas políticas públicas voltadas para produção de energia limpa e renovável, como a Política Estadual de Incentivo à Geração e ao Uso da Energia Solar (Pró-Solar)

As afirmativas são, respectivamente,

- (A) V – F – V.  
 (B) F – V – V.  
 (C) F – F – V.  
 (D) V – V – F.  
 (E) V – V – V.

39

*As belas paisagens como serras, cachoeiras, praias e até mesmo dunas, fazem do Tocantins um paraíso de paisagens naturais, atraindo turistas de várias regiões para conhecer o mais novo Estado brasileiro. A potencialidade para o ecoturismo e a preocupação em conservar a biodiversidade e recursos naturais nele contidos fez com que o Governo do Estado, criasse e implementasse as Unidades de Conservação Ambiental (UC).*

Adaptado de <https://www.to.gov.br/secom/>

A respeito das Unidades de Conservação (UC) do Tocantins, assinale a afirmativa correta.

- (A) São espaços territoriais legalmente instituídos pelo poder público e podem ser de proteção integral federal, como no caso dos Parques Cantão, Jalapão e Lajeado.
- (B) As UCs federais estão subordinadas ao Instituto Chico Mendes de Conservação da Biodiversidade (ICMBio), como no caso do Monumento Natural das Árvores Fossilizadas.
- (C) As UCs estaduais estão subordinadas ao Instituto Natureza do Tocantins (Naturatins), que supervisiona o Parque do Araguaia e o das Nascentes do rio Parnaíba.
- (D) As UCs de uso sustentável são compostas exclusivamente por áreas públicas, sendo permitida sua utilização apenas para o ecoturismo, pesquisa e educação ambiental.
- (E) As UCs municipais estão subordinadas às secretarias de meio ambiente, como no caso do Monumento Natural dos Cânions e Corredeiras do Rio Sono e do Parque Ecológico Roberto Guedes Pereira.

40

O Estado do Tocantins possui diversas comunidades quilombolas certificadas e outras com processo formalizado para regularização fundiária de seus territórios. A definição de comunidade quilombola é dada pelo Art. 2º do Decreto nº 4.887/2003:

*Consideram-se remanescentes das comunidades dos quilombos, para os fins deste Decreto, os grupos étnico-raciais, segundo critérios de auto-atribuição, com trajetória histórica própria, dotados de relações territoriais específicas, com presunção de ancestralidade negra relacionada com a resistência à opressão histórica sofrida.*

A respeito dos órgãos e processos envolvidos na identificação e regularização de territórios quilombolas no Estado do Tocantins, assinale a afirmativa correta.

- (A) O acesso dessas comunidades às políticas públicas de educação, saúde, moradia e regularização fundiária depende de o Estado emitir uma certidão de identificação de comunidade quilombola, mediante Fundação Palmares.
- (B) Os critérios para reconhecimento de um grupo enquanto remanescente de quilombo depende da comprovação de sua ancestralidade, seu parentesco e da preservação viva de religiosidades autenticamente africanas.
- (C) A Coordenação Nacional de Articulação de Comunidades Negras Rurais Quilombolas (CONAQ) luta pela incorporação constitucional do direito à autodefinição dos remanescentes de quilombos.
- (D) A certificação quilombola é realizada pela Fundação Cultural Palmares, que avalia com visitas técnicas a autenticidade do legado quilombola pretendido e, caso o aprove, emite a certidão de comunidade quilombola e a inscreve em um cadastro geral.
- (E) O acesso às terras ocupadas pelos remanescentes das comunidades dos quilombos é garantido por sua delimitação e titulação, a cargo da autoridade municipal em que a mesma se localiza.

## CONHECIMENTOS ESPECÍFICOS

41

*Os tablets educacionais de Inteligência Artificial (IA) estão ganhando popularidade na China. Isso inclui um chatbot para conversar com os alunos em inglês, uma ferramenta de quiz gamificada para analisar os resultados de testes e um software de OCR (reconhecimento óptico de caracteres) que alega ser capaz de digitalizar e avaliar redações manuscritas do mesmo modo que um professor.*

Adaptado de Parents turn to AI tablets after China's tutor crackdown, *Rest of World* in: <https://restofworld.org/2024/china-student-tablet-ai/>.

Embora as novas ferramentas de IA ofereçam recursos úteis para o processo educacional, ainda há dimensões não contempladas por essas tecnologias. Este é o caso da

- (A) comunicação responsiva, na qual o aluno é capaz de expressar as suas questões e obter *feedback* imediato.
- (B) avaliação de resultados, em que o progresso de aprendizado dos alunos é estimado de acordo com seu desempenho.
- (C) interação pessoal, mediante a qual os envolvidos no processo podem desenvolver competências socioemocionais.
- (D) leitura de texto, com a qual o professor é capaz de observar de perto as capacidades de raciocínio do aluno.
- (E) assistência individualizada, por meio da qual o aluno pode ser auxiliado conforme suas necessidades singulares.

42

Um professor de matemática está apresentando pela primeira vez o conceito de fração. Alguns alunos conseguem entender rapidamente com as explicações iniciais, enquanto outros apresentam imensas dificuldades. O professor propõe uma dinâmica de grupos de alunos, em cada um deles tem pelo menos um aluno que já compreendeu bem o conceito de frações. Ele incentiva os alunos mais avançados a explicarem o conceito aos demais em suas próprias palavras.

A dinâmica proposta pelo professor na situação descrita se baseia no conceito de

- (A) temas-geradores.
- (B) zona de desenvolvimento proximal.
- (C) equilíbrio.
- (D) aprendizagem baseada em projetos.
- (E) instrução direta.

43

*A teoria herbartiana diz que, após a preparação, o professor já pode fazer a apresentação do novo assunto aos alunos – os conceitos morais, históricos e científicos que serão a matéria do processo de ensino-aprendizagem: eles são o carro-chefe do processo mental, e são eles que guiam os interesses dos alunos.*

GHIRALDELLI JR., P. História da educação brasileira. São Paulo: Cortez, 2008.

Na concepção de Frank Herbart, a fase da preparação consiste em

- (A) envolver os alunos em experiências educativas baseadas em seus interesses e necessidades.
- (B) conscientizar os alunos de maneira crítica sobre suas realidades sociais com vistas à transformação.
- (C) criar conexões entre o conhecimento prévio do aluno e o novo conteúdo a ser apreendido.
- (D) produzir um ambiente de aprendizado autodirigido, favorecendo a exploração independente.
- (E) refletir filosoficamente sobre a educação, buscando entender seus fundamentos e propósitos.

44

Em uma escola é organizado um treinamento para professores. Seu objetivo é o de integrar recursos digitais ao desempenho de suas funções. Os professores são apresentados a plataformas de ensino *online*, a aplicativos educativos e a ferramentas de colaboração virtual.

O indicador adequado para avaliar a eficácia desse treinamento é

- (A) a frequência com que os professores discutem sobre tecnologia digital em reuniões de professores.
- (B) o entusiasmo inicial dos professores em relação à adoção de tecnologias digitais em sala de aula.
- (C) a regularidade com que os professores utilizam aplicativos educativos em suas práticas pedagógicas.
- (D) o aumento nas publicações nas redes sociais pelos professores sobre o uso de tecnologia em sala de aula.
- (E) a percepção dos professores sobre sua própria competência no uso de ferramentas digitais após o treinamento.

45

A avaliação de uma ação de capacitação é realizada através de quatro níveis, cada um podendo revelar possíveis falhas na execução do programa.

Correlacione cada nível de avaliação com o resultado problemático correspondente.

1. Reação
  2. Aprendizagem
  3. Comportamento
  4. Resultados
- ( ) Testes pré e pós-capacitação indicam mínima melhoria no entendimento sobre o tema tratado, sugerindo uma absorção ineficaz das informações.
  - ( ) Não há evidências de melhoria no desempenho dos participantes, sugerindo que os objetivos do programa de capacitação educacional não foram atingidos.
  - ( ) Observações e feedbacks indicam que os participantes não aplicaram as estratégias aprendidas, revelando uma falha em traduzir teoria em prática.
  - ( ) Participantes reportam insatisfação, citando material confuso e falta de interatividade, sentindo que o curso não atendeu às suas necessidades.

Assinale a opção que indica a relação correta, na ordem apresentada.

- (A) 1 – 3 – 2 – 4.
- (B) 1 – 4 – 2 – 3.
- (C) 4 – 2 – 3 – 1.
- (D) 2 – 4 – 3 – 1.
- (E) 4 – 3 – 2 – 1.



46

Adotando uma abordagem centrada em competências, o processo de aprendizagem engloba a aquisição de conhecimentos, o desenvolvimento de habilidades e a formação de atitudes.

Assinale a opção que apresenta, corretamente e respectivamente, exemplos de conhecimentos, habilidades e atitudes.

- (A) Entendimento das leis de Newton; resolver problemas de física aplicando as leis de Newton; motivação para explorar e aplicar conceitos de física em situações reais.
- (B) Tocar um instrumento musical; ler partituras musicais com fluência; persistência no aprimoramento constante das técnicas musicais.
- (C) Cozinhar pratos de diversas culinárias; abertura para experimentar e aprender novas receitas; conhecimento sobre os ingredientes e suas origens culturais.
- (D) Conhecimento avançado em programação de computadores; desenvolver softwares complexos; depurar código eficientemente.
- (E) Proatividade no trabalho em equipe; comunicar-se eficazmente em apresentações; organizar e liderar reuniões de projeto.

47

Com relação ao conceito de Didática, analise as afirmativas a seguir e assinale (V) para a verdadeira e (F) para a falsa.

- ( ) A didática se vale tanto de correntes filosóficas quanto de descobertas científicas, especialmente da biologia, para estruturar seus métodos e práticas.
- ( ) É da essência da didática a centralidade atribuída à figura do professor, visto como o pilar ativo no processo de ensino-aprendizagem.
- ( ) Didática e Pedagogia referem-se ao mesmo campo de estudo, isto é, a reflexão sistemática sobre as metas e finalidades últimas da educação.

As afirmativas são, respectivamente,

- (A) F – V – F.
- (B) F – V – V.
- (C) V – F – F.
- (D) V – V – F.
- (E) F – F – V.

48

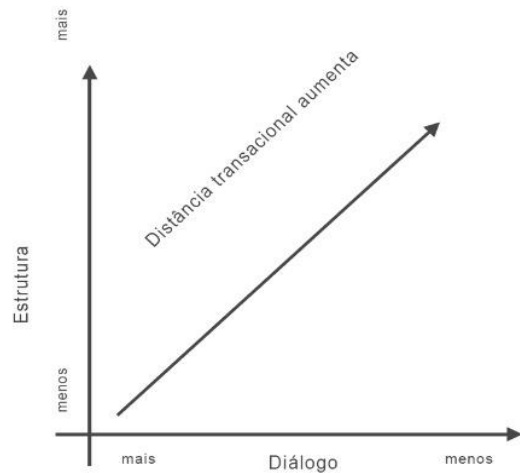
Em uma equipe de trabalho, Ana era reconhecida como a melhor comunicadora, realizando sempre ótimas apresentações. Essa percepção fez com que todos confiem nela para representar o grupo em reuniões importantes. Recentemente, porém, Ana tem evitado essas tarefas devido ao nervosismo, delegando a colegas sem comunicar abertamente suas dificuldades. Apesar disso, a equipe continua a elogiá-la por um trabalho que ela não mais realiza.

Com relação ao desempenho de papéis em organizações, assinale a opção que explica a situação descrita acima.

- (A) Reconhecimento de Ana pela equipe devido ao desempenho do papel esperado.
- (B) Conflito de papel por parte de Ana decorrente de expectativas ambíguas da equipe.
- (C) Má comunicação da equipe em relação ao problema no papel realizado por Ana.
- (D) Adaptação bem-sucedida entre o papel percebido de Ana e o papel esperado pela equipe.
- (E) Discrepância entre o papel esperado pela equipe e o papel realizado por Ana.

49

Considere o gráfico a seguir:



Extraído de MOORE, M. G. "The Theory of Transactional Distance". In: *Handbook of Distance Education*. New York: Routledge, 2019.

Com base na teoria da distância transacional de Moore e na leitura do gráfico acima, é correto afirmar que

- (A) cursos altamente estruturados podem prejudicar a comunicação entre os alunos e o instrutor.
- (B) uma maior autonomia do estudante tende a elevar a distância transacional no processo educacional.
- (C) o diálogo tem um impacto limitado na redução da distância transacional em cursos menos estruturados.
- (D) uma baixa estrutura pode levar a um maior isolamento dos alunos em relação ao processo educacional.
- (E) a qualidade do processo de ensino-aprendizagem cresce com níveis mais elevados de estrutura e diálogo.

50

Com relação ao conceito de Cultura Organizacional, analise os itens a seguir.

- I. Influencia diretamente o comportamento dos membros da organização e, reciprocamente, é moldada pelas características individuais de cada um.
- II. Abrange tanto elementos explicitamente reconhecidos e promovidos pela organização quanto elementos implícitos, que permeiam o ambiente de trabalho de maneira sutil.
- III. Enquanto construção subjetiva, a cultura organizacional se afasta das práticas tangíveis e observáveis da organização, como seus rituais e a linguagem utilizada.

É correto o que se afirma em

- (A) I, II e III.
- (B) I e II, apenas.
- (C) I e III, apenas.
- (D) II e III, apenas.
- (E) II, apenas.

51

*Todo planejamento educacional, para qualquer sociedade, tem de responder às marcas e aos valores dessa sociedade. Só assim, é que pode funcionar o processo educativo, ora como força estabilizadora, ora como fator de mudança. Às vezes, preservando determinadas formas de cultura. Outras, interferindo no processo histórico instrumental.*

Paulo Freire. Educação e atualidade brasileira. São Paulo: Cortez, 2001, p. 10.

*A ação de planejar não se reduz ao preenchimento de formulários para controle administrativo, é, antes, a atividade consciente da previsão das ações político-pedagógicas, tendo como referência permanente as situações didáticas concretas (isto é, a problemática social, econômica, política e cultural) que envolvem a escola, os professores, os alunos, os pais, a comunidade, que integram o processo de ensino.*

José Carlos Libâneo. Didática. São Paulo: Cortez, 2013, p. 246.

Com base nos trechos, é correto afirmar que, para os dois autores, o planejamento educacional

- (A) deve ser construído com a colaboração de toda a comunidade escolar.
- (B) decorre do conhecimento e observância das normas pedagógicas.
- (C) consiste na programação dos passos para cumprir metas educacionais
- (D) tem como ponto de partida uma leitura crítica da realidade social.
- (E) fundamenta-se na visão do aluno ideal para selecionar estratégias aptas à assimilação ativa.

52

Assinala o fluxo escolar e as médias de desempenho nas avaliações, sendo calculado com base nos dados sobre aprovação escolar e com as médias de desempenho. Agrega a possibilidade de resultados sintéticos ao enfoque pedagógico das avaliações em larga escala, permitindo traçar metas de qualidade educacional.

Assinale a opção que indica corretamente o indicador educacional necessário para as atividades de planejamento estratégico institucional descrito no trecho.

- (A) Censo Escolar.
- (B) Plano de Ações Articuladas (PAR).
- (C) Índice de Desenvolvimento da Educação Básica (Ideb).
- (D) Plano de Desenvolvimento Educacional (PDE-Escola).
- (E) Sistema de Avaliação da Educação Básica (Saeb).

53

No campo educacional existem diferentes tipos de planejamento, em função dos diferentes contextos e objetivos, os quais são efetivados em níveis e âmbitos distintos.

Assinale a afirmativa que indica corretamente um processo de planejamento e seu respectivo âmbito de aplicação.

- (A) No âmbito dos *Sistemas e Redes de Ensino*, o planejamento concretiza-se pela elaboração do Projeto Político-Pedagógico, capaz de unir teoria e prática, alavancando a tomada de decisões acerca das finalidades da educação básica.
- (B) No âmbito da *Unidade Escolar*, o planejamento da escola se concretiza na organização do trabalho didático, o que implica definir objetivos, prever unidades sequenciais, selecionar metodologias e estabelecer procedimentos de avaliação.
- (C) No âmbito do *Ensino*, o planejamento visa assegurar o acompanhamento e o controle administrativo do desempenho docente em relação à política educacional implementada.
- (D) No âmbito da *Unidade Escolar*, o planejamento destaca os objetivos de aprendizagem, articulando-os com o conteúdo programático e com estratégias de integração do estudo com a comunidade e a realidade do educando.
- (E) No âmbito dos *Sistemas e Redes de Ensino*, o planejamento implica a tomada de decisões e a implementação de ações para materializar uma política educacional que, em sociedades democráticas, é construída coletivamente.

54

Os conteúdos de ensino representam o conjunto de conhecimentos, competências e atitudes cuja assimilação e apropriação por estudantes são consideradas essenciais para seu desenvolvimento e para sua socialização.

A respeito da estruturação de conteúdos de ensino, correlacione os critérios para seleção de conteúdos listados com a descrição correspondente.

1. Viabilidade
2. Flexibilidade
3. Possibilidade de elaboração pessoal
4. Utilidade

- ( ) Os conteúdos selecionados devem ser passíveis de modificação, atualização, e de aprofundamento de acordo com as mudanças na produção e reais condições.
- ( ) Os conteúdos devem poder ser assimilados e transformados pelo próprio estudante, o qual pode associar comparar, compreender, selecionar, organizar, criticar e avaliar novos conteúdos.
- ( ) Os conteúdos adquiridos devem poder ser aplicados em situações novas, assumindo valor prático para os alunos, ajudando-os em sua vida cotidiana a solucionar problemas.
- ( ) Os conteúdos selecionados devem ser apreensíveis dentro das disponibilidades de tempo e nível de compreensão da classe, respeitando os diversos graus de maturidade intelectual dos alunos.

Assinale a opção que indica a relação correta, na ordem apresentada.

- (A) 1 – 3 – 2 – 4.
- (B) 1 – 4 – 2 – 3.
- (C) 4 – 2 – 3 – 1.
- (D) 2 – 3 – 4 – 1.
- (E) 4 – 3 – 2 – 1.

55

Na educação, decidir e definir os objetivos de aprendizagem significa estruturar o processo educacional de modo a oportunizar mudanças de pensamentos, ações e condutas. Essa estruturação resulta de um processo de planejamento diretamente relacionado à escolha de conteúdos, procedimentos, avaliações que devem permitir aos alunos desenvolver seus domínios cognitivo, afetivo e psicomotor de modo gradual, por escalas progressivas de dificuldade.

O trecho se refere a um instrumento existente para apoiar o planejamento didático-pedagógico, conhecido como

- (A) metacognição.
- (B) autorregulação.
- (C) taxonomia de bloom.
- (D) planejamento reverso.
- (E) desenvolvimento cognitivo.

56

Donald Kirkpatrick idealizou um processo de avaliação de programas educacionais em quatro níveis hierarquizados por complexidade, custo e tempo de avaliação.



As opções a seguir caracterizam corretamente os níveis de avaliação de programas educacionais segundo à pirâmide de Kirkpatrick, **à exceção de uma**. Assinale-a.

- (A) O primeiro nível corresponde ao grau de satisfação do indivíduo com o processo de aprendizado.
- (B) O segundo nível diz respeito ao aumento de conhecimento e ao aprimoramento de habilidades adquiridas.
- (C) O terceiro nível avalia se o novo aprendizado produz mudanças de comportamento ou capacidades, permitindo sua aplicação na vida prática.
- (D) O quarto nível foca no impacto do treino oferecido pelo programa educacional, mensurável por meio de mudanças organizacionais, de produto ou fluxos, por exemplo.
- (E) Os primeiros dois níveis medem as mudanças antes e depois do treinamento, ao passo que os últimos dois identificam a motivação resultante do aprendizado mediante questionários e entrevistas, por exemplo.

57

A tecnologia da informação e a digitalização mudaram o modo como as pessoas estudam e se comunicam. Diante disso, o processo de ensino-aprendizagem passou a contar cada vez mais com metodologias ativas de aprendizagem, como a descrita a seguir:

*É um procedimento de ensino no qual o docente apresenta um tema que deverá ser investigado pelos alunos, normalmente em pequenos grupos, responsáveis pelo levantamento do material e pela apresentação dos resultados para os demais colegas.*

O trecho se refere à metodologia ativa conhecida como

- (A) seminário.
- (B) gamificação.
- (C) sala de aula invertida.
- (D) aprendizagem baseada em projetos.
- (E) aprendizagem baseada em problemas.

58

*O círculo de cultura foi visto, durante muitos anos, muito mais como uma ideia a respeito da educação do que uma metodologia de ensino. Sua aplicação inicial estava restrita aos processos de alfabetização – em especial de adultos – e ganhou maior visibilidade com a divulgação dos trabalhos de Paulo Freire. O nome deve-se à ideia de que todos estão inseridos no debate e possuem o mesmo valor para participação. A ideia é que todos possam se olhar sob as mesmas condições e com a mesma possibilidade de participação. O professor, em um primeiro momento, deve atuar como um animador, auxiliando na identificação de um tema comum e estimulando que todos se manifestem.*

Adaptado de Bruno Taranto Malheiros.  
Didática Geral. São Paulo: LTC/Gen, 2019, p. 165.

Com base no trecho, assinale a afirmativa que indica corretamente a premissa que embasa o processo de ensino-aprendizagem *círculo de cultura*.

- (A) A construção do conhecimento se dá de maneira coletiva.
- (B) A leitura e a escrita são os meios privilegiados para absorção do conteúdo curricular.
- (C) O aprimoramento da sintaxe e das capacidades expressivas embasa a cognição.
- (D) O processo de aprendizagem realiza-se mediante percursos individuais e personalizados.
- (E) O uso de desafios progressivos desenvolve a aprendizagem e a atitude empreendedora.

59

A questão do ensino não se limita à habilidade de dar aulas, também envolve a efetivação de levar ao aprender. O vínculo entre aprendizagem e ensino não é causal, ou seja, o ensino não causa a aprendizagem nem desenvolve novas capacidades que podem levar à aprendizagem. Ensinar e aprender estão vinculados: a significação do ensino depende do sentido que se dá à aprendizagem e a significação da aprendizagem depende das atividades geradas pelo ensino.

Adaptado de Marlla Paiva, José Reginaldo Parente, Israel Brandão, Ana Helena Queiroz. Metodologias ativas de ensino-aprendizagem. In *SANARE*, Sobral, 2016, v.15 n. 02, p.147.

Com base no trecho, assinale a afirmativa que interpreta corretamente o sentido do processo de ensino-aprendizagem apresentado pelos autores.

- (A) Os procedimentos de ensino são tão importantes quanto os próprios conteúdos de aprendizagem, uma vez que ambos servem para informam os educandos.
- (B) O ensino e a aprendizagem têm caráter dialético e resultam de um processo de construção em que ensinar está diretamente relacionado a aprender.
- (C) Educador e educando são sujeitos do processo de ensino-aprendizagem, uma vez que o primeiro promove a aprendizagem transmitindo seus conhecimentos ao segundo.
- (D) A operacionalização do ensino baseia-se em uma concepção bancária da educação, pois desenvolve a compreensão do mundo em sua relação com a realidade em transformação.
- (E) A aprendizagem é uma atividade espontânea, potencializada pelas capacidades cognitivas dos educandos, quando propensos ao aprimoramento da abstração.

60

Com relação às principais metodologias ativas de aprendizagem, analise as afirmativas a seguir e assinale (V) para a verdadeira e (F) para a falsa.

- ( ) A rapidez na produção do conhecimento e a facilidade de acesso à informação contribuíram para a crise do modelo de ensino baseado na transmissão de informações por parte do professor, cuja atuação perdeu importância, sendo substituído no processo educacional por métodos ativos.
- ( ) As metodologias ativas fundam-se na ideia de que o processo de aprendizagem torna-se efetivo apenas quando o objeto do conhecimento é incorporado às estruturas cognitivas do aprendiz, podendo ser aplicado na prática.
- ( ) Métodos ativos já eram defendidos por Piaget, Freire e Dewey, para os quais os métodos de ensino tradicionais eram ineficientes uma vez que não eram orientados pela perspectiva do processo de aprendizagem.

As afirmativas são, respectivamente,

- (A) F – V – F.
- (B) F – V – V.
- (C) V – F – F.
- (D) V – V – F.
- (E) F – F – V.

61

As trilhas são caminhos alternativos e flexíveis de desenvolvimento profissional, focadas em competências específicas para o trabalho e, também, para a vida. Nas trilhas de aprendizagem as pessoas aprendem trabalhando e trabalham treinando, permitindo conexão entre teoria e prática, entre conhecimento e ação.

Adaptado de CARBONE, P. P. "Trilhas de aprendizagem". Texto baseado no fascículo "Trilhas de Aprendizagem" do Banco do Brasil, ano V, nº 24, 2001.

As opções a seguir interpretam corretamente a noção de trilhas de aprendizagem apresentada pelo autor, à exceção de uma. Assinale-a.

- (A) Esta noção está de acordo com a ideia de que a educação ocorre durante a vida inteira, no decorrer da qual a formação dos indivíduos é dinâmica e conta com várias oportunidades.
- (B) As trilhas pressupõem o uso de diferentes recursos para a aprendizagem: de livros a filmes, de documentos a treinos de procedimentos operacionais, por exemplo.
- (C) Esta concepção aponta para uma curadoria do conhecimento que habilita o indivíduo a atuar com desenvoltura no trabalho diante dos desafios.
- (D) Uma trilha de aprendizagem é qualificada como positiva se possibilitar que o indivíduo se aproprie de conhecimentos úteis e os aplique em sua atividade profissional.
- (E) As trilhas são oferecidas pela corporação que gerencia o processo formativo visando programas de qualificação de seus profissionais, para que estejam atualizados em relação à complexidade do mundo contemporâneo.

62

A Lei de Diretrizes e Bases da Educação Nacional (LDB – Lei 9.394/1996) foi recentemente modificada para incluir a educação digital.

Em relação ao texto atualizado da LDB, é correto afirmar que

- (A) estabelece o dever do Estado de garantir condições para que a educação digital ocorra nas escolas públicas de todo o país, na forma de componente curricular do ensino básico.
- (B) prevê o ensino profissionalizante dos recursos tecnológicos para aquisição de competências digitais relativas a privacidade de dados, inteligência artificial e bigdata.
- (C) assegura condições para a pesquisa digital, para viabilizar a participação ativa de pesquisadores brasileiros em redes e programas internacionais de pesquisa e desenvolvimento.
- (D) inclui o estímulo e o reforço ao letramento digital a partir do ensino médio, como parte dos itinerários formativos oferecidos obrigatoriamente pelas unidades escolares.
- (E) garante o ensino de programação, computação e robótica para a população brasileira economicamente ativa, fornecendo-lhes a capacitação para competir no mercado de trabalho.

## 63

Com relação às metas previstas no Plano Nacional de Educação (PNE) para o decênio 2014-2024, assinale a opção que caracteriza corretamente o conteúdo da meta assinalada.

- (A) Quanto à educação profissional técnica de nível médio, a meta é transferir essa modalidade educativa para o ensino à distância, garantindo a expansão da oferta de matrículas.
- (B) Quanto à erradicação do analfabetismo absoluto, a meta prevê reduzir o analfabetismo de jovens e adultos em cinquenta por cento e eliminar o analfabetismo funcional.
- (C) Quanto à formação, em nível de pós-graduação, dos professores da educação básica, a meta é formar a totalidade dos professores da educação básica, até o último ano de vigência deste PNE.
- (D) Quanto ao investimento público em educação pública, a meta é ampliar o investimento para atingir, no mínimo, o patamar de 7% do Produto Interno Bruto (PIB) do país no quinto ano de vigência da lei e, no mínimo, o equivalente a 10% do PIB ao final do decênio.
- (E) Quanto à gestão democrática da educação, a meta é assegurar condições, no prazo de dez anos, para a efetivação da cogestão, pautada em experiências de cooperativas educacionais, com forte participação da comunidade.

## 64

Na Lei nº 13.005/2014, a execução do Plano Nacional de Educação e o cumprimento de suas metas devem ser objeto de monitoramento contínuo e de avaliações periódicas, realizadas por diversas instâncias, entre as quais se incluem

- (A) o Ministério da Educação (MEC) e as Secretarias Estaduais de Educação.
- (B) o Conselho Nacional de Educação (CNE) e o Fórum Nacional de Educação.
- (C) o Sistema de Avaliação da Educação Básica (Saeb) e o Fórum Nacional de Educação.
- (D) as Comissões de Educação da Câmara dos Deputados e o Instituto Nacional de pesquisas Educacionais (Inep).
- (E) Comissão de Educação, Cultura e Esporte do Senado Federal e o Sistema de Avaliação da Educação Básica (Saeb).

## 65

Nos Parâmetros Curriculares Nacionais (PCNs), a transversalidade possibilita que as disciplinas de área curriculares e os temas transversais sejam trabalhados de forma integrada.

A respeito dessa dimensão transversal, são apresentados a seguir, critérios para definição dos temas transversais dos PCNs, **à exceção um**. Assinale-o.

- (A) Urgência social.
- (B) Diversidade cultural.
- (C) Abrangência nacional.
- (D) Favorecimento da compreensão da realidade e participação social.
- (E) Possibilidade de ensino e aprendizagem no ensino fundamental.

## LEGISLAÇÃO INSTITUCIONAL

## 66

Nos termos da Constituição do Estado do Tocantins, constitui objeto de lei complementar a seguinte matéria:

- (A) os prazos de prescrição para ilícitos praticados por qualquer agente, servidor ou não, que causem prejuízos ao erário.
- (B) os limites de idade, a estabilidade e outras condições de transferência do servidor militar para a inatividade.
- (C) os casos de contratação por tempo determinado para atender à necessidade temporária de excepcional interesse público.
- (D) as regras para cálculo de proventos de aposentadoria e pensão por morte.
- (E) os requisitos e as restrições ao ocupante de cargo ou emprego da administração direta e indireta que possibilite o acesso a informações privilegiadas.

## 67

Considerando o exercício da função legislativa por parte da Assembleia Legislativa de Tocantins, nos termos de seu Regimento Interno, é correto afirmar que

- (A) projetos de lei delegada podem se destinar a regular as matérias de exclusiva competência do Poder Executivo, com a sanção do Governador do Estado.
- (B) projetos de resolução podem se destinar a regular, com eficácia de lei ordinária, matéria de competência privativa da Assembleia Legislativa.
- (C) projetos de lei complementar visam regular matéria infraconstitucional.
- (D) projetos de lei têm por objetivo regular matérias de competência do Poder Legislativo, sem a sanção do Governador do Estado.
- (E) projetos de decreto legislativo destinam-se à delegação de competência, na forma estabelecida na Constituição Estadual.

## 68

Aline, servidora pública estadual, revelou segredo do qual se apropriou em razão do cargo que ocupa. A Administração Pública, ao tomar conhecimento do fato, instaurou procedimento administrativo disciplinar a fim de apurar a conduta e garantir à servidora os princípios da ampla defesa e do contraditório.

À luz do Estatuto dos Servidores Públicos Civis do Estado do Tocantins, caso punida, Aline poderá ser sancionada com

- (A) advertência.
- (B) suspensão.
- (C) prestação de serviço.
- (D) multa.
- (E) demissão.

**69**

Ana, servidora pública efetiva e estável, ocupante de cargo de nível superior, objetivando inteirar-se sobre os requisitos para a progressão na carreira, consultou a Lei nº 4.208/2023, que trata sobre o plano de cargos, carreiras e remuneração dos Servidores da Assembleia de Tocantins.

Assim, para fazer jus à progressão, Ana terá que

- (A) possuir no máximo três faltas injustificadas por exercício referente ao período avaliado.
- (B) obter conceito igual ou superior a 70% (setenta por cento) dos pontos possíveis em todos os procedimentos de sua Avaliação.
- (C) concluir curso de pós-graduação *lato sensu* com duração mínima de 360 (trezentos e sessenta) horas.
- (D) cumprir trinta meses de efetivo exercício na classe em que se encontra.
- (E) concluir cursos de aperfeiçoamento em sua área de atuação que tenha, no mínimo, 80 (oitenta) horas de duração.

**70**

Antônio foi nomeado para o cargo de Controlador Interno da Assembleia Legislativa de Tocantins.

À luz da Lei nº 4.209/2023, que dispõe sobre a estrutura administrativa da Aletto, durante o exercício da função, Antônio será competente para:

- (A) opinar, conclusivamente, em processos de direitos, deveres e obrigações dos servidores do Poder Legislativo.
- (B) constituir Comissão Permanente de Licitação.
- (C) examinar a observância das normas de licitações.
- (D) apresentar à Mesa Diretora o balancete mensal e, no início de cada exercício, o balancete geral das contas da Assembleia Legislativa, relativo ao exercício anterior.
- (E) planejar, coordenar, orientar, controlar e dirigir as atividades administrativas, orçamentárias, financeiras, de comunicação social, de tecnologia de informação e de apoio legislativo da Assembleia Legislativa.



# ASSEMBLEIA LEGISLATIVA DO ESTADO DO TOCANTINS

CONCURSO PÚBLICO – EDITAL Nº 01/2023

## PROVA OBJETIVA – TARDE

### ANALISTA LEGISLATIVO PEDAGOGIA

NÍVEL SUPERIOR – TIPO 2 – VERDE



#### SUA PROVA

- Além deste caderno contendo **70 (setenta)** questões objetivas, você receberá do fiscal de prova o cartão de respostas;
- As questões objetivas têm **5 (cinco)** opções de resposta (A, B, C, D) e somente uma delas está correta.



#### TEMPO

- Você dispõe de **5 (cinco) horas** para a realização da prova, já incluído o tempo para a marcação do cartão de respostas;
- **3 (três) horas** após o início da prova, é possível retirar-se da sala, sem levar o caderno de questões;
- A partir dos **30 (trinta) minutos** anteriores ao término da prova é possível retirar-se da sala **levando o caderno de questões**.



#### NÃO SERÁ PERMITIDO

- Qualquer tipo de comunicação entre os candidatos durante a aplicação da prova;
- Anotar informações relativas às respostas em qualquer outro meio que não seja o caderno de questões;
- Levantar da cadeira sem autorização do fiscal de sala;
- Usar o sanitário ao término da prova, após deixar a sala.



#### INFORMAÇÕES GERAIS

- Verifique se seu caderno de questões está completo, sem repetição de questões ou falhas. Caso contrário, **notifique imediatamente o fiscal da sala**, para que sejam tomadas as devidas providências;
- Confira seus dados pessoais, especialmente nome, número de inscrição e documento de identidade e leia atentamente as instruções para preencher o cartão de respostas;
- Para o preenchimento do cartão de respostas, use somente caneta esferográfica, fabricada em material transparente, com tinta preta ou azul;
- Assine seu nome apenas no(s) espaço(s) reservado(s) no cartão de respostas;
- Confira seu cargo, cor e tipo do caderno de questões. Caso tenha recebido caderno de cargo ou cor ou tipo **diferente** do impresso em seu cartão de respostas, o fiscal deve ser **obrigatoriamente** informado para o devido registro na ata da sala;
- Reserve tempo suficiente para o preenchimento do seu cartão de respostas. O preenchimento é de sua responsabilidade e **não será permitida a troca do cartão de respostas em caso de erro cometido pelo candidato**;
- Para fins de avaliação, serão levadas em consideração apenas as marcações realizadas no cartão de respostas;
- A FGV coletará as impressões digitais dos candidatos na lista de presença;
- Os candidatos serão submetidos ao sistema de detecção de metais quando do ingresso e da saída de sanitários durante a realização das provas.
- **Boa prova!**

## CONHECIMENTOS BÁSICOS

### Língua Portuguesa

1

Assinale a frase que mostra a palavra *mais* numa classe gramatical **diferente** das demais.

- (A) O mercado está prisioneiro de mais um círculo vicioso: piora porque piorou e porque piorou, piora.
- (B) Os ingleses conquistaram o mundo porque não aguentavam mais a própria cozinha.
- (C) Quanto mais vejo o estrangeiro, mais amo a minha pátria.
- (D) Não é mais possível aprender tudo de cor. Um homem instruído não é mais o homem que sabe muitas coisas; é o homem que sabe onde buscar informações.
- (E) Muda-se mais facilmente de religião do que de café

2

Um guitarrista americano produziu o seguinte pensamento:

*O crítico de rock é alguém que não sabe escrever, entrevistando gente que não sabe falar, para gente que não sabe ler.*

Sobre a estruturação ou a significação desse pequeno texto, assinale a afirmativa **incorreta**.

- (A) O termo “de rock” funciona como complemento nominal do termo anterior.
- (B) Todos os elementos da cadeia comunicativa citados no texto são marcados pela ignorância.
- (C) O pensamento acima revela um preconceito fortíssimo contra os amantes de rock.
- (D) A opinião expressa no texto pode advir da experiência pessoal do autor, já que se trata de um guitarrista.
- (E) A injustiça desse texto provém de ser uma opinião fundamentada em uma autoridade duvidosa.

3

John Steinbeck, prêmio Nobel, declarou o seguinte:

*O homem é o único animal que bebe sem ter sede, come sem ter fome e fala sem ter nada a dizer.*

Em relação ao significado e à estruturação desse pequeno texto, assinale a afirmativa **incorreta**.

- (A) A frase ficaria mais enfática se invertêssemos a posição do termo inicial: O único animal que bebe sem ter sede, come sem ter fome e fala sem ter nada a dizer é o homem.
- (B) A inversão de alguns segmentos do texto em nada modificaria o sentido da frase: O homem é o único animal que come sem ter fome, bebe sem ter sede e fala sem ter nada a dizer.
- (C) Os segmentos finais do texto mostram preocupação com rigoroso paralelismo sintático.
- (D) Segundo a opinião do autor do texto, a marca principal do homem é a irracionalidade.
- (E) Nem todas as ações citadas como marcas humanas estão presentes, por oposição, nos outros animais.

4

Assinale a frase em que a utilização do acento grave indicativo da crase é realizada de forma **errada**.

- (A) Jamais alguém se arrependeu de ter-se acostumado à madrugar e à ter-se casado jovem.
- (B) Tempo é o suspiro de adeus do sol à terra.
- (C) Saio todos os dias às cinco horas e não permito que o meu trabalho interfira no meu jogo de tênis.
- (D) O momento de extrair uma lição da história está sempre à mão para os sábios.
- (E) Quando assumi, quatro anos atrás, estávamos à beira do precipício.

5

Assinale a frase que **não** expressa uma noção de tempo abstrato.

- (A) Nas asas do tempo, a tristeza voa.
- (B) Quem mata o tempo não é assassino, é suicida.
- (C) O tempo perdido não se encontra nunca mais.
- (D) O tempo é o melhor professor. Infelizmente, ele mata todos os seus estudantes
- (E) O tempo gasto na viagem foi de duas horas.

6

Observe o seguinte texto:

*Quando entrei no terrível vagão, ele estava ocupado por duas pessoas. Uma, dobrada, coberta, dormia profundamente. A coberta superior estava manchada, de fundo amarelado, como pele de leopardo. Vendem-se muitas mantas assim nas lojas de artigos de viagens, mas pude notar logo depois que se tratava realmente da pele de um animal selvagem; do mesmo modo, o boné da pessoa adormecida me pareceu ser de feltro branco bastante delicado. O outro viajante, uma aparência simpática, parecia ter passado dos trinta anos e mostrava-se como figura insignificante que passa confortavelmente as noites em estradas de ferro.*

Nesse fragmento textual, para criar sinais de história realista e verdadeira, o narrador apela para a seguinte estratégia:

- (A) seleciona uma situação banal da qual não precisa fornecer muitos detalhes, exatamente por sua banalidade.
- (B) fornece algumas marcas caracterizadoras dos dois personagens presentes no texto, destacando sua banalidade.
- (C) indica traços descritivos do ambiente, mostrando-o como se nada houvesse nele de excepcional.
- (D) mostra detalhes variados e bastante pitorescos dos objetos descritos.
- (E) dá ao leitor informações sobre personagens e ambiente, mostrando-os como bastante conhecidos do narrador.

7

Assinale a frase em que o adjetivo sublinhado mostra uma função sintática **diferente** das demais.

- (A) Por fora bela viola, por dentro pão bolorento.
- (B) Tiradentes, heroico, tentou organizar uma revolução.
- (C) Um rosto bonito altera-se depressa.
- (D) Eu não podia acreditar que existem múmias tão lindas.
- (E) Um homem belo é um homem insignificante.



8

Observe o seguinte texto:

*A felicidade depende da habilidade que tenhamos naquelas atividades que consideramos importantes: somente se lhes damos um real valor aos pequenos detalhes cotidianos, poderemos ter instantes felizes. A felicidade absoluta não existe, e já que só podemos acessar os pequenos detalhes daquilo que nos interessa, devemos contentar-nos com isso. Por isso, a infelicidade é um sinal claro de nossa incompetência na arte de viver.*

Sobre a estrutura e a significação desse texto, assinale a afirmativa **inadequada**.

- (A) O tema do texto gira em torno do que consiste a felicidade e o que viria a ser o seu oposto.
- (B) A afirmação de que “A felicidade absoluta não existe” é de cunho pessoal do autor do texto, representando uma opinião.
- (C) O raciocínio utilizado na estruturação argumentativa é do tipo dedutivo.
- (D) O conector “Por isso” mostra a preocupação com o caráter lógico da argumentação.
- (E) A tese do texto é a de que a infelicidade é fruto de nossa incompetência na arte de viver.

9

As frases a seguir mostram termos ligados pela conjunção OU.

Assinale a frase em que essa conjunção mantém o valor de alternativa (e não de adição).

- (A) João ou Pedro deve ser eleito presidente da empresa.
- (B) A alegria ou a tristeza fazem parte da vida.
- (C) Inglês ou francês são idiomas falados pelos turistas
- (D) Os clientes leem livros ou revistas enquanto esperam.
- (E) Vasco ou Flamengo são times de longa tradição.

10

Muitas palavras portuguesas mostram o prefixo A- sem qualquer valor semântico, sendo equivalentes ao mesmo vocábulo sem esse prefixo.

Assinale a palavra a seguir que exemplifica esse A protético.

- (A) amostrar
- (B) abraçar
- (C) atenuar
- (D) aguardar
- (E) aparar

11

Assinale a opção que mostra uma impropriedade léxica, ou seja, um emprego **inadequado** da expressão “cerca de”.

- (A) Havia cerca de três dúzias de convidados no final da festa.
- (B) Chegaram cerca de 100 cartas no mesmo dia.
- (C) Cerca de 18 lojas fecharam as portas mais cedo.
- (D) Os cantores receberam cerca de uma centena de convites.
- (E) A plantação produziu cerca de uma tonelada de legumes.

12

Os adjetivos podem representar estados, qualidades, características e relações.

Assinale a frase que mostra um tipo de adjetivo **diferente** dos demais.

- (A) Nunca houve criança tão amável que a própria mãe não ficasse satisfeita ao conseguir adormecê-la.
- (B) Nada mais perversamente cruel que uma adorável criança.
- (C) Mesmo estando doentes, as crianças não ficam caladas.
- (D) Quando as crianças estão quietas é porque fizeram alguma coisa errada.
- (E) As tangerinas verdes não amadurecem fora do pé.

## Raciocínio Lógico Matemático

13

Em uma caixa, há muitas canetas esferográficas. Classificadas conforme a cor, elas podem ser azuis, vermelhas ou pretas. Classificadas quanto à espessura da esfera, elas podem ser de ponta fina ou de ponta grossa.

Metade das canetas vermelhas tem a ponta grossa. A quantidade total de canetas pretas é igual à quantidade total de canetas vermelhas. Entre as canetas de ponta grossa, a quantidade de azuis é igual à de pretas. A quantidade de canetas azuis com ponta fina é o dobro da quantidade de canetas pretas de ponta grossa.

Se, nessa caixa, 18 são azuis e 20 têm ponta grossa, então a quantidade total de canetas na caixa é

- (A) 30.
- (B) 40.
- (C) 48.
- (D) 50.
- (E) 52.

14

Certo programa de rádio tem 1 hora e 55 minutos de duração. A partir do momento em que o programa é iniciado, há blocos temáticos de 7 minutos intercalados por blocos de propagandas de 2 minutos.

Em todos os blocos de propaganda, ouve-se o comercial do restaurante R, que sempre dura 18 segundos.

Se o programa começa e termina com um bloco temático, então, o tempo total do programa dedicado ao anúncio do restaurante R é

- (A) 3 minutos e 54 segundos.
- (B) 3 minutos e 36 segundos.
- (C) 3 minutos e 18 segundos.
- (D) 3 minutos.
- (E) 2 minutos e 48 segundos.

15

Em certo ano, o dia 1º de agosto cai em um domingo. Logo, o dia 1º de novembro cairá em

- (A) um sábado.
- (B) um domingo.
- (C) uma segunda-feira.
- (D) uma quarta-feira.
- (E) uma sexta-feira.

**16**

Considere a seguinte proposição condicional:

*Se todos os alunos da Escola Aristarco gostam de matemática, então, ao menos um deles ganha medalha na Olimpíada Nacional de Matemática.*

Se essa proposição é verdadeira, é correto afirmar que

- (A) se nenhum dos alunos da Escola Aristarco gosta de Matemática, então nenhum deles ganha medalha na Olimpíada Nacional de Matemática.
- (B) se todos os alunos da Escola Aristarco ganham medalha na Olimpíada Nacional de Matemática, então, todos esses alunos gostam de Matemática.
- (C) se algum aluno da Escola Aristarco ganha medalha na Olimpíada Nacional de Matemática, então todos esses alunos gostam de Matemática.
- (D) se nenhum aluno da Escola Aristarco ganha medalha na Olimpíada Nacional de Matemática, então nenhum desses alunos gosta de Matemática.
- (E) se nenhum aluno da Escola Aristarco ganha medalha na Olimpíada Nacional de Matemática, então algum desses alunos não gosta de Matemática.

**17**

A linha de produção de certa fábrica produz 1100 latas de sardinhas a cada hora. Certo dia, por um defeito de calibragem do sistema, entre 13h e 14h, o volume de produção foi reduzido em 30% durante exatos 12 minutos.

A quantidade de latas de sardinhas produzidas no intervalo supracitado foi

- (A) 946.
- (B) 964.
- (C) 1022.
- (D) 1034.
- (E) 1046.

**18**

Um dado é dito comum quando tem a forma de um cubo e suas 6 faces são numeradas de 1 a 6, de tal forma que a soma dos números estampados em faces opostas, quaisquer que sejam elas, sempre somam 7.

Quando um dado comum é lançado, diz-se que o resultado do lançamento é o número estampado na face voltada para cima.

Um dado foi lançado 3 vezes seguidas. Se o produto dos resultados obtidos nos lançamentos vale 75, a soma desses resultados é igual a

- (A) 12.
- (B) 13.
- (C) 14.
- (D) 15.
- (E) 16.

**19**

Marcelo está parado de frente para uma das paredes de uma sala quadrada. Nesta posição, ele está a 1m e 20cm da parede que se encontra à sua direita e a 1m e 70cm da parede que está às suas costas.

Ele, então, se desloca paralelamente às paredes da sala sendo 40cm para a frente e 80cm para a direita. Nessa nova posição, ele passou a distar 1m e 90cm da parede que antes estava à sua esquerda.

Desprezando-se as dimensões de Marcelo, a sua atual distância à parede que, antes dos movimentos, estava à sua frente, é

- (A) 20cm.
- (B) 30cm.
- (C) 40cm.
- (D) 50cm.
- (E) 60cm.

**20**

A negação da proposição:

$$\text{Se } y \neq 0, \text{ então } x > 2 \text{ e } x \leq 5$$

é dada por

- (A) Se  $y = 0$ , então  $x > 2$  e  $x \leq 5$
- (B) Se  $y = 0$ , então  $x < 2$  ou  $x \geq 5$
- (C)  $y = 0$  e  $x \leq 2$  ou  $x > 5$
- (D)  $y \neq 0$  e  $x \leq 2$  ou  $x > 5$
- (E)  $y \neq 0$  e  $x \leq 2$  e  $x > 5$

**21**

Tucídides possuía uma dívida e, em vez de quitá-la, pagou apenas 20% do seu valor, deixando o restante para ser quitado em data futura, com acréscimo de 12% a título de juros sobre o saldo devedor.

No ato de quitação, Tucídides pagou R\$2.329,60. Logo, o valor original da dívida é o resultado da seguinte expressão:

(A)  $2.329,60 \times 0,88 - 20$

(B)  $\frac{2.329,60}{0,88} \times 1,20$

(C)  $\frac{2.329,60}{1,12} \times 1,20$

(D)  $\frac{2.329,60}{1,12 \times 1,20}$

(E)  $\frac{2.329,60}{1,12 \times 0,8}$

**22**

As filhas de Nepomuceno têm 5 e 9 anos de idade. Ele dividirá R\$420,00 entre elas de forma inversamente proporcional às suas idades.

Logo

- (A) a mais nova receberá R\$120,00 a mais que a mais velha.
- (B) a mais nova receberá R\$150,00 a mais que a mais velha.
- (C) a mais nova receberá R\$270,00 a mais que a mais velha.
- (D) a mais velha receberá R\$120,00 a mais que a mais nova.
- (E) a mais velha receberá R\$150,00 a mais que a mais nova.

## Atualidades

23

Assinale a afirmativa que descreve corretamente um aspecto do panorama global da economia em 2023.

- (A) Nos Estados Unidos, a economia foi alavancada pela adoção de uma política de ampliação do crédito e baixa da taxa de juros.
- (B) Na China, o PIB cresceu acima do esperado, em um cenário marcado pela retomada econômica pós pandemia, inclusive no setor imobiliário.
- (C) Na Zona do Euro, a alta dos preços da energia pesou nas despesas familiares e no setor industrial, confirmando a manutenção de um quadro de crise.
- (D) Na Rússia, o PIB decresceu, em função do impacto prolongado da guerra com a Ucrânia e dos embargos à venda de petróleo e gás russos.
- (E) Na América do Sul, foi mantido um caminho geral de crescimento, apoiado por investimentos externos e pela intensificação de políticas estatistas.

24

Energia gerada por recursos naturais renováveis que, no Brasil, provém da lenha, carvão vegetal, carvão mineral, bagaço de cana e outros resíduos combustíveis. Essa energia é a matéria orgânica vegetal ou animal usada como fonte de energia limpa e sustentável.

O trecho descreve o seguinte componente importante do desenvolvimento sustentável:

- (A) compostagem.
- (B) biodiversidade.
- (C) créditos de carbono.
- (D) ciclo de vida.
- (E) biomassa.

25

As afirmativas a seguir descrevem corretamente o desempenho da economia brasileira em 2023, à exceção de uma. Assinale-a.

- (A) A expansão econômica ampliou a geração de empregos informais, em um contexto recessivo e de flexibilização das leis trabalhistas.
- (B) O dinamismo da economia foi marcado pelo aumento de exportações, no setor agrícola, e da demanda, no setor de serviços, em função da alta no consumo das famílias.
- (C) A alta progressiva nas cotações internacionais de commodities acelerou o ritmo das exportações, mesmo em um cenário cambial desfavorável para os exportadores.
- (D) A retração do Brasil no mercado regional e internacional ocorreu em função da maior competitividade dos produtos agrícolas argentinos e pela retomada da economia chinesa.
- (E) A persistência do alto nível da inflação foi ocasionada pela alta da cesta básica, sobretudo dos alimentos, cujas safras foram afetadas pelas condições climáticas adversas.

26

Em 2024, o Tribunal Superior Eleitoral (TSE) aprovou uma resolução para regulamentar o uso da inteligência artificial (IA) durante as eleições municipais a serem realizadas em outubro. A norma proíbe manipulações de conteúdo falso para criar ou substituir imagem ou voz de candidato com objetivo de prejudicar ou favorecer candidaturas. Também foi aprovada a restrição do uso de chatbots humanizados e avatares para intermediar a comunicação das campanhas com pessoas reais nas redes sociais.

Adaptado de <https://agenciabrasil.ebc.com.br/>

A resolução sobre IA objetiva

- (A) coibir a produção e circulação de *deepfakes*.
- (B) restringir o uso de ferramentas de IA simbólica.
- (C) retomar a veiculação de propagandas eleitorais em mídias tradicionais, como rádio e televisão.
- (D) proibir o uso de ferramentas de coleta e seleção em bases de dados com fins eleitorais.
- (E) limitar o uso de assistente virtual programado por AI para divulgação do programa partidário.

27

No início do ano corrente, a Petrobras anunciou ter alcançado em 2023 o segundo maior valor de lucro líquido de sua história. Mesmo assim, suas ações caíram no mercado financeiro, em função da disputa sobre os dividendos.

A respeito dos resultados financeiros da Petrobras nos últimos anos e da política de distribuição de dividendos da empresa, assinale a afirmativa correta.

- (A) A Petrobras é uma empresa estatal de economia mista que monopoliza a indústria petrolífera no Brasil.
- (B) A Petrobras é uma estatal administrada diretamente por órgãos governamentais que controlam o valor das suas ações.
- (C) A Petrobras direciona parte dos dividendos para investidores privados, e outra parte para o governo federal, que controla a empresa via Tesouro e BNDES.
- (D) A Petrobras, sob o Governo Bolsonaro, reduziu o pagamento de dividendos a acionistas privados para reinvesti-los em energia renovável.
- (E) A Petrobras, no atual governo, vendeu ativos e distribuiu o lucro e os valores recordes de dividendos entre seus acionistas para financiar projetos do BNDES.

**28**

De acordo com o censo demográfico de 2022 (IBGE), mais da metade da população brasileira (51,13%) é feminina, e elas representam, segundo o Tribunal Superior Eleitoral, 53% do eleitorado. No entanto, elas ocupam, hoje, menos de 15% dos cargos eletivos.

A respeito da baixa participação das mulheres na política, assinale a afirmativa que apresenta um dispositivo existente na legislação brasileira para alterar esse cenário.

- (A) Reserva de pelo menos 50% dos recursos do Fundo Especial de Financiamento de Campanha, o Fundo Eleitoral, para financiar candidaturas femininas.
- (B) Suspensão dos direitos eleitorais aos partidos em caso de não observância do percentual de pelo menos 30% de candidatas mulheres em cada ciclo eleitoral
- (C) Reserva de assentos, em ambas as casas legislativas, para mulheres, com preferência para as representantes de povos originários.
- (D) Cota de gênero, que obriga cada partido ou coligação a preencher o mínimo de 30% e o máximo de 70% de candidaturas de cada sexo.
- (E) Repasse de até 30% dos recursos dos Fundos Partidário para custear o tempo da propaganda eleitoral gratuita de candidatas em rádio e televisão.

**29**

*Dados da última década mostram que, em relação aos Estados, o Pará é o que apresenta o maior número de registros de resgates de trabalho análogo à escravidão, com 9.853, seguido por Mato Grosso (4.302); Tocantins (2.896); São Paulo (1.529) e Rio de Janeiro (1.653), em 2017.*

Adaptado de <https://www.jota.info/justica/em-14-anos-434-mil-foram-resgatados-de-trabalho-escravo-30102017>

A respeito da definição moderna de escravidão, analise as afirmativas a seguir.

- I. Em Tocantins, a maior incidência de escravidão moderna ocorre na zona rural, associada a atividades agropecuárias e ao extrativismo mineral, como nas carvoarias, por exemplo.
- II. A Organização Internacional do Trabalho determina a condição de escravidão por uma série de componentes, como o trabalho forçado análogo ao de escravo e o casamento forçado.
- III. Pessoas obrigadas a trabalhar por dívida ou por ameaça, sem direitos trabalhistas garantidos estão em situação de escravidão, uma vez que lhes é impedida a liberdade de ir e vir.

Está correto o que se afirma em

- (A) I, apenas.
- (B) I e II, apenas.
- (C) I e III, apenas.
- (D) II e III, apenas.
- (E) I, II e III.

**30**

*Desde os anos 2000, o interior do Brasil ultrapassou o litoral na incidência de dengue. A região costeira que vai de Santos, em São Paulo, até Belém, no Pará, apresentava tipicamente maior proporção de casos de dengue em comparação com sua população. Entretanto, recentemente, o oeste do Paraná, o oeste de Santa Catarina o oeste de São Paulo, o interior de Minas Gerais, uma parte do Tocantins, o Goiás e o Mato Grosso do Sul viram a transmissão da doença aumentar e muitas de suas cidades foram obrigadas a decretar emergência.*

Adaptado de <https://www.estadao.com.br>

A respeito dos fatores relacionados ao aumento e à interiorização dos casos de dengue no Brasil, analise as afirmativas a seguir.

- I. A maior frequência de períodos com temperaturas acima da média, inclusive com ondas de calor no período invernal em todo território, tem reforçado o padrão sazonal da doença.
- II. A expansão urbana desvinculada de melhoras nos serviços sanitários tem propiciado a formação de ilhas de calor e, portanto, uma alta na incidência da dengue.
- III. O desmatamento do cerrado, convertido em pasto, por exemplo, tem contribuído para aumentar a temperatura média e o número de casos da doença no interior do Brasil.

Está correto o que se afirma em

- (A) I, apenas.
- (B) I e II, apenas.
- (C) I e III, apenas.
- (D) II e III, apenas.
- (E) I, II e III.

**31**

*Um supercomputador consiste em milhares de pequenos computadores chamados nós. Cada nó é equipado com sua própria memória e com vários processadores. Atuando em conjunto, eles são capazes de realizar cálculos extremamente complexos em elevada velocidade. Hoje, o maior supercomputador da América Latina é o Pégaso, da Petrobras, com 678 TB de memória RAM e mais de 233 mil núcleos.*

Adaptado de <https://revistapesquisa.fapesp.br>

A respeito do poder computacional de alto desempenho dos supercomputadores, analise as afirmativas a seguir e assinale (V) para a verdadeira e (F) para a falsa.

- ( ) Essas máquinas são instrumentos valiosos de pesquisa e de suporte a setores da economia como defesa, energia e saúde, permitindo a resolução de problemas complexos em menor tempo.
- ( ) Esses equipamentos permitem realizar tarefas que exigem altíssimos níveis de processamento, como simulações da formação do universo ou modelagem molecular para novos fármacos.
- ( ) Esses aparelhos trabalham em alta velocidade de processamento pelo somatório de diversos núcleos, o que potencializa a velocidades do processador, medidas em gigahertz (GHz).

As afirmativas são, respectivamente,

- (A) V – V – F.
- (B) V – F – V.
- (C) F – V – F.
- (D) F – V – V.
- (E) V – V – V.

32

A França se tornou o primeiro país do mundo a incluir na Constituição a liberdade de a mulher abortar. A mudança na Carta Magna foi aprovada em uma sessão conjunta das duas Casas legislativas, a Assembleia Nacional e o Senado, e será promulgada pelo presidente Emmanuel Macron ainda em março de 2024.

Adaptado de <https://www1.folha.uol.com.br/mundo/2024/03/>

Diferentemente da França, a legislação brasileira

- (A) equipara o aborto ao infanticídio.
- (B) considera o aborto uma prática ilegal em todas as situações.
- (C) descriminaliza a interrupção da gravidez em caso de deficiência da gestante.
- (D) estabelece um limite temporal para interromper a gravidez, desde que respaldada por laudo médico.
- (E) autoriza a interrupção de gestação em caso de não haver outro meio de salvar a vida da gestante.

## História e Geografia do Estado de Tocantins

33

O Estado do Tocantins possui diversas comunidades quilombolas certificadas e outras com processo formalizado para regularização fundiária de seus territórios. A definição de comunidade quilombola é dada pelo Art. 2º do Decreto nº 4.887/2003:

*Consideram-se remanescentes das comunidades dos quilombos, para os fins deste Decreto, os grupos étnico-raciais, segundo critérios de auto-atribuição, com trajetória histórica própria, dotados de relações territoriais específicas, com presunção de ancestralidade negra relacionada com a resistência à opressão histórica sofrida.*

A respeito dos órgãos e processos envolvidos na identificação e regularização de territórios quilombolas no Estado do Tocantins, assinale a afirmativa correta.

- (A) O acesso dessas comunidades às políticas públicas de educação, saúde, moradia e regularização fundiária depende de o Estado emitir uma certidão de identificação de comunidade quilombola, mediante Fundação Palmares.
- (B) Os critérios para reconhecimento de um grupo enquanto remanescente de quilombo depende da comprovação de sua ancestralidade, seu parentesco e da preservação viva de religiosidades autenticamente africanas.
- (C) A Coordenação Nacional de Articulação de Comunidades Negras Rurais Quilombolas (CONAQ) luta pela incorporação constitucional do direito à autodefinição dos remanescentes de quilombos.
- (D) A certificação quilombola é realizada pela Fundação Cultural Palmares, que avalia com visitas técnicas a autenticidade do legado quilombola pretendido e, caso o aprove, emite a certidão de comunidade quilombola e a inscreve em um cadastro geral.
- (E) O acesso às terras ocupadas pelos remanescentes das comunidades dos quilombos é garantido por sua delimitação e titulação, a cargo da autoridade municipal em que a mesma se localiza.

34

O Memorial Coluna Prestes (2001) é uma obra do arquiteto Oscar Niemeyer localizada na Praça dos Girassóis, no centro de Palmas (TO).



Fonte: <https://central.to.gov.br/image/146145?f=1>

A respeito da relação entre essa obra e a constituição de uma memória histórica para o Estado do Tocantins, analise as afirmativas a seguir.

- I. O monumento refere-se à Coluna Prestes, que percorreu o Brasil para divulgar seu programa revolucionário entre 1924 e 1927, tendo passado pelo Norte do então Estado de Goiás (atual Tocantins) durante seu percurso.
- II. A obra foi realizada em concreto e apresenta curvas sinuosas, características próprias do Barroco das cidades mineradoras, estabelecendo visualmente uma continuidade entre o Barroco do passado das cidades mineradoras e o presente do Tocantins.
- III. A construção do memorial permite inserir simbolicamente a história do Tocantins nos grandes processos da história republicana nacional, e homenagear o Tenente Antônio de Siqueira Campos, cujo sobrenome é homônimo ao do ex-governador do Estado.

Está correto o que se afirma em

- (A) I, apenas.
- (B) I e II, apenas.
- (C) I e III, apenas.
- (D) II e III, apenas.
- (E) I, II e III.

35

*As belas paisagens como serras, cachoeiras, praias e até mesmo dunas, fazem do Tocantins um paraíso de paisagens naturais, atraindo turistas de várias regiões para conhecer o mais novo Estado brasileiro. A potencialidade para o ecoturismo e a preocupação em conservar a biodiversidade e recursos naturais nele contidos fez com que o Governo do Estado, criasse e implementasse as Unidades de Conservação Ambiental (UC).*

Adaptado de <https://www.to.gov.br/secom/>

A respeito das Unidades de Conservação (UC) do Tocantins, assinale a afirmativa correta.

- (A) São espaços territoriais legalmente instituídos pelo poder público e podem ser de proteção integral federal, como no caso dos Parques Cantão, Jalapão e Lajeado.
- (B) As UCs federais estão subordinadas ao Instituto Chico Mendes de Conservação da Biodiversidade (ICMBio), como no caso do Monumento Natural das Árvores Fossilizadas.
- (C) As UCs estaduais estão subordinadas ao Instituto Natureza do Tocantins (Naturatins), que supervisiona o Parque do Araguaia e o das Nascentes do rio Parnaíba.
- (D) As UCs de uso sustentável são compostas exclusivamente por áreas públicas, sendo permitida sua utilização apenas para o ecoturismo, pesquisa e educação ambiental.
- (E) As UCs municipais estão subordinadas às secretarias de meio ambiente, como no caso do Monumento Natural dos Cânions e Corredeiras do Rio Sono e do Parque Ecológico Roberto Guedes Pereira.

36

Leia a descrição de uma classe de vegetação presente no estado do Tocantins, a seguir.

*Esta vegetação, também conhecida como floresta pluvial tropical, é caracterizada por árvores de porte elevado, além de trepadeiras lenhosas e epífitas (bromélias e orquídeas, por exemplo) em abundância, o que a diferencia de outras classes de formação vegetal. Sua característica ecológica principal é estar presente em ambientes de chuvas abundantes, como na parte noroeste do Estado, onde as temperaturas médias são de 25°C e os elevados índices de precipitação estão bem distribuídos ao longo do ano.*

Adaptado de Luís Antônio G. C. Silva. *Biomias presentes no Estado do Tocantins*. Brasília: Câmara dos Deputados, 2007, p. 4.

O trecho caracteriza a região conhecida como Floresta

- (A) Estacional Semidecidual.
- (B) Tropical Subcaducifólia.
- (C) de Mata Atlântica.
- (D) Ombrófila Densa.
- (E) Temperada Decidual.

37

*Foram inegáveis os desdobramentos socioeconômicos sobre o antigo Norte Goiano fruto da construção da rodovia BR-153, a partir do final da década de 1950. O novo urbanismo da Belém-Brasília trouxe enorme impacto no que se refere ao conjunto de cidades que existiam às margens do rio Tocantins, aos fluxos migratórios e às atividades econômicas da região.*

Adaptado de AQUINO, N. *Tocantins: cidades e urbanismo em três modelos históricos*. In: III Encontro da ANPPAS. Brasília, 2006, p. 8.

As afirmativas a seguir descrevem corretamente impactos da rodovia BR-153 no processo de territorialização do Tocantins, **à exceção de uma**. Assinale-a.

- (A) A rodovia foi construída no governo Kubitscheck, em um contexto desenvolvimentista que considerava a expansão rodoviária como um meio para integrar econômica e territorialmente as regiões do país, inclusive o norte goiano que, então, vivia uma situação de abandono.
- (B) A rodovia Belém-Brasília teve grande importância para a urbanização do atual Tocantins, o que é exemplificado pela quantidade de novas cidades criadas após a sua construção, como Araguaína, Gurupi, Paraíso do Tocantins, Colinas do Tocantins e Guaraí.
- (C) A construção da BR-153 alavancou também os municípios ribeirinhos, pois a navegação fluvial foi intensificada para abastecer as obras em curso, o que transformou esses municípios em satélites econômicos da nova malha urbana instalada ao longo da rodovia.
- (D) Após a abertura da rodovia, as principais áreas que receberam fluxos migratórios foram a Microrregião de Gurupi – Gurupi e a Microrregião de Porto Nacional – Palmas, para onde se dirigiram pessoas interessadas em trabalhar na construção civil, nos serviços e no comércio, entre outros.
- (E) A BR-153 permitiu interligar o norte de Goiás, atual Estado do Tocantins, a outras localidades do país, facilitando o escoamento da produção e o acesso a produtos para a região, promovendo o fluxo de mercadorias e serviços.

38

Até 1988, o território que hoje corresponde ao Estado do Tocantins pertencia ao antigo norte de Goiás e à Região Centro-Oeste, tendo como capital política a cidade de Goiânia. Com a emancipação política, da noite para o dia, as pessoas amanheceram tocantinenses, mas sem referências culturais que as representassem como tais.

A respeito da projeção simbólica do novo Estado e de sua nova capital, assinale a opção que interpreta corretamente o processo de construção e atribuição de uma identidade ao Tocantins.

- (A) Desde o primeiro mandato do governador Siqueira Campos, os símbolos oficiais do Tocantins continuaram sendo o brasão de armas, a bandeira, o selo estadual e a canção "Hino ao Tocantins", de Liberato Costa Póvoa e Abiezer Alves da Rocha.
- (B) O girassol foi reconhecido oficialmente como símbolo da natureza do Estado, por ser uma planta nativa dos cerrados tocantinenses e estar associada à prosperidade e à esperança.
- (C) A Praça dos Girassóis, centro cívico de Palmas, foi concebida para receber edifícios esteticamente associados à cultura do Tocantins, como o Palácio do Araguaia, cujos pórticos remetem ao capim dourado, símbolo da tradição do artesanato de alta qualidade da região.
- (D) A monumentalidade da Praça dos Girassóis é enfatizada pelo seu pavimento, que contém figuras simbólicas como o mapa do Tocantins, a rosa dos ventos, o brasão de armas e a Praça Krahô.
- (E) O meio ambiente também foi utilizado para fortalecer o sentimento identitário, inserindo o girassol, a fava-de-bolota, a arara-canindé e a granada como símbolos da natureza do Tocantins, desde a promulgação da Constituição Estadual em 1989.

39

Comparando dados dos censos do IBGE, pode-se elaborar um retrato da evolução demográfica da população residente no Estado de Tocantins. O grupo na faixa etária de 0 a 14 representava 41,7% da população em 1991, 28,8% em 2010, e passou para 24% em 2022. A população acima de 65 anos era de 3,8% em 1991 e 5,8% em 2010, e ficou em 8,6% em 2022. O censo de 2022 mostrou ainda que a faixa etária de 15 a 29 anos representa 15% da população e que 41% da população é composta por pessoas de 30 a 59 anos.

Com base no trecho, assinale a opção que apresenta a dinâmica populacional do Tocantins entre 1991 e 2022.

- (A) Expansão da base da pirâmide etária.
- (B) Diminuição da taxa de fecundidade.
- (C) Estreitamento do topo da pirâmide.
- (D) Aumento da idade mediana.
- (E) Redução do índice de envelhecimento.

40

A respeito da matriz energética do Estado e dos investimentos em biocombustíveis, analise as afirmativas a seguir e assinale (V) para a verdadeira e (F) para a falsa.

- ( ) O Estado tem condições de clima e solo desfavoráveis para o plantio de matérias-primas usadas na fabricação de biocombustíveis, mas a expansão do modal logístico (Ferrovia Norte-Sul) permitirá o acesso à soja do planalto goiano.
- ( ) O Tocantins conta com duas usinas de biodiesel em funcionamento, utilizando o pinhão-mansão, a soja, a mamona e outras oleaginosas como matéria-prima.
- ( ) O Estado tem alto potencial de geração de energia solar, pela elevada irradiação solar e pelas políticas públicas voltadas para produção de energia limpa e renovável, como a Política Estadual de Incentivo à Geração e ao Uso da Energia Solar (Pró-Solar)

As afirmativas são, respectivamente,

- (A) V – F – V.
- (B) F – V – V.
- (C) F – F – V.
- (D) V – V – F.
- (E) V – V – V.

## CONHECIMENTOS ESPECÍFICOS

41

Com relação ao conceito de Didática, analise as afirmativas a seguir e assinale (V) para a verdadeira e (F) para a falsa.

- ( ) A didática se vale tanto de correntes filosóficas quanto de descobertas científicas, especialmente da biologia, para estruturar seus métodos e práticas.
- ( ) É da essência da didática a centralidade atribuída à figura do professor, visto como o pilar ativo no processo de ensino-aprendizagem.
- ( ) Didática e Pedagogia referem-se ao mesmo campo de estudo, isto é, a reflexão sistemática sobre as metas e finalidades últimas da educação.

As afirmativas são, respectivamente,

- (A) F – V – F.
- (B) F – V – V.
- (C) V – F – F.
- (D) V – V – F.
- (E) F – F – V.

42

Nos Parâmetros Curriculares Nacionais (PCNs), a transversalidade possibilita que as disciplinas de área curriculares e os temas transversais sejam trabalhados de forma integrada.

A respeito dessa dimensão transversal, são apresentados a seguir, critérios para definição dos temas transversais dos PCNs, **à exceção um**. Assinale-o.

- (A) Urgência social.
- (B) Diversidade cultural.
- (C) Abrangência nacional.
- (D) Favorecimento da compreensão da realidade e participação social.
- (E) Possibilidade de ensino e aprendizagem no ensino fundamental.

43

Adotando uma abordagem centrada em competências, o processo de aprendizagem engloba a aquisição de conhecimentos, o desenvolvimento de habilidades e a formação de atitudes.

Assinale a opção que apresenta, corretamente e respectivamente, exemplos de conhecimentos, habilidades e atitudes.

- (A) Entendimento das leis de Newton; resolver problemas de física aplicando as leis de Newton; motivação para explorar e aplicar conceitos de física em situações reais.
- (B) Tocar um instrumento musical; ler partituras musicais com fluência; persistência no aprimoramento constante das técnicas musicais.
- (C) Cozinhar pratos de diversas culinárias; abertura para experimentar e aprender novas receitas; conhecimento sobre os ingredientes e suas origens culturais.
- (D) Conhecimento avançado em programação de computadores; desenvolver softwares complexos; depurar código eficientemente.
- (E) Proatividade no trabalho em equipe; comunicar-se eficazmente em apresentações; organizar e liderar reuniões de projeto.

44

No campo educacional existem diferentes tipos de planejamento, em função dos diferentes contextos e objetivos, os quais são efetivados em níveis e âmbitos distintos.

Assinale a afirmativa que indica corretamente um processo de planejamento e seu respectivo âmbito de aplicação.

- (A) No âmbito dos *Sistemas e Redes de Ensino*, o planejamento concretiza-se pela elaboração do Projeto Político-Pedagógico, capaz de unir teoria e prática, alavancando a tomada de decisões acerca das finalidades da educação básica.
- (B) No âmbito da *Unidade Escolar*, o planejamento da escola se concretiza na organização do trabalho didático, o que implica definir objetivos, prever unidades sequenciais, selecionar metodologias e estabelecer procedimentos de avaliação.
- (C) No âmbito do *Ensino*, o planejamento visa assegurar o acompanhamento e o controle administrativo do desempenho docente em relação à política educacional implementada.
- (D) No âmbito da *Unidade Escolar*, o planejamento destaca os objetivos de aprendizagem, articulando-os com o conteúdo programático e com estratégias de integração do estudo com a comunidade e a realidade do educando.
- (E) No âmbito dos *Sistemas e Redes de Ensino*, o planejamento implica a tomada de decisões e a implementação de ações para materializar uma política educacional que, em sociedades democráticas, é construída coletivamente.

45

*A teoria herbartiana diz que, após a preparação, o professor já pode fazer a apresentação do novo assunto aos alunos – os conceitos morais, históricos e científicos que serão a matéria do processo de ensino-aprendizagem: eles são o carro-chefe do processo mental, e são eles que guiam os interesses dos alunos.*

GHIRALDELLI JR., P. História da educação brasileira. São Paulo: Cortez, 2008.

Na concepção de Frank Herbart, a fase da preparação consiste em

- (A) envolver os alunos em experiências educativas baseadas em seus interesses e necessidades.
- (B) conscientizar os alunos de maneira crítica sobre suas realidades sociais com vistas à transformação.
- (C) criar conexões entre o conhecimento prévio do aluno e o novo conteúdo a ser apreendido.
- (D) produzir um ambiente de aprendizado autodirigido, favorecendo a exploração independente.
- (E) refletir filosoficamente sobre a educação, buscando entender seus fundamentos e propósitos.

46

A avaliação de uma ação de capacitação é realizada através de quatro níveis, cada um podendo revelar possíveis falhas na execução do programa.

Correlacione cada nível de avaliação com o resultado problemático correspondente.

1. Reação
  2. Aprendizagem
  3. Comportamento
  4. Resultados
- ( ) Testes pré e pós-capacitação indicam mínima melhoria no entendimento sobre o tema tratado, sugerindo uma absorção ineficaz das informações.
  - ( ) Não há evidências de melhoria no desempenho dos participantes, sugerindo que os objetivos do programa de capacitação educacional não foram atingidos.
  - ( ) Observações e feedbacks indicam que os participantes não aplicaram as estratégias aprendidas, revelando uma falha em traduzir teoria em prática.
  - ( ) Participantes reportam insatisfação, citando material confuso e falta de interatividade, sentindo que o curso não atendeu às suas necessidades.

Assinale a opção que indica a relação correta, na ordem apresentada.

- (A) 1 – 3 – 2 – 4.
- (B) 1 – 4 – 2 – 3.
- (C) 4 – 2 – 3 – 1.
- (D) 2 – 4 – 3 – 1.
- (E) 4 – 3 – 2 – 1.



47

Com relação às metas previstas no Plano Nacional de Educação (PNE) para o decênio 2014-2024, assinale a opção que caracteriza corretamente o conteúdo da meta assinalada.

- (A) Quanto à educação profissional técnica de nível médio, a meta é transferir essa modalidade educativa para o ensino à distância, garantindo a expansão da oferta de matrículas.
- (B) Quanto à erradicação do analfabetismo absoluto, a meta prevê reduzir o analfabetismo de jovens e adultos em cinquenta por cento e eliminar o analfabetismo funcional.
- (C) Quanto à formação, em nível de pós-graduação, dos professores da educação básica, a meta é formar a totalidade dos professores da educação básica, até o último ano de vigência deste PNE.
- (D) Quanto ao investimento público em educação pública, a meta é ampliar o investimento para atingir, no mínimo, o patamar de 7% do Produto Interno Bruto (PIB) do país no quinto ano de vigência da lei e, no mínimo, o equivalente a 10% do PIB ao final do decênio.
- (E) Quanto à gestão democrática da educação, a meta é assegurar condições, no prazo de dez anos, para a efetivação da cogestão, pautada em experiências de cooperativas educacionais, com forte participação da comunidade.

48

Com relação ao conceito de Cultura Organizacional, analise os itens a seguir.

- I. Influencia diretamente o comportamento dos membros da organização e, reciprocamente, é moldada pelas características individuais de cada um.
- II. Abrange tanto elementos explicitamente reconhecidos e promovidos pela organização quanto elementos implícitos, que permeiam o ambiente de trabalho de maneira sutil.
- III. Enquanto construção subjetiva, a cultura organizacional se afasta das práticas tangíveis e observáveis da organização, como seus rituais e a linguagem utilizada.

É correto o que se afirma em

- (A) I, II e III.
- (B) I e II, apenas.
- (C) I e III, apenas.
- (D) II e III, apenas.
- (E) II, apenas.

49

*A questão do ensino não se limita à habilidade de dar aulas, também envolve a efetivação de levar ao aprender. O vínculo entre aprendizagem e ensino não é causal, ou seja, o ensino não causa a aprendizagem nem desenvolve novas capacidades que podem levar à aprendizagem. Ensinar e aprender estão vinculados: a significação do ensino depende do sentido que se dá à aprendizagem e a significação da aprendizagem depende das atividades geradas pelo ensino.*

Adaptado de Marlla Paiva, José Reginaldo Parente, Israel Brandão, Ana Helena Queiroz. Metodologias ativas de ensino-aprendizagem. In *SANARE*, Sobral, 2016, v.15 n. 02, p.147.

Com base no trecho, assinale a afirmativa que interpreta corretamente o sentido do processo de ensino-aprendizagem apresentado pelos autores.

- (A) Os procedimentos de ensino são tão importantes quanto os próprios conteúdos de aprendizagem, uma vez que ambos servem para informam os educandos.
- (B) O ensino e a aprendizagem têm caráter dialético e resultam de um processo de construção em que ensinar está diretamente relacionado a aprender.
- (C) Educador e educando são sujeitos do processo de ensino-aprendizagem, uma vez que o primeiro promove a aprendizagem transmitindo seus conhecimentos ao segundo.
- (D) A operacionalização do ensino baseia-se em uma concepção bancária da educação, pois desenvolve a compreensão do mundo em sua relação com a realidade em transformação.
- (E) A aprendizagem é uma atividade espontânea, potencializada pelas capacidades cognitivas dos educandos, quando propensos ao aprimoramento da abstração.

50

Com relação às principais metodologias ativas de aprendizagem, analise as afirmativas a seguir e assinale (V) para a verdadeira e (F) para a falsa.

- ( ) A rapidez na produção do conhecimento e a facilidade de acesso à informação contribuíram para a crise do modelo de ensino baseado na transmissão de informações por parte do professor, cuja atuação perdeu importância, sendo substituído no processo educacional por métodos ativos.
- ( ) As metodologias ativas fundam-se na ideia de que o processo de aprendizagem torna-se efetivo apenas quando o objeto do conhecimento é incorporado às estruturas cognitivas do aprendiz, podendo ser aplicado na prática.
- ( ) Métodos ativos já eram defendidos por Piaget, Freire e Dewey, para os quais os métodos de ensino tradicionais eram ineficientes uma vez que não eram orientados pela perspectiva do processo de aprendizagem.

As afirmativas são, respectivamente,

- (A) F – V – F.
- (B) F – V – V.
- (C) V – F – F.
- (D) V – V – F.
- (E) F – F – V.

51

Na Lei nº 13.005/2014, a execução do Plano Nacional de Educação e o cumprimento de suas metas devem ser objeto de monitoramento contínuo e de avaliações periódicas, realizadas por diversas instâncias, entre as quais se incluem

- (A) o Ministério da Educação (MEC) e as Secretarias Estaduais de Educação.
- (B) o Conselho Nacional de Educação (CNE) e o Fórum Nacional de Educação.
- (C) o Sistema de Avaliação da Educação Básica (Saeb) e o Fórum Nacional de Educação.
- (D) as Comissões de Educação da Câmara dos Deputados e o Instituto Nacional de pesquisas Educacionais (Inep).
- (E) Comissão de Educação, Cultura e Esporte do Senado Federal e o Sistema de Avaliação da Educação Básica (Saeb).

52

*Os tablets educacionais de Inteligência Artificial (IA) estão ganhando popularidade na China. Isso inclui um chatbot para conversar com os alunos em inglês, uma ferramenta de quiz gamificada para analisar os resultados de testes e um software de OCR (reconhecimento óptico de caracteres) que alega ser capaz de digitalizar e avaliar redações manuscritas do mesmo modo que um professor.*

Adaptado de Parents turn to AI tablets after China's tutor crackdown, *Rest of World* in: <https://restofworld.org/2024/china-student-tablet-ai/>.

Embora as novas ferramentas de IA ofereçam recursos úteis para o processo educacional, ainda há dimensões não contempladas por essas tecnologias. Este é o caso da

- (A) comunicação responsiva, na qual o aluno é capaz de expressar as suas questões e obter *feedback* imediato.
- (B) avaliação de resultados, em que o progresso de aprendizado dos alunos é estimado de acordo com seu desempenho.
- (C) interação pessoal, mediante a qual os envolvidos no processo podem desenvolver competências socioemocionais.
- (D) leitura de texto, com a qual o professor é capaz de observar de perto as capacidades de raciocínio do aluno.
- (E) assistência individualizada, por meio da qual o aluno pode ser auxiliado conforme suas necessidades singulares.

53

A Lei de Diretrizes e Bases da Educação Nacional (LDB – Lei 9.394/1996) foi recentemente modificada para incluir a educação digital.

Em relação ao texto atualizado da LDB, é correto afirmar que

- (A) estabelece o dever do Estado de garantir condições para que a educação digital ocorra nas escolas públicas de todo o país, na forma de componente curricular do ensino básico.
- (B) prevê o ensino profissionalizante dos recursos tecnológicos para aquisição de competências digitais relativas a privacidade de dados, inteligência artificial e bigdata.
- (C) assegura condições para a pesquisa digital, para viabilizar a participação ativa de pesquisadores brasileiros em redes e programas internacionais de pesquisa e desenvolvimento.
- (D) incluí o estímulo e o reforço ao letramento digital a partir do ensino médio, como parte dos itinerários formativos oferecidos obrigatoriamente pelas unidades escolares.
- (E) garante o ensino de programação, computação e robótica para a população brasileira economicamente ativa, fornecendo-lhes a capacitação para competir no mercado de trabalho.

54

Em uma equipe de trabalho, Ana era reconhecida como a melhor comunicadora, realizando sempre ótimas apresentações. Essa percepção fez com que todos confiem nela para representar o grupo em reuniões importantes. Recentemente, porém, Ana tem evitado essas tarefas devido ao nervosismo, delegando a colegas sem comunicar abertamente suas dificuldades. Apesar disso, a equipe continua a elogiá-la por um trabalho que ela não mais realiza.

Com relação ao desempenho de papéis em organizações, assinale a opção que explica a situação descrita acima.

- (A) Reconhecimento de Ana pela equipe devido ao desempenho do papel esperado.
- (B) Conflito de papel por parte de Ana decorrente de expectativas ambíguas da equipe.
- (C) Má comunicação da equipe em relação ao problema no papel realizado por Ana.
- (D) Adaptação bem-sucedida entre o papel percebido de Ana e o papel esperado pela equipe.
- (E) Discrepância entre o papel esperado pela equipe e o papel realizado por Ana.

55

Os conteúdos de ensino representam o conjunto de conhecimentos, competências e atitudes cuja assimilação e apropriação por estudantes são consideradas essenciais para seu desenvolvimento e para sua socialização.

A respeito da estruturação de conteúdos de ensino, correlacione os critérios para seleção de conteúdos listados com a descrição correspondente.

1. Viabilidade
  2. Flexibilidade
  3. Possibilidade de elaboração pessoal
  4. Utilidade
- ( ) Os conteúdos selecionados devem ser passíveis de modificação, atualização, e de aprofundamento de acordo com as mudanças na produção e reais condições.
  - ( ) Os conteúdos devem poder ser assimilados e transformados pelo próprio estudante, o qual pode associar comparar, compreender, selecionar, organizar, criticar e avaliar novos conteúdos.
  - ( ) Os conteúdos adquiridos devem poder ser aplicados em situações novas, assumindo valor prático para os alunos, ajudando-os em sua vida cotidiana a solucionar problemas.
  - ( ) Os conteúdos selecionados devem ser apreensíveis dentro das disponibilidades de tempo e nível de compreensão da classe, respeitando os diversos graus de maturidade intelectual dos alunos.

Assinale a opção que indica a relação correta, na ordem apresentada.

- (A) 1 – 3 – 2 – 4.
- (B) 1 – 4 – 2 – 3.
- (C) 4 – 2 – 3 – 1.
- (D) 2 – 3 – 4 – 1.
- (E) 4 – 3 – 2 – 1.

56

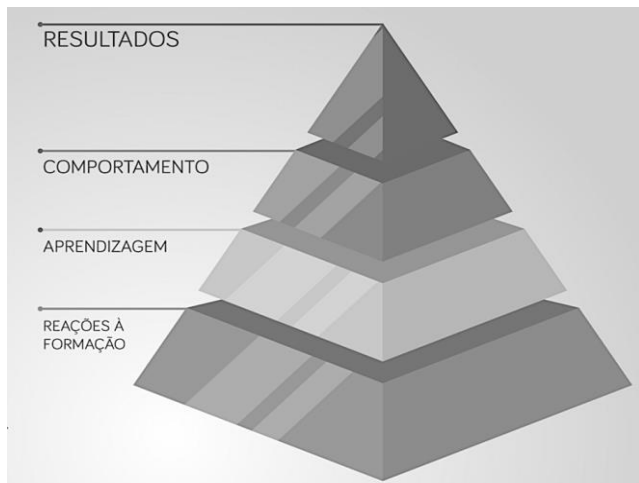
Em uma escola é organizado um treinamento para professores. Seu objetivo é o de integrar recursos digitais ao desempenho de suas funções. Os professores são apresentados a plataformas de ensino *online*, a aplicativos educativos e a ferramentas de colaboração virtual.

O indicador adequado para avaliar a eficácia desse treinamento é

- (A) a frequência com que os professores discutem sobre tecnologia digital em reuniões de professores.
- (B) o entusiasmo inicial dos professores em relação à adoção de tecnologias digitais em sala de aula.
- (C) a regularidade com que os professores utilizam aplicativos educativos em suas práticas pedagógicas.
- (D) o aumento nas publicações nas redes sociais pelos professores sobre o uso de tecnologia em sala de aula.
- (E) a percepção dos professores sobre sua própria competência no uso de ferramentas digitais após o treinamento.

57

Donald Kirkpatrick idealizou um processo de avaliação de programas educacionais em quatro níveis hierarquizados por complexidade, custo e tempo de avaliação.



As opções a seguir caracterizam corretamente os níveis de avaliação de programas educacionais segundo a pirâmide de Kirkpatrick, **à exceção de uma**. Assinale-a.

- (A) O primeiro nível corresponde ao grau de satisfação do indivíduo com o processo de aprendizado.
- (B) O segundo nível diz respeito ao aumento de conhecimento e ao aprimoramento de habilidades adquiridas.
- (C) O terceiro nível avalia se o novo aprendizado produz mudanças de comportamento ou capacidades, permitindo sua aplicação na vida prática.
- (D) O quarto nível foca no impacto do treino oferecido pelo programa educacional, mensurável por meio de mudanças organizacionais, de produto ou fluxos, por exemplo.
- (E) Os primeiros dois níveis medem as mudanças antes e depois do treinamento, ao passo que os últimos dois identificam a motivação resultante do aprendizado mediante questionários e entrevistas, por exemplo.

58

*As trilhas são caminhos alternativos e flexíveis de desenvolvimento profissional, focadas em competências específicas para o trabalho e, também, para a vida. Nas trilhas de aprendizagem as pessoas aprendem trabalhando e trabalham treinando, permitindo conexão entre teoria e prática, entre conhecimento e ação.*

Adaptado de CARBONE, P. P. "Trilhas de aprendizagem". Texto baseado no fascículo "Trilhas de Aprendizagem" do Banco do Brasil, ano V, nº 24, 2001.

As opções a seguir interpretam corretamente a noção de *trilhas de aprendizagem* apresentada pelo autor, **à exceção de uma**. Assinale-a.

- (A) Esta noção está de acordo com a ideia de que a educação ocorre durante a vida inteira, no decorrer da qual a formação dos indivíduos é dinâmica e conta com várias oportunidades.
- (B) As trilhas pressupõem o uso de diferentes recursos para a aprendizagem: de livros a filmes, de documentos a treinos de procedimentos operacionais, por exemplo.
- (C) Esta concepção aponta para uma curadoria do conhecimento que habilita o indivíduo a atuar com desenvoltura no trabalho diante dos desafios.
- (D) Uma trilha de aprendizagem é qualificada como positiva se possibilitar que o indivíduo se aproprie de conhecimentos úteis e os aplique em sua atividade profissional.
- (E) As trilhas são oferecidas pela corporação que gerencia o processo formativo visando programas de qualificação de seus profissionais, para que estejam atualizados em relação à complexidade do mundo contemporâneo.

59

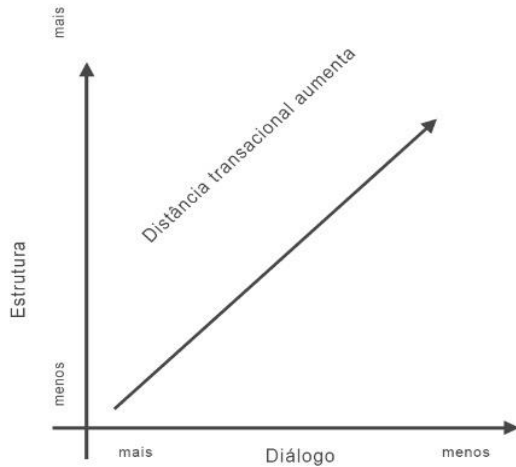
Um professor de matemática está apresentando pela primeira vez o conceito de fração. Alguns alunos conseguem entender rapidamente com as explicações iniciais, enquanto outros apresentam imensas dificuldades. O professor propõe uma dinâmica de grupos de alunos, em cada um deles tem pelo menos um aluno que já compreendeu bem o conceito de frações. Ele incentiva os alunos mais avançados a explicarem o conceito aos demais em suas próprias palavras.

A dinâmica proposta pelo professor na situação descrita se baseia no conceito de

- (A) temas-geradores.
- (B) zona de desenvolvimento proximal.
- (C) equilíbrio.
- (D) aprendizagem baseada em projetos.
- (E) instrução direta.

60

Considere o gráfico a seguir:



Extraído de MOORE, M. G. "The Theory of Transactional Distance". In: *Handbook of Distance Education*. New York: Routledge, 2019.

Com base na teoria da distância transacional de Moore e na leitura do gráfico acima, é correto afirmar que

- (A) cursos altamente estruturados podem prejudicar a comunicação entre os alunos e o instrutor.
- (B) uma maior autonomia do estudante tende a elevar a distância transacional no processo educacional.
- (C) o diálogo tem um impacto limitado na redução da distância transacional em cursos menos estruturados.
- (D) uma baixa estrutura pode levar a um maior isolamento dos alunos em relação ao processo educacional.
- (E) a qualidade do processo de ensino-aprendizagem cresce com níveis mais elevados de estrutura e diálogo.

61

Assinala o fluxo escolar e as médias de desempenho nas avaliações, sendo calculado com base nos dados sobre aprovação escolar e com as médias de desempenho. Agrega a possibilidade de resultados sintéticos ao enfoque pedagógico das avaliações em larga escala, permitindo traçar metas de qualidade educacional.

Assinale a opção que indica corretamente o indicador educacional necessário para as atividades de planejamento estratégico institucional descrito no trecho.

- (A) Censo Escolar.
- (B) Plano de Ações Articuladas (PAR).
- (C) Índice de Desenvolvimento da Educação Básica (Ideb).
- (D) Plano de Desenvolvimento Educacional (PDE-Escola).
- (E) Sistema de Avaliação da Educação Básica (Saeb).

62

Na educação, decidir e definir os objetivos de aprendizagem significa estruturar o processo educacional de modo a oportunizar mudanças de pensamentos, ações e condutas. Essa estruturação resulta de um processo de planejamento diretamente relacionado à escolha de conteúdos, procedimentos, avaliações que devem permitir aos alunos desenvolver seus domínios cognitivo, afetivo e psicomotor de modo gradual, por escalas progressivas de dificuldade.

O trecho se refere a um instrumento existente para apoiar o planejamento didático-pedagógico, conhecido como

- (A) metacognição.
- (B) autorregulação.
- (C) taxonomia de bloom.
- (D) planejamento reverso.
- (E) desenvolvimento cognitivo.

63

*O círculo de cultura foi visto, durante muitos anos, muito mais como uma ideia a respeito da educação do que uma metodologia de ensino. Sua aplicação inicial estava restrita aos processos de alfabetização – em especial de adultos – e ganhou maior visibilidade com a divulgação dos trabalhos de Paulo Freire. O nome deve-se à ideia de que todos estão inseridos no debate e possuem o mesmo valor para participação. A ideia é que todos possam se olhar sob as mesmas condições e com a mesma possibilidade de participação. O professor, em um primeiro momento, deve atuar como um animador, auxiliando na identificação de um tema comum e estimulando que todos se manifestem.*

Adaptado de Bruno Taranto Malheiros.  
*Didática Geral*. São Paulo: LTC/Gen, 2019, p. 165.

Com base no trecho, assinale a afirmativa que indica corretamente a premissa que embasa o processo de ensino-aprendizagem *círculo de cultura*.

- (A) A construção do conhecimento se dá de maneira coletiva.
- (B) A leitura e a escrita são os meios privilegiados para absorção do conteúdo curricular.
- (C) O aprimoramento da sintaxe e das capacidades expressivas embasa a cognição.
- (D) O processo de aprendizagem realiza-se mediante percursos individuais e personalizados.
- (E) O uso de desafios progressivos desenvolve a aprendizagem e a atitude empreendedora.

64

A tecnologia da informação e a digitalização mudaram o modo como as pessoas estudam e se comunicam. Diante disso, o processo de ensino-aprendizagem passou a contar cada vez mais com metodologias ativas de aprendizagem, como a descrita a seguir:

*É um procedimento de ensino no qual o docente apresenta um tema que deverá ser investigado pelos alunos, normalmente em pequenos grupos, responsáveis pelo levantamento do material e pela apresentação dos resultados para os demais colegas.*

O trecho se refere à metodologia ativa conhecida como

- (A) seminário.
- (B) gamificação.
- (C) sala de aula invertida.
- (D) aprendizagem baseada em projetos.
- (E) aprendizagem baseada em problemas.

65

*Todo planejamento educacional, para qualquer sociedade, tem de responder às marcas e aos valores dessa sociedade. Só assim, é que pode funcionar o processo educativo, ora como força estabilizadora, ora como fator de mudança. Às vezes, preservando determinadas formas de cultura. Outras, interferindo no processo histórico instrumental.*

Paulo Freire. Educação e atualidade brasileira. São Paulo: Cortez, 2001, p. 10.

*A ação de planejar não se reduz ao preenchimento de formulários para controle administrativo, é, antes, a atividade consciente da previsão das ações político-pedagógicas, tendo como referência permanente as situações didáticas concretas (isto é, a problemática social, econômica, política e cultural) que envolvem a escola, os professores, os alunos, os pais, a comunidade, que integram o processo de ensino.*

José Carlos Libâneo. Didática. São Paulo: Cortez, 2013, p. 246.

Com base nos trechos, é correto afirmar que, para os dois autores, o planejamento educacional

- (A) deve ser construído com a colaboração de toda a comunidade escolar.
- (B) decorre do conhecimento e observância das normas pedagógicas.
- (C) consiste na programação dos passos para cumprir metas educacionais
- (D) tem como ponto de partida uma leitura crítica da realidade social.
- (E) fundamenta-se na visão do aluno ideal para selecionar estratégias aptas à assimilação ativa.

## LEGISLAÇÃO INSTITUCIONAL

66

Antônio foi nomeado para o cargo de Controlador Interno da Assembleia Legislativa de Tocantins.

À luz da Lei nº 4.209/2023, que dispõe sobre a estrutura administrativa da Aletto, durante o exercício da função, Antônio será competente para:

- (A) opinar, conclusivamente, em processos de direitos, deveres e obrigações dos servidores do Poder Legislativo.
- (B) constituir Comissão Permanente de Licitação.
- (C) examinar a observância das normas de licitações.
- (D) apresentar à Mesa Diretora o balancete mensal e, no início de cada exercício, o balancete geral das contas da Assembleia Legislativa, relativo ao exercício anterior.
- (E) planejar, coordenar, orientar, controlar e dirigir as atividades administrativas, orçamentárias, financeiras, de comunicação social, de tecnologia de informação e de apoio legislativo da Assembleia Legislativa.

67

Nos termos da Constituição do Estado do Tocantins, constitui objeto de lei complementar a seguinte matéria:

- (A) os prazos de prescrição para ilícitos praticados por qualquer agente, servidor ou não, que causem prejuízos ao erário.
- (B) os limites de idade, a estabilidade e outras condições de transferência do servidor militar para a inatividade.
- (C) os casos de contratação por tempo determinado para atender à necessidade temporária de excepcional interesse público.
- (D) as regras para cálculo de proventos de aposentadoria e pensão por morte.
- (E) os requisitos e as restrições ao ocupante de cargo ou emprego da administração direta e indireta que possibilite o acesso a informações privilegiadas.

68

Considerando o exercício da função legislativa por parte da Assembleia Legislativa de Tocantins, nos termos de seu Regimento Interno, é correto afirmar que

- (A) projetos de lei delegada podem se destinar a regular as matérias de exclusiva competência do Poder Executivo, com a sanção do Governador do Estado.
- (B) projetos de resolução podem se destinar a regular, com eficácia de lei ordinária, matéria de competência privativa da Assembleia Legislativa.
- (C) projetos de lei complementar visam regular matéria infraconstitucional.
- (D) projetos de lei têm por objetivo regular matérias de competência do Poder Legislativo, sem a sanção do Governador do Estado.
- (E) projetos de decreto legislativo destinam-se à delegação de competência, na forma estabelecida na Constituição Estadual.

69

Aline, servidora pública estadual, revelou segredo do qual se apropriou em razão do cargo que ocupa. A Administração Pública, ao tomar conhecimento do fato, instaurou procedimento administrativo disciplinar a fim de apurar a conduta e garantir à servidora os princípios da ampla defesa e do contraditório.

À luz do Estatuto dos Servidores Públicos Cíveis do Estado do Tocantins, caso punida, Aline poderá ser sancionada com

- (A) advertência.
- (B) suspensão.
- (C) prestação de serviço.
- (D) multa.
- (E) demissão.

**70**

Ana, servidora pública efetiva e estável, ocupante de cargo de nível superior, objetivando inteirar-se sobre os requisitos para a progressão na carreira, consultou a Lei nº 4.208/2023, que trata sobre o plano de cargos, carreiras e remuneração dos Servidores da Assembleia de Tocantins.

Assim, para fazer jus à progressão, Ana terá que

- (A) possuir no máximo três faltas injustificadas por exercício referente ao período avaliado.
- (B) obter conceito igual ou superior a 70% (setenta por cento) dos pontos possíveis em todos os procedimentos de sua Avaliação.
- (C) concluir curso de pós-graduação *lato sensu* com duração mínima de 360 (trezentos e sessenta) horas.
- (D) cumprir trinta meses de efetivo exercício na classe em que se encontra.
- (E) concluir cursos de aperfeiçoamento em sua área de atuação que tenha, no mínimo, 80 (oitenta) horas de duração.



# ASSEMBLEIA LEGISLATIVA DO ESTADO DO TOCANTINS

CONCURSO PÚBLICO – EDITAL Nº 01/2023

## PROVA OBJETIVA – TARDE

### ANALISTA LEGISLATIVO PSICOLOGIA

NÍVEL SUPERIOR – TIPO 1 – BRANCA



#### SUA PROVA

- Além deste caderno contendo **70 (setenta)** questões objetivas, você receberá do fiscal de prova o cartão de respostas;
- As questões objetivas têm **5 (cinco)** opções de resposta (A, B, C, D) e somente uma delas está correta.



#### TEMPO

- Você dispõe de **5 (cinco) horas** para a realização da prova, já incluído o tempo para a marcação do cartão de respostas;
- **3 (três) horas** após o início da prova, é possível retirar-se da sala, sem levar o caderno de questões;
- A partir dos **30 (trinta) minutos** anteriores ao término da prova é possível retirar-se da sala **levando o caderno de questões**.



#### NÃO SERÁ PERMITIDO

- Qualquer tipo de comunicação entre os candidatos durante a aplicação da prova;
- Anotar informações relativas às respostas em qualquer outro meio que não seja o caderno de questões;
- Levantar da cadeira sem autorização do fiscal de sala;
- Usar o sanitário ao término da prova, após deixar a sala.



#### INFORMAÇÕES GERAIS

- Verifique se seu caderno de questões está completo, sem repetição de questões ou falhas. Caso contrário, **notifique imediatamente o fiscal da sala**, para que sejam tomadas as devidas providências;
- Confira seus dados pessoais, especialmente nome, número de inscrição e documento de identidade e leia atentamente as instruções para preencher o cartão de respostas;
- Para o preenchimento do cartão de respostas, use somente caneta esferográfica, fabricada em material transparente, com tinta preta ou azul;
- Assine seu nome apenas no(s) espaço(s) reservado(s) no cartão de respostas;
- Confira seu cargo, cor e tipo do caderno de questões. Caso tenha recebido caderno de cargo ou cor ou tipo **diferente** do impresso em seu cartão de respostas, o fiscal deve ser **obrigatoriamente** informado para o devido registro na ata da sala;
- Reserve tempo suficiente para o preenchimento do seu cartão de respostas. O preenchimento é de sua responsabilidade e **não será permitida a troca do cartão de respostas em caso de erro cometido pelo candidato**;
- Para fins de avaliação, serão levadas em consideração apenas as marcações realizadas no cartão de respostas;
- A FGV coletará as impressões digitais dos candidatos na lista de presença;
- Os candidatos serão submetidos ao sistema de detecção de metais quando do ingresso e da saída de sanitários durante a realização das provas.
- **Boa prova!**

## CONHECIMENTOS BÁSICOS

### Língua Portuguesa

1

Observe o seguinte texto:

*Quando entrei no terrível vagão, ele estava ocupado por duas pessoas. Uma, dobrada, coberta, dormia profundamente. A coberta superior estava manchada, de fundo amarelado, como pele de leopardo. Vendem-se muitas mantas assim nas lojas de artigos de viagens, mas pude notar logo depois que se tratava realmente da pele de um animal selvagem; do mesmo modo, o boné da pessoa adormecida me pareceu ser de feltro branco bastante delicado. O outro viajante, uma aparência simpática, parecia ter passado dos trinta anos e mostrava-se como figura insignificante que passa confortavelmente as noites em estradas de ferro.*

Nesse fragmento textual, para criar sinais de história realista e verdadeira, o narrador apela para a seguinte estratégia:

- (A) seleciona uma situação banal da qual não precisa fornecer muitos detalhes, exatamente por sua banalidade.
- (B) fornece algumas marcas caracterizadoras dos dois personagens presentes no texto, destacando sua banalidade.
- (C) indica traços descritivos do ambiente, mostrando-o como se nada houvesse nele de excepcional.
- (D) mostra detalhes variados e bastante pitorescos dos objetos descritos.
- (E) dá ao leitor informações sobre personagens e ambiente, mostrando-os como bastante conhecidos do narrador.

2

Assinale a frase que mostra a palavra *mais* numa classe gramatical **diferente** das demais.

- (A) O mercado está prisioneiro de mais um círculo vicioso: piora porque piorou e porque piorou, piora.
- (B) Os ingleses conquistaram o mundo porque não aguentavam mais a própria cozinha.
- (C) Quanto mais vejo o estrangeiro, mais amo a minha pátria.
- (D) Não é mais possível aprender tudo de cor. Um homem instruído não é mais o homem que sabe muitas coisas; é o homem que sabe onde buscar informações.
- (E) Muda-se mais facilmente de religião do que de café

3

As frases a seguir mostram termos ligados pela conjunção OU.

Assinale a frase em que essa conjunção mantém o valor de alternativa (e não de adição).

- (A) João ou Pedro deve ser eleito presidente da empresa.
- (B) A alegria ou a tristeza fazem parte da vida.
- (C) Inglês ou francês são idiomas falados pelos turistas
- (D) Os clientes leem livros ou revistas enquanto esperam.
- (E) Vasco ou Flamengo são times de longa tradição.

4

Um guitarrista americano produziu o seguinte pensamento:

*O crítico de rock é alguém que não sabe escrever, entrevistando gente que não sabe falar, para gente que não sabe ler.*

Sobre a estruturação ou a significação desse pequeno texto, assinale a afirmativa **incorreta**.

- (A) O termo “de rock” funciona como complemento nominal do termo anterior.
- (B) Todos os elementos da cadeia comunicativa citados no texto são marcados pela ignorância.
- (C) O pensamento acima revela um preconceito fortíssimo contra os amantes de rock.
- (D) A opinião expressa no texto pode advir da experiência pessoal do autor, já que se trata de um guitarrista.
- (E) A injustiça desse texto provém de ser uma opinião fundamentada em uma autoridade duvidosa.

5

John Steinbeck, prêmio Nobel, declarou o seguinte:

*O homem é o único animal que bebe sem ter sede, come sem ter fome e fala sem ter nada a dizer.*

Em relação ao significado e à estruturação desse pequeno texto, assinale a afirmativa **incorreta**.

- (A) A frase ficaria mais enfática se invertêssemos a posição do termo inicial: O único animal que bebe sem ter sede, come sem ter fome e fala sem ter nada a dizer é o homem.
- (B) A inversão de alguns segmentos do texto em nada modificaria o sentido da frase: O homem é o único animal que come sem ter fome, bebe sem ter sede e fala sem ter nada a dizer.
- (C) Os segmentos finais do texto mostram preocupação com rigoroso paralelismo sintático.
- (D) Segundo a opinião do autor do texto, a marca principal do homem é a irracionalidade.
- (E) Nem todas as ações citadas como marcas humanas estão presentes, por oposição, nos outros animais.

6

Assinale a frase que **não** expressa uma noção de tempo abstrato.

- (A) Nas asas do tempo, a tristeza voa.
- (B) Quem mata o tempo não é assassino, é suicida.
- (C) O tempo perdido não se encontra nunca mais.
- (D) O tempo é o melhor professor. Infelizmente, ele mata todos os seus estudantes
- (E) O tempo gasto na viagem foi de duas horas.

7

Assinale a frase em que a utilização do acento grave indicativo da crase é realizada de forma **errada**.

- (A) Jamais alguém se arrependeu de ter-se acostumado à madrugada e à ter-se casado jovem.
- (B) Tempo é o suspiro de adeus do sol à terra.
- (C) Saio todos os dias às cinco horas e não permito que o meu trabalho interfira no meu jogo de tênis.
- (D) O momento de extrair uma lição da história está sempre à mão para os sábios.
- (E) Quando assumi, quatro anos atrás, estávamos à beira do precipício.



8

Os adjetivos podem representar estados, qualidades, características e relações.

Assinale a frase que mostra um tipo de adjetivo **diferente** dos demais.

- (A) Nunca houve criança tão amável que a própria mãe não ficasse satisfeita ao conseguir adormecê-la.
- (B) Nada mais perversamente cruel que uma adorável criança.
- (C) Mesmo estando doentes, as crianças não ficam caladas.
- (D) Quando as crianças estão quietas é porque fizeram alguma coisa errada.
- (E) As tangerinas verdes não amadurecem fora do pé.

9

Assinale a frase em que o adjetivo sublinhado mostra uma função sintática **diferente** das demais.

- (A) Por fora bela viola, por dentro pão **bolorento**.
- (B) Tiradentes, **heroico**, tentou organizar uma revolução.
- (C) Um rosto **bonito** altera-se depressa.
- (D) Eu não podia acreditar que existem múmias tão **lindas**.
- (E) Um homem belo é um homem **insignificante**.

10

Assinale a opção que mostra uma impropriedade léxica, ou seja, um emprego **inadequado** da expressão “cerca de”.

- (A) Havia cerca de três dúzias de convidados no final da festa.
- (B) Chegaram cerca de 100 cartas no mesmo dia.
- (C) Cerca de 18 lojas fecharam as portas mais cedo.
- (D) Os cantores receberam cerca de uma centena de convites.
- (E) A plantação produziu cerca de uma tonelada de legumes.

11

Muitas palavras portuguesas mostram o prefixo A- sem qualquer valor semântico, sendo equivalentes ao mesmo vocábulo sem esse prefixo.

Assinale a palavra a seguir que exemplifica esse A protético.

- (A) amostrar
- (B) abraçar
- (C) atenuar
- (D) aguardar
- (E) aparar

12

Observe o seguinte texto:

*A felicidade depende da habilidade que tenhamos naquelas atividades que consideramos importantes: somente se lhes damos um real valor aos pequenos detalhes cotidianos, poderemos ter instantes felizes. A felicidade absoluta não existe, e já que só podemos acessar os pequenos detalhes daquilo que nos interessa, devemos contentar-nos com isso. Por isso, a infelicidade é um sinal claro de nossa incompetência na arte de viver.*

Sobre a estrutura e a significação desse texto, assinale a afirmativa **inadequada**.

- (A) O tema do texto gira em torno do que consiste a felicidade e o que viria a ser o seu oposto.
- (B) A afirmação de que “A felicidade absoluta não existe” é de cunho pessoal do autor do texto, representando uma opinião.
- (C) O raciocínio utilizado na estruturação argumentativa é do tipo dedutivo.
- (D) O conector “Por isso” mostra a preocupação com o caráter lógico da argumentação.
- (E) A tese do texto é a de que a infelicidade é fruto de nossa incompetência na arte de viver.

## Raciocínio Lógico Matemático

13

Certo programa de rádio tem 1 hora e 55 minutos de duração. A partir do momento em que o programa é iniciado, há blocos temáticos de 7 minutos intercalados por blocos de propagandas de 2 minutos.

Em todos os blocos de propaganda, ouve-se o comercial do restaurante R, que sempre dura 18 segundos.

Se o programa começa e termina com um bloco temático, então, o tempo total do programa dedicado ao anúncio do restaurante R é

- (A) 3 minutos e 54 segundos.
- (B) 3 minutos e 36 segundos.
- (C) 3 minutos e 18 segundos.
- (D) 3 minutos.
- (E) 2 minutos e 48 segundos.

14

A linha de produção de certa fábrica produz 1100 latas de sardinhas a cada hora. Certo dia, por um defeito de calibragem do sistema, entre 13h e 14h, o volume de produção foi reduzido em 30% durante exatos 12 minutos.

A quantidade de latas de sardinhas produzidas no intervalo supracitado foi

- (A) 946.
- (B) 964.
- (C) 1022.
- (D) 1034.
- (E) 1046.

15

Marcelo está parado de frente para uma das paredes de uma sala quadrada. Nesta posição, ele está a 1m e 20cm da parede que se encontra à sua direita e a 1m e 70cm da parede que está às suas costas.

Ele, então, se desloca paralelamente às paredes da sala sendo 40cm para a frente e 80cm para a direita. Nessa nova posição, ele passou a distar 1m e 90cm da parede que antes estava à sua esquerda.

Desprezando-se as dimensões de Marcelo, a sua atual distância à parede que, antes dos movimentos, estava à sua frente, é

- (A) 20cm.
- (B) 30cm.
- (C) 40cm.
- (D) 50cm.
- (E) 60cm.

16

Um dado é dito comum quando tem a forma de um cubo e suas 6 faces são numeradas de 1 a 6, de tal forma que a soma dos números estampados em faces opostas, quaisquer que sejam elas, sempre somam 7.

Quando um dado comum é lançado, diz-se que o resultado do lançamento é o número estampado na face voltada para cima.

Um dado foi lançado 3 vezes seguidas. Se o produto dos resultados obtidos nos lançamentos vale 75, a soma desses resultados é igual a

- (A) 12.
- (B) 13.
- (C) 14.
- (D) 15.
- (E) 16.

17

Em certo ano, o dia 1º de agosto cai em um domingo. Logo, o dia 1º de novembro cairá em

- (A) um sábado.
- (B) um domingo.
- (C) uma segunda-feira.
- (D) uma quarta-feira.
- (E) uma sexta-feira.

18

Considere a seguinte proposição condicional:

*Se todos os alunos da Escola Aristarco gostam de matemática, então, ao menos um deles ganha medalha na Olimpíada Nacional de Matemática.*

Se essa proposição é verdadeira, é correto afirmar que

- (A) se nenhum dos alunos da Escola Aristarco gosta de Matemática, então nenhum deles ganha medalha na Olimpíada Nacional de Matemática.
- (B) se todos os alunos da Escola Aristarco ganham medalha na Olimpíada Nacional de Matemática, então, todos esses alunos gostam de Matemática.
- (C) se algum aluno da Escola Aristarco ganha medalha na Olimpíada Nacional de Matemática, então todos esses alunos gostam de Matemática.
- (D) se nenhum aluno da Escola Aristarco ganha medalha na Olimpíada Nacional de Matemática, então nenhum desses alunos gosta de Matemática.
- (E) se nenhum aluno da Escola Aristarco ganha medalha na Olimpíada Nacional de Matemática, então algum desses alunos não gosta de Matemática.

19

Em uma caixa, há muitas canetas esferográficas. Classificadas conforme a cor, elas podem ser azuis, vermelhas ou pretas. Classificadas quanto à espessura da esfera, elas podem ser de ponta fina ou de ponta grossa.

Metade das canetas vermelhas tem a ponta grossa. A quantidade total de canetas pretas é igual à quantidade total de canetas vermelhas. Entre as canetas de ponta grossa, a quantidade de azuis é igual à de pretas. A quantidade de canetas azuis com ponta fina é o dobro da quantidade de canetas pretas de ponta grossa.

Se, nessa caixa, 18 são azuis e 20 têm ponta grossa, então a quantidade total de canetas na caixa é

- (A) 30.
- (B) 40.
- (C) 48.
- (D) 50.
- (E) 52.

20

Tucídides possuía uma dívida e, em vez de quitá-la, pagou apenas 20% do seu valor, deixando o restante para ser quitado em data futura, com acréscimo de 12% a título de juros sobre o saldo devedor.

No ato de quitação, Tucídides pagou R\$2.329,60. Logo, o valor original da dívida é o resultado da seguinte expressão:

(A)  $2.329,60 \times 0,88 - 20$

(B)  $\frac{2.329,60}{0,88} \times 1,20$

(C)  $\frac{2.329,60}{1,12} \times 1,20$

(D)  $\frac{2.329,60}{1,12 \times 1,20}$

(E)  $\frac{2.329,60}{1,12 \times 0,8}$

21

As filhas de Nepomuceno têm 5 e 9 anos de idade. Ele dividirá R\$420,00 entre elas de forma inversamente proporcional às suas idades.

Logo

- (A) a mais nova receberá R\$120,00 a mais que a mais velha.
- (B) a mais nova receberá R\$150,00 a mais que a mais velha.
- (C) a mais nova receberá R\$270,00 a mais que a mais velha.
- (D) a mais velha receberá R\$120,00 a mais que a mais nova.
- (E) a mais velha receberá R\$150,00 a mais que a mais nova.

22

A negação da proposição:

$$\text{Se } y \neq 0, \text{ então } x > 2 \text{ e } x \leq 5$$

é dada por

- (A) Se  $y = 0$ , então  $x > 2$  e  $x \leq 5$
- (B) Se  $y = 0$ , então  $x < 2$  ou  $x \geq 5$
- (C)  $y = 0$  e  $x \leq 2$  ou  $x > 5$
- (D)  $y \neq 0$  e  $x \leq 2$  ou  $x > 5$
- (E)  $y \neq 0$  e  $x \leq 2$  e  $x > 5$

## Atualidades

23

De acordo com o censo demográfico de 2022 (IBGE), mais da metade da população brasileira (51,13%) é feminina, e elas representam, segundo o Tribunal Superior Eleitoral, 53% do eleitorado. No entanto, elas ocupam, hoje, menos de 15% dos cargos eletivos.

A respeito da baixa participação das mulheres na política, assinale a afirmativa que apresenta um dispositivo existente na legislação brasileira para alterar esse cenário.

- (A) Reserva de pelo menos 50% dos recursos do Fundo Especial de Financiamento de Campanha, o Fundo Eleitoral, para financiar candidaturas femininas.
- (B) Suspensão dos direitos eleitorais aos partidos em caso de não observância do percentual de pelo menos 30% de candidatas mulheres em cada ciclo eleitoral
- (C) Reserva de assentos, em ambas as casas legislativas, para mulheres, com preferência para as representantes de povos originários.
- (D) Cota de gênero, que obriga cada partido ou coligação a preencher o mínimo de 30% e o máximo de 70% de candidaturas de cada sexo.
- (E) Repasse de até 30% dos recursos dos Fundos Partidário para custear o tempo da propaganda eleitoral gratuita de candidatas em rádio e televisão.

24

A França se tornou o primeiro país do mundo a incluir na Constituição a liberdade de a mulher abortar. A mudança na Carta Magna foi aprovada em uma sessão conjunta das duas Casas legislativas, a Assembleia Nacional e o Senado, e será promulgada pelo presidente Emmanuel Macron ainda em março de 2024.

Adaptado de <https://www1.folha.uol.com.br/mundo/2024/03/>

Diferentemente da França, a legislação brasileira

- (A) equipara o aborto ao infanticídio.
- (B) considera o aborto uma prática ilegal em todas as situações.
- (C) descriminaliza a interrupção da gravidez em caso de deficiência da gestante.
- (D) estabelece um limite temporal para interromper a gravidez, desde que respaldada por laudo médico.
- (E) autoriza a interrupção de gestação em caso de não haver outro meio de salvar a vida da gestante.

25

Desde os anos 2000, o interior do Brasil ultrapassou o litoral na incidência de dengue. A região costeira que vai de Santos, em São Paulo, até Belém, no Pará, apresentava tipicamente maior proporção de casos de dengue em comparação com sua população. Entretanto, recentemente, o oeste do Paraná, o oeste de Santa Catarina o oeste de São Paulo, o interior de Minas Gerais, uma parte do Tocantins, o Goiás e o Mato Grosso do Sul viram a transmissão da doença aumentar e muitas de suas cidades foram obrigadas a decretar emergência.

Adaptado de <https://www.estadao.com.br>

A respeito dos fatores relacionados ao aumento e à interiorização dos casos de dengue no Brasil, analise as afirmativas a seguir.

- I. A maior frequência de períodos com temperaturas acima da média, inclusive com ondas de calor no período invernal em todo território, tem reforçado o padrão sazonal da doença.
- II. A expansão urbana desvinculada de melhoras nos serviços sanitários tem propiciado a formação de ilhas de calor e, portanto, uma alta na incidência da dengue.
- III. O desmatamento do cerrado, convertido em pasto, por exemplo, tem contribuído para aumentar a temperatura média e o número de casos da doença no interior do Brasil.

Está correto o que se afirma em

- (A) I, apenas.
- (B) I e II, apenas.
- (C) I e III, apenas.
- (D) II e III, apenas.
- (E) I, II e III.

26

As afirmativas a seguir descrevem corretamente o desempenho da economia brasileira em 2023, à exceção de uma. Assinale-a.

- (A) A expansão econômica ampliou a geração de empregos informais, em um contexto recessivo e de flexibilização das leis trabalhistas.
- (B) O dinamismo da economia foi marcado pelo aumento de exportações, no setor agrícola, e da demanda, no setor de serviços, em função da alta no consumo das famílias.
- (C) A alta progressiva nas cotações internacionais de commodities acelerou o ritmo das exportações, mesmo em um cenário cambial desfavorável para os exportadores.
- (D) A retração do Brasil no mercado regional e internacional ocorreu em função da maior competitividade dos produtos agrícolas argentinos e pela retomada da economia chinesa.
- (E) A persistência do alto nível da inflação foi ocasionada pela alta da cesta básica, sobretudo dos alimentos, cujas safras foram afetadas pelas condições climáticas adversas.

27

Em 2024, o Tribunal Superior Eleitoral (TSE) aprovou uma resolução para regulamentar o uso da inteligência artificial (IA) durante as eleições municipais a serem realizadas em outubro. A norma proíbe manipulações de conteúdo falso para criar ou substituir imagem ou voz de candidato com objetivo de prejudicar ou favorecer candidaturas. Também foi aprovada a restrição do uso de chatbots humanizados e avatares para intermediar a comunicação das campanhas com pessoas reais nas redes sociais.

Adaptado de <https://agenciabrasil.ebc.com.br/>

A resolução sobre IA objetiva

- (A) coibir a produção e circulação de *deepfakes*.
- (B) restringir o uso de ferramentas de IA simbólica.
- (C) retomar a veiculação de propagandas eleitorais em mídias tradicionais, como rádio e televisão.
- (D) proibir o uso de ferramentas de coleta e seleção em bases de dados com fins eleitorais.
- (E) limitar o uso de assistente virtual programado por AI para divulgação do programa partidário.

28

Assinale a afirmativa que descreve corretamente um aspecto do panorama global da economia em 2023.

- (A) Nos Estados Unidos, a economia foi alavancada pela adoção de uma política de ampliação do crédito e baixa da taxa de juros.
- (B) Na China, o PIB cresceu acima do esperado, em um cenário marcado pela retomada econômica pós pandemia, inclusive no setor imobiliário.
- (C) Na Zona do Euro, a alta dos preços da energia pesou nas despesas familiares e no setor industrial, confirmando a manutenção de um quadro de crise.
- (D) Na Rússia, o PIB decresceu, em função do impacto prolongado da guerra com a Ucrânia e dos embargos à venda de petróleo e gás russos.
- (E) Na América do Sul, foi mantido um caminho geral de crescimento, apoiado por investimentos externos e pela intensificação de políticas estatistas.

29

Um supercomputador consiste em milhares de pequenos computadores chamados nós. Cada nó é equipado com sua própria memória e com vários processadores. Atuando em conjunto, eles são capazes de realizar cálculos extremamente complexos em elevada velocidade. Hoje, o maior supercomputador da América Latina é o Pégaso, da Petrobras, com 678 TB de memória RAM e mais de 233 mil núcleos.

Adaptado de <https://revistapesquisa.fapesp.br>

A respeito do poder computacional de alto desempenho dos supercomputadores, analise as afirmativas a seguir e assinale (V) para a verdadeira e (F) para a falsa.

- ( ) Essas máquinas são instrumentos valiosos de pesquisa e de suporte a setores da economia como defesa, energia e saúde, permitindo a resolução de problemas complexos em menor tempo.
- ( ) Esses equipamentos permitem realizar tarefas que exigem altíssimos níveis de processamento, como simulações da formação do universo ou modelagem molecular para novos fármacos.
- ( ) Esses aparelhos trabalham em alta velocidade de processamento pelo somatório de diversos núcleos, o que potencializa a velocidades do processador, medidas em gigahertz (GHz).

As afirmativas são, respectivamente,

- (A) V – V – F.
- (B) V – F – V.
- (C) F – V – F.
- (D) F – V – V.
- (E) V – V – V.

30

No início do ano corrente, a Petrobras anunciou ter alcançado em 2023 o segundo maior valor de lucro líquido de sua história. Mesmo assim, suas ações caíram no mercado financeiro, em função da disputa sobre os dividendos.

A respeito dos resultados financeiros da Petrobras nos últimos anos e da política de distribuição de dividendos da empresa, assinale a afirmativa correta.

- (A) A Petrobras é uma empresa estatal de economia mista que monopoliza a indústria petroleira no Brasil.
- (B) A Petrobras é uma estatal administrada diretamente por órgãos governamentais que controlam o valor das suas ações.
- (C) A Petrobras direciona parte dos dividendos para investidores privados, e outra parte para o governo federal, que controla a empresa via Tesouro e BNDES.
- (D) A Petrobras, sob o Governo Bolsonaro, reduziu o pagamento de dividendos a acionistas privados para reinvesti-los em energia renovável.
- (E) A Petrobras, no atual governo, vendeu ativos e distribuiu o lucro e os valores recordes de dividendos entre seus acionistas para financiar projetos do BNDES.

31

Dados da última década mostram que, em relação aos Estados, o Pará é o que apresenta o maior número de registros de resgates de trabalho análogo à escravidão, com 9.853, seguido por Mato Grosso (4.302); Tocantins (2.896); São Paulo (1.529) e Rio de Janeiro (1.653), em 2017.

Adaptado de <https://www.jota.info/justica/em-14-anos-434-mil-foram-resgatados-de-trabalho-escravo-30102017>

A respeito da definição moderna de escravidão, analise as afirmativas a seguir.

- I. Em Tocantins, a maior incidência de escravidão moderna ocorre na zona rural, associada a atividades agropecuárias e ao extrativismo mineral, como nas carvoarias, por exemplo.
- II. A Organização Internacional do Trabalho determina a condição de escravidão por uma série de componentes, como o trabalho forçado análogo ao de escravo e o casamento forçado.
- III. Pessoas obrigadas a trabalhar por dívida ou por ameaça, sem direitos trabalhistas garantidos estão em situação de escravidão, uma vez que lhes é impedida a liberdade de ir e vir.

Está correto o que se afirma em

- (A) I, apenas.
- (B) I e II, apenas.
- (C) I e III, apenas.
- (D) II e III, apenas.
- (E) I, II e III.

32

Energia gerada por recursos naturais renováveis que, no Brasil, provém da lenha, carvão vegetal, carvão mineral, bagaço de cana e outros resíduos combustíveis. Essa energia é a matéria orgânica vegetal ou animal usada como fonte de energia limpa e sustentável.

O trecho descreve o seguinte componente importante do desenvolvimento sustentável:

- (A) compostagem.
- (B) biodiversidade.
- (C) créditos de carbono.
- (D) ciclo de vida.
- (E) biomassa.

## História e Geografia do Estado de Tocantins

33

Leia a descrição de uma classe de vegetação presente no estado do Tocantins, a seguir.

*Esta vegetação, também conhecida como floresta pluvial tropical, é caracterizada por árvores de porte elevado, além de trepadeiras lenhosas e epífitas (bromélias e orquídeas, por exemplo) em abundância, o que a diferencia de outras classes de formação vegetal. Sua característica ecológica principal é estar presente em ambientes de chuvas abundantes, como na parte noroeste do Estado, onde as temperaturas médias são de 25°C e os elevados índices de precipitação estão bem distribuídos ao longo do ano.*

Adaptado de Luís Antônio G. C. Silva. *Biomias presentes no Estado do Tocantins*. Brasília: Câmara dos Deputados, 2007, p. 4.

O trecho caracteriza a região conhecida como Floresta

- (A) Estacional Semidecidual.
- (B) Tropical Subcaducifólia.
- (C) de Mata Atlântica.
- (D) Ombrófila Densa.
- (E) Temperada Decidual.

34

Comparando dados dos censos do IBGE, pode-se elaborar um retrato da evolução demográfica da população residente no Estado de Tocantins. O grupo na faixa etária de 0 a 14 representava 41,7% da população em 1991, 28,8% em 2010, e passou para 24% em 2022. A população acima de 65 anos era de 3,8% em 1991 e 5,8% em 2010, e ficou em 8,6% em 2022. O censo de 2022 mostrou ainda que a faixa etária de 15 a 29 anos representa 15% da população e que 41% da população é composta por pessoas de 30 a 59 anos.

Com base no trecho, assinale a opção que apresenta a dinâmica populacional do Tocantins entre 1991 e 2022.

- (A) Expansão da base da pirâmide etária.
- (B) Diminuição da taxa de fecundidade.
- (C) Estreitamento do topo da pirâmide.
- (D) Aumento da idade mediana.
- (E) Redução do índice de envelhecimento.

35

*Foram inegáveis os desdobramentos socioeconômicos sobre o antigo Norte Goiano fruto da construção da rodovia BR-153, a partir do final da década de 1950. O novo urbanismo da Belém-Brasília trouxe enorme impacto no que se refere ao conjunto de cidades que existiam às margens do rio Tocantins, aos fluxos migratórios e às atividades econômicas da região.*

Adaptado de AQUINO, N. *Tocantins: cidades e urbanismo em três modelos históricos*. In: III Encontro da ANPPAS. Brasília, 2006, p. 8.

As afirmativas a seguir descrevem corretamente impactos da rodovia BR-153 no processo de territorialização do Tocantins, **à exceção de uma**. Assinale-a.

- (A) A rodovia foi construída no governo Kubitscheck, em um contexto desenvolvimentista que considerava a expansão rodoviária como um meio para integrar econômica e territorialmente as regiões do país, inclusive o norte goiano que, então, vivia uma situação de abandono.
- (B) A rodovia Belém-Brasília teve grande importância para a urbanização do atual Tocantins, o que é exemplificado pela quantidade de novas cidades criadas após a sua construção, como Araguaína, Gurupi, Paraíso do Tocantins, Colinas do Tocantins e Guaraí.
- (C) A construção da BR-153 alavancou também os municípios ribeirinhos, pois a navegação fluvial foi intensificada para abastecer as obras em curso, o que transformou esses municípios em satélites econômicos da nova malha urbana instalada ao longo da rodovia.
- (D) Após a abertura da rodovia, as principais áreas que receberam fluxos migratórios foram a Microrregião de Gurupi – Gurupi e a Microrregião de Porto Nacional – Palmas, para onde se dirigiram pessoas interessadas em trabalhar na construção civil, nos serviços e no comércio, entre outros.
- (E) A BR-153 permitiu interligar o norte de Goiás, atual Estado do Tocantins, a outras localidades do país, facilitando o escoamento da produção e o acesso a produtos para a região, promovendo o fluxo de mercadorias e serviços.

36

O Memorial Coluna Prestes (2001) é uma obra do arquiteto Oscar Niemeyer localizada na Praça dos Girassóis, no centro de Palmas (TO).



Fonte: <https://central.to.gov.br/image/146145?f=1>

A respeito da relação entre essa obra e a constituição de uma memória histórica para o Estado do Tocantins, analise as afirmativas a seguir.

- I. O monumento refere-se à Coluna Prestes, que percorreu o Brasil para divulgar seu programa revolucionário entre 1924 e 1927, tendo passado pelo Norte do então Estado de Goiás (atual Tocantins) durante seu percurso.
- II. A obra foi realizada em concreto e apresenta curvas sinuosas, características próprias do Barroco das cidades mineradoras, estabelecendo visualmente uma continuidade entre o Barroco do passado das cidades mineradoras e o presente do Tocantins.
- III. A construção do memorial permite inserir simbolicamente a história do Tocantins nos grandes processos da história republicana nacional, e homenagear o Tenente Antônio de Siqueira Campos, cujo sobrenome é homônimo ao do ex-governador do Estado.

Está correto o que se afirma em

- (A) I, apenas.
- (B) I e II, apenas.
- (C) I e III, apenas.
- (D) II e III, apenas.
- (E) I, II e III.

37

Até 1988, o território que hoje corresponde ao Estado do Tocantins pertencia ao antigo norte de Goiás e à Região Centro-Oeste, tendo como capital política a cidade de Goiânia. Com a emancipação política, da noite para o dia, as pessoas amanheceram tocaninenses, mas sem referências culturais que as representassem como tais.

A respeito da projeção simbólica do novo Estado e de sua nova capital, assinale a opção que interpreta corretamente o processo de construção e atribuição de uma identidade ao Tocantins.

- (A) Desde o primeiro mandato do governador Siqueira Campos, os símbolos oficiais do Tocantins continuaram sendo o brasão de armas, a bandeira, o selo estadual e a canção "Hino ao Tocantins", de Liberato Costa Póvoa e Abiezer Alves da Rocha.
- (B) O girassol foi reconhecido oficialmente como símbolo da natureza do Estado, por ser uma planta nativa dos cerrados tocaninenses e estar associada à prosperidade e à esperança.
- (C) A Praça dos Girassóis, centro cívico de Palmas, foi concebida para receber edifícios esteticamente associados à cultura do Tocantins, como o Palácio do Araguaia, cujos pórticos remetem ao capim dourado, símbolo da tradição do artesanato de alta qualidade da região.
- (D) A monumentalidade da Praça dos Girassóis é enfatizada pelo seu pavimento, que contém figuras simbólicas como o mapa do Tocantins, a rosa dos ventos, o brasão de armas e a Praça Krahô.
- (E) O meio ambiente também foi utilizado para fortalecer o sentimento identitário, inserindo o girassol, a fava-de-bolota, a arara-canindé e a granada como símbolos da natureza do Tocantins, desde a promulgação da Constituição Estadual em 1989.

38

A respeito da matriz energética do Estado e dos investimentos em biocombustíveis, analise as afirmativas a seguir e assinale (V) para a verdadeira e (F) para a falsa.

- ( ) O Estado tem condições de clima e solo desfavoráveis para o plantio de matérias-primas usadas na fabricação de biocombustíveis, mas a expansão do modal logístico (Ferrovia Norte-Sul) permitirá o acesso à soja do planalto goiano.
- ( ) O Tocantins conta com duas usinas de biodiesel em funcionamento, utilizando o pinhão-mansão, a soja, a mamona e outras oleaginosas como matéria-prima.
- ( ) O Estado tem alto potencial de geração de energia solar, pela elevada irradiação solar e pelas políticas públicas voltadas para produção de energia limpa e renovável, como a Política Estadual de Incentivo à Geração e ao Uso da Energia Solar (Pró-Solar)

As afirmativas são, respectivamente,

- (A) V – F – V.  
 (B) F – V – V.  
 (C) F – F – V.  
 (D) V – V – F.  
 (E) V – V – V.

39

*As belas paisagens como serras, cachoeiras, praias e até mesmo dunas, fazem do Tocantins um paraíso de paisagens naturais, atraindo turistas de várias regiões para conhecer o mais novo Estado brasileiro. A potencialidade para o ecoturismo e a preocupação em conservar a biodiversidade e recursos naturais nele contidos fez com que o Governo do Estado, criasse e implementasse as Unidades de Conservação Ambiental (UC).*

Adaptado de <https://www.to.gov.br/secom/>

A respeito das Unidades de Conservação (UC) do Tocantins, assinale a afirmativa correta.

- (A) São espaços territoriais legalmente instituídos pelo poder público e podem ser de proteção integral federal, como no caso dos Parques Cantão, Jalapão e Lajeado.
- (B) As UCs federais estão subordinadas ao Instituto Chico Mendes de Conservação da Biodiversidade (ICMBio), como no caso do Monumento Natural das Árvores Fossilizadas.
- (C) As UCs estaduais estão subordinadas ao Instituto Natureza do Tocantins (Naturatins), que supervisiona o Parque do Araguaia e o das Nascentes do rio Parnaíba.
- (D) As UCs de uso sustentável são compostas exclusivamente por áreas públicas, sendo permitida sua utilização apenas para o ecoturismo, pesquisa e educação ambiental.
- (E) As UCs municipais estão subordinadas às secretarias de meio ambiente, como no caso do Monumento Natural dos Cânions e Corredeiras do Rio Sono e do Parque Ecológico Roberto Guedes Pereira.

40

O Estado do Tocantins possui diversas comunidades quilombolas certificadas e outras com processo formalizado para regularização fundiária de seus territórios. A definição de comunidade quilombola é dada pelo Art. 2º do Decreto nº 4.887/2003:

*Consideram-se remanescentes das comunidades dos quilombos, para os fins deste Decreto, os grupos étnico-raciais, segundo critérios de auto-atribuição, com trajetória histórica própria, dotados de relações territoriais específicas, com presunção de ancestralidade negra relacionada com a resistência à opressão histórica sofrida.*

A respeito dos órgãos e processos envolvidos na identificação e regularização de territórios quilombolas no Estado do Tocantins, assinale a afirmativa correta.

- (A) O acesso dessas comunidades às políticas públicas de educação, saúde, moradia e regularização fundiária depende de o Estado emitir uma certidão de identificação de comunidade quilombola, mediante Fundação Palmares.
- (B) Os critérios para reconhecimento de um grupo enquanto remanescente de quilombo depende da comprovação de sua ancestralidade, seu parentesco e da preservação viva de religiosidades autenticamente africanas.
- (C) A Coordenação Nacional de Articulação de Comunidades Negras Rurais Quilombolas (CONAQ) luta pela incorporação constitucional do direito à autodefinição dos remanescentes de quilombos.
- (D) A certificação quilombola é realizada pela Fundação Cultural Palmares, que avalia com visitas técnicas a autenticidade do legado quilombola pretendido e, caso o aprove, emite a certidão de comunidade quilombola e a inscreve em um cadastro geral.
- (E) O acesso às terras ocupadas pelos remanescentes das comunidades dos quilombos é garantido por sua delimitação e titulação, a cargo da autoridade municipal em que a mesma se localiza.

## CONHECIMENTOS ESPECÍFICOS

41

O psicólogo Alberto está coordenando um programa antitabagismo em uma unidade básica de saúde usando estratégias voltadas para a prevenção secundária.

Nesse caso, o psicólogo tem como público alvo

- (A) crianças em idade escolar e adolescentes, com o objetivo de evitar a iniciação no uso do cigarro.
- (B) pessoas que desejam parar de fumar, mas não conseguem abandonar esse hábito sem ajuda.
- (C) pacientes que apresentam agravos do tabagismo grave, como doença pulmonar obstrutiva crônica;
- (D) tabagistas que pretendem substituir os cigarros convencionais pelos cigarros eletrônicos.
- (E) usuários com dependência primária do álcool e que têm o tabaco como dependência secundária.

42

Marcelo é um jovem de 23 anos com paralisia cerebral que foi selecionado em uma empresa para ocupar uma vaga destinada a pessoas com deficiência.

De acordo com a Lei Brasileira de Inclusão da Pessoa com Deficiência, avalie as medidas a seguir:

- I. adaptações razoáveis no ambiente de trabalho;
- II. tecnologia assistiva compatível com sua deficiência;
- III. acessibilidade em cursos de formação e capacitismo;
- IV. oferta de transporte particular adaptado à deficiência.

As medidas que devem ser disponibilizadas para garantir a Marcelo a permanência no trabalho em condições de igualdade com os demais funcionários, são

- (A) II e III, apenas.
- (B) I e IV, apenas.
- (C) I, II e IV.
- (D) I e II, apenas.
- (E) III, apenas.

43

No final de 2023, o Ministério da Saúde atualizou a lista de doenças ocupacionais. De acordo com essa lista, transtornos mentais e comportamentais podem estar relacionados a fatores psicossociais relacionados ao trabalho.

Entre estes fatores psicossociais de risco para a saúde mental **não** se pode identificar

- (A) o assédio moral horizontal no ambiente de trabalho.
- (B) o trabalho sob forte pressão por resultados e metas.
- (C) as avaliações periódicas de desempenho da equipe.
- (D) a deficiência nas formas de comunicação na equipe de trabalho.
- (E) o trabalho como pessoa jurídica sem férias remuneradas e 13º salário.

44

Tereza é uma professora universitária aposentada de 63 anos, viúva, filhos adultos e independentes, que mora sozinha. Há um mês, Tereza sente que vem perdendo o interesse em sair com os amigos, não tem mais vontade de se arrumar, se sente vazia e sem propósitos na vida e chega a pensar que seria bom se fosse dormir e não acordasse mais.

De acordo com o DSM-5, é possível identificar em Tereza um quadro de

- (A) luto patológico.
- (B) transtorno bipolar misto.
- (C) demência senil.
- (D) fobia social.
- (E) transtorno depressivo maior.

45

O uso abusivo da Cannabis pode trazer consequências para a saúde mental.

Considerando o transtorno por uso dessa substância psicoativa, assinale a afirmativa correta.

- (A) O princípio ativo tetrahydrocannabinol (THC) tem propriedades antieméticas e pode ajudar a aliviar o enjoo em pacientes em quimioterapia.
- (B) A tolerância se manifesta pela necessidade de quantidades progressivamente maiores da substância psicoativa para atingir o mesmo grau de intoxicação.
- (C) A estratégia da redução de danos na dependência química da maconha se desenvolve a partir da abstinência completa do uso da substância psicoativa.
- (D) O THC atua nos receptores de canabinoides no cérebro melhorando com o uso prolongado a função cognitiva e a motivação dos usuários.
- (E) A Cannabis em suas diversas formas de apresentação é reconhecida como uma droga estimulante do Sistema Nervoso Central, com efeitos semelhantes ao do LSD.

46

O Código de Ética Profissional do Psicólogo preconiza que, entre os deveres fundamentais do(a) psicólogo(a), está o de *prestar serviços profissionais em situações de calamidade pública ou de emergência, sem visar benefício pessoal*.

Entre as técnicas psicológicas mais alinhadas com a abordagem da intervenção em crise, encontram-se

- (A) a psicoeducação e a escuta ativa.
- (B) o matriciamento e a atenção flutuante.
- (C) a dramatização e o condicionamento operante.
- (D) a gestão do *stress* e o psicodiagnóstico diferencial.
- (E) as técnicas de regulação emocional e de associação livre.

47

O modelo de entrevista originalmente desenvolvido para abordar pacientes com dependência química, visando a avaliar a ambivalência do paciente e sua prontidão para mudança, é a entrevista

- (A) motivacional.
- (B) investigativa.
- (C) psicodiagnóstica.
- (D) estruturada.
- (E) devolutiva.



**48**

Heitor perdeu o pai Alberto em tenra idade. Sua mãe Camila sempre falou de Alberto para Heitor e o menino tem boas referências sobre seu genitor. Camila se casou com Lucas, que é um padrasto muito presente, e Heitor passou a dar a ele o tratamento de pai. Lucas deseja registrar Heitor em seu nome para que o menino tenha todos os direitos legais como filho, mas sem retirar o nome do genitor de Heitor de sua certidão de nascimento.

A esse arranjo dá-se o nome de

- (A) adoção.
- (B) guarda.
- (C) tutela.
- (D) poligamia.
- (E) multiparentalidade.

**49**

Sérgio acordou com dor de cabeça e tremores e mandou sua mulher Celia ligar para seu trabalho e avisar que ele estava doente. Em seguida, Sérgio foi para o bar, onde tomou sua primeira dose de conhaque do dia. Celia já conversou com o marido para ele procurar um médico, mas Sérgio afirma que tem controle sobre a bebida e que está apenas passando por uma fase ruim na repartição.

Nesse momento, Sérgio está usando com relação à sua dependência química o mecanismo de defesa de

- (A) contemplação.
- (B) identificação projetiva.
- (C) sublimação.
- (D) negação.
- (E) formação reativa.

**50**

Com relação ao processo de envelhecimento, analise as afirmativas a seguir.

- I. O envelhecimento ativo é o processo de otimização das oportunidades de saúde, participação e segurança, com o objetivo de melhorar a qualidade de vida à medida que as pessoas ficam mais velhas.
- II. O envelhecimento configura-se como uma experiência heterogênea, que dependerá de como o indivíduo organiza sua vida a partir de circunstâncias histórico-culturais, incidência de patologias e interação entre fatores genéticos e ambientais.
- III. A velhice está necessariamente associada à decadência, à dependência e à incapacidade para as atividades simples de vida diária, como, andar, vestir-se, cuidar da casa e dos netos.

Está correto o que se afirma em

- (A) I, apenas.
- (B) II, apenas.
- (C) III, apenas.
- (D) I e II, apenas.
- (E) I, II e III.

**51**

O conceito criado por Kurt Lewin que é definido como a totalidade de fatos que determinam o comportamento de um indivíduo em certo momento é

- (A) espaço vital psicológico.
- (B) tempo vital psicológico.
- (C) ressonância psicológica individual.
- (D) bagagem psicológica individual.
- (E) processo psicológico individual.

**52**

Os princípios pensados na Abordagem Emmi Pikler, para a promoção do pleno desenvolvimento infantil, são

- (A) a superação da díade confiança/desconfiança; o amadurecimento no processo de autonomia/dúvida e vergonha; o equilíbrio entre os sentimentos de iniciativa/culpa; e a identificação da produtividade.
- (B) a testagem dos reflexos e movimentos; o desenvolvimento da imitação no momento da aquisição da linguagem; o desenvolvimento da capacidade de se colocar no lugar do outro; e a capacidade dedutiva.
- (C) a valorização do vínculo entre cuidador (e/ou mãe) e o bebê; o reconhecimento e o respeito à individualidade dos bebês; a promoção da autonomia por meio da liberdade de movimentos, do brincar livre; e o respeito ao tempo e espaço necessário ao desenvolvimento sadio.
- (D) o equilíbrio entre os sentimentos de iniciativa/culpa; o respeito ao tempo e espaço necessário ao desenvolvimento sadio; o desenvolvimento da capacidade de se colocar no lugar do outro; e a identificação da produtividade X inferioridade na chegada da adolescência.
- (E) a superação da díade confiança/desconfiança no primeiro ano de vida; o reconhecimento e o respeito à individualidade dos bebês; a promoção da autonomia por meio da liberdade de movimentos; o desenvolvimento da imitação no momento da aquisição da linguagem; o desenvolvimento da empatia.

**53**

Ao pensar o desenvolvimento infantil, Vygostsky se refere à capacidade da criança em desempenhar tarefas desde que seja auxiliada e com orientações adequadas de adultos ou crianças maiores e mais capacitadas como zona de desenvolvimento

- (A) real.
- (B) potencial.
- (C) proximal.
- (D) auxiliado.
- (E) projetado.

**54**

Com relação à abordagem psicodramática, analise as afirmativas a seguir.

- I. Busca promover estados espontâneos, discriminando e integrando o individual com o coletivo, o mundo interno com a realidade compartilhada.
- II. Produz catarse emocional e *insights* cognitivos.
- III. Faz uso tanto a comunicação verbal como a não verbal.

Está correto o que se afirma em

- (A) I, apenas.
- (B) II, apenas.
- (C) III, apenas.
- (D) I e II, apenas.
- (E) I, II e III.

55

Jussara trabalha na escuta de famílias em conflito, facilitando o diálogo entre elas, sem atuar de forma impositiva e nem sugerindo soluções para as controvérsias, de forma a que os próprios interessados apresentem suas soluções. Portanto, é correto afirmar que Jussara atua como

- (A) árbitra judicial.
- (B) árbitra extrajudicial.
- (C) mediadora.
- (D) conciliadora
- (E) juíza.

56

As opções a seguir apresentam técnicas da terapia cognitivo-comportamental, **à exceção de uma**. Assinale-a.

- (A) Psicoeducação.
- (B) Registro de pensamentos disfuncionais.
- (C) Dessensibilização sistemática.
- (D) Enfrentamento do estresse.
- (E) Análise dos sentidos inconscientes dos sonhos.

57

A teoria de grupos de Irvin Yalom é uma técnica que busca a superação de conflitos e dificuldades pessoais, no âmbito de um grupo.

Para esse autor um grupo pode produzir uma influência curativa nos indivíduos que fazem parte dele desde que se introduzam alguns fatores na terapia grupal como:

- I. universalidade: o grupo serve para que as pessoas descubram que os outros vivenciam um sofrimento semelhante ao seu, o que produz alívio.
- II. desenvolvimento de técnicas de socialização: a presença do grupo favorece o desenvolvimento de habilidades sociais básicas, elemento essencial para a superação de comportamentos desadaptativos.
- III. recapitulação do grupo familiar primário. As pessoas tendem a reproduzir seu papel familiar primário no grupo. Se esses comportamentos são examinados e analisados, muitos condicionamentos se tornam conscientes.

Está correto o que se afirma em

- (A) I, apenas.
- (B) II, apenas.
- (C) III, apenas.
- (D) I e II, apenas.
- (E) I, II e III.

58

Assinale a opção que apresenta características de uma pessoa com transtorno de personalidade histriônica.

- (A) Alterações no humor, com prevalência de sentimentos de tristeza, podendo também apresentar mudanças nos pensamentos e lentificação do ritmo corporal.
- (B) Exigência de ser o centro das atenções e com frequência o faz ao vestir-se e agir de maneira indevidamente sedutora e provocante e ao se expressar de maneira muito dramática.
- (C) Comportamentos compulsivos e precisa estar no controle, tendendo a ser solitária em seus esforços, e desconfiar da ajuda dos outros.
- (D) Alteração do estado mental, perdendo o contato com a realidade e podendo apresentar delírios, além de não possuindo controle sobre suas ações.
- (E) Nervosismo e preocupação excessivos em relação a diversas atividades ou acontecimentos, com possíveis alterações no sono e apetite.

59

O Conselho Federal de Psicologia publicou a Nota Técnica nº 1/2022/SOE/PLENÁRIA com objetivo de instruir a categoria quanto aos critérios que precisam ser atendidos para as divulgações profissionais nas redes sociais.

A esse respeito, analise as afirmativas a seguir.

- I. É vedada a publicidade profissional no perfil pessoal nas redes sociais, dada a inevitável confusão entre as informações provenientes da vida privada ou da vida pública.
- II. Ao promover publicamente os seus serviços em qualquer meio, é obrigatório que a profissional e o profissional informem o seu nome completo, ou nome social, a titulação “psicóloga” ou “psicólogo”, bem como o CRP em que está inscrita ou inscrito e seu número de registro.
- III. Recomenda-se que a profissional e o profissional, em sua publicidade, façam uso de depoimentos de pessoas atendidas ou usuários, ou compartilhamento de depoimentos e fotos das pessoas atendidas, visando dar maior credibilidade aos serviços prestados.

Está correto o que se afirma em

- (A) I, apenas.
- (B) II, apenas.
- (C) III, apenas.
- (D) I e II, apenas.
- (E) II e III, apenas.

60

A Resolução nº 13, de 15/06/2022, dispõe sobre diretrizes e deveres para o exercício da psicoterapia por psicóloga e por psicólogo.

A esse respeito, analise as afirmativas a seguir e assinale (V) para a verdadeira e (F) para a falsa.

- ( ) Ao prestar serviços de psicoterapia, a psicóloga e o psicólogo devem estabelecer contrato, verbal ou escrito, com a pessoa atendida ou responsável legal, que evidencie direitos e deveres das partes, inclusive no que se refere à possibilidade de interrupção do serviço a qualquer momento.
- ( ) À psicóloga e ao psicólogo psicoterapeutas, é vedado atuar como perito ou assistente técnico de pessoa por ela e por ele atendida, atual ou anteriormente, bem como de familiar ou terceiro vinculado ao atendido.
- ( ) Em relação à possibilidade de quebra de sigilo profissional, para assegurar o menor prejuízo, proceder a notificações compulsórias, depor em juízo e em outros casos previstos em lei, a psicóloga e o psicólogo psicoterapeutas deverão indicar dados sigilosos apenas em formulários, sistemas ou equipamentos de políticas públicas correspondentes que assegurem o sigilo de informações.

As afirmativas são, respectivamente,

- (A) F – F – F.
- (B) F – V – V.
- (C) V – F – F.
- (D) V – V – F.
- (E) V – V – V.

61

A Resolução nº 9, de 25 de abril de 2018, estabelece diretrizes para a realização de Avaliação Psicológica no exercício profissional da psicóloga e do psicólogo, regulamenta o Sistema de Avaliação de Testes Psicológicos - SATEPSI e revoga algumas Resoluções anteriores.

De acordo com tal Resolução, é correto afirmar que

- (A) os protocolos de observação de comportamentos, obtidos por meio de processo grupal, são fontes complementares de informação.
- (B) um teste psicológico tem por objetivo revelar, interpretar, classificar e mensurar características psicológicas, por meio de procedimentos de análise e descrição do comportamento humano.
- (C) define-se Atualização de Normas o estudo com amostras que possuam características sociodemográficas diferentes das especificadas no Manual do teste aprovado pelo SATEPSI.
- (D) os testes psicológicos, para serem reconhecidos para uso profissional de psicólogas e psicólogos, devem atender ao requisito de apresentação de fundamentação teórica, com especial ênfase na definição do(s) construto(s), descrevendo seus aspectos constitutivo e operacional.
- (E) a psicóloga e o psicólogo, na realização de atividades voltadas para a produção de conhecimento e desenvolvimento de tecnologias, devem considerar os processos de desenvolvimento humano e de sexualidade e orientação sexual como algo intrínseco e natural da identidade humana.

62

A Resolução n.º 6, de 29 de março de 2019 institui regras para a elaboração de documentos escritos produzidos pela(o) psicóloga(o) no exercício profissional.

A esse respeito, analise as afirmativas a seguir.

- I. A declaração, o atestado e o laudo são documentos oriundos de avaliação psicológica.
- II. Os documentos psicológicos não devem apresentar descrições literais dos atendimentos realizados, salvo quando tais descrições se justificarem tecnicamente.
- III. O documento escrito resultante da prestação de serviços psicológicos deve considerar o aspecto essencial e definitivo do fenômeno psicológico.

Está correto o que se afirma em

- (A) I, apenas.
- (B) II, apenas.
- (C) III, apenas.
- (D) I e II.
- (E) I e III.

63

Para Sándor Ferenczi, psicanalista contemporâneo e amigo de Sigmund Freud, o trauma torna-se patogênico para a criança em pelo menos dois momentos. No primeiro, a criança sofre a experiência traumática oriunda das atitudes passionais do adulto, como se observa em pais que abusam sexualmente de seus filhos ou os tratam com violência desmedida. Por sua vez, tal experiência se torna ainda mais traumática e patológica para a criança quando ela busca ajuda em outro adulto que lhe inspira confiança e a reconhece como protetora, que, no entanto, realiza o que Ferenczi define como

- (A) desmentido.
- (B) recalque.
- (C) forclusão.
- (D) sublimação.
- (E) deslocamento.

64

Encontramos, no contexto brasileiro, desde a década de 1980, uma psicologia social que afirma historicamente um compromisso ético e político com a transformação social, renunciando a um viés pragmático e investindo nas singularidades segregadas do campo social. De onde a importância do método cartográfico, remetido inicialmente ao pensamento de Deleuze e Guattari, que se refere a um mapa a ser produzido e modificável a partir de múltiplas linhas de fuga.

Nesse contexto, a intervenção psicológica com base na cartografia é um movimento ligado à subjetivação que implica

- (A) a inquirição e a produção de provas que demonstrem a ocorrência de um fato pretérito.
- (B) a coleta de dados e informações apriorísticos, capazes de traduzir a totalidade real da experiência vivida.
- (C) a criação de brechas capazes de engendrar novas configurações de pensamento e de experiências.
- (D) a subtração das variações e modulações dos enunciados para atingir a correspondência fiel da linguagem com a ordem das coisas.
- (E) a representação que os indivíduos fazem de objetos ou sentimentos, com ênfase nos componentes linguísticos lexicais e sintáticos da frase.

65

Freud designa um estado precoce em que a criança investe toda a sua libido em si mesma, antes de escolher objetos exteriores. Este estado intermediário entre o autoerotismo e o amor de objeto, na qual o sujeito toma a si mesmo como objeto de amor, é o que permite a primeira unificação das pulsões sexuais.

O fragmento acima faz referência ao conceito de

- (A) fase oral.
- (B) fase anal.
- (C) narcisismo.
- (D) falocentrismo.
- (E) complexo de Édipo.

## LEGISLAÇÃO INSTITUCIONAL

66

Nos termos da Constituição do Estado do Tocantins, constitui objeto de lei complementar a seguinte matéria:

- (A) os prazos de prescrição para ilícitos praticados por qualquer agente, servidor ou não, que causem prejuízos ao erário.
- (B) os limites de idade, a estabilidade e outras condições de transferência do servidor militar para a inatividade.
- (C) os casos de contratação por tempo determinado para atender à necessidade temporária de excepcional interesse público.
- (D) as regras para cálculo de proventos de aposentadoria e pensão por morte.
- (E) os requisitos e as restrições ao ocupante de cargo ou emprego da administração direta e indireta que possibilite o acesso a informações privilegiadas.

67

Considerando o exercício da função legislativa por parte da Assembleia Legislativa de Tocantins, nos termos de seu Regimento Interno, é correto afirmar que

- (A) projetos de lei delegada podem se destinar a regular as matérias de exclusiva competência do Poder Executivo, com a sanção do Governador do Estado.
- (B) projetos de resolução podem se destinar a regular, com eficácia de lei ordinária, matéria de competência privativa da Assembleia Legislativa.
- (C) projetos de lei complementar visam regular matéria infraconstitucional.
- (D) projetos de lei têm por objetivo regular matérias de competência do Poder Legislativo, sem a sanção do Governador do Estado.
- (E) projetos de decreto legislativo destinam-se à delegação de competência, na forma estabelecida na Constituição Estadual.

68

Aline, servidora pública estadual, revelou segredo do qual se apropriou em razão do cargo que ocupa. A Administração Pública, ao tomar conhecimento do fato, instaurou procedimento administrativo disciplinar a fim de apurar a conduta e garantir à servidora os princípios da ampla defesa e do contraditório.

À luz do Estatuto dos Servidores Públicos Civis do Estado do Tocantins, caso punida, Aline poderá ser sancionada com

- (A) advertência.
- (B) suspensão.
- (C) prestação de serviço.
- (D) multa.
- (E) demissão.

69

Ana, servidora pública efetiva e estável, ocupante de cargo de nível superior, objetivando inteirar-se sobre os requisitos para a progressão na carreira, consultou a Lei nº 4.208/2023, que trata sobre o plano de cargos, carreiras e remuneração dos Servidores da Assembleia de Tocantins.

Assim, para fazer jus à progressão, Ana terá que

- (A) possuir no máximo três faltas injustificadas por exercício referente ao período avaliado.
- (B) obter conceito igual ou superior a 70% (setenta por cento) dos pontos possíveis em todos os procedimentos de sua Avaliação.
- (C) concluir curso de pós-graduação *lato sensu* com duração mínima de 360 (trezentos e sessenta) horas.
- (D) cumprir trinta meses de efetivo exercício na classe em que se encontra.
- (E) concluir cursos de aperfeiçoamento em sua área de atuação que tenha, no mínimo, 80 (oitenta) horas de duração.

70

Antônio foi nomeado para o cargo de Controlador Interno da Assembleia Legislativa de Tocantins.

À luz da Lei nº 4.209/2023, que dispõe sobre a estrutura administrativa da Aletto, durante o exercício da função, Antônio será competente para:

- (A) opinar, conclusivamente, em processos de direitos, deveres e obrigações dos servidores do Poder Legislativo.
- (B) constituir Comissão Permanente de Licitação.
- (C) examinar a observância das normas de licitações.
- (D) apresentar à Mesa Diretora o balancete mensal e, no início de cada exercício, o balancete geral das contas da Assembleia Legislativa, relativo ao exercício anterior.
- (E) planejar, coordenar, orientar, controlar e dirigir as atividades administrativas, orçamentárias, financeiras, de comunicação social, de tecnologia de informação e de apoio legislativo da Assembleia Legislativa.



# ASSEMBLEIA LEGISLATIVA DO ESTADO DO TOCANTINS

CONCURSO PÚBLICO – EDITAL Nº 01/2023

## PROVA OBJETIVA – TARDE

### ANALISTA LEGISLATIVO PUBLICIDADE

NÍVEL SUPERIOR – TIPO 1 – BRANCA



#### SUA PROVA

- Além deste caderno contendo **70 (setenta)** questões objetivas, você receberá do fiscal de prova o cartão de respostas;
- As questões objetivas têm **5 (cinco)** opções de resposta (A, B, C, D) e somente uma delas está correta.



#### TEMPO

- Você dispõe de **5 (cinco) horas** para a realização da prova, já incluído o tempo para a marcação do cartão de respostas;
- **3 (três) horas** após o início da prova, é possível retirar-se da sala, sem levar o caderno de questões;
- A partir dos **30 (trinta) minutos** anteriores ao término da prova é possível retirar-se da sala **levando o caderno de questões**.



#### NÃO SERÁ PERMITIDO

- Qualquer tipo de comunicação entre os candidatos durante a aplicação da prova;
- Anotar informações relativas às respostas em qualquer outro meio que não seja o caderno de questões;
- Levantar da cadeira sem autorização do fiscal de sala;
- Usar o sanitário ao término da prova, após deixar a sala.



#### INFORMAÇÕES GERAIS

- Verifique se seu caderno de questões está completo, sem repetição de questões ou falhas. Caso contrário, **notifique imediatamente o fiscal da sala**, para que sejam tomadas as devidas providências;
- Confira seus dados pessoais, especialmente nome, número de inscrição e documento de identidade e leia atentamente as instruções para preencher o cartão de respostas;
- Para o preenchimento do cartão de respostas, use somente caneta esferográfica, fabricada em material transparente, com tinta preta ou azul;
- Assine seu nome apenas no(s) espaço(s) reservado(s) no cartão de respostas;
- Confira seu cargo, cor e tipo do caderno de questões. Caso tenha recebido caderno de cargo ou cor ou tipo **diferente** do impresso em seu cartão de respostas, o fiscal deve ser **obrigatoriamente** informado para o devido registro na ata da sala;
- Reserve tempo suficiente para o preenchimento do seu cartão de respostas. O preenchimento é de sua responsabilidade e **não será permitida a troca do cartão de respostas em caso de erro cometido pelo candidato**;
- Para fins de avaliação, serão levadas em consideração apenas as marcações realizadas no cartão de respostas;
- A FGV coletará as impressões digitais dos candidatos na lista de presença;
- Os candidatos serão submetidos ao sistema de detecção de metais quando do ingresso e da saída de sanitários durante a realização das provas.
- **Boa prova!**

## CONHECIMENTOS BÁSICOS

### Língua Portuguesa

1

Observe o seguinte texto:

*Quando entrei no terrível vagão, ele estava ocupado por duas pessoas. Uma, dobrada, coberta, dormia profundamente. A coberta superior estava manchada, de fundo amarelado, como pele de leopardo. Vendem-se muitas mantas assim nas lojas de artigos de viagens, mas pude notar logo depois que se tratava realmente da pele de um animal selvagem; do mesmo modo, o boné da pessoa adormecida me pareceu ser de feltro branco bastante delicado. O outro viajante, uma aparência simpática, parecia ter passado dos trinta anos e mostrava-se como figura insignificante que passa confortavelmente as noites em estradas de ferro.*

Nesse fragmento textual, para criar sinais de história realista e verdadeira, o narrador apela para a seguinte estratégia:

- (A) seleciona uma situação banal da qual não precisa fornecer muitos detalhes, exatamente por sua banalidade.
- (B) fornece algumas marcas caracterizadoras dos dois personagens presentes no texto, destacando sua banalidade.
- (C) indica traços descritivos do ambiente, mostrando-o como se nada houvesse nele de excepcional.
- (D) mostra detalhes variados e bastante pitorescos dos objetos descritos.
- (E) dá ao leitor informações sobre personagens e ambiente, mostrando-os como bastante conhecidos do narrador.

2

Assinale a frase que mostra a palavra *mais* numa classe gramatical **diferente** das demais.

- (A) O mercado está prisioneiro de mais um círculo vicioso: piora porque piorou e porque piorou, piora.
- (B) Os ingleses conquistaram o mundo porque não aguentavam mais a própria cozinha.
- (C) Quanto mais vejo o estrangeiro, mais amo a minha pátria.
- (D) Não é mais possível aprender tudo de cor. Um homem instruído não é mais o homem que sabe muitas coisas; é o homem que sabe onde buscar informações.
- (E) Muda-se mais facilmente de religião do que de café

3

As frases a seguir mostram termos ligados pela conjunção OU.

Assinale a frase em que essa conjunção mantém o valor de alternativa (e não de adição).

- (A) João ou Pedro deve ser eleito presidente da empresa.
- (B) A alegria ou a tristeza fazem parte da vida.
- (C) Inglês ou francês são idiomas falados pelos turistas
- (D) Os clientes leem livros ou revistas enquanto esperam.
- (E) Vasco ou Flamengo são times de longa tradição.

4

Um guitarrista americano produziu o seguinte pensamento:

*O crítico de rock é alguém que não sabe escrever, entrevistando gente que não sabe falar, para gente que não sabe ler.*

Sobre a estruturação ou a significação desse pequeno texto, assinale a afirmativa **incorreta**.

- (A) O termo “de rock” funciona como complemento nominal do termo anterior.
- (B) Todos os elementos da cadeia comunicativa citados no texto são marcados pela ignorância.
- (C) O pensamento acima revela um preconceito fortíssimo contra os amantes de rock.
- (D) A opinião expressa no texto pode advir da experiência pessoal do autor, já que se trata de um guitarrista.
- (E) A injustiça desse texto provém de ser uma opinião fundamentada em uma autoridade duvidosa.

5

John Steinbeck, prêmio Nobel, declarou o seguinte:

*O homem é o único animal que bebe sem ter sede, come sem ter fome e fala sem ter nada a dizer.*

Em relação ao significado e à estruturação desse pequeno texto, assinale a afirmativa **incorreta**.

- (A) A frase ficaria mais enfática se invertêssemos a posição do termo inicial: O único animal que bebe sem ter sede, come sem ter fome e fala sem ter nada a dizer é o homem.
- (B) A inversão de alguns segmentos do texto em nada modificaria o sentido da frase: O homem é o único animal que come sem ter fome, bebe sem ter sede e fala sem ter nada a dizer.
- (C) Os segmentos finais do texto mostram preocupação com rigoroso paralelismo sintático.
- (D) Segundo a opinião do autor do texto, a marca principal do homem é a irracionalidade.
- (E) Nem todas as ações citadas como marcas humanas estão presentes, por oposição, nos outros animais.

6

Assinale a frase que **não** expressa uma noção de tempo abstrato.

- (A) Nas asas do tempo, a tristeza voa.
- (B) Quem mata o tempo não é assassino, é suicida.
- (C) O tempo perdido não se encontra nunca mais.
- (D) O tempo é o melhor professor. Infelizmente, ele mata todos os seus estudantes
- (E) O tempo gasto na viagem foi de duas horas.

7

Assinale a frase em que a utilização do acento grave indicativo da crase é realizada de forma **errada**.

- (A) Jamais alguém se arrependeu de ter-se acostumado à madrugada e à ter-se casado jovem.
- (B) Tempo é o suspiro de adeus do sol à terra.
- (C) Saio todos os dias às cinco horas e não permito que o meu trabalho interfira no meu jogo de tênis.
- (D) O momento de extrair uma lição da história está sempre à mão para os sábios.
- (E) Quando assumi, quatro anos atrás, estávamos à beira do precipício.

8

Os adjetivos podem representar estados, qualidades, características e relações.

Assinale a frase que mostra um tipo de adjetivo **diferente** dos demais.

- (A) Nunca houve criança tão amável que a própria mãe não ficasse satisfeita ao conseguir adormecê-la.
- (B) Nada mais perversamente cruel que uma adorável criança.
- (C) Mesmo estando doentes, as crianças não ficam caladas.
- (D) Quando as crianças estão quietas é porque fizeram alguma coisa errada.
- (E) As tangerinas verdes não amadurecem fora do pé.

9

Assinale a frase em que o adjetivo sublinhado mostra uma função sintática **diferente** das demais.

- (A) Por fora bela viola, por dentro pão **bolorento**.
- (B) Tiradentes, **heroico**, tentou organizar uma revolução.
- (C) Um rosto **bonito** altera-se depressa.
- (D) Eu não podia acreditar que existem múmias tão **lindas**.
- (E) Um homem belo é um homem **insignificante**.

10

Assinale a opção que mostra uma impropriedade léxica, ou seja, um emprego **inadequado** da expressão “cerca de”.

- (A) Havia cerca de três dúzias de convidados no final da festa.
- (B) Chegaram cerca de 100 cartas no mesmo dia.
- (C) Cerca de 18 lojas fecharam as portas mais cedo.
- (D) Os cantores receberam cerca de uma centena de convites.
- (E) A plantação produziu cerca de uma tonelada de legumes.

11

Muitas palavras portuguesas mostram o prefixo A- sem qualquer valor semântico, sendo equivalentes ao mesmo vocábulo sem esse prefixo.

Assinale a palavra a seguir que exemplifica esse A protético.

- (A) amostrar
- (B) abraçar
- (C) atenuar
- (D) aguardar
- (E) aparar

12

Observe o seguinte texto:

*A felicidade depende da habilidade que tenhamos naquelas atividades que consideramos importantes: somente se lhes damos um real valor aos pequenos detalhes cotidianos, poderemos ter instantes felizes. A felicidade absoluta não existe, e já que só podemos acessar os pequenos detalhes daquilo que nos interessa, devemos contentar-nos com isso. Por isso, a infelicidade é um sinal claro de nossa incompetência na arte de viver.*

Sobre a estrutura e a significação desse texto, assinale a afirmativa **inadequada**.

- (A) O tema do texto gira em torno do que consiste a felicidade e o que viria a ser o seu oposto.
- (B) A afirmação de que “A felicidade absoluta não existe” é de cunho pessoal do autor do texto, representando uma opinião.
- (C) O raciocínio utilizado na estruturação argumentativa é do tipo dedutivo.
- (D) O conector “Por isso” mostra a preocupação com o caráter lógico da argumentação.
- (E) A tese do texto é a de que a infelicidade é fruto de nossa incompetência na arte de viver.

## Raciocínio Lógico Matemático

13

Certo programa de rádio tem 1 hora e 55 minutos de duração. A partir do momento em que o programa é iniciado, há blocos temáticos de 7 minutos intercalados por blocos de propagandas de 2 minutos.

Em todos os blocos de propaganda, ouve-se o comercial do restaurante R, que sempre dura 18 segundos.

Se o programa começa e termina com um bloco temático, então, o tempo total do programa dedicado ao anúncio do restaurante R é

- (A) 3 minutos e 54 segundos.
- (B) 3 minutos e 36 segundos.
- (C) 3 minutos e 18 segundos.
- (D) 3 minutos.
- (E) 2 minutos e 48 segundos.

14

A linha de produção de certa fábrica produz 1100 latas de sardinhas a cada hora. Certo dia, por um defeito de calibragem do sistema, entre 13h e 14h, o volume de produção foi reduzido em 30% durante exatos 12 minutos.

A quantidade de latas de sardinhas produzidas no intervalo supracitado foi

- (A) 946.
- (B) 964.
- (C) 1022.
- (D) 1034.
- (E) 1046.

15

Marcelo está parado de frente para uma das paredes de uma sala quadrada. Nesta posição, ele está a 1m e 20cm da parede que se encontra à sua direita e a 1m e 70cm da parede que está às suas costas.

Ele, então, se desloca paralelamente às paredes da sala sendo 40cm para a frente e 80cm para a direita. Nessa nova posição, ele passou a distar 1m e 90cm da parede que antes estava à sua esquerda.

Desprezando-se as dimensões de Marcelo, a sua atual distância à parede que, antes dos movimentos, estava à sua frente, é

- (A) 20cm.
- (B) 30cm.
- (C) 40cm.
- (D) 50cm.
- (E) 60cm.

**16**

Um dado é dito comum quando tem a forma de um cubo e suas 6 faces são numeradas de 1 a 6, de tal forma que a soma dos números estampados em faces opostas, quaisquer que sejam elas, sempre somam 7.

Quando um dado comum é lançado, diz-se que o resultado do lançamento é o número estampado na face voltada para cima.

Um dado foi lançado 3 vezes seguidas. Se o produto dos resultados obtidos nos lançamentos vale 75, a soma desses resultados é igual a

- (A) 12.
- (B) 13.
- (C) 14.
- (D) 15.
- (E) 16.

**17**

Em certo ano, o dia 1º de agosto cai em um domingo. Logo, o dia 1º de novembro cairá em

- (A) um sábado.
- (B) um domingo.
- (C) uma segunda-feira.
- (D) uma quarta-feira.
- (E) uma sexta-feira.

**18**

Considere a seguinte proposição condicional:

*Se todos os alunos da Escola Aristarco gostam de matemática, então, ao menos um deles ganha medalha na Olimpíada Nacional de Matemática.*

Se essa proposição é verdadeira, é correto afirmar que

- (A) se nenhum dos alunos da Escola Aristarco gosta de Matemática, então nenhum deles ganha medalha na Olimpíada Nacional de Matemática.
- (B) se todos os alunos da Escola Aristarco ganham medalha na Olimpíada Nacional de Matemática, então, todos esses alunos gostam de Matemática.
- (C) se algum aluno da Escola Aristarco ganha medalha na Olimpíada Nacional de Matemática, então todos esses alunos gostam de Matemática.
- (D) se nenhum aluno da Escola Aristarco ganha medalha na Olimpíada Nacional de Matemática, então nenhum desses alunos gosta de Matemática.
- (E) se nenhum aluno da Escola Aristarco ganha medalha na Olimpíada Nacional de Matemática, então algum desses alunos não gosta de Matemática.

**19**

Em uma caixa, há muitas canetas esferográficas. Classificadas conforme a cor, elas podem ser azuis, vermelhas ou pretas. Classificadas quanto à espessura da esfera, elas podem ser de ponta fina ou de ponta grossa.

Metade das canetas vermelhas tem a ponta grossa. A quantidade total de canetas pretas é igual à quantidade total de canetas vermelhas. Entre as canetas de ponta grossa, a quantidade de azuis é igual à de pretas. A quantidade de canetas azuis com ponta fina é o dobro da quantidade de canetas pretas de ponta grossa.

Se, nessa caixa, 18 são azuis e 20 têm ponta grossa, então a quantidade total de canetas na caixa é

- (A) 30.
- (B) 40.
- (C) 48.
- (D) 50.
- (E) 52.

**20**

Tucídides possuía uma dívida e, em vez de quitá-la, pagou apenas 20% do seu valor, deixando o restante para ser quitado em data futura, com acréscimo de 12% a título de juros sobre o saldo devedor.

No ato de quitação, Tucídides pagou R\$2.329,60. Logo, o valor original da dívida é o resultado da seguinte expressão:

(A)  $2.329,60 \times 0,88 - 20$

(B)  $\frac{2.329,60}{0,88} \times 1,20$

(C)  $\frac{2.329,60}{1,12} \times 1,20$

(D)  $\frac{2.329,60}{1,12 \times 1,20}$

(E)  $\frac{2.329,60}{1,12 \times 0,8}$

**21**

As filhas de Nepomuceno têm 5 e 9 anos de idade. Ele dividirá R\$420,00 entre elas de forma inversamente proporcional às suas idades.

Logo

- (A) a mais nova receberá R\$120,00 a mais que a mais velha.
- (B) a mais nova receberá R\$150,00 a mais que a mais velha.
- (C) a mais nova receberá R\$270,00 a mais que a mais velha.
- (D) a mais velha receberá R\$120,00 a mais que a mais nova.
- (E) a mais velha receberá R\$150,00 a mais que a mais nova.

**22**

A negação da proposição:

$$\text{Se } y \neq 0, \text{ então } x > 2 \text{ e } x \leq 5$$

é dada por

- (A) Se  $y = 0$ , então  $x > 2$  e  $x \leq 5$
- (B) Se  $y = 0$ , então  $x < 2$  ou  $x \geq 5$
- (C)  $y = 0$  e  $x \leq 2$  ou  $x > 5$
- (D)  $y \neq 0$  e  $x \leq 2$  ou  $x > 5$
- (E)  $y \neq 0$  e  $x \leq 2$  e  $x > 5$



## Atualidades

23

De acordo com o censo demográfico de 2022 (IBGE), mais da metade da população brasileira (51,13%) é feminina, e elas representam, segundo o Tribunal Superior Eleitoral, 53% do eleitorado. No entanto, elas ocupam, hoje, menos de 15% dos cargos eletivos.

A respeito da baixa participação das mulheres na política, assinale a afirmativa que apresenta um dispositivo existente na legislação brasileira para alterar esse cenário.

- (A) Reserva de pelo menos 50% dos recursos do Fundo Especial de Financiamento de Campanha, o Fundo Eleitoral, para financiar candidaturas femininas.
- (B) Suspensão dos direitos eleitorais aos partidos em caso de não observância do percentual de pelo menos 30% de candidatas mulheres em cada ciclo eleitoral
- (C) Reserva de assentos, em ambas as casas legislativas, para mulheres, com preferência para as representantes de povos originários.
- (D) Cota de gênero, que obriga cada partido ou coligação a preencher o mínimo de 30% e o máximo de 70% de candidaturas de cada sexo.
- (E) Repasse de até 30% dos recursos dos Fundos Partidário para custear o tempo da propaganda eleitoral gratuita de candidatas em rádio e televisão.

24

A França se tornou o primeiro país do mundo a incluir na Constituição a liberdade de a mulher abortar. A mudança na Carta Magna foi aprovada em uma sessão conjunta das duas Casas legislativas, a Assembleia Nacional e o Senado, e será promulgada pelo presidente Emmanuel Macron ainda em março de 2024.

Adaptado de <https://www1.folha.uol.com.br/mundo/2024/03/>

Diferentemente da França, a legislação brasileira

- (A) equipara o aborto ao infanticídio.
- (B) considera o aborto uma prática ilegal em todas as situações.
- (C) descriminaliza a interrupção da gravidez em caso de deficiência da gestante.
- (D) estabelece um limite temporal para interromper a gravidez, desde que respaldada por laudo médico.
- (E) autoriza a interrupção de gestação em caso de não haver outro meio de salvar a vida da gestante.

25

Desde os anos 2000, o interior do Brasil ultrapassou o litoral na incidência de dengue. A região costeira que vai de Santos, em São Paulo, até Belém, no Pará, apresentava tipicamente maior proporção de casos de dengue em comparação com sua população. Entretanto, recentemente, o oeste do Paraná, o oeste de Santa Catarina o oeste de São Paulo, o interior de Minas Gerais, uma parte do Tocantins, o Goiás e o Mato Grosso do Sul viram a transmissão da doença aumentar e muitas de suas cidades foram obrigadas a decretar emergência.

Adaptado de <https://www.estadao.com.br>

A respeito dos fatores relacionados ao aumento e à interiorização dos casos de dengue no Brasil, analise as afirmativas a seguir.

- I. A maior frequência de períodos com temperaturas acima da média, inclusive com ondas de calor no período invernal em todo território, tem reforçado o padrão sazonal da doença.
- II. A expansão urbana desvinculada de melhoras nos serviços sanitários tem propiciado a formação de ilhas de calor e, portanto, uma alta na incidência da dengue.
- III. O desmatamento do cerrado, convertido em pasto, por exemplo, tem contribuído para aumentar a temperatura média e o número de casos da doença no interior do Brasil.

Está correto o que se afirma em

- (A) I, apenas.
- (B) I e II, apenas.
- (C) I e III, apenas.
- (D) II e III, apenas.
- (E) I, II e III.

26

As afirmativas a seguir descrevem corretamente o desempenho da economia brasileira em 2023, à exceção de uma. Assinale-a.

- (A) A expansão econômica ampliou a geração de empregos informais, em um contexto recessivo e de flexibilização das leis trabalhistas.
- (B) O dinamismo da economia foi marcado pelo aumento de exportações, no setor agrícola, e da demanda, no setor de serviços, em função da alta no consumo das famílias.
- (C) A alta progressiva nas cotações internacionais de commodities acelerou o ritmo das exportações, mesmo em um cenário cambial desfavorável para os exportadores.
- (D) A retração do Brasil no mercado regional e internacional ocorreu em função da maior competitividade dos produtos agrícolas argentinos e pela retomada da economia chinesa.
- (E) A persistência do alto nível da inflação foi ocasionada pela alta da cesta básica, sobretudo dos alimentos, cujas safras foram afetadas pelas condições climáticas adversas.

27

Em 2024, o Tribunal Superior Eleitoral (TSE) aprovou uma resolução para regulamentar o uso da inteligência artificial (IA) durante as eleições municipais a serem realizadas em outubro. A norma proíbe manipulações de conteúdo falso para criar ou substituir imagem ou voz de candidato com objetivo de prejudicar ou favorecer candidaturas. Também foi aprovada a restrição do uso de chatbots humanizados e avatares para intermediar a comunicação das campanhas com pessoas reais nas redes sociais.

Adaptado de <https://agenciabrasil.ebc.com.br>

A resolução sobre IA objetiva

- (A) coibir a produção e circulação de *deepfakes*.
- (B) restringir o uso de ferramentas de IA simbólica.
- (C) retomar a veiculação de propagandas eleitorais em mídias tradicionais, como rádio e televisão.
- (D) proibir o uso de ferramentas de coleta e seleção em bases de dados com fins eleitorais.
- (E) limitar o uso de assistente virtual programado por AI para divulgação do programa partidário.

28

Assinale a afirmativa que descreve corretamente um aspecto do panorama global da economia em 2023.

- (A) Nos Estados Unidos, a economia foi alavancada pela adoção de uma política de ampliação do crédito e baixa da taxa de juros.
- (B) Na China, o PIB cresceu acima do esperado, em um cenário marcado pela retomada econômica pós pandemia, inclusive no setor imobiliário.
- (C) Na Zona do Euro, a alta dos preços da energia pesou nas despesas familiares e no setor industrial, confirmando a manutenção de um quadro de crise.
- (D) Na Rússia, o PIB decresceu, em função do impacto prolongado da guerra com a Ucrânia e dos embargos à venda de petróleo e gás russos.
- (E) Na América do Sul, foi mantido um caminho geral de crescimento, apoiado por investimentos externos e pela intensificação de políticas estatistas.

29

Um supercomputador consiste em milhares de pequenos computadores chamados nós. Cada nó é equipado com sua própria memória e com vários processadores. Atuando em conjunto, eles são capazes de realizar cálculos extremamente complexos em elevada velocidade. Hoje, o maior supercomputador da América Latina é o Pégaso, da Petrobras, com 678 TB de memória RAM e mais de 233 mil núcleos.

Adaptado de <https://revistapesquisa.fapesp.br>

A respeito do poder computacional de alto desempenho dos supercomputadores, analise as afirmativas a seguir e assinale (V) para a verdadeira e (F) para a falsa.

- ( ) Essas máquinas são instrumentos valiosos de pesquisa e de suporte a setores da economia como defesa, energia e saúde, permitindo a resolução de problemas complexos em menor tempo.
- ( ) Esses equipamentos permitem realizar tarefas que exigem altíssimos níveis de processamento, como simulações da formação do universo ou modelagem molecular para novos fármacos.
- ( ) Esses aparelhos trabalham em alta velocidade de processamento pelo somatório de diversos núcleos, o que potencializa a velocidades do processador, medidas em gigahertz (GHz).

As afirmativas são, respectivamente,

- (A) V – V – F.
- (B) V – F – V.
- (C) F – V – F.
- (D) F – V – V.
- (E) V – V – V.

30

No início do ano corrente, a Petrobras anunciou ter alcançado em 2023 o segundo maior valor de lucro líquido de sua história. Mesmo assim, suas ações caíram no mercado financeiro, em função da disputa sobre os dividendos.

A respeito dos resultados financeiros da Petrobras nos últimos anos e da política de distribuição de dividendos da empresa, assinale a afirmativa correta.

- (A) A Petrobras é uma empresa estatal de economia mista que monopoliza a indústria petroleira no Brasil.
- (B) A Petrobras é uma estatal administrada diretamente por órgãos governamentais que controlam o valor das suas ações.
- (C) A Petrobras direciona parte dos dividendos para investidores privados, e outra parte para o governo federal, que controla a empresa via Tesouro e BNDES.
- (D) A Petrobras, sob o Governo Bolsonaro, reduziu o pagamento de dividendos a acionistas privados para reinvesti-los em energia renovável.
- (E) A Petrobras, no atual governo, vendeu ativos e distribuiu o lucro e os valores recordes de dividendos entre seus acionistas para financiar projetos do BNDES.

31

*Dados da última década mostram que, em relação aos Estados, o Pará é o que apresenta o maior número de registros de resgates de trabalho análogo à escravidão, com 9.853, seguido por Mato Grosso (4.302); Tocantins (2.896); São Paulo (1.529) e Rio de Janeiro (1.653), em 2017.*

Adaptado de <https://www.jota.info/justica/em-14-anos-434-mil-foram-resgatados-de-trabalho-escravo-30102017>

A respeito da definição moderna de escravidão, analise as afirmativas a seguir.

- I. Em Tocantins, a maior incidência de escravidão moderna ocorre na zona rural, associada a atividades agropecuárias e ao extrativismo mineral, como nas carvoarias, por exemplo.
- II. A Organização Internacional do Trabalho determina a condição de escravidão por uma série de componentes, como o trabalho forçado análogo ao de escravo e o casamento forçado.
- III. Pessoas obrigadas a trabalhar por dívida ou por ameaça, sem direitos trabalhistas garantidos estão em situação de escravidão, uma vez que lhes é impedida a liberdade de ir e vir.

Está correto o que se afirma em

- (A) I, apenas.
- (B) I e II, apenas.
- (C) I e III, apenas.
- (D) II e III, apenas.
- (E) I, II e III.

32

Energia gerada por recursos naturais renováveis que, no Brasil, provém da lenha, carvão vegetal, carvão mineral, bagaço de cana e outros resíduos combustíveis. Essa energia é a matéria orgânica vegetal ou animal usada como fonte de energia limpa e sustentável.

O trecho descreve o seguinte componente importante do desenvolvimento sustentável:

- (A) compostagem.
- (B) biodiversidade.
- (C) créditos de carbono.
- (D) ciclo de vida.
- (E) biomassa.

## História e Geografia do Estado de Tocantins

33

Leia a descrição de uma classe de vegetação presente no estado do Tocantins, a seguir.

*Esta vegetação, também conhecida como floresta pluvial tropical, é caracterizada por árvores de porte elevado, além de trepadeiras lenhosas e epífitas (bromélias e orquídeas, por exemplo) em abundância, o que a diferencia de outras classes de formação vegetal. Sua característica ecológica principal é estar presente em ambientes de chuvas abundantes, como na parte noroeste do Estado, onde as temperaturas médias são de 25°C e os elevados índices de precipitação estão bem distribuídos ao longo do ano.*

Adaptado de Luís Antônio G. C. Silva. *Biomas presentes no Estado do Tocantins*. Brasília: Câmara dos Deputados, 2007, p. 4.

O trecho caracteriza a região conhecida como Floresta

- (A) Estacional Semidecidual.
- (B) Tropical Subcaducifólia.
- (C) de Mata Atlântica.
- (D) Ombrófila Densa.
- (E) Temperada Decidual.

34

Comparando dados dos censos do IBGE, pode-se elaborar um retrato da evolução demográfica da população residente no Estado de Tocantins. O grupo na faixa etária de 0 a 14 representava 41,7% da população em 1991, 28,8% em 2010, e passou para 24% em 2022. A população acima de 65 anos era de 3,8% em 1991 e 5,8% em 2010, e ficou em 8,6% em 2022. O censo de 2022 mostrou ainda que a faixa etária de 15 a 29 anos representa 15% da população e que 41% da população é composta por pessoas de 30 a 59 anos.

Com base no trecho, assinale a opção que apresenta a dinâmica populacional do Tocantins entre 1991 e 2022.

- (A) Expansão da base da pirâmide etária.
- (B) Diminuição da taxa de fecundidade.
- (C) Estreitamento do topo da pirâmide.
- (D) Aumento da idade mediana.
- (E) Redução do índice de envelhecimento.

35

*Foram inegáveis os desdobramentos socioeconômicos sobre o antigo Norte Goiano fruto da construção da rodovia BR-153, a partir do final da década de 1950. O novo urbanismo da Belém-Brasília trouxe enorme impacto no que se refere ao conjunto de cidades que existiam às margens do rio Tocantins, aos fluxos migratórios e às atividades econômicas da região.*

Adaptado de AQUINO, N. *Tocantins: cidades e urbanismo em três modelos históricos*. In: III Encontro da ANPPAS. Brasília, 2006, p. 8.

As afirmativas a seguir descrevem corretamente impactos da rodovia BR-153 no processo de territorialização do Tocantins, **à exceção de uma**. Assinale-a.

- (A) A rodovia foi construída no governo Kubitschek, em um contexto desenvolvimentista que considerava a expansão rodoviária como um meio para integrar econômica e territorialmente as regiões do país, inclusive o norte goiano que, então, vivia uma situação de abandono.
- (B) A rodovia Belém-Brasília teve grande importância para a urbanização do atual Tocantins, o que é exemplificado pela quantidade de novas cidades criadas após a sua construção, como Araguaína, Gurupi, Paraíso do Tocantins, Colinas do Tocantins e Guarai.
- (C) A construção da BR-153 alavancou também os municípios ribeirinhos, pois a navegação fluvial foi intensificada para abastecer as obras em curso, o que transformou esses municípios em satélites econômicos da nova malha urbana instalada ao longo da rodovia.
- (D) Após a abertura da rodovia, as principais áreas que receberam fluxos migratórios foram a Microrregião de Gurupi – Gurupi e a Microrregião de Porto Nacional – Palmas, para onde se dirigiram pessoas interessadas em trabalhar na construção civil, nos serviços e no comércio, entre outros.
- (E) A BR-153 permitiu interligar o norte de Goiás, atual Estado do Tocantins, a outras localidades do país, facilitando o escoamento da produção e o acesso a produtos para a região, promovendo o fluxo de mercadorias e serviços.

36

O Memorial Coluna Prestes (2001) é uma obra do arquiteto Oscar Niemeyer localizada na Praça dos Girassóis, no centro de Palmas (TO).



Fonte: <https://central.to.gov.br/image/146145?f=1>

A respeito da relação entre essa obra e a constituição de uma memória histórica para o Estado do Tocantins, analise as afirmativas a seguir.

- I. O monumento refere-se à Coluna Prestes, que percorreu o Brasil para divulgar seu programa revolucionário entre 1924 e 1927, tendo passado pelo Norte do então Estado de Goiás (atual Tocantins) durante seu percurso.
- II. A obra foi realizada em concreto e apresenta curvas sinuosas, características próprias do Barroco das cidades mineradoras, estabelecendo visualmente uma continuidade entre o Barroco do passado das cidades mineradoras e o presente do Tocantins.
- III. A construção do memorial permite inserir simbolicamente a história do Tocantins nos grandes processos da história republicana nacional, e homenagear o Tenente Antônio de Siqueira Campos, cujo sobrenome é homônimo ao do ex-governador do Estado.

Está correto o que se afirma em

- (A) I, apenas.  
 (B) I e II, apenas.  
 (C) I e III, apenas.  
 (D) II e III, apenas.  
 (E) I, II e III.

## 37

Até 1988, o território que hoje corresponde ao Estado do Tocantins pertencia ao antigo norte de Goiás e à Região Centro-Oeste, tendo como capital política a cidade de Goiânia. Com a emancipação política, da noite para o dia, as pessoas amanheceram tocantinenses, mas sem referências culturais que as representassem como tais.

A respeito da projeção simbólica do novo Estado e de sua nova capital, assinale a opção que interpreta corretamente o processo de construção e atribuição de uma identidade ao Tocantins.

- (A) Desde o primeiro mandato do governador Siqueira Campos, os símbolos oficiais do Tocantins continuaram sendo o brasão de armas, a bandeira, o selo estadual e a canção "Hino ao Tocantins", de Liberato Costa Póvoa e Abiezer Alves da Rocha.
- (B) O girassol foi reconhecido oficialmente como símbolo da natureza do Estado, por ser uma planta nativa dos cerrados tocantinenses e estar associada à prosperidade e à esperança.
- (C) A Praça dos Girassóis, centro cívico de Palmas, foi concebida para receber edifícios esteticamente associados à cultura do Tocantins, como o Palácio do Araguaia, cujos pórticos remetem ao capim dourado, símbolo da tradição do artesanato de alta qualidade da região.
- (D) A monumentalidade da Praça dos Girassóis é enfatizada pelo seu pavimento, que contém figuras simbólicas como o mapa do Tocantins, a rosa dos ventos, o brasão de armas e a Praça Krahô.
- (E) O meio ambiente também foi utilizado para fortalecer o sentimento identitário, inserindo o girassol, a fava-de-bolota, a arara-canindé e a granada como símbolos da natureza do Tocantins, desde a promulgação da Constituição Estadual em 1989.

## 38

A respeito da matriz energética do Estado e dos investimentos em biocombustíveis, analise as afirmativas a seguir e assinale (V) para a verdadeira e (F) para a falsa.

- ( ) O Estado tem condições de clima e solo desfavoráveis para o plantio de matérias-primas usadas na fabricação de biocombustíveis, mas a expansão do modal logístico (Ferrovia Norte-Sul) permitirá o acesso à soja do planalto goiano.
- ( ) O Tocantins conta com duas usinas de biodiesel em funcionamento, utilizando o pinhão-manso, a soja, a mamona e outras oleaginosas como matéria-prima.
- ( ) O Estado tem alto potencial de geração de energia solar, pela elevada irradiação solar e pelas políticas públicas voltadas para produção de energia limpa e renovável, como a Política Estadual de Incentivo à Geração e ao Uso da Energia Solar (Pró-Solar)

As afirmativas são, respectivamente,

- (A) V – F – V.
- (B) F – V – V.
- (C) F – F – V.
- (D) V – V – F.
- (E) V – V – V.

## 39

*As belas paisagens como serras, cachoeiras, praias e até mesmo dunas, fazem do Tocantins um paraíso de paisagens naturais, atraindo turistas de várias regiões para conhecer o mais novo Estado brasileiro. A potencialidade para o ecoturismo e a preocupação em conservar a biodiversidade e recursos naturais nele contidos fez com que o Governo do Estado, criasse e implementasse as Unidades de Conservação Ambiental (UC).*

Adaptado de <https://www.to.gov.br/secom/>

A respeito das Unidades de Conservação (UC) do Tocantins, assinale a afirmativa correta.

- (A) São espaços territoriais legalmente instituídos pelo poder público e podem ser de proteção integral federal, como no caso dos Parques Cantão, Jalapão e Lajeado.
- (B) As UCs federais estão subordinadas ao Instituto Chico Mendes de Conservação da Biodiversidade (ICMBio), como no caso do Monumento Natural das Árvores Fossilizadas.
- (C) As UCs estaduais estão subordinadas ao Instituto Natureza do Tocantins (Naturatins), que supervisiona o Parque do Araguaia e o das Nascentes do rio Parnaíba.
- (D) As UCs de uso sustentável são compostas exclusivamente por áreas públicas, sendo permitida sua utilização apenas para o ecoturismo, pesquisa e educação ambiental.
- (E) As UCs municipais estão subordinadas às secretarias de meio ambiente, como no caso do Monumento Natural dos Cânions e Corredeiras do Rio Sono e do Parque Ecológico Roberto Guedes Pereira.

## 40

O Estado do Tocantins possui diversas comunidades quilombolas certificadas e outras com processo formalizado para regularização fundiária de seus territórios. A definição de comunidade quilombola é dada pelo Art. 2º do Decreto nº 4.887/2003:

*Consideram-se remanescentes das comunidades dos quilombos, para os fins deste Decreto, os grupos étnico-raciais, segundo critérios de auto-atribuição, com trajetória histórica própria, dotados de relações territoriais específicas, com presunção de ancestralidade negra relacionada com a resistência à opressão histórica sofrida.*

A respeito dos órgãos e processos envolvidos na identificação e regularização de territórios quilombolas no Estado do Tocantins, assinale a afirmativa correta.

- (A) O acesso dessas comunidades às políticas públicas de educação, saúde, moradia e regularização fundiária depende de o Estado emitir uma certidão de identificação de comunidade quilombola, mediante Fundação Palmares.
- (B) Os critérios para reconhecimento de um grupo enquanto remanescente de quilombo depende da comprovação de sua ancestralidade, seu parentesco e da preservação viva de religiosidades autenticamente africanas.
- (C) A Coordenação Nacional de Articulação de Comunidades Negras Rurais Quilombolas (CONAQ) luta pela incorporação constitucional do direito à autodefinição dos remanescentes de quilombos.
- (D) A certificação quilombola é realizada pela Fundação Cultural Palmares, que avalia com visitas técnicas a autenticidade do legado quilombola pretendido e, caso o aprove, emite a certidão de comunidade quilombola e a inscreve em um cadastro geral.
- (E) O acesso às terras ocupadas pelos remanescentes das comunidades dos quilombos é garantido por sua delimitação e titulação, a cargo da autoridade municipal em que a mesma se localiza.

## CONHECIMENTOS ESPECÍFICOS

41

Sobre a noção de clima organizacional, analise as afirmativas a seguir.

- I. No ambiente de trabalho os aspectos capazes de produzir satisfação – ou insatisfação – e de provocar motivação – ou desmotivação impactam igualmente os funcionários e o clima organizacional.
- II. Salários compatíveis com o mercado, horário de trabalho flexível e um bom pacote de benefícios são suficientes para garantir um clima organizacional positivo.
- III. Para medir o clima organizacional e traduzi-lo em um indicador, é necessário empreender uma pesquisa junto ao público interno para aferir o grau de satisfação das pessoas no ambiente de trabalho.

Está correto o que se afirma em

- (A) I, apenas.
- (B) II, apenas.
- (C) III, apenas.
- (D) II e III, apenas.
- (E) I, II e III.

42

Uma das áreas do composto da comunicação integrada, proposto por Margarida Kunsch, é a comunicação mercadológica, da qual fazem parte

- (A) a propaganda institucional.
- (B) o marketing social.
- (C) o marketing cultural.
- (D) a merchandising.
- (E) a imagem corporativa.

43

As pesquisas baseadas em grupos de focus têm sido utilizadas, com certa regularidade, para subsidiar pesquisas-ação de clima organizacional.

Esse tipo de pesquisa tem diversas características, à exceção de uma. Assinale-a.

- (A) Os grupos de focus podem ser compostos por empregados de diversas áreas da empresa e monitorados por um moderador.
- (B) Durante os grupos de focus os participantes tendem a influenciar uns aos outros quanto a opiniões e colocações feitas enquanto reunidos.
- (C) Nos grupos de focus, o moderador é dispensável já que a discussão deve ser feita livremente a partir de perguntas fechadas, que embasarão resultados quantitativos.
- (D) Esse tipo de pesquisa consiste de entrevistas em profundidade realizadas em grupo de onde saem informações que podem ser usadas em outros métodos de pesquisa.
- (E) Os grupos de focus são recomendáveis para gerar hipóteses baseadas na percepção dos participantes e preparar planos de entrevistas e questionários para estudos mais amplos.

44

A Comunicação Governamental, a Comunicação Política e a Comunicação Pública possuem características distintas.

A partir dessa constatação, várias atitudes são esperadas de quem atua em Comunicação Pública, à exceção de uma. Assinale-a.

- (A) Priorizar interesses político partidários dos governantes em exercício para continuidade dos projetos assistenciais.
- (B) Adaptar os instrumentos de comunicação às necessidades, possibilidades e interesses dos públicos.
- (C) Ter compromisso em privilegiar o interesse público em relação ao interesse individual ou corporativo.
- (D) Tratar a comunicação como um processo mais amplo do que simplesmente informação.
- (E) Centralizar o processo de comunicação no cidadão.

45

O teórico Marshall McLuhan propõe a organização da história da humanidade, em decorrência da presença das tecnologias de comunicação, em três etapas: cultura oral, cultura escrita ou tipográfica, cultura eletrônica.

Sobre o terceiro momento da história da humanidade, é correto afirmar que

- (A) nele, houve implantação da alfabetização, fragmentação das tarefas cognitivas e estímulo ao individualismo.
- (B) tem componente emocional, estimula a criatividade; é volátil, e se perpetua unicamente através da memória coletiva.
- (C) se caracteriza como uma sociedade acústica, com ênfase na vivência grupal e no coletivismo.
- (D) trouxe a leitura, o nacionalismo, o industrialismo, os mercados de massa e a educação universais.
- (E) foi inaugurado pela eletricidade, trouxe a instantaneidade, o apelo à sensibilidade e a integração sensorial.

46

Leia o texto a seguir sobre a importância do posicionamento na gestão estratégica de marketing.

*Em um mundo globalizado, onde a concorrência está cada vez mais acirrada, a diferenciação é uma questão de \_\_\_\_\_ para as organizações. Para que uma organização seja efetivamente percebida como diferente, a vantagem competitiva oferecida por ela precisa ser única, \_\_\_\_\_ de imitar, sustentável, \_\_\_\_\_ à competição e aplicável em diversas situações. Vantagens competitivas podem ser copiadas pelas concorrentes em curto espaço de tempo, o que obriga as organizações a buscar outras vantagens. Uma alternativa para dificultar o \_\_\_\_\_ das vantagens competitivas realizada pelas concorrentes é a definição de um posicionamento, explicado por Kotler como “a ação de projetar o produto e a imagem da empresa para ocupar um lugar diferenciado na mente do público-alvo”. O resultado será a criação de um(a) \_\_\_\_\_, ou seja, uma razão convincente para que o consumidor compre determinado produto ou até mesmo mude de marca.*

(LUPETTI, 2012, adaptado)

Assinale a opção que completa corretamente as lacunas do texto.

- (A) honra – rápida – incomparável – merchandising – diferencial.
- (B) posicionamento – fácil – inexistente – briefing – lovemark.
- (C) escolha – impossível – equivalente – follow-up – top of mind.
- (D) sobrevivência – difícil – superior – benchmarking – proposta de valor.
- (E) marketing – possível – inferior – branding – posicionamento.

47

Segundo Merlin Stone (1998), a implantação do marketing de relacionamento dentro de uma empresa pode ser dividida em quatro etapas: (1) desenvolvimento e análise estratégica; (2) estratégia de informações e gestão de clientes; (3) planejamento e marketing interno; e (4) ativação e adaptação.

Assinale a opção que indica atividades previstas para a fase 2.

- (A) Auditar e controlar os pontos de contato entre a empresa e seus clientes, elaborando os fluxos de informação e identificando oportunidades para aprimorar o relacionamento e o resultado para o negócio.
- (B) Implementar estratégia definida por meio das políticas de produto, preço, comunicação e distribuição e, também, de atendimento.
- (C) Planejar as atividades da área de marketing a partir da definição estratégica da empresa e das informações apresentadas no *database*.
- (D) Definir as atividades de pós-marketing, em que a empresa deverá identificar o grau de satisfação do cliente em relação a todo o processo gerado a partir da estratégia de relacionamento.
- (E) Desenvolver a missão, valores, objetivos e estratégia da empresa, levando-se em conta as características e o perfil dos clientes e as necessidades de construir e manter relacionamentos lucrativos e duradouros com esses clientes.

48

Leia o trecho abaixo no qual Armando Sant'Anna discute alguns aspectos da teoria publicitária.

*É comum observar que propagandas de cerveja fazem uso do \_\_\_\_\_, uma cor quente, a cor do verão, do sol, da alegria. Seguindo o mesmo raciocínio, campanhas de balas que propõem trazer frescor e a percepção de algo "geladinho" fazem uso do \_\_\_\_\_, ou cinza, cores consideradas mais frias. O mesmo vale para os ritmos dos jingles, que, quando mais \_\_\_\_\_, levam o consumidor a uma maior reflexão; e quando o ritmo é mais \_\_\_\_\_, promove nos indivíduos a sensação e o estímulo para uma ação. No entanto, os aspectos de ordem física, fisiológica e psicológica, que cientificamente podem ser constatados – como o comprimento de onda –, não são \_\_\_\_\_ quanto ao fato de influírem no comportamento de compra. Autores consagrados afirmam que o uso de uma cor ou de um ritmo musical compõe um universo que impacta o consumidor, mas pela mensagem da peça publicitária. É como se cores e sons tivessem o papel de \_\_\_\_\_ para a mensagem ali contida.*

(SANT'ANNA, 9 ed, 2016)

Assinale a opção que completa corretamente as lacunas do texto.

- (A) laranja – lilás – alegres – cadenciados – consenso – ruído.
- (B) amarelo – azul – lentos, acelerados – unanimidade – moldura.
- (C) vermelho – verde – agitados – sincopados – dissonantes – canal.
- (D) amarelo – branco – acelerados – lentos – considerados – *feedback*.
- (E) laranja – amarelo – tristes – metálicos – majoritários – ambiência.

49

Sobre o estabelecimento de parcerias com nano-influenciadores no marketing digital, analise as afirmativas a seguir.

- I. Por terem em 10k e 50k nas principais redes sociais e baixa taxa de interação, nano-influenciadores são ideais para lançamento de produtos de nicho.
- II. Nano-influenciadores tendem a de ser mais autênticos, mais confiáveis e mais baratos, gerando efeito mais profundo devido a ligação mais próxima com sua audiência.
- III. A imagem do nano-influenciador estará irremediavelmente atrelada a uma marca e, se algo ocorrer de errado, o estrago será de grandes proporções e irremediável.

Está correto o que se afirma em

- (A) I, apenas.
- (B) II, apenas.
- (C) III, apenas.
- (D) II e III, apenas.
- (E) I, II e III.

50

Leia o trecho publicado pelo *site* do *Meio e Mensagem* sobre a atuação do Conselho Nacional de Autorregulamentação Publicitária (Conar), em 2023, sob o título

***Heineken, Ambev e Diageo são os anunciantes mais punidos pelo Conar***

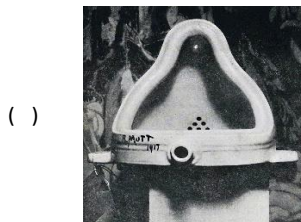
*A aparência jovem dos modelos escalados para campanhas de bebidas alcoólicas, que motivou uma das penalidades impostas à Heineken, também afetou a Diageo. Campanha de lançamento do Johnnie Walker Blonde gerou queixas de consumidores em relação à jovialidade dos protagonistas e ao fato de ter sido exibida em mídia exterior, que alcança todas as faixas etárias, sem possibilidade técnica de segmentação por idade.*

No caso de anúncios de bebidas alcoólicas, de acordo com o CONAR,


- (A) adolescentes maiores de 13 anos podem aparecer no segundo plano da imagem, desde que sem contato direto com a bebida;
- (B) crianças maiores de oito anos podem aparecer apenas no fundo das imagens de anúncios de bebidas de baixo teor alcoólico;
- (C) os modelos constantes nos anúncios, se forem menores, devem aparentar ter pelo menos 18 anos de idade;
- (D) qualquer pessoa que apareça nos anúncios de bebidas alcoólicas deverá ser e parecer maior de 25 anos de idade;
- (E) a idade mínima dos modelos é fiscalizada apenas quando o anúncio é exibido em mídia exterior.

51

Alguns movimentos artísticos são tradicionalmente agrupados no que se convencionou chamar de Vanguardas Modernas Europeias. Nesse sentido, relacione os movimentos às respectivas obras.



1. Surrealismo
2. Dadaísmo
3. Fauvismo
4. Expressionismo
5. Cubismo



Assinale a opção que apresenta a relação correta, segundo a ordem apresentada.

- (A) 2 – 3 – 1 – 4 – 5.
- (B) 1 – 5 – 2 – 3 – 4.
- (C) 2 – 5 – 1 – 3 – 4.
- (D) 1 – 4 – 2 – 5 – 3.
- (E) 4 – 2 – 1 – 3 – 5.

52

Observe a figura a seguir.



A figura mostra uma das obras mais famosas do da arte moderna brasileira.

Assinale a opção que identifica corretamente seu título e a respectiva autoria.

- (A) Abaporu, de Tarsila do Amaral.
- (B) Tropical, de Anita Malfatti.
- (C) As negras; de Di Cavalcanti.
- (D) Antropofagia, de Tarsila do Amaral.
- (E) Mulatas, de Di Cavalcanti.

53

Na primeira fase do Modernismo no Brasil, o Grupo dos Cinco se destacou por suas obras e atividades.

Ele era formado por

- (A) Di Cavalcanti, Oswald de Andrade, Mario de Andrade, Tarsila do Amaral e Patrícia Galvão (Pagu).
- (B) Mário de Andrade, Oswald de Andrade, Patrícia Galvão (Pagu), Tarsila do Amaral e Guilherme de Almeida.
- (C) Mário de Andrade, Oswald de Andrade, Menotti Del Picchia, Tarsila do Amaral e Anita Malfatti.
- (D) Mário de Andrade, Oswald de Andrade, Di Cavalcanti, Tarsila do Amaral e Monteiro Lobato.
- (E) Mário de Andrade, Oswald de Andrade, Patrícia Galvão (Pagu), Tarsila do Amaral e Anita Malfatti.



54

As figuras a seguir são de dois mestres integrantes da Bauhaus, uma escola de design, arte e arquitetura, que funcionou entre 1919 e 1933 na Alemanha e até hoje influencia o design.

Figura 1



Figura 2



Os autores das figuras 1 e 2 são, respectivamente,

- (A) Pablo Picasso e Laszlo Moholy-Nagy.
- (B) Walter Gropius e Joan Miró.
- (C) Herbert Bayer e Marcel Breuer.
- (D) Paul Klee e Wassily Kandinsky.
- (E) Lyonel Feininger e Piet Mondrian.

55

László Moholy-Nagy, além ter sido professor a Bauhaus, foi um pintor húngaro que fez experimentos fotográficos, como o mostrado a seguir.



Essa técnica é conhecida como

- (A) alto contraste.
- (B) fotograma.
- (C) solarização.
- (D) viragem.
- (E) alto relevo.

56

Observe a imagem a seguir, registrada durante uma apresentação de dança.



Sobre essa imagem, é correto afirmar que o efeito

- (A) borrado do movimento foi obtido através do uso do obturador da câmera em velocidade baixa.
- (B) de muita profundidade no movimento foi obtido pelo uso do diafragma aberto.
- (C) tremido do movimento foi obtido através do uso do obturador da câmera em velocidade alta.
- (D) de pouca profundidade no movimento foi obtido pelo uso do diafragma fechado.
- (E) de congelamento do instante do movimento foi obtido pelo uso do *flash*.

57

Embora já existissem diversos tipos de escrita, o primeiro alfabeto fonético deu que se tem notícia foi criado pelos

- (A) fenícios.
- (B) sumérios.
- (C) gregos.
- (D) egípcios.
- (E) chineses.

58

Recentemente, a empresa de cosméticos *Boticário* lançou uma edição limitada da linha *Cuide-se Bem Bubbalo*. Os produtos com cheiro de chiclete e embalagem que lembra a tradicional goma de mascar buscam despertar nostalgia e conquistar consumidores.

Esse tipo de estratégia baseada na união de duas marcas para criar um produto ou serviço novo e exclusivo é conhecida como

- (A) *branding* de causas.
- (B) *love branding*.
- (C) *co-marketing*.
- (D) marketing de nostalgia.
- (E) *co-branding*.

59

Sobre as características e importância do *briefing*, analise as afirmativas a seguir.

- I. *Briefing* pode significar a passagem de uma informação de uma pessoa para outra. Nas agências de comunicação a passagem da informação se dá do anunciante – detentor do problema – para os profissionais da agência – responsáveis pela elaboração, criação e viabilização do projeto.
- II. O *briefing* é o documento que informa do ponto de vista da agência de publicidade: seu mercado, seus concorrentes, seu produto/serviço, sua marca e seu público-alvo, além de indicar sua estratégia de atendimento ao cliente.
- III. O *briefing* é um documento extenso, formal, com regras rígidas e não deve omitir nenhuma informação sobre o cliente, pois sua função é embasar todas as ações de uma agência de publicidade.

Está correto o que se afirma em

- (A) I, apenas.
- (B) II, apenas.
- (C) III, apenas.
- (D) II e III, apenas.
- (E) I, II e III.

60

O teórico Umberto Eco avalia os códigos publicitários com registros duplos, um verbal e um visual, e distingue cinco níveis de codificação.

A esse respeito, relacione os níveis de codificação às respectivas características.

1. Icônico
  2. Iconográfico
  3. Tropológico
  4. Tópico
  5. Entimemático
- ( ) Trabalha com dois tipos de codificação, o histórico e o publicitário, investindo em significados convencionais decorrentes de um aprendizado cultural.
- ( ) Refere-se às conclusões desencadeadas pela argumentação no aparecimento de uma determinada imagem no anúncio.
- ( ) É composto pelas figuras retóricas clássicas aplicadas, como a metáfora e hipérbole, antonomásia, etc., à comunicação visual.
- ( ) Trata-se de um nível ideológico entre a argumentação e a opinião e compreende as premissas e os lugares argumentativos, que são marcos do processo persuasivo.
- ( ) É focado no processo denotativo inclui os dados concretos da imagem ou os elementos gráficos que representam o objeto de referência.

Assinale a opção que apresenta a relação correta, na ordem apresentada.

- (A) 2 – 3 – 5 – 1 – 4.
- (B) 1 – 5 – 3 – 4 – 2.
- (C) 3 – 4 – 5 – 1 – 2.
- (D) 3 – 4 – 2 – 1 – 5.
- (E) 2 – 5 – 3 – 4 – 1.

61

Observe o círculo cromático:



Com base nele, é correto afirmar que

- (A) verde, laranja e violeta são cores primárias.
- (B) a cor complementar do vermelho é o verde.
- (C) verde, vermelho e amarelo são cores secundárias.
- (D) a cor análoga do azul é o laranja.
- (E) vermelho, Vermelho alaranjado e vermelho violeta são cores complementares.

62

Sobre o sistema CMYK, usado em projetos gráficos, é correto afirmar que

- (A) suas cores secundárias são ciano, magenta e amarelo.
- (B) nesse sistema, o preto representa a ausência de cor.
- (C) é um sistema de cores pigmento oposto ao HUE.
- (D) suas cores primárias são o vermelho, amarelo e azul.
- (E) é um sistema de cor conhecido como síntese subtrativa.

63

Sobre o impacto das cores no ser humano, leia fragmento a seguir.

*Ao trabalharmos os aspectos conceituais e simbólicos das cores, é importante delimitar para quem estamos comunicando algo, do contrário, a chance de errar é muito grande. As cores ganham significados diferentes em diferentes partes do mundo; dependendo da cultura local, elas transmitem significados diversos e, até mesmo, completamente opostos.*


(KRAEMER, 2018)

Contudo, levando em conta a cultura ocidental, algumas associações têm sido recorrentes na publicidade, à exceção de uma. Assinale-a.

- (A) Rosa – inocência e feminilidade.
- (B) Vermelho – paixão e prazer.
- (C) Laranja – tradição e conservadorismo.
- (D) Branco – pureza e paz.
- (E) Verde – ecologia e natureza.

64

Observe a imagem a seguir.



Ela é atribuída a um dos fotógrafos e diretor de arte mais polêmico, irreverente e provocador da história da fotografia. Ele realizou durante anos as campanhas da Benetton.

Seu nome é

- (A) Richard Avedon.
- (B) Mário Testino.
- (C) David LaChapelle.
- (D) Terry Richardson.
- (E) Oliviero Toscani.

65

Em seu livro *Marketing para o Século XXI*, Kotler nos lembra que todo plano de marketing deve ter, no mínimo, cinco seções, a saber: 1. Análise da situação; 2. Objetivos e metas de marketing; 3. Estratégia de marketing; 4. Plano de ação de marketing e 5. Controles de marketing.

Sobre a fase 2, é correto afirmar que

- (A) é o momento adequado para construção de hipóteses sobre o futuro da empresa e realização de uma análise *swot* aprofundada.
- (B) baseia-se em benchmarks periódicos para revisão de objetivos e metas a partir dos dados aferidos.
- (C) os objetivos devem ser reformulados em termos de metas, que além de magnitude e data prevista para realização, devem ser mensuráveis para fornecer orientação e controle.
- (D) a partir das construções das propostas de valor, o posicionamento deve objetivar uma clara definição de liderança em termos de preço ou de qualidade.
- (E) é o momento de definir datas de campanhas publicitárias, promoções de vendas, participações em feiras e lançamentos de novos produtos.

## LEGISLAÇÃO INSTITUCIONAL

66

Nos termos da Constituição do Estado do Tocantins, constitui objeto de lei complementar a seguinte matéria:

- (A) os prazos de prescrição para ilícitos praticados por qualquer agente, servidor ou não, que causem prejuízos ao erário.
- (B) os limites de idade, a estabilidade e outras condições de transferência do servidor militar para a inatividade.
- (C) os casos de contratação por tempo determinado para atender à necessidade temporária de excepcional interesse público.
- (D) as regras para cálculo de proventos de aposentadoria e pensão por morte.
- (E) os requisitos e as restrições ao ocupante de cargo ou emprego da administração direta e indireta que possibilite o acesso a informações privilegiadas.

67

Considerando o exercício da função legislativa por parte da Assembleia Legislativa de Tocantins, nos termos de seu Regimento Interno, é correto afirmar que

- (A) projetos de lei delegada podem se destinar a regular as matérias de exclusiva competência do Poder Executivo, com a sanção do Governador do Estado.
- (B) projetos de resolução podem se destinar a regular, com eficácia de lei ordinária, matéria de competência privativa da Assembleia Legislativa.
- (C) projetos de lei complementar visam regular matéria infraconstitucional.
- (D) projetos de lei têm por objetivo regular matérias de competência do Poder Legislativo, sem a sanção do Governador do Estado.
- (E) projetos de decreto legislativo destinam-se à delegação de competência, na forma estabelecida na Constituição Estadual.

68

Aline, servidora pública estadual, revelou segredo do qual se apropriou em razão do cargo que ocupa. A Administração Pública, ao tomar conhecimento do fato, instaurou procedimento administrativo disciplinar a fim de apurar a conduta e garantir à servidora os princípios da ampla defesa e do contraditório.

À luz do Estatuto dos Servidores Públicos Cíveis do Estado do Tocantins, caso punida, Aline poderá ser sancionada com

- (A) advertência.
- (B) suspensão.
- (C) prestação de serviço.
- (D) multa.
- (E) demissão.

**69**

Ana, servidora pública efetiva e estável, ocupante de cargo de nível superior, objetivando inteirar-se sobre os requisitos para a progressão na carreira, consultou a Lei nº 4.208/2023, que trata sobre o plano de cargos, carreiras e remuneração dos Servidores da Assembleia de Tocantins.

Assim, para fazer jus à progressão, Ana terá que

- (A) possuir no máximo três faltas injustificadas por exercício referente ao período avaliado.
- (B) obter conceito igual ou superior a 70% (setenta por cento) dos pontos possíveis em todos os procedimentos de sua Avaliação.
- (C) concluir curso de pós-graduação *lato sensu* com duração mínima de 360 (trezentos e sessenta) horas.
- (D) cumprir trinta meses de efetivo exercício na classe em que se encontra.
- (E) concluir cursos de aperfeiçoamento em sua área de atuação que tenha, no mínimo, 80 (oitenta) horas de duração.

**70**

Antônio foi nomeado para o cargo de Controlador Interno da Assembleia Legislativa de Tocantins.

À luz da Lei nº 4.209/2023, que dispõe sobre a estrutura administrativa da Aleto, durante o exercício da função, Antônio será competente para:

- (A) opinar, conclusivamente, em processos de direitos, deveres e obrigações dos servidores do Poder Legislativo.
- (B) constituir Comissão Permanente de Licitação.
- (C) examinar a observância das normas de licitações.
- (D) apresentar à Mesa Diretora o balancete mensal e, no início de cada exercício, o balancete geral das contas da Assembleia Legislativa, relativo ao exercício anterior.
- (E) planejar, coordenar, orientar, controlar e dirigir as atividades administrativas, orçamentárias, financeiras, de comunicação social, de tecnologia de informação e de apoio legislativo da Assembleia Legislativa.



# ASSEMBLEIA LEGISLATIVA DO ESTADO DO TOCANTINS

CONCURSO PÚBLICO – EDITAL Nº 01/2023

## PROVA OBJETIVA – TARDE

### ANALISTA LEGISLATIVO RELAÇÕES PÚBLICAS

NÍVEL SUPERIOR – TIPO 1 – BRANCA



#### SUA PROVA

- Além deste caderno contendo **70 (setenta)** questões objetivas, você receberá do fiscal de prova o cartão de respostas;
- As questões objetivas têm **5 (cinco)** opções de resposta (A, B, C, D) e somente uma delas está correta.



#### TEMPO

- Você dispõe de **5 (cinco) horas** para a realização da prova, já incluído o tempo para a marcação do cartão de respostas;
- **3 (três) horas** após o início da prova, é possível retirar-se da sala, sem levar o caderno de questões;
- A partir dos **30 (trinta) minutos** anteriores ao término da prova é possível retirar-se da sala **levando o caderno de questões**.



#### NÃO SERÁ PERMITIDO

- Qualquer tipo de comunicação entre os candidatos durante a aplicação da prova;
- Anotar informações relativas às respostas em qualquer outro meio que não seja o caderno de questões;
- Levantar da cadeira sem autorização do fiscal de sala;
- Usar o sanitário ao término da prova, após deixar a sala.



#### INFORMAÇÕES GERAIS

- Verifique se seu caderno de questões está completo, sem repetição de questões ou falhas. Caso contrário, **notifique imediatamente o fiscal da sala**, para que sejam tomadas as devidas providências;
- Confira seus dados pessoais, especialmente nome, número de inscrição e documento de identidade e leia atentamente as instruções para preencher o cartão de respostas;
- Para o preenchimento do cartão de respostas, use somente caneta esferográfica, fabricada em material transparente, com tinta preta ou azul;
- Assine seu nome apenas no(s) espaço(s) reservado(s) no cartão de respostas;
- Confira seu cargo, cor e tipo do caderno de questões. Caso tenha recebido caderno de cargo ou cor ou tipo **diferente** do impresso em seu cartão de respostas, o fiscal deve ser **obrigatoriamente** informado para o devido registro na ata da sala;
- Reserve tempo suficiente para o preenchimento do seu cartão de respostas. O preenchimento é de sua responsabilidade e **não será permitida a troca do cartão de respostas em caso de erro cometido pelo candidato**;
- Para fins de avaliação, serão levadas em consideração apenas as marcações realizadas no cartão de respostas;
- A FGV coletará as impressões digitais dos candidatos na lista de presença;
- Os candidatos serão submetidos ao sistema de detecção de metais quando do ingresso e da saída de sanitários durante a realização das provas.
- **Boa prova!**

## CONHECIMENTOS BÁSICOS

### Língua Portuguesa

1

Observe o seguinte texto:

*Quando entrei no terrível vagão, ele estava ocupado por duas pessoas. Uma, dobrada, coberta, dormia profundamente. A coberta superior estava manchada, de fundo amarelado, como pele de leopardo. Vendem-se muitas mantas assim nas lojas de artigos de viagens, mas pude notar logo depois que se tratava realmente da pele de um animal selvagem; do mesmo modo, o boné da pessoa adormecida me pareceu ser de feltro branco bastante delicado. O outro viajante, uma aparência simpática, parecia ter passado dos trinta anos e mostrava-se como figura insignificante que passa confortavelmente as noites em estradas de ferro.*

Nesse fragmento textual, para criar sinais de história realista e verdadeira, o narrador apela para a seguinte estratégia:

- (A) seleciona uma situação banal da qual não precisa fornecer muitos detalhes, exatamente por sua banalidade.
- (B) fornece algumas marcas caracterizadoras dos dois personagens presentes no texto, destacando sua banalidade.
- (C) indica traços descritivos do ambiente, mostrando-o como se nada houvesse nele de excepcional.
- (D) mostra detalhes variados e bastante pitorescos dos objetos descritos.
- (E) dá ao leitor informações sobre personagens e ambiente, mostrando-os como bastante conhecidos do narrador.

2

Assinale a frase que mostra a palavra *mais* numa classe gramatical **diferente** das demais.

- (A) O mercado está prisioneiro de mais um círculo vicioso: piora porque piorou e porque piorou, piora.
- (B) Os ingleses conquistaram o mundo porque não aguentavam mais a própria cozinha.
- (C) Quanto mais vejo o estrangeiro, mais amo a minha pátria.
- (D) Não é mais possível aprender tudo de cor. Um homem instruído não é mais o homem que sabe muitas coisas; é o homem que sabe onde buscar informações.
- (E) Muda-se mais facilmente de religião do que de café

3

As frases a seguir mostram termos ligados pela conjunção OU.

Assinale a frase em que essa conjunção mantém o valor de alternativa (e não de adição).

- (A) João ou Pedro deve ser eleito presidente da empresa.
- (B) A alegria ou a tristeza fazem parte da vida.
- (C) Inglês ou francês são idiomas falados pelos turistas
- (D) Os clientes leem livros ou revistas enquanto esperam.
- (E) Vasco ou Flamengo são times de longa tradição.

4

Um guitarrista americano produziu o seguinte pensamento:

*O crítico de rock é alguém que não sabe escrever, entrevistando gente que não sabe falar, para gente que não sabe ler.*

Sobre a estruturação ou a significação desse pequeno texto, assinale a afirmativa **incorreta**.

- (A) O termo “de rock” funciona como complemento nominal do termo anterior.
- (B) Todos os elementos da cadeia comunicativa citados no texto são marcados pela ignorância.
- (C) O pensamento acima revela um preconceito fortíssimo contra os amantes de rock.
- (D) A opinião expressa no texto pode advir da experiência pessoal do autor, já que se trata de um guitarrista.
- (E) A injustiça desse texto provém de ser uma opinião fundamentada em uma autoridade duvidosa.

5

John Steinbeck, prêmio Nobel, declarou o seguinte:

*O homem é o único animal que bebe sem ter sede, come sem ter fome e fala sem ter nada a dizer.*

Em relação ao significado e à estruturação desse pequeno texto, assinale a afirmativa **incorreta**.

- (A) A frase ficaria mais enfática se invertêssemos a posição do termo inicial: O único animal que bebe sem ter sede, come sem ter fome e fala sem ter nada a dizer é o homem.
- (B) A inversão de alguns segmentos do texto em nada modificaria o sentido da frase: O homem é o único animal que come sem ter fome, bebe sem ter sede e fala sem ter nada a dizer.
- (C) Os segmentos finais do texto mostram preocupação com rigoroso paralelismo sintático.
- (D) Segundo a opinião do autor do texto, a marca principal do homem é a irracionalidade.
- (E) Nem todas as ações citadas como marcas humanas estão presentes, por oposição, nos outros animais.

6

Assinale a frase que **não** expressa uma noção de tempo abstrato.

- (A) Nas asas do tempo, a tristeza voa.
- (B) Quem mata o tempo não é assassino, é suicida.
- (C) O tempo perdido não se encontra nunca mais.
- (D) O tempo é o melhor professor. Infelizmente, ele mata todos os seus estudantes
- (E) O tempo gasto na viagem foi de duas horas.

7

Assinale a frase em que a utilização do acento grave indicativo da crase é realizada de forma **errada**.

- (A) Jamais alguém se arrependeu de ter-se acostumado à madrugada e à ter-se casado jovem.
- (B) Tempo é o suspiro de adeus do sol à terra.
- (C) Saio todos os dias às cinco horas e não permito que o meu trabalho interfira no meu jogo de tênis.
- (D) O momento de extrair uma lição da história está sempre à mão para os sábios.
- (E) Quando assumi, quatro anos atrás, estávamos à beira do precipício.

8

Os adjetivos podem representar estados, qualidades, características e relações.

Assinale a frase que mostra um tipo de adjetivo **diferente** dos demais.

- (A) Nunca houve criança tão amável que a própria mãe não ficasse satisfeita ao conseguir adormecê-la.
- (B) Nada mais perversamente cruel que uma adorável criança.
- (C) Mesmo estando doentes, as crianças não ficam caladas.
- (D) Quando as crianças estão quietas é porque fizeram alguma coisa errada.
- (E) As tangerinas verdes não amadurecem fora do pé.

9

Assinale a frase em que o adjetivo sublinhado mostra uma função sintática **diferente** das demais.

- (A) Por fora bela viola, por dentro pão bolorento.
- (B) Tiradentes, heroico, tentou organizar uma revolução.
- (C) Um rosto bonito altera-se depressa.
- (D) Eu não podia acreditar que existem múmias tão lindas.
- (E) Um homem belo é um homem insignificante.

10

Assinale a opção que mostra uma impropriedade léxica, ou seja, um emprego **inadequado** da expressão “cerca de”.

- (A) Havia cerca de três dúzias de convidados no final da festa.
- (B) Chegaram cerca de 100 cartas no mesmo dia.
- (C) Cerca de 18 lojas fecharam as portas mais cedo.
- (D) Os cantores receberam cerca de uma centena de convites.
- (E) A plantação produziu cerca de uma tonelada de legumes.

11

Muitas palavras portuguesas mostram o prefixo A- sem qualquer valor semântico, sendo equivalentes ao mesmo vocábulo sem esse prefixo.

Assinale a palavra a seguir que exemplifica esse A protético.

- (A) amostrar
- (B) abraçar
- (C) atenuar
- (D) aguardar
- (E) aparar

12

Observe o seguinte texto:

*A felicidade depende da habilidade que tenhamos naquelas atividades que consideramos importantes: somente se lhes damos um real valor aos pequenos detalhes cotidianos, poderemos ter instantes felizes. A felicidade absoluta não existe, e já que só podemos acessar os pequenos detalhes daquilo que nos interessa, devemos contentar-nos com isso. Por isso, a infelicidade é um sinal claro de nossa incompetência na arte de viver.*

Sobre a estrutura e a significação desse texto, assinale a afirmativa **inadequada**.

- (A) O tema do texto gira em torno do que consiste a felicidade e o que viria a ser o seu oposto.
- (B) A afirmação de que “A felicidade absoluta não existe” é de cunho pessoal do autor do texto, representando uma opinião.
- (C) O raciocínio utilizado na estruturação argumentativa é do tipo dedutivo.
- (D) O conector “Por isso” mostra a preocupação com o caráter lógico da argumentação.
- (E) A tese do texto é a de que a infelicidade é fruto de nossa incompetência na arte de viver.

## Raciocínio Lógico Matemático

13

Certo programa de rádio tem 1 hora e 55 minutos de duração. A partir do momento em que o programa é iniciado, há blocos temáticos de 7 minutos intercalados por blocos de propagandas de 2 minutos.

Em todos os blocos de propaganda, ouve-se o comercial do restaurante R, que sempre dura 18 segundos.

Se o programa começa e termina com um bloco temático, então, o tempo total do programa dedicado ao anúncio do restaurante R é

- (A) 3 minutos e 54 segundos.
- (B) 3 minutos e 36 segundos.
- (C) 3 minutos e 18 segundos.
- (D) 3 minutos.
- (E) 2 minutos e 48 segundos.

14

A linha de produção de certa fábrica produz 1100 latas de sardinhas a cada hora. Certo dia, por um defeito de calibragem do sistema, entre 13h e 14h, o volume de produção foi reduzido em 30% durante exatos 12 minutos.

A quantidade de latas de sardinhas produzidas no intervalo supracitado foi

- (A) 946.
- (B) 964.
- (C) 1022.
- (D) 1034.
- (E) 1046.

15

Marcelo está parado de frente para uma das paredes de uma sala quadrada. Nesta posição, ele está a 1m e 20cm da parede que se encontra à sua direita e a 1m e 70cm da parede que está às suas costas.

Ele, então, se desloca paralelamente às paredes da sala sendo 40cm para a frente e 80cm para a direita. Nessa nova posição, ele passou a distar 1m e 90cm da parede que antes estava à sua esquerda.

Desprezando-se as dimensões de Marcelo, a sua atual distância à parede que, antes dos movimentos, estava à sua frente, é

- (A) 20cm.
- (B) 30cm.
- (C) 40cm.
- (D) 50cm.
- (E) 60cm.

16

Um dado é dito comum quando tem a forma de um cubo e suas 6 faces são numeradas de 1 a 6, de tal forma que a soma dos números estampados em faces opostas, quaisquer que sejam elas, sempre somam 7.

Quando um dado comum é lançado, diz-se que o resultado do lançamento é o número estampado na face voltada para cima.

Um dado foi lançado 3 vezes seguidas. Se o produto dos resultados obtidos nos lançamentos vale 75, a soma desses resultados é igual a

- (A) 12.
- (B) 13.
- (C) 14.
- (D) 15.
- (E) 16.

17

Em certo ano, o dia 1º de agosto cai em um domingo. Logo, o dia 1º de novembro cairá em

- (A) um sábado.
- (B) um domingo.
- (C) uma segunda-feira.
- (D) uma quarta-feira.
- (E) uma sexta-feira.

18

Considere a seguinte proposição condicional:

*Se todos os alunos da Escola Aristarco gostam de matemática, então, ao menos um deles ganha medalha na Olimpíada Nacional de Matemática.*

Se essa proposição é verdadeira, é correto afirmar que

- (A) se nenhum dos alunos da Escola Aristarco gosta de Matemática, então nenhum deles ganha medalha na Olimpíada Nacional de Matemática.
- (B) se todos os alunos da Escola Aristarco ganham medalha na Olimpíada Nacional de Matemática, então, todos esses alunos gostam de Matemática.
- (C) se algum aluno da Escola Aristarco ganha medalha na Olimpíada Nacional de Matemática, então todos esses alunos gostam de Matemática.
- (D) se nenhum aluno da Escola Aristarco ganha medalha na Olimpíada Nacional de Matemática, então nenhum desses alunos gosta de Matemática.
- (E) se nenhum aluno da Escola Aristarco ganha medalha na Olimpíada Nacional de Matemática, então algum desses alunos não gosta de Matemática.

19

Em uma caixa, há muitas canetas esferográficas. Classificadas conforme a cor, elas podem ser azuis, vermelhas ou pretas. Classificadas quanto à espessura da esfera, elas podem ser de ponta fina ou de ponta grossa.

Metade das canetas vermelhas tem a ponta grossa. A quantidade total de canetas pretas é igual à quantidade total de canetas vermelhas. Entre as canetas de ponta grossa, a quantidade de azuis é igual à de pretas. A quantidade de canetas azuis com ponta fina é o dobro da quantidade de canetas pretas de ponta grossa.

Se, nessa caixa, 18 são azuis e 20 têm ponta grossa, então a quantidade total de canetas na caixa é

- (A) 30.
- (B) 40.
- (C) 48.
- (D) 50.
- (E) 52.

20

Tucídides possuía uma dívida e, em vez de quitá-la, pagou apenas 20% do seu valor, deixando o restante para ser quitado em data futura, com acréscimo de 12% a título de juros sobre o saldo devedor.

No ato de quitação, Tucídides pagou R\$2.329,60. Logo, o valor original da dívida é o resultado da seguinte expressão:

(A)  $2.329,60 \times 0,88 - 20$

(B)  $\frac{2.329,60}{0,88} \times 1,20$

(C)  $\frac{2.329,60}{1,12} \times 1,20$

(D)  $\frac{2.329,60}{1,12 \times 1,20}$

(E)  $\frac{2.329,60}{1,12 \times 0,8}$

21

As filhas de Nepomuceno têm 5 e 9 anos de idade. Ele dividirá R\$420,00 entre elas de forma inversamente proporcional às suas idades.

Logo

- (A) a mais nova receberá R\$120,00 a mais que a mais velha.
- (B) a mais nova receberá R\$150,00 a mais que a mais velha.
- (C) a mais nova receberá R\$270,00 a mais que a mais velha.
- (D) a mais velha receberá R\$120,00 a mais que a mais nova.
- (E) a mais velha receberá R\$150,00 a mais que a mais nova.

22

A negação da proposição:

$$\text{Se } y \neq 0, \text{ então } x > 2 \text{ e } x \leq 5$$

é dada por

- (A) Se  $y = 0$ , então  $x > 2$  e  $x \leq 5$
- (B) Se  $y = 0$ , então  $x < 2$  ou  $x \geq 5$
- (C)  $y = 0$  e  $x \leq 2$  ou  $x > 5$
- (D)  $y \neq 0$  e  $x \leq 2$  ou  $x > 5$
- (E)  $y \neq 0$  e  $x \leq 2$  e  $x > 5$



## Atualidades

23

De acordo com o censo demográfico de 2022 (IBGE), mais da metade da população brasileira (51,13%) é feminina, e elas representam, segundo o Tribunal Superior Eleitoral, 53% do eleitorado. No entanto, elas ocupam, hoje, menos de 15% dos cargos eletivos.

A respeito da baixa participação das mulheres na política, assinale a afirmativa que apresenta um dispositivo existente na legislação brasileira para alterar esse cenário.

- (A) Reserva de pelo menos 50% dos recursos do Fundo Especial de Financiamento de Campanha, o Fundo Eleitoral, para financiar candidaturas femininas.
- (B) Suspensão dos direitos eleitorais aos partidos em caso de não observância do percentual de pelo menos 30% de candidatas mulheres em cada ciclo eleitoral
- (C) Reserva de assentos, em ambas as casas legislativas, para mulheres, com preferência para as representantes de povos originários.
- (D) Cota de gênero, que obriga cada partido ou coligação a preencher o mínimo de 30% e o máximo de 70% de candidaturas de cada sexo.
- (E) Repasse de até 30% dos recursos dos Fundos Partidário para custear o tempo da propaganda eleitoral gratuita de candidatas em rádio e televisão.

24

A França se tornou o primeiro país do mundo a incluir na Constituição a liberdade de a mulher abortar. A mudança na Carta Magna foi aprovada em uma sessão conjunta das duas Casas legislativas, a Assembleia Nacional e o Senado, e será promulgada pelo presidente Emmanuel Macron ainda em março de 2024.

Adaptado de <https://www1.folha.uol.com.br/mundo/2024/03/>

Diferentemente da França, a legislação brasileira

- (A) equipara o aborto ao infanticídio.
- (B) considera o aborto uma prática ilegal em todas as situações.
- (C) descriminaliza a interrupção da gravidez em caso de deficiência da gestante.
- (D) estabelece um limite temporal para interromper a gravidez, desde que respaldada por laudo médico.
- (E) autoriza a interrupção de gestação em caso de não haver outro meio de salvar a vida da gestante.

25

Desde os anos 2000, o interior do Brasil ultrapassou o litoral na incidência de dengue. A região costeira que vai de Santos, em São Paulo, até Belém, no Pará, apresentava tipicamente maior proporção de casos de dengue em comparação com sua população. Entretanto, recentemente, o oeste do Paraná, o oeste de Santa Catarina o oeste de São Paulo, o interior de Minas Gerais, uma parte do Tocantins, o Goiás e o Mato Grosso do Sul viram a transmissão da doença aumentar e muitas de suas cidades foram obrigadas a decretar emergência.

Adaptado de <https://www.estadao.com.br>

A respeito dos fatores relacionados ao aumento e à interiorização dos casos de dengue no Brasil, analise as afirmativas a seguir.

- I. A maior frequência de períodos com temperaturas acima da média, inclusive com ondas de calor no período invernal em todo território, tem reforçado o padrão sazonal da doença.
- II. A expansão urbana desvinculada de melhoras nos serviços sanitários tem propiciado a formação de ilhas de calor e, portanto, uma alta na incidência da dengue.
- III. O desmatamento do cerrado, convertido em pasto, por exemplo, tem contribuído para aumentar a temperatura média e o número de casos da doença no interior do Brasil.

Está correto o que se afirma em

- (A) I, apenas.
- (B) I e II, apenas.
- (C) I e III, apenas.
- (D) II e III, apenas.
- (E) I, II e III.

26

As afirmativas a seguir descrevem corretamente o desempenho da economia brasileira em 2023, à exceção de uma. Assinale-a.

- (A) A expansão econômica ampliou a geração de empregos informais, em um contexto recessivo e de flexibilização das leis trabalhistas.
- (B) O dinamismo da economia foi marcado pelo aumento de exportações, no setor agrícola, e da demanda, no setor de serviços, em função da alta no consumo das famílias.
- (C) A alta progressiva nas cotações internacionais de commodities acelerou o ritmo das exportações, mesmo em um cenário cambial desfavorável para os exportadores.
- (D) A retração do Brasil no mercado regional e internacional ocorreu em função da maior competitividade dos produtos agrícolas argentinos e pela retomada da economia chinesa.
- (E) A persistência do alto nível da inflação foi ocasionada pela alta da cesta básica, sobretudo dos alimentos, cujas safras foram afetadas pelas condições climáticas adversas.

27

Em 2024, o Tribunal Superior Eleitoral (TSE) aprovou uma resolução para regulamentar o uso da inteligência artificial (IA) durante as eleições municipais a serem realizadas em outubro. A norma proíbe manipulações de conteúdo falso para criar ou substituir imagem ou voz de candidato com objetivo de prejudicar ou favorecer candidaturas. Também foi aprovada a restrição do uso de chatbots humanizados e avatares para intermediar a comunicação das campanhas com pessoas reais nas redes sociais.

Adaptado de <https://agenciabrasil.ebc.com.br>

A resolução sobre IA objetiva

- (A) coibir a produção e circulação de *deepfakes*.
- (B) restringir o uso de ferramentas de IA simbólica.
- (C) retomar a veiculação de propagandas eleitorais em mídias tradicionais, como rádio e televisão.
- (D) proibir o uso de ferramentas de coleta e seleção em bases de dados com fins eleitorais.
- (E) limitar o uso de assistente virtual programado por AI para divulgação do programa partidário.

28

Assinale a afirmativa que descreve corretamente um aspecto do panorama global da economia em 2023.

- (A) Nos Estados Unidos, a economia foi alavancada pela adoção de uma política de ampliação do crédito e baixa da taxa de juros.
- (B) Na China, o PIB cresceu acima do esperado, em um cenário marcado pela retomada econômica pós pandemia, inclusive no setor imobiliário.
- (C) Na Zona do Euro, a alta dos preços da energia pesou nas despesas familiares e no setor industrial, confirmando a manutenção de um quadro de crise.
- (D) Na Rússia, o PIB decresceu, em função do impacto prolongado da guerra com a Ucrânia e dos embargos à venda de petróleo e gás russos.
- (E) Na América do Sul, foi mantido um caminho geral de crescimento, apoiado por investimentos externos e pela intensificação de políticas estatistas.

29

Um supercomputador consiste em milhares de pequenos computadores chamados nós. Cada nó é equipado com sua própria memória e com vários processadores. Atuando em conjunto, eles são capazes de realizar cálculos extremamente complexos em elevada velocidade. Hoje, o maior supercomputador da América Latina é o Pégaso, da Petrobras, com 678 TB de memória RAM e mais de 233 mil núcleos.

Adaptado de <https://revistapesquisa.fapesp.br>

A respeito do poder computacional de alto desempenho dos supercomputadores, analise as afirmativas a seguir e assinale (V) para a verdadeira e (F) para a falsa.

- ( ) Essas máquinas são instrumentos valiosos de pesquisa e de suporte a setores da economia como defesa, energia e saúde, permitindo a resolução de problemas complexos em menor tempo.
- ( ) Esses equipamentos permitem realizar tarefas que exigem altíssimos níveis de processamento, como simulações da formação do universo ou modelagem molecular para novos fármacos.
- ( ) Esses aparelhos trabalham em alta velocidade de processamento pelo somatório de diversos núcleos, o que potencializa a velocidades do processador, medidas em gigahertz (GHz).

As afirmativas são, respectivamente,

- (A) V – V – F.
- (B) V – F – V.
- (C) F – V – F.
- (D) F – V – V.
- (E) V – V – V.

30

No início do ano corrente, a Petrobras anunciou ter alcançado em 2023 o segundo maior valor de lucro líquido de sua história. Mesmo assim, suas ações caíram no mercado financeiro, em função da disputa sobre os dividendos.

A respeito dos resultados financeiros da Petrobras nos últimos anos e da política de distribuição de dividendos da empresa, assinale a afirmativa correta.

- (A) A Petrobras é uma empresa estatal de economia mista que monopoliza a indústria petroleira no Brasil.
- (B) A Petrobras é uma estatal administrada diretamente por órgãos governamentais que controlam o valor das suas ações.
- (C) A Petrobras direciona parte dos dividendos para investidores privados, e outra parte para o governo federal, que controla a empresa via Tesouro e BNDES.
- (D) A Petrobras, sob o Governo Bolsonaro, reduziu o pagamento de dividendos a acionistas privados para reinvesti-los em energia renovável.
- (E) A Petrobras, no atual governo, vendeu ativos e distribuiu o lucro e os valores recordes de dividendos entre seus acionistas para financiar projetos do BNDES.

31

Dados da última década mostram que, em relação aos Estados, o Pará é o que apresenta o maior número de registros de resgates de trabalho análogo à escravidão, com 9.853, seguido por Mato Grosso (4.302); Tocantins (2.896); São Paulo (1.529) e Rio de Janeiro (1.653), em 2017.

Adaptado de <https://www.jota.info/justica/em-14-anos-434-mil-foram-resgatados-de-trabalho-escravo-30102017>

A respeito da definição moderna de escravidão, analise as afirmativas a seguir.

- I. Em Tocantins, a maior incidência de escravidão moderna ocorre na zona rural, associada a atividades agropecuárias e ao extrativismo mineral, como nas carvoarias, por exemplo.
- II. A Organização Internacional do Trabalho determina a condição de escravidão por uma série de componentes, como o trabalho forçado análogo ao de escravo e o casamento forçado.
- III. Pessoas obrigadas a trabalhar por dívida ou por ameaça, sem direitos trabalhistas garantidos estão em situação de escravidão, uma vez que lhes é impedida a liberdade de ir e vir.

Está correto o que se afirma em

- (A) I, apenas.
- (B) I e II, apenas.
- (C) I e III, apenas.
- (D) II e III, apenas.
- (E) I, II e III.

32

Energia gerada por recursos naturais renováveis que, no Brasil, provém da lenha, carvão vegetal, carvão mineral, bagaço de cana e outros resíduos combustíveis. Essa energia é a matéria orgânica vegetal ou animal usada como fonte de energia limpa e sustentável.

O trecho descreve o seguinte componente importante do desenvolvimento sustentável:

- (A) compostagem.
- (B) biodiversidade.
- (C) créditos de carbono.
- (D) ciclo de vida.
- (E) biomassa.

## História e Geografia do Estado de Tocantins

33

Leia a descrição de uma classe de vegetação presente no estado do Tocantins, a seguir.

*Esta vegetação, também conhecida como floresta pluvial tropical, é caracterizada por árvores de porte elevado, além de trepadeiras lenhosas e epífitas (bromélias e orquídeas, por exemplo) em abundância, o que a diferencia de outras classes de formação vegetal. Sua característica ecológica principal é estar presente em ambientes de chuvas abundantes, como na parte noroeste do Estado, onde as temperaturas médias são de 25°C e os elevados índices de precipitação estão bem distribuídos ao longo do ano.*

Adaptado de Luís Antônio G. C. Silva. *Biomias presentes no Estado do Tocantins*. Brasília: Câmara dos Deputados, 2007, p. 4.

O trecho caracteriza a região conhecida como Floresta

- (A) Estacional Semidecidual.
- (B) Tropical Subcaducifólia.
- (C) de Mata Atlântica.
- (D) Ombrófila Densa.
- (E) Temperada Decidual.

34

Comparando dados dos censos do IBGE, pode-se elaborar um retrato da evolução demográfica da população residente no Estado de Tocantins. O grupo na faixa etária de 0 a 14 representava 41,7% da população em 1991, 28,8% em 2010, e passou para 24% em 2022. A população acima de 65 anos era de 3,8% em 1991 e 5,8% em 2010, e ficou em 8,6% em 2022. O censo de 2022 mostrou ainda que a faixa etária de 15 a 29 anos representa 15% da população e que 41% da população é composta por pessoas de 30 a 59 anos.

Com base no trecho, assinale a opção que apresenta a dinâmica populacional do Tocantins entre 1991 e 2022.

- (A) Expansão da base da pirâmide etária.
- (B) Diminuição da taxa de fecundidade.
- (C) Estreitamento do topo da pirâmide.
- (D) Aumento da idade mediana.
- (E) Redução do índice de envelhecimento.

35

*Foram inegáveis os desdobramentos socioeconômicos sobre o antigo Norte Goiano fruto da construção da rodovia BR-153, a partir do final da década de 1950. O novo urbanismo da Belém-Brasília trouxe enorme impacto no que se refere ao conjunto de cidades que existiam às margens do rio Tocantins, aos fluxos migratórios e às atividades econômicas da região.*

Adaptado de AQUINO, N. *Tocantins: cidades e urbanismo em três modelos históricos*. In: III Encontro da ANPPAS. Brasília, 2006, p. 8.

As afirmativas a seguir descrevem corretamente impactos da rodovia BR-153 no processo de territorialização do Tocantins, **à exceção de uma**. Assinale-a.

- (A) A rodovia foi construída no governo Kubitscheck, em um contexto desenvolvimentista que considerava a expansão rodoviária como um meio para integrar econômica e territorialmente as regiões do país, inclusive o norte goiano que, então, vivia uma situação de abandono.
- (B) A rodovia Belém-Brasília teve grande importância para a urbanização do atual Tocantins, o que é exemplificado pela quantidade de novas cidades criadas após a sua construção, como Araguaína, Gurupi, Paraíso do Tocantins, Colinas do Tocantins e Guaraí.
- (C) A construção da BR-153 alavancou também os municípios ribeirinhos, pois a navegação fluvial foi intensificada para abastecer as obras em curso, o que transformou esses municípios em satélites econômicos da nova malha urbana instalada ao longo da rodovia.
- (D) Após a abertura da rodovia, as principais áreas que receberam fluxos migratórios foram a Microrregião de Gurupi – Gurupi e a Microrregião de Porto Nacional – Palmas, para onde se dirigiram pessoas interessadas em trabalhar na construção civil, nos serviços e no comércio, entre outros.
- (E) A BR-153 permitiu interligar o norte de Goiás, atual Estado do Tocantins, a outras localidades do país, facilitando o escoamento da produção e o acesso a produtos para a região, promovendo o fluxo de mercadorias e serviços.

36

O Memorial Coluna Prestes (2001) é uma obra do arquiteto Oscar Niemeyer localizada na Praça dos Girassóis, no centro de Palmas (TO).



Fonte: <https://central.to.gov.br/image/146145?f=1>

A respeito da relação entre essa obra e a constituição de uma memória histórica para o Estado do Tocantins, analise as afirmativas a seguir.

- I. O monumento refere-se à Coluna Prestes, que percorreu o Brasil para divulgar seu programa revolucionário entre 1924 e 1927, tendo passado pelo Norte do então Estado de Goiás (atual Tocantins) durante seu percurso.
- II. A obra foi realizada em concreto e apresenta curvas sinuosas, características próprias do Barroco das cidades mineradoras, estabelecendo visualmente uma continuidade entre o Barroco do passado das cidades mineradoras e o presente do Tocantins.
- III. A construção do memorial permite inserir simbolicamente a história do Tocantins nos grandes processos da história republicana nacional, e homenagear o Tenente Antônio de Siqueira Campos, cujo sobrenome é homônimo ao do ex-governador do Estado.

Está correto o que se afirma em

- (A) I, apenas.
- (B) I e II, apenas.
- (C) I e III, apenas.
- (D) II e III, apenas.
- (E) I, II e III.

37

Até 1988, o território que hoje corresponde ao Estado do Tocantins pertencia ao antigo norte de Goiás e à Região Centro-Oeste, tendo como capital política a cidade de Goiânia. Com a emancipação política, da noite para o dia, as pessoas amanheceram tocantinenses, mas sem referências culturais que as representassem como tais.

A respeito da projeção simbólica do novo Estado e de sua nova capital, assinale a opção que interpreta corretamente o processo de construção e atribuição de uma identidade ao Tocantins.

- (A) Desde o primeiro mandato do governador Siqueira Campos, os símbolos oficiais do Tocantins continuaram sendo o brasão de armas, a bandeira, o selo estadual e a canção "Hino ao Tocantins", de Liberato Costa Póvoa e Abiezer Alves da Rocha.
- (B) O girassol foi reconhecido oficialmente como símbolo da natureza do Estado, por ser uma planta nativa dos cerrados tocantinenses e estar associada à prosperidade e à esperança.
- (C) A Praça dos Girassóis, centro cívico de Palmas, foi concebida para receber edifícios esteticamente associados à cultura do Tocantins, como o Palácio do Araguaia, cujos pórticos remetem ao capim dourado, símbolo da tradição do artesanato de alta qualidade da região.
- (D) A monumentalidade da Praça dos Girassóis é enfatizada pelo seu pavimento, que contém figuras simbólicas como o mapa do Tocantins, a rosa dos ventos, o brasão de armas e a Praça Krahô.
- (E) O meio ambiente também foi utilizado para fortalecer o sentimento identitário, inserindo o girassol, a fava-de-bolota, a arara-canindé e a granada como símbolos da natureza do Tocantins, desde a promulgação da Constituição Estadual em 1989.

38

A respeito da matriz energética do Estado e dos investimentos em biocombustíveis, analise as afirmativas a seguir e assinale (V) para a verdadeira e (F) para a falsa.

- ( ) O Estado tem condições de clima e solo desfavoráveis para o plantio de matérias-primas usadas na fabricação de biocombustíveis, mas a expansão do modal logístico (Ferrovia Norte-Sul) permitirá o acesso à soja do planalto goiano.
- ( ) O Tocantins conta com duas usinas de biodiesel em funcionamento, utilizando o pinhão-manso, a soja, a mamona e outras oleaginosas como matéria-prima.
- ( ) O Estado tem alto potencial de geração de energia solar, pela elevada irradiação solar e pelas políticas públicas voltadas para produção de energia limpa e renovável, como a Política Estadual de Incentivo à Geração e ao Uso da Energia Solar (Pró-Solar)

As afirmativas são, respectivamente,

- (A) V – F – V.
- (B) F – V – V.
- (C) F – F – V.
- (D) V – V – F.
- (E) V – V – V.

39

*As belas paisagens como serras, cachoeiras, praias e até mesmo dunas, fazem do Tocantins um paraíso de paisagens naturais, atraindo turistas de várias regiões para conhecer o mais novo Estado brasileiro. A potencialidade para o ecoturismo e a preocupação em conservar a biodiversidade e recursos naturais nele contidos fez com que o Governo do Estado, criasse e implementasse as Unidades de Conservação Ambiental (UC).*

Adaptado de <https://www.to.gov.br/secom/>

A respeito das Unidades de Conservação (UC) do Tocantins, assinale a afirmativa correta.

- (A) São espaços territoriais legalmente instituídos pelo poder público e podem ser de proteção integral federal, como no caso dos Parques Cantão, Jalapão e Lajeado.
- (B) As UCs federais estão subordinadas ao Instituto Chico Mendes de Conservação da Biodiversidade (ICMBio), como no caso do Monumento Natural das Árvores Fossilizadas.
- (C) As UCs estaduais estão subordinadas ao Instituto Natureza do Tocantins (Naturatins), que supervisiona o Parque do Araguaia e o das Nascentes do rio Parnaíba.
- (D) As UCs de uso sustentável são compostas exclusivamente por áreas públicas, sendo permitida sua utilização apenas para o ecoturismo, pesquisa e educação ambiental.
- (E) As UCs municipais estão subordinadas às secretarias de meio ambiente, como no caso do Monumento Natural dos Cânions e Corredeiras do Rio Sono e do Parque Ecológico Roberto Guedes Pereira.

40

O Estado do Tocantins possui diversas comunidades quilombolas certificadas e outras com processo formalizado para regularização fundiária de seus territórios. A definição de comunidade quilombola é dada pelo Art. 2º do Decreto nº 4.887/2003:

*Consideram-se remanescentes das comunidades dos quilombos, para os fins deste Decreto, os grupos étnico-raciais, segundo critérios de auto-atribuição, com trajetória histórica própria, dotados de relações territoriais específicas, com presunção de ancestralidade negra relacionada com a resistência à opressão histórica sofrida.*

A respeito dos órgãos e processos envolvidos na identificação e regularização de territórios quilombolas no Estado do Tocantins, assinale a afirmativa correta.

- (A) O acesso dessas comunidades às políticas públicas de educação, saúde, moradia e regularização fundiária depende de o Estado emitir uma certidão de identificação de comunidade quilombola, mediante Fundação Palmares.
- (B) Os critérios para reconhecimento de um grupo enquanto remanescente de quilombo depende da comprovação de sua ancestralidade, seu parentesco e da preservação viva de religiosidades autenticamente africanas.
- (C) A Coordenação Nacional de Articulação de Comunidades Negras Rurais Quilombolas (CONAQ) luta pela incorporação constitucional do direito à autodefinição dos remanescentes de quilombos.
- (D) A certificação quilombola é realizada pela Fundação Cultural Palmares, que avalia com visitas técnicas a autenticidade do legado quilombola pretendido e, caso o aprove, emite a certidão de comunidade quilombola e a inscreve em um cadastro geral.
- (E) O acesso às terras ocupadas pelos remanescentes das comunidades dos quilombos é garantido por sua delimitação e titulação, a cargo da autoridade municipal em que a mesma se localiza.

## CONHECIMENTOS ESPECÍFICOS

41

Ivy Lee marcou o surgimento das Relações Públicas com a criação de uma declaração de princípios, em forma de carta aos editores.

Sobre esse documento, avalie as afirmativas a seguir.

- I. No documento, havia a promessa que o serviço de imprensa seria feito às claras e basear-se-ia na divulgação de notícias combinada ao agenciamento de anúncios e matérias pagas conforme a necessidade dos veículos.
- II. A declaração de princípios reafirmava o compromisso de fornecer notícias de interesse exclusivo de seus clientes estando à disposição dos jornalistas, sempre que solicitado, para o estabelecimento de contrapartidas pela publicação.
- III. O plano expresso no documento era divulgar, prontamente, para o bem das empresas e das instituições públicas, com franqueza, à imprensa e ao público, informações relativas a assuntos de valor e de interesse para o público.

Está correto o que se afirma em

- (A) I, apenas.
- (B) II, apenas.
- (C) III, apenas.
- (D) I e III, apenas.
- (E) I, II e III.

42

O planejamento de Relações Públicas envolve quatro fases distintas: *pesquisa, planejamento, implantação e avaliação*.

Assinale a opção que indica atividades inerentes à fase de implantação.

- (A) Controle, monitoramento e correção de desvios.
- (B) Mapeamento e identificação dos públicos.
- (C) Construção de diagnósticos.
- (D) Elaboração de planos alternativos e emergenciais.
- (E) Determinação dos recursos necessários e seleção dos meios de comunicação.

43

Sobre as características da Comunicação de Massa, leia o texto a seguir.

*A característica mais evidente das mídias de massa é que visam a atingir a muitos. Os públicos potenciais são vistos como grandes agregados de consumidores mais*

*ou menos \_\_\_\_\_, e a relação entre emissor e receptor é afetada de acordo com isso. Muitas vezes, o “emissor” é a própria organização ou um comunicador profissional a quem ela emprega. (...) A relação é inevitavelmente \_\_\_\_\_, unilateral e impessoal, e há uma distância social, bem como física, entre emissor e receptor. O primeiro geralmente tem mais autoridade, prestígio ou experiência do que o segundo. A relação não só é \_\_\_\_\_, mas muitas vezes é calculista ou manipulativa em sua intenção. É essencialmente amoral, com base em um serviço prometido ou solicitado, em alguns contratos não escritos, sem qualquer obrigação mútua.*

*A mensagem ou o conteúdo simbólico da comunicação de massa geralmente são “fabricados” de forma \_\_\_\_\_ e reutilizados e repetidos em formas \_\_\_\_\_.*

(McQuail, Denis. 2013, p. 58, adaptado)

Assinale a opção que completa corretamente as lacunas do texto.

- (A) anônimos – unidirecional – assimétrica – padronizada – idênticas.
- (B) amorfos – recíproca – educativa – individualizada – customizadas.
- (C) exigentes – equilibrada – didática – customizada – inovadoras.
- (D) diferenciados – multidirecional – construtiva – industrial, semelhantes.
- (E) conscientes – coercitiva – impositiva – manual – sustentáveis.

44

Quanto mais negativa e persistente for a cobertura de campanhas eleitorais e políticos enfatizando a insinceridade, corrupção, truques sujos, ambição pessoal e ignorando a substância e a intenção honesta, menor a confiança e o desejo do público em participar no processo democrático.

Esse processo hipotético, apresentado com um desdobramento da Hipótese da Espiral do Silêncio, é conhecido como

- (A) Espiral de Fibonacci.
- (B) Teoria do Enquadramento.
- (C) Espiral do Cinismo.
- (D) Espiral de Capella.
- (E) Teoria do *Newsmaking*.

45

Sobre as redes formal e informal de comunicação nas organizações, leia o texto a seguir.

*O sistema formal de comunicação de toda organização – o conjunto de canais e meios de comunicação estabelecidos de forma \_\_\_\_\_ e deliberada – é suplementado, no decorrer de pouco tempo, por uma rede informal de comunicação, \_\_\_\_\_ importante, que se baseia nas relações sociais \_\_\_\_\_, e é uma forma mais \_\_\_\_\_ de atender as demandas mais urgentes e instáveis. Por mais detalhado que seja um sistema de comunicação formal estabelecido na organização, ele terá que ser suplementado por canais informais, por onde fluirão informações, aconselhamentos e até ordens. Por ser mais \_\_\_\_\_ e ágil, a comunicação informal pode vir até a modificar a estrutura formal.*

(KUNSCH, M., 2002, adaptado)

Assinale a opção que completa corretamente as lacunas do texto.

- (A) artificial – pouco – extra-organizacionais – arriscada – estratégica.  
 (B) consciente – igualmente – intra-organizacionais – rápida – tática.  
 (C) inconsciente – menos – analógicas – efetiva – operacional.  
 (D) hierárquica – mais – familiares – segura – impositiva.  
 (E) autocrática – muito – digitais – lenta – documentada.

46

Rocha e Goldschmidt (2010) classificam as ferramentas de comunicação interna em três grupos: informacionais, relacionais e híbridas.

Sobre as informacionais, é correto afirmar que

- (A) tendem a ser de mão única, disponibilizando informações importantes, por exemplo, operacionais ou estratégicas.  
 (B) se caracterizam por incentivar e viabilizar o feedback em cada uma das ações de comunicação.  
 (C) tendem a abrir espaço ao diálogo e à troca de informação com o público interno.  
 (D) atendem simultaneamente às demandas do público externo e dos funcionários da organização.  
 (E) além de trazer informações, buscam estimular novas formas de relacionamento com os funcionários.

47

Criado pelo professor Cláudio Cardoso, o modelo *AltaMetrics* pretende ser um *framework* de apoio à formulação de modelos para mensurar a comunicação. O modelo concentra a análise do desempenho sobre quatro elementos orientados a avaliação das ações propriamente ditas: Ações, ou Entregas (*outputs*), Reações (*out-takes*), Resultados (*outcomes*) e Impactos (*impacts*). A ferramenta, segundo seu criador, mesmo sem ter caráter operacional, se presta, de forma bem delimitada, a organizar as dimensões e facilitar a identificação dos conjuntos de indicadores que irão avaliar as ações da comunicação.

Nesse contexto, poderia(m) ser considerado(s) resultado(s)

- (A) organização de eventos.  
 (B) ganhos de *market share*.  
 (C) conteúdos co-produzidos com a imprensa.  
 (D) anúncios publicados.  
 (E) uso de patrocínios.

48

Segundo Cecato, durante muito tempo a área de comunicação foi vista apenas como um custo a mais para as empresas, cenário hoje modificado devido a diversos fatores, à exceção de um. Assinale-o.

- (A) Apresentação de relatórios focados unicamente na demonstração de excelente exposição e centimetragem na mídia corporativa.  
 (B) Desenvolvimento dos sistemas de mensuração de resultados das ações de comunicação.  
 (C) Profissionalização da comunicação e globalização dos negócios.  
 (D) A clara demonstração de como o trabalho de comunicação impacta os planos de desenvolvimento e de sustentabilidade da empresa.  
 (E) Desenvolvimento de métodos cada vez mais científicos e aceitos no mercado para mensuração e clara apresentação de resultado das ações de comunicação.

49

Sobre como lidar com a ordem de precedência em um evento, analise as afirmativas a seguir.

- I. Quanto a ordem dos discursos, o primeiro a discursar deve ser a autoridade de menor hierarquia, enquanto a pessoa de maior hierarquia será a última a falar.  
 II. O critério de antiguidade histórica é usado para estabelecer a precedência entre os ministros, sendo os três primeiros o da Justiça, da Defesa e das Relações Exteriores.  
 III. A chamada das autoridades para compor uma mesa começa com os que vão se sentar nas pontas, sendo que a esquerda precede a direita até chegar ao anfitrião que ficará ao centro.

Está correto o que se afirma em

- (A) I, apenas.  
 (B) II, apenas.  
 (C) III, apenas.  
 (D) I e II, apenas.  
 (E) I, II e III.

50

Ao organizar um evento, o critério de antiguidade histórica é usado para determinar a precedência de pessoas jurídicas e dos representantes das unidades administrativas.

Quando vários governadores se reúnem, a correta ordem de precedência entre os estados é

- (A) São Paulo, Bahia e Rio Grande do Sul.  
 (B) Bahia, Rio de Janeiro e Pernambuco.  
 (C) Rio de Janeiro, Bahia e São Paulo.  
 (D) Bahia, Rio de Janeiro e Maranhão.  
 (E) Rio de Janeiro, Pernambuco e Bahia.

51

Relacione as fase da organização de um evento listadas a seguir às respectivas atividades.

1. Concepção
  2. Pré-evento
  3. Transevento
  4. Pós-evento
- ( ) Recepcionar os convidados, efetuar inscrições de última hora, distribuir crachás, atender os repórteres encarregados da cobertura do evento.
- ( ) Identificação dos objetivos do evento e coleta de informações sobre participantes e patrocinadores em potencial.
- ( ) Contratação dos serviços de decoração, tradução simultânea, segurança, montagem de instalações, transporte e hospedagem dos convidados.
- ( ) Fazer a análise do clipping e da pesquisa de satisfação e apresentar balanço financeiro e prestação de contas.

Assinale a opção que indica a relação correta, na ordem apresentada.

- (A) 4 – 2 – 1 – 3.  
 (B) 2 – 1 – 3 – 4.  
 (C) 1 – 3 – 2 – 4.  
 (D) 3 – 4 – 1 – 2.  
 (E) 3 – 1 – 2 – 4.

52

Relacione as tipologias de eventos listadas a seguir às respectivas funções e características.

1. Concílio
  2. Congresso
  3. Conclave
  4. Convenção
  5. Conferência
- ( ) Reunião de prelados católicos, na qual são tratados assuntos dogmáticos, doutrinários ou disciplinares.
- ( ) A reunião dos cardeais em rigorosa clausura para eleição de um novo papa.
- ( ) Evento formal marcado pela apresentação de um tema, por exemplo, técnico ou científico por autoridade nesse assunto para muitas pessoas.
- ( ) Evento que pode ter âmbito internacional, nacional, regional, estadual ou municipal, promovido por entidade associativa, para debater assuntos de interesse de determinado ramo profissional.
- ( ) Evento que pode ser promovido por empresas, setores industriais ou partidos políticos. Podem ainda reunir vendedores, revendedores, distribuidores, representantes para o lançamento de um novo produto.

Assinale a opção que apresenta a relação, na ordem apresentada.

- (A) 4 – 2 – 3 – 1 – 5.  
 (B) 1 – 3 – 5 – 2 – 4.  
 (C) 3 – 1 – 5 – 4 – 2.  
 (D) 1 – 3 – 4 – 5 – 2.  
 (E) 3 – 1 – 2 – 4 – 5.

53

Em 2018, a *Starbucks* passou por uma situação de crise de imagem, conforme relatado a seguir:

*Em abril de 2018, dois homens negros foram presos em uma cafeteria da Starbucks na Filadélfia, Estados Unidos. Eles aguardavam um amigo e pediram para usar o banheiro, o pedido foi recusado porque eles não estavam consumindo no local. O gerente pediu que eles deixassem o estabelecimento, e, quando estes se recusaram, chamou a polícia. Eles foram algemados e levados para a delegacia, onde ficaram detidos por oito horas. O caso de racismo teve grande repercussão internacional.*

(Jornal *O Globo*, 03/05/2018, adaptado)

Nessa situação, os principais manuais de gerenciamento de crise de comunicação, indicariam

- (A) que a melhor maneira de lidar com uma crise seria ignorá-la, evitando o contato com a imprensa e esperar que ela desaparecesse por si só.
- (B) limitar a comunicação à alta administração da empresa, que se encarregaria demitir o gerente e justificar a prisão por atos de violência cometidos contra o patrimônio da cafeteria.
- (C) Que, como as crises são geralmente imprevisíveis, não há como se preparar, logo apenas o CEO da empresa poderia estabelecer as estratégias de gerenciamento caso a caso.
- (D) a transparência e a comunicação proativa com todos os públicos envolvidos seriam essenciais para minimizar os impactos negativos da crise sobre a imagem da empresa.
- (E) que a empresa deve evitar assumir a responsabilidade para minimizar os danos à sua reputação e deve desviar a atenção da mídia através de promoções de seus produtos *premium*.

54

As mídias digitais trouxeram novas características para o profissional de Relações Públicas, que precisa lidar com os diferentes públicos de uma organização e em diferentes situações.

Se ele for o responsável pela elaboração de conteúdo para as mídias sociais de uma empresa, ele deve

- (A) produzir sempre o mesmo conteúdo, independentemente das mudanças nos contextos mercadológico e institucional impactados pelas ações da concorrência.
- (B) fazer avaliações semestrais dos conteúdos produzidos, pois avaliações mais frequentes são prejudiciais às estratégias de construção de imagem e reputação da empresa.
- (C) considerar que a maioria dos *stakeholders* tem uma atitude passiva nas redes sociais, portanto, a interatividade não é relevante na criação do conteúdo digital que é interativo.
- (D) criar fatos noticiáveis desvinculados da estratégia integrada de comunicação da empresa com a função primordial de aumentar sua visibilidade nas redes.
- (E) compreender as necessidades do seu público, que é interativo, e ter claro o que se quer alcançar com cada conteúdo produzido.



55

Sobre o impacto das novas tecnologias no consumo de produtos midiáticos, analise as afirmativas a seguir.

- I. Os processos e produtos de comunicação são impactados por pessoas que antes eram apenas consumidores e cada vez mais as demandas da audiência são levadas em conta pelos produtores convencionais.
- II. O uso midiático do novo consumidor de informação, composto pelo público jovem, pressupõe uma conexão e desconexão lentas e o desejo de receber conteúdos com formato idêntico aos encontrados nos meios tradicionais.
- III. Os serviços de *streaming* estão perdendo espaço para os canais de TV a cabo, assim como o formato de *webrádio* mantém sua liderança em relação ao consumo de *podcasts*.

Está correto o que se afirma em

- (A) I, apenas.
- (B) II, apenas.
- (C) III, apenas.
- (D) I e II, apenas.
- (E) I, II e III.

56

O Código de Ética dos Profissionais de Relações Públicas **proibe** que o profissional de Relações Públicas

- (A) atenda cliente que esteja sendo assistido por outro colega, mesmo que o colega assim o solicite.
- (B) desvie para atendimento particular próprio, com finalidade lucrativa, clientes que tenha atendido em virtude de sua função técnica em organizações diversas.
- (C) atenda cliente que foi assistido por outro colega, mesmo quando tiver certeza da interrupção do contrato.
- (D) colabore com os cursos de formação de profissionais em Relações Públicas, notadamente no aconselhamento e orientação aos futuros profissionais.
- (E) atenda clientes concorrentes sob quaisquer condições.

57

O planejamento de Relações Públicas deve estar aliado ao planejamento estratégico, corroborando a missão, os valores, os objetivos, as metas e as políticas organizacionais.

Por isso, as Relações Públicas devem administrar estrategicamente a comunicação das organizações com seus públicos, atuando em perfeita sinergia com todas as demais modalidades do composto de comunicação integrada, **à exceção de uma**. Assinale-a.

- (A) Comunicação Interna.
- (B) Comunicação Mercadológica.
- (C) Comunicação Institucional.
- (D) Comunicação Administrativa.
- (E) Comunicação Intrapessoal.

58

Na perspectiva de Margarida Kunsch, a formulação de um plano estratégico de comunicação organizacional envolve três fases, a saber: 1. Pesquisa e construção de diagnóstico estratégico; 2. Planejamento estratégico da comunicação organizacional e 3. Gestão estratégica da comunicação organizacional.

A segunda fase é marcada pelo(a)

- (A) diagnóstico estratégico da comunicação organizacional.
- (B) análise do ambiente externo, setorial e interno da organização.
- (C) controle das ações de comunicação e avaliação de resultados.
- (D) pré-definição do negócio e percepção da missão, da visão e dos valores da organização.
- (E) determinação dos objetivos e metas e esboço das estratégias gerais da comunicação organizacional.

59

Sobre a definição do termo *stakeholder*, leia o texto a seguir.

*Stakeholder, termo criado por Freeman (1984) ao referir-se a grupos ou indivíduos que podem afetar ou serem afetados pelo desempenho da organização, na busca dos seus objetivos. A concepção de Freeman foi desenvolvida por Mitchell, Agle e Wood (1997), os quais identificaram três atributos que oferecem aos públicos a capacidade de influenciarem e serem influenciados pelas decisões de uma organização: O (a) \_\_\_\_\_ dos mesmos. A (o) \_\_\_\_\_ das suas reivindicações. A (o) \_\_\_\_\_ da organização em atendê-los.*

(DORNELLES, S. 2015)

Assinale a opção que completa corretamente as lacunas do texto.

- (A) proximidade – força – planejamento.
- (B) tamanho – ímpeto – alinhamento.
- (C) longevidade – qualidade – estrutura.
- (D) mercado – quantidade – vontade.
- (E) poder – legitimidade – urgência.

60

Sobre algumas técnicas de pesquisa, analise as afirmativas a seguir.

- I. Devido ao tratamento estatístico para amostra de respondentes característica dos grupos focais, os achados obtidos por essa técnica se caracterizam por ser quantitativamente generalizáveis.
- II. Na pesquisa etnográfica, é possível combinar outras formas de coleta de dados como observação, entrevista, análise de documentos entre outras possibilidades de acordo com as condições do campo.
- III. A entrevista é um método de pesquisa qualitativa, cujo foco é a experiência individual do participante, considerada relevante para se entender a experiência das pessoas em situação semelhante.

Está correto o que se afirma em

- (A) I, apenas.
- (B) II, apenas.
- (C) III, apenas.
- (D) II e III, apenas.
- (E) I, II e III.

61

As pesquisas de opinião pública podem envolver tanto métodos qualitativos como quantitativos, que tem como característica

- (A) ser estudos não estatísticos.
- (B) ser os mais indicados para medição de audiência.
- (C) coletar e analisar dados não passíveis de mensuração.
- (D) usar entrevistas em profundidade e observação de campo.
- (E) ser os mais adequados para entender comportamentos, sentimentos, sensações, intenções e percepções.

62

Na pesquisa social, temos dois grandes grupos de amostragens, classificadas em: probabilística e não probabilística.

A amostragem probabilística pode ser de tipos listados a seguir, **à exceção de um**. Assinale-o.

- (A) Amostragem sistemática.
- (B) Amostragem aleatória simples.
- (C) Amostragem estratificada.
- (D) Amostragem por julgamento.
- (E) Amostragem por conglomerados.

63

Nos últimos anos, os termos relativos à ecologia, natureza e desenvolvimento sustentável tornaram-se superexplorados e, nesse cenário, nem sempre a comunicação ambiental de uma empresa é um retrato fiel de suas práticas e ações.

A declaração socioambiental que se relaciona com práticas e ações inverídicas, não comprovadas pela organização é conceituada como

- (A) *whitewashing*.
- (B) *fake news*.
- (C) *greenwashing*.
- (D) *ambiental make-up*.
- (E) *brainwashing*.

64

O Objetivo de Desenvolvimento Sustentável n.3, intitulado *Saúde e Bem-Estar*, visa a *garantir o acesso à saúde de qualidade e promover o bem-estar para todos, em todas as idades*.

Para tal, até 2030, espera-se

- (A) reduzir a taxa de mortalidade materna global para menos de 20 mortes por 100.000 nascidos vivos.
- (B) reduzir a mortalidade neonatal para pelo menos 5 por 1.000 nascidos vivos.
- (C) reduzir a mortalidade de crianças menores de 5 anos para pelo menos 25 por 1.000 nascidos vivos.
- (D) erradicar as doenças causadas por produtos químicos perigosos, contaminação e poluição do ar e água do solo.
- (E) reduzir à metade a mortalidade prematura por doenças não transmissíveis via prevenção e tratamento.

65

O site da Organização das Nações Unidas (ONU) explica que os *Objetivos de Desenvolvimento Sustentável (ODS) são um apelo global à ação para acabar com a pobreza, proteger o meio ambiente e o clima e garantir que as pessoas, em todos os lugares, possam desfrutar de paz e de prosperidade*. Entre as muitas ações desenvolvidas no país para alcançar esses objetivos está a revalidação de diplomas, conforme história publicada no site da instituição em início de 2024.

A esse respeito, leia o trecho a seguir.

#### **Revalidação de diplomas ajuda pessoas refugiadas a seguirem seus sonhos no Brasil**

A UFF é uma das 41 universidades em todo o Brasil envolvidas nesse programa inclusivo como parte da *Cátedra Sergio Vieira de Mello (CSVVM)*, uma parceria com a Agência da ONU para Refugiados (ACNUR) nomeada em homenagem ao diplomata brasileiro da ONU morto junto com 21 de seus colegas em um ataque a bomba no Iraque em 2003.

A CSVVM se comprometeu no Fórum Global sobre Refugiados (GRF, na sigla em inglês) de 2019 a “promover a inclusão de refugiados e outras pessoas deslocadas”, o que faz por meio de pesquisa, ensino, extensão, advocacy e formulação de políticas voltadas para questões de refugiados, incluindo a revalidação de diplomas para permitir que eles sigam carreiras em suas áreas de especialização. Quase 500 diplomas foram revalidados pela rede no Brasil nos últimos cinco anos.

A ação descrita atende a alguns dos ODS listados a seguir, **à exceção de um**. Assinale-o.

- (A) Educação de Qualidade.
- (B) Trabalho Decente e Crescimento Econômico.
- (C) Arte, Cultura e Comunicação.
- (D) Redução das Desigualdades.
- (E) Paz, Justiça e Instituições Eficazes.

## **LEGISLAÇÃO INSTITUCIONAL**

66

Nos termos da Constituição do Estado do Tocantins, constitui objeto de lei complementar a seguinte matéria:

- (A) os prazos de prescrição para ilícitos praticados por qualquer agente, servidor ou não, que causem prejuízos ao erário.
- (B) os limites de idade, a estabilidade e outras condições de transferência do servidor militar para a inatividade.
- (C) os casos de contratação por tempo determinado para atender à necessidade temporária de excepcional interesse público.
- (D) as regras para cálculo de proventos de aposentadoria e pensão por morte.
- (E) os requisitos e as restrições ao ocupante de cargo ou emprego da administração direta e indireta que possibilite o acesso a informações privilegiadas.

**67**

Considerando o exercício da função legislativa por parte da Assembleia Legislativa de Tocantins, nos termos de seu Regimento Interno, é correto afirmar que

- (A) projetos de lei delegada podem se destinar a regular as matérias de exclusiva competência do Poder Executivo, com a sanção do Governador do Estado.
- (B) projetos de resolução podem se destinar a regular, com eficácia de lei ordinária, matéria de competência privativa da Assembleia Legislativa.
- (C) projetos de lei complementar visam regular matéria infraconstitucional.
- (D) projetos de lei têm por objetivo regular matérias de competência do Poder Legislativo, sem a sanção do Governador do Estado.
- (E) projetos de decreto legislativo destinam-se à delegação de competência, na forma estabelecida na Constituição Estadual.

**68**

Aline, servidora pública estadual, revelou segredo do qual se apropriou em razão do cargo que ocupa. A Administração Pública, ao tomar conhecimento do fato, instaurou procedimento administrativo disciplinar a fim de apurar a conduta e garantir à servidora os princípios da ampla defesa e do contraditório.

À luz do Estatuto dos Servidores Públicos Cíveis do Estado do Tocantins, caso punida, Aline poderá ser sancionada com

- (A) advertência.
- (B) suspensão.
- (C) prestação de serviço.
- (D) multa.
- (E) demissão.

**69**

Ana, servidora pública efetiva e estável, ocupante de cargo de nível superior, objetivando inteirar-se sobre os requisitos para a progressão na carreira, consultou a Lei nº 4.208/2023, que trata sobre o plano de cargos, carreiras e remuneração dos Servidores da Assembleia de Tocantins.

Assim, para fazer jus à progressão, Ana terá que

- (A) possuir no máximo três faltas injustificadas por exercício referente ao período avaliado.
- (B) obter conceito igual ou superior a 70% (setenta por cento) dos pontos possíveis em todos os procedimentos de sua Avaliação.
- (C) concluir curso de pós-graduação *lato sensu* com duração mínima de 360 (trezentos e sessenta) horas.
- (D) cumprir trinta meses de efetivo exercício na classe em que se encontra.
- (E) concluir cursos de aperfeiçoamento em sua área de atuação que tenha, no mínimo, 80 (oitenta) horas de duração.

**70**

Antônio foi nomeado para o cargo de Controlador Interno da Assembleia Legislativa de Tocantins.

À luz da Lei nº 4.209/2023, que dispõe sobre a estrutura administrativa da Aletto, durante o exercício da função, Antônio será competente para:

- (A) opinar, conclusivamente, em processos de direitos, deveres e obrigações dos servidores do Poder Legislativo.
- (B) constituir Comissão Permanente de Licitação.
- (C) examinar a observância das normas de licitações.
- (D) apresentar à Mesa Diretora o balancete mensal e, no início de cada exercício, o balancete geral das contas da Assembleia Legislativa, relativo ao exercício anterior.
- (E) planejar, coordenar, orientar, controlar e dirigir as atividades administrativas, orçamentárias, financeiras, de comunicação social, de tecnologia de informação e de apoio legislativo da Assembleia Legislativa.



# ASSEMBLEIA LEGISLATIVA DO ESTADO DO TOCANTINS

CONCURSO PÚBLICO – EDITAL Nº 01/2023

## PROVA OBJETIVA – TARDE

### ANALISTA LEGISLATIVO REVISÃO

NÍVEL SUPERIOR – TIPO 1 – BRANCA



#### SUA PROVA

- Além deste caderno contendo **70 (setenta)** questões objetivas e **1 (uma)** redação, você receberá do fiscal de prova o cartão de respostas e a folha de textos definitivos;
- As questões objetivas têm **5 (cinco)** opções de resposta (A, B, C, D) e somente uma delas está correta.



#### TEMPO

- Você dispõe de **5 (cinco) horas** para a realização da prova, já incluído o tempo para a marcação do cartão de respostas e da folha de textos definitivos;
- **3 (três) horas** após o início da prova, é possível retirar-se da sala, sem levar o caderno de questões;
- A partir dos **30 (trinta) minutos** anteriores ao término da prova é possível retirar-se da sala **levando o caderno de questões**.



#### NÃO SERÁ PERMITIDO

- Qualquer tipo de comunicação entre os candidatos durante a aplicação da prova;
- Anotar informações relativas às respostas em qualquer outro meio que não seja o caderno de questões;
- Levantar da cadeira sem autorização do fiscal de sala;
- Usar o sanitário ao término da prova, após deixar a sala.



#### INFORMAÇÕES GERAIS

- Verifique se seu caderno de questões está completo, sem repetição de questões ou falhas. Caso contrário, **notifique imediatamente o fiscal da sala**, para que sejam tomadas as devidas providências;
- Confira seus dados pessoais, especialmente nome, número de inscrição e documento de identidade e leia atentamente as instruções para preencher o cartão de respostas e a folha de textos definitivos;
- Para o preenchimento do cartão de respostas e da folha de textos definitivos, use somente caneta esferográfica, fabricada em material transparente, com tinta preta ou azul;
- Assine seu nome apenas no(s) espaço(s) reservado(s) no cartão de respostas e na folha de textos definitivos;
- Confira seu cargo, cor e tipo do caderno de questões. Caso tenha recebido caderno de cargo ou cor ou tipo **diferente** do impresso em seu cartão de respostas e em sua folha de textos definitivos, o fiscal deve ser **obrigatoriamente** informado para o devido registro na ata da sala;
- Reserve tempo suficiente para o preenchimento do seu cartão de respostas e da sua folha de textos definitivos. O preenchimento é de sua responsabilidade e **não será permitida a troca do cartão de respostas e da folha de textos definitivos em caso de erro cometido pelo candidato**;
- Para fins de avaliação, serão levadas em consideração apenas as marcações realizadas no cartão de respostas e na folha de textos definitivos;
- A FGV coletará as impressões digitais dos candidatos na lista de presença;
- Os candidatos serão submetidos ao sistema de detecção de metais quando do ingresso e da saída de sanitários durante a realização das provas.
- **Boa prova!**

## CONHECIMENTOS BÁSICOS

### Língua Portuguesa

**1**

Observe o seguinte texto:

*Quando entrei no terrível vagão, ele estava ocupado por duas pessoas. Uma, dobrada, coberta, dormia profundamente. A coberta superior estava manchada, de fundo amarelado, como pele de leopardo. Vendem-se muitas mantas assim nas lojas de artigos de viagens, mas pude notar logo depois que se tratava realmente da pele de um animal selvagem; do mesmo modo, o boné da pessoa adormecida me pareceu ser de feltro branco bastante delicado. O outro viajante, uma aparência simpática, parecia ter passado dos trinta anos e mostrava-se como figura insignificante que passa confortavelmente as noites em estradas de ferro.*

Nesse fragmento textual, para criar sinais de história realista e verdadeira, o narrador apela para a seguinte estratégia:

- (A) seleciona uma situação banal da qual não precisa fornecer muitos detalhes, exatamente por sua banalidade.
- (B) fornece algumas marcas caracterizadoras dos dois personagens presentes no texto, destacando sua banalidade.
- (C) indica traços descritivos do ambiente, mostrando-o como se nada houvesse nele de excepcional.
- (D) mostra detalhes variados e bastante pitorescos dos objetos descritos.
- (E) dá ao leitor informações sobre personagens e ambiente, mostrando-os como bastante conhecidos do narrador.

**2**

Assinale a frase que mostra a palavra *mais* numa classe gramatical **diferente** das demais.

- (A) O mercado está prisioneiro de mais um círculo vicioso: piora porque piorou e porque piorou, piora.
- (B) Os ingleses conquistaram o mundo porque não aguentavam mais a própria cozinha.
- (C) Quanto mais vejo o estrangeiro, mais amo a minha pátria.
- (D) Não é mais possível aprender tudo de cor. Um homem instruído não é mais o homem que sabe muitas coisas; é o homem que sabe onde buscar informações.
- (E) Muda-se mais facilmente de religião do que de café

**3**

As frases a seguir mostram termos ligados pela conjunção OU.

Assinale a frase em que essa conjunção mantém o valor de alternativa (e não de adição).

- (A) João ou Pedro deve ser eleito presidente da empresa.
- (B) A alegria ou a tristeza fazem parte da vida.
- (C) Inglês ou francês são idiomas falados pelos turistas
- (D) Os clientes leem livros ou revistas enquanto esperam.
- (E) Vasco ou Flamengo são times de longa tradição.

**4**

Um guitarrista americano produziu o seguinte pensamento:

*O crítico de rock é alguém que não sabe escrever, entrevistando gente que não sabe falar, para gente que não sabe ler.*

Sobre a estruturação ou a significação desse pequeno texto, assinale a afirmativa **incorreta**.

- (A) O termo “de rock” funciona como complemento nominal do termo anterior.
- (B) Todos os elementos da cadeia comunicativa citados no texto são marcados pela ignorância.
- (C) O pensamento acima revela um preconceito fortíssimo contra os amantes de rock.
- (D) A opinião expressa no texto pode advir da experiência pessoal do autor, já que se trata de um guitarrista.
- (E) A injustiça desse texto provém de ser uma opinião fundamentada em uma autoridade duvidosa.

**5**

John Steinbeck, prêmio Nobel, declarou o seguinte:

*O homem é o único animal que bebe sem ter sede, come sem ter fome e fala sem ter nada a dizer.*

Em relação ao significado e à estruturação desse pequeno texto, assinale a afirmativa **incorreta**.

- (A) A frase ficaria mais enfática se invertêssemos a posição do termo inicial: O único animal que bebe sem ter sede, come sem ter fome e fala sem ter nada a dizer é o homem.
- (B) A inversão de alguns segmentos do texto em nada modificaria o sentido da frase: O homem é o único animal que come sem ter fome, bebe sem ter sede e fala sem ter nada a dizer.
- (C) Os segmentos finais do texto mostram preocupação com rigoroso paralelismo sintático.
- (D) Segundo a opinião do autor do texto, a marca principal do homem é a irracionalidade.
- (E) Nem todas as ações citadas como marcas humanas estão presentes, por oposição, nos outros animais.

**6**

Assinale a frase que **não** expressa uma noção de tempo abstrato.

- (A) Nas asas do tempo, a tristeza voa.
- (B) Quem mata o tempo não é assassino, é suicida.
- (C) O tempo perdido não se encontra nunca mais.
- (D) O tempo é o melhor professor. Infelizmente, ele mata todos os seus estudantes
- (E) O tempo gasto na viagem foi de duas horas.

**7**

Assinale a frase em que a utilização do acento grave indicativo da crase é realizada de forma **errada**.

- (A) Jamais alguém se arrependeu de ter-se acostumado à madrugar e à ter-se casado jovem.
- (B) Tempo é o suspiro de adeus do sol à terra.
- (C) Saio todos os dias às cinco horas e não permito que o meu trabalho interfira no meu jogo de tênis.
- (D) O momento de extrair uma lição da história está sempre à mão para os sábios.
- (E) Quando assumi, quatro anos atrás, estávamos à beira do precipício.

8

Os adjetivos podem representar estados, qualidades, características e relações.

Assinale a frase que mostra um tipo de adjetivo **diferente** dos demais.

- (A) Nunca houve criança tão amável que a própria mãe não ficasse satisfeita ao conseguir adormecê-la.
- (B) Nada mais perversamente cruel que uma adorável criança.
- (C) Mesmo estando doentes, as crianças não ficam caladas.
- (D) Quando as crianças estão quietas é porque fizeram alguma coisa errada.
- (E) As tangerinas verdes não amadurecem fora do pé.

9

Assinale a frase em que o adjetivo sublinhado mostra uma função sintática **diferente** das demais.

- (A) Por fora bela viola, por dentro pão bolorento.
- (B) Tiradentes, heroico, tentou organizar uma revolução.
- (C) Um rosto bonito altera-se depressa.
- (D) Eu não podia acreditar que existem múmias tão lindas.
- (E) Um homem belo é um homem insignificante.

10

Assinale a opção que mostra uma impropriedade léxica, ou seja, um emprego **inadequado** da expressão “cerca de”.

- (A) Havia cerca de três dúzias de convidados no final da festa.
- (B) Chegaram cerca de 100 cartas no mesmo dia.
- (C) Cerca de 18 lojas fecharam as portas mais cedo.
- (D) Os cantores receberam cerca de uma centena de convites.
- (E) A plantação produziu cerca de uma tonelada de legumes.

11

Muitas palavras portuguesas mostram o prefixo A- sem qualquer valor semântico, sendo equivalentes ao mesmo vocábulo sem esse prefixo.

Assinale a palavra a seguir que exemplifica esse A protético.

- (A) amostrar
- (B) abraçar
- (C) atenuar
- (D) aguardar
- (E) aparar

12

Observe o seguinte texto:

*A felicidade depende da habilidade que tenhamos naquelas atividades que consideramos importantes: somente se lhes damos um real valor aos pequenos detalhes cotidianos, poderemos ter instantes felizes. A felicidade absoluta não existe, e já que só podemos acessar os pequenos detalhes daquilo que nos interessa, devemos contentar-nos com isso. Por isso, a infelicidade é um sinal claro de nossa incompetência na arte de viver.*

Sobre a estrutura e a significação desse texto, assinale a afirmativa **inadequada**.

- (A) O tema do texto gira em torno do que consiste a felicidade e o que viria a ser o seu oposto.
- (B) A afirmação de que “A felicidade absoluta não existe” é de cunho pessoal do autor do texto, representando uma opinião.
- (C) O raciocínio utilizado na estruturação argumentativa é do tipo dedutivo.
- (D) O conector “Por isso” mostra a preocupação com o caráter lógico da argumentação.
- (E) A tese do texto é a de que a infelicidade é fruto de nossa incompetência na arte de viver.

## Raciocínio Lógico Matemático

13

Certo programa de rádio tem 1 hora e 55 minutos de duração. A partir do momento em que o programa é iniciado, há blocos temáticos de 7 minutos intercalados por blocos de propagandas de 2 minutos.

Em todos os blocos de propaganda, ouve-se o comercial do restaurante R, que sempre dura 18 segundos.

Se o programa começa e termina com um bloco temático, então, o tempo total do programa dedicado ao anúncio do restaurante R é

- (A) 3 minutos e 54 segundos.
- (B) 3 minutos e 36 segundos.
- (C) 3 minutos e 18 segundos.
- (D) 3 minutos.
- (E) 2 minutos e 48 segundos.

14

A linha de produção de certa fábrica produz 1100 latas de sardinhas a cada hora. Certo dia, por um defeito de calibragem do sistema, entre 13h e 14h, o volume de produção foi reduzido em 30% durante exatos 12 minutos.

A quantidade de latas de sardinhas produzidas no intervalo supracitado foi

- (A) 946.
- (B) 964.
- (C) 1022.
- (D) 1034.
- (E) 1046.

15

Marcelo está parado de frente para uma das paredes de uma sala quadrada. Nesta posição, ele está a 1m e 20cm da parede que se encontra à sua direita e a 1m e 70cm da parede que está às suas costas.

Ele, então, se desloca paralelamente às paredes da sala sendo 40cm para a frente e 80cm para a direita. Nessa nova posição, ele passou a distar 1m e 90cm da parede que antes estava à sua esquerda.

Desprezando-se as dimensões de Marcelo, a sua atual distância à parede que, antes dos movimentos, estava à sua frente, é

- (A) 20cm.
- (B) 30cm.
- (C) 40cm.
- (D) 50cm.
- (E) 60cm.

**16**

Um dado é dito comum quando tem a forma de um cubo e suas 6 faces são numeradas de 1 a 6, de tal forma que a soma dos números estampados em faces opostas, quaisquer que sejam elas, sempre somam 7.

Quando um dado comum é lançado, diz-se que o resultado do lançamento é o número estampado na face voltada para cima.

Um dado foi lançado 3 vezes seguidas. Se o produto dos resultados obtidos nos lançamentos vale 75, a soma desses resultados é igual a

- (A) 12.
- (B) 13.
- (C) 14.
- (D) 15.
- (E) 16.

**17**

Em certo ano, o dia 1º de agosto cai em um domingo. Logo, o dia 1º de novembro cairá em

- (A) um sábado.
- (B) um domingo.
- (C) uma segunda-feira.
- (D) uma quarta-feira.
- (E) uma sexta-feira.

**18**

Considere a seguinte proposição condicional:

*Se todos os alunos da Escola Aristarco gostam de matemática, então, ao menos um deles ganha medalha na Olimpíada Nacional de Matemática.*

Se essa proposição é verdadeira, é correto afirmar que

- (A) se nenhum dos alunos da Escola Aristarco gosta de Matemática, então nenhum deles ganha medalha na Olimpíada Nacional de Matemática.
- (B) se todos os alunos da Escola Aristarco ganham medalha na Olimpíada Nacional de Matemática, então, todos esses alunos gostam de Matemática.
- (C) se algum aluno da Escola Aristarco ganha medalha na Olimpíada Nacional de Matemática, então todos esses alunos gostam de Matemática.
- (D) se nenhum aluno da Escola Aristarco ganha medalha na Olimpíada Nacional de Matemática, então nenhum desses alunos gosta de Matemática.
- (E) se nenhum aluno da Escola Aristarco ganha medalha na Olimpíada Nacional de Matemática, então algum desses alunos não gosta de Matemática.

**19**

Em uma caixa, há muitas canetas esferográficas. Classificadas conforme a cor, elas podem ser azuis, vermelhas ou pretas. Classificadas quanto à espessura da esfera, elas podem ser de ponta fina ou de ponta grossa.

Metade das canetas vermelhas tem a ponta grossa. A quantidade total de canetas pretas é igual à quantidade total de canetas vermelhas. Entre as canetas de ponta grossa, a quantidade de azuis é igual à de pretas. A quantidade de canetas azuis com ponta fina é o dobro da quantidade de canetas pretas de ponta grossa.

Se, nessa caixa, 18 são azuis e 20 têm ponta grossa, então a quantidade total de canetas na caixa é

- (A) 30.
- (B) 40.
- (C) 48.
- (D) 50.
- (E) 52.

**20**

Tucídides possuía uma dívida e, em vez de quitá-la, pagou apenas 20% do seu valor, deixando o restante para ser quitado em data futura, com acréscimo de 12% a título de juros sobre o saldo devedor.

No ato de quitação, Tucídides pagou R\$2.329,60. Logo, o valor original da dívida é o resultado da seguinte expressão:

(A)  $2.329,60 \times 0,88 - 20$

(B)  $\frac{2.329,60}{0,88} \times 1,20$

(C)  $\frac{2.329,60}{1,12} \times 1,20$

(D)  $\frac{2.329,60}{1,12 \times 1,20}$

(E)  $\frac{2.329,60}{1,12 \times 0,8}$

**21**

As filhas de Nepomuceno têm 5 e 9 anos de idade. Ele dividirá R\$420,00 entre elas de forma inversamente proporcional às suas idades.

Logo

- (A) a mais nova receberá R\$120,00 a mais que a mais velha.
- (B) a mais nova receberá R\$150,00 a mais que a mais velha.
- (C) a mais nova receberá R\$270,00 a mais que a mais velha.
- (D) a mais velha receberá R\$120,00 a mais que a mais nova.
- (E) a mais velha receberá R\$150,00 a mais que a mais nova.

**22**

A negação da proposição:

$$\text{Se } y \neq 0, \text{ então } x > 2 \text{ e } x \leq 5$$

é dada por

- (A) Se  $y = 0$ , então  $x > 2$  e  $x \leq 5$
- (B) Se  $y = 0$ , então  $x < 2$  ou  $x \geq 5$
- (C)  $y = 0$  e  $x \leq 2$  ou  $x > 5$
- (D)  $y \neq 0$  e  $x \leq 2$  ou  $x > 5$
- (E)  $y \neq 0$  e  $x \leq 2$  e  $x > 5$

## Atualidades

### 23

De acordo com o censo demográfico de 2022 (IBGE), mais da metade da população brasileira (51,13%) é feminina, e elas representam, segundo o Tribunal Superior Eleitoral, 53% do eleitorado. No entanto, elas ocupam, hoje, menos de 15% dos cargos eletivos.

A respeito da baixa participação das mulheres na política, assinale a afirmativa que apresenta um dispositivo existente na legislação brasileira para alterar esse cenário.

- (A) Reserva de pelo menos 50% dos recursos do Fundo Especial de Financiamento de Campanha, o Fundo Eleitoral, para financiar candidaturas femininas.
- (B) Suspensão dos direitos eleitorais aos partidos em caso de não observância do percentual de pelo menos 30% de candidatas mulheres em cada ciclo eleitoral
- (C) Reserva de assentos, em ambas as casas legislativas, para mulheres, com preferência para as representantes de povos originários.
- (D) Cota de gênero, que obriga cada partido ou coligação a preencher o mínimo de 30% e o máximo de 70% de candidaturas de cada sexo.
- (E) Repasse de até 30% dos recursos dos Fundos Partidário para custear o tempo da propaganda eleitoral gratuita de candidatas em rádio e televisão.

### 24

A França se tornou o primeiro país do mundo a incluir na Constituição a liberdade de a mulher abortar. A mudança na Carta Magna foi aprovada em uma sessão conjunta das duas Casas legislativas, a Assembleia Nacional e o Senado, e será promulgada pelo presidente Emmanuel Macron ainda em março de 2024.

Adaptado de <https://www1.folha.uol.com.br/mundo/2024/03/>

Diferentemente da França, a legislação brasileira

- (A) equipara o aborto ao infanticídio.
- (B) considera o aborto uma prática ilegal em todas as situações.
- (C) descriminaliza a interrupção da gravidez em caso de deficiência da gestante.
- (D) estabelece um limite temporal para interromper a gravidez, desde que respaldada por laudo médico.
- (E) autoriza a interrupção de gestação em caso de não haver outro meio de salvar a vida da gestante.

### 25

Desde os anos 2000, o interior do Brasil ultrapassou o litoral na incidência de dengue. A região costeira que vai de Santos, em São Paulo, até Belém, no Pará, apresentava tipicamente maior proporção de casos de dengue em comparação com sua população. Entretanto, recentemente, o oeste do Paraná, o oeste de Santa Catarina o oeste de São Paulo, o interior de Minas Gerais, uma parte do Tocantins, o Goiás e o Mato Grosso do Sul viram a transmissão da doença aumentar e muitas de suas cidades foram obrigadas a decretar emergência.

Adaptado de <https://www.estadao.com.br>

A respeito dos fatores relacionados ao aumento e à interiorização dos casos de dengue no Brasil, analise as afirmativas a seguir.

- I. A maior frequência de períodos com temperaturas acima da média, inclusive com ondas de calor no período invernal em todo território, tem reforçado o padrão sazonal da doença.
- II. A expansão urbana desvinculada de melhoras nos serviços sanitários tem propiciado a formação de ilhas de calor e, portanto, uma alta na incidência da dengue.
- III. O desmatamento do cerrado, convertido em pasto, por exemplo, tem contribuído para aumentar a temperatura média e o número de casos da doença no interior do Brasil.

Está correto o que se afirma em

- (A) I, apenas.
- (B) I e II, apenas.
- (C) I e III, apenas.
- (D) II e III, apenas.
- (E) I, II e III.

### 26

As afirmativas a seguir descrevem corretamente o desempenho da economia brasileira em 2023, à exceção de uma. Assinale-a.

- (A) A expansão econômica ampliou a geração de empregos informais, em um contexto recessivo e de flexibilização das leis trabalhistas.
- (B) O dinamismo da economia foi marcado pelo aumento de exportações, no setor agrícola, e da demanda, no setor de serviços, em função da alta no consumo das famílias.
- (C) A alta progressiva nas cotações internacionais de commodities acelerou o ritmo das exportações, mesmo em um cenário cambial desfavorável para os exportadores.
- (D) A retração do Brasil no mercado regional e internacional ocorreu em função da maior competitividade dos produtos agrícolas argentinos e pela retomada da economia chinesa.
- (E) A persistência do alto nível da inflação foi ocasionada pela alta da cesta básica, sobretudo dos alimentos, cujas safras foram afetadas pelas condições climáticas adversas.



27

Em 2024, o Tribunal Superior Eleitoral (TSE) aprovou uma resolução para regulamentar o uso da inteligência artificial (IA) durante as eleições municipais a serem realizadas em outubro. A norma proíbe manipulações de conteúdo falso para criar ou substituir imagem ou voz de candidato com objetivo de prejudicar ou favorecer candidaturas. Também foi aprovada a restrição do uso de chatbots humanizados e avatares para intermediar a comunicação das campanhas com pessoas reais nas redes sociais.

Adaptado de <https://agenciabrasil.ebc.com.br>

A resolução sobre IA objetiva

- (A) coibir a produção e circulação de *deepfakes*.
- (B) restringir o uso de ferramentas de IA simbólica.
- (C) retomar a veiculação de propagandas eleitorais em mídias tradicionais, como rádio e televisão.
- (D) proibir o uso de ferramentas de coleta e seleção em bases de dados com fins eleitorais.
- (E) limitar o uso de assistente virtual programado por AI para divulgação do programa partidário.

28

Assinale a afirmativa que descreve corretamente um aspecto do panorama global da economia em 2023.

- (A) Nos Estados Unidos, a economia foi alavancada pela adoção de uma política de ampliação do crédito e baixa da taxa de juros.
- (B) Na China, o PIB cresceu acima do esperado, em um cenário marcado pela retomada econômica pós pandemia, inclusive no setor imobiliário.
- (C) Na Zona do Euro, a alta dos preços da energia pesou nas despesas familiares e no setor industrial, confirmando a manutenção de um quadro de crise.
- (D) Na Rússia, o PIB decresceu, em função do impacto prolongado da guerra com a Ucrânia e dos embargos à venda de petróleo e gás russos.
- (E) Na América do Sul, foi mantido um caminho geral de crescimento, apoiado por investimentos externos e pela intensificação de políticas estatistas.

29

Um supercomputador consiste em milhares de pequenos computadores chamados nós. Cada nó é equipado com sua própria memória e com vários processadores. Atuando em conjunto, eles são capazes de realizar cálculos extremamente complexos em elevada velocidade. Hoje, o maior supercomputador da América Latina é o Pégaso, da Petrobras, com 678 TB de memória RAM e mais de 233 mil núcleos.

Adaptado de <https://revistapesquisa.fapesp.br>

A respeito do poder computacional de alto desempenho dos supercomputadores, analise as afirmativas a seguir e assinale (V) para a verdadeira e (F) para a falsa.

- ( ) Essas máquinas são instrumentos valiosos de pesquisa e de suporte a setores da economia como defesa, energia e saúde, permitindo a resolução de problemas complexos em menor tempo.
- ( ) Esses equipamentos permitem realizar tarefas que exigem altíssimos níveis de processamento, como simulações da formação do universo ou modelagem molecular para novos fármacos.
- ( ) Esses aparelhos trabalham em alta velocidade de processamento pelo somatório de diversos núcleos, o que potencializa a velocidades do processador, medidas em gigahertz (GHz).

As afirmativas são, respectivamente,

- (A) V – V – F.
- (B) V – F – V.
- (C) F – V – F.
- (D) F – V – V.
- (E) V – V – V.

30

No início do ano corrente, a Petrobras anunciou ter alcançado em 2023 o segundo maior valor de lucro líquido de sua história. Mesmo assim, suas ações caíram no mercado financeiro, em função da disputa sobre os dividendos.

A respeito dos resultados financeiros da Petrobras nos últimos anos e da política de distribuição de dividendos da empresa, assinale a afirmativa correta.

- (A) A Petrobras é uma empresa estatal de economia mista que monopoliza a indústria petroleira no Brasil.
- (B) A Petrobras é uma estatal administrada diretamente por órgãos governamentais que controlam o valor das suas ações.
- (C) A Petrobras direciona parte dos dividendos para investidores privados, e outra parte para o governo federal, que controla a empresa via Tesouro e BNDES.
- (D) A Petrobras, sob o Governo Bolsonaro, reduziu o pagamento de dividendos a acionistas privados para reinvesti-los em energia renovável.
- (E) A Petrobras, no atual governo, vendeu ativos e distribuiu o lucro e os valores recordes de dividendos entre seus acionistas para financiar projetos do BNDES.

31

Dados da última década mostram que, em relação aos Estados, o Pará é o que apresenta o maior número de registros de resgates de trabalho análogo à escravidão, com 9.853, seguido por Mato Grosso (4.302); Tocantins (2.896); São Paulo (1.529) e Rio de Janeiro (1.653), em 2017.

Adaptado de <https://www.jota.info/justica/em-14-anos-434-mil-foram-resgatados-de-trabalho-escravo-30102017>

A respeito da definição moderna de escravidão, analise as afirmativas a seguir.

- I. Em Tocantins, a maior incidência de escravidão moderna ocorre na zona rural, associada a atividades agropecuárias e ao extrativismo mineral, como nas carvoarias, por exemplo.
- II. A Organização Internacional do Trabalho determina a condição de escravidão por uma série de componentes, como o trabalho forçado análogo ao de escravo e o casamento forçado.
- III. Pessoas obrigadas a trabalhar por dívida ou por ameaça, sem direitos trabalhistas garantidos estão em situação de escravidão, uma vez que lhes é impedida a liberdade de ir e vir.

Está correto o que se afirma em

- (A) I, apenas.
- (B) I e II, apenas.
- (C) I e III, apenas.
- (D) II e III, apenas.
- (E) I, II e III.

32

Energia gerada por recursos naturais renováveis que, no Brasil, provém da lenha, carvão vegetal, carvão mineral, bagaço de cana e outros resíduos combustíveis. Essa energia é a matéria orgânica vegetal ou animal usada como fonte de energia limpa e sustentável.

O trecho descreve o seguinte componente importante do desenvolvimento sustentável:

- (A) compostagem.
- (B) biodiversidade.
- (C) créditos de carbono.
- (D) ciclo de vida.
- (E) biomassa.

## História e Geografia do Estado de Tocantins

33

Leia a descrição de uma classe de vegetação presente no estado do Tocantins, a seguir.

*Esta vegetação, também conhecida como floresta pluvial tropical, é caracterizada por árvores de porte elevado, além de trepadeiras lenhosas e epífitas (bromélias e orquídeas, por exemplo) em abundância, o que a diferencia de outras classes de formação vegetal. Sua característica ecológica principal é estar presente em ambientes de chuvas abundantes, como na parte noroeste do Estado, onde as temperaturas médias são de 25°C e os elevados índices de precipitação estão bem distribuídos ao longo do ano.*

Adaptado de Luís Antônio G. C. Silva. *Biomas presentes no Estado do Tocantins*. Brasília: Câmara dos Deputados, 2007, p. 4.

O trecho caracteriza a região conhecida como Floresta

- (A) Estacional Semidecidual.
- (B) Tropical Subcaducifólia.
- (C) de Mata Atlântica.
- (D) Ombrófila Densa.
- (E) Temperada Decidual.

34

Comparando dados dos censos do IBGE, pode-se elaborar um retrato da evolução demográfica da população residente no Estado de Tocantins. O grupo na faixa etária de 0 a 14 representava 41,7% da população em 1991, 28,8% em 2010, e passou para 24% em 2022. A população acima de 65 anos era de 3,8% em 1991 e 5,8% em 2010, e ficou em 8,6% em 2022. O censo de 2022 mostrou ainda que a faixa etária de 15 a 29 anos representa 15% da população e que 41% da população é composta por pessoas de 30 a 59 anos.

Com base no trecho, assinale a opção que apresenta a dinâmica populacional do Tocantins entre 1991 e 2022.

- (A) Expansão da base da pirâmide etária.
- (B) Diminuição da taxa de fecundidade.
- (C) Estreitamento do topo da pirâmide.
- (D) Aumento da idade mediana.
- (E) Redução do índice de envelhecimento.

35

*Foram inegáveis os desdobramentos socioeconômicos sobre o antigo Norte Goiano fruto da construção da rodovia BR-153, a partir do final da década de 1950. O novo urbanismo da Belém-Brasília trouxe enorme impacto no que se refere ao conjunto de cidades que existiam às margens do rio Tocantins, aos fluxos migratórios e às atividades econômicas da região.*

Adaptado de AQUINO, N. *Tocantins: cidades e urbanismo em três modelos históricos*. In: III Encontro da ANPPAS. Brasília, 2006, p. 8.

As afirmativas a seguir descrevem corretamente impactos da rodovia BR-153 no processo de territorialização do Tocantins, **à exceção de uma**. Assinale-a.

- (A) A rodovia foi construída no governo Kubitscheck, em um contexto desenvolvimentista que considerava a expansão rodoviária como um meio para integrar econômica e territorialmente as regiões do país, inclusive o norte goiano que, então, vivia uma situação de abandono.
- (B) A rodovia Belém-Brasília teve grande importância para a urbanização do atual Tocantins, o que é exemplificado pela quantidade de novas cidades criadas após a sua construção, como Araguaína, Gurupi, Paraíso do Tocantins, Colinas do Tocantins e Guaraí.
- (C) A construção da BR-153 alavancou também os municípios ribeirinhos, pois a navegação fluvial foi intensificada para abastecer as obras em curso, o que transformou esses municípios em satélites econômicos da nova malha urbana instalada ao longo da rodovia.
- (D) Após a abertura da rodovia, as principais áreas que receberam fluxos migratórios foram a Microrregião de Gurupi – Gurupi e a Microrregião de Porto Nacional – Palmas, para onde se dirigiram pessoas interessadas em trabalhar na construção civil, nos serviços e no comércio, entre outros.
- (E) A BR-153 permitiu interligar o norte de Goiás, atual Estado do Tocantins, a outras localidades do país, facilitando o escoamento da produção e o acesso a produtos para a região, promovendo o fluxo de mercadorias e serviços.

36

O Memorial Coluna Prestes (2001) é uma obra do arquiteto Oscar Niemeyer localizada na Praça dos Girassóis, no centro de Palmas (TO).



Fonte: <https://central.to.gov.br/image/146145?f=1>

A respeito da relação entre essa obra e a constituição de uma memória histórica para o Estado do Tocantins, analise as afirmativas a seguir.

- I. O monumento refere-se à Coluna Prestes, que percorreu o Brasil para divulgar seu programa revolucionário entre 1924 e 1927, tendo passado pelo Norte do então Estado de Goiás (atual Tocantins) durante seu percurso.
- II. A obra foi realizada em concreto e apresenta curvas sinuosas, características próprias do Barroco das cidades mineradoras, estabelecendo visualmente uma continuidade entre o Barroco do passado das cidades mineradoras e o presente do Tocantins.
- III. A construção do memorial permite inserir simbolicamente a história do Tocantins nos grandes processos da história republicana nacional, e homenagear o Tenente Antônio de Siqueira Campos, cujo sobrenome é homônimo ao do ex-governador do Estado.

Está correto o que se afirma em

- (A) I, apenas.
- (B) I e II, apenas.
- (C) I e III, apenas.
- (D) II e III, apenas.
- (E) I, II e III.

37

Até 1988, o território que hoje corresponde ao Estado do Tocantins pertencia ao antigo norte de Goiás e à Região Centro-Oeste, tendo como capital política a cidade de Goiânia. Com a emancipação política, da noite para o dia, as pessoas amanheceram tocaninenses, mas sem referências culturais que as representassem como tais.

A respeito da projeção simbólica do novo Estado e de sua nova capital, assinale a opção que interpreta corretamente o processo de construção e atribuição de uma identidade ao Tocantins.

- (A) Desde o primeiro mandato do governador Siqueira Campos, os símbolos oficiais do Tocantins continuaram sendo o brasão de armas, a bandeira, o selo estadual e a canção "Hino ao Tocantins", de Liberato Costa Póvoa e Abiezer Alves da Rocha.
- (B) O girassol foi reconhecido oficialmente como símbolo da natureza do Estado, por ser uma planta nativa dos cerrados tocaninenses e estar associada à prosperidade e à esperança.
- (C) A Praça dos Girassóis, centro cívico de Palmas, foi concebida para receber edifícios esteticamente associados à cultura do Tocantins, como o Palácio do Araguaia, cujos pórticos remetem ao capim dourado, símbolo da tradição do artesanato de alta qualidade da região.
- (D) A monumentalidade da Praça dos Girassóis é enfatizada pelo seu pavimento, que contém figuras simbólicas como o mapa do Tocantins, a rosa dos ventos, o brasão de armas e a Praça Krahô.
- (E) O meio ambiente também foi utilizado para fortalecer o sentimento identitário, inserindo o girassol, a fava-de-bolota, a arara-canindé e a granada como símbolos da natureza do Tocantins, desde a promulgação da Constituição Estadual em 1989.

38

A respeito da matriz energética do Estado e dos investimentos em biocombustíveis, analise as afirmativas a seguir e assinale (V) para a verdadeira e (F) para a falsa.

- ( ) O Estado tem condições de clima e solo desfavoráveis para o plantio de matérias-primas usadas na fabricação de biocombustíveis, mas a expansão do modal logístico (Ferrovia Norte-Sul) permitirá o acesso à soja do planalto goiano.
- ( ) O Tocantins conta com duas usinas de biodiesel em funcionamento, utilizando o pinhão-mansão, a soja, a mamona e outras oleaginosas como matéria-prima.
- ( ) O Estado tem alto potencial de geração de energia solar, pela elevada irradiação solar e pelas políticas públicas voltadas para produção de energia limpa e renovável, como a Política Estadual de Incentivo à Geração e ao Uso da Energia Solar (Pró-Solar)

As afirmativas são, respectivamente,

- (A) V – F – V.
- (B) F – V – V.
- (C) F – F – V.
- (D) V – V – F.
- (E) V – V – V.

39

*As belas paisagens como serras, cachoeiras, praias e até mesmo dunas, fazem do Tocantins um paraíso de paisagens naturais, atraindo turistas de várias regiões para conhecer o mais novo Estado brasileiro. A potencialidade para o ecoturismo e a preocupação em conservar a biodiversidade e recursos naturais nele contidos fez com que o Governo do Estado, criasse e implementasse as Unidades de Conservação Ambiental (UC).*

Adaptado de <https://www.to.gov.br/secom/>

A respeito das Unidades de Conservação (UC) do Tocantins, assinale a afirmativa correta.

- (A) São espaços territoriais legalmente instituídos pelo poder público e podem ser de proteção integral federal, como no caso dos Parques Cantão, Jalapão e Lajeado.
- (B) As UCs federais estão subordinadas ao Instituto Chico Mendes de Conservação da Biodiversidade (ICMBio), como no caso do Monumento Natural das Árvores Fossilizadas.
- (C) As UCs estaduais estão subordinadas ao Instituto Natureza do Tocantins (Naturatins), que supervisiona o Parque do Araguaia e o das Nascentes do rio Parnaíba.
- (D) As UCs de uso sustentável são compostas exclusivamente por áreas públicas, sendo permitida sua utilização apenas para o ecoturismo, pesquisa e educação ambiental.
- (E) As UCs municipais estão subordinadas às secretarias de meio ambiente, como no caso do Monumento Natural dos Cânions e Corredeiras do Rio Sono e do Parque Ecológico Roberto Guedes Pereira.

40

O Estado do Tocantins possui diversas comunidades quilombolas certificadas e outras com processo formalizado para regularização fundiária de seus territórios. A definição de comunidade quilombola é dada pelo Art. 2º do Decreto nº 4.887/2003:

*Consideram-se remanescentes das comunidades dos quilombos, para os fins deste Decreto, os grupos étnico-raciais, segundo critérios de auto-atribuição, com trajetória histórica própria, dotados de relações territoriais específicas, com presunção de ancestralidade negra relacionada com a resistência à opressão histórica sofrida.*

A respeito dos órgãos e processos envolvidos na identificação e regularização de territórios quilombolas no Estado do Tocantins, assinale a afirmativa correta.

- (A) O acesso dessas comunidades às políticas públicas de educação, saúde, moradia e regularização fundiária depende de o Estado emitir uma certidão de identificação de comunidade quilombola, mediante Fundação Palmares.
- (B) Os critérios para reconhecimento de um grupo enquanto remanescente de quilombo depende da comprovação de sua ancestralidade, seu parentesco e da preservação viva de religiosidades autenticamente africanas.
- (C) A Coordenação Nacional de Articulação de Comunidades Negras Rurais Quilombolas (CONAQ) luta pela incorporação constitucional do direito à autodefinição dos remanescentes de quilombos.
- (D) A certificação quilombola é realizada pela Fundação Cultural Palmares, que avalia com visitas técnicas a autenticidade do legado quilombola pretendido e, caso o aprove, emite a certidão de comunidade quilombola e a inscreve em um cadastro geral.
- (E) O acesso às terras ocupadas pelos remanescentes das comunidades dos quilombos é garantido por sua delimitação e titulação, a cargo da autoridade municipal em que a mesma se localiza.

## CONHECIMENTOS ESPECÍFICOS

41

Em um curso de redação, os alunos aprenderam que deveriam organizar previamente um roteiro de seus textos.

Nesse caso, a função da língua escrita seria

- (A) Função de memorização – necessidade de proteção contra o esquecimento, como ocorre nas agendas.
- (B) Função de transferência – capacidade de superar o tempo e o espaço.
- (C) Função de preservação – armazenamento de informações para utilização em outro momento.
- (D) Função artística – construção de obras de arte com base na linguagem.
- (E) Função socio-político-cultural – afirmação da nacionalidade através da língua.

42

O trabalho de revisor de textos numa casa política tem muita importância já que devem ser produzidos textos de qualidade.

No caso do revisor, o conceito de escrever bem deve ser prioritariamente o de escrever de forma

- (A) culta e elaborada.
- (B) gramaticalmente correta.
- (C) adequada à situação.
- (D) simples e popular.
- (E) a causar interesse no leitor.

43

Uma das marcas de uma boa redação é a clareza; entre outros fatores, a clareza é também obtida pela ordem direta das frases.

Assinale a frase que se encontra em ordem direta.

- (A) Não passa o tempo: nós é que mudamos.
- (B) É tão absurdo apagar o passado como planejar o futuro.
- (C) D. Pedro I, nosso primeiro imperador, morreu jovem.
- (D) Poderoso é o efeito do tempo sobre as pessoas.
- (E) História: todo país tem duas, a real e a oficial.

44

Observe o seguinte segmento textual, retirado do romance *A Mortalha de Alzira*, de Aluísio Azevedo:

*O Dr. Cobalt. com o espírito alegre de que era dotado e com a sua pitoresca e original maneira de contar as cousas, narrou às damas e cavalheiros que se achavam no palpitante salão da condessa Alzira, a curiosa e singela história de Ângelo. Foi escutado com o máximo interesse. A formosa e fria dona da casa, essa mulher que diziam de coração surdo a todas as ternuras e de olhos secos e fechados para todas as dores, era todavia a que se mostrava presa dos lábios do narrador, e a que mais avidamente lhe bebia as palavras.*

Sobre os modos de organização discursiva desse segmento, assinale a afirmativa correta.

- (A) Trata-se de um texto exclusivamente narrativo, com narrador observador e onisciente.
- (B) Trata-se de texto exclusivamente descritivo, com foco numa cena que envolve uma exposição oral.
- (C) Trata-se de um texto de fundo argumentativo, com a defesa da tese de que as pessoas nunca são o que parecem.
- (D) Trata-se de texto simultaneamente descritivo, narrativo e argumentativo.
- (E) Trata-se de texto narrativo e descritivo, este último modo voltado para as pessoas presentes na cena.

45

Assinale a afirmação que não se coaduna com o modo narrativo de organização discursiva.

- (A) Uma narrativa envolve ações e/ou acontecimentos em sucessão cronológica.
- (B) O narrador de um texto pode ser basicamente um observador dos fatos ou participar deles como personagem.
- (C) Os temas de uma narração podem ser bastante variados, gerando narrativas históricas, ficcionais, policiais, de mistério, de ficção científica etc.
- (D) O tempo verbal básico de uma narrativa é o pretérito imperfeito do indicativo, podendo ser também o presente do indicativo (presente histórico).
- (E) Os verbos, advérbios e conjunções temporais desempenham papel crucial no texto narrativo.

46

As opções a seguir apresentam vários tipos textuais, acompanhados de modelos de textos representativos de cada tipo.

Assinale a opção em que os modelos textuais citados pertencem a outro tipo.

- (A) Tipo normativo: horóscopos, adivinhações.
- (B) Tipo informativo: notícias, avisos, bulas.
- (C) Tipo didático: manuais escolares, conferências.
- (D) Tipo publicitário: cartazes, folhetos de divulgação de produtos
- (E) Tipo expressivo: diários, confissões.

47

Assinale a o texto que se enquadra entre os textos de propaganda e não entre os de publicidade.

- (A) Venha fazer parte de nosso condomínio!
- (B) Abasteça seu carro e ganhe um almoço grátis!
- (C) Colabore com os Médicos sem Fronteiras!
- (D) Viaje hoje e pague em dez meses.
- (E) Sabonetes Vix! Cheiro do Paraíso!

48

Em cada frase a seguir há um termo sublinhado.

Assinale a frase em que todos os termos ligados a esse primeiro termo por coesão estão indicados.

- (A) O momento que estamos vivendo pertence igualmente a todos, mas o que passou não é mais nosso / que, o, que.
- (B) A história é um cavalo que galopa atravessando a janela, e você deve decidir se saltará para montá-lo ou não / que, lo.
- (C) Eu fiz um acordo de coexistência pacífica com o tempo. Nem ele me persegue nem eu fujo dele. Qualquer dia a gente se encontra / ele, se.
- (D) No dia em que o Brasil se livrar da praga do mau governo, não haverá nenhum milagre que sua economia não possa fazer / sua.
- (E) Em toda revolução há duas classes de pessoas: as que a fazem e as que se aproveitam dela / a, as, dela.

49

O verbo *fazer* é muitas vezes empregado como substituto de toda uma oração anterior, como ocorre na seguinte opção:

- (A) Enquanto uns trabalham, outros evitam fazer o mesmo.
- (B) As abelhas trabalham muito, mas também fazem cera.
- (C) Alguns trabalham enquanto outros fazem greve.
- (D) Enquanto alguns trabalham outros fazem a sesta.
- (E) Alguns fazem, outros prometem fazer.

50

Assinale a frase em que **não** há nenhum termo omitido por elipse.

- (A) Quem nasceu para obedecer, obedecerá mesmo no trono.
- (B) Um bom governo necessita de boa propaganda e a boa propaganda, de um bom governo.
- (C) A paz: uma trégua para a guerra.
- (D) Quem acha que não tem poder não tem poder.
- (E) O político deve sempre buscar a aprovação, porém jamais o aplauso.

51

As opções a seguir apresentam frases que mostram diferentes mecanismos de coesão.

Assinale a frase em que esse mecanismo **não** está identificado de forma adequada.

- (A) Popó, o lutador que se acha o mais forte do país, está de novo nas manchetes dos jornais / coesão por paráfrase “o lutador que se acha o mais forte do país”.
- (B) O gato miava, miava, miava enquanto o cachorro o cercava no canto da cozinha / coesão por meio da repetição de termos idênticos.
- (C) O carro lhe trazia muitos gastos e isso o levou a uma situação economicamente difícil / coesão por substituição de termos “isso”, “o”, além de coesão sequencial com a última oração.
- (D) Os visitantes apreciaram a educação e a solidariedade da população: ali estavam em paz / substituição pelo pronome adverbial “ali” e a elipse do sujeito de “estavam”.
- (E) O conferencista comunicou à plateia que a palestra só levaria meia hora / coesão por substituição “que” e a coesão sequencial com a complementação do verbo comunicar com uma oração.

52

Assinale a frase que apresenta intertextualidade por meio da alusão a um texto bastante conhecido.

- (A) Se você tem asco da corrupção, não pode ser um asno na notação.
- (B) O Brasil é uma nação de espertos que, reunidos, formam uma multidão de idiotas.
- (C) A ocasião faz o aliado.
- (D) Há boas leis que se originam de maus costumes.
- (E) Aprenda com as massas; depois, ensine-as.

53

As opções a seguir apresentam algumas manchetes de jornais.

Assinale a opção em que houve uma inferência adequada de uma delas.

- (A) O Vasco da Gama venceu ontem na Copa do Brasil / O Vasco da Gama é o melhor time do torneio.
- (B) A manifestação contra o aborto reuniu muitas pessoas na praia de Copacabana / Os católicos combatem o aborto por considerá-lo um assassinato.
- (C) Houve fuga de presos de um presídio de segurança máxima / há muita corrupção nos presídios.
- (D) Estão ocorrendo muitos engarrafamentos na Rio/São Paulo / os motoristas não devem beber antes de dirigir.
- (E) Nosso corpo é constituído majoritariamente por água / É importante ter água mineral em casa.

54

A seguir, estão cinco frases retiradas de para-choques de caminhões.

Assinale a frase que está livre do preconceito machista.

- (A) A única mulher que andou na linha o trem pegou.
- (B) Casamento é o fim da criança e o começo da criança.
- (C) Marido de mulher feia tem ódio de domingo e feriado.
- (D) Mulher é igual pipoca, quando dá uns pulinhos cai logo na boca do povo.
- (E) Mulher casa com a sua conta bancária.

55

*Hoje e amanhã vou estar aqui falando contra esse projeto* – disse o deputado.

Essa frase encontra-se em discurso direto; se ela for colocada em discurso indireto, a forma adequada seria

- (A) o deputado disse que naquele dia e no seguinte estaria lá falando contra aquele projeto.
- (B) o deputado disse que naquele dia e no seguinte estaria aqui falando contra aquele projeto.
- (C) o deputado disse que hoje e amanhã estaria lá falando contra aquele projeto.
- (D) o deputado disse que hoje e amanhã estará lá falando contra aquele projeto.
- (E) o deputado disse que em outro dia e no seguinte estaria aqui falando contra aquele projeto.

56

Imagine que você deve redigir um texto sobre *o desemprego no país*. Assinale a frase que **não** estaria adequada à exploração desse tema.

- (A) A tecnologia moderna extingue muitos empregos.
- (B) Trabalhar com prazer é ganhar férias eternas.
- (C) As profissões estão mudando seu perfil.
- (D) É preciso selecionar convenientemente a profissão.
- (E) Com o desemprego, aumentam os gastos sociais.

57

Assinale a frase que está perfeitamente adequada, considerando-se o uso da pontuação.

- (A) Passarinho não come pedra; porque sabe o bico que tem.
- (B) Proletários, de todos os países, uni-vos!
- (C) Liberdade, igualdade, e fraternidade.
- (D) Água, que é muito pura, nem peixe tem.
- (E) O beijo é como cigarro: não sustenta, mas vicia.

58

Assinale a figura de linguagem que apresenta um exemplo adequado.

- (A) Pleonasma: *a vida é um beco sem saída*.
- (B) Metáfora: *caía e levantava, caía e levantava*.
- (C) Anacoluto: *empregadas, quem pode ter criados hoje?*
- (D) Silepse: *somos todos brasileiros!*
- (E) Metonímia: *a plateia era uma confusão só!*

59

O tratamento de Vossa Senhoria é cabível ao seguinte cargo:

- (A) Ministro de Estado.
- (B) Presidente de empresas.
- (C) Bispos e cardeais.
- (D) Embaixadores.
- (E) Generais do Exército.

60

A preposição DE mostra inúmeros valores semânticos.

Assinale a frase em que essa preposição tem seu valor corretamente indicado.

- (A) Com o assalto, a casa ficou cercada de policiais / agente.
- (B) O bule de chá ficou horas sobre a mesa / continente.
- (C) Os quadros de Picasso valem fortunas / propriedade.
- (D) Os homens de cultura são educados / assunto.
- (E) Chegaram de táxi, mas atrasados / modo.

61

Assinale a frase em que não está presente uma expressão ou termo indicativo de causa.

- (A) O paisagista pinta tranquilo porque a paisagem defronte não se pode aproximar do quadro para ver se está parecida.
- (B) A História é como um estilingue. Quanto mais fundo você puxa, mais longe você alcança.
- (C) Algumas pessoas são o centro das atenções numa festa por terem ótimo senso se humor.
- (D) Em função de algumas declarações falsas, a repórter foi obrigada a desmenti-las.
- (E) Em vista do aumento de impostos, houve grande reclamação dos empresários.

62

Assinale a frase que mostra oposição entre seus segmentos básicos.

- (A) Uma coisa é ser dono do dinheiro; outra é ter o direito de usá-lo como quiser.
- (B) Lembre-se de que os vencedores fazem aquilo que os perdedores não querem fazer.
- (C) Não é a qualidade do dinheiro que você ganha, é a quantidade de dinheiro que você guarda.
- (D) Toda empresa precisa ter gente que erra, que não tem medo de errar e que aprende com o erro.
- (E) O resumo da sabedoria é este: nunca é perdido o tempo que se consagra ao trabalho.

63

Assinale a frase em que o vocábulo MAIS mostra uma classe gramatical diferente da que está presente nas demais frases.

- (A) De todos os caminhos que conduzem à riqueza, os mais seguros são a perseverança e o trabalho.
- (B) Há quem trabalha, cansa-se e se apressa, e está cada vez mais para trás.
- (C) O trabalho é honesto, mas há outras ocupações pouco menos honestas e muito mais lucrativas.
- (D) Enquanto a gente está juntando mais dinheiro, não dá para contá-lo.
- (E) O dinheiro deve ser apenas o mais poderoso de nossos escravos.

64

As frases a seguir mostram uma expressão de tom negativo. Tais expressões foram atenuadas com o emprego de negações.

Assinale a opção em que essa forma de atenuação está semanticamente inadequada.

- (A) Parece-me que esse cachorro te odeia / não gosta de você.
- (B) Proibiram-nos sair da cadeia / não entrar na cadeia.
- (C) Parece-me que a vítima vai morrer brevemente / não vai viver por muito tempo.
- (D) A cama do hotel era desconfortável / não dava conforto suficiente.
- (E) A feijoada está azeda / não está fresca.

65

Assinale a frase que está integralmente correta.

- (A) Os privilégios de alguns sempre foram condenados.
- (B) Havia cerca de 278 pessoas na plateia.
- (C) Os pais se entretiveram com os filhos no passeio.
- (D) O carro derrapou e foi ao encontro do poste.
- (E) Todos reaveram seus pertences após o acidente.

## LEGISLAÇÃO INSTITUCIONAL

66

Nos termos da Constituição do Estado do Tocantins, constitui objeto de lei complementar a seguinte matéria:

- (A) os prazos de prescrição para ilícitos praticados por qualquer agente, servidor ou não, que causem prejuízos ao erário.
- (B) os limites de idade, a estabilidade e outras condições de transferência do servidor militar para a inatividade.
- (C) os casos de contratação por tempo determinado para atender à necessidade temporária de excepcional interesse público.
- (D) as regras para cálculo de proventos de aposentadoria e pensão por morte.
- (E) os requisitos e as restrições ao ocupante de cargo ou emprego da administração direta e indireta que possibilite o acesso a informações privilegiadas.

67

Considerando o exercício da função legislativa por parte da Assembleia Legislativa de Tocantins, nos termos de seu Regimento Interno, é correto afirmar que

- (A) projetos de lei delegada podem se destinar a regular as matérias de exclusiva competência do Poder Executivo, com a sanção do Governador do Estado.
- (B) projetos de resolução podem se destinar a regular, com eficácia de lei ordinária, matéria de competência privativa da Assembleia Legislativa.
- (C) projetos de lei complementar visam regular matéria infraconstitucional.
- (D) projetos de lei têm por objetivo regular matérias de competência do Poder Legislativo, sem a sanção do Governador do Estado.
- (E) projetos de decreto legislativo destinam-se à delegação de competência, na forma estabelecida na Constituição Estadual.

**68**

Aline, servidora pública estadual, revelou segredo do qual se apropriou em razão do cargo que ocupa. A Administração Pública, ao tomar conhecimento do fato, instaurou procedimento administrativo disciplinar a fim de apurar a conduta e garantir à servidora os princípios da ampla defesa e do contraditório.

À luz do Estatuto dos Servidores Públicos Cíveis do Estado do Tocantins, caso punida, Aline poderá ser sancionada com

- (A) advertência.
- (B) suspensão.
- (C) prestação de serviço.
- (D) multa.
- (E) demissão.

**69**

Ana, servidora pública efetiva e estável, ocupante de cargo de nível superior, objetivando inteirar-se sobre os requisitos para a progressão na carreira, consultou a Lei nº 4.208/2023, que trata sobre o plano de cargos, carreiras e remuneração dos Servidores da Assembleia de Tocantins.

Assim, para fazer jus à progressão, Ana terá que

- (A) possuir no máximo três faltas injustificadas por exercício referente ao período avaliado.
- (B) obter conceito igual ou superior a 70% (setenta por cento) dos pontos possíveis em todos os procedimentos de sua Avaliação.
- (C) concluir curso de pós-graduação *lato sensu* com duração mínima de 360 (trezentos e sessenta) horas.
- (D) cumprir trinta meses de efetivo exercício na classe em que se encontra.
- (E) concluir cursos de aperfeiçoamento em sua área de atuação que tenha, no mínimo, 80 (oitenta) horas de duração.

**70**

Antônio foi nomeado para o cargo de Controlador Interno da Assembleia Legislativa de Tocantins.

À luz da Lei nº 4.209/2023, que dispõe sobre a estrutura administrativa da Aletto, durante o exercício da função, Antônio será competente para:

- (A) opinar, conclusivamente, em processos de direitos, deveres e obrigações dos servidores do Poder Legislativo.
- (B) constituir Comissão Permanente de Licitação.
- (C) examinar a observância das normas de licitações.
- (D) apresentar à Mesa Diretora o balancete mensal e, no início de cada exercício, o balancete geral das contas da Assembleia Legislativa, relativo ao exercício anterior.
- (E) planejar, coordenar, orientar, controlar e dirigir as atividades administrativas, orçamentárias, financeiras, de comunicação social, de tecnologia de informação e de apoio legislativo da Assembleia Legislativa.



## REDAÇÃO

A tarefa de escrever bem parece ser um problema sério: escrever bem é escrever de forma correta, é escrever de forma culta e elaborada, é escrever de forma adequada à situação, é escrever como os literatos? E o que pode fazer para chegar-se a escrever bem? É preciso que os funcionários de uma assembleia legislativa escrevam bem, qual a importância disso para os trabalhos aí realizados? Para dinamizar o trabalho, seria conveniente adotar a língua escrita da Internet?

*Todas essas questões devem ser respondidas num texto-dissertativo-argumentativo de, aproximadamente, 30 (trinta) linhas, em língua culta, dando especial atenção à adequada estruturação do texto e aos argumentos apresentados.*

1  
2  
3  
4  
5  
6  
7  
8  
9  
10  
11  
12  
13  
14  
15  
16  
17  
18  
19  
20  
21  
22  
23  
24  
25  
26  
27  
28  
29  
30



# ASSEMBLEIA LEGISLATIVA DO ESTADO DO TOCANTINS

CONCURSO PÚBLICO – EDITAL Nº 01/2023

## PROVA OBJETIVA – TARDE

### ANALISTA LEGISLATIVO REVISÃO

NÍVEL SUPERIOR – TIPO 2 – VERDE



#### SUA PROVA

- Além deste caderno contendo **70 (setenta)** questões objetivas e **1 (uma)** redação, você receberá do fiscal de prova o cartão de respostas e a folha de textos definitivos;
- As questões objetivas têm **5 (cinco)** opções de resposta (A, B, C, D) e somente uma delas está correta.



#### TEMPO

- Você dispõe de **5 (cinco) horas** para a realização da prova, já incluído o tempo para a marcação do cartão de respostas e da folha de textos definitivos;
- **3 (três) horas** após o início da prova, é possível retirar-se da sala, sem levar o caderno de questões;
- A partir dos **30 (trinta) minutos** anteriores ao término da prova é possível retirar-se da sala **levando o caderno de questões**.



#### NÃO SERÁ PERMITIDO

- Qualquer tipo de comunicação entre os candidatos durante a aplicação da prova;
- Anotar informações relativas às respostas em qualquer outro meio que não seja o caderno de questões;
- Levantar da cadeira sem autorização do fiscal de sala;
- Usar o sanitário ao término da prova, após deixar a sala.



#### INFORMAÇÕES GERAIS

- Verifique se seu caderno de questões está completo, sem repetição de questões ou falhas. Caso contrário, **notifique imediatamente o fiscal da sala**, para que sejam tomadas as devidas providências;
- Confira seus dados pessoais, especialmente nome, número de inscrição e documento de identidade e leia atentamente as instruções para preencher o cartão de respostas e a folha de textos definitivos;
- Para o preenchimento do cartão de respostas e da folha de textos definitivos, use somente caneta esferográfica, fabricada em material transparente, com tinta preta ou azul;
- Assine seu nome apenas no(s) espaço(s) reservado(s) no cartão de respostas e na folha de textos definitivos;
- Confira seu cargo, cor e tipo do caderno de questões. Caso tenha recebido caderno de cargo ou cor ou tipo **diferente** do impresso em seu cartão de respostas e em sua folha de textos definitivos, o fiscal deve ser **obrigatoriamente** informado para o devido registro na ata da sala;
- Reserve tempo suficiente para o preenchimento do seu cartão de respostas e da sua folha de textos definitivos. O preenchimento é de sua responsabilidade e **não será permitida a troca do cartão de respostas e da folha de textos definitivos em caso de erro cometido pelo candidato**;
- Para fins de avaliação, serão levadas em consideração apenas as marcações realizadas no cartão de respostas e na folha de textos definitivos;
- A FGV coletará as impressões digitais dos candidatos na lista de presença;
- Os candidatos serão submetidos ao sistema de detecção de metais quando do ingresso e da saída de sanitários durante a realização das provas.
- **Boa prova!**

## CONHECIMENTOS BÁSICOS

### Língua Portuguesa

1

Assinale a frase que mostra a palavra *mais* numa classe gramatical **diferente** das demais.

- (A) O mercado está prisioneiro de mais um círculo vicioso: piora porque piorou e porque piorou, piora.
- (B) Os ingleses conquistaram o mundo porque não aguentavam mais a própria cozinha.
- (C) Quanto mais vejo o estrangeiro, mais amo a minha pátria.
- (D) Não é mais possível aprender tudo de cor. Um homem instruído não é mais o homem que sabe muitas coisas; é o homem que sabe onde buscar informações.
- (E) Muda-se mais facilmente de religião do que de café

2

Um guitarrista americano produziu o seguinte pensamento:  
*O crítico de rock é alguém que não sabe escrever, entrevistando gente que não sabe falar, para gente que não sabe ler.*

Sobre a estruturação ou a significação desse pequeno texto, assinale a afirmativa **incorreta**.

- (A) O termo “de rock” funciona como complemento nominal do termo anterior.
- (B) Todos os elementos da cadeia comunicativa citados no texto são marcados pela ignorância.
- (C) O pensamento acima revela um preconceito fortíssimo contra os amantes de rock.
- (D) A opinião expressa no texto pode advir da experiência pessoal do autor, já que se trata de um guitarrista.
- (E) A injustiça desse texto provém de ser uma opinião fundamentada em uma autoridade duvidosa.

3

John Steinbeck, prêmio Nobel, declarou o seguinte:

*O homem é o único animal que bebe sem ter sede, come sem ter fome e fala sem ter nada a dizer.*

Em relação ao significado e à estruturação desse pequeno texto, assinale a afirmativa **incorreta**.

- (A) A frase ficaria mais enfática se invertêssemos a posição do termo inicial: O único animal que bebe sem ter sede, come sem ter fome e fala sem ter nada a dizer é o homem.
- (B) A inversão de alguns segmentos do texto em nada modificaria o sentido da frase: O homem é o único animal que come sem ter fome, bebe sem ter sede e fala sem ter nada a dizer.
- (C) Os segmentos finais do texto mostram preocupação com rigoroso paralelismo sintático.
- (D) Segundo a opinião do autor do texto, a marca principal do homem é a irracionalidade.
- (E) Nem todas as ações citadas como marcas humanas estão presentes, por oposição, nos outros animais.

4

Assinale a frase em que a utilização do acento grave indicativo da crase é realizada de forma **errada**.

- (A) Jamais alguém se arrependeu de ter-se acostumado à madrugar e à ter-se casado jovem.
- (B) Tempo é o suspiro de adeus do sol à terra.
- (C) Saio todos os dias às cinco horas e não permito que o meu trabalho interfira no meu jogo de tênis.
- (D) O momento de extrair uma lição da história está sempre à mão para os sábios.
- (E) Quando assumi, quatro anos atrás, estávamos à beira do precipício.

5

Assinale a frase que **não** expressa uma noção de tempo abstrato.

- (A) Nas asas do tempo, a tristeza voa.
- (B) Quem mata o tempo não é assassino, é suicida.
- (C) O tempo perdido não se encontra nunca mais.
- (D) O tempo é o melhor professor. Infelizmente, ele mata todos os seus estudantes
- (E) O tempo gasto na viagem foi de duas horas.

6

Observe o seguinte texto:

*Quando entrei no terrível vagão, ele estava ocupado por duas pessoas. Uma, dobrada, coberta, dormia profundamente. A coberta superior estava manchada, de fundo amarelado, como pele de leopardo. Vendem-se muitas mantas assim nas lojas de artigos de viagens, mas pude notar logo depois que se tratava realmente da pele de um animal selvagem; do mesmo modo, o boné da pessoa adormecida me pareceu ser de feltro branco bastante delicado. O outro viajante, uma aparência simpática, parecia ter passado dos trinta anos e mostrava-se como figura insignificante que passa confortavelmente as noites em estradas de ferro.*

Nesse fragmento textual, para criar sinais de história realista e verdadeira, o narrador apela para a seguinte estratégia:

- (A) seleciona uma situação banal da qual não precisa fornecer muitos detalhes, exatamente por sua banalidade.
- (B) fornece algumas marcas caracterizadoras dos dois personagens presentes no texto, destacando sua banalidade.
- (C) indica traços descritivos do ambiente, mostrando-o como se nada houvesse nele de excepcional.
- (D) mostra detalhes variados e bastante pitorescos dos objetos descritos.
- (E) dá ao leitor informações sobre personagens e ambiente, mostrando-os como bastante conhecidos do narrador.

7

Assinale a frase em que o adjetivo sublinhado mostra uma função sintática **diferente** das demais.

- (A) Por fora bela viola, por dentro pão bolorento.
- (B) Tiradentes, heroico, tentou organizar uma revolução.
- (C) Um rosto bonito altera-se depressa.
- (D) Eu não podia acreditar que existem múmias tão lindas.
- (E) Um homem belo é um homem insignificante.

8

Observe o seguinte texto:

*A felicidade depende da habilidade que tenhamos naquelas atividades que consideramos importantes: somente se lhes damos um real valor aos pequenos detalhes cotidianos, poderemos ter instantes felizes. A felicidade absoluta não existe, e já que só podemos acessar os pequenos detalhes daquilo que nos interessa, devemos contentar-nos com isso. Por isso, a infelicidade é um sinal claro de nossa incompetência na arte de viver.*

Sobre a estrutura e a significação desse texto, assinale a afirmativa **inadequada**.

- (A) O tema do texto gira em torno do que consiste a felicidade e o que viria a ser o seu oposto.
- (B) A afirmação de que “A felicidade absoluta não existe” é de cunho pessoal do autor do texto, representando uma opinião.
- (C) O raciocínio utilizado na estruturação argumentativa é do tipo dedutivo.
- (D) O conector “Por isso” mostra a preocupação com o caráter lógico da argumentação.
- (E) A tese do texto é a de que a infelicidade é fruto de nossa incompetência na arte de viver.

9

As frases a seguir mostram termos ligados pela conjunção OU.

Assinale a frase em que essa conjunção mantém o valor de alternativa (e não de adição).

- (A) João ou Pedro deve ser eleito presidente da empresa.
- (B) A alegria ou a tristeza fazem parte da vida.
- (C) Inglês ou francês são idiomas falados pelos turistas
- (D) Os clientes leem livros ou revistas enquanto esperam.
- (E) Vasco ou Flamengo são times de longa tradição.

10

Muitas palavras portuguesas mostram o prefixo A- sem qualquer valor semântico, sendo equivalentes ao mesmo vocábulo sem esse prefixo.

Assinale a palavra a seguir que exemplifica esse A protético.

- (A) amostrar
- (B) abraçar
- (C) atenuar
- (D) aguardar
- (E) aparar

11

Assinale a opção que mostra uma impropriedade léxica, ou seja, um emprego **inadequado** da expressão “cerca de”.

- (A) Havia cerca de três dúzias de convidados no final da festa.
- (B) Chegaram cerca de 100 cartas no mesmo dia.
- (C) Cerca de 18 lojas fecharam as portas mais cedo.
- (D) Os cantores receberam cerca de uma centena de convites.
- (E) A plantação produziu cerca de uma tonelada de legumes.

12

Os adjetivos podem representar estados, qualidades, características e relações.

Assinale a frase que mostra um tipo de adjetivo **diferente** dos demais.

- (A) Nunca houve criança tão amável que a própria mãe não ficasse satisfeita ao conseguir adormecê-la.
- (B) Nada mais perversamente cruel que uma adorável criança.
- (C) Mesmo estando doentes, as crianças não ficam caladas.
- (D) Quando as crianças estão quietas é porque fizeram alguma coisa errada.
- (E) As tangerinas verdes não amadurecem fora do pé.

## Raciocínio Lógico Matemático

13

Em uma caixa, há muitas canetas esferográficas. Classificadas conforme a cor, elas podem ser azuis, vermelhas ou pretas. Classificadas quanto à espessura da esfera, elas podem ser de ponta fina ou de ponta grossa.

Metade das canetas vermelhas tem a ponta grossa. A quantidade total de canetas pretas é igual à quantidade total de canetas vermelhas. Entre as canetas de ponta grossa, a quantidade de azuis é igual à de pretas. A quantidade de canetas azuis com ponta fina é o dobro da quantidade de canetas pretas de ponta grossa.

Se, nessa caixa, 18 são azuis e 20 têm ponta grossa, então a quantidade total de canetas na caixa é

- (A) 30.
- (B) 40.
- (C) 48.
- (D) 50.
- (E) 52.

14

Certo programa de rádio tem 1 hora e 55 minutos de duração. A partir do momento em que o programa é iniciado, há blocos temáticos de 7 minutos intercalados por blocos de propagandas de 2 minutos.

Em todos os blocos de propaganda, ouve-se o comercial do restaurante R, que sempre dura 18 segundos.

Se o programa começa e termina com um bloco temático, então, o tempo total do programa dedicado ao anúncio do restaurante R é

- (A) 3 minutos e 54 segundos.
- (B) 3 minutos e 36 segundos.
- (C) 3 minutos e 18 segundos.
- (D) 3 minutos.
- (E) 2 minutos e 48 segundos.

15

Em certo ano, o dia 1º de agosto cai em um domingo. Logo, o dia 1º de novembro cairá em

- (A) um sábado.
- (B) um domingo.
- (C) uma segunda-feira.
- (D) uma quarta-feira.
- (E) uma sexta-feira.

**16**

Considere a seguinte proposição condicional:

*Se todos os alunos da Escola Aristarco gostam de matemática, então, ao menos um deles ganha medalha na Olimpíada Nacional de Matemática.*

Se essa proposição é verdadeira, é correto afirmar que

- (A) se nenhum dos alunos da Escola Aristarco gosta de Matemática, então nenhum deles ganha medalha na Olimpíada Nacional de Matemática.
- (B) se todos os alunos da Escola Aristarco ganham medalha na Olimpíada Nacional de Matemática, então, todos esses alunos gostam de Matemática.
- (C) se algum aluno da Escola Aristarco ganha medalha na Olimpíada Nacional de Matemática, então todos esses alunos gostam de Matemática.
- (D) se nenhum aluno da Escola Aristarco ganha medalha na Olimpíada Nacional de Matemática, então nenhum desses alunos gosta de Matemática.
- (E) se nenhum aluno da Escola Aristarco ganha medalha na Olimpíada Nacional de Matemática, então algum desses alunos não gosta de Matemática.

**17**

A linha de produção de certa fábrica produz 1100 latas de sardinhas a cada hora. Certo dia, por um defeito de calibragem do sistema, entre 13h e 14h, o volume de produção foi reduzido em 30% durante exatos 12 minutos.

A quantidade de latas de sardinhas produzidas no intervalo supracitado foi

- (A) 946.
- (B) 964.
- (C) 1022.
- (D) 1034.
- (E) 1046.

**18**

Um dado é dito comum quando tem a forma de um cubo e suas 6 faces são numeradas de 1 a 6, de tal forma que a soma dos números estampados em faces opostas, quaisquer que sejam elas, sempre somam 7.

Quando um dado comum é lançado, diz-se que o resultado do lançamento é o número estampado na face voltada para cima.

Um dado foi lançado 3 vezes seguidas. Se o produto dos resultados obtidos nos lançamentos vale 75, a soma desses resultados é igual a

- (A) 12.
- (B) 13.
- (C) 14.
- (D) 15.
- (E) 16.

**19**

Marcelo está parado de frente para uma das paredes de uma sala quadrada. Nesta posição, ele está a 1m e 20cm da parede que se encontra à sua direita e a 1m e 70cm da parede que está às suas costas.

Ele, então, se desloca paralelamente às paredes da sala sendo 40cm para a frente e 80cm para a direita. Nessa nova posição, ele passou a distar 1m e 90cm da parede que antes estava à sua esquerda.

Desprezando-se as dimensões de Marcelo, a sua atual distância à parede que, antes dos movimentos, estava à sua frente, é

- (A) 20cm.
- (B) 30cm.
- (C) 40cm.
- (D) 50cm.
- (E) 60cm.

**20**

A negação da proposição:

$$\text{Se } y \neq 0, \text{ então } x > 2 \text{ e } x \leq 5$$

é dada por

- (A) Se  $y = 0$ , então  $x > 2$  e  $x \leq 5$
- (B) Se  $y = 0$ , então  $x < 2$  ou  $x \geq 5$
- (C)  $y = 0$  e  $x \leq 2$  ou  $x > 5$
- (D)  $y \neq 0$  e  $x \leq 2$  ou  $x > 5$
- (E)  $y \neq 0$  e  $x \leq 2$  e  $x > 5$

**21**

Tucídides possuía uma dívida e, em vez de quitá-la, pagou apenas 20% do seu valor, deixando o restante para ser quitado em data futura, com acréscimo de 12% a título de juros sobre o saldo devedor.

No ato de quitação, Tucídides pagou R\$2.329,60. Logo, o valor original da dívida é o resultado da seguinte expressão:

(A)  $2.329,60 \times 0,88 - 20$

(B)  $\frac{2.329,60}{0,88} \times 1,20$

(C)  $\frac{2.329,60}{1,12} \times 1,20$

(D)  $\frac{2.329,60}{1,12 \times 1,20}$

(E)  $\frac{2.329,60}{1,12 \times 0,8}$

**22**

As filhas de Nepomuceno têm 5 e 9 anos de idade. Ele dividirá R\$420,00 entre elas de forma inversamente proporcional às suas idades.

Logo

- (A) a mais nova receberá R\$120,00 a mais que a mais velha.
- (B) a mais nova receberá R\$150,00 a mais que a mais velha.
- (C) a mais nova receberá R\$270,00 a mais que a mais velha.
- (D) a mais velha receberá R\$120,00 a mais que a mais nova.
- (E) a mais velha receberá R\$150,00 a mais que a mais nova.

## Atualidades

23

Assinale a afirmativa que descreve corretamente um aspecto do panorama global da economia em 2023.

- (A) Nos Estados Unidos, a economia foi alavancada pela adoção de uma política de ampliação do crédito e baixa da taxa de juros.
- (B) Na China, o PIB cresceu acima do esperado, em um cenário marcado pela retomada econômica pós pandemia, inclusive no setor imobiliário.
- (C) Na Zona do Euro, a alta dos preços da energia pesou nas despesas familiares e no setor industrial, confirmando a manutenção de um quadro de crise.
- (D) Na Rússia, o PIB decresceu, em função do impacto prolongado da guerra com a Ucrânia e dos embargos à venda de petróleo e gás russos.
- (E) Na América do Sul, foi mantido um caminho geral de crescimento, apoiado por investimentos externos e pela intensificação de políticas estatistas.

24

Energia gerada por recursos naturais renováveis que, no Brasil, provém da lenha, carvão vegetal, carvão mineral, bagaço de cana e outros resíduos combustíveis. Essa energia é a matéria orgânica vegetal ou animal usada como fonte de energia limpa e sustentável.

O trecho descreve o seguinte componente importante do desenvolvimento sustentável:

- (A) compostagem.
- (B) biodiversidade.
- (C) créditos de carbono.
- (D) ciclo de vida.
- (E) biomassa.

25

As afirmativas a seguir descrevem corretamente o desempenho da economia brasileira em 2023, à exceção de uma. Assinale-a.

- (A) A expansão econômica ampliou a geração de empregos informais, em um contexto recessivo e de flexibilização das leis trabalhistas.
- (B) O dinamismo da economia foi marcado pelo aumento de exportações, no setor agrícola, e da demanda, no setor de serviços, em função da alta no consumo das famílias.
- (C) A alta progressiva nas cotações internacionais de commodities acelerou o ritmo das exportações, mesmo em um cenário cambial desfavorável para os exportadores.
- (D) A retração do Brasil no mercado regional e internacional ocorreu em função da maior competitividade dos produtos agrícolas argentinos e pela retomada da economia chinesa.
- (E) A persistência do alto nível da inflação foi ocasionada pela alta da cesta básica, sobretudo dos alimentos, cujas safras foram afetadas pelas condições climáticas adversas.

26

Em 2024, o Tribunal Superior Eleitoral (TSE) aprovou uma resolução para regulamentar o uso da inteligência artificial (IA) durante as eleições municipais a serem realizadas em outubro. A norma proíbe manipulações de conteúdo falso para criar ou substituir imagem ou voz de candidato com objetivo de prejudicar ou favorecer candidaturas. Também foi aprovada a restrição do uso de chatbots humanizados e avatares para intermediar a comunicação das campanhas com pessoas reais nas redes sociais.

Adaptado de <https://agenciabrasil.ebc.com.br/>

A resolução sobre IA objetiva

- (A) coibir a produção e circulação de *deepfakes*.
- (B) restringir o uso de ferramentas de IA simbólica.
- (C) retomar a veiculação de propagandas eleitorais em mídias tradicionais, como rádio e televisão.
- (D) proibir o uso de ferramentas de coleta e seleção em bases de dados com fins eleitorais.
- (E) limitar o uso de assistente virtual programado por AI para divulgação do programa partidário.

27

No início do ano corrente, a Petrobras anunciou ter alcançado em 2023 o segundo maior valor de lucro líquido de sua história. Mesmo assim, suas ações caíram no mercado financeiro, em função da disputa sobre os dividendos.

A respeito dos resultados financeiros da Petrobrás nos últimos anos e da política de distribuição de dividendos da empresa, assinale a afirmativa correta.

- (A) A Petrobras é uma empresa estatal de economia mista que monopoliza a indústria petroleira no Brasil.
- (B) A Petrobras é uma estatal administrada diretamente por órgãos governamentais que controlam o valor das suas ações.
- (C) A Petrobras direciona parte dos dividendos para investidores privados, e outra parte para o governo federal, que controla a empresa via Tesouro e BNDES.
- (D) A Petrobras, sob o Governo Bolsonaro, reduziu o pagamento de dividendos a acionistas privados para reinvesti-los em energia renovável.
- (E) A Petrobras, no atual governo, vendeu ativos e distribuiu o lucro e os valores recordes de dividendos entre seus acionistas para financiar projetos do BNDES.

28

De acordo com o censo demográfico de 2022 (IBGE), mais da metade da população brasileira (51,13%) é feminina, e elas representam, segundo o Tribunal Superior Eleitoral, 53% do eleitorado. No entanto, elas ocupam, hoje, menos de 15% dos cargos eletivos.

A respeito da baixa participação das mulheres na política, assinale a afirmativa que apresenta um dispositivo existente na legislação brasileira para alterar esse cenário.

- (A) Reserva de pelo menos 50% dos recursos do Fundo Especial de Financiamento de Campanha, o Fundo Eleitoral, para financiar candidaturas femininas.
- (B) Suspensão dos direitos eleitorais aos partidos em caso de não observância do percentual de pelo menos 30% de candidatas mulheres em cada ciclo eleitoral
- (C) Reserva de assentos, em ambas as casas legislativas, para mulheres, com preferência para as representantes de povos originários.
- (D) Cota de gênero, que obriga cada partido ou coligação a preencher o mínimo de 30% e o máximo de 70% de candidaturas de cada sexo.
- (E) Repasse de até 30% dos recursos dos Fundos Partidário para custear o tempo da propaganda eleitoral gratuita de candidatas em rádio e televisão.

29

*Dados da última década mostram que, em relação aos Estados, o Pará é o que apresenta o maior número de registros de resgates de trabalho análogo à escravidão, com 9.853, seguido por Mato Grosso (4.302); Tocantins (2.896); São Paulo (1.529) e Rio de Janeiro (1.653), em 2017.*

Adaptado de <https://www.jota.info/justica/em-14-anos-434-mil-foram-resgatados-de-trabalho-escravo-30102017>

A respeito da definição moderna de escravidão, analise as afirmativas a seguir.

- I. Em Tocantins, a maior incidência de escravidão moderna ocorre na zona rural, associada a atividades agropecuárias e ao extrativismo mineral, como nas carvoarias, por exemplo.
- II. A Organização Internacional do Trabalho determina a condição de escravidão por uma série de componentes, como o trabalho forçado análogo ao de escravo e o casamento forçado.
- III. Pessoas obrigadas a trabalhar por dívida ou por ameaça, sem direitos trabalhistas garantidos estão em situação de escravidão, uma vez que lhes é impedida a liberdade de ir e vir.

Está correto o que se afirma em

- (A) I, apenas.
- (B) I e II, apenas.
- (C) I e III, apenas.
- (D) II e III, apenas.
- (E) I, II e III.

30

*Desde os anos 2000, o interior do Brasil ultrapassou o litoral na incidência de dengue. A região costeira que vai de Santos, em São Paulo, até Belém, no Pará, apresentava tipicamente maior proporção de casos de dengue em comparação com sua população. Entretanto, recentemente, o oeste do Paraná, o oeste de Santa Catarina o oeste de São Paulo, o interior de Minas Gerais, uma parte do Tocantins, o Goiás e o Mato Grosso do Sul viram a transmissão da doença aumentar e muitas de suas cidades foram obrigadas a decretar emergência.*

Adaptado de <https://www.estadao.com.br>

A respeito dos fatores relacionados ao aumento e à interiorização dos casos de dengue no Brasil, analise as afirmativas a seguir.

- I. A maior frequência de períodos com temperaturas acima da média, inclusive com ondas de calor no período invernal em todo território, tem reforçado o padrão sazonal da doença.
- II. A expansão urbana desvinculada de melhoras nos serviços sanitários tem propiciado a formação de ilhas de calor e, portanto, uma alta na incidência da dengue.
- III. O desmatamento do cerrado, convertido em pasto, por exemplo, tem contribuído para aumentar a temperatura média e o número de casos da doença no interior do Brasil.

Está correto o que se afirma em

- (A) I, apenas.
- (B) I e II, apenas.
- (C) I e III, apenas.
- (D) II e III, apenas.
- (E) I, II e III.

31

*Um supercomputador consiste em milhares de pequenos computadores chamados nós. Cada nó é equipado com sua própria memória e com vários processadores. Atuando em conjunto, eles são capazes de realizar cálculos extremamente complexos em elevada velocidade. Hoje, o maior supercomputador da América Latina é o Pégaso, da Petrobras, com 678 TB de memória RAM e mais de 233 mil núcleos.*

Adaptado de <https://revistapesquisa.fapesp.br>

A respeito do poder computacional de alto desempenho dos supercomputadores, analise as afirmativas a seguir e assinale (V) para a verdadeira e (F) para a falsa.

- ( ) Essas máquinas são instrumentos valiosos de pesquisa e de suporte a setores da economia como defesa, energia e saúde, permitindo a resolução de problemas complexos em menor tempo.
- ( ) Esses equipamentos permitem realizar tarefas que exigem altíssimos níveis de processamento, como simulações da formação do universo ou modelagem molecular para novos fármacos.
- ( ) Esses aparelhos trabalham em alta velocidade de processamento pelo somatório de diversos núcleos, o que potencializa a velocidades do processador, medidas em gigahertz (GHz).

As afirmativas são, respectivamente,

- (A) V – V – F.
- (B) V – F – V.
- (C) F – V – F.
- (D) F – V – V.
- (E) V – V – V.

32

A França se tornou o primeiro país do mundo a incluir na Constituição a liberdade de a mulher abortar. A mudança na Carta Magna foi aprovada em uma sessão conjunta das duas Casas legislativas, a Assembleia Nacional e o Senado, e será promulgada pelo presidente Emmanuel Macron ainda em março de 2024.

Adaptado de <https://www1.folha.uol.com.br/mundo/2024/03/>

Diferentemente da França, a legislação brasileira

- (A) equipara o aborto ao infanticídio.
- (B) considera o aborto uma prática ilegal em todas as situações.
- (C) descriminaliza a interrupção da gravidez em caso de deficiência da gestante.
- (D) estabelece um limite temporal para interromper a gravidez, desde que respaldada por laudo médico.
- (E) autoriza a interrupção de gestação em caso de não haver outro meio de salvar a vida da gestante.

## História e Geografia do Estado de Tocantins

33

O Estado do Tocantins possui diversas comunidades quilombolas certificadas e outras com processo formalizado para regularização fundiária de seus territórios. A definição de comunidade quilombola é dada pelo Art. 2º do Decreto nº 4.887/2003:

*Consideram-se remanescentes das comunidades dos quilombos, para os fins deste Decreto, os grupos étnico-raciais, segundo critérios de auto-atribuição, com trajetória histórica própria, dotados de relações territoriais específicas, com presunção de ancestralidade negra relacionada com a resistência à opressão histórica sofrida.*

A respeito dos órgãos e processos envolvidos na identificação e regularização de territórios quilombolas no Estado do Tocantins, assinale a afirmativa correta.

- (A) O acesso dessas comunidades às políticas públicas de educação, saúde, moradia e regularização fundiária depende de o Estado emitir uma certidão de identificação de comunidade quilombola, mediante Fundação Palmares.
- (B) Os critérios para reconhecimento de um grupo enquanto remanescente de quilombo depende da comprovação de sua ancestralidade, seu parentesco e da preservação viva de religiosidades autenticamente africanas.
- (C) A Coordenação Nacional de Articulação de Comunidades Negras Rurais Quilombolas (CONAQ) luta pela incorporação constitucional do direito à autodefinição dos remanescentes de quilombos.
- (D) A certificação quilombola é realizada pela Fundação Cultural Palmares, que avalia com visitas técnicas a autenticidade do legado quilombola pretendido e, caso o aprove, emite a certidão de comunidade quilombola e a inscreve em um cadastro geral.
- (E) O acesso às terras ocupadas pelos remanescentes das comunidades dos quilombos é garantido por sua delimitação e titulação, a cargo da autoridade municipal em que a mesma se localiza.

34

O Memorial Coluna Prestes (2001) é uma obra do arquiteto Oscar Niemeyer localizada na Praça dos Girassóis, no centro de Palmas (TO).



Fonte: <https://central.to.gov.br/image/146145?f=1>

A respeito da relação entre essa obra e a constituição de uma memória histórica para o Estado do Tocantins, analise as afirmativas a seguir.

- I. O monumento refere-se à Coluna Prestes, que percorreu o Brasil para divulgar seu programa revolucionário entre 1924 e 1927, tendo passado pelo Norte do então Estado de Goiás (atual Tocantins) durante seu percurso.
- II. A obra foi realizada em concreto e apresenta curvas sinuosas, características próprias do Barroco das cidades mineradoras, estabelecendo visualmente uma continuidade entre o Barroco do passado das cidades mineradoras e o presente do Tocantins.
- III. A construção do memorial permite inserir simbolicamente a história do Tocantins nos grandes processos da história republicana nacional, e homenagear o Tenente Antônio de Siqueira Campos, cujo sobrenome é homônimo ao do ex-governador do Estado.

Está correto o que se afirma em

- (A) I, apenas.
- (B) I e II, apenas.
- (C) I e III, apenas.
- (D) II e III, apenas.
- (E) I, II e III.



35

As belas paisagens como serras, cachoeiras, praias e até mesmo dunas, fazem do Tocantins um paraíso de paisagens naturais, atraindo turistas de várias regiões para conhecer o mais novo Estado brasileiro. A potencialidade para o ecoturismo e a preocupação em conservar a biodiversidade e recursos naturais nele contidos fez com que o Governo do Estado, criasse e implementasse as Unidades de Conservação Ambiental (UC).

Adaptado de <https://www.to.gov.br/secom/>

A respeito das Unidades de Conservação (UC) do Tocantins, assinale a afirmativa correta.

- (A) São espaços territoriais legalmente instituídos pelo poder público e podem ser de proteção integral federal, como no caso dos Parques Cantão, Jalapão e Lajeado.
- (B) As UCs federais estão subordinadas ao Instituto Chico Mendes de Conservação da Biodiversidade (ICMBio), como no caso do Monumento Natural das Árvores Fossilizadas.
- (C) As UCs estaduais estão subordinadas ao Instituto Natureza do Tocantins (Naturatins), que supervisiona o Parque do Araguaia e o das Nascentes do rio Parnaíba.
- (D) As UCs de uso sustentável são compostas exclusivamente por áreas públicas, sendo permitida sua utilização apenas para o ecoturismo, pesquisa e educação ambiental.
- (E) As UCs municipais estão subordinadas às secretarias de meio ambiente, como no caso do Monumento Natural dos Cânions e Corredeiras do Rio Sono e do Parque Ecológico Roberto Guedes Pereira.

36

Leia a descrição de uma classe de vegetação presente no estado do Tocantins, a seguir.

*Esta vegetação, também conhecida como floresta pluvial tropical, é caracterizada por árvores de porte elevado, além de trepadeiras lenhosas e epífitas (bromélias e orquídeas, por exemplo) em abundância, o que a diferencia de outras classes de formação vegetal. Sua característica ecológica principal é estar presente em ambientes de chuvas abundantes, como na parte noroeste do Estado, onde as temperaturas médias são de 25°C e os elevados índices de precipitação estão bem distribuídos ao longo do ano.*

Adaptado de Luís Antônio G. C. Silva. *Biomias presentes no Estado do Tocantins*. Brasília: Câmara dos Deputados, 2007, p. 4.

O trecho caracteriza a região conhecida como Floresta

- (A) Estacional Semidecidual.
- (B) Tropical Subcaducifólia.
- (C) de Mata Atlântica.
- (D) Ombrófila Densa.
- (E) Temperada Decidual.

37

Foram inegáveis os desdobramentos socioeconômicos sobre o antigo Norte Goiano fruto da construção da rodovia BR-153, a partir do final da década de 1950. O novo urbanismo da Belém-Brasília trouxe enorme impacto no que se refere ao conjunto de cidades que existiam às margens do rio Tocantins, aos fluxos migratórios e às atividades econômicas da região.

Adaptado de AQUINO, N. *Tocantins: cidades e urbanismo em três modelos históricos*. In: III Encontro da ANPPAS. Brasília, 2006, p. 8.

As afirmativas a seguir descrevem corretamente impactos da rodovia BR-153 no processo de territorialização do Tocantins, **à exceção de uma**. Assinale-a.

- (A) A rodovia foi construída no governo Kubitschek, em um contexto desenvolvimentista que considerava a expansão rodoviária como um meio para integrar econômica e territorialmente as regiões do país, inclusive o norte goiano que, então, vivia uma situação de abandono.
- (B) A rodovia Belém-Brasília teve grande importância para a urbanização do atual Tocantins, o que é exemplificado pela quantidade de novas cidades criadas após a sua construção, como Araguaína, Gurupi, Paraíso do Tocantins, Colinas do Tocantins e Guaraí.
- (C) A construção da BR-153 alavancou também os municípios ribeirinhos, pois a navegação fluvial foi intensificada para abastecer as obras em curso, o que transformou esses municípios em satélites econômicos da nova malha urbana instalada ao longo da rodovia.
- (D) Após a abertura da rodovia, as principais áreas que receberam fluxos migratórios foram a Microrregião de Gurupi – Gurupi e a Microrregião de Porto Nacional – Palmas, para onde se dirigiram pessoas interessadas em trabalhar na construção civil, nos serviços e no comércio, entre outros.
- (E) A BR-153 permitiu interligar o norte de Goiás, atual Estado do Tocantins, a outras localidades do país, facilitando o escoamento da produção e o acesso a produtos para a região, promovendo o fluxo de mercadorias e serviços.

38

Até 1988, o território que hoje corresponde ao Estado do Tocantins pertencia ao antigo norte de Goiás e à Região Centro-Oeste, tendo como capital política a cidade de Goiânia. Com a emancipação política, da noite para o dia, as pessoas amanheceram tocantinenses, mas sem referências culturais que as representassem como tais.

A respeito da projeção simbólica do novo Estado e de sua nova capital, assinale a opção que interpreta corretamente o processo de construção e atribuição de uma identidade ao Tocantins.

- (A) Desde o primeiro mandato do governador Siqueira Campos, os símbolos oficiais do Tocantins continuaram sendo o brasão de armas, a bandeira, o selo estadual e a canção "Hino ao Tocantins", de Liberato Costa Póvoa e Abiezer Alves da Rocha.
- (B) O girassol foi reconhecido oficialmente como símbolo da natureza do Estado, por ser uma planta nativa dos cerrados tocantinenses e estar associada à prosperidade e à esperança.
- (C) A Praça dos Girassóis, centro cívico de Palmas, foi concebida para receber edifícios esteticamente associados à cultura do Tocantins, como o Palácio do Araguaia, cujos pórticos remetem ao capim dourado, símbolo da tradição do artesanato de alta qualidade da região.
- (D) A monumentalidade da Praça dos Girassóis é enfatizada pelo seu pavimento, que contém figuras simbólicas como o mapa do Tocantins, a rosa dos ventos, o brasão de armas e a Praça Krahô.
- (E) O meio ambiente também foi utilizado para fortalecer o sentimento identitário, inserindo o girassol, a fava-de-bolota, a arara-canindé e a granada como símbolos da natureza do Tocantins, desde a promulgação da Constituição Estadual em 1989.

39

Comparando dados dos censos do IBGE, pode-se elaborar um retrato da evolução demográfica da população residente no Estado de Tocantins. O grupo na faixa etária de 0 a 14 representava 41,7% da população em 1991, 28,8% em 2010, e passou para 24% em 2022. A população acima de 65 anos era de 3,8% em 1991 e 5,8% em 2010, e ficou em 8,6% em 2022. O censo de 2022 mostrou ainda que a faixa etária de 15 a 29 anos representa 15% da população e que 41% da população é composta por pessoas de 30 a 59 anos.

Com base no trecho, assinale a opção que apresenta a dinâmica populacional do Tocantins entre 1991 e 2022.

- (A) Expansão da base da pirâmide etária.
- (B) Diminuição da taxa de fecundidade.
- (C) Estreitamento do topo da pirâmide.
- (D) Aumento da idade mediana.
- (E) Redução do índice de envelhecimento.

40

A respeito da matriz energética do Estado e dos investimentos em biocombustíveis, analise as afirmativas a seguir e assinale (V) para a verdadeira e (F) para a falsa.

- ( ) O Estado tem condições de clima e solo desfavoráveis para o plantio de matérias-primas usadas na fabricação de biocombustíveis, mas a expansão do modal logístico (Ferrovia Norte-Sul) permitirá o acesso à soja do planalto goiano.
- ( ) O Tocantins conta com duas usinas de biodiesel em funcionamento, utilizando o pinhão-mansão, a soja, a mamona e outras oleaginosas como matéria-prima.
- ( ) O Estado tem alto potencial de geração de energia solar, pela elevada irradiação solar e pelas políticas públicas voltadas para produção de energia limpa e renovável, como a Política Estadual de Incentivo à Geração e ao Uso da Energia Solar (Pró-Solar)

As afirmativas são, respectivamente,

- (A) V – F – V.
- (B) F – V – V.
- (C) F – F – V.
- (D) V – V – F.
- (E) V – V – V.

## CONHECIMENTOS ESPECÍFICOS

41

As opções a seguir apresentam frases que mostram diferentes mecanismos de coesão.

Assinale a frase em que esse mecanismo **não** está identificado de forma adequada.

- (A) Popó, o lutador que se acha o mais forte do país, está de novo nas manchetes dos jornais / coesão por paráfrase "o lutador que se acha o mais forte do país".
- (B) O gato miava, miava, miava enquanto o cachorro o cercava no canto da cozinha / coesão por meio da repetição de termos idênticos.
- (C) O carro lhe trazia muitos gastos e isso o levou a uma situação economicamente difícil / coesão por substituição de termos "isso", "o", além de coesão sequencial com a última oração.
- (D) Os visitantes apreciaram a educação e a solidariedade da população: ali estavam em paz / substituição pelo pronome adverbial "ali" e a elipse do sujeito de "estavam".
- (E) O conferencista comunicou à plateia que a palestra só levaria meia hora / coesão por substituição "que" e a coesão sequencial com a complementação do verbo comunicar com uma oração.

42

Assinale a frase em que o vocábulo MAIS mostra uma classe gramatical **diferente** da que está presente nas demais frases.

- (A) De todos os caminhos que conduzem à riqueza, os mais seguros são a perseverança e o trabalho.
- (B) Há quem trabalha, cansa-se e se apressa, e está cada vez mais para trás.
- (C) O trabalho é honesto, mas há outras ocupações pouco menos honestas e muito mais lucrativas.
- (D) Enquanto a gente está juntando mais dinheiro, não dá para contá-lo.
- (E) O dinheiro deve ser apenas o mais poderoso de nossos escravos.

43

A seguir, estão cinco frases retiradas de para-choques de caminhões.

Assinale a frase que está livre do preconceito machista.

- (A) A única mulher que andou na linha o trem pegou.
- (B) Casamento é o fim da infância e o começo da criação.
- (C) Marido de mulher feia tem ódio de domingo e feriado.
- (D) Mulher é igual pipoca, quando dá uns pulinhos cai logo na boca do povo.
- (E) Mulher casa com a sua conta bancária.

44

As frases a seguir mostram uma expressão de tom negativo. Tais expressões foram atenuadas com o emprego de negações.

Assinale a opção em que essa forma de atenuação está semanticamente **inadequada**.

- (A) Parece-me que esse cachorro te odeia / não gosta de você.
- (B) Proibiram-nos sair da cadeia / não entrar na cadeia.
- (C) Parece-me que a vítima vai morrer brevemente / não vai viver por muito tempo.
- (D) A cama do hotel era desconfortável / não dava conforto suficiente.
- (E) A feijoada está azeda / não está fresca.

45

As opções a seguir apresentam vários tipos textuais, acompanhados de modelos de textos representativos de cada tipo.

Assinale a opção em que os modelos textuais citados pertencem a outro tipo.

- (A) Tipo normativo: horóscopos, adivinhações.
- (B) Tipo informativo: notícias, avisos, bulas.
- (C) Tipo didático: manuais escolares, conferências.
- (D) Tipo publicitário: cartazes, folhetos de divulgação de produtos
- (E) Tipo expressivo: diários, confissões.

46

Assinale a o texto que se enquadra entre os textos de propaganda e não entre os de publicidade.

- (A) Venha fazer parte de nosso condomínio!
- (B) Abasteça seu carro e ganhe um almoço grátis!
- (C) Colabore com os Médicos sem Fronteiras!
- (D) Viaje hoje e pague em dez meses.
- (E) Sabonetes Vix! Cheiro do Paraíso!

47

Imagine que você deve redigir um texto sobre *o desemprego no país*. Assinale a frase que **não** estaria adequada à exploração desse tema.

- (A) A tecnologia moderna extingue muitos empregos.
- (B) Trabalhar com prazer é ganhar férias eternas.
- (C) As profissões estão mudando seu perfil.
- (D) É preciso selecionar convenientemente a profissão.
- (E) Com o desemprego, aumentam os gastos sociais.

48

Observe o seguinte segmento textual, retirado do romance *A Mortalha de Alzira*, de Aluísio Azevedo:

*O Dr. Cobalt, com o espírito alegre de que era dotado e com a sua pitoresca e original maneira de contar as coisas, narrou às damas e cavalheiros que se achavam no palpitante salão da condessa Alzira, a curiosa e singela história de Ângelo. Foi escutado com o máximo interesse. A formosa e fria dona da casa, essa mulher que diziam de coração surdo a todas as ternuras e de olhos secos e fechados para todas as dores, era todavia a que se mostrava presa dos lábios do narrador, e a que mais avidamente lhe bebia as palavras.*

Sobre os modos de organização discursiva desse segmento, assinale a afirmativa correta.

- (A) Trata-se de um texto exclusivamente narrativo, com narrador observador e onisciente.
- (B) Trata-se de texto exclusivamente descritivo, com foco numa cena que envolve uma exposição oral.
- (C) Trata-se de um texto de fundo argumentativo, com a defesa da tese de que as pessoas nunca são o que parecem.
- (D) Trata-se de texto simultaneamente descritivo, narrativo e argumentativo.
- (E) Trata-se de texto narrativo e descritivo, este último modo voltado para as pessoas presentes na cena.

49

Em cada frase a seguir há um termo sublinhado.

Assinale a frase em que todos os termos ligados a esse primeiro termo por coesão estão indicados.

- (A) O momento que estamos vivendo pertence igualmente a todos, mas o que passou não é mais nosso / que, o, que.
- (B) A história é um cavalo que galopa atravessando a janela, e você deve decidir se saltará para montá-lo ou não / que, lo.
- (C) Eu fiz um acordo de coexistência pacífica com o tempo. Nem ele me persegue nem eu fujo dele. Qualquer dia a gente se encontra / ele, se.
- (D) No dia em que o Brasil se livrar da praga do mau governo, não haverá nenhum milagre que sua economia não possa fazer / sua.
- (E) Em toda revolução há duas classes de pessoas: as que a fazem e as que se aproveitam dela / a, as, dela.

50

Em um curso de redação, os alunos aprenderam que deveriam organizar previamente um roteiro de seus textos.

Nesse caso, a função da língua escrita seria

- (A) Função de memorização – necessidade de proteção contra o esquecimento, como ocorre nas agendas.
- (B) Função de transferência – capacidade de superar o tempo e o espaço.
- (C) Função de preservação – armazenamento de informações para utilização em outro momento.
- (D) Função artística – construção de obras de arte com base na linguagem.
- (E) Função socio-político-cultural – afirmação da nacionalidade através da língua.

51

Assinale a frase que apresenta intertextualidade por meio da alusão a um texto bastante conhecido.

- (A) Se você tem asco da corrupção, não pode ser um asno na notação.
- (B) O Brasil é uma nação de espertos que, reunidos, formam uma multidão de idiotas.
- (C) A ocasião faz o aliado.
- (D) Há boas leis que se originam de maus costumes.
- (E) Aprenda com as massas; depois, ensine-as.

52

A preposição DE mostra inúmeros valores semânticos.

Assinale a frase em que essa preposição tem seu valor corretamente indicado.

- (A) Com o assalto, a casa ficou cercada de policiais / agente.
- (B) O bule de chá ficou horas sobre a mesa / continente.
- (C) Os quadros de Picasso valem fortunas / propriedade.
- (D) Os homens de cultura são educados / assunto.
- (E) Chegaram de táxi, mas atrasados / modo.

53

Assinale a frase em que **não** há nenhum termo omitido por elipse.

- (A) Quem nasceu para obedecer, obedecerá mesmo no trono.
- (B) Um bom governo necessita de boa propaganda e a boa propaganda, de um bom governo.
- (C) A paz: uma trégua para a guerra.
- (D) Quem acha que não tem poder não tem poder.
- (E) O político deve sempre buscar a aprovação, porém jamais o aplauso.

54

Assinale a frase que está perfeitamente adequada, considerando-se o uso da pontuação.

- (A) Passarinho não come pedra; porque sabe o bico que tem.
- (B) Proletários, de todos os países, uni-vos!
- (C) Liberdade, igualdade, e fraternidade.
- (D) Água, que é muito pura, nem peixe tem.
- (E) O beijo é como cigarro: não sustenta, mas vicia.

55

Assinale a afirmação que **não** se coaduna com o modo narrativo de organização discursiva.

- (A) Uma narrativa envolve ações e/ou acontecimentos em sucessão cronológica.
- (B) O narrador de um texto pode ser basicamente um observador dos fatos ou participar deles como personagem.
- (C) Os temas de uma narração podem ser bastante variados, gerando narrativas históricas, ficcionais, policiais, de mistério, de ficção científica etc.
- (D) O tempo verbal básico de uma narrativa é o pretérito imperfeito do indicativo, podendo ser também o presente do indicativo (presente histórico).
- (E) Os verbos, advérbios e conjunções temporais desempenham papel crucial no texto narrativo.

56

O verbo *fazer* é muitas vezes empregado como substituto de toda uma oração anterior, como ocorre na seguinte opção:

- (A) Enquanto uns trabalham, outros evitam fazer o mesmo.
- (B) As abelhas trabalham muito, mas também fazem cera.
- (C) Alguns trabalham enquanto outros fazem greve.
- (D) Enquanto alguns trabalham outros fazem a sesta.
- (E) Alguns fazem, outros prometem fazer.

57

O trabalho de revisor de textos numa casa política tem muita importância já que devem ser produzidos textos de qualidade.

No caso do revisor, o conceito de escrever bem deve ser prioritariamente o de escrever de forma

- (A) culta e elaborada.
- (B) gramaticalmente correta.
- (C) adequada á situação.
- (D) simples e popular.
- (E) a causar interesse no leitor.

58

As opções a seguir apresentam algumas manchetes de jornais.

Assinale a opção em que houve uma inferência adequada de uma delas.

- (A) O Vasco da Gama venceu ontem na Copa do Brasil / O Vasco da Gama é o melhor time do torneio.
- (B) A manifestação contra o aborto reuniu muitas pessoas na praia de Copacabana / Os católicos combatem o aborto por considerá-lo um assassinato.
- (C) Houve fuga de presos de um presídio de segurança máxima / há muita corrupção nos presídios.
- (D) Estão ocorrendo muitos engarrafamentos na Rio/São Paulo / os motoristas não devem beber antes de dirigir.
- (E) Nosso corpo é constituído majoritariamente por água / É importante ter água mineral em casa.

59

Assinale a frase em que **não** está presente uma expressão ou termo indicativo de causa.

- (A) O paisagista pinta tranquilo porque a paisagem defronte não se pode aproximar do quadro para ver se está parecida.
- (B) A História é como um estilingue. Quanto mais fundo você puxa, mais longe você alcança.
- (C) Algumas pessoas são o centro das atenções numa festa por terem ótimo senso se humor.
- (D) Em função de algumas declarações falsas, a repórter foi obrigada a desmenti-las.
- (E) Em vista do aumento de impostos, houve grande reclamação dos empresários.

60

Assinale a figura de linguagem que apresenta um exemplo adequado.

- (A) Pleonasma: *a vida é um beco sem saída.*
- (B) Metáfora: *caía e levantava, caía e levantava.*
- (C) Anacoluto: *empregadas, quem pode ter criados hoje?*
- (D) Silepse: *somos todos brasileiros!*
- (E) Metonímia: *a plateia era uma confusão só!*

61

Assinale a frase que está integralmente correta.

- (A) Os privilégios de alguns sempre foram condenados.
- (B) Havia cerca de 278 pessoas na plateia.
- (C) Os pais se entretiveram com os filhos no passeio.
- (D) O carro derrapou e foi ao encontro do poste.
- (E) Todos reaveram seus pertences após o acidente.

62

*Hoje e amanhã vou estar aqui falando contra esse projeto* – disse o deputado.

Essa frase encontra-se em discurso direto; se ela for colocada em discurso indireto, a forma adequada seria

- (A) o deputado disse que naquele dia e no seguinte estaria lá falando contra aquele projeto.
- (B) o deputado disse que naquele dia e no seguinte estaria aqui falando contra aquele projeto.
- (C) o deputado disse que hoje e amanhã estaria lá falando contra aquele projeto.
- (D) o deputado disse que hoje e amanhã estará lá falando contra aquele projeto.
- (E) o deputado disse que em outro dia e no seguinte estaria aqui falando contra aquele projeto.

63

Assinale a frase que mostra **oposição** entre seus segmentos básicos.

- (A) Uma coisa é ser dono do dinheiro; outra é ter o direito de usá-lo como quiser.
- (B) Lembre-se de que os vencedores fazem aquilo que os perdedores não querem fazer.
- (C) Não é a qualidade do dinheiro que você ganha, é a quantidade de dinheiro que você guarda.
- (D) Toda empresa precisa ter gente que erra, que não tem medo de errar e que aprende com o erro.
- (E) O resumo da sabedoria é este: nunca é perdido o tempo que se consagra ao trabalho.

64

O tratamento de Vossa Senhoria é cabível ao seguinte cargo:

- (A) Ministro de Estado.
- (B) Presidente de empresas.
- (C) Bispos e cardeais.
- (D) Embaixadores.
- (E) Generais do Exército.

65

Uma das marcas de uma boa redação é a clareza; entre outros fatores, a clareza é também obtida pela ordem direta das frases.

Assinale a frase que se encontra em ordem direta.

- (A) Não passa o tempo: nós é que mudamos.
- (B) É tão absurdo apagar o passado como planejar o futuro.
- (C) D. Pedro I, nosso primeiro imperador, morreu jovem.
- (D) Poderoso é o efeito do tempo sobre as pessoas.
- (E) História: todo país tem duas, a real e a oficial.

## LEGISLAÇÃO INSTITUCIONAL

66

Antônio foi nomeado para o cargo de Controlador Interno da Assembleia Legislativa de Tocantins.

À luz da Lei nº 4.209/2023, que dispõe sobre a estrutura administrativa da Aletto, durante o exercício da função, Antônio será competente para:

- (A) opinar, conclusivamente, em processos de direitos, deveres e obrigações dos servidores do Poder Legislativo.
- (B) constituir Comissão Permanente de Licitação.
- (C) examinar a observância das normas de licitações.
- (D) apresentar à Mesa Diretora o balancete mensal e, no início de cada exercício, o balancete geral das contas da Assembleia Legislativa, relativo ao exercício anterior.
- (E) planejar, coordenar, orientar, controlar e dirigir as atividades administrativas, orçamentárias, financeiras, de comunicação social, de tecnologia de informação e de apoio legislativo da Assembleia Legislativa.

67

Nos termos da Constituição do Estado do Tocantins, constitui objeto de lei complementar a seguinte matéria:

- (A) os prazos de prescrição para ilícitos praticados por qualquer agente, servidor ou não, que causem prejuízos ao erário.
- (B) os limites de idade, a estabilidade e outras condições de transferência do servidor militar para a inatividade.
- (C) os casos de contratação por tempo determinado para atender à necessidade temporária de excepcional interesse público.
- (D) as regras para cálculo de proventos de aposentadoria e pensão por morte.
- (E) os requisitos e as restrições ao ocupante de cargo ou emprego da administração direta e indireta que possibilite o acesso a informações privilegiadas.

68

Considerando o exercício da função legislativa por parte da Assembleia Legislativa de Tocantins, nos termos de seu Regimento Interno, é correto afirmar que

- (A) projetos de lei delegada podem se destinar a regular as matérias de exclusiva competência do Poder Executivo, com a sanção do Governador do Estado.
- (B) projetos de resolução podem se destinar a regular, com eficácia de lei ordinária, matéria de competência privativa da Assembleia Legislativa.
- (C) projetos de lei complementar visam regular matéria infraconstitucional.
- (D) projetos de lei têm por objetivo regular matérias de competência do Poder Legislativo, sem a sanção do Governador do Estado.
- (E) projetos de decreto legislativo destinam-se à delegação de competência, na forma estabelecida na Constituição Estadual.

**69**

Aline, servidora pública estadual, revelou segredo do qual se apropriou em razão do cargo que ocupa. A Administração Pública, ao tomar conhecimento do fato, instaurou procedimento administrativo disciplinar a fim de apurar a conduta e garantir à servidora os princípios da ampla defesa e do contraditório.

À luz do Estatuto dos Servidores Públicos Civis do Estado do Tocantins, caso punida, Aline poderá ser sancionada com

- (A) advertência.
- (B) suspensão.
- (C) prestação de serviço.
- (D) multa.
- (E) demissão.

**70**

Ana, servidora pública efetiva e estável, ocupante de cargo de nível superior, objetivando inteirar-se sobre os requisitos para a progressão na carreira, consultou a Lei nº 4.208/2023, que trata sobre o plano de cargos, carreiras e remuneração dos Servidores da Assembleia de Tocantins.

Assim, para fazer jus à progressão, Ana terá que

- (A) possuir no máximo três faltas injustificadas por exercício referente ao período avaliado.
- (B) obter conceito igual ou superior a 70% (setenta por cento) dos pontos possíveis em todos os procedimentos de sua Avaliação.
- (C) concluir curso de pós-graduação *lato sensu* com duração mínima de 360 (trezentos e sessenta) horas.
- (D) cumprir trinta meses de efetivo exercício na classe em que se encontra.
- (E) concluir cursos de aperfeiçoamento em sua área de atuação que tenha, no mínimo, 80 (oitenta) horas de duração.

## REDAÇÃO

**A tarefa de escrever bem parece ser um problema sério: escrever bem é escrever de forma correta, é escrever de forma culta e elaborada, é escrever de forma adequada à situação, é escrever como os literatos? E o que pode fazer para chegar-se a escrever bem? É preciso que os funcionários de uma assembleia legislativa escrevam bem, qual a importância disso para os trabalhos aí realizados? Para dinamizar o trabalho, seria conveniente adotar a língua escrita da Internet?**

*Todas essas questões devem ser respondidas num texto-dissertativo-argumentativo de, aproximadamente, 30 (trinta) linhas, em língua culta, dando especial atenção à adequada estruturação do texto e aos argumentos apresentados*

1

2

3

4

5

6

7

8

9

10

11

12

13

14

15

16

17

18

19

20

21

22

23

24

25

26

27

28

29

30



# ASSEMBLEIA LEGISLATIVA DO ESTADO DO TOCANTINS

CONCURSO PÚBLICO – EDITAL Nº 01/2023

## PROVA OBJETIVA – TARDE

### ANALISTA LEGISLATIVO SUPORTE TÉCNICO EM INFORMÁTICA

NÍVEL SUPERIOR – TIPO 1 – BRANCA



#### SUA PROVA

- Além deste caderno contendo **70 (setenta)** questões objetivas, você receberá do fiscal de prova o cartão de respostas;
- As questões objetivas têm **5 (cinco)** opções de resposta (A, B, C, D) e somente uma delas está correta.



#### TEMPO

- Você dispõe de **5 (cinco) horas** para a realização da prova, já incluído o tempo para a marcação do cartão de respostas;
- **3 (três) horas** após o início da prova, é possível retirar-se da sala, sem levar o caderno de questões;
- A partir dos **30 (trinta) minutos** anteriores ao término da prova é possível retirar-se da sala **levando o caderno de questões**.



#### NÃO SERÁ PERMITIDO

- Qualquer tipo de comunicação entre os candidatos durante a aplicação da prova;
- Anotar informações relativas às respostas em qualquer outro meio que não seja o caderno de questões;
- Levantar da cadeira sem autorização do fiscal de sala;
- Usar o sanitário ao término da prova, após deixar a sala.



#### INFORMAÇÕES GERAIS

- Verifique se seu caderno de questões está completo, sem repetição de questões ou falhas. Caso contrário, **notifique imediatamente o fiscal da sala**, para que sejam tomadas as devidas providências;
- Confira seus dados pessoais, especialmente nome, número de inscrição e documento de identidade e leia atentamente as instruções para preencher o cartão de respostas;
- Para o preenchimento do cartão de respostas, use somente caneta esferográfica, fabricada em material transparente, com tinta preta ou azul;
- Assine seu nome apenas no(s) espaço(s) reservado(s) no cartão de respostas;
- Confira seu cargo, cor e tipo do caderno de questões. Caso tenha recebido caderno de cargo ou cor ou tipo **diferente** do impresso em seu cartão de respostas, o fiscal deve ser **obrigatoriamente** informado para o devido registro na ata da sala;
- Reserve tempo suficiente para o preenchimento do seu cartão de respostas. O preenchimento é de sua responsabilidade e **não será permitida a troca do cartão de respostas em caso de erro cometido pelo candidato**;
- Para fins de avaliação, serão levadas em consideração apenas as marcações realizadas no cartão de respostas;
- A FGV coletará as impressões digitais dos candidatos na lista de presença;
- Os candidatos serão submetidos ao sistema de detecção de metais quando do ingresso e da saída de sanitários durante a realização das provas.
- **Boa prova!**



## CONHECIMENTOS BÁSICOS

### Língua Portuguesa

1

Observe o seguinte texto:

*Quando entrei no terrível vagão, ele estava ocupado por duas pessoas. Uma, dobrada, coberta, dormia profundamente. A coberta superior estava manchada, de fundo amarelado, como pele de leopardo. Vendem-se muitas mantas assim nas lojas de artigos de viagens, mas pude notar logo depois que se tratava realmente da pele de um animal selvagem; do mesmo modo, o boné da pessoa adormecida me pareceu ser de feltro branco bastante delicado. O outro viajante, uma aparência simpática, parecia ter passado dos trinta anos e mostrava-se como figura insignificante que passa confortavelmente as noites em estradas de ferro.*

Nesse fragmento textual, para criar sinais de história realista e verdadeira, o narrador apela para a seguinte estratégia:

- (A) seleciona uma situação banal da qual não precisa fornecer muitos detalhes, exatamente por sua banalidade.
- (B) fornece algumas marcas caracterizadoras dos dois personagens presentes no texto, destacando sua banalidade.
- (C) indica traços descritivos do ambiente, mostrando-o como se nada houvesse nele de excepcional.
- (D) mostra detalhes variados e bastante pitorescos dos objetos descritos.
- (E) dá ao leitor informações sobre personagens e ambiente, mostrando-os como bastante conhecidos do narrador.

2

Assinale a frase que mostra a palavra *mais* numa classe gramatical **diferente** das demais.

- (A) O mercado está prisioneiro de mais um círculo vicioso: piora porque piorou e porque piorou, piora.
- (B) Os ingleses conquistaram o mundo porque não aguentavam mais a própria cozinha.
- (C) Quanto mais vejo o estrangeiro, mais amo a minha pátria.
- (D) Não é mais possível aprender tudo de cor. Um homem instruído não é mais o homem que sabe muitas coisas; é o homem que sabe onde buscar informações.
- (E) Muda-se mais facilmente de religião do que de café

3

As frases a seguir mostram termos ligados pela conjunção OU.

Assinale a frase em que essa conjunção mantém o valor de alternativa (e não de adição).

- (A) João ou Pedro deve ser eleito presidente da empresa.
- (B) A alegria ou a tristeza fazem parte da vida.
- (C) Inglês ou francês são idiomas falados pelos turistas
- (D) Os clientes leem livros ou revistas enquanto esperam.
- (E) Vasco ou Flamengo são times de longa tradição.

4

Um guitarrista americano produziu o seguinte pensamento:

*O crítico de rock é alguém que não sabe escrever, entrevistando gente que não sabe falar, para gente que não sabe ler.*

Sobre a estruturação ou a significação desse pequeno texto, assinale a afirmativa **incorreta**.

- (A) O termo “de rock” funciona como complemento nominal do termo anterior.
- (B) Todos os elementos da cadeia comunicativa citados no texto são marcados pela ignorância.
- (C) O pensamento acima revela um preconceito fortíssimo contra os amantes de rock.
- (D) A opinião expressa no texto pode advir da experiência pessoal do autor, já que se trata de um guitarrista.
- (E) A injustiça desse texto provém de ser uma opinião fundamentada em uma autoridade duvidosa.

5

John Steinbeck, prêmio Nobel, declarou o seguinte:

*O homem é o único animal que bebe sem ter sede, come sem ter fome e fala sem ter nada a dizer.*

Em relação ao significado e à estruturação desse pequeno texto, assinale a afirmativa **incorreta**.

- (A) A frase ficaria mais enfática se invertêssemos a posição do termo inicial: O único animal que bebe sem ter sede, come sem ter fome e fala sem ter nada a dizer é o homem.
- (B) A inversão de alguns segmentos do texto em nada modificaria o sentido da frase: O homem é o único animal que come sem ter fome, bebe sem ter sede e fala sem ter nada a dizer.
- (C) Os segmentos finais do texto mostram preocupação com rigoroso paralelismo sintático.
- (D) Segundo a opinião do autor do texto, a marca principal do homem é a irracionalidade.
- (E) Nem todas as ações citadas como marcas humanas estão presentes, por oposição, nos outros animais.

6

Assinale a frase que **não** expressa uma noção de tempo abstrato.

- (A) Nas asas do tempo, a tristeza voa.
- (B) Quem mata o tempo não é assassino, é suicida.
- (C) O tempo perdido não se encontra nunca mais.
- (D) O tempo é o melhor professor. Infelizmente, ele mata todos os seus estudantes
- (E) O tempo gasto na viagem foi de duas horas.

7

Assinale a frase em que a utilização do acento grave indicativo da crase é realizada de forma **errada**.

- (A) Jamais alguém se arrependeu de ter-se acostumado à madrugada e à ter-se casado jovem.
- (B) Tempo é o suspiro de adeus do sol à terra.
- (C) Saio todos os dias às cinco horas e não permito que o meu trabalho interfira no meu jogo de tênis.
- (D) O momento de extrair uma lição da história está sempre à mão para os sábios.
- (E) Quando assumi, quatro anos atrás, estávamos à beira do precipício.

8

Os adjetivos podem representar estados, qualidades, características e relações.

Assinale a frase que mostra um tipo de adjetivo **diferente** dos demais.

- (A) Nunca houve criança tão amável que a própria mãe não ficasse satisfeita ao conseguir adormecê-la.
- (B) Nada mais perversamente cruel que uma adorável criança.
- (C) Mesmo estando doentes, as crianças não ficam caladas.
- (D) Quando as crianças estão quietas é porque fizeram alguma coisa errada.
- (E) As tangerinas verdes não amadurecem fora do pé.

9

Assinale a frase em que o adjetivo sublinhado mostra uma função sintática **diferente** das demais.

- (A) Por fora bela viola, por dentro pão bolorento.
- (B) Tiradentes, heroico, tentou organizar uma revolução.
- (C) Um rosto bonito altera-se depressa.
- (D) Eu não podia acreditar que existem múmias tão lindas.
- (E) Um homem belo é um homem insignificante.

10

Assinale a opção que mostra uma impropriedade léxica, ou seja, um emprego **inadequado** da expressão “cerca de”.

- (A) Havia cerca de três dúzias de convidados no final da festa.
- (B) Chegaram cerca de 100 cartas no mesmo dia.
- (C) Cerca de 18 lojas fecharam as portas mais cedo.
- (D) Os cantores receberam cerca de uma centena de convites.
- (E) A plantação produziu cerca de uma tonelada de legumes.

11

Muitas palavras portuguesas mostram o prefixo A- sem qualquer valor semântico, sendo equivalentes ao mesmo vocábulo sem esse prefixo.

Assinale a palavra a seguir que exemplifica esse A protético.

- (A) amostrar
- (B) abraçar
- (C) atenuar
- (D) aguardar
- (E) aparar

12

Observe o seguinte texto:

*A felicidade depende da habilidade que tenhamos naquelas atividades que consideramos importantes: somente se lhes damos um real valor aos pequenos detalhes cotidianos, poderemos ter instantes felizes. A felicidade absoluta não existe, e já que só podemos acessar os pequenos detalhes daquilo que nos interessa, devemos contentar-nos com isso. Por isso, a infelicidade é um sinal claro de nossa incompetência na arte de viver.*

Sobre a estrutura e a significação desse texto, assinale a afirmativa **inadequada**.

- (A) O tema do texto gira em torno do que consiste a felicidade e o que viria a ser o seu oposto.
- (B) A afirmação de que “A felicidade absoluta não existe” é de cunho pessoal do autor do texto, representando uma opinião.
- (C) O raciocínio utilizado na estruturação argumentativa é do tipo dedutivo.
- (D) O conector “Por isso” mostra a preocupação com o caráter lógico da argumentação.
- (E) A tese do texto é a de que a infelicidade é fruto de nossa incompetência na arte de viver.

## Raciocínio Lógico Matemático

13

Certo programa de rádio tem 1 hora e 55 minutos de duração. A partir do momento em que o programa é iniciado, há blocos temáticos de 7 minutos intercalados por blocos de propagandas de 2 minutos.

Em todos os blocos de propaganda, ouve-se o comercial do restaurante R, que sempre dura 18 segundos.

Se o programa começa e termina com um bloco temático, então, o tempo total do programa dedicado ao anúncio do restaurante R é

- (A) 3 minutos e 54 segundos.
- (B) 3 minutos e 36 segundos.
- (C) 3 minutos e 18 segundos.
- (D) 3 minutos.
- (E) 2 minutos e 48 segundos.

14

A linha de produção de certa fábrica produz 1100 latas de sardinhas a cada hora. Certo dia, por um defeito de calibragem do sistema, entre 13h e 14h, o volume de produção foi reduzido em 30% durante exatos 12 minutos.

A quantidade de latas de sardinhas produzidas no intervalo supracitado foi

- (A) 946.
- (B) 964.
- (C) 1022.
- (D) 1034.
- (E) 1046.

15

Marcelo está parado de frente para uma das paredes de uma sala quadrada. Nesta posição, ele está a 1m e 20cm da parede que se encontra à sua direita e a 1m e 70cm da parede que está às suas costas.

Ele, então, se desloca paralelamente às paredes da sala sendo 40cm para a frente e 80cm para a direita. Nessa nova posição, ele passou a distar 1m e 90cm da parede que antes estava à sua esquerda.

Desprezando-se as dimensões de Marcelo, a sua atual distância à parede que, antes dos movimentos, estava à sua frente, é

- (A) 20cm.
- (B) 30cm.
- (C) 40cm.
- (D) 50cm.
- (E) 60cm.

16

Um dado é dito comum quando tem a forma de um cubo e suas 6 faces são numeradas de 1 a 6, de tal forma que a soma dos números estampados em faces opostas, quaisquer que sejam elas, sempre somam 7.

Quando um dado comum é lançado, diz-se que o resultado do lançamento é o número estampado na face voltada para cima.

Um dado foi lançado 3 vezes seguidas. Se o produto dos resultados obtidos nos lançamentos vale 75, a soma desses resultados é igual a

- (A) 12.
- (B) 13.
- (C) 14.
- (D) 15.
- (E) 16.

17

Em certo ano, o dia 1º de agosto cai em um domingo. Logo, o dia 1º de novembro cairá em

- (A) um sábado.
- (B) um domingo.
- (C) uma segunda-feira.
- (D) uma quarta-feira.
- (E) uma sexta-feira.

18

Considere a seguinte proposição condicional:

*Se todos os alunos da Escola Aristarco gostam de matemática, então, ao menos um deles ganha medalha na Olimpíada Nacional de Matemática.*

Se essa proposição é verdadeira, é correto afirmar que

- (A) se nenhum dos alunos da Escola Aristarco gosta de Matemática, então nenhum deles ganha medalha na Olimpíada Nacional de Matemática.
- (B) se todos os alunos da Escola Aristarco ganham medalha na Olimpíada Nacional de Matemática, então, todos esses alunos gostam de Matemática.
- (C) se algum aluno da Escola Aristarco ganha medalha na Olimpíada Nacional de Matemática, então todos esses alunos gostam de Matemática.
- (D) se nenhum aluno da Escola Aristarco ganha medalha na Olimpíada Nacional de Matemática, então nenhum desses alunos gosta de Matemática.
- (E) se nenhum aluno da Escola Aristarco ganha medalha na Olimpíada Nacional de Matemática, então algum desses alunos não gosta de Matemática.

19

Em uma caixa, há muitas canetas esferográficas. Classificadas conforme a cor, elas podem ser azuis, vermelhas ou pretas. Classificadas quanto à espessura da esfera, elas podem ser de ponta fina ou de ponta grossa.

Metade das canetas vermelhas tem a ponta grossa. A quantidade total de canetas pretas é igual à quantidade total de canetas vermelhas. Entre as canetas de ponta grossa, a quantidade de azuis é igual à de pretas. A quantidade de canetas azuis com ponta fina é o dobro da quantidade de canetas pretas de ponta grossa.

Se, nessa caixa, 18 são azuis e 20 têm ponta grossa, então a quantidade total de canetas na caixa é

- (A) 30.
- (B) 40.
- (C) 48.
- (D) 50.
- (E) 52.

20

Tucídides possuía uma dívida e, em vez de quitá-la, pagou apenas 20% do seu valor, deixando o restante para ser quitado em data futura, com acréscimo de 12% a título de juros sobre o saldo devedor.

No ato de quitação, Tucídides pagou R\$2.329,60. Logo, o valor original da dívida é o resultado da seguinte expressão:

- (A)  $2.329,60 \times 0,88 - 20$
- (B)  $\frac{2.329,60}{0,88} \times 1,20$
- (C)  $\frac{2.329,60}{1,12} \times 1,20$
- (D)  $\frac{2.329,60}{1,12 \times 1,20}$
- (E)  $\frac{2.329,60}{1,12 \times 0,8}$

21

As filhas de Nepomuceno têm 5 e 9 anos de idade. Ele dividirá R\$420,00 entre elas de forma inversamente proporcional às suas idades.

Logo

- (A) a mais nova receberá R\$120,00 a mais que a mais velha.
- (B) a mais nova receberá R\$150,00 a mais que a mais velha.
- (C) a mais nova receberá R\$270,00 a mais que a mais velha.
- (D) a mais velha receberá R\$120,00 a mais que a mais nova.
- (E) a mais velha receberá R\$150,00 a mais que a mais nova.

22

A negação da proposição:

$$\text{Se } y \neq 0, \text{ então } x > 2 \text{ e } x \leq 5$$

é dada por

- (A) Se  $y = 0$ , então  $x > 2$  e  $x \leq 5$
- (B) Se  $y = 0$ , então  $x < 2$  ou  $x \geq 5$
- (C)  $y = 0$  e  $x \leq 2$  ou  $x > 5$
- (D)  $y \neq 0$  e  $x \leq 2$  ou  $x > 5$
- (E)  $y \neq 0$  e  $x \leq 2$  e  $x > 5$

## Atualidades

23

De acordo com o censo demográfico de 2022 (IBGE), mais da metade da população brasileira (51,13%) é feminina, e elas representam, segundo o Tribunal Superior Eleitoral, 53% do eleitorado. No entanto, elas ocupam, hoje, menos de 15% dos cargos eletivos.

A respeito da baixa participação das mulheres na política, assinale a afirmativa que apresenta um dispositivo existente na legislação brasileira para alterar esse cenário.

- (A) Reserva de pelo menos 50% dos recursos do Fundo Especial de Financiamento de Campanha, o Fundo Eleitoral, para financiar candidaturas femininas.
- (B) Suspensão dos direitos eleitorais aos partidos em caso de não observância do percentual de pelo menos 30% de candidatas mulheres em cada ciclo eleitoral
- (C) Reserva de assentos, em ambas as casas legislativas, para mulheres, com preferência para as representantes de povos originários.
- (D) Cota de gênero, que obriga cada partido ou coligação a preencher o mínimo de 30% e o máximo de 70% de candidaturas de cada sexo.
- (E) Repasse de até 30% dos recursos dos Fundos Partidário para custear o tempo da propaganda eleitoral gratuita de candidatas em rádio e televisão.

24

A França se tornou o primeiro país do mundo a incluir na Constituição a liberdade de a mulher abortar. A mudança na Carta Magna foi aprovada em uma sessão conjunta das duas Casas legislativas, a Assembleia Nacional e o Senado, e será promulgada pelo presidente Emmanuel Macron ainda em março de 2024.

Adaptado de <https://www1.folha.uol.com.br/mundo/2024/03/>

Diferentemente da França, a legislação brasileira

- (A) equipara o aborto ao infanticídio.
- (B) considera o aborto uma prática ilegal em todas as situações.
- (C) descriminaliza a interrupção da gravidez em caso de deficiência da gestante.
- (D) estabelece um limite temporal para interromper a gravidez, desde que respaldada por laudo médico.
- (E) autoriza a interrupção de gestação em caso de não haver outro meio de salvar a vida da gestante.

25

Desde os anos 2000, o interior do Brasil ultrapassou o litoral na incidência de dengue. A região costeira que vai de Santos, em São Paulo, até Belém, no Pará, apresentava tipicamente maior proporção de casos de dengue em comparação com sua população. Entretanto, recentemente, o oeste do Paraná, o oeste de Santa Catarina o oeste de São Paulo, o interior de Minas Gerais, uma parte do Tocantins, o Goiás e o Mato Grosso do Sul viram a transmissão da doença aumentar e muitas de suas cidades foram obrigadas a decretar emergência.

Adaptado de <https://www.estadao.com.br>

A respeito dos fatores relacionados ao aumento e à interiorização dos casos de dengue no Brasil, analise as afirmativas a seguir.

- I. A maior frequência de períodos com temperaturas acima da média, inclusive com ondas de calor no período invernal em todo território, tem reforçado o padrão sazonal da doença.
- II. A expansão urbana desvinculada de melhoras nos serviços sanitários tem propiciado a formação de ilhas de calor e, portanto, uma alta na incidência da dengue.
- III. O desmatamento do cerrado, convertido em pasto, por exemplo, tem contribuído para aumentar a temperatura média e o número de casos da doença no interior do Brasil.

Está correto o que se afirma em

- (A) I, apenas.
- (B) I e II, apenas.
- (C) I e III, apenas.
- (D) II e III, apenas.
- (E) I, II e III.

26

As afirmativas a seguir descrevem corretamente o desempenho da economia brasileira em 2023, à exceção de uma. Assinale-a.

- (A) A expansão econômica ampliou a geração de empregos informais, em um contexto recessivo e de flexibilização das leis trabalhistas.
- (B) O dinamismo da economia foi marcado pelo aumento de exportações, no setor agrícola, e da demanda, no setor de serviços, em função da alta no consumo das famílias.
- (C) A alta progressiva nas cotações internacionais de commodities acelerou o ritmo das exportações, mesmo em um cenário cambial desfavorável para os exportadores.
- (D) A retração do Brasil no mercado regional e internacional ocorreu em função da maior competitividade dos produtos agrícolas argentinos e pela retomada da economia chinesa.
- (E) A persistência do alto nível da inflação foi ocasionada pela alta da cesta básica, sobretudo dos alimentos, cujas safras foram afetadas pelas condições climáticas adversas.

27

Em 2024, o Tribunal Superior Eleitoral (TSE) aprovou uma resolução para regulamentar o uso da inteligência artificial (IA) durante as eleições municipais a serem realizadas em outubro. A norma proíbe manipulações de conteúdo falso para criar ou substituir imagem ou voz de candidato com objetivo de prejudicar ou favorecer candidaturas. Também foi aprovada a restrição do uso de chatbots humanizados e avatares para intermediar a comunicação das campanhas com pessoas reais nas redes sociais.

Adaptado de <https://agenciabrasil.ebc.com.br>

A resolução sobre IA objetiva

- (A) coibir a produção e circulação de *deepfakes*.
- (B) restringir o uso de ferramentas de IA simbólica.
- (C) retomar a veiculação de propagandas eleitorais em mídias tradicionais, como rádio e televisão.
- (D) proibir o uso de ferramentas de coleta e seleção em bases de dados com fins eleitorais.
- (E) limitar o uso de assistente virtual programado por AI para divulgação do programa partidário.

28

Assinale a afirmativa que descreve corretamente um aspecto do panorama global da economia em 2023.

- (A) Nos Estados Unidos, a economia foi alavancada pela adoção de uma política de ampliação do crédito e baixa da taxa de juros.
- (B) Na China, o PIB cresceu acima do esperado, em um cenário marcado pela retomada econômica pós pandemia, inclusive no setor imobiliário.
- (C) Na Zona do Euro, a alta dos preços da energia pesou nas despesas familiares e no setor industrial, confirmando a manutenção de um quadro de crise.
- (D) Na Rússia, o PIB decresceu, em função do impacto prolongado da guerra com a Ucrânia e dos embargos à venda de petróleo e gás russos.
- (E) Na América do Sul, foi mantido um caminho geral de crescimento, apoiado por investimentos externos e pela intensificação de políticas estatistas.

29

Um supercomputador consiste em milhares de pequenos computadores chamados nós. Cada nó é equipado com sua própria memória e com vários processadores. Atuando em conjunto, eles são capazes de realizar cálculos extremamente complexos em elevada velocidade. Hoje, o maior supercomputador da América Latina é o Pégaso, da Petrobras, com 678 TB de memória RAM e mais de 233 mil núcleos.

Adaptado de <https://revistapesquisa.fapesp.br>

A respeito do poder computacional de alto desempenho dos supercomputadores, analise as afirmativas a seguir e assinale (V) para a verdadeira e (F) para a falsa.

- ( ) Essas máquinas são instrumentos valiosos de pesquisa e de suporte a setores da economia como defesa, energia e saúde, permitindo a resolução de problemas complexos em menor tempo.
- ( ) Esses equipamentos permitem realizar tarefas que exigem altíssimos níveis de processamento, como simulações da formação do universo ou modelagem molecular para novos fármacos.
- ( ) Esses aparelhos trabalham em alta velocidade de processamento pelo somatório de diversos núcleos, o que potencializa a velocidades do processador, medidas em gigahertz (GHz).

As afirmativas são, respectivamente,

- (A) V – V – F.
- (B) V – F – V.
- (C) F – V – F.
- (D) F – V – V.
- (E) V – V – V.

30

No início do ano corrente, a Petrobras anunciou ter alcançado em 2023 o segundo maior valor de lucro líquido de sua história. Mesmo assim, suas ações caíram no mercado financeiro, em função da disputa sobre os dividendos.

A respeito dos resultados financeiros da Petrobrás nos últimos anos e da política de distribuição de dividendos da empresa, assinale a afirmativa correta.

- (A) A Petrobras é uma empresa estatal de economia mista que monopoliza a indústria petroleira no Brasil.
- (B) A Petrobras é uma estatal administrada diretamente por órgãos governamentais que controlam o valor das suas ações.
- (C) A Petrobras direciona parte dos dividendos para investidores privados, e outra parte para o governo federal, que controla a empresa via Tesouro e BNDES.
- (D) A Petrobras, sob o Governo Bolsonaro, reduziu o pagamento de dividendos a acionistas privados para reinvesti-los em energia renovável.
- (E) A Petrobras, no atual governo, vendeu ativos e distribuiu o lucro e os valores recordes de dividendos entre seus acionistas para financiar projetos do BNDES.

31

Dados da última década mostram que, em relação aos Estados, o Pará é o que apresenta o maior número de registros de resgates de trabalho análogo à escravidão, com 9.853, seguido por Mato Grosso (4.302); Tocantins (2.896); São Paulo (1.529) e Rio de Janeiro (1.653), em 2017.

Adaptado de <https://www.jota.info/justica/em-14-anos-434-mil-foram-resgatados-de-trabalho-escravo-30102017>

A respeito da definição moderna de escravidão, analise as afirmativas a seguir.

- I. Em Tocantins, a maior incidência de escravidão moderna ocorre na zona rural, associada a atividades agropecuárias e ao extrativismo mineral, como nas carvoarias, por exemplo.
- II. A Organização Internacional do Trabalho determina a condição de escravidão por uma série de componentes, como o trabalho forçado análogo ao de escravo e o casamento forçado.
- III. Pessoas obrigadas a trabalhar por dívida ou por ameaça, sem direitos trabalhistas garantidos estão em situação de escravidão, uma vez que lhes é impedida a liberdade de ir e vir.

Está correto o que se afirma em

- (A) I, apenas.
- (B) I e II, apenas.
- (C) I e III, apenas.
- (D) II e III, apenas.
- (E) I, II e III.

32

Energia gerada por recursos naturais renováveis que, no Brasil, provém da lenha, carvão vegetal, carvão mineral, bagaço de cana e outros resíduos combustíveis. Essa energia é a matéria orgânica vegetal ou animal usada como fonte de energia limpa e sustentável.

O trecho descreve o seguinte componente importante do desenvolvimento sustentável:

- (A) compostagem.
- (B) biodiversidade.
- (C) créditos de carbono.
- (D) ciclo de vida.
- (E) biomassa.

## História e Geografia do Estado de Tocantins

33

Leia a descrição de uma classe de vegetação presente no estado do Tocantins, a seguir.

*Esta vegetação, também conhecida como floresta pluvial tropical, é caracterizada por árvores de porte elevado, além de trepadeiras lenhosas e epífitas (bromélias e orquídeas, por exemplo) em abundância, o que a diferencia de outras classes de formação vegetal. Sua característica ecológica principal é estar presente em ambientes de chuvas abundantes, como na parte noroeste do Estado, onde as temperaturas médias são de 25°C e os elevados índices de precipitação estão bem distribuídos ao longo do ano.*

Adaptado de Luís Antônio G. C. Silva. *Biomas presentes no Estado do Tocantins*. Brasília: Câmara dos Deputados, 2007, p. 4.

O trecho caracteriza a região conhecida como Floresta

- (A) Estacional Semidecidual.
- (B) Tropical Subcaducifólia.
- (C) de Mata Atlântica.
- (D) Ombrófila Densa.
- (E) Temperada Decidual.

34

Comparando dados dos censos do IBGE, pode-se elaborar um retrato da evolução demográfica da população residente no Estado de Tocantins. O grupo na faixa etária de 0 a 14 representava 41,7% da população em 1991, 28,8% em 2010, e passou para 24% em 2022. A população acima de 65 anos era de 3,8% em 1991 e 5,8% em 2010, e ficou em 8,6% em 2022. O censo de 2022 mostrou ainda que a faixa etária de 15 a 29 anos representa 15% da população e que 41% da população é composta por pessoas de 30 a 59 anos.

Com base no trecho, assinale a opção que apresenta a dinâmica populacional do Tocantins entre 1991 e 2022.

- (A) Expansão da base da pirâmide etária.
- (B) Diminuição da taxa de fecundidade.
- (C) Estreitamento do topo da pirâmide.
- (D) Aumento da idade mediana.
- (E) Redução do índice de envelhecimento.

35

*Foram inegáveis os desdobramentos socioeconômicos sobre o antigo Norte Goiano fruto da construção da rodovia BR-153, a partir do final da década de 1950. O novo urbanismo da Belém-Brasília trouxe enorme impacto no que se refere ao conjunto de cidades que existiam às margens do rio Tocantins, aos fluxos migratórios e às atividades econômicas da região.*

Adaptado de AQUINO, N. *Tocantins: cidades e urbanismo em três modelos históricos*. In: III Encontro da ANPPAS. Brasília, 2006, p. 8.

As afirmativas a seguir descrevem corretamente impactos da rodovia BR-153 no processo de territorialização do Tocantins, **à exceção de uma**. Assinale-a.

- (A) A rodovia foi construída no governo Kubitscheck, em um contexto desenvolvimentista que considerava a expansão rodoviária como um meio para integrar econômica e territorialmente as regiões do país, inclusive o norte goiano que, então, vivia uma situação de abandono.
- (B) A rodovia Belém-Brasília teve grande importância para a urbanização do atual Tocantins, o que é exemplificado pela quantidade de novas cidades criadas após a sua construção, como Araguaína, Gurupi, Paraíso do Tocantins, Colinas do Tocantins e Guaraí.
- (C) A construção da BR-153 alavancou também os municípios ribeirinhos, pois a navegação fluvial foi intensificada para abastecer as obras em curso, o que transformou esses municípios em satélites econômicos da nova malha urbana instalada ao longo da rodovia.
- (D) Após a abertura da rodovia, as principais áreas que receberam fluxos migratórios foram a Microrregião de Gurupi – Gurupi e a Microrregião de Porto Nacional – Palmas, para onde se dirigiram pessoas interessadas em trabalhar na construção civil, nos serviços e no comércio, entre outros.
- (E) A BR-153 permitiu interligar o norte de Goiás, atual Estado do Tocantins, a outras localidades do país, facilitando o escoamento da produção e o acesso a produtos para a região, promovendo o fluxo de mercadorias e serviços.

36

O Memorial Coluna Prestes (2001) é uma obra do arquiteto Oscar Niemeyer localizada na Praça dos Girassóis, no centro de Palmas (TO).



Fonte: <https://central.to.gov.br/image/146145?f=1>

A respeito da relação entre essa obra e a constituição de uma memória histórica para o Estado do Tocantins, analise as afirmativas a seguir.

- I. O monumento refere-se à Coluna Prestes, que percorreu o Brasil para divulgar seu programa revolucionário entre 1924 e 1927, tendo passado pelo Norte do então Estado de Goiás (atual Tocantins) durante seu percurso.
- II. A obra foi realizada em concreto e apresenta curvas sinuosas, características próprias do Barroco das cidades mineradoras, estabelecendo visualmente uma continuidade entre o Barroco do passado das cidades mineradoras e o presente do Tocantins.
- III. A construção do memorial permite inserir simbolicamente a história do Tocantins nos grandes processos da história republicana nacional, e homenagear o Tenente Antônio de Siqueira Campos, cujo sobrenome é homônimo ao do ex-governador do Estado.

Está correto o que se afirma em

- (A) I, apenas.
- (B) I e II, apenas.
- (C) I e III, apenas.
- (D) II e III, apenas.
- (E) I, II e III.

37

Até 1988, o território que hoje corresponde ao Estado do Tocantins pertencia ao antigo norte de Goiás e à Região Centro-Oeste, tendo como capital política a cidade de Goiânia. Com a emancipação política, da noite para o dia, as pessoas amanheceram tocantinenses, mas sem referências culturais que as representassem como tais.

A respeito da projeção simbólica do novo Estado e de sua nova capital, assinale a opção que interpreta corretamente o processo de construção e atribuição de uma identidade ao Tocantins.

- (A) Desde o primeiro mandato do governador Siqueira Campos, os símbolos oficiais do Tocantins continuaram sendo o brasão de armas, a bandeira, o selo estadual e a canção "Hino ao Tocantins", de Liberato Costa Póvoa e Abiezer Alves da Rocha.
- (B) O girassol foi reconhecido oficialmente como símbolo da natureza do Estado, por ser uma planta nativa dos cerrados tocantinenses e estar associada à prosperidade e à esperança.
- (C) A Praça dos Girassóis, centro cívico de Palmas, foi concebida para receber edifícios esteticamente associados à cultura do Tocantins, como o Palácio do Araguaia, cujos pórticos remetem ao capim dourado, símbolo da tradição do artesanato de alta qualidade da região.
- (D) A monumentalidade da Praça dos Girassóis é enfatizada pelo seu pavimento, que contém figuras simbólicas como o mapa do Tocantins, a rosa dos ventos, o brasão de armas e a Praça Krahô.
- (E) O meio ambiente também foi utilizado para fortalecer o sentimento identitário, inserindo o girassol, a fava-de-bolota, a arara-canindé e a granada como símbolos da natureza do Tocantins, desde a promulgação da Constituição Estadual em 1989.

38

A respeito da matriz energética do Estado e dos investimentos em biocombustíveis, analise as afirmativas a seguir e assinale (V) para a verdadeira e (F) para a falsa.

- ( ) O Estado tem condições de clima e solo desfavoráveis para o plantio de matérias-primas usadas na fabricação de biocombustíveis, mas a expansão do modal logístico (Ferrovia Norte-Sul) permitirá o acesso à soja do planalto goiano.
- ( ) O Tocantins conta com duas usinas de biodiesel em funcionamento, utilizando o pinhão-manso, a soja, a mamona e outras oleaginosas como matéria-prima.
- ( ) O Estado tem alto potencial de geração de energia solar, pela elevada irradiação solar e pelas políticas públicas voltadas para produção de energia limpa e renovável, como a Política Estadual de Incentivo à Geração e ao Uso da Energia Solar (Pró-Solar)

As afirmativas são, respectivamente,

- (A) V – F – V.
- (B) F – V – V.
- (C) F – F – V.
- (D) V – V – F.
- (E) V – V – V.

39

*As belas paisagens como serras, cachoeiras, praias e até mesmo dunas, fazem do Tocantins um paraíso de paisagens naturais, atraindo turistas de várias regiões para conhecer o mais novo Estado brasileiro. A potencialidade para o ecoturismo e a preocupação em conservar a biodiversidade e recursos naturais nele contidos fez com que o Governo do Estado, criasse e implementasse as Unidades de Conservação Ambiental (UC).*

Adaptado de <https://www.to.gov.br/secom/>

A respeito das Unidades de Conservação (UC) do Tocantins, assinale a afirmativa correta.

- (A) São espaços territoriais legalmente instituídos pelo poder público e podem ser de proteção integral federal, como no caso dos Parques Cantão, Jalapão e Lajeado.
- (B) As UCs federais estão subordinadas ao Instituto Chico Mendes de Conservação da Biodiversidade (ICMBio), como no caso do Monumento Natural das Árvores Fossilizadas.
- (C) As UCs estaduais estão subordinadas ao Instituto Natureza do Tocantins (Naturatins), que supervisiona o Parque do Araguaia e o das Nascentes do rio Parnaíba.
- (D) As UCs de uso sustentável são compostas exclusivamente por áreas públicas, sendo permitida sua utilização apenas para o ecoturismo, pesquisa e educação ambiental.
- (E) As UCs municipais estão subordinadas às secretarias de meio ambiente, como no caso do Monumento Natural dos Cânions e Corredeiras do Rio Sono e do Parque Ecológico Roberto Guedes Pereira.

40

O Estado do Tocantins possui diversas comunidades quilombolas certificadas e outras com processo formalizado para regularização fundiária de seus territórios. A definição de comunidade quilombola é dada pelo Art. 2º do Decreto nº 4.887/2003:

*Consideram-se remanescentes das comunidades dos quilombos, para os fins deste Decreto, os grupos étnico-raciais, segundo critérios de auto-atribuição, com trajetória histórica própria, dotados de relações territoriais específicas, com presunção de ancestralidade negra relacionada com a resistência à opressão histórica sofrida.*

A respeito dos órgãos e processos envolvidos na identificação e regularização de territórios quilombolas no Estado do Tocantins, assinale a afirmativa correta.

- (A) O acesso dessas comunidades às políticas públicas de educação, saúde, moradia e regularização fundiária depende de o Estado emitir uma certidão de identificação de comunidade quilombola, mediante Fundação Palmares.
- (B) Os critérios para reconhecimento de um grupo enquanto remanescente de quilombo depende da comprovação de sua ancestralidade, seu parentesco e da preservação viva de religiosidades autenticamente africanas.
- (C) A Coordenação Nacional de Articulação de Comunidades Negras Rurais Quilombolas (CONAQ) luta pela incorporação constitucional do direito à autodefinição dos remanescentes de quilombos.
- (D) A certificação quilombola é realizada pela Fundação Cultural Palmares, que avalia com visitas técnicas a autenticidade do legado quilombola pretendido e, caso o aprove, emite a certidão de comunidade quilombola e a inscreve em um cadastro geral.
- (E) O acesso às terras ocupadas pelos remanescentes das comunidades dos quilombos é garantido por sua delimitação e titulação, a cargo da autoridade municipal em que a mesma se localiza.



## CONHECIMENTOS ESPECÍFICOS

41

Em relação ao Microsoft Teams, o *feed* de atividades pode ser filtrado por palavra-chave ou por opções pré-definidas como

- (A) menções, datas e respostas.
- (B) respostas, datas e chamada perdida.
- (C) reações, mensagens de voz e respostas.
- (D) reações, menções e tarefas.
- (E) mensagens de voz, respostas e tarefas.

42

O mecanismo usado pelos sistemas operacionais para implementar a multiprogramação é denominado

- (A) fragmentação de memória.
- (B) escalonamento de processos.
- (C) sistemas de arquivos.
- (D) interrupções de *hardware*.
- (E) chamadas de sistema.

43

Na Computação em Nuvem, os três principais modelos arquiteturais são Saas, PaaS e IaaS.

No modelo IaaS, os serviços gerenciados pelo cliente são

- (A) rede e base de dados
- (B) compiladores e armazenamento
- (C) estrutura da aplicação e base de dados
- (D) sistema operacional e base de dados
- (E) máquina virtual e base de dados

44

O cabeamento é o meio por onde os dados circulam em uma rede de computadores. O cabo coaxial, o par trançado e a fibra óptica são os principais meios de cabeamento.

No sistema de pinagens de porta 10BaseT (8 Pino8), o pino 6 tem descrição

- (A) RxD+
- (B) TX-
- (C) TX+
- (D) RX+
- (E) RX-

45

A partir do Android 5.0 ocorreram mudanças na Máquina Virtual do Android.

Em relação a essas mudanças, é correto afirmar que

- (A) a máquina virtual ART (*Android Runtime*) foi substituída pela nova versão Dalvik.
- (B) a compilação passou a ser *Ahead-of-time* (AOT).
- (C) a compilação passou a ser *Just-In-Time* (JIT).
- (D) o *bytecode* (.class) passou a ser compilado e convertido no formato .apk (*Android Package File*).
- (E) os aplicativos ART e aplicativos nativos passam a ser executados em diferentes ambientes de segurança fora do *Application Sandbox*.

46

Assinale a opção que melhor descreve a arquitetura de processadores x86 em comparação à arquitetura ARM.

- (A) Processadores x86 geralmente têm um custo de produção mais baixo, tornando-os mais acessíveis para dispositivos embarcados.
- (B) Processadores x86 oferecem maior poder de processamento e eficiência energética em comparação com os processadores ARM.
- (C) Processadores x86 adotam uma arquitetura CISC (*Complex Instruction Set Computer*), enquanto os processadores ARM seguem uma estrutura RISC (*Reduced Instruction Set Computer*).
- (D) Ambas as arquiteturas apresentam tipos de dados de até 128 bits de tamanho.
- (E) Processadores x86 oferecem uma arquitetura baseada em memória virtual enquanto os processadores ARM incluem *hardwares* para segmentação e paginação que fornecem visões distintas de memória (não paginada e não segmentada, paginada e não segmentada, não paginada e segmentada, paginada e segmentada).

47

Em relação aos sistemas e serviços de armazenamento de dados na nuvem, analise as afirmativas a seguir e assinale (V) para a verdadeira e (F) para a falsa.

- ( ) O serviço de armazenamento de dados não estruturados para empresas na nuvem do Google é o Drive.
- ( ) O Dropbox é um aplicativo de armazenamento na nuvem.
- ( ) No OneDrive é possível ativar arquivos sob demanda para manter arquivos em seu disco rígido e usar *offline*.
- ( ) Os serviços de armazenamento de dados na nuvem são sempre gratuitos.

As afirmativas são, respectivamente,

- (A) V – V – V – F.
- (B) V – V – F – F.
- (C) F – V – V – F.
- (D) F – V – F – F.
- (E) V – V – F – V.

48

O Writer do OpenOffice possui um componente que permite descrever fórmulas matemáticas por meio de um editor de equações.

Nesse contexto, a descrição da equação  $\begin{cases} 0, n \neq 0 \\ 1, n = 1 \end{cases}$  no ambiente de fórmulas do OpenOffice é

- (A) `left lbracket stack{0, n <> 0 # 1, n=1} right none`
- (B) `left lbrace stack{0, n <> 0 # 1, n=1} right none`
- (C) `left lbracket stack{0, n simeq 0 # 1, n=1} right none`
- (D) `left lbrace stack{0, n simeq 0 # 1, n=1} right none`
- (E) `left lbracket stack{0, n equiv 0 # 1, n=1} right none`

49

Sobre segurança da informação, o principal conceito relacionado à coleta de evidências digitais que é abordado na RFC 3227 é(são)

- (A) o princípio da integridade.
- (B) a ordem da volatilidade.
- (C) a cadeia de confiança.
- (D) o princípio da não-repreensão.
- (E) os procedimentos de análise de tráfego de rede.

50

O RIP (Protocolo de Informação de Roteamento) é um protocolo interno de roteamento usado por roteadores para trocar informações de roteamento entre si. A ideia é que os roteadores compartilhem suas tabelas de roteamento com os roteadores vizinhos, na tentativa de encontrar o caminho mais eficiente entre redes.

Sabendo que existem três versões do protocolo RIP (RIPv1, RIPv2 e RIPng), é correto afirmar que

- (A) o RIPng, baseado no RIPv1, faz a autenticação por meio do protocolo IPsec.
- (B) o RIPng é limitado a 25 informações de rota.
- (C) as três versões do protocolo RIP permitem uso de máscaras de sub-redes.
- (D) o RIPv2 utiliza um esquema de autenticação baseado em senha.
- (E) as três versões do protocolo RIP usam mensagens com endereços IPv6.

51

Na versão Windows 11, um usuário, ao usar o atalho de teclado Windows + H, terá acesso

- (A) à digitação por voz.
- (B) à pesquisa.
- (C) ao histórico de transferência.
- (D) ao painel de *emojis*.
- (E) à visão de tarefas.

52

Uma forma de detectar se o Windows 11 é inicializado no modo BIOS ou UEFI consiste em executar o comando `reg query HKLM\System\CurrentControlSet\Control /v PEFirmwareType` em um *prompt* de comando do Windows.

Sobre esse comando, é correto afirmar que

- (A) ele retorna o código 0x1 quando o dispositivo usa o modo UEFI.
- (B) ele retorna o código 0x2 quando o dispositivo usa o modo BIOS.
- (C) a chave PEFirmwareType contém informações sobre o tipo de *firmware* de inicialização do sistema.
- (D) o parâmetro "/v" indica a versão do sistema.
- (E) o comando `HKLM\System\CurrentControlSet\Control` indica o caminho até a licença de instalação do Windows.

53

Durante um teste de funcionamento que envolve a configuração da BIOS (*Basic Input and Output System*), é importante verificar, para garantir a estabilidade e o desempenho do sistema, a seguinte configuração:

- (A) ajuste da resolução da tela.
- (B) configuração de contas de usuário.
- (C) configuração do idioma do sistema operacional.
- (D) configuração da ordem de inicialização dos dispositivos (*boot order*).
- (E) atualização do firmware da placa de vídeo.

54

A SDRAM (*Synchronous Dynamic Random-Access Memory*) é uma forma de DRAM síncrona que opera em sincronia com um sinal de *clock* externo, permitindo a troca de dados com o processador na velocidade máxima do barramento processador/memória, sem a necessidade de estados de espera.

Em uma organização típica de uma SDRAM de 256Mb, o pino DQM tem a seguinte atribuição:

- (A) habilitação de *clock*.
- (B) entrada de *clock*.
- (C) seleção de *chip*.
- (D) entrada/saída de dados.
- (E) máscara de dados.

55

Assinale a opção que indica uma das principais diferenças entre redes com comutação de pacotes e redes com circuitos virtuais comutados.

- (A) Tanto as redes com circuitos virtuais comutado (SVC) quanto as com circuito permanente são mais rápidas para iniciar a transmissão de dados do que as redes com comutação de pacotes.
- (B) As redes com circuito virtual são mais rápidas do que as com computação para rotear os pacotes de dados, pois elas usam sempre o mesmo caminho já configurado nos roteadores presentes na rota a ser usada.
- (C) O tamanho dos pacotes de dados nas redes com comutação de pacotes é geralmente menor do que nas redes com circuitos virtuais.
- (D) Em caso de mudança na rede, as redes com circuitos virtuais são reconfiguradas mais rapidamente do que as redes com comutação.
- (E) As redes com circuitos virtuais são mais comumente usadas em redes locais e na Internet.

56

Os sistemas operacionais podem ser construídos segundo diferentes possibilidades estruturais.

A estrutura de sistema operacional que implementa um esquema de divisão do sistema operacional em módulos, na qual apenas um deles é executado em modo privilegiado, sendo os demais módulos implementados como processos de usuário, é denominada

- (A) exonúcleo.
- (B) fragmentada.
- (C) máquina virtual.
- (D) micronúcleo.
- (E) monolítica.

57

O *software* Microsoft Teams é uma plataforma de colaboração e comunicação desenvolvida em nuvem com uma série de facilidades referentes ao trabalho em grupo. Sua organização em equipes organiza os times.

No âmbito dessa plataforma, em sua versão em português, as equipes podem ser organizadas em canais.

Sobre os canais em equipes, assinale o tipo de canal que permite a comunicação que propicia o trabalho com pessoas de fora ou de dentro de sua equipe ou organização.

- (A) Canal compartilhado.  
 (B) Canal geral.  
 (C) Canal oculto.  
 (D) Canal padrão.  
 (E) Canal privado.

58

Na plataforma de colaboração Microsoft Teams, da suíte Microsoft 365, versão português, é possível a um usuário definir seu status.

Assinale a opção que indica o status de usuário que é definido automaticamente para "Longe" quando do bloqueio de seu computador, ou quando o equipamento entra em modo ocioso ou de sono.

- (A) Disponível.  
 (B) Não perturbe.  
 (C) Ocupado.  
 (D) Parecer ausente.  
 (E) Volto logo.

59

Em redes de computadores, o conceito de *comutação* refere-se ao encaminhamento de mensagens entre dois pontos A e B que não estão diretamente interligados. A fim de efetivar a entrega, a mensagem segue o fluxo entre esses pontos valendo-se de dispositivos intermediários comutadores.

Nesse contexto, a comutação por circuito caracteriza-se por

- (A) configurar uma arquitetura cliente-servidor que estabeleça a conexão via protocolo HTTP ou HTTPS.  
 (B) criar um caminho dedicado antes do envio da mensagem, dedicado até o final da transmissão.  
 (C) dividir a mensagem em pacotes, cada qual sendo roteada por um caminho até o destino.  
 (D) estabelecer caminhos dedicados ponto-a-ponto, com liberação automática entre os pontos intermediários.  
 (E) implementar uma rede PAN (*Personal Area Network*), que permite a comunicação por proximidade.

60

Considere a planilha a seguir, produzida no software Microsoft Excel, versão BR, integrante da suíte Microsoft 365.

	A	B	C	D	E
	<b>Código Beneficiário</b>	<b>Nome Beneficiário</b>	<b>Telefone</b>	<b>Provisão</b>	<b>Data Pagamento</b>
1					
2	104	B2	212-343	R\$ 5.100,00	08/08/2024
3	312	B1	111-222	R\$ 3.120,00	04/06/2024
4	492	B5	553-455	R\$ 9.800,00	04/05/2024
5	589	B4	772-678	R\$ 6.300,00	30/06/2024
6	704	B3	981-225	R\$ 1.359,00	17/04/2024
7	803	B6	569-696	R\$ 4.600,00	28/04/2024

Nesse contexto, assinale a fórmula que indica o dia do pagamento do beneficiário de nome B5.

- (A) =PROCH(492;A2:E7;5;FALSO)  
 (B) =PROCH(588;A2:E7;5)  
 (C) =PROCV(492;A2:E7;4;FALSO)  
 (D) =PROCV(588;A2:E7;5;FALSO)  
 (E) =PROCV(588;A2:E7;5;VERDADEIRO)

**Atenção:** o enunciado a seguir refere-se às duas próximas questões.

Considere a seguinte planilha, produzida no software Microsoft Excel, versão BR, integrante da suíte Microsoft 365.

	J	K	L
	<b>Código do Segurado</b>	<b>Nome do Segurado</b>	<b>Valor do Prêmio</b>
1			
2	1	S1	R\$ 3.200,00
3	2	S2	R\$ 4.580,00
4	3	S3	R\$ 2.900,00
5	4	S4	R\$ 1.870,00
6	5	S5	R\$ 955,00

61

O setor de cobrança precisa implantar uma política de desconto em função da data de pagamento. Para isso, pretende implementar uma fórmula que calcule o desconto no pagamento do valor de um prêmio segundo a regra:

- Se o pagamento for feito até o dia 05, considerando-se a data corrente, o desconto a ser aplicado é de 10%
- Se o pagamento for realizado entre os dias 06 e 10, considerando-se a data corrente, o desconto a ser aplicado é de 5%.

Em ambos os casos, considera-se como referência a data corrente de pagamento, com vistas à comparação com os limites apresentados. Como exemplo, se a data de execução da fórmula for 11/03/2024, não haverá desconto. Já se a fórmula for executada no dia 02/04/2024, o desconto aplicado será de 10%.

Assinale a opção que apresenta a fórmula que implementa a situação descrita para o segurado de código 1.

- (A) =SE(DIA(HOJE())<=5;L2\*0,9;SE(DIA(HOJE())<=10;L2\*0,95;L2))  
 (B) =SE(HOJE()<=5;L2\*0,9;SE(HOJE()<=10;L2\*0,95;L2))  
 (C) =SE(DATA()<=5;L2\*0,9;SE(DATA()<=10;L2\*0,95;L2))  
 (D) =SE(HOJE()=5;L2\*0,9;SE(HOJE()=10;L2\*0,95;L2))  
 (E) =SE(DIA(HOJE())=5;L2\*0,9;SE(DIA(HOJE())=10;L2\*0,95;L2))

**62**

Assinale a fórmula que calcula o somatório de prêmios cujos valores sejam maiores que R\$ 2000,00.

- (A) =CONT.SE(L2:L6;">2000")
- (B) =CONT.SE(L2:L6;">2000";L2:L6)
- (C) =SOMA(L2:L6;">2000")
- (D) =SOMASE(L2:L6;">2000")
- (E) =SOMASE(L2:L6;">2000";K2:K6)

**63**

No âmbito do *software* Microsoft Excel, versão BR, integrante da suíte Microsoft 365, assinale a opção que indica o nome da função cujo objetivo é reduzir uma matriz a um valor acumulado aplicando um LAMBDA a cada valor, e retornando o valor total no acumulador.

- (A) CODIFURL
- (B) LAMBDA
- (C) MARRED
- (D) MATRIZ.MULT
- (E) REDUZIR

**64**

A Internet consiste em uma rede global que congrega redes de *hosts* distribuídas por diversas localidades.

Sobre sua estrutura, é correto afirmar que a Internet

- (A) garante a entrega de pacotes via camada de enlace utilizando o protocolo H.323.
- (B) implementa o serviço de correio eletrônico utilizando protocolos como o MIME.
- (C) oferece o serviço de terminal remoto utilizando o protocolo DNS, com o emulador *putty*.
- (D) possui um modelo de cinco camadas, que estabelece a entrega de pacotes por circuito.
- (E) utiliza o protocolo ICMP como base para a transferência de arquivos.

**65**

Na abordagem de sistemas de banco de dados, a arquitetura de três esquemas (ou arquitetura ANSI/SPARC) sustenta a abstração entre seus níveis.

Nesse contexto, o conceito que define a capacidade de alteração do esquema conceitual da arquitetura de três esquemas, sem repercussão nos esquemas externos ou nos programas de aplicação é definido como independência de dados

- (A) conceitual.
- (B) de usuário.
- (C) física.
- (D) lógica.
- (E) visual.

## LEGISLAÇÃO INSTITUCIONAL

**66**

Nos termos da Constituição do Estado do Tocantins, constitui objeto de lei complementar a seguinte matéria:

- (A) os prazos de prescrição para ilícitos praticados por qualquer agente, servidor ou não, que causem prejuízos ao erário.
- (B) os limites de idade, a estabilidade e outras condições de transferência do servidor militar para a inatividade.
- (C) os casos de contratação por tempo determinado para atender à necessidade temporária de excepcional interesse público.
- (D) as regras para cálculo de proventos de aposentadoria e pensão por morte.
- (E) os requisitos e as restrições ao ocupante de cargo ou emprego da administração direta e indireta que possibilite o acesso a informações privilegiadas.

**67**

Considerando o exercício da função legislativa por parte da Assembleia Legislativa de Tocantins, nos termos de seu Regimento Interno, é correto afirmar que

- (A) projetos de lei delegada podem se destinar a regular as matérias de exclusiva competência do Poder Executivo, com a sanção do Governador do Estado.
- (B) projetos de resolução podem se destinar a regular, com eficácia de lei ordinária, matéria de competência privativa da Assembleia Legislativa.
- (C) projetos de lei complementar visam regular matéria infraconstitucional.
- (D) projetos de lei têm por objetivo regular matérias de competência do Poder Legislativo, sem a sanção do Governador do Estado.
- (E) projetos de decreto legislativo destinam-se à delegação de competência, na forma estabelecida na Constituição Estadual.

**68**

Aline, servidora pública estadual, revelou segredo do qual se apropriou em razão do cargo que ocupa. A Administração Pública, ao tomar conhecimento do fato, instaurou procedimento administrativo disciplinar a fim de apurar a conduta e garantir à servidora os princípios da ampla defesa e do contraditório.

À luz do Estatuto dos Servidores Públicos Civis do Estado do Tocantins, caso punida, Aline poderá ser sancionada com

- (A) advertência.
- (B) suspensão.
- (C) prestação de serviço.
- (D) multa.
- (E) demissão.

**69**

Ana, servidora pública efetiva e estável, ocupante de cargo de nível superior, objetivando inteirar-se sobre os requisitos para a progressão na carreira, consultou a Lei nº 4.208/2023, que trata sobre o plano de cargos, carreiras e remuneração dos Servidores da Assembleia de Tocantins.

Assim, para fazer jus à progressão, Ana terá que

- (A) possuir no máximo três faltas injustificadas por exercício referente ao período avaliado.
- (B) obter conceito igual ou superior a 70% (setenta por cento) dos pontos possíveis em todos os procedimentos de sua Avaliação.
- (C) concluir curso de pós-graduação *lato sensu* com duração mínima de 360 (trezentos e sessenta) horas.
- (D) cumprir trinta meses de efetivo exercício na classe em que se encontra.
- (E) concluir cursos de aperfeiçoamento em sua área de atuação que tenha, no mínimo, 80 (oitenta) horas de duração.

**70**

Antônio foi nomeado para o cargo de Controlador Interno da Assembleia Legislativa de Tocantins.

À luz da Lei nº 4.209/2023, que dispõe sobre a estrutura administrativa da Aletto, durante o exercício da função, Antônio será competente para:

- (A) opinar, conclusivamente, em processos de direitos, deveres e obrigações dos servidores do Poder Legislativo.
- (B) constituir Comissão Permanente de Licitação.
- (C) examinar a observância das normas de licitações.
- (D) apresentar à Mesa Diretora o balancete mensal e, no início de cada exercício, o balancete geral das contas da Assembleia Legislativa, relativo ao exercício anterior.
- (E) planejar, coordenar, orientar, controlar e dirigir as atividades administrativas, orçamentárias, financeiras, de comunicação social, de tecnologia de informação e de apoio legislativo da Assembleia Legislativa.



# ASSEMBLEIA LEGISLATIVA DO ESTADO DO TOCANTINS

CONCURSO PÚBLICO – EDITAL Nº 01/2023

## PROVA OBJETIVA – TARDE

### ANALISTA LEGISLATIVO TÉCNICO JURÍDICO

NÍVEL SUPERIOR – TIPO 1 – BRANCA



#### SUA PROVA

- Além deste caderno contendo **70 (setenta)** questões objetivas e **1 (uma)** redação, você receberá do fiscal de prova o cartão de respostas e a folha de textos definitivos;
- As questões objetivas têm **5 (cinco)** opções de resposta (A, B, C, D) e somente uma delas está correta.



#### TEMPO

- Você dispõe de **5 (cinco) horas** para a realização da prova, já incluído o tempo para a marcação do cartão de respostas e da folha de textos definitivos;
- **3 (três) horas** após o início da prova, é possível retirar-se da sala, sem levar o caderno de questões;
- A partir dos **30 (trinta) minutos** anteriores ao término da prova é possível retirar-se da sala **levando o caderno de questões**.



#### NÃO SERÁ PERMITIDO

- Qualquer tipo de comunicação entre os candidatos durante a aplicação da prova;
- Anotar informações relativas às respostas em qualquer outro meio que não seja o caderno de questões;
- Levantar da cadeira sem autorização do fiscal de sala;
- Usar o sanitário ao término da prova, após deixar a sala.



#### INFORMAÇÕES GERAIS

- Verifique se seu caderno de questões está completo, sem repetição de questões ou falhas. Caso contrário, **notifique imediatamente o fiscal da sala**, para que sejam tomadas as devidas providências;
- Confira seus dados pessoais, especialmente nome, número de inscrição e documento de identidade e leia atentamente as instruções para preencher o cartão de respostas e a folha de textos definitivos;
- Para o preenchimento do cartão de respostas e da folha de textos definitivos, use somente caneta esferográfica, fabricada em material transparente, com tinta preta ou azul;
- Assine seu nome apenas no(s) espaço(s) reservado(s) no cartão de respostas e na folha de textos definitivos;
- Confira seu cargo, cor e tipo do caderno de questões. Caso tenha recebido caderno de cargo ou cor ou tipo **diferente** do impresso em seu cartão de respostas e em sua folha de textos definitivos, o fiscal deve ser **obrigatoriamente** informado para o devido registro na ata da sala;
- Reserve tempo suficiente para o preenchimento do seu cartão de respostas e da sua folha de textos definitivos. O preenchimento é de sua responsabilidade e **não será permitida a troca do cartão de respostas e da folha de textos definitivos em caso de erro cometido pelo candidato**;
- Para fins de avaliação, serão levadas em consideração apenas as marcações realizadas no cartão de respostas e na folha de textos definitivos;
- A FGV coletará as impressões digitais dos candidatos na lista de presença;
- Os candidatos serão submetidos ao sistema de detecção de metais quando do ingresso e da saída de sanitários durante a realização das provas.
- **Boa prova!**

## CONHECIMENTOS BÁSICOS

### Língua Portuguesa

1

Observe o seguinte texto:

*Quando entrei no terrível vagão, ele estava ocupado por duas pessoas. Uma, dobrada, coberta, dormia profundamente. A coberta superior estava manchada, de fundo amarelado, como pele de leopardo. Vendem-se muitas mantas assim nas lojas de artigos de viagens, mas pude notar logo depois que se tratava realmente da pele de um animal selvagem; do mesmo modo, o boné da pessoa adormecida me pareceu ser de feltro branco bastante delicado. O outro viajante, uma aparência simpática, parecia ter passado dos trinta anos e mostrava-se como figura insignificante que passa confortavelmente as noites em estradas de ferro.*

Nesse fragmento textual, para criar sinais de história realista e verdadeira, o narrador apela para a seguinte estratégia:

- (A) seleciona uma situação banal da qual não precisa fornecer muitos detalhes, exatamente por sua banalidade.
- (B) fornece algumas marcas caracterizadoras dos dois personagens presentes no texto, destacando sua banalidade.
- (C) indica traços descritivos do ambiente, mostrando-o como se nada houvesse nele de excepcional.
- (D) mostra detalhes variados e bastante pitorescos dos objetos descritos.
- (E) dá ao leitor informações sobre personagens e ambiente, mostrando-os como bastante conhecidos do narrador.

2

Assinale a frase que mostra a palavra *mais* numa classe gramatical **diferente** das demais.

- (A) O mercado está prisioneiro de mais um círculo vicioso: piora porque piorou e porque piorou, piora.
- (B) Os ingleses conquistaram o mundo porque não aguentavam mais a própria cozinha.
- (C) Quanto mais vejo o estrangeiro, mais amo a minha pátria.
- (D) Não é mais possível aprender tudo de cor. Um homem instruído não é mais o homem que sabe muitas coisas; é o homem que sabe onde buscar informações.
- (E) Muda-se mais facilmente de religião do que de café

3

As frases a seguir mostram termos ligados pela conjunção OU.

Assinale a frase em que essa conjunção mantém o valor de alternativa (e não de adição).

- (A) João ou Pedro deve ser eleito presidente da empresa.
- (B) A alegria ou a tristeza fazem parte da vida.
- (C) Inglês ou francês são idiomas falados pelos turistas
- (D) Os clientes leem livros ou revistas enquanto esperam.
- (E) Vasco ou Flamengo são times de longa tradição.

4

Um guitarrista americano produziu o seguinte pensamento:

*O crítico de rock é alguém que não sabe escrever, entrevistando gente que não sabe falar, para gente que não sabe ler.*

Sobre a estruturação ou a significação desse pequeno texto, assinale a afirmativa **incorreta**.

- (A) O termo “de rock” funciona como complemento nominal do termo anterior.
- (B) Todos os elementos da cadeia comunicativa citados no texto são marcados pela ignorância.
- (C) O pensamento acima revela um preconceito fortíssimo contra os amantes de rock.
- (D) A opinião expressa no texto pode advir da experiência pessoal do autor, já que se trata de um guitarrista.
- (E) A injustiça desse texto provém de ser uma opinião fundamentada em uma autoridade duvidosa.

5

John Steinbeck, prêmio Nobel, declarou o seguinte:

*O homem é o único animal que bebe sem ter sede, come sem ter fome e fala sem ter nada a dizer.*

Em relação ao significado e à estruturação desse pequeno texto, assinale a afirmativa **incorreta**.

- (A) A frase ficaria mais enfática se invertêssemos a posição do termo inicial: O único animal que bebe sem ter sede, come sem ter fome e fala sem ter nada a dizer é o homem.
- (B) A inversão de alguns segmentos do texto em nada modificaria o sentido da frase: O homem é o único animal que come sem ter fome, bebe sem ter sede e fala sem ter nada a dizer.
- (C) Os segmentos finais do texto mostram preocupação com rigoroso paralelismo sintático.
- (D) Segundo a opinião do autor do texto, a marca principal do homem é a irracionalidade.
- (E) Nem todas as ações citadas como marcas humanas estão presentes, por oposição, nos outros animais.

6

Assinale a frase que **não** expressa uma noção de tempo abstrato.

- (A) Nas asas do tempo, a tristeza voa.
- (B) Quem mata o tempo não é assassino, é suicida.
- (C) O tempo perdido não se encontra nunca mais.
- (D) O tempo é o melhor professor. Infelizmente, ele mata todos os seus estudantes
- (E) O tempo gasto na viagem foi de duas horas.

7

Assinale a frase em que a utilização do acento grave indicativo da crase é realizada de forma **errada**.

- (A) Jamais alguém se arrependeu de ter-se acostumado à madrugada e à ter-se casado jovem.
- (B) Tempo é o suspiro de adeus do sol à terra.
- (C) Saio todos os dias às cinco horas e não permito que o meu trabalho interfira no meu jogo de tênis.
- (D) O momento de extrair uma lição da história está sempre à mão para os sábios.
- (E) Quando assumi, quatro anos atrás, estávamos à beira do precipício.

8

Os adjetivos podem representar estados, qualidades, características e relações.

Assinale a frase que mostra um tipo de adjetivo **diferente** dos demais.

- (A) Nunca houve criança tão amável que a própria mãe não ficasse satisfeita ao conseguir adormecê-la.
- (B) Nada mais perversamente cruel que uma adorável criança.
- (C) Mesmo estando doentes, as crianças não ficam caladas.
- (D) Quando as crianças estão quietas é porque fizeram alguma coisa errada.
- (E) As tangerinas verdes não amadurecem fora do pé.

9

Assinale a frase em que o adjetivo sublinhado mostra uma função sintática **diferente** das demais.

- (A) Por fora bela viola, por dentro pão **bolorento**.
- (B) Tiradentes, **heroico**, tentou organizar uma revolução.
- (C) Um rosto **bonito** altera-se depressa.
- (D) Eu não podia acreditar que existem múmias tão **lindas**.
- (E) Um homem belo é um homem **insignificante**.

10

Assinale a opção que mostra uma impropriedade léxica, ou seja, um emprego **inadequado** da expressão “cerca de”.

- (A) Havia cerca de três dúzias de convidados no final da festa.
- (B) Chegaram cerca de 100 cartas no mesmo dia.
- (C) Cerca de 18 lojas fecharam as portas mais cedo.
- (D) Os cantores receberam cerca de uma centena de convites.
- (E) A plantação produziu cerca de uma tonelada de legumes.

11

Muitas palavras portuguesas mostram o prefixo A- sem qualquer valor semântico, sendo equivalentes ao mesmo vocábulo sem esse prefixo.

Assinale a palavra a seguir que exemplifica esse A protético.

- (A) amostrar
- (B) abraçar
- (C) atenuar
- (D) aguardar
- (E) aparar

12

Observe o seguinte texto:

*A felicidade depende da habilidade que tenhamos naquelas atividades que consideramos importantes: somente se lhes damos um real valor aos pequenos detalhes cotidianos, poderemos ter instantes felizes. A felicidade absoluta não existe, e já que só podemos acessar os pequenos detalhes daquilo que nos interessa, devemos contentar-nos com isso. Por isso, a infelicidade é um sinal claro de nossa incompetência na arte de viver.*

Sobre a estrutura e a significação desse texto, assinale a afirmativa **inadequada**.

- (A) O tema do texto gira em torno do que consiste a felicidade e o que viria a ser o seu oposto.
- (B) A afirmação de que “A felicidade absoluta não existe” é de cunho pessoal do autor do texto, representando uma opinião.
- (C) O raciocínio utilizado na estruturação argumentativa é do tipo dedutivo.
- (D) O conector “Por isso” mostra a preocupação com o caráter lógico da argumentação.
- (E) A tese do texto é a de que a infelicidade é fruto de nossa incompetência na arte de viver.

## Raciocínio Lógico Matemático

13

Certo programa de rádio tem 1 hora e 55 minutos de duração. A partir do momento em que o programa é iniciado, há blocos temáticos de 7 minutos intercalados por blocos de propagandas de 2 minutos.

Em todos os blocos de propaganda, ouve-se o comercial do restaurante R, que sempre dura 18 segundos.

Se o programa começa e termina com um bloco temático, então, o tempo total do programa dedicado ao anúncio do restaurante R é

- (A) 3 minutos e 54 segundos.
- (B) 3 minutos e 36 segundos.
- (C) 3 minutos e 18 segundos.
- (D) 3 minutos.
- (E) 2 minutos e 48 segundos.

14

A linha de produção de certa fábrica produz 1100 latas de sardinhas a cada hora. Certo dia, por um defeito de calibragem do sistema, entre 13h e 14h, o volume de produção foi reduzido em 30% durante exatos 12 minutos.

A quantidade de latas de sardinhas produzidas no intervalo supracitado foi

- (A) 946.
- (B) 964.
- (C) 1022.
- (D) 1034.
- (E) 1046.

15

Marcelo está parado de frente para uma das paredes de uma sala quadrada. Nesta posição, ele está a 1m e 20cm da parede que se encontra à sua direita e a 1m e 70cm da parede que está às suas costas.

Ele, então, se desloca paralelamente às paredes da sala sendo 40cm para a frente e 80cm para a direita. Nessa nova posição, ele passou a distar 1m e 90cm da parede que antes estava à sua esquerda.

Desprezando-se as dimensões de Marcelo, a sua atual distância à parede que, antes dos movimentos, estava à sua frente, é

- (A) 20cm.
- (B) 30cm.
- (C) 40cm.
- (D) 50cm.
- (E) 60cm.



**16**

Um dado é dito comum quando tem a forma de um cubo e suas 6 faces são numeradas de 1 a 6, de tal forma que a soma dos números estampados em faces opostas, quaisquer que sejam elas, sempre somam 7.

Quando um dado comum é lançado, diz-se que o resultado do lançamento é o número estampado na face voltada para cima.

Um dado foi lançado 3 vezes seguidas. Se o produto dos resultados obtidos nos lançamentos vale 75, a soma desses resultados é igual a

- (A) 12.
- (B) 13.
- (C) 14.
- (D) 15.
- (E) 16.

**17**

Em certo ano, o dia 1º de agosto cai em um domingo. Logo, o dia 1º de novembro cairá em

- (A) um sábado.
- (B) um domingo.
- (C) uma segunda-feira.
- (D) uma quarta-feira.
- (E) uma sexta-feira.

**18**

Considere a seguinte proposição condicional:

*Se todos os alunos da Escola Aristarco gostam de matemática, então, ao menos um deles ganha medalha na Olimpíada Nacional de Matemática.*

Se essa proposição é verdadeira, é correto afirmar que

- (A) se nenhum dos alunos da Escola Aristarco gosta de Matemática, então nenhum deles ganha medalha na Olimpíada Nacional de Matemática.
- (B) se todos os alunos da Escola Aristarco ganham medalha na Olimpíada Nacional de Matemática, então, todos esses alunos gostam de Matemática.
- (C) se algum aluno da Escola Aristarco ganha medalha na Olimpíada Nacional de Matemática, então todos esses alunos gostam de Matemática.
- (D) se nenhum aluno da Escola Aristarco ganha medalha na Olimpíada Nacional de Matemática, então nenhum desses alunos gosta de Matemática.
- (E) se nenhum aluno da Escola Aristarco ganha medalha na Olimpíada Nacional de Matemática, então algum desses alunos não gosta de Matemática.

**19**

Em uma caixa, há muitas canetas esferográficas. Classificadas conforme a cor, elas podem ser azuis, vermelhas ou pretas. Classificadas quanto à espessura da esfera, elas podem ser de ponta fina ou de ponta grossa.

Metade das canetas vermelhas tem a ponta grossa. A quantidade total de canetas pretas é igual à quantidade total de canetas vermelhas. Entre as canetas de ponta grossa, a quantidade de azuis é igual à de pretas. A quantidade de canetas azuis com ponta fina é o dobro da quantidade de canetas pretas de ponta grossa.

Se, nessa caixa, 18 são azuis e 20 têm ponta grossa, então a quantidade total de canetas na caixa é

- (A) 30.
- (B) 40.
- (C) 48.
- (D) 50.
- (E) 52.

**20**

Tucídides possuía uma dívida e, em vez de quitá-la, pagou apenas 20% do seu valor, deixando o restante para ser quitado em data futura, com acréscimo de 12% a título de juros sobre o saldo devedor.

No ato de quitação, Tucídides pagou R\$2.329,60. Logo, o valor original da dívida é o resultado da seguinte expressão:

(A)  $2.329,60 \times 0,88 - 20$

(B)  $\frac{2.329,60}{0,88} \times 1,20$

(C)  $\frac{2.329,60}{1,12} \times 1,20$

(D)  $\frac{2.329,60}{1,12 \times 1,20}$

(E)  $\frac{2.329,60}{1,12 \times 0,8}$

**21**

As filhas de Nepomuceno têm 5 e 9 anos de idade. Ele dividirá R\$420,00 entre elas de forma inversamente proporcional às suas idades.

Logo

- (A) a mais nova receberá R\$120,00 a mais que a mais velha.
- (B) a mais nova receberá R\$150,00 a mais que a mais velha.
- (C) a mais nova receberá R\$270,00 a mais que a mais velha.
- (D) a mais velha receberá R\$120,00 a mais que a mais nova.
- (E) a mais velha receberá R\$150,00 a mais que a mais nova.

**22**

A negação da proposição:

$$\text{Se } y \neq 0, \text{ então } x > 2 \text{ e } x \leq 5$$

é dada por

- (A) Se  $y = 0$ , então  $x > 2$  e  $x \leq 5$
- (B) Se  $y = 0$ , então  $x < 2$  ou  $x \geq 5$
- (C)  $y = 0$  e  $x \leq 2$  ou  $x > 5$
- (D)  $y \neq 0$  e  $x \leq 2$  ou  $x > 5$
- (E)  $y \neq 0$  e  $x \leq 2$  e  $x > 5$

## Atualidades

23

De acordo com o censo demográfico de 2022 (IBGE), mais da metade da população brasileira (51,13%) é feminina, e elas representam, segundo o Tribunal Superior Eleitoral, 53% do eleitorado. No entanto, elas ocupam, hoje, menos de 15% dos cargos eletivos.

A respeito da baixa participação das mulheres na política, assinale a afirmativa que apresenta um dispositivo existente na legislação brasileira para alterar esse cenário.

- (A) Reserva de pelo menos 50% dos recursos do Fundo Especial de Financiamento de Campanha, o Fundo Eleitoral, para financiar candidaturas femininas.
- (B) Suspensão dos direitos eleitorais aos partidos em caso de não observância do percentual de pelo menos 30% de candidatas mulheres em cada ciclo eleitoral
- (C) Reserva de assentos, em ambas as casas legislativas, para mulheres, com preferência para as representantes de povos originários.
- (D) Cota de gênero, que obriga cada partido ou coligação a preencher o mínimo de 30% e o máximo de 70% de candidaturas de cada sexo.
- (E) Repasse de até 30% dos recursos dos Fundos Partidário para custear o tempo da propaganda eleitoral gratuita de candidatas em rádio e televisão.

24

A França se tornou o primeiro país do mundo a incluir na Constituição a liberdade de a mulher abortar. A mudança na Carta Magna foi aprovada em uma sessão conjunta das duas Casas legislativas, a Assembleia Nacional e o Senado, e será promulgada pelo presidente Emmanuel Macron ainda em março de 2024.

Adaptado de <https://www1.folha.uol.com.br/mundo/2024/03/>

Diferentemente da França, a legislação brasileira

- (A) equipara o aborto ao infanticídio.
- (B) considera o aborto uma prática ilegal em todas as situações.
- (C) descriminaliza a interrupção da gravidez em caso de deficiência da gestante.
- (D) estabelece um limite temporal para interromper a gravidez, desde que respaldada por laudo médico.
- (E) autoriza a interrupção de gestação em caso de não haver outro meio de salvar a vida da gestante.

25

Desde os anos 2000, o interior do Brasil ultrapassou o litoral na incidência de dengue. A região costeira que vai de Santos, em São Paulo, até Belém, no Pará, apresentava tipicamente maior proporção de casos de dengue em comparação com sua população. Entretanto, recentemente, o oeste do Paraná, o oeste de Santa Catarina o oeste de São Paulo, o interior de Minas Gerais, uma parte do Tocantins, o Goiás e o Mato Grosso do Sul viram a transmissão da doença aumentar e muitas de suas cidades foram obrigadas a decretar emergência.

Adaptado de <https://www.estadao.com.br>

A respeito dos fatores relacionados ao aumento e à interiorização dos casos de dengue no Brasil, analise as afirmativas a seguir.

- I. A maior frequência de períodos com temperaturas acima da média, inclusive com ondas de calor no período invernal em todo território, tem reforçado o padrão sazonal da doença.
- II. A expansão urbana desvinculada de melhoras nos serviços sanitários tem propiciado a formação de ilhas de calor e, portanto, uma alta na incidência da dengue.
- III. O desmatamento do cerrado, convertido em pasto, por exemplo, tem contribuído para aumentar a temperatura média e o número de casos da doença no interior do Brasil.

Está correto o que se afirma em

- (A) I, apenas.
- (B) I e II, apenas.
- (C) I e III, apenas.
- (D) II e III, apenas.
- (E) I, II e III.

26

As afirmativas a seguir descrevem corretamente o desempenho da economia brasileira em 2023, à exceção de uma. Assinale-a.

- (A) A expansão econômica ampliou a geração de empregos informais, em um contexto recessivo e de flexibilização das leis trabalhistas.
- (B) O dinamismo da economia foi marcado pelo aumento de exportações, no setor agrícola, e da demanda, no setor de serviços, em função da alta no consumo das famílias.
- (C) A alta progressiva nas cotações internacionais de commodities acelerou o ritmo das exportações, mesmo em um cenário cambial desfavorável para os exportadores.
- (D) A retração do Brasil no mercado regional e internacional ocorreu em função da maior competitividade dos produtos agrícolas argentinos e pela retomada da economia chinesa.
- (E) A persistência do alto nível da inflação foi ocasionada pela alta da cesta básica, sobretudo dos alimentos, cujas safras foram afetadas pelas condições climáticas adversas.

27

Em 2024, o Tribunal Superior Eleitoral (TSE) aprovou uma resolução para regulamentar o uso da inteligência artificial (IA) durante as eleições municipais a serem realizadas em outubro. A norma proíbe manipulações de conteúdo falso para criar ou substituir imagem ou voz de candidato com objetivo de prejudicar ou favorecer candidaturas. Também foi aprovada a restrição do uso de chatbots humanizados e avatares para intermediar a comunicação das campanhas com pessoas reais nas redes sociais.

Adaptado de <https://agenciabrasil.ebc.com.br/>

A resolução sobre IA objetiva

- (A) coibir a produção e circulação de *deepfakes*.
- (B) restringir o uso de ferramentas de IA simbólica.
- (C) retomar a veiculação de propagandas eleitorais em mídias tradicionais, como rádio e televisão.
- (D) proibir o uso de ferramentas de coleta e seleção em bases de dados com fins eleitorais.
- (E) limitar o uso de assistente virtual programado por AI para divulgação do programa partidário.

28

Assinale a afirmativa que descreve corretamente um aspecto do panorama global da economia em 2023.

- (A) Nos Estados Unidos, a economia foi alavancada pela adoção de uma política de ampliação do crédito e baixa da taxa de juros.
- (B) Na China, o PIB cresceu acima do esperado, em um cenário marcado pela retomada econômica pós pandemia, inclusive no setor imobiliário.
- (C) Na Zona do Euro, a alta dos preços da energia pesou nas despesas familiares e no setor industrial, confirmando a manutenção de um quadro de crise.
- (D) Na Rússia, o PIB decresceu, em função do impacto prolongado da guerra com a Ucrânia e dos embargos à venda de petróleo e gás russos.
- (E) Na América do Sul, foi mantido um caminho geral de crescimento, apoiado por investimentos externos e pela intensificação de políticas estatistas.

29

Um supercomputador consiste em milhares de pequenos computadores chamados nós. Cada nó é equipado com sua própria memória e com vários processadores. Atuando em conjunto, eles são capazes de realizar cálculos extremamente complexos em elevada velocidade. Hoje, o maior supercomputador da América Latina é o Pégaso, da Petrobras, com 678 TB de memória RAM e mais de 233 mil núcleos.

Adaptado de <https://revistapesquisa.fapesp.br>

A respeito do poder computacional de alto desempenho dos supercomputadores, analise as afirmativas a seguir e assinale (V) para a verdadeira e (F) para a falsa.

- ( ) Essas máquinas são instrumentos valiosos de pesquisa e de suporte a setores da economia como defesa, energia e saúde, permitindo a resolução de problemas complexos em menor tempo.
- ( ) Esses equipamentos permitem realizar tarefas que exigem altíssimos níveis de processamento, como simulações da formação do universo ou modelagem molecular para novos fármacos.
- ( ) Esses aparelhos trabalham em alta velocidade de processamento pelo somatório de diversos núcleos, o que potencializa a velocidades do processador, medidas em gigahertz (GHz).

As afirmativas são, respectivamente,

- (A) V – V – F.
- (B) V – F – V.
- (C) F – V – F.
- (D) F – V – V.
- (E) V – V – V.

30

No início do ano corrente, a Petrobras anunciou ter alcançado em 2023 o segundo maior valor de lucro líquido de sua história. Mesmo assim, suas ações caíram no mercado financeiro, em função da disputa sobre os dividendos.

A respeito dos resultados financeiros da Petrobras nos últimos anos e da política de distribuição de dividendos da empresa, assinale a afirmativa correta.

- (A) A Petrobras é uma empresa estatal de economia mista que monopoliza a indústria petroleira no Brasil.
- (B) A Petrobras é uma estatal administrada diretamente por órgãos governamentais que controlam o valor das suas ações.
- (C) A Petrobras direciona parte dos dividendos para investidores privados, e outra parte para o governo federal, que controla a empresa via Tesouro e BNDES.
- (D) A Petrobras, sob o Governo Bolsonaro, reduziu o pagamento de dividendos a acionistas privados para reinvesti-los em energia renovável.
- (E) A Petrobras, no atual governo, vendeu ativos e distribuiu o lucro e os valores recordes de dividendos entre seus acionistas para financiar projetos do BNDES.

31

*Dados da última década mostram que, em relação aos Estados, o Pará é o que apresenta o maior número de registros de resgates de trabalho análogo à escravidão, com 9.853, seguido por Mato Grosso (4.302); Tocantins (2.896); São Paulo (1.529) e Rio de Janeiro (1.653), em 2017.*

Adaptado de <https://www.jota.info/justica/em-14-anos-434-mil-foram-resgatados-de-trabalho-escravo-30102017>

A respeito da definição moderna de escravidão, analise as afirmativas a seguir.

- I. Em Tocantins, a maior incidência de escravidão moderna ocorre na zona rural, associada a atividades agropecuárias e ao extrativismo mineral, como nas carvoarias, por exemplo.
- II. A Organização Internacional do Trabalho determina a condição de escravidão por uma série de componentes, como o trabalho forçado análogo ao de escravo e o casamento forçado.
- III. Pessoas obrigadas a trabalhar por dívida ou por ameaça, sem direitos trabalhistas garantidos estão em situação de escravidão, uma vez que lhes é impedida a liberdade de ir e vir.

Está correto o que se afirma em

- (A) I, apenas.
- (B) I e II, apenas.
- (C) I e III, apenas.
- (D) II e III, apenas.
- (E) I, II e III.

32

Energia gerada por recursos naturais renováveis que, no Brasil, provém da lenha, carvão vegetal, carvão mineral, bagaço de cana e outros resíduos combustíveis. Essa energia é a matéria orgânica vegetal ou animal usada como fonte de energia limpa e sustentável.

O trecho descreve o seguinte componente importante do desenvolvimento sustentável:

- (A) compostagem.
- (B) biodiversidade.
- (C) créditos de carbono.
- (D) ciclo de vida.
- (E) biomassa.

## História e Geografia do Estado de Tocantins

33

Leia a descrição de uma classe de vegetação presente no estado do Tocantins, a seguir.

*Esta vegetação, também conhecida como floresta pluvial tropical, é caracterizada por árvores de porte elevado, além de trepadeiras lenhosas e epífitas (bromélias e orquídeas, por exemplo) em abundância, o que a diferencia de outras classes de formação vegetal. Sua característica ecológica principal é estar presente em ambientes de chuvas abundantes, como na parte noroeste do Estado, onde as temperaturas médias são de 25°C e os elevados índices de precipitação estão bem distribuídos ao longo do ano.*

Adaptado de Luís Antônio G. C. Silva. *Biomas presentes no Estado do Tocantins*. Brasília: Câmara dos Deputados, 2007, p. 4.

O trecho caracteriza a região conhecida como Floresta

- (A) Estacional Semidecidual.
- (B) Tropical Subcaducifolia.
- (C) de Mata Atlântica.
- (D) Ombrófila Densa.
- (E) Temperada Decidual.

34

Comparando dados dos censos do IBGE, pode-se elaborar um retrato da evolução demográfica da população residente no Estado de Tocantins. O grupo na faixa etária de 0 a 14 representava 41,7% da população em 1991, 28,8% em 2010, e passou para 24% em 2022. A população acima de 65 anos era de 3,8% em 1991 e 5,8% em 2010, e ficou em 8,6% em 2022. O censo de 2022 mostrou ainda que a faixa etária de 15 a 29 anos representa 15% da população e que 41% da população é composta por pessoas de 30 a 59 anos.

Com base no trecho, assinale a opção que apresenta a dinâmica populacional do Tocantins entre 1991 e 2022.

- (A) Expansão da base da pirâmide etária.
- (B) Diminuição da taxa de fecundidade.
- (C) Estreitamento do topo da pirâmide.
- (D) Aumento da idade mediana.
- (E) Redução do índice de envelhecimento.

35

*Foram inegáveis os desdobramentos socioeconômicos sobre o antigo Norte Goiano fruto da construção da rodovia BR-153, a partir do final da década de 1950. O novo urbanismo da Belém-Brasília trouxe enorme impacto no que se refere ao conjunto de cidades que existiam às margens do rio Tocantins, aos fluxos migratórios e às atividades econômicas da região.*

Adaptado de AQUINO, N. *Tocantins: cidades e urbanismo em três modelos históricos*. In: III Encontro da ANPPAS. Brasília, 2006, p. 8.

As afirmativas a seguir descrevem corretamente impactos da rodovia BR-153 no processo de territorialização do Tocantins, **à exceção de uma**. Assinale-a.

- (A) A rodovia foi construída no governo Kubitschek, em um contexto desenvolvimentista que considerava a expansão rodoviária como um meio para integrar econômica e territorialmente as regiões do país, inclusive o norte goiano que, então, vivia uma situação de abandono.
- (B) A rodovia Belém-Brasília teve grande importância para a urbanização do atual Tocantins, o que é exemplificado pela quantidade de novas cidades criadas após a sua construção, como Araguaína, Gurupi, Paraíso do Tocantins, Colinas do Tocantins e Guaraí.
- (C) A construção da BR-153 alavancou também os municípios ribeirinhos, pois a navegação fluvial foi intensificada para abastecer as obras em curso, o que transformou esses municípios em satélites econômicos da nova malha urbana instalada ao longo da rodovia.
- (D) Após a abertura da rodovia, as principais áreas que receberam fluxos migratórios foram a Microrregião de Gurupi – Gurupi e a Microrregião de Porto Nacional – Palmas, para onde se dirigiram pessoas interessadas em trabalhar na construção civil, nos serviços e no comércio, entre outros.
- (E) A BR-153 permitiu interligar o norte de Goiás, atual Estado do Tocantins, a outras localidades do país, facilitando o escoamento da produção e o acesso a produtos para a região, promovendo o fluxo de mercadorias e serviços.

36

O Memorial Coluna Prestes (2001) é uma obra do arquiteto Oscar Niemeyer localizada na Praça dos Girassóis, no centro de Palmas (TO).



Fonte: <https://central.to.gov.br/image/146145?f=1>

A respeito da relação entre essa obra e a constituição de uma memória histórica para o Estado do Tocantins, analise as afirmativas a seguir.

- I. O monumento refere-se à Coluna Prestes, que percorreu o Brasil para divulgar seu programa revolucionário entre 1924 e 1927, tendo passado pelo Norte do então Estado de Goiás (atual Tocantins) durante seu percurso.
- II. A obra foi realizada em concreto e apresenta curvas sinuosas, características próprias do Barroco das cidades mineradoras, estabelecendo visualmente uma continuidade entre o Barroco do passado das cidades mineradoras e o presente do Tocantins.
- III. A construção do memorial permite inserir simbolicamente a história do Tocantins nos grandes processos da história republicana nacional, e homenagear o Tenente Antônio de Siqueira Campos, cujo sobrenome é homônimo ao do ex-governador do Estado.

Está correto o que se afirma em

- (A) I, apenas.
- (B) I e II, apenas.
- (C) I e III, apenas.
- (D) II e III, apenas.
- (E) I, II e III.

37

Até 1988, o território que hoje corresponde ao Estado do Tocantins pertencia ao antigo norte de Goiás e à Região Centro-Oeste, tendo como capital política a cidade de Goiânia. Com a emancipação política, da noite para o dia, as pessoas amanheceram tocantinenses, mas sem referências culturais que as representassem como tais.

A respeito da projeção simbólica do novo Estado e de sua nova capital, assinale a opção que interpreta corretamente o processo de construção e atribuição de uma identidade ao Tocantins.

- (A) Desde o primeiro mandato do governador Siqueira Campos, os símbolos oficiais do Tocantins continuaram sendo o brasão de armas, a bandeira, o selo estadual e a canção "Hino ao Tocantins", de Liberato Costa Póvoa e Abiezer Alves da Rocha.
- (B) O girassol foi reconhecido oficialmente como símbolo da natureza do Estado, por ser uma planta nativa dos cerrados tocantinenses e estar associada à prosperidade e à esperança.
- (C) A Praça dos Girassóis, centro cívico de Palmas, foi concebida para receber edifícios esteticamente associados à cultura do Tocantins, como o Palácio do Araguaia, cujos pórticos remetem ao capim dourado, símbolo da tradição do artesanato de alta qualidade da região.
- (D) A monumentalidade da Praça dos Girassóis é enfatizada pelo seu pavimento, que contém figuras simbólicas como o mapa do Tocantins, a rosa dos ventos, o brasão de armas e a Praça Krahô.
- (E) O meio ambiente também foi utilizado para fortalecer o sentimento identitário, inserindo o girassol, a fava-de-bolota, a arara-canindé e a granada como símbolos da natureza do Tocantins, desde a promulgação da Constituição Estadual em 1989.

38

A respeito da matriz energética do Estado e dos investimentos em biocombustíveis, analise as afirmativas a seguir e assinale (V) para a verdadeira e (F) para a falsa.

- ( ) O Estado tem condições de clima e solo desfavoráveis para o plantio de matérias-primas usadas na fabricação de biocombustíveis, mas a expansão do modal logístico (Ferrovia Norte-Sul) permitirá o acesso à soja do planalto goiano.
- ( ) O Tocantins conta com duas usinas de biodiesel em funcionamento, utilizando o pinhão-manso, a soja, a mamona e outras oleaginosas como matéria-prima.
- ( ) O Estado tem alto potencial de geração de energia solar, pela elevada irradiação solar e pelas políticas públicas voltadas para produção de energia limpa e renovável, como a Política Estadual de Incentivo à Geração e ao Uso da Energia Solar (Pró-Solar)

As afirmativas são, respectivamente,

- (A) V – F – V.
- (B) F – V – V.
- (C) F – F – V.
- (D) V – V – F.
- (E) V – V – V.

39

*As belas paisagens como serras, cachoeiras, praias e até mesmo dunas, fazem do Tocantins um paraíso de paisagens naturais, atraindo turistas de várias regiões para conhecer o mais novo Estado brasileiro. A potencialidade para o ecoturismo e a preocupação em conservar a biodiversidade e recursos naturais nele contidos fez com que o Governo do Estado, criasse e implementasse as Unidades de Conservação Ambiental (UC).*

Adaptado de <https://www.to.gov.br/secom/>

A respeito das Unidades de Conservação (UC) do Tocantins, assinale a afirmativa correta.

- (A) São espaços territoriais legalmente instituídos pelo poder público e podem ser de proteção integral federal, como no caso dos Parques Cantão, Jalapão e Lajeado.
- (B) As UCs federais estão subordinadas ao Instituto Chico Mendes de Conservação da Biodiversidade (ICMBio), como no caso do Monumento Natural das Árvores Fossilizadas.
- (C) As UCs estaduais estão subordinadas ao Instituto Natureza do Tocantins (Naturatins), que supervisiona o Parque do Araguaia e o das Nascentes do rio Parnaíba.
- (D) As UCs de uso sustentável são compostas exclusivamente por áreas públicas, sendo permitida sua utilização apenas para o ecoturismo, pesquisa e educação ambiental.
- (E) As UCs municipais estão subordinadas às secretarias de meio ambiente, como no caso do Monumento Natural dos Cânions e Corredeiras do Rio Sono e do Parque Ecológico Roberto Guedes Pereira.

40

O Estado do Tocantins possui diversas comunidades quilombolas certificadas e outras com processo formalizado para regularização fundiária de seus territórios. A definição de comunidade quilombola é dada pelo Art. 2º do Decreto nº 4.887/2003:

*Consideram-se remanescentes das comunidades dos quilombos, para os fins deste Decreto, os grupos étnico-raciais, segundo critérios de auto-atribuição, com trajetória histórica própria, dotados de relações territoriais específicas, com presunção de ancestralidade negra relacionada com a resistência à opressão histórica sofrida.*

A respeito dos órgãos e processos envolvidos na identificação e regularização de territórios quilombolas no Estado do Tocantins, assinale a afirmativa correta.

- (A) O acesso dessas comunidades às políticas públicas de educação, saúde, moradia e regularização fundiária depende de o Estado emitir uma certidão de identificação de comunidade quilombola, mediante Fundação Palmares.
- (B) Os critérios para reconhecimento de um grupo enquanto remanescente de quilombo depende da comprovação de sua ancestralidade, seu parentesco e da preservação viva de religiosidades autenticamente africanas.
- (C) A Coordenação Nacional de Articulação de Comunidades Negras Rurais Quilombolas (CONAQ) luta pela incorporação constitucional do direito à autodefinição dos remanescentes de quilombos.
- (D) A certificação quilombola é realizada pela Fundação Cultural Palmares, que avalia com visitas técnicas a autenticidade do legado quilombola pretendido e, caso o aprove, emite a certidão de comunidade quilombola e a inscreve em um cadastro geral.
- (E) O acesso às terras ocupadas pelos remanescentes das comunidades dos quilombos é garantido por sua delimitação e titulação, a cargo da autoridade municipal em que a mesma se localiza.

## CONHECIMENTOS ESPECÍFICOS

**41**

A Lei nº 12.527/2011, conhecida como *Lei de Acesso à Informação*, tem como objetivo garantir o acesso dos cidadãos às informações públicas, promovendo a transparência e a *accountability* no âmbito do serviço público.

Com relação à Lei de Acesso à Informação, analise os itens a seguir.

- I. Qualquer interessado poderá apresentar pedido de acesso a informações aos órgãos e entidades, por qualquer meio legítimo, devendo o pedido conter a identificação do requerente e a especificação da informação requerida.
- II. Para o acesso a informações de interesse público, a identificação do requerente não pode conter exigências que inviabilizem a solicitação.
- III. São viáveis quaisquer exigências relativas aos motivos determinantes da solicitação de informações de interesse público.

Está correto o que se afirma em

- (A) I, apenas.
- (B) I e II, apenas.
- (C) I e III, apenas.
- (D) II e III, apenas.
- (E) I, II e III.

**42**

A comunicação na gestão pública desempenha um papel fundamental na promoção da transparência, participação cívica e eficiência administrativa.

Assinale a opção que apresenta a modalidade de comunicação destinada a educar os cidadãos sobre o funcionamento das organizações públicas, as regulamentações que se aplicam a elas e os serviços oferecidos.

- (A) Comunicação social fraterna.
- (B) Comunicação normativa.
- (C) Comunicação de responsabilidade social.
- (D) Comunicação política.
- (E) Comunicação de serviço.

**43**

A gestão de desempenho é uma prática essencial que visa avaliar, monitorar e aprimorar o desempenho dos colaboradores, contribuindo para o alcance dos objetivos organizacionais.

Assinale a opção que apresenta uma prioridade tática da gestão de desempenho.

- (A) Sustentabilidade.
- (B) Recrutamento.
- (C) Competitividade.
- (D) Recompensa.
- (E) Avaliação.

**44**

A gestão ágil é uma abordagem dinâmica e adaptativa que prioriza a colaboração, a flexibilidade e a entrega contínua de valor, impulsionando a inovação e a eficiência nos projetos e processos organizacionais.

Assinale a opção que apresenta os objetivos do triângulo ágil.

- (A) Valor, qualidade e restrições.
- (B) Custo, escopo e tempo.
- (C) Orçamento, qualidade e tempo.
- (D) Valor, escopo e restrições.
- (E) Custo, qualidade e tempo.

**45**

O orçamento de base zero é uma metodologia que requer que todos os gastos sejam justificados a partir do zero a cada novo período orçamentário, promovendo uma análise criteriosa e uma alocação eficiente de recursos com foco nos objetivos estratégicos da organização.

Assinale a opção que apresenta o conceito que permeia a elaboração de um orçamento de base zero, o qual representa uma ruptura com o modelo mental do orçamento tradicional e enfrenta os desafios do projeto.

- (A) Desconstrução.
- (B) Reinvenção.
- (C) Uso da razão.
- (D) Prontidão.
- (E) Quebra de paradigmas.

**46**

A Constituição da República Federativa do Brasil, promulgada em 1988, estabeleceu macrossistema de controle de natureza financeira-operacional composto de dois sistemas, um de índole interna e outro de índole externa.

Quanto aos sistemas de controle interno e externo, assinale a afirmativa correta.

- (A) A supervisão realizada por uma Secretaria Estadual em uma entidade da administração indireta a ela vinculada é exemplo de controle externo.
- (B) Compete aos Tribunais de Contas julgar as contas dos administradores e demais responsáveis por dinheiros, bens e valores públicos da administração direta e indireta, mediante parecer prévio a ser submetido ao Parlamento.
- (C) O controle externo possui a capacidade de anular os atos da Administração Pública, quando evidados de vícios que os tornem ilegais, assim como revogá-los, por motivo de conveniência ou oportunidade, respeitados os direitos adquiridos.
- (D) As comissões parlamentares de inquérito são exemplos do exercício do controle externo, controle este de titularidade do parlamento.
- (E) A simetria constitucional conduz a que a Lei Federal n.º 10.180, de 2001, seja de observância obrigatória por todas as controladorias dos demais entes federados.

47

O Manual de Contabilidade Aplicada ao Setor Público (MCASP), publicado pela Secretaria do Tesouro Nacional (STN), visa a colaborar com o processo de elaboração e execução do orçamento em âmbito nacional.

Em relação ao MCASP, assinale a afirmativa **incorreta**.

- (A) A Secretaria do Tesouro Nacional é o órgão competente para publicação do MCASP, enquanto não for implantado o Conselho de Gestão Fiscal.
- (B) São características qualitativas da informação contábil a relevância, a representação fidedigna, a compreensibilidade, a tempestividade, a comparabilidade e a verificabilidade.
- (C) Revelam-se como restrições acerca da informação incluída nas demonstrações contábeis a materialidade, o custo-benefício e o equilíbrio entre as características qualitativas.
- (D) No caso de demonstrações conjuntas, devem ser evidenciadas as operações intragovernamentais.
- (E) As normas estabelecidas no MCASP aplicam-se, obrigatoriamente, às entidades do setor público como os governos nacional, estaduais, distrital e municipais e seus respectivos poderes (abrangidos os órgãos constitucionalmente autônomos), órgãos, secretarias, departamentos, agências, autarquias, fundações (instituídas e mantidas pelo poder público), fundos, consórcios públicos e outras repartições públicas congêneres das administrações direta e indireta, inclusive as empresas estatais dependentes.

48

O Balanço Orçamentário, definido na Lei nº 4.320, de 31 de março de 1964, demonstra as receitas e despesas previstas em confronto com as realizadas.

Acerca do Balanço Orçamentário, assinale a afirmativa **incorreta**.

- (A) O Balanço Orçamentário apresentará o resultado primário, entendido este como o resultado obtido a partir do cotejo entre receitas e despesas orçamentárias de um dado período que impactam efetivamente a dívida estatal.
- (B) O Balanço Orçamentário apresentará as receitas, detalhadas por categoria econômica, origem e espécie.
- (C) O Balanço Orçamentário apresentará as despesas, detalhadas por categoria econômica e grupo de natureza da despesa.
- (D) As receitas e despesas intra-orçamentárias, quando existentes, deverão ser apresentadas em uma tabela separada, no final do demonstrativo, contendo o mesmo nível de desdobramento das outras receitas e despesas orçamentárias.
- (E) Os valores referentes ao refinanciamento da dívida mobiliária e de outras dívidas deverão constar, destacadamente, nas receitas de operações de crédito internas e externas e, nesse mesmo nível de agregação, nas despesas com amortização da dívida de refinanciamento.

49

No âmbito da Administração Pública, a dedução de receita orçamentária é o procedimento contábil padrão a ser utilizado para as situações elencadas a seguir, **à exceção de uma**. Assinale-a.

- (A) Recursos que o ente tenha a competência de arrecadar, mas que pertencem a outro ente, de acordo com a legislação vigente.
- (B) Restituição de receitas recebidas a maior ou indevidamente.
- (C) Renúncia de receita orçamentária.
- (D) existência de determinação legal expressa de se contabilizar fatos como dedução de receita.
- (E) Imposto de Renda Retido na Fonte pelo Estado de Tocantins.

50

Segundo o MCASP, o Plano de Contas Aplicado ao Setor Público (PCASP) representa uma das maiores conquistas da contabilidade aplicada ao setor público. Além de ser uma ferramenta para a consolidação das contas nacionais e instrumento para a adoção das normas internacionais de contabilidade.

A respeito dos objetivos do PCASP, assinale a afirmativa **incorreta**.

- (A) Distinguir os registros de natureza patrimonial, orçamentária e de controle.
- (B) Atender à administração direta e à administração indireta das três esferas de governo, inclusive as empresas estatais dependentes e os Regimes Próprios de Previdência Social (RPPS), exceto as suas peculiaridades.
- (C) Permitir o detalhamento das contas contábeis, a partir do nível mínimo estabelecido pela STN, de modo que possa ser adequado às peculiaridades de cada ente.
- (D) Permitir a adequada prestação de contas.
- (E) Contribuir para a adequada tomada de decisão e para a racionalização de custos no setor público.

51

*O orçamento público é instrumento de gestão de maior relevância e, provavelmente, o mais antigo da administração pública, utilizado para organizar os seus recursos financeiros. Partindo da intenção inicial de controle, o orçamento público tem evoluído e vem incorporando novas instrumentalidades. No Brasil, reveste-se de formalidades legais.*

Retirado do Manual Técnico do Orçamento do Estado de Tocantins 2022.

Sobre Orçamento Público, sua Técnica e Princípios, assinale a afirmativa correta.

- (A) O modelo atual de Orçamento Público no Brasil é o denominado Orçamento de Desempenho, que representa uma evolução do Orçamento Tradicional, pois busca saber o que o Governo faz (ações orçamentárias) e não apenas o que compra (elemento de despesa).
- (B) O modelo orçamentário atual no Brasil é o denominado Orçamento-Programa, que apresenta vantagens em relação aos outros métodos tradicionais de elaboração orçamentária, pois dá ênfase ao que a instituição realiza e não ao que ela gasta.
- (C) O modelo orçamentário atual baseado no Orçamento de Desempenho é flexível, permitindo até dois orçamentos para cada exercício financeiro.
- (D) O modelo orçamentário atual baseado no Orçamento Programa é flexível, permitindo até dois orçamentos para cada exercício financeiro.
- (E) O modelo atual de Orçamento prevê que todas as receitas previstas e despesas fixadas, em cada exercício financeiro, devam integrar um único documento legal dentro de cada nível federativo: a Lei de Diretrizes Orçamentárias/LDO.



52

A classificação da receita pública por natureza viabiliza a identificação da origem dos recursos segundo o acontecimento real que ocasionou o ingresso da receita nos cofres públicos.

A esse respeito, assinale a afirmativa **incorreta**.

- (A) Na análise da categoria econômica, os aspectos comuns entre a receita corrente e a receita de capital se traduzem no fato de que ambas elevam a disponibilidade financeira do Estado, sem influenciar o Patrimônio Líquido.
- (B) Receitas de Operações Intra-orçamentárias são aquelas decorrentes de operações entre órgãos e demais entidades da Administração Pública integrantes dos Orçamentos Fiscal e da Seguridade Social do mesmo ente federativo.
- (C) Quando o Estado aluga um imóvel a um particular, a receita de aluguel deste imóvel é classificada como receita corrente, pois advém da exploração do patrimônio estatal.
- (D) As receitas advindas das aplicações financeiras das reservas internacionais do setor público devem ser interpretadas de forma similar a uma receita patrimonial, sendo, portanto, classificadas como receitas correntes.
- (E) Três importantes fontes de receitas correntes são a arrecadação de tributos e a exploração do patrimônio e das atividades econômicas nos três setores: agropecuária, indústria e serviços.

53

De acordo com a Lei Complementar n.º 101/2000, se for verificado, ao final de um bimestre, que a realização da receita poderá não comportar o cumprimento das metas de resultado primário ou nominal estabelecidas no Anexo de Metas Fiscais, a(s) seguinte(s) medida(s) pode(m) ser tomadas:

- (A) a suspensão dos pagamentos do serviço da dívida pública.
- (B) a suspensão do pagamento apenas da amortização da dívida pública.
- (C) os Poderes e o Ministério Público promoverão, por ato próprio e nos montantes necessários, limitação de empenho e movimentação financeira, segundo critérios fixados na LDO.
- (D) a Secretaria do Tesouro Nacional, por ato próprio, bloqueará a realização de operações de crédito em transações sem aval da União.
- (E) a Secretaria do Tesouro Nacional, por ato próprio, classificará o ente público como CAPAG "C", o impedindo de realizar operações de crédito com aval da União.

54

Para análise do ambiente, como habilidades inerentes à gestão pública de excelência requer-se, em regra, o domínio de ferramentas de aferição e monitoramento de indicadores, bem como de ordenação de prioridades para ações estratégicas.

Como base no texto acima, sugere-se que o gestor domine

- (A) a técnica do Balance Scorecard (BSC) e as 5 Forças de Porter.
- (B) as cinco Forças de Porter e a Matriz GUT.
- (C) a Análise SWOT e a Análise de Sensibilidade.
- (D) a Análise SWOT e a Análise de Cenários.
- (E) a técnica do Balance Scorecard (BSC) e a matriz GUT.

55

Assinale a opção que indica a rubrica para registro de despesas não empenhadas nem liquidadas, com relevante e crescente volume de registros na maior parte dos estados da Federação, o que sugere a existência de um procedimento, que deveria ser de exceção, mas que pode ser utilizado para lidar com os desequilíbrios orçamentários e influenciar positivamente os indicadores fiscais do setor público, muito embora possa por em xeque a transparência das contas públicas divulgadas à sociedade.

- (A) Restos a pagar.
- (B) Restos a pagar processados.
- (C) Restos a pagar não-processados.
- (D) Despesas de Exercícios Anteriores.
- (E) Dívida Ativa.

56

Maria nasceu em território brasileiro quando sua mãe, irlandesa, e seu pai, venezuelano, aqui se encontravam a serviço de uma montadora de automóveis, cuja matriz está localizada na Alemanha. Maria deixou o território brasileiro quando ainda era criança, passando a residir no México por três décadas, tendo obtido, nesse período, a nacionalidade mexicana, o que decorreu de sua identidade com a cultura desse país.

No último mês, Maria ingressou no território brasileiro e consultou um especialista a respeito de sua nacionalidade.

Foi corretamente informado a Maria que ela

- (A) é brasileira nata.
- (B) embora fosse brasileira nata, perdeu esta nacionalidade ao se naturalizar mexicana.
- (C) deve passar pelo processo regular de naturalização, a exemplo dos demais estrangeiros.
- (D) como passou a residir no território brasileiro, pode optar pela nacionalidade brasileira a qualquer tempo.
- (E) irá obter a nacionalidade brasileira caso resida no Brasil por mais de quinze anos ininterruptos e sem condenação criminal, desde que o requeira.

57

Em razão de uma crise de segurança pública ocorrida no Estado Beta, foi editada a Lei nº X, impondo às sociedades empresárias que exploram os serviços de telecomunicações o dever de informar previamente, ao contratante do serviço, a identidade dos funcionários que ingressarão em sua residência.

Irresignado com o teor desse diploma normativo, o Partido Político Alfa, com representação no Congresso Nacional, consultou sua assessoria a respeito de sua conformidade constitucional, sendo-lhe corretamente respondido que

- (A) em razão da natureza do serviço, a Lei nº X incursionou em temática afeta à competência legislativa privativa da União.
- (B) a segurança pública é de competência legislativa privativa da União, logo, a Lei nº X não poderia ter avançado nessa temática.
- (C) como o objetivo da Lei nº X é a proteção do consumidor, a temática se insere na esfera da competência legislativa concorrente.
- (D) a prestação de serviços se insere na competência legislativa comum de todos os entes federados, logo, a Lei nº X é constitucional.
- (E) a matéria incursiona em interesse tipicamente local, afeto ao ingresso em unidades imobiliárias, logo, é competência legislativa municipal.

58

Em razão dos reduzidos níveis de desempenho da República Federativa do Brasil nas avaliações internacionais na área de educação, ao que se somava a constatação de que esse desempenho era ainda pior quando contextualizado no âmbito do Estado Delta, um grupo de parlamentares apresentou projeto de lei que instituiu e detalhava uma política pública na área de educação, estabelecendo medidas de apoio e de aprimoramento ao ensino oferecido nos estabelecimentos públicos de ensino, as quais gerariam custos para os cofres públicos.

Esse projeto de lei veio a ser convertido na Lei nº Y, que contou com a sanção do Governador do Estado Delta. Apesar de ser favorável à população, alguns argumentavam que a Lei nº Y seria inconstitucional em razão do vício de iniciativa.

A respeito dessa narrativa, é correto afirmar que

- (A) políticas públicas, acarretem, ou não, aumento de despesa, não podem ser delimitadas em leis de iniciativa parlamentar, logo, a Lei nº Y é inconstitucional.
- (B) como a política pública deve ser implementada pelo Poder Executivo, a matéria é de iniciativa legislativa privativa do seu Chefe, sendo a Lei nº Y inconstitucional.
- (C) apesar do vício de iniciativa legislativa, já que o projeto de lei deveria ser apresentado pelo Chefe do Poder Executivo, a inconstitucionalidade foi sanada em razão da sanção.
- (D) como a Lei nº Y não versa sobre estrutura ou atribuições dos órgãos do Poder Executivo, não há que se falar em vício de iniciativa legislativa, ainda que tenha acarretado aumento de despesa.
- (E) em razão do aumento da despesa pública imposto pela Lei nº Y, caberia ao Chefe do Poder Executivo apresentar o respectivo projeto de lei, o que acarreta a inconstitucionalidade do referido diploma normativo.

59

A multinacional *Alfa*, com sede em Genebra, Suíça, iniciou estudos com o objeto de analisar a viabilidade de ingressar no mercado brasileiro de assistência à saúde, iniciativa que contaria com o apoio de diversos Estados, nos quais seriam instaladas sofisticadas unidades hospitalares.

Ao consultar um especialista a respeito dos requisitos constitucionais a serem atendidos para a realização do objetivo almejado, foi corretamente informado ao Diretor-Presidente da multinacional *Alfa* que a Constituição da República de 1988

- (A) veda, peremptoriamente, que uma multinacional como *Alfa* explore a referida atividade.
- (B) somente permite que uma multinacional como *Alfa* explore, indiretamente, a referida atividade.
- (C) embora seja vedado que multinacionais como *Alfa* explorem a referida atividade, quer de modo direto, quer indireto, a lei ordinária pode estabelecer exceções.
- (D) é permitido que uma multinacional como *Alfa* explore a referida atividade, desde que os cargos de direção, no território nacional, sejam ocupados por brasileiros.
- (E) em razão da livre iniciativa que direciona a atividade econômica, *Alfa* pode explorar a referida atividade em igualdade de condições com as empresas nacionais.

60

Após explicar a distinção entre os atos vinculados e os atos discricionários, Rosângela foi instada a dar um exemplo de ato vinculado.

Nesse contexto, Rosângela citou corretamente a

- (A) admissão.
- (B) autorização no âmbito do poder de política.
- (C) concessão de uso de bem público.
- (D) prorrogação do prazo de validade de um concurso público.
- (E) permissão de uso de bem público.

61

Ao estudar a classificação dos órgãos públicos para o concurso público para o cargo de técnico da Assembleia Legislativa do Estado de Tocantins, Ana Clara verificou que, no tocante à classificação que leva em consideração a posição que o órgão ocupa na escala governamental ou administrativa, a mencionada Casa Legislativa é um exemplo de

- (A) órgão autônomo.
- (B) órgão subalterno.
- (C) órgão independente.
- (D) órgão superior.
- (E) órgão com personalidade jurídica.

62

Joana, Deputada Estadual junto à Assembleia Legislativa do Estado do Tocantins, almejava retirar uma proposição legislativa de sua autoria, que se encontrava em discussão no âmbito das Comissões.

Considerando os balizamentos estabelecidos no Regimento Interno da Assembleia Legislativa do Estado do Tocantins, Joana concluiu corretamente que o respectivo requerimento

- (A) deve ser apresentado por escrito e será apreciado pelo Plenário.
- (B) deve ter a forma escrita e será apreciado pelo Presidente da Assembleia.
- (C) pode ser formulado de modo verbal ou escrito e será apreciado pela Mesa Diretora.
- (D) pressupõe a aquiescência do colégio de líderes e será comunicado ao Primeiro Secretário da Mesa.
- (E) não tem forma pré-definida e deve ser apreciado pelo(s) Presidente(s) da(s) Comissão(ões) em que se encontra a proposição.

**63**

Determinada proposição legislativa em tramitação na Assembleia Legislativa do Estado do Tocantins seria submetida a dois turnos de discussão e votação. Maria, Deputada Estadual, almejava apresentar uma emenda supressiva a essa proposição.

Ao analisar o Regimento Interno da Assembleia Legislativa do Estado do Tocantins, Maria concluiu corretamente que a referida emenda

- (A) não pode ser apresentada no primeiro turno de discussão da proposição.
- (B) somente pode ser apresentada no âmbito das Comissões que apreciarão a proposição.
- (C) pode ser apresentada nas Comissões ou na Ordem do Dia, no primeiro ou no segundo turno, com discussão ainda não encerrada.
- (D) pode ser apresentada a qualquer momento, enquanto não estiver encerrada a votação no órgão em que se encontra a proposição.
- (E) para ser apresentada em Plenário, durante o primeiro ou o segundo turno de discussão e votação da proposição, deve ser igualmente subscrita pelo líder do seu partido.

**64**

Determinado projeto de lei ordinária, apresentado pelo Chefe do Poder Executivo à Assembleia Legislativa do Estado do Tocantins, foi distribuído a três comissões, recebendo, sequencialmente, parecer contrário, quanto ao mérito, em cada uma delas.

À luz do Regimento Interno da Assembleia Legislativa do Estado do Tocantins, é correto afirmar que

- (A) a narrativa apresenta incorreção, pois o parecer contrário em uma comissão impediria a sua apreciação por outra comissão.
- (B) o projeto será tido como rejeitado e arquivado definitivamente por despacho do Presidente da Assembleia.
- (C) os pareceres contrários somente deixarão de ser apreciados pelo Plenário se a análise das comissões for terminativa.
- (D) os pareceres serão apreciados pelo Plenário, que decidirá pelo seu acolhimento, ou não.
- (E) a apreciação dos pareceres pelo Plenário dependerá de acordo de líderes.

**65**

Determinada proposição legislativa que tramitava em regime urgência estava sob análise de Comissão Permanente da Assembleia Legislativa do Estado do Tocantins. João, Deputado Estadual que integra essa Comissão, decidiu pedir vista.

O Presidente da Comissão, com base no Regimento Interno da Assembleia Legislativa do Estado do Tocantins, esclareceu corretamente que

- (A) em razão do regime de tramitação da proposição, não pode ser deferida vista.
- (B) a vista será deferida pelo prazo definido na primeira reunião da Comissão.
- (C) João pode ter vista por até vinte e quatro horas.
- (D) João pode ter vista por até trinta e seis horas.
- (E) João pode ter vista por quatro horas.

**66**

Nos termos da Constituição do Estado do Tocantins, constitui objeto de lei complementar a seguinte matéria:

- (A) os prazos de prescrição para ilícitos praticados por qualquer agente, servidor ou não, que causem prejuízos ao erário.
- (B) os limites de idade, a estabilidade e outras condições de transferência do servidor militar para a inatividade.
- (C) os casos de contratação por tempo determinado para atender à necessidade temporária de excepcional interesse público.
- (D) as regras para cálculo de proventos de aposentadoria e pensão por morte.
- (E) os requisitos e as restrições ao ocupante de cargo ou emprego da administração direta e indireta que possibilite o acesso a informações privilegiadas.

**67**

Considerando o exercício da função legislativa por parte da Assembleia Legislativa de Tocantins, nos termos de seu Regimento Interno, é correto afirmar que

- (A) projetos de lei delegada podem se destinar a regular as matérias de exclusiva competência do Poder Executivo, com a sanção do Governador do Estado.
- (B) projetos de resolução podem se destinar a regular, com eficácia de lei ordinária, matéria de competência privativa da Assembleia Legislativa.
- (C) projetos de lei complementar visam regular matéria infraconstitucional.
- (D) projetos de lei têm por objetivo regular matérias de competência do Poder Legislativo, sem a sanção do Governador do Estado.
- (E) projetos de decreto legislativo destinam-se à delegação de competência, na forma estabelecida na Constituição Estadual.

**68**

Aline, servidora pública estadual, revelou segredo do qual se apropriou em razão do cargo que ocupa. A Administração Pública, ao tomar conhecimento do fato, instaurou procedimento administrativo disciplinar a fim de apurar a conduta e garantir à servidora os princípios da ampla defesa e do contraditório.

À luz do Estatuto dos Servidores Públicos Cíveis do Estado do Tocantins, caso punida, Aline poderá ser sancionada com

- (A) advertência.
- (B) suspensão.
- (C) prestação de serviço.
- (D) multa.
- (E) demissão.

**69**

Ana, servidora pública efetiva e estável, ocupante de cargo de nível superior, objetivando inteirar-se sobre os requisitos para a progressão na carreira, consultou a Lei nº 4.208/2023, que trata sobre o plano de cargos, carreiras e remuneração dos Servidores da Assembleia de Tocantins.

Assim, para fazer jus à progressão, Ana terá que

- (A) possuir no máximo três faltas injustificadas por exercício referente ao período avaliado.
- (B) obter conceito igual ou superior a 70% (setenta por cento) dos pontos possíveis em todos os procedimentos de sua Avaliação.
- (C) concluir curso de pós-graduação *lato sensu* com duração mínima de 360 (trezentos e sessenta) horas.
- (D) cumprir trinta meses de efetivo exercício na classe em que se encontra.
- (E) concluir cursos de aperfeiçoamento em sua área de atuação que tenha, no mínimo, 80 (oitenta) horas de duração.

**70**

Antônio foi nomeado para o cargo de Controlador Interno da Assembleia Legislativa de Tocantins.

À luz da Lei nº 4.209/2023, que dispõe sobre a estrutura administrativa da Aletto, durante o exercício da função, Antônio será competente para:

- (A) opinar, conclusivamente, em processos de direitos, deveres e obrigações dos servidores do Poder Legislativo.
- (B) constituir Comissão Permanente de Licitação.
- (C) examinar a observância das normas de licitações.
- (D) apresentar à Mesa Diretora o balancete mensal e, no início de cada exercício, o balancete geral das contas da Assembleia Legislativa, relativo ao exercício anterior.
- (E) planejar, coordenar, orientar, controlar e dirigir as atividades administrativas, orçamentárias, financeiras, de comunicação social, de tecnologia de informação e de apoio legislativo da Assembleia Legislativa.

## REDAÇÃO

A tarefa de escrever bem parece ser um problema sério: escrever bem é escrever de forma correta, é escrever de forma culta e elaborada, é escrever de forma adequada à situação, é escrever como os literatos? E o que pode fazer para chegar-se a escrever bem? É preciso que os funcionários de uma assembleia legislativa escrevam bem, qual a importância disso para os trabalhos aí realizados? Para dinamizar o trabalho, seria conveniente adotar a língua escrita da Internet?

*Todas essas questões devem ser respondidas num texto-dissertativo-argumentativo de, aproximadamente, 30 (trinta) linhas, em língua culta, dando especial atenção à adequada estruturação do texto e aos argumentos apresentados.*

- 1
- 2
- 3
- 4
- 5
- 6
- 7
- 8
- 9
- 10
- 11
- 12
- 13
- 14
- 15
- 16
- 17
- 18
- 19
- 20
- 21
- 22
- 23
- 24
- 25
- 26
- 27
- 28
- 29
- 30



# ASSEMBLEIA LEGISLATIVA DO ESTADO DO TOCANTINS

CONCURSO PÚBLICO – EDITAL Nº 01/2023

## PROVA OBJETIVA – TARDE

### ANALISTA LEGISLATIVO **WEB DESIGNER**

NÍVEL SUPERIOR – TIPO 1 – BRANCA



#### SUA PROVA

- Além deste caderno contendo **70 (setenta)** questões objetivas, você receberá do fiscal de prova o cartão de respostas;
- As questões objetivas têm **5 (cinco)** opções de resposta (A, B, C, D) e somente uma delas está correta.



#### TEMPO

- Você dispõe de **5 (cinco) horas** para a realização da prova, já incluído o tempo para a marcação do cartão de respostas;
- **3 (três) horas** após o início da prova, é possível retirar-se da sala, sem levar o caderno de questões;
- A partir dos **30 (trinta) minutos** anteriores ao término da prova é possível retirar-se da sala **levando o caderno de questões**.



#### NÃO SERÁ PERMITIDO

- Qualquer tipo de comunicação entre os candidatos durante a aplicação da prova;
- Anotar informações relativas às respostas em qualquer outro meio que não seja o caderno de questões;
- Levantar da cadeira sem autorização do fiscal de sala;
- Usar o sanitário ao término da prova, após deixar a sala.



#### INFORMAÇÕES GERAIS

- Verifique se seu caderno de questões está completo, sem repetição de questões ou falhas. Caso contrário, **notifique imediatamente o fiscal da sala**, para que sejam tomadas as devidas providências;
- Confira seus dados pessoais, especialmente nome, número de inscrição e documento de identidade e leia atentamente as instruções para preencher o cartão de respostas;
- Para o preenchimento do cartão de respostas, use somente caneta esferográfica, fabricada em material transparente, com tinta preta ou azul;
- Assine seu nome apenas no(s) espaço(s) reservado(s) no cartão de respostas;
- Confira seu cargo, cor e tipo do caderno de questões. Caso tenha recebido caderno de cargo ou cor ou tipo **diferente** do impresso em seu cartão de respostas, o fiscal deve ser **obrigatoriamente** informado para o devido registro na ata da sala;
- Reserve tempo suficiente para o preenchimento do seu cartão de respostas. O preenchimento é de sua responsabilidade e **não será permitida a troca do cartão de respostas em caso de erro cometido pelo candidato**;
- Para fins de avaliação, serão levadas em consideração apenas as marcações realizadas no cartão de respostas;
- A FGV coletará as impressões digitais dos candidatos na lista de presença;
- Os candidatos serão submetidos ao sistema de detecção de metais quando do ingresso e da saída de sanitários durante a realização das provas.
- **Boa prova!**

## CONHECIMENTOS BÁSICOS

### Língua Portuguesa

1

Observe o seguinte texto:

*Quando entrei no terrível vagão, ele estava ocupado por duas pessoas. Uma, dobrada, coberta, dormia profundamente. A coberta superior estava manchada, de fundo amarelado, como pele de leopardo. Vendem-se muitas mantas assim nas lojas de artigos de viagens, mas pude notar logo depois que se tratava realmente da pele de um animal selvagem; do mesmo modo, o boné da pessoa adormecida me pareceu ser de feltro branco bastante delicado. O outro viajante, uma aparência simpática, parecia ter passado dos trinta anos e mostrava-se como figura insignificante que passa confortavelmente as noites em estradas de ferro.*

Nesse fragmento textual, para criar sinais de história realista e verdadeira, o narrador apela para a seguinte estratégia:

- (A) seleciona uma situação banal da qual não precisa fornecer muitos detalhes, exatamente por sua banalidade.
- (B) fornece algumas marcas caracterizadoras dos dois personagens presentes no texto, destacando sua banalidade.
- (C) indica traços descritivos do ambiente, mostrando-o como se nada houvesse nele de excepcional.
- (D) mostra detalhes variados e bastante pitorescos dos objetos descritos.
- (E) dá ao leitor informações sobre personagens e ambiente, mostrando-os como bastante conhecidos do narrador.

2

Assinale a frase que mostra a palavra *mais* numa classe gramatical **diferente** das demais.

- (A) O mercado está prisioneiro de mais um círculo vicioso: piora porque piorou e porque piorou, piora.
- (B) Os ingleses conquistaram o mundo porque não aguentavam mais a própria cozinha.
- (C) Quanto mais vejo o estrangeiro, mais amo a minha pátria.
- (D) Não é mais possível aprender tudo de cor. Um homem instruído não é mais o homem que sabe muitas coisas; é o homem que sabe onde buscar informações.
- (E) Muda-se mais facilmente de religião do que de café

3

As frases a seguir mostram termos ligados pela conjunção OU.

Assinale a frase em que essa conjunção mantém o valor de alternativa (e não de adição).

- (A) João ou Pedro deve ser eleito presidente da empresa.
- (B) A alegria ou a tristeza fazem parte da vida.
- (C) Inglês ou francês são idiomas falados pelos turistas
- (D) Os clientes leem livros ou revistas enquanto esperam.
- (E) Vasco ou Flamengo são times de longa tradição.

4

Um guitarrista americano produziu o seguinte pensamento:

*O crítico de rock é alguém que não sabe escrever, entrevistando gente que não sabe falar, para gente que não sabe ler.*

Sobre a estruturação ou a significação desse pequeno texto, assinale a afirmativa **incorreta**.

- (A) O termo “de rock” funciona como complemento nominal do termo anterior.
- (B) Todos os elementos da cadeia comunicativa citados no texto são marcados pela ignorância.
- (C) O pensamento acima revela um preconceito fortíssimo contra os amantes de rock.
- (D) A opinião expressa no texto pode advir da experiência pessoal do autor, já que se trata de um guitarrista.
- (E) A injustiça desse texto provém de ser uma opinião fundamentada em uma autoridade duvidosa.

5

John Steinbeck, prêmio Nobel, declarou o seguinte:

*O homem é o único animal que bebe sem ter sede, come sem ter fome e fala sem ter nada a dizer.*

Em relação ao significado e à estruturação desse pequeno texto, assinale a afirmativa **incorreta**.

- (A) A frase ficaria mais enfática se invertêssemos a posição do termo inicial: O único animal que bebe sem ter sede, come sem ter fome e fala sem ter nada a dizer é o homem.
- (B) A inversão de alguns segmentos do texto em nada modificaria o sentido da frase: O homem é o único animal que come sem ter fome, bebe sem ter sede e fala sem ter nada a dizer.
- (C) Os segmentos finais do texto mostram preocupação com rigoroso paralelismo sintático.
- (D) Segundo a opinião do autor do texto, a marca principal do homem é a irracionalidade.
- (E) Nem todas as ações citadas como marcas humanas estão presentes, por oposição, nos outros animais.

6

Assinale a frase que **não** expressa uma noção de tempo abstrato.

- (A) Nas asas do tempo, a tristeza voa.
- (B) Quem mata o tempo não é assassino, é suicida.
- (C) O tempo perdido não se encontra nunca mais.
- (D) O tempo é o melhor professor. Infelizmente, ele mata todos os seus estudantes
- (E) O tempo gasto na viagem foi de duas horas.

7

Assinale a frase em que a utilização do acento grave indicativo da crase é realizada de forma **errada**.

- (A) Jamais alguém se arrependeu de ter-se acostumado à madrugada e à ter-se casado jovem.
- (B) Tempo é o suspiro de adeus do sol à terra.
- (C) Saio todos os dias às cinco horas e não permito que o meu trabalho interfira no meu jogo de tênis.
- (D) O momento de extrair uma lição da história está sempre à mão para os sábios.
- (E) Quando assumi, quatro anos atrás, estávamos à beira do precipício.

8

Os adjetivos podem representar estados, qualidades, características e relações.

Assinale a frase que mostra um tipo de adjetivo **diferente** dos demais.

- (A) Nunca houve criança tão amável que a própria mãe não ficasse satisfeita ao conseguir adormecê-la.
- (B) Nada mais perversamente cruel que uma adorável criança.
- (C) Mesmo estando doentes, as crianças não ficam caladas.
- (D) Quando as crianças estão quietas é porque fizeram alguma coisa errada.
- (E) As tangerinas verdes não amadurecem fora do pé.

9

Assinale a frase em que o adjetivo sublinhado mostra uma função sintática **diferente** das demais.

- (A) Por fora bela viola, por dentro pão **bolorento**.
- (B) Tiradentes, **heroico**, tentou organizar uma revolução.
- (C) Um rosto **bonito** altera-se depressa.
- (D) Eu não podia acreditar que existem múmias tão **lindas**.
- (E) Um homem belo é um homem **insignificante**.

10

Assinale a opção que mostra uma impropriedade léxica, ou seja, um emprego **inadequado** da expressão “cerca de”.

- (A) Havia cerca de três dúzias de convidados no final da festa.
- (B) Chegaram cerca de 100 cartas no mesmo dia.
- (C) Cerca de 18 lojas fecharam as portas mais cedo.
- (D) Os cantores receberam cerca de uma centena de convites.
- (E) A plantação produziu cerca de uma tonelada de legumes.

11

Muitas palavras portuguesas mostram o prefixo A- sem qualquer valor semântico, sendo equivalentes ao mesmo vocábulo sem esse prefixo.

Assinale a palavra a seguir que exemplifica esse A protético.

- (A) amostrar
- (B) abraçar
- (C) atenuar
- (D) aguardar
- (E) aparar

12

Observe o seguinte texto:

*A felicidade depende da habilidade que tenhamos naquelas atividades que consideramos importantes: somente se lhes damos um real valor aos pequenos detalhes cotidianos, poderemos ter instantes felizes. A felicidade absoluta não existe, e já que só podemos acessar os pequenos detalhes daquilo que nos interessa, devemos contentar-nos com isso. Por isso, a infelicidade é um sinal claro de nossa incompetência na arte de viver.*

Sobre a estrutura e a significação desse texto, assinale a afirmativa **inadequada**.

- (A) O tema do texto gira em torno do que consiste a felicidade e o que viria a ser o seu oposto.
- (B) A afirmação de que “A felicidade absoluta não existe” é de cunho pessoal do autor do texto, representando uma opinião.
- (C) O raciocínio utilizado na estruturação argumentativa é do tipo dedutivo.
- (D) O conector “Por isso” mostra a preocupação com o caráter lógico da argumentação.
- (E) A tese do texto é a de que a infelicidade é fruto de nossa incompetência na arte de viver.

## Raciocínio Lógico Matemático

13

Certo programa de rádio tem 1 hora e 55 minutos de duração. A partir do momento em que o programa é iniciado, há blocos temáticos de 7 minutos intercalados por blocos de propagandas de 2 minutos.

Em todos os blocos de propaganda, ouve-se o comercial do restaurante R, que sempre dura 18 segundos.

Se o programa começa e termina com um bloco temático, então, o tempo total do programa dedicado ao anúncio do restaurante R é

- (A) 3 minutos e 54 segundos.
- (B) 3 minutos e 36 segundos.
- (C) 3 minutos e 18 segundos.
- (D) 3 minutos.
- (E) 2 minutos e 48 segundos.

14

A linha de produção de certa fábrica produz 1100 latas de sardinhas a cada hora. Certo dia, por um defeito de calibragem do sistema, entre 13h e 14h, o volume de produção foi reduzido em 30% durante exatos 12 minutos.

A quantidade de latas de sardinhas produzidas no intervalo supracitado foi

- (A) 946.
- (B) 964.
- (C) 1022.
- (D) 1034.
- (E) 1046.

15

Marcelo está parado de frente para uma das paredes de uma sala quadrada. Nesta posição, ele está a 1m e 20cm da parede que se encontra à sua direita e a 1m e 70cm da parede que está às suas costas.

Ele, então, se desloca paralelamente às paredes da sala sendo 40cm para a frente e 80cm para a direita. Nessa nova posição, ele passou a distar 1m e 90cm da parede que antes estava à sua esquerda.

Desprezando-se as dimensões de Marcelo, a sua atual distância à parede que, antes dos movimentos, estava à sua frente, é

- (A) 20cm.
- (B) 30cm.
- (C) 40cm.
- (D) 50cm.
- (E) 60cm.



**16**

Um dado é dito comum quando tem a forma de um cubo e suas 6 faces são numeradas de 1 a 6, de tal forma que a soma dos números estampados em faces opostas, quaisquer que sejam elas, sempre somam 7.

Quando um dado comum é lançado, diz-se que o resultado do lançamento é o número estampado na face voltada para cima.

Um dado foi lançado 3 vezes seguidas. Se o produto dos resultados obtidos nos lançamentos vale 75, a soma desses resultados é igual a

- (A) 12.
- (B) 13.
- (C) 14.
- (D) 15.
- (E) 16.

**17**

Em certo ano, o dia 1º de agosto cai em um domingo. Logo, o dia 1º de novembro cairá em

- (A) um sábado.
- (B) um domingo.
- (C) uma segunda-feira.
- (D) uma quarta-feira.
- (E) uma sexta-feira.

**18**

Considere a seguinte proposição condicional:

*Se todos os alunos da Escola Aristarco gostam de matemática, então, ao menos um deles ganha medalha na Olimpíada Nacional de Matemática.*

Se essa proposição é verdadeira, é correto afirmar que

- (A) se nenhum dos alunos da Escola Aristarco gosta de Matemática, então nenhum deles ganha medalha na Olimpíada Nacional de Matemática.
- (B) se todos os alunos da Escola Aristarco ganham medalha na Olimpíada Nacional de Matemática, então, todos esses alunos gostam de Matemática.
- (C) se algum aluno da Escola Aristarco ganha medalha na Olimpíada Nacional de Matemática, então todos esses alunos gostam de Matemática.
- (D) se nenhum aluno da Escola Aristarco ganha medalha na Olimpíada Nacional de Matemática, então nenhum desses alunos gosta de Matemática.
- (E) se nenhum aluno da Escola Aristarco ganha medalha na Olimpíada Nacional de Matemática, então algum desses alunos não gosta de Matemática.

**19**

Em uma caixa, há muitas canetas esferográficas. Classificadas conforme a cor, elas podem ser azuis, vermelhas ou pretas. Classificadas quanto à espessura da esfera, elas podem ser de ponta fina ou de ponta grossa.

Metade das canetas vermelhas tem a ponta grossa. A quantidade total de canetas pretas é igual à quantidade total de canetas vermelhas. Entre as canetas de ponta grossa, a quantidade de azuis é igual à de pretas. A quantidade de canetas azuis com ponta fina é o dobro da quantidade de canetas pretas de ponta grossa.

Se, nessa caixa, 18 são azuis e 20 têm ponta grossa, então a quantidade total de canetas na caixa é

- (A) 30.
- (B) 40.
- (C) 48.
- (D) 50.
- (E) 52.

**20**

Tucídides possuía uma dívida e, em vez de quitá-la, pagou apenas 20% do seu valor, deixando o restante para ser quitado em data futura, com acréscimo de 12% a título de juros sobre o saldo devedor.

No ato de quitação, Tucídides pagou R\$2.329,60. Logo, o valor original da dívida é o resultado da seguinte expressão:

(A)  $2.329,60 \times 0,88 - 20$

(B)  $\frac{2.329,60}{0,88} \times 1,20$

(C)  $\frac{2.329,60}{1,12} \times 1,20$

(D)  $\frac{2.329,60}{1,12 \times 1,20}$

(E)  $\frac{2.329,60}{1,12 \times 0,8}$

**21**

As filhas de Nepomuceno têm 5 e 9 anos de idade. Ele dividirá R\$420,00 entre elas de forma inversamente proporcional às suas idades.

Logo

- (A) a mais nova receberá R\$120,00 a mais que a mais velha.
- (B) a mais nova receberá R\$150,00 a mais que a mais velha.
- (C) a mais nova receberá R\$270,00 a mais que a mais velha.
- (D) a mais velha receberá R\$120,00 a mais que a mais nova.
- (E) a mais velha receberá R\$150,00 a mais que a mais nova.

**22**

A negação da proposição:

$$\text{Se } y \neq 0, \text{ então } x > 2 \text{ e } x \leq 5$$

é dada por

- (A) Se  $y = 0$ , então  $x > 2$  e  $x \leq 5$
- (B) Se  $y = 0$ , então  $x < 2$  ou  $x \geq 5$
- (C)  $y = 0$  e  $x \leq 2$  ou  $x > 5$
- (D)  $y \neq 0$  e  $x \leq 2$  ou  $x > 5$
- (E)  $y \neq 0$  e  $x \leq 2$  e  $x > 5$

## Atualidades

23

De acordo com o censo demográfico de 2022 (IBGE), mais da metade da população brasileira (51,13%) é feminina, e elas representam, segundo o Tribunal Superior Eleitoral, 53% do eleitorado. No entanto, elas ocupam, hoje, menos de 15% dos cargos eletivos.

A respeito da baixa participação das mulheres na política, assinale a afirmativa que apresenta um dispositivo existente na legislação brasileira para alterar esse cenário.

- (A) Reserva de pelo menos 50% dos recursos do Fundo Especial de Financiamento de Campanha, o Fundo Eleitoral, para financiar candidaturas femininas.
- (B) Suspensão dos direitos eleitorais aos partidos em caso de não observância do percentual de pelo menos 30% de candidatas mulheres em cada ciclo eleitoral
- (C) Reserva de assentos, em ambas as casas legislativas, para mulheres, com preferência para as representantes de povos originários.
- (D) Cota de gênero, que obriga cada partido ou coligação a preencher o mínimo de 30% e o máximo de 70% de candidaturas de cada sexo.
- (E) Repasse de até 30% dos recursos dos Fundos Partidário para custear o tempo da propaganda eleitoral gratuita de candidatas em rádio e televisão.

24

A França se tornou o primeiro país do mundo a incluir na Constituição a liberdade de a mulher abortar. A mudança na Carta Magna foi aprovada em uma sessão conjunta das duas Casas legislativas, a Assembleia Nacional e o Senado, e será promulgada pelo presidente Emmanuel Macron ainda em março de 2024.

Adaptado de <https://www1.folha.uol.com.br/mundo/2024/03/>

Diferentemente da França, a legislação brasileira

- (A) equipara o aborto ao infanticídio.
- (B) considera o aborto uma prática ilegal em todas as situações.
- (C) descriminaliza a interrupção da gravidez em caso de deficiência da gestante.
- (D) estabelece um limite temporal para interromper a gravidez, desde que respaldada por laudo médico.
- (E) autoriza a interrupção de gestação em caso de não haver outro meio de salvar a vida da gestante.

25

Desde os anos 2000, o interior do Brasil ultrapassou o litoral na incidência de dengue. A região costeira que vai de Santos, em São Paulo, até Belém, no Pará, apresentava tipicamente maior proporção de casos de dengue em comparação com sua população. Entretanto, recentemente, o oeste do Paraná, o oeste de Santa Catarina o oeste de São Paulo, o interior de Minas Gerais, uma parte do Tocantins, o Goiás e o Mato Grosso do Sul viram a transmissão da doença aumentar e muitas de suas cidades foram obrigadas a decretar emergência.

Adaptado de <https://www.estadao.com.br>

A respeito dos fatores relacionados ao aumento e à interiorização dos casos de dengue no Brasil, analise as afirmativas a seguir.

- I. A maior frequência de períodos com temperaturas acima da média, inclusive com ondas de calor no período invernal em todo território, tem reforçado o padrão sazonal da doença.
- II. A expansão urbana desvinculada de melhoras nos serviços sanitários tem propiciado a formação de ilhas de calor e, portanto, uma alta na incidência da dengue.
- III. O desmatamento do cerrado, convertido em pasto, por exemplo, tem contribuído para aumentar a temperatura média e o número de casos da doença no interior do Brasil.

Está correto o que se afirma em

- (A) I, apenas.
- (B) I e II, apenas.
- (C) I e III, apenas.
- (D) II e III, apenas.
- (E) I, II e III.

26

As afirmativas a seguir descrevem corretamente o desempenho da economia brasileira em 2023, à exceção de uma. Assinale-a.

- (A) A expansão econômica ampliou a geração de empregos informais, em um contexto recessivo e de flexibilização das leis trabalhistas.
- (B) O dinamismo da economia foi marcado pelo aumento de exportações, no setor agrícola, e da demanda, no setor de serviços, em função da alta no consumo das famílias.
- (C) A alta progressiva nas cotações internacionais de commodities acelerou o ritmo das exportações, mesmo em um cenário cambial desfavorável para os exportadores.
- (D) A retração do Brasil no mercado regional e internacional ocorreu em função da maior competitividade dos produtos agrícolas argentinos e pela retomada da economia chinesa.
- (E) A persistência do alto nível da inflação foi ocasionada pela alta da cesta básica, sobretudo dos alimentos, cujas safras foram afetadas pelas condições climáticas adversas.

27

Em 2024, o Tribunal Superior Eleitoral (TSE) aprovou uma resolução para regulamentar o uso da inteligência artificial (IA) durante as eleições municipais a serem realizadas em outubro. A norma proíbe manipulações de conteúdo falso para criar ou substituir imagem ou voz de candidato com objetivo de prejudicar ou favorecer candidaturas. Também foi aprovada a restrição do uso de chatbots humanizados e avatares para intermediar a comunicação das campanhas com pessoas reais nas redes sociais.

Adaptado de <https://agenciabrasil.ebc.com.br/>

A resolução sobre IA objetiva

- (A) coibir a produção e circulação de *deepfakes*.
- (B) restringir o uso de ferramentas de IA simbólica.
- (C) retomar a veiculação de propagandas eleitorais em mídias tradicionais, como rádio e televisão.
- (D) proibir o uso de ferramentas de coleta e seleção em bases de dados com fins eleitorais.
- (E) limitar o uso de assistente virtual programado por AI para divulgação do programa partidário.

28

Assinale a afirmativa que descreve corretamente um aspecto do panorama global da economia em 2023.

- (A) Nos Estados Unidos, a economia foi alavancada pela adoção de uma política de ampliação do crédito e baixa da taxa de juros.
- (B) Na China, o PIB cresceu acima do esperado, em um cenário marcado pela retomada econômica pós pandemia, inclusive no setor imobiliário.
- (C) Na Zona do Euro, a alta dos preços da energia pesou nas despesas familiares e no setor industrial, confirmando a manutenção de um quadro de crise.
- (D) Na Rússia, o PIB decresceu, em função do impacto prolongado da guerra com a Ucrânia e dos embargos à venda de petróleo e gás russos.
- (E) Na América do Sul, foi mantido um caminho geral de crescimento, apoiado por investimentos externos e pela intensificação de políticas estatistas.

29

Um supercomputador consiste em milhares de pequenos computadores chamados nós. Cada nó é equipado com sua própria memória e com vários processadores. Atuando em conjunto, eles são capazes de realizar cálculos extremamente complexos em elevada velocidade. Hoje, o maior supercomputador da América Latina é o Pégaso, da Petrobras, com 678 TB de memória RAM e mais de 233 mil núcleos.

Adaptado de <https://revistapesquisa.fapesp.br>

A respeito do poder computacional de alto desempenho dos supercomputadores, analise as afirmativas a seguir e assinale (V) para a verdadeira e (F) para a falsa.

- ( ) Essas máquinas são instrumentos valiosos de pesquisa e de suporte a setores da economia como defesa, energia e saúde, permitindo a resolução de problemas complexos em menor tempo.
- ( ) Esses equipamentos permitem realizar tarefas que exigem altíssimos níveis de processamento, como simulações da formação do universo ou modelagem molecular para novos fármacos.
- ( ) Esses aparelhos trabalham em alta velocidade de processamento pelo somatório de diversos núcleos, o que potencializa a velocidades do processador, medidas em gigahertz (GHz).

As afirmativas são, respectivamente,

- (A) V – V – F.
- (B) V – F – V.
- (C) F – V – F.
- (D) F – V – V.
- (E) V – V – V.

30

No início do ano corrente, a Petrobras anunciou ter alcançado em 2023 o segundo maior valor de lucro líquido de sua história. Mesmo assim, suas ações caíram no mercado financeiro, em função da disputa sobre os dividendos.

A respeito dos resultados financeiros da Petrobras nos últimos anos e da política de distribuição de dividendos da empresa, assinale a afirmativa correta.

- (A) A Petrobras é uma empresa estatal de economia mista que monopoliza a indústria petroleira no Brasil.
- (B) A Petrobras é uma estatal administrada diretamente por órgãos governamentais que controlam o valor das suas ações.
- (C) A Petrobras direciona parte dos dividendos para investidores privados, e outra parte para o governo federal, que controla a empresa via Tesouro e BNDES.
- (D) A Petrobras, sob o Governo Bolsonaro, reduziu o pagamento de dividendos a acionistas privados para reinvesti-los em energia renovável.
- (E) A Petrobras, no atual governo, vendeu ativos e distribuiu o lucro e os valores recordes de dividendos entre seus acionistas para financiar projetos do BNDES.

31

Dados da última década mostram que, em relação aos Estados, o Pará é o que apresenta o maior número de registros de resgates de trabalho análogo à escravidão, com 9.853, seguido por Mato Grosso (4.302); Tocantins (2.896); São Paulo (1.529) e Rio de Janeiro (1.653), em 2017.

Adaptado de <https://www.jota.info/justica/em-14-anos-434-mil-foram-resgatados-de-trabalho-escravo-30102017>

A respeito da definição moderna de escravidão, analise as afirmativas a seguir.

- I. Em Tocantins, a maior incidência de escravidão moderna ocorre na zona rural, associada a atividades agropecuárias e ao extrativismo mineral, como nas carvoarias, por exemplo.
- II. A Organização Internacional do Trabalho determina a condição de escravidão por uma série de componentes, como o trabalho forçado análogo ao de escravo e o casamento forçado.
- III. Pessoas obrigadas a trabalhar por dívida ou por ameaça, sem direitos trabalhistas garantidos estão em situação de escravidão, uma vez que lhes é impedida a liberdade de ir e vir.

Está correto o que se afirma em

- (A) I, apenas.
- (B) I e II, apenas.
- (C) I e III, apenas.
- (D) II e III, apenas.
- (E) I, II e III.

32

Energia gerada por recursos naturais renováveis que, no Brasil, provém da lenha, carvão vegetal, carvão mineral, bagaço de cana e outros resíduos combustíveis. Essa energia é a matéria orgânica vegetal ou animal usada como fonte de energia limpa e sustentável.

O trecho descreve o seguinte componente importante do desenvolvimento sustentável:

- (A) compostagem.
- (B) biodiversidade.
- (C) créditos de carbono.
- (D) ciclo de vida.
- (E) biomassa.

## História e Geografia do Estado de Tocantins

33

Leia a descrição de uma classe de vegetação presente no estado do Tocantins, a seguir.

*Esta vegetação, também conhecida como floresta pluvial tropical, é caracterizada por árvores de porte elevado, além de trepadeiras lenhosas e epífitas (bromélias e orquídeas, por exemplo) em abundância, o que a diferencia de outras classes de formação vegetal. Sua característica ecológica principal é estar presente em ambientes de chuvas abundantes, como na parte noroeste do Estado, onde as temperaturas médias são de 25°C e os elevados índices de precipitação estão bem distribuídos ao longo do ano.*

Adaptado de Luís Antônio G. C. Silva. *Biomias presentes no Estado do Tocantins*. Brasília: Câmara dos Deputados, 2007, p. 4.

O trecho caracteriza a região conhecida como Floresta

- (A) Estacional Semidecidual.
- (B) Tropical Subcaducifólia.
- (C) de Mata Atlântica.
- (D) Ombrófila Densa.
- (E) Temperada Decidual.

34

Comparando dados dos censos do IBGE, pode-se elaborar um retrato da evolução demográfica da população residente no Estado de Tocantins. O grupo na faixa etária de 0 a 14 representava 41,7% da população em 1991, 28,8% em 2010, e passou para 24% em 2022. A população acima de 65 anos era de 3,8% em 1991 e 5,8% em 2010, e ficou em 8,6% em 2022. O censo de 2022 mostrou ainda que a faixa etária de 15 a 29 anos representa 15% da população e que 41% da população é composta por pessoas de 30 a 59 anos.

Com base no trecho, assinale a opção que apresenta a dinâmica populacional do Tocantins entre 1991 e 2022.

- (A) Expansão da base da pirâmide etária.
- (B) Diminuição da taxa de fecundidade.
- (C) Estreitamento do topo da pirâmide.
- (D) Aumento da idade mediana.
- (E) Redução do índice de envelhecimento.

35

*Foram inegáveis os desdobramentos socioeconômicos sobre o antigo Norte Goiano fruto da construção da rodovia BR-153, a partir do final da década de 1950. O novo urbanismo da Belém-Brasília trouxe enorme impacto no que se refere ao conjunto de cidades que existiam às margens do rio Tocantins, aos fluxos migratórios e às atividades econômicas da região.*

Adaptado de AQUINO, N. *Tocantins: cidades e urbanismo em três modelos históricos*. In: III Encontro da ANPPAS. Brasília, 2006, p. 8.

As afirmativas a seguir descrevem corretamente impactos da rodovia BR-153 no processo de territorialização do Tocantins, **à exceção de uma**. Assinale-a.

- (A) A rodovia foi construída no governo Kubitschek, em um contexto desenvolvimentista que considerava a expansão rodoviária como um meio para integrar econômica e territorialmente as regiões do país, inclusive o norte goiano que, então, vivia uma situação de abandono.
- (B) A rodovia Belém-Brasília teve grande importância para a urbanização do atual Tocantins, o que é exemplificado pela quantidade de novas cidades criadas após a sua construção, como Araguaína, Gurupi, Paraíso do Tocantins, Colinas do Tocantins e Guaraí.
- (C) A construção da BR-153 alavancou também os municípios ribeirinhos, pois a navegação fluvial foi intensificada para abastecer as obras em curso, o que transformou esses municípios em satélites econômicos da nova malha urbana instalada ao longo da rodovia.
- (D) Após a abertura da rodovia, as principais áreas que receberam fluxos migratórios foram a Microrregião de Gurupi – Gurupi e a Microrregião de Porto Nacional – Palmas, para onde se dirigiram pessoas interessadas em trabalhar na construção civil, nos serviços e no comércio, entre outros.
- (E) A BR-153 permitiu interligar o norte de Goiás, atual Estado do Tocantins, a outras localidades do país, facilitando o escoamento da produção e o acesso a produtos para a região, promovendo o fluxo de mercadorias e serviços.

36

O Memorial Coluna Prestes (2001) é uma obra do arquiteto Oscar Niemeyer localizada na Praça dos Girassóis, no centro de Palmas (TO).



Fonte: <https://central.to.gov.br/image/146145?f=1>

A respeito da relação entre essa obra e a constituição de uma memória histórica para o Estado do Tocantins, analise as afirmativas a seguir.

- I. O monumento refere-se à Coluna Prestes, que percorreu o Brasil para divulgar seu programa revolucionário entre 1924 e 1927, tendo passado pelo Norte do então Estado de Goiás (atual Tocantins) durante seu percurso.
- II. A obra foi realizada em concreto e apresenta curvas sinuosas, características próprias do Barroco das cidades mineradoras, estabelecendo visualmente uma continuidade entre o Barroco do passado das cidades mineradoras e o presente do Tocantins.
- III. A construção do memorial permite inserir simbolicamente a história do Tocantins nos grandes processos da história republicana nacional, e homenagear o Tenente Antônio de Siqueira Campos, cujo sobrenome é homônimo ao do ex-governador do Estado.

Está correto o que se afirma em

- (A) I, apenas.
- (B) I e II, apenas.
- (C) I e III, apenas.
- (D) II e III, apenas.
- (E) I, II e III.

## 37

Até 1988, o território que hoje corresponde ao Estado do Tocantins pertencia ao antigo norte de Goiás e à Região Centro-Oeste, tendo como capital política a cidade de Goiânia. Com a emancipação política, da noite para o dia, as pessoas amanheceram tocaninenses, mas sem referências culturais que as representassem como tais.

A respeito da projeção simbólica do novo Estado e de sua nova capital, assinale a opção que interpreta corretamente o processo de construção e atribuição de uma identidade ao Tocantins.

- (A) Desde o primeiro mandato do governador Siqueira Campos, os símbolos oficiais do Tocantins continuaram sendo o brasão de armas, a bandeira, o selo estadual e a canção "Hino ao Tocantins", de Liberato Costa Póvoa e Abiezer Alves da Rocha.
- (B) O girassol foi reconhecido oficialmente como símbolo da natureza do Estado, por ser uma planta nativa dos cerrados tocaninenses e estar associada à prosperidade e à esperança.
- (C) A Praça dos Girassóis, centro cívico de Palmas, foi concebida para receber edifícios esteticamente associados à cultura do Tocantins, como o Palácio do Araguaia, cujos pórticos remetem ao capim dourado, símbolo da tradição do artesanato de alta qualidade da região.
- (D) A monumentalidade da Praça dos Girassóis é enfatizada pelo seu pavimento, que contém figuras simbólicas como o mapa do Tocantins, a rosa dos ventos, o brasão de armas e a Praça Krahô.
- (E) O meio ambiente também foi utilizado para fortalecer o sentimento identitário, inserindo o girassol, a fava-de-bolota, a arara-canindé e a granada como símbolos da natureza do Tocantins, desde a promulgação da Constituição Estadual em 1989.

## 38

A respeito da matriz energética do Estado e dos investimentos em biocombustíveis, analise as afirmativas a seguir e assinale (V) para a verdadeira e (F) para a falsa.

- ( ) O Estado tem condições de clima e solo desfavoráveis para o plantio de matérias-primas usadas na fabricação de biocombustíveis, mas a expansão do modal logístico (Ferrovia Norte-Sul) permitirá o acesso à soja do planalto goiano.
- ( ) O Tocantins conta com duas usinas de biodiesel em funcionamento, utilizando o pinhão-manso, a soja, a mamona e outras oleaginosas como matéria-prima.
- ( ) O Estado tem alto potencial de geração de energia solar, pela elevada irradiação solar e pelas políticas públicas voltadas para produção de energia limpa e renovável, como a Política Estadual de Incentivo à Geração e ao Uso da Energia Solar (Pró-Solar)

As afirmativas são, respectivamente,

- (A) V – F – V.
- (B) F – V – V.
- (C) F – F – V.
- (D) V – V – F.
- (E) V – V – V.

## 39

*As belas paisagens como serras, cachoeiras, praias e até mesmo dunas, fazem do Tocantins um paraíso de paisagens naturais, atraindo turistas de várias regiões para conhecer o mais novo Estado brasileiro. A potencialidade para o ecoturismo e a preocupação em conservar a biodiversidade e recursos naturais nele contidos fez com que o Governo do Estado, criasse e implementasse as Unidades de Conservação Ambiental (UC).*

Adaptado de <https://www.to.gov.br/secom/>

A respeito das Unidades de Conservação (UC) do Tocantins, assinale a afirmativa correta.

- (A) São espaços territoriais legalmente instituídos pelo poder público e podem ser de proteção integral federal, como no caso dos Parques Cantão, Jalapão e Lajeado.
- (B) As UCs federais estão subordinadas ao Instituto Chico Mendes de Conservação da Biodiversidade (ICMBio), como no caso do Monumento Natural das Árvores Fossilizadas.
- (C) As UCs estaduais estão subordinadas ao Instituto Natureza do Tocantins (Naturatins), que supervisiona o Parque do Araguaia e o das Nascentes do rio Parnaíba.
- (D) As UCs de uso sustentável são compostas exclusivamente por áreas públicas, sendo permitida sua utilização apenas para o ecoturismo, pesquisa e educação ambiental.
- (E) As UCs municipais estão subordinadas às secretarias de meio ambiente, como no caso do Monumento Natural dos Cânions e Corredeiras do Rio Sono e do Parque Ecológico Roberto Guedes Pereira.

## 40

O Estado do Tocantins possui diversas comunidades quilombolas certificadas e outras com processo formalizado para regularização fundiária de seus territórios. A definição de comunidade quilombola é dada pelo Art. 2º do Decreto nº 4.887/2003:

*Consideram-se remanescentes das comunidades dos quilombos, para os fins deste Decreto, os grupos étnico-raciais, segundo critérios de auto-atribuição, com trajetória histórica própria, dotados de relações territoriais específicas, com presunção de ancestralidade negra relacionada com a resistência à opressão histórica sofrida.*

A respeito dos órgãos e processos envolvidos na identificação e regularização de territórios quilombolas no Estado do Tocantins, assinale a afirmativa correta.

- (A) O acesso dessas comunidades às políticas públicas de educação, saúde, moradia e regularização fundiária depende de o Estado emitir uma certidão de identificação de comunidade quilombola, mediante Fundação Palmares.
- (B) Os critérios para reconhecimento de um grupo enquanto remanescente de quilombo depende da comprovação de sua ancestralidade, seu parentesco e da preservação viva de religiosidades autenticamente africanas.
- (C) A Coordenação Nacional de Articulação de Comunidades Negras Rurais Quilombolas (CONAQ) luta pela incorporação constitucional do direito à autodefinição dos remanescentes de quilombos.
- (D) A certificação quilombola é realizada pela Fundação Cultural Palmares, que avalia com visitas técnicas a autenticidade do legado quilombola pretendido e, caso o aprove, emite a certidão de comunidade quilombola e a inscreve em um cadastro geral.
- (E) O acesso às terras ocupadas pelos remanescentes das comunidades dos quilombos é garantido por sua delimitação e titulação, a cargo da autoridade municipal em que a mesma se localiza.

## CONHECIMENTOS ESPECÍFICOS

41

Nos projetos de design é essencial entender quem serão os usuários finais e quais são suas necessidades, habilidades e expectativas. Isso tornará o projeto mais intuitivo e amigável. Uma das formas de se coletar essas informações é por meio do *briefing*.

A respeito do *briefing*, assinale a afirmativa **incorreta**.

- (A) O *briefing* serve como um guia para os profissionais envolvidos, ajudando a alinhar expectativas e garantir que o trabalho seja concluído de acordo com as necessidades e objetivos do cliente ou equipe responsável pelo projeto.
- (B) O *briefing* é um documento jurídico e deve ser levado à cartório para reconhecimento das assinaturas de todas as partes envolvidas.
- (C) No contexto empresarial e criativo, refere-se a uma reunião ou documento no qual são compartilhadas diretrizes, metas e informações importantes para orientar um projeto específico.
- (D) A palavra *briefing* tem origem no inglês e é derivada do verbo *to brief*, que significa informar ou instruir de maneira concisa.
- (E) É importante incluir todas as partes interessadas relevantes na discussão do *briefing*. A falta de envolvimento pode levar a lacunas nas expectativas.

42

Sobre a produção de um aplicativo ou *site*, leia o fragmento de texto a seguir.

*Se o gerente de projetos está preocupado com verba e prazo, o desenvolvedor está preocupado com as limitações técnicas de determinada linguagem e o cliente está preocupado com os objetivos de negócios da marca e o \_\_\_\_\_ é o profissional que entra na equação para assumir o papel de advogar pelos interesses do usuário.*

Assinale a opção que completa corretamente a lacuna do fragmento acima.

- (A) analista de *Business Intelligence* (BI)
- (B) especialista SEO/SEM
- (C) instrutor de TI
- (D) engenheiro de *Artificial Intelligence* (AI)
- (E) UX designer

43

O *design universal* tem como objetivo eliminar barreiras e garantir que o maior número possível de pessoas possa interagir de forma eficaz e confortável com o design.

A esse respeito, relacione o conceito ao respectivo significado.

1. Equidade de Uso
  2. Simples e Intuitivo
  3. Tolerância ao Erro
  4. Esforço Físico Mínimo
  5. Informação Perceptível
- ( ) As informações essenciais devem ser apresentadas de maneira clara e acessível, independentemente das condições ambientais ou das capacidades sensoriais do usuário.
  - ( ) O design deve ser fácil de entender, independentemente da experiência do usuário, conhecimento, habilidades linguísticas ou nível de concentração.
  - ( ) O design deve minimizar os riscos e as consequências adversas de ações acidentais ou não intencionais.
  - ( ) O design deve ser útil e acessível para pessoas com diferentes habilidades.
  - ( ) A interação com o design deve exigir um esforço físico mínimo e ser confortável para pessoas com diferentes habilidades físicas.

Assinale a opção que indica a relação correta, na ordem apresentada.

- (A) 4 – 2 – 1 – 3 – 5.
- (B) 3 – 1 – 2 – 5 – 4.
- (C) 5 – 3 – 4 – 2 – 1.
- (D) 5 – 2 – 3 – 1 – 4.
- (E) 2 – 1 – 5 – 3 – 4.

44

Com relação aos conceitos de acessibilidade, analise as afirmativas a seguir e assinale (V) para a verdadeira e (F) para a alternativa falsa.

- ( ) A acessibilidade beneficia a todos, proporcionando uma experiência de usuário mais inclusiva e eficaz.
- ( ) A acessibilidade refere-se à prática de garantir que websites, aplicativos e outros recursos online sejam sempre gratuitos.
- ( ) Acessibilidade envolve garantir que os websites sejam compatíveis com tecnologias assistivas, como leitores de tela, teclados especiais e outros dispositivos que auxiliam pessoas com deficiência.
- ( ) Garantir um bom contraste entre texto e fundo não é um critério importante de acessibilidade, porque devemos sempre priorizar a estética.

As afirmativas são, respectivamente,

- (A) V – F – V – F.
- (B) V – V – V – F.
- (C) F – F – V – F.
- (D) V – F – F – F.
- (E) F – V – F – V.

45

Ao navegar em um site podemos nos deparar com problemas de usabilidade.

As opções a seguir apresentam problemas de usabilidade, **à exceção de uma**. Assinale-a.

- (A) Facilidade de aprendizado: o quão fácil é para os usuários completarem tarefas básicas a primeira vez que utilizam a interface.
- (B) Eficiência de uso: uma vez que os usuários aprenderam a utilizar a interface, quão rápido eles conseguem realizar as tarefas.
- (C) Velocidade de conexão com a internet: restrições ou condições que afetam a velocidade, confiabilidade ou disponibilidade da conexão de um usuário à internet.
- (D) Facilidade de memorização: quando os usuários retornam à interface depois de um período sem usar, conseguem utilizar de novo com facilidade.
- (E) Erros: quantos erros os usuários cometem, quão graves são esses erros e qual a dificuldade para corrigi-los.

46

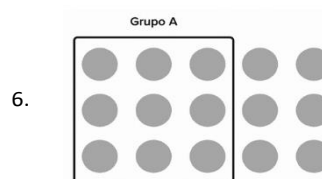
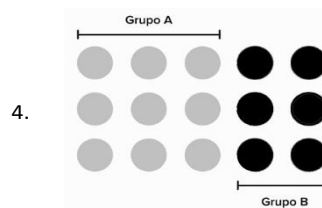

A hierarquia de informações é um princípio fundamental no design. Sobre os elementos que contribuem para a criação de hierarquia de informações, analise as afirmativas a seguir e assinale (V) para a verdadeira e (F) para a falsa.

- ( ) Textos ou imagens maiores podem indicar destaque ou prioridade.
- ( ) O uso de cores específicas para títulos, subtítulos ou elementos-chave não interfere na hierarquia visual.
- ( ) Elementos colocados em posições estratégicas na composição podem indicar sua importância.
- ( ) Títulos sempre tem o mesmo peso visual que o restante das informações.
- (A) V – F – V – V.
- (B) F – V – V – F.
- (C) V – F – F – F.
- (D) V – V – V – F.
- (E) V – F – V – F.

47

A Psicologia da Gestalt é uma abordagem psicológica que se concentra na compreensão da percepção e cognição humanas e é muito utilizada no design.

Relacione os exemplos listados a seguir aos respectivos princípios.



- ( ) Princípio da similaridade
- ( ) Princípio do fechamento
- ( ) Princípio da figura-fundo
- ( ) Princípio da continuidade
- ( ) Princípio da região comum
- ( ) Princípio do ponto focal

Assinale a opção que apresenta a relação correta, na ordem apresentada.

- (A) 4 – 3 – 6 – 2 – 5 – 1
- (B) 4 – 6 – 3 – 5 – 1 – 2
- (C) 4 – 3 – 6 – 2 – 1 – 5
- (D) 1 – 2 – 6 – 3 – 5 – 4
- (E) 2 – 4 – 1 – 6 – 5 – 3



48

A Teoria Psicológica das Cores explora a maneira como as cores afetam as emoções, comportamentos e percepções humanas.

Assinale cor que é associada à paixão, energia, urgência, mas também pode representar perigo.

- (A) Amarelo
- (B) Azul
- (C) Vermelho
- (D) Roxo
- (E) Verde

49

Relacione as fontes tipográficas listadas a seguir às respectivas características estilísticas.

1. Com serifa
  2. Script
  3. Fantasia
  4. Sem serifa
- ( ) Não possuem traços decorativos na sua forma. Elas tendem a ter uma aparência mais moderna, limpa e informal. Exemplos incluem Arial, Helvetica e Calibri.
- ( ) Imitam a aparência da escrita à mão ou de caligrafia. Elas podem ser elegantes e fluídas, adicionando um toque de personalidade ao design. Exemplos incluem Brush Script, Edwardian Script e Pacífico.
- ( ) Têm pequenos traços decorativos no final das hastes principais das letras. Elas são frequentemente associadas a uma aparência mais tradicional e formal. Exemplos incluem Times New Roman, Georgia e Garamond.
- ( ) São altamente estilizadas e muitas vezes temáticas. Elas podem variar significativamente em termos de design e são frequentemente usadas para efeitos especiais ou destaque. Exemplos incluem Comic Sans, Papyrus e Jokerman.

Assinale a opção que indica a relação correta, na ordem apresentada.

- (A) 1 – 2 – 3 – 4
- (B) 2 – 1 – 3 – 4
- (C) 4 – 3 – 1 – 2
- (D) 3 – 4 – 2 – 1
- (E) 4 – 2 – 1 – 3

50

A diagramação editorial e publicitária são duas abordagens distintas de design utilizadas em contextos diferentes, embora ambas envolvam a organização visual de elementos.

A esse respeito, analise as explicações a seguir.

- I. O principal objetivo da diagramação editorial é facilitar a leitura e compreensão de conteúdo em publicações como livros, revistas, jornais e outros materiais informativos.
- II. Na diagramação publicitária, a ênfase está na comunicação persuasiva e no impacto visual.
- III. A diagramação publicitária lida com materiais mais curtos e focados, como anúncios, cartazes e folhetos.

Está correto o que se afirma em

- (A) I e III, apenas.
- (B) I, II e III.
- (C) II e III, apenas.
- (D) I e II, apenas.
- (E) I, apenas.

51

A respeito de *grids*, que desempenham um papel fundamental nos projetos de *design* e na *web*, analise as afirmativas a seguir.

- I. O uso de *grids* promove consistência visual em um design porque elementos alinhados e distribuídos de maneira uniforme criam uma aparência coesa e profissional.
- II. Na *web*, *grids* facilitam a adaptação do *layout*, permitindo que o *design* responda de forma eficaz a diferentes resoluções.
- III. Uma estrutura baseada em grid dificulta a atualização de conteúdo. Se o *layout* é organizado em uma grade, é difícil adicionar, remover ou modificar elementos sem comprometer a integridade visual.
- IV. Na criação de interfaces *web*, o uso de sistemas de *grid* pode dificultar o desenvolvimento, pois fornece uma estrutura engessada que os desenvolvedores não gostam.

Está correto o que se afirma em

- (A) I, apenas.
- (B) I e II.
- (C) III, apenas.
- (D) III e IV.
- (E) II, apenas.

52

Chamamos de manipulação de imagem toda a alteração feita na imagem real fotografada. Assinale a opção que indica o *software* mais usado para executar essa tarefa.

- (A) After Effects
- (B) Illustrator
- (C) Canvas
- (D) Corel Draw
- (E) Photoshop

53

A linguagem publicitária é projetada para ser persuasiva, envolvente e impactante, buscando capturar a atenção do consumidor e influenciar suas decisões. Uma das ferramentas mais utilizadas na *web* é o *Call to Action*, também conhecido como CTA.






Assinale a opção que não se enquadra como um *Call to Action*.

- (A) Assistir um vídeo.
- (B) Inscrições em *newsletter*.
- (C) A legenda de uma foto.
- (D) Participar de um evento.
- (E) Gerar tráfego para outro artigo no *blog*.

54

A semiótica busca compreender como os sinais e símbolos são utilizados para criar e comunicar significados, influenciando a interpretação e a compreensão do mundo ao nosso redor. O *design* e a *web* estão impregnados desses símbolos em forma de ícones.

A esse respeito, relacione os ícones listados a seguir aos respectivos significados.

1.  ( ) Segurança, privacidade e proteção.
2.  ( ) Busca, pesquisa e investigação.
3.  ( ) Configurações, opções e ajustes.
4.  ( ) Energia, velocidade e eletricidade.
5.  ( ) Leitura, conhecimento e educação.

Assinale a opção que indica a relação correta, na ordem apresentada.

- (A) 3 – 2 – 4 – 5 – 1.
- (B) 4 – 3 – 1 – 2 – 5.
- (C) 3 – 4 – 2 – 5 – 1.
- (D) 1 – 4 – 3 – 2 – 5.
- (E) 2 – 4 – 5 – 3 – 1.

55

A respeito da *síntese na comunicação*, assinale a afirmativa correta.

- (A) São regras e estruturas que governam a formação de frases ou expressões em uma língua. É um aspecto essencial da gramática em qualquer idioma, e o seu entendimento é crucial para construir sentenças coerentes e significativas.
- (B) É um sinal gráfico usado na escrita para isolar ou destacar uma parte do texto, muitas vezes uma explicação, observação ou informação adicional.
- (C) É a habilidade de condensar informações complexas, destacando os pontos essenciais de forma clara e concisa.
- (D) É uma língua visual-espacial, na qual a comunicação é realizada principalmente por meio de gestos, expressões faciais e movimentos corporais.
- (E) É um gênero que expressa sentimentos e pensamentos íntimos e exploram emoções pessoais, estados de espírito e experiências subjetivas.

56

Ao criar uma logomarca, é importante levar em conta diversos fatores para garantir que ela seja eficaz e represente adequadamente a essência da marca. É também muito importante que mesmo que a logomarca principal seja colorida, exista uma versão monocromática da imagem.

Assinale a razão que **não** tem relação com a necessidade de ter uma opção monocromática da logomarca.

- (A) Versatilidade de aplicação.
- (B) Simplicidade da forma.
- (C) Acessibilidade.
- (D) Adaptação a fundos diferentes.
- (E) Economia de impressão.

57

No projeto de uma logomarca, é importante que sempre exista a versão dela em arquivo vetorial.

A esse respeito, analise as afirmativas a seguir.

- I. A logomarca vetorial pode ser ajustada conforme necessário sem perda de qualidade.
- II. O formato vetorial permite que partes da logomarca sejam transparentes, facilitando sua integração em diferentes fundos sem a necessidade de um contorno branco ou de outra cor de fundo.
- III. Logomarcas vetoriais não podem ser exportadas para diferentes formatos de arquivo e isso faz com que ela esteja protegida de eventuais interferências.

Está correto o que se afirma em

- (A) I e II, apenas.
- (B) II, apenas.
- (C) II e III, apenas.
- (D) I, apenas.
- (E) I, II e III.

58

A Adobe é uma empresa multinacional de *software* conhecida por desenvolver uma ampla gama de aplicativos e ferramentas criativas.

Relacione os softwares listados a seguir as respectivas finalidades.

1. Photoshop ( ) Editoração e diagramação
2. InDesign ( ) Animação (*motion design*)
3. Illustrator ( ) UX/UI *design*
4. After Effects ( ) Edição de vídeos
5. XD ( ) Fotografia
6. Premiere ( ) Ilustração vetorial

Assinale a opção que indica a relação correta, na ordem apresentada.

- (A) 5 – 4 – 2 – 6 – 1 – 3.
- (B) 1 – 6 – 3 – 4 – 2 – 5.
- (C) 2 – 5 – 6 – 1 – 3 – 4.
- (D) 4 – 2 – 5 – 6 – 1 – 3.
- (E) 2 – 4 – 5 – 6 – 1 – 3.

59

No dia a dia de quem trabalha com *sites*, aplicativos e redes sociais, a manipulação de imagens *raster* pode ser uma função importante. Há alguns pontos de atenção ao se trabalhar com essas imagens.

A esse respeito, analise as afirmativas a seguir e assinale (V) para a verdadeira e (F) para a falsa.

- ( ) A resolução é um fator crucial nas imagens *raster*. Quanto maior a resolução, mais detalhes a imagem pode conter, mas também resulta em arquivos maiores. Baixa resolução pode levar a imagens pixeladas, especialmente quando ampliadas.
- ( ) Os formatos de arquivo mais comuns para imagens *raster* incluem JPEG, PNG, GIF, TIFF e BMP. Cada formato tem suas características específicas, como compressão, suporte a transparência e qualidade de imagem.
- ( ) Imagens *raster* podem ter tamanhos de arquivo consideráveis, especialmente em alta resolução, mas isso nunca afeta o armazenamento, o carregamento em páginas da web e a transferência de arquivos.
- ( ) A maioria das fotografias digitais é representada como imagens *raster*. Câmeras digitais capturam a luz como *pixels*, e essas imagens podem ser editadas posteriormente em *softwares* especializados.

As afirmativas são, respectivamente,

- (A) F – V – F – V.
- (B) V – V – V – V.
- (C) V – F – F – V.
- (D) V – V – F – V.
- (E) F – V – F – V.

60

Sobre os conceitos básicos de programação web, relacione os nomes listados a seguir às respectivas definições.

1. HTML
  2. CSS
  3. JavaScript
  4. PHP
- ( ) Linguagem de programação de alto nível, interpretada e orientada a objetos, amplamente utilizada no desenvolvimento *web*. Ela é executada no navegador do usuário, permitindo a criação de páginas web dinâmicas e interativas.
  - ( ) É uma linguagem de programação de código aberto amplamente utilizada para o desenvolvimento de aplicações *web*. Originalmente projetada para criar páginas *web* dinâmicas. Ele permite a criação de páginas web interativas e dinâmicas, onde o conteúdo pode ser gerado a partir de interações do usuário, dados de bancos de dados, ou outras fontes.
  - ( ) No desenvolvimento *web* ele separa a estrutura do conteúdo da sua apresentação visual e permite que você controle o *layout*, cores, fontes e outros aspectos visuais de uma página *web*.
  - ( ) É uma linguagem fundamental no desenvolvimento web. Ela é usada para criar e estruturar o conteúdo de uma página na internet e utiliza marcações (*tags*) para definir elementos dentro de um documento, indicando como esses elementos devem ser exibidos ou funcionar no navegador.

Assinale a opção que indica a relação correta, na ordem apresentada.

- (A) 3 – 4 – 2 – 1.
- (B) 1 – 2 – 4 – 3.
- (C) 3 – 4 – 2 – 1.
- (D) 1 – 4 – 2 – 3.
- (E) 2 – 4 – 1 – 3.

61

Em um projeto de site ou aplicativo é fundamental criar uma boa experiência do usuário.

Assinale a opção que indica a característica que aponta para um projeto que está atento às questões de UX design.

- (A) Uso excessivo de cores vibrantes para atrair a atenção.
- (B) Textos longos e explicativos para garantir que os usuários entendam todas as características.
- (C) Adição de muitas funcionalidades para oferecer mais opções.
- (D) Design intuitivo e fácil de usar, focado nas necessidades do usuário.
- (E) Utilização de muitos elementos visuais complexos para impressionar.

62

Em uma página *web*, a finalidade das alternativas textuais em elementos não textuais é

- (A) reduzir o tempo de carregamento da página.
- (B) facilitar a impressão de imagens.
- (C) otimizar o desempenho do servidor.
- (D) fornecer descrições para tornar o conteúdo acessível.
- (E) personalizar o *layout* da página.

63

Existem diferentes modelos de representação de cores que podem ser usados em contextos específicos como: impressão, exibição digital e *design web*.

A esse respeito, relacione os modelos de cores listados a seguir às respectivas definições.

1. CMYK (Ciano, Magenta, Amarelo, Preto)
  2. RGB (Red, Green, Blue)
  3. Hexadecimal (Hex)
  4. Pantone
- ( ) É uma coleção de cores padronizadas usadas na indústria de impressão. Cada cor é identificada por um número e pode ser reproduzida consistentemente em diferentes mídias.
- ( ) É ideal para dispositivos que emitem luz, como monitores, porque representa a forma como os dispositivos eletrônicos exibem cores através da emissão de luz.
- ( ) Utilizado principalmente na impressão gráfica, como em revistas, cartazes, embalagens etc.
- ( ) Usado principalmente na web, é uma representação numérica de cores no formato de seis dígitos alfanuméricos.

Assinale a opção que indica a relação correta, na ordem apresentada.

- (A) 4 – 2 – 1 – 3.
- (B) 1 – 2 – 4 – 3.
- (C) 3 – 4 – 2 – 1.
- (D) 4 – 1 – 2 – 3.
- (E) 3 – 2 – 1 – 4.

64

Escolher a fonte certa para um projeto é uma decisão crucial, pois a tipografia desempenha um papel significativo em uma comunicação.

Estão listados a seguir alguns cuidados que você deve ter ao escolher uma fonte para o seu projeto, mas atenção porque um deles **não** está correto. Assinale-o.

- (A) Usar fontes legíveis em diferentes tamanhos e dispositivos.
- (B) Salvar as fontes baixadas no seu computador porque isso a torna sua propriedade e, assim, não será necessário pagar pelo licenciamento.
- (C) Verificar se a fonte escolhida é suportada em diferentes navegadores e dispositivos para garantir uma experiência consistente para os usuários.
- (D) Certificar-se de que a fonte seja responsiva e se adapte bem a diferentes tamanhos de tela, garantindo uma boa legibilidade em dispositivos móveis.
- (E) Certificar-se de que a fonte atenda aos padrões de acessibilidade, como contraste suficiente e capacidade de ser lida por leitores de tela.

65

Relacione o tipo de produto digital ao conceito que melhor o define.

1. Site
  2. Aplicativo
  3. E-mail marketing
  4. Posts para redes sociais
- ( ) É um programa feito para realizar tarefas específicas em dispositivos como computadores, *smartphones* ou *tablets*. Eles variam de simples (como jogos) a complexos (como redes sociais) e podem ser baixados e instalados a partir de lojas de aplicativos *online*.
- ( ) Estratégia de marketing digital cujo objetivo é estabelecer uma comunicação direta com cada destinatário de correio eletrônico para cumprir determinados objetivos.
- ( ) Conteúdo criado e publicado em alguma plataforma da internet. Essa publicação pode ter o formato de imagem, vídeo, texto, áudio ou todos eles juntos.
- ( ) Conjunto de páginas na internet, armazenadas em um servidor, acessíveis por meio de um navegador. Pode conter informações, imagens, vídeos e servir a diversos propósitos, como fornecer informações, serviços online ou promover produtos.

Assinale a opção que indica a relação correta, na ordem apresentada:

- (A) 2 – 3 – 4 – 1.
- (B) 3 – 4 – 1 – 2.
- (C) 1 – 2 – 4 – 3.
- (D) 2 – 1 – 4 – 3.
- (E) 1 – 3 – 2 – 4.

## LEGISLAÇÃO INSTITUCIONAL

66

Nos termos da Constituição do Estado do Tocantins, constitui objeto de lei complementar a seguinte matéria:

- (A) os prazos de prescrição para ilícitos praticados por qualquer agente, servidor ou não, que causem prejuízos ao erário.
- (B) os limites de idade, a estabilidade e outras condições de transferência do servidor militar para a inatividade.
- (C) os casos de contratação por tempo determinado para atender à necessidade temporária de excepcional interesse público.
- (D) as regras para cálculo de proventos de aposentadoria e pensão por morte.
- (E) os requisitos e as restrições ao ocupante de cargo ou emprego da administração direta e indireta que possibilite o acesso a informações privilegiadas.

**67**

Considerando o exercício da função legislativa por parte da Assembleia Legislativa de Tocantins, nos termos de seu Regimento Interno, é correto afirmar que

- (A) projetos de lei delegada podem se destinar a regular as matérias de exclusiva competência do Poder Executivo, com a sanção do Governador do Estado.
- (B) projetos de resolução podem se destinar a regular, com eficácia de lei ordinária, matéria de competência privativa da Assembleia Legislativa.
- (C) projetos de lei complementar visam regular matéria infraconstitucional.
- (D) projetos de lei têm por objetivo regular matérias de competência do Poder Legislativo, sem a sanção do Governador do Estado.
- (E) projetos de decreto legislativo destinam-se à delegação de competência, na forma estabelecida na Constituição Estadual.

**68**

Aline, servidora pública estadual, revelou segredo do qual se apropriou em razão do cargo que ocupa. A Administração Pública, ao tomar conhecimento do fato, instaurou procedimento administrativo disciplinar a fim de apurar a conduta e garantir à servidora os princípios da ampla defesa e do contraditório.

À luz do Estatuto dos Servidores Públicos Civis do Estado do Tocantins, caso punida, Aline poderá ser sancionada com

- (A) advertência.
- (B) suspensão.
- (C) prestação de serviço.
- (D) multa.
- (E) demissão.

**69**

Ana, servidora pública efetiva e estável, ocupante de cargo de nível superior, objetivando inteirar-se sobre os requisitos para a progressão na carreira, consultou a Lei nº 4.208/2023, que trata sobre o plano de cargos, carreiras e remuneração dos Servidores da Assembleia de Tocantins.

Assim, para fazer jus à progressão, Ana terá que

- (A) possuir no máximo três faltas injustificadas por exercício referente ao período avaliado.
- (B) obter conceito igual ou superior a 70% (setenta por cento) dos pontos possíveis em todos os procedimentos de sua Avaliação.
- (C) concluir curso de pós-graduação *lato sensu* com duração mínima de 360 (trezentos e sessenta) horas.
- (D) cumprir trinta meses de efetivo exercício na classe em que se encontra.
- (E) concluir cursos de aperfeiçoamento em sua área de atuação que tenha, no mínimo, 80 (oitenta) horas de duração.

**70**

Antônio foi nomeado para o cargo de Controlador Interno da Assembleia Legislativa de Tocantins.

À luz da Lei nº 4.209/2023, que dispõe sobre a estrutura administrativa da Aletto, durante o exercício da função, Antônio será competente para:

- (A) opinar, conclusivamente, em processos de direitos, deveres e obrigações dos servidores do Poder Legislativo.
- (B) constituir Comissão Permanente de Licitação.
- (C) examinar a observância das normas de licitações.
- (D) apresentar à Mesa Diretora o balancete mensal e, no início de cada exercício, o balancete geral das contas da Assembleia Legislativa, relativo ao exercício anterior.
- (E) planejar, coordenar, orientar, controlar e dirigir as atividades administrativas, orçamentárias, financeiras, de comunicação social, de tecnologia de informação e de apoio legislativo da Assembleia Legislativa.



# ASSEMBLEIA LEGISLATIVA DO ESTADO DO TOCANTINS

CONCURSO PÚBLICO – EDITAL Nº 01/2023

## PROVA OBJETIVA – MANHÃ

### POLICIAL LEGISLATIVO II POLÍCIA E SEGURANÇA II

NÍVEL MÉDIO – TIPO 1 – BRANCA



#### SUA PROVA

- Além deste caderno contendo **60 (sessenta)** questões objetivas, você receberá do fiscal de prova o cartão de respostas;
- As questões objetivas têm **5 (cinco)** opções de resposta (A, B, C, D) e somente uma delas está correta.



#### TEMPO

- Você dispõe de **4 (quatro) horas** para a realização da prova, já incluído o tempo para a marcação do cartão de respostas;
- **3 (três) horas** após o início da prova, é possível retirar-se da sala, sem levar o caderno de questões;
- A partir dos **30 (trinta) minutos** anteriores ao término da prova é possível retirar-se da sala **levando o caderno de questões**.



#### NÃO SERÁ PERMITIDO

- Qualquer tipo de comunicação entre os candidatos durante a aplicação da prova;
- Anotar informações relativas às respostas em qualquer outro meio que não seja o caderno de questões;
- Levantar da cadeira sem autorização do fiscal de sala;
- Usar o sanitário ao término da prova, após deixar a sala.



#### INFORMAÇÕES GERAIS

- Verifique se seu caderno de questões está completo, sem repetição de questões ou falhas. Caso contrário, **notifique imediatamente o fiscal da sala**, para que sejam tomadas as devidas providências;
- Confira seus dados pessoais, especialmente nome, número de inscrição e documento de identidade e leia atentamente as instruções para preencher o cartão de respostas;
- Para o preenchimento do cartão de respostas, use somente caneta esferográfica, fabricada em material transparente, com tinta preta ou azul;
- Assine seu nome apenas no(s) espaço(s) reservado(s) no cartão de respostas;
- Confira seu cargo, cor e tipo do caderno de questões. Caso tenha recebido caderno de cargo ou cor ou tipo **diferente** do impresso em seu cartão de respostas, o fiscal deve ser **obrigatoriamente** informado para o devido registro na ata da sala;
- Reserve tempo suficiente para o preenchimento do seu cartão de respostas. O preenchimento é de sua responsabilidade e **não será permitida a troca do cartão de respostas em caso de erro cometido pelo candidato**;
- Para fins de avaliação, serão levadas em consideração apenas as marcações realizadas no cartão de respostas;
- A FGV coletará as impressões digitais dos candidatos na lista de presença;
- Os candidatos serão submetidos ao sistema de detecção de metais quando do ingresso e da saída de sanitários durante a realização das provas.
- **Boa prova!**

## CONHECIMENTOS BÁSICOS

### Língua Portuguesa

1

Leia o seguinte texto de um jornal de outros tempos:

*“Mudança nas moedas. A partir de junho começam a entrar em circulação as moedas de Cr\$100 e Cr\$500 substituindo as cédulas que trazem estampadas a poetisa Cecília Meireles e o naturalista Augusto Ruschi, respectivamente. O lançamento das moedas foi aprovado na reunião de ontem do Conselho Monetário Nacional, colocando fim à família de notas criadas no governo Sarney, sob a égide dos cruzados novos.”*

Sobre esse fragmento textual, analise as observações a seguir, feitas por um estudioso de nossa Língua, e assinale a correta.

- (A) “Começam a entrar em circulação” é bastante estranho, porque as moedas, pequenas que são e de pequeno valor, “entram” logo.
- (B) “trazem estampadas a poetisa Cecília Meireles e o naturalista Augusto Ruschi”, mas eu pensava que as moedas trazem estampadas as efígies de Fulano ou Beltrano.
- (C) “colocando fim à família” mostra o emprego inadequado de “colocar” em lugar de “pôr”.
- (D) “criadas”, por questão de clareza e precisão, devia ser substituído por “lançadas” ou “emitidas”.
- (E) “sob”, por questão de correção gramatical, deve ser substituído por “sobre”.

2

Leia o fragmento a seguir.

*“Não somos daqueles que só em meio aos livros, estimulados por livros vêm a ter pensamentos – é nosso hábito pensar ao ar livre, andando, saltando, escalando, dançando, preferivelmente em montes solitários ou próximos ao mar, onde mesmo as trilhas se tornam pensativas.”* (Nietzsche, filósofo alemão).

Sobre o significado desse fragmento, assinale a afirmativa correta.

- (A) A leitura é importante para a criação de ideias originais.
- (B) As formas de gerúndio mostram a evolução cronológica das ações narradas pelo escritor.
- (C) O pronome relativo “onde” refere-se a locais ao ar livre.
- (D) A forma do verbo “tornar-se”, como verbo de ligação, indica um estado transitório.
- (E) Os ambientes solitários propiciam reflexões de valor.

3

As citações a seguir são compostas por dois segmentos; assinale a opção em que a relação lógica indicada pelo segundo segmento está correta.

- (A) Dize-me o que crês ser / e te direi o que não és. – relação de oposição.
- (B) Quem crê é forte / quem duvida é fraco. – relação de conclusão.
- (C) Seja lá por que um homem reza, / ele reza por um milagre. – relação de explicação.
- (D) Não adianta esperar que o navio chegue / se você não o mandou para lugar nenhum. – relação de causa.
- (E) Pense como um homem de ação / e aja como um pensador. – relação de conclusão.

4

Os textos a seguir mostram elementos de coesão em relação ao termo sublinhado; assinale a opção em que todos os termos seguintes, em coesão com ele, estão indicados.

- (A) Geralmente, entre nossos motivos de agir, há um mais forte que os demais: aquele que não é declarado. – *um, os demais, aquele, que.*
- (B) O que empobrece o homem não são seus atos, mas os desejos que ele possui. – *ele.*
- (C) O dinheiro, recebem-no todos os que trabalham e o perdem todos os irresponsáveis. – *no, que, o.*
- (D) Qual pode ser a vida que começa pelos gritos da mãe, que a dá, e o choro do filho que a recebe? – *que, que, a.*
- (E) Meu filho! Deus te enviou a este mundo. Cultiva-o e não te apresses em sair dele. – *o.*

5

As frases a seguir mostram termos repetidos; assinale a opção que apresenta a frase em que o significado dos dois termos não é o mesmo.

- (A) Morrer é mudar de corpo como o ator muda de roupa.
- (B) Janeiro é o mês que se fazem bons votos aos amigos; os outros são os meses em que esses votos não se concretizam.
- (C) Quem tempo espera, muito tempo consome.
- (D) A falsidade da História é tão velha como a própria História.
- (E) Viva todos os dias como se fosse o último. Um dia você acerta.

6

As opções a seguir mostram, corretamente, a substituição da forma sublinhada, composta de não + verbo, por um só verbo, de sentido equivalente, à exceção de uma. Assinale-a.

- (A) Os países da OTAN pediram que o exército russo não avançasse esta semana. / *parasse.*
- (B) O deputado informou que não dispunha de tempo para redigir uma nova versão do projeto. / *carecia.*
- (C) O Presidente não aceitou o convite para visitar a Alemanha. / *declinou do.*
- (D) Não abriu as portas do museu para evitar a curiosidade do público. / *fechou.*
- (E) Por seus futuros compromissos, preferia não gastar dinheiro / *economizar.*

7

As frases a seguir mostram uma locução adjetiva introduzida pela preposição sem; assinale a opção em que a substituição dessa locução por um adjetivo de valor equivalente foi feita de forma adequada.

- (A) Cartas sem autoria declarada são sempre mal recebidas / *desautorizadas.*
- (B) Os poços sem água são de pouca serventia para a lavoura / *áridos.*
- (C) Foram deixados muitos problemas sem solução / *insolúveis.*
- (D) O governo tomou muitas atitudes sem nexos / *desconexas.*
- (E) Com os fogos de artifício, o campo ficou sem visão / *invisível.*

8

Assinale a opção que apresenta a frase em que houve **erro** de concordância da palavra sublinhada.

- (A) O presidente fez questão de deixar bem claras as suas intenções.
- (B) O STF qualificou de antidemocrático aqueles atos.
- (C) O governo chinês torna visíveis os erros das ditaduras.
- (D) Os enfermeiros tiveram reconhecidos os direitos de greve.
- (E) Tomei emprestados à biblioteca vários livros.

9

As perguntas a seguir apresentam o pronome pessoal oblíquo em ênclise (após o verbo); assinale a que mostra formulação **incorreta**, porque só admite próclise.

- (A) Os dois bandidos evadiram-se do presídio em Mossoró?
- (B) Onde podemos vê-los?
- (C) Eles dedicar-se-iam às tarefas com prazer.
- (D) Numa entrevista como esta, isto pergunta-se?
- (E) Quem dir-me-á tantas barbaridades, senão ele?

10

Assinale a opção que apresenta as duas palavras que devem ser grafadas com **es** e não com **ex**.

- (A) Excremento / expurgo.
- (B) Excusar / expontâneo.
- (C) Excomungar / expressar.
- (D) Extirpar / extorquir.
- (E) Exterminar / extremoso.

## Raciocínio Lógico Matemático

11

Dois números diferentes serão escolhidos ao acaso entre os elementos do conjunto {5,7,9,11,14}.

A soma dos números escolhidos

- (A) certamente é ímpar.
- (B) certamente é par.
- (C) pode ser 26.
- (D) pode ser 18.
- (E) pode ser menor que 12.

12

Em um jogo, duas fichas azuis têm o mesmo valor de cinco fichas vermelhas e uma ficha preta vale o mesmo que três fichas azuis.

Assim, duas fichas pretas equivalem a

- (A) sete fichas vermelhas.
- (B) oito fichas vermelhas.
- (C) nove fichas vermelhas.
- (D) doze fichas vermelhas.
- (E) quinze fichas vermelhas.

13

Sabe-se que 20% de  $N$  é igual a 13,4. Logo, 90% de  $N$  é igual a

- (A) 59,6.
- (B) 60,3.
- (C) 61,2.
- (D) 62,5.
- (E) 63,2.

14

Marcelo é filho de Alberto. Pedro é filho de Luiz. Se Marcelo e Luiz são irmãos por parte de pai, então

- (A) Alberto é pai de Pedro.
- (B) Alberto é tio de Pedro.
- (C) Pedro é irmão de Marcelo.
- (D) Pedro é sobrinho de Marcelo.
- (E) Pedro é neto de Marcelo.

15

A seguir, são apresentados os 9 primeiros termos de uma sequência infinita de números inteiros.

13, 12, 14, 11, 15, 10, 16, 9, 17, ...

Os termos são, alternadamente, maiores e menores que seus antecessores imediatos, seguindo um padrão de construção.

Sabendo-se que esse padrão é mantido ao longo de toda a sequência, conclui-se que um termo negativo aparecerá pela primeira vez na

- (A) 28ª posição.
- (B) 27ª posição.
- (C) 26ª posição.
- (D) 15ª posição.
- (E) 14ª posição.

16

Para pagar um lanche, Temístocles usou uma nota de R\$20,00 e recebeu, de troco, uma nota de R\$5,00, duas notas de R\$2,00, nove moedas de R\$0,50 e 3 moedas de R\$0,25.

O lanche custou a Temístocles

- (A) R\$5,25.
- (B) R\$5,75.
- (C) R\$6,25.
- (D) R\$6,75.
- (E) R\$7,25.

## Noções de Informática

17

No contexto dos sistemas operacionais Microsoft Windows, o Painel de Controle é uma área central para gerenciar as configurações do sistema, opções de personalização e outros.

Considerando as versões superiores ao Windows 7, assinale a opção que **não** indica uma funcionalidade encontrada no painel de controle.

- (A) *Backup* e Restauração.
- (B) Relógio e Região.
- (C) *Hardware* e Sons.
- (D) Contas de Usuário.
- (E) Configuração de Registro Avançadas.



18

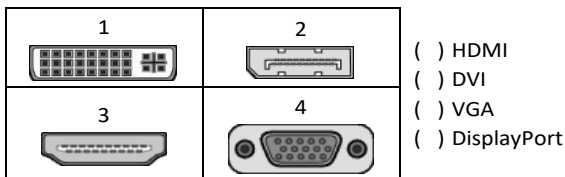
Nos sistemas operacionais Microsoft Windows 10, o recurso "Executar" permite aos usuários abrir rapidamente programas, pastas, documentos e recursos do sistema, ao digitar o caminho completo ou o nome do item.

Assinale a opção que apresenta a combinação de teclas usada para abrir a caixa de diálogo "Executar".

- (A) Windows + E
- (B) Windows + I
- (C) Windows + K
- (D) Windows + L
- (E) Windows + R

19

No contexto das interfaces para vídeo, relacione as portas às suas respectivas tecnologias.



Assinale a opção que indica a relação correta, segundo a ordem apresentada.

- (A) 2 – 3 – 1 – 4.
- (B) 2 – 4 – 1 – 3.
- (C) 3 – 2 – 1 – 4.
- (D) 3 – 1 – 4 – 2.
- (E) 4 – 2 – 3 – 1.

20

Sobre a inserção de tabelas no Microsoft Word 2019 em português, analise as afirmativas a seguir.

- I. As tabelas admitem diferentes estilos de borda, cores de preenchimento e fontes, para melhorar sua apresentação visual.
- II. Ao inserir uma tabela, é possível definir o número de linhas e colunas antes de criá-la, no entanto, não é possível alterar a estrutura após a inserção.
- III. As tabelas podem ser inseridas apenas no início de um documento e não podem ser movidas para outras partes do texto.

Está correto o que se afirma em

- (A) I, apenas.
- (B) I e II, apenas.
- (C) II e III, apenas.
- (D) I e III, apenas.
- (E) I, II e III.

21

Em uma planilha Microsoft Excel 2019 em português do Brasil, há um conjunto de dados com vendas listadas na coluna B.

Por meio da funcionalidade de Formatação Condicional, a seguinte função pode ser usada para destacar os 10% dos principais valores de vendas com preenchimento verde:

- (A) PERCENTIL.
- (B) MAXIMO.
- (C) SOMASES.
- (D) CONT.SE.
- (E) ABS.

22

Em uma pequena empresa, durante uma tentativa de realizar uma manutenção de rotina nos servidores ao final do expediente, José, um funcionário recém-contratado, com pouca experiência em TI, desliga um servidor que está rodando um serviço de DHCP. No dia seguinte, os usuários começam a reportar problemas.

Considerando que todas as estações de trabalho com sistema operacional Windows estavam utilizando o servidor DHCP, assinale a opção que indica o que os usuários reportaram.

- (A) As estações de trabalho não estão ligando, pois dependem do servidor DHCP.
- (B) Havia lentidão na conexão com a internet.
- (C) Perda de acesso à internet, enquanto o acesso à rede local entre as estações de trabalho permaneceu possível.
- (D) Interrupção do serviço de *e-mail*; os demais serviços funcionavam.
- (E) Impressão em rede local não funcionava, mas a internet estava acessível.

## Legislação Institucional

23

João, eleito Deputado Estadual, foi diplomado, mas ainda não tomou posse.

À luz da Constituição do Estado do Tocantins, João não poderá

- (A) exercer cargo em uma empresa concessionária de serviço público.
- (B) ser diretor de uma empresa que goze de favor decorrente de contrato com pessoa jurídica de direito público.
- (C) patrocinar uma causa em que seja interessada uma autarquia.
- (D) manter contrato com uma pessoa jurídica de direito privado.
- (E) ser titular de mais de um cargo ou de mandato público eletivo.

24

Considerando o que dispõe o Regimento Interno da Assembleia Legislativa de Tocantins a respeito das Comissões, assinale a afirmativa correta.

- (A) A Comissão de Constituição, Justiça e Redação tem poderes de investigação próprios das autoridades judiciais.
- (B) As Comissões Especiais não podem ser constituídas para investigação sumária de fato determinado.
- (C) À Comissão de Segurança Pública compete analisar questões ligadas à violência urbana e rural.
- (D) As Comissões de Representação devem ser aprovadas pela maioria absoluta do Plenário da Assembleia.
- (E) A Comissão Parlamentar de Inquérito poderá deslocar-se para qualquer ponto do território estadual para a realização de investigações e audiências públicas.

25

Joaquim é servidor estadual estável, detentor de cargo efetivo e aposentado voluntariamente. Depois de dois anos de sua aposentadoria, Joaquim manifestou interesse, perante a Administração, de retornar à atividade em que era estável.

Caso haja cargo vago disponível, conforme a Lei nº 1818/2017, que dispõe sobre o Estatuto dos Servidores Públicos Civis do Estado do Tocantins, assinale a modalidade de provimento adequada ao caso.

- (A) Aproveitamento.
- (B) Reversão.
- (C) Readaptação.
- (D) Reintegração.
- (E) Recondução.

26

Luiz, servidor público efetivo, encontra-se em estágio probatório e, nesse período, tem sido submetido a Avaliações Especiais de Desempenho.

Nos termos da Lei nº 4.208/2023, que cuida do plano de cargos, carreiras e remuneração dos Servidores da Assembleia Legislativa de Tocantins, assinale a afirmativa correta.

- (A) A Avaliação Especial de Desempenho dá-se em três etapas, que tem por base o acompanhamento trimestral do servidor.
- (B) O resultado da avaliação será levado ao conhecimento do avaliado e arquivado em caráter público.
- (C) O servidor, para ser aprovado, deverá obter média igual ou superior a 60% (sessenta por cento) dos pontos possíveis nas Avaliações Especiais de Desempenho.
- (D) O servidor, caso aprovado no estágio probatório, será imediatamente elevado para a classe seguinte do padrão inicial do seu cargo.
- (E) O servidor deve ser avaliado pelo chefe imediato.

## História e Geografia do Estado de Tocantins

27



As bonecas Ritxoko são figuras de cerâmica confeccionadas por mulheres indígenas da etnia Karajá, do estado do Tocantins. Feitas a partir da mistura de argila e água, as peças representam tanto a forma humana e seus ciclos de vida quanto elementos da fauna e do sobrenatural. A pigmentação vermelha é extraída do urucum, enquanto a preta é retirada de uma árvore chamada ixarurina. As bonecas são usadas como instrumentos de socialização das crianças que se veem nesses objetos e aprendem a ser Karajá, recebendo ensinamentos e aprendendo as técnicas e saberes associados à sua confecção e usos. A pintura e a decoração das cerâmicas estão associadas à pintura corporal dos Karajá e às peças de vestuário e adorno.

Adaptado de <https://www.gov.br/funai>

Com base no trecho, é correto afirmar que as bonecas Ritxoko são um patrimônio

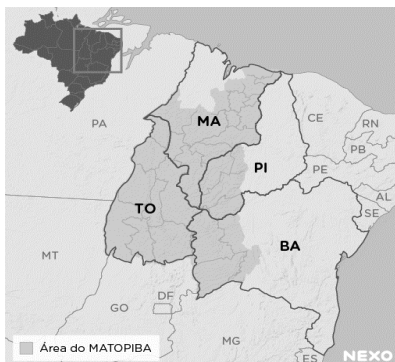
- (A) da humanidade, uma vez que constituem bens culturais e naturais significativos para todas as culturas, sendo contempladas como referência estética para todos os povos.
- (B) histórico nacional, pois exemplificam a riqueza dos modos de fazer e das formas de expressão que envolvem a tradição dos Karajás no Brasil.
- (C) cultural brasileiro, uma vez que são consideradas representações culturais com significados sociais e identitários profundos.
- (D) imaterial mundial, já que sua feitura envolve processos abstratos criativos de elaboração e variação de formas e grafismos.
- (E) material tocantinense, por expressar a arte, a memória e a identidade das comunidades indígenas da Ilha do Bananal, no Tocantins.

28

O Estado do Tocantins situa-se em uma zona de transição que apresenta dois tipos de vegetação: a Floresta Ombrófila e a Savana, pertencentes, respectivamente, aos biomas

- (A) Amazônia e Cerrado.
- (B) Mata Atlântica e Pampa.
- (C) Caatinga e Mata Atlântica.
- (D) Amazônia e Caatinga.
- (E) Cerrado e Pantanal.

29



A área do MATOPIBA caracteriza-se pelo baixo preço das terras e pela uniformidade do clima, do solo e do relevo, que facilitam a mecanização agrícola e tem atraído cada vez mais agricultores.

A respeito do MATOPIBA, analise as afirmativas a seguir.

- I. É uma região de transição entre o Cerrado e o Semiárido, com condições favoráveis para a agricultura: áreas planas e extensas, solos de alto potencial produtivo, disponibilidade de água, clima favorável com elevada intensidade de sol.
- II. É um grande produtor de *commodities*, com uso intenso de tecnologia (máquinas, colheitadeiras, insumos) e uso reduzido do fator trabalho, assim sendo, o crescimento do produto interno bruto (PIB) aumenta com velocidade, mas a geração de riqueza não é acompanhada, proporcionalmente, por uma melhora na distribuição de renda.
- III. É o maior produtor nacional de soja, pois concentra 90% da área de plantio, sendo também a região com o maior índice de produtividade sustentável de grãos, em função da colaboração do setor do agronegócio com a preservação das unidades de conservação locais.

Está correto o que se afirma em

- (A) I, apenas.
- (B) II, apenas.
- (C) III, apenas.
- (D) I e II, apenas.
- (E) II e III, apenas.

30

Sobre a formação histórica do território que hoje corresponde ao Estado do Tocantins, assinale a afirmativa que descreve corretamente o processo de desbravamento e ocupação da região no Período Colonial.

- (A) No final do século XVI, os primeiros a encontrar a foz do rio Tocantins junto ao Amazonas foram os espanhóis, então instalados no Maranhão para expulsar colonos franceses que haviam fundado a França equinocial.
- (B) Na primeira metade do século XVIII, a bandeira de Bartolomeu Bueno da Silva Filho descobriu ouro nas cabeceiras do rio Vermelho e fundou o Arraial de Sant'Anna, às margens do rio.
- (C) Nos anos de 1730-40 foi encontrado ouro no norte de Goiás, incentivando a fundação de cidades sob a jurisdição de Salvador, como Natividade, Almas, Chapada, Pontal e Porto Real, entre outras.
- (D) O declínio da mineração se acentuou na passagem do século XVIII para o XIX, agravado pela instituição de um novo imposto (capitação), cobrado proporcionalmente ao número de escravos de cada minerador.
- (E) Na segunda década do século XIX, em decorrência da crise da mineração, a região estava em uma situação de abandono, como relatado por Theotônio Segurado, futuro Governador da Capitania do Norte.

## CONHECIMENTOS ESPECÍFICOS

### Noções de Direito Administrativo

31

No âmbito do domínio público, existem relevantes ditames do Código Civil, delimitando o conceito e indicando a classificação dos bens públicos quanto à afetação pública.

Nesse contexto, assinale a opção que indica um exemplo de bem público, com a adequada classificação, pertencente à respectiva pessoa jurídica.

- (A) A sede de uma prefeitura, que é bem de uso especial.
- (B) A sede de uma fundação, que é bem de uso dominical.
- (C) A sede de uma autarquia, que é bem de uso comum do povo.
- (D) A sede de uma assembleia legislativa, que é bem dominical.
- (E) A sede de uma empresa pública, que é bem de uso especial.

32

O Governador do *Estado Delta*, insatisfeito com as decisões que vinham sendo tomadas por dois órgãos colegiados que atuavam na definição, implementação e avaliação de políticas públicas, cujas atribuições estavam delimitadas em lei e contavam com a participação da sociedade civil, fez editar um Decreto que extinguiu os aludidos órgãos, promovendo, assim, a exoneração dos agentes que neles atuavam.

Para o exercício de tais competências, o Chefe do Poder Executivo editou outro Decreto que criou, no lugar daqueles que foram extintos, um único órgão, cujos cargos deveriam ser ocupados por pessoas mais alinhadas com o seu plano de governo.

Sobre o ato do Governador, considerando os contornos do Poder Regulamentar na CRFB/88, assinale a afirmativa correta.

- (A) Promoveu o uso regular do Poder Regulamentar, enquanto instrumento do Poder Disciplinar, na medida em que os órgãos que integram a Administração Pública devem estar alinhados com o respectivo plano de governo.
- (B) Extrapolou os limites do Poder Regulamentar, na medida em que a extinção de órgãos públicos, que tem suas atribuições definidas em lei, não poderia ser objeto de decreto.
- (C) Atuou nos limites do Poder Regulamentar, pois os decretos em questão encontram fundamento na Constituição, que confere ao Chefe do Poder Executivo ampla autonomia para inovar no ordenamento jurídico em matéria de organização administrativa.
- (D) Ultrapassou os limites do Poder Regulamentar, que confere ao Chefe do Executivo apenas a possibilidade de editar decretos para a fiel execução da lei, notadamente porque não há nenhuma hipótese que admita a inovação no ordenamento jurídico por meio de Decreto com fundamento diretamente na Constituição.
- (E) Atuou no regular exercício do Poder Regulamentar, considerando que a Constituição assegura ao Chefe do Executivo a possibilidade de inovar no ordenamento jurídico por meio de decreto sobre os assuntos que sejam de interesse do respectivo Poder, para fins de implementar o plano de governo.

**33**

O *Estado Delta* pretende criar uma sociedade de economia mista para realizar atividade econômica de relevante interesse coletivo, especialmente voltada para promover o incremento de novas tecnologias, além de outras atividades no respectivo setor, que atuará em regime de concorrência.

No âmbito da organização administrativa, é correto afirmar que essa entidade administrativa é uma pessoa jurídica de direito

- (A) privado, criada diretamente pela lei, integrante da Administração Direta, cujo regime jurídico de pessoal é o estatutário.
- (B) público, criada diretamente pela lei, integrante da Administração Indireta, cujo regime jurídico de pessoal é o celetista.
- (C) privado, que atua em colaboração com o Estado e não integra a Administração Pública, cujo regime jurídico de pessoal é o celetista.
- (D) público, criada mediante autorização legislativa, integrante da Administração Direta, cujo regime jurídico de pessoal é o estatutário.
- (E) privado, criada mediante autorização legislativa, integrante da Administração Indireta, cujo regime jurídico de pessoal é o celetista.

**34**

Ao estudar o tema atinente ao ato administrativo, Maya decidiu verificar os exemplos de atos que seriam perfeitos, válidos e ineficazes.

Assinale a opção que apresenta, corretamente, o exemplo que atende àquelas condições.

- (A) A realização de um ato administrativo por servidor incompetente.
- (B) A imediata remoção de servidor, a pedido, para outra lotação.
- (C) A exoneração a pedido de servidor, a contar de data futura.
- (D) A nomeação de servidor para atuar prontamente em comissão disciplinar.
- (E) A aplicação de penalidade de demissão a um servidor público, nas hipóteses previstas em lei, após o devido processo administrativo.

**35**

Após ser investida no cargo de analista da Assembleia Legislativa do *Estado Ômega*, por estar preocupada com a possibilidade de ser pessoalmente responsabilizada na esfera civil perante terceiros, Clézia passou a perquirir as questões atinentes à responsabilidade civil da Administração Pública, notadamente quanto à sua natureza e aos elementos caracterizadores, bem como acerca da possibilidade de ela constar do polo passivo das demandas eventualmente ajuizadas por particulares, em decorrência de prejuízos por ela causados no exercício de suas atribuições.

Nesse contexto, Clézia concluiu corretamente que a responsabilidade civil do Estado pelas condutas de seus agentes

- (A) é subjetiva, tendo por elementos caracterizadores a conduta, o dano e o nexo de causalidade, sendo certo que Clézia não poderia constar do polo passivo de eventual demanda indenizatória ajuizada por particular em decorrência de danos por ela ocasionados no exercício de suas atribuições.
- (B) é objetiva, tendo por elementos caracterizadores a conduta, o dano, o nexo de causalidade e a configuração de dolo ou culpa, sendo certo que Clézia poderia constar do polo passivo de eventual demanda indenizatória ajuizada por particular em decorrência de danos por ela ocasionados no exercício de suas atribuições.
- (C) é subjetiva, tendo por elementos caracterizadores a conduta, o dano, o nexo de causalidade e a configuração de dolo ou culpa, sendo certo que Clézia poderia constar do polo passivo de eventual demanda indenizatória ajuizada por particular em decorrência de danos por ela ocasionados no exercício de suas atribuições.
- (D) é objetiva, tendo por elementos caracterizadores a conduta, o dano e o nexo de causalidade, sendo certo que Clézia não poderia constar do polo passivo de eventual demanda indenizatória ajuizada por particular em decorrência de danos por ela ocasionados no exercício de suas atribuições.
- (E) pode ser objetiva ou subjetiva a depender da gravidade da conduta do agente, tendo por elementos caracterizadores, em qualquer caso, a conduta, o dano, o nexo de causalidade, sendo certo que Clézia poderia constar do polo passivo de eventual demanda indenizatória ajuizada por particular em decorrência de danos por ela ocasionados no exercício de suas atribuições.

## Noções de Direito Constitucional / Direitos Humanos

36

Nos termos do § 3º do Art. 31 da Constituição da República de 1988, “§ 3º As contas dos Municípios ficarão, durante sessenta dias, anualmente, à disposição de qualquer contribuinte, para exame e apreciação, o qual poderá questionar-lhes a legitimidade, nos termos da lei”.

A partir da interpretação da parte destacada do preceito constitucional, obtém-se uma norma de eficácia

- (A) restritivo.
- (B) legítima.
- (C) limitada.
- (D) contida.
- (E) plena.

37

Em uma pequena cidade brasileira, foi praticada uma conduta de grande lesividade social, que rapidamente tomou o noticiário nacional. Para surpresa dos órgãos de segurança pública, essa conduta não era tipificada como crime, o que levou um Deputado Federal a iniciar estudos visando a aprovar uma lei que criminalize esse tipo de prática e ainda punisse o autor da referida conduta, tida como altamente abjeta.

Ao fim de suas reflexões, o Deputado Federal concluiu corretamente que a retroação da futura lei

- (A) somente seria permitida em relação à alteração da pena, quer para agravá-la, quer para atenuá-la, o que não seria o caso, já que a conduta não era penalmente tipificada.
- (B) somente poderia retroagir, quer para prejudicar, quer para beneficiar o autor do ilícito, se fosse aprovada pela maioria de dois terços dos membros do Poder Legislativo.
- (C) irá retroagir, salvo em relação às situações que já tenham sido julgadas, com sentença transitada em julgado.
- (D) não pode retroagir em hipótese alguma, quer para prejudicar, quer para beneficiar o autor do ilícito.
- (E) somente poderia retroagir para beneficiar o autor do ilícito, jamais para prejudicá-lo.

38

Maria, ativista dos direitos humanos, informou a uma amiga que decidira se unir a uma verdadeira “cruzada cívica”, com o objetivo de defender a plena e integral implementação dos direitos sociais previstos na Constituição da República.

Como a amiga de Maria não tinha formação jurídica, decidiu perguntar-lhe qual característica esses direitos teriam, sendo-lhe corretamente informado que

- (A) em regra, exigem a oferta de prestações estatais.
- (B) destinam-se a assegurar a liberdade dos membros da sociedade.
- (C) buscam assegurar a participação da sociedade na formação da vontade política.
- (D) asseguram a proteção da esfera jurídica individual contra investidas dos poderes constituídos.
- (E) somente podem ser usufruídos pela integralidade da sociedade, não por uma pessoa em particular.

39

Maria, filha de Joana, espanhola, e de John, norte-americano, nasceu no território brasileiro quando os seus pais aqui se encontravam a trabalho em uma indústria farmacêutica. Logo após o nascimento, Maria foi levada pelos seus pais para a Argentina.

Na situação descrita na narrativa, considerando os balizamentos estabelecidos pela Constituição brasileira, é correto afirmar que Maria é

- (A) estrangeira, podendo optar pela nacionalidade brasileira ao atingir a maioridade, caso venha a residir no território nacional.
- (B) estrangeira, sem direito reconhecido à obtenção da nacionalidade brasileira.
- (C) estrangeira, podendo optar pela nacionalidade brasileira ao atingir a maioridade.
- (D) brasileira naturalizada.
- (E) brasileira nata.

40

João, por ter sido condenado pela prática de determinado ilícito, foi considerado inelegível. Como tinha efetiva participação na vida política do Município *Alfa*, em cujo território residia, consultou um especialista em relação aos efeitos da referida inelegibilidade.

Foi corretamente informado a João que

- (A) ele perdeu os direitos políticos.
- (B) ele continua podendo votar nas eleições.
- (C) o seu alistamento eleitoral foi cancelado.
- (D) os seus direitos políticos estão suspensos.
- (E) ele está proibido de ocupar qualquer cargo público.

41

Com o objetivo de uniformizar a organização interna e os direitos assegurados à população nos Municípios situados no Estado *Alfa*, iniciou-se um movimento, no âmbito da Assembleia Legislativa, com o objetivo de aprovar a Lei Orgânica a ser adotada por cada um dos referidos entes federativos.

À luz da sistemática constitucional, é correto afirmar, em relação ao referido objetivo, que a Lei Orgânica

- (A) deve ser veiculada em lei ordinária estadual.
- (B) deve ser veiculada em lei complementar estadual.
- (C) somente pode ser aprovada no âmbito de cada Município.
- (D) deve se limitar a estabelecer as normas gerais a serem observadas por cada Município.
- (E) somente pode ser editada pela Assembleia Legislativa se a Constituição Estadual o autorizar.

42

Maria, cidadã brasileira, entendia que os seus Direitos Humanos tinham sido objeto de grave violação por autoridades estatais, o que lhe permitiria invocar a proteção da Convenção Americana sobre Direitos Humanos (Pacto de São José e Decreto nº 678/1992). As autoridades estatais, no entanto, entendiam que tinham agido corretamente à luz da Convenção.

Ao consultar um especialista em relação à possibilidade de acessar os meios de proteção previstos na Convenção, foi corretamente informado a Maria que ela

- (A) tem acesso direto à Corte Interamericana de Direitos Humanos.
- (B) tem acesso direto à Comissão Interamericana de Direitos Humanos.
- (C) somente pode solicitar que o Ministério dos Direitos Humanos submeta o seu caso ao órgão competente da Convenção Interamericana.
- (D) tem acesso direto, conforme a natureza da infração, à Corte Interamericana de Direitos Humanos ou à Comissão Interamericana de Direitos Humanos.
- (E) somente pode solicitar que o órgão competente do Ministério Público brasileiro submeta o seu caso ao alto Comissariado de Tutela Interamericana.

43

Determinado ativista dos direitos humanos afirmou, em um evento, que a Declaração Universal dos Direitos Humanos era totalmente infensa à tortura. Um debatedor, no entanto, insurgiu-se contra essa assertiva sob o argumento de que a Declaração reconhecia que o indivíduo estava inserido no agregado social, logo, o interesse individual nem sempre sobrepujava o coletivo, o que permitia a prática da tortura em situações específicas.

À luz dos termos da referida Declaração, é correto afirmar que

- (A) o indivíduo não pode subsistir sem o social, logo, o debatedor está certo.
- (B) a tortura será admitida, ou não, conforme a natureza do crime a ser apurado.
- (C) a tortura do ser humano nega sua própria condição humana, logo, o ativista está certo;
- (D) a tortura não pode ser admitida quando inexistir indícios de autoria e prova da materialidade.
- (E) a Declaração não é um tratado, mas mera exortação moral, logo, suas disposições são conselhos aos Estados partes, e, entre elas, não está a proscricção da tortura.

## Noções de Direito Penal / Processual Penal

44

A Receita Federal, após denúncia realizada por um consumidor, procedeu à fiscalização do estabelecimento comercial de titularidade de Matheus, ocasião em que diversas irregularidades tributárias foram constatadas.

Muito preocupado, o empresário comentou os eventos com João, amigo de longa data, o qual lhe disse que é próximo de Caio, agente público e auditor da Receita Federal responsável pelo procedimento administrativo deflagrado em desfavor de Matheus. Em assim sendo, João solicitou ao empresário a entrega de cinco mil reais, a pretexto de influir na decisão que será tomada por Caio no procedimento administrativo que está em andamento.

Nesse cenário, considerando as disposições do Código Penal, é correto afirmar que João responderá pela prática do crime de

- (A) advocacia administrativa.
- (B) exploração de prestígio.
- (C) favorecimento pessoal.
- (D) tráfico de influência.
- (E) corrupção passiva.

45

João e José, em comunhão de ações e desígnios, aproximaram-se de Maria, que aguardava, no interior do seu automóvel, o sinal de trânsito abrir. Em assim sendo, os agentes bateram na janela do veículo e determinaram que a vítima entregasse os seus pertences, sob ameaça de morte.

Após subtraírem o telefone celular e o relógio da ofendida, os autores do delito tentaram se evadir, mas foram alcançados, cem metros à frente, por policiais militares que passavam pela região, sendo capturados em flagrante.

Nesse cenário, considerando as disposições do Código Penal, assinale a opção que indica o crime pelo qual João e José responderão.

- (A) Roubo circunstanciado pelo concurso de pessoas, na modalidade consumada.
- (B) Extorsão qualificada pelo concurso de pessoas, na modalidade consumada.
- (C) Roubo simples, na modalidade consumada.
- (D) Extorsão simples, na modalidade tentada.
- (E) Roubo simples, na modalidade tentada.

46

João, após iniciar o estágio junto à 1ª Vara Criminal da Comarca Alfa, passou a se dedicar ao estudo do Direito Penal, para melhor desempenhar as suas funções laborais.

Assim, João, ao estudar uma determinada infração penal citada pela Constituição Federal, verificou que se tratava de um crime inafiançável e imprescritível, sujeito à pena de reclusão, nos termos da lei.

Nesse cenário, considerando as disposições constitucionais aplicáveis ao Direito Penal, é correto afirmar que José pode ter estudado os detalhes do crime de

- (A) tráfico ilícito de entorpecentes e drogas afins.
- (B) terrorismo.
- (C) homicídio.
- (D) racismo.
- (E) tortura.

47

Daniel, com 19 anos, teve relações sexuais consentidas com Joana, a qual, à época dos fatos, tinha 13 anos de idade.

Durante as investigações deflagradas contra Daniel, para apurar a suposta prática do crime de estupro de vulnerável, o agente afirmou e comprovou que conheceu Joana em uma boate – exclusiva para maiores de idade –, sendo certo que a adolescente ingressou no local portando uma carteira de identidade falsa. Daniel comprovou, ainda, que desconhecia, por completo, a idade da mulher, que aparentava, para todos, ser maior, em razão de sua compleição física apresentada.

Nesse cenário, considerando as disposições do Direito Penal, é correto afirmar que Daniel **não** responderá por qualquer crime, em razão do erro de

- (A) proibição indireto.
- (B) tipo incriminador.
- (C) proibição direto.
- (D) tipo permissivo.
- (E) mandamento.

48

João aproximou-se de três senhoras que caminhavam tranquilamente por uma praça do Município *Alfa*, e determinou que cada uma delas entregasse o telefone celular e o relógio, mediante grave ameaça, consubstanciada no emprego de arma de fogo. Em seguida, o agente logrou se evadir na posse dos diversos pertences de propriedade das vítimas. Durante as investigações, verificou-se que João praticou os três delitos mediante uma única ação, mas sem que existissem desígnios autônomos.

Nesse cenário, considerando as disposições do Código Penal, é correto afirmar que João responderá pelos crimes perpetrados em

- (A) continuidade delitiva, pois o agente, mediante uma só ação, praticou três crimes, sendo-lhe aplicável a menos grave das penas cabíveis ou, se iguais, somente uma delas, mas aumentada, em qualquer caso, de um quarto.
- (B) continuidade delitiva, pois o agente, mediante uma só ação, praticou três crimes, sendo-lhe aplicável a mais grave das penas cabíveis ou, se iguais, somente uma delas, mas aumentada, em qualquer caso, de um quinto.
- (C) concurso material, pois o agente, mediante uma só ação, praticou três crimes, sendo-lhe aplicável a mais grave das penas cabíveis ou, se iguais, somente uma delas, mas aumentada, em qualquer caso, de um quinto.
- (D) concurso formal, pois o agente, mediante uma só ação, praticou três crimes, sendo-lhe aplicável a menos grave das penas cabíveis ou, se iguais, somente uma delas, mas aumentada, em qualquer caso, de um quarto.
- (E) concurso formal, pois o agente, mediante uma só ação, praticou três crimes, sendo-lhe aplicável a mais grave das penas cabíveis ou, se iguais, somente uma delas, mas aumentada, em qualquer caso, de um quinto.

49

João responde, perante o Juizado Especial Criminal da Comarca *Alfa*, pela prática do crime de porte de drogas para consumo pessoal (Art. 28 da Lei nº 11.343/2006), por ter sido encontrado com cinco gramas de *cannabis sativa L.*, popularmente conhecida como maconha. Nada obstante, no curso da persecução penal, o Congresso Nacional editou uma legislação descriminalizando a conduta perpetrada pelo agente.

Nesse cenário hipotético, considerando as disposições do Código Penal, é correto afirmar que haverá a extinção de punibilidade em razão do(a)

- (A) *abolitio criminis*.
- (B) perempção.
- (C) indulto.
- (D) anistia.
- (E) graça.

50

Matheus, Delegado de Polícia, tomou conhecimento de dois fatos criminosos que ocorreram na cidade em que atua, quais sejam:

- i) Joana, após ser ameaçada de morte pelo marido, no contexto de violência doméstica e familiar contra a mulher, se dirigiu à Delegacia de Polícia e representou criminalmente contra o agente;
- ii) João, maior e capaz, após ser vítima de um crime de estelionato, compareceu à unidade policial e demonstrou o interesse na deflagração de investigação em face do suposto autor do fato. Nada obstante, após alguns dias, Joana e João demonstraram o interesse em se retratar da representação que fora anteriormente oferecida.

Nesse cenário, considerando as disposições do Código de Processo Penal e da Lei nº 11.340/2006, assinale a afirmativa correta.

- (A) Joana poderá se retratar da representação antes do recebimento da denúncia. Por sua vez, João somente poderá se retratar antes do oferecimento da denúncia.
- (B) Joana poderá se retratar da representação antes do oferecimento da denúncia. Por sua vez, João somente poderá se retratar antes do recebimento da denúncia.
- (C) Joana não poderá se retratar da representação oferecida. Por sua vez, João somente poderá se retratar antes do oferecimento da denúncia.
- (D) Joana e João poderão se retratar da representação antes do recebimento da denúncia.
- (E) Joana e João não poderão se retratar da representação oferecida.

51

João se dirigiu à Delegacia de Polícia do Município *Alfa*, no Estado *Beta*, comunicando à autoridade policial o crime – perseguível mediante ação penal pública incondicionada, – que José, um colega de trabalho, teria praticado em seu desfavor. Contudo, a vítima não soube indicar o lugar da infração penal.

Nesse cenário, considerando as disposições do Código de Processo Penal, como não é conhecido o lugar da infração, o processo e o julgamento do feito ocorrerá na Comarca do(a)

- (A) domicílio ou da residência da vítima ou do domicílio ou residência do réu, à escolha de João.
- (B) domicílio ou da residência da vítima.
- (C) domicílio ou da residência do réu.
- (D) capital do Estado *Beta*.
- (E) Município *Alfa*.

52

No curso de um processo penal que apurou o suposto delito de latrocínio consumado, o juiz competente, após requerimento do Ministério Público, decretou a prisão preventiva de José, suposto autor dos fatos.

Após o cumprimento do mandado de prisão, o advogado de José compareceu ao presídio, ocasião em que as partes conversaram sobre os regramentos aplicáveis à prisão preventiva.

Nesse cenário, considerando as disposições do Código de Processo Penal, assinale a afirmativa correta.

- (A) A legislação não estabelece o prazo máximo de duração da prisão preventiva, mas o juízo deverá revisar a necessidade de sua manutenção a cada sessenta dias, mediante decisão fundamentada, sob pena de tornar a prisão ilegal.
- (B) A decretação da prisão preventiva, com a finalidade de antecipação de cumprimento de pena ou como decorrência imediata de investigação criminal ou da apresentação ou recebimento de denúncia, não será admitida.
- (C) O juiz poderá, a pedido das partes, revogar a prisão preventiva se, no correr do processo, verificar a falta de motivo para que ela subsista, vedando-se a atuação de ofício, em homenagem ao sistema acusatório.
- (D) A decisão que decretar a prisão preventiva será sempre motivada e fundamentada, sendo suficiente, para tanto, a indicação de ato normativo, ainda que não se explique a sua relação com a causa.
- (E) O juiz poderá substituir a prisão preventiva pela domiciliar quando o agente for homem, caso seja o único responsável pelos cuidados do filho de até treze anos de idade incompletos.

53

João, Delegado de Polícia, preside inquérito policial deflagrado para apurar suposto delito perpetrado por Fábio.

Durante a tramitação do procedimento administrativo, o agente público constatou que a prisão temporária é essencial para garantir o sucesso das investigações, sendo certo que há fundadas razões que apontam Fábio como o autor do crime investigado.

Nesse cenário, considerando as disposições da Lei nº 7.960/1989, é correto afirmar que o inquérito policial presidido por João versa sobre o crime de

- (A) furto qualificado pelo concurso de pessoas.
- (B) falsificação de documento público.
- (C) sequestro simples.
- (D) corrupção passiva.
- (E) concussão.

54

Após ser capturado em flagrante pela suposta prática do crime de furto simples, João, primário e portador de bons antecedentes, passou por audiência de custódia, obtendo o direito de responder ao processo em liberdade. Em seguida, o Ministério Público ofereceu denúncia em detrimento do autor do delito e propôs a suspensão condicional do processo. Em assim sendo, João conversou com seu advogado sobre a proposta do *Parquet*.

Nesse cenário, considerando as disposições da Lei nº 9.099/1995, assinale a afirmativa correta.

- (A) A suspensão será revogada, a critério do Ministério Público, se o acusado vier a ser processado, no curso do prazo, por contravenção, ou descumprir qualquer outra condição imposta.
- (B) A suspensão poderá ser revogada se, no período de prova, o beneficiário vier a ser processado por outro crime ou não efetuar, sem motivo justificado, a reparação do dano.
- (C) O juiz poderá especificar outras condições a que fica subordinada a suspensão, desde que adequadas ao fato e à situação pessoal do acusado.
- (D) A proposta pelo acusado e seu defensor sendo aceita, na presença do juiz, este suspenderá o processo por um a dois anos.
- (E) A prescrição da pretensão punitiva estatal correrá durante o prazo de suspensão condicional do processo.

55

No curso de uma persecução penal deflagrada para apurar um suposto crime de roubo circunstanciado pelo emprego de arma de fogo, procedeu-se à oitiva, em juízo, de João e Maria (vítimas), de José (testemunha de acusação), de Joana (testemunha de defesa), passando-se, na sequência, ao interrogatório do acusado Otávio. O juiz verificou, então, que algumas das pessoas ouvidas divergiram, em suas declarações, sobre fatos e circunstâncias relevantes.

Nesse cenário, considerando as disposições do Código de Processo Penal, é correto afirmar que a acareação poderá ser realizada entre

- (A) acusado e testemunha, entre testemunhas, entre acusado ou testemunha e a pessoa ofendida, e entre as pessoas ofendidas, apenas.
- (B) testemunhas, entre testemunha e a pessoa ofendida, e entre as pessoas ofendidas, apenas.
- (C) acusado e testemunha, entre testemunhas, entre acusado ou testemunha, apenas.
- (D) testemunhas, entre testemunha e a pessoa ofendida, apenas.
- (E) testemunhas, apenas.



## Conhecimentos na Área de Atuação

56

De acordo com a Lei nº 9.883/1999, o Sistema Brasileiro de Inteligência tem como fundamentos a preservação da soberania nacional, a defesa do Estado Democrático de Direito e a dignidade da pessoa humana, devendo ainda cumprir e preservar os direitos e garantias individuais e demais dispositivos da Constituição Federal, os tratados, convenções, acordos e ajustes internacionais em que a República Federativa do Brasil seja parte ou signatário, e a legislação ordinária.

Nesse cenário, considerando as disposições da Lei nº 9.883/1999, que institui o Sistema Brasileiro de Inteligência e cria a Agência Brasileira de Inteligência (ABIN), é correto afirmar que

- (A) a execução da Política Nacional de Inteligência, fixada pelo Presidente da República, será levada a efeito pela Agência Brasileira de Inteligência (ABIN), sob a supervisão do Ministério da Justiça e Segurança Pública.
- (B) a elaboração e edição do regimento interno da Agência Brasileira de Inteligência ABIN serão de responsabilidade de seu Diretor-Geral, que o submeterá à aprovação do Ministro da Justiça e da Segurança Pública.
- (C) o controle e fiscalização externos da atividade de inteligência serão exercidos pelo Ministério Público, na forma a ser estabelecida em ato do Conselho Nacional do Ministério Público.
- (D) os atos da Agência Brasileira de Inteligência (ABIN), cuja publicidade possa comprometer o êxito de suas atividades sigilosas, deverão permanecer por sigilo de, no mínimo, cinco anos.
- (E) a Agência Brasileira de Inteligência (ABIN) será dirigida por um Diretor-Geral, cujas funções serão estabelecidas no decreto que aprovar a sua estrutura organizacional.

57

A Norma Regulamentadora nº 23 estabelece medidas de prevenção contra incêndios nos ambientes de trabalho, aplicando-se aos estabelecimentos e locais de trabalho.

Nesse cenário, considerando as disposições da Norma Regulamentadora nº 23, é **incorreto** afirmar que

- (A) as aberturas, saídas e vias de passagem de emergência devem ser identificadas e sinalizadas de acordo com a legislação estadual e, quando aplicável, de forma complementar, com as normas técnicas oficiais, indicando a direção da saída.
- (B) os locais de trabalho devem dispor de, ao menos, três saídas de emergência, dispostas de modo que aqueles que se encontrem nesses locais possam abandoná-los com rapidez e segurança em caso de emergência.
- (C) as saídas de emergência podem ser equipadas com dispositivos de travamento que permitam fácil abertura do interior do estabelecimento.
- (D) nenhuma saída de emergência deve ser fechada à chave ou presa durante a jornada de trabalho.
- (E) as aberturas, saídas e vias de passagem devem ser mantidas desobstruídas.

58

João, particular, conduzia o seu veículo automotor pela BR nº 101, ocasião em que o carro desligou, por falta de combustível, prejudicando sobremaneira o trânsito na localidade.

Nesse cenário, considerando as disposições do Código de Trânsito Brasileiro, é correto afirmar que restou caracterizada uma infração administrativa

- (A) gravíssima, sujeitando João à penalidade de suspensão do direito de dirigir e à medida administrativa de remoção do veículo.
- (B) gravíssima, sujeitando João à penalidade de proibição do direito de dirigir e à medida administrativa de remoção do veículo.
- (C) grave, sujeitando João à penalidade de suspensão do direito de dirigir e à medida administrativa de remoção do veículo.
- (D) média, sujeitando João à penalidade de multa e à medida administrativa de remoção do veículo.
- (E) leve, sujeitando João à penalidade de multa e à medida administrativa de remoção do veículo.

59

Há certos princípios básicos para o uso da força pela autoridade policial, entre eles os da legalidade, da necessidade, da proporcionalidade e o da conveniência.

Acerca desses princípios, avalie as seguintes afirmativas:

- I. Legalidade: o uso da força é permitido apenas para atingir um objetivo legítimo,
- II. Necessidade: o uso da força somente deve ocorrer quando outros meios forem ineficazes para atingir o objetivo desejado.
- III. Proporcionalidade: o uso da força deve ser usado de forma proporcional à resistência oferecida, levando-se em conta os meios dos quais o policial dispõe.
- IV. Conveniência: mesmo sendo legal, necessário e proporcional o uso da força, é preciso observar se ele não coloca em risco outras pessoas e se é razoável e de bom-senso lançar mão desse meio.

Estão corretas as afirmativas

- (A) I e II, apenas.
- (B) III e IV, apenas.
- (C) I, II e III, apenas.
- (D) II, III e IV, apenas.
- (E) I, II, III e IV.

60

O Art. 100 do Regimento Interno da Assembleia Legislativa do Tocantins define e diz respeito às proposições legislativas.

Em relação às tais proposições, avalie se as afirmativas a seguir são verdadeiras (V) ou falsas (F).

- ( ) Proposição é toda matéria sujeita à deliberação da Assembleia.
- ( ) As proposições podem consistir, entre outras, em emendas à Constituição do Estado, projetos de lei e projetos de resolução.
- ( ) Nenhuma proposição poderá conter matéria estranha ao enunciado objetivamente declarado na ementa ou dele decorrente.

As afirmativas são, respectivamente,

- (A) V – V – V.
- (B) V – V – F.
- (C) F – V – F.
- (D) V – F – V.
- (E) V – F – F.



# ASSEMBLEIA LEGISLATIVA DO ESTADO DO TOCANTINS

CONCURSO PÚBLICO – EDITAL Nº 01/2023

## PROVA OBJETIVA – MANHÃ

### POLICIAL LEGISLATIVO II POLÍCIA E SEGURANÇA II

NÍVEL MÉDIO – TIPO 2 – VERDE



#### SUA PROVA

- Além deste caderno contendo **60 (sessenta)** questões objetivas, você receberá do fiscal de prova o cartão de respostas;
- As questões objetivas têm **5 (cinco)** opções de resposta (A, B, C, D) e somente uma delas está correta.



#### TEMPO

- Você dispõe de **4 (quatro) horas** para a realização da prova, já incluído o tempo para a marcação do cartão de respostas;
- **3 (três) horas** após o início da prova, é possível retirar-se da sala, sem levar o caderno de questões;
- A partir dos **30 (trinta) minutos** anteriores ao término da prova é possível retirar-se da sala **levando o caderno de questões**.



#### NÃO SERÁ PERMITIDO

- Qualquer tipo de comunicação entre os candidatos durante a aplicação da prova;
- Anotar informações relativas às respostas em qualquer outro meio que não seja o caderno de questões;
- Levantar da cadeira sem autorização do fiscal de sala;
- Usar o sanitário ao término da prova, após deixar a sala.



#### INFORMAÇÕES GERAIS

- Verifique se seu caderno de questões está completo, sem repetição de questões ou falhas. Caso contrário, **notifique imediatamente o fiscal da sala**, para que sejam tomadas as devidas providências;
- Confira seus dados pessoais, especialmente nome, número de inscrição e documento de identidade e leia atentamente as instruções para preencher o cartão de respostas;
- Para o preenchimento do cartão de respostas, use somente caneta esferográfica, fabricada em material transparente, com tinta preta ou azul;
- Assine seu nome apenas no(s) espaço(s) reservado(s) no cartão de respostas;
- Confira seu cargo, cor e tipo do caderno de questões. Caso tenha recebido caderno de cargo ou cor ou tipo **diferente** do impresso em seu cartão de respostas, o fiscal deve ser **obrigatoriamente** informado para o devido registro na ata da sala;
- Reserve tempo suficiente para o preenchimento do seu cartão de respostas. O preenchimento é de sua responsabilidade e **não será permitida a troca do cartão de respostas em caso de erro cometido pelo candidato**;
- Para fins de avaliação, serão levadas em consideração apenas as marcações realizadas no cartão de respostas;
- A FGV coletará as impressões digitais dos candidatos na lista de presença;
- Os candidatos serão submetidos ao sistema de detecção de metais quando do ingresso e da saída de sanitários durante a realização das provas.
- **Boa prova!**

## CONHECIMENTOS BÁSICOS

### Língua Portuguesa

1

Assinale a opção que apresenta a frase em que houve **erro** de concordância da palavra sublinhada.

- (A) O presidente fez questão de deixar bem claras as suas intenções.
- (B) O STF qualificou de antidemocrático aqueles atos.
- (C) O governo chinês torna visíveis os erros das ditaduras.
- (D) Os enfermeiros tiveram reconhecidos os direitos de greve.
- (E) Tomei emprestados à biblioteca vários livros.

2

Assinale a opção que apresenta as duas palavras que devem ser grafadas com **es** e não com **ex**.

- (A) Excremento / expurgo.
- (B) Excusar / espontâneo.
- (C) Excomungar / expressar.
- (D) Extirpar / extorquir.
- (E) Exterminar / extremoso.

3

Leia o seguinte texto de um jornal de outros tempos:

*“Mudança nas moedas. A partir de junho começam a entrar em circulação as moedas de Cr\$100 e Cr\$500 substituindo as cédulas que trazem estampadas a poetisa Cecília Meireles e o naturalista Augusto Ruschi, respectivamente. O lançamento das moedas foi aprovado na reunião de ontem do Conselho Monetário Nacional, colocando fim à família de notas criadas no governo Sarney, sob a égide dos cruzados novos.”*

Sobre esse fragmento textual, analise as observações a seguir, feitas por um estudioso de nossa Língua, e assinale a correta.

- (A) “Começam a entrar em circulação” é bastante estranho, porque as moedas, pequenas que são e de pequeno valor, “entram” logo.
- (B) “trazem estampadas a poetisa Cecília Meireles e o naturalista Augusto Ruschi”, mas eu pensava que as moedas trazem estampadas as efígies de Fulano ou Beltrano.
- (C) “colocando fim à família” mostra o emprego inadequado de “colocar” em lugar de “pôr”.
- (D) “criadas”, por questão de clareza e precisão, devia ser substituído por “lançadas” ou “emitidas”.
- (E) “sob”, por questão de correção gramatical, deve ser substituído por “sobre”.

4

As frases a seguir mostram uma locução adjetiva introduzida pela preposição **sem**; assinale a opção em que a substituição dessa locução por um adjetivo de valor equivalente foi feita de forma adequada.

- (A) Cartas sem autoria declarada são sempre mal recebidas / desautorizadas.
- (B) Os poços sem água são de pouca serventia para a lavoura / áridos.
- (C) Foram deixados muitos problemas sem solução / insolúveis.
- (D) O governo tomou muitas atitudes sem nexos / desconexas.
- (E) Com os fogos de artifício, o campo ficou sem visão / invisível.

5

Leia o fragmento a seguir.

*“Não somos daqueles que só em meio aos livros, estimulados por livros vêm a ter pensamentos – é nosso hábito pensar ao ar livre, andando, saltando, escalando, dançando, preferivelmente em montes solitários ou próximos ao mar, onde mesmo as trilhas se tornam pensativas.”* (Nietzsche, filósofo alemão).

Sobre o significado desse fragmento, assinale a afirmativa correta.

- (A) A leitura é importante para a criação de ideias originais.
- (B) As formas de gerúndio mostram a evolução cronológica das ações narradas pelo escritor.
- (C) O pronome relativo “onde” refere-se a locais ao ar livre.
- (D) A forma do verbo “tornar-se”, como verbo de ligação, indica um estado transitório.
- (E) Os ambientes solitários propiciam reflexões de valor.

6

As frases a seguir mostram termos repetidos; assinale a opção que apresenta a frase em que o significado dos dois termos **não** é o mesmo.

- (A) Morrer é mudar de corpo como o ator muda de roupa.
- (B) Janeiro é o mês que se fazem bons votos aos amigos; os outros são os meses em que esses votos não se concretizam.
- (C) Quem tempo espera, muito tempo consome.
- (D) A falsidade da História é tão velha como a própria História.
- (E) Viva todos os dias como se fosse o último. Um dia você acerta.

7

As opções a seguir mostram, corretamente, a substituição da forma sublinhada, composta de **não + verbo**, por um só verbo, de sentido equivalente, **à exceção de uma**. Assinale-a.

- (A) Os países da OTAN pediram que o exército russo não avançasse esta semana. / *parasse*.
- (B) O deputado informou que não dispunha de tempo para redigir uma nova versão do projeto. / *carecia*.
- (C) O Presidente não aceitou o convite para visitar a Alemanha. / *declinou do*.
- (D) Não abriu as portas do museu para evitar a curiosidade do público. / *fechou*.
- (E) Por seus futuros compromissos, preferia não gastar dinheiro / *economizar*.

8

As citações a seguir são compostas por dois segmentos; assinale a opção em que a **relação lógica** indicada pelo segundo segmento está correta.

- (A) Dize-me o que crês ser / e te direi o que não és. – relação de oposição.
- (B) Quem crê é forte / quem duvida é fraco. – relação de conclusão.
- (C) Seja lá por que um homem reza, / ele reza por um milagre. – relação de explicação.
- (D) Não adianta esperar que o navio chegue / se você não o mandou para lugar nenhum. – relação de causa.
- (E) Pense como um homem de ação / e aja como um pensador. – relação de conclusão.

9

Os textos a seguir mostram elementos de coesão em relação ao termo sublinhado; assinale a opção em que todos os termos seguintes, em coesão com ele, estão indicados.

- (A) Geralmente, entre nossos motivos de agir, há um mais forte que os demais: aquele que não é declarado. – *um, os demais, aquele, que.*
- (B) O que empobrece o homem não são seus atos, mas os desejos que ele possui. – *ele.*
- (C) O dinheiro, recebem-no todos os que trabalham e o perdem todos os irresponsáveis. – *no, que, o.*
- (D) Qual pode ser a vida que começa pelos gritos da mãe, que a dá, e o choro do filho que a recebe? – *que, que, a.*
- (E) Meu filho! Deus te enviou a este mundo. Cultiva-o e não te apresses em sair dele. – *o.*

10

As perguntas a seguir apresentam o pronome pessoal oblíquo em ênclise (após o verbo); assinale a que mostra formulação incorreta, porque só admite próclise.

- (A) Os dois bandidos evadiram-se do presídio em Mossoró?
- (B) Onde podemos vê-los?
- (C) Eles dedicar-se-iam às tarefas com prazer.
- (D) Numa entrevista como esta, isto pergunta-se?
- (E) Quem dir-me-á tantas barbaridades, senão ele?

## Raciocínio Lógico Matemático

11

Para pagar um lanche, Temístocles usou uma nota de R\$20,00 e recebeu, de troco, uma nota de R\$5,00, duas notas de R\$2,00, nove moedas de R\$0,50 e 3 moedas de R\$0,25.

O lanche custou a Temístocles

- (A) R\$5,25.
- (B) R\$5,75.
- (C) R\$6,25.
- (D) R\$6,75.
- (E) R\$7,25.

12

Dois números diferentes serão escolhidos ao acaso entre os elementos do conjunto {5,7,9,11,14}.

A soma dos números escolhidos

- (A) certamente é ímpar.
- (B) certamente é par.
- (C) pode ser 26.
- (D) pode ser 18.
- (E) pode ser menor que 12.

13

Em um jogo, duas fichas azuis têm o mesmo valor de cinco fichas vermelhas e uma ficha preta vale o mesmo que três fichas azuis.

Assim, duas fichas pretas equivalem a

- (A) sete fichas vermelhas.
- (B) oito fichas vermelhas.
- (C) nove fichas vermelhas.
- (D) doze fichas vermelhas.
- (E) quinze fichas vermelhas.

14

Sabe-se que 20% de  $N$  é igual a 13,4. Logo, 90% de  $N$  é igual a

- (A) 59,6.
- (B) 60,3.
- (C) 61,2.
- (D) 62,5.
- (E) 63,2.

15

Marcelo é filho de Alberto. Pedro é filho de Luiz. Se Marcelo e Luiz são irmãos por parte de pai, então

- (A) Alberto é pai de Pedro.
- (B) Alberto é tio de Pedro.
- (C) Pedro é irmão de Marcelo.
- (D) Pedro é sobrinho de Marcelo.
- (E) Pedro é neto de Marcelo.

16

A seguir, são apresentados os 9 primeiros termos de uma sequência infinita de números inteiros.

13, 12, 14, 11, 15, 10, 16, 9, 17, ...

Os termos são, alternadamente, maiores e menores que seus antecessores imediatos, seguindo um padrão de construção.

Sabendo-se que esse padrão é mantido ao longo de toda a sequência, conclui-se que um termo negativo aparecerá pela primeira vez na

- (A) 28ª posição.
- (B) 27ª posição.
- (C) 26ª posição.
- (D) 15ª posição.
- (E) 14ª posição.

## Noções de Informática

17

Nos sistemas operacionais Microsoft Windows 10, o recurso “Executar” permite aos usuários abrir rapidamente programas, pastas, documentos e recursos do sistema, ao digitar o caminho completo ou o nome do item.

Assinale a opção que apresenta a combinação de teclas usada para abrir a caixa de diálogo “Executar”.

- (A) Windows + E
- (B) Windows + I
- (C) Windows + K
- (D) Windows + L
- (E) Windows + R

18

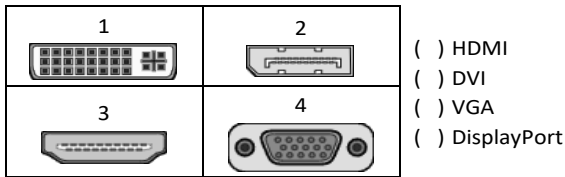
No contexto dos sistemas operacionais Microsoft Windows, o Painel de Controle é uma área central para gerenciar as configurações do sistema, opções de personalização e outros.

Considerando as versões superiores ao Windows 7, assinale a opção que não indica uma funcionalidade encontrada no painel de controle.

- (A) Backup e Restauração.
- (B) Relógio e Região.
- (C) Hardware e Sons.
- (D) Contas de Usuário.
- (E) Configuração de Registro Avançadas.

19

No contexto das interfaces para vídeo, relacione as portas às suas respectivas tecnologias.



Assinale a opção que indica a relação correta, segundo a ordem apresentada.

- (A) 2 – 3 – 1 – 4.  
 (B) 2 – 4 – 1 – 3.  
 (C) 3 – 2 – 1 – 4.  
 (D) 3 – 1 – 4 – 2.  
 (E) 4 – 2 – 3 – 1.

20

Em uma pequena empresa, durante uma tentativa de realizar uma manutenção de rotina nos servidores ao final do expediente, José, um funcionário recém-contratado, com pouca experiência em TI, desliga um servidor que está rodando um serviço de DHCP. No dia seguinte, os usuários começam a reportar problemas.

Considerando que todas as estações de trabalho com sistema operacional Windows estavam utilizando o servidor DHCP, assinale a opção que indica o que os usuários reportaram.

- (A) As estações de trabalho não estão ligando, pois dependem do servidor DHCP.  
 (B) Havia lentidão na conexão com a internet.  
 (C) Perda de acesso à internet, enquanto o acesso à rede local entre as estações de trabalho permaneceu possível.  
 (D) Interrupção do serviço de *e-mail*; os demais serviços funcionavam.  
 (E) Impressão em rede local não funcionava, mas a internet estava acessível.

21

Sobre a inserção de tabelas no Microsoft Word 2019 em português, analise as afirmativas a seguir.

- I. As tabelas admitem diferentes estilos de borda, cores de preenchimento e fontes, para melhorar sua apresentação visual.  
 II. Ao inserir uma tabela, é possível definir o número de linhas e colunas antes de criá-la, no entanto, não é possível alterar a estrutura após a inserção.  
 III. As tabelas podem ser inseridas apenas no início de um documento e não podem ser movidas para outras partes do texto.

Está correto o que se afirma em

- (A) I, apenas.  
 (B) I e II, apenas.  
 (C) II e III, apenas.  
 (D) I e III, apenas.  
 (E) I, II e III.

22

Em uma planilha Microsoft Excel 2019 em português do Brasil, há um conjunto de dados com vendas listadas na coluna B.

Por meio da funcionalidade de Formatação Condicional, a seguinte função pode ser usada para destacar os 10% dos principais valores de vendas com preenchimento verde:

- (A) PERCENTIL.  
 (B) MAXIMO.  
 (C) SOMASES.  
 (D) CONT.SE.  
 (E) ABS.

## Legislação Institucional

23

Luiz, servidor público efetivo, encontra-se em estágio probatório e, nesse período, tem sido submetido a Avaliações Especiais de Desempenho.

Nos termos da Lei nº 4.208/2023, que cuida do plano de cargos, carreiras e remuneração dos Servidores da Assembleia Legislativa de Tocantins, assinale a afirmativa correta.

- (A) A Avaliação Especial de Desempenho dá-se em três etapas, que tem por base o acompanhamento trimestral do servidor.  
 (B) O resultado da avaliação será levado ao conhecimento do avaliado e arquivado em caráter público.  
 (C) O servidor, para ser aprovado, deverá obter média igual ou superior a 60% (sessenta por cento) dos pontos possíveis nas Avaliações Especiais de Desempenho.  
 (D) O servidor, caso aprovado no estágio probatório, será imediatamente elevado para a classe seguinte do padrão inicial do seu cargo.  
 (E) O servidor deve ser avaliado pelo chefe imediato.

24

João, eleito Deputado Estadual, foi diplomado, mas ainda não tomou posse.

À luz da Constituição do Estado do Tocantins, João não poderá

- (A) exercer cargo em uma empresa concessionária de serviço público.  
 (B) ser diretor de uma empresa que goze de favor decorrente de contrato com pessoa jurídica de direito público.  
 (C) patrocinar uma causa em que seja interessada uma autarquia.  
 (D) manter contrato com uma pessoa jurídica de direito privado.  
 (E) ser titular de mais de um cargo ou de mandato público eletivo.

25

Considerando o que dispõe o Regimento Interno da Assembleia Legislativa de Tocantins a respeito das Comissões, assinale a afirmativa correta.

- (A) A Comissão de Constituição, Justiça e Redação tem poderes de investigação próprios das autoridades judiciais.  
 (B) As Comissões Especiais não podem ser constituídas para investigação sumária de fato determinado.  
 (C) A Comissão de Segurança Pública compete analisar questões ligadas à violência urbana e rural.  
 (D) As Comissões de Representação devem ser aprovadas pela maioria absoluta do Plenário da Assembleia.  
 (E) A Comissão Parlamentar de Inquérito poderá deslocar-se para qualquer ponto do território estadual para a realização de investigações e audiências públicas.

26

Joaquim é servidor estadual estável, detentor de cargo efetivo e aposentado voluntariamente. Depois de dois anos de sua aposentadoria, Joaquim manifestou interesse, perante a Administração, de retornar à atividade em que era estável.

Caso haja cargo vago disponível, conforme a Lei nº 1818/2017, que dispõe sobre o Estatuto dos Servidores Públicos Civis do Estado do Tocantins, assinale a modalidade de provimento adequada ao caso.

- (A) Aproveitamento.
- (B) Reversão.
- (C) Readaptação.
- (D) Reintegração.
- (E) Recondução.

## História e Geografia do Estado de Tocantins

27

O Estado do Tocantins situa-se em uma zona de transição que apresenta dois tipos de vegetação: a Floresta Ombrófila e a Savana, pertencentes, respectivamente, aos biomas

- (A) Amazônia e Cerrado.
- (B) Mata Atlântica e Pampa.
- (C) Caatinga e Mata Atlântica.
- (D) Amazônia e Caatinga.
- (E) Cerrado e Pantanal.

28



As bonecas Ritxoko são figuras de cerâmica confeccionadas por mulheres indígenas da etnia Karajá, do estado do Tocantins. Feitas a partir da mistura de argila e água, as peças representam tanto a forma humana e seus ciclos de vida quanto elementos da fauna e do sobrenatural. A pigmentação vermelha é extraída do urucum, enquanto a preta é retirada de uma árvore chamada ixarurina. As bonecas são usadas como instrumentos de socialização das crianças que se veem nesses objetos e aprendem a ser Karajá, recebendo ensinamentos e aprendendo as técnicas e saberes associados à sua confecção e usos. A pintura e a decoração das cerâmicas estão associadas à pintura corporal dos Karajá e às peças de vestuário e adorno.

Adaptado de <https://www.gov.br/funai>

Com base no trecho, é correto afirmar que as bonecas Ritxoko são um patrimônio

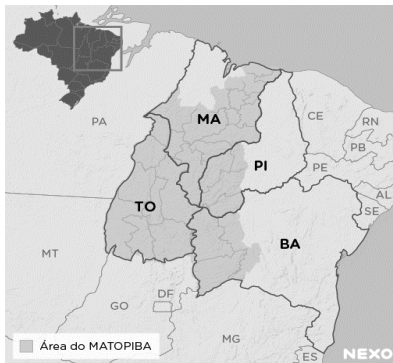
- (A) da humanidade, uma vez que constituem bens culturais e naturais significativos para todas as culturas, sendo contempladas como referência estética para todos os povos.
- (B) histórico nacional, pois exemplificam a riqueza dos modos de fazer e das formas de expressão que envolvem a tradição dos Karajás no Brasil.
- (C) cultural brasileiro, uma vez que são consideradas representações culturais com significados sociais e identitários profundos.
- (D) imaterial mundial, já que sua feitura envolve processos abstratos criativos de elaboração e variação de formas e grafismos.
- (E) material tocantinense, por expressar a arte, a memória e a identidade das comunidades indígenas da Ilha do Bananal, no Tocantins.

29

Sobre a formação histórica do território que hoje corresponde ao Estado do Tocantins, assinale a afirmativa que descreve corretamente o processo de desbravamento e ocupação da região no Período Colonial.

- (A) No final do século XVI, os primeiros a encontrar a foz do rio Tocantins junto ao Amazonas foram os espanhóis, então instalados no Maranhão para expulsar colonos franceses que haviam fundado a França equinocial.
- (B) Na primeira metade do século XVIII, a bandeira de Bartolomeu Bueno da Silva Filho descobriu ouro nas cabeceiras do rio Vermelho e fundou o Arraial de Sant'Anna, às margens do rio.
- (C) Nos anos de 1730-40 foi encontrado ouro no norte de Goiás, incentivando a fundação de cidades sob a jurisdição de Salvador, como Natividade, Almas, Chapada, Pontal e Porto Real, entre outras.
- (D) O declínio da mineração se acentuou na passagem do século XVIII para o XIX, agravado pela instituição de um novo imposto (capitação), cobrado proporcionalmente ao número de escravos de cada minerador.
- (E) Na segunda década do século XIX, em decorrência da crise da mineração, a região estava em uma situação de abandono, como relatado por Theotônio Segurado, futuro Governador da Capitania do Norte.

30



A área do MATOPIBA caracteriza-se pelo baixo preço das terras e pela uniformidade do clima, do solo e do relevo, que facilitam a mecanização agrícola e tem atraído cada vez mais agricultores.

A respeito do MATOPIBA, analise as afirmativas a seguir.

- I. É uma região de transição entre o Cerrado e o Semiárido, com condições favoráveis para a agricultura: áreas planas e extensas, solos de alto potencial produtivo, disponibilidade de água, clima favorável com elevada intensidade de sol.
- II. É um grande produtor de *commodities*, com uso intenso de tecnologia (máquinas, colheitadeiras, insumos) e uso reduzido do fator trabalho, assim sendo, o crescimento do produto interno bruto (PIB) aumenta com velocidade, mas a geração de riqueza não é acompanhada, proporcionalmente, por uma melhora na distribuição de renda.
- III. É o maior produtor nacional de soja, pois concentra 90% da área de plantio, sendo também a região com o maior índice de produtividade sustentável de grãos, em função da colaboração do setor do agronegócio com a preservação das unidades de conservação locais.

Está correto o que se afirma em

- (A) I, apenas.
- (B) II, apenas.
- (C) III, apenas.
- (D) I e II, apenas.
- (E) II e III, apenas.

## CONHECIMENTOS ESPECÍFICOS

### Noções de Direito Administrativo

31

Após ser investida no cargo de analista da Assembleia Legislativa do Estado Ômega, por estar preocupada com a possibilidade de ser pessoalmente responsabilizada na esfera civil perante terceiros, Clézia passou a perquirir as questões atinentes à responsabilidade civil da Administração Pública, notadamente quanto à sua natureza e aos elementos caracterizadores, bem como acerca da possibilidade de ela constar do polo passivo das demandas eventualmente ajuizadas por particulares, em decorrência de prejuízos por ela causados no exercício de suas atribuições.

Nesse contexto, Clézia concluiu corretamente que a responsabilidade civil do Estado pelas condutas de seus agentes

- (A) é subjetiva, tendo por elementos caracterizadores a conduta, o dano e o nexo de causalidade, sendo certo que Clézia não poderia constar do polo passivo de eventual demanda indenizatória ajuizada por particular em decorrência de danos por ela ocasionados no exercício de suas atribuições.
- (B) é objetiva, tendo por elementos caracterizadores a conduta, o dano, o nexo de causalidade e a configuração de dolo ou culpa, sendo certo que Clézia poderia constar do polo passivo de eventual demanda indenizatória ajuizada por particular em decorrência de danos por ela ocasionados no exercício de suas atribuições.
- (C) é subjetiva, tendo por elementos caracterizadores a conduta, o dano, o nexo de causalidade e a configuração de dolo ou culpa, sendo certo que Clézia poderia constar do polo passivo de eventual demanda indenizatória ajuizada por particular em decorrência de danos por ela ocasionados no exercício de suas atribuições.
- (D) é objetiva, tendo por elementos caracterizadores a conduta, o dano e o nexo de causalidade, sendo certo que Clézia não poderia constar do polo passivo de eventual demanda indenizatória ajuizada por particular em decorrência de danos por ela ocasionados no exercício de suas atribuições.
- (E) pode ser objetiva ou subjetiva a depender da gravidade da conduta do agente, tendo por elementos caracterizadores, em qualquer caso, a conduta, o dano, o nexo de causalidade, sendo certo que Clézia poderia constar do polo passivo de eventual demanda indenizatória ajuizada por particular em decorrência de danos por ela ocasionados no exercício de suas atribuições.

32

No âmbito do domínio público, existem relevantes ditames do Código Civil, delimitando o conceito e indicando a classificação dos bens públicos quanto à afetação pública.

Nesse contexto, assinale a opção que indica um exemplo de bem público, com a adequada classificação, pertencente à respectiva pessoa jurídica.

- (A) A sede de uma prefeitura, que é bem de uso especial.
- (B) A sede de uma fundação, que é bem de uso dominical.
- (C) A sede de uma autarquia, que é bem de uso comum do povo.
- (D) A sede de uma assembleia legislativa, que é bem dominical.
- (E) A sede de uma empresa pública, que é bem de uso especial.

33

O Governador do *Estado Delta*, insatisfeito com as decisões que vinham sendo tomadas por dois órgãos colegiados que atuavam na definição, implementação e avaliação de políticas públicas, cujas atribuições estavam delimitadas em lei e contavam com a participação da sociedade civil, fez editar um Decreto que extinguiu os aludidos órgãos, promovendo, assim, a exoneração dos agentes que neles atuavam.

Para o exercício de tais competências, o Chefe do Poder Executivo editou outro Decreto que criou, no lugar daqueles que foram extintos, um único órgão, cujos cargos deveriam ser ocupados por pessoas mais alinhadas com o seu plano de governo.

Sobre o ato do Governador, considerando os contornos do Poder Regulamentar na CRFB/88, assinale a afirmativa correta.

- (A) Promoveu o uso regular do Poder Regulamentar, enquanto instrumento do Poder Disciplinar, na medida em que os órgãos que integram a Administração Pública devem estar alinhados com o respectivo plano de governo.
- (B) Extrapolou os limites do Poder Regulamentar, na medida em que a extinção de órgãos públicos, que tem suas atribuições definidas em lei, não poderia ser objeto de decreto.
- (C) Atuou nos limites do Poder Regulamentar, pois os decretos em questão encontram fundamento na Constituição, que confere ao Chefe do Poder Executivo ampla autonomia para inovar no ordenamento jurídico em matéria de organização administrativa.
- (D) Ultrapassou os limites do Poder Regulamentar, que confere ao Chefe do Executivo apenas a possibilidade de editar decretos para a fiel execução da lei, notadamente porque não há nenhuma hipótese que admita a inovação no ordenamento jurídico por meio de Decreto com fundamento diretamente na Constituição.
- (E) Atuou no regular exercício do Poder Regulamentar, considerando que a Constituição assegura ao Chefe do Executivo a possibilidade de inovar no ordenamento jurídico por meio de decreto sobre os assuntos que sejam de interesse do respectivo Poder, para fins de implementar o plano de governo.

34

O *Estado Delta* pretende criar uma sociedade de economia mista para realizar atividade econômica de relevante interesse coletivo, especialmente voltada para promover o incremento de novas tecnologias, além de outras atividades no respectivo setor, que atuará em regime de concorrência.

No âmbito da organização administrativa, é correto afirmar que essa entidade administrativa é uma pessoa jurídica de direito

- (A) privado, criada diretamente pela lei, integrante da Administração Direta, cujo regime jurídico de pessoal é o estatutário.
- (B) público, criada diretamente pela lei, integrante da Administração Indireta, cujo regime jurídico de pessoal é o celetista.
- (C) privado, que atua em colaboração com o Estado e não integra a Administração Pública, cujo regime jurídico de pessoal é o celetista.
- (D) público, criada mediante autorização legislativa, integrante da Administração Direta, cujo regime jurídico de pessoal é o estatutário.
- (E) privado, criada mediante autorização legislativa, integrante da Administração Indireta, cujo regime jurídico de pessoal é o celetista.

35

Ao estudar o tema atinente ao ato administrativo, Maya decidiu verificar os exemplos de atos que seriam perfeitos, válidos e ineficazes.

Assinale a opção que apresenta, corretamente, o exemplo que atende àquelas condições.

- (A) A realização de um ato administrativo por servidor incompetente.
- (B) A imediata remoção de servidor, a pedido, para outra lotação.
- (C) A exoneração a pedido de servidor, a contar de data futura.
- (D) A nomeação de servidor para atuar prontamente em comissão disciplinar.
- (E) A aplicação de penalidade de demissão a um servidor público, nas hipóteses previstas em lei, após o devido processo administrativo.

## Noções de Direito Constitucional / Direitos Humanos

36

Com o objetivo de uniformizar a organização interna e os direitos assegurados à população nos Municípios situados no Estado *Alfa*, iniciou-se um movimento, no âmbito da Assembleia Legislativa, com o objetivo de aprovar a Lei Orgânica a ser adotada por cada um dos referidos entes federativos.

À luz da sistemática constitucional, é correto afirmar, em relação ao referido objetivo, que a Lei Orgânica

- (A) deve ser veiculada em lei ordinária estadual.
- (B) deve ser veiculada em lei complementar estadual.
- (C) somente pode ser aprovada no âmbito de cada Município.
- (D) deve se limitar a estabelecer as normas gerais a serem observadas por cada Município.
- (E) somente pode ser editada pela Assembleia Legislativa se a Constituição Estadual o autorizar.

37

Determinado ativista dos direitos humanos afirmou, em um evento, que a Declaração Universal dos Direitos Humanos era totalmente infensa à tortura. Um debatedor, no entanto, insurgiu-se contra essa assertiva sob o argumento de que a Declaração reconhecia que o indivíduo estava inserido no agregado social, logo, o interesse individual nem sempre sobrepujava o coletivo, o que permitia a prática da tortura em situações específicas.

À luz dos termos da referida Declaração, é correto afirmar que

- (A) o indivíduo não pode subsistir sem o social, logo, o debatedor está certo.
- (B) a tortura será admitida, ou não, conforme a natureza do crime a ser apurado.
- (C) a tortura do ser humano nega sua própria condição humana, logo, o ativista está certo;
- (D) a tortura não pode ser admitida quando inexistir indícios de autoria e prova da materialidade.
- (E) a Declaração não é um tratado, mas mera exortação moral, logo, suas disposições são conselhos aos Estados partes, e, entre elas, não está a proscrição da tortura.



**38**

Maria, cidadã brasileira, entendia que os seus Direitos Humanos tinham sido objeto de grave violação por autoridades estatais, o que lhe permitiria invocar a proteção da Convenção Americana sobre Direitos Humanos (Pacto de São José e Decreto nº 678/1992). As autoridades estatais, no entanto, entendiam que tinham agido corretamente à luz da Convenção.

Ao consultar um especialista em relação à possibilidade de acessar os meios de proteção previstos na Convenção, foi corretamente informado a Maria que ela

- (A) tem acesso direto à Corte Interamericana de Direitos Humanos.
- (B) tem acesso direto à Comissão Interamericana de Direitos Humanos.
- (C) somente pode solicitar que o Ministério dos Direitos Humanos submeta o seu caso ao órgão competente da Convenção Interamericana.
- (D) tem acesso direto, conforme a natureza da infração, à Corte Interamericana de Direitos Humanos ou à Comissão Interamericana de Direitos Humanos.
- (E) somente pode solicitar que o órgão competente do Ministério Público brasileiro submeta o seu caso ao alto Comissariado de Tutela Interamericana.

**39**

Nos termos do § 3º do Art. 31 da Constituição da República de 1988, “§ 3º As contas dos Municípios ficarão, durante sessenta dias, anualmente, à disposição de qualquer contribuinte, para exame e apreciação, o qual poderá questionar-lhes a legitimidade, nos termos da lei”.

A partir da interpretação da parte destacada do preceito constitucional, obtém-se uma norma de eficácia

- (A) restringível.
- (B) legítima.
- (C) limitada.
- (D) contida.
- (E) plena.

**40**

Maria, filha de Joana, espanhola, e de John, norte-americano, nasceu no território brasileiro quando os seus pais aqui se encontravam a trabalhar em uma indústria farmacêutica. Logo após o nascimento, Maria foi levada pelos seus pais para a Argentina.

Na situação descrita na narrativa, considerando os balizamentos estabelecidos pela Constituição brasileira, é correto afirmar que Maria é

- (A) estrangeira, podendo optar pela nacionalidade brasileira ao atingir a maioridade, caso venha a residir no território nacional.
- (B) estrangeira, sem direito reconhecido à obtenção da nacionalidade brasileira.
- (C) estrangeira, podendo optar pela nacionalidade brasileira ao atingir a maioridade.
- (D) brasileira naturalizada.
- (E) brasileira nata.

**41**

Maria, ativista dos direitos humanos, informou a uma amiga que decidira se unir a uma verdadeira “cruzada cívica”, com o objetivo de defender a plena e integral implementação dos direitos sociais previstos na Constituição da República.

Como a amiga de Maria não tinha formação jurídica, decidiu perguntar-lhe qual característica esses direitos teriam, sendo-lhe corretamente informado que

- (A) em regra, exigem a oferta de prestações estatais.
- (B) destinam-se a assegurar a liberdade dos membros da sociedade.
- (C) buscam assegurar a participação da sociedade na formação da vontade política.
- (D) asseguram a proteção da esfera jurídica individual contra investidas dos poderes constituídos.
- (E) somente podem ser usufruídos pela integralidade da sociedade, não por uma pessoa em particular.

**42**

João, por ter sido condenado pela prática de determinado ilícito, foi considerado inelegível. Como tinha efetiva participação na vida política do Município *Alfa*, em cujo território residia, consultou um especialista em relação aos efeitos da referida inelegibilidade.

Foi corretamente informado a João que

- (A) ele perdeu os direitos políticos.
- (B) ele continua podendo votar nas eleições.
- (C) o seu alistamento eleitoral foi cancelado.
- (D) os seus direitos políticos estão suspensos.
- (E) ele está proibido de ocupar qualquer cargo público.

**43**

Em uma pequena cidade brasileira, foi praticada uma conduta de grande lesividade social, que rapidamente tomou o noticiário nacional. Para surpresa dos órgãos de segurança pública, essa conduta não era tipificada como crime, o que levou um Deputado Federal a iniciar estudos visando a aprovar uma lei que criminalize esse tipo de prática e ainda punisse o autor da referida conduta, tida como altamente abjeta.

Ao fim de suas reflexões, o Deputado Federal concluiu corretamente que a retroação da futura lei

- (A) somente seria permitida em relação à alteração da pena, quer para agravá-la, quer para atenuá-la, o que não seria o caso, já que a conduta não era penalmente tipificada.
- (B) somente poderia retroagir, quer para prejudicar, quer para beneficiar o autor do ilícito, se fosse aprovada pela maioria de dois terços dos membros do Poder Legislativo.
- (C) irá retroagir, salvo em relação às situações que já tenham sido julgadas, com sentença transitada em julgado.
- (D) não pode retroagir em hipótese alguma, quer para prejudicar, quer para beneficiar o autor do ilícito.
- (E) somente poderia retroagir para beneficiar o autor do ilícito, jamais para prejudicá-lo.

## Noções de Direito Penal / Processual Penal

44

No curso de um processo penal que apurou o suposto delito de latrocínio consumado, o juiz competente, após requerimento do Ministério Público, decretou a prisão preventiva de José, suposto autor dos fatos.

Após o cumprimento do mandado de prisão, o advogado de José compareceu ao presídio, ocasião em que as partes conversaram sobre os regramentos aplicáveis à prisão preventiva.

Nesse cenário, considerando as disposições do Código de Processo Penal, assinale a afirmativa correta.

- (A) A legislação não estabelece o prazo máximo de duração da prisão preventiva, mas o juízo deverá revisar a necessidade de sua manutenção a cada sessenta dias, mediante decisão fundamentada, sob pena de tornar a prisão ilegal.
- (B) A decretação da prisão preventiva, com a finalidade de antecipação de cumprimento de pena ou como decorrência imediata de investigação criminal ou da apresentação ou recebimento de denúncia, não será admitida.
- (C) O juiz poderá, a pedido das partes, revogar a prisão preventiva se, no correr do processo, verificar a falta de motivo para que ela subsista, vedando-se a atuação de ofício, em homenagem ao sistema acusatório.
- (D) A decisão que decretar a prisão preventiva será sempre motivada e fundamentada, sendo suficiente, para tanto, a indicação de ato normativo, ainda que não se explique a sua relação com a causa.
- (E) O juiz poderá substituir a prisão preventiva pela domiciliar quando o agente for homem, caso seja o único responsável pelos cuidados do filho de até treze anos de idade incompletos.

45

João, Delegado de Polícia, preside inquérito policial deflagrado para apurar suposto delito perpetrado por Fábio.

Durante a tramitação do procedimento administrativo, o agente público constatou que a prisão temporária é essencial para garantir o sucesso das investigações, sendo certo que há fundadas razões que apontam Fábio como o autor do crime investigado.

Nesse cenário, considerando as disposições da Lei nº 7.960/1989, é correto afirmar que o inquérito policial presidido por João versa sobre o crime de

- (A) furto qualificado pelo concurso de pessoas.
- (B) falsificação de documento público.
- (C) sequestro simples.
- (D) corrupção passiva.
- (E) concussão.

46

Matheus, Delegado de Polícia, tomou conhecimento de dois fatos criminosos que ocorreram na cidade em que atua, quais sejam:

- i) Joana, após ser ameaçada de morte pelo marido, no contexto de violência doméstica e familiar contra a mulher, se dirigiu à Delegacia de Polícia e representou criminalmente contra o agente;
- ii) João, maior e capaz, após ser vítima de um crime de estelionato, compareceu à unidade policial e demonstrou o interesse na deflagração de investigação em face do suposto autor do fato. Nada obstante, após alguns dias, Joana e João demonstraram o interesse em se retratar da representação que fora anteriormente oferecida.

Nesse cenário, considerando as disposições do Código de Processo Penal e da Lei nº 11.340/2006, assinale a afirmativa correta.

- (A) Joana poderá se retratar da representação antes do recebimento da denúncia. Por sua vez, João somente poderá se retratar antes do oferecimento da denúncia.
- (B) Joana poderá se retratar da representação antes do oferecimento da denúncia. Por sua vez, João somente poderá se retratar antes do recebimento da denúncia.
- (C) Joana não poderá se retratar da representação oferecida. Por sua vez, João somente poderá se retratar antes do oferecimento da denúncia.
- (D) Joana e João poderão se retratar da representação antes do recebimento da denúncia.
- (E) Joana e João não poderão se retratar da representação oferecida.

47

João, após iniciar o estágio junto à 1ª Vara Criminal da Comarca Alfa, passou a se dedicar ao estudo do Direito Penal, para melhor desempenhar as suas funções laborais.

Assim, João, ao estudar uma determinada infração penal citada pela Constituição Federal, verificou que se tratava de um crime inafiançável e imprescritível, sujeito à pena de reclusão, nos termos da lei.

Nesse cenário, considerando as disposições constitucionais aplicáveis ao Direito Penal, é correto afirmar que José pode ter estudado os detalhes do crime de

- (A) tráfico ilícito de entorpecentes e drogas afins.
- (B) terrorismo.
- (C) homicídio.
- (D) racismo.
- (E) tortura.

48

Após ser capturado em flagrante pela suposta prática do crime de furto simples, João, primário e portador de bons antecedentes, passou por audiência de custódia, obtendo o direito de responder ao processo em liberdade. Em seguida, o Ministério Público ofereceu denúncia em detrimento do autor do delito e propôs a suspensão condicional do processo. Em assim sendo, João conversou com seu advogado sobre a proposta do *Parquet*.

Nesse cenário, considerando as disposições da Lei nº 9.099/1995, assinale a afirmativa correta.

- (A) A suspensão será revogada, a critério do Ministério Público, se o acusado vier a ser processado, no curso do prazo, por contravenção, ou descumprir qualquer outra condição imposta.
- (B) A suspensão poderá ser revogada se, no período de prova, o beneficiário vier a ser processado por outro crime ou não efetuar, sem motivo justificado, a reparação do dano.
- (C) O juiz poderá especificar outras condições a que fica subordinada a suspensão, desde que adequadas ao fato e à situação pessoal do acusado.
- (D) A proposta pelo acusado e seu defensor sendo aceita, na presença do juiz, este suspenderá o processo por um a dois anos.
- (E) A prescrição da pretensão punitiva estatal correrá durante o prazo de suspensão condicional do processo.

49

João aproximou-se de três senhoras que caminhavam tranquilamente por uma praça do Município *Alfa*, e determinou que cada uma delas entregasse o telefone celular e o relógio, mediante grave ameaça, consubstanciada no emprego de arma de fogo. Em seguida, o agente logrou se evadir na posse dos diversos pertences de propriedade das vítimas. Durante as investigações, verificou-se que João praticou os três delitos mediante uma única ação, mas sem que existissem desígnios autônomos.

Nesse cenário, considerando as disposições do Código Penal, é correto afirmar que João responderá pelos crimes perpetrados em

- (A) continuidade delitiva, pois o agente, mediante uma só ação, praticou três crimes, sendo-lhe aplicável a menos grave das penas cabíveis ou, se iguais, somente uma delas, mas aumentada, em qualquer caso, de um quarto.
- (B) continuidade delitiva, pois o agente, mediante uma só ação, praticou três crimes, sendo-lhe aplicável a mais grave das penas cabíveis ou, se iguais, somente uma delas, mas aumentada, em qualquer caso, de um quinto.
- (C) concurso material, pois o agente, mediante uma só ação, praticou três crimes, sendo-lhe aplicável a mais grave das penas cabíveis ou, se iguais, somente uma delas, mas aumentada, em qualquer caso, de um quinto.
- (D) concurso formal, pois o agente, mediante uma só ação, praticou três crimes, sendo-lhe aplicável a menos grave das penas cabíveis ou, se iguais, somente uma delas, mas aumentada, em qualquer caso, de um quarto.
- (E) concurso formal, pois o agente, mediante uma só ação, praticou três crimes, sendo-lhe aplicável a mais grave das penas cabíveis ou, se iguais, somente uma delas, mas aumentada, em qualquer caso, de um quinto.

50

A Receita Federal, após denúncia realizada por um consumidor, procedeu à fiscalização do estabelecimento comercial de titularidade de Matheus, ocasião em que diversas irregularidades tributárias foram constatadas.

Muito preocupado, o empresário comentou os eventos com João, amigo de longa data, o qual lhe disse que é próximo de Caio, agente público e auditor da Receita Federal responsável pelo procedimento administrativo deflagrado em desfavor de Matheus. Em assim sendo, João solicitou ao empresário a entrega de cinco mil reais, a pretexto de influir na decisão que será tomada por Caio no procedimento administrativo que está em andamento.

Nesse cenário, considerando as disposições do Código Penal, é correto afirmar que João responderá pela prática do crime de

- (A) advocacia administrativa.
- (B) exploração de prestígio.
- (C) favorecimento pessoal.
- (D) tráfico de influência.
- (E) corrupção passiva.

51

João responde, perante o Juizado Especial Criminal da Comarca *Alfa*, pela prática do crime de porte de drogas para consumo pessoal (Art. 28 da Lei nº 11.343/2006), por ter sido encontrado com cinco gramas de *cannabis sativa L.*, popularmente conhecida como maconha. Nada obstante, no curso da persecução penal, o Congresso Nacional editou uma legislação descriminalizando a conduta perpetrada pelo agente.

Nesse cenário hipotético, considerando as disposições do Código Penal, é correto afirmar que haverá a extinção de punibilidade em razão do(a)

- (A) *abolitio criminis*.
- (B) perempção.
- (C) indulto.
- (D) anistia.
- (E) graça.

52

Daniel, com 19 anos, teve relações sexuais consentidas com Joana, a qual, à época dos fatos, tinha 13 anos de idade.

Durante as investigações deflagradas contra Daniel, para apurar a suposta prática do crime de estupro de vulnerável, o agente afirmou e comprovou que conheceu Joana em uma boate – exclusiva para maiores de idade –, sendo certo que a adolescente ingressou no local portando uma carteira de identidade falsa. Daniel comprovou, ainda, que desconhecia, por completo, a idade da mulher, que aparentava, para todos, ser maior, em razão de sua compleição física apresentada.

Nesse cenário, considerando as disposições do Direito Penal, é correto afirmar que Daniel **não** responderá por qualquer crime, em razão do erro de

- (A) proibição indireto.
- (B) tipo incriminador.
- (C) proibição direto.
- (D) tipo permissivo.
- (E) mandamento.

53

No curso de uma persecução penal deflagrada para apurar um suposto crime de roubo circunstanciado pelo emprego de arma de fogo, procedeu-se à oitiva, em juízo, de João e Maria (vítimas), de José (testemunha de acusação), de Joana (testemunha de defesa), passando-se, na sequência, ao interrogatório do acusado Otávio. O juiz verificou, então, que algumas das pessoas ouvidas divergiram, em suas declarações, sobre fatos e circunstâncias relevantes.

Nesse cenário, considerando as disposições do Código de Processo Penal, é correto afirmar que a acareação poderá ser realizada entre

- (A) acusado e testemunha, entre testemunhas, entre acusado ou testemunha e a pessoa ofendida, e entre as pessoas ofendidas, apenas.
- (B) testemunhas, entre testemunha e a pessoa ofendida, e entre as pessoas ofendidas, apenas.
- (C) acusado e testemunha, entre testemunhas, entre acusado ou testemunha, apenas.
- (D) testemunhas, entre testemunha e a pessoa ofendida, apenas.
- (E) testemunhas, apenas.

54

João e José, em comunhão de ações e desígnios, aproximaram-se de Maria, que aguardava, no interior do seu automóvel, o sinal de trânsito abrir. Em assim sendo, os agentes bateram na janela do veículo e determinaram que a vítima entregasse os seus pertences, sob ameaça de morte.

Após subtraírem o telefone celular e o relógio da ofendida, os autores do delito tentaram se evadir, mas foram alcançados, cem metros à frente, por policiais militares que passavam pela região, sendo capturados em flagrante.

Nesse cenário, considerando as disposições do Código Penal, assinale a opção que indica o crime pelo qual João e José responderão.

- (A) Roubo circunstanciado pelo concurso de pessoas, na modalidade consumada.
- (B) Extorsão qualificada pelo concurso de pessoas, na modalidade consumada.
- (C) Roubo simples, na modalidade consumada.
- (D) Extorsão simples, na modalidade tentada.
- (E) Roubo simples, na modalidade tentada.

55

João se dirigiu à Delegacia de Polícia do Município *Alfa*, no Estado *Beta*, comunicando à autoridade policial o crime – perseguível mediante ação penal pública incondicionada, – que José, um colega de trabalho, teria praticado em seu desfavor. Contudo, a vítima não soube indicar o lugar da infração penal.

Nesse cenário, considerando as disposições do Código de Processo Penal, como não é conhecido o lugar da infração, o processo e o julgamento do feito ocorrerá na Comarca do(a)

- (A) domicílio ou da residência da vítima ou do domicílio ou residência do réu, à escolha de João.
- (B) domicílio ou da residência da vítima.
- (C) domicílio ou da residência do réu.
- (D) capital do Estado *Beta*.
- (E) Município *Alfa*.

## Conhecimentos na Área de Atuação

56

O Art. 100 do Regimento Interno da Assembleia Legislativa do Tocantins define e diz respeito às proposições legislativas.

Em relação às tais proposições, avalie se as afirmativas a seguir são verdadeiras (V) ou falsas (F).

- ( ) Proposição é toda matéria sujeita à deliberação da Assembleia.
- ( ) As proposições podem consistir, entre outras, em emendas à Constituição do Estado, projetos de lei e projetos de resolução.
- ( ) Nenhuma proposição poderá conter matéria estranha ao enunciado objetivamente declarado na ementa ou dele decorrente.

As afirmativas são, respectivamente,

- (A) V – V – V.
- (B) V – V – F.
- (C) F – V – F.
- (D) V – F – V.
- (E) V – F – F.

57

De acordo com a Lei nº 9.883/1999, o Sistema Brasileiro de Inteligência tem como fundamentos a preservação da soberania nacional, a defesa do Estado Democrático de Direito e a dignidade da pessoa humana, devendo ainda cumprir e preservar os direitos e garantias individuais e demais dispositivos da Constituição Federal, os tratados, convenções, acordos e ajustes internacionais em que a República Federativa do Brasil seja parte ou signatário, e a legislação ordinária.

Nesse cenário, considerando as disposições da Lei nº 9.883/1999, que institui o Sistema Brasileiro de Inteligência e cria a Agência Brasileira de Inteligência (ABIN), é correto afirmar que

- (A) a execução da Política Nacional de Inteligência, fixada pelo Presidente da República, será levada a efeito pela Agência Brasileira de Inteligência (ABIN), sob a supervisão do Ministério da Justiça e Segurança Pública.
- (B) a elaboração e edição do regimento interno da Agência Brasileira de Inteligência ABIN serão de responsabilidade de seu Diretor-Geral, que o submeterá à aprovação do Ministro da Justiça e da Segurança Pública.
- (C) o controle e fiscalização externos da atividade de inteligência serão exercidos pelo Ministério Público, na forma a ser estabelecida em ato do Conselho Nacional do Ministério Público.
- (D) os atos da Agência Brasileira de Inteligência (ABIN), cuja publicidade possa comprometer o êxito de suas atividades sigilosas, deverão permanecer por sigilo de, no mínimo, cinco anos.
- (E) a Agência Brasileira de Inteligência (ABIN) será dirigida por um Diretor-Geral, cujas funções serão estabelecidas no decreto que aprovar a sua estrutura organizacional.

58

A Norma Regulamentadora nº 23 estabelece medidas de prevenção contra incêndios nos ambientes de trabalho, aplicando-se aos estabelecimentos e locais de trabalho.

Nesse cenário, considerando as disposições da Norma Regulamentadora nº 23, é **incorreto** afirmar que

- (A) as aberturas, saídas e vias de passagem de emergência devem ser identificadas e sinalizadas de acordo com a legislação estadual e, quando aplicável, de forma complementar, com as normas técnicas oficiais, indicando a direção da saída.
- (B) os locais de trabalho devem dispor de, ao menos, três saídas de emergência, dispostas de modo que aqueles que se encontrem nesses locais possam abandoná-los com rapidez e segurança em caso de emergência.
- (C) as saídas de emergência podem ser equipadas com dispositivos de travamento que permitam fácil abertura do interior do estabelecimento.
- (D) nenhuma saída de emergência deve ser fechada à chave ou presa durante a jornada de trabalho.
- (E) as aberturas, saídas e vias de passagem devem ser mantidas desobstruídas.

59

João, particular, conduzia o seu veículo automotor pela BR nº 101, ocasião em que o carro desligou, por falta de combustível, prejudicando sobremaneira o trânsito na localidade.

Nesse cenário, considerando as disposições do Código de Trânsito Brasileiro, é correto afirmar que restou caracterizada uma infração administrativa

- (A) gravíssima, sujeitando João à penalidade de suspensão do direito de dirigir e à medida administrativa de remoção do veículo.
- (B) gravíssima, sujeitando João à penalidade de proibição do direito de dirigir e à medida administrativa de remoção do veículo.
- (C) grave, sujeitando João à penalidade de suspensão do direito de dirigir e à medida administrativa de remoção do veículo.
- (D) média, sujeitando João à penalidade de multa e à medida administrativa de remoção do veículo.
- (E) leve, sujeitando João à penalidade de multa e à medida administrativa de remoção do veículo.

60

Há certos princípios básicos para o uso da força pela autoridade policial, entre eles os da legalidade, da necessidade, da proporcionalidade e o da conveniência.

Acerca desses princípios, avalie as seguintes afirmativas:

- I. Legalidade: o uso da força é permitido apenas para atingir um objetivo legítimo,
- II. Necessidade: o uso da força somente deve ocorrer quando outros meios forem ineficazes para atingir o objetivo desejado.
- III. Proporcionalidade: o uso da força deve ser usado de forma proporcional à resistência oferecida, levando-se em conta os meios dos quais o policial dispõe.
- IV. Conveniência: mesmo sendo legal, necessário e proporcional o uso da força, é preciso observar se ele não coloca em risco outras pessoas e se é razoável e de bom-senso lançar mão desse meio.

Estão corretas as afirmativas

- (A) I e II, apenas.
- (B) III e IV, apenas.
- (C) I, II e III, apenas.
- (D) II, III e IV, apenas.
- (E) I, II, III e IV.



# ASSEMBLEIA LEGISLATIVA DO ESTADO DO TOCANTINS

CONCURSO PÚBLICO – EDITAL Nº 01/2023

## PROVA OBJETIVA – MANHÃ

### POLICIAL LEGISLATIVO II POLÍCIA E SEGURANÇA II

NÍVEL MÉDIO – TIPO 3 – AMARELA



#### SUA PROVA

- Além deste caderno contendo **60 (sessenta)** questões objetivas, você receberá do fiscal de prova o cartão de respostas;
- As questões objetivas têm **5 (cinco)** opções de resposta (A, B, C, D) e somente uma delas está correta.



#### TEMPO

- Você dispõe de **4 (quatro) horas** para a realização da prova, já incluído o tempo para a marcação do cartão de respostas;
- **3 (três) horas** após o início da prova, é possível retirar-se da sala, sem levar o caderno de questões;
- A partir dos **30 (trinta) minutos** anteriores ao término da prova é possível retirar-se da sala **levando o caderno de questões**.



#### NÃO SERÁ PERMITIDO

- Qualquer tipo de comunicação entre os candidatos durante a aplicação da prova;
- Anotar informações relativas às respostas em qualquer outro meio que não seja o caderno de questões;
- Levantar da cadeira sem autorização do fiscal de sala;
- Usar o sanitário ao término da prova, após deixar a sala.



#### INFORMAÇÕES GERAIS

- Verifique se seu caderno de questões está completo, sem repetição de questões ou falhas. Caso contrário, **notifique imediatamente o fiscal da sala**, para que sejam tomadas as devidas providências;
- Confira seus dados pessoais, especialmente nome, número de inscrição e documento de identidade e leia atentamente as instruções para preencher o cartão de respostas;
- Para o preenchimento do cartão de respostas, use somente caneta esferográfica, fabricada em material transparente, com tinta preta ou azul;
- Assine seu nome apenas no(s) espaço(s) reservado(s) no cartão de respostas;
- Confira seu cargo, cor e tipo do caderno de questões. Caso tenha recebido caderno de cargo ou cor ou tipo **diferente** do impresso em seu cartão de respostas, o fiscal deve ser **obrigatoriamente** informado para o devido registro na ata da sala;
- Reserve tempo suficiente para o preenchimento do seu cartão de respostas. O preenchimento é de sua responsabilidade e **não será permitida a troca do cartão de respostas em caso de erro cometido pelo candidato**;
- Para fins de avaliação, serão levadas em consideração apenas as marcações realizadas no cartão de respostas;
- A FGV coletará as impressões digitais dos candidatos na lista de presença;
- Os candidatos serão submetidos ao sistema de detecção de metais quando do ingresso e da saída de sanitários durante a realização das provas.
- **Boa prova!**

## CONHECIMENTOS BÁSICOS

### Língua Portuguesa

1

Assinale a opção que apresenta as duas palavras que devem ser grafadas com **es** e não com **ex**.

- (A) Excremento / expurgo.
- (B) Excusar / expontâneo.
- (C) Excomungar / expressar.
- (D) Extirpar / extorquir.
- (E) Exterminar / extremoso.

2

Leia o seguinte texto de um jornal de outros tempos:

*“Mudança nas moedas. A partir de junho começam a entrar em circulação as moedas de Cr\$100 e Cr\$500 substituindo as cédulas que trazem estampadas a poetisa Cecília Meireles e o naturalista Augusto Ruschi, respectivamente. O lançamento das moedas foi aprovado na reunião de ontem do Conselho Monetário Nacional, colocando fim à família de notas criadas no governo Sarney, sob a égide dos cruzados novos.”*

Sobre esse fragmento textual, analise as observações a seguir, feitas por um estudioso de nossa Língua, e assinale a correta.

- (A) “Começam a entrar em circulação” é bastante estranho, porque as moedas, pequenas que são e de pequeno valor, “entram” logo.
- (B) “trazem estampadas a poetisa Cecília Meireles e o naturalista Augusto Ruschi”, mas eu pensava que as moedas trazem estampadas as efígies de Fulano ou Beltrano.
- (C) “colocando fim à família” mostra o emprego inadequado de “colocar” em lugar de “pôr”.
- (D) “criadas”, por questão de clareza e precisão, devia ser substituído por “lançadas” ou “emitidas”.
- (E) “sob”, por questão de correção gramatical, deve ser substituído por “sobre”.

3

Os textos a seguir mostram elementos de coesão em relação ao termo sublinhado; assinale a opção em que **todos** os termos seguintes, em coesão com ele, estão indicados.

- (A) Geralmente, entre nossos motivos de agir, há um mais forte que os demais: aquele que não é declarado. – *um, os demais, aquele, que.*
- (B) O que empobrece o homem não são seus atos, mas os desejos que ele possui. – *ele.*
- (C) O dinheiro, recebem-no todos os que trabalham e o perdem todos os irresponsáveis. – *no, que, o.*
- (D) Qual pode ser a vida que começa pelos gritos da mãe, que a dá, e o choro do filho que a recebe? – *que, que, a.*
- (E) Meu filho! Deus te enviou a este mundo. Cultiva-o e não te apresses em sair dele. – *o.*

4

As citações a seguir são compostas por dois segmentos; assinale a opção em que a **relação lógica** indicada pelo segundo segmento está correta.

- (A) Dize-me o que crês ser / e te direi o que não és. – relação de oposição.
- (B) Quem crê é forte / quem duvida é fraco. – relação de conclusão.
- (C) Seja lá por que um homem reza, / ele reza por um milagre. – relação de explicação.
- (D) Não adianta esperar que o navio chegue / se você não o mandou para lugar nenhum. – relação de causa.
- (E) Pense como um homem de ação / e aja como um pensador. – relação de conclusão.

5

Assinale a opção que apresenta a frase em que houve **erro** de concordância da palavra sublinhada.

- (A) O presidente fez questão de deixar bem claras as suas intenções.
- (B) O STF qualificou de antidemocrático aqueles atos.
- (C) O governo chinês torna visíveis os erros das ditaduras.
- (D) Os enfermeiros tiveram reconhecidos os direitos de greve.
- (E) Tomei emprestados à biblioteca vários livros.

6

Leia o fragmento a seguir.

*“Não somos daqueles que só em meio aos livros, estimulados por livros vêm a ter pensamentos – é nosso hábito pensar ao ar livre, andando, saltando, escalando, dançando, preferivelmente em montes solitários ou próximos ao mar, onde mesmo as trilhas se tornam pensativas.”* (Nietzsche, filósofo alemão).

Sobre o significado desse fragmento, assinale a afirmativa correta.

- (A) A leitura é importante para a criação de ideias originais.
- (B) As formas de gerúndio mostram a evolução cronológica das ações narradas pelo escritor.
- (C) O pronome relativo “onde” refere-se a locais ao ar livre.
- (D) A forma do verbo “tornar-se”, como verbo de ligação, indica um estado transitório.
- (E) Os ambientes solitários propiciam reflexões de valor.

7

As perguntas a seguir apresentam o pronome pessoal oblíquo em ênclise (após o verbo); assinale a que mostra formulação **incorreta**, porque só admite próclise.

- (A) Os dois bandidos evadiram-se do presídio em Mossoró?
- (B) Onde podemos vê-los?
- (C) Eles dedicar-se-iam às tarefas com prazer.
- (D) Numa entrevista como esta, isto pergunta-se?
- (E) Quem dir-me-á tantas barbaridades, senão ele?

8

As frases a seguir mostram uma locução adjetiva introduzida pela preposição sem; assinale a opção em que a substituição dessa locução por um adjetivo de valor equivalente foi feita de forma adequada.

- (A) Cartas sem autoria declarada são sempre mal recebidas / desautorizadas.  
 (B) Os poços sem água são de pouca serventia para a lavoura / áridos.  
 (C) Foram deixados muitos problemas sem solução / insolúveis.  
 (D) O governo tomou muitas atitudes sem nexos / desconexas.  
 (E) Com os fogos de artifício, o campo ficou sem visão / invisível.

9

As frases a seguir mostram termos repetidos; assinale a opção que apresenta a frase em que o significado dos dois termos não é o mesmo.

- (A) Morrer é mudar de corpo como o ator muda de roupa.  
 (B) Janeiro é o mês que se fazem bons votos aos amigos; os outros são os meses em que esses votos não se concretizam.  
 (C) Quem tempo espera, muito tempo consome.  
 (D) A falsidade da História é tão velha como a própria História.  
 (E) Viva todos os dias como se fosse o último. Um dia você acerta.

10

As opções a seguir mostram, corretamente, a substituição da forma sublinhada, composta de não + verbo, por um só verbo, de sentido equivalente, à exceção de uma. Assinale-a.

- (A) Os países da OTAN pediram que o exército russo não avançasse esta semana. / parasse.  
 (B) O deputado informou que não dispunha de tempo para redigir uma nova versão do projeto. / carecia.  
 (C) O Presidente não aceitou o convite para visitar a Alemanha. / declinou do.  
 (D) Não abriu as portas do museu para evitar a curiosidade do público. / fechou.  
 (E) Por seus futuros compromissos, preferia não gastar dinheiro / economizar.

## Raciocínio Lógico Matemático

11

A seguir, são apresentados os 9 primeiros termos de uma sequência infinita de números inteiros.

13, 12, 14, 11, 15, 10, 16, 9, 17, ...

Os termos são, alternadamente, maiores e menores que seus antecessores imediatos, seguindo um padrão de construção.

Sabendo-se que esse padrão é mantido ao longo de toda a sequência, conclui-se que um termo negativo aparecerá pela primeira vez na

- (A) 28ª posição.  
 (B) 27ª posição.  
 (C) 26ª posição.  
 (D) 15ª posição.  
 (E) 14ª posição.

12

Para pagar um lanche, Temístocles usou uma nota de R\$20,00 e recebeu, de troco, uma nota de R\$5,00, duas notas de R\$2,00, nove moedas de R\$0,50 e 3 moedas de R\$0,25.

O lanche custou a Temístocles

- (A) R\$5,25.  
 (B) R\$5,75.  
 (C) R\$6,25.  
 (D) R\$6,75.  
 (E) R\$7,25.

13

Dois números diferentes serão escolhidos ao acaso entre os elementos do conjunto {5,7,9,11,14}.

A soma dos números escolhidos

- (A) certamente é ímpar.  
 (B) certamente é par.  
 (C) pode ser 26.  
 (D) pode ser 18.  
 (E) pode ser menor que 12.

14

Em um jogo, duas fichas azuis têm o mesmo valor de cinco fichas vermelhas e uma ficha preta vale o mesmo que três fichas azuis.

Assim, duas fichas pretas equivalem a

- (A) sete fichas vermelhas.  
 (B) oito fichas vermelhas.  
 (C) nove fichas vermelhas.  
 (D) doze fichas vermelhas.  
 (E) quinze fichas vermelhas.

15

Sabe-se que 20% de  $N$  é igual a 13,4. Logo, 90% de  $N$  é igual a

- (A) 59,6.  
 (B) 60,3.  
 (C) 61,2.  
 (D) 62,5.  
 (E) 63,2.

16

Marcelo é filho de Alberto. Pedro é filho de Luiz. Se Marcelo e Luiz são irmãos por parte de pai, então

- (A) Alberto é pai de Pedro.  
 (B) Alberto é tio de Pedro.  
 (C) Pedro é irmão de Marcelo.  
 (D) Pedro é sobrinho de Marcelo.  
 (E) Pedro é neto de Marcelo.



## Noções de Informática

17

No contexto dos sistemas operacionais Microsoft Windows, o Painel de Controle é uma área central para gerenciar as configurações do sistema, opções de personalização e outros.

Considerando as versões superiores ao Windows 7, assinale a opção que **não** indica uma funcionalidade encontrada no painel de controle.

- (A) Backup e Restauração.
- (B) Relógio e Região.
- (C) Hardware e Sons.
- (D) Contas de Usuário.
- (E) Configuração de Registro Avançadas.

18

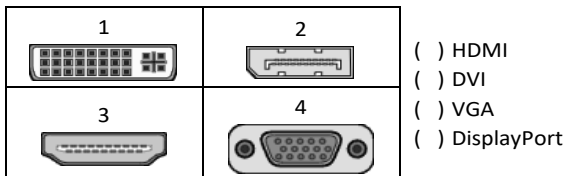
Nos sistemas operacionais Microsoft Windows 10, o recurso "Executar" permite aos usuários abrir rapidamente programas, pastas, documentos e recursos do sistema, ao digitar o caminho completo ou o nome do item.

Assinale a opção que apresenta a combinação de teclas usada para abrir a caixa de diálogo "Executar".

- (A) Windows + E
- (B) Windows + I
- (C) Windows + K
- (D) Windows + L
- (E) Windows + R

19

No contexto das interfaces para vídeo, relacione as portas às suas respectivas tecnologias.



Assinale a opção que indica a relação correta, segundo a ordem apresentada.

- (A) 2 – 3 – 1 – 4.
- (B) 2 – 4 – 1 – 3.
- (C) 3 – 2 – 1 – 4.
- (D) 3 – 1 – 4 – 2.
- (E) 4 – 2 – 3 – 1.

20

Em uma planilha Microsoft Excel 2019 em português do Brasil, há um conjunto de dados com vendas listadas na coluna B.

Por meio da funcionalidade de Formatação Condicional, a seguinte função pode ser usada para destacar os 10% dos principais valores de vendas com preenchimento verde:

- (A) PERCENTIL.
- (B) MAXIMO.
- (C) SOMASES.
- (D) CONT.SE.
- (E) ABS.

21

Em uma pequena empresa, durante uma tentativa de realizar uma manutenção de rotina nos servidores ao final do expediente, José, um funcionário recém-contratado, com pouca experiência em TI, desliga um servidor que está rodando um serviço de DHCP. No dia seguinte, os usuários começam a reportar problemas.

Considerando que todas as estações de trabalho com sistema operacional Windows estavam utilizando o servidor DHCP, assinale a opção que indica o que os usuários reportaram.

- (A) As estações de trabalho não estão ligando, pois dependem do servidor DHCP.
- (B) Havia lentidão na conexão com a internet.
- (C) Perda de acesso à internet, enquanto o acesso à rede local entre as estações de trabalho permaneceu possível.
- (D) Interrupção do serviço de *e-mail*; os demais serviços funcionavam.
- (E) Impressão em rede local não funcionava, mas a internet estava acessível.

22

Sobre a inserção de tabelas no Microsoft Word 2019 em português, analise as afirmativas a seguir.

- I. As tabelas admitem diferentes estilos de borda, cores de preenchimento e fontes, para melhorar sua apresentação visual.
- II. Ao inserir uma tabela, é possível definir o número de linhas e colunas antes de criá-la, no entanto, não é possível alterar a estrutura após a inserção.
- III. As tabelas podem ser inseridas apenas no início de um documento e não podem ser movidas para outras partes do texto.

Está correto o que se afirma em

- (A) I, apenas.
- (B) I e II, apenas.
- (C) II e III, apenas.
- (D) I e III, apenas.
- (E) I, II e III.

## Legislação Institucional

23

Joaquim é servidor estadual estável, detentor de cargo efetivo e aposentado voluntariamente. Depois de dois anos de sua aposentadoria, Joaquim manifestou interesse, perante a Administração, de retornar à atividade em que era estável.

Caso haja cargo vago disponível, conforme a Lei nº 1818/2017, que dispõe sobre o Estatuto dos Servidores Públicos Cíveis do Estado do Tocantins, assinale a modalidade de provimento adequada ao caso.

- (A) Aproveitamento.
- (B) Reversão.
- (C) Readaptação.
- (D) Reintegração.
- (E) Recondução.

**24**

Luiz, servidor público efetivo, encontra-se em estágio probatório e, nesse período, tem sido submetido a Avaliações Especiais de Desempenho.

Nos termos da Lei nº 4.208/2023, que cuida do plano de cargos, carreiras e remuneração dos Servidores da Assembleia Legislativa de Tocantins, assinale a afirmativa correta.

- (A) A Avaliação Especial de Desempenho dá-se em três etapas, que tem por base o acompanhamento trimestral do servidor.
- (B) O resultado da avaliação será levado ao conhecimento do avaliado e arquivado em caráter público.
- (C) O servidor, para ser aprovado, deverá obter média igual ou superior a 60% (sessenta por cento) dos pontos possíveis nas Avaliações Especiais de Desempenho.
- (D) O servidor, caso aprovado no estágio probatório, será imediatamente elevado para a classe seguinte do padrão inicial do seu cargo.
- (E) O servidor deve ser avaliado pelo chefe imediato.

**25**

João, eleito Deputado Estadual, foi diplomado, mas ainda não tomou posse.

À luz da Constituição do Estado do Tocantins, João não poderá

- (A) exercer cargo em uma empresa concessionária de serviço público.
- (B) ser diretor de uma empresa que goze de favor decorrente de contrato com pessoa jurídica de direito público.
- (C) patrocinar uma causa em que seja interessada uma autarquia.
- (D) manter contrato com uma pessoa jurídica de direito privado.
- (E) ser titular de mais de um cargo ou de mandato público eletivo.

**26**

Considerando o que dispõe o Regimento Interno da Assembleia Legislativa de Tocantins a respeito das Comissões, assinale a afirmativa correta.

- (A) A Comissão de Constituição, Justiça e Redação tem poderes de investigação próprios das autoridades judiciais.
- (B) As Comissões Especiais não podem ser constituídas para investigação sumária de fato determinado.
- (C) À Comissão de Segurança Pública compete analisar questões ligadas à violência urbana e rural.
- (D) As Comissões de Representação devem ser aprovadas pela maioria absoluta do Plenário da Assembleia.
- (E) A Comissão Parlamentar de Inquérito poderá deslocar-se para qualquer ponto do território estadual para a realização de investigações e audiências públicas.

## História e Geografia do Estado de Tocantins

**27**

Sobre a formação histórica do território que hoje corresponde ao Estado do Tocantins, assinale a afirmativa que descreve corretamente o processo de desbravamento e ocupação da região no Período Colonial.

- (A) No final do século XVI, os primeiros a encontrar a foz do rio Tocantins junto ao Amazonas foram os espanhóis, então instalados no Maranhão para expulsar colonos franceses que haviam fundado a França equinocial.
- (B) Na primeira metade do século XVIII, a bandeira de Bartolomeu Bueno da Silva Filho descobriu ouro nas cabeceiras do rio Vermelho e fundou o Arraial de Sant'Anna, às margens do rio.
- (C) Nos anos de 1730-40 foi encontrado ouro no norte de Goiás, incentivando a fundação de cidades sob a jurisdição de Salvador, como Natividade, Almas, Chapada, Pontal e Porto Real, entre outras.
- (D) O declínio da mineração se acentuou na passagem do século XVIII para o XIX, agravado pela instituição de um novo imposto (capitação), cobrado proporcionalmente ao número de escravos de cada minerador.
- (E) Na segunda década do século XIX, em decorrência da crise da mineração, a região estava em uma situação de abandono, como relatado por Theotônio Segurado, futuro Governador da Capitania do Norte.

28



As bonecas Ritxoko são figuras de cerâmica confeccionadas por mulheres indígenas da etnia Karajá, do estado do Tocantins. Feitas a partir da mistura de argila e água, as peças representam tanto a forma humana e seus ciclos de vida quanto elementos da fauna e do sobrenatural. A pigmentação vermelha é extraída do urucum, enquanto a preta é retirada de uma árvore chamada ixarurina. As bonecas são usadas como instrumentos de socialização das crianças que se veem nesses objetos e aprendem a ser Karajá, recebendo ensinamentos e aprendendo as técnicas e saberes associados à sua confecção e usos. A pintura e a decoração das cerâmicas estão associadas à pintura corporal dos Karajá e às peças de vestuário e adorno.

Adaptado de <https://www.gov.br/funai>

Com base no trecho, é correto afirmar que as bonecas Ritxoko são um patrimônio

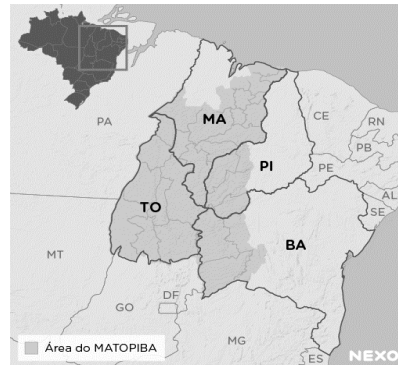
- da humanidade, uma vez que constituem bens culturais e naturais significativos para todas as culturas, sendo contempladas como referência estética para todos os povos.
- histórico nacional, pois exemplificam a riqueza dos modos de fazer e das formas de expressão que envolvem a tradição dos Karajás no Brasil.
- cultural brasileiro, uma vez que são consideradas representações culturais com significados sociais e identitários profundos.
- imaterial mundial, já que sua feitura envolve processos abstratos criativos de elaboração e variação de formas e grafismos.
- material tocantinense, por expressar a arte, a memória e a identidade das comunidades indígenas da Ilha do Bananal, no Tocantins.

29

O Estado do Tocantins situa-se em uma zona de transição que apresenta dois tipos de vegetação: a Floresta Ombrófila e a Savana, pertencentes, respectivamente, aos biomas

- Amazônia e Cerrado.
- Mata Atlântica e Pampa.
- Caatinga e Mata Atlântica.
- Amazônia e Caatinga.
- Cerrado e Pantanal.

30



A área do MATOPIBA caracteriza-se pelo baixo preço das terras e pela uniformidade do clima, do solo e do relevo, que facilitam a mecanização agrícola e tem atraído cada vez mais agricultores.

A respeito do MATOPIBA, analise as afirmativas a seguir.

- É uma região de transição entre o Cerrado e o Semiárido, com condições favoráveis para a agricultura: áreas planas e extensas, solos de alto potencial produtivo, disponibilidade de água, clima favorável com elevada intensidade de sol.
- É um grande produtor de *commodities*, com uso intenso de tecnologia (máquinas, colheitadeiras, insumos) e uso reduzido do fator trabalho, assim sendo, o crescimento do produto interno bruto (PIB) aumenta com velocidade, mas a geração de riqueza não é acompanhada, proporcionalmente, por uma melhora na distribuição de renda.
- É o maior produtor nacional de soja, pois concentra 90% da área de plantio, sendo também a região com o maior índice de produtividade sustentável de grãos, em função da colaboração do setor do agronegócio com a preservação das unidades de conservação locais.

Está correto o que se afirma em

- I, apenas.
- II, apenas.
- III, apenas.
- I e II, apenas.
- II e III, apenas.

## CONHECIMENTOS ESPECÍFICOS

### Noções de Direito Administrativo

**31**

Ao estudar o tema atinente ao ato administrativo, Maya decidiu verificar os exemplos de atos que seriam perfeitos, válidos e ineficazes.

Assinale a opção que apresenta, corretamente, o exemplo que atende àquelas condições.

- (A) A realização de um ato administrativo por servidor incompetente.
- (B) A imediata remoção de servidor, a pedido, para outra lotação.
- (C) A exoneração a pedido de servidor, a contar de data futura.
- (D) A nomeação de servidor para atuar prontamente em comissão disciplinar.
- (E) A aplicação de penalidade de demissão a um servidor público, nas hipóteses previstas em lei, após o devido processo administrativo.

**32**

Após ser investida no cargo de analista da Assembleia Legislativa do *Estado Ômega*, por estar preocupada com a possibilidade de ser pessoalmente responsabilizada na esfera civil perante terceiros, Clézia passou a perquirir as questões atinentes à responsabilidade civil da Administração Pública, notadamente quanto à sua natureza e aos elementos caracterizadores, bem como acerca da possibilidade de ela constar do polo passivo das demandas eventualmente ajuizadas por particulares, em decorrência de prejuízos por ela causados no exercício de suas atribuições.

Nesse contexto, Clézia concluiu corretamente que a responsabilidade civil do Estado pelas condutas de seus agentes

- (A) é subjetiva, tendo por elementos caracterizadores a conduta, o dano e o nexo de causalidade, sendo certo que Clézia não poderia constar do polo passivo de eventual demanda indenizatória ajuizada por particular em decorrência de danos por ela ocasionados no exercício de suas atribuições.
- (B) é objetiva, tendo por elementos caracterizadores a conduta, o dano, o nexo de causalidade e a configuração de dolo ou culpa, sendo certo que Clézia poderia constar do polo passivo de eventual demanda indenizatória ajuizada por particular em decorrência de danos por ela ocasionados no exercício de suas atribuições.
- (C) é subjetiva, tendo por elementos caracterizadores a conduta, o dano, o nexo de causalidade e a configuração de dolo ou culpa, sendo certo que Clézia poderia constar do polo passivo de eventual demanda indenizatória ajuizada por particular em decorrência de danos por ela ocasionados no exercício de suas atribuições.
- (D) é objetiva, tendo por elementos caracterizadores a conduta, o dano e o nexo de causalidade, sendo certo que Clézia não poderia constar do polo passivo de eventual demanda indenizatória ajuizada por particular em decorrência de danos por ela ocasionados no exercício de suas atribuições.
- (E) pode ser objetiva ou subjetiva a depender da gravidade da conduta do agente, tendo por elementos caracterizadores, em qualquer caso, a conduta, o dano, o nexo de causalidade, sendo certo que Clézia poderia constar do polo passivo de eventual demanda indenizatória ajuizada por particular em decorrência de danos por ela ocasionados no exercício de suas atribuições.

**33**

No âmbito do domínio público, existem relevantes ditames do Código Civil, delimitando o conceito e indicando a classificação dos bens públicos quanto à afetação pública.

Nesse contexto, assinale a opção que indica um exemplo de bem público, com a adequada classificação, pertencente à respectiva pessoa jurídica.

- (A) A sede de uma prefeitura, que é bem de uso especial.
- (B) A sede de uma fundação, que é bem de uso dominical.
- (C) A sede de uma autarquia, que é bem de uso comum do povo.
- (D) A sede de uma assembleia legislativa, que é bem dominical.
- (E) A sede de uma empresa pública, que é bem de uso especial.

**34**

O Governador do *Estado Delta*, insatisfeito com as decisões que vinham sendo tomadas por dois órgãos colegiados que atuavam na definição, implementação e avaliação de políticas públicas, cujas atribuições estavam delimitadas em lei e contavam com a participação da sociedade civil, fez editar um Decreto que extinguiu os aludidos órgãos, promovendo, assim, a exoneração dos agentes que neles atuavam.

Para o exercício de tais competências, o Chefe do Poder Executivo editou outro Decreto que criou, no lugar daqueles que foram extintos, um único órgão, cujos cargos deveriam ser ocupados por pessoas mais alinhadas com o seu plano de governo.

Sobre o ato do Governador, considerando os contornos do Poder Regulamentar na CRFB/88, assinale a afirmativa correta.

- (A) Promoveu o uso regular do Poder Regulamentar, enquanto instrumento do Poder Disciplinar, na medida em que os órgãos que integram a Administração Pública devem estar alinhados com o respectivo plano de governo.
- (B) Extrapolou os limites do Poder Regulamentar, na medida em que a extinção de órgãos públicos, que tem suas atribuições definidas em lei, não poderia ser objeto de decreto.
- (C) Atuou nos limites do Poder Regulamentar, pois os decretos em questão encontram fundamento na Constituição, que confere ao Chefe do Poder Executivo ampla autonomia para inovar no ordenamento jurídico em matéria de organização administrativa.
- (D) Ultrapassou os limites do Poder Regulamentar, que confere ao Chefe do Executivo apenas a possibilidade de editar decretos para a fiel execução da lei, notadamente porque não há nenhuma hipótese que admita a inovação no ordenamento jurídico por meio de Decreto com fundamento diretamente na Constituição.
- (E) Atuou no regular exercício do Poder Regulamentar, considerando que a Constituição assegura ao Chefe do Executivo a possibilidade de inovar no ordenamento jurídico por meio de decreto sobre os assuntos que sejam de interesse do respectivo Poder, para fins de implementar o plano de governo.

35

O *Estado Delta* pretende criar uma sociedade de economia mista para realizar atividade econômica de relevante interesse coletivo, especialmente voltada para promover o incremento de novas tecnologias, além de outras atividades no respectivo setor, que atuará em regime de concorrência.

No âmbito da organização administrativa, é correto afirmar que essa entidade administrativa é uma pessoa jurídica de direito

- (A) privado, criada diretamente pela lei, integrante da Administração Direta, cujo regime jurídico de pessoal é o estatutário.
- (B) público, criada diretamente pela lei, integrante da Administração Indireta, cujo regime jurídico de pessoal é o celetista.
- (C) privado, que atua em colaboração com o Estado e não integra a Administração Pública, cujo regime jurídico de pessoal é o celetista.
- (D) público, criada mediante autorização legislativa, integrante da Administração Direta, cujo regime jurídico de pessoal é o estatutário.
- (E) privado, criada mediante autorização legislativa, integrante da Administração Indireta, cujo regime jurídico de pessoal é o celetista.

## Noções de Direito Constitucional / Direitos Humanos

36

Em uma pequena cidade brasileira, foi praticada uma conduta de grande lesividade social, que rapidamente tomou o noticiário nacional. Para surpresa dos órgãos de segurança pública, essa conduta não era tipificada como crime, o que levou um Deputado Federal a iniciar estudos visando a aprovar uma lei que criminalize esse tipo de prática e ainda punisse o autor da referida conduta, tida como altamente abjeta.

Ao fim de suas reflexões, o Deputado Federal concluiu corretamente que a retroação da futura lei

- (A) somente seria permitida em relação à alteração da pena, quer para agravá-la, quer para atenuá-la, o que não seria o caso, já que a conduta não era penalmente tipificada.
- (B) somente poderia retroagir, quer para prejudicar, quer para beneficiar o autor do ilícito, se fosse aprovada pela maioria de dois terços dos membros do Poder Legislativo.
- (C) irá retroagir, salvo em relação às situações que já tenham sido julgadas, com sentença transitada em julgado.
- (D) não pode retroagir em hipótese alguma, quer para prejudicar, quer para beneficiar o autor do ilícito.
- (E) somente poderia retroagir para beneficiar o autor do ilícito, jamais para prejudicá-lo.

37

Com o objetivo de uniformizar a organização interna e os direitos assegurados à população nos Municípios situados no Estado *Alfa*, iniciou-se um movimento, no âmbito da Assembleia Legislativa, com o objetivo de aprovar a Lei Orgânica a ser adotada por cada um dos referidos entes federativos.

À luz da sistemática constitucional, é correto afirmar, em relação ao referido objetivo, que a Lei Orgânica

- (A) deve ser veiculada em lei ordinária estadual.
- (B) deve ser veiculada em lei complementar estadual.
- (C) somente pode ser aprovada no âmbito de cada Município.
- (D) deve se limitar a estabelecer as normas gerais a serem observadas por cada Município.
- (E) somente pode ser editada pela Assembleia Legislativa se a Constituição Estadual o autorizar.

38

Determinado ativista dos direitos humanos afirmou, em um evento, que a Declaração Universal dos Direitos Humanos era totalmente infensa à tortura. Um debatedor, no entanto, insurgiu-se contra essa assertiva sob o argumento de que a Declaração reconhecia que o indivíduo estava inserido no agregado social, logo, o interesse individual nem sempre sobrepujava o coletivo, o que permitia a prática da tortura em situações específicas.

À luz dos termos da referida Declaração, é correto afirmar que

- (A) o indivíduo não pode subsistir sem o social, logo, o debatedor está certo.
- (B) a tortura será admitida, ou não, conforme a natureza do crime a ser apurado.
- (C) a tortura do ser humano nega sua própria condição humana, logo, o ativista está certo;
- (D) a tortura não pode ser admitida quando inexistir indícios de autoria e prova da materialidade.
- (E) a Declaração não é um tratado, mas mera exortação moral, logo, suas disposições são conselhos aos Estados partes, e, entre elas, não está a proscrição da tortura.

39

Maria, cidadã brasileira, entendia que os seus Direitos Humanos tinham sido objeto de grave violação por autoridades estatais, o que lhe permitiria invocar a proteção da Convenção Americana sobre Direitos Humanos (Pacto de São José e Decreto nº 678/1992). As autoridades estatais, no entanto, entendiam que tinham agido corretamente à luz da Convenção.

Ao consultar um especialista em relação à possibilidade de acessar os meios de proteção previstos na Convenção, foi corretamente informado a Maria que ela

- (A) tem acesso direto à Corte Interamericana de Direitos Humanos.
- (B) tem acesso direto à Comissão Interamericana de Direitos Humanos.
- (C) somente pode solicitar que o Ministério dos Direitos Humanos submeta o seu caso ao órgão competente da Convenção Interamericana.
- (D) tem acesso direto, conforme a natureza da infração, à Corte Interamericana de Direitos Humanos ou à Comissão Interamericana de Direitos Humanos.
- (E) somente pode solicitar que o órgão competente do Ministério Público brasileiro submeta o seu caso ao alto Comissariado de Tutela Interamericana.

40

Maria, ativista dos direitos humanos, informou a uma amiga que decidira se unir a uma verdadeira “cruzada cívica”, com o objetivo de defender a plena e integral implementação dos direitos sociais previstos na Constituição da República.

Como a amiga de Maria não tinha formação jurídica, decidiu perguntar-lhe qual característica esses direitos teriam, sendo-lhe corretamente informado que

- (A) em regra, exigem a oferta de prestações estatais.
- (B) destinam-se a assegurar a liberdade dos membros da sociedade.
- (C) buscam assegurar a participação da sociedade na formação da vontade política.
- (D) asseguram a proteção da esfera jurídica individual contra investidas dos poderes constituidos.
- (E) somente podem ser usufruídos pela integralidade da sociedade, não por uma pessoa em particular.

41

João, por ter sido condenado pela prática de determinado ilícito, foi considerado inelegível. Como tinha efetiva participação na vida política do Município *Alfa*, em cujo território residia, consultou um especialista em relação aos efeitos da referida inelegibilidade.

Foi corretamente informado a João que

- (A) ele perdeu os direitos políticos.
- (B) ele continua podendo votar nas eleições.
- (C) o seu alistamento eleitoral foi cancelado.
- (D) os seus direitos políticos estão suspensos.
- (E) ele está proibido de ocupar qualquer cargo público.

42

Maria, filha de Joana, espanhola, e de John, norte-americano, nasceu no território brasileiro quando os seus pais aqui se encontravam a trabalhar em uma indústria farmacêutica. Logo após o nascimento, Maria foi levada pelos seus pais para a Argentina.

Na situação descrita na narrativa, considerando os balizamentos estabelecidos pela Constituição brasileira, é correto afirmar que Maria é

- (A) estrangeira, podendo optar pela nacionalidade brasileira ao atingir a maioridade, caso venha a residir no território nacional.
- (B) estrangeira, sem direito reconhecido à obtenção da nacionalidade brasileira.
- (C) estrangeira, podendo optar pela nacionalidade brasileira ao atingir a maioridade.
- (D) brasileira naturalizada.
- (E) brasileira nata.

43

Nos termos do § 3º do Art. 31 da Constituição da República de 1988, “§ 3º *As contas dos Municípios ficarão, durante sessenta dias, anualmente, à disposição de qualquer contribuinte, para exame e apreciação, o qual poderá questionar-lhes a legitimidade, nos termos da lei*”.

A partir da interpretação da parte destacada do preceito constitucional, obtém-se uma norma de eficácia

- (A) restritiva.
- (B) legítima.
- (C) limitada.
- (D) contida.
- (E) plena.

## Noções de Direito Penal / Processual Penal

44

Matheus, Delegado de Polícia, tomou conhecimento de dois fatos criminosos que ocorreram na cidade em que atua, quais sejam:

- i) Joana, após ser ameaçada de morte pelo marido, no contexto de violência doméstica e familiar contra a mulher, se dirigiu à Delegacia de Polícia e representou criminalmente contra o agente;
- ii) João, maior e capaz, após ser vítima de um crime de estelionato, compareceu à unidade policial e demonstrou o interesse na deflagração de investigação em face do suposto autor do fato. Nada obstante, após alguns dias, Joana e João demonstraram o interesse em se retratar da representação que fora anteriormente oferecida.

Nesse cenário, considerando as disposições do Código de Processo Penal e da Lei nº 11.340/2006, assinale a afirmativa correta.

- (A) Joana poderá se retratar da representação antes do recebimento da denúncia. Por sua vez, João somente poderá se retratar antes do oferecimento da denúncia.
- (B) Joana poderá se retratar da representação antes do oferecimento da denúncia. Por sua vez, João somente poderá se retratar antes do recebimento da denúncia.
- (C) Joana não poderá se retratar da representação oferecida. Por sua vez, João somente poderá se retratar antes do oferecimento da denúncia.
- (D) Joana e João poderão se retratar da representação antes do recebimento da denúncia.
- (E) Joana e João não poderão se retratar da representação oferecida.

45

No curso de um processo penal que apurou o suposto delito de latrocínio consumado, o juiz competente, após requerimento do Ministério Público, decretou a prisão preventiva de José, suposto autor dos fatos.

Após o cumprimento do mandado de prisão, o advogado de José compareceu ao presídio, ocasião em que as partes conversaram sobre os regramentos aplicáveis à prisão preventiva.

Nesse cenário, considerando as disposições do Código de Processo Penal, assinale a afirmativa correta.

- (A) A legislação não estabelece o prazo máximo de duração da prisão preventiva, mas o juízo deverá revisar a necessidade de sua manutenção a cada sessenta dias, mediante decisão fundamentada, sob pena de tornar a prisão ilegal.
- (B) A decretação da prisão preventiva, com a finalidade de antecipação de cumprimento de pena ou como decorrência imediata de investigação criminal ou da apresentação ou recebimento de denúncia, não será admitida.
- (C) O juiz poderá, a pedido das partes, revogar a prisão preventiva se, no correr do processo, verificar a falta de motivo para que ela subsista, vedando-se a atuação de ofício, em homenagem ao sistema acusatório.
- (D) A decisão que decretar a prisão preventiva será sempre motivada e fundamentada, sendo suficiente, para tanto, a indicação de ato normativo, ainda que não se explique a sua relação com a causa.
- (E) O juiz poderá substituir a prisão preventiva pela domiciliar quando o agente for homem, caso seja o único responsável pelos cuidados do filho de até treze anos de idade incompletos.

46

João responde, perante o Juizado Especial Criminal da Comarca *Alfa*, pela prática do crime de porte de drogas para consumo pessoal (Art. 28 da Lei nº 11.343/2006), por ter sido encontrado com cinco gramas de *cannabis sativa L.*, popularmente conhecida como maconha. Nada obstante, no curso da persecução penal, o Congresso Nacional editou uma legislação descriminalizando a conduta perpetrada pelo agente.

Nesse cenário hipotético, considerando as disposições do Código Penal, é correto afirmar que haverá a extinção de punibilidade em razão do(a)

- (A) *abolitio criminis*.
- (B) perempção.
- (C) indulto.
- (D) anistia.
- (E) graça.

47

No curso de uma persecução penal deflagrada para apurar um suposto crime de roubo circunstanciado pelo emprego de arma de fogo, procedeu-se à oitiva, em juízo, de João e Maria (vítimas), de José (testemunha de acusação), de Joana (testemunha de defesa), passando-se, na sequência, ao interrogatório do acusado Otávio. O juiz verificou, então, que algumas das pessoas ouvidas divergiram, em suas declarações, sobre fatos e circunstâncias relevantes.

Nesse cenário, considerando as disposições do Código de Processo Penal, é correto afirmar que a acareação poderá ser realizada entre

- (A) acusado e testemunha, entre testemunhas, entre acusado ou testemunha e a pessoa ofendida, e entre as pessoas ofendidas, apenas.
- (B) testemunhas, entre testemunha e a pessoa ofendida, e entre as pessoas ofendidas, apenas.
- (C) acusado e testemunha, entre testemunhas, entre acusado ou testemunha, apenas.
- (D) testemunhas, entre testemunha e a pessoa ofendida, apenas.
- (E) testemunhas, apenas.

48

João se dirigiu à Delegacia de Polícia do Município *Alfa*, no Estado *Beta*, comunicando à autoridade policial o crime – perseguível mediante ação penal pública incondicionada, – que José, um colega de trabalho, teria praticado em seu desfavor. Contudo, a vítima não soube indicar o lugar da infração penal.

Nesse cenário, considerando as disposições do Código de Processo Penal, como não é conhecido o lugar da infração, o processo e o julgamento do feito ocorrerá na Comarca do(a)

- (A) domicílio ou da residência da vítima ou do domicílio ou residência do réu, à escolha de João.
- (B) domicílio ou da residência da vítima.
- (C) domicílio ou da residência do réu.
- (D) capital do Estado *Beta*.
- (E) Município *Alfa*.

49

João, após iniciar o estágio junto à 1ª Vara Criminal da Comarca *Alfa*, passou a se dedicar ao estudo do Direito Penal, para melhor desempenhar as suas funções laborais.

Assim, João, ao estudar uma determinada infração penal citada pela Constituição Federal, verificou que se tratava de um crime inafiançável e imprescritível, sujeito à pena de reclusão, nos termos da lei.

Nesse cenário, considerando as disposições constitucionais aplicáveis ao Direito Penal, é correto afirmar que José pode ter estudado os detalhes do crime de

- (A) tráfico ilícito de entorpecentes e drogas afins.
- (B) terrorismo.
- (C) homicídio.
- (D) racismo.
- (E) tortura.

50

João e José, em comunhão de ações e desígnios, aproximaram-se de Maria, que aguardava, no interior do seu automóvel, o sinal de trânsito abrir. Em assim sendo, os agentes bateram na janela do veículo e determinaram que a vítima entregasse os seus pertences, sob ameaça de morte.

Após subtraírem o telefone celular e o relógio da ofendida, os autores do delito tentaram se evadir, mas foram alcançados, cem metros à frente, por policiais militares que passavam pela região, sendo capturados em flagrante.

Nesse cenário, considerando as disposições do Código Penal, assinale a opção que indica o crime pelo qual João e José responderão.

- (A) Roubo circunstanciado pelo concurso de pessoas, na modalidade consumada.
- (B) Extorsão qualificada pelo concurso de pessoas, na modalidade consumada.
- (C) Roubo simples, na modalidade consumada.
- (D) Extorsão simples, na modalidade tentada.
- (E) Roubo simples, na modalidade tentada.

51

João, Delegado de Polícia, preside inquérito policial deflagrado para apurar suposto delito perpetrado por Fábio.

Durante a tramitação do procedimento administrativo, o agente público constatou que a prisão temporária é essencial para garantir o sucesso das investigações, sendo certo que há fundadas razões que apontam Fábio como o autor do crime investigado.

Nesse cenário, considerando as disposições da Lei nº 7.960/1989, é correto afirmar que o inquérito policial presidido por João versa sobre o crime de

- (A) furto qualificado pelo concurso de pessoas.
- (B) falsificação de documento público.
- (C) sequestro simples.
- (D) corrupção passiva.
- (E) concussão.

52

A Receita Federal, após denúncia realizada por um consumidor, procedeu à fiscalização do estabelecimento comercial de titularidade de Matheus, ocasião em que diversas irregularidades tributárias foram constatadas.

Muito preocupado, o empresário comentou os eventos com João, amigo de longa data, o qual lhe disse que é próximo de Caio, agente público e auditor da Receita Federal responsável pelo procedimento administrativo deflagrado em desfavor de Matheus. Em assim sendo, João solicitou ao empresário a entrega de cinco mil reais, a pretexto de influir na decisão que será tomada por Caio no procedimento administrativo que está em andamento.

Nesse cenário, considerando as disposições do Código Penal, é correto afirmar que João responderá pela prática do crime de

- (A) advocacia administrativa.
- (B) exploração de prestígio.
- (C) favorecimento pessoal.
- (D) tráfico de influência.
- (E) corrupção passiva.

53

Daniel, com 19 anos, teve relações sexuais consentidas com Joana, a qual, à época dos fatos, tinha 13 anos de idade.

Durante as investigações deflagradas contra Daniel, para apurar a suposta prática do crime de estupro de vulnerável, o agente afirmou e comprovou que conheceu Joana em uma boate – exclusiva para maiores de idade –, sendo certo que a adolescente ingressou no local portando uma carteira de identidade falsa. Daniel comprovou, ainda, que desconhecia, por completo, a idade da mulher, que aparentava, para todos, ser maior, em razão de sua compleição física apresentada.

Nesse cenário, considerando as disposições do Direito Penal, é correto afirmar que Daniel não responderá por qualquer crime, em razão do erro de

- (A) proibição indireto.
- (B) tipo incriminador.
- (C) proibição direto.
- (D) tipo permissivo.
- (E) mandamento.

54

João aproximou-se de três senhoras que caminhavam tranquilamente por uma praça do Município *Alfa*, e determinou que cada uma delas entregasse o telefone celular e o relógio, mediante grave ameaça, consubstanciada no emprego de arma de fogo. Em seguida, o agente logrou-se evadir na posse dos diversos pertences de propriedade das vítimas. Durante as investigações, verificou-se que João praticou os três delitos mediante uma única ação, mas sem que existissem desígnios autônomos.

Nesse cenário, considerando as disposições do Código Penal, é correto afirmar que João responderá pelos crimes perpetrados em

- (A) continuidade delitiva, pois o agente, mediante uma só ação, praticou três crimes, sendo-lhe aplicável a menos grave das penas cabíveis ou, se iguais, somente uma delas, mas aumentada, em qualquer caso, de um quarto.
- (B) continuidade delitiva, pois o agente, mediante uma só ação, praticou três crimes, sendo-lhe aplicável a mais grave das penas cabíveis ou, se iguais, somente uma delas, mas aumentada, em qualquer caso, de um quinto.
- (C) concurso material, pois o agente, mediante uma só ação, praticou três crimes, sendo-lhe aplicável a mais grave das penas cabíveis ou, se iguais, somente uma delas, mas aumentada, em qualquer caso, de um quinto.
- (D) concurso formal, pois o agente, mediante uma só ação, praticou três crimes, sendo-lhe aplicável a menos grave das penas cabíveis ou, se iguais, somente uma delas, mas aumentada, em qualquer caso, de um quarto.
- (E) concurso formal, pois o agente, mediante uma só ação, praticou três crimes, sendo-lhe aplicável a mais grave das penas cabíveis ou, se iguais, somente uma delas, mas aumentada, em qualquer caso, de um quinto.

55

Após ser capturado em flagrante pela suposta prática do crime de furto simples, João, primário e portador de bons antecedentes, passou por audiência de custódia, obtendo o direito de responder ao processo em liberdade. Em seguida, o Ministério Público ofereceu denúncia em detrimento do autor do delito e propôs a suspensão condicional do processo. Em assim sendo, João conversou com seu advogado sobre a proposta do *Parquet*.

Nesse cenário, considerando as disposições da Lei nº 9.099/1995, assinale a afirmativa correta.

- (A) A suspensão será revogada, a critério do Ministério Público, se o acusado vier a ser processado, no curso do prazo, por contravenção, ou descumprir qualquer outra condição imposta.
- (B) A suspensão poderá ser revogada se, no período de prova, o beneficiário vier a ser processado por outro crime ou não efetuar, sem motivo justificado, a reparação do dano.
- (C) O juiz poderá especificar outras condições a que fica subordinada a suspensão, desde que adequadas ao fato e à situação pessoal do acusado.
- (D) A proposta pelo acusado e seu defensor sendo aceita, na presença do juiz, este suspenderá o processo por um a dois anos.
- (E) A prescrição da pretensão punitiva estatal correrá durante o prazo de suspensão condicional do processo.



## Conhecimentos na Área de Atuação

56

Há certos princípios básicos para o uso da força pela autoridade policial, entre eles os da legalidade, da necessidade, da proporcionalidade e o da conveniência.

Acerca desses princípios, avalie as seguintes afirmativas:

- I. Legalidade: o uso da força é permitido apenas para atingir um objetivo legítimo,
- II. Necessidade: o uso da força somente deve ocorrer quando outros meios forem ineficazes para atingir o objetivo desejado.
- III. Proporcionalidade: o uso da força deve ser usado de forma proporcional à resistência oferecida, levando-se em conta os meios dos quais o policial dispõe.
- IV. Conveniência: mesmo sendo legal, necessário e proporcional o uso da força, é preciso observar se ele não coloca em risco outras pessoas e se é razoável e de bom-senso lançar mão desse meio.

Estão corretas as afirmativas

- (A) I e II, apenas.
- (B) III e IV, apenas.
- (C) I, II e III, apenas.
- (D) II, III e IV, apenas.
- (E) I, II, III e IV.

57

O Art. 100 do Regimento Interno da Assembleia Legislativa do Tocantins define e diz respeito às proposições legislativas.

Em relação às tais proposições, avalie se as afirmativas a seguir são verdadeiras (V) ou falsas (F).

- ( ) Proposição é toda matéria sujeita à deliberação da Assembleia.
- ( ) As proposições podem consistir, entre outras, em emendas à Constituição do Estado, projetos de lei e projetos de resolução.
- ( ) Nenhuma proposição poderá conter matéria estranha ao enunciado objetivamente declarado na ementa ou dele decorrente.

As afirmativas são, respectivamente,

- (A) V – V – V.
- (B) V – V – F.
- (C) F – V – F.
- (D) V – F – V.
- (E) V – F – F.

58

De acordo com a Lei nº 9.883/1999, o Sistema Brasileiro de Inteligência tem como fundamentos a preservação da soberania nacional, a defesa do Estado Democrático de Direito e a dignidade da pessoa humana, devendo ainda cumprir e preservar os direitos e garantias individuais e demais dispositivos da Constituição Federal, os tratados, convenções, acordos e ajustes internacionais em que a República Federativa do Brasil seja parte ou signatário, e a legislação ordinária.

Nesse cenário, considerando as disposições da Lei nº 9.883/1999, que institui o Sistema Brasileiro de Inteligência e cria a Agência Brasileira de Inteligência (ABIN), é correto afirmar que

- (A) a execução da Política Nacional de Inteligência, fixada pelo Presidente da República, será levada a efeito pela Agência Brasileira de Inteligência (ABIN), sob a supervisão do Ministério da Justiça e Segurança Pública.
- (B) a elaboração e edição do regimento interno da Agência Brasileira de Inteligência ABIN serão de responsabilidade de seu Diretor-Geral, que o submeterá à aprovação do Ministro da Justiça e da Segurança Pública.
- (C) o controle e fiscalização externos da atividade de inteligência serão exercidos pelo Ministério Público, na forma a ser estabelecida em ato do Conselho Nacional do Ministério Público.
- (D) os atos da Agência Brasileira de Inteligência (ABIN), cuja publicidade possa comprometer o êxito de suas atividades sigilosas, deverão permanecer por sigilo de, no mínimo, cinco anos.
- (E) a Agência Brasileira de Inteligência (ABIN) será dirigida por um Diretor-Geral, cujas funções serão estabelecidas no decreto que aprovar a sua estrutura organizacional.

59

A Norma Regulamentadora nº 23 estabelece medidas de prevenção contra incêndios nos ambientes de trabalho, aplicando-se aos estabelecimentos e locais de trabalho.

Nesse cenário, considerando as disposições da Norma Regulamentadora nº 23, é **incorreto** afirmar que

- (A) as aberturas, saídas e vias de passagem de emergência devem ser identificadas e sinalizadas de acordo com a legislação estadual e, quando aplicável, de forma complementar, com as normas técnicas oficiais, indicando a direção da saída.
- (B) os locais de trabalho devem dispor de, ao menos, três saídas de emergência, dispostas de modo que aqueles que se encontrem nesses locais possam abandoná-los com rapidez e segurança em caso de emergência.
- (C) as saídas de emergência podem ser equipadas com dispositivos de travamento que permitam fácil abertura do interior do estabelecimento.
- (D) nenhuma saída de emergência deve ser fechada à chave ou presa durante a jornada de trabalho.
- (E) as aberturas, saídas e vias de passagem devem ser mantidas desobstruídas.

**60**

João, particular, conduzia o seu veículo automotor pela BR nº 101, ocasião em que o carro desligou, por falta de combustível, prejudicando sobremaneira o trânsito na localidade. Nesse cenário, considerando as disposições do Código de Trânsito Brasileiro, é correto afirmar que restou caracterizada uma infração administrativa

- (A) gravíssima, sujeitando João à penalidade de suspensão do direito de dirigir e à medida administrativa de remoção do veículo.
- (B) gravíssima, sujeitando João à penalidade de proibição do direito de dirigir e à medida administrativa de remoção do veículo.
- (C) grave, sujeitando João à penalidade de suspensão do direito de dirigir e à medida administrativa de remoção do veículo.
- (D) média, sujeitando João à penalidade de multa e à medida administrativa de remoção do veículo.
- (E) leve, sujeitando João à penalidade de multa e à medida administrativa de remoção do veículo.



# ASSEMBLEIA LEGISLATIVA DO ESTADO DO TOCANTINS

CONCURSO PÚBLICO – EDITAL Nº 01/2023

## PROVA OBJETIVA – MANHÃ

### POLICIAL LEGISLATIVO II POLÍCIA E SEGURANÇA II

NÍVEL MÉDIO – TIPO 4 – AZUL



#### SUA PROVA

- Além deste caderno contendo **60 (sessenta)** questões objetivas, você receberá do fiscal de prova o cartão de respostas;
- As questões objetivas têm **5 (cinco)** opções de resposta (A, B, C, D) e somente uma delas está correta.



#### TEMPO

- Você dispõe de **4 (quatro) horas** para a realização da prova, já incluído o tempo para a marcação do cartão de respostas;
- **3 (três) horas** após o início da prova, é possível retirar-se da sala, sem levar o caderno de questões;
- A partir dos **30 (trinta) minutos** anteriores ao término da prova é possível retirar-se da sala **levando o caderno de questões**.



#### NÃO SERÁ PERMITIDO

- Qualquer tipo de comunicação entre os candidatos durante a aplicação da prova;
- Anotar informações relativas às respostas em qualquer outro meio que não seja o caderno de questões;
- Levantar da cadeira sem autorização do fiscal de sala;
- Usar o sanitário ao término da prova, após deixar a sala.



#### INFORMAÇÕES GERAIS

- Verifique se seu caderno de questões está completo, sem repetição de questões ou falhas. Caso contrário, **notifique imediatamente o fiscal da sala**, para que sejam tomadas as devidas providências;
- Confira seus dados pessoais, especialmente nome, número de inscrição e documento de identidade e leia atentamente as instruções para preencher o cartão de respostas;
- Para o preenchimento do cartão de respostas, use somente caneta esferográfica, fabricada em material transparente, com tinta preta ou azul;
- Assine seu nome apenas no(s) espaço(s) reservado(s) no cartão de respostas;
- Confira seu cargo, cor e tipo do caderno de questões. Caso tenha recebido caderno de cargo ou cor ou tipo **diferente** do impresso em seu cartão de respostas, o fiscal deve ser **obrigatoriamente** informado para o devido registro na ata da sala;
- Reserve tempo suficiente para o preenchimento do seu cartão de respostas. O preenchimento é de sua responsabilidade e **não será permitida a troca do cartão de respostas em caso de erro cometido pelo candidato**;
- Para fins de avaliação, serão levadas em consideração apenas as marcações realizadas no cartão de respostas;
- A FGV coletará as impressões digitais dos candidatos na lista de presença;
- Os candidatos serão submetidos ao sistema de detecção de metais quando do ingresso e da saída de sanitários durante a realização das provas.
- **Boa prova!**

## CONHECIMENTOS BÁSICOS

### Língua Portuguesa

1

As frases a seguir mostram termos repetidos; assinale a opção que apresenta a frase em que o significado dos dois termos **não** é o mesmo.

- (A) Morrer é mudar de corpo como o ator muda de roupa.
- (B) Janeiro é o mês que se fazem bons votos aos amigos; os outros são os meses em que esses votos não se concretizam.
- (C) Quem tempo espera, muito tempo consome.
- (D) A falsidade da História é tão velha como a própria História.
- (E) Viva todos os dias como se fosse o último. Um dia você acerta.

2

Assinale a opção que apresenta a frase em que houve **erro** de concordância da palavra sublinhada.

- (A) O presidente fez questão de deixar bem **claras** as suas intenções.
- (B) O STF qualificou de **antidemocrático** aqueles atos.
- (C) O governo chinês torna **visíveis** os erros das ditaduras.
- (D) Os enfermeiros tiveram **reconhecidos** os direitos de greve.
- (E) Tomei **emprestados** à biblioteca vários livros.

3

Assinale a opção que apresenta as duas palavras que devem ser grafadas com **es** e não com **ex**.

- (A) Excremento / expurgo.
- (B) Excusar / expontâneo.
- (C) Excomungar / expressar.
- (D) Extirpar / extorquir.
- (E) Exterminar / extremoso.

4

Leia o fragmento a seguir.

*“Não somos daqueles que só em meio aos livros, estimulados por livros vêm a ter pensamentos – é nosso hábito pensar ao ar livre, andando, saltando, escalando, dançando, preferivelmente em montes solitários ou próximos ao mar, onde mesmo as trilhas se tornam pensativas.”* (Nietzsche, filósofo alemão).

Sobre o significado desse fragmento, assinale a afirmativa correta.

- (A) A leitura é importante para a criação de ideias originais.
- (B) As formas de gerúndio mostram a evolução cronológica das ações narradas pelo escritor.
- (C) O pronome relativo “onde” refere-se a locais ao ar livre.
- (D) A forma do verbo “tornar-se”, como verbo de ligação, indica um estado transitório.
- (E) Os ambientes solitários propiciam reflexões de valor.

5

As citações a seguir são compostas por dois segmentos; assinale a opção em que a **relação lógica** indicada pelo segundo segmento está correta.

- (A) Dize-me o que crês ser / e te direi o que não és. – relação de oposição.
- (B) Quem crê é forte / quem duvida é fraco. – relação de conclusão.
- (C) Seja lá por que um homem reza, / ele reza por um milagre. – relação de explicação.
- (D) Não adianta esperar que o navio chegue / se você não o mandou para lugar nenhum. – relação de causa.
- (E) Pense como um homem de ação / e aja como um pensador. – relação de conclusão.

6

Leia o seguinte texto de um jornal de outros tempos:

*“Mudança nas moedas. A partir de junho começam a entrar em circulação as moedas de Cr\$100 e Cr\$500 substituindo as cédulas que trazem estampadas a poetisa Cecília Meireles e o naturalista Augusto Ruschi, respectivamente. O lançamento das moedas foi aprovado na reunião de ontem do Conselho Monetário Nacional, colocando fim à família de notas criadas no governo Sarney, sob a égide dos cruzados novos.”*

Sobre esse fragmento textual, analise as observações a seguir, feitas por um estudioso de nossa Língua, e assinale a correta.

- (A) “Começam a entrar em circulação” é bastante estranho, porque as moedas, pequenas que são e de pequeno valor, “entram” logo.
- (B) “trazem estampadas a poetisa Cecília Meireles e o naturalista Augusto Ruschi”, mas eu pensava que as moedas trazem estampadas as efígies de Fulano ou Beltrano.
- (C) “colocando fim à família” mostra o emprego inadequado de “colocar” em lugar de “pôr”.
- (D) “criadas”, por questão de clareza e precisão, devia ser substituído por “lançadas” ou “emitidas”.
- (E) “sob”, por questão de correção gramatical, deve ser substituído por “sobre”.

7

Os textos a seguir mostram elementos de coesão em relação ao termo sublinhado; assinale a opção em que **todos** os termos seguintes, em coesão com ele, estão indicados.

- (A) Geralmente, entre nossos **motivos** de agir, há um mais forte que os demais: aquele que não é declarado. – *um, os demais, aquele, que.*
- (B) O que empobrece **o homem** não são seus atos, mas os desejos que ele possui. – *ele.*
- (C) **O dinheiro**, recebem-no todos os que trabalham e o perdem todos os irresponsáveis. – *no, que, o.*
- (D) Qual pode ser **a vida** que começa pelos gritos da mãe, que a dá, e o choro do filho que a recebe? – *que, que, a.*
- (E) Meu filho! Deus te enviou a **este mundo**. Cultiva-o e não te apresses em sair dele. – *o.*

8

As perguntas a seguir apresentam o pronome pessoal oblíquo em ênclise (após o verbo); assinale a que mostra formulação **incorreta**, porque só admite próclise.

- (A) Os dois bandidos evadiram-se do presídio em Mossoró?
- (B) Onde podemos vê-los?
- (C) Eles dedicar-se-iam às tarefas com prazer.
- (D) Numa entrevista como esta, isto pergunta-se?
- (E) Quem dir-me-á tantas barbaridades, senão ele?

9

As opções a seguir mostram, corretamente, a substituição da forma sublinhada, composta de **não + verbo**, por um só verbo, de sentido equivalente, **à exceção de uma**. Assinale-a.

- (A) Os países da OTAN pediram que o exército russo não avançasse esta semana. / *parasse*.
- (B) O deputado informou que não dispunha de tempo para redigir uma nova versão do projeto. / *carecia*.
- (C) O Presidente não aceitou o convite para visitar a Alemanha. / *declinou do*.
- (D) Não abriu as portas do museu para evitar a curiosidade do público. / *fechou*.
- (E) Por seus futuros compromissos, preferia não gastar dinheiro / *economizar*.

10

As frases a seguir mostram uma locução adjetiva introduzida pela preposição **sem**; assinale a opção em que a substituição dessa locução por um adjetivo de valor equivalente foi feita de forma adequada.

- (A) Cartas sem autoria declarada são sempre mal recebidas / desautorizadas.
- (B) Os poços sem água são de pouca serventia para a lavoura / áridos.
- (C) Foram deixados muitos problemas sem solução / insolúveis.
- (D) O governo tomou muitas atitudes sem nexos / desconexas.
- (E) Com os fogos de artifício, o campo ficou sem visão / invisível.

## Raciocínio Lógico Matemático

11

Marcelo é filho de Alberto. Pedro é filho de Luiz. Se Marcelo e Luiz são irmãos por parte de pai, então

- (A) Alberto é pai de Pedro.
- (B) Alberto é tio de Pedro.
- (C) Pedro é irmão de Marcelo.
- (D) Pedro é sobrinho de Marcelo.
- (E) Pedro é neto de Marcelo.

12

A seguir, são apresentados os 9 primeiros termos de uma sequência infinita de números inteiros.

13, 12, 14, 11, 15, 10, 16, 9, 17, ...

Os termos são, alternadamente, maiores e menores que seus antecessores imediatos, seguindo um padrão de construção.

Sabendo-se que esse padrão é mantido ao longo de toda a sequência, conclui-se que um termo negativo aparecerá pela primeira vez na

- (A) 28ª posição.
- (B) 27ª posição.
- (C) 26ª posição.
- (D) 15ª posição.
- (E) 14ª posição.

13

Para pagar um lanche, Temístocles usou uma nota de R\$20,00 e recebeu, de troco, uma nota de R\$5,00, duas notas de R\$2,00, nove moedas de R\$0,50 e 3 moedas de R\$0,25.

O lanche custou a Temístocles

- (A) R\$5,25.
- (B) R\$5,75.
- (C) R\$6,25.
- (D) R\$6,75.
- (E) R\$7,25.

14

Dois números diferentes serão escolhidos ao acaso entre os elementos do conjunto {5,7,9,11,14}.

A soma dos números escolhidos

- (A) certamente é ímpar.
- (B) certamente é par.
- (C) pode ser 26.
- (D) pode ser 18.
- (E) pode ser menor que 12.

15

Em um jogo, duas fichas azuis têm o mesmo valor de cinco fichas vermelhas e uma ficha preta vale o mesmo que três fichas azuis.

Assim, duas fichas pretas equivalem a

- (A) sete fichas vermelhas.
- (B) oito fichas vermelhas.
- (C) nove fichas vermelhas.
- (D) doze fichas vermelhas.
- (E) quinze fichas vermelhas.

16

Sabe-se que 20% de  $N$  é igual a 13,4. Logo, 90% de  $N$  é igual a

- (A) 59,6.
- (B) 60,3.
- (C) 61,2.
- (D) 62,5.
- (E) 63,2.

## Noções de Informática

17

Nos sistemas operacionais Microsoft Windows 10, o recurso "Executar" permite aos usuários abrir rapidamente programas, pastas, documentos e recursos do sistema, ao digitar o caminho completo ou o nome do item.

Assinale a opção que apresenta a combinação de teclas usada para abrir a caixa de diálogo "Executar".

- (A) Windows + E
- (B) Windows + I
- (C) Windows + K
- (D) Windows + L
- (E) Windows + R

18

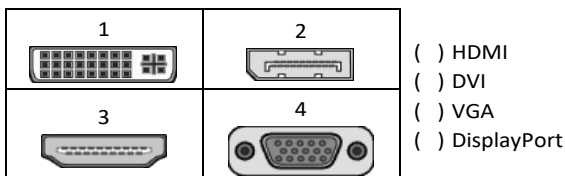
No contexto dos sistemas operacionais Microsoft Windows, o Painel de Controle é uma área central para gerenciar as configurações do sistema, opções de personalização e outros.

Considerando as versões superiores ao Windows 7, assinale a opção que **não** indica uma funcionalidade encontrada no painel de controle.

- (A) Backup e Restauração.
- (B) Relógio e Região.
- (C) Hardware e Sons.
- (D) Contas de Usuário.
- (E) Configuração de Registro Avançadas.

19

No contexto das interfaces para vídeo, relacione as portas às suas respectivas tecnologias.



Assinale a opção que indica a relação correta, segundo a ordem apresentada.

- (A) 2 – 3 – 1 – 4.
- (B) 2 – 4 – 1 – 3.
- (C) 3 – 2 – 1 – 4.
- (D) 3 – 1 – 4 – 2.
- (E) 4 – 2 – 3 – 1.

20

Em uma planilha Microsoft Excel 2019 em português do Brasil, há um conjunto de dados com vendas listadas na coluna B.

Por meio da funcionalidade de Formatação Condicional, a seguinte função pode ser usada para destacar os 10% dos principais valores de vendas com preenchimento verde:

- (A) PERCENTIL.
- (B) MAXIMO.
- (C) SOMASES.
- (D) CONT.SE.
- (E) ABS.

21

Sobre a inserção de tabelas no Microsoft Word 2019 em português, analise as afirmativas a seguir.

- I. As tabelas admitem diferentes estilos de borda, cores de preenchimento e fontes, para melhorar sua apresentação visual.
- II. Ao inserir uma tabela, é possível definir o número de linhas e colunas antes de criá-la, no entanto, não é possível alterar a estrutura após a inserção.
- III. As tabelas podem ser inseridas apenas no início de um documento e não podem ser movidas para outras partes do texto.

Está correto o que se afirma em

- (A) I, apenas.
- (B) I e II, apenas.
- (C) II e III, apenas.
- (D) I e III, apenas.
- (E) I, II e III.

22

Em uma pequena empresa, durante uma tentativa de realizar uma manutenção de rotina nos servidores ao final do expediente, José, um funcionário recém-contratado, com pouca experiência em TI, desliga um servidor que está rodando um serviço de DHCP. No dia seguinte, os usuários começam a reportar problemas.

Considerando que todas as estações de trabalho com sistema operacional Windows estavam utilizando o servidor DHCP, assinale a opção que indica o que os usuários reportaram.

- (A) As estações de trabalho não estão ligando, pois dependem do servidor DHCP.
- (B) Havia lentidão na conexão com a internet.
- (C) Perda de acesso à internet, enquanto o acesso à rede local entre as estações de trabalho permaneceu possível.
- (D) Interrupção do serviço de *e-mail*; os demais serviços funcionavam.
- (E) Impressão em rede local não funcionava, mas a internet estava acessível.

## Legislação Institucional

23

Considerando o que dispõe o Regimento Interno da Assembleia Legislativa de Tocantins a respeito das Comissões, assinale a afirmativa correta.

- (A) A Comissão de Constituição, Justiça e Redação tem poderes de investigação próprios das autoridades judiciais.
- (B) As Comissões Especiais não podem ser constituídas para investigação sumária de fato determinado.
- (C) À Comissão de Segurança Pública compete analisar questões ligadas à violência urbana e rural.
- (D) As Comissões de Representação devem ser aprovadas pela maioria absoluta do Plenário da Assembleia.
- (E) A Comissão Parlamentar de Inquérito poderá deslocar-se para qualquer ponto do território estadual para a realização de investigações e audiências públicas.

24

Joaquim é servidor estadual estável, detentor de cargo efetivo e aposentado voluntariamente. Depois de dois anos de sua aposentadoria, Joaquim manifestou interesse, perante a Administração, de retornar à atividade em que era estável.

Caso haja cargo vago disponível, conforme a Lei nº 1818/2017, que dispõe sobre o Estatuto dos Servidores Públicos Civis do Estado do Tocantins, assinale a modalidade de provimento adequada ao caso.

- (A) Aproveitamento.
- (B) Reversão.
- (C) Readaptação.
- (D) Reintegração.
- (E) Recondução.

25

Luiz, servidor público efetivo, encontra-se em estágio probatório e, nesse período, tem sido submetido a Avaliações Especiais de Desempenho.

Nos termos da Lei nº 4.208/2023, que cuida do plano de cargos, carreiras e remuneração dos Servidores da Assembleia Legislativa do Tocantins, assinale a afirmativa correta.

- (A) A Avaliação Especial de Desempenho dá-se em três etapas, que tem por base o acompanhamento trimestral do servidor.
- (B) O resultado da avaliação será levado ao conhecimento do avaliado e arquivado em caráter público.
- (C) O servidor, para ser aprovado, deverá obter média igual ou superior a 60% (sessenta por cento) dos pontos possíveis nas Avaliações Especiais de Desempenho.
- (D) O servidor, caso aprovado no estágio probatório, será imediatamente elevado para a classe seguinte do padrão inicial do seu cargo.
- (E) O servidor deve ser avaliado pelo chefe imediato.

26

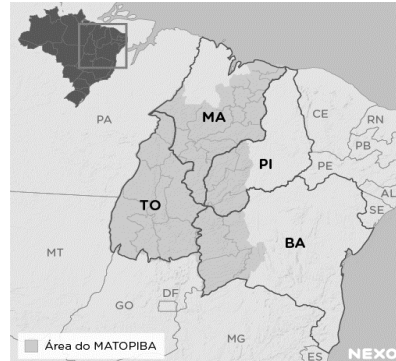
João, eleito Deputado Estadual, foi diplomado, mas ainda não tomou posse.

À luz da Constituição do Estado do Tocantins, João não poderá

- (A) exercer cargo em uma empresa concessionária de serviço público.
- (B) ser diretor de uma empresa que goze de favor decorrente de contrato com pessoa jurídica de direito público.
- (C) patrocinar uma causa em que seja interessada uma autarquia.
- (D) manter contrato com uma pessoa jurídica de direito privado.
- (E) ser titular de mais de um cargo ou de mandato público eletivo.

## História e Geografia do Estado de Tocantins

27



A área do MATOPIBA caracteriza-se pelo baixo preço das terras e pela uniformidade do clima, do solo e do relevo, que facilitam a mecanização agrícola e tem atraído cada vez mais agricultores.

A respeito do MATOPIBA, analise as afirmativas a seguir.

- I. É uma região de transição entre o Cerrado e o Semiárido, com condições favoráveis para a agricultura: áreas planas e extensas, solos de alto potencial produtivo, disponibilidade de água, clima favorável com elevada intensidade de sol.
- II. É um grande produtor de *commodities*, com uso intenso de tecnologia (máquinas, colheitadeiras, insumos) e uso reduzido do fator trabalho, assim sendo, o crescimento do produto interno bruto (PIB) aumenta com velocidade, mas a geração de riqueza não é acompanhada, proporcionalmente, por uma melhora na distribuição de renda.
- III. É o maior produtor nacional de soja, pois concentra 90% da área de plantio, sendo também a região com o maior índice de produtividade sustentável de grãos, em função da colaboração do setor do agronegócio com a preservação das unidades de conservação locais.

Está correto o que se afirma em

- (A) I, apenas.
- (B) II, apenas.
- (C) III, apenas.
- (D) I e II, apenas.
- (E) II e III, apenas.

28

Sobre a formação histórica do território que hoje corresponde ao Estado do Tocantins, assinale a afirmativa que descreve corretamente o processo de desbravamento e ocupação da região no Período Colonial.

- (A) No final do século XVI, os primeiros a encontrar a foz do rio Tocantins junto ao Amazonas foram os espanhóis, então instalados no Maranhão para expulsar colonos franceses que haviam fundado a França equinocial.
- (B) Na primeira metade do século XVIII, a bandeira de Bartolomeu Bueno da Silva Filho descobriu ouro nas cabeceiras do rio Vermelho e fundou o Arraial de Sant'Anna, às margens do rio.
- (C) Nos anos de 1730-40 foi encontrado ouro no norte de Goiás, incentivando a fundação de cidades sob a jurisdição de Salvador, como Natividade, Almas, Chapada, Pontal e Porto Real, entre outras.
- (D) O declínio da mineração se acentuou na passagem do século XVIII para o XIX, agravado pela instituição de um novo imposto (capitação), cobrado proporcionalmente ao número de escravos de cada minerador.
- (E) Na segunda década do século XIX, em decorrência da crise da mineração, a região estava em uma situação de abandono, como relatado por Theotônio Segurado, futuro Governador da Capitania do Norte.

29

O Estado do Tocantins situa-se em uma zona de transição que apresenta dois tipos de vegetação: a Floresta Ombrófila e a Savana, pertencentes, respectivamente, aos biomas

- (A) Amazônia e Cerrado.
- (B) Mata Atlântica e Pampa.
- (C) Caatinga e Mata Atlântica.
- (D) Amazônia e Caatinga.
- (E) Cerrado e Pantanal.

30



As bonecas Ritxoko são figuras de cerâmica confeccionadas por mulheres indígenas da etnia Karajá, do estado do Tocantins. Feitas a partir da mistura de argila e água, as peças representam tanto a forma humana e seus ciclos de vida quanto elementos da fauna e do sobrenatural. A pigmentação vermelha é extraída do urucum, enquanto a preta é retirada de uma árvore chamada ixarurina. As bonecas são usadas como instrumentos de socialização das crianças que se veem nesses objetos e aprendem a ser Karajá, recebendo ensinamentos e aprendendo as técnicas e saberes associados à sua confecção e usos. A pintura e a decoração das cerâmicas estão associadas à pintura corporal dos Karajá e às peças de vestuário e adorno.

Adaptado de <https://www.gov.br/funai>

Com base no trecho, é correto afirmar que as bonecas Ritxoko são um patrimônio

- (A) da humanidade, uma vez que constituem bens culturais e naturais significativos para todas as culturas, sendo contempladas como referência estética para todos os povos.
- (B) histórico nacional, pois exemplificam a riqueza dos modos de fazer e das formas de expressão que envolvem a tradição dos Karajás no Brasil.
- (C) cultural brasileiro, uma vez que são consideradas representações culturais com significados sociais e identitários profundos.
- (D) imaterial mundial, já que sua feitura envolve processos abstratos criativos de elaboração e variação de formas e grafismos.
- (E) material tocantinense, por expressar a arte, a memória e a identidade das comunidades indígenas da Ilha do Bananal, no Tocantins.



## CONHECIMENTOS ESPECÍFICOS

### Noções de Direito Administrativo

**31**

O *Estado Delta* pretende criar uma sociedade de economia mista para realizar atividade econômica de relevante interesse coletivo, especialmente voltada para promover o incremento de novas tecnologias, além de outras atividades no respectivo setor, que atuará em regime de concorrência.

No âmbito da organização administrativa, é correto afirmar que essa entidade administrativa é uma pessoa jurídica de direito

- (A) privado, criada diretamente pela lei, integrante da Administração Direta, cujo regime jurídico de pessoal é o estatutário.
- (B) público, criada diretamente pela lei, integrante da Administração Indireta, cujo regime jurídico de pessoal é o celetista.
- (C) privado, que atua em colaboração com o Estado e não integra a Administração Pública, cujo regime jurídico de pessoal é o celetista.
- (D) público, criada mediante autorização legislativa, integrante da Administração Direta, cujo regime jurídico de pessoal é o estatutário.
- (E) privado, criada mediante autorização legislativa, integrante da Administração Indireta, cujo regime jurídico de pessoal é o celetista.

**32**

Ao estudar o tema atinente ao ato administrativo, Maya decidiu verificar os exemplos de atos que seriam perfeitos, válidos e ineficazes.

Assinale a opção que apresenta, corretamente, o exemplo que atende àquelas condições.

- (A) A realização de um ato administrativo por servidor incompetente.
- (B) A imediata remoção de servidor, a pedido, para outra lotação.
- (C) A exoneração a pedido de servidor, a contar de data futura.
- (D) A nomeação de servidor para atuar prontamente em comissão disciplinar.
- (E) A aplicação de penalidade de demissão a um servidor público, nas hipóteses previstas em lei, após o devido processo administrativo.

**33**

Após ser investida no cargo de analista da Assembleia Legislativa do *Estado Ômega*, por estar preocupada com a possibilidade de ser pessoalmente responsabilizada na esfera civil perante terceiros, Clézia passou a perquirir as questões atinentes à responsabilidade civil da Administração Pública, notadamente quanto à sua natureza e aos elementos caracterizadores, bem como acerca da possibilidade de ela constar do polo passivo das demandas eventualmente ajuizadas por particulares, em decorrência de prejuízos por ela causados no exercício de suas atribuições.

Nesse contexto, Clézia concluiu corretamente que a responsabilidade civil do Estado pelas condutas de seus agentes

- (A) é subjetiva, tendo por elementos caracterizadores a conduta, o dano e o nexo de causalidade, sendo certo que Clézia não poderia constar do polo passivo de eventual demanda indenizatória ajuizada por particular em decorrência de danos por ela ocasionados no exercício de suas atribuições.
- (B) é objetiva, tendo por elementos caracterizadores a conduta, o dano, o nexo de causalidade e a configuração de dolo ou culpa, sendo certo que Clézia poderia constar do polo passivo de eventual demanda indenizatória ajuizada por particular em decorrência de danos por ela ocasionados no exercício de suas atribuições.
- (C) é subjetiva, tendo por elementos caracterizadores a conduta, o dano, o nexo de causalidade e a configuração de dolo ou culpa, sendo certo que Clézia poderia constar do polo passivo de eventual demanda indenizatória ajuizada por particular em decorrência de danos por ela ocasionados no exercício de suas atribuições.
- (D) é objetiva, tendo por elementos caracterizadores a conduta, o dano e o nexo de causalidade, sendo certo que Clézia não poderia constar do polo passivo de eventual demanda indenizatória ajuizada por particular em decorrência de danos por ela ocasionados no exercício de suas atribuições.
- (E) pode ser objetiva ou subjetiva a depender da gravidade da conduta do agente, tendo por elementos caracterizadores, em qualquer caso, a conduta, o dano, o nexo de causalidade, sendo certo que Clézia poderia constar do polo passivo de eventual demanda indenizatória ajuizada por particular em decorrência de danos por ela ocasionados no exercício de suas atribuições.

**34**

No âmbito do domínio público, existem relevantes ditames do Código Civil, delimitando o conceito e indicando a classificação dos bens públicos quanto à afetação pública.

Nesse contexto, assinale a opção que indica um exemplo de bem público, com a adequada classificação, pertencente à respectiva pessoa jurídica.

- (A) A sede de uma prefeitura, que é bem de uso especial.
- (B) A sede de uma fundação, que é bem de uso dominical.
- (C) A sede de uma autarquia, que é bem de uso comum do povo.
- (D) A sede de uma assembleia legislativa, que é bem dominical.
- (E) A sede de uma empresa pública, que é bem de uso especial.

35

O Governador do *Estado Delta*, insatisfeito com as decisões que vinham sendo tomadas por dois órgãos colegiados que atuavam na definição, implementação e avaliação de políticas públicas, cujas atribuições estavam delimitadas em lei e contavam com a participação da sociedade civil, fez editar um Decreto que extinguiu os aludidos órgãos, promovendo, assim, a exoneração dos agentes que neles atuavam.

Para o exercício de tais competências, o Chefe do Poder Executivo editou outro Decreto que criou, no lugar daqueles que foram extintos, um único órgão, cujos cargos deveriam ser ocupados por pessoas mais alinhadas com o seu plano de governo.

Sobre o ato do Governador, considerando os contornos do Poder Regulamentar na CRFB/88, assinale a afirmativa correta.

- (A) Promoveu o uso regular do Poder Regulamentar, enquanto instrumento do Poder Disciplinar, na medida em que os órgãos que integram a Administração Pública devem estar alinhados com o respectivo plano de governo.
- (B) Extrapolou os limites do Poder Regulamentar, na medida em que a extinção de órgãos públicos, que tem suas atribuições definidas em lei, não poderia ser objeto de decreto.
- (C) Atuou nos limites do Poder Regulamentar, pois os decretos em questão encontram fundamento na Constituição, que confere ao Chefe do Poder Executivo ampla autonomia para inovar no ordenamento jurídico em matéria de organização administrativa.
- (D) Ultrapassou os limites do Poder Regulamentar, que confere ao Chefe do Executivo apenas a possibilidade de editar decretos para a fiel execução da lei, notadamente porque não há nenhuma hipótese que admita a inovação no ordenamento jurídico por meio de Decreto com fundamento diretamente na Constituição.
- (E) Atuou no regular exercício do Poder Regulamentar, considerando que a Constituição assegura ao Chefe do Executivo a possibilidade de inovar no ordenamento jurídico por meio de decreto sobre os assuntos que sejam de interesse do respectivo Poder, para fins de implementar o plano de governo.

## Noções de Direito Constitucional / Direitos Humanos

36

Determinado ativista dos direitos humanos afirmou, em um evento, que a Declaração Universal dos Direitos Humanos era totalmente infensa à tortura. Um debatedor, no entanto, insurgiu-se contra essa assertiva sob o argumento de que a Declaração reconhecia que o indivíduo estava inserido no agregado social, logo, o interesse individual nem sempre sobrepujava o coletivo, o que permitia a prática da tortura em situações específicas.

À luz dos termos da referida Declaração, é correto afirmar que

- (A) o indivíduo não pode subsistir sem o social, logo, o debatedor está certo.
- (B) a tortura será admitida, ou não, conforme a natureza do crime a ser apurado.
- (C) a tortura do ser humano nega sua própria condição humana, logo, o ativista está certo;
- (D) a tortura não pode ser admitida quando inexistir indícios de autoria e prova da materialidade.
- (E) a Declaração não é um tratado, mas mera exortação moral, logo, suas disposições são conselhos aos Estados partes, e, entre elas, não está a proscrição da tortura.

37

João, por ter sido condenado pela prática de determinado ilícito, foi considerado inelegível. Como tinha efetiva participação na vida política do Município *Alfa*, em cujo território residia, consultou um especialista em relação aos efeitos da referida inelegibilidade.

Foi corretamente informado a João que

- (A) ele perdeu os direitos políticos.
- (B) ele continua podendo votar nas eleições.
- (C) o seu alistamento eleitoral foi cancelado.
- (D) os seus direitos políticos estão suspensos.
- (E) ele está proibido de ocupar qualquer cargo público.

38

Em uma pequena cidade brasileira, foi praticada uma conduta de grande lesividade social, que rapidamente tomou o noticiário nacional. Para surpresa dos órgãos de segurança pública, essa conduta não era tipificada como crime, o que levou um Deputado Federal a iniciar estudos visando a aprovar uma lei que criminalize esse tipo de prática e ainda punisse o autor da referida conduta, tida como altamente abjeta.

Ao fim de suas reflexões, o Deputado Federal concluiu corretamente que a retroação da futura lei

- (A) somente seria permitida em relação à alteração da pena, quer para agravá-la, quer para atenuá-la, o que não seria o caso, já que a conduta não era penalmente tipificada.
- (B) somente poderia retroagir, quer para prejudicar, quer para beneficiar o autor do ilícito, se fosse aprovada pela maioria de dois terços dos membros do Poder Legislativo.
- (C) irá retroagir, salvo em relação às situações que já tenham sido julgadas, com sentença transitada em julgado.
- (D) não pode retroagir em hipótese alguma, quer para prejudicar, quer para beneficiar o autor do ilícito.
- (E) somente poderia retroagir para beneficiar o autor do ilícito, jamais para prejudicá-lo.

39

Com o objetivo de uniformizar a organização interna e os direitos assegurados à população nos Municípios situados no Estado *Alfa*, iniciou-se um movimento, no âmbito da Assembleia Legislativa, com o objetivo de aprovar a Lei Orgânica a ser adotada por cada um dos referidos entes federativos.

À luz da sistemática constitucional, é correto afirmar, em relação ao referido objetivo, que a Lei Orgânica

- (A) deve ser veiculada em lei ordinária estadual.
- (B) deve ser veiculada em lei complementar estadual.
- (C) somente pode ser aprovada no âmbito de cada Município.
- (D) deve se limitar a estabelecer as normas gerais a serem observadas por cada Município.
- (E) somente pode ser editada pela Assembleia Legislativa se a Constituição Estadual o autorizar.

40

Maria, cidadã brasileira, entendia que os seus Direitos Humanos tinham sido objeto de grave violação por autoridades estatais, o que lhe permitiria invocar a proteção da Convenção Americana sobre Direitos Humanos (Pacto de São José e Decreto nº 678/1992). As autoridades estatais, no entanto, entendiam que tinham agido corretamente à luz da Convenção.

Ao consultar um especialista em relação à possibilidade de acessar os meios de proteção previstos na Convenção, foi corretamente informado a Maria que ela

- (A) tem acesso direto à Corte Interamericana de Direitos Humanos.
- (B) tem acesso direto à Comissão Interamericana de Direitos Humanos.
- (C) somente pode solicitar que o Ministério dos Direitos Humanos submeta o seu caso ao órgão competente da Convenção Interamericana.
- (D) tem acesso direto, conforme a natureza da infração, à Corte Interamericana de Direitos Humanos ou à Comissão Interamericana de Direitos Humanos.
- (E) somente pode solicitar que o órgão competente do Ministério Público brasileiro submeta o seu caso ao alto Comissariado de Tutela Interamericana.

41

Maria, filha de Joana, espanhola, e de John, norte-americano, nasceu no território brasileiro quando os seus pais aqui se encontravam a trabalhar em uma indústria farmacêutica. Logo após o nascimento, Maria foi levada pelos seus pais para a Argentina.

Na situação descrita na narrativa, considerando os balizamentos estabelecidos pela Constituição brasileira, é correto afirmar que Maria é

- (A) estrangeira, podendo optar pela nacionalidade brasileira ao atingir a maioridade, caso venha a residir no território nacional.
- (B) estrangeira, sem direito reconhecido à obtenção da nacionalidade brasileira.
- (C) estrangeira, podendo optar pela nacionalidade brasileira ao atingir a maioridade.
- (D) brasileira naturalizada.
- (E) brasileira nata.

42

Nos termos do § 3º do Art. 31 da Constituição da República de 1988, “§ 3º As contas dos Municípios ficarão, durante sessenta dias, anualmente, à disposição de qualquer contribuinte, para exame e apreciação, o qual poderá questionar-lhes a legitimidade, nos termos da lei”.

A partir da interpretação da parte destacada do preceito constitucional, obtém-se uma norma de eficácia

- (A) restringível.
- (B) legítima.
- (C) limitada.
- (D) contida.
- (E) plena.

43

Maria, ativista dos direitos humanos, informou a uma amiga que decidira se unir a uma verdadeira “cruzada cívica”, com o objetivo de defender a plena e integral implementação dos direitos sociais previstos na Constituição da República.

Como a amiga de Maria não tinha formação jurídica, decidiu perguntar-lhe qual característica esses direitos teriam, sendo-lhe corretamente informado que

- (A) em regra, exigem a oferta de prestações estatais.
- (B) destinam-se a assegurar a liberdade dos membros da sociedade.
- (C) buscam assegurar a participação da sociedade na formação da vontade política.
- (D) asseguram a proteção da esfera jurídica individual contra investidas dos poderes constituídos.
- (E) somente podem ser usufruídos pela integralidade da sociedade, não por uma pessoa em particular.

## Noções de Direito Penal / Processual Penal

44

Após ser capturado em flagrante pela suposta prática do crime de furto simples, João, primário e portador de bons antecedentes, passou por audiência de custódia, obtendo o direito de responder ao processo em liberdade. Em seguida, o Ministério Público ofereceu denúncia em detrimento do autor do delito e propôs a suspensão condicional do processo. Em assim sendo, João conversou com seu advogado sobre a proposta do *Parquet*.

Nesse cenário, considerando as disposições da Lei nº 9.099/1995, assinale a afirmativa correta.

- (A) A suspensão será revogada, a critério do Ministério Público, se o acusado vier a ser processado, no curso do prazo, por contravenção, ou descumprir qualquer outra condição imposta.
- (B) A suspensão poderá ser revogada se, no período de prova, o beneficiário vier a ser processado por outro crime ou não efetuar, sem motivo justificado, a reparação do dano.
- (C) O juiz poderá especificar outras condições a que fica subordinada a suspensão, desde que adequadas ao fato e à situação pessoal do acusado.
- (D) A proposta pelo acusado e seu defensor sendo aceita, na presença do juiz, este suspenderá o processo por um a dois anos.
- (E) A prescrição da pretensão punitiva estatal correrá durante o prazo de suspensão condicional do processo.

45

João se dirigiu à Delegacia de Polícia do Município *Alfa*, no Estado *Beta*, comunicando à autoridade policial o crime – perseguível mediante ação penal pública incondicionada, – que José, um colega de trabalho, teria praticado em seu desfavor. Contudo, a vítima não soube indicar o lugar da infração penal.

Nesse cenário, considerando as disposições do Código de Processo Penal, como não é conhecido o lugar da infração, o processo e o julgamento do feito ocorrerá na Comarca do(a)

- (A) domicílio ou da residência da vítima ou do domicílio ou residência do réu, à escolha de João.
- (B) domicílio ou da residência da vítima.
- (C) domicílio ou da residência do réu.
- (D) capital do Estado *Beta*.
- (E) Município *Alfa*.

46

João, Delegado de Polícia, preside inquérito policial deflagrado para apurar suposto delito perpetrado por Fábio.

Durante a tramitação do procedimento administrativo, o agente público constatou que a prisão temporária é essencial para garantir o sucesso das investigações, sendo certo que há fundadas razões que apontam Fábio como o autor do crime investigado.

Nesse cenário, considerando as disposições da Lei nº 7.960/1989, é correto afirmar que o inquérito policial presidido por João versa sobre o crime de

- (A) furto qualificado pelo concurso de pessoas.
- (B) falsificação de documento público.
- (C) sequestro simples.
- (D) corrupção passiva.
- (E) concussão.

47

João responde, perante o Juizado Especial Criminal da Comarca *Alfa*, pela prática do crime de porte de drogas para consumo pessoal (Art. 28 da Lei nº 11.343/2006), por ter sido encontrado com cinco gramas de *cannabis sativa L.*, popularmente conhecida como maconha. Nada obstante, no curso da persecução penal, o Congresso Nacional editou uma legislação descriminalizando a conduta perpetrada pelo agente.

Nesse cenário hipotético, considerando as disposições do Código Penal, é correto afirmar que haverá a extinção de punibilidade em razão do(a)

- (A) *abolitio criminis*.
- (B) preempção.
- (C) indulto.
- (D) anistia.
- (E) graça.

48

No curso de uma persecução penal deflagrada para apurar um suposto crime de roubo circunstanciado pelo emprego de arma de fogo, procedeu-se à oitiva, em juízo, de João e Maria (vítimas), de José (testemunha de acusação), de Joana (testemunha de defesa), passando-se, na sequência, ao interrogatório do acusado Otávio. O juiz verificou, então, que algumas das pessoas ouvidas divergiram, em suas declarações, sobre fatos e circunstâncias relevantes.

Nesse cenário, considerando as disposições do Código de Processo Penal, é correto afirmar que a acareação poderá ser realizada entre

- (A) acusado e testemunha, entre testemunhas, entre acusado ou testemunha e a pessoa ofendida, e entre as pessoas ofendidas, apenas.
- (B) testemunhas, entre testemunha e a pessoa ofendida, e entre as pessoas ofendidas, apenas.
- (C) acusado e testemunha, entre testemunhas, entre acusado ou testemunha, apenas.
- (D) testemunhas, entre testemunha e a pessoa ofendida, apenas.
- (E) testemunhas, apenas.

49

João e José, em comunhão de ações e desígnios, aproximaram-se de Maria, que aguardava, no interior do seu automóvel, o sinal de trânsito abrir. Em assim sendo, os agentes bateram na janela do veículo e determinaram que a vítima entregasse os seus pertences, sob ameaça de morte.

Após subtraírem o telefone celular e o relógio da ofendida, os autores do delito tentaram se evadir, mas foram alcançados, cem metros à frente, por policiais militares que passavam pela região, sendo capturados em flagrante.

Nesse cenário, considerando as disposições do Código Penal, assinale a opção que indica o crime pelo qual João e José responderão.

- (A) Roubo circunstanciado pelo concurso de pessoas, na modalidade consumada.
- (B) Extorsão qualificada pelo concurso de pessoas, na modalidade consumada.
- (C) Roubo simples, na modalidade consumada.
- (D) Extorsão simples, na modalidade tentada.
- (E) Roubo simples, na modalidade tentada.

50

No curso de um processo penal que apurou o suposto delito de latrocínio consumado, o juiz competente, após requerimento do Ministério Público, decretou a prisão preventiva de José, suposto autor dos fatos.

Após o cumprimento do mandado de prisão, o advogado de José compareceu ao presídio, ocasião em que as partes conversaram sobre os regramentos aplicáveis à prisão preventiva.

Nesse cenário, considerando as disposições do Código de Processo Penal, assinale a afirmativa correta.

- (A) A legislação não estabelece o prazo máximo de duração da prisão preventiva, mas o juízo deverá revisar a necessidade de sua manutenção a cada sessenta dias, mediante decisão fundamentada, sob pena de tornar a prisão ilegal.
- (B) A decretação da prisão preventiva, com a finalidade de antecipação de cumprimento de pena ou como decorrência imediata de investigação criminal ou da apresentação ou recebimento de denúncia, não será admitida.
- (C) O juiz poderá, a pedido das partes, revogar a prisão preventiva se, no correr do processo, verificar a falta de motivo para que ela subsista, vedando-se a atuação de ofício, em homenagem ao sistema acusatório.
- (D) A decisão que decretar a prisão preventiva será sempre motivada e fundamentada, sendo suficiente, para tanto, a indicação de ato normativo, ainda que não se explique a sua relação com a causa.
- (E) O juiz poderá substituir a prisão preventiva pela domiciliar quando o agente for homem, caso seja o único responsável pelos cuidados do filho de até treze anos de idade incompletos.

51

A Receita Federal, após denúncia realizada por um consumidor, procedeu à fiscalização do estabelecimento comercial de titularidade de Matheus, ocasião em que diversas irregularidades tributárias foram constatadas.

Muito preocupado, o empresário comentou os eventos com João, amigo de longa data, o qual lhe disse que é próximo de Caio, agente público e auditor da Receita Federal responsável pelo procedimento administrativo deflagrado em desfavor de Matheus. Em assim sendo, João solicitou ao empresário a entrega de cinco mil reais, a pretexto de influir na decisão que será tomada por Caio no procedimento administrativo que está em andamento.

Nesse cenário, considerando as disposições do Código Penal, é correto afirmar que João responderá pela prática do crime de

- (A) advocacia administrativa.
- (B) exploração de prestígio.
- (C) favorecimento pessoal.
- (D) tráfico de influência.
- (E) corrupção passiva.

52

João aproximou-se de três senhoras que caminhavam tranquilamente por uma praça do Município *Alfa*, e determinou que cada uma delas entregasse o telefone celular e o relógio, mediante grave ameaça, consubstanciada no emprego de arma de fogo. Em seguida, o agente logrou se evadir na posse dos diversos pertences de propriedade das vítimas. Durante as investigações, verificou-se que João praticou os três delitos mediante uma única ação, mas sem que existissem desígnios autônomos.

Nesse cenário, considerando as disposições do Código Penal, é correto afirmar que João responderá pelos crimes perpetrados em

- (A) continuidade delitiva, pois o agente, mediante uma só ação, praticou três crimes, sendo-lhe aplicável a menos grave das penas cabíveis ou, se iguais, somente uma delas, mas aumentada, em qualquer caso, de um quarto.
- (B) continuidade delitiva, pois o agente, mediante uma só ação, praticou três crimes, sendo-lhe aplicável a mais grave das penas cabíveis ou, se iguais, somente uma delas, mas aumentada, em qualquer caso, de um quinto.
- (C) concurso material, pois o agente, mediante uma só ação, praticou três crimes, sendo-lhe aplicável a mais grave das penas cabíveis ou, se iguais, somente uma delas, mas aumentada, em qualquer caso, de um quinto.
- (D) concurso formal, pois o agente, mediante uma só ação, praticou três crimes, sendo-lhe aplicável a menos grave das penas cabíveis ou, se iguais, somente uma delas, mas aumentada, em qualquer caso, de um quarto.
- (E) concurso formal, pois o agente, mediante uma só ação, praticou três crimes, sendo-lhe aplicável a mais grave das penas cabíveis ou, se iguais, somente uma delas, mas aumentada, em qualquer caso, de um quinto.

53

Matheus, Delegado de Polícia, tomou conhecimento de dois fatos criminosos que ocorreram na cidade em que atua, quais sejam:

- i) Joana, após ser ameaçada de morte pelo marido, no contexto de violência doméstica e familiar contra a mulher, se dirigiu à Delegacia de Polícia e representou criminalmente contra o agente;
- ii) João, maior e capaz, após ser vítima de um crime de estelionato, compareceu à unidade policial e demonstrou o interesse na deflagração de investigação em face do suposto autor do fato. Nada obstante, após alguns dias, Joana e João demonstraram o interesse em se retratar da representação que fora anteriormente oferecida.

Nesse cenário, considerando as disposições do Código de Processo Penal e da Lei nº 11.340/2006, assinale a afirmativa correta.

- (A) Joana poderá se retratar da representação antes do recebimento da denúncia. Por sua vez, João somente poderá se retratar antes do oferecimento da denúncia.
- (B) Joana poderá se retratar da representação antes do oferecimento da denúncia. Por sua vez, João somente poderá se retratar antes do recebimento da denúncia.
- (C) Joana não poderá se retratar da representação oferecida. Por sua vez, João somente poderá se retratar antes do oferecimento da denúncia.
- (D) Joana e João poderão se retratar da representação antes do recebimento da denúncia.
- (E) Joana e João não poderão se retratar da representação oferecida.

54

Daniel, com 19 anos, teve relações sexuais consentidas com Joana, a qual, à época dos fatos, tinha 13 anos de idade.

Durante as investigações deflagradas contra Daniel, para apurar a suposta prática do crime de estupro de vulnerável, o agente afirmou e comprovou que conheceu Joana em uma boate – exclusiva para maiores de idade –, sendo certo que a adolescente ingressou no local portando uma carteira de identidade falsa. Daniel comprovou, ainda, que desconhecia, por completo, a idade da mulher, que aparentava, para todos, ser maior, em razão de sua compleição física apresentada.

Nesse cenário, considerando as disposições do Direito Penal, é correto afirmar que Daniel não responderá por qualquer crime, em razão do erro de

- (A) proibição indireto.
- (B) tipo incriminador.
- (C) proibição direto.
- (D) tipo permissivo.
- (E) mandamento.

55

João, após iniciar o estágio junto à 1ª Vara Criminal da Comarca *Alfa*, passou a se dedicar ao estudo do Direito Penal, para melhor desempenhar as suas funções laborais.

Assim, João, ao estudar uma determinada infração penal citada pela Constituição Federal, verificou que se tratava de um crime inafiançável e imprescritível, sujeito à pena de reclusão, nos termos da lei.

Nesse cenário, considerando as disposições constitucionais aplicáveis ao Direito Penal, é correto afirmar que José pode ter estudado os detalhes do crime de

- (A) tráfico ilícito de entorpecentes e drogas afins.
- (B) terrorismo.
- (C) homicídio.
- (D) racismo.
- (E) tortura.

## Conhecimentos na Área de Atuação

56

João, particular, conduzia o seu veículo automotor pela BR nº 101, ocasião em que o carro desligou, por falta de combustível, prejudicando sobremaneira o trânsito na localidade.

Nesse cenário, considerando as disposições do Código de Trânsito Brasileiro, é correto afirmar que restou caracterizada uma infração administrativa

- (A) gravíssima, sujeitando João à penalidade de suspensão do direito de dirigir e à medida administrativa de remoção do veículo.
- (B) gravíssima, sujeitando João à penalidade de proibição do direito de dirigir e à medida administrativa de remoção do veículo.
- (C) grave, sujeitando João à penalidade de suspensão do direito de dirigir e à medida administrativa de remoção do veículo.
- (D) média, sujeitando João à penalidade de multa e à medida administrativa de remoção do veículo.
- (E) leve, sujeitando João à penalidade de multa e à medida administrativa de remoção do veículo.

57

Há certos princípios básicos para o uso da força pela autoridade policial, entre eles os da legalidade, da necessidade, da proporcionalidade e o da conveniência.

Acerca desses princípios, avalie as seguintes afirmativas:

- I. Legalidade: o uso da força é permitido apenas para atingir um objetivo legítimo,
- II. Necessidade: o uso da força somente deve ocorrer quando outros meios forem ineficazes para atingir o objetivo desejado.
- III. Proporcionalidade: o uso da força deve ser usado de forma proporcional à resistência oferecida, levando-se em conta os meios dos quais o policial dispõe.
- IV. Conveniência: mesmo sendo legal, necessário e proporcional o uso da força, é preciso observar se ele não coloca em risco outras pessoas e se é razoável e de bom-senso lançar mão desse meio.

Estão corretas as afirmativas

- (A) I e II, apenas.
- (B) III e IV, apenas.
- (C) I, II e III, apenas.
- (D) II, III e IV, apenas.
- (E) I, II, III e IV.

58

O Art. 100 do Regimento Interno da Assembleia Legislativa do Tocantins define e diz respeito às proposições legislativas.

Em relação às tais proposições, avalie se as afirmativas a seguir são verdadeiras (V) ou falsas (F).

- ( ) Proposição é toda matéria sujeita à deliberação da Assembleia.
- ( ) As proposições podem consistir, entre outras, em emendas à Constituição do Estado, projetos de lei e projetos de resolução.
- ( ) Nenhuma proposição poderá conter matéria estranha ao enunciado objetivamente declarado na ementa ou dele decorrente.

As afirmativas são, respectivamente,

- (A) V – V – V.
- (B) V – V – F.
- (C) F – V – F.
- (D) V – F – V.
- (E) V – F – F.

59

De acordo com a Lei nº 9.883/1999, o Sistema Brasileiro de Inteligência tem como fundamentos a preservação da soberania nacional, a defesa do Estado Democrático de Direito e a dignidade da pessoa humana, devendo ainda cumprir e preservar os direitos e garantias individuais e demais dispositivos da Constituição Federal, os tratados, convenções, acordos e ajustes internacionais em que a República Federativa do Brasil seja parte ou signatário, e a legislação ordinária.

Nesse cenário, considerando as disposições da Lei nº 9.883/1999, que institui o Sistema Brasileiro de Inteligência e cria a Agência Brasileira de Inteligência (ABIN), é correto afirmar que

- (A) a execução da Política Nacional de Inteligência, fixada pelo Presidente da República, será levada a efeito pela Agência Brasileira de Inteligência (ABIN), sob a supervisão do Ministério da Justiça e Segurança Pública.
- (B) a elaboração e edição do regimento interno da Agência Brasileira de Inteligência ABIN serão de responsabilidade de seu Diretor-Geral, que o submeterá à aprovação do Ministro da Justiça e da Segurança Pública.
- (C) o controle e fiscalização externos da atividade de inteligência serão exercidos pelo Ministério Público, na forma a ser estabelecida em ato do Conselho Nacional do Ministério Público.
- (D) os atos da Agência Brasileira de Inteligência (ABIN), cuja publicidade possa comprometer o êxito de suas atividades sigilosas, deverão permanecer por sigilo de, no mínimo, cinco anos.
- (E) a Agência Brasileira de Inteligência (ABIN) será dirigida por um Diretor-Geral, cujas funções serão estabelecidas no decreto que aprovar a sua estrutura organizacional.

60

A Norma Regulamentadora nº 23 estabelece medidas de prevenção contra incêndios nos ambientes de trabalho, aplicando-se aos estabelecimentos e locais de trabalho.

Nesse cenário, considerando as disposições da Norma Regulamentadora nº 23, é **incorreto** afirmar que

- (A) as aberturas, saídas e vias de passagem de emergência devem ser identificadas e sinalizadas de acordo com a legislação estadual e, quando aplicável, de forma complementar, com as normas técnicas oficiais, indicando a direção da saída.
- (B) os locais de trabalho devem dispor de, ao menos, três saídas de emergência, dispostas de modo que aqueles que se encontrem nesses locais possam abandoná-los com rapidez e segurança em caso de emergência.
- (C) as saídas de emergência podem ser equipadas com dispositivos de travamento que permitam fácil abertura do interior do estabelecimento.
- (D) nenhuma saída de emergência deve ser fechada à chave ou presa durante a jornada de trabalho.
- (E) as aberturas, saídas e vias de passagem devem ser mantidas desobstruídas.



# ASSEMBLEIA LEGISLATIVA DO ESTADO DO TOCANTINS

CONCURSO PÚBLICO – EDITAL Nº 01/2023

## PROVA OBJETIVA – MANHÃ

### TÉCNICO LEGISLATIVO ASSISTÊNCIA ADMINISTRATIVA

NÍVEL MÉDIO – TIPO 1 – BRANCA



#### SUA PROVA

- Além deste caderno contendo **60 (sessenta)** questões objetivas, você receberá do fiscal de prova o cartão de respostas;
- As questões objetivas têm **5 (cinco)** opções de resposta (A, B, C, D) e somente uma delas está correta.



#### TEMPO

- Você dispõe de **4 (quatro) horas** para a realização da prova, já incluído o tempo para a marcação do cartão de respostas;
- **3 (três) horas** após o início da prova, é possível retirar-se da sala, sem levar o caderno de questões;
- A partir dos **30 (trinta) minutos** anteriores ao término da prova é possível retirar-se da sala **levando o caderno de questões**.



#### NÃO SERÁ PERMITIDO

- Qualquer tipo de comunicação entre os candidatos durante a aplicação da prova;
- Anotar informações relativas às respostas em qualquer outro meio que não seja o caderno de questões;
- Levantar da cadeira sem autorização do fiscal de sala;
- Usar o sanitário ao término da prova, após deixar a sala.



#### INFORMAÇÕES GERAIS

- Verifique se seu caderno de questões está completo, sem repetição de questões ou falhas. Caso contrário, **notifique imediatamente o fiscal da sala**, para que sejam tomadas as devidas providências;
- Confira seus dados pessoais, especialmente nome, número de inscrição e documento de identidade e leia atentamente as instruções para preencher o cartão de respostas;
- Para o preenchimento do cartão de respostas, use somente caneta esferográfica, fabricada em material transparente, com tinta preta ou azul;
- Assine seu nome apenas no(s) espaço(s) reservado(s) no cartão de respostas;
- Confira seu cargo, cor e tipo do caderno de questões. Caso tenha recebido caderno de cargo ou cor ou tipo **diferente** do impresso em seu cartão de respostas, o fiscal deve ser **obrigatoriamente** informado para o devido registro na ata da sala;
- Reserve tempo suficiente para o preenchimento do seu cartão de respostas. O preenchimento é de sua responsabilidade e **não será permitida a troca do cartão de respostas em caso de erro cometido pelo candidato**;
- Para fins de avaliação, serão levadas em consideração apenas as marcações realizadas no cartão de respostas;
- A FGV coletará as impressões digitais dos candidatos na lista de presença;
- Os candidatos serão submetidos ao sistema de detecção de metais quando do ingresso e da saída de sanitários durante a realização das provas.
- **Boa prova!**



## CONHECIMENTOS BÁSICOS

### Língua Portuguesa

1

Leia o seguinte texto de um jornal de outros tempos:

*“Mudança nas moedas. A partir de junho começam a entrar em circulação as moedas de Cr\$100 e Cr\$500 substituindo as cédulas que trazem estampadas a poetisa Cecília Meireles e o naturalista Augusto Ruschi, respectivamente. O lançamento das moedas foi aprovado na reunião de ontem do Conselho Monetário Nacional, colocando fim à família de notas criadas no governo Sarney, sob a égide dos cruzados novos.”*

Sobre esse fragmento textual, analise as observações a seguir, feitas por um estudioso de nossa Língua, e assinale a correta.

- (A) “Começam a entrar em circulação” é bastante estranho, porque as moedas, pequenas que são e de pequeno valor, “entram” logo.
- (B) “trazem estampadas a poetisa Cecília Meireles e o naturalista Augusto Ruschi”, mas eu pensava que as moedas trazem estampadas as efígies de Fulano ou Beltrano.
- (C) “colocando fim à família” mostra o emprego inadequado de “colocar” em lugar de “pôr”.
- (D) “criadas”, por questão de clareza e precisão, devia ser substituído por “lançadas” ou “emitidas”.
- (E) “sob”, por questão de correção gramatical, deve ser substituído por “sobre”.

2

Leia o fragmento a seguir.

*“Não somos daqueles que só em meio aos livros, estimulados por livros vêm a ter pensamentos – é nosso hábito pensar ao ar livre, andando, saltando, escalando, dançando, preferivelmente em montes solitários ou próximos ao mar, onde mesmo as trilhas se tornam pensativas.”* (Nietzsche, filósofo alemão).

Sobre o significado desse fragmento, assinale a afirmativa correta.

- (A) A leitura é importante para a criação de ideias originais.
- (B) As formas de gerúndio mostram a evolução cronológica das ações narradas pelo escritor.
- (C) O pronome relativo “onde” refere-se a locais ao ar livre.
- (D) A forma do verbo “tornar-se”, como verbo de ligação, indica um estado transitório.
- (E) Os ambientes solitários propiciam reflexões de valor.

3

As citações a seguir são compostas por dois segmentos; assinale a opção em que a relação lógica indicada pelo segundo segmento está correta.

- (A) Dize-me o que crês ser / e te direi o que não és. – relação de oposição.
- (B) Quem crê é forte / quem duvida é fraco. – relação de conclusão.
- (C) Seja lá por que um homem reza, / ele reza por um milagre. – relação de explicação.
- (D) Não adianta esperar que o navio chegue / se você não o mandou para lugar nenhum. – relação de causa.
- (E) Pense como um homem de ação / e aja como um pensador. – relação de conclusão.

4

Os textos a seguir mostram elementos de coesão em relação ao termo sublinhado; assinale a opção em que todos os termos seguintes, em coesão com ele, estão indicados.

- (A) Geralmente, entre nossos motivos de agir, há um mais forte que os demais: aquele que não é declarado. – *um, os demais, aquele, que.*
- (B) O que empobrece o homem não são seus atos, mas os desejos que ele possui. – *ele.*
- (C) O dinheiro, recebem-no todos os que trabalham e o perdem todos os irresponsáveis. – *no, que, o.*
- (D) Qual pode ser a vida que começa pelos gritos da mãe, que a dá, e o choro do filho que a recebe? – *que, que, a.*
- (E) Meu filho! Deus te enviou a este mundo. Cultiva-o e não te apresses em sair dele. – *o.*

5

As frases a seguir mostram termos repetidos; assinale a opção que apresenta a frase em que o significado dos dois termos não é o mesmo.

- (A) Morrer é mudar de corpo como o ator muda de roupa.
- (B) Janeiro é o mês que se fazem bons votos aos amigos; os outros são os meses em que esses votos não se concretizam.
- (C) Quem tempo espera, muito tempo consome.
- (D) A falsidade da História é tão velha como a própria História.
- (E) Viva todos os dias como se fosse o último. Um dia você acerta.

6

As opções a seguir mostram, corretamente, a substituição da forma sublinhada, composta de não + verbo, por um só verbo, de sentido equivalente, à exceção de uma. Assinale-a.

- (A) Os países da OTAN pediram que o exército russo não avançasse esta semana. / *parasse.*
- (B) O deputado informou que não dispunha de tempo para redigir uma nova versão do projeto. / *carecia.*
- (C) O Presidente não aceitou o convite para visitar a Alemanha. / *declinou do.*
- (D) Não abriu as portas do museu para evitar a curiosidade do público. / *fechou.*
- (E) Por seus futuros compromissos, preferia não gastar dinheiro / *economizar.*

7

As frases a seguir mostram uma locução adjetiva introduzida pela preposição sem; assinale a opção em que a substituição dessa locução por um adjetivo de valor equivalente foi feita de forma adequada.

- (A) Cartas sem autoria declarada são sempre mal recebidas / *desautorizadas.*
- (B) Os poços sem água são de pouca serventia para a lavoura / *áridos.*
- (C) Foram deixados muitos problemas sem solução / *insolúveis.*
- (D) O governo tomou muitas atitudes sem nexos / *desconexas.*
- (E) Com os fogos de artifício, o campo ficou sem visão / *invisível.*

8

Assinale a opção que apresenta a frase em que houve **erro** de concordância da palavra sublinhada.

- (A) O presidente fez questão de deixar bem claras as suas intenções.  
 (B) O STF qualificou de antidemocrático aqueles atos.  
 (C) O governo chinês torna visíveis os erros das ditaduras.  
 (D) Os enfermeiros tiveram reconhecidos os direitos de greve.  
 (E) Tomei emprestados à biblioteca vários livros.

9

As perguntas a seguir apresentam o pronome pessoal oblíquo em ênclise (após o verbo); assinale a que mostra formulação **incorreta**, porque só admite próclise.

- (A) Os dois bandidos evadiram-se do presídio em Mossoró?  
 (B) Onde podemos vê-los?  
 (C) Eles dedicar-se-iam às tarefas com prazer.  
 (D) Numa entrevista como esta, isto pergunta-se?  
 (E) Quem dir-me-á tantas barbaridades, senão ele?

10

Assinale a opção que apresenta as duas palavras que devem ser grafadas com **es** e não com **ex**.

- (A) Excremento / expurgo.  
 (B) Excusar / expontâneo.  
 (C) Excomungar / expressar.  
 (D) Extirpar / extorquir.  
 (E) Exterminar / extremoso.

## Raciocínio Lógico Matemático

11

Dois números diferentes serão escolhidos ao acaso entre os elementos do conjunto  $\{5,7,9,11,14\}$ .

A soma dos números escolhidos

- (A) certamente é ímpar.  
 (B) certamente é par.  
 (C) pode ser 26.  
 (D) pode ser 18.  
 (E) pode ser menor que 12.

12

Em um jogo, duas fichas azuis têm o mesmo valor de cinco fichas vermelhas e uma ficha preta vale o mesmo que três fichas azuis.

Assim, duas fichas pretas equivalem a

- (A) sete fichas vermelhas.  
 (B) oito fichas vermelhas.  
 (C) nove fichas vermelhas.  
 (D) doze fichas vermelhas.  
 (E) quinze fichas vermelhas.

13

Sabe-se que 20% de  $N$  é igual a 13,4. Logo, 90% de  $N$  é igual a

- (A) 59,6.  
 (B) 60,3.  
 (C) 61,2.  
 (D) 62,5.  
 (E) 63,2.

14

Marcelo é filho de Alberto. Pedro é filho de Luiz. Se Marcelo e Luiz são irmãos por parte de pai, então

- (A) Alberto é pai de Pedro.  
 (B) Alberto é tio de Pedro.  
 (C) Pedro é irmão de Marcelo.  
 (D) Pedro é sobrinho de Marcelo.  
 (E) Pedro é neto de Marcelo.

15

A seguir, são apresentados os 9 primeiros termos de uma sequência infinita de números inteiros.

13, 12, 14, 11, 15, 10, 16, 9, 17, ...

Os termos são, alternadamente, maiores e menores que seus antecessores imediatos, seguindo um padrão de construção.

Sabendo-se que esse padrão é mantido ao longo de toda a sequência, conclui-se que um termo negativo aparecerá pela primeira vez na

- (A) 28ª posição.  
 (B) 27ª posição.  
 (C) 26ª posição.  
 (D) 15ª posição.  
 (E) 14ª posição.

16

Para pagar um lanche, Temístocles usou uma nota de R\$20,00 e recebeu, de troco, uma nota de R\$5,00, duas notas de R\$2,00, nove moedas de R\$0,50 e 3 moedas de R\$0,25.

O lanche custou a Temístocles

- (A) R\$5,25.  
 (B) R\$5,75.  
 (C) R\$6,25.  
 (D) R\$6,75.  
 (E) R\$7,25.

17

Ana trabalha em sistema de *home-office*, mas precisa comparecer ao escritório de sua empresa em intervalos regulares.

Se Ana comparece ao escritório em determinado dia, ela precisa comparecer de novo três dias úteis depois, isto é, descontando-se os sábados e os domingos. Assim, se ela compareceu em uma quinta-feira, deverá voltar ao escritório na terça-feira da semana seguinte.

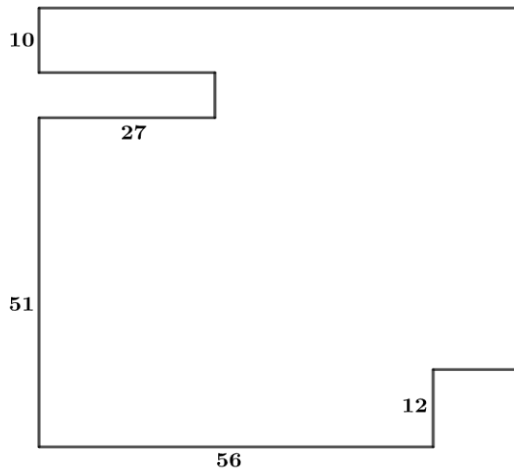
Hoje é sexta-feira e Ana está no escritório; assim, a *penúltima vez* em que ela esteve lá, foi uma

- (A) segunda-feira.  
 (B) terça-feira.  
 (C) quarta-feira.  
 (D) quinta-feira.  
 (E) sexta-feira.

18

De uma placa quadrada de madeira, foram recortados e, em seguida, descartados dois pedaços: o primeiro, em forma de um quadrado de lado 12 dm; o outro, em forma de retângulo, tendo comprimento igual a 27 dm.

A imagem a seguir ilustra o aspecto da placa após os descartes. Nela, estão indicadas as medidas, em decímetros, de alguns dos segmentos.



O menor lado do retângulo recortado dessa placa mede

- (A) 11 dm.
- (B) 10 dm.
- (C) 9 dm.
- (D) 8 dm.
- (E) 7 dm.

## Noções de Informática

19

No contexto dos sistemas operacionais Microsoft Windows, o Painel de Controle é uma área central para gerenciar as configurações do sistema, opções de personalização e outros.

Considerando as versões superiores ao Windows 7, assinale a opção que **não** indica uma funcionalidade encontrada no painel de controle.

- (A) Backup e Restauração.
- (B) Relógio e Região.
- (C) Hardware e Sons.
- (D) Contas de Usuário.
- (E) Configuração de Registro Avançadas.

20

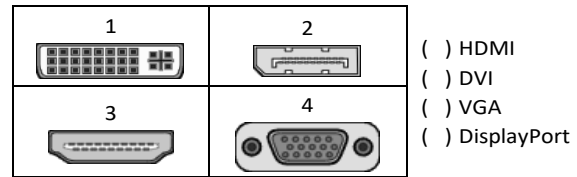
Nos sistemas operacionais Microsoft Windows 10, o recurso "Executar" permite aos usuários abrir rapidamente programas, pastas, documentos e recursos do sistema, ao digitar o caminho completo ou o nome do item.

Assinale a opção que apresenta a combinação de teclas usada para abrir a caixa de diálogo "Executar".

- (A) Windows + E
- (B) Windows + I
- (C) Windows + K
- (D) Windows + L
- (E) Windows + R

21

No contexto das interfaces para vídeo, relacione as portas às suas respectivas tecnologias.



Assinale a opção que indica a relação correta, segundo a ordem apresentada.

- (A) 2 – 3 – 1 – 4.
- (B) 2 – 4 – 1 – 3.
- (C) 3 – 2 – 1 – 4.
- (D) 3 – 1 – 4 – 2.
- (E) 4 – 2 – 3 – 1.

22

Sobre a inserção de tabelas no Microsoft Word 2019 em português, analise as afirmativas a seguir.

- I. As tabelas admitem diferentes estilos de borda, cores de preenchimento e fontes, para melhorar sua apresentação visual.
- II. Ao inserir uma tabela, é possível definir o número de linhas e colunas antes de criá-la, no entanto, não é possível alterar a estrutura após a inserção.
- III. As tabelas podem ser inseridas apenas no início de um documento e não podem ser movidas para outras partes do texto.

Está correto o que se afirma em

- (A) I, apenas.
- (B) I e II, apenas.
- (C) II e III, apenas.
- (D) I e III, apenas.
- (E) I, II e III.

23

Em uma planilha Microsoft Excel 2019 em português do Brasil, há um conjunto de dados com vendas listadas na coluna B.

Por meio da funcionalidade de Formatação Condicional, a seguinte função pode ser usada para destacar os 10% dos principais valores de vendas com preenchimento verde:

- (A) PERCENTIL.
- (B) MAXIMO.
- (C) SOMASES.
- (D) CONT.SE.
- (E) ABS.

24

Em uma pequena empresa, durante uma tentativa de realizar uma manutenção de rotina nos servidores ao final do expediente, José, um funcionário recém-contratado, com pouca experiência em TI, desliga um servidor que está rodando um serviço de DHCP. No dia seguinte, os usuários começam a reportar problemas.

Considerando que todas as estações de trabalho com sistema operacional Windows estavam utilizando o servidor DHCP, assinale a opção que indica o que os usuários reportaram.

- (A) As estações de trabalho não estão ligando, pois dependem do servidor DHCP.
- (B) Havia lentidão na conexão com a internet.
- (C) Perda de acesso à internet, enquanto o acesso à rede local entre as estações de trabalho permaneceu possível.
- (D) Interrupção do serviço de *e-mail*; os demais serviços funcionavam.
- (E) Impressão em rede local não funcionava, mas a internet estava acessível.

25

Os ataques de negação de serviço distribuídos, conhecidos como DDoS, representam uma ameaça significativa para a segurança da internet.

Com base nesse contexto, assinale a afirmativa **incorreta**.

- (A) Em um ataque DDoS, os atacantes usam uma rede de computadores comprometidos, conhecidos como botnets.
- (B) Os ataques DDoS geralmente visam comprometer os dados, tornando-os inacessíveis, mesmo para usuários autorizados.
- (C) Os ataques DDoS podem causar interrupções significativas nos serviços *online*.
- (D) Embora não seja usual, ataques DDoS já foram feitos a partir de dispositivos IoT comprometidos, como câmeras de segurança.
- (E) Os ataques de DDoS podem ter como alvo vários recursos de rede, incluindo servidores web, jogos *online* e infraestrutura de nuvem.

26

No contexto da computação em nuvem e seus serviços, assinale a opção que corresponde ao conceito de **elasticidade**.

- (A) A capacidade de expandir ou reduzir dinamicamente seus recursos de acordo com a demanda.
- (B) A flexibilidade de implementação de serviços.
- (C) A capacidade de uma nuvem de suportar múltiplos usuários, simultaneamente.
- (D) A velocidade da conexão entre a nuvem e os dispositivos do usuário.
- (E) A confiabilidade dos serviços oferecidos pelo provedor de computação em nuvem.

## História e Geografia do Estado de Tocantins

27



As bonecas Ritxoko são figuras de cerâmica confeccionadas por mulheres indígenas da etnia Karajá, do estado do Tocantins. Feitas a partir da mistura de argila e água, as peças representam tanto a forma humana e seus ciclos de vida quanto elementos da fauna e do sobrenatural. A pigmentação vermelha é extraída do urucum, enquanto a preta é retirada de uma árvore chamada ixarurina. As bonecas são usadas como instrumentos de socialização das crianças que se veem nesses objetos e aprendem a ser Karajá, recebendo ensinamentos e aprendendo as técnicas e saberes associados à sua confecção e usos. A pintura e a decoração das cerâmicas estão associadas à pintura corporal dos Karajá e às peças de vestuário e adorno.

Adaptado de <https://www.gov.br/funai>

Com base no trecho, é correto afirmar que as bonecas Ritxoko são um patrimônio

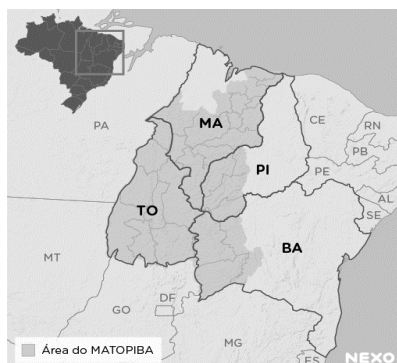
- (A) da humanidade, uma vez que constituem bens culturais e naturais significativos para todas as culturas, sendo contempladas como referência estética para todos os povos.
- (B) histórico nacional, pois exemplificam a riqueza dos modos de fazer e das formas de expressão que envolvem a tradição dos Karajás no Brasil.
- (C) cultural brasileiro, uma vez que são consideradas representações culturais com significados sociais e identitários profundos.
- (D) imaterial mundial, já que sua feitura envolve processos abstratos criativos de elaboração e variação de formas e grafismos.
- (E) material tocantinense, por expressar a arte, a memória e a identidade das comunidades indígenas da Ilha do Bananal, no Tocantins.

28

O Estado do Tocantins situa-se em uma zona de transição que apresenta dois tipos de vegetação: a Floresta Ombrófila e a Savana, pertencentes, respectivamente, aos biomas

- (A) Amazônia e Cerrado.
- (B) Mata Atlântica e Pampa.
- (C) Caatinga e Mata Atlântica.
- (D) Amazônia e Caatinga.
- (E) Cerrado e Pantanal.

29



A área do MATOPIBA caracteriza-se pelo baixo preço das terras e pela uniformidade do clima, do solo e do relevo, que facilitam a mecanização agrícola e tem atraído cada vez mais agricultores.

A respeito do MATOPIBA, analise as afirmativas a seguir.

- I. É uma região de transição entre o Cerrado e o Semiárido, com condições favoráveis para a agricultura: áreas planas e extensas, solos de alto potencial produtivo, disponibilidade de água, clima favorável com elevada intensidade de sol.
- II. É um grande produtor de *commodities*, com uso intenso de tecnologia (máquinas, colheitadeiras, insumos) e uso reduzido do fator trabalho, assim sendo, o crescimento do produto interno bruto (PIB) aumenta com velocidade, mas a geração de riqueza não é acompanhada, proporcionalmente, por uma melhora na distribuição de renda.
- III. É o maior produtor nacional de soja, pois concentra 90% da área de plantio, sendo também a região com o maior índice de produtividade sustentável de grãos, em função da colaboração do setor do agronegócio com a preservação das unidades de conservação locais.

Está correto o que se afirma em

- (A) I, apenas.
- (B) II, apenas.
- (C) III, apenas.
- (D) I e II, apenas.
- (E) II e III, apenas.

30

Sobre a formação histórica do território que hoje corresponde ao Estado do Tocantins, assinale a afirmativa que descreve corretamente o processo de desbravamento e ocupação da região no Período Colonial.

- (A) No final do século XVI, os primeiros a encontrar a foz do rio Tocantins junto ao Amazonas foram os espanhóis, então instalados no Maranhão para expulsar colonos franceses que haviam fundado a França equinocial.
- (B) Na primeira metade do século XVIII, a bandeira de Bartolomeu Bueno da Silva Filho descobriu ouro nas cabeceiras do rio Vermelho e fundou o Arraial de Sant'Anna, às margens do rio.
- (C) Nos anos de 1730-40 foi encontrado ouro no norte de Goiás, incentivando a fundação de cidades sob a jurisdição de Salvador, como Natividade, Almas, Chapada, Pontal e Porto Real, entre outras.
- (D) O declínio da mineração se acentuou na passagem do século XVIII para o XIX, agravado pela instituição de um novo imposto (capitação), cobrado proporcionalmente ao número de escravos de cada minerador.
- (E) Na segunda década do século XIX, em decorrência da crise da mineração, a região estava em uma situação de abandono, como relatado por Theotônio Segurado, futuro Governador da Capitania do Norte.

## CONHECIMENTOS ESPECÍFICOS

31

O processo administrativo é a abordagem sistemática para gerenciar organizações e atingir objetivos específicos, abrangendo quatro etapas principais: planejamento, organização, influência (ou direção) e controle.

Assinale a opção que indica, corretamente, a base de atuação da função de influência.

- (A) Ideias.
- (B) Objetivos.
- (C) Pessoas.
- (D) Coisas.
- (E) Resultados.

32

Para garantir o sucesso do planejamento, é essencial identificar os fatores críticos que influenciam diretamente o alcance dos objetivos estabelecidos. Esses elementos determinantes são fundamentais para o progresso da organização, pois estão diretamente ligados ao seu êxito.

Assinale a opção que apresenta, corretamente, o fator crítico que visa a descobrir o que distingue as organizações bem-sucedidas das organizações malsucedidas e analisar as diferenças entre elas.

- (A) *Benchmarking*.
- (B) *Brainstorming*.
- (C) Matriz Swot.
- (D) Gráfico de Ishikawa.
- (E) *Balanced Scorecard*.

33

A estrutura organizacional é a maneira pela qual as atividades da organização são divididas, organizadas e coordenadas. Constitui a arquitetura ou o formato organizacional que assegura a divisão e a coordenação das atividades dos membros da organização. Dá-se o nome de unidade para cada subdivisão dentro de uma organização.

Assinale a opção que apresenta um exemplo de unidade.

- (A) Cliente interno.
- (B) Fornecedor.
- (C) *Stakeholder*.
- (D) Cliente externo.
- (E) Equipe.

34

A comunicação é essencial em todas as interações humanas, abrangendo desde o âmbito pessoal até o profissional. Aspectos fundamentais da comunicação incluem clareza para garantir compreensão mútua, empatia para considerar perspectivas alheias, assertividade na expressão de ideias e necessidades, e escuta ativa para absorver mensagens e demonstrar interesse genuíno. Esses elementos promovem trocas claras e construtivas, facilitando a colaboração, a resolução de problemas e a construção de relacionamentos sólidos.

Assinale a opção que apresenta, corretamente, a definição de comunicação segundo a metáfora do conduíte.

- (A) Uma *performance* teatral.
- (B) Um fluxo linear de mão única.
- (C) Uma interação social.
- (D) Uma interpretação de formas literárias.
- (E) Uma construção de contratos relacionais.

35

A *motivação* é um conceito essencial no estudo do comportamento humano, envolvendo processos psicológicos e biológicos que impulsionam as pessoas em direção a metas específicas. Influenciada por diversos fatores, como necessidades biológicas, desejos pessoais e experiências passadas, a compreensão da motivação é crucial em contextos educacionais, profissionais, de saúde e de desenvolvimento pessoal, permitindo a identificação e a aplicação de estratégias eficazes para alcançar objetivos individuais e organizacionais.

Com relação à *motivação*, analise as afirmativas a seguir.

- I. A teoria motivacional de Maslow baseia-se na hierarquia de necessidades.
- II. A teoria ERC condensa as necessidades de existir, relacionar-se e crescer.
- III. Os dois fatores de Herzberg postulam que as necessidades humanas são aprendidas e podem ser influenciadas pelo ambiente e experiências individuais.

Está correto o que se afirma em

- (A) I, apenas.
- (B) I e II, apenas.
- (C) I e III, apenas.
- (D) II e III, apenas.
- (E) I, II e III.

36

A *teoria dos traços*, uma concepção antiga de liderança, visava identificar características distintivas de personalidade em indivíduos notáveis, como Napoleão, Lincoln e Getúlio Vargas, que se destacaram como líderes. No entanto, essa abordagem foi desacreditada devido a problemas na teorização, na mensuração e no reconhecimento da adequação do comportamento em diferentes situações. Atualmente, entende-se que certos traços de personalidade, combinados com outros aspectos da liderança, influenciam a percepção e a aprovação do comportamento dos líderes em muitas organizações.

Assinale a opção que indica, corretamente, um *traço de liderança contemporâneo*.

- (A) Herói.
- (B) Isolado.
- (C) Solitário.
- (D) Autoritário.
- (E) Coreógrafo.

37

O propósito do controle é garantir que os resultados do planejamento, organização e direção estejam alinhados o mais próximo possível dos objetivos definidos anteriormente. O cerne do controle reside na avaliação de se a atividade supervisionada está atingindo ou não os resultados desejados. Portanto, o controle é primordialmente um processo que direciona a atividade em direção a um objetivo predefinido.

Assinale a opção que apresenta um *controle estratégico*.

- (A) Balanço e relatórios financeiros.
- (B) Programação *just-in-time*.
- (C) Contabilidade de custos.
- (D) Controle orçamentário.
- (E) Controle de estoques.

38

Os princípios da Administração Pública são delineados no Art. 37 da Constituição Federal de 1988.

Assinale a opção que apresenta, corretamente, o princípio que estabelece que a Administração Pública está limitada a agir somente dentro dos parâmetros estabelecidos pela lei.

- (A) Impessoalidade.
- (B) Publicidade.
- (C) Moralidade.
- (D) Legalidade.
- (E) Eficiência.

39

De acordo com a Constituição Federal de 1988, a Administração Pública pode ser organizada de forma direta e indireta. A Administração Pública direta compreende os órgãos e entidades que integram a estrutura do Estado, como ministérios, secretarias e autarquias, que atuam de forma centralizada, sob a supervisão direta do governo. Já a Administração Pública indireta é constituída por entidades com personalidade jurídica própria, como empresas estatais, fundações públicas e empresas de economia mista, que operam de forma descentralizada, embora ainda estejam sujeitas ao controle do Estado.

Assinale a opção que apresenta, corretamente, a *entidade da administração indireta* que se caracteriza pelo serviço autônomo, criado por lei, para executar atividades típicas da Administração Pública, que requeiram, para seu melhor funcionamento, gestão administrativa e financeira descentralizada.

- (A) Autarquia.
- (B) Empresa pública.
- (C) Fundação pública.
- (D) Sociedade de economia mista.
- (E) Organização da Sociedade Civil.

40

A estrutura organizacional é o alicerce que orienta a condução das atividades em direção aos objetivos da organização. Composta por distintos níveis hierárquicos, sua configuração pode variar consideravelmente de acordo com fatores como dimensão, segmento e estratégia da organização.

Assinale a opção que apresenta uma *vantagem* da descentralização.

- (A) Sinergia.
- (B) Controle.
- (C) Agilidade.
- (D) Codependência.
- (E) Economia de escala.

41

A gestão da qualidade é uma abordagem organizacional que visa garantir a conformidade e a excelência dos produtos ou serviços, superando as expectativas dos clientes. Isso envolve a implementação de práticas e sistemas que assegurem a consistência, confiabilidade e melhoria contínua, incluindo padrões de qualidade, controle de processos e envolvimento de toda a organização. Apoiada por normas como a ISO 9000, busca aprimorar a eficiência operacional, a satisfação do cliente e a competitividade.

Assinale a opção que apresenta, corretamente, a ferramenta que monitora as melhorias implementadas em um sistema de qualidade, utilizando dados numéricos.

- (A) *Brainstorming*.
- (B) Diagrama de afinidade.
- (C) Diagrama de causa e efeito – Ishikawa.
- (D) *Benchmarking*.
- (E) Diagrama de Pareto.

42

Um modelo de gestão de resultados compreende três elementos essenciais: direcionadores de resultado, direcionadores de esforço para implementação das ações e mecanismos de controle.

Nesse contexto, a avaliação de desempenho é uma ferramenta necessária, mas não suficiente para a promoção de uma gestão de resultados.

Assinale a opção que apresenta a *dimensão de desempenho* que possui estreita relação com *produtividade*.

- (A) Eficácia.
- (B) Eficiência.
- (C) Efetividade.
- (D) Economicidade.
- (E) Custo-benefício.

43

A Administração Pública possui princípios que norteiam sua atividade, e, com base neles, impõe aos servidores públicos um padrão de comportamento ético e responsável para o exercício de funções públicas.

Com relação ao papel do servidor público, analise as afirmativas a seguir.

- I. A conduta do servidor público deve ser pautada pela legalidade, pela moralidade, pela celeridade, responsabilidade e eficácia de seus atos, pela cortesia e urbanidade, pelo trabalho em harmonia com os demais servidores e com a estrutura organizacional do Estado.
- II. São princípios da conduta profissional dos servidores públicos a honestidade, o decoro, a eficiência e o exercício dos valores éticos e morais, que conferem dignidade ao cargo.
- III. A investidura no cargo público impõe ao servidor conduta pessoal ínqua e postura ética mas o libera de qualquer responsabilidade funcional.

Está correto o que se afirma em

- (A) I, apenas.
- (B) I e II, apenas.
- (C) I e III, apenas.
- (D) II e III, apenas.
- (E) I, II e III.

44

O exercício da cidadania, essencialmente ligado ao conceito de Estado-nação, implica não apenas em direitos, mas também em deveres e responsabilidades para com a coletividade em uma sociedade democrática contemporânea. O conceito de cidadania na atualidade vai muito além disso, principalmente devido às novas configurações sociais que surgiram nas últimas décadas.

Assinale a opção que indica o *conceito de cidadania* que mostra uma preocupação com a reconciliação do universalismo de direitos, com o desafio da diversidade étnica e as demais aspirações de identidade.

- (A) Civil.
- (B) Social.
- (C) Política.
- (D) Multicultural.
- (E) Cosmopolita.

45

A arquivologia envolve princípios, técnicas e práticas para gerir documentos em vários contextos, visando preservar a memória e garantir transparência e acesso à informação. Isso inclui a organização, conservação e recuperação eficientes de documentos, bem como a definição de políticas para arquivos físicos e digitais.

Com relação às *noções de arquivologia*, analise as afirmativas a seguir.

- I. O *princípio da proveniência* exige que conjuntos documentais (fundos) de origens distintas não sejam mesclados, prevendo uma articulação do organismo produtor do documento com a função que este representa.
- II. A *teoria das três idades* classifica os arquivos em primários, secundários e terciários, de acordo com a frequência de uso por suas entidades produtoras e a identificação de seus valores permanentes.
- III. A *gestão de documentos* abrange o conjunto de procedimentos e de operações técnicas referentes à produção, ao uso, à avaliação e ao arquivamento de documentos em fase corrente e intermediária, visando à sua alienação.

Está correto o que se afirma em

- (A) I, apenas.
- (B) I e II, apenas.
- (C) I e III, apenas.
- (D) II e III, apenas.
- (E) I, II e III.

46

A *tabela de temporalidade* é o instrumento de destinação, aprovado por autoridade competente, que determina prazos e condições de guarda tendo em vista a transferência, o recolhimento, o descarte ou a eliminação de documentos.

Assinale a opção que apresenta o *ciclo de vida* de um documento que é usado com frequência.

- (A) Intermediário.
- (B) Frequente.
- (C) Corrente.
- (D) Permanente.
- (E) Esporádico.

47

As técnicas secretariais englobam um conjunto de habilidades e procedimentos utilizados por profissionais de secretariado para desempenhar suas funções de forma eficaz e eficiente. Estas técnicas abrangem desde o domínio de ferramentas de organização e gestão do tempo até a comunicação escrita e oral, passando pela habilidade em lidar com sistemas de informação e tecnologias de escritório.

Assinale a opção que apresenta a ferramenta de tecnologia que permite acesso remoto a *softwares*, ao armazenamento de arquivos e ao processamento de dados por meio da Internet.

- (A) Agenda.
- (B) Computação na nuvem.
- (C) *Follow-up*.
- (D) Caderno de anotações.
- (E) *Planner*.

48

A agenda, o caderno de anotações e o *follow-up* são ferramentas que se complementam e contribuem para a rotina de secretariado.

Assinale a opção que apresenta, corretamente, a definição de *follow-up*.

- (A) *Software* gerenciador para organizar, planejar e lembrar os compromissos assumidos.
- (B) Caderno para planejar e organizar coisas que não estão necessariamente datadas.
- (C) Tecnologia que permite acesso remoto ao armazenamento de arquivos.
- (D) Pasta usada em reuniões ou para levar documentos de uma pessoa para outra.
- (E) Local destinado à guarda provisória dos documentos que estão pendentes.

49

A comunicação refere-se ao processo de envio e recebimento de mensagens ou informações. Este processo pode ocorrer por meio da linguagem oral ou escrita, ou por meio de gestos, de expressões faciais e da linguagem corporal. Para que a comunicação seja eficaz, é necessário que o emissor e o receptor emitam e recebam a mesma mensagem, que precisa ser objetiva e completa, e o canal adequado para a transmissão.

Assinale a opção que apresenta a definição de canal.

- (A) Aquele que emite a mensagem.
- (B) Informação enviada e recebida.
- (C) Sequência de estados que codifica uma mensagem.
- (D) Meio utilizado para veicular a mensagem.
- (E) Aquele que recebe a mensagem enviada pelo emissor.

50

Redação oficial é o meio utilizado para o estabelecimento de relações de serviço na Administração Pública e corresponde ao modo uniforme de redigir atos normativos e comunicações oficiais.

Assinale a opção que apresenta o atributo de redação oficial que consegue transmitir o máximo de informações com o mínimo de palavras.

- (A) Coesão.
- (B) Clareza.
- (C) Concisão.
- (D) Coerência.
- (E) Objetividade.

## PRINCÍPIOS DA ADMINISTRAÇÃO PÚBLICA

51

A Administração Direta é composta por órgãos e entidades que fazem parte da estrutura do Estado e operam diretamente sob a autoridade do poder público. Em contrapartida, a Administração Indireta inclui entidades com personalidade jurídica própria, mas vinculadas ao Estado. Enquanto a Administração Direta executa diretamente políticas públicas, a Indireta opera de forma mais especializada, muitas vezes em atividades empresariais.

Assinale a opção que indica a entidade dotada de personalidade jurídica de direito privado, com patrimônio próprio e capital exclusivo da União, criado por lei para a exploração de atividade econômica.

- (A) Autarquia.
- (B) Empresa pública.
- (C) Fundação pública.
- (D) Organização social.
- (E) Sociedade de economia mista.

52

A educação, a saúde, a alimentação, o trabalho, a moradia, o transporte, o lazer, a segurança, a previdência social, a proteção à maternidade e à infância, a assistência aos desamparados, na forma desta Constituição, são direitos sociais.

Assinale a opção que indica, corretamente, o direito devido ao brasileiro em situação de vulnerabilidade social.

- (A) Benefício de prestação continuada.
- (B) Fundo de garantia do tempo de serviço.
- (C) Seguro-desemprego.
- (D) Renda básica familiar.
- (E) Repouso semanal remunerado.

53

A Lei de Acesso à Informação (Lei nº 12.527/2011) garante ao cidadão o direito de obter informações públicas, promovendo a transparência e a *accountability* no setor público.

Assinale a opção que apresenta a qualidade da informação que pode ser conhecida e utilizada por indivíduos, equipamentos ou sistemas autorizados.

- (A) Integridade.
- (B) Autenticidade.
- (C) Transparência.
- (D) Primariedade.
- (E) Disponibilidade.

54

A Lei Geral de Proteção de Dados Pessoais (Lei nº 13.709/2018) estabelece regras para o tratamento de dados pessoais por parte de empresas e organizações, visando proteger a privacidade e os direitos dos cidadãos.

Assinale, entre as opções a seguir, a que apresenta um fundamento da disciplina da proteção de dados pessoais.

- (A) Anonimização.
- (B) Consentimento.
- (C) Não discriminação.
- (D) Uso compartilhado de dados.
- (E) Liberdade de expressão.



55

De acordo com a Lei nº 14.133/2021, conhecida como Nova Lei de Licitações e Contratos Administrativos, o processo licitatório visa prevenir contratações com sobrepreço, preços manifestamente inexequíveis e superfaturamento na execução dos contratos.

Com relação aos casos de superfaturamento em que há dano provocado ao patrimônio da Administração, analise as afirmativas a seguir.

- I. Medição de quantidades superiores às efetivamente executadas ou fornecidas.
- II. Alterações no orçamento de obras e de serviços de engenharia que causem desequilíbrio econômico-financeiro do contrato em favor do contratante.
- III. Deficiência na execução de obras e de serviços de engenharia que resultem em diminuição da sua qualidade, vida útil ou insegurança.

Está correto o que se afirma em

- (A) I, apenas.
- (B) I e II, apenas.
- (C) I e III, apenas.
- (D) II e III, apenas.
- (E) I, II e III.

## LEGISLAÇÃO INSTITUCIONAL

56

João, eleito Deputado Estadual, foi diplomado, mas ainda não tomou posse.

À luz da Constituição do Estado do Tocantins, João não poderá

- (A) exercer cargo em uma empresa concessionária de serviço público.
- (B) ser diretor de uma empresa que goze de favor decorrente de contrato com pessoa jurídica de direito público.
- (C) patrocinar uma causa em que seja interessada uma autarquia.
- (D) manter contrato com uma pessoa jurídica de direito privado.
- (E) ser titular de mais de um cargo ou de mandato público eletivo.

57

Considerando o que dispõe o Regimento Interno da Assembleia Legislativa de Tocantins a respeito das Comissões, assinale a afirmativa correta.

- (A) A Comissão de Constituição, Justiça e Redação tem poderes de investigação próprios das autoridades judiciais.
- (B) As Comissões Especiais não podem ser constituídas para investigação sumária de fato determinado.
- (C) À Comissão de Segurança Pública compete analisar questões ligadas à violência urbana e rural.
- (D) As Comissões de Representação devem ser aprovadas pela maioria absoluta do Plenário da Assembleia.
- (E) A Comissão Parlamentar de Inquérito poderá deslocar-se para qualquer ponto do território estadual para a realização de investigações e audiências públicas.

58

Joaquim é servidor estadual estável, detentor de cargo efetivo e aposentado voluntariamente. Depois de dois anos de sua aposentadoria, Joaquim manifestou interesse, perante a Administração, de retornar à atividade em que era estável.

Caso haja cargo vago disponível, conforme a Lei nº 1818/2017, que dispõe sobre o Estatuto dos Servidores Públicos Cíveis do Estado do Tocantins, assinale a modalidade de provimento adequada ao caso.

- (A) Aproveitamento.
- (B) Reversão.
- (C) Readaptação.
- (D) Reintegração.
- (E) Recondução.

59

Luiz, servidor público efetivo, encontra-se em estágio probatório e, nesse período, tem sido submetido a Avaliações Especiais de Desempenho.

Nos termos da Lei nº 4.208/2023, que cuida do plano de cargos, carreiras e remuneração dos Servidores da Assembleia Legislativa de Tocantins, assinale a afirmativa correta.

- (A) A Avaliação Especial de Desempenho dá-se em três etapas, que tem por base o acompanhamento trimestral do servidor.
- (B) O resultado da avaliação será levado ao conhecimento do avaliado e arquivado em caráter público.
- (C) O servidor, para ser aprovado, deverá obter média igual ou superior a 60% (sessenta por cento) dos pontos possíveis nas Avaliações Especiais de Desempenho.
- (D) O servidor, caso aprovado no estágio probatório, será imediatamente elevado para a classe seguinte do padrão inicial do seu cargo.
- (E) O servidor deve ser avaliado pelo chefe imediato.

60

Levando em conta a estrutura administrativa da Assembleia Legislativa de Tocantins e dos órgãos de assistência à Presidência da Assembleia, de acordo com a Lei nº 4.209/2023, a competência para encaminhar as denúncias recebidas ao Tribunal de Contas do Estado, à Polícia Civil, ao Ministério Público, ou a outro órgão competente, é da

- (A) Procuradoria-Geral.
- (B) Controladoria Interna.
- (C) Diretoria de Polícia Legislativa.
- (D) Assessoria Jurídica da Presidência.
- (E) Ouvidoria Geral da Assembleia Legislativa.



# ASSEMBLEIA LEGISLATIVA DO ESTADO DO TOCANTINS

CONCURSO PÚBLICO – EDITAL Nº 01/2023

## PROVA OBJETIVA – MANHÃ

### TÉCNICO LEGISLATIVO

# ASSISTÊNCIA ADMINISTRATIVA

NÍVEL MÉDIO – TIPO 2 – VERDE



#### SUA PROVA

- Além deste caderno contendo **60 (sessenta)** questões objetivas, você receberá do fiscal de prova o cartão de respostas;
- As questões objetivas têm **5 (cinco)** opções de resposta (A, B, C, D) e somente uma delas está correta.



#### TEMPO

- Você dispõe de **4 (quatro) horas** para a realização da prova, já incluído o tempo para a marcação do cartão de respostas;
- **3 (três) horas** após o início da prova, é possível retirar-se da sala, sem levar o caderno de questões;
- A partir dos **30 (trinta) minutos** anteriores ao término da prova é possível retirar-se da sala **levando o caderno de questões**.



#### NÃO SERÁ PERMITIDO

- Qualquer tipo de comunicação entre os candidatos durante a aplicação da prova;
- Anotar informações relativas às respostas em qualquer outro meio que não seja o caderno de questões;
- Levantar da cadeira sem autorização do fiscal de sala;
- Usar o sanitário ao término da prova, após deixar a sala.



#### INFORMAÇÕES GERAIS

- Verifique se seu caderno de questões está completo, sem repetição de questões ou falhas. Caso contrário, **notifique imediatamente o fiscal da sala**, para que sejam tomadas as devidas providências;
- Confira seus dados pessoais, especialmente nome, número de inscrição e documento de identidade e leia atentamente as instruções para preencher o cartão de respostas;
- Para o preenchimento do cartão de respostas, use somente caneta esferográfica, fabricada em material transparente, com tinta preta ou azul;
- Assine seu nome apenas no(s) espaço(s) reservado(s) no cartão de respostas;
- Confira seu cargo, cor e tipo do caderno de questões. Caso tenha recebido caderno de cargo ou cor ou tipo **diferente** do impresso em seu cartão de respostas, o fiscal deve ser **obrigatoriamente** informado para o devido registro na ata da sala;
- Reserve tempo suficiente para o preenchimento do seu cartão de respostas. O preenchimento é de sua responsabilidade e **não será permitida a troca do cartão de respostas em caso de erro cometido pelo candidato**;
- Para fins de avaliação, serão levadas em consideração apenas as marcações realizadas no cartão de respostas;
- A FGV coletará as impressões digitais dos candidatos na lista de presença;
- Os candidatos serão submetidos ao sistema de detecção de metais quando do ingresso e da saída de sanitários durante a realização das provas.
- **Boa prova!**

## CONHECIMENTOS BÁSICOS

### Língua Portuguesa

1

Assinale a opção que apresenta a frase em que houve **erro** de concordância da palavra sublinhada.

- (A) O presidente fez questão de deixar bem claras as suas intenções.
- (B) O STF qualificou de antidemocrático aqueles atos.
- (C) O governo chinês torna visíveis os erros das ditaduras.
- (D) Os enfermeiros tiveram reconhecidos os direitos de greve.
- (E) Tomei emprestados à biblioteca vários livros.

2

Assinale a opção que apresenta as duas palavras que devem ser grafadas com **es** e não com **ex**.

- (A) Excremento / expurgo.
- (B) Excusar / espontâneo.
- (C) Excomungar / expressar.
- (D) Extirpar / extorquir.
- (E) Exterminar / extremoso.

3

Leia o seguinte texto de um jornal de outros tempos:

*“Mudança nas moedas. A partir de junho começam a entrar em circulação as moedas de Cr\$100 e Cr\$500 substituindo as cédulas que trazem estampadas a poetisa Cecília Meireles e o naturalista Augusto Ruschi, respectivamente. O lançamento das moedas foi aprovado na reunião de ontem do Conselho Monetário Nacional, colocando fim à família de notas criadas no governo Sarney, sob a égide dos cruzados novos.”*

Sobre esse fragmento textual, analise as observações a seguir, feitas por um estudioso de nossa Língua, e assinale a correta.

- (A) “Começam a entrar em circulação” é bastante estranho, porque as moedas, pequenas que são e de pequeno valor, “entram” logo.
- (B) “trazem estampadas a poetisa Cecília Meireles e o naturalista Augusto Ruschi”, mas eu pensava que as moedas trazem estampadas as efigies de Fulano ou Beltrano.
- (C) “colocando fim à família” mostra o emprego inadequado de “colocar” em lugar de “pôr”.
- (D) “criadas”, por questão de clareza e precisão, devia ser substituído por “lançadas” ou “emitidas”.
- (E) “sob”, por questão de correção gramatical, deve ser substituído por “sobre”.

4

As frases a seguir mostram uma locução adjetiva introduzida pela preposição **sem**; assinale a opção em que a substituição dessa locução por um adjetivo de valor equivalente foi feita de forma adequada.

- (A) Cartas sem autoria declarada são sempre mal recebidas / desautorizadas.
- (B) Os poços sem água são de pouca serventia para a lavoura / áridos.
- (C) Foram deixados muitos problemas sem solução / insolúveis.
- (D) O governo tomou muitas atitudes sem nexos / desconexas.
- (E) Com os fogos de artifício, o campo ficou sem visão / invisível.

5

Leia o fragmento a seguir.

*“Não somos daqueles que só em meio aos livros, estimulados por livros vêm a ter pensamentos – é nosso hábito pensar ao ar livre, andando, saltando, escalando, dançando, preferivelmente em montes solitários ou próximos ao mar, onde mesmo as trilhas se tornam pensativas.”* (Nietzsche, filósofo alemão).

Sobre o significado desse fragmento, assinale a afirmativa correta.

- (A) A leitura é importante para a criação de ideias originais.
- (B) As formas de gerúndio mostram a evolução cronológica das ações narradas pelo escritor.
- (C) O pronome relativo “onde” refere-se a locais ao ar livre.
- (D) A forma do verbo “tornar-se”, como verbo de ligação, indica um estado transitório.
- (E) Os ambientes solitários propiciam reflexões de valor.

6

As frases a seguir mostram termos repetidos; assinale a opção que apresenta a frase em que o significado dos dois termos **não** é o mesmo.

- (A) Morrer é mudar de corpo como o ator muda de roupa.
- (B) Janeiro é o mês que se fazem bons votos aos amigos; os outros são os meses em que esses votos não se concretizam.
- (C) Quem tempo espera, muito tempo consome.
- (D) A falsidade da História é tão velha como a própria História.
- (E) Viva todos os dias como se fosse o último. Um dia você acerta.

7

As opções a seguir mostram, corretamente, a substituição da forma sublinhada, composta de **não + verbo**, por um só verbo, de sentido equivalente, **à exceção de uma**. Assinale-a.

- (A) Os países da OTAN pediram que o exército russo não avançasse esta semana. / *parasse*.
- (B) O deputado informou que não dispunha de tempo para redigir uma nova versão do projeto. / *carecia*.
- (C) O Presidente não aceitou o convite para visitar a Alemanha. / *declinou do*.
- (D) Não abriu as portas do museu para evitar a curiosidade do público. / *fechou*.
- (E) Por seus futuros compromissos, preferia não gastar dinheiro / *economizar*.

8

As citações a seguir são compostas por dois segmentos; assinale a opção em que a **relação lógica** indicada pelo segundo segmento está correta.

- (A) Dize-me o que crês ser / e te direi o que não és. – relação de oposição.
- (B) Quem crê é forte / quem duvida é fraco. – relação de conclusão.
- (C) Seja lá por que um homem reza, / ele reza por um milagre. – relação de explicação.
- (D) Não adianta esperar que o navio chegue / se você não o mandou para lugar nenhum. – relação de causa.
- (E) Pense como um homem de ação / e aja como um pensador. – relação de conclusão.

9

Os textos a seguir mostram elementos de coesão em relação ao termo sublinhado; assinale a opção em que todos os termos seguintes, em coesão com ele, estão indicados.

- (A) Geralmente, entre nossos motivos de agir, há um mais forte que os demais: aquele que não é declarado. – *um, os demais, aquele, que.*
- (B) O que empobrece o homem não são seus atos, mas os desejos que ele possui. – *ele.*
- (C) O dinheiro, recebem-no todos os que trabalham e o perdem todos os irresponsáveis. – *no, que, o.*
- (D) Qual pode ser a vida que começa pelos gritos da mãe, que a dá, e o choro do filho que a recebe? – *que, que, a.*
- (E) Meu filho! Deus te enviou a este mundo. Cultiva-o e não te apresses em sair dele. – *o.*

10

As perguntas a seguir apresentam o pronome pessoal oblíquo em ênclise (após o verbo); assinale a que mostra formulação incorreta, porque só admite próclise.

- (A) Os dois bandidos evadiram-se do presídio em Mossoró?
- (B) Onde podemos vê-los?
- (C) Eles dedicar-se-iam às tarefas com prazer.
- (D) Numa entrevista como esta, isto pergunta-se?
- (E) Quem dir-me-á tantas barbaridades, senão ele?

## Raciocínio Lógico Matemático

11

Para pagar um lanche, Temístocles usou uma nota de R\$20,00 e recebeu, de troco, uma nota de R\$5,00, duas notas de R\$2,00, nove moedas de R\$0,50 e 3 moedas de R\$0,25.

O lanche custou a Temístocles

- (A) R\$5,25.
- (B) R\$5,75.
- (C) R\$6,25.
- (D) R\$6,75.
- (E) R\$7,25.

12

Dois números diferentes serão escolhidos ao acaso entre os elementos do conjunto  $\{5,7,9,11,14\}$ .

A soma dos números escolhidos

- (A) certamente é ímpar.
- (B) certamente é par.
- (C) pode ser 26.
- (D) pode ser 18.
- (E) pode ser menor que 12.

13

Em um jogo, duas fichas azuis têm o mesmo valor de cinco fichas vermelhas e uma ficha preta vale o mesmo que três fichas azuis.

Assim, duas fichas pretas equivalem a

- (A) sete fichas vermelhas.
- (B) oito fichas vermelhas.
- (C) nove fichas vermelhas.
- (D) doze fichas vermelhas.
- (E) quinze fichas vermelhas.

14

Sabe-se que 20% de  $N$  é igual a 13,4. Logo, 90% de  $N$  é igual a

- (A) 59,6.
- (B) 60,3.
- (C) 61,2.
- (D) 62,5.
- (E) 63,2.

15

Marcelo é filho de Alberto. Pedro é filho de Luiz. Se Marcelo e Luiz são irmãos por parte de pai, então

- (A) Alberto é pai de Pedro.
- (B) Alberto é tio de Pedro.
- (C) Pedro é irmão de Marcelo.
- (D) Pedro é sobrinho de Marcelo.
- (E) Pedro é neto de Marcelo.

16

A seguir, são apresentados os 9 primeiros termos de uma sequência infinita de números inteiros.

13, 12, 14, 11, 15, 10, 16, 9, 17, ...

Os termos são, alternadamente, maiores e menores que seus antecessores imediatos, seguindo um padrão de construção.

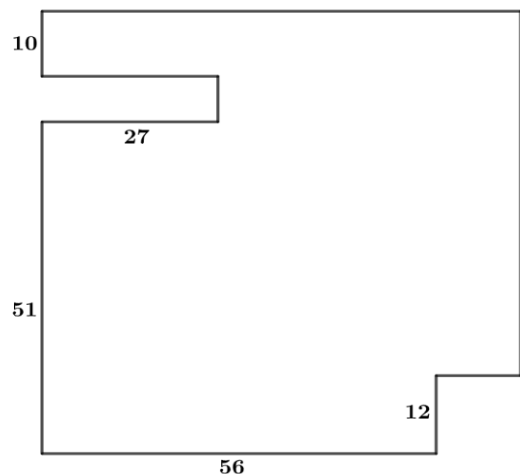
Sabendo-se que esse padrão é mantido ao longo de toda a sequência, conclui-se que um termo negativo aparecerá pela primeira vez na

- (A) 28ª posição.
- (B) 27ª posição.
- (C) 26ª posição.
- (D) 15ª posição.
- (E) 14ª posição.

17

De uma placa quadrada de madeira, foram recortados e, em seguida, descartados dois pedaços: o primeiro, em forma de um quadrado de lado 12 dm; o outro, em forma de retângulo, tendo comprimento igual a 27 dm.

A imagem a seguir ilustra o aspecto da placa após os descartes. Nela, estão indicadas as medidas, em decímetros, de alguns dos segmentos.



O menor lado do retângulo recortado dessa placa mede

- (A) 11 dm.
- (B) 10 dm.
- (C) 9 dm.
- (D) 8 dm.
- (E) 7 dm.

18

Ana trabalha em sistema de *home-office*, mas precisa comparecer ao escritório de sua empresa em intervalos regulares.

Se Ana comparece ao escritório em determinado dia, ela precisa comparecer de novo três dias úteis depois, isto é, descontando-se os sábados e os domingos. Assim, se ela compareceu em uma quinta-feira, deverá voltar ao escritório na terça-feira da semana seguinte.

Hoje é sexta-feira e Ana está no escritório; assim, a *penúltima vez* em que ela esteve lá, foi uma

- (A) segunda-feira.
- (B) terça-feira.
- (C) quarta-feira.
- (D) quinta-feira.
- (E) sexta-feira.

## Noções de Informática

19

Nos sistemas operacionais Microsoft Windows 10, o recurso "Executar" permite aos usuários abrir rapidamente programas, pastas, documentos e recursos do sistema, ao digitar o caminho completo ou o nome do item.

Assinale a opção que apresenta a combinação de teclas usada para abrir a caixa de diálogo "Executar".

- (A) Windows + E
- (B) Windows + I
- (C) Windows + K
- (D) Windows + L
- (E) Windows + R

20

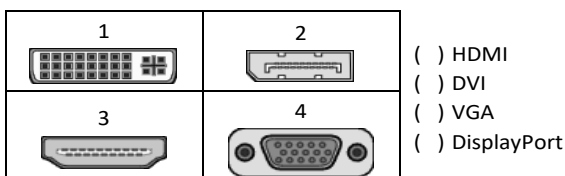
No contexto dos sistemas operacionais Microsoft Windows, o Painel de Controle é uma área central para gerenciar as configurações do sistema, opções de personalização e outros.

Considerando as versões superiores ao Windows 7, assinale a opção que **não** indica uma funcionalidade encontrada no painel de controle.

- (A) Backup e Restauração.
- (B) Relógio e Região.
- (C) Hardware e Sons.
- (D) Contas de Usuário.
- (E) Configuração de Registro Avançadas.

21

No contexto das interfaces para vídeo, relacione as portas às suas respectivas tecnologias.



Assinale a opção que indica a relação correta, segundo a ordem apresentada.

- (A) 2 – 3 – 1 – 4.
- (B) 2 – 4 – 1 – 3.
- (C) 3 – 2 – 1 – 4.
- (D) 3 – 1 – 4 – 2.
- (E) 4 – 2 – 3 – 1.

22

Em uma pequena empresa, durante uma tentativa de realizar uma manutenção de rotina nos servidores ao final do expediente, José, um funcionário recém-contratado, com pouca experiência em TI, desliga um servidor que está rodando um serviço de DHCP. No dia seguinte, os usuários começam a reportar problemas.

Considerando que todas as estações de trabalho com sistema operacional Windows estavam utilizando o servidor DHCP, assinale a opção que indica o que os usuários reportaram.

- (A) As estações de trabalho não estão ligando, pois dependem do servidor DHCP.
- (B) Havia lentidão na conexão com a internet.
- (C) Perda de acesso à internet, enquanto o acesso à rede local entre as estações de trabalho permaneceu possível.
- (D) Interrupção do serviço de *e-mail*; os demais serviços funcionavam.
- (E) Impressão em rede local não funcionava, mas a internet estava acessível.

23

Sobre a inserção de tabelas no Microsoft Word 2019 em português, analise as afirmativas a seguir.

- I. As tabelas admitem diferentes estilos de borda, cores de preenchimento e fontes, para melhorar sua apresentação visual.
- II. Ao inserir uma tabela, é possível definir o número de linhas e colunas antes de criá-la, no entanto, não é possível alterar a estrutura após a inserção.
- III. As tabelas podem ser inseridas apenas no início de um documento e não podem ser movidas para outras partes do texto.

Está correto o que se afirma em

- (A) I, apenas.
- (B) I e II, apenas.
- (C) II e III, apenas.
- (D) I e III, apenas.
- (E) I, II e III.

24

Em uma planilha Microsoft Excel 2019 em português do Brasil, há um conjunto de dados com vendas listadas na coluna B.

Por meio da funcionalidade de Formatação Condicional, a seguinte função pode ser usada para destacar os 10% dos principais valores de vendas com preenchimento verde:

- (A) PERCENTIL.
- (B) MAXIMO.
- (C) SOMASES.
- (D) CONT.SE.
- (E) ABS.

25

No contexto da computação em nuvem e seus serviços, assinale a opção que corresponde ao conceito de *elasticidade*.

- (A) A capacidade de expandir ou reduzir dinamicamente seus recursos de acordo com a demanda.
- (B) A flexibilidade de implementação de serviços.
- (C) A capacidade de uma nuvem de suportar múltiplos usuários, simultaneamente.
- (D) A velocidade da conexão entre a nuvem e os dispositivos do usuário.
- (E) A confiabilidade dos serviços oferecidos pelo provedor de computação em nuvem.

26

Os ataques de negação de serviço distribuídos, conhecidos como DDoS, representam uma ameaça significativa para a segurança da internet.

Com base nesse contexto, assinale a afirmativa **incorreta**.

- (A) Em um ataque DDoS, os atacantes usam uma rede de computadores comprometidos, conhecidos como botnets.
- (B) Os ataques DDoS geralmente visam comprometer os dados, tornando-os inacessíveis, mesmo para usuários autorizados.
- (C) Os ataques DDoS podem causar interrupções significativas nos serviços *online*.
- (D) Embora não seja usual, ataques DDoS já foram feitos a partir de dispositivos IoT comprometidos, como câmeras de segurança.
- (E) Os ataques de DDoS podem ter como alvo vários recursos de rede, incluindo servidores web, jogos *online* e infraestrutura de nuvem.

## História e Geografia do Estado de Tocantins

27

O Estado do Tocantins situa-se em uma zona de transição que apresenta dois tipos de vegetação: a Floresta Ombrófila e a Savana, pertencentes, respectivamente, aos biomas

- (A) Amazônia e Cerrado.
- (B) Mata Atlântica e Pampa.
- (C) Caatinga e Mata Atlântica.
- (D) Amazônia e Caatinga.
- (E) Cerrado e Pantanal.

28



As bonecas Ritxoko são figuras de cerâmica confeccionadas por mulheres indígenas da etnia Karajá, do estado do Tocantins. Feitas a partir da mistura de argila e água, as peças representam tanto a forma humana e seus ciclos de vida quanto elementos da fauna e do sobrenatural. A pigmentação vermelha é extraída do urucum, enquanto a preta é retirada de uma árvore chamada ixarurina. As bonecas são usadas como instrumentos de socialização das crianças que se veem nesses objetos e aprendem a ser Karajá, recebendo ensinamentos e aprendendo as técnicas e saberes associados à sua confecção e usos. A pintura e a decoração das cerâmicas estão associadas à pintura corporal dos Karajá e às peças de vestuário e adorno.

Adaptado de <https://www.gov.br/funai>

Com base no trecho, é correto afirmar que as bonecas Ritxoko são um patrimônio

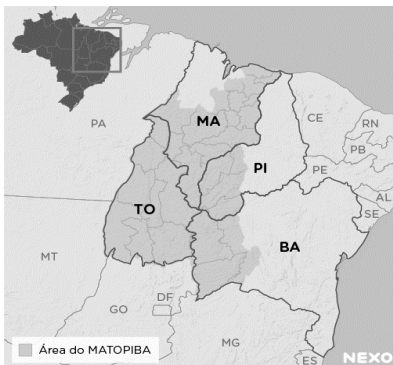
- (A) da humanidade, uma vez que constituem bens culturais e naturais significativos para todas as culturas, sendo contempladas como referência estética para todos os povos.
- (B) histórico nacional, pois exemplificam a riqueza dos modos de fazer e das formas de expressão que envolvem a tradição dos Karajás no Brasil.
- (C) cultural brasileiro, uma vez que são consideradas representações culturais com significados sociais e identitários profundos.
- (D) imaterial mundial, já que sua feitura envolve processos abstratos criativos de elaboração e variação de formas e grafismos.
- (E) material tocantinense, por expressar a arte, a memória e a identidade das comunidades indígenas da Ilha do Bananal, no Tocantins.

29

Sobre a formação histórica do território que hoje corresponde ao Estado do Tocantins, assinale a afirmativa que descreve corretamente o processo de desbravamento e ocupação da região no Período Colonial.

- (A) No final do século XVI, os primeiros a encontrar a foz do rio Tocantins junto ao Amazonas foram os espanhóis, então instalados no Maranhão para expulsar colonos franceses que haviam fundado a França equinocial.
- (B) Na primeira metade do século XVIII, a bandeira de Bartolomeu Bueno da Silva Filho descobriu ouro nas cabeceiras do rio Vermelho e fundou o Arraial de Sant'Anna, às margens do rio.
- (C) Nos anos de 1730-40 foi encontrado ouro no norte de Goiás, incentivando a fundação de cidades sob a jurisdição de Salvador, como Natividade, Almas, Chapada, Pontal e Porto Real, entre outras.
- (D) O declínio da mineração se acentuou na passagem do século XVIII para o XIX, agravado pela instituição de um novo imposto (capitação), cobrado proporcionalmente ao número de escravos de cada minerador.
- (E) Na segunda década do século XIX, em decorrência da crise da mineração, a região estava em uma situação de abandono, como relatado por Theotônio Segurado, futuro Governador da Capitania do Norte.

30



A área do MATOPIBA caracteriza-se pelo baixo preço das terras e pela uniformidade do clima, do solo e do relevo, que facilitam a mecanização agrícola e tem atraído cada vez mais agricultores.

A respeito do MATOPIBA, analise as afirmativas a seguir.

- I. É uma região de transição entre o Cerrado e o Semiárido, com condições favoráveis para a agricultura: áreas planas e extensas, solos de alto potencial produtivo, disponibilidade de água, clima favorável com elevada intensidade de sol.
- II. É um grande produtor de *commodities*, com uso intenso de tecnologia (máquinas, colheitadeiras, insumos) e uso reduzido do fator trabalho, assim sendo, o crescimento do produto interno bruto (PIB) aumenta com velocidade, mas a geração de riqueza não é acompanhada, proporcionalmente, por uma melhora na distribuição de renda.
- III. É o maior produtor nacional de soja, pois concentra 90% da área de plantio, sendo também a região com o maior índice de produtividade sustentável de grãos, em função da colaboração do setor do agronegócio com a preservação das unidades de conservação locais.

Está correto o que se afirma em

- (A) I, apenas.
- (B) II, apenas.
- (C) III, apenas.
- (D) I e II, apenas.
- (E) II e III, apenas.

## CONHECIMENTOS ESPECÍFICOS

31

A *comunicação* é essencial em todas as interações humanas, abrangendo desde o âmbito pessoal até o profissional. Aspectos fundamentais da comunicação incluem clareza para garantir compreensão mútua, empatia para considerar perspectivas alheias, assertividade na expressão de ideias e necessidades, e escuta ativa para absorver mensagens e demonstrar interesse genuíno. Esses elementos promovem trocas claras e construtivas, facilitando a colaboração, a resolução de problemas e a construção de relacionamentos sólidos.

Assinale a opção que apresenta, corretamente, a definição de comunicação segundo a metáfora do conduíte.

- (A) Uma *performance* teatral.
- (B) Um fluxo linear de mão única.
- (C) Uma interação social.
- (D) Uma interpretação de formas literárias.
- (E) Uma construção de contratos relacionais.

32

O exercício da cidadania, essencialmente ligado ao conceito de Estado-nação, implica não apenas em direitos, mas também em deveres e responsabilidades para com a coletividade em uma sociedade democrática contemporânea. O conceito de cidadania na atualidade vai muito além disso, principalmente devido às novas configurações sociais que surgiram nas últimas décadas.

Assinale a opção que indica o conceito de cidadania que mostra uma preocupação com a reconciliação do universalismo de direitos, com o desafio da diversidade étnica e as demais aspirações de identidade.

- (A) Civil.
- (B) Social.
- (C) Política.
- (D) Multicultural.
- (E) Cosmopolita.

33

O processo administrativo é a abordagem sistemática para gerenciar organizações e atingir objetivos específicos, abrangendo quatro etapas principais: planejamento, organização, influência (ou direção) e controle.

Assinale a opção que indica, corretamente, a base de atuação da função de influência.

- (A) Ideias.
- (B) Objetivos.
- (C) Pessoas.
- (D) Coisas.
- (E) Resultados.

34

A gestão da qualidade é uma abordagem organizacional que visa garantir a conformidade e a excelência dos produtos ou serviços, superando as expectativas dos clientes. Isso envolve a implementação de práticas e sistemas que assegurem a consistência, confiabilidade e melhoria contínua, incluindo padrões de qualidade, controle de processos e envolvimento de toda a organização. Apoiada por normas como a ISO 9000, busca aprimorar a eficiência operacional, a satisfação do cliente e a competitividade.

Assinale a opção que apresenta, corretamente, a ferramenta que monitora as melhorias implementadas em um sistema de qualidade, utilizando dados numéricos.

- (A) *Brainstorming*.
- (B) Diagrama de afinidade.
- (C) Diagrama de causa e efeito – Ishikawa.
- (D) *Benchmarking*.
- (E) Diagrama de Pareto.

35

Os princípios da Administração Pública são delineados no Art. 37 da Constituição Federal de 1988.

Assinale a opção que apresenta, corretamente, o princípio que estabelece que a Administração Pública está limitada a agir somente dentro dos parâmetros estabelecidos pela lei.

- (A) Impessoalidade.
- (B) Publicidade.
- (C) Moralidade.
- (D) Legalidade.
- (E) Eficiência.

36

A estrutura organizacional é o alicerce que orienta a condução das atividades em direção aos objetivos da organização. Composta por distintos níveis hierárquicos, sua configuração pode variar consideravelmente de acordo com fatores como dimensão, segmento e estratégia da organização.

Assinale a opção que apresenta uma vantagem da descentralização.

- (A) Sinergia.
- (B) Controle.
- (C) Agilidade.
- (D) Codependência.
- (E) Economia de escala.

37

As técnicas secretariais englobam um conjunto de habilidades e procedimentos utilizados por profissionais de secretariado para desempenhar suas funções de forma eficaz e eficiente. Estas técnicas abrangem desde o domínio de ferramentas de organização e gestão do tempo até a comunicação escrita e oral, passando pela habilidade em lidar com sistemas de informação e tecnologias de escritório.

Assinale a opção que apresenta a ferramenta de tecnologia que permite acesso remoto a *softwares*, ao armazenamento de arquivos e ao processamento de dados por meio da Internet.

- (A) Agenda.
- (B) Computação na nuvem.
- (C) *Follow-up*.
- (D) Caderno de anotações.
- (E) *Planner*.

38

A Administração Pública possui princípios que norteiam sua atividade, e, com base neles, impõe aos servidores públicos um padrão de comportamento ético e responsável para o exercício de funções públicas.

Com relação ao papel do servidor público, analise as afirmativas a seguir.

- I. A conduta do servidor público deve ser pautada pela legalidade, pela moralidade, pela celeridade, responsabilidade e eficácia de seus atos, pela cortesia e urbanidade, pelo trabalho em harmonia com os demais servidores e com a estrutura organizacional do Estado.
- II. São princípios da conduta profissional dos servidores públicos a honestidade, o decoro, a eficiência e o exercício dos valores éticos e morais, que conferem dignidade ao cargo.
- III. A investidura no cargo público impõe ao servidor conduta pessoal íntima e postura ética mas o libera de qualquer responsabilidade funcional.

Está correto o que se afirma em

- (A) I, apenas.
- (B) I e II, apenas.
- (C) I e III, apenas.
- (D) II e III, apenas.
- (E) I, II e III.

39

A *tabela de temporalidade* é o instrumento de destinação, aprovado por autoridade competente, que determina prazos e condições de guarda tendo em vista a transferência, o recolhimento, o descarte ou a eliminação de documentos.

Assinale a opção que apresenta o ciclo de vida de um documento que é usado com frequência.

- (A) Intermediário.
- (B) Frequente.
- (C) Corrente.
- (D) Permanente.
- (E) Esporádico.

40

De acordo com a Constituição Federal de 1988, a Administração Pública pode ser organizada de forma direta e indireta. A Administração Pública direta compreende os órgãos e entidades que integram a estrutura do Estado, como ministérios, secretarias e autarquias, que atuam de forma centralizada, sob a supervisão direta do governo. Já a Administração Pública indireta é constituída por entidades com personalidade jurídica própria, como empresas estatais, fundações públicas e empresas de economia mista, que operam de forma descentralizada, embora ainda estejam sujeitas ao controle do Estado.

Assinale a opção que apresenta, corretamente, a entidade da administração indireta que se caracteriza pelo serviço autônomo, criado por lei, para executar atividades típicas da Administração Pública, que requeiram, para seu melhor funcionamento, gestão administrativa e financeira descentralizada.

- (A) Autarquia.
- (B) Empresa pública.
- (C) Fundação pública.
- (D) Sociedade de economia mista.
- (E) Organização da Sociedade Civil.



41

A *estrutura organizacional* é a maneira pela qual as atividades da organização são divididas, organizadas e coordenadas. Constitui a arquitetura ou o formato organizacional que assegura a divisão e a coordenação das atividades dos membros da organização. Dá-se o nome de unidade para cada subdivisão dentro de uma organização.

Assinale a opção que apresenta um exemplo de unidade.

- (A) Cliente interno.
- (B) Fornecedor.
- (C) *Stakeholder*.
- (D) Cliente externo.
- (E) Equipe.

42

A *teoria dos traços*, uma concepção antiga de liderança, visava identificar características distintivas de personalidade em indivíduos notáveis, como Napoleão, Lincoln e Getúlio Vargas, que se destacaram como líderes. No entanto, essa abordagem foi desacreditada devido a problemas na teorização, na mensuração e no reconhecimento da adequação do comportamento em diferentes situações. Atualmente, entende-se que certos traços de personalidade, combinados com outros aspectos da liderança, influenciam a percepção e a aprovação do comportamento dos líderes em muitas organizações.

Assinale a opção que indica, corretamente, um traço de liderança contemporâneo.

- (A) Herói.
- (B) Isolado.
- (C) Solitário.
- (D) Autoritário.
- (E) Coreógrafo.

43

A agenda, o caderno de anotações e o *follow-up* são ferramentas que se complementam e contribuem para a rotina de secretariado. Assinale a opção que apresenta, corretamente, a definição de *follow-up*.

- (A) *Software* gerenciador para organizar, planejar e lembrar os compromissos assumidos.
- (B) Caderno para planejar e organizar coisas que não estão necessariamente datadas.
- (C) Tecnologia que permite acesso remoto ao armazenamento de arquivos.
- (D) Pasta usada em reuniões ou para levar documentos de uma pessoa para outra.
- (E) Local destinado à guarda provisória dos documentos que estão pendentes.

44

Para garantir o sucesso do planejamento, é essencial identificar os fatores críticos que influenciam diretamente o alcance dos objetivos estabelecidos. Esses elementos determinantes são fundamentais para o progresso da organização, pois estão diretamente ligados ao seu êxito.

Assinale a opção que apresenta, corretamente, o fator crítico que visa a descobrir o que distingue as organizações bem-sucedidas das organizações malsucedidas e analisar as diferenças entre elas.

- (A) *Benchmarking*.
- (B) *Brainstorming*.
- (C) Matriz Swot.
- (D) Gráfico de Ishikawa.
- (E) *Balanced Scorecard*.

45

Redação oficial é o meio utilizado para o estabelecimento de relações de serviço na Administração Pública e corresponde ao modo uniforme de redigir atos normativos e comunicações oficiais.

Assinale a opção que apresenta o atributo de redação oficial que consegue transmitir o máximo de informações com o mínimo de palavras.

- (A) Coesão.
- (B) Clareza.
- (C) Concisão.
- (D) Coerência.
- (E) Objetividade.

46

Um modelo de gestão de resultados compreende três elementos essenciais: direcionadores de resultado, direcionadores de esforço para implementação das ações e mecanismos de controle.

Nesse contexto, a avaliação de desempenho é uma ferramenta necessária, mas não suficiente para a promoção de uma gestão de resultados.

Assinale a opção que apresenta a dimensão de desempenho que possui estreita relação com *produtividade*.

- (A) Eficácia.
- (B) Eficiência.
- (C) Efetividade.
- (D) Economicidade.
- (E) Custo-benefício.

47

O propósito do controle é garantir que os resultados do planejamento, organização e direção estejam alinhados o mais próximo possível dos objetivos definidos anteriormente. O cerne do controle reside na avaliação de se a atividade supervisionada está atingindo ou não os resultados desejados. Portanto, o controle é primordialmente um processo que direciona a atividade em direção a um objetivo predefinido.

Assinale a opção que apresenta um controle estratégico.

- (A) Balanço e relatórios financeiros.
- (B) Programação *just-in-time*.
- (C) Contabilidade de custos.
- (D) Controle orçamentário.
- (E) Controle de estoques.

48

A comunicação refere-se ao processo de envio e recebimento de mensagens ou informações. Este processo pode ocorrer por meio da linguagem oral ou escrita, ou por meio de gestos, de expressões faciais e da linguagem corporal. Para que a comunicação seja eficaz, é necessário que o emissor e o receptor emitam e recebam a mesma mensagem, que precisa ser objetiva e completa, e o canal adequado para a transmissão.

Assinale a opção que apresenta a definição de canal.

- (A) Aquele que emite a mensagem.
- (B) Informação enviada e recebida.
- (C) Sequência de estados que codifica uma mensagem.
- (D) Meio utilizado para veicular a mensagem.
- (E) Aquele que recebe a mensagem enviada pelo emissor.

49

A arquivologia envolve princípios, técnicas e práticas para gerir documentos em vários contextos, visando preservar a memória e garantir transparência e acesso à informação. Isso inclui a organização, conservação e recuperação eficientes de documentos, bem como a definição de políticas para arquivos físicos e digitais.

Com relação às noções de arquivologia, analise as afirmativas a seguir.

- I. O princípio da proveniência exige que conjuntos documentais (fundos) de origens distintas não sejam mesclados, prevendo uma articulação do organismo produtor do documento com a função que este representa.
- II. A teoria das três idades classifica os arquivos em primários, secundários e terciários, de acordo com a frequência de uso por suas entidades produtoras e a identificação de seus valores permanentes.
- III. A gestão de documentos abrange o conjunto de procedimentos e de operações técnicas referentes à produção, ao uso, à avaliação e ao arquivamento de documentos em fase corrente e intermediária, visando à sua alienação.

Está correto o que se afirma em

- (A) I, apenas.
- (B) I e II, apenas.
- (C) I e III, apenas.
- (D) II e III, apenas.
- (E) I, II e III.

50

A motivação é um conceito essencial no estudo do comportamento humano, envolvendo processos psicológicos e biológicos que impulsionam as pessoas em direção a metas específicas. Influenciada por diversos fatores, como necessidades biológicas, desejos pessoais e experiências passadas, a compreensão da motivação é crucial em contextos educacionais, profissionais, de saúde e de desenvolvimento pessoal, permitindo a identificação e a aplicação de estratégias eficazes para alcançar objetivos individuais e organizacionais.

Com relação à motivação, analise as afirmativas a seguir.

- I. A teoria motivacional de Maslow baseia-se na hierarquia de necessidades.
- II. A teoria ERC condensa as necessidades de existir, relacionar-se e crescer.
- III. Os dois fatores de Herzberg postulam que as necessidades humanas são aprendidas e podem ser influenciadas pelo ambiente e experiências individuais.

Está correto o que se afirma em

- (A) I, apenas.
- (B) I e II, apenas.
- (C) I e III, apenas.
- (D) II e III, apenas.
- (E) I, II e III.

## PRINCÍPIOS DA ADMINISTRAÇÃO PÚBLICA

51

De acordo com a Lei nº 14.133/2021, conhecida como Nova Lei de Licitações e Contratos Administrativos, o processo licitatório visa prevenir contratações com sobrepreço, preços manifestamente inexequíveis e superfaturamento na execução dos contratos.

Com relação aos casos de superfaturamento em que há dano provocado ao patrimônio da Administração, analise as afirmativas a seguir.

- I. Medição de quantidades superiores às efetivamente executadas ou fornecidas.
- II. Alterações no orçamento de obras e de serviços de engenharia que causem desequilíbrio econômico-financeiro do contrato em favor do contratante.
- III. Deficiência na execução de obras e de serviços de engenharia que resultem em diminuição da sua qualidade, vida útil ou insegurança.

Está correto o que se afirma em

- (A) I, apenas.
- (B) I e II, apenas.
- (C) I e III, apenas.
- (D) II e III, apenas.
- (E) I, II e III.

52

A Administração Direta é composta por órgãos e entidades que fazem parte da estrutura do Estado e operam diretamente sob a autoridade do poder público. Em contrapartida, a Administração Indireta inclui entidades com personalidade jurídica própria, mas vinculadas ao Estado. Enquanto a Administração Direta executa diretamente políticas públicas, a Indireta opera de forma mais especializada, muitas vezes em atividades empresariais.

Assinale a opção que indica a entidade dotada de personalidade jurídica de direito privado, com patrimônio próprio e capital exclusivo da União, criado por lei para a exploração de atividade econômica.

- (A) Autarquia.
- (B) Empresa pública.
- (C) Fundação pública.
- (D) Organização social.
- (E) Sociedade de economia mista.

53

A educação, a saúde, a alimentação, o trabalho, a moradia, o transporte, o lazer, a segurança, a previdência social, a proteção à maternidade e à infância, a assistência aos desamparados, na forma desta Constituição, são direitos sociais.

Assinale a opção que indica, corretamente, o direito devido ao brasileiro em situação de vulnerabilidade social.

- (A) Benefício de prestação continuada.
- (B) Fundo de garantia do tempo de serviço.
- (C) Seguro-desemprego.
- (D) Renda básica familiar.
- (E) Repouso semanal remunerado.

54

A Lei de Acesso à Informação (Lei nº 12.527/2011) garante ao cidadão o direito de obter informações públicas, promovendo a transparência e a *accountability* no setor público.

Assinale a opção que apresenta a *qualidade da informação* que pode ser conhecida e utilizada por indivíduos, equipamentos ou sistemas autorizados.

- (A) Integridade.
- (B) Autenticidade.
- (C) Transparência.
- (D) Primariedade.
- (E) Disponibilidade.

55

A Lei Geral de Proteção de Dados Pessoais (Lei nº 13.709/2018) estabelece regras para o tratamento de dados pessoais por parte de empresas e organizações, visando proteger a privacidade e os direitos dos cidadãos.

Assinale, entre as opções a seguir, a que apresenta um fundamento da disciplina da proteção de dados pessoais.

- (A) Anonimização.
- (B) Consentimento.
- (C) Não discriminação.
- (D) Uso compartilhado de dados.
- (E) Liberdade de expressão.

## LEGISLAÇÃO INSTITUCIONAL

56

Luiz, servidor público efetivo, encontra-se em estágio probatório e, nesse período, tem sido submetido a Avaliações Especiais de Desempenho.

Nos termos da Lei nº 4.208/2023, que cuida do plano de cargos, carreiras e remuneração dos Servidores da Assembleia Legislativa de Tocantins, assinale a afirmativa correta.

- (A) A Avaliação Especial de Desempenho dá-se em três etapas, que tem por base o acompanhamento trimestral do servidor.
- (B) O resultado da avaliação será levado ao conhecimento do avaliado e arquivado em caráter público.
- (C) O servidor, para ser aprovado, deverá obter média igual ou superior a 60% (sessenta por cento) dos pontos possíveis nas Avaliações Especiais de Desempenho.
- (D) O servidor, caso aprovado no estágio probatório, será imediatamente elevado para a classe seguinte do padrão inicial do seu cargo.
- (E) O servidor deve ser avaliado pelo chefe imediato.

57

João, eleito Deputado Estadual, foi diplomado, mas ainda não tomou posse.

À luz da Constituição do Estado do Tocantins, João não poderá

- (A) exercer cargo em uma empresa concessionária de serviço público.
- (B) ser diretor de uma empresa que goze de favor decorrente de contrato com pessoa jurídica de direito público.
- (C) patrocinar uma causa em que seja interessada uma autarquia.
- (D) manter contrato com uma pessoa jurídica de direito privado.
- (E) ser titular de mais de um cargo ou de mandato público eletivo.

58

Considerando o que dispõe o Regimento Interno da Assembleia Legislativa de Tocantins a respeito das Comissões, assinale a afirmativa correta.

- (A) A Comissão de Constituição, Justiça e Redação tem poderes de investigação próprios das autoridades judiciais.
- (B) As Comissões Especiais não podem ser constituídas para investigação sumária de fato determinado.
- (C) À Comissão de Segurança Pública compete analisar questões ligadas à violência urbana e rural.
- (D) As Comissões de Representação devem ser aprovadas pela maioria absoluta do Plenário da Assembleia.
- (E) A Comissão Parlamentar de Inquérito poderá deslocar-se para qualquer ponto do território estadual para a realização de investigações e audiências públicas.

59

Joaquim é servidor estadual estável, detentor de cargo efetivo e aposentado voluntariamente. Depois de dois anos de sua aposentadoria, Joaquim manifestou interesse, perante a Administração, de retornar à atividade em que era estável.

Caso haja cargo vago disponível, conforme a Lei nº 1818/2017, que dispõe sobre o Estatuto dos Servidores Públicos Civis do Estado do Tocantins, assinale a modalidade de provimento adequada ao caso.

- (A) Aproveitamento.
- (B) Reversão.
- (C) Readaptação.
- (D) Reintegração.
- (E) Recondução.

60

Levando em conta a estrutura administrativa da Assembleia Legislativa de Tocantins e dos órgãos de assistência à Presidência da Assembleia, de acordo com a Lei nº 4.209/2023, a competência para encaminhar as denúncias recebidas ao Tribunal de Contas do Estado, à Polícia Civil, ao Ministério Público, ou a outro órgão competente, é da

- (A) Procuradoria-Geral.
- (B) Controladoria Interna.
- (C) Diretoria de Polícia Legislativa.
- (D) Assessoria Jurídica da Presidência.
- (E) Ouvidoria Geral da Assembleia Legislativa.



# ASSEMBLEIA LEGISLATIVA DO ESTADO DO TOCANTINS

CONCURSO PÚBLICO – EDITAL Nº 01/2023

## PROVA OBJETIVA – MANHÃ

TÉCNICO LEGISLATIVO

# ASSISTÊNCIA ADMINISTRATIVA

NÍVEL MÉDIO – TIPO 3 – AMARELA



### SUA PROVA

- Além deste caderno contendo **60 (sessenta)** questões objetivas, você receberá do fiscal de prova o cartão de respostas;
- As questões objetivas têm **5 (cinco)** opções de resposta (A, B, C, D) e somente uma delas está correta.



### TEMPO

- Você dispõe de **4 (quatro) horas** para a realização da prova, já incluído o tempo para a marcação do cartão de respostas;
- **3 (três) horas** após o início da prova, é possível retirar-se da sala, sem levar o caderno de questões;
- A partir dos **30 (trinta) minutos** anteriores ao término da prova é possível retirar-se da sala **levando o caderno de questões**.



### NÃO SERÁ PERMITIDO

- Qualquer tipo de comunicação entre os candidatos durante a aplicação da prova;
- Anotar informações relativas às respostas em qualquer outro meio que não seja o caderno de questões;
- Levantar da cadeira sem autorização do fiscal de sala;
- Usar o sanitário ao término da prova, após deixar a sala.



### INFORMAÇÕES GERAIS

- Verifique se seu caderno de questões está completo, sem repetição de questões ou falhas. Caso contrário, **notifique imediatamente o fiscal da sala**, para que sejam tomadas as devidas providências;
- Confira seus dados pessoais, especialmente nome, número de inscrição e documento de identidade e leia atentamente as instruções para preencher o cartão de respostas;
- Para o preenchimento do cartão de respostas, use somente caneta esferográfica, fabricada em material transparente, com tinta preta ou azul;
- Assine seu nome apenas no(s) espaço(s) reservado(s) no cartão de respostas;
- Confira seu cargo, cor e tipo do caderno de questões. Caso tenha recebido caderno de cargo ou cor ou tipo **diferente** do impresso em seu cartão de respostas, o fiscal deve ser **obrigatoriamente** informado para o devido registro na ata da sala;
- Reserve tempo suficiente para o preenchimento do seu cartão de respostas. O preenchimento é de sua responsabilidade e **não será permitida a troca do cartão de respostas em caso de erro cometido pelo candidato**;
- Para fins de avaliação, serão levadas em consideração apenas as marcações realizadas no cartão de respostas;
- A FGV coletará as impressões digitais dos candidatos na lista de presença;
- Os candidatos serão submetidos ao sistema de detecção de metais quando do ingresso e da saída de sanitários durante a realização das provas.
- **Boa prova!**

## CONHECIMENTOS BÁSICOS

### Língua Portuguesa

1

Assinale a opção que apresenta as duas palavras que devem ser grafadas com **es** e não com **ex**.

- (A) Excremento / expurgo.
- (B) Excusar / expontâneo.
- (C) Excomungar / expressar.
- (D) Extirpar / extorquir.
- (E) Exterminar / extremoso.

2

Leia o seguinte texto de um jornal de outros tempos:

*“Mudança nas moedas. A partir de junho começam a entrar em circulação as moedas de Cr\$100 e Cr\$500 substituindo as cédulas que trazem estampadas a poetisa Cecília Meireles e o naturalista Augusto Ruschi, respectivamente. O lançamento das moedas foi aprovado na reunião de ontem do Conselho Monetário Nacional, colocando fim à família de notas criadas no governo Sarney, sob a égide dos cruzados novos.”*

Sobre esse fragmento textual, analise as observações a seguir, feitas por um estudioso de nossa Língua, e assinale a correta.

- (A) “Começam a entrar em circulação” é bastante estranho, porque as moedas, pequenas que são e de pequeno valor, “entram” logo.
- (B) “trazem estampadas a poetisa Cecília Meireles e o naturalista Augusto Ruschi”, mas eu pensava que as moedas trazem estampadas as efígies de Fulano ou Beltrano.
- (C) “colocando fim à família” mostra o emprego inadequado de “colocar” em lugar de “pôr”.
- (D) “criadas”, por questão de clareza e precisão, devia ser substituído por “lançadas” ou “emitidas”.
- (E) “sob”, por questão de correção gramatical, deve ser substituído por “sobre”.

3

Os textos a seguir mostram elementos de coesão em relação ao termo sublinhado; assinale a opção em que **todos** os termos seguintes, em coesão com ele, estão indicados.

- (A) Geralmente, entre nossos **motivos** de agir, há um mais forte que os demais: aquele que não é declarado. – *um, os demais, aquele, que.*
- (B) O que empobrece **o homem** não são seus atos, mas os desejos que ele possui. – *ele.*
- (C) **O dinheiro**, recebem-no todos os que trabalham e o perdem todos os irresponsáveis. – *no, que, o.*
- (D) Qual pode ser **a vida** que começa pelos gritos da mãe, que a dá, e o choro do filho que a recebe? – *que, que, a.*
- (E) Meu filho! Deus te enviou a **este mundo**. Cultiva-o e não te apresses em sair dele. – *o.*

4

As citações a seguir são compostas por dois segmentos; assinale a opção em que a **relação lógica** indicada pelo segundo segmento está correta.

- (A) Dize-me o que crês ser / e te direi o que não és. – relação de oposição.
- (B) Quem crê é forte / quem duvida é fraco. – relação de conclusão.
- (C) Seja lá por que um homem reza, / ele reza por um milagre. – relação de explicação.
- (D) Não adianta esperar que o navio chegue / se você não o mandou para lugar nenhum. – relação de causa.
- (E) Pense como um homem de ação / e aja como um pensador. – relação de conclusão.

5

Assinale a opção que apresenta a frase em que houve **erro** de concordância da palavra sublinhada.

- (A) O presidente fez questão de deixar bem **claras** as suas intenções.
- (B) O STF qualificou de **antidemocrático** aqueles atos.
- (C) O governo chinês torna **visíveis** os erros das ditaduras.
- (D) Os enfermeiros tiveram **reconhecidos** os direitos de greve.
- (E) Tomei **emprestados** à biblioteca vários livros.

6

Leia o fragmento a seguir.

*“Não somos daqueles que só em meio aos livros, estimulados por livros vêm a ter pensamentos – é nosso hábito pensar ao ar livre, andando, saltando, escalando, dançando, preferivelmente em montes solitários ou próximos ao mar, onde mesmo as trilhas se tornam pensativas.”* (Nietzsche, filósofo alemão).

Sobre o significado desse fragmento, assinale a afirmativa correta.

- (A) A leitura é importante para a criação de ideias originais.
- (B) As formas de gerúndio mostram a evolução cronológica das ações narradas pelo escritor.
- (C) O pronome relativo “onde” refere-se a locais ao ar livre.
- (D) A forma do verbo “tornar-se”, como verbo de ligação, indica um estado transitório.
- (E) Os ambientes solitários propiciam reflexões de valor.

7

As perguntas a seguir apresentam o pronome pessoal oblíquo em ênclise (após o verbo); assinale a que mostra formulação **incorreta**, porque só admite próclise.

- (A) Os dois bandidos evadiram-se do presídio em Mossoró?
- (B) Onde podemos vê-los?
- (C) Eles dedicar-se-iam às tarefas com prazer.
- (D) Numa entrevista como esta, isto pergunta-se?
- (E) Quem dir-me-á tantas barbaridades, senão ele?

8

As frases a seguir mostram uma locução adjetiva introduzida pela preposição **sem**; assinale a opção em que a substituição dessa locução por um adjetivo de valor equivalente foi feita de forma adequada.

- (A) Cartas **sem autoria declarada** são sempre mal recebidas / desautorizadas.
- (B) Os poços **sem água** são de pouca serventia para a lavoura / áridos.
- (C) Foram deixados muitos problemas **sem solução** / insolúveis.
- (D) O governo tomou muitas atitudes **sem nexos** / desconexas.
- (E) Com os fogos de artifício, o campo ficou **sem visão** / invisível.

9

As frases a seguir mostram termos repetidos; assinale a opção que apresenta a frase em que o significado dos dois termos **não** é o mesmo.

- (A) Morrer é mudar de corpo como o ator muda de roupa.
- (B) Janeiro é o mês que se fazem bons votos aos amigos; os outros são os meses em que esses votos não se concretizam.
- (C) Quem tempo espera, muito tempo consome.
- (D) A falsidade da História é tão velha como a própria História.
- (E) Viva todos os dias como se fosse o último. Um dia você acerta.

10

As opções a seguir mostram, corretamente, a substituição da forma sublinhada, composta de **não + verbo**, por um só verbo, de sentido equivalente, **à exceção de uma**. Assinale-a.

- (A) Os países da OTAN pediram que o exército russo não avançasse esta semana. / *parasse*.
- (B) O deputado informou que não dispunha de tempo para redigir uma nova versão do projeto. / *carecia*.
- (C) O Presidente não aceitou o convite para visitar a Alemanha. / *declinou do*.
- (D) Não abriu as portas do museu para evitar a curiosidade do público. / *fechou*.
- (E) Por seus futuros compromissos, preferia não gastar dinheiro / *economizar*.

## Raciocínio Lógico Matemático

11

A seguir, são apresentados os 9 primeiros termos de uma sequência infinita de números inteiros.

13, 12, 14, 11, 15, 10, 16, 9, 17, ...

Os termos são, alternadamente, maiores e menores que seus antecessores imediatos, seguindo um padrão de construção.

Sabendo-se que esse padrão é mantido ao longo de toda a sequência, conclui-se que um termo negativo aparecerá pela primeira vez na

- (A) 28ª posição.
- (B) 27ª posição.
- (C) 26ª posição.
- (D) 15ª posição.
- (E) 14ª posição.

12

Para pagar um lanche, Temístocles usou uma nota de R\$20,00 e recebeu, de troco, uma nota de R\$5,00, duas notas de R\$2,00, nove moedas de R\$0,50 e 3 moedas de R\$0,25.

O lanche custou a Temístocles

- (A) R\$5,25.
- (B) R\$5,75.
- (C) R\$6,25.
- (D) R\$6,75.
- (E) R\$7,25.

13

Dois números diferentes serão escolhidos ao acaso entre os elementos do conjunto {5,7,9,11,14}.

A soma dos números escolhidos

- (A) certamente é ímpar.
- (B) certamente é par.
- (C) pode ser 26.
- (D) pode ser 18.
- (E) pode ser menor que 12.

14

Em um jogo, duas fichas azuis têm o mesmo valor de cinco fichas vermelhas e uma ficha preta vale o mesmo que três fichas azuis.

Assim, duas fichas pretas equivalem a

- (A) sete fichas vermelhas.
- (B) oito fichas vermelhas.
- (C) nove fichas vermelhas.
- (D) doze fichas vermelhas.
- (E) quinze fichas vermelhas.

15

Sabe-se que 20% de  $N$  é igual a 13,4. Logo, 90% de  $N$  é igual a

- (A) 59,6.
- (B) 60,3.
- (C) 61,2.
- (D) 62,5.
- (E) 63,2.

16

Marcelo é filho de Alberto. Pedro é filho de Luiz. Se Marcelo e Luiz são irmãos por parte de pai, então

- (A) Alberto é pai de Pedro.
- (B) Alberto é tio de Pedro.
- (C) Pedro é irmão de Marcelo.
- (D) Pedro é sobrinho de Marcelo.
- (E) Pedro é neto de Marcelo.

17

Ana trabalha em sistema de *home-office*, mas precisa comparecer ao escritório de sua empresa em intervalos regulares.

Se Ana comparece ao escritório em determinado dia, ela precisa comparecer de novo três dias úteis depois, isto é, descontando-se os sábados e os domingos. Assim, se ela compareceu em uma quinta-feira, deverá voltar ao escritório na terça-feira da semana seguinte.

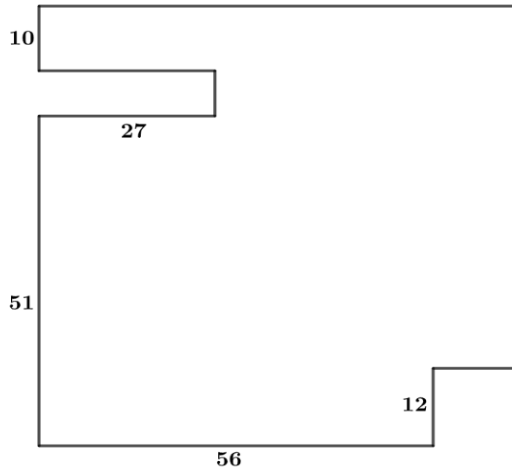
Hoje é sexta-feira e Ana está no escritório; assim, a *penúltima vez* em que ela esteve lá, foi uma

- (A) segunda-feira.
- (B) terça-feira.
- (C) quarta-feira.
- (D) quinta-feira.
- (E) sexta-feira.

18

De uma placa quadrada de madeira, foram recortados e, em seguida, descartados dois pedaços: o primeiro, em forma de um quadrado de lado 12 dm; o outro, em forma de retângulo, tendo comprimento igual a 27 dm.

A imagem a seguir ilustra o aspecto da placa após os descartes. Nela, estão indicadas as medidas, em decímetros, de alguns dos segmentos.



O menor lado do retângulo recortado dessa placa mede

- (A) 11 dm.
- (B) 10 dm.
- (C) 9 dm.
- (D) 8 dm.
- (E) 7 dm.

## Noções de Informática

19

No contexto dos sistemas operacionais Microsoft Windows, o Painel de Controle é uma área central para gerenciar as configurações do sistema, opções de personalização e outros.

Considerando as versões superiores ao Windows 7, assinale a opção que não indica uma funcionalidade encontrada no painel de controle.

- (A) Backup e Restauração.
- (B) Relógio e Região.
- (C) Hardware e Sons.
- (D) Contas de Usuário.
- (E) Configuração de Registro Avançadas.

20

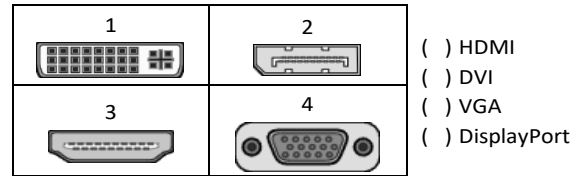
Nos sistemas operacionais Microsoft Windows 10, o recurso "Executar" permite aos usuários abrir rapidamente programas, pastas, documentos e recursos do sistema, ao digitar o caminho completo ou o nome do item.

Assinale a opção que apresenta a combinação de teclas usada para abrir a caixa de diálogo "Executar".

- (A) Windows + E
- (B) Windows + I
- (C) Windows + K
- (D) Windows + L
- (E) Windows + R

21

No contexto das interfaces para vídeo, relacione as portas às suas respectivas tecnologias.



Assinale a opção que indica a relação correta, segundo a ordem apresentada.

- (A) 2 – 3 – 1 – 4.
- (B) 2 – 4 – 1 – 3.
- (C) 3 – 2 – 1 – 4.
- (D) 3 – 1 – 4 – 2.
- (E) 4 – 2 – 3 – 1.

22

Em uma planilha Microsoft Excel 2019 em português do Brasil, há um conjunto de dados com vendas listadas na coluna B.

Por meio da funcionalidade de Formatação Condicional, a seguinte função pode ser usada para destacar os 10% dos principais valores de vendas com preenchimento verde:

- (A) PERCENTIL.
- (B) MAXIMO.
- (C) SOMASES.
- (D) CONT.SE.
- (E) ABS.

23

Em uma pequena empresa, durante uma tentativa de realizar uma manutenção de rotina nos servidores ao final do expediente, José, um funcionário recém-contratado, com pouca experiência em TI, desliga um servidor que está rodando um serviço de DHCP. No dia seguinte, os usuários começam a reportar problemas.

Considerando que todas as estações de trabalho com sistema operacional Windows estavam utilizando o servidor DHCP, assinale a opção que indica o que os usuários reportaram.

- (A) As estações de trabalho não estão ligando, pois dependem do servidor DHCP.
- (B) Havia lentidão na conexão com a internet.
- (C) Perda de acesso à internet, enquanto o acesso à rede local entre as estações de trabalho permaneceu possível.
- (D) Interrupção do serviço de e-mail; os demais serviços funcionavam.
- (E) Impressão em rede local não funcionava, mas a internet estava acessível.

**24**

Sobre a inserção de tabelas no Microsoft Word 2019 em português, analise as afirmativas a seguir.

- I. As tabelas admitem diferentes estilos de borda, cores de preenchimento e fontes, para melhorar sua apresentação visual.
- II. Ao inserir uma tabela, é possível definir o número de linhas e colunas antes de criá-la, no entanto, não é possível alterar a estrutura após a inserção.
- III. As tabelas podem ser inseridas apenas no início de um documento e não podem ser movidas para outras partes do texto.

Está correto o que se afirma em

- (A) I, apenas.
- (B) I e II, apenas.
- (C) II e III, apenas.
- (D) I e III, apenas.
- (E) I, II e III.

**25**

Os ataques de negação de serviço distribuídos, conhecidos como DDoS, representam uma ameaça significativa para a segurança da internet.

Com base nesse contexto, assinale a afirmativa **incorreta**.

- (A) Em um ataque DDoS, os atacantes usam uma rede de computadores comprometidos, conhecidos como botnets.
- (B) Os ataques DDoS geralmente visam comprometer os dados, tornando-os inacessíveis, mesmo para usuários autorizados.
- (C) Os ataques DDoS podem causar interrupções significativas nos serviços *online*.
- (D) Embora não seja usual, ataques DDoS já foram feitos a partir de dispositivos IoT comprometidos, como câmeras de segurança.
- (E) Os ataques de DDoS podem ter como alvo vários recursos de rede, incluindo servidores web, jogos *online* e infraestrutura de nuvem.

**26**

No contexto da computação em nuvem e seus serviços, assinale a opção que corresponde ao conceito de **elasticidade**.

- (A) A capacidade de expandir ou reduzir dinamicamente seus recursos de acordo com a demanda.
- (B) A flexibilidade de implementação de serviços.
- (C) A capacidade de uma nuvem de suportar múltiplos usuários, simultaneamente.
- (D) A velocidade da conexão entre a nuvem e os dispositivos do usuário.
- (E) A confiabilidade dos serviços oferecidos pelo provedor de computação em nuvem.

## História e Geografia do Estado de Tocantins

**27**

Sobre a formação histórica do território que hoje corresponde ao Estado do Tocantins, assinale a afirmativa que descreve corretamente o processo de desbravamento e ocupação da região no Período Colonial.

- (A) No final do século XVI, os primeiros a encontrar a foz do rio Tocantins junto ao Amazonas foram os espanhóis, então instalados no Maranhão para expulsar colonos franceses que haviam fundado a França equinocial.
- (B) Na primeira metade do século XVIII, a bandeira de Bartolomeu Bueno da Silva Filho descobriu ouro nas cabeceiras do rio Vermelho e fundou o Arraial de Sant'Anna, às margens do rio.
- (C) Nos anos de 1730-40 foi encontrado ouro no norte de Goiás, incentivando a fundação de cidades sob a jurisdição de Salvador, como Natividade, Almas, Chapada, Pontal e Porto Real, entre outras.
- (D) O declínio da mineração se acentuou na passagem do século XVIII para o XIX, agravado pela instituição de um novo imposto (capitação), cobrado proporcionalmente ao número de escravos de cada minerador.
- (E) Na segunda década do século XIX, em decorrência da crise da mineração, a região estava em uma situação de abandono, como relatado por Theotônio Segurado, futuro Governador da Capitania do Norte.



28



As bonecas Ritxoko são figuras de cerâmica confeccionadas por mulheres indígenas da etnia Karajá, do estado do Tocantins. Feitas a partir da mistura de argila e água, as peças representam tanto a forma humana e seus ciclos de vida quanto elementos da fauna e do sobrenatural. A pigmentação vermelha é extraída do urucum, enquanto a preta é retirada de uma árvore chamada ixarurina. As bonecas são usadas como instrumentos de socialização das crianças que se veem nesses objetos e aprendem a ser Karajá, recebendo ensinamentos e aprendendo as técnicas e saberes associados à sua confecção e usos. A pintura e a decoração das cerâmicas estão associadas à pintura corporal dos Karajá e às peças de vestuário e adorno.

Adaptado de <https://www.gov.br/funai>

Com base no trecho, é correto afirmar que as bonecas Ritxoko são um patrimônio

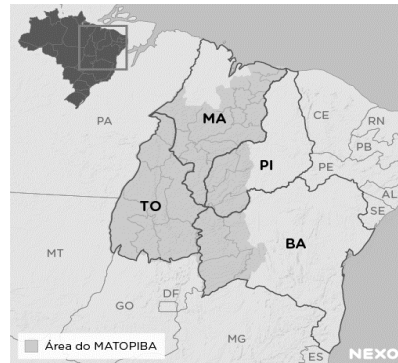
- da humanidade, uma vez que constituem bens culturais e naturais significativos para todas as culturas, sendo contempladas como referência estética para todos os povos.
- histórico nacional, pois exemplificam a riqueza dos modos de fazer e das formas de expressão que envolvem a tradição dos Karajás no Brasil.
- cultural brasileiro, uma vez que são consideradas representações culturais com significados sociais e identitários profundos.
- imaterial mundial, já que sua feitura envolve processos abstratos criativos de elaboração e variação de formas e grafismos.
- material tocantinense, por expressar a arte, a memória e a identidade das comunidades indígenas da Ilha do Bananal, no Tocantins.

29

O Estado do Tocantins situa-se em uma zona de transição que apresenta dois tipos de vegetação: a Floresta Ombrófila e a Savana, pertencentes, respectivamente, aos biomas

- Amazônia e Cerrado.
- Mata Atlântica e Pampa.
- Caatinga e Mata Atlântica.
- Amazônia e Caatinga.
- Cerrado e Pantanal.

30



A área do MATOPIBA caracteriza-se pelo baixo preço das terras e pela uniformidade do clima, do solo e do relevo, que facilitam a mecanização agrícola e tem atraído cada vez mais agricultores.

A respeito do MATOPIBA, analise as afirmativas a seguir.

- É uma região de transição entre o Cerrado e o Semiárido, com condições favoráveis para a agricultura: áreas planas e extensas, solos de alto potencial produtivo, disponibilidade de água, clima favorável com elevada intensidade de sol.
- É um grande produtor de *commodities*, com uso intenso de tecnologia (máquinas, colheitadeiras, insumos) e uso reduzido do fator trabalho, assim sendo, o crescimento do produto interno bruto (PIB) aumenta com velocidade, mas a geração de riqueza não é acompanhada, proporcionalmente, por uma melhora na distribuição de renda.
- É o maior produtor nacional de soja, pois concentra 90% da área de plantio, sendo também a região com o maior índice de produtividade sustentável de grãos, em função da colaboração do setor do agronegócio com a preservação das unidades de conservação locais.

Está correto o que se afirma em

- I, apenas.
- II, apenas.
- III, apenas.
- I e II, apenas.
- II e III, apenas.

## CONHECIMENTOS ESPECÍFICOS

31

A comunicação refere-se ao processo de envio e recebimento de mensagens ou informações. Este processo pode ocorrer por meio da linguagem oral ou escrita, ou por meio de gestos, de expressões faciais e da linguagem corporal. Para que a comunicação seja eficaz, é necessário que o emissor e o receptor emitam e recebam a mesma mensagem, que precisa ser objetiva e completa, e o canal adequado para a transmissão.

Assinale a opção que apresenta a definição de canal.

- (A) Aquele que emite a mensagem.
- (B) Informação enviada e recebida.
- (C) Sequência de estados que codifica uma mensagem.
- (D) Meio utilizado para veicular a mensagem.
- (E) Aquele que recebe a mensagem enviada pelo emissor.

32

De acordo com a Constituição Federal de 1988, a Administração Pública pode ser organizada de forma direta e indireta. A Administração Pública direta compreende os órgãos e entidades que integram a estrutura do Estado, como ministérios, secretarias e autarquias, que atuam de forma centralizada, sob a supervisão direta do governo. Já a Administração Pública indireta é constituída por entidades com personalidade jurídica própria, como empresas estatais, fundações públicas e empresas de economia mista, que operam de forma descentralizada, embora ainda estejam sujeitas ao controle do Estado.

Assinale a opção que apresenta, corretamente, a entidade da administração indireta que se caracteriza pelo serviço autônomo, criado por lei, para executar atividades típicas da Administração Pública, que requeiram, para seu melhor funcionamento, gestão administrativa e financeira descentralizada.

- (A) Autarquia.
- (B) Empresa pública.
- (C) Fundação pública.
- (D) Sociedade de economia mista.
- (E) Organização da Sociedade Civil.

33

A arquivologia envolve princípios, técnicas e práticas para gerir documentos em vários contextos, visando preservar a memória e garantir transparência e acesso à informação. Isso inclui a organização, conservação e recuperação eficientes de documentos, bem como a definição de políticas para arquivos físicos e digitais.

Com relação às noções de arquivologia, analise as afirmativas a seguir.

- I. O princípio da proveniência exige que conjuntos documentais (fundos) de origens distintas não sejam mesclados, prevendo uma articulação do organismo produtor do documento com a função que este representa.
- II. A teoria das três idades classifica os arquivos em primários, secundários e terciários, de acordo com a frequência de uso por suas entidades produtoras e a identificação de seus valores permanentes.
- III. A gestão de documentos abrange o conjunto de procedimentos e de operações técnicas referentes à produção, ao uso, à avaliação e ao arquivamento de documentos em fase corrente e intermediária, visando à sua alienação.

Está correto o que se afirma em

- (A) I, apenas.
- (B) I e II, apenas.
- (C) I e III, apenas.
- (D) II e III, apenas.
- (E) I, II e III.

34

O propósito do controle é garantir que os resultados do planejamento, organização e direção estejam alinhados o mais próximo possível dos objetivos definidos anteriormente. O cerne do controle reside na avaliação de se a atividade supervisionada está atingindo ou não os resultados desejados. Portanto, o controle é primordialmente um processo que direciona a atividade em direção a um objetivo predefinido.

Assinale a opção que apresenta um controle estratégico.

- (A) Balanço e relatórios financeiros.
- (B) Programação *just-in-time*.
- (C) Contabilidade de custos.
- (D) Controle orçamentário.
- (E) Controle de estoques.

35

Um modelo de gestão de resultados compreende três elementos essenciais: direcionadores de resultado, direcionadores de esforço para implementação das ações e mecanismos de controle.

Nesse contexto, a avaliação de desempenho é uma ferramenta necessária, mas não suficiente para a promoção de uma gestão de resultados.

Assinale a opção que apresenta a dimensão de desempenho que possui estreita relação com produtividade.

- (A) Eficácia.
- (B) Eficiência.
- (C) Efetividade.
- (D) Economicidade.
- (E) Custo-benefício.

**36**

A Administração Pública possui princípios que norteiam sua atividade, e, com base neles, impõe aos servidores públicos um padrão de comportamento ético e responsável para o exercício de funções públicas.

Com relação ao papel do servidor público, analise as afirmativas a seguir.

- I. A conduta do servidor público deve ser pautada pela legalidade, pela moralidade, pela celeridade, responsabilidade e eficácia de seus atos, pela cortesia e urbanidade, pelo trabalho em harmonia com os demais servidores e com a estrutura organizacional do Estado.
- II. São princípios da conduta profissional dos servidores públicos a honestidade, o decoro, a eficiência e o exercício dos valores éticos e morais, que conferem dignidade ao cargo.
- III. A investidura no cargo público impõe ao servidor conduta pessoal íntima e postura ética mas o libera de qualquer responsabilidade funcional.

Está correto o que se afirma em

- (A) I, apenas.
- (B) I e II, apenas.
- (C) I e III, apenas.
- (D) II e III, apenas.
- (E) I, II e III.

**37**

A *comunicação* é essencial em todas as interações humanas, abrangendo desde o âmbito pessoal até o profissional. Aspectos fundamentais da comunicação incluem clareza para garantir compreensão mútua, empatia para considerar perspectivas alheias, assertividade na expressão de ideias e necessidades, e escuta ativa para absorver mensagens e demonstrar interesse genuíno. Esses elementos promovem trocas claras e construtivas, facilitando a colaboração, a resolução de problemas e a construção de relacionamentos sólidos.

Assinale a opção que apresenta, corretamente, a definição de comunicação segundo a metáfora do *conduíte*.

- (A) Uma *performance* teatral.
- (B) Um fluxo linear de mão única.
- (C) Uma interação social.
- (D) Uma interpretação de formas literárias.
- (E) Uma construção de contratos relacionais.

**38**

A *teoria dos traços*, uma concepção antiga de liderança, visava identificar características distintivas de personalidade em indivíduos notáveis, como Napoleão, Lincoln e Getúlio Vargas, que se destacaram como líderes. No entanto, essa abordagem foi desacreditada devido a problemas na teorização, na mensuração e no reconhecimento da adequação do comportamento em diferentes situações. Atualmente, entende-se que certos traços de personalidade, combinados com outros aspectos da liderança, influenciam a percepção e a aprovação do comportamento dos líderes em muitas organizações.

Assinale a opção que indica, corretamente, um traço de liderança contemporâneo.

- (A) Herói.
- (B) Isolado.
- (C) Solitário.
- (D) Autoritário.
- (E) Coreógrafo.

**39**

O exercício da cidadania, essencialmente ligado ao conceito de Estado-nação, implica não apenas em direitos, mas também em deveres e responsabilidades para com a coletividade em uma sociedade democrática contemporânea. O conceito de cidadania na atualidade vai muito além disso, principalmente devido às novas configurações sociais que surgiram nas últimas décadas.

Assinale a opção que indica o conceito de cidadania que mostra uma preocupação com a reconciliação do universalismo de direitos, com o desafio da diversidade étnica e as demais aspirações de identidade.

- (A) Civil.
- (B) Social.
- (C) Política.
- (D) Multicultural.
- (E) Cosmopolita.

**40**

Os princípios da Administração Pública são delineados no Art. 37 da Constituição Federal de 1988.

Assinale a opção que apresenta, corretamente, o princípio que estabelece que a Administração Pública está limitada a agir somente dentro dos parâmetros estabelecidos pela lei.

- (A) Impessoalidade.
- (B) Publicidade.
- (C) Moralidade.
- (D) Legalidade.
- (E) Eficiência.

**41**

A agenda, o caderno de anotações e o *follow-up* são ferramentas que se complementam e contribuem para a rotina de secretariado. Assinale a opção que apresenta, corretamente, a definição de *follow-up*.

- (A) *Software* gerenciador para organizar, planejar e lembrar os compromissos assumidos.
- (B) Caderno para planejar e organizar coisas que não estão necessariamente datadas.
- (C) Tecnologia que permite acesso remoto ao armazenamento de arquivos.
- (D) Pasta usada em reuniões ou para levar documentos de uma pessoa para outra.
- (E) Local destinado à guarda provisória dos documentos que estão pendentes.

**42**

A gestão da qualidade é uma abordagem organizacional que visa garantir a conformidade e a excelência dos produtos ou serviços, superando as expectativas dos clientes. Isso envolve a implementação de práticas e sistemas que assegurem a consistência, confiabilidade e melhoria contínua, incluindo padrões de qualidade, controle de processos e envolvimento de toda a organização. Apoiada por normas como a ISO 9000, busca aprimorar a eficiência operacional, a satisfação do cliente e a competitividade.

Assinale a opção que apresenta, corretamente, a ferramenta que monitora as melhorias implementadas em um sistema de qualidade, utilizando dados numéricos.

- (A) *Brainstorming*.
- (B) Diagrama de afinidade.
- (C) Diagrama de causa e efeito – Ishikawa.
- (D) *Benchmarking*.
- (E) Diagrama de Pareto.

43

Redação oficial é o meio utilizado para o estabelecimento de relações de serviço na Administração Pública e corresponde ao modo uniforme de redigir atos normativos e comunicações oficiais.

Assinale a opção que apresenta o atributo de redação oficial que consegue transmitir o máximo de informações com o mínimo de palavras.

- (A) Coesão.
- (B) Clareza.
- (C) Concisão.
- (D) Coerência.
- (E) Objetividade.

44

A motivação é um conceito essencial no estudo do comportamento humano, envolvendo processos psicológicos e biológicos que impulsionam as pessoas em direção a metas específicas. Influenciada por diversos fatores, como necessidades biológicas, desejos pessoais e experiências passadas, a compreensão da motivação é crucial em contextos educacionais, profissionais, de saúde e de desenvolvimento pessoal, permitindo a identificação e a aplicação de estratégias eficazes para alcançar objetivos individuais e organizacionais.

Com relação à motivação, analise as afirmativas a seguir.

- I. A teoria motivacional de Maslow baseia-se na hierarquia de necessidades.
- II. A teoria ERC condensa as necessidades de existir, relacionar-se e crescer.
- III. Os dois fatores de Herzberg postulam que as necessidades humanas são aprendidas e podem ser influenciadas pelo ambiente e experiências individuais.

Está correto o que se afirma em

- (A) I, apenas.
- (B) I e II, apenas.
- (C) I e III, apenas.
- (D) II e III, apenas.
- (E) I, II e III.

45

A estrutura organizacional é a maneira pela qual as atividades da organização são divididas, organizadas e coordenadas. Constitui a arquitetura ou o formato organizacional que assegura a divisão e a coordenação das atividades dos membros da organização. Dá-se o nome de unidade para cada subdivisão dentro de uma organização.

Assinale a opção que apresenta um exemplo de unidade.

- (A) Cliente interno.
- (B) Fornecedor.
- (C) Stakeholder.
- (D) Cliente externo.
- (E) Equipe.

46

Para garantir o sucesso do planejamento, é essencial identificar os fatores críticos que influenciam diretamente o alcance dos objetivos estabelecidos. Esses elementos determinantes são fundamentais para o progresso da organização, pois estão diretamente ligados ao seu êxito.

Assinale a opção que apresenta, corretamente, o fator crítico que visa a descobrir o que distingue as organizações bem-sucedidas das organizações malsucedidas e analisar as diferenças entre elas.

- (A) *Benchmarking*.
- (B) *Brainstorming*.
- (C) Matriz Swot.
- (D) Gráfico de Ishikawa.
- (E) *Balanced Scorecard*.

47

A tabela de temporalidade é o instrumento de destinação, aprovado por autoridade competente, que determina prazos e condições de guarda tendo em vista a transferência, o recolhimento, o descarte ou a eliminação de documentos.

Assinale a opção que apresenta o ciclo de vida de um documento que é usado com frequência.

- (A) Intermediário.
- (B) Frequente.
- (C) Corrente.
- (D) Permanente.
- (E) Esporádico.

48

A estrutura organizacional é o alicerce que orienta a condução das atividades em direção aos objetivos da organização. Composta por distintos níveis hierárquicos, sua configuração pode variar consideravelmente de acordo com fatores como dimensão, segmento e estratégia da organização.

Assinale a opção que apresenta uma vantagem da descentralização.

- (A) Sinergia.
- (B) Controle.
- (C) Agilidade.
- (D) Codependência.
- (E) Economia de escala.

49

As técnicas secretariais englobam um conjunto de habilidades e procedimentos utilizados por profissionais de secretariado para desempenhar suas funções de forma eficaz e eficiente. Estas técnicas abrangem desde o domínio de ferramentas de organização e gestão do tempo até a comunicação escrita e oral, passando pela habilidade em lidar com sistemas de informação e tecnologias de escritório.

Assinale a opção que apresenta a ferramenta de tecnologia que permite acesso remoto a softwares, ao armazenamento de arquivos e ao processamento de dados por meio da Internet.

- (A) Agenda.
- (B) Computação na nuvem.
- (C) *Follow-up*.
- (D) Caderno de anotações.
- (E) *Planner*.

50

O processo administrativo é a abordagem sistemática para gerenciar organizações e atingir objetivos específicos, abrangendo quatro etapas principais: planejamento, organização, influência (ou direção) e controle.

Assinale a opção que indica, corretamente, a base de atuação da função de influência.

- (A) Ideias.
- (B) Objetivos.
- (C) Pessoas.
- (D) Coisas.
- (E) Resultados.

## PRINCÍPIOS DA ADMINISTRAÇÃO PÚBLICA

51

A Lei Geral de Proteção de Dados Pessoais (Lei nº 13.709/2018) estabelece regras para o tratamento de dados pessoais por parte de empresas e organizações, visando proteger a privacidade e os direitos dos cidadãos.

Assinale, entre as opções a seguir, a que apresenta um fundamento da disciplina da proteção de dados pessoais.

- (A) Anonimização.
- (B) Consentimento.
- (C) Não discriminação.
- (D) Uso compartilhado de dados.
- (E) Liberdade de expressão.

52

De acordo com a Lei nº 14.133/2021, conhecida como Nova Lei de Licitações e Contratos Administrativos, o processo licitatório visa prevenir contratações com sobrepreço, preços manifestamente inexequíveis e superfaturamento na execução dos contratos.

Com relação aos casos de superfaturamento em que há dano provocado ao patrimônio da Administração, analise as afirmativas a seguir.

- I. Medição de quantidades superiores às efetivamente executadas ou fornecidas.
- II. Alterações no orçamento de obras e de serviços de engenharia que causem desequilíbrio econômico-financeiro do contrato em favor do contratante.
- III. Deficiência na execução de obras e de serviços de engenharia que resultem em diminuição da sua qualidade, vida útil ou insegurança.

Está correto o que se afirma em

- (A) I, apenas.
- (B) I e II, apenas.
- (C) I e III, apenas.
- (D) II e III, apenas.
- (E) I, II e III.

53

A Administração Direta é composta por órgãos e entidades que fazem parte da estrutura do Estado e operam diretamente sob a autoridade do poder público. Em contrapartida, a Administração Indireta inclui entidades com personalidade jurídica própria, mas vinculadas ao Estado. Enquanto a Administração Direta executa diretamente políticas públicas, a Indireta opera de forma mais especializada, muitas vezes em atividades empresariais.

Assinale a opção que indica a entidade dotada de personalidade jurídica de direito privado, com patrimônio próprio e capital exclusivo da União, criado por lei para a exploração de atividade econômica.

- (A) Autarquia.
- (B) Empresa pública.
- (C) Fundação pública.
- (D) Organização social.
- (E) Sociedade de economia mista.

54

A educação, a saúde, a alimentação, o trabalho, a moradia, o transporte, o lazer, a segurança, a previdência social, a proteção à maternidade e à infância, a assistência aos desamparados, na forma desta Constituição, são direitos sociais.

Assinale a opção que indica, corretamente, o direito devido ao brasileiro em situação de vulnerabilidade social.

- (A) Benefício de prestação continuada.
- (B) Fundo de garantia do tempo de serviço.
- (C) Seguro-desemprego.
- (D) Renda básica familiar.
- (E) Repouso semanal remunerado.

55

A Lei de Acesso à Informação (Lei nº 12.527/2011) garante ao cidadão o direito de obter informações públicas, promovendo a transparência e a *accountability* no setor público.

Assinale a opção que apresenta a qualidade da informação que pode ser conhecida e utilizada por indivíduos, equipamentos ou sistemas autorizados.

- (A) Integridade.
- (B) Autenticidade.
- (C) Transparência.
- (D) Primariedade.
- (E) Disponibilidade.

## LEGISLAÇÃO INSTITUCIONAL

56

Joaquim é servidor estadual estável, detentor de cargo efetivo e aposentado voluntariamente. Depois de dois anos de sua aposentadoria, Joaquim manifestou interesse, perante a Administração, de retornar à atividade em que era estável.

Caso haja cargo vago disponível, conforme a Lei nº 1818/2017, que dispõe sobre o Estatuto dos Servidores Públicos Civis do Estado do Tocantins, assinale a modalidade de provimento adequada ao caso.

- (A) Aproveitamento.
- (B) Reversão.
- (C) Readaptação.
- (D) Reintegração.
- (E) Recondução.

**57**

Luiz, servidor público efetivo, encontra-se em estágio probatório e, nesse período, tem sido submetido a Avaliações Especiais de Desempenho.

Nos termos da Lei nº 4.208/2023, que cuida do plano de cargos, carreiras e remuneração dos Servidores da Assembleia Legislativa de Tocantins, assinale a afirmativa correta.

- (A) A Avaliação Especial de Desempenho dá-se em três etapas, que tem por base o acompanhamento trimestral do servidor.
- (B) O resultado da avaliação será levado ao conhecimento do avaliado e arquivado em caráter público.
- (C) O servidor, para ser aprovado, deverá obter média igual ou superior a 60% (sessenta por cento) dos pontos possíveis nas Avaliações Especiais de Desempenho.
- (D) O servidor, caso aprovado no estágio probatório, será imediatamente elevado para a classe seguinte do padrão inicial do seu cargo.
- (E) O servidor deve ser avaliado pelo chefe imediato.

**58**

João, eleito Deputado Estadual, foi diplomado, mas ainda não tomou posse.

À luz da Constituição do Estado do Tocantins, João não poderá

- (A) exercer cargo em uma empresa concessionária de serviço público.
- (B) ser diretor de uma empresa que goze de favor decorrente de contrato com pessoa jurídica de direito público.
- (C) patrocinar uma causa em que seja interessada uma autarquia.
- (D) manter contrato com uma pessoa jurídica de direito privado.
- (E) ser titular de mais de um cargo ou de mandato público eletivo.

**59**

Considerando o que dispõe o Regimento Interno da Assembleia Legislativa de Tocantins a respeito das Comissões, assinale a afirmativa correta.

- (A) A Comissão de Constituição, Justiça e Redação tem poderes de investigação próprios das autoridades judiciais.
- (B) As Comissões Especiais não podem ser constituídas para investigação sumária de fato determinado.
- (C) À Comissão de Segurança Pública compete analisar questões ligadas à violência urbana e rural.
- (D) As Comissões de Representação devem ser aprovadas pela maioria absoluta do Plenário da Assembleia.
- (E) A Comissão Parlamentar de Inquérito poderá deslocar-se para qualquer ponto do território estadual para a realização de investigações e audiências públicas.

**60**

Levando em conta a estrutura administrativa da Assembleia Legislativa de Tocantins e dos órgãos de assistência à Presidência da Assembleia, de acordo com a Lei nº 4.209/2023, a competência para encaminhar as denúncias recebidas ao Tribunal de Contas do Estado, à Polícia Civil, ao Ministério Público, ou a outro órgão competente, é da

- (A) Procuradoria-Geral.
- (B) Controladoria Interna.
- (C) Diretoria de Polícia Legislativa.
- (D) Assessoria Jurídica da Presidência.
- (E) Ouvidoria Geral da Assembleia Legislativa.



# ASSEMBLEIA LEGISLATIVA DO ESTADO DO TOCANTINS

CONCURSO PÚBLICO – EDITAL Nº 01/2023

## PROVA OBJETIVA – MANHÃ

### TÉCNICO LEGISLATIVO

# ASSISTÊNCIA ADMINISTRATIVA

NÍVEL MÉDIO – TIPO 4 – AZUL



#### SUA PROVA

- Além deste caderno contendo **60 (sessenta)** questões objetivas, você receberá do fiscal de prova o cartão de respostas;
- As questões objetivas têm **5 (cinco)** opções de resposta (A, B, C, D) e somente uma delas está correta.



#### TEMPO

- Você dispõe de **4 (quatro) horas** para a realização da prova, já incluído o tempo para a marcação do cartão de respostas;
- **3 (três) horas** após o início da prova, é possível retirar-se da sala, sem levar o caderno de questões;
- A partir dos **30 (trinta) minutos** anteriores ao término da prova é possível retirar-se da sala **levando o caderno de questões**.



#### NÃO SERÁ PERMITIDO

- Qualquer tipo de comunicação entre os candidatos durante a aplicação da prova;
- Anotar informações relativas às respostas em qualquer outro meio que não seja o caderno de questões;
- Levantar da cadeira sem autorização do fiscal de sala;
- Usar o sanitário ao término da prova, após deixar a sala.



#### INFORMAÇÕES GERAIS

- Verifique se seu caderno de questões está completo, sem repetição de questões ou falhas. Caso contrário, **notifique imediatamente o fiscal da sala**, para que sejam tomadas as devidas providências;
- Confira seus dados pessoais, especialmente nome, número de inscrição e documento de identidade e leia atentamente as instruções para preencher o cartão de respostas;
- Para o preenchimento do cartão de respostas, use somente caneta esferográfica, fabricada em material transparente, com tinta preta ou azul;
- Assine seu nome apenas no(s) espaço(s) reservado(s) no cartão de respostas;
- Confira seu cargo, cor e tipo do caderno de questões. Caso tenha recebido caderno de cargo ou cor ou tipo **diferente** do impresso em seu cartão de respostas, o fiscal deve ser **obrigatoriamente** informado para o devido registro na ata da sala;
- Reserve tempo suficiente para o preenchimento do seu cartão de respostas. O preenchimento é de sua responsabilidade e **não será permitida a troca do cartão de respostas em caso de erro cometido pelo candidato**;
- Para fins de avaliação, serão levadas em consideração apenas as marcações realizadas no cartão de respostas;
- A FGV coletará as impressões digitais dos candidatos na lista de presença;
- Os candidatos serão submetidos ao sistema de detecção de metais quando do ingresso e da saída de sanitários durante a realização das provas.
- **Boa prova!**

## CONHECIMENTOS BÁSICOS

### Língua Portuguesa

#### 1 (NMCB001-00\_05)

As frases a seguir mostram termos repetidos; assinale a opção que apresenta a frase em que o significado dos dois termos **não** é o mesmo.

- (A) Morrer é mudar de corpo como o ator muda de roupa.
- (B) Janeiro é o mês que se fazem bons votos aos amigos; os outros são os meses em que esses votos não se concretizam.
- (C) Quem tempo espera, muito tempo consome.
- (D) A falsidade da História é tão velha como a própria História.
- (E) Viva todos os dias como se fosse o último. Um dia você acerta.

#### 2 (NMCB001-00\_08)

Assinale a opção que apresenta a frase em que houve **erro** de concordância da palavra sublinhada.

- (A) O presidente fez questão de deixar bem claras as suas intenções.
- (B) O STF qualificou de antidemocrático aqueles atos.
- (C) O governo chinês torna visíveis os erros das ditaduras.
- (D) Os enfermeiros tiveram reconhecidos os direitos de greve.
- (E) Tomei emprestados à biblioteca vários livros.

#### 3 (NMCB001-00\_10)

Assinale a opção que apresenta as duas palavras que devem ser grafadas com **es** e não com **ex**.

- (A) Excremento / expurgo.
- (B) Excusar / expontâneo.
- (C) Excomungar / expressar.
- (D) Extirpar / extorquir.
- (E) Exterminar / extremoso.

#### 4 (NMCB001-00\_02)

Leia o fragmento a seguir.

*“Não somos daqueles que só em meio aos livros, estimulados por livros vêm a ter pensamentos – é nosso hábito pensar ao ar livre, andando, saltando, escalando, dançando, preferivelmente em montes solitários ou próximos ao mar, onde mesmo as trilhas se tornam pensativas.”* (Nietzsche, filósofo alemão).

Sobre o significado desse fragmento, assinale a afirmativa correta.

- (A) A leitura é importante para a criação de ideias originais.
- (B) As formas de gerúndio mostram a evolução cronológica das ações narradas pelo escritor.
- (C) O pronome relativo “onde” refere-se a locais ao ar livre.
- (D) A forma do verbo “tornar-se”, como verbo de ligação, indica um estado transitório.
- (E) Os ambientes solitários propiciam reflexões de valor.

#### 5 (NMCB001-00\_03)

As citações a seguir são compostas por dois segmentos; assinale a opção em que a **relação lógica** indicada pelo segundo segmento está correta.

- (A) Dize-me o que crês ser / e te direi o que não és. – relação de oposição.
- (B) Quem crê é forte / quem duvida é fraco. – relação de conclusão.
- (C) Seja lá por que um homem reza, / ele reza por um milagre. – relação de explicação.
- (D) Não adianta esperar que o navio chegue / se você não o mandou para lugar nenhum. – relação de causa.
- (E) Pense como um homem de ação / e aja como um pensador. – relação de conclusão.

#### 6 (NMCB001-00\_01)

Leia o seguinte texto de um jornal de outros tempos:

*“Mudança nas moedas. A partir de junho começam a entrar em circulação as moedas de Cr\$100 e Cr\$500 substituindo as cédulas que trazem estampadas a poetisa Cecília Meireles e o naturalista Augusto Ruschi, respectivamente. O lançamento das moedas foi aprovado na reunião de ontem do Conselho Monetário Nacional, colocando fim à família de notas criadas no governo Sarney, sob a égide dos cruzados novos.”*

Sobre esse fragmento textual, analise as observações a seguir, feitas por um estudioso de nossa Língua, e assinale a correta.

- (A) “Começam a entrar em circulação” é bastante estranho, porque as moedas, pequenas que são e de pequeno valor, “entram” logo.
- (B) “trazem estampadas a poetisa Cecília Meireles e o naturalista Augusto Ruschi”, mas eu pensava que as moedas trazem estampadas as efígies de Fulano ou Beltrano.
- (C) “colocando fim à família” mostra o emprego inadequado de “colocar” em lugar de “pôr”.
- (D) “criadas”, por questão de clareza e precisão, devia ser substituído por “lançadas” ou “emitidas”.
- (E) “sob”, por questão de correção gramatical, deve ser substituído por “sobre”.

#### 7 (NMCB001-00\_04)

Os textos a seguir mostram elementos de coesão em relação ao termo sublinhado; assinale a opção em que **todos** os termos seguintes, em coesão com ele, estão indicados.

- (A) Geralmente, entre nossos motivos de agir, há um mais forte que os demais: aquele que não é declarado. – *um, os demais, aquele, que.*
- (B) O que empobrece o homem não são seus atos, mas os desejos que ele possui. – *ele.*
- (C) O dinheiro, recebem-no todos os que trabalham e o perdem todos os irresponsáveis. – *no, que, o.*
- (D) Qual pode ser a vida que começa pelos gritos da mãe, que a dá, e o choro do filho que a recebe? – *que, que, a.*
- (E) Meu filho! Deus te enviou a este mundo. Cultiva-o e não te apresses em sair dele. – *o.*



**8 (NMCB001-00\_09)**

As perguntas a seguir apresentam o pronome pessoal oblíquo em ênclise (após o verbo); assinale a que mostra formulação **incorreta**, porque só admite próclise.

- (A) Os dois bandidos evadiram-se do presídio em Mossoró?
- (B) Onde podemos vê-los?
- (C) Eles dedicar-se-iam às tarefas com prazer.
- (D) Numa entrevista como esta, isto pergunta-se?
- (E) Quem dir-me-á tantas barbaridades, senão ele?

**9 (NMCB001-00\_06)**

As opções a seguir mostram, corretamente, a substituição da forma sublinhada, composta de **não + verbo**, por um só verbo, de sentido equivalente, **à exceção de uma**. Assinale-a.

- (A) Os países da OTAN pediram que o exército russo não avançasse esta semana. / *parasse*.
- (B) O deputado informou que não dispunha de tempo para redigir uma nova versão do projeto. / *carecia*.
- (C) O Presidente não aceitou o convite para visitar a Alemanha. / *declinou do*.
- (D) Não abriu as portas do museu para evitar a curiosidade do público. / *fechou*.
- (E) Por seus futuros compromissos, preferia não gastar dinheiro / *economizar*.

**10 (NMCB001-00\_07)**

As frases a seguir mostram uma locução adjetiva introduzida pela preposição **sem**; assinale a opção em que a substituição dessa locução por um adjetivo de valor equivalente foi feita de forma adequada.

- (A) Cartas sem autoria declarada são sempre mal recebidas / desautorizadas.
- (B) Os poços sem água são de pouca serventia para a lavoura / áridos.
- (C) Foram deixados muitos problemas sem solução / insolúveis.
- (D) O governo tomou muitas atitudes sem nexos / desconexas.
- (E) Com os fogos de artifício, o campo ficou sem visão / invisível.

**Raciocínio Lógico Matemático****11 (NMCB002-01\_04)**

Marcelo é filho de Alberto. Pedro é filho de Luiz. Se Marcelo e Luiz são irmãos por parte de pai, então

- (A) Alberto é pai de Pedro.
- (B) Alberto é tio de Pedro.
- (C) Pedro é irmão de Marcelo.
- (D) Pedro é sobrinho de Marcelo.
- (E) Pedro é neto de Marcelo.

**12 (NMCB002-01\_05)**

A seguir, são apresentados os 9 primeiros termos de uma sequência infinita de números inteiros.

13, 12, 14, 11, 15, 10, 16, 9, 17, ...

Os termos são, alternadamente, maiores e menores que seus antecessores imediatos, seguindo um padrão de construção.

Sabendo-se que esse padrão é mantido ao longo de toda a sequência, conclui-se que um termo negativo aparecerá pela primeira vez na

- (A) 28ª posição.
- (B) 27ª posição.
- (C) 26ª posição.
- (D) 15ª posição.
- (E) 14ª posição.

**13 (NMCB002-01\_06)**

Para pagar um lanche, Temístocles usou uma nota de R\$20,00 e recebeu, de troco, uma nota de R\$5,00, duas notas de R\$2,00, nove moedas de R\$0,50 e 3 moedas de R\$0,25.

O lanche custou a Temístocles

- (A) R\$5,25.
- (B) R\$5,75.
- (C) R\$6,25.
- (D) R\$6,75.
- (E) R\$7,25.

**14 (NMCB002-01\_01)**

Dois números diferentes serão escolhidos ao acaso entre os elementos do conjunto {5,7,9,11,14}.

A soma dos números escolhidos

- (A) certamente é ímpar.
- (B) certamente é par.
- (C) pode ser 26.
- (D) pode ser 18.
- (E) pode ser menor que 12.

**15 (NMCB002-01\_02)**

Em um jogo, duas fichas azuis têm o mesmo valor de cinco fichas vermelhas e uma ficha preta vale o mesmo que três fichas azuis.

Assim, duas fichas pretas equivalem a

- (A) sete fichas vermelhas.
- (B) oito fichas vermelhas.
- (C) nove fichas vermelhas.
- (D) doze fichas vermelhas.
- (E) quinze fichas vermelhas.

**16 (NMCB002-01\_03)**

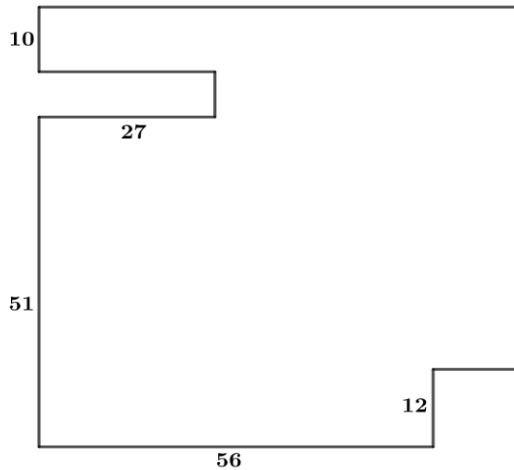
Sabe-se que 20% de  $N$  é igual a 13,4. Logo, 90% de  $N$  é igual a

- (A) 59,6.
- (B) 60,3.
- (C) 61,2.
- (D) 62,5.
- (E) 63,2.

**17 (NMCB002-02\_01)**

De uma placa quadrada de madeira, foram recortados e, em seguida, descartados dois pedaços: o primeiro, em forma de um quadrado de lado 12 dm; o outro, em forma de retângulo, tendo comprimento igual a 27 dm.

A imagem a seguir ilustra o aspecto da placa após os descortes. Nela, estão indicadas as medidas, em decímetros, de alguns dos segmentos.



O menor lado do retângulo recortado dessa placa mede

- (A) 11 dm.
- (B) 10 dm.
- (C) 9 dm.
- (D) 8 dm.
- (E) 7 dm.

**18 (NMCB002-02\_02)**

Ana trabalha em sistema de *home-office*, mas precisa comparecer ao escritório de sua empresa em intervalos regulares.

Se Ana comparece ao escritório em determinado dia, ela precisa comparecer de novo três dias úteis depois, isto é, descontando-se os sábados e os domingos. Assim, se ela compareceu em uma quinta-feira, deverá voltar ao escritório na terça-feira da semana seguinte.

Hoje é sexta-feira e Ana está no escritório; assim, a *penúltima vez* em que ela esteve lá, foi uma

- (A) segunda-feira.
- (B) terça-feira.
- (C) quarta-feira.
- (D) quinta-feira.
- (E) sexta-feira.

**Noções de Informática****19 (NMCB003-01\_03)**

Nos sistemas operacionais Microsoft Windows 10, o recurso “Executar” permite aos usuários abrir rapidamente programas, pastas, documentos e recursos do sistema, ao digitar o caminho completo ou o nome do item.

Assinale a opção que apresenta a combinação de teclas usada para abrir a caixa de diálogo “Executar”.

- (A) Windows + E
- (B) Windows + I
- (C) Windows + K
- (D) Windows + L
- (E) Windows + R

**20 (NMCB003-01\_02)**





No contexto dos sistemas operacionais Microsoft Windows, o Painel de Controle é uma área central para gerenciar as configurações do sistema, opções de personalização e outros.

Considerando as versões superiores ao Windows 7, assinale a opção que **não** indica uma funcionalidade encontrada no painel de controle.

- (A) Backup e Restauração.
- (B) Relógio e Região.
- (C) Hardware e Sons.
- (D) Contas de Usuário.
- (E) Configuração de Registro Avançadas.

**21 (NMCB003-01\_01)**

No contexto das interfaces para vídeo, relacione as portas às suas respectivas tecnologias.

1 	2 	( ) HDMI
3 	4 	( ) DVI
		( ) VGA
		( ) DisplayPort

Assinale a opção que indica a relação correta, segundo a ordem apresentada.

- (A) 2 – 3 – 1 – 4.
- (B) 2 – 4 – 1 – 3.
- (C) 3 – 2 – 1 – 4.
- (D) 3 – 1 – 4 – 2.
- (E) 4 – 2 – 3 – 1.

**22 (NMCB003-01\_05)**

Em uma planilha Microsoft Excel 2019 em português do Brasil, há um conjunto de dados com vendas listadas na coluna B.

Por meio da funcionalidade de Formatação Condicional, a seguinte função pode ser usada para destacar os 10% dos principais valores de vendas com preenchimento verde:

- (A) PERCENTIL.
- (B) MAXIMO.
- (C) SOMASES.
- (D) CONT.SE.
- (E) ABS.

**23 (NMCB003-01\_04)**

Sobre a inserção de tabelas no Microsoft Word 2019 em português, analise as afirmativas a seguir.

- I. As tabelas admitem diferentes estilos de borda, cores de preenchimento e fontes, para melhorar sua apresentação visual.
- II. Ao inserir uma tabela, é possível definir o número de linhas e colunas antes de criá-la, no entanto, não é possível alterar a estrutura após a inserção.
- III. As tabelas podem ser inseridas apenas no início de um documento e não podem ser movidas para outras partes do texto.

Está correto o que se afirma em

- (A) I, apenas.
- (B) I e II, apenas.
- (C) II e III, apenas.
- (D) I e III, apenas.
- (E) I, II e III.

**24 (NMCB003-01\_06)**

Em uma pequena empresa, durante uma tentativa de realizar uma manutenção de rotina nos servidores ao final do expediente, José, um funcionário recém-contratado, com pouca experiência em TI, desliga um servidor que está rodando um serviço de DHCP. No dia seguinte, os usuários começam a reportar problemas.

Considerando que todas as estações de trabalho com sistema operacional Windows estavam utilizando o servidor DHCP, assinale a opção que indica o que os usuários reportaram.

- (A) As estações de trabalho não estão ligando, pois dependem do servidor DHCP.
- (B) Havia lentidão na conexão com a internet.
- (C) Perda de acesso à internet, enquanto o acesso à rede local entre as estações de trabalho permaneceu possível.
- (D) Interrupção do serviço de *e-mail*; os demais serviços funcionavam.
- (E) Impressão em rede local não funcionava, mas a internet estava acessível.

**25 (NMCB003-02\_02)**

No contexto da computação em nuvem e seus serviços, assinale a opção que corresponde ao conceito de *elasticidade*.

- (A) A capacidade de expandir ou reduzir dinamicamente seus recursos de acordo com a demanda.
- (B) A flexibilidade de implementação de serviços.
- (C) A capacidade de uma nuvem de suportar múltiplos usuários, simultaneamente.
- (D) A velocidade da conexão entre a nuvem e os dispositivos do usuário.
- (E) A confiabilidade dos serviços oferecidos pelo provedor de computação em nuvem.

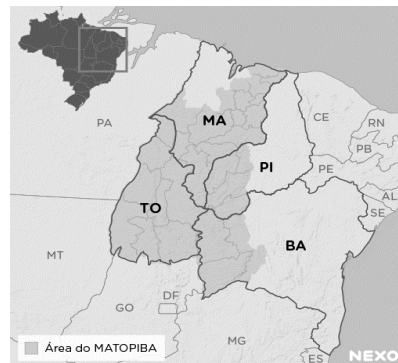
**26 (NMCB003-02\_01)**

Os ataques de negação de serviço distribuídos, conhecidos como DDoS, representam uma ameaça significativa para a segurança da internet.

Com base nesse contexto, assinale a afirmativa *incorreta*.

- (A) Em um ataque DDoS, os atacantes usam uma rede de computadores comprometidos, conhecidos como botnets.
- (B) Os ataques DDoS geralmente visam comprometer os dados, tornando-os inacessíveis, mesmo para usuários autorizados.
- (C) Os ataques DDoS podem causar interrupções significativas nos serviços *online*.
- (D) Embora não seja usual, ataques DDoS já foram feitos a partir de dispositivos IoT comprometidos, como câmeras de segurança.
- (E) Os ataques de DDoS podem ter como alvo vários recursos de rede, incluindo servidores web, jogos *online* e infraestrutura de nuvem.

## História e Geografia do Estado de Tocantins

**27 (NMCB005-00\_04)**

A área do MATOPIBA caracteriza-se pelo baixo preço das terras e pela uniformidade do clima, do solo e do relevo, que facilitam a mecanização agrícola e tem atraído cada vez mais agricultores.

A respeito do MATOPIBA, analise as afirmativas a seguir.

- I. É uma região de transição entre o Cerrado e o Semiárido, com condições favoráveis para a agricultura: áreas planas e extensas, solos de alto potencial produtivo, disponibilidade de água, clima favorável com elevada intensidade de sol.
- II. É um grande produtor de *commodities*, com uso intenso de tecnologia (máquinas, colheitadeiras, insumos) e uso reduzido do fator trabalho, assim sendo, o crescimento do produto interno bruto (PIB) aumenta com velocidade, mas a geração de riqueza não é acompanhada, proporcionalmente, por uma melhora na distribuição de renda.
- III. É o maior produtor nacional de soja, pois concentra 90% da área de plantio, sendo também a região com o maior índice de produtividade sustentável de grãos, em função da colaboração do setor do agronegócio com a preservação das unidades de conservação locais.

Está correto o que se afirma em

- (A) I, apenas.
- (B) II, apenas.
- (C) III, apenas.
- (D) I e II, apenas.
- (E) II e III, apenas.

**28 (NMCB005-00\_01)**

Sobre a formação histórica do território que hoje corresponde ao Estado do Tocantins, assinale a afirmativa que descreve corretamente o processo de desbravamento e ocupação da região no Período Colonial.

- (A) No final do século XVI, os primeiros a encontrar a foz do rio Tocantins junto ao Amazonas foram os espanhóis, então instalados no Maranhão para expulsar colonos franceses que haviam fundado a França equinocial.
- (B) Na primeira metade do século XVIII, a bandeira de Bartolomeu Bueno da Silva Filho descobriu ouro nas cabeceiras do rio Vermelho e fundou o Arraial de Sant'Anna, às margens do rio.
- (C) Nos anos de 1730-40 foi encontrado ouro no norte de Goiás, incentivando a fundação de cidades sob a jurisdição de Salvador, como Natividade, Almas, Chapada, Pontal e Porto Real, entre outras.
- (D) O declínio da mineração se acentuou na passagem do século XVIII para o XIX, agravado pela instituição de um novo imposto (capitação), cobrado proporcionalmente ao número de escravos de cada minerador.
- (E) Na segunda década do século XIX, em decorrência da crise da mineração, a região estava em uma situação de abandono, como relatado por Theotônio Segurado, futuro Governador da Capitania do Norte.

**29 (NMCB005-00\_03)**

O Estado do Tocantins situa-se em uma zona de transição que apresenta dois tipos de vegetação: a Floresta Ombrófila e a Savana, pertencentes, respectivamente, aos biomas

- (A) Amazônia e Cerrado.
- (B) Mata Atlântica e Pampa.
- (C) Caatinga e Mata Atlântica.
- (D) Amazônia e Caatinga.
- (E) Cerrado e Pantanal.

**30 (NMCB005-00\_02)**

*As bonecas Ritxoko são figuras de cerâmica confeccionadas por mulheres indígenas da etnia Karajá, do estado do Tocantins. Feitas a partir da mistura de argila e água, as peças representam tanto a forma humana e seus ciclos de vida quanto elementos da fauna e do sobrenatural. A pigmentação vermelha é extraída do urucum, enquanto a preta é retirada de uma árvore chamada ixarurina. As bonecas são usadas como instrumentos de socialização das crianças que se veem nesses objetos e aprendem a ser Karajá, recebendo ensinamentos e aprendendo as técnicas e saberes associados à sua confecção e usos. A pintura e a decoração das cerâmicas estão associadas à pintura corporal dos Karajá e às peças de vestuário e adorno.*

Adaptado de <https://www.gov.br/funai>

Com base no trecho, é correto afirmar que as bonecas Ritxoko são um patrimônio

- (A) da humanidade, uma vez que constituem bens culturais e naturais significativos para todas as culturas, sendo contempladas como referência estética para todos os povos.
- (B) histórico nacional, pois exemplificam a riqueza dos modos de fazer e das formas de expressão que envolvem a tradição dos Karajás no Brasil.
- (C) cultural brasileiro, uma vez que são consideradas representações culturais com significados sociais e identitários profundos.
- (D) imaterial mundial, já que sua feitura envolve processos abstratos criativos de elaboração e variação de formas e grafismos.
- (E) material tocantinense, por expressar a arte, a memória e a identidade das comunidades indígenas da Ilha do Bananal, no Tocantins.

## CONHECIMENTOS ESPECÍFICOS

### 31 (NMCE201-00\_15)

A arquivologia envolve princípios, técnicas e práticas para gerir documentos em vários contextos, visando preservar a memória e garantir transparência e acesso à informação. Isso inclui a organização, conservação e recuperação eficientes de documentos, bem como a definição de políticas para arquivos físicos e digitais.

Com relação às noções de arquivologia, analise as afirmativas a seguir.

- I. O *princípio da proveniência* exige que conjuntos documentais (fundos) de origens distintas não sejam mesclados, prevendo uma articulação do organismo produtor do documento com a função que este representa.
- II. A *teoria das três idades* classifica os arquivos em primários, secundários e terciários, de acordo com a frequência de uso por suas entidades produtoras e a identificação de seus valores permanentes.
- III. A *gestão de documentos* abrange o conjunto de procedimentos e de operações técnicas referentes à produção, ao uso, à avaliação e ao arquivamento de documentos em fase corrente e intermediária, visando à sua alienação.

Está correto o que se afirma em

- (A) I, apenas.
- (B) I e II, apenas.
- (C) I e III, apenas.
- (D) II e III, apenas.
- (E) I, II e III.

### 32 (NMCE201-00\_07)

O propósito do controle é garantir que os resultados do planejamento, organização e direção estejam alinhados o mais próximo possível dos objetivos definidos anteriormente. O cerne do controle reside na avaliação de se a atividade supervisionada está atingindo ou não os resultados desejados. Portanto, o controle é primordialmente um processo que direciona a atividade em direção a um objetivo predefinido.

Assinale a opção que apresenta um controle estratégico.

- (A) Balanço e relatórios financeiros.
- (B) Programação *just-in-time*.
- (C) Contabilidade de custos.
- (D) Controle orçamentário.
- (E) Controle de estoques.

### 33 (NMCE201-00\_09)

De acordo com a Constituição Federal de 1988, a Administração Pública pode ser organizada de forma direta e indireta. A Administração Pública direta compreende os órgãos e entidades que integram a estrutura do Estado, como ministérios, secretarias e autarquias, que atuam de forma centralizada, sob a supervisão direta do governo. Já a Administração Pública indireta é constituída por entidades com personalidade jurídica própria, como empresas estatais, fundações públicas e empresas de economia mista, que operam de forma descentralizada, embora ainda estejam sujeitas ao controle do Estado.

Assinale a opção que apresenta, corretamente, a entidade da administração indireta que se caracteriza pelo serviço autônomo, criado por lei, para executar atividades típicas da Administração Pública, que requeiram, para seu melhor funcionamento, gestão administrativa e financeira descentralizada.

- (A) Autarquia.
- (B) Empresa pública.
- (C) Fundação pública.
- (D) Sociedade de economia mista.
- (E) Organização da Sociedade Civil.

### 34 (NMCE201-00\_01)

O processo administrativo é a abordagem sistemática para gerenciar organizações e atingir objetivos específicos, abrangendo quatro etapas principais: planejamento, organização, influência (ou direção) e controle.

Assinale a opção que indica, corretamente, a base de atuação da função de influência.

- (A) Ideias.
- (B) Objetivos.
- (C) Pessoas.
- (D) Coisas.
- (E) Resultados.

### 35 (NMCE201-00\_10)

A estrutura organizacional é o alicerce que orienta a condução das atividades em direção aos objetivos da organização. Composta por distintos níveis hierárquicos, sua configuração pode variar consideravelmente de acordo com fatores como dimensão, segmento e estratégia da organização.

Assinale a opção que apresenta uma vantagem da descentralização.

- (A) Sinergia.
- (B) Controle.
- (C) Agilidade.
- (D) Codependência.
- (E) Economia de escala.

### 36 (NMCE201-00\_20)

Redação oficial é o meio utilizado para o estabelecimento de relações de serviço na Administração Pública e corresponde ao modo uniforme de redigir atos normativos e comunicações oficiais.

Assinale a opção que apresenta o atributo de redação oficial que consegue transmitir o máximo de informações com o mínimo de palavras.

- (A) Coesão.
- (B) Clareza.
- (C) Concisão.
- (D) Coerência.
- (E) Objetividade.

**37 (NMCE201-00\_08)**

Os princípios da Administração Pública são delineados no Art. 37 da Constituição Federal de 1988.

Assinale a opção que apresenta, corretamente, o princípio que estabelece que a Administração Pública está limitada a agir somente dentro dos parâmetros estabelecidos pela lei.

- (A) Impessoalidade.
- (B) Publicidade.
- (C) Moralidade.
- (D) Legalidade.
- (E) Eficiência.

**38 (NMCE201-00\_03)**

A *estrutura organizacional* é a maneira pela qual as atividades da organização são divididas, organizadas e coordenadas. Constitui a arquitetura ou o formato organizacional que assegura a divisão e a coordenação das atividades dos membros da organização. Dá-se o nome de unidade para cada subdivisão dentro de uma organização.

Assinale a opção que apresenta um exemplo de unidade.

- (A) Cliente interno.
- (B) Fornecedor.
- (C) *Stakeholder*.
- (D) Cliente externo.
- (E) Equipe.

**39 (NMCE201-00\_19)**

A comunicação refere-se ao processo de envio e recebimento de mensagens ou informações. Este processo pode ocorrer por meio da linguagem oral ou escrita, ou por meio de gestos, de expressões faciais e da linguagem corporal. Para que a comunicação seja eficaz, é necessário que o emissor e o receptor emitam e recebam a mesma mensagem, que precisa ser objetiva e completa, e o canal adequado para a transmissão.

Assinale a opção que apresenta a definição de canal.

- (A) Aquele que emite a mensagem.
- (B) Informação enviada e recebida.
- (C) Sequência de estados que codifica uma mensagem.
- (D) Meio utilizado para veicular a mensagem.
- (E) Aquele que recebe a mensagem enviada pelo emissor.

**40 (NMCE201-00\_17)**

As técnicas secretariais englobam um conjunto de habilidades e procedimentos utilizados por profissionais de secretariado para desempenhar suas funções de forma eficaz e eficiente. Estas técnicas abrangem desde o domínio de ferramentas de organização e gestão do tempo até a comunicação escrita e oral, passando pela habilidade em lidar com sistemas de informação e tecnologias de escritório.

Assinale a opção que apresenta a ferramenta de tecnologia que permite acesso remoto a *softwares*, ao armazenamento de arquivos e ao processamento de dados por meio da Internet.

- (A) Agenda.
- (B) Computação na nuvem.
- (C) *Follow-up*.
- (D) Caderno de anotações.
- (E) *Planner*.

**41 (NMCE201-00\_06)**

A *teoria dos traços*, uma concepção antiga de liderança, visava identificar características distintivas de personalidade em indivíduos notáveis, como Napoleão, Lincoln e Getúlio Vargas, que se destacaram como líderes. No entanto, essa abordagem foi desacreditada devido a problemas na teorização, na mensuração e no reconhecimento da adequação do comportamento em diferentes situações. Atualmente, entende-se que certos traços de personalidade, combinados com outros aspectos da liderança, influenciam a percepção e a aprovação do comportamento dos líderes em muitas organizações.

Assinale a opção que indica, corretamente, um traço de liderança contemporâneo.

- (A) Herói.
- (B) Isolado.
- (C) Solitário.
- (D) Autoritário.
- (E) Coreógrafo.

**42 (NMCE201-00\_05)**

A *motivação* é um conceito essencial no estudo do comportamento humano, envolvendo processos psicológicos e biológicos que impulsionam as pessoas em direção a metas específicas. Influenciada por diversos fatores, como necessidades biológicas, desejos pessoais e experiências passadas, a compreensão da motivação é crucial em contextos educacionais, profissionais, de saúde e de desenvolvimento pessoal, permitindo a identificação e a aplicação de estratégias eficazes para alcançar objetivos individuais e organizacionais.

Com relação à motivação, analise as afirmativas a seguir.

- I. A teoria motivacional de Maslow baseia-se na hierarquia de necessidades.
- II. A teoria ERC condensa as necessidades de existir, relacionar-se e crescer.
- III. Os dois fatores de Herzberg postulam que as necessidades humanas são aprendidas e podem ser influenciadas pelo ambiente e experiências individuais.

Está correto o que se afirma em

- (A) I, apenas.
- (B) I e II, apenas.
- (C) I e III, apenas.
- (D) II e III, apenas.
- (E) I, II e III.

**43 (NMCE201-00\_16)**

A *tabela de temporalidade* é o instrumento de destinação, aprovado por autoridade competente, que determina prazos e condições de guarda tendo em vista a transferência, o recolhimento, o descarte ou a eliminação de documentos.

Assinale a opção que apresenta o ciclo de vida de um documento que é usado com frequência.

- (A) Intermediário.
- (B) Frequente.
- (C) Corrente.
- (D) Permanente.
- (E) Esporádico.

**44 (NMCE201-00\_12)**

Um modelo de gestão de resultados compreende três elementos essenciais: direcionadores de resultado, direcionadores de esforço para implementação das ações e mecanismos de controle.

Nesse contexto, a avaliação de desempenho é uma ferramenta necessária, mas não suficiente para a promoção de uma gestão de resultados.

Assinale a opção que apresenta a *dimensão de desempenho* que possui estreita relação com *produtividade*.

- (A) Eficácia.
- (B) Eficiência.
- (C) Efetividade.
- (D) Economicidade.
- (E) Custo-benefício.

**45 (NMCE201-00\_11)**

A gestão da qualidade é uma abordagem organizacional que visa garantir a conformidade e a excelência dos produtos ou serviços, superando as expectativas dos clientes. Isso envolve a implementação de práticas e sistemas que assegurem a consistência, confiabilidade e melhoria contínua, incluindo padrões de qualidade, controle de processos e envolvimento de toda a organização. Apoiada por normas como a ISO 9000, busca aprimorar a eficiência operacional, a satisfação do cliente e a competitividade.

Assinale a opção que apresenta, corretamente, a ferramenta que monitora as melhorias implementadas em um sistema de qualidade, utilizando dados numéricos.

- (A) *Brainstorming*.
- (B) Diagrama de afinidade.
- (C) Diagrama de causa e efeito – Ishikawa.
- (D) *Benchmarking*.
- (E) Diagrama de Pareto.

**46 (NMCE201-00\_13)**

A Administração Pública possui princípios que norteiam sua atividade, e, com base neles, impõe aos servidores públicos um padrão de comportamento ético e responsável para o exercício de funções públicas.

Com relação ao papel do servidor público, analise as afirmativas a seguir.

- I. A conduta do servidor público deve ser pautada pela legalidade, pela moralidade, pela celeridade, responsabilidade e eficácia de seus atos, pela cortesia e urbanidade, pelo trabalho em harmonia com os demais servidores e com a estrutura organizacional do Estado.
- II. São princípios da conduta profissional dos servidores públicos a honestidade, o decoro, a eficiência e o exercício dos valores éticos e morais, que conferem dignidade ao cargo.
- III. A investidura no cargo público impõe ao servidor conduta pessoal íntima e postura ética mas o libera de qualquer responsabilidade funcional.

Está correto o que se afirma em

- (A) I, apenas.
- (B) I e II, apenas.
- (C) I e III, apenas.
- (D) II e III, apenas.
- (E) I, II e III.

**47 (NMCE201-00\_14)**

O exercício da cidadania, essencialmente ligado ao conceito de Estado-nação, implica não apenas em direitos, mas também em deveres e responsabilidades para com a coletividade em uma sociedade democrática contemporânea. O conceito de cidadania na atualidade vai muito além disso, principalmente devido às novas configurações sociais que surgiram nas últimas décadas.

Assinale a opção que indica o *conceito de cidadania* que mostra uma preocupação com a reconciliação do universalismo de direitos, com o desafio da diversidade étnica e as demais aspirações de identidade.

- (A) Civil.
- (B) Social.
- (C) Política.
- (D) Multicultural.
- (E) Cosmopolita.

**48 (NMCE201-00\_04)**

A *comunicação* é essencial em todas as interações humanas, abrangendo desde o âmbito pessoal até o profissional. Aspectos fundamentais da comunicação incluem clareza para garantir compreensão mútua, empatia para considerar perspectivas alheias, assertividade na expressão de ideias e necessidades, e escuta ativa para absorver mensagens e demonstrar interesse genuíno. Esses elementos promovem trocas claras e construtivas, facilitando a colaboração, a resolução de problemas e a construção de relacionamentos sólidos.

Assinale a opção que apresenta, corretamente, a *definição de comunicação* segundo a metáfora do *conduíte*.

- (A) Uma *performance* teatral.
- (B) Um fluxo linear de mão única.
- (C) Uma interação social.
- (D) Uma interpretação de formas literárias.
- (E) Uma construção de contratos relacionais.

**49 (NMCE201-00\_02)**

Para garantir o sucesso do planejamento, é essencial identificar os fatores críticos que influenciam diretamente o alcance dos objetivos estabelecidos. Esses elementos determinantes são fundamentais para o progresso da organização, pois estão diretamente ligados ao seu êxito.

Assinale a opção que apresenta, corretamente, o *fator crítico* que visa a descobrir o que distingue as organizações bem-sucedidas das organizações malsucedidas e analisar as diferenças entre elas.

- (A) *Benchmarking*.
- (B) *Brainstorming*.
- (C) Matriz Swot.
- (D) Gráfico de Ishikawa.
- (E) *Balanced Scorecard*.

**50 (NMCE201-00\_18)**

A agenda, o caderno de anotações e o *follow-up* são ferramentas que se complementam e contribuem para a rotina de secretariado. Assinale a opção que apresenta, corretamente, a definição de *follow-up*.

- (A) *Software* gerenciador para organizar, planejar e lembrar os compromissos assumidos.
- (B) Caderno para planejar e organizar coisas que não estão necessariamente datadas.
- (C) Tecnologia que permite acesso remoto ao armazenamento de arquivos.
- (D) Pasta usada em reuniões ou para levar documentos de uma pessoa para outra.
- (E) Local destinado à guarda provisória dos documentos que estão pendentes.

**PRINCÍPIOS DA ADMINISTRAÇÃO PÚBLICA****51 (NMCE210-00\_03)**

A Lei de Acesso à Informação (Lei nº 12.527/2011) garante ao cidadão o direito de obter informações públicas, promovendo a transparência e a *accountability* no setor público.

Assinale a opção que apresenta a *qualidade da informação* que pode ser conhecida e utilizada por indivíduos, equipamentos ou sistemas autorizados.

- (A) Integridade.
- (B) Autenticidade.
- (C) Transparência.
- (D) Primariedade.
- (E) Disponibilidade.

**52 (NMCE210-00\_04)**

A Lei Geral de Proteção de Dados Pessoais (Lei nº 13.709/2018) estabelece regras para o tratamento de dados pessoais por parte de empresas e organizações, visando proteger a privacidade e os direitos dos cidadãos.

Assinale, entre as opções a seguir, a que apresenta um fundamento da disciplina da proteção de dados pessoais.

- (A) Anonimização.
- (B) Consentimento.
- (C) Não discriminação.
- (D) Uso compartilhado de dados.
- (E) Liberdade de expressão.

**53 (NMCE210-00\_05)**

De acordo com a Lei nº 14.133/2021, conhecida como Nova Lei de Licitações e Contratos Administrativos, o processo licitatório visa prevenir contratações com sobrepreço, preços manifestamente inexequíveis e superfaturamento na execução dos contratos.

Com relação aos casos de superfaturamento em que há dano provocado ao patrimônio da Administração, analise as afirmativas a seguir.

- I. Medição de quantidades superiores às efetivamente executadas ou fornecidas.
- II. Alterações no orçamento de obras e de serviços de engenharia que causem desequilíbrio econômico-financeiro do contrato em favor do contratante.
- III. Deficiência na execução de obras e de serviços de engenharia que resultem em diminuição da sua qualidade, vida útil ou insegurança.

Está correto o que se afirma em

- (A) I, apenas.
- (B) I e II, apenas.
- (C) I e III, apenas.
- (D) II e III, apenas.
- (E) I, II e III.

**54 (NMCE210-00\_01)**

A Administração Direta é composta por órgãos e entidades que fazem parte da estrutura do Estado e operam diretamente sob a autoridade do poder público. Em contrapartida, a Administração Indireta inclui entidades com personalidade jurídica própria, mas vinculadas ao Estado. Enquanto a Administração Direta executa diretamente políticas públicas, a Indireta opera de forma mais especializada, muitas vezes em atividades empresariais.

Assinale a opção que indica a entidade dotada de personalidade jurídica de direito privado, com patrimônio próprio e capital exclusivo da União, criado por lei para a exploração de atividade econômica.

- (A) Autarquia.
- (B) Empresa pública.
- (C) Fundação pública.
- (D) Organização social.
- (E) Sociedade de economia mista.

**55 (NMCE210-00\_02)**

A educação, a saúde, a alimentação, o trabalho, a moradia, o transporte, o lazer, a segurança, a previdência social, a proteção à maternidade e à infância, a assistência aos desamparados, na forma desta Constituição, são direitos sociais.

Assinale a opção que indica, corretamente, o direito devido ao brasileiro em situação de vulnerabilidade social.

- (A) Benefício de prestação continuada.
- (B) Fundo de garantia do tempo de serviço.
- (C) Seguro-desemprego.
- (D) Renda básica familiar.
- (E) Repouso semanal remunerado.



## LEGISLAÇÃO INSTITUCIONAL

### 56 (NMCB004-01\_02)

Considerando o que dispõe o Regimento Interno da Assembleia Legislativa de Tocantins a respeito das Comissões, assinale a afirmativa correta.

- (A) A Comissão de Constituição, Justiça e Redação tem poderes de investigação próprios das autoridades judiciais.
- (B) As Comissões Especiais não podem ser constituídas para investigação sumária de fato determinado.
- (C) À Comissão de Segurança Pública compete analisar questões ligadas à violência urbana e rural.
- (D) As Comissões de Representação devem ser aprovadas pela maioria absoluta do Plenário da Assembleia.
- (E) A Comissão Parlamentar de Inquérito poderá deslocar-se para qualquer ponto do território estadual para a realização de investigações e audiências públicas.

### 57 (NMCB004-01\_03)

Joaquim é servidor estadual estável, detentor de cargo efetivo e aposentado voluntariamente. Depois de dois anos de sua aposentadoria, Joaquim manifestou interesse, perante a Administração, de retornar à atividade em que era estável.

Caso haja cargo vago disponível, conforme a Lei nº 1818/2017, que dispõe sobre o Estatuto dos Servidores Públicos Cíveis do Estado do Tocantins, assinale a modalidade de provimento adequada ao caso.

- (A) Aproveitamento.
- (B) Reversão.
- (C) Readaptação.
- (D) Reintegração.
- (E) Recondução.

### 58 (NMCB004-01\_04)

Luiz, servidor público efetivo, encontra-se em estágio probatório e, nesse período, tem sido submetido a Avaliações Especiais de Desempenho.

Nos termos da Lei nº 4.208/2023, que cuida do plano de cargos, carreiras e remuneração dos Servidores da Assembleia Legislativa de Tocantins, assinale a afirmativa correta.

- (A) A Avaliação Especial de Desempenho dá-se em três etapas, que tem por base o acompanhamento trimestral do servidor.
- (B) O resultado da avaliação será levado ao conhecimento do avaliado e arquivado em caráter público.
- (C) O servidor, para ser aprovado, deverá obter média igual ou superior a 60% (sessenta por cento) dos pontos possíveis nas Avaliações Especiais de Desempenho.
- (D) O servidor, caso aprovado no estágio probatório, será imediatamente elevado para a classe seguinte do padrão inicial do seu cargo.
- (E) O servidor deve ser avaliado pelo chefe imediato.

### 59 (NMCB004-01\_01)

João, eleito Deputado Estadual, foi diplomado, mas ainda não tomou posse.

À luz da Constituição do Estado do Tocantins, João não poderá

- (A) exercer cargo em uma empresa concessionária de serviço público.
- (B) ser diretor de uma empresa que goze de favor decorrente de contrato com pessoa jurídica de direito público.
- (C) patrocinar uma causa em que seja interessada uma autarquia.
- (D) manter contrato com uma pessoa jurídica de direito privado.
- (E) ser titular de mais de um cargo ou de mandato público eletivo.

### 60 (NMCB004-02\_01)

Levando em conta a estrutura administrativa da Assembleia Legislativa de Tocantins e dos órgãos de assistência à Presidência da Assembleia, de acordo com a Lei nº 4.209/2023, a competência para encaminhar as denúncias recebidas ao Tribunal de Contas do Estado, à Polícia Civil, ao Ministério Público, ou a outro órgão competente, é da

- (A) Procuradoria-Geral.
- (B) Controladoria Interna.
- (C) Diretoria de Polícia Legislativa.
- (D) Assessoria Jurídica da Presidência.
- (E) Ouvidoria Geral da Assembleia Legislativa.



# ASSEMBLEIA LEGISLATIVA DO ESTADO DO TOCANTINS

CONCURSO PÚBLICO – EDITAL Nº 01/2023

## PROVA OBJETIVA – MANHÃ

### TÉCNICO LEGISLATIVO AUDIOEDITORAÇÃO

NÍVEL MÉDIO – TIPO 1 – BRANCA



#### SUA PROVA

- Além deste caderno contendo **60 (sessenta)** questões objetivas, você receberá do fiscal de prova o cartão de respostas;
- As questões objetivas têm **5 (cinco)** opções de resposta (A, B, C, D) e somente uma delas está correta.



#### TEMPO

- Você dispõe de **4 (quatro) horas** para a realização da prova, já incluído o tempo para a marcação do cartão de respostas;
- **3 (três) horas** após o início da prova, é possível retirar-se da sala, sem levar o caderno de questões;
- A partir dos **30 (trinta) minutos** anteriores ao término da prova é possível retirar-se da sala **levando o caderno de questões**.



#### NÃO SERÁ PERMITIDO

- Qualquer tipo de comunicação entre os candidatos durante a aplicação da prova;
- Anotar informações relativas às respostas em qualquer outro meio que não seja o caderno de questões;
- Levantar da cadeira sem autorização do fiscal de sala;
- Usar o sanitário ao término da prova, após deixar a sala.



#### INFORMAÇÕES GERAIS

- Verifique se seu caderno de questões está completo, sem repetição de questões ou falhas. Caso contrário, **notifique imediatamente o fiscal da sala**, para que sejam tomadas as devidas providências;
- Confira seus dados pessoais, especialmente nome, número de inscrição e documento de identidade e leia atentamente as instruções para preencher o cartão de respostas;
- Para o preenchimento do cartão de respostas, use somente caneta esferográfica, fabricada em material transparente, com tinta preta ou azul;
- Assine seu nome apenas no(s) espaço(s) reservado(s) no cartão de respostas;
- Confira seu cargo, cor e tipo do caderno de questões. Caso tenha recebido caderno de cargo ou cor ou tipo **diferente** do impresso em seu cartão de respostas, o fiscal deve ser **obrigatoriamente** informado para o devido registro na ata da sala;
- Reserve tempo suficiente para o preenchimento do seu cartão de respostas. O preenchimento é de sua responsabilidade e **não será permitida a troca do cartão de respostas em caso de erro cometido pelo candidato**;
- Para fins de avaliação, serão levadas em consideração apenas as marcações realizadas no cartão de respostas;
- A FGV coletará as impressões digitais dos candidatos na lista de presença;
- Os candidatos serão submetidos ao sistema de detecção de metais quando do ingresso e da saída de sanitários durante a realização das provas.
- **Boa prova!**

## CONHECIMENTOS BÁSICOS

### Língua Portuguesa

1

Leia o seguinte texto de um jornal de outros tempos:

*“Mudança nas moedas. A partir de junho começam a entrar em circulação as moedas de Cr\$100 e Cr\$500 substituindo as cédulas que trazem estampadas a poetisa Cecília Meireles e o naturalista Augusto Ruschi, respectivamente. O lançamento das moedas foi aprovado na reunião de ontem do Conselho Monetário Nacional, colocando fim à família de notas criadas no governo Sarney, sob a égide dos cruzados novos.”*

Sobre esse fragmento textual, analise as observações a seguir, feitas por um estudioso de nossa Língua, e assinale a correta.

- (A) “Começam a entrar em circulação” é bastante estranho, porque as moedas, pequenas que são e de pequeno valor, “entram” logo.
- (B) “trazem estampadas a poetisa Cecília Meireles e o naturalista Augusto Ruschi”, mas eu pensava que as moedas trazem estampadas as efígies de Fulano ou Beltrano.
- (C) “colocando fim à família” mostra o emprego inadequado de “colocar” em lugar de “pôr”.
- (D) “criadas”, por questão de clareza e precisão, devia ser substituído por “lançadas” ou “emitidas”.
- (E) “sob”, por questão de correção gramatical, deve ser substituído por “sobre”.

2

Leia o fragmento a seguir.

*“Não somos daqueles que só em meio aos livros, estimulados por livros vêm a ter pensamentos – é nosso hábito pensar ao ar livre, andando, saltando, escalando, dançando, preferivelmente em montes solitários ou próximos ao mar, onde mesmo as trilhas se tornam pensativas.”* (Nietzsche, filósofo alemão).

Sobre o significado desse fragmento, assinale a afirmativa correta.

- (A) A leitura é importante para a criação de ideias originais.
- (B) As formas de gerúndio mostram a evolução cronológica das ações narradas pelo escritor.
- (C) O pronome relativo “onde” refere-se a locais ao ar livre.
- (D) A forma do verbo “tornar-se”, como verbo de ligação, indica um estado transitório.
- (E) Os ambientes solitários propiciam reflexões de valor.

3

As citações a seguir são compostas por dois segmentos; assinale a opção em que a relação lógica indicada pelo segundo segmento está correta.

- (A) Dize-me o que crês ser / e te direi o que não és. – relação de oposição.
- (B) Quem crê é forte / quem duvida é fraco. – relação de conclusão.
- (C) Seja lá por que um homem reza, / ele reza por um milagre. – relação de explicação.
- (D) Não adianta esperar que o navio chegue / se você não o mandou para lugar nenhum. – relação de causa.
- (E) Pense como um homem de ação / e aja como um pensador. – relação de conclusão.

4

Os textos a seguir mostram elementos de coesão em relação ao termo sublinhado; assinale a opção em que todos os termos seguintes, em coesão com ele, estão indicados.

- (A) Geralmente, entre nossos motivos de agir, há um mais forte que os demais: aquele que não é declarado. – *um, os demais, aquele, que.*
- (B) O que empobrece o homem não são seus atos, mas os desejos que ele possui. – *ele.*
- (C) O dinheiro, recebem-no todos os que trabalham e o perdem todos os irresponsáveis. – *no, que, o.*
- (D) Qual pode ser a vida que começa pelos gritos da mãe, que a dá, e o choro do filho que a recebe? – *que, que, a.*
- (E) Meu filho! Deus te enviou a este mundo. Cultiva-o e não te apresses em sair dele. – *o.*

5

As frases a seguir mostram termos repetidos; assinale a opção que apresenta a frase em que o significado dos dois termos não é o mesmo.

- (A) Morrer é mudar de corpo como o ator muda de roupa.
- (B) Janeiro é o mês que se fazem bons votos aos amigos; os outros são os meses em que esses votos não se concretizam.
- (C) Quem tempo espera, muito tempo consome.
- (D) A falsidade da História é tão velha como a própria História.
- (E) Viva todos os dias como se fosse o último. Um dia você acerta.

6

As opções a seguir mostram, corretamente, a substituição da forma sublinhada, composta de não + verbo, por um só verbo, de sentido equivalente, à exceção de uma. Assinale-a.

- (A) Os países da OTAN pediram que o exército russo não avançasse esta semana. / *parasse.*
- (B) O deputado informou que não dispunha de tempo para redigir uma nova versão do projeto. / *carecia.*
- (C) O Presidente não aceitou o convite para visitar a Alemanha. / *declinou do.*
- (D) Não abriu as portas do museu para evitar a curiosidade do público. / *fechou.*
- (E) Por seus futuros compromissos, preferia não gastar dinheiro / *economizar.*

7

As frases a seguir mostram uma locução adjetiva introduzida pela preposição sem; assinale a opção em que a substituição dessa locução por um adjetivo de valor equivalente foi feita de forma adequada.

- (A) Cartas sem autoria declarada são sempre mal recebidas / *desautorizadas.*
- (B) Os poços sem água são de pouca serventia para a lavoura / *áridos.*
- (C) Foram deixados muitos problemas sem solução / *insolúveis.*
- (D) O governo tomou muitas atitudes sem nexos / *desconexas.*
- (E) Com os fogos de artifício, o campo ficou sem visão / *invisível.*

8

Assinale a opção que apresenta a frase em que houve **erro** de concordância da palavra sublinhada.

- (A) O presidente fez questão de deixar bem claras as suas intenções.
- (B) O STF qualificou de antidemocrático aqueles atos.
- (C) O governo chinês torna visíveis os erros das ditaduras.
- (D) Os enfermeiros tiveram reconhecidos os direitos de greve.
- (E) Tomei emprestados à biblioteca vários livros.

9

As perguntas a seguir apresentam o pronome pessoal oblíquo em ênclise (após o verbo); assinale a que mostra formulação **incorreta**, porque só admite próclise.

- (A) Os dois bandidos evadiram-se do presídio em Mossoró?
- (B) Onde podemos vê-los?
- (C) Eles dedicar-se-iam às tarefas com prazer.
- (D) Numa entrevista como esta, isto pergunta-se?
- (E) Quem dir-me-á tantas barbaridades, senão ele?

10

Assinale a opção que apresenta as duas palavras que devem ser grafadas com **es** e não com **ex**.

- (A) Excremento / expurgo.
- (B) Excusar / expontâneo.
- (C) Excomungar / expressar.
- (D) Extirpar / extorquir.
- (E) Exterminar / extremoso.

## Raciocínio Lógico Matemático

11

Dois números diferentes serão escolhidos ao acaso entre os elementos do conjunto {5,7,9,11,14}.

A soma dos números escolhidos

- (A) certamente é ímpar.
- (B) certamente é par.
- (C) pode ser 26.
- (D) pode ser 18.
- (E) pode ser menor que 12.

12

Em um jogo, duas fichas azuis têm o mesmo valor de cinco fichas vermelhas e uma ficha preta vale o mesmo que três fichas azuis.

Assim, duas fichas pretas equivalem a

- (A) sete fichas vermelhas.
- (B) oito fichas vermelhas.
- (C) nove fichas vermelhas.
- (D) doze fichas vermelhas.
- (E) quinze fichas vermelhas.

13

Sabe-se que 20% de  $N$  é igual a 13,4. Logo, 90% de  $N$  é igual a

- (A) 59,6.
- (B) 60,3.
- (C) 61,2.
- (D) 62,5.
- (E) 63,2.

14

Marcelo é filho de Alberto. Pedro é filho de Luiz. Se Marcelo e Luiz são irmãos por parte de pai, então

- (A) Alberto é pai de Pedro.
- (B) Alberto é tio de Pedro.
- (C) Pedro é irmão de Marcelo.
- (D) Pedro é sobrinho de Marcelo.
- (E) Pedro é neto de Marcelo.

15

A seguir, são apresentados os 9 primeiros termos de uma sequência infinita de números inteiros.

13, 12, 14, 11, 15, 10, 16, 9, 17, ...

Os termos são, alternadamente, maiores e menores que seus antecessores imediatos, seguindo um padrão de construção.

Sabendo-se que esse padrão é mantido ao longo de toda a sequência, conclui-se que um termo negativo aparecerá pela primeira vez na

- (A) 28ª posição.
- (B) 27ª posição.
- (C) 26ª posição.
- (D) 15ª posição.
- (E) 14ª posição.

16

Para pagar um lanche, Temístocles usou uma nota de R\$20,00 e recebeu, de troco, uma nota de R\$5,00, duas notas de R\$2,00, nove moedas de R\$0,50 e 3 moedas de R\$0,25.

O lanche custou a Temístocles

- (A) R\$5,25.
- (B) R\$5,75.
- (C) R\$6,25.
- (D) R\$6,75.
- (E) R\$7,25.

17

Ana trabalha em sistema de *home-office*, mas precisa comparecer ao escritório de sua empresa em intervalos regulares.

Se Ana comparece ao escritório em determinado dia, ela precisa comparecer de novo três dias úteis depois, isto é, descontando-se os sábados e os domingos. Assim, se ela compareceu em uma quinta-feira, deverá voltar ao escritório na terça-feira da semana seguinte.

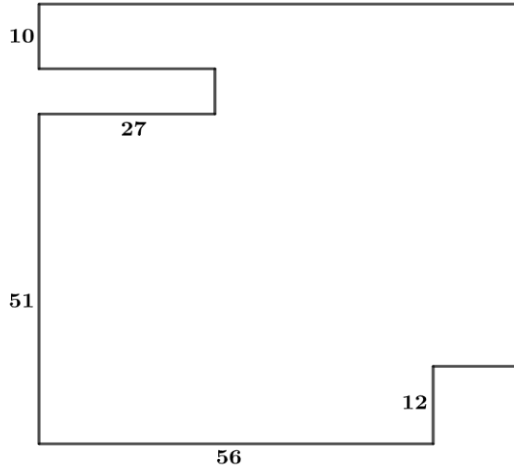
Hoje é sexta-feira e Ana está no escritório; assim, a *penúltima vez* em que ela esteve lá, foi uma

- (A) segunda-feira.
- (B) terça-feira.
- (C) quarta-feira.
- (D) quinta-feira.
- (E) sexta-feira.

18

De uma placa quadrada de madeira, foram recortados e, em seguida, descartados dois pedaços: o primeiro, em forma de um quadrado de lado 12 dm; o outro, em forma de retângulo, tendo comprimento igual a 27 dm.

A imagem a seguir ilustra o aspecto da placa após os descartes. Nela, estão indicadas as medidas, em decímetros, de alguns dos segmentos.



O menor lado do retângulo recortado dessa placa mede

- (A) 11 dm.
- (B) 10 dm.
- (C) 9 dm.
- (D) 8 dm.
- (E) 7 dm.

## Noções de Informática

19

No contexto dos sistemas operacionais Microsoft Windows, o Painel de Controle é uma área central para gerenciar as configurações do sistema, opções de personalização e outros.

Considerando as versões superiores ao Windows 7, assinale a opção que **não** indica uma funcionalidade encontrada no painel de controle.

- (A) Backup e Restauração.
- (B) Relógio e Região.
- (C) Hardware e Sons.
- (D) Contas de Usuário.
- (E) Configuração de Registro Avançadas.

20


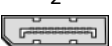


Nos sistemas operacionais Microsoft Windows 10, o recurso "Executar" permite aos usuários abrir rapidamente programas, pastas, documentos e recursos do sistema, ao digitar o caminho completo ou o nome do item.

Assinale a opção que apresenta a combinação de teclas usada para abrir a caixa de diálogo "Executar".

- (A) Windows + E
- (B) Windows + I
- (C) Windows + K
- (D) Windows + L
- (E) Windows + R

21

No contexto das interfaces para vídeo, relacione as portas às suas respectivas tecnologias.

1 	2 	( ) HDMI
3 	4 	( ) DVI
		( ) VGA
		( ) DisplayPort

Assinale a opção que indica a relação correta, segundo a ordem apresentada.

- (A) 2 – 3 – 1 – 4.
- (B) 2 – 4 – 1 – 3.
- (C) 3 – 2 – 1 – 4.
- (D) 3 – 1 – 4 – 2.
- (E) 4 – 2 – 3 – 1.

22

Sobre a inserção de tabelas no Microsoft Word 2019 em português, analise as afirmativas a seguir.

- I. As tabelas admitem diferentes estilos de borda, cores de preenchimento e fontes, para melhorar sua apresentação visual.
- II. Ao inserir uma tabela, é possível definir o número de linhas e colunas antes de criá-la, no entanto, não é possível alterar a estrutura após a inserção.
- III. As tabelas podem ser inseridas apenas no início de um documento e não podem ser movidas para outras partes do texto.

Está correto o que se afirma em

- (A) I, apenas.
- (B) I e II, apenas.
- (C) II e III, apenas.
- (D) I e III, apenas.
- (E) I, II e III.

23

Em uma planilha Microsoft Excel 2019 em português do Brasil, há um conjunto de dados com vendas listadas na coluna B.

Por meio da funcionalidade de Formatação Condicional, a seguinte função pode ser usada para destacar os 10% dos principais valores de vendas com preenchimento verde:

- (A) PERCENTIL.
- (B) MAXIMO.
- (C) SOMASES.
- (D) CONT.SE.
- (E) ABS.

24

Em uma pequena empresa, durante uma tentativa de realizar uma manutenção de rotina nos servidores ao final do expediente, José, um funcionário recém-contratado, com pouca experiência em TI, desliga um servidor que está rodando um serviço de DHCP. No dia seguinte, os usuários começam a reportar problemas.

Considerando que todas as estações de trabalho com sistema operacional Windows estavam utilizando o servidor DHCP, assinale a opção que indica o que os usuários reportaram.

- (A) As estações de trabalho não estão ligando, pois dependem do servidor DHCP.
- (B) Havia lentidão na conexão com a internet.
- (C) Perda de acesso à internet, enquanto o acesso à rede local entre as estações de trabalho permaneceu possível.
- (D) Interrupção do serviço de *e-mail*; os demais serviços funcionavam.
- (E) Impressão em rede local não funcionava, mas a internet estava acessível.

25

Os ataques de negação de serviço distribuídos, conhecidos como DDoS, representam uma ameaça significativa para a segurança da internet.

Com base nesse contexto, assinale a afirmativa **incorreta**.

- (A) Em um ataque DDoS, os atacantes usam uma rede de computadores comprometidos, conhecidos como botnets.
- (B) Os ataques DDoS geralmente visam comprometer os dados, tornando-os inacessíveis, mesmo para usuários autorizados.
- (C) Os ataques DDoS podem causar interrupções significativas nos serviços *online*.
- (D) Embora não seja usual, ataques DDoS já foram feitos a partir de dispositivos IoT comprometidos, como câmeras de segurança.
- (E) Os ataques de DDoS podem ter como alvo vários recursos de rede, incluindo servidores web, jogos *online* e infraestrutura de nuvem.

26

No contexto da computação em nuvem e seus serviços, assinale a opção que corresponde ao conceito de elasticidade.

- (A) A capacidade de expandir ou reduzir dinamicamente seus recursos de acordo com a demanda.
- (B) A flexibilidade de implementação de serviços.
- (C) A capacidade de uma nuvem de suportar múltiplos usuários, simultaneamente.
- (D) A velocidade da conexão entre a nuvem e os dispositivos do usuário.
- (E) A confiabilidade dos serviços oferecidos pelo provedor de computação em nuvem.

## História e Geografia do Estado de Tocantins

27



As bonecas Ritxoko são figuras de cerâmica confeccionadas por mulheres indígenas da etnia Karajá, do estado do Tocantins. Feitas a partir da mistura de argila e água, as peças representam tanto a forma humana e seus ciclos de vida quanto elementos da fauna e do sobrenatural. A pigmentação vermelha é extraída do urucum, enquanto a preta é retirada de uma árvore chamada ixarurina. As bonecas são usadas como instrumentos de socialização das crianças que se veem nesses objetos e aprendem a ser Karajá, recebendo ensinamentos e aprendendo as técnicas e saberes associados à sua confecção e usos. A pintura e a decoração das cerâmicas estão associadas à pintura corporal dos Karajá e às peças de vestuário e adorno.

Adaptado de <https://www.gov.br/funai>

Com base no trecho, é correto afirmar que as bonecas Ritxoko são um patrimônio

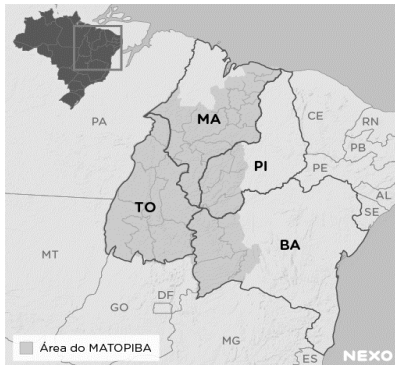
- (A) da humanidade, uma vez que constituem bens culturais e naturais significativos para todas as culturas, sendo contempladas como referência estética para todos os povos.
- (B) histórico nacional, pois exemplificam a riqueza dos modos de fazer e das formas de expressão que envolvem a tradição dos Karajás no Brasil.
- (C) cultural brasileiro, uma vez que são consideradas representações culturais com significados sociais e identitários profundos.
- (D) imaterial mundial, já que sua feitura envolve processos abstratos criativos de elaboração e variação de formas e grafismos.
- (E) material tocantinense, por expressar a arte, a memória e a identidade das comunidades indígenas da Ilha do Bananal, no Tocantins.

28

O Estado do Tocantins situa-se em uma zona de transição que apresenta dois tipos de vegetação: a Floresta Ombrófila e a Savana, pertencentes, respectivamente, aos biomas

- (A) Amazônia e Cerrado.
- (B) Mata Atlântica e Pampa.
- (C) Caatinga e Mata Atlântica.
- (D) Amazônia e Caatinga.
- (E) Cerrado e Pantanal.

29



A área do MATOPIBA caracteriza-se pelo baixo preço das terras e pela uniformidade do clima, do solo e do relevo, que facilitam a mecanização agrícola e tem atraído cada vez mais agricultores.

A respeito do MATOPIBA, analise as afirmativas a seguir.

- I. É uma região de transição entre o Cerrado e o Semiárido, com condições favoráveis para a agricultura: áreas planas e extensas, solos de alto potencial produtivo, disponibilidade de água, clima favorável com elevada intensidade de sol.
- II. É um grande produtor de *commodities*, com uso intenso de tecnologia (máquinas, colheitadeiras, insumos) e uso reduzido do fator trabalho, assim sendo, o crescimento do produto interno bruto (PIB) aumenta com velocidade, mas a geração de riqueza não é acompanhada, proporcionalmente, por uma melhora na distribuição de renda.
- III. É o maior produtor nacional de soja, pois concentra 90% da área de plantio, sendo também a região com o maior índice de produtividade sustentável de grãos, em função da colaboração do setor do agronegócio com a preservação das unidades de conservação locais.

Está correto o que se afirma em

- (A) I, apenas.
- (B) II, apenas.
- (C) III, apenas.
- (D) I e II, apenas.
- (E) II e III, apenas.

30

Sobre a formação histórica do território que hoje corresponde ao Estado do Tocantins, assinale a afirmativa que descreve corretamente o processo de desbravamento e ocupação da região no Período Colonial.

- (A) No final do século XVI, os primeiros a encontrar a foz do rio Tocantins junto ao Amazonas foram os espanhóis, então instalados no Maranhão para expulsar colonos franceses que haviam fundado a França equinocial.
- (B) Na primeira metade do século XVIII, a bandeira de Bartolomeu Bueno da Silva Filho descobriu ouro nas cabeceiras do rio Vermelho e fundou o Arraial de Sant'Anna, às margens do rio.
- (C) Nos anos de 1730-40 foi encontrado ouro no norte de Goiás, incentivando a fundação de cidades sob a jurisdição de Salvador, como Natividade, Almas, Chapada, Pontal e Porto Real, entre outras.
- (D) O declínio da mineração se acentuou na passagem do século XVIII para o XIX, agravado pela instituição de um novo imposto (capitação), cobrado proporcionalmente ao número de escravos de cada minerador.
- (E) Na segunda década do século XIX, em decorrência da crise da mineração, a região estava em uma situação de abandono, como relatado por Theotônio Segurado, futuro Governador da Capitania do Norte.

## CONHECIMENTOS ESPECÍFICOS

31

O chefe de gabinete de um parlamentar da Aletto quer organizar um relatório para a apresentação numa comissão.

Sabendo que o programa disponível é o Microsoft Word 2013, assinale a opção que indica, corretamente, a aba usada para colocar tabelas em um documento.

- (A) Página Inicial.
- (B) *Design*.
- (C) *Layout* da página
- (D) Referências.
- (E) Inserir.

32

Assinale a opção que indica a principal tarefa que pode ser executada na *área de transferência* no Microsoft Word 2013.

- (A) Inserir tabelas para facilitar o trabalho.
- (B) Revisar os textos do programa e sublinhar os erros.
- (C) Mudar o "*layout* da página" e deixá-la com uma visibilidade melhor.
- (D) Ir para a página inicial do programa permitindo o início do trabalho.
- (E) Copiar documentos do *Office* e de outros programas e colar em outro programa do *Office*.

33

Na aba *referências* do Microsoft Word 2013, é possível

- (A) alterar fonte do texto.
- (B) inserir comentários no texto.
- (C) adicionar notas de rodapé.
- (D) configurar páginas e parágrafos.
- (E) colocar em negrito automaticamente as expressões em língua estrangeira

34

Com a enorme capacidade de armazenamento dos computadores, é necessário organizar o conteúdo para que um arquivo não fique “perdido”. Como determinados documentos e pastas são acessados com mais frequência, um bom caminho é criar um atalho para esses arquivos e pastas.

Assinale a opção que indica como fazer esse procedimento no Microsoft Windows 10.

- (A) Clicando o botão direito do *mouse* > Novo > Atalho.
- (B) Imprimindo uma cópia de segurança do arquivo.
- (C) Acessando o painel de controle.
- (D) Teclando CTRL + C.
- (E) Teclando CTRL + Z.

35

Os documentos encaminhados por parlamentares e pelos servidores precisam ser lidos e relidos para que fiquem claros e possam ser publicados.

Assim, a função de revisão de texto no Microsoft Word 2013 serve para

- (A) colocar os textos de acordo com a Associação Brasileira de Normas Técnicas (ABNT).
- (B) verificar erros ortográficos e gramaticais.
- (C) configurar as páginas do documento.
- (D) inserir tabelas no documento.
- (E) adicionar notas de rodapé.

36

A organização dos arquivos é fundamental para o trabalho do servidor público. A criação de pastas serve justamente para facilitar essa tarefa.

Assinale a opção que indica, corretamente, o comando usado no Windows 10 para criar uma nova pasta.

- (A) CTRL + Alt + N.
- (B) CTRL + Fn + V.
- (C) CTRL + Alt + Z.
- (D) CTRL + Shift + C.
- (E) CTRL + Shift + N.

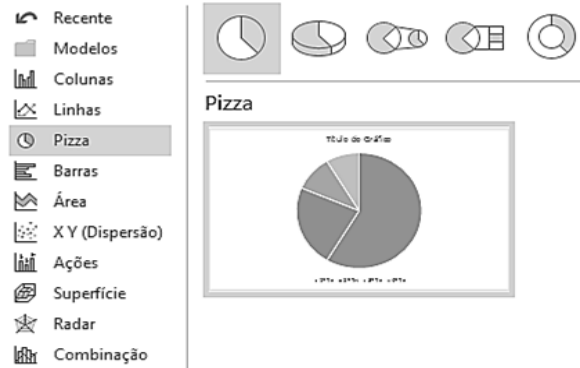
37

No documento que está sendo preparado para uma apresentação, é necessário editar fontes de controle nas caixas de texto, sem usar a folha de propriedades, com uma visão mais detalhada da estrutura do formulário no Microsoft Word 2013. Assinale a opção que indica o modo de exibição que deve ser usado.

- (A) *Design*.
- (B) *Layout*.
- (C) *Leitura*.
- (D) *Zoom*.
- (E) *Largura de página*.

38

Analise a figura a seguir.



[https://www.google.com.br/search?q=como+inserir+gr%C3%A1ficos+de+pizza+no+Microsoft+Word+2013%3F&esq\\_esv=df09c7f462242355&ei=wvdZfe7Ba7e1sQPv9inuAM&udm=&ve](https://www.google.com.br/search?q=como+inserir+gr%C3%A1ficos+de+pizza+no+Microsoft+Word+2013%3F&esq_esv=df09c7f462242355&ei=wvdZfe7Ba7e1sQPv9inuAM&udm=&ve)

Assinale a opção que indica o tipo de tarefa que está sendo executada no Microsoft Word 2013.

- (A) Revisando o texto de um relatório.
- (B) Inserindo um gráfico.
- (C) Alterando o modelo de fontes e cores.
- (D) Pesquisando nuvem de palavras no documento.
- (E) Atualizando o relógio do computador.

39

Sobre a aba Layout da Página, avalie as afirmativas a seguir.

- I. Na aba é possível estabelecer as margens do documento.
- II. Não é possível estabelecer uma hifenização manual no texto, só a configuração automática.
- III. Não permite a quebra automática de páginas
- IV. Não permite que você escreva em formato de carta nem em tamanho A3.

Está correto o que se afirma em

- (A) I, apenas.
- (B) III, apenas.
- (C) IV, apenas.
- (D) II e III, apenas.
- (E) I e IV, apenas.

40

Ao fazer um relatório você descobre que escreveu errado uma palavra importante. Para corrigir o erro, você deve

- (A) procurar o comando *partes rápidas*, na aba *Inserir*.
- (B) fazer uma nota de rodapé com o erro, na aba *Referências*.
- (C) localizar a palavra e substituí-la, na aba *Página Inicial*.
- (D) dar o comando *controlar alterações*, na aba *Revisão*.
- (E) selecionar os destinatários, na aba *Correspondências*.



41

As *extensões* instruem o computador sobre o aplicativo que cria ou pode abrir o arquivo e qual o ícone que deve ser usado para o arquivo.

Assinale a opção que indica a *extensão* que instrui o computador sobre o Microsoft Word que pode abrir o arquivo e qual o ícone do Word que deve ser exibido quando você o visualizar no Explorador de Arquivos.

- (A) *.wav*.
- (B) *.word*.
- (C) *.pdf*.
- (D) *.docx*.
- (E) *.jpeg*.

42

A maioria dos pareceres técnico-jurídicos elaborados por assessores parlamentares e servidores legislativos traz no texto a nota de rodapé.

Assinale a opção que indica, corretamente, a finalidade das referidas notas no Microsoft Word 2013.

- (A) Organizar o *layout* do documento.
- (B) Destacar palavras-chave no texto.
- (C) Inserir comentários para revisão.
- (D) Indicar a fonte de uma citação ou informação.
- (E) Enumerar o que não pode ser esquecido no texto.

43

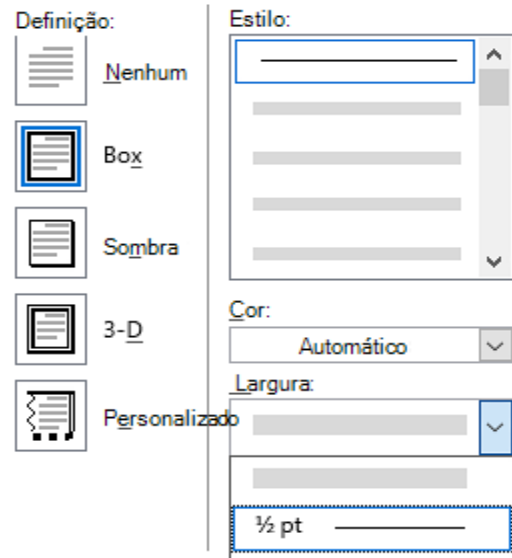
Ao iniciar um relatório importante no Microsoft Word 2013, você se distraiu e não salvou o documento. Houve um pico de energia e, quando a luz voltou, você havia perdido o trabalho.

Assinale a opção que mostra como recuperá-lo.

- (A) Word > Gerenciar Documento > Recuperar.
- (B) Word > Correspondências > Envelopes.
- (C) Word > Exibição > Organizar Tudo.
- (D) Word > Arquivos > Referências.
- (E) Word > Inserir > Tabelas.

44

Analise a figura a seguir.



Assinale a função do Microsoft Word 13 a que a figura se refere.

- (A) Inserir notas de rodapé.
- (B) Alterar a orientação da página.
- (C) Configurar as bordas do documento.
- (D) Alterar a fonte e o tamanho do texto.
- (E) Inserir nota de rodapé.

45

Sobre o conceito de *hipertextualidade* de um texto na Internet, analise as afirmativas a seguir.

- I. Permite que o leitor, por intermédio de *links*, possa se inteirar de outros textos relacionados ao assunto presente.
- II. Possibilita a conexão de dados muito veloz dos textos e das imagens.
- III. Possibilita que o usuário vá entrando em vários sites e às vezes atrapalha que o leitor volte ao texto principal.
- IV. Possibilita que os jornais impressos tenham conexão de dados rápida com seus leitores.

Está correto o que se afirma em

- (A) I e II, apenas.
- (B) I e III, apenas.
- (C) I e IV, apenas.
- (D) II e III, apenas.
- (E) III e IV, apenas.

46

Sobre a Internet, analise as afirmativas a seguir.

- I. A Internet é o endereço de *e-mail* de cada pessoa.
- II. Na Internet há uma série de *sites* e portais que trazem informações dos mais variados tipos.
- III. A Internet tem um lugar físico chamado "nuvem" onde são armazenadas informações dos usuários.
- IV. Os *sites* que têm "*https://*" são confiáveis.

Está correto o que se afirma em

- (A) I e II, apenas.
- (B) II e III, apenas.
- (C) I e IV, apenas.
- (D) II e IV, apenas.
- (E) III e IV, apenas.

47

Você assessora um parlamentar que teve o nome citado em um documento disponível na Internet com mais de 900 páginas. Ele pede que você encontre em que contexto ocorreu essa citação. Assinale a opção que indica a maneira mais eficiente de encontrar essa informação.

- (A) Ler o documento inteiro e transcrever os trechos em que o parlamentar é citado.
- (B) Dar o comando Ctrl + F e digitar o nome do parlamentar.
- (C) Copiar o documento para a pasta do Windows chamada Área de Leitura.
- (D) Dar o comando Ctrl + P e enviar por WhatsApp para o parlamentar.
- (E) Abrir o documento em uma janela de navegação anônima e procurar o nome do parlamentar num buscador.

48

Você recebeu *por e-mail* um arquivo de Microsoft Word 2013, mas ao abrir não conseguiu fazer alterações.

Para modificá-lo, você deve

- (A) desligar e ligar imediatamente o computador, procedimento conhecido como reiniciar.
- (B) pedir ao emissor que a mensagem seja reenviada.
- (C) clicar no botão "Habilitar Edição" que aparece no documento.
- (D) Clicar na aba *Inserir > Caixa de Texto*.
- (E) Limpar o "Cache".

49

Para abrir uma nova página em branco em um documento no Microsoft Word 2013, você

- (A) não pode criar novas páginas em branco.
- (B) deve clicar com o botão direito do *mouse* na quebra de página.
- (C) deve pressionar Ctrl + N.
- (D) deve abrir o menu "Arquivo" e clicar em "folha de rosto".
- (E) deve colocar o cursor onde você quer começar a nova página e clicar em Inserir > Página em Branco.

50

Leia o trecho a seguir.

No Windows 10, a \_\_\_\_\_ funciona como uma mesa em que você encontra tudo que se precisa para trabalhar no computador, pois deixa tudo que você precisa acessível por um clique.

Assinale a opção que completa, corretamente, a lacuna do trecho acima.

- (A) página inicial.
- (B) área de trabalho (*desktop*).
- (C) aba de referências.
- (D) pasta de *downloads*.
- (E) aba de correspondências.

## PRINCÍPIOS DA ADMINISTRAÇÃO PÚBLICA

51

A Administração Direta é composta por órgãos e entidades que fazem parte da estrutura do Estado e operam diretamente sob a autoridade do poder público. Em contrapartida, a Administração Indireta inclui entidades com personalidade jurídica própria, mas vinculadas ao Estado. Enquanto a Administração Direta executa diretamente políticas públicas, a Indireta opera de forma mais especializada, muitas vezes em atividades empresariais.

Assinale a opção que indica a entidade dotada de personalidade jurídica de direito privado, com patrimônio próprio e capital exclusivo da União, criado por lei para a exploração de atividade econômica.

- (A) Autarquia.
- (B) Empresa pública.
- (C) Fundação pública.
- (D) Organização social.
- (E) Sociedade de economia mista.

52

A educação, a saúde, a alimentação, o trabalho, a moradia, o transporte, o lazer, a segurança, a previdência social, a proteção à maternidade e à infância, a assistência aos desamparados, na forma desta Constituição, são direitos sociais.

Assinale a opção que indica, corretamente, o direito devido ao brasileiro em situação de vulnerabilidade social.

- (A) Benefício de prestação continuada.
- (B) Fundo de garantia do tempo de serviço.
- (C) Seguro-desemprego.
- (D) Renda básica familiar.
- (E) Repouso semanal remunerado.

53

A Lei de Acesso à Informação (Lei nº 12.527/2011) garante ao cidadão o direito de obter informações públicas, promovendo a transparência e a *accountability* no setor público.

Assinale a opção que apresenta a qualidade da informação que pode ser conhecida e utilizada por indivíduos, equipamentos ou sistemas autorizados.

- (A) Integridade.
- (B) Autenticidade.
- (C) Transparência.
- (D) Primariedade.
- (E) Disponibilidade.

54

A Lei Geral de Proteção de Dados Pessoais (Lei nº 13.709/2018) estabelece regras para o tratamento de dados pessoais por parte de empresas e organizações, visando proteger a privacidade e os direitos dos cidadãos.

Assinale, entre as opções a seguir, a que apresenta um fundamento da disciplina da proteção de dados pessoais.

- (A) Anonimização.
- (B) Consentimento.
- (C) Não discriminação.
- (D) Uso compartilhado de dados.
- (E) Liberdade de expressão.

55

De acordo com a Lei nº 14.133/2021, conhecida como Nova Lei de Licitações e Contratos Administrativos, o processo licitatório visa prevenir contratações com sobrepreço, preços manifestamente inexequíveis e superfaturamento na execução dos contratos.

Com relação aos casos de superfaturamento em que há dano provocado ao patrimônio da Administração, analise as afirmativas a seguir.

- I. Medição de quantidades superiores às efetivamente executadas ou fornecidas.
- II. Alterações no orçamento de obras e de serviços de engenharia que causem desequilíbrio econômico-financeiro do contrato em favor do contratante.
- III. Deficiência na execução de obras e de serviços de engenharia que resultem em diminuição da sua qualidade, vida útil ou insegurança.

Está correto o que se afirma em

- (A) I, apenas.
- (B) I e II, apenas.
- (C) I e III, apenas.
- (D) II e III, apenas.
- (E) I, II e III.

## LEGISLAÇÃO INSTITUCIONAL

56

João, eleito Deputado Estadual, foi diplomado, mas ainda não tomou posse.

À luz da Constituição do Estado do Tocantins, João não poderá

- (A) exercer cargo em uma empresa concessionária de serviço público.
- (B) ser diretor de uma empresa que goze de favor decorrente de contrato com pessoa jurídica de direito público.
- (C) patrocinar uma causa em que seja interessada uma autarquia.
- (D) manter contrato com uma pessoa jurídica de direito privado.
- (E) ser titular de mais de um cargo ou de mandato público eletivo.

57

Considerando o que dispõe o Regimento Interno da Assembleia Legislativa de Tocantins a respeito das Comissões, assinale a afirmativa correta.

- (A) A Comissão de Constituição, Justiça e Redação tem poderes de investigação próprios das autoridades judiciais.
- (B) As Comissões Especiais não podem ser constituídas para investigação sumária de fato determinado.
- (C) À Comissão de Segurança Pública compete analisar questões ligadas à violência urbana e rural.
- (D) As Comissões de Representação devem ser aprovadas pela maioria absoluta do Plenário da Assembleia.
- (E) A Comissão Parlamentar de Inquérito poderá deslocar-se para qualquer ponto do território estadual para a realização de investigações e audiências públicas.

58

Joaquim é servidor estadual estável, detentor de cargo efetivo e aposentado voluntariamente. Depois de dois anos de sua aposentadoria, Joaquim manifestou interesse, perante a Administração, de retornar à atividade em que era estável.

Caso haja cargo vago disponível, conforme a Lei nº 1818/2017, que dispõe sobre o Estatuto dos Servidores Públicos Cíveis do Estado do Tocantins, assinale a modalidade de provimento adequada ao caso.

- (A) Aproveitamento.
- (B) Reversão.
- (C) Readaptação.
- (D) Reintegração.
- (E) Recondução.

59

Luiz, servidor público efetivo, encontra-se em estágio probatório e, nesse período, tem sido submetido a Avaliações Especiais de Desempenho.

Nos termos da Lei nº 4.208/2023, que cuida do plano de cargos, carreiras e remuneração dos Servidores da Assembleia Legislativa de Tocantins, assinale a afirmativa correta.

- (A) A Avaliação Especial de Desempenho dá-se em três etapas, que tem por base o acompanhamento trimestral do servidor.
- (B) O resultado da avaliação será levado ao conhecimento do avaliado e arquivado em caráter público.
- (C) O servidor, para ser aprovado, deverá obter média igual ou superior a 60% (sessenta por cento) dos pontos possíveis nas Avaliações Especiais de Desempenho.
- (D) O servidor, caso aprovado no estágio probatório, será imediatamente elevado para a classe seguinte do padrão inicial do seu cargo.
- (E) O servidor deve ser avaliado pelo chefe imediato.

60

Levando em conta a estrutura administrativa da Assembleia Legislativa de Tocantins e dos órgãos de assistência à Presidência da Assembleia, de acordo com a Lei nº 4.209/2023, a competência para encaminhar as denúncias recebidas ao Tribunal de Contas do Estado, à Polícia Civil, ao Ministério Público, ou a outro órgão competente, é da

- (A) Procuradoria-Geral.
- (B) Controladoria Interna.
- (C) Diretoria de Polícia Legislativa.
- (D) Assessoria Jurídica da Presidência.
- (E) Ouvidoria Geral da Assembleia Legislativa.



# ASSEMBLEIA LEGISLATIVA DO ESTADO DO TOCANTINS

CONCURSO PÚBLICO – EDITAL Nº 01/2023

## PROVA OBJETIVA – MANHÃ

### TÉCNICO LEGISLATIVO CINEGRAFIA

NÍVEL MÉDIO – TIPO 1 – BRANCA



#### SUA PROVA

- Além deste caderno contendo **60 (sessenta)** questões objetivas, você receberá do fiscal de prova o cartão de respostas;
- As questões objetivas têm **5 (cinco)** opções de resposta (A, B, C, D) e somente uma delas está correta.



#### TEMPO

- Você dispõe de **4 (quatro) horas** para a realização da prova, já incluído o tempo para a marcação do cartão de respostas;
- **3 (três) horas** após o início da prova, é possível retirar-se da sala, sem levar o caderno de questões;
- A partir dos **30 (trinta) minutos** anteriores ao término da prova é possível retirar-se da sala **levando o caderno de questões**.



#### NÃO SERÁ PERMITIDO

- Qualquer tipo de comunicação entre os candidatos durante a aplicação da prova;
- Anotar informações relativas às respostas em qualquer outro meio que não seja o caderno de questões;
- Levantar da cadeira sem autorização do fiscal de sala;
- Usar o sanitário ao término da prova, após deixar a sala.



#### INFORMAÇÕES GERAIS

- Verifique se seu caderno de questões está completo, sem repetição de questões ou falhas. Caso contrário, **notifique imediatamente o fiscal da sala**, para que sejam tomadas as devidas providências;
- Confira seus dados pessoais, especialmente nome, número de inscrição e documento de identidade e leia atentamente as instruções para preencher o cartão de respostas;
- Para o preenchimento do cartão de respostas, use somente caneta esferográfica, fabricada em material transparente, com tinta preta ou azul;
- Assine seu nome apenas no(s) espaço(s) reservado(s) no cartão de respostas;
- Confira seu cargo, cor e tipo do caderno de questões. Caso tenha recebido caderno de cargo ou cor ou tipo **diferente** do impresso em seu cartão de respostas, o fiscal deve ser **obrigatoriamente** informado para o devido registro na ata da sala;
- Reserve tempo suficiente para o preenchimento do seu cartão de respostas. O preenchimento é de sua responsabilidade e **não será permitida a troca do cartão de respostas em caso de erro cometido pelo candidato**;
- Para fins de avaliação, serão levadas em consideração apenas as marcações realizadas no cartão de respostas;
- A FGV coletará as impressões digitais dos candidatos na lista de presença;
- Os candidatos serão submetidos ao sistema de detecção de metais quando do ingresso e da saída de sanitários durante a realização das provas.
- **Boa prova!**

## CONHECIMENTOS BÁSICOS

### Língua Portuguesa

1

Leia o seguinte texto de um jornal de outros tempos:

*“Mudança nas moedas. A partir de junho começam a entrar em circulação as moedas de Cr\$100 e Cr\$500 substituindo as cédulas que trazem estampadas a poetisa Cecília Meireles e o naturalista Augusto Ruschi, respectivamente. O lançamento das moedas foi aprovado na reunião de ontem do Conselho Monetário Nacional, colocando fim à família de notas criadas no governo Sarney, sob a égide dos cruzados novos.”*

Sobre esse fragmento textual, analise as observações a seguir, feitas por um estudioso de nossa Língua, e assinale a correta.

- (A) “Começam a entrar em circulação” é bastante estranho, porque as moedas, pequenas que são e de pequeno valor, “entram” logo.
- (B) “trazem estampadas a poetisa Cecília Meireles e o naturalista Augusto Ruschi”, mas eu pensava que as moedas trazem estampadas as efígies de Fulano ou Beltrano.
- (C) “colocando fim à família” mostra o emprego inadequado de “colocar” em lugar de “pôr”.
- (D) “criadas”, por questão de clareza e precisão, devia ser substituído por “lançadas” ou “emitidas”.
- (E) “sob”, por questão de correção gramatical, deve ser substituído por “sobre”.

2

Leia o fragmento a seguir.

*“Não somos daqueles que só em meio aos livros, estimulados por livros vêm a ter pensamentos – é nosso hábito pensar ao ar livre, andando, saltando, escalando, dançando, preferivelmente em montes solitários ou próximos ao mar, onde mesmo as trilhas se tornam pensativas.”* (Nietzsche, filósofo alemão).

Sobre o significado desse fragmento, assinale a afirmativa correta.

- (A) A leitura é importante para a criação de ideias originais.
- (B) As formas de gerúndio mostram a evolução cronológica das ações narradas pelo escritor.
- (C) O pronome relativo “onde” refere-se a locais ao ar livre.
- (D) A forma do verbo “tornar-se”, como verbo de ligação, indica um estado transitório.
- (E) Os ambientes solitários propiciam reflexões de valor.

3

As citações a seguir são compostas por dois segmentos; assinale a opção em que a relação lógica indicada pelo segundo segmento está correta.

- (A) Dize-me o que crês ser / e te direi o que não és. – relação de oposição.
- (B) Quem crê é forte / quem duvida é fraco. – relação de conclusão.
- (C) Seja lá por que um homem reza, / ele reza por um milagre. – relação de explicação.
- (D) Não adianta esperar que o navio chegue / se você não o mandou para lugar nenhum. – relação de causa.
- (E) Pense como um homem de ação / e aja como um pensador. – relação de conclusão.

4

Os textos a seguir mostram elementos de coesão em relação ao termo sublinhado; assinale a opção em que todos os termos seguintes, em coesão com ele, estão indicados.

- (A) Geralmente, entre nossos motivos de agir, há um mais forte que os demais: aquele que não é declarado. – *um, os demais, aquele, que.*
- (B) O que empobrece o homem não são seus atos, mas os desejos que ele possui. – *ele.*
- (C) O dinheiro, recebem-no todos os que trabalham e o perdem todos os irresponsáveis. – *no, que, o.*
- (D) Qual pode ser a vida que começa pelos gritos da mãe, que a dá, e o choro do filho que a recebe? – *que, que, a.*
- (E) Meu filho! Deus te enviou a este mundo. Cultiva-o e não te apresses em sair dele. – *o.*

5

As frases a seguir mostram termos repetidos; assinale a opção que apresenta a frase em que o significado dos dois termos não é o mesmo.

- (A) Morrer é mudar de corpo como o ator muda de roupa.
- (B) Janeiro é o mês que se fazem bons votos aos amigos; os outros são os meses em que esses votos não se concretizam.
- (C) Quem tempo espera, muito tempo consome.
- (D) A falsidade da História é tão velha como a própria História.
- (E) Viva todos os dias como se fosse o último. Um dia você acerta.

6

As opções a seguir mostram, corretamente, a substituição da forma sublinhada, composta de não + verbo, por um só verbo, de sentido equivalente, à exceção de uma. Assinale-a.

- (A) Os países da OTAN pediram que o exército russo não avançasse esta semana. / *parasse.*
- (B) O deputado informou que não dispunha de tempo para redigir uma nova versão do projeto. / *carecia.*
- (C) O Presidente não aceitou o convite para visitar a Alemanha. / *declinou do.*
- (D) Não abriu as portas do museu para evitar a curiosidade do público. / *fechou.*
- (E) Por seus futuros compromissos, preferia não gastar dinheiro / *economizar.*

7

As frases a seguir mostram uma locução adjetiva introduzida pela preposição sem; assinale a opção em que a substituição dessa locução por um adjetivo de valor equivalente foi feita de forma adequada.

- (A) Cartas sem autoria declarada são sempre mal recebidas / *desautorizadas.*
- (B) Os poços sem água são de pouca serventia para a lavoura / *áridos.*
- (C) Foram deixados muitos problemas sem solução / *insolúveis.*
- (D) O governo tomou muitas atitudes sem nexos / *desconexas.*
- (E) Com os fogos de artifício, o campo ficou sem visão / *invisível.*

8

Assinale a opção que apresenta a frase em que houve **erro** de concordância da palavra sublinhada.

- (A) O presidente fez questão de deixar bem claras as suas intenções.
- (B) O STF qualificou de antidemocrático aqueles atos.
- (C) O governo chinês torna visíveis os erros das ditaduras.
- (D) Os enfermeiros tiveram reconhecidos os direitos de greve.
- (E) Tomei emprestados à biblioteca vários livros.

9

As perguntas a seguir apresentam o pronome pessoal oblíquo em ênclise (após o verbo); assinale a que mostra formulação **incorreta**, porque só admite próclise.

- (A) Os dois bandidos evadiram-se do presídio em Mossoró?
- (B) Onde podemos vê-los?
- (C) Eles dedicar-se-iam às tarefas com prazer.
- (D) Numa entrevista como esta, isto pergunta-se?
- (E) Quem dir-me-á tantas barbaridades, senão ele?

10

Assinale a opção que apresenta as duas palavras que devem ser grafadas com **es** e não com **ex**.

- (A) Excremento / expurgo.
- (B) Excusar / expontâneo.
- (C) Excomungar / expressar.
- (D) Extirpar / extorquir.
- (E) Exterminar / extremoso.

## Raciocínio Lógico Matemático

11

Dois números diferentes serão escolhidos ao acaso entre os elementos do conjunto {5,7,9,11,14}.

A soma dos números escolhidos

- (A) certamente é ímpar.
- (B) certamente é par.
- (C) pode ser 26.
- (D) pode ser 18.
- (E) pode ser menor que 12.

12

Em um jogo, duas fichas azuis têm o mesmo valor de cinco fichas vermelhas e uma ficha preta vale o mesmo que três fichas azuis.

Assim, duas fichas pretas equivalem a

- (A) sete fichas vermelhas.
- (B) oito fichas vermelhas.
- (C) nove fichas vermelhas.
- (D) doze fichas vermelhas.
- (E) quinze fichas vermelhas.

13

Sabe-se que 20% de  $N$  é igual a 13,4. Logo, 90% de  $N$  é igual a

- (A) 59,6.
- (B) 60,3.
- (C) 61,2.
- (D) 62,5.
- (E) 63,2.

14

Marcelo é filho de Alberto. Pedro é filho de Luiz. Se Marcelo e Luiz são irmãos por parte de pai, então

- (A) Alberto é pai de Pedro.
- (B) Alberto é tio de Pedro.
- (C) Pedro é irmão de Marcelo.
- (D) Pedro é sobrinho de Marcelo.
- (E) Pedro é neto de Marcelo.

15

A seguir, são apresentados os 9 primeiros termos de uma sequência infinita de números inteiros.

13, 12, 14, 11, 15, 10, 16, 9, 17, ...

Os termos são, alternadamente, maiores e menores que seus antecessores imediatos, seguindo um padrão de construção.

Sabendo-se que esse padrão é mantido ao longo de toda a sequência, conclui-se que um termo negativo aparecerá pela primeira vez na

- (A) 28ª posição.
- (B) 27ª posição.
- (C) 26ª posição.
- (D) 15ª posição.
- (E) 14ª posição.

16

Para pagar um lanche, Temístocles usou uma nota de R\$20,00 e recebeu, de troco, uma nota de R\$5,00, duas notas de R\$2,00, nove moedas de R\$0,50 e 3 moedas de R\$0,25.

O lanche custou a Temístocles

- (A) R\$5,25.
- (B) R\$5,75.
- (C) R\$6,25.
- (D) R\$6,75.
- (E) R\$7,25.

17

Ana trabalha em sistema de *home-office*, mas precisa comparecer ao escritório de sua empresa em intervalos regulares.

Se Ana comparece ao escritório em determinado dia, ela precisa comparecer de novo três dias úteis depois, isto é, descontando-se os sábados e os domingos. Assim, se ela compareceu em uma quinta-feira, deverá voltar ao escritório na terça-feira da semana seguinte.

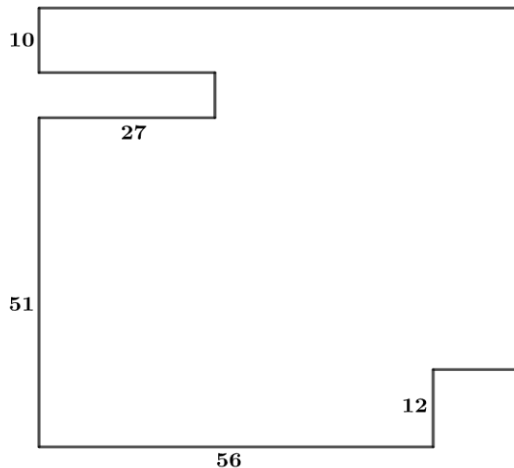
Hoje é sexta-feira e Ana está no escritório; assim, a *penúltima vez* em que ela esteve lá, foi uma

- (A) segunda-feira.
- (B) terça-feira.
- (C) quarta-feira.
- (D) quinta-feira.
- (E) sexta-feira.

18

De uma placa quadrada de madeira, foram recortados e, em seguida, descartados dois pedaços: o primeiro, em forma de um quadrado de lado 12 dm; o outro, em forma de retângulo, tendo comprimento igual a 27 dm.

A imagem a seguir ilustra o aspecto da placa após os descartes. Nela, estão indicadas as medidas, em decímetros, de alguns dos segmentos.



O menor lado do retângulo recortado dessa placa mede

- (A) 11 dm.
- (B) 10 dm.
- (C) 9 dm.
- (D) 8 dm.
- (E) 7 dm.

## Noções de Informática

19

No contexto dos sistemas operacionais Microsoft Windows, o Painel de Controle é uma área central para gerenciar as configurações do sistema, opções de personalização e outros.

Considerando as versões superiores ao Windows 7, assinale a opção que **não** indica uma funcionalidade encontrada no painel de controle.

- (A) Backup e Restauração.
- (B) Relógio e Região.
- (C) Hardware e Sons.
- (D) Contas de Usuário.
- (E) Configuração de Registro Avançadas.

20

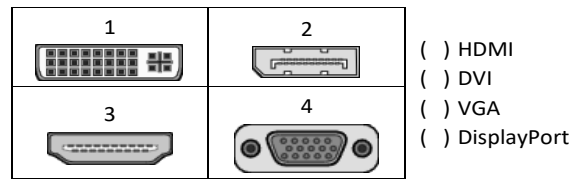
Nos sistemas operacionais Microsoft Windows 10, o recurso "Executar" permite aos usuários abrir rapidamente programas, pastas, documentos e recursos do sistema, ao digitar o caminho completo ou o nome do item.

Assinale a opção que apresenta a combinação de teclas usada para abrir a caixa de diálogo "Executar".

- (A) Windows + E
- (B) Windows + I
- (C) Windows + K
- (D) Windows + L
- (E) Windows + R

21

No contexto das interfaces para vídeo, relacione as portas às suas respectivas tecnologias.



Assinale a opção que indica a relação correta, segundo a ordem apresentada.

- (A) 2 – 3 – 1 – 4.
- (B) 2 – 4 – 1 – 3.
- (C) 3 – 2 – 1 – 4.
- (D) 3 – 1 – 4 – 2.
- (E) 4 – 2 – 3 – 1.

22

Sobre a inserção de tabelas no Microsoft Word 2019 em português, analise as afirmativas a seguir.

- I. As tabelas admitem diferentes estilos de borda, cores de preenchimento e fontes, para melhorar sua apresentação visual.
- II. Ao inserir uma tabela, é possível definir o número de linhas e colunas antes de criá-la, no entanto, não é possível alterar a estrutura após a inserção.
- III. As tabelas podem ser inseridas apenas no início de um documento e não podem ser movidas para outras partes do texto.

Está correto o que se afirma em

- (A) I, apenas.
- (B) I e II, apenas.
- (C) II e III, apenas.
- (D) I e III, apenas.
- (E) I, II e III.

23

Em uma planilha Microsoft Excel 2019 em português do Brasil, há um conjunto de dados com vendas listadas na coluna B.

Por meio da funcionalidade de Formatação Condicional, a seguinte função pode ser usada para destacar os 10% dos principais valores de vendas com preenchimento verde:

- (A) PERCENTIL.
- (B) MAXIMO.
- (C) SOMASES.
- (D) CONT.SE.
- (E) ABS.

24

Em uma pequena empresa, durante uma tentativa de realizar uma manutenção de rotina nos servidores ao final do expediente, José, um funcionário recém-contratado, com pouca experiência em TI, desliga um servidor que está rodando um serviço de DHCP. No dia seguinte, os usuários começam a reportar problemas.

Considerando que todas as estações de trabalho com sistema operacional Windows estavam utilizando o servidor DHCP, assinale a opção que indica o que os usuários reportaram.

- (A) As estações de trabalho não estão ligando, pois dependem do servidor DHCP.
- (B) Havia lentidão na conexão com a internet.
- (C) Perda de acesso à internet, enquanto o acesso à rede local entre as estações de trabalho permaneceu possível.
- (D) Interrupção do serviço de *e-mail*; os demais serviços funcionavam.
- (E) Impressão em rede local não funcionava, mas a internet estava acessível.

25

Os ataques de negação de serviço distribuídos, conhecidos como DDoS, representam uma ameaça significativa para a segurança da internet.

Com base nesse contexto, assinale a afirmativa **incorreta**.

- (A) Em um ataque DDoS, os atacantes usam uma rede de computadores comprometidos, conhecidos como botnets.
- (B) Os ataques DDoS geralmente visam comprometer os dados, tornando-os inacessíveis, mesmo para usuários autorizados.
- (C) Os ataques DDoS podem causar interrupções significativas nos serviços *online*.
- (D) Embora não seja usual, ataques DDoS já foram feitos a partir de dispositivos IoT comprometidos, como câmeras de segurança.
- (E) Os ataques de DDoS podem ter como alvo vários recursos de rede, incluindo servidores web, jogos *online* e infraestrutura de nuvem.

26

No contexto da computação em nuvem e seus serviços, assinale a opção que corresponde ao conceito de **elasticidade**.

- (A) A capacidade de expandir ou reduzir dinamicamente seus recursos de acordo com a demanda.
- (B) A flexibilidade de implementação de serviços.
- (C) A capacidade de uma nuvem de suportar múltiplos usuários, simultaneamente.
- (D) A velocidade da conexão entre a nuvem e os dispositivos do usuário.
- (E) A confiabilidade dos serviços oferecidos pelo provedor de computação em nuvem.

## História e Geografia do Estado de Tocantins

27



As bonecas Ritxoko são figuras de cerâmica confeccionadas por mulheres indígenas da etnia Karajá, do estado do Tocantins. Feitas a partir da mistura de argila e água, as peças representam tanto a forma humana e seus ciclos de vida quanto elementos da fauna e do sobrenatural. A pigmentação vermelha é extraída do urucum, enquanto a preta é retirada de uma árvore chamada *ixarurina*. As bonecas são usadas como instrumentos de socialização das crianças que se veem nesses objetos e aprendem a ser Karajá, recebendo ensinamentos e aprendendo as técnicas e saberes associados à sua confecção e usos. A pintura e a decoração das cerâmicas estão associadas à pintura corporal dos Karajá e às peças de vestuário e adorno.

Adaptado de <https://www.gov.br/funai>

Com base no trecho, é correto afirmar que as bonecas Ritxoko são um patrimônio

- (A) da humanidade, uma vez que constituem bens culturais e naturais significativos para todas as culturas, sendo contempladas como referência estética para todos os povos.
- (B) histórico nacional, pois exemplificam a riqueza dos modos de fazer e das formas de expressão que envolvem a tradição dos Karajás no Brasil.
- (C) cultural brasileiro, uma vez que são consideradas representações culturais com significados sociais e identitários profundos.
- (D) imaterial mundial, já que sua feitura envolve processos abstratos criativos de elaboração e variação de formas e grafismos.
- (E) material tocantinense, por expressar a arte, a memória e a identidade das comunidades indígenas da Ilha do Bananal, no Tocantins.

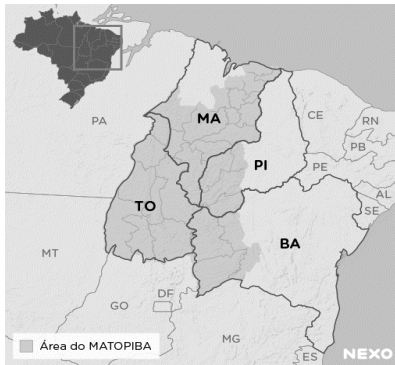
28

O Estado do Tocantins situa-se em uma zona de transição que apresenta dois tipos de vegetação: a Floresta Ombrófila e a Savana, pertencentes, respectivamente, aos biomas

- (A) Amazônia e Cerrado.
- (B) Mata Atlântica e Pampa.
- (C) Caatinga e Mata Atlântica.
- (D) Amazônia e Caatinga.
- (E) Cerrado e Pantanal.



29



A área do MATOPIBA caracteriza-se pelo baixo preço das terras e pela uniformidade do clima, do solo e do relevo, que facilitam a mecanização agrícola e tem atraído cada vez mais agricultores.

A respeito do MATOPIBA, analise as afirmativas a seguir.

- I. É uma região de transição entre o Cerrado e o Semiárido, com condições favoráveis para a agricultura: áreas planas e extensas, solos de alto potencial produtivo, disponibilidade de água, clima favorável com elevada intensidade de sol.
- II. É um grande produtor de *commodities*, com uso intenso de tecnologia (máquinas, colheitadeiras, insumos) e uso reduzido do fator trabalho, assim sendo, o crescimento do produto interno bruto (PIB) aumenta com velocidade, mas a geração de riqueza não é acompanhada, proporcionalmente, por uma melhora na distribuição de renda.
- III. É o maior produtor nacional de soja, pois concentra 90% da área de plantio, sendo também a região com o maior índice de produtividade sustentável de grãos, em função da colaboração do setor do agronegócio com a preservação das unidades de conservação locais.

Está correto o que se afirma em

- (A) I, apenas.
- (B) II, apenas.
- (C) III, apenas.
- (D) I e II, apenas.
- (E) II e III, apenas.

30

Sobre a formação histórica do território que hoje corresponde ao Estado do Tocantins, assinale a afirmativa que descreve corretamente o processo de desbravamento e ocupação da região no Período Colonial.

- (A) No final do século XVI, os primeiros a encontrar a foz do rio Tocantins junto ao Amazonas foram os espanhóis, então instalados no Maranhão para expulsar colonos franceses que haviam fundado a França equinocial.
- (B) Na primeira metade do século XVIII, a bandeira de Bartolomeu Bueno da Silva Filho descobriu ouro nas cabeceiras do rio Vermelho e fundou o Arraial de Sant'Anna, às margens do rio.
- (C) Nos anos de 1730-40 foi encontrado ouro no norte de Goiás, incentivando a fundação de cidades sob a jurisdição de Salvador, como Natividade, Almas, Chapada, Pontal e Porto Real, entre outras.
- (D) O declínio da mineração se acentuou na passagem do século XVIII para o XIX, agravado pela instituição de um novo imposto (capitação), cobrado proporcionalmente ao número de escravos de cada minerador.
- (E) Na segunda década do século XIX, em decorrência da crise da mineração, a região estava em uma situação de abandono, como relatado por Theotônio Segurado, futuro Governador da Capitania do Norte.

## CONHECIMENTOS ESPECÍFICOS

31

Em um sistema de câmera única, independentemente da complexidade da produção, existem diferentes sistemas básicos.

Em relação às possíveis configurações de sistemas básicos de câmera única, analise as afirmativas a seguir.

- I. As saídas de vídeo e áudio da câmera são gravadas para posterior edição nas pós-produção.
- II. As saídas de vídeo e áudio da câmera são transmitidas para um destino específico.
- III. As saídas de vídeo e áudio da câmera são gravadas e transmitidas, simultaneamente.

Está correto o que se afirma em

- (A) I e II, apenas.
- (B) I e III, apenas.
- (C) II e III, apenas.
- (D) I, II e III.
- (E) I, apenas.

32

Relacione as resoluções aos respectivos formatos de gravação.

- |            |     |             |
|------------|-----|-------------|
| 1. 4k      | ( ) | 1280 x 720  |
| 2. Full HD | ( ) | 720 x 480   |
| 3. HD      | ( ) | 1920 x 1080 |
| 4. SD      | ( ) | 3840 x 2160 |

Assinale a opção que indica a relação correta, na ordem apresentada.

- (A) 3 – 4 – 2 – 1.
- (B) 3 – 4 – 1 – 2.
- (C) 4 – 3 – 2 – 1.
- (D) 1 – 4 – 2 – 3.
- (E) 2 – 3 – 1 – 4.

33

Com relação à necessidade do ajuste de *White Balance* (balanço de branco) na câmera, analise as afirmativas a seguir e assinale (V) para a verdadeira e (F) para falsa.

- ( ) É usado para acertar a captação das diferentes fontes luminosas que apresentam diferentes temperaturas de cor.
- ( ) É necessário por que quanto mais alta a temperatura de cor, mais azulada é a cor da luz; quanto mais baixa a temperatura de cor, mais amarelada.
- ( ) É necessário para ajustar o nível de preto, que serve de referência para as imagens.

As afirmativas são, respectivamente,

- (A) V – F – F.
- (B) V – V – V.
- (C) F – F – V.
- (D) V – V – F.
- (E) F – V – V.

34

Nem toda lente, por melhor que seja, é adequada para gravação de vídeos.

Quando você trabalha com uma lente *parfocal* o seu trabalho fica mais fácil porque

- (A) ao utilizar o *zoom*, o foco também varia, sendo necessário ajuste para manter o tema principal focado.
- (B) mesmo que se altere a distância focal, o foco é mantido no ponto.
- (C) o foco é feito de maneira automática liberando o operador de câmera de fazê-lo manualmente.
- (D) o ajuste de foco é feito diretamente no corpo da câmera.
- (E) sendo uma lente mais escura, facilita o ajuste do foco.

35

Considerando a utilização de *softwares* para edição de vídeos profissionais no Brasil, analise as afirmativas a seguir e assinale (V) para verdadeira e (F) para a falsa.

- ( ) O *Final Cut Pro* é um *software* exclusivo para sistemas operacionais Windows.
- ( ) O *Imove* é reconhecido por sua facilidade de uso, mas não é uma escolha popular entre os profissionais de edição de vídeo, pois apresenta poucos recursos.
- ( ) O *DaVinci Resolve* oferece uma versão gratuita com recursos robustos, incluindo ferramentas avançadas de correção de cores.
- ( ) O *Avid Media Composer* é uma opção de *software* de edição de vídeo disponível apenas para usuários de macOS.
- ( ) O *Adobe Premiere Pro* é considerado uma escolha padrão para edição de vídeo profissional devido à sua ampla gama de recursos e integração com outros produtos da Adobe.

As afirmativas são, respectivamente,

- (A) V – F – V – F – V.
- (B) F – V – V – F – V.
- (C) V – F – V – V – F.
- (D) F – V – V – V – F.
- (E) V – F – F – V – F.

36

Observe atentamente as imagens abaixo.

Imagem A



Imagem B



Fonte: Vanessa Lauria. 2024.

As duas imagens foram capturadas com a mesma câmera, posicionada no mesmo local, mantendo a distância dos objetos, durante o mesmo horário do dia, e a figura humana se deslocando com a mesma velocidade em ambas as tomadas.

Tendo em mente que a ISO (das duas fotos) foi estabelecida em 800, utilizando a lógica do triângulo de exposição, assinale a afirmativa correta.

- (A) Em A, a velocidade era 1/30 e a abertura do diafragma era F2.8; em B, a velocidade era 1 e a abertura do diafragma era F16.
- (B) Em A, a velocidade era 1/30 e a abertura do diafragma era F16; em B, a velocidade era 1 e a abertura do diafragma era F2.8.
- (C) Em A, a velocidade era 1 e a abertura do diafragma era F16; em B, a velocidade era 1/30 e a abertura do diafragma era F2.8.
- (D) Em A, a velocidade era 1 e a abertura do diafragma era F2.8; em B, a velocidade era 1 e a abertura do diafragma era F2.8.
- (E) Em A, a velocidade era 1/30 e a abertura do diafragma era F16; em B, a velocidade era 1/30 e a abertura do diafragma era F16.

37

Nos estúdios de gravação de audiovisual, o tipo de cabo comumente empregado para reduzir interferências e garantir a qualidade do sinal de áudio e vídeo, é o

- (A) paralelo.
- (B) coaxial.
- (C) de telefone comum.
- (D) RCA.
- (E) de fibra ótica.

38

Quando uma produção de TV ocorre fora do estúdio, é denominada como externa. Um dos equipamentos indispensáveis em uma gravação externa de TV é o tripé de câmera.

Assinale a opção que indica a função primordial do tripé de câmera.

- (A) Ampliar o campo de visão da câmera para capturar cenas mais abrangentes.
- (B) Fornecer fonte de energia auxiliar para a câmera durante a gravação.
- (C) Conectar a câmera ao *uplink* de satélite para transmissão ao vivo.
- (D) Fornecer iluminação adicional para a cena, quando necessária.
- (E) Estabilizar a câmera, nivelar as imagens e permitir movimentos suaves durante as gravações.

39

O movimento em que a câmera se desloca pelo espaço, usado frequentemente para enfatizar a perspectiva espacial e criar a sensação de profundidade na cena, é denominado

- (A) panorâmico.
- (B) *zoom*.
- (C) *travelling*.
- (D) *tilt*.
- (E) *plongée*.

40

No audiovisual, diferentes tipos de lentes de câmera são usados para alcançar diferentes efeitos visuais e estilísticos.

Com relação à lente grande angular, analise as afirmativas a seguir.

- I. É ideal para retratos, proporcionando um fundo desfocado e destacando o objeto principal.
- II. Captura uma grande extensão de cena, proporcionando um ângulo de visão amplo.
- III. Possibilita uma maior profundidade de campo na imagem.
- IV. Tende a comprimir a perspectiva, criando a ilusão de proximidade entre objetos distantes.

Está correto o que se afirma em

- (A) I e IV, apenas.
- (B) II e III, apenas.
- (C) II e IV, apenas.
- (D) III e IV, apenas.
- (E) I e III, apenas.

41

Assinale a opção que apresenta a configuração crucial para garantir uma transmissão ao vivo de alta qualidade.

- (A) Usar um microfone direcional para captar o som ambiente.
- (B) Ajustar corretamente a temperatura de cor para a luz externa.
- (C) Configurar a câmera para uma taxa de quadros (*framerate*) compatível com a transmissão.
- (D) Usar uma lente grande angular para capturar mais detalhes.
- (E) Aumentar o ISO da câmera para compensar a falta de iluminação.

42

Ao considerar a composição de um quadro, deve-se ter em mente os seguintes conceitos: enquadramento, formato, angulação, luminosidade, cores e contexto. Algumas regras de composição servem de ajuda para compor o quadro.

Observe a imagem a seguir.



Filme Corra! Foto: Reprodução

Assinale a opção que indica a *regra de composição* usada na foto.

- (A) da simetria.
- (B) dos terços.
- (C) da proporção áurea.
- (D) de três.
- (E) de sinais.

43

A *técnica de três pontos*, técnica de iluminação básica muito usada na dramaturgia e no jornalismo, é definida pelo uso de

- (A) luz chave, luz principal e difusores.
- (B) filtros de luz, luz dura e sombras.
- (C) luz de fundo, luz de cabelo e luz de recorte.
- (D) *softbox*, rebatedores e gelatinas.
- (E) luz principal, luz de preenchimento e contraluz.

44

Todas as fontes de luz apresentam, de alguma forma, variações de cor em sua composição. O sistema desenvolvido para descrever essa variação é conhecido como temperatura de cor, medida em graus Kelvin.

Com relação aos mecanismos de correção de temperatura de cor, analise os itens a seguir.

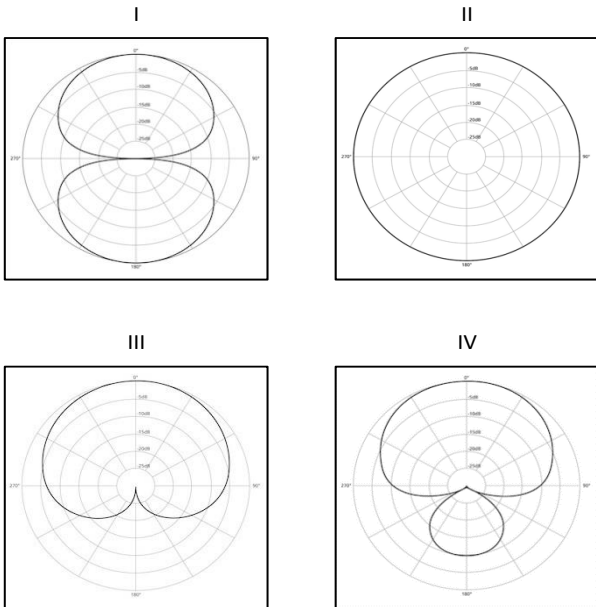
- I. Os Filtros Corretivos são específicos para modificar as temperaturas de cor; os CTBs (azuis) aumentam a temperatura de cor das fontes luminosas e os CTOs (âmbar) baixam a temperatura de cor das fontes luminosas.
- II. Filtros de densidades neutras são utilizados para reduzir a intensidade de luz incidente, ajustando automaticamente a temperatura de cor.
- III. Se uma câmera está preparada para captar em 3200K e o local de filmagem é exterior, sob a luz do dia, deve-se usar um dos filtros de cor azul, para baixar a temperatura de cor da luz do dia de 5500K para 3200K.

Está correto o que se afirma em

- (A) I, II e III.
- (B) I e II, apenas.
- (C) I, apenas.
- (D) II e III, apenas.
- (E) III, apenas.

45

Relacione os gráficos de padrão de captação de som, a seguir, aos seus respectivos tipos de microfone.



- ( ) Microfone Omnidirecional.  
 ( ) Microfone Super-cardioide.  
 ( ) Microfone Cardioide.  
 ( ) Microfone Bidirecional.

Assinale a opção que indica a relação correta, segundo a ordem apresentada.

- (A) IV – III – I – II.  
 (B) II – III – I – IV.  
 (C) III – IV – II – I.  
 (D) II – IV – III – I.  
 (E) I – II – III – IV.

46

Sabemos que a definição dos planos é uma convenção que pode variar um pouco dependendo do país. Mesmo assim, basicamente, são três os planos que fundamentam a linguagem audiovisual: o plano geral, o plano médio e o primeiro plano.

Com relação ao primeiro plano, analise as afirmativas a seguir.

- I. É muito usado para descrever ambientes e localizar o espectador.  
 II. É excelente para deixar as emoções aparentes.  
 III. Tende a diminuir o indivíduo. Cria uma sensação de rebaixamento físico ou psicológico. É muito usado para evidenciar a inferioridade, momentânea ou não, da personagem.  
 IV. Corta as personagens na altura do busto ou um pouco mais acima, mostrando quase exclusivamente o rosto da pessoa enquadrada.

Está correto o que se afirma em

- (A) I e II, apenas.  
 (B) II e III, apenas.  
 (C) II e IV, apenas.  
 (D) III e IV, apenas.  
 (E) I e III, apenas.

47

Considerando o trabalho do cinegrafista no jornalismo, relacione os tipos de gravação à descrição de suas respectivas funções.

- ( ) Sonora  
 ( ) Imagens de apoio  
 ( ) Imagens para a reportagem  
 ( ) Passagem

- Gravação de imagens do entrevistado no ambiente, partes do corpo do entrevistado, da conversa com o repórter antes da entrevista, do ambiente ao redor etc., para ser usado antes de entrar a entrevista ou o depoimento, ou durante eles para auxiliar na edição.
- Gravações de entrevistas, realizadas por repórteres, para serem utilizadas em reportagens radiofônicas ou televisivas.
- Gravação do texto da/do repórter, incluindo a sua imagem, para aparecer na reportagem.
- Gravação de imagens para serem usadas para cobrir o texto em *off do/da* repórter.

Assinale a opção que indica a relação correta, segundo a ordem apresentada.

- (A) 2 – 1 – 4 – 3.  
 (B) 2 – 4 – 1 – 3.  
 (C) 3 – 1 – 4 – 2.  
 (D) 4 – 1 – 2 – 3.  
 (E) 1 – 2 – 3 – 4.

48

Com relação à distância focal e a profundidade de campo em objetivas fotográficas (lentes), analise as afirmativas a seguir e assinale (V) para a verdadeira e (F) para a falsa.

- ( ) Quanto maior a distância focal, maior a profundidade de campo, independentemente da abertura utilizada.  
 ( ) Quanto mais longa a distância focal, menos profundidade de campo será gerada, mesmo em aberturas menores, como f:5.6.  
 ( ) A profundidade de campo permanece constante, independentemente da abertura da objetiva utilizada.

As afirmativas são, na ordem apresentada, respectivamente,

- (A) V – F – F.  
 (B) F – V – F.  
 (C) F – F – F.  
 (D) V – F – V.  
 (E) F – V – V.

49

Quando se captura imagem em RAW, um formato de “negativo digital” sem compressão, há câmeras que chegam a fotografar em 16 bits, o que dá 65.536 tons dentro de cada canal de cor, e mais de 280 trilhões de possibilidades de cores.

A relação quantidade de bits/possibilidades de cores, é chamada de

- (A) taxa de bits.  
 (B) temperatura de cor.  
 (C) taxa de quadros.  
 (D) profundidade de bits.  
 (E) taxa de amostragem.

50

A correta captação de áudio é fundamental para uma boa qualidade do produto audiovisual. Com relação a adequada captação de som, analise as afirmativas a seguir.

- I. O uso de um pop *filter* pode ajudar a reduzir os ruídos indesejados causados pelas saturações sonoras ao se pronunciar certos sons durante a gravação de áudio.
- II. A utilização de cabos balanceados é preferível em estúdios de gravação devido à sua capacidade de minimizar interferências e ruídos externos.
- III. O microfone hipercardioidé é usado para captar o som por todas as direções. Também é conhecido como microfone panorâmico.

Está correto o que se afirma em

- (A) I, apenas.
- (B) III, apenas.
- (C) II e III, apenas.
- (D) I e III, apenas.
- (E) I e II, apenas.

## PRINCÍPIOS DA ADMINISTRAÇÃO PÚBLICA

51

A Administração Direta é composta por órgãos e entidades que fazem parte da estrutura do Estado e operam diretamente sob a autoridade do poder público. Em contrapartida, a Administração Indireta inclui entidades com personalidade jurídica própria, mas vinculadas ao Estado. Enquanto a Administração Direta executa diretamente políticas públicas, a Indireta opera de forma mais especializada, muitas vezes em atividades empresariais.

Assinale a opção que indica a entidade dotada de personalidade jurídica de direito privado, com patrimônio próprio e capital exclusivo da União, criado por lei para a exploração de atividade econômica.

- (A) Autarquia.
- (B) Empresa pública.
- (C) Fundação pública.
- (D) Organização social.
- (E) Sociedade de economia mista.

52

A educação, a saúde, a alimentação, o trabalho, a moradia, o transporte, o lazer, a segurança, a previdência social, a proteção à maternidade e à infância, a assistência aos desamparados, na forma desta Constituição, são direitos sociais.

Assinale a opção que indica, corretamente, o direito devido ao brasileiro em situação de vulnerabilidade social.

- (A) Benefício de prestação continuada.
- (B) Fundo de garantia do tempo de serviço.
- (C) Seguro-desemprego.
- (D) Renda básica familiar.
- (E) Repouso semanal remunerado.

53

A Lei de Acesso à Informação (Lei nº 12.527/2011) garante ao cidadão o direito de obter informações públicas, promovendo a transparência e a *accountability* no setor público.

Assinale a opção que apresenta a qualidade da informação que pode ser conhecida e utilizada por indivíduos, equipamentos ou sistemas autorizados.

- (A) Integridade.
- (B) Autenticidade.
- (C) Transparência.
- (D) Primariedade.
- (E) Disponibilidade.

54

A Lei Geral de Proteção de Dados Pessoais (Lei nº 13.709/2018) estabelece regras para o tratamento de dados pessoais por parte de empresas e organizações, visando proteger a privacidade e os direitos dos cidadãos.

Assinale, entre as opções a seguir, a que apresenta um fundamento da disciplina da proteção de dados pessoais.

- (A) Anonimização.
- (B) Consentimento.
- (C) Não discriminação.
- (D) Uso compartilhado de dados.
- (E) Liberdade de expressão.

55

De acordo com a Lei nº 14.133/2021, conhecida como Nova Lei de Licitações e Contratos Administrativos, o processo licitatório visa prevenir contratações com sobrepreço, preços manifestamente inexequíveis e superfaturamento na execução dos contratos.

Com relação aos casos de superfaturamento em que há dano provocado ao patrimônio da Administração, analise as afirmativas a seguir.

- I. Medição de quantidades superiores às efetivamente executadas ou fornecidas.
- II. Alterações no orçamento de obras e de serviços de engenharia que causem desequilíbrio econômico-financeiro do contrato em favor do contratante.
- III. Deficiência na execução de obras e de serviços de engenharia que resultem em diminuição da sua qualidade, vida útil ou insegurança.

Está correto o que se afirma em

- (A) I, apenas.
- (B) I e II, apenas.
- (C) I e III, apenas.
- (D) II e III, apenas.
- (E) I, II e III.

**LEGISLAÇÃO INSTITUCIONAL****56**

João, eleito Deputado Estadual, foi diplomado, mas ainda não tomou posse.

À luz da Constituição do Estado do Tocantins, João não poderá

- (A) exercer cargo em uma empresa concessionária de serviço público.
- (B) ser diretor de uma empresa que goze de favor decorrente de contrato com pessoa jurídica de direito público.
- (C) patrocinar uma causa em que seja interessada uma autarquia.
- (D) manter contrato com uma pessoa jurídica de direito privado.
- (E) ser titular de mais de um cargo ou de mandato público eletivo.

**57**

Considerando o que dispõe o Regimento Interno da Assembleia Legislativa de Tocantins a respeito das Comissões, assinale a afirmativa correta.

- (A) A Comissão de Constituição, Justiça e Redação tem poderes de investigação próprios das autoridades judiciais.
- (B) As Comissões Especiais não podem ser constituídas para investigação sumária de fato determinado.
- (C) À Comissão de Segurança Pública compete analisar questões ligadas à violência urbana e rural.
- (D) As Comissões de Representação devem ser aprovadas pela maioria absoluta do Plenário da Assembleia.
- (E) A Comissão Parlamentar de Inquérito poderá deslocar-se para qualquer ponto do território estadual para a realização de investigações e audiências públicas.

**58**

Joaquim é servidor estadual estável, detentor de cargo efetivo e aposentado voluntariamente. Depois de dois anos de sua aposentadoria, Joaquim manifestou interesse, perante a Administração, de retornar à atividade em que era estável.

Caso haja cargo vago disponível, conforme a Lei nº 1818/2017, que dispõe sobre o Estatuto dos Servidores Públicos Cíveis do Estado do Tocantins, assinale a modalidade de provimento adequada ao caso.

- (A) Aproveitamento.
- (B) Reversão.
- (C) Readaptação.
- (D) Reintegração.
- (E) Recondução.

**59**

Luiz, servidor público efetivo, encontra-se em estágio probatório e, nesse período, tem sido submetido a Avaliações Especiais de Desempenho.

Nos termos da Lei nº 4.208/2023, que cuida do plano de cargos, carreiras e remuneração dos Servidores da Assembleia Legislativa de Tocantins, assinale a afirmativa correta.

- (A) A Avaliação Especial de Desempenho dá-se em três etapas, que tem por base o acompanhamento trimestral do servidor.
- (B) O resultado da avaliação será levado ao conhecimento do avaliado e arquivado em caráter público.
- (C) O servidor, para ser aprovado, deverá obter média igual ou superior a 60% (sessenta por cento) dos pontos possíveis nas Avaliações Especiais de Desempenho.
- (D) O servidor, caso aprovado no estágio probatório, será imediatamente elevado para a classe seguinte do padrão inicial do seu cargo.
- (E) O servidor deve ser avaliado pelo chefe imediato.

**60**

Levando em conta a estrutura administrativa da Assembleia Legislativa de Tocantins e dos órgãos de assistência à Presidência da Assembleia, de acordo com a Lei nº 4.209/2023, a competência para encaminhar as denúncias recebidas ao Tribunal de Contas do Estado, à Polícia Civil, ao Ministério Público, ou a outro órgão competente, é da

- (A) Procuradoria-Geral.
- (B) Controladoria Interna.
- (C) Diretoria de Polícia Legislativa.
- (D) Assessoria Jurídica da Presidência.
- (E) Ouvidoria Geral da Assembleia Legislativa.



# ASSEMBLEIA LEGISLATIVA DO ESTADO DO TOCANTINS

CONCURSO PÚBLICO – EDITAL Nº 01/2023

## PROVA OBJETIVA – MANHÃ

### TÉCNICO LEGISLATIVO FOTOGRAFIA

NÍVEL MÉDIO – TIPO 1 – BRANCA



#### SUA PROVA

- Além deste caderno contendo **60 (sessenta)** questões objetivas, você receberá do fiscal de prova o cartão de respostas;
- As questões objetivas têm **5 (cinco)** opções de resposta (A, B, C, D) e somente uma delas está correta.



#### TEMPO

- Você dispõe de **4 (quatro) horas** para a realização da prova, já incluído o tempo para a marcação do cartão de respostas;
- **3 (três) horas** após o início da prova, é possível retirar-se da sala, sem levar o caderno de questões;
- A partir dos **30 (trinta) minutos** anteriores ao término da prova é possível retirar-se da sala **levando o caderno de questões**.



#### NÃO SERÁ PERMITIDO

- Qualquer tipo de comunicação entre os candidatos durante a aplicação da prova;
- Anotar informações relativas às respostas em qualquer outro meio que não seja o caderno de questões;
- Levantar da cadeira sem autorização do fiscal de sala;
- Usar o sanitário ao término da prova, após deixar a sala.



#### INFORMAÇÕES GERAIS

- Verifique se seu caderno de questões está completo, sem repetição de questões ou falhas. Caso contrário, **notifique imediatamente o fiscal da sala**, para que sejam tomadas as devidas providências;
- Confira seus dados pessoais, especialmente nome, número de inscrição e documento de identidade e leia atentamente as instruções para preencher o cartão de respostas;
- Para o preenchimento do cartão de respostas, use somente caneta esferográfica, fabricada em material transparente, com tinta preta ou azul;
- Assine seu nome apenas no(s) espaço(s) reservado(s) no cartão de respostas;
- Confira seu cargo, cor e tipo do caderno de questões. Caso tenha recebido caderno de cargo ou cor ou tipo **diferente** do impresso em seu cartão de respostas, o fiscal deve ser **obrigatoriamente** informado para o devido registro na ata da sala;
- Reserve tempo suficiente para o preenchimento do seu cartão de respostas. O preenchimento é de sua responsabilidade e **não será permitida a troca do cartão de respostas em caso de erro cometido pelo candidato**;
- Para fins de avaliação, serão levadas em consideração apenas as marcações realizadas no cartão de respostas;
- A FGV coletará as impressões digitais dos candidatos na lista de presença;
- Os candidatos serão submetidos ao sistema de detecção de metais quando do ingresso e da saída de sanitários durante a realização das provas.
- **Boa prova!**

## CONHECIMENTOS BÁSICOS

### Língua Portuguesa

1

Leia o seguinte texto de um jornal de outros tempos:

*“Mudança nas moedas. A partir de junho começam a entrar em circulação as moedas de Cr\$100 e Cr\$500 substituindo as cédulas que trazem estampadas a poetisa Cecília Meireles e o naturalista Augusto Ruschi, respectivamente. O lançamento das moedas foi aprovado na reunião de ontem do Conselho Monetário Nacional, colocando fim à família de notas criadas no governo Sarney, sob a égide dos cruzados novos.”*

Sobre esse fragmento textual, analise as observações a seguir, feitas por um estudioso de nossa Língua, e assinale a correta.

- (A) “Começam a entrar em circulação” é bastante estranho, porque as moedas, pequenas que são e de pequeno valor, “entram” logo.
- (B) “trazem estampadas a poetisa Cecília Meireles e o naturalista Augusto Ruschi”, mas eu pensava que as moedas trazem estampadas as efígies de Fulano ou Beltrano.
- (C) “colocando fim à família” mostra o emprego inadequado de “colocar” em lugar de “pôr”.
- (D) “criadas”, por questão de clareza e precisão, devia ser substituído por “lançadas” ou “emitidas”.
- (E) “sob”, por questão de correção gramatical, deve ser substituído por “sobre”.

2

Leia o fragmento a seguir.

*“Não somos daqueles que só em meio aos livros, estimulados por livros vêm a ter pensamentos – é nosso hábito pensar ao ar livre, andando, saltando, escalando, dançando, preferivelmente em montes solitários ou próximos ao mar, onde mesmo as trilhas se tornam pensativas.”* (Nietzsche, filósofo alemão).

Sobre o significado desse fragmento, assinale a afirmativa correta.

- (A) A leitura é importante para a criação de ideias originais.
- (B) As formas de gerúndio mostram a evolução cronológica das ações narradas pelo escritor.
- (C) O pronome relativo “onde” refere-se a locais ao ar livre.
- (D) A forma do verbo “tornar-se”, como verbo de ligação, indica um estado transitório.
- (E) Os ambientes solitários propiciam reflexões de valor.

3

As citações a seguir são compostas por dois segmentos; assinale a opção em que a relação lógica indicada pelo segundo segmento está correta.

- (A) Dize-me o que crês ser / e te direi o que não és. – relação de oposição.
- (B) Quem crê é forte / quem duvida é fraco. – relação de conclusão.
- (C) Seja lá por que um homem reza, / ele reza por um milagre. – relação de explicação.
- (D) Não adianta esperar que o navio chegue / se você não o mandou para lugar nenhum. – relação de causa.
- (E) Pense como um homem de ação / e aja como um pensador. – relação de conclusão.

4

Os textos a seguir mostram elementos de coesão em relação ao termo sublinhado; assinale a opção em que todos os termos seguintes, em coesão com ele, estão indicados.

- (A) Geralmente, entre nossos motivos de agir, há um mais forte que os demais: aquele que não é declarado. – *um, os demais, aquele, que.*
- (B) O que empobrece o homem não são seus atos, mas os desejos que ele possui. – *ele.*
- (C) O dinheiro, recebem-no todos os que trabalham e o perdem todos os irresponsáveis. – *no, que, o.*
- (D) Qual pode ser a vida que começa pelos gritos da mãe, que a dá, e o choro do filho que a recebe? – *que, que, a.*
- (E) Meu filho! Deus te enviou a este mundo. Cultiva-o e não te apresses em sair dele. – *o.*

5

As frases a seguir mostram termos repetidos; assinale a opção que apresenta a frase em que o significado dos dois termos não é o mesmo.

- (A) Morrer é mudar de corpo como o ator muda de roupa.
- (B) Janeiro é o mês que se fazem bons votos aos amigos; os outros são os meses em que esses votos não se concretizam.
- (C) Quem tempo espera, muito tempo consome.
- (D) A falsidade da História é tão velha como a própria História.
- (E) Viva todos os dias como se fosse o último. Um dia você acerta.

6

As opções a seguir mostram, corretamente, a substituição da forma sublinhada, composta de não + verbo, por um só verbo, de sentido equivalente, à exceção de uma. Assinale-a.

- (A) Os países da OTAN pediram que o exército russo não avançasse esta semana. / *parasse.*
- (B) O deputado informou que não dispunha de tempo para redigir uma nova versão do projeto. / *carecia.*
- (C) O Presidente não aceitou o convite para visitar a Alemanha. / *declinou do.*
- (D) Não abriu as portas do museu para evitar a curiosidade do público. / *fechou.*
- (E) Por seus futuros compromissos, preferia não gastar dinheiro / *economizar.*

7

As frases a seguir mostram uma locução adjetiva introduzida pela preposição sem; assinale a opção em que a substituição dessa locução por um adjetivo de valor equivalente foi feita de forma adequada.

- (A) Cartas sem autoria declarada são sempre mal recebidas / *desautorizadas.*
- (B) Os poços sem água são de pouca serventia para a lavoura / *áridos.*
- (C) Foram deixados muitos problemas sem solução / *insolúveis.*
- (D) O governo tomou muitas atitudes sem nexo / *desconexas.*
- (E) Com os fogos de artifício, o campo ficou sem visão / *invisível.*



8

Assinale a opção que apresenta a frase em que houve **erro** de concordância da palavra sublinhada.

- (A) O presidente fez questão de deixar bem claras as suas intenções.
- (B) O STF qualificou de antidemocrático aqueles atos.
- (C) O governo chinês torna visíveis os erros das ditaduras.
- (D) Os enfermeiros tiveram reconhecidos os direitos de greve.
- (E) Tomei emprestados à biblioteca vários livros.

9

As perguntas a seguir apresentam o pronome pessoal oblíquo em ênclise (após o verbo); assinale a que mostra formulação **incorreta**, porque só admite próclise.

- (A) Os dois bandidos evadiram-se do presídio em Mossoró?
- (B) Onde podemos vê-los?
- (C) Eles dedicar-se-iam às tarefas com prazer.
- (D) Numa entrevista como esta, isto pergunta-se?
- (E) Quem dir-me-á tantas barbaridades, senão ele?

10

Assinale a opção que apresenta as duas palavras que devem ser grafadas com **es** e não com **ex**.

- (A) Excremento / expurgo.
- (B) Excusar / expontâneo.
- (C) Excomungar / expressar.
- (D) Extirpar / extorquir.
- (E) Exterminar / extremoso.

## Raciocínio Lógico Matemático

11

Dois números diferentes serão escolhidos ao acaso entre os elementos do conjunto {5,7,9,11,14}.

A soma dos números escolhidos

- (A) certamente é ímpar.
- (B) certamente é par.
- (C) pode ser 26.
- (D) pode ser 18.
- (E) pode ser menor que 12.

12

Em um jogo, duas fichas azuis têm o mesmo valor de cinco fichas vermelhas e uma ficha preta vale o mesmo que três fichas azuis.

Assim, duas fichas pretas equivalem a

- (A) sete fichas vermelhas.
- (B) oito fichas vermelhas.
- (C) nove fichas vermelhas.
- (D) doze fichas vermelhas.
- (E) quinze fichas vermelhas.

13

Sabe-se que 20% de  $N$  é igual a 13,4. Logo, 90% de  $N$  é igual a

- (A) 59,6.
- (B) 60,3.
- (C) 61,2.
- (D) 62,5.
- (E) 63,2.

14

Marcelo é filho de Alberto. Pedro é filho de Luiz. Se Marcelo e Luiz são irmãos por parte de pai, então

- (A) Alberto é pai de Pedro.
- (B) Alberto é tio de Pedro.
- (C) Pedro é irmão de Marcelo.
- (D) Pedro é sobrinho de Marcelo.
- (E) Pedro é neto de Marcelo.

15

A seguir, são apresentados os 9 primeiros termos de uma sequência infinita de números inteiros.

13, 12, 14, 11, 15, 10, 16, 9, 17, ...

Os termos são, alternadamente, maiores e menores que seus antecessores imediatos, seguindo um padrão de construção.

Sabendo-se que esse padrão é mantido ao longo de toda a sequência, conclui-se que um termo negativo aparecerá pela primeira vez na

- (A) 28ª posição.
- (B) 27ª posição.
- (C) 26ª posição.
- (D) 15ª posição.
- (E) 14ª posição.

16

Para pagar um lanche, Temístocles usou uma nota de R\$20,00 e recebeu, de troco, uma nota de R\$5,00, duas notas de R\$2,00, nove moedas de R\$0,50 e 3 moedas de R\$0,25.

O lanche custou a Temístocles

- (A) R\$5,25.
- (B) R\$5,75.
- (C) R\$6,25.
- (D) R\$6,75.
- (E) R\$7,25.

17

Ana trabalha em sistema de *home-office*, mas precisa comparecer ao escritório de sua empresa em intervalos regulares.

Se Ana comparece ao escritório em determinado dia, ela precisa comparecer de novo três dias úteis depois, isto é, descontando-se os sábados e os domingos. Assim, se ela compareceu em uma quinta-feira, deverá voltar ao escritório na terça-feira da semana seguinte.

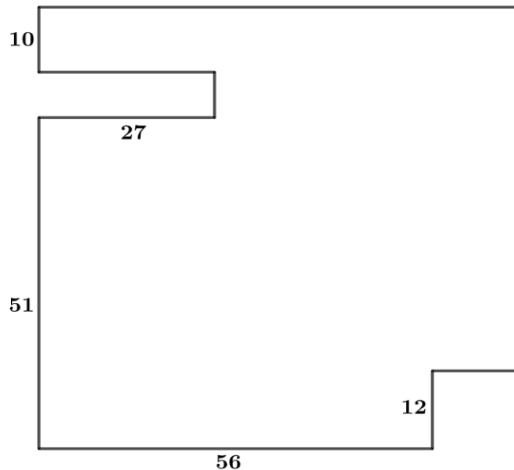
Hoje é sexta-feira e Ana está no escritório; assim, a *penúltima vez* em que ela esteve lá, foi uma

- (A) segunda-feira.
- (B) terça-feira.
- (C) quarta-feira.
- (D) quinta-feira.
- (E) sexta-feira.

18

De uma placa quadrada de madeira, foram recortados e, em seguida, descartados dois pedaços: o primeiro, em forma de um quadrado de lado 12 dm; o outro, em forma de retângulo, tendo comprimento igual a 27 dm.

A imagem a seguir ilustra o aspecto da placa após os descartes. Nela, estão indicadas as medidas, em decímetros, de alguns dos segmentos.



O menor lado do retângulo recortado dessa placa mede

- (A) 11 dm.  
 (B) 10 dm.  
 (C) 9 dm.  
 (D) 8 dm.  
 (E) 7 dm.

## Noções de Informática

19

No contexto dos sistemas operacionais Microsoft Windows, o Painel de Controle é uma área central para gerenciar as configurações do sistema, opções de personalização e outros.

Considerando as versões superiores ao Windows 7, assinale a opção que **não** indica uma funcionalidade encontrada no painel de controle.

- (A) *Backup* e Restauração.  
 (B) Relógio e Região.  
 (C) *Hardware* e Sons.  
 (D) Contas de Usuário.  
 (E) Configuração de Registro Avançadas.

20





Nos sistemas operacionais Microsoft Windows 10, o recurso "Executar" permite aos usuários abrir rapidamente programas, pastas, documentos e recursos do sistema, ao digitar o caminho completo ou o nome do item.

Assinale a opção que apresenta a combinação de teclas usada para abrir a caixa de diálogo "Executar".

- (A) Windows + E  
 (B) Windows + I  
 (C) Windows + K  
 (D) Windows + L  
 (E) Windows + R

21

No contexto das interfaces para vídeo, relacione as portas às suas respectivas tecnologias.

1 	2 	( ) HDMI
3 	4 	( ) DVI
		( ) VGA
		( ) DisplayPort

Assinale a opção que indica a relação correta, segundo a ordem apresentada.

- (A) 2 – 3 – 1 – 4.  
 (B) 2 – 4 – 1 – 3.  
 (C) 3 – 2 – 1 – 4.  
 (D) 3 – 1 – 4 – 2.  
 (E) 4 – 2 – 3 – 1.

22

Sobre a inserção de tabelas no Microsoft Word 2019 em português, analise as afirmativas a seguir.

- I. As tabelas admitem diferentes estilos de borda, cores de preenchimento e fontes, para melhorar sua apresentação visual.
- II. Ao inserir uma tabela, é possível definir o número de linhas e colunas antes de criá-la, no entanto, não é possível alterar a estrutura após a inserção.
- III. As tabelas podem ser inseridas apenas no início de um documento e não podem ser movidas para outras partes do texto.

Está correto o que se afirma em

- (A) I, apenas.  
 (B) I e II, apenas.  
 (C) II e III, apenas.  
 (D) I e III, apenas.  
 (E) I, II e III.

23

Em uma planilha Microsoft Excel 2019 em português do Brasil, há um conjunto de dados com vendas listadas na coluna B.

Por meio da funcionalidade de Formatação Condicional, a seguinte função pode ser usada para destacar os 10% dos principais valores de vendas com preenchimento verde:

- (A) PERCENTIL.  
 (B) MAXIMO.  
 (C) SOMASES.  
 (D) CONT.SE.  
 (E) ABS.

24

Em uma pequena empresa, durante uma tentativa de realizar uma manutenção de rotina nos servidores ao final do expediente, José, um funcionário recém-contratado, com pouca experiência em TI, desliga um servidor que está rodando um serviço de DHCP. No dia seguinte, os usuários começam a reportar problemas.

Considerando que todas as estações de trabalho com sistema operacional Windows estavam utilizando o servidor DHCP, assinale a opção que indica o que os usuários reportaram.

- (A) As estações de trabalho não estão ligando, pois dependem do servidor DHCP.
- (B) Havia lentidão na conexão com a internet.
- (C) Perda de acesso à internet, enquanto o acesso à rede local entre as estações de trabalho permaneceu possível.
- (D) Interrupção do serviço de *e-mail*; os demais serviços funcionavam.
- (E) Impressão em rede local não funcionava, mas a internet estava acessível.

25

Os ataques de negação de serviço distribuídos, conhecidos como DDoS, representam uma ameaça significativa para a segurança da internet.

Com base nesse contexto, assinale a afirmativa **incorreta**.

- (A) Em um ataque DDoS, os atacantes usam uma rede de computadores comprometidos, conhecidos como botnets.
- (B) Os ataques DDoS geralmente visam comprometer os dados, tornando-os inacessíveis, mesmo para usuários autorizados.
- (C) Os ataques DDoS podem causar interrupções significativas nos serviços *online*.
- (D) Embora não seja usual, ataques DDoS já foram feitos a partir de dispositivos IoT comprometidos, como câmeras de segurança.
- (E) Os ataques de DDoS podem ter como alvo vários recursos de rede, incluindo servidores web, jogos *online* e infraestrutura de nuvem.

26

No contexto da computação em nuvem e seus serviços, assinale a opção que corresponde ao conceito de **elasticidade**.

- (A) A capacidade de expandir ou reduzir dinamicamente seus recursos de acordo com a demanda.
- (B) A flexibilidade de implementação de serviços.
- (C) A capacidade de uma nuvem de suportar múltiplos usuários, simultaneamente.
- (D) A velocidade da conexão entre a nuvem e os dispositivos do usuário.
- (E) A confiabilidade dos serviços oferecidos pelo provedor de computação em nuvem.

## História e Geografia do Estado de Tocantins

27



As bonecas Ritxoko são figuras de cerâmica confeccionadas por mulheres indígenas da etnia Karajá, do estado do Tocantins. Feitas a partir da mistura de argila e água, as peças representam tanto a forma humana e seus ciclos de vida quanto elementos da fauna e do sobrenatural. A pigmentação vermelha é extraída do urucum, enquanto a preta é retirada de uma árvore chamada ixarurina. As bonecas são usadas como instrumentos de socialização das crianças que se veem nesses objetos e aprendem a ser Karajá, recebendo ensinamentos e aprendendo as técnicas e saberes associados à sua confecção e usos. A pintura e a decoração das cerâmicas estão associadas à pintura corporal dos Karajá e às peças de vestuário e adorno.

Adaptado de <https://www.gov.br/funai>

Com base no trecho, é correto afirmar que as bonecas Ritxoko são um patrimônio

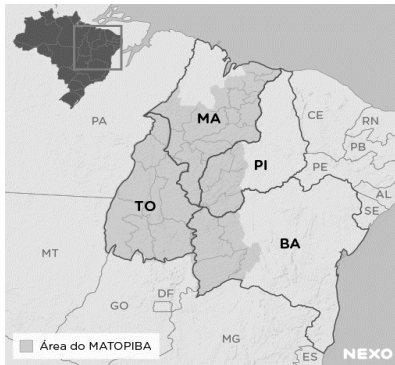
- (A) da humanidade, uma vez que constituem bens culturais e naturais significativos para todas as culturas, sendo contempladas como referência estética para todos os povos.
- (B) histórico nacional, pois exemplificam a riqueza dos modos de fazer e das formas de expressão que envolvem a tradição dos Karajás no Brasil.
- (C) cultural brasileiro, uma vez que são consideradas representações culturais com significados sociais e identitários profundos.
- (D) imaterial mundial, já que sua feitura envolve processos abstratos criativos de elaboração e variação de formas e grafismos.
- (E) material tocantinense, por expressar a arte, a memória e a identidade das comunidades indígenas da Ilha do Bananal, no Tocantins.

28

O Estado do Tocantins situa-se em uma zona de transição que apresenta dois tipos de vegetação: a Floresta Ombrófila e a Savana, pertencentes, respectivamente, aos biomas

- (A) Amazônia e Cerrado.
- (B) Mata Atlântica e Pampa.
- (C) Caatinga e Mata Atlântica.
- (D) Amazônia e Caatinga.
- (E) Cerrado e Pantanal.

29



A área do MATOPIBA caracteriza-se pela baixo preço das terras e pela uniformidade do clima, do solo e do relevo, que facilitam a mecanização agrícola e tem atraído cada vez mais agricultores.

A respeito do MATOPIBA, analise as afirmativas a seguir.

- I. É uma região de transição entre o Cerrado e o Semiárido, com condições favoráveis para a agricultura: áreas planas e extensas, solos de alto potencial produtivo, disponibilidade de água, clima favorável com elevada intensidade de sol.
- II. É um grande produtor de *commodities*, com uso intenso de tecnologia (máquinas, colheitadeiras, insumos) e uso reduzido do fator trabalho, assim sendo, o crescimento do produto interno bruto (PIB) aumenta com velocidade, mas a geração de riqueza não é acompanhada, proporcionalmente, por uma melhora na distribuição de renda.
- III. É o maior produtor nacional de soja, pois concentra 90% da área de plantio, sendo também a região com o maior índice de produtividade sustentável de grãos, em função da colaboração do setor do agronegócio com a preservação das unidades de conservação locais.

Está correto o que se afirma em

- (A) I, apenas.
- (B) II, apenas.
- (C) III, apenas.
- (D) I e II, apenas.
- (E) II e III, apenas.

30

Sobre a formação histórica do território que hoje corresponde ao Estado do Tocantins, assinale a afirmativa que descreve corretamente o processo de desbravamento e ocupação da região no Período Colonial.

- (A) No final do século XVI, os primeiros a encontrar a foz do rio Tocantins junto ao Amazonas foram os espanhóis, então instalados no Maranhão para expulsar colonos franceses que haviam fundado a França equinocial.
- (B) Na primeira metade do século XVIII, a bandeira de Bartolomeu Bueno da Silva Filho descobriu ouro nas cabeceiras do rio Vermelho e fundou o Arraial de Sant'Anna, às margens do rio.
- (C) Nos anos de 1730-40 foi encontrado ouro no norte de Goiás, incentivando a fundação de cidades sob a jurisdição de Salvador, como Natividade, Almas, Chapada, Pontal e Porto Real, entre outras.
- (D) O declínio da mineração se acentuou na passagem do século XVIII para o XIX, agravado pela instituição de um novo imposto (capitação), cobrado proporcionalmente ao número de escravos de cada minerador.
- (E) Na segunda década do século XIX, em decorrência da crise da mineração, a região estava em uma situação de abandono, como relatado por Theotônio Segurado, futuro Governador da Capitania do Norte.

## CONHECIMENTOS ESPECÍFICOS

31

Leia o texto a seguir, extraído da *Brasileana Fotográfica*.

*Não teria eu iniciado a arte mais do que maravilhosa de desenhar qualquer objeto, sem dar-me ao trabalho de o fazer com a própria mão? A indagação (...) referia-se às suas pesquisas e aos experimentos no campo da fotografia, que o haviam levado a inventar, ele também e no Brasil, um processo de criação fotográfica.*


(<https://brasilianafotografica.bn.gov.br/?p=1243>)

O realizador de um dos mais antigos registros fotográficos existentes no continente americano – feito na vila de São Carlos, atual Campinas, no Estado de São Paulo foi

- (A) Marc Ferrez.
- (B) D. Pedro II.
- (C) Hercules Florence.
- (D) Georges Leuzinger.
- (E) Franz Keller.

32

Observe a imagem a seguir, que é icônica no processo de surgimento da fotografia.



Sobre ela, é correto afirmar que se trata de(o)

- (A) uma heliografia, feita por Joseph Nicéphore Niépce, em 1826.
- (B) um daguerreótipo, apresentado a Academia de Ciências Francesa, em 1839.
- (C) uma calotíпия, feita na Inglaterra, por Fox Talbot, em 1841.
- (D) primeiro daguerreótipo feito no Brasil, pelo Abade Comte, em 1840.
- (E) uma litografia, feita por Frederick Scott Archer, e patenteada em 1819.

33

Sobre a imagem a seguir.



Sobre a imagem, o mais antigo registro de uma fotografia colorida, assinale a afirmativa correta.

- (A) Foi feita com o primeiro filme colorido, desenvolvido pela Kodak.
- (B) É atribuída a James Clerk Maxwell e foi obtida pelo por meio de um método de separação em três cores.
- (C) A imagem obtida, apesar de fiel às cores originais, desapareceu rapidamente.
- (D) É atribuída aos Irmãos Lumière que, alguns anos depois, inventariam o cinema.
- (E) Para fazê-la, Hermann Vogel usou um processo experimental de sensibilização por corantes em placas de colódio.

34

A *velocidade do obturador* é um dos três pilares do triângulo de exposição da fotografia.

A ele, se somam

- (A) o fotômetro e os sistemas de focalização.
- (B) a distância focal da objetiva e a abertura do diafragma.
- (C) o ISO e os sistemas de focalização.
- (D) a distância focal da objetiva e o fotômetro.
- (E) a abertura do diafragma e o ISO.

35

Observe a imagem abaixo, disponível no Pinterest.



A imagem ilustra a técnica conhecida como

- (A) *Panning*.
- (B) *Zooming*.
- (C) Pouca profundidade de campo.
- (D) Movimento borrado.
- (E) Espiral.

36

Ao fim do processamento de um filme em preto e branco, ao retirar o negativo do tanque, percebeu-se que todas as imagens estavam muito claras, excessivamente transparentes.

Diante desse resultado, muito possivelmente, o autor desse erro é

- (A) o fotógrafo, que super expôs todas as suas fotos.
- (B) o laboratorista, que deixou o filme por tempo demais no branqueador.
- (C) o laboratorista, que expôs o filme à luz vermelha no processo de transferência da bobina para a espiral de revelação.
- (D) o laboratorista, que deixou o filme menos tempo que o necessário no revelador.
- (E) o fotógrafo, que abriu a câmera em local iluminado antes de rebobinar completamente o filme.

37

No processo analógico de ampliação de cópias em preto e branco, o papel fotográfico já exposto deverá passar pela parte úmida do laboratório.

Assinale a opção que apresenta, corretamente, a ordem de processamento.

- (A) Lavagem, revelação, interrupção e branqueamento.
- (B) Branqueamento, interrupção, revelação e fixação.
- (C) Revelação, interrupção, fixação e lavagem.
- (D) Revelação, fixação, branqueamento e lavagem.
- (E) Fixação, revelação, interrupção e branqueamento.

38

Sobre as diferenças entre o *ruído* e a *granulação*, analise as afirmativas a seguir.

- I. A granulação ocorre na fotografia analógica feita com filmes de baixa sensibilidade, enquanto o ruído ocorre no uso de filmes de alta sensibilidade.
- II. A granulação depende do filme fotográfico e não da câmera analógica, enquanto o ruído da fotografia digital depende da câmera utilizada.
- III. O fator determinante do ruído na fotografia analógica é o ISO, enquanto na digital ele é determinado exclusivamente pelo tamanho do sensor da câmera.

Está correto o que se afirma em

- (A) I, apenas.
- (B) II, apenas.
- (C) III, apenas.
- (D) II e III, apenas.
- (E) I, II e III.

39

A partir de uma referência ao tamanho de um fotograma na fotografia analógica, câmeras como a Canon EOS 1DX Mark III ou a Nikon D850 são DSLRs com um sensor conhecido como *full-frame*, o que significa que ele deve ter

- (A) 22 x 15mm.
- (B) 40,96 x 21,6mm.
- (C) 5,76 x 4,29mm.
- (D) 24 x 36mm.
- (E) 23,6 x 15,6mm.

40

Observe a imagem a seguir.



A objetiva apresentada na imagem acima é identificada como

- (A) *fish-eye*.
- (B) *tilt-shift*.
- (C) *zoom*.
- (D) catadióptrica.
- (E) micro.

41

Observe a imagem a seguir.



Sobre esse tipo de objetiva, assinale a afirmativa correta.

- (A) Por permitir a focagem de objetos posicionados muito próximos da câmera, é adequada à fotografia científica.
- (B) Devido à sua capacidade de aproximação do que está longe, é ideal para a cobertura de eventos esportivos.
- (C) Devido à sua baixa luminosidade, pode ser usada exclusivamente em ambientes muito iluminados.
- (D) Devido ao seu ângulo de visão aberto, é ideal para fotografar ambientes pequenos.
- (E) Por ter distância focal variável, é uma das objetivas mais versáteis do mercado.

42

Observe a imagem a seguir realizada pelo fotojornalista Wilton Junior e vencedora de vários prêmios, entre eles o Esso de Fotografia.

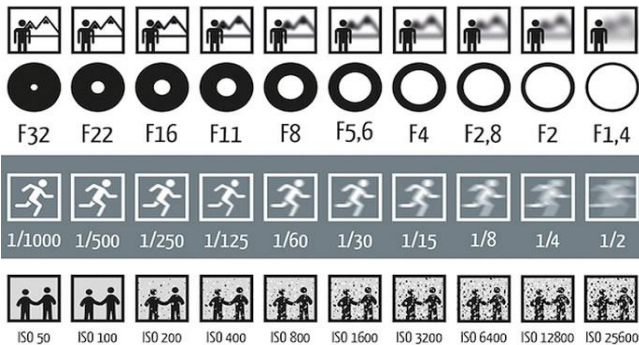


Pelas características técnicas da fotografia é correto afirmar que ela foi feita com uma

- (A) objetiva *Fish-eye*.
- (B) objetiva normal.
- (C) objetiva grande angular.
- (D) teleobjetiva.
- (E) objetiva macro.

43

Observe a figura a seguir.



Ao cobrir uma partida de futebol, um fotojornalista partiu de uma primeira medição correta com as seguintes marcações: ISO – 400, F:22 e 1/15.

De acordo com o Princípio da Reciprocidade, e com base na figura acima, sem qualquer alteração da luz ambiente, da objetiva, nem do ISO, a nova medição mais adequada para produzir o efeito de congelado no movimento dos jogadores seria

- (A) F: 1,4 e 1/500.
- (B) F: 16 e 1/250.
- (C) F: 8 e 1/1000.
- (D) F: 4 e 1/500.
- (E) F: 2,8 e 1/250.

44

O efeito da profundidade de campo em uma imagem fotográfica costuma ser determinado por três fatores, a saber:

1. a abertura do diafragma.
2. a distância focal da objetiva.
3. a distância entre a câmera e o ponto de foco.

Desse modo, se o objetivo do fotógrafo é obter o máximo de profundidade de campo, ele deve usar

- (A) uma objetiva normal, diafragma fechado e se aproximar do ponto de foco.
- (B) uma objetiva meia-tele, diafragma mediano e se aproximar do ponto de foco.
- (C) uma teleobjetiva, diafragma aberto e se afastar do ponto de foco.
- (D) uma objetiva angular, diafragma aberto e se aproximar do ponto de foco.
- (E) uma objetiva grande angular, diafragma fechado e se afastar do ponto de foco.

45

Analise a imagem a seguir.



Sobre essa imagem, é correto afirmar que se trata de uma foto

- (A) com muita profundidade de campo, feita possivelmente com um diafragma aberto.
- (B) com erro de focalização, pois o ambiente no plano de fundo está embaçado.
- (C) com pouca profundidade de campo, feita possivelmente com diafragma aberto.
- (D) com efeito de *panning* gerado a partir do uso do obturador em velocidade baixa.
- (E) com efeito de movimento borrado, gerado a partir do uso de obturador em velocidade alta.

46

As opções a seguir apresentam informações que podem ser obtidas a partir da observação da imagem abaixo, à exceção de uma. Assinale-a.



- (A) A fotometragem deve ser feita pelo fotógrafo, pois a câmera está em modo manual.
- (B) O arquivo da imagem captada será em formato RAW, com dados não compactados.
- (C) AWB refere-se ao balanço de branco, controle disponível apenas nas câmeras digitais.
- (D) A configuração do obturador seria inadequada para congelar um carro de Fórmula 1 em movimento em uma corrida.
- (E) O modo de fotometragem é o *spot*, sendo o mais preciso para um único ponto da imagem.

47

Suponha que você esteja fotografando ao ar livre, às 11h de um dia ensolarado, com *white-balance* de sua DSLR ajustado manualmente para 5500K.

Durante o seu ensaio fotográfico, muitas nuvens foram surgindo e o céu ficou completamente encoberto. Caso, você não faça o ajuste correto para a nova temperatura de cor, sua foto ficará

- (A) com uma tonalidade mais quente, próxima de laranja, pois a temperatura de cor do céu nublado é inferior a 5500k.
- (B) super-exposta, pois a temperatura de cor do céu nublado é superior a 5500k.
- (C) com uma tonalidade mais fria, próxima de azul, pois a temperatura de cor do céu nublado é superior a 5500k.
- (D) sub-exposta, pois a temperatura de cor do céu nublado é inferior a 5500k.
- (E) com uma tonalidade mais fria, próxima de azul, pois a temperatura de cor do céu nublado é inferior a 5500k.

48

O Instituto Moreira Salles (IMS), que vem investindo no foto-jornalismo em seu acervo, realizou, recentemente, duas exposições, que passaram por algumas capitais do país. Essas exposições divulgavam o trabalho de dois ícones desse gênero da fotografia. As imagens a seguir fazem parte dessas exposições.

Imagem 1



Imagem 2



Elas pertencem, respectivamente, ao acervo das exposições de

- (A) Walter Firmo e Evandro Teixeira.
- (B) Evandro Teixeira e José Medeiros.
- (C) José Medeiros e Custódio Coimbra.
- (D) Custódio Coimbra e Luciano Carneiro.
- (E) Luciano Carneiro e Walter Firmo.



49

Leia o trecho a seguir.

*Philippe Dubois traçou um percurso histórico das diversas posições adotadas perante a fotografia por teóricos, literatos e fotógrafos em seu livro "O ato fotográfico" (1994). Há autores que consideram a fotografia um autêntico "espelho do real"; outros, a "transformação do real"; e, outros, ainda, "traço de um real".*

(BUITONI, 2012)

Sobre esses três pontos de vista, analise as afirmativas a seguir.

- I. Os que defendem a fotografia como espelho do real têm uma visão ingênua ao acreditar que ela é uma cópia objetiva do real, a partir de um efeito de realidade atribuído à semelhança existente entre a foto e seu referente.
- II. Os que entendem a fotografia como transformação do real, além de criticarem a perspectiva do espelho, defendem que a fotografia é um instrumento de transposição, análise, interpretação e até de transformação do real, envolvendo códigos culturais.
- III. Os que propõem que a fotografia é um traço de um real consideram que, apesar dos códigos e das ideologias, há uma singularidade que a diferencia de outros modos de representação: uma contiguidade física do signo com seu referente.

Está correto o que se afirma em

- (A) I, apenas.
- (B) II, apenas.
- (C) III, apenas.
- (D) I e III, apenas.
- (E) I, II e III.

50

Roland Barthes é um dos semiólogos que se dedicaram ao entendimento da essência da fotografia. Em um de seus escritos, ele, na posição de *Spectator*, destaca dois elementos que fundam a observação de uma imagem fotográfica. O primeiro remete a um campo que se liga ao saber e à cultura pessoal; o segundo é aquilo que o toca diretamente, ligado ao acaso, sem qualquer interferência cultural.

Sobre o segundo elemento, ele acrescenta "*é também picada, pequeno buraco, pequena mancha, pequeno corte – e também lance de dados. (...) é esse acaso que, na foto, me punge (mas também me mortifica, me fere).*"

(BARTHES, 2012, adaptado).

Esse segundo elemento denomina-se

- (A) *Punctum*.
- (B) *Studium*.
- (C) Noema.
- (D) *Spectrum*.
- (E) *Operator*.

## PRINCÍPIOS DA ADMINISTRAÇÃO PÚBLICA

51

A Administração Direta é composta por órgãos e entidades que fazem parte da estrutura do Estado e operam diretamente sob a autoridade do poder público. Em contrapartida, a Administração Indireta inclui entidades com personalidade jurídica própria, mas vinculadas ao Estado. Enquanto a Administração Direta executa diretamente políticas públicas, a Indireta opera de forma mais especializada, muitas vezes em atividades empresariais.

Assinale a opção que indica a entidade dotada de personalidade jurídica de direito privado, com patrimônio próprio e capital exclusivo da União, criado por lei para a exploração de atividade econômica.

- (A) Autarquia.
- (B) Empresa pública.
- (C) Fundação pública.
- (D) Organização social.
- (E) Sociedade de economia mista.

52

A educação, a saúde, a alimentação, o trabalho, a moradia, o transporte, o lazer, a segurança, a previdência social, a proteção à maternidade e à infância, a assistência aos desamparados, na forma desta Constituição, são direitos sociais.

Assinale a opção que indica, corretamente, o direito devido ao brasileiro em situação de vulnerabilidade social.

- (A) Benefício de prestação continuada.
- (B) Fundo de garantia do tempo de serviço.
- (C) Seguro-desemprego.
- (D) Renda básica familiar.
- (E) Repouso semanal remunerado.

53

A Lei de Acesso à Informação (Lei nº 12.527/2011) garante ao cidadão o direito de obter informações públicas, promovendo a transparência e a *accountability* no setor público.

Assinale a opção que apresenta a *qualidade da informação* que pode ser conhecida e utilizada por indivíduos, equipamentos ou sistemas autorizados.

- (A) Integridade.
- (B) Autenticidade.
- (C) Transparência.
- (D) Primariedade.
- (E) Disponibilidade.

54

A Lei Geral de Proteção de Dados Pessoais (Lei nº 13.709/2018) estabelece regras para o tratamento de dados pessoais por parte de empresas e organizações, visando proteger a privacidade e os direitos dos cidadãos.

Assinale, entre as opções a seguir, a que apresenta um fundamento da disciplina da proteção de dados pessoais.

- (A) Anonimização.
- (B) Consentimento.
- (C) Não discriminação.
- (D) Uso compartilhado de dados.
- (E) Liberdade de expressão.

55

De acordo com a Lei nº 14.133/2021, conhecida como Nova Lei de Licitações e Contratos Administrativos, o processo licitatório visa prevenir contratações com sobrepreço, preços manifestamente inexequíveis e superfaturamento na execução dos contratos.

Com relação aos casos de superfaturamento em que há dano provocado ao patrimônio da Administração, analise as afirmativas a seguir.

- I. Medição de quantidades superiores às efetivamente executadas ou fornecidas.
- II. Alterações no orçamento de obras e de serviços de engenharia que causem desequilíbrio econômico-financeiro do contrato em favor do contratante.
- III. Deficiência na execução de obras e de serviços de engenharia que resultem em diminuição da sua qualidade, vida útil ou insegurança.

Está correto o que se afirma em

- (A) I, apenas.
- (B) I e II, apenas.
- (C) I e III, apenas.
- (D) II e III, apenas.
- (E) I, II e III.

## LEGISLAÇÃO INSTITUCIONAL

56

João, eleito Deputado Estadual, foi diplomado, mas ainda não tomou posse.

À luz da Constituição do Estado do Tocantins, João não poderá

- (A) exercer cargo em uma empresa concessionária de serviço público.
- (B) ser diretor de uma empresa que goze de favor decorrente de contrato com pessoa jurídica de direito público.
- (C) patrocinar uma causa em que seja interessada uma autarquia.
- (D) manter contrato com uma pessoa jurídica de direito privado.
- (E) ser titular de mais de um cargo ou de mandato público eletivo.

57

Considerando o que dispõe o Regimento Interno da Assembleia Legislativa de Tocantins a respeito das Comissões, assinale a afirmativa correta.

- (A) A Comissão de Constituição, Justiça e Redação tem poderes de investigação próprios das autoridades judiciais.
- (B) As Comissões Especiais não podem ser constituídas para investigação sumária de fato determinado.
- (C) À Comissão de Segurança Pública compete analisar questões ligadas à violência urbana e rural.
- (D) As Comissões de Representação devem ser aprovadas pela maioria absoluta do Plenário da Assembleia.
- (E) A Comissão Parlamentar de Inquérito poderá deslocar-se para qualquer ponto do território estadual para a realização de investigações e audiências públicas.

58

Joaquim é servidor estadual estável, detentor de cargo efetivo e aposentado voluntariamente. Depois de dois anos de sua aposentadoria, Joaquim manifestou interesse, perante a Administração, de retornar à atividade em que era estável.

Caso haja cargo vago disponível, conforme a Lei nº 1818/2017, que dispõe sobre o Estatuto dos Servidores Públicos Cíveis do Estado do Tocantins, assinale a modalidade de provimento adequada ao caso.

- (A) Aproveitamento.
- (B) Reversão.
- (C) Readaptação.
- (D) Reintegração.
- (E) Recondição.

59

Luiz, servidor público efetivo, encontra-se em estágio probatório e, nesse período, tem sido submetido a Avaliações Especiais de Desempenho.

Nos termos da Lei nº 4.208/2023, que cuida do plano de cargos, carreiras e remuneração dos Servidores da Assembleia Legislativa de Tocantins, assinale a afirmativa correta.

- (A) A Avaliação Especial de Desempenho dá-se em três etapas, que tem por base o acompanhamento trimestral do servidor.
- (B) O resultado da avaliação será levado ao conhecimento do avaliado e arquivado em caráter público.
- (C) O servidor, para ser aprovado, deverá obter média igual ou superior a 60% (sessenta por cento) dos pontos possíveis nas Avaliações Especiais de Desempenho.
- (D) O servidor, caso aprovado no estágio probatório, será imediatamente elevado para a classe seguinte do padrão inicial do seu cargo.
- (E) O servidor deve ser avaliado pelo chefe imediato.

60

Levando em conta a estrutura administrativa da Assembleia Legislativa de Tocantins e dos órgãos de assistência à Presidência da Assembleia, de acordo com a Lei nº 4.209/2023, a competência para encaminhar as denúncias recebidas ao Tribunal de Contas do Estado, à Polícia Civil, ao Ministério Público, ou a outro órgão competente, é da

- (A) Procuradoria-Geral.
- (B) Controladoria Interna.
- (C) Diretoria de Polícia Legislativa.
- (D) Assessoria Jurídica da Presidência.
- (E) Ouvidoria Geral da Assembleia Legislativa.



# ASSEMBLEIA LEGISLATIVA DO ESTADO DO TOCANTINS

CONCURSO PÚBLICO – EDITAL Nº 01/2023

## PROVA OBJETIVA – MANHÃ

### TÉCNICO LEGISLATIVO TÉCNICO EM ÁUDIO

NÍVEL MÉDIO – TIPO 1 – BRANCA



#### SUA PROVA

- Além deste caderno contendo **60 (sessenta)** questões objetivas, você receberá do fiscal de prova o cartão de respostas;
- As questões objetivas têm **5 (cinco)** opções de resposta (A, B, C, D) e somente uma delas está correta.



#### TEMPO

- Você dispõe de **4 (quatro) horas** para a realização da prova, já incluído o tempo para a marcação do cartão de respostas;
- **3 (três) horas** após o início da prova, é possível retirar-se da sala, sem levar o caderno de questões;
- A partir dos **30 (trinta) minutos** anteriores ao término da prova é possível retirar-se da sala **levando o caderno de questões**.



#### NÃO SERÁ PERMITIDO

- Qualquer tipo de comunicação entre os candidatos durante a aplicação da prova;
- Anotar informações relativas às respostas em qualquer outro meio que não seja o caderno de questões;
- Levantar da cadeira sem autorização do fiscal de sala;
- Usar o sanitário ao término da prova, após deixar a sala.



#### INFORMAÇÕES GERAIS

- Verifique se seu caderno de questões está completo, sem repetição de questões ou falhas. Caso contrário, **notifique imediatamente o fiscal da sala**, para que sejam tomadas as devidas providências;
- Confira seus dados pessoais, especialmente nome, número de inscrição e documento de identidade e leia atentamente as instruções para preencher o cartão de respostas;
- Para o preenchimento do cartão de respostas, use somente caneta esferográfica, fabricada em material transparente, com tinta preta ou azul;
- Assine seu nome apenas no(s) espaço(s) reservado(s) no cartão de respostas;
- Confira seu cargo, cor e tipo do caderno de questões. Caso tenha recebido caderno de cargo ou cor ou tipo **diferente** do impresso em seu cartão de respostas, o fiscal deve ser **obrigatoriamente** informado para o devido registro na ata da sala;
- Reserve tempo suficiente para o preenchimento do seu cartão de respostas. O preenchimento é de sua responsabilidade e **não será permitida a troca do cartão de respostas em caso de erro cometido pelo candidato**;
- Para fins de avaliação, serão levadas em consideração apenas as marcações realizadas no cartão de respostas;
- A FGV coletará as impressões digitais dos candidatos na lista de presença;
- Os candidatos serão submetidos ao sistema de detecção de metais quando do ingresso e da saída de sanitários durante a realização das provas.
- **Boa prova!**

## CONHECIMENTOS BÁSICOS

### Língua Portuguesa

1

Leia o seguinte texto de um jornal de outros tempos:

*“Mudança nas moedas. A partir de junho começam a entrar em circulação as moedas de Cr\$100 e Cr\$500 substituindo as cédulas que trazem estampadas a poetisa Cecília Meireles e o naturalista Augusto Ruschi, respectivamente. O lançamento das moedas foi aprovado na reunião de ontem do Conselho Monetário Nacional, colocando fim à família de notas criadas no governo Sarney, sob a égide dos cruzados novos.”*

Sobre esse fragmento textual, analise as observações a seguir, feitas por um estudioso de nossa Língua, e assinale a correta.

- (A) “Começam a entrar em circulação” é bastante estranho, porque as moedas, pequenas que são e de pequeno valor, “entram” logo.
- (B) “trazem estampadas a poetisa Cecília Meireles e o naturalista Augusto Ruschi”, mas eu pensava que as moedas trazem estampadas as efígies de Fulano ou Beltrano.
- (C) “colocando fim à família” mostra o emprego inadequado de “colocar” em lugar de “pôr”.
- (D) “criadas”, por questão de clareza e precisão, devia ser substituído por “lançadas” ou “emitidas”.
- (E) “sob”, por questão de correção gramatical, deve ser substituído por “sobre”.

2

Leia o fragmento a seguir.

*“Não somos daqueles que só em meio aos livros, estimulados por livros vêm a ter pensamentos – é nosso hábito pensar ao ar livre, andando, saltando, escalando, dançando, preferivelmente em montes solitários ou próximos ao mar, onde mesmo as trilhas se tornam pensativas.”* (Nietzsche, filósofo alemão).

Sobre o significado desse fragmento, assinale a afirmativa correta.

- (A) A leitura é importante para a criação de ideias originais.
- (B) As formas de gerúndio mostram a evolução cronológica das ações narradas pelo escritor.
- (C) O pronome relativo “onde” refere-se a locais ao ar livre.
- (D) A forma do verbo “tornar-se”, como verbo de ligação, indica um estado transitório.
- (E) Os ambientes solitários propiciam reflexões de valor.

3

As citações a seguir são compostas por dois segmentos; assinale a opção em que a relação lógica indicada pelo segundo segmento está correta.

- (A) Dize-me o que crês ser / e te direi o que não és. – relação de oposição.
- (B) Quem crê é forte / quem duvida é fraco. – relação de conclusão.
- (C) Seja lá por que um homem reza, / ele reza por um milagre. – relação de explicação.
- (D) Não adianta esperar que o navio chegue / se você não o mandou para lugar nenhum. – relação de causa.
- (E) Pense como um homem de ação / e aja como um pensador. – relação de conclusão.

4

Os textos a seguir mostram elementos de coesão em relação ao termo sublinhado; assinale a opção em que todos os termos seguintes, em coesão com ele, estão indicados.

- (A) Geralmente, entre nossos motivos de agir, há um mais forte que os demais: aquele que não é declarado. – *um, os demais, aquele, que.*
- (B) O que empobrece o homem não são seus atos, mas os desejos que ele possui. – *ele.*
- (C) O dinheiro, recebem-no todos os que trabalham e o perdem todos os irresponsáveis. – *no, que, o.*
- (D) Qual pode ser a vida que começa pelos gritos da mãe, que a dá, e o choro do filho que a recebe? – *que, que, a.*
- (E) Meu filho! Deus te enviou a este mundo. Cultiva-o e não te apresses em sair dele. – *o.*

5

As frases a seguir mostram termos repetidos; assinale a opção que apresenta a frase em que o significado dos dois termos não é o mesmo.

- (A) Morrer é mudar de corpo como o ator muda de roupa.
- (B) Janeiro é o mês que se fazem bons votos aos amigos; os outros são os meses em que esses votos não se concretizam.
- (C) Quem tempo espera, muito tempo consome.
- (D) A falsidade da História é tão velha como a própria História.
- (E) Viva todos os dias como se fosse o último. Um dia você acerta.

6

As opções a seguir mostram, corretamente, a substituição da forma sublinhada, composta de não + verbo, por um só verbo, de sentido equivalente, à exceção de uma. Assinale-a.

- (A) Os países da OTAN pediram que o exército russo não avançasse esta semana. / *parasse.*
- (B) O deputado informou que não dispunha de tempo para redigir uma nova versão do projeto. / *carecia.*
- (C) O Presidente não aceitou o convite para visitar a Alemanha. / *declinou do.*
- (D) Não abriu as portas do museu para evitar a curiosidade do público. / *fechou.*
- (E) Por seus futuros compromissos, preferia não gastar dinheiro / *economizar.*

7

As frases a seguir mostram uma locução adjetiva introduzida pela preposição sem; assinale a opção em que a substituição dessa locução por um adjetivo de valor equivalente foi feita de forma adequada.

- (A) Cartas sem autoria declarada são sempre mal recebidas / desautorizadas.
- (B) Os poços sem água são de pouca serventia para a lavoura / áridos.
- (C) Foram deixados muitos problemas sem solução / insolúveis.
- (D) O governo tomou muitas atitudes sem nexos / desconexas.
- (E) Com os fogos de artifício, o campo ficou sem visão / invisível.

8

Assinale a opção que apresenta a frase em que houve **erro** de concordância da palavra sublinhada.

- (A) O presidente fez questão de deixar bem claras as suas intenções.
- (B) O STF qualificou de antidemocrático aqueles atos.
- (C) O governo chinês torna visíveis os erros das ditaduras.
- (D) Os enfermeiros tiveram reconhecidos os direitos de greve.
- (E) Tomei emprestados à biblioteca vários livros.

9

As perguntas a seguir apresentam o pronome pessoal oblíquo em ênclise (após o verbo); assinale a que mostra formulação **incorreta**, porque só admite próclise.

- (A) Os dois bandidos evadiram-se do presídio em Mossoró?
- (B) Onde podemos vê-los?
- (C) Eles dedicar-se-iam às tarefas com prazer.
- (D) Numa entrevista como esta, isto pergunta-se?
- (E) Quem dir-me-á tantas barbaridades, senão ele?

10

Assinale a opção que apresenta as duas palavras que devem ser grafadas com **es** e não com **ex**.

- (A) Excremento / expurgo.
- (B) Excusar / expontâneo.
- (C) Excomungar / expressar.
- (D) Extirpar / extorquir.
- (E) Exterminar / extremoso.

## Raciocínio Lógico Matemático

11

Dois números diferentes serão escolhidos ao acaso entre os elementos do conjunto {5,7,9,11,14}.

A soma dos números escolhidos

- (A) certamente é ímpar.
- (B) certamente é par.
- (C) pode ser 26.
- (D) pode ser 18.
- (E) pode ser menor que 12.

12

Em um jogo, duas fichas azuis têm o mesmo valor de cinco fichas vermelhas e uma ficha preta vale o mesmo que três fichas azuis.

Assim, duas fichas pretas equivalem a

- (A) sete fichas vermelhas.
- (B) oito fichas vermelhas.
- (C) nove fichas vermelhas.
- (D) doze fichas vermelhas.
- (E) quinze fichas vermelhas.

13

Sabe-se que 20% de  $N$  é igual a 13,4. Logo, 90% de  $N$  é igual a

- (A) 59,6.
- (B) 60,3.
- (C) 61,2.
- (D) 62,5.
- (E) 63,2.

14

Marcelo é filho de Alberto. Pedro é filho de Luiz. Se Marcelo e Luiz são irmãos por parte de pai, então

- (A) Alberto é pai de Pedro.
- (B) Alberto é tio de Pedro.
- (C) Pedro é irmão de Marcelo.
- (D) Pedro é sobrinho de Marcelo.
- (E) Pedro é neto de Marcelo.

15

A seguir, são apresentados os 9 primeiros termos de uma seqüência infinita de números inteiros.

13, 12, 14, 11, 15, 10, 16, 9, 17, ...

Os termos são, alternadamente, maiores e menores que seus antecessores imediatos, seguindo um padrão de construção.

Sabendo-se que esse padrão é mantido ao longo de toda a seqüência, conclui-se que um termo negativo aparecerá pela primeira vez na

- (A) 28ª posição.
- (B) 27ª posição.
- (C) 26ª posição.
- (D) 15ª posição.
- (E) 14ª posição.

16

Para pagar um lanche, Temístocles usou uma nota de R\$20,00 e recebeu, de troco, uma nota de R\$5,00, duas notas de R\$2,00, nove moedas de R\$0,50 e 3 moedas de R\$0,25.

O lanche custou a Temístocles

- (A) R\$5,25.
- (B) R\$5,75.
- (C) R\$6,25.
- (D) R\$6,75.
- (E) R\$7,25.

17

Ana trabalha em sistema de *home-office*, mas precisa comparecer ao escritório de sua empresa em intervalos regulares.

Se Ana comparece ao escritório em determinado dia, ela precisa comparecer de novo três dias úteis depois, isto é, descontando-se os sábados e os domingos. Assim, se ela compareceu em uma quinta-feira, deverá voltar ao escritório na terça-feira da semana seguinte.

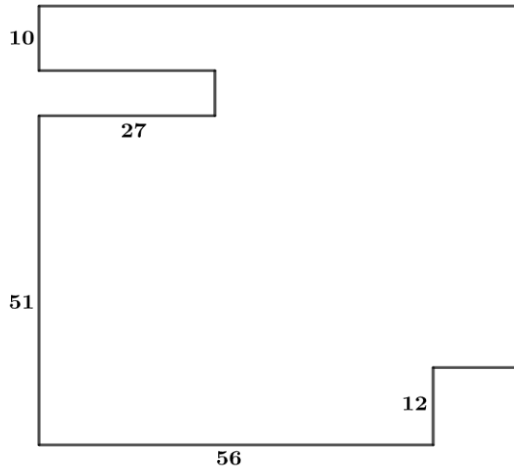
Hoje é sexta-feira e Ana está no escritório; assim, a *penúltima vez* em que ela esteve lá, foi uma

- (A) segunda-feira.
- (B) terça-feira.
- (C) quarta-feira.
- (D) quinta-feira.
- (E) sexta-feira.

18

De uma placa quadrada de madeira, foram recortados e, em seguida, descartados dois pedaços: o primeiro, em forma de um quadrado de lado 12 dm; o outro, em forma de retângulo, tendo comprimento igual a 27 dm.

A imagem a seguir ilustra o aspecto da placa após os descartes. Nela, estão indicadas as medidas, em decímetros, de alguns dos segmentos.



O menor lado do retângulo recortado dessa placa mede

- (A) 11 dm.
- (B) 10 dm.
- (C) 9 dm.
- (D) 8 dm.
- (E) 7 dm.

## Noções de Informática

19

No contexto dos sistemas operacionais Microsoft Windows, o Painel de Controle é uma área central para gerenciar as configurações do sistema, opções de personalização e outros.

Considerando as versões superiores ao Windows 7, assinale a opção que **não** indica uma funcionalidade encontrada no painel de controle.

- (A) Backup e Restauração.
- (B) Relógio e Região.
- (C) Hardware e Sons.
- (D) Contas de Usuário.
- (E) Configuração de Registro Avançadas.

20

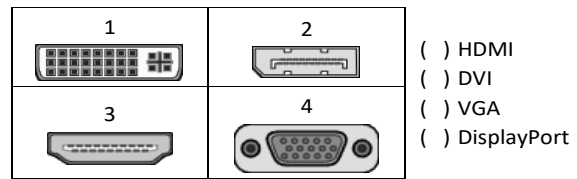
Nos sistemas operacionais Microsoft Windows 10, o recurso "Executar" permite aos usuários abrir rapidamente programas, pastas, documentos e recursos do sistema, ao digitar o caminho completo ou o nome do item.

Assinale a opção que apresenta a combinação de teclas usada para abrir a caixa de diálogo "Executar".

- (A) Windows + E
- (B) Windows + I
- (C) Windows + K
- (D) Windows + L
- (E) Windows + R

21

No contexto das interfaces para vídeo, relacione as portas às suas respectivas tecnologias.



Assinale a opção que indica a relação correta, segundo a ordem apresentada.

- (A) 2 – 3 – 1 – 4.
- (B) 2 – 4 – 1 – 3.
- (C) 3 – 2 – 1 – 4.
- (D) 3 – 1 – 4 – 2.
- (E) 4 – 2 – 3 – 1.

22

Sobre a inserção de tabelas no Microsoft Word 2019 em português, analise as afirmativas a seguir.

- I. As tabelas admitem diferentes estilos de borda, cores de preenchimento e fontes, para melhorar sua apresentação visual.
- II. Ao inserir uma tabela, é possível definir o número de linhas e colunas antes de criá-la, no entanto, não é possível alterar a estrutura após a inserção.
- III. As tabelas podem ser inseridas apenas no início de um documento e não podem ser movidas para outras partes do texto.

Está correto o que se afirma em

- (A) I, apenas.
- (B) I e II, apenas.
- (C) II e III, apenas.
- (D) I e III, apenas.
- (E) I, II e III.

23

Em uma planilha Microsoft Excel 2019 em português do Brasil, há um conjunto de dados com vendas listadas na coluna B.

Por meio da funcionalidade de Formatação Condicional, a seguinte função pode ser usada para destacar os 10% dos principais valores de vendas com preenchimento verde:

- (A) PERCENTIL.
- (B) MAXIMO.
- (C) SOMASES.
- (D) CONT.SE.
- (E) ABS.

24

Em uma pequena empresa, durante uma tentativa de realizar uma manutenção de rotina nos servidores ao final do expediente, José, um funcionário recém-contratado, com pouca experiência em TI, desliga um servidor que está rodando um serviço de DHCP. No dia seguinte, os usuários começam a reportar problemas.

Considerando que todas as estações de trabalho com sistema operacional Windows estavam utilizando o servidor DHCP, assinale a opção que indica o que os usuários reportaram.

- (A) As estações de trabalho não estão ligando, pois dependem do servidor DHCP.
- (B) Havia lentidão na conexão com a internet.
- (C) Perda de acesso à internet, enquanto o acesso à rede local entre as estações de trabalho permaneceu possível.
- (D) Interrupção do serviço de *e-mail*; os demais serviços funcionavam.
- (E) Impressão em rede local não funcionava, mas a internet estava acessível.

25

Os ataques de negação de serviço distribuídos, conhecidos como DDoS, representam uma ameaça significativa para a segurança da internet.

Com base nesse contexto, assinale a afirmativa **incorreta**.

- (A) Em um ataque DDoS, os atacantes usam uma rede de computadores comprometidos, conhecidos como botnets.
- (B) Os ataques DDoS geralmente visam comprometer os dados, tornando-os inacessíveis, mesmo para usuários autorizados.
- (C) Os ataques DDoS podem causar interrupções significativas nos serviços *online*.
- (D) Embora não seja usual, ataques DDoS já foram feitos a partir de dispositivos IoT comprometidos, como câmeras de segurança.
- (E) Os ataques de DDoS podem ter como alvo vários recursos de rede, incluindo servidores web, jogos *online* e infraestrutura de nuvem.

26

No contexto da computação em nuvem e seus serviços, assinale a opção que corresponde ao conceito de elasticidade.

- (A) A capacidade de expandir ou reduzir dinamicamente seus recursos de acordo com a demanda.
- (B) A flexibilidade de implementação de serviços.
- (C) A capacidade de uma nuvem de suportar múltiplos usuários, simultaneamente.
- (D) A velocidade da conexão entre a nuvem e os dispositivos do usuário.
- (E) A confiabilidade dos serviços oferecidos pelo provedor de computação em nuvem.

## História e Geografia do Estado de Tocantins

27



As bonecas Ritxoko são figuras de cerâmica confeccionadas por mulheres indígenas da etnia Karajá, do estado do Tocantins. Feitas a partir da mistura de argila e água, as peças representam tanto a forma humana e seus ciclos de vida quanto elementos da fauna e do sobrenatural. A pigmentação vermelha é extraída do urucum, enquanto a preta é retirada de uma árvore chamada ixarurina. As bonecas são usadas como instrumentos de socialização das crianças que se veem nesses objetos e aprendem a ser Karajá, recebendo ensinamentos e aprendendo as técnicas e saberes associados à sua confecção e usos. A pintura e a decoração das cerâmicas estão associadas à pintura corporal dos Karajá e às peças de vestuário e adorno.

Adaptado de <https://www.gov.br/funai>

Com base no trecho, é correto afirmar que as bonecas Ritxoko são um patrimônio

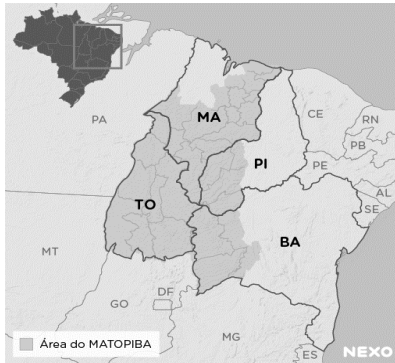
- (A) da humanidade, uma vez que constituem bens culturais e naturais significativos para todas as culturas, sendo contempladas como referência estética para todos os povos.
- (B) histórico nacional, pois exemplificam a riqueza dos modos de fazer e das formas de expressão que envolvem a tradição dos Karajás no Brasil.
- (C) cultural brasileiro, uma vez que são consideradas representações culturais com significados sociais e identitários profundos.
- (D) imaterial mundial, já que sua feitura envolve processos abstratos criativos de elaboração e variação de formas e grafismos.
- (E) material tocantinense, por expressar a arte, a memória e a identidade das comunidades indígenas da Ilha do Bananal, no Tocantins.

28

O Estado do Tocantins situa-se em uma zona de transição que apresenta dois tipos de vegetação: a Floresta Ombrófila e a Savana, pertencentes, respectivamente, aos biomas

- (A) Amazônia e Cerrado.
- (B) Mata Atlântica e Pampa.
- (C) Caatinga e Mata Atlântica.
- (D) Amazônia e Caatinga.
- (E) Cerrado e Pantanal.

29



A área do MATOPIBA caracteriza-se pelo baixo preço das terras e pela uniformidade do clima, do solo e do relevo, que facilitam a mecanização agrícola e tem atraído cada vez mais agricultores.

A respeito do MATOPIBA, analise as afirmativas a seguir.

- I. É uma região de transição entre o Cerrado e o Semiárido, com condições favoráveis para a agricultura: áreas planas e extensas, solos de alto potencial produtivo, disponibilidade de água, clima favorável com elevada intensidade de sol.
- II. É um grande produtor de *commodities*, com uso intenso de tecnologia (máquinas, colheitadeiras, insumos) e uso reduzido do fator trabalho, assim sendo, o crescimento do produto interno bruto (PIB) aumenta com velocidade, mas a geração de riqueza não é acompanhada, proporcionalmente, por uma melhora na distribuição de renda.
- III. É o maior produtor nacional de soja, pois concentra 90% da área de plantio, sendo também a região com o maior índice de produtividade sustentável de grãos, em função da colaboração do setor do agronegócio com a preservação das unidades de conservação locais.

Está correto o que se afirma em

- (A) I, apenas.
- (B) II, apenas.
- (C) III, apenas.
- (D) I e II, apenas.
- (E) II e III, apenas.

30

Sobre a formação histórica do território que hoje corresponde ao Estado do Tocantins, assinale a afirmativa que descreve corretamente o processo de desbravamento e ocupação da região no Período Colonial.

- (A) No final do século XVI, os primeiros a encontrar a foz do rio Tocantins junto ao Amazonas foram os espanhóis, então instalados no Maranhão para expulsar colonos franceses que haviam fundado a França equinocial.
- (B) Na primeira metade do século XVIII, a bandeira de Bartolomeu Bueno da Silva Filho descobriu ouro nas cabeceiras do rio Vermelho e fundou o Arraial de Sant'Anna, às margens do rio.
- (C) Nos anos de 1730-40 foi encontrado ouro no norte de Goiás, incentivando a fundação de cidades sob a jurisdição de Salvador, como Natividade, Almas, Chapada, Pontal e Porto Real, entre outras.
- (D) O declínio da mineração se acentuou na passagem do século XVIII para o XIX, agravado pela instituição de um novo imposto (capitação), cobrado proporcionalmente ao número de escravos de cada minerador.
- (E) Na segunda década do século XIX, em decorrência da crise da mineração, a região estava em uma situação de abandono, como relatado por Theotônio Segurado, futuro Governador da Capitania do Norte.

## CONHECIMENTOS ESPECÍFICOS

31

A música é um elemento muito importante na produção de áudio. Por isso, no momento de escolher o que usar, o operador de áudio deve considerar o estilo que vai usar.

Assinale a opção que apresenta os parâmetros que definem os gêneros musicais dramáticos e programáticos na sonoplastia.

- (A) Timbre, amplitude e fase.
- (B) Rádio, televisão e cinema.
- (C) Loudness, compressão e picos de sinal.
- (D) Amplitude, frequência e timbre.
- (E) Dolby, AES/EBU e S/PDIF.

32

Sobre a funcionalidade de mesas de áudio digitais, analise as afirmativas a seguir.

- I. Nas mesas de áudio digitais não existem conversores analógicos-digitais que permitem que sinais analógicos sejam convertidos para uso na mesa.
- II. Nas mesas de áudio digitais existem conversores digitais-analógicos que permitem que a saída digital da mesa seja enviada a dispositivos analógicos.
- III. Nas mesas de áudio digitais existem entradas e saídas digitais que se conectam a fontes digitais como computadores.
- IV. Nas mesas de áudio digitais existe um controle de volume, que não substitui o medidor de VU.

Está correto o que se afirma em

- (A) I e II, apenas.
- (B) I e III, apenas.
- (C) II e III, apenas.
- (D) I e IV, apenas.
- (E) II e IV, apenas.



**33**

Assinale a opção que apresenta o significado de “os microfones são transdutores.”

- (A) Eles modificam a energia do movimento sonoro em energia elétrica.
- (B) Eles são dispositivos de armazenamento de áudio.
- (C) Eles são dispositivos de mudanças de elementos sonoros de graves para agudos.
- (D) Eles são dispositivos que induzem as pessoas a falar mais alto.
- (E) Eles transportam dados digitais por IP.

**34**

Sobre a convergência de mídia, realidade em nossa sociedade, assinale a afirmativa correta.

- (A) As emissoras de televisão não mudam suas características, pois continuam a investir em uma grade fixa de programação.
- (B) As emissoras ficam temerosas de estimular os espectadores a usarem outras plataformas e “canibalizam” a própria audiência do canal.
- (C) As emissoras não levam em consideração a mobilidade dos espectadores, pois só vale a pena investir na atenção de quem está em casa.
- (D) As emissoras preferem não se unir e aproximar seu conteúdo de outras formas de comunicação, como *podcasts* e redes sociais.
- (E) As emissoras aproveitam para lançar conteúdos multi-plataforma e assim capturar a audiência, qualquer que seja a forma usada para acessar a programação.

**35**

Sobre a impedância do som, assinale a afirmativa correta.

- (A) A impedância é uma força que ajuda os componentes de um circuito na passagem da energia elétrica.
- (B) A impedância sempre melhora a potência do som do dispositivo.
- (C) Quanto maior a impedância, maior a potência necessária para fazer o mecanismo funcionar corretamente.
- (D) A impedância não tem relação com a qualidade do som.
- (E) Quanto menor a impedância, maior a potência necessária para fazer o mecanismo funcionar corretamente.

**36**

Se o operador quiser que a música gravada soe com mais clareza e vibração, ele deve

- (A) valorizar os sons de alta frequência.
- (B) diminuir os sons de alta frequência.
- (C) aumentar o volume do áudio até que o indicador do VU passe do zero.
- (D) não se importar com o nível do indicador do VU.
- (E) impedir que os sons consonantais sejam ouvidos.

**37**

Assinale a opção que indica o que ouvido humano percebe ao ouvir o som de uma sirene se aproximando.

- (A) A altura do som permanece e a frequência diminui.
- (B) A altura do som diminui e a frequência aumenta.
- (C) A altura do som aumenta e a frequência permanece.
- (D) A altura e a frequência do som aumentam.
- (E) A altura e a frequência do som diminuem.

**38**

Sobre as especificações dos microfones, assinale a afirmativa correta.

- (A) Os microfones omnidirecionais só captam sons de trás e da frente do equipamento.
- (B) Os microfones bidirecionais só captam sons da direita e da esquerda do aparelho.
- (C) Os microfones cardioides são especialmente feitos para captar as batidas do coração.
- (D) Os microfones cardioides captam sons provenientes apenas de uma direção.
- (E) Os microfones omnidirecionais também são conhecidos como unidirecionais.

**39**

Sobre o uso de microfones, analise as afirmativas a seguir.

- I. Aproximar-se do microfone pode dar um clima mais intimista, mas os ruídos da boca são acentuados na captação.
- II. Se você “estourar” as sílabas com “p” e “b” use apenas microfones de fita e fale diretamente nelas.
- III. Aproxime-se do microfone se tiver uma voz grave e profunda, para que ela soe melhor.
- IV. Se tiver problemas ao falar, como estouro de consoantes, respiração intensa ou outros, tente usar um filtro (*antipuff*) para bloquear o ruído.

Está correto o que se afirma em

- (A) I e II, apenas.
- (B) I e III, apenas.
- (C) II e III, apenas.
- (D) III e IV, apenas.
- (E) I e IV, apenas.

**40**

Ao mixar as fontes de áudio ao vivo, o operador deve

- (A) introduzir o novo áudio somente quando o antigo sair do ar para não confundir o ouvinte.
- (B) introduzir o novo *fader* antes de tirar o antigo e fazer uma fusão.
- (C) evitar a fusão de vozes faladas e trilhas musicais.
- (D) fazer apenas a fusão de vozes masculinas e femininas.
- (E) evitar fazer a fusão de sons agudos e graves.

**41**

Sobre o reverb, ou reverberação, analise as afirmativas a seguir.

- I. É a propagação do som em um meio sólido e afeta a fase do áudio.
- II. É a persistência do som após a fonte sonora ter cessado, influenciando na percepção de profundidade e ambiente.
- III. É a diferença entre o som direto e o som refletido, determinando a definição do áudio.
- IV. É a amplificação natural do som em ambientes fechados, melhorando a qualidade da gravação.

Está correto o que se afirma em

- (A) I e II, apenas.
- (B) II e III, apenas.
- (C) II, apenas.
- (D) IV, apenas.
- (E) III e IV, apenas.

42

Sobre o sistema *Dolby* utilizado na indústria do audiovisual, analise as afirmativas a seguir.

- I. O *Dolby Pro Logic* é a adaptação do *Dolby Surround* para uso doméstico.
- II. O *Dolby Atmos* é uma tecnologia de áudio *surround* que permite uma experiência mais imersiva em filmes, programas de TV, videogames e músicas.
- III. O *Dolby Noise Reductions* foi concebido para diminuir ruídos de gravações digitais.
- IV. O *Dolby SR* só pode ser usado em aparelhos domésticos.

Está correto o que se afirma em

- (A) I e II, apenas.
- (B) I e III apenas.
- (C) II e IV apenas.
- (D) III e IV, apenas.
- (E) I e IV, apenas.

43

Sobre áudios balanceados e não balanceados, analise as afirmativas a seguir.

- I. Um cabo balanceado consiste em dois fios dentro de uma malha, um fio de sinal e um fio terra; é projetado para transportar um sinal balanceado.
- II. Em geral, o áudio balanceado fornecerá um sinal de áudio melhor e mais forte, sem estar sujeito a ruídos estranhos.
- III. O áudio não balanceado é suscetível a captar ruídos e interferências.
- IV. Cabos não balanceados possuem três fios que vão até os três pinos do conector, normalmente XLR. Nesse caso, se tem dois fios responsáveis pelo sinal, um fio é o *terra*, que pode ser usado como proteção.

Está correto o que se afirma em

- (A) I e II, apenas.
- (B) I e III apenas.
- (C) I e IV apenas.
- (D) II e III, apenas.
- (E) II e IV, apenas.

44

Um produtor encaminha ao operador uma gravação e pede que o material seja equalizado. Assinale a opção que indica o principal procedimento do operador.

- (A) Evitar o *flicker*.
- (B) Clarear as partes escuras do vídeo.
- (C) Incrementar o áudio com efeitos especiais.
- (D) Garantir que a imagem não interfira no áudio.
- (E) Controlar a quantidade de graves e agudos.

45

Um produtor organiza um debate com três participantes. Dois têm a voz grave e o terceiro tem a voz muito suave.

Assinale a opção que indica o procedimento que o operador deve adotar para que o áudio fique equilibrado.

- (A) Deixar o microfone omnidirecional, mas colocar o efeito *reverb* no microfone do debatedor com a voz suave para dar mais peso às palavras dele.
- (B) Colocar dois microfones cardioides, deixando um para captar os dois debatedores com a voz grave e o outro para o debatedor de voz suave; assim, ele poderá equalizar os dois níveis.
- (C) Colocar um microfone omnidirecional para captar as três vozes e construir um ambiente sonoro mais realista.
- (D) Conversar com o âncora para acionar pouco o debatedor com a voz suave.
- (E) Pedir que os convidados com a voz mais grave tentem falar mais suavemente.

46

Sobre a gravação de *off's*, analise as recomendações a seguir.

- I. Substituir um microfone altamente sensível por um de menor sensibilidade para cortar ruídos como o do ar condicionado.
- II. Colocar o microfone em um pedestal para evitar barulhos como *batidinhas* na mesa.
- III. Os locutores que sibilam muito devem se aproximar dos microfones.
- IV. Evitar o uso de *puffs* no microfone, pois eles abafam o som.

Está correto o que se afirma em

- (A) I e II, apenas.
- (B) I e III apenas.
- (C) I e IV apenas.
- (D) II e III, apenas.
- (E) II e IV, apenas.

47

As tecnologias de informação e comunicação modificaram de forma irreversível a transmissão e a recepção de programas.

Sobre esse cenário, assinale a afirmativa correta.

- (A) A transmissão em *broadcast* libertou os espectadores dos horários fixos dos programas.
- (B) As transmissões por *streaming* não dão espaço para que os espectadores recuperem programas já transmitidos.
- (C) *Broadcasting* e *streaming* não têm relação com rádio, só com televisão.
- (D) As transmissões por *streaming* permitem que os espectadores vejam e ouçam programas na hora que lhes for mais conveniente.
- (E) O *podcast* é necessariamente uma transmissão em *broadcast*.

48

Arquivos sonoros digitais armazenados em formato de modulação de códigos de impulso do programa Windows estão no formato WAV.

As configurações mais comuns desses arquivos são

- (A) 12 bits, 47,1kHz, em estéreo.
- (B) 32 bits, 44,1kHz, em mono.
- (C) 20 bits, 42,1kHz em mono.
- (D) 22 bits, 41,4kHz, em estéreo.
- (E) 16 bits, 44,1kHz em estéreo.

49

Sobre os problemas de fase numa captação, assinale a afirmativa correta.

- (A) Uma fonte estéreo é o lugar mais comum para haver problemas de fase, porque os microfones estão recebendo sinais iguais com uma leve diferença de tempo, por causa da distância de captação.
- (B) Os problemas de fase nada têm a ver com o posicionamento dos microfones na gravação.
- (C) Múltiplos microfones em uma fonte nunca causam diferença de fase.
- (D) Em processamentos paralelos, tipo uma dobra de vocal ou compressão paralela nunca é necessário compensar a diferença entre o sinal original e o sinal.
- (E) Problemas de fase só aparecem em imagens analógicas.

50

O texto na TV não pode ser desprezado, apesar de a imagem ser fundamental no meio.

Diante disso, assinale a afirmativa correta.

- (A) Escreva o texto antes de ver as imagens.
- (B) Combine informação visual com informação auditiva.
- (C) O texto deve ser bem descritivo.
- (D) O texto não deve valorizar a imagem.
- (E) Use frases longas e poéticas para valorizar o texto.

## PRINCÍPIOS DA ADMINISTRAÇÃO PÚBLICA

51

A Administração Direta é composta por órgãos e entidades que fazem parte da estrutura do Estado e operam diretamente sob a autoridade do poder público. Em contrapartida, a Administração Indireta inclui entidades com personalidade jurídica própria, mas vinculadas ao Estado. Enquanto a Administração Direta executa diretamente políticas públicas, a Indireta opera de forma mais especializada, muitas vezes em atividades empresariais.

Assinale a opção que indica a entidade dotada de personalidade jurídica de direito privado, com patrimônio próprio e capital exclusivo da União, criado por lei para a exploração de atividade econômica.

- (A) Autarquia.
- (B) Empresa pública.
- (C) Fundação pública.
- (D) Organização social.
- (E) Sociedade de economia mista.

52

A educação, a saúde, a alimentação, o trabalho, a moradia, o transporte, o lazer, a segurança, a previdência social, a proteção à maternidade e à infância, a assistência aos desamparados, na forma desta Constituição, são direitos sociais.

Assinale a opção que indica, corretamente, o direito devido ao brasileiro em situação de vulnerabilidade social.

- (A) Benefício de prestação continuada.
- (B) Fundo de garantia do tempo de serviço.
- (C) Seguro-desemprego.
- (D) Renda básica familiar.
- (E) Repouso semanal remunerado.

53

A Lei de Acesso à Informação (Lei nº 12.527/2011) garante ao cidadão o direito de obter informações públicas, promovendo a transparência e a *accountability* no setor público.

Assinale a opção que apresenta a *qualidade da informação* que pode ser conhecida e utilizada por indivíduos, equipamentos ou sistemas autorizados.

- (A) Integridade.
- (B) Autenticidade.
- (C) Transparência.
- (D) Primariedade.
- (E) Disponibilidade.

54

A Lei Geral de Proteção de Dados Pessoais (Lei nº 13.709/2018) estabelece regras para o tratamento de dados pessoais por parte de empresas e organizações, visando proteger a privacidade e os direitos dos cidadãos.

Assinale, entre as opções a seguir, a que apresenta um fundamento da disciplina da proteção de dados pessoais.

- (A) Anonimização.
- (B) Consentimento.
- (C) Não discriminação.
- (D) Uso compartilhado de dados.
- (E) Liberdade de expressão.

55

De acordo com a Lei nº 14.133/2021, conhecida como Nova Lei de Licitações e Contratos Administrativos, o processo licitatório visa prevenir contratações com sobrepreço, preços manifestamente inexequíveis e superfaturamento na execução dos contratos.

Com relação aos casos de superfaturamento em que há dano provocado ao patrimônio da Administração, analise as afirmativas a seguir.

- I. Medição de quantidades superiores às efetivamente executadas ou fornecidas.
- II. Alterações no orçamento de obras e de serviços de engenharia que causem desequilíbrio econômico-financeiro do contrato em favor do contratante.
- III. Deficiência na execução de obras e de serviços de engenharia que resultem em diminuição da sua qualidade, vida útil ou insegurança.

Está correto o que se afirma em

- (A) I, apenas.
- (B) I e II, apenas.
- (C) I e III, apenas.
- (D) II e III, apenas.
- (E) I, II e III.

## LEGISLAÇÃO INSTITUCIONAL

56

João, eleito Deputado Estadual, foi diplomado, mas ainda não tomou posse.

À luz da Constituição do Estado do Tocantins, João não poderá

- (A) exercer cargo em uma empresa concessionária de serviço público.
- (B) ser diretor de uma empresa que goze de favor decorrente de contrato com pessoa jurídica de direito público.
- (C) patrocinar uma causa em que seja interessada uma autarquia.
- (D) manter contrato com uma pessoa jurídica de direito privado.
- (E) ser titular de mais de um cargo ou de mandato público eletivo.

57

Considerando o que dispõe o Regimento Interno da Assembleia Legislativa de Tocantins a respeito das Comissões, assinale a afirmativa correta.

- (A) A Comissão de Constituição, Justiça e Redação tem poderes de investigação próprios das autoridades judiciais.
- (B) As Comissões Especiais não podem ser constituídas para investigação sumária de fato determinado.
- (C) À Comissão de Segurança Pública compete analisar questões ligadas à violência urbana e rural.
- (D) As Comissões de Representação devem ser aprovadas pela maioria absoluta do Plenário da Assembleia.
- (E) A Comissão Parlamentar de Inquérito poderá deslocar-se para qualquer ponto do território estadual para a realização de investigações e audiências públicas.

58

Joaquim é servidor estadual estável, detentor de cargo efetivo e aposentado voluntariamente. Depois de dois anos de sua aposentadoria, Joaquim manifestou interesse, perante a Administração, de retornar à atividade em que era estável.

Caso haja cargo vago disponível, conforme a Lei nº 1818/2017, que dispõe sobre o Estatuto dos Servidores Públicos Cíveis do Estado do Tocantins, assinale a modalidade de provimento adequada ao caso.

- (A) Aproveitamento.
- (B) Reversão.
- (C) Readaptação.
- (D) Reintegração.
- (E) Recondução.

59

Luiz, servidor público efetivo, encontra-se em estágio probatório e, nesse período, tem sido submetido a Avaliações Especiais de Desempenho.

Nos termos da Lei nº 4.208/2023, que cuida do plano de cargos, carreiras e remuneração dos Servidores da Assembleia Legislativa de Tocantins, assinale a afirmativa correta.

- (A) A Avaliação Especial de Desempenho dá-se em três etapas, que tem por base o acompanhamento trimestral do servidor.
- (B) O resultado da avaliação será levado ao conhecimento do avaliado e arquivado em caráter público.
- (C) O servidor, para ser aprovado, deverá obter média igual ou superior a 60% (sessenta por cento) dos pontos possíveis nas Avaliações Especiais de Desempenho.
- (D) O servidor, caso aprovado no estágio probatório, será imediatamente elevado para a classe seguinte do padrão inicial do seu cargo.
- (E) O servidor deve ser avaliado pelo chefe imediato.

60

Levando em conta a estrutura administrativa da Assembleia Legislativa de Tocantins e dos órgãos de assistência à Presidência da Assembleia, de acordo com a Lei nº 4.209/2023, a competência para encaminhar as denúncias recebidas ao Tribunal de Contas do Estado, à Polícia Civil, ao Ministério Público, ou a outro órgão competente, é da

- (A) Procuradoria-Geral.
- (B) Controladoria Interna.
- (C) Diretoria de Polícia Legislativa.
- (D) Assessoria Jurídica da Presidência.
- (E) Ouvidoria Geral da Assembleia Legislativa.



# ASSEMBLEIA LEGISLATIVA DO ESTADO DO TOCANTINS

CONCURSO PÚBLICO – EDITAL Nº 01/2023

## PROVA OBJETIVA – MANHÃ

# TÉCNICO LEGISLATIVO TÉCNICO EM DESIGN GRÁFICO

NÍVEL MÉDIO – TIPO 1 – BRANCA



### SUA PROVA

- Além deste caderno contendo **60 (sessenta)** questões objetivas, você receberá do fiscal de prova o cartão de respostas;
- As questões objetivas têm **5 (cinco)** opções de resposta (A, B, C, D) e somente uma delas está correta.



### TEMPO

- Você dispõe de **4 (quatro) horas** para a realização da prova, já incluído o tempo para a marcação do cartão de respostas;
- **3 (três) horas** após o início da prova, é possível retirar-se da sala, sem levar o caderno de questões;
- A partir dos **30 (trinta) minutos** anteriores ao término da prova é possível retirar-se da sala **levando o caderno de questões**.



### NÃO SERÁ PERMITIDO

- Qualquer tipo de comunicação entre os candidatos durante a aplicação da prova;
- Anotar informações relativas às respostas em qualquer outro meio que não seja o caderno de questões;
- Levantar da cadeira sem autorização do fiscal de sala;
- Usar o sanitário ao término da prova, após deixar a sala.



### INFORMAÇÕES GERAIS

- Verifique se seu caderno de questões está completo, sem repetição de questões ou falhas. Caso contrário, **notifique imediatamente o fiscal da sala**, para que sejam tomadas as devidas providências;
- Confira seus dados pessoais, especialmente nome, número de inscrição e documento de identidade e leia atentamente as instruções para preencher o cartão de respostas;
- Para o preenchimento do cartão de respostas, use somente caneta esferográfica, fabricada em material transparente, com tinta preta ou azul;
- Assine seu nome apenas no(s) espaço(s) reservado(s) no cartão de respostas;
- Confira seu cargo, cor e tipo do caderno de questões. Caso tenha recebido caderno de cargo ou cor ou tipo **diferente** do impresso em seu cartão de respostas, o fiscal deve ser **obrigatoriamente** informado para o devido registro na ata da sala;
- Reserve tempo suficiente para o preenchimento do seu cartão de respostas. O preenchimento é de sua responsabilidade e **não será permitida a troca do cartão de respostas em caso de erro cometido pelo candidato**;
- Para fins de avaliação, serão levadas em consideração apenas as marcações realizadas no cartão de respostas;
- A FGV coletará as impressões digitais dos candidatos na lista de presença;
- Os candidatos serão submetidos ao sistema de detecção de metais quando do ingresso e da saída de sanitários durante a realização das provas.
- **Boa prova!**

## CONHECIMENTOS BÁSICOS

### Língua Portuguesa

1

Leia o seguinte texto de um jornal de outros tempos:

*“Mudança nas moedas. A partir de junho começam a entrar em circulação as moedas de Cr\$100 e Cr\$500 substituindo as cédulas que trazem estampadas a poetisa Cecília Meireles e o naturalista Augusto Ruschi, respectivamente. O lançamento das moedas foi aprovado na reunião de ontem do Conselho Monetário Nacional, colocando fim à família de notas criadas no governo Sarney, sob a égide dos cruzados novos.”*

Sobre esse fragmento textual, analise as observações a seguir, feitas por um estudioso de nossa Língua, e assinale a correta.

- (A) “Começam a entrar em circulação” é bastante estranho, porque as moedas, pequenas que são e de pequeno valor, “entram” logo.
- (B) “trazem estampadas a poetisa Cecília Meireles e o naturalista Augusto Ruschi”, mas eu pensava que as moedas trazem estampadas as efígies de Fulano ou Beltrano.
- (C) “colocando fim à família” mostra o emprego inadequado de “colocar” em lugar de “pôr”.
- (D) “criadas”, por questão de clareza e precisão, devia ser substituído por “lançadas” ou “emitidas”.
- (E) “sob”, por questão de correção gramatical, deve ser substituído por “sobre”.

2

Leia o fragmento a seguir.

*“Não somos daqueles que só em meio aos livros, estimulados por livros vêm a ter pensamentos – é nosso hábito pensar ao ar livre, andando, saltando, escalando, dançando, preferivelmente em montes solitários ou próximos ao mar, onde mesmo as trilhas se tornam pensativas.”* (Nietzsche, filósofo alemão).

Sobre o significado desse fragmento, assinale a afirmativa correta.

- (A) A leitura é importante para a criação de ideias originais.
- (B) As formas de gerúndio mostram a evolução cronológica das ações narradas pelo escritor.
- (C) O pronome relativo “onde” refere-se a locais ao ar livre.
- (D) A forma do verbo “tornar-se”, como verbo de ligação, indica um estado transitório.
- (E) Os ambientes solitários propiciam reflexões de valor.

3

As citações a seguir são compostas por dois segmentos; assinale a opção em que a relação lógica indicada pelo segundo segmento está correta.

- (A) Dize-me o que crês ser / e te direi o que não és. – relação de oposição.
- (B) Quem crê é forte / quem duvida é fraco. – relação de conclusão.
- (C) Seja lá por que um homem reza, / ele reza por um milagre. – relação de explicação.
- (D) Não adianta esperar que o navio chegue / se você não o mandou para lugar nenhum. – relação de causa.
- (E) Pense como um homem de ação / e aja como um pensador. – relação de conclusão.

4

Os textos a seguir mostram elementos de coesão em relação ao termo sublinhado; assinale a opção em que todos os termos seguintes, em coesão com ele, estão indicados.

- (A) Geralmente, entre nossos motivos de agir, há um mais forte que os demais: aquele que não é declarado. – *um, os demais, aquele, que.*
- (B) O que empobrece o homem não são seus atos, mas os desejos que ele possui. – *ele.*
- (C) O dinheiro, recebem-no todos os que trabalham e o perdem todos os irresponsáveis. – *no, que, o.*
- (D) Qual pode ser a vida que começa pelos gritos da mãe, que a dá, e o choro do filho que a recebe? – *que, que, a.*
- (E) Meu filho! Deus te enviou a este mundo. Cultiva-o e não te apresses em sair dele. – *o.*

5

As frases a seguir mostram termos repetidos; assinale a opção que apresenta a frase em que o significado dos dois termos não é o mesmo.

- (A) Morrer é mudar de corpo como o ator muda de roupa.
- (B) Janeiro é o mês que se fazem bons votos aos amigos; os outros são os meses em que esses votos não se concretizam.
- (C) Quem tempo espera, muito tempo consome.
- (D) A falsidade da História é tão velha como a própria História.
- (E) Viva todos os dias como se fosse o último. Um dia você acerta.

6

As opções a seguir mostram, corretamente, a substituição da forma sublinhada, composta de não + verbo, por um só verbo, de sentido equivalente, à exceção de uma. Assinale-a.

- (A) Os países da OTAN pediram que o exército russo não avançasse esta semana. / *parasse.*
- (B) O deputado informou que não dispunha de tempo para redigir uma nova versão do projeto. / *carecia.*
- (C) O Presidente não aceitou o convite para visitar a Alemanha. / *declinou do.*
- (D) Não abriu as portas do museu para evitar a curiosidade do público. / *fechou.*
- (E) Por seus futuros compromissos, preferia não gastar dinheiro / *economizar.*

7

As frases a seguir mostram uma locução adjetiva introduzida pela preposição sem; assinale a opção em que a substituição dessa locução por um adjetivo de valor equivalente foi feita de forma adequada.

- (A) Cartas sem autoria declarada são sempre mal recebidas / desautorizadas.
- (B) Os poços sem água são de pouca serventia para a lavoura / áridos.
- (C) Foram deixados muitos problemas sem solução / insolúveis.
- (D) O governo tomou muitas atitudes sem nexos / desconexas.
- (E) Com os fogos de artifício, o campo ficou sem visão / invisível.

8

Assinale a opção que apresenta a frase em que houve **erro** de concordância da palavra sublinhada.

- (A) O presidente fez questão de deixar bem claras as suas intenções.
- (B) O STF qualificou de antidemocrático aqueles atos.
- (C) O governo chinês torna visíveis os erros das ditaduras.
- (D) Os enfermeiros tiveram reconhecidos os direitos de greve.
- (E) Tomei emprestados à biblioteca vários livros.

9

As perguntas a seguir apresentam o pronome pessoal oblíquo em ênclise (após o verbo); assinale a que mostra formulação **incorreta**, porque só admite próclise.

- (A) Os dois bandidos evadiram-se do presídio em Mossoró?
- (B) Onde podemos vê-los?
- (C) Eles dedicar-se-iam às tarefas com prazer.
- (D) Numa entrevista como esta, isto pergunta-se?
- (E) Quem dir-me-á tantas barbaridades, senão ele?

10

Assinale a opção que apresenta as duas palavras que devem ser grafadas com **es** e não com **ex**.

- (A) Excremento / expurgo.
- (B) Excusar / expontâneo.
- (C) Excomungar / expressar.
- (D) Extirpar / extorquir.
- (E) Exterminar / extremoso.

## Raciocínio Lógico Matemático

11

Dois números diferentes serão escolhidos ao acaso entre os elementos do conjunto {5,7,9,11,14}.

A soma dos números escolhidos

- (A) certamente é ímpar.
- (B) certamente é par.
- (C) pode ser 26.
- (D) pode ser 18.
- (E) pode ser menor que 12.

12

Em um jogo, duas fichas azuis têm o mesmo valor de cinco fichas vermelhas e uma ficha preta vale o mesmo que três fichas azuis.

Assim, duas fichas pretas equivalem a

- (A) sete fichas vermelhas.
- (B) oito fichas vermelhas.
- (C) nove fichas vermelhas.
- (D) doze fichas vermelhas.
- (E) quinze fichas vermelhas.

13

Sabe-se que 20% de  $N$  é igual a 13,4. Logo, 90% de  $N$  é igual a

- (A) 59,6.
- (B) 60,3.
- (C) 61,2.
- (D) 62,5.
- (E) 63,2.

14

Marcelo é filho de Alberto. Pedro é filho de Luiz. Se Marcelo e Luiz são irmãos por parte de pai, então

- (A) Alberto é pai de Pedro.
- (B) Alberto é tio de Pedro.
- (C) Pedro é irmão de Marcelo.
- (D) Pedro é sobrinho de Marcelo.
- (E) Pedro é neto de Marcelo.

15

A seguir, são apresentados os 9 primeiros termos de uma sequência infinita de números inteiros.

13, 12, 14, 11, 15, 10, 16, 9, 17, ...

Os termos são, alternadamente, maiores e menores que seus antecessores imediatos, seguindo um padrão de construção.

Sabendo-se que esse padrão é mantido ao longo de toda a sequência, conclui-se que um termo negativo aparecerá pela primeira vez na

- (A) 28ª posição.
- (B) 27ª posição.
- (C) 26ª posição.
- (D) 15ª posição.
- (E) 14ª posição.

16

Para pagar um lanche, Temístocles usou uma nota de R\$20,00 e recebeu, de troco, uma nota de R\$5,00, duas notas de R\$2,00, nove moedas de R\$0,50 e 3 moedas de R\$0,25.

O lanche custou a Temístocles

- (A) R\$5,25.
- (B) R\$5,75.
- (C) R\$6,25.
- (D) R\$6,75.
- (E) R\$7,25.

17

Ana trabalha em sistema de *home-office*, mas precisa comparecer ao escritório de sua empresa em intervalos regulares.

Se Ana comparece ao escritório em determinado dia, ela precisa comparecer de novo três dias úteis depois, isto é, descontando-se os sábados e os domingos. Assim, se ela compareceu em uma quinta-feira, deverá voltar ao escritório na terça-feira da semana seguinte.

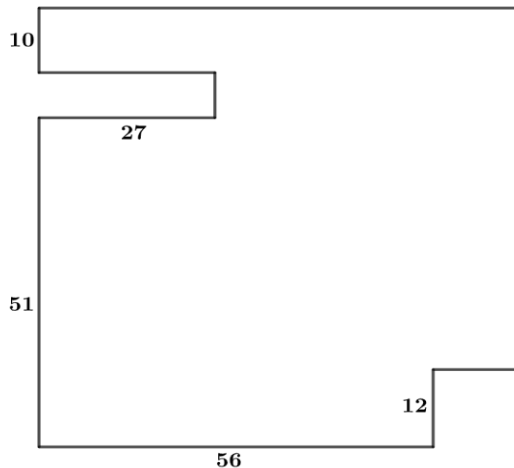
Hoje é sexta-feira e Ana está no escritório; assim, a *penúltima vez* em que ela esteve lá, foi uma

- (A) segunda-feira.
- (B) terça-feira.
- (C) quarta-feira.
- (D) quinta-feira.
- (E) sexta-feira.

18

De uma placa quadrada de madeira, foram recortados e, em seguida, descartados dois pedaços: o primeiro, em forma de um quadrado de lado 12 dm; o outro, em forma de retângulo, tendo comprimento igual a 27 dm.

A imagem a seguir ilustra o aspecto da placa após os descartes. Nela, estão indicadas as medidas, em decímetros, de alguns dos segmentos.



O menor lado do retângulo recortado dessa placa mede

- (A) 11 dm.
- (B) 10 dm.
- (C) 9 dm.
- (D) 8 dm.
- (E) 7 dm.

## Noções de Informática

19

No contexto dos sistemas operacionais Microsoft Windows, o Painel de Controle é uma área central para gerenciar as configurações do sistema, opções de personalização e outros.

Considerando as versões superiores ao Windows 7, assinale a opção que **não** indica uma funcionalidade encontrada no painel de controle.

- (A) Backup e Restauração.
- (B) Relógio e Região.
- (C) Hardware e Sons.
- (D) Contas de Usuário.
- (E) Configuração de Registro Avançadas.

20

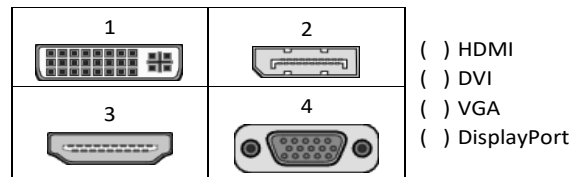
Nos sistemas operacionais Microsoft Windows 10, o recurso "Executar" permite aos usuários abrir rapidamente programas, pastas, documentos e recursos do sistema, ao digitar o caminho completo ou o nome do item.

Assinale a opção que apresenta a combinação de teclas usada para abrir a caixa de diálogo "Executar".

- (A) Windows + E
- (B) Windows + I
- (C) Windows + K
- (D) Windows + L
- (E) Windows + R

21

No contexto das interfaces para vídeo, relacione as portas às suas respectivas tecnologias.



Assinale a opção que indica a relação correta, segundo a ordem apresentada.

- (A) 2 – 3 – 1 – 4.
- (B) 2 – 4 – 1 – 3.
- (C) 3 – 2 – 1 – 4.
- (D) 3 – 1 – 4 – 2.
- (E) 4 – 2 – 3 – 1.

22

Sobre a inserção de tabelas no Microsoft Word 2019 em português, analise as afirmativas a seguir.

- I. As tabelas admitem diferentes estilos de borda, cores de preenchimento e fontes, para melhorar sua apresentação visual.
- II. Ao inserir uma tabela, é possível definir o número de linhas e colunas antes de criá-la, no entanto, não é possível alterar a estrutura após a inserção.
- III. As tabelas podem ser inseridas apenas no início de um documento e não podem ser movidas para outras partes do texto.

Está correto o que se afirma em

- (A) I, apenas.
- (B) I e II, apenas.
- (C) II e III, apenas.
- (D) I e III, apenas.
- (E) I, II e III.

23

Em uma planilha Microsoft Excel 2019 em português do Brasil, há um conjunto de dados com vendas listadas na coluna B.

Por meio da funcionalidade de Formatação Condicional, a seguinte função pode ser usada para destacar os 10% dos principais valores de vendas com preenchimento verde:

- (A) PERCENTIL.
- (B) MAXIMO.
- (C) SOMASES.
- (D) CONT.SE.
- (E) ABS.



24

Em uma pequena empresa, durante uma tentativa de realizar uma manutenção de rotina nos servidores ao final do expediente, José, um funcionário recém-contratado, com pouca experiência em TI, desliga um servidor que está rodando um serviço de DHCP. No dia seguinte, os usuários começam a reportar problemas.

Considerando que todas as estações de trabalho com sistema operacional Windows estavam utilizando o servidor DHCP, assinale a opção que indica o que os usuários reportaram.

- (A) As estações de trabalho não estão ligando, pois dependem do servidor DHCP.
- (B) Havia lentidão na conexão com a internet.
- (C) Perda de acesso à internet, enquanto o acesso à rede local entre as estações de trabalho permaneceu possível.
- (D) Interrupção do serviço de *e-mail*; os demais serviços funcionavam.
- (E) Impressão em rede local não funcionava, mas a internet estava acessível.

25

Os ataques de negação de serviço distribuídos, conhecidos como DDoS, representam uma ameaça significativa para a segurança da internet.

Com base nesse contexto, assinale a afirmativa **incorreta**.

- (A) Em um ataque DDoS, os atacantes usam uma rede de computadores comprometidos, conhecidos como botnets.
- (B) Os ataques DDoS geralmente visam comprometer os dados, tornando-os inacessíveis, mesmo para usuários autorizados.
- (C) Os ataques DDoS podem causar interrupções significativas nos serviços *online*.
- (D) Embora não seja usual, ataques DDoS já foram feitos a partir de dispositivos IoT comprometidos, como câmeras de segurança.
- (E) Os ataques de DDoS podem ter como alvo vários recursos de rede, incluindo servidores web, jogos *online* e infraestrutura de nuvem.

26

No contexto da computação em nuvem e seus serviços, assinale a opção que corresponde ao conceito de **elasticidade**.

- (A) A capacidade de expandir ou reduzir dinamicamente seus recursos de acordo com a demanda.
- (B) A flexibilidade de implementação de serviços.
- (C) A capacidade de uma nuvem de suportar múltiplos usuários, simultaneamente.
- (D) A velocidade da conexão entre a nuvem e os dispositivos do usuário.
- (E) A confiabilidade dos serviços oferecidos pelo provedor de computação em nuvem.

## História e Geografia do Estado de Tocantins

27



As bonecas Ritxoko são figuras de cerâmica confeccionadas por mulheres indígenas da etnia Karajá, do estado do Tocantins. Feitas a partir da mistura de argila e água, as peças representam tanto a forma humana e seus ciclos de vida quanto elementos da fauna e do sobrenatural. A pigmentação vermelha é extraída do urucum, enquanto a preta é retirada de uma árvore chamada ixarurina. As bonecas são usadas como instrumentos de socialização das crianças que se veem nesses objetos e aprendem a ser Karajá, recebendo ensinamentos e aprendendo as técnicas e saberes associados à sua confecção e usos. A pintura e a decoração das cerâmicas estão associadas à pintura corporal dos Karajá e às peças de vestuário e adorno.

Adaptado de <https://www.gov.br/funai>

Com base no trecho, é correto afirmar que as bonecas Ritxoko são um patrimônio

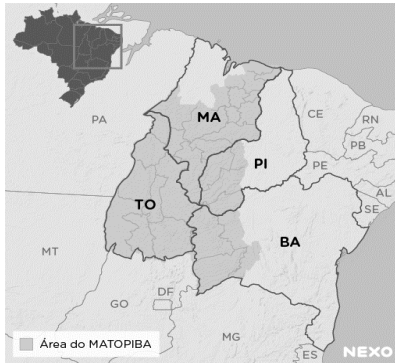
- (A) da humanidade, uma vez que constituem bens culturais e naturais significativos para todas as culturas, sendo contempladas como referência estética para todos os povos.
- (B) histórico nacional, pois exemplificam a riqueza dos modos de fazer e das formas de expressão que envolvem a tradição dos Karajás no Brasil.
- (C) cultural brasileiro, uma vez que são consideradas representações culturais com significados sociais e identitários profundos.
- (D) imaterial mundial, já que sua feitura envolve processos abstratos criativos de elaboração e variação de formas e grafismos.
- (E) material tocantinense, por expressar a arte, a memória e a identidade das comunidades indígenas da Ilha do Bananal, no Tocantins.

28

O Estado do Tocantins situa-se em uma zona de transição que apresenta dois tipos de vegetação: a Floresta Ombrófila e a Savana, pertencentes, respectivamente, aos biomas

- (A) Amazônia e Cerrado.
- (B) Mata Atlântica e Pampa.
- (C) Caatinga e Mata Atlântica.
- (D) Amazônia e Caatinga.
- (E) Cerrado e Pantanal.

29



A área do MATOPIBA caracteriza-se pelo baixo preço das terras e pela uniformidade do clima, do solo e do relevo, que facilitam a mecanização agrícola e tem atraído cada vez mais agricultores.

A respeito do MATOPIBA, analise as afirmativas a seguir.

- I. É uma região de transição entre o Cerrado e o Semiárido, com condições favoráveis para a agricultura: áreas planas e extensas, solos de alto potencial produtivo, disponibilidade de água, clima favorável com elevada intensidade de sol.
- II. É um grande produtor de *commodities*, com uso intenso de tecnologia (máquinas, colheitadeiras, insumos) e uso reduzido do fator trabalho, assim sendo, o crescimento do produto interno bruto (PIB) aumenta com velocidade, mas a geração de riqueza não é acompanhada, proporcionalmente, por uma melhora na distribuição de renda.
- III. É o maior produtor nacional de soja, pois concentra 90% da área de plantio, sendo também a região com o maior índice de produtividade sustentável de grãos, em função da colaboração do setor do agronegócio com a preservação das unidades de conservação locais.

Está correto o que se afirma em

- (A) I, apenas.
- (B) II, apenas.
- (C) III, apenas.
- (D) I e II, apenas.
- (E) II e III, apenas.

30

Sobre a formação histórica do território que hoje corresponde ao Estado do Tocantins, assinale a afirmativa que descreve corretamente o processo de desbravamento e ocupação da região no Período Colonial.

- (A) No final do século XVI, os primeiros a encontrar a foz do rio Tocantins junto ao Amazonas foram os espanhóis, então instalados no Maranhão para expulsar colonos franceses que haviam fundado a França equinocial.
- (B) Na primeira metade do século XVIII, a bandeira de Bartolomeu Bueno da Silva Filho descobriu ouro nas cabeceiras do rio Vermelho e fundou o Arraial de Sant'Anna, às margens do rio.
- (C) Nos anos de 1730-40 foi encontrado ouro no norte de Goiás, incentivando a fundação de cidades sob a jurisdição de Salvador, como Natividade, Almas, Chapada, Pontal e Porto Real, entre outras.
- (D) O declínio da mineração se acentuou na passagem do século XVIII para o XIX, agravado pela instituição de um novo imposto (capitação), cobrado proporcionalmente ao número de escravos de cada minerador.
- (E) Na segunda década do século XIX, em decorrência da crise da mineração, a região estava em uma situação de abandono, como relatado por Theotônio Segurado, futuro Governador da Capitania do Norte.

## CONHECIMENTOS ESPECÍFICOS

31

O *briefing*, primeira etapa de um projeto de *design*, é o documento que norteia todo o processo.

Sobre o *briefing*, analise as afirmativas a seguir.

- I. Deve incluir uma descrição clara dos objetivos do projeto, o que se espera alcançar e qual é o propósito geral.
- II. Não é necessário entender sobre o público-alvo ou destinatários do projeto porque esse estudo acontece em uma etapa posterior ao *briefing*.
- III. Deve incluir informações sobre quaisquer restrições, limitações orçamentárias, prazos específicos ou outras restrições que possam impactar o desenvolvimento do projeto.

Está correto o que se afirma em

- (A) I e III, apenas.
- (B) I e II, apenas.
- (C) II e III, apenas.
- (D) II, apenas.
- (E) I, apenas.

32

A *expografia* é o *design* e a disposição de exposições em espaços físicos. Um dos pontos de atenção no projeto é a criação de um fluxo planejado.

Assinale a opção que indica o significado de *fluxo planejado*.

- (A) Uma rota pensada para guiar os visitantes de forma lógica e envolvente.
- (B) O controle da quantidade de visitantes de uma exposição.
- (C) A previsão de montagem de uma mesma exposição em vários locais diferentes.
- (D) A proximidade das exposições aos banheiros e comércio.
- (E) A disposição baseada na ordem alfabética das obras.

33

Relacione os princípios que norteiam os projetos de *design*, listados a seguir, aos seus significados.

1. Proximidade
  2. Alinhamento
  3. Repetição ou Ritmo
  4. Contraste
- ( ) Disposição consistente de elementos em relação a uma linha imaginária ou a outros elementos na composição.
- ( ) Quando itens estão próximos uns dos outros, os espectadores tendem a percebê-los como parte de um grupo ou conjunto.
- ( ) Diferença visível entre elementos em um *design*, que podem ser em termos de cor, tamanho, forma, textura ou valor.
- ( ) Estabelece padrões visuais que guiam o olhar do observador.

Assinale a opção que indica a relação correta, segundo a ordem apresentada.

- (A) 1 – 3 – 4 – 2.  
 (B) 2 – 4 – 3 – 1.  
 (C) 2 – 1 – 4 – 3.  
 (D) 3 – 1 – 4 – 2.  
 (E) 4 – 1 – 2 – 3.

34

Sobre o *mockup*, um grande aliado nos projetos de *design*, analise as afirmativas a seguir e assinale (V) para a verdadeira e (F) para a falsa.

- ( ) *Mockups* permitem que os designers e clientes avaliem o *design* antes da implementação real.
- ( ) Ao identificar possíveis problemas de *design* ou ajustes necessários por meio de *mockups*, os recursos podem ser economizados.
- ( ) *Mockups* são frequentemente usados em apresentações a clientes ou equipes, tornando o processo de aprovação mais visual e compreensível.

As afirmativas são, respectivamente,

- (A) F – V – F.  
 (B) F – V – V.  
 (C) V – F – F.  
 (D) V – V – F.  
 (E) V – V – V.

35

No *design* de embalagens de papel há uma etapa de trabalho colaborativo entre *designers* gráficos, engenheiros de embalagens e fabricantes. Essa etapa determina a forma e a estrutura da embalagem. Nela é possível minimizar o desperdício de material, contribuindo para melhorar os custos de produção.

Assinale a opção que indica a etapa do projeto de embalagens descrita.

- (A) Laminação.  
 (B) Vinco.  
 (C) Desenho da faca.  
 (D) Montagem.  
 (E) Protótipo.

36

No *design* gráfico, a arte-final é o processo de preparação de um arquivo gráfico antes de ser enviado para a produção. Isso requer um conjunto de conhecimentos técnicos para que os projetos se materializem exatamente como foram pensados. Sobre o tema, analise as afirmativas a seguir.

- I. Para imprimir em gráfica *offset*, as cores utilizadas devem estar no padrão RGB.
- II. As gráficas ajustam automaticamente a resolução das imagens para a qualidade desejada da produção final.
- III. A sangria é importante para permitir que o conteúdo do *design* alcance as bordas da página e não correr o risco de pequenas variações na impressão deixarem margens brancas ao redor.

Está correto o que se afirma em

- (A) I, apenas.  
 (B) III, apenas.  
 (C) I e II, apenas.  
 (D) I e III, apenas.  
 (E) II e III, apenas.

37

Os infográficos têm uma longa história que remonta aos primórdios da comunicação visual. Hoje, como a informação flui rapidamente e as pessoas têm cada vez menos tempo disponível para dedicar à leitura extensa, os infográficos desempenham um papel crucial na comunicação eficaz. Essa forma visual de apresentar informações condensa dados complexos e mensagens-chave em representações gráficas concisas, tornando-as mais acessíveis e de fácil compreensão.

Associe os tipos de infográfico apresentados a seguir às respectivas explicações.

1. Estatísticos
  2. de Linha do Tempo
  3. Comparativos
  4. de Processo ou Fluxogramas
- ( ) Comparam diferentes conjuntos de dados ou variáveis, geralmente usando gráficos de barras lado a lado ou outras representações visuais.
- ( ) Mostram uma série de eventos ou processos em ordem cronológica, frequentemente com ícones ou imagens representando cada evento.
- ( ) Apresentam dados quantitativos por meio de gráficos de barras, gráficos de pizza, histogramas, entre outros.
- ( ) Ilustram um processo passo a passo, mostrando a sequência de etapas com ícones ou imagens relacionadas a cada uma.

Assinale a opção que indica a relação correta, na ordem apresentada.

- (A) 2 – 3 – 4 – 1.  
 (B) 3 – 2 – 1 – 4.  
 (C) 1 – 2 – 3 – 4.  
 (D) 4 – 3 – 2 – 1.  
 (E) 3 – 1 – 2 – 4.

38

Sobre diagramação, processo de organização de elementos gráficos em peças de leitura e a hierarquia visual, analise as afirmativas a seguir e assinale (V) para a verdadeira e (F) para a falsa.

- ( ) A hierarquia visual ajuda a destacar elementos importantes, como títulos, subtítulos e chamadas.
- ( ) Permite organizar o conteúdo de forma lógica e fácil por isso deve ser aplicada apenas na página de sumário.
- ( ) Ajuda os leitores a entenderem a estrutura do material, identificando seções e subseções.
- ( ) Contraste de cor, tamanho e estilo não são utilizados para definir a hierarquia visual.

As afirmativas são, respectivamente,

- (A) F – V – F – V.
- (B) V – V – V – F.
- (C) F – F – F – V.
- (D) F – V – V – F.
- (E) V – F – V – F.

39

Desenvolver animações usando conceitos de *motion graphics* envolve a combinação de *design* gráfico, animação e técnicas de composição visual. Uma das etapas de produção de uma animação é a produção de um documento que apresenta a sequência de ilustrações ou imagens que representa a ordem visual de cenas em uma narrativa. Nesse documento, cada quadro mostra uma cena específica e inclui detalhes sobre a composição visual, ação, diálogo e outros elementos relevantes. Ele serve como um guia visual prévio, auxiliando na pré-visualização e no planejamento da narrativa antes da produção completa.

Assinale a opção que indica o nome desse documento.

- (A) Keyframes.
- (B) *Storytelling*.
- (C) *Stop Motion*.
- (D) Storyboard.
- (E) Jornada do herói.

40

Alguns *designers* de livros optam por utilizar laminação em seus projetos.

Sobre as funções da laminação, analise as afirmativas a seguir.

- I. Cria uma camada protetora sobre a capa, ajudando a evitar danos causados pelo manuseio frequente, arranhões, umidade e desbotamento.
- II. Faz com que o corte das páginas do livro aconteça com perfeição.
- III. Oferece um espaço extra para comunicar informações relevantes na capa dos livros.

Está correto o que se afirma em

- (A) I, apenas
- (B) II, apenas.
- (C) I e II, apenas.
- (D) I e III, apenas.
- (E) II e III, apenas.

41

Os pontos de venda (PDV) desempenham um papel crucial na construção e reforço da identidade de marca. Uma abordagem estratégica ao relacionar pontos de venda e *branding* pode fortalecer a presença da marca no mercado.

Aqui estão algumas peças gráficas utilizadas nos PDVs.

Relacione-as às suas explicações.

1. Faixas de gôndolas
  2. *Stopper*
  3. Móbile Promocional
  4. Tótem
  5. *Backdrop*
- ( ) Peça suspensa por fios de nylon, de alto impacto e destaque, uma vez que, por estarem pendurados, possuem grande visibilidade.
  - ( ) Peças normalmente pequenas, retas ou dobradas em “L” colocadas junto ao produto nas prateleiras.
  - ( ) Painéis fixos ou modulares. Usados para servir de fundo em fotos para dar visibilidade às identidades visuais. É uma peça de proporções maiores.
  - ( ) Têm diversas formas e tamanho e são instalados sempre na altura dos olhos do consumidor. É uma peça que deve ser aplicada de forma perpendicular às prateleiras ou às gôndolas e uma parte fica pendente e projetada para fora.
  - ( ) Há diferentes tipos: promocional, dobrável, pessoa e muitas vezes são usados como item de sinalização. São autoportantes.

Assinale a opção que indica a relação correta, segundo a ordem apresentada.

- (A) 4 – 1 – 3 – 2 – 5.
- (B) 3 – 1 – 5 – 2 – 4.
- (C) 4 – 1 – 5 – 2 – 3.
- (D) 1 – 4 – 2 – 3 – 5.
- (E) 2 – 5 – 3 – 4 – 1.

42

Em um projeto de *design* gráfico, a escolha entre imagens vetoriais e renderizadas desempenha um papel crucial na obtenção de resultados visuais eficientes.

A seguir, listamos algumas características delas. Assinale (V) para a imagem vetorial e (R) para a imagem renderizada.

- ( ) Podem ser redimensionadas sem perda de qualidade, pois são baseadas em equações matemáticas.
- ( ) Mais adequadas para representar fotografias, texturas e detalhes complexos.
- ( ) Composta por pixels, o que pode resultar em perda de qualidade ao redimensionar.
- ( ) Comuns em formatos como JPG, PNG e GIF.
- ( ) Adequadas para representar gráficos complexos, logotipos e ilustrações.

Assinale a opção que indica a relação correta, segundo a ordem apresentada.

- (A) R – R – R – V – V.
- (B) V – V – R – V – V.
- (C) V – R – V – V – V.
- (D) V – R – R – R – V.
- (E) R – R – V – V – V.

43

Ao concluir a elaboração de um material gráfico destinado à impressão, é necessário realizar o procedimento denominado *fechamento do arquivo*. Nesse estágio, a meta é converter o arquivo de trabalho para um formato que impeça qualquer edição ou alteração de conteúdo.

Assinale a opção que indica o formato amplamente preferido e aceito pelas gráficas para o envio de projetos gráficos.

- (A) jpg.
- (B) tiff.
- (C) png.
- (D) doc.
- (E) pdf.

44

Sobre a importância do *wireframe* como técnica essencial para o desenvolvimento de interfaces em mídias digitais, analise as afirmativas a seguir.

- I. É uma representação visual simplificada e contribui para a estruturação conceitual, iteração eficiente, economia de tempo e recursos.
- II. Tem papel como guia precursor para o *design* visual e a criação de guias de estilos gráficos coesos em projetos digitais.
- III. O *wireframe* ajuda a definir a arquitetura da informação delineando a disposição dos elementos, seções e funcionalidades.

Está correto o que se afirma em

- (A) I, apenas.
- (B) I e II, apenas.
- (C) I e III, apenas.
- (D) II e III, apenas.
- (E) I, II e III.

45

O *Motion Design* é uma disciplina que combina elementos de *design* gráfico e animação para criar peças visuais dinâmicas e interativas.

Sobre o tema, analise as afirmativas a seguir.

- I. Essa forma de *design* é frequentemente utilizada em diversos meios, como vídeos, filmes, apresentações, *websites*, aplicativos e publicidade.
- II. Essa forma de *design* desempenha um papel importante na comunicação visual, permitindo que as mensagens sejam impressas em jornais e revistas.
- III. Nessa forma de *design*, o foco está na criação de elementos gráficos em movimento, como textos animados, gráficos, ícones, transições e outros elementos visuais que se movem de maneira fluida e atraente.

Está correto o que se afirma em

- (A) I, apenas.
- (B) I e II, apenas.
- (C) I e III, apenas.
- (D) II e III, apenas.
- (E) I, II e III.

46

O universo das técnicas de impressão oferece uma variedade de opções para atender às demandas diversificadas no campo da produção de embalagens. Cada técnica apresenta características específicas que se alinham com diferentes materiais, requisitos de *design* e objetivos de produção.

Relacione as técnicas com as respectivas explicações.

1. Flexografia
  2. Offset
  3. Serigrafia
  4. Impressão Digital
  5. *Hot Stamping*
- ( ) Utiliza uma tela de malha para transferir tinta para o material de embalagem. É adequada para imprimir em uma variedade de superfícies, incluindo plástico, vidro e metal.
  - ( ) Envolve a transferência de uma folha metalizada para a embalagem usando calor e pressão. É usado para adicionar detalhes metálicos e efeitos brilhantes em embalagens de alta qualidade.
  - ( ) É um método de impressão indireta, no qual a tinta é transferida de um cilindro para uma mantilha e, em seguida, para o material a ser impresso. Usado para impressão de alta qualidade.
  - ( ) É uma técnica de impressão em relevo que utiliza clichês flexíveis. É comumente usada para imprimir em superfícies irregulares, como sacos plásticos, rótulos e embalagens de papelão.
  - ( ) Permite a impressão direta de arquivos digitais sem a necessidade de placas ou cilindros. É uma opção flexível para produção em curto prazo.

Assinale a opção que apresenta a relação correta, na ordem apresentada.

- (A) 4 – 5 – 2 – 3 – 1.
- (B) 3 – 4 – 1 – 5 – 2.
- (C) 5 – 2 – 1 – 3 – 4.
- (D) 4 – 1 – 3 – 5 – 2.
- (E) 3 – 5 – 2 – 1 – 4.

47

O \_\_\_\_\_ é um documento que contém informações básicas de padronização e orientações para o branding de uma empresa. Ele especifica tudo o que desempenha um papel na aparência da marca. Quando ele existe, a marca fica protegida de aplicações distorcidas que podem prejudicar a sua reputação.

Assinale a opção que apresenta o termo que completa corretamente a lacuna do trecho acima.

- (A) *Briefing*.
- (B) *Layout*.
- (C) Guia de Sinalização.
- (D) Manual de Identidade Visual.
- (E) Planejamento Estratégico.

48

O uso de *grids* (ou *grades*) na diagramação é fundamental para criar *layouts* visualmente equilibrados, organizados e esteticamente agradáveis. Sobre o tema, analise as afirmativas a seguir.

- I. O *grid* organiza o conteúdo de maneira automática, com apenas um clique.
- II. Ao alinhar textos e elementos visuais de acordo com o *grid*, a leitura se torna mais fluida e agradável para o espectador.
- III. O uso de um *grid* facilita o posicionamento do texto já que é ele quem define quais fontes serão utilizadas no projeto.

Está correto o que se afirma em

- (A) I, apenas.
- (B) II, apenas.
- (C) I e II, apenas.
- (D) I e III, apenas.
- (E) II e III, apenas.

49

A atuação do *designer* é ampla e pode resultar em muitas peças gráficas diferentes. Relacione as peças gráficas listadas a seguir às suas respectivas explicações.

1. Cartões de Visita
  2. Panfletos e Folhetos
  3. Pôsteres
  4. *Banners*
- ( ) Peça gráfica geralmente usada para anunciar eventos e filmes que também pode ser meramente informativo.
- ( ) Contêm informações de contato e detalhes da empresa ou indivíduo e cabem no bolso.
- ( ) Materiais impressos para divulgação de informações sobre produtos, serviços ou eventos, podem ter dobras ou não.
- ( ) Se for impresso, costuma ser em lona e é usado pendurado. No formato online é um elemento de destaque num site.

Assinale a opção que indica a relação correta na ordem apresentada.

- (A) 3 – 1 – 2 – 4.
- (B) 1 – 2 – 3 – 4.
- (C) 2 – 1 – 3 – 4.
- (D) 3 – 4 – 2 – 1.
- (E) 4 – 1 – 2 – 3.

50

Ao desenvolver uma identidade visual é necessário prever variações da logomarca. Normalmente temos as versões primária, secundária, colorida e monocromática de cada logo criada.

Leia as afirmativas a seguir e assinale (V) para a verdadeira e (F) para a falsa.

- ( ) Logos precisam ser adaptáveis a diferentes contextos e meios de comunicação para preservar e fortalecer a imagem.
- ( ) É fundamental deixar que as pessoas interajam e modifiquem a logomarca da forma que acharem melhor, para criar empatia.
- ( ) Uma versão simplificada ou uma variação em preto e branco pode ser necessária para que a logomarca tenha mais contraste e, portanto, se destaque em diversos fundos.

As afirmativas são, respectivamente,

- (A) F – V – F.
- (B) V – V – V.
- (C) F – F – F.
- (D) F – V – V.
- (E) V – F – V.

## PRINCÍPIOS DA ADMINISTRAÇÃO PÚBLICA

51

A Administração Direta é composta por órgãos e entidades que fazem parte da estrutura do Estado e operam diretamente sob a autoridade do poder público. Em contrapartida, a Administração Indireta inclui entidades com personalidade jurídica própria, mas vinculadas ao Estado. Enquanto a Administração Direta executa diretamente políticas públicas, a Indireta opera de forma mais especializada, muitas vezes em atividades empresariais.

Assinale a opção que indica a entidade dotada de personalidade jurídica de direito privado, com patrimônio próprio e capital exclusivo da União, criado por lei para a exploração de atividade econômica.

- (A) Autarquia.
- (B) Empresa pública.
- (C) Fundação pública.
- (D) Organização social.
- (E) Sociedade de economia mista.

52

A educação, a saúde, a alimentação, o trabalho, a moradia, o transporte, o lazer, a segurança, a previdência social, a proteção à maternidade e à infância, a assistência aos desamparados, na forma desta Constituição, são direitos sociais.

Assinale a opção que indica, corretamente, o direito devido ao brasileiro em situação de vulnerabilidade social.

- (A) Benefício de prestação continuada.
- (B) Fundo de garantia do tempo de serviço.
- (C) Seguro-desemprego.
- (D) Renda básica familiar.
- (E) Repouso semanal remunerado.

## 53

A Lei de Acesso à Informação (Lei nº 12.527/2011) garante ao cidadão o direito de obter informações públicas, promovendo a transparência e a *accountability* no setor público.

Assinale a opção que apresenta a qualidade da informação que pode ser conhecida e utilizada por indivíduos, equipamentos ou sistemas autorizados.

- (A) Integridade.
- (B) Autenticidade.
- (C) Transparência.
- (D) Primariedade.
- (E) Disponibilidade.

## 54

A Lei Geral de Proteção de Dados Pessoais (Lei nº 13.709/2018) estabelece regras para o tratamento de dados pessoais por parte de empresas e organizações, visando proteger a privacidade e os direitos dos cidadãos.

Assinale, entre as opções a seguir, a que apresenta um fundamento da disciplina da proteção de dados pessoais.

- (A) Anonimização.
- (B) Consentimento.
- (C) Não discriminação.
- (D) Uso compartilhado de dados.
- (E) Liberdade de expressão.

## 55

De acordo com a Lei nº 14.133/2021, conhecida como Nova Lei de Licitações e Contratos Administrativos, o processo licitatório visa prevenir contratações com sobrepreço, preços manifestamente inexequíveis e superfaturamento na execução dos contratos.

Com relação aos casos de superfaturamento em que há dano provocado ao patrimônio da Administração, analise as afirmativas a seguir.

- I. Medição de quantidades superiores às efetivamente executadas ou fornecidas.
- II. Alterações no orçamento de obras e de serviços de engenharia que causem desequilíbrio econômico-financeiro do contrato em favor do contratante.
- III. Deficiência na execução de obras e de serviços de engenharia que resultem em diminuição da sua qualidade, vida útil ou insegurança.

Está correto o que se afirma em

- (A) I, apenas.
- (B) I e II, apenas.
- (C) I e III, apenas.
- (D) II e III, apenas.
- (E) I, II e III.

**LEGISLAÇÃO INSTITUCIONAL**

## 56

João, eleito Deputado Estadual, foi diplomado, mas ainda não tomou posse.

À luz da Constituição do Estado do Tocantins, João não poderá

- (A) exercer cargo em uma empresa concessionária de serviço público.
- (B) ser diretor de uma empresa que goze de favor decorrente de contrato com pessoa jurídica de direito público.
- (C) patrocinar uma causa em que seja interessada uma autarquia.
- (D) manter contrato com uma pessoa jurídica de direito privado.
- (E) ser titular de mais de um cargo ou de mandato público eletivo.

## 57

Considerando o que dispõe o Regimento Interno da Assembleia Legislativa de Tocantins a respeito das Comissões, assinale a afirmativa correta.

- (A) A Comissão de Constituição, Justiça e Redação tem poderes de investigação próprios das autoridades judiciais.
- (B) As Comissões Especiais não podem ser constituídas para investigação sumária de fato determinado.
- (C) À Comissão de Segurança Pública compete analisar questões ligadas à violência urbana e rural.
- (D) As Comissões de Representação devem ser aprovadas pela maioria absoluta do Plenário da Assembleia.
- (E) A Comissão Parlamentar de Inquérito poderá deslocar-se para qualquer ponto do território estadual para a realização de investigações e audiências públicas.

## 58

Joaquim é servidor estadual estável, detentor de cargo efetivo e aposentado voluntariamente. Depois de dois anos de sua aposentadoria, Joaquim manifestou interesse, perante a Administração, de retornar à atividade em que era estável.

Caso haja cargo vago disponível, conforme a Lei nº 1818/2017, que dispõe sobre o Estatuto dos Servidores Públicos Civis do Estado do Tocantins, assinale a modalidade de provimento adequada ao caso.

- (A) Aproveitamento.
- (B) Reversão.
- (C) Readaptação.
- (D) Reintegração.
- (E) Recondução.

**59**

Luiz, servidor público efetivo, encontra-se em estágio probatório e, nesse período, tem sido submetido a Avaliações Especiais de Desempenho.

Nos termos da Lei nº 4.208/2023, que cuida do plano de cargos, carreiras e remuneração dos Servidores da Assembleia Legislativa de Tocantins, assinale a afirmativa correta.

- (A) A Avaliação Especial de Desempenho dá-se em três etapas, que tem por base o acompanhamento trimestral do servidor.
- (B) O resultado da avaliação será levado ao conhecimento do avaliado e arquivado em caráter público.
- (C) O servidor, para ser aprovado, deverá obter média igual ou superior a 60% (sessenta por cento) dos pontos possíveis nas Avaliações Especiais de Desempenho.
- (D) O servidor, caso aprovado no estágio probatório, será imediatamente elevado para a classe seguinte do padrão inicial do seu cargo.
- (E) O servidor deve ser avaliado pelo chefe imediato.

**60**

Levando em conta a estrutura administrativa da Assembleia Legislativa de Tocantins e dos órgãos de assistência à Presidência da Assembleia, de acordo com a Lei nº 4.209/2023, a competência para encaminhar as denúncias recebidas ao Tribunal de Contas do Estado, à Polícia Civil, ao Ministério Público, ou a outro órgão competente, é da

- (A) Procuradoria-Geral.
- (B) Controladoria Interna.
- (C) Diretoria de Polícia Legislativa.
- (D) Assessoria Jurídica da Presidência.
- (E) Ouvidoria Geral da Assembleia Legislativa.





# ASSEMBLEIA LEGISLATIVA DO ESTADO DO TOCANTINS

CONCURSO PÚBLICO – EDITAL Nº 01/2023

## PROVA OBJETIVA – MANHÃ

### TÉCNICO LEGISLATIVO TÉCNICO EM ENFERMAGEM

NÍVEL MÉDIO – TIPO 1 – BRANCA



#### SUA PROVA

- Além deste caderno contendo **60 (sessenta)** questões objetivas, você receberá do fiscal de prova o cartão de respostas;
- As questões objetivas têm **5 (cinco)** opções de resposta (A, B, C, D) e somente uma delas está correta.



#### TEMPO

- Você dispõe de **4 (quatro) horas** para a realização da prova, já incluído o tempo para a marcação do cartão de respostas;
- **3 (três) horas** após o início da prova, é possível retirar-se da sala, sem levar o caderno de questões;
- A partir dos **30 (trinta) minutos** anteriores ao término da prova é possível retirar-se da sala **levando o caderno de questões**.



#### NÃO SERÁ PERMITIDO

- Qualquer tipo de comunicação entre os candidatos durante a aplicação da prova;
- Anotar informações relativas às respostas em qualquer outro meio que não seja o caderno de questões;
- Levantar da cadeira sem autorização do fiscal de sala;
- Usar o sanitário ao término da prova, após deixar a sala.



#### INFORMAÇÕES GERAIS

- Verifique se seu caderno de questões está completo, sem repetição de questões ou falhas. Caso contrário, **notifique imediatamente o fiscal da sala**, para que sejam tomadas as devidas providências;
- Confira seus dados pessoais, especialmente nome, número de inscrição e documento de identidade e leia atentamente as instruções para preencher o cartão de respostas;
- Para o preenchimento do cartão de respostas, use somente caneta esferográfica, fabricada em material transparente, com tinta preta ou azul;
- Assine seu nome apenas no(s) espaço(s) reservado(s) no cartão de respostas;
- Confira seu cargo, cor e tipo do caderno de questões. Caso tenha recebido caderno de cargo ou cor ou tipo **diferente** do impresso em seu cartão de respostas, o fiscal deve ser **obrigatoriamente** informado para o devido registro na ata da sala;
- Reserve tempo suficiente para o preenchimento do seu cartão de respostas. O preenchimento é de sua responsabilidade e **não será permitida a troca do cartão de respostas em caso de erro cometido pelo candidato**;
- Para fins de avaliação, serão levadas em consideração apenas as marcações realizadas no cartão de respostas;
- A FGV coletará as impressões digitais dos candidatos na lista de presença;
- Os candidatos serão submetidos ao sistema de detecção de metais quando do ingresso e da saída de sanitários durante a realização das provas.
- **Boa prova!**

## CONHECIMENTOS BÁSICOS

### Língua Portuguesa

1

Leia o seguinte texto de um jornal de outros tempos:

*“Mudança nas moedas. A partir de junho começam a entrar em circulação as moedas de Cr\$100 e Cr\$500 substituindo as cédulas que trazem estampadas a poetisa Cecília Meireles e o naturalista Augusto Ruschi, respectivamente. O lançamento das moedas foi aprovado na reunião de ontem do Conselho Monetário Nacional, colocando fim à família de notas criadas no governo Sarney, sob a égide dos cruzados novos.”*

Sobre esse fragmento textual, analise as observações a seguir, feitas por um estudioso de nossa Língua, e assinale a correta.

- (A) “Começam a entrar em circulação” é bastante estranho, porque as moedas, pequenas que são e de pequeno valor, “entram” logo.
- (B) “trazem estampadas a poetisa Cecília Meireles e o naturalista Augusto Ruschi”, mas eu pensava que as moedas trazem estampadas as efígies de Fulano ou Beltrano.
- (C) “colocando fim à família” mostra o emprego inadequado de “colocar” em lugar de “pôr”.
- (D) “criadas”, por questão de clareza e precisão, devia ser substituído por “lançadas” ou “emitidas”.
- (E) “sob”, por questão de correção gramatical, deve ser substituído por “sobre”.

2

Leia o fragmento a seguir.

*“Não somos daqueles que só em meio aos livros, estimulados por livros vêm a ter pensamentos – é nosso hábito pensar ao ar livre, andando, saltando, escalando, dançando, preferivelmente em montes solitários ou próximos ao mar, onde mesmo as trilhas se tornam pensativas.”* (Nietzsche, filósofo alemão).

Sobre o significado desse fragmento, assinale a afirmativa correta.

- (A) A leitura é importante para a criação de ideias originais.
- (B) As formas de gerúndio mostram a evolução cronológica das ações narradas pelo escritor.
- (C) O pronome relativo “onde” refere-se a locais ao ar livre.
- (D) A forma do verbo “tornar-se”, como verbo de ligação, indica um estado transitório.
- (E) Os ambientes solitários propiciam reflexões de valor.

3

As citações a seguir são compostas por dois segmentos; assinale a opção em que a relação lógica indicada pelo segundo segmento está correta.

- (A) Dize-me o que crês ser / e te direi o que não és. – relação de oposição.
- (B) Quem crê é forte / quem duvida é fraco. – relação de conclusão.
- (C) Seja lá por que um homem reza, / ele reza por um milagre. – relação de explicação.
- (D) Não adianta esperar que o navio chegue / se você não o mandou para lugar nenhum. – relação de causa.
- (E) Pense como um homem de ação / e aja como um pensador. – relação de conclusão.

4

Os textos a seguir mostram elementos de coesão em relação ao termo sublinhado; assinale a opção em que todos os termos seguintes, em coesão com ele, estão indicados.

- (A) Geralmente, entre nossos motivos de agir, há um mais forte que os demais: aquele que não é declarado. – *um, os demais, aquele, que.*
- (B) O que empobrece o homem não são seus atos, mas os desejos que ele possui. – *ele.*
- (C) O dinheiro, recebem-no todos os que trabalham e o perdem todos os irresponsáveis. – *no, que, o.*
- (D) Qual pode ser a vida que começa pelos gritos da mãe, que a dá, e o choro do filho que a recebe? – *que, que, a.*
- (E) Meu filho! Deus te enviou a este mundo. Cultiva-o e não te apresses em sair dele. – *o.*

5

As frases a seguir mostram termos repetidos; assinale a opção que apresenta a frase em que o significado dos dois termos não é o mesmo.

- (A) Morrer é mudar de corpo como o ator muda de roupa.
- (B) Janeiro é o mês que se fazem bons votos aos amigos; os outros são os meses em que esses votos não se concretizam.
- (C) Quem tempo espera, muito tempo consome.
- (D) A falsidade da História é tão velha como a própria História.
- (E) Viva todos os dias como se fosse o último. Um dia você acerta.

6

As opções a seguir mostram, corretamente, a substituição da forma sublinhada, composta de não + verbo, por um só verbo, de sentido equivalente, à exceção de uma. Assinale-a.

- (A) Os países da OTAN pediram que o exército russo não avançasse esta semana. / *parasse.*
- (B) O deputado informou que não dispunha de tempo para redigir uma nova versão do projeto. / *carecia.*
- (C) O Presidente não aceitou o convite para visitar a Alemanha. / *declinou do.*
- (D) Não abriu as portas do museu para evitar a curiosidade do público. / *fechou.*
- (E) Por seus futuros compromissos, preferia não gastar dinheiro / *economizar.*

7

As frases a seguir mostram uma locução adjetiva introduzida pela preposição sem; assinale a opção em que a substituição dessa locução por um adjetivo de valor equivalente foi feita de forma adequada.

- (A) Cartas sem autoria declarada são sempre mal recebidas / *desautorizadas.*
- (B) Os poços sem água são de pouca serventia para a lavoura / *áridos.*
- (C) Foram deixados muitos problemas sem solução / *insolúveis.*
- (D) O governo tomou muitas atitudes sem nexos / *desconexas.*
- (E) Com os fogos de artifício, o campo ficou sem visão / *invisível.*

8

Assinale a opção que apresenta a frase em que houve **erro** de concordância da palavra sublinhada.

- (A) O presidente fez questão de deixar bem claras as suas intenções.  
 (B) O STF qualificou de antidemocrático aqueles atos.  
 (C) O governo chinês torna visíveis os erros das ditaduras.  
 (D) Os enfermeiros tiveram reconhecidos os direitos de greve.  
 (E) Tomei emprestados à biblioteca vários livros.

9

As perguntas a seguir apresentam o pronome pessoal oblíquo em ênclise (após o verbo); assinale a que mostra formulação **incorreta**, porque só admite próclise.

- (A) Os dois bandidos evadiram-se do presídio em Mossoró?  
 (B) Onde podemos vê-los?  
 (C) Eles dedicar-se-iam às tarefas com prazer.  
 (D) Numa entrevista como esta, isto pergunta-se?  
 (E) Quem dir-me-á tantas barbaridades, senão ele?

10

Assinale a opção que apresenta as duas palavras que devem ser grafadas com **es** e não com **ex**.

- (A) Excremento / expurgo.  
 (B) Excusar / expontâneo.  
 (C) Excomungar / expressar.  
 (D) Extirpar / extorquir.  
 (E) Exterminar / extremoso.

## Raciocínio Lógico Matemático

11

Dois números diferentes serão escolhidos ao acaso entre os elementos do conjunto {5,7,9,11,14}.

A soma dos números escolhidos

- (A) certamente é ímpar.  
 (B) certamente é par.  
 (C) pode ser 26.  
 (D) pode ser 18.  
 (E) pode ser menor que 12.

12

Em um jogo, duas fichas azuis têm o mesmo valor de cinco fichas vermelhas e uma ficha preta vale o mesmo que três fichas azuis.

Assim, duas fichas pretas equivalem a

- (A) sete fichas vermelhas.  
 (B) oito fichas vermelhas.  
 (C) nove fichas vermelhas.  
 (D) doze fichas vermelhas.  
 (E) quinze fichas vermelhas.

13

Sabe-se que 20% de  $N$  é igual a 13,4. Logo, 90% de  $N$  é igual a

- (A) 59,6.  
 (B) 60,3.  
 (C) 61,2.  
 (D) 62,5.  
 (E) 63,2.

14

Marcelo é filho de Alberto. Pedro é filho de Luiz. Se Marcelo e Luiz são irmãos por parte de pai, então

- (A) Alberto é pai de Pedro.  
 (B) Alberto é tio de Pedro.  
 (C) Pedro é irmão de Marcelo.  
 (D) Pedro é sobrinho de Marcelo.  
 (E) Pedro é neto de Marcelo.

15

A seguir, são apresentados os 9 primeiros termos de uma sequência infinita de números inteiros.

13, 12, 14, 11, 15, 10, 16, 9, 17, ...

Os termos são, alternadamente, maiores e menores que seus antecessores imediatos, seguindo um padrão de construção.

Sabendo-se que esse padrão é mantido ao longo de toda a sequência, conclui-se que um termo negativo aparecerá pela primeira vez na

- (A) 28ª posição.  
 (B) 27ª posição.  
 (C) 26ª posição.  
 (D) 15ª posição.  
 (E) 14ª posição.

16

Para pagar um lanche, Temístocles usou uma nota de R\$20,00 e recebeu, de troco, uma nota de R\$5,00, duas notas de R\$2,00, nove moedas de R\$0,50 e 3 moedas de R\$0,25.

O lanche custou a Temístocles

- (A) R\$5,25.  
 (B) R\$5,75.  
 (C) R\$6,25.  
 (D) R\$6,75.  
 (E) R\$7,25.

17

Ana trabalha em sistema de *home-office*, mas precisa comparecer ao escritório de sua empresa em intervalos regulares.

Se Ana comparece ao escritório em determinado dia, ela precisa comparecer de novo três dias úteis depois, isto é, descontando-se os sábados e os domingos. Assim, se ela compareceu em uma quinta-feira, deverá voltar ao escritório na terça-feira da semana seguinte.

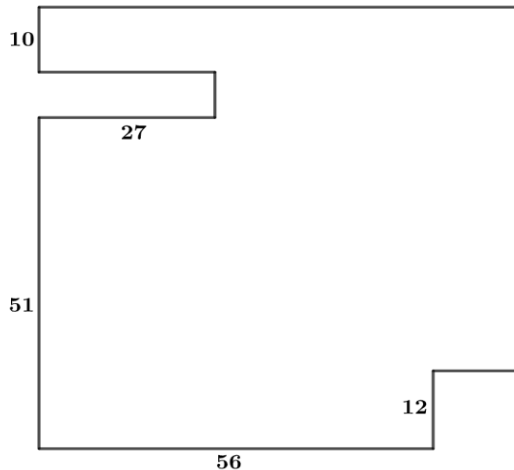
Hoje é sexta-feira e Ana está no escritório; assim, a *penúltima vez* em que ela esteve lá, foi uma

- (A) segunda-feira.  
 (B) terça-feira.  
 (C) quarta-feira.  
 (D) quinta-feira.  
 (E) sexta-feira.

18

De uma placa quadrada de madeira, foram recortados e, em seguida, descartados dois pedaços: o primeiro, em forma de um quadrado de lado 12 dm; o outro, em forma de retângulo, tendo comprimento igual a 27 dm.

A imagem a seguir ilustra o aspecto da placa após os descartes. Nela, estão indicadas as medidas, em decímetros, de alguns dos segmentos.



O menor lado do retângulo recortado dessa placa mede

- (A) 11 dm.
- (B) 10 dm.
- (C) 9 dm.
- (D) 8 dm.
- (E) 7 dm.

## Noções de Informática

19

No contexto dos sistemas operacionais Microsoft Windows, o Painel de Controle é uma área central para gerenciar as configurações do sistema, opções de personalização e outros.

Considerando as versões superiores ao Windows 7, assinale a opção que **não** indica uma funcionalidade encontrada no painel de controle.

- (A) Backup e Restauração.
- (B) Relógio e Região.
- (C) Hardware e Sons.
- (D) Contas de Usuário.
- (E) Configuração de Registro Avançadas.

20

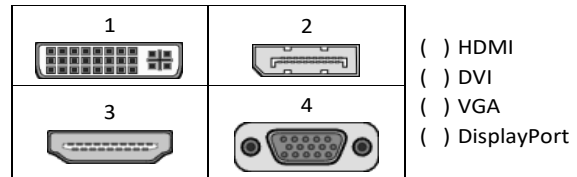
Nos sistemas operacionais Microsoft Windows 10, o recurso "Executar" permite aos usuários abrir rapidamente programas, pastas, documentos e recursos do sistema, ao digitar o caminho completo ou o nome do item.

Assinale a opção que apresenta a combinação de teclas usada para abrir a caixa de diálogo "Executar".

- (A) Windows + E
- (B) Windows + I
- (C) Windows + K
- (D) Windows + L
- (E) Windows + R

21

No contexto das interfaces para vídeo, relacione as portas às suas respectivas tecnologias.



Assinale a opção que indica a relação correta, segundo a ordem apresentada.

- (A) 2 – 3 – 1 – 4.
- (B) 2 – 4 – 1 – 3.
- (C) 3 – 2 – 1 – 4.
- (D) 3 – 1 – 4 – 2.
- (E) 4 – 2 – 3 – 1.

22

Sobre a inserção de tabelas no Microsoft Word 2019 em português, analise as afirmativas a seguir.

- I. As tabelas admitem diferentes estilos de borda, cores de preenchimento e fontes, para melhorar sua apresentação visual.
- II. Ao inserir uma tabela, é possível definir o número de linhas e colunas antes de criá-la, no entanto, não é possível alterar a estrutura após a inserção.
- III. As tabelas podem ser inseridas apenas no início de um documento e não podem ser movidas para outras partes do texto.

Está correto o que se afirma em

- (A) I, apenas.
- (B) I e II, apenas.
- (C) II e III, apenas.
- (D) I e III, apenas.
- (E) I, II e III.

23

Em uma planilha Microsoft Excel 2019 em português do Brasil, há um conjunto de dados com vendas listadas na coluna B.

Por meio da funcionalidade de Formatação Condicional, a seguinte função pode ser usada para destacar os 10% dos principais valores de vendas com preenchimento verde:

- (A) PERCENTIL.
- (B) MAXIMO.
- (C) SOMASES.
- (D) CONT.SE.
- (E) ABS.

24

Em uma pequena empresa, durante uma tentativa de realizar uma manutenção de rotina nos servidores ao final do expediente, José, um funcionário recém-contratado, com pouca experiência em TI, desliga um servidor que está rodando um serviço de DHCP. No dia seguinte, os usuários começam a reportar problemas.

Considerando que todas as estações de trabalho com sistema operacional Windows estavam utilizando o servidor DHCP, assinale a opção que indica o que os usuários reportaram.

- (A) As estações de trabalho não estão ligando, pois dependem do servidor DHCP.
- (B) Havia lentidão na conexão com a internet.
- (C) Perda de acesso à internet, enquanto o acesso à rede local entre as estações de trabalho permaneceu possível.
- (D) Interrupção do serviço de *e-mail*; os demais serviços funcionavam.
- (E) Impressão em rede local não funcionava, mas a internet estava acessível.

25

Os ataques de negação de serviço distribuídos, conhecidos como DDoS, representam uma ameaça significativa para a segurança da internet.

Com base nesse contexto, assinale a afirmativa **incorreta**.

- (A) Em um ataque DDoS, os atacantes usam uma rede de computadores comprometidos, conhecidos como botnets.
- (B) Os ataques DDoS geralmente visam comprometer os dados, tornando-os inacessíveis, mesmo para usuários autorizados.
- (C) Os ataques DDoS podem causar interrupções significativas nos serviços *online*.
- (D) Embora não seja usual, ataques DDoS já foram feitos a partir de dispositivos IoT comprometidos, como câmeras de segurança.
- (E) Os ataques de DDoS podem ter como alvo vários recursos de rede, incluindo servidores web, jogos *online* e infraestrutura de nuvem.

26

No contexto da computação em nuvem e seus serviços, assinale a opção que corresponde ao conceito de **elasticidade**.

- (A) A capacidade de expandir ou reduzir dinamicamente seus recursos de acordo com a demanda.
- (B) A flexibilidade de implementação de serviços.
- (C) A capacidade de uma nuvem de suportar múltiplos usuários, simultaneamente.
- (D) A velocidade da conexão entre a nuvem e os dispositivos do usuário.
- (E) A confiabilidade dos serviços oferecidos pelo provedor de computação em nuvem.

## História e Geografia do Estado de Tocantins

27



As bonecas Ritxoko são figuras de cerâmica confeccionadas por mulheres indígenas da etnia Karajá, do estado do Tocantins. Feitas a partir da mistura de argila e água, as peças representam tanto a forma humana e seus ciclos de vida quanto elementos da fauna e do sobrenatural. A pigmentação vermelha é extraída do urucum, enquanto a preta é retirada de uma árvore chamada ixarurina. As bonecas são usadas como instrumentos de socialização das crianças que se veem nesses objetos e aprendem a ser Karajá, recebendo ensinamentos e aprendendo as técnicas e saberes associados à sua confecção e usos. A pintura e a decoração das cerâmicas estão associadas à pintura corporal dos Karajá e às peças de vestuário e adorno.

Adaptado de <https://www.gov.br/funai>

Com base no trecho, é correto afirmar que as bonecas Ritxoko são um patrimônio

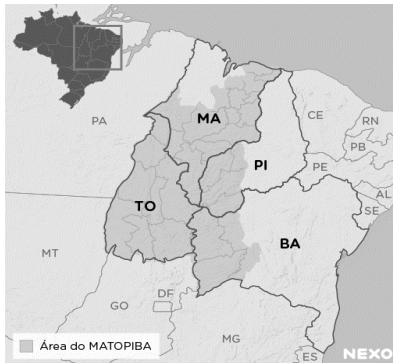
- (A) da humanidade, uma vez que constituem bens culturais e naturais significativos para todas as culturas, sendo contempladas como referência estética para todos os povos.
- (B) histórico nacional, pois exemplificam a riqueza dos modos de fazer e das formas de expressão que envolvem a tradição dos Karajás no Brasil.
- (C) cultural brasileiro, uma vez que são consideradas representações culturais com significados sociais e identitários profundos.
- (D) imaterial mundial, já que sua feitura envolve processos abstratos criativos de elaboração e variação de formas e grafismos.
- (E) material tocantinense, por expressar a arte, a memória e a identidade das comunidades indígenas da Ilha do Bananal, no Tocantins.

28

O Estado do Tocantins situa-se em uma zona de transição que apresenta dois tipos de vegetação: a Floresta Ombrófila e a Savana, pertencentes, respectivamente, aos biomas

- (A) Amazônia e Cerrado.
- (B) Mata Atlântica e Pampa.
- (C) Caatinga e Mata Atlântica.
- (D) Amazônia e Caatinga.
- (E) Cerrado e Pantanal.

29



A área do MATOPIBA caracteriza-se pelo baixo preço das terras e pela uniformidade do clima, do solo e do relevo, que facilitam a mecanização agrícola e tem atraído cada vez mais agricultores.

A respeito do MATOPIBA, analise as afirmativas a seguir.

- I. É uma região de transição entre o Cerrado e o Semiárido, com condições favoráveis para a agricultura: áreas planas e extensas, solos de alto potencial produtivo, disponibilidade de água, clima favorável com elevada intensidade de sol.
- II. É um grande produtor de *commodities*, com uso intenso de tecnologia (máquinas, colheitadeiras, insumos) e uso reduzido do fator trabalho, assim sendo, o crescimento do produto interno bruto (PIB) aumenta com velocidade, mas a geração de riqueza não é acompanhada, proporcionalmente, por uma melhora na distribuição de renda.
- III. É o maior produtor nacional de soja, pois concentra 90% da área de plantio, sendo também a região com o maior índice de produtividade sustentável de grãos, em função da colaboração do setor do agronegócio com a preservação das unidades de conservação locais.

Está correto o que se afirma em

- (A) I, apenas.
- (B) II, apenas.
- (C) III, apenas.
- (D) I e II, apenas.
- (E) II e III, apenas.

30

Sobre a formação histórica do território que hoje corresponde ao Estado do Tocantins, assinale a afirmativa que descreve corretamente o processo de desbravamento e ocupação da região no Período Colonial.

- (A) No final do século XVI, os primeiros a encontrar a foz do rio Tocantins junto ao Amazonas foram os espanhóis, então instalados no Maranhão para expulsar colonos franceses que haviam fundado a França equinocial.
- (B) Na primeira metade do século XVIII, a bandeira de Bartolomeu Bueno da Silva Filho descobriu ouro nas cabeceiras do rio Vermelho e fundou o Arraial de Sant'Anna, às margens do rio.
- (C) Nos anos de 1730-40 foi encontrado ouro no norte de Goiás, incentivando a fundação de cidades sob a jurisdição de Salvador, como Natividade, Almas, Chapada, Pontal e Porto Real, entre outras.
- (D) O declínio da mineração se acentuou na passagem do século XVIII para o XIX, agravado pela instituição de um novo imposto (capitação), cobrado proporcionalmente ao número de escravos de cada minerador.
- (E) Na segunda década do século XIX, em decorrência da crise da mineração, a região estava em uma situação de abandono, como relatado por Theotônio Segurado, futuro Governador da Capitania do Norte.

## CONHECIMENTOS ESPECÍFICOS

31

Um paciente adulto, atendido em uma unidade de saúde, queixou-se, entre outras coisas, de picos de febre intercalados com períodos de temperatura normal (o retorno à normalidade aconteceu pelo menos uma vez a cada 24 horas).

Nesse caso, o paciente está apresentado febre

- (A) séptica.
- (B) sustentada.
- (C) intermitente.
- (D) remitente.
- (E) contínua.

32

Após a aplicação da prova tuberculínica em um paciente com suspeita de hanseníase, o mesmo deve ser orientado a retornar para realização da leitura, preferencialmente, em até

- (A) 12 horas.
- (B) 24 horas.
- (C) 36 horas.
- (D) 48 horas.
- (E) 72 horas.

33

A diferença entre as pressões sistólica e diastólica, utilizada como marcador de rigidez arterial, é denominada

- (A) débito cardíaco.
- (B) volume sistólico.
- (C) pressão de pulso.
- (D) débito sistólico.
- (E) pressão arterial média.

34

Um paciente com hiperpneia apresenta uma respiração

- (A) lenta e profunda.
- (B) rápida e profunda.
- (C) lenta e superficial.
- (D) rápida e superficial.
- (E) irregular e superficial.

35

Assinale a opção que corresponde a uma cobertura que promove o debridamento enzimático.

- (A) Hidrogel.
- (B) Hidrocoloide.
- (C) Colagenase.
- (D) Carvão ativado.
- (E) Alginato de cálcio.

36

Entre as insulinas e análogas de insulina apresentadas a seguir, assinale aquela de ação mais rápida

- (A) NPH.
- (B) lispro.
- (C) regular.
- (D) degludeca.
- (E) glargina 100.

37

Uma criança vítima de queimaduras é considerada grande queimado quando apresenta Superfície Corporal Queimada – SCQ acima de

- (A) 10%.
- (B) 15%.
- (C) 20%.
- (D) 25%.
- (E) 30%.

38

Os pacientes com Acidente Vascular Cerebral Isquêmico que receberam terapia trombolítica devem ter pressão arterial, oximetria de pulso e eletrocardiografia monitorados continuamente por, pelo menos,

- (A) 6 horas após o procedimento.
- (B) 8 horas após o procedimento.
- (C) 10 horas após o procedimento.
- (D) 12 horas após o procedimento.
- (E) 24 horas após o procedimento.

39

No atendimento inicial ao politraumatizado (XABCDE do trauma) a letra **B** abrange a seguinte ação:

- (A) análise da respiração.
- (B) contenção de hemorragia.
- (C) prevenção da hipotermia.
- (D) análise do nível de consciência.
- (E) proteção da coluna cervical.

40

Assinale a opção que corresponde a uma contraindicação absoluta para administração de medicamentos por hipodermoclise.

- (A) Disfagia.
- (B) Confusão mental.
- (C) Obstrução intestinal.
- (D) Demência avançada.
- (E) Trombocitopenia grave.

41

A busca ativa do sintomático respiratório de tuberculose é uma das estratégias para diminuir a morbimortalidade e a proliferação da doença.

Nesse caso o sintomático respiratório é definido como a pessoa com tosse por período igual ou superior a

- (A) uma semana de duração.
- (B) duas semanas de duração.
- (C) três semanas de duração.
- (D) quatro semanas de duração.
- (E) cinco semanas de duração.

42

Um paciente foi atendido em uma unidade de saúde com sinais e sintomas de dengue.

Nesse caso, um medicamento contraindicado para esse paciente, por aumentar a chance de sangramento, é

- (A) a dipirona.
- (B) o ibuprofeno.
- (C) a bromoprida.
- (D) a novalgina.
- (E) o paracetamol.

43

Acerca da vacina contra a dengue disponibilizada pelo Ministério da Saúde, é correto afirmar que

- (A) o esquema é composto por duas doses da vacina.
- (B) o esquema é composto por três doses da vacina.
- (C) o intervalo mínimo entre as doses é de trinta dias.
- (D) o intervalo máximo entre as doses é de sessenta dias.
- (E) deve ser administrada exclusivamente pela via IM.

44

Durante a realização de um curativo em um paciente acamado foi observada a presença de lesão por pressão Estágio 2.

Esse tipo de lesão apresenta a seguinte característica:

- (A) perda da pele em sua espessura total.
- (B) pele com eritema que não embranquece.
- (C) gordura visível com presença de epíbóle.
- (D) exposição da derme com presença de bolha.
- (E) perda tissular com exposição direta da fásia.

45

Considerando as normas acerca da coleta de material para exame, analise as afirmativas a seguir e assinale (V) para a verdadeira e (F) para a falsa.

- ( ) Na coleta de sangue, os tubos sem aditivos devem ser usados antes dos tubos destinados aos testes de coagulação.
- ( ) A coleta de secreção uretral deve ser realizada, de preferência pela manhã, antes da primeira micção ou há pelo menos duas horas ou mais sem ter urinado.
- ( ) Se a amostra de coprocultura não for entregue no laboratório em uma hora, deve ser conservada em geladeira a 8°C por no máximo 24 horas.

As afirmativas são, respectivamente,

- (A) V – V – V.
- (B) F – F – F.
- (C) V – F – V.
- (D) F – V – V.
- (E) V – V – F.

46

Considere um mapa de risco ambiental em que alguns setores de um serviço de saúde estão sinalizados com as cores *azul*, *verde*, *vermelho*, e *amarelo*.

Nesse caso, os riscos representados pelas cores são, respectivamente,

- (A) biológico, acidente, químico e físico.
- (B) físico, biológico, ergonômico e químico.
- (C) acidente, físico, químico e ergonômico.
- (D) químico, físico, acidente e biológico.
- (E) ergonômico, químico, físico e acidente.

47

O teste Bowie & Dick é realizado para verificar a eficiência do processo de esterilização pelo vapor sob pressão.

Acerca desse teste, analise as afirmativas a seguir e assinale (V) para a verdadeira e (F) para a falsa.

- ( ) Deve ser realizado antes do primeiro ciclo do dia e após o último ciclo.
- ( ) O teste deve ser acondicionado em uma carga de material cirúrgico, que deverá passar pelo ciclo completo de esterilização.
- ( ) A qualificação do teste se dá quando constatada mudança uniforme de coloração em toda a extensão da folha.

As afirmativas são, respectivamente,

- (A) V – F – V.
- (B) F – F – V.
- (C) V – V – V.
- (D) F – F – F.
- (E) V – F – F.

48

Com base no protocolo de Cirurgia Segura, o condutor da lista de verificação deverá confirmar se o paciente possui alguma alergia conhecida.

Essa confirmação deve ocorrer antes da

- (A) incisão cirúrgica.
- (B) indução anestésica.
- (C) profilaxia antimicrobiana.
- (D) monitorização do paciente.
- (E) demarcação do sítio cirúrgico.

49

O código de Ética dos profissionais de enfermagem dispõe que a assistência de enfermagem deve ser prestada livre de danos decorrentes de imperícia, negligência ou imprudência.

Nesse caso, assinale a ação que configura *imperícia*.

- (A) Administrar medicação na dose errada e na via errada.
- (B) Deixar de prestar socorro em situações de emergência.
- (C) Realizar um procedimento sem o conhecimento técnico.
- (D) Administrar medicação sem ter certeza da dose prescrita.
- (E) Realizar um procedimento sem o uso de EPIs adequados.

50

O princípio do SUS orientado pelo respeito às necessidades, diversidades e especificidades de cada cidadão ou grupo social e que tem relação direta com os conceitos de igualdade e de justiça social é denominado

- (A) equidade.
- (B) integralidade.
- (C) universalidade.
- (D) descentralização.
- (E) hierarquização.

## PRINCÍPIOS DA ADMINISTRAÇÃO PÚBLICA

51

A Administração Direta é composta por órgãos e entidades que fazem parte da estrutura do Estado e operam diretamente sob a autoridade do poder público. Em contrapartida, a Administração Indireta inclui entidades com personalidade jurídica própria, mas vinculadas ao Estado. Enquanto a Administração Direta executa diretamente políticas públicas, a Indireta opera de forma mais especializada, muitas vezes em atividades empresariais.

Assinale a opção que indica a entidade dotada de personalidade jurídica de direito privado, com patrimônio próprio e capital exclusivo da União, criado por lei para a exploração de atividade econômica.

- (A) Autarquia.
- (B) Empresa pública.
- (C) Fundação pública.
- (D) Organização social.
- (E) Sociedade de economia mista.

52

A educação, a saúde, a alimentação, o trabalho, a moradia, o transporte, o lazer, a segurança, a previdência social, a proteção à maternidade e à infância, a assistência aos desamparados, na forma desta Constituição, são direitos sociais.

Assinale a opção que indica, corretamente, o direito devido ao brasileiro em situação de vulnerabilidade social.

- (A) Benefício de prestação continuada.
- (B) Fundo de garantia do tempo de serviço.
- (C) Seguro-desemprego.
- (D) Renda básica familiar.
- (E) Repouso semanal remunerado.

53

A Lei de Acesso à Informação (Lei nº 12.527/2011) garante ao cidadão o direito de obter informações públicas, promovendo a transparência e a *accountability* no setor público.

Assinale a opção que apresenta a *qualidade da informação* que pode ser conhecida e utilizada por indivíduos, equipamentos ou sistemas autorizados.

- (A) Integridade.
- (B) Autenticidade.
- (C) Transparência.
- (D) Primariedade.
- (E) Disponibilidade.

54

A Lei Geral de Proteção de Dados Pessoais (Lei nº 13.709/2018) estabelece regras para o tratamento de dados pessoais por parte de empresas e organizações, visando proteger a privacidade e os direitos dos cidadãos.

Assinale, entre as opções a seguir, a que apresenta um fundamento da disciplina da proteção de dados pessoais.

- (A) Anonimização.
- (B) Consentimento.
- (C) Não discriminação.
- (D) Uso compartilhado de dados.
- (E) Liberdade de expressão.



55

De acordo com a Lei nº 14.133/2021, conhecida como Nova Lei de Licitações e Contratos Administrativos, o processo licitatório visa prevenir contratações com sobrepreço, preços manifestamente inexequíveis e superfaturamento na execução dos contratos.

Com relação aos casos de superfaturamento em que há dano provocado ao patrimônio da Administração, analise as afirmativas a seguir.

- I. Medição de quantidades superiores às efetivamente executadas ou fornecidas.
- II. Alterações no orçamento de obras e de serviços de engenharia que causem desequilíbrio econômico-financeiro do contrato em favor do contratante.
- III. Deficiência na execução de obras e de serviços de engenharia que resultem em diminuição da sua qualidade, vida útil ou insegurança.

Está correto o que se afirma em

- (A) I, apenas.
- (B) I e II, apenas.
- (C) I e III, apenas.
- (D) II e III, apenas.
- (E) I, II e III.

## LEGISLAÇÃO INSTITUCIONAL

56

João, eleito Deputado Estadual, foi diplomado, mas ainda não tomou posse.

À luz da Constituição do Estado do Tocantins, João não poderá

- (A) exercer cargo em uma empresa concessionária de serviço público.
- (B) ser diretor de uma empresa que goze de favor decorrente de contrato com pessoa jurídica de direito público.
- (C) patrocinar uma causa em que seja interessada uma autarquia.
- (D) manter contrato com uma pessoa jurídica de direito privado.
- (E) ser titular de mais de um cargo ou de mandato público eletivo.

57

Considerando o que dispõe o Regimento Interno da Assembleia Legislativa de Tocantins a respeito das Comissões, assinale a afirmativa correta.

- (A) A Comissão de Constituição, Justiça e Redação tem poderes de investigação próprios das autoridades judiciais.
- (B) As Comissões Especiais não podem ser constituídas para investigação sumária de fato determinado.
- (C) À Comissão de Segurança Pública compete analisar questões ligadas à violência urbana e rural.
- (D) As Comissões de Representação devem ser aprovadas pela maioria absoluta do Plenário da Assembleia.
- (E) A Comissão Parlamentar de Inquérito poderá deslocar-se para qualquer ponto do território estadual para a realização de investigações e audiências públicas.

58

Joaquim é servidor estadual estável, detentor de cargo efetivo e aposentado voluntariamente. Depois de dois anos de sua aposentadoria, Joaquim manifestou interesse, perante a Administração, de retornar à atividade em que era estável.

Caso haja cargo vago disponível, conforme a Lei nº 1818/2017, que dispõe sobre o Estatuto dos Servidores Públicos Civis do Estado do Tocantins, assinale a modalidade de provimento adequada ao caso.

- (A) Aproveitamento.
- (B) Reversão.
- (C) Readaptação.
- (D) Reintegração.
- (E) Recondução.

**59**

Luiz, servidor público efetivo, encontra-se em estágio probatório e, nesse período, tem sido submetido a Avaliações Especiais de Desempenho.

Nos termos da Lei nº 4.208/2023, que cuida do plano de cargos, carreiras e remuneração dos Servidores da Assembleia Legislativa de Tocantins, assinale a afirmativa correta.

- (A) A Avaliação Especial de Desempenho dá-se em três etapas, que tem por base o acompanhamento trimestral do servidor.
- (B) O resultado da avaliação será levado ao conhecimento do avaliado e arquivado em caráter público.
- (C) O servidor, para ser aprovado, deverá obter média igual ou superior a 60% (sessenta por cento) dos pontos possíveis nas Avaliações Especiais de Desempenho.
- (D) O servidor, caso aprovado no estágio probatório, será imediatamente elevado para a classe seguinte do padrão inicial do seu cargo.
- (E) O servidor deve ser avaliado pelo chefe imediato.

**60**

Levando em conta a estrutura administrativa da Assembleia Legislativa de Tocantins e dos órgãos de assistência à Presidência da Assembleia, de acordo com a Lei nº 4.209/2023, a competência para encaminhar as denúncias recebidas ao Tribunal de Contas do Estado, à Polícia Civil, ao Ministério Público, ou a outro órgão competente, é da

- (A) Procuradoria-Geral.
- (B) Controladoria Interna.
- (C) Diretoria de Polícia Legislativa.
- (D) Assessoria Jurídica da Presidência.
- (E) Ouvidoria Geral da Assembleia Legislativa.



# ASSEMBLEIA LEGISLATIVA DO ESTADO DO TOCANTINS

CONCURSO PÚBLICO – EDITAL Nº 01/2023

## PROVA OBJETIVA – MANHÃ

### TÉCNICO LEGISLATIVO

# TÉCNICO EM ENFERMAGEM

NÍVEL MÉDIO – TIPO 2 – VERDE



#### SUA PROVA

- Além deste caderno contendo **60 (sessenta)** questões objetivas, você receberá do fiscal de prova o cartão de respostas;
- As questões objetivas têm **5 (cinco)** opções de resposta (A, B, C, D) e somente uma delas está correta.



#### TEMPO

- Você dispõe de **4 (quatro) horas** para a realização da prova, já incluído o tempo para a marcação do cartão de respostas;
- **3 (três) horas** após o início da prova, é possível retirar-se da sala, sem levar o caderno de questões;
- A partir dos **30 (trinta) minutos** anteriores ao término da prova é possível retirar-se da sala **levando o caderno de questões**.



#### NÃO SERÁ PERMITIDO

- Qualquer tipo de comunicação entre os candidatos durante a aplicação da prova;
- Anotar informações relativas às respostas em qualquer outro meio que não seja o caderno de questões;
- Levantar da cadeira sem autorização do fiscal de sala;
- Usar o sanitário ao término da prova, após deixar a sala.



#### INFORMAÇÕES GERAIS

- Verifique se seu caderno de questões está completo, sem repetição de questões ou falhas. Caso contrário, **notifique imediatamente o fiscal da sala**, para que sejam tomadas as devidas providências;
- Confira seus dados pessoais, especialmente nome, número de inscrição e documento de identidade e leia atentamente as instruções para preencher o cartão de respostas;
- Para o preenchimento do cartão de respostas, use somente caneta esferográfica, fabricada em material transparente, com tinta preta ou azul;
- Assine seu nome apenas no(s) espaço(s) reservado(s) no cartão de respostas;
- Confira seu cargo, cor e tipo do caderno de questões. Caso tenha recebido caderno de cargo ou cor ou tipo **diferente** do impresso em seu cartão de respostas, o fiscal deve ser **obrigatoriamente** informado para o devido registro na ata da sala;
- Reserve tempo suficiente para o preenchimento do seu cartão de respostas. O preenchimento é de sua responsabilidade e **não será permitida a troca do cartão de respostas em caso de erro cometido pelo candidato**;
- Para fins de avaliação, serão levadas em consideração apenas as marcações realizadas no cartão de respostas;
- A FGV coletará as impressões digitais dos candidatos na lista de presença;
- Os candidatos serão submetidos ao sistema de detecção de metais quando do ingresso e da saída de sanitários durante a realização das provas.
- **Boa prova!**

## CONHECIMENTOS BÁSICOS

### Língua Portuguesa

1

Assinale a opção que apresenta a frase em que houve **erro** de concordância da palavra sublinhada.

- (A) O presidente fez questão de deixar bem claras as suas intenções.
- (B) O STF qualificou de antidemocrático aqueles atos.
- (C) O governo chinês torna visíveis os erros das ditaduras.
- (D) Os enfermeiros tiveram reconhecidos os direitos de greve.
- (E) Tomei emprestados à biblioteca vários livros.

2

Assinale a opção que apresenta as duas palavras que devem ser grafadas com **es** e não com **ex**.

- (A) Excremento / expurgo.
- (B) Excusar / espontâneo.
- (C) Excomungar / expressar.
- (D) Extirpar / extorquir.
- (E) Exterminar / extremo.

3

Leia o seguinte texto de um jornal de outros tempos:

*“Mudança nas moedas. A partir de junho começam a entrar em circulação as moedas de Cr\$100 e Cr\$500 substituindo as cédulas que trazem estampadas a poetisa Cecília Meireles e o naturalista Augusto Ruschi, respectivamente. O lançamento das moedas foi aprovado na reunião de ontem do Conselho Monetário Nacional, colocando fim à família de notas criadas no governo Sarney, sob a égide dos cruzados novos.”*

Sobre esse fragmento textual, analise as observações a seguir, feitas por um estudioso de nossa Língua, e assinale a correta.

- (A) “Começam a entrar em circulação” é bastante estranho, porque as moedas, pequenas que são e de pequeno valor, “entram” logo.
- (B) “trazem estampadas a poetisa Cecília Meireles e o naturalista Augusto Ruschi”, mas eu pensava que as moedas trazem estampadas as efígies de Fulano ou Beltrano.
- (C) “colocando fim à família” mostra o emprego inadequado de “colocar” em lugar de “pôr”.
- (D) “criadas”, por questão de clareza e precisão, devia ser substituído por “lançadas” ou “emitidas”.
- (E) “sob”, por questão de correção gramatical, deve ser substituído por “sobre”.

4

As frases a seguir mostram uma locução adjetiva introduzida pela preposição **sem**; assinale a opção em que a substituição dessa locução por um adjetivo de valor equivalente foi feita de forma adequada.

- (A) Cartas sem autoria declarada são sempre mal recebidas / desautorizadas.
- (B) Os poços sem água são de pouca serventia para a lavoura / áridos.
- (C) Foram deixados muitos problemas sem solução / insolúveis.
- (D) O governo tomou muitas atitudes sem nexos / desconexas.
- (E) Com os fogos de artifício, o campo ficou sem visão / invisível.

5

Leia o fragmento a seguir.

*“Não somos daqueles que só em meio aos livros, estimulados por livros vêm a ter pensamentos – é nosso hábito pensar ao ar livre, andando, saltando, escalando, dançando, preferivelmente em montes solitários ou próximos ao mar, onde mesmo as trilhas se tornam pensativas.”* (Nietzsche, filósofo alemão).

Sobre o significado desse fragmento, assinale a afirmativa correta.

- (A) A leitura é importante para a criação de ideias originais.
- (B) As formas de gerúndio mostram a evolução cronológica das ações narradas pelo escritor.
- (C) O pronome relativo “onde” refere-se a locais ao ar livre.
- (D) A forma do verbo “tornar-se”, como verbo de ligação, indica um estado transitório.
- (E) Os ambientes solitários propiciam reflexões de valor.

6

As frases a seguir mostram termos repetidos; assinale a opção que apresenta a frase em que o significado dos dois termos **não** é o mesmo.

- (A) Morrer é mudar de corpo como o ator muda de roupa.
- (B) Janeiro é o mês que se fazem bons votos aos amigos; os outros são os meses em que esses votos não se concretizam.
- (C) Quem tempo espera, muito tempo consome.
- (D) A falsidade da História é tão velha como a própria História.
- (E) Viva todos os dias como se fosse o último. Um dia você acerta.

7

As opções a seguir mostram, corretamente, a substituição da forma sublinhada, composta de **não + verbo**, por um só verbo, de sentido equivalente, **à exceção de uma**. Assinale-a.

- (A) Os países da OTAN pediram que o exército russo não avançasse esta semana. / *parasse*.
- (B) O deputado informou que não dispunha de tempo para redigir uma nova versão do projeto. / *carecia*.
- (C) O Presidente não aceitou o convite para visitar a Alemanha. / *declinou do*.
- (D) Não abriu as portas do museu para evitar a curiosidade do público. / *fechou*.
- (E) Por seus futuros compromissos, preferia não gastar dinheiro / *economizar*.

8

As citações a seguir são compostas por dois segmentos; assinale a opção em que a **relação lógica** indicada pelo segundo segmento está correta.

- (A) Dize-me o que crês ser / e te direi o que não és. – relação de oposição.
- (B) Quem crê é forte / quem duvida é fraco. – relação de conclusão.
- (C) Seja lá por que um homem reza, / ele reza por um milagre. – relação de explicação.
- (D) Não adianta esperar que o navio chegue / se você não o mandou para lugar nenhum. – relação de causa.
- (E) Pense como um homem de ação / e aja como um pensador. – relação de conclusão.

9

Os textos a seguir mostram elementos de coesão em relação ao termo sublinhado; assinale a opção em que todos os termos seguintes, em coesão com ele, estão indicados.

- (A) Geralmente, entre nossos motivos de agir, há um mais forte que os demais: aquele que não é declarado. – *um, os demais, aquele, que.*
- (B) O que empobrece o homem não são seus atos, mas os desejos que ele possui. – *ele.*
- (C) O dinheiro, recebem-no todos os que trabalham e o perdem todos os irresponsáveis. – *no, que, o.*
- (D) Qual pode ser a vida que começa pelos gritos da mãe, que a dá, e o choro do filho que a recebe? – *que, que, a.*
- (E) Meu filho! Deus te enviou a este mundo. Cultiva-o e não te apresses em sair dele. – *o.*

10

As perguntas a seguir apresentam o pronome pessoal oblíquo em ênclise (após o verbo); assinale a que mostra formulação **incorreta**, porque só admite próclise.

- (A) Os dois bandidos evadiram-se do presídio em Mossoró?
- (B) Onde podemos vê-los?
- (C) Eles dedicar-se-iam às tarefas com prazer.
- (D) Numa entrevista como esta, isto pergunta-se?
- (E) Quem dir-me-á tantas barbaridades, senão ele?

## Raciocínio Lógico Matemático

11

Para pagar um lanche, Temístocles usou uma nota de R\$20,00 e recebeu, de troco, uma nota de R\$5,00, duas notas de R\$2,00, nove moedas de R\$0,50 e 3 moedas de R\$0,25.

O lanche custou a Temístocles

- (A) R\$5,25.
- (B) R\$5,75.
- (C) R\$6,25.
- (D) R\$6,75.
- (E) R\$7,25.

12

Dois números diferentes serão escolhidos ao acaso entre os elementos do conjunto  $\{5,7,9,11,14\}$ .

A soma dos números escolhidos

- (A) certamente é ímpar.
- (B) certamente é par.
- (C) pode ser 26.
- (D) pode ser 18.
- (E) pode ser menor que 12.

13

Em um jogo, duas fichas azuis têm o mesmo valor de cinco fichas vermelhas e uma ficha preta vale o mesmo que três fichas azuis.

Assim, duas fichas pretas equivalem a

- (A) sete fichas vermelhas.
- (B) oito fichas vermelhas.
- (C) nove fichas vermelhas.
- (D) doze fichas vermelhas.
- (E) quinze fichas vermelhas.

14

Sabe-se que 20% de  $N$  é igual a 13,4. Logo, 90% de  $N$  é igual a

- (A) 59,6.
- (B) 60,3.
- (C) 61,2.
- (D) 62,5.
- (E) 63,2.

15

Marcelo é filho de Alberto. Pedro é filho de Luiz. Se Marcelo e Luiz são irmãos por parte de pai, então

- (A) Alberto é pai de Pedro.
- (B) Alberto é tio de Pedro.
- (C) Pedro é irmão de Marcelo.
- (D) Pedro é sobrinho de Marcelo.
- (E) Pedro é neto de Marcelo.

16

A seguir, são apresentados os 9 primeiros termos de uma sequência infinita de números inteiros.

13, 12, 14, 11, 15, 10, 16, 9, 17, ...

Os termos são, alternadamente, maiores e menores que seus antecessores imediatos, seguindo um padrão de construção.

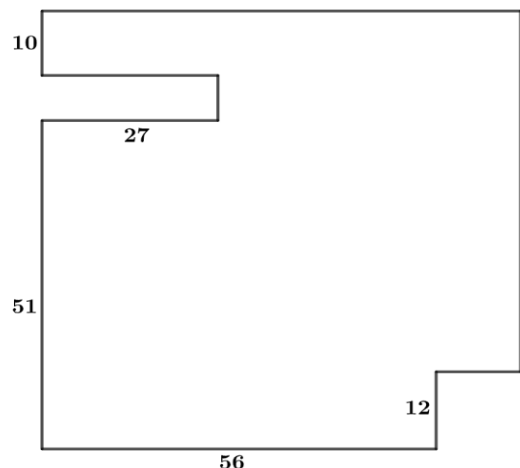
Sabendo-se que esse padrão é mantido ao longo de toda a sequência, conclui-se que um termo negativo aparecerá pela primeira vez na

- (A) 28ª posição.
- (B) 27ª posição.
- (C) 26ª posição.
- (D) 15ª posição.
- (E) 14ª posição.

17

De uma placa quadrada de madeira, foram recortados e, em seguida, descartados dois pedaços: o primeiro, em forma de um quadrado de lado 12 dm; o outro, em forma de retângulo, tendo comprimento igual a 27 dm.

A imagem a seguir ilustra o aspecto da placa após os descartes. Nela, estão indicadas as medidas, em decímetros, de alguns dos segmentos.



O menor lado do retângulo recortado dessa placa mede

- (A) 11 dm.
- (B) 10 dm.
- (C) 9 dm.
- (D) 8 dm.
- (E) 7 dm.

18

Ana trabalha em sistema de *home-office*, mas precisa comparecer ao escritório de sua empresa em intervalos regulares.

Se Ana comparece ao escritório em determinado dia, ela precisa comparecer de novo três dias úteis depois, isto é, descontando-se os sábados e os domingos. Assim, se ela compareceu em uma quinta-feira, deverá voltar ao escritório na terça-feira da semana seguinte.

Hoje é sexta-feira e Ana está no escritório; assim, a *penúltima vez* em que ela esteve lá, foi uma

- (A) segunda-feira.
- (B) terça-feira.
- (C) quarta-feira.
- (D) quinta-feira.
- (E) sexta-feira.

## Noções de Informática

19

Nos sistemas operacionais Microsoft Windows 10, o recurso "Executar" permite aos usuários abrir rapidamente programas, pastas, documentos e recursos do sistema, ao digitar o caminho completo ou o nome do item.

Assinale a opção que apresenta a combinação de teclas usada para abrir a caixa de diálogo "Executar".

- (A) Windows + E
- (B) Windows + I
- (C) Windows + K
- (D) Windows + L
- (E) Windows + R

20

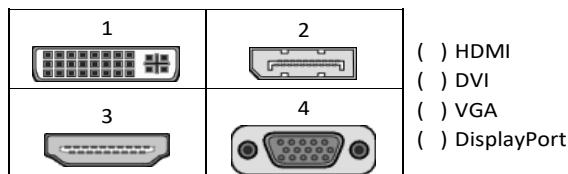
No contexto dos sistemas operacionais Microsoft Windows, o Painel de Controle é uma área central para gerenciar as configurações do sistema, opções de personalização e outros.

Considerando as versões superiores ao Windows 7, assinale a opção que **não** indica uma funcionalidade encontrada no painel de controle.

- (A) Backup e Restauração.
- (B) Relógio e Região.
- (C) Hardware e Sons.
- (D) Contas de Usuário.
- (E) Configuração de Registro Avançadas.

21

No contexto das interfaces para vídeo, relacione as portas às suas respectivas tecnologias.



Assinale a opção que indica a relação correta, segundo a ordem apresentada.

- (A) 2 – 3 – 1 – 4.
- (B) 2 – 4 – 1 – 3.
- (C) 3 – 2 – 1 – 4.
- (D) 3 – 1 – 4 – 2.
- (E) 4 – 2 – 3 – 1.

22

Em uma pequena empresa, durante uma tentativa de realizar uma manutenção de rotina nos servidores ao final do expediente, José, um funcionário recém-contratado, com pouca experiência em TI, desliga um servidor que está rodando um serviço de DHCP. No dia seguinte, os usuários começam a reportar problemas.

Considerando que todas as estações de trabalho com sistema operacional Windows estavam utilizando o servidor DHCP, assinale a opção que indica o que os usuários reportaram.

- (A) As estações de trabalho não estão ligando, pois dependem do servidor DHCP.
- (B) Havia lentidão na conexão com a internet.
- (C) Perda de acesso à internet, enquanto o acesso à rede local entre as estações de trabalho permaneceu possível.
- (D) Interrupção do serviço de *e-mail*; os demais serviços funcionavam.
- (E) Impressão em rede local não funcionava, mas a internet estava acessível.

23

Sobre a inserção de tabelas no Microsoft Word 2019 em português, analise as afirmativas a seguir.

- I. As tabelas admitem diferentes estilos de borda, cores de preenchimento e fontes, para melhorar sua apresentação visual.
- II. Ao inserir uma tabela, é possível definir o número de linhas e colunas antes de criá-la, no entanto, não é possível alterar a estrutura após a inserção.
- III. As tabelas podem ser inseridas apenas no início de um documento e não podem ser movidas para outras partes do texto.

Está correto o que se afirma em

- (A) I, apenas.
- (B) I e II, apenas.
- (C) II e III, apenas.
- (D) I e III, apenas.
- (E) I, II e III.

24

Em uma planilha Microsoft Excel 2019 em português do Brasil, há um conjunto de dados com vendas listadas na coluna B.

Por meio da funcionalidade de Formatação Condicional, a seguinte função pode ser usada para destacar os 10% dos principais valores de vendas com preenchimento verde:

- (A) PERCENTIL.
- (B) MAXIMO.
- (C) SOMASES.
- (D) CONT.SE.
- (E) ABS.

25

No contexto da computação em nuvem e seus serviços, assinale a opção que corresponde ao conceito de *elasticidade*.

- (A) A capacidade de expandir ou reduzir dinamicamente seus recursos de acordo com a demanda.
- (B) A flexibilidade de implementação de serviços.
- (C) A capacidade de uma nuvem de suportar múltiplos usuários, simultaneamente.
- (D) A velocidade da conexão entre a nuvem e os dispositivos do usuário.
- (E) A confiabilidade dos serviços oferecidos pelo provedor de computação em nuvem.

26

Os ataques de negação de serviço distribuídos, conhecidos como DDoS, representam uma ameaça significativa para a segurança da internet.

Com base nesse contexto, assinale a afirmativa **incorreta**.

- (A) Em um ataque DDoS, os atacantes usam uma rede de computadores comprometidos, conhecidos como botnets.
- (B) Os ataques DDoS geralmente visam comprometer os dados, tornando-os inacessíveis, mesmo para usuários autorizados.
- (C) Os ataques DDoS podem causar interrupções significativas nos serviços *online*.
- (D) Embora não seja usual, ataques DDoS já foram feitos a partir de dispositivos IoT comprometidos, como câmeras de segurança.
- (E) Os ataques de DDoS podem ter como alvo vários recursos de rede, incluindo servidores web, jogos *online* e infraestrutura de nuvem.

## História e Geografia do Estado de Tocantins

27

O Estado do Tocantins situa-se em uma zona de transição que apresenta dois tipos de vegetação: a Floresta Ombrófila e a Savana, pertencentes, respectivamente, aos biomas

- (A) Amazônia e Cerrado.
- (B) Mata Atlântica e Pampa.
- (C) Caatinga e Mata Atlântica.
- (D) Amazônia e Caatinga.
- (E) Cerrado e Pantanal.

28



As bonecas Ritxoko são figuras de cerâmica confeccionadas por mulheres indígenas da etnia Karajá, do estado do Tocantins. Feitas a partir da mistura de argila e água, as peças representam tanto a forma humana e seus ciclos de vida quanto elementos da fauna e do sobrenatural. A pigmentação vermelha é extraída do urucum, enquanto a preta é retirada de uma árvore chamada ixarurina. As bonecas são usadas como instrumentos de socialização das crianças que se veem nesses objetos e aprendem a ser Karajá, recebendo ensinamentos e aprendendo as técnicas e saberes associados à sua confecção e usos. A pintura e a decoração das cerâmicas estão associadas à pintura corporal dos Karajá e às peças de vestuário e adorno.

Adaptado de <https://www.gov.br/funai>

Com base no trecho, é correto afirmar que as bonecas Ritxoko são um patrimônio

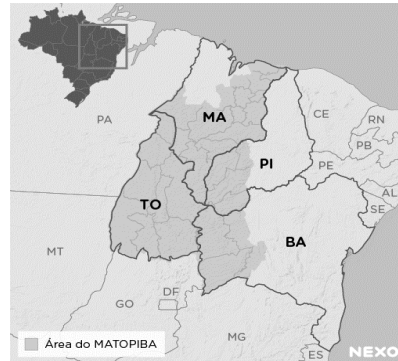
- (A) da humanidade, uma vez que constituem bens culturais e naturais significativos para todas as culturas, sendo contempladas como referência estética para todos os povos.
- (B) histórico nacional, pois exemplificam a riqueza dos modos de fazer e das formas de expressão que envolvem a tradição dos Karajás no Brasil.
- (C) cultural brasileiro, uma vez que são consideradas representações culturais com significados sociais e identitários profundos.
- (D) imaterial mundial, já que sua feitura envolve processos abstratos criativos de elaboração e variação de formas e grafismos.
- (E) material tocantinense, por expressar a arte, a memória e a identidade das comunidades indígenas da Ilha do Bananal, no Tocantins.

29

Sobre a formação histórica do território que hoje corresponde ao Estado do Tocantins, assinale a afirmativa que descreve corretamente o processo de desbravamento e ocupação da região no Período Colonial.

- (A) No final do século XVI, os primeiros a encontrar a foz do rio Tocantins junto ao Amazonas foram os espanhóis, então instalados no Maranhão para expulsar colonos franceses que haviam fundado a França equinocial.
- (B) Na primeira metade do século XVIII, a bandeira de Bartolomeu Bueno da Silva Filho descobriu ouro nas cabeceiras do rio Vermelho e fundou o Arraial de Sant'Anna, às margens do rio.
- (C) Nos anos de 1730-40 foi encontrado ouro no norte de Goiás, incentivando a fundação de cidades sob a jurisdição de Salvador, como Natividade, Almas, Chapada, Pontal e Porto Real, entre outras.
- (D) O declínio da mineração se acentuou na passagem do século XVIII para o XIX, agravado pela instituição de um novo imposto (capitação), cobrado proporcionalmente ao número de escravos de cada minerador.
- (E) Na segunda década do século XIX, em decorrência da crise da mineração, a região estava em uma situação de abandono, como relatado por Theotônio Segurado, futuro Governador da Capitania do Norte.

30



A área do MATOPIBA caracteriza-se pelo baixo preço das terras e pela uniformidade do clima, do solo e do relevo, que facilitam a mecanização agrícola e tem atraído cada vez mais agricultores.

A respeito do MATOPIBA, analise as afirmativas a seguir.

- I. É uma região de transição entre o Cerrado e o Semiárido, com condições favoráveis para a agricultura: áreas planas e extensas, solos de alto potencial produtivo, disponibilidade de água, clima favorável com elevada intensidade de sol.
- II. É um grande produtor de *commodities*, com uso intenso de tecnologia (máquinas, colheitadeiras, insumos) e uso reduzido do fator trabalho, assim sendo, o crescimento do produto interno bruto (PIB) aumenta com velocidade, mas a geração de riqueza não é acompanhada, proporcionalmente, por uma melhora na distribuição de renda.
- III. É o maior produtor nacional de soja, pois concentra 90% da área de plantio, sendo também a região com o maior índice de produtividade sustentável de grãos, em função da colaboração do setor do agronegócio com a preservação das unidades de conservação locais.

Está correto o que se afirma em

- (A) I, apenas.
- (B) II, apenas.
- (C) III, apenas.
- (D) I e II, apenas.
- (E) II e III, apenas.



## CONHECIMENTOS ESPECÍFICOS

31

O código de Ética dos profissionais de enfermagem dispõe que a assistência de enfermagem deve ser prestada livre de danos decorrentes de imperícia, negligência ou imprudência.

Nesse caso, assinale a ação que configura *imperícia*.

- (A) Administrar medicação na dose errada e na via errada.
- (B) Deixar de prestar socorro em situações de emergência.
- (C) Realizar um procedimento sem o conhecimento técnico.
- (D) Administrar medicação sem ter certeza da dose prescrita.
- (E) Realizar um procedimento sem o uso de EPIs adequados.

32

Os pacientes com Acidente Vascular Cerebral Isquêmico que receberam terapia trombolítica devem ter pressão arterial, oximetria de pulso e eletrocardiografia monitorados continuamente por, pelo menos,

- (A) 6 horas após o procedimento.
- (B) 8 horas após o procedimento.
- (C) 10 horas após o procedimento.
- (D) 12 horas após o procedimento.
- (E) 24 horas após o procedimento.

33

Um paciente com hiperpneia apresenta uma respiração

- (A) lenta e profunda.
- (B) rápida e profunda.
- (C) lenta e superficial.
- (D) rápida e superficial.
- (E) irregular e superficial.

34

Um paciente adulto, atendido em uma unidade de saúde, queixou-se, entre outras coisas, de picos de febre intercalados com períodos de temperatura normal (o retorno à normalidade aconteceu pelo menos uma vez a cada 24 horas).

Nesse caso, o paciente está apresentando febre

- (A) séptica.
- (B) sustentada.
- (C) intermitente.
- (D) remitente.
- (E) contínua.

35

Entre as insulinas e análogas de insulina apresentadas a seguir, assinale aquela de ação mais rápida

- (A) NPH.
- (B) lispro.
- (C) regular.
- (D) degludeca.
- (E) glargina 100.

36

A diferença entre as pressões sistólica e diastólica, utilizada como marcador de rigidez arterial, é denominada

- (A) débito cardíaco.
- (B) volume sistólico.
- (C) pressão de pulso.
- (D) débito sistólico.
- (E) pressão arterial média.

37

Com base no protocolo de Cirurgia Segura, o condutor da lista de verificação deverá confirmar se o paciente possui alguma alergia conhecida.

Essa confirmação deve ocorrer antes da

- (A) incisão cirúrgica.
- (B) indução anestésica.
- (C) profilaxia antimicrobiana.
- (D) monitorização do paciente.
- (E) demarcação do sítio cirúrgico.

38

Após a aplicação da prova tuberculínica em um paciente com suspeita de hanseníase, o mesmo deve ser orientado a retornar para realização da leitura, *preferencialmente*, em até

- (A) 12 horas.
- (B) 24 horas.
- (C) 36 horas.
- (D) 48 horas.
- (E) 72 horas.

39

O teste Bowie & Dick é realizado para verificar a eficiência do processo de esterilização pelo vapor sob pressão.

Acerca desse teste, analise as afirmativas a seguir e assinale (V) para a verdadeira e (F) para a falsa.

- ( ) Deve ser realizado antes do primeiro ciclo do dia e após o último ciclo.
- ( ) O teste deve ser acondicionado em uma carga de material cirúrgico, que deverá passar pelo ciclo completo de esterilização.
- ( ) A qualificação do teste se dá quando constatada mudança uniforme de coloração em toda a extensão da folha.

As afirmativas são, respectivamente,

- (A) V – F – V.
- (B) F – F – V.
- (C) V – V – V.
- (D) F – F – F.
- (E) V – F – F.

40

Acerca da vacina contra a dengue disponibilizada pelo Ministério da Saúde, é correto afirmar que

- (A) o esquema é composto por duas doses da vacina.
- (B) o esquema é composto por três doses da vacina.
- (C) o intervalo mínimo entre as doses é de trinta dias.
- (D) o intervalo máximo entre as doses é de sessenta dias.
- (E) deve ser administrada exclusivamente pela via IM.

41

Considerando as normas acerca da coleta de material para exame, analise as afirmativas a seguir e assinale (V) para a verdadeira e (F) para a falsa.

- ( ) Na coleta de sangue, os tubos sem aditivos devem ser usados antes dos tubos destinados aos testes de coagulação.
- ( ) A coleta de secreção uretral deve ser realizada, de preferência pela manhã, antes da primeira micção ou há pelo menos duas horas ou mais sem ter urinado.
- ( ) Se a amostra de coprocultura não for entregue no laboratório em uma hora, deve ser conservada em geladeira a 8°C por no máximo 24 horas.

As afirmativas são, respectivamente,

- (A) V – V – V.
- (B) F – F – F.
- (C) V – F – V.
- (D) F – V – V.
- (E) V – V – F.

42

A busca ativa do sintomático respiratório de tuberculose é uma das estratégias para diminuir a morbimortalidade e a proliferação da doença.

Nesse caso o sintomático respiratório é definido como a pessoa com tosse por período igual ou superior a

- (A) uma semana de duração.
- (B) duas semanas de duração.
- (C) três semanas de duração.
- (D) quatro semanas de duração.
- (E) cinco semanas de duração.

43

Um paciente foi atendido em uma unidade de saúde com sinais e sintomas de dengue.

Nesse caso, um medicamento contraindicado para esse paciente, por aumentar a chance de sangramento, é

- (A) a dipirona.
- (B) o ibuprofeno.
- (C) a bromoprida.
- (D) a novalgina.
- (E) o paracetamol.

44

Assinale a opção que corresponde a uma contraindicação absoluta para administração de medicamentos por hipodermoclise.

- (A) Disfagia.
- (B) Confusão mental.
- (C) Obstrução intestinal.
- (D) Demência avançada.
- (E) Trombocitopenia grave.

45

No atendimento inicial ao politraumatizado (XABCDE do trauma) a letra **B** abrange a seguinte ação:

- (A) análise da respiração.
- (B) contenção de hemorragia.
- (C) prevenção da hipotermia.
- (D) análise do nível de consciência.
- (E) proteção da coluna cervical.

46

Durante a realização de um curativo em um paciente acamado foi observada a presença de lesão por pressão Estágio 2.

Esse tipo de lesão apresenta a seguinte característica:

- (A) perda da pele em sua espessura total.
- (B) pele com eritema que não embranquece.
- (C) gordura visível com presença de epíbóle.
- (D) exposição da derme com presença de bolha.
- (E) perda tissular com exposição direta da fáscia.

47

O princípio do SUS orientado pelo respeito às necessidades, diversidades e especificidades de cada cidadão ou grupo social e que tem relação direta com os conceitos de igualdade e de justiça social é denominado

- (A) equidade.
- (B) integralidade.
- (C) universalidade.
- (D) descentralização.
- (E) hierarquização.

48

Assinale a opção que corresponde a uma cobertura que promove o debridamento enzimático.

- (A) Hidrogel.
- (B) Hidrocoloide.
- (C) Colagenase.
- (D) Carvão ativado.
- (E) Alginato de cálcio.

49

Uma criança vítima de queimaduras é considerada grande queimado quando apresenta Superfície Corporal Queimada – SCQ acima de

- (A) 10%.
- (B) 15%.
- (C) 20%.
- (D) 25%.
- (E) 30%.

50

Considere um mapa de risco ambiental em que alguns setores de um serviço de saúde estão sinalizados com as cores *azul, verde, vermelho, e amarelo*.

Nesse caso, os riscos representados pelas cores são, respectivamente,

- (A) biológico, acidente, químico e físico.
- (B) físico, biológico, ergonômico e químico.
- (C) acidente, físico, químico e ergonômico.
- (D) químico, físico, acidente e biológico.
- (E) ergonômico, químico, físico e acidente.

## PRINCÍPIOS DA ADMINISTRAÇÃO PÚBLICA

51

De acordo com a Lei nº 14.133/2021, conhecida como Nova Lei de Licitações e Contratos Administrativos, o processo licitatório visa prevenir contratações com sobrepreço, preços manifestamente inexequíveis e superfaturamento na execução dos contratos.

Com relação aos casos de superfaturamento em que há dano provocado ao patrimônio da Administração, analise as afirmativas a seguir.

- I. Medição de quantidades superiores às efetivamente executadas ou fornecidas.
- II. Alterações no orçamento de obras e de serviços de engenharia que causem desequilíbrio econômico-financeiro do contrato em favor do contratante.
- III. Deficiência na execução de obras e de serviços de engenharia que resultem em diminuição da sua qualidade, vida útil ou insegurança.

Está correto o que se afirma em

- (A) I, apenas.
- (B) I e II, apenas.
- (C) I e III, apenas.
- (D) II e III, apenas.
- (E) I, II e III.

52

A Administração Direta é composta por órgãos e entidades que fazem parte da estrutura do Estado e operam diretamente sob a autoridade do poder público. Em contrapartida, a Administração Indireta inclui entidades com personalidade jurídica própria, mas vinculadas ao Estado. Enquanto a Administração Direta executa diretamente políticas públicas, a Indireta opera de forma mais especializada, muitas vezes em atividades empresariais.

Assinale a opção que indica a entidade dotada de personalidade jurídica de direito privado, com patrimônio próprio e capital exclusivo da União, criado por lei para a exploração de atividade econômica.

- (A) Autarquia.
- (B) Empresa pública.
- (C) Fundação pública.
- (D) Organização social.
- (E) Sociedade de economia mista.

53

A educação, a saúde, a alimentação, o trabalho, a moradia, o transporte, o lazer, a segurança, a previdência social, a proteção à maternidade e à infância, a assistência aos desamparados, na forma desta Constituição, são direitos sociais.

Assinale a opção que indica, corretamente, o direito devido ao brasileiro em situação de vulnerabilidade social.

- (A) Benefício de prestação continuada.
- (B) Fundo de garantia do tempo de serviço.
- (C) Seguro-desemprego.
- (D) Renda básica familiar.
- (E) Repouso semanal remunerado.

54

A Lei de Acesso à Informação (Lei nº 12.527/2011) garante ao cidadão o direito de obter informações públicas, promovendo a transparência e a *accountability* no setor público.

Assinale a opção que apresenta a *qualidade da informação* que pode ser conhecida e utilizada por indivíduos, equipamentos ou sistemas autorizados.

- (A) Integridade.
- (B) Autenticidade.
- (C) Transparência.
- (D) Primariedade.
- (E) Disponibilidade.

55

A Lei Geral de Proteção de Dados Pessoais (Lei nº 13.709/2018) estabelece regras para o tratamento de dados pessoais por parte de empresas e organizações, visando proteger a privacidade e os direitos dos cidadãos.

Assinale, entre as opções a seguir, a que apresenta um fundamento da disciplina da proteção de dados pessoais.

- (A) Anonimização.
- (B) Consentimento.
- (C) Não discriminação.
- (D) Uso compartilhado de dados.
- (E) Liberdade de expressão.

## LEGISLAÇÃO INSTITUCIONAL

56

Luiz, servidor público efetivo, encontra-se em estágio probatório e, nesse período, tem sido submetido a Avaliações Especiais de Desempenho.

Nos termos da Lei nº 4.208/2023, que cuida do plano de cargos, carreiras e remuneração dos Servidores da Assembleia Legislativa de Tocantins, assinale a afirmativa correta.

- (A) A Avaliação Especial de Desempenho dá-se em três etapas, que tem por base o acompanhamento trimestral do servidor.
- (B) O resultado da avaliação será levado ao conhecimento do avaliado e arquivado em caráter público.
- (C) O servidor, para ser aprovado, deverá obter média igual ou superior a 60% (sessenta por cento) dos pontos possíveis nas Avaliações Especiais de Desempenho.
- (D) O servidor, caso aprovado no estágio probatório, será imediatamente elevado para a classe seguinte do padrão inicial do seu cargo.
- (E) O servidor deve ser avaliado pelo chefe imediato.

57

João, eleito Deputado Estadual, foi diplomado, mas ainda não tomou posse.

À luz da Constituição do Estado do Tocantins, João não poderá

- (A) exercer cargo em uma empresa concessionária de serviço público.
- (B) ser diretor de uma empresa que goze de favor decorrente de contrato com pessoa jurídica de direito público.
- (C) patrocinar uma causa em que seja interessada uma autarquia.
- (D) manter contrato com uma pessoa jurídica de direito privado.
- (E) ser titular de mais de um cargo ou de mandato público eletivo.

**58**

Considerando o que dispõe o Regimento Interno da Assembleia Legislativa de Tocantins a respeito das Comissões, assinale a afirmativa correta.

- (A) A Comissão de Constituição, Justiça e Redação tem poderes de investigação próprios das autoridades judiciais.
- (B) As Comissões Especiais não podem ser constituídas para investigação sumária de fato determinado.
- (C) À Comissão de Segurança Pública compete analisar questões ligadas à violência urbana e rural.
- (D) As Comissões de Representação devem ser aprovadas pela maioria absoluta do Plenário da Assembleia.
- (E) A Comissão Parlamentar de Inquérito poderá deslocar-se para qualquer ponto do território estadual para a realização de investigações e audiências públicas.

**59**

Joaquim é servidor estadual estável, detentor de cargo efetivo e aposentado voluntariamente. Depois de dois anos de sua aposentadoria, Joaquim manifestou interesse, perante a Administração, de retornar à atividade em que era estável.

Caso haja cargo vago disponível, conforme a Lei nº 1818/2017, que dispõe sobre o Estatuto dos Servidores Públicos Cíveis do Estado do Tocantins, assinale a modalidade de provimento adequada ao caso.

- (A) Aproveitamento.
- (B) Reversão.
- (C) Readaptação.
- (D) Reintegração.
- (E) Recondução.

**60**

Levando em conta a estrutura administrativa da Assembleia Legislativa de Tocantins e dos órgãos de assistência à Presidência da Assembleia, de acordo com a Lei nº 4.209/2023, a competência para encaminhar as denúncias recebidas ao Tribunal de Contas do Estado, à Polícia Civil, ao Ministério Público, ou a outro órgão competente, é da

- (A) Procuradoria-Geral.
- (B) Controladoria Interna.
- (C) Diretoria de Polícia Legislativa.
- (D) Assessoria Jurídica da Presidência.
- (E) Ouvidoria Geral da Assembleia Legislativa.



# ASSEMBLEIA LEGISLATIVA DO ESTADO DO TOCANTINS

CONCURSO PÚBLICO – EDITAL Nº 01/2023

## PROVA OBJETIVA – MANHÃ

### TÉCNICO LEGISLATIVO TÉCNICO EM SEGURANÇA DO TRABALHO

NÍVEL MÉDIO – TIPO 1 – BRANCA



#### SUA PROVA

- Além deste caderno contendo **60 (sessenta)** questões objetivas, você receberá do fiscal de prova o cartão de respostas;
- As questões objetivas têm **5 (cinco)** opções de resposta (A, B, C, D) e somente uma delas está correta.



#### TEMPO

- Você dispõe de **4 (quatro) horas** para a realização da prova, já incluído o tempo para a marcação do cartão de respostas;
- **3 (três) horas** após o início da prova, é possível retirar-se da sala, sem levar o caderno de questões;
- A partir dos **30 (trinta) minutos** anteriores ao término da prova é possível retirar-se da sala **levando o caderno de questões**.



#### NÃO SERÁ PERMITIDO

- Qualquer tipo de comunicação entre os candidatos durante a aplicação da prova;
- Anotar informações relativas às respostas em qualquer outro meio que não seja o caderno de questões;
- Levantar da cadeira sem autorização do fiscal de sala;
- Usar o sanitário ao término da prova, após deixar a sala.



#### INFORMAÇÕES GERAIS

- Verifique se seu caderno de questões está completo, sem repetição de questões ou falhas. Caso contrário, **notifique imediatamente o fiscal da sala**, para que sejam tomadas as devidas providências;
- Confira seus dados pessoais, especialmente nome, número de inscrição e documento de identidade e leia atentamente as instruções para preencher o cartão de respostas;
- Para o preenchimento do cartão de respostas, use somente caneta esferográfica, fabricada em material transparente, com tinta preta ou azul;
- Assine seu nome apenas no(s) espaço(s) reservado(s) no cartão de respostas;
- Confira seu cargo, cor e tipo do caderno de questões. Caso tenha recebido caderno de cargo ou cor ou tipo **diferente** do impresso em seu cartão de respostas, o fiscal deve ser **obrigatoriamente** informado para o devido registro na ata da sala;
- Reserve tempo suficiente para o preenchimento do seu cartão de respostas. O preenchimento é de sua responsabilidade e **não será permitida a troca do cartão de respostas em caso de erro cometido pelo candidato**;
- Para fins de avaliação, serão levadas em consideração apenas as marcações realizadas no cartão de respostas;
- A FGV coletará as impressões digitais dos candidatos na lista de presença;
- Os candidatos serão submetidos ao sistema de detecção de metais quando do ingresso e da saída de sanitários durante a realização das provas.
- **Boa prova!**

## CONHECIMENTOS BÁSICOS

### Língua Portuguesa

1

Leia o seguinte texto de um jornal de outros tempos:

*“Mudança nas moedas. A partir de junho começam a entrar em circulação as moedas de Cr\$100 e Cr\$500 substituindo as cédulas que trazem estampadas a poetisa Cecília Meireles e o naturalista Augusto Ruschi, respectivamente. O lançamento das moedas foi aprovado na reunião de ontem do Conselho Monetário Nacional, colocando fim à família de notas criadas no governo Sarney, sob a égide dos cruzados novos.”*

Sobre esse fragmento textual, analise as observações a seguir, feitas por um estudioso de nossa Língua, e assinale a correta.

- (A) “Começam a entrar em circulação” é bastante estranho, porque as moedas, pequenas que são e de pequeno valor, “entram” logo.
- (B) “trazem estampadas a poetisa Cecília Meireles e o naturalista Augusto Ruschi”, mas eu pensava que as moedas trazem estampadas as efígies de Fulano ou Beltrano.
- (C) “colocando fim à família” mostra o emprego inadequado de “colocar” em lugar de “ pôr”.
- (D) “criadas”, por questão de clareza e precisão, devia ser substituído por “lançadas” ou “emitidas”.
- (E) “sob”, por questão de correção gramatical, deve ser substituído por “sobre”.

2

Leia o fragmento a seguir.

*“Não somos daqueles que só em meio aos livros, estimulados por livros vêm a ter pensamentos – é nosso hábito pensar ao ar livre, andando, saltando, escalando, dançando, preferivelmente em montes solitários ou próximos ao mar, onde mesmo as trilhas se tornam pensativas.”* (Nietzsche, filósofo alemão).

Sobre o significado desse fragmento, assinale a afirmativa correta.

- (A) A leitura é importante para a criação de ideias originais.
- (B) As formas de gerúndio mostram a evolução cronológica das ações narradas pelo escritor.
- (C) O pronome relativo “onde” refere-se a locais ao ar livre.
- (D) A forma do verbo “tornar-se”, como verbo de ligação, indica um estado transitório.
- (E) Os ambientes solitários propiciam reflexões de valor.

3

As citações a seguir são compostas por dois segmentos; assinale a opção em que a relação lógica indicada pelo segundo segmento está correta.

- (A) Dize-me o que crês ser / e te direi o que não és. – relação de oposição.
- (B) Quem crê é forte / quem duvida é fraco. – relação de conclusão.
- (C) Seja lá por que um homem reza, / ele reza por um milagre. – relação de explicação.
- (D) Não adianta esperar que o navio chegue / se você não o mandou para lugar nenhum. – relação de causa.
- (E) Pense como um homem de ação / e aja como um pensador. – relação de conclusão.

4

Os textos a seguir mostram elementos de coesão em relação ao termo sublinhado; assinale a opção em que todos os termos seguintes, em coesão com ele, estão indicados.

- (A) Geralmente, entre nossos motivos de agir, há um mais forte que os demais: aquele que não é declarado. – *um, os demais, aquele, que.*
- (B) O que empobrece o homem não são seus atos, mas os desejos que ele possui. – *ele.*
- (C) O dinheiro, recebem-no todos os que trabalham e o perdem todos os irresponsáveis. – *no, que, o.*
- (D) Qual pode ser a vida que começa pelos gritos da mãe, que a dá, e o choro do filho que a recebe? – *que, que, a.*
- (E) Meu filho! Deus te enviou a este mundo. Cultiva-o e não te apresses em sair dele. – *o.*

5

As frases a seguir mostram termos repetidos; assinale a opção que apresenta a frase em que o significado dos dois termos não é o mesmo.

- (A) Morrer é mudar de corpo como o ator muda de roupa.
- (B) Janeiro é o mês que se fazem bons votos aos amigos; os outros são os meses em que esses votos não se concretizam.
- (C) Quem tempo espera, muito tempo consome.
- (D) A falsidade da História é tão velha como a própria História.
- (E) Viva todos os dias como se fosse o último. Um dia você acerta.

6

As opções a seguir mostram, corretamente, a substituição da forma sublinhada, composta de não + verbo, por um só verbo, de sentido equivalente, à exceção de uma. Assinale-a.

- (A) Os países da OTAN pediram que o exército russo não avançasse esta semana. / *parasse.*
- (B) O deputado informou que não dispunha de tempo para redigir uma nova versão do projeto. / *carecia.*
- (C) O Presidente não aceitou o convite para visitar a Alemanha. / *declinou do.*
- (D) Não abriu as portas do museu para evitar a curiosidade do público. / *fechou.*
- (E) Por seus futuros compromissos, preferia não gastar dinheiro / *economizar.*

7

As frases a seguir mostram uma locução adjetiva introduzida pela preposição sem; assinale a opção em que a substituição dessa locução por um adjetivo de valor equivalente foi feita de forma adequada.

- (A) Cartas sem autoria declarada são sempre mal recebidas / *desautorizadas.*
- (B) Os poços sem água são de pouca serventia para a lavoura / *áridos.*
- (C) Foram deixados muitos problemas sem solução / *insolúveis.*
- (D) O governo tomou muitas atitudes sem nexos / *desconexas.*
- (E) Com os fogos de artifício, o campo ficou sem visão / *invisível.*

8

Assinale a opção que apresenta a frase em que houve **erro** de concordância da palavra sublinhada.

- (A) O presidente fez questão de deixar bem claras as suas intenções.  
 (B) O STF qualificou de antidemocrático aqueles atos.  
 (C) O governo chinês torna visíveis os erros das ditaduras.  
 (D) Os enfermeiros tiveram reconhecidos os direitos de greve.  
 (E) Tomei emprestados à biblioteca vários livros.

9

As perguntas a seguir apresentam o pronome pessoal oblíquo em ênclise (após o verbo); assinale a que mostra formulação **incorreta**, porque só admite próclise.

- (A) Os dois bandidos evadiram-se do presídio em Mossoró?  
 (B) Onde podemos vê-los?  
 (C) Eles dedicar-se-iam às tarefas com prazer.  
 (D) Numa entrevista como esta, isto pergunta-se?  
 (E) Quem dir-me-á tantas barbaridades, senão ele?

10

Assinale a opção que apresenta as duas palavras que devem ser grafadas com **es** e não com **ex**.

- (A) Excremento / expurgo.  
 (B) Excusar / expontâneo.  
 (C) Excomungar / expressar.  
 (D) Extirpar / extorquir.  
 (E) Exterminar / extremoso.

## Raciocínio Lógico Matemático

11

Dois números diferentes serão escolhidos ao acaso entre os elementos do conjunto {5,7,9,11,14}.

A soma dos números escolhidos

- (A) certamente é ímpar.  
 (B) certamente é par.  
 (C) pode ser 26.  
 (D) pode ser 18.  
 (E) pode ser menor que 12.

12

Em um jogo, duas fichas azuis têm o mesmo valor de cinco fichas vermelhas e uma ficha preta vale o mesmo que três fichas azuis.

Assim, duas fichas pretas equivalem a

- (A) sete fichas vermelhas.  
 (B) oito fichas vermelhas.  
 (C) nove fichas vermelhas.  
 (D) doze fichas vermelhas.  
 (E) quinze fichas vermelhas.

13

Sabe-se que 20% de  $N$  é igual a 13,4. Logo, 90% de  $N$  é igual a

- (A) 59,6.  
 (B) 60,3.  
 (C) 61,2.  
 (D) 62,5.  
 (E) 63,2.

14

Marcelo é filho de Alberto. Pedro é filho de Luiz. Se Marcelo e Luiz são irmãos por parte de pai, então

- (A) Alberto é pai de Pedro.  
 (B) Alberto é tio de Pedro.  
 (C) Pedro é irmão de Marcelo.  
 (D) Pedro é sobrinho de Marcelo.  
 (E) Pedro é neto de Marcelo.

15

A seguir, são apresentados os 9 primeiros termos de uma sequência infinita de números inteiros.

13, 12, 14, 11, 15, 10, 16, 9, 17, ...

Os termos são, alternadamente, maiores e menores que seus antecessores imediatos, seguindo um padrão de construção.

Sabendo-se que esse padrão é mantido ao longo de toda a sequência, conclui-se que um termo negativo aparecerá pela primeira vez na

- (A) 28ª posição.  
 (B) 27ª posição.  
 (C) 26ª posição.  
 (D) 15ª posição.  
 (E) 14ª posição.

16

Para pagar um lanche, Temístocles usou uma nota de R\$20,00 e recebeu, de troco, uma nota de R\$5,00, duas notas de R\$2,00, nove moedas de R\$0,50 e 3 moedas de R\$0,25.

O lanche custou a Temístocles

- (A) R\$5,25.  
 (B) R\$5,75.  
 (C) R\$6,25.  
 (D) R\$6,75.  
 (E) R\$7,25.

17

Ana trabalha em sistema de *home-office*, mas precisa comparecer ao escritório de sua empresa em intervalos regulares.

Se Ana comparece ao escritório em determinado dia, ela precisa comparecer de novo três dias úteis depois, isto é, descontando-se os sábados e os domingos. Assim, se ela compareceu em uma quinta-feira, deverá voltar ao escritório na terça-feira da semana seguinte.

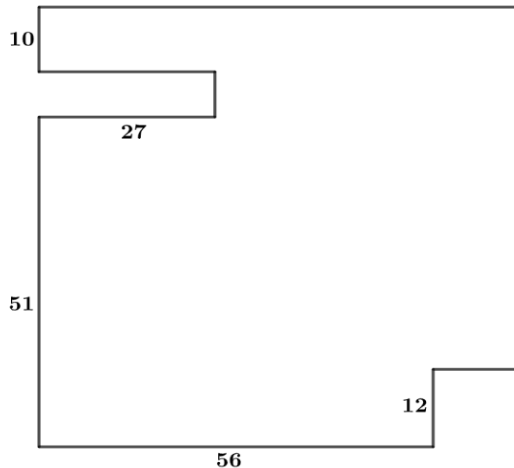
Hoje é sexta-feira e Ana está no escritório; assim, a *penúltima vez* em que ela esteve lá, foi uma

- (A) segunda-feira.  
 (B) terça-feira.  
 (C) quarta-feira.  
 (D) quinta-feira.  
 (E) sexta-feira.

18

De uma placa quadrada de madeira, foram recortados e, em seguida, descartados dois pedaços: o primeiro, em forma de um quadrado de lado 12 dm; o outro, em forma de retângulo, tendo comprimento igual a 27 dm.

A imagem a seguir ilustra o aspecto da placa após os descortes. Nela, estão indicadas as medidas, em decímetros, de alguns dos segmentos.



O menor lado do retângulo recortado dessa placa mede

- (A) 11 dm.
- (B) 10 dm.
- (C) 9 dm.
- (D) 8 dm.
- (E) 7 dm.

## Noções de Informática

19

No contexto dos sistemas operacionais Microsoft Windows, o Painel de Controle é uma área central para gerenciar as configurações do sistema, opções de personalização e outros.

Considerando as versões superiores ao Windows 7, assinale a opção que **não** indica uma funcionalidade encontrada no painel de controle.

- (A) Backup e Restauração.
- (B) Relógio e Região.
- (C) Hardware e Sons.
- (D) Contas de Usuário.
- (E) Configuração de Registro Avançadas.

20

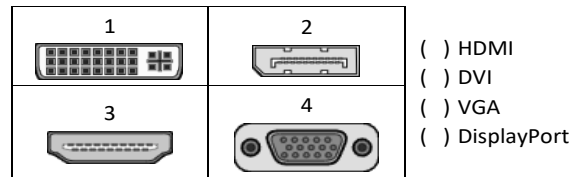
Nos sistemas operacionais Microsoft Windows 10, o recurso "Executar" permite aos usuários abrir rapidamente programas, pastas, documentos e recursos do sistema, ao digitar o caminho completo ou o nome do item.

Assinale a opção que apresenta a combinação de teclas usada para abrir a caixa de diálogo "Executar".

- (A) Windows + E
- (B) Windows + I
- (C) Windows + K
- (D) Windows + L
- (E) Windows + R

21

No contexto das interfaces para vídeo, relacione as portas às suas respectivas tecnologias.



Assinale a opção que indica a relação correta, segundo a ordem apresentada.

- (A) 2 – 3 – 1 – 4.
- (B) 2 – 4 – 1 – 3.
- (C) 3 – 2 – 1 – 4.
- (D) 3 – 1 – 4 – 2.
- (E) 4 – 2 – 3 – 1.

22

Sobre a inserção de tabelas no Microsoft Word 2019 em português, analise as afirmativas a seguir.

- I. As tabelas admitem diferentes estilos de borda, cores de preenchimento e fontes, para melhorar sua apresentação visual.
- II. Ao inserir uma tabela, é possível definir o número de linhas e colunas antes de criá-la, no entanto, não é possível alterar a estrutura após a inserção.
- III. As tabelas podem ser inseridas apenas no início de um documento e não podem ser movidas para outras partes do texto.

Está correto o que se afirma em

- (A) I, apenas.
- (B) I e II, apenas.
- (C) II e III, apenas.
- (D) I e III, apenas.
- (E) I, II e III.

23

Em uma planilha Microsoft Excel 2019 em português do Brasil, há um conjunto de dados com vendas listadas na coluna B.

Por meio da funcionalidade de Formatação Condicional, a seguinte função pode ser usada para destacar os 10% dos principais valores de vendas com preenchimento verde:

- (A) PERCENTIL.
- (B) MAXIMO.
- (C) SOMASES.
- (D) CONT.SE.
- (E) ABS.



24

Em uma pequena empresa, durante uma tentativa de realizar uma manutenção de rotina nos servidores ao final do expediente, José, um funcionário recém-contratado, com pouca experiência em TI, desliga um servidor que está rodando um serviço de DHCP. No dia seguinte, os usuários começam a reportar problemas.

Considerando que todas as estações de trabalho com sistema operacional Windows estavam utilizando o servidor DHCP, assinale a opção que indica o que os usuários reportaram.

- (A) As estações de trabalho não estão ligando, pois dependem do servidor DHCP.
- (B) Havia lentidão na conexão com a internet.
- (C) Perda de acesso à internet, enquanto o acesso à rede local entre as estações de trabalho permaneceu possível.
- (D) Interrupção do serviço de *e-mail*; os demais serviços funcionavam.
- (E) Impressão em rede local não funcionava, mas a internet estava acessível.

25

Os ataques de negação de serviço distribuídos, conhecidos como DDoS, representam uma ameaça significativa para a segurança da internet.

Com base nesse contexto, assinale a afirmativa **incorreta**.

- (A) Em um ataque DDoS, os atacantes usam uma rede de computadores comprometidos, conhecidos como botnets.
- (B) Os ataques DDoS geralmente visam comprometer os dados, tornando-os inacessíveis, mesmo para usuários autorizados.
- (C) Os ataques DDoS podem causar interrupções significativas nos serviços *online*.
- (D) Embora não seja usual, ataques DDoS já foram feitos a partir de dispositivos IoT comprometidos, como câmeras de segurança.
- (E) Os ataques de DDoS podem ter como alvo vários recursos de rede, incluindo servidores web, jogos *online* e infraestrutura de nuvem.

26

No contexto da computação em nuvem e seus serviços, assinale a opção que corresponde ao conceito de elasticidade.

- (A) A capacidade de expandir ou reduzir dinamicamente seus recursos de acordo com a demanda.
- (B) A flexibilidade de implementação de serviços.
- (C) A capacidade de uma nuvem de suportar múltiplos usuários, simultaneamente.
- (D) A velocidade da conexão entre a nuvem e os dispositivos do usuário.
- (E) A confiabilidade dos serviços oferecidos pelo provedor de computação em nuvem.

## História e Geografia do Estado de Tocantins

27



As bonecas Ritxoko são figuras de cerâmica confeccionadas por mulheres indígenas da etnia Karajá, do estado do Tocantins. Feitas a partir da mistura de argila e água, as peças representam tanto a forma humana e seus ciclos de vida quanto elementos da fauna e do sobrenatural. A pigmentação vermelha é extraída do urucum, enquanto a preta é retirada de uma árvore chamada ixarurina. As bonecas são usadas como instrumentos de socialização das crianças que se veem nesses objetos e aprendem a ser Karajá, recebendo ensinamentos e aprendendo as técnicas e saberes associados à sua confecção e usos. A pintura e a decoração das cerâmicas estão associadas à pintura corporal dos Karajá e às peças de vestuário e adorno.

Adaptado de <https://www.gov.br/funai>

Com base no trecho, é correto afirmar que as bonecas Ritxoko são um patrimônio

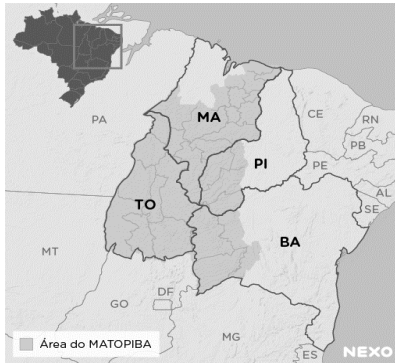
- (A) da humanidade, uma vez que constituem bens culturais e naturais significativos para todas as culturas, sendo contempladas como referência estética para todos os povos.
- (B) histórico nacional, pois exemplificam a riqueza dos modos de fazer e das formas de expressão que envolvem a tradição dos Karajás no Brasil.
- (C) cultural brasileiro, uma vez que são consideradas representações culturais com significados sociais e identitários profundos.
- (D) imaterial mundial, já que sua feitura envolve processos abstratos criativos de elaboração e variação de formas e grafismos.
- (E) material tocantinense, por expressar a arte, a memória e a identidade das comunidades indígenas da Ilha do Bananal, no Tocantins.

28

O Estado do Tocantins situa-se em uma zona de transição que apresenta dois tipos de vegetação: a Floresta Ombrófila e a Savana, pertencentes, respectivamente, aos biomas

- (A) Amazônia e Cerrado.
- (B) Mata Atlântica e Pampa.
- (C) Caatinga e Mata Atlântica.
- (D) Amazônia e Caatinga.
- (E) Cerrado e Pantanal.

29



A área do MATOPIBA caracteriza-se pelo baixo preço das terras e pela uniformidade do clima, do solo e do relevo, que facilitam a mecanização agrícola e tem atraído cada vez mais agricultores.

A respeito do MATOPIBA, analise as afirmativas a seguir.

- I. É uma região de transição entre o Cerrado e o Semiárido, com condições favoráveis para a agricultura: áreas planas e extensas, solos de alto potencial produtivo, disponibilidade de água, clima favorável com elevada intensidade de sol.
- II. É um grande produtor de *commodities*, com uso intenso de tecnologia (máquinas, colheitadeiras, insumos) e uso reduzido do fator trabalho, assim sendo, o crescimento do produto interno bruto (PIB) aumenta com velocidade, mas a geração de riqueza não é acompanhada, proporcionalmente, por uma melhora na distribuição de renda.
- III. É o maior produtor nacional de soja, pois concentra 90% da área de plantio, sendo também a região com o maior índice de produtividade sustentável de grãos, em função da colaboração do setor do agronegócio com a preservação das unidades de conservação locais.

Está correto o que se afirma em

- (A) I, apenas.
- (B) II, apenas.
- (C) III, apenas.
- (D) I e II, apenas.
- (E) II e III, apenas.

30

Sobre a formação histórica do território que hoje corresponde ao Estado do Tocantins, assinale a afirmativa que descreve corretamente o processo de desbravamento e ocupação da região no Período Colonial.

- (A) No final do século XVI, os primeiros a encontrar a foz do rio Tocantins junto ao Amazonas foram os espanhóis, então instalados no Maranhão para expulsar colonos franceses que haviam fundado a França equinocial.
- (B) Na primeira metade do século XVIII, a bandeira de Bartolomeu Bueno da Silva Filho descobriu ouro nas cabeceiras do rio Vermelho e fundou o Arraial de Sant'Anna, às margens do rio.
- (C) Nos anos de 1730-40 foi encontrado ouro no norte de Goiás, incentivando a fundação de cidades sob a jurisdição de Salvador, como Natividade, Almas, Chapada, Pontal e Porto Real, entre outras.
- (D) O declínio da mineração se acentuou na passagem do século XVIII para o XIX, agravado pela instituição de um novo imposto (capitação), cobrado proporcionalmente ao número de escravos de cada minerador.
- (E) Na segunda década do século XIX, em decorrência da crise da mineração, a região estava em uma situação de abandono, como relatado por Theotônio Segurado, futuro Governador da Capitania do Norte.

## CONHECIMENTOS ESPECÍFICOS

31

Relacione as leis/portarias apresentadas a seguir, ligadas ao histórico da segurança do trabalho no Brasil, aos aspectos nelas tratados.

1. Lei nº 7.410/1985
  2. Portaria nº 3.214/1978
  3. Lei nº 6.514/1977
- ( ) Aprovou a redação das primeiras 28 normas regulamentadoras (NR 1 a NR 28).
- ( ) Alterou o Capítulo V do Título II da CLT, relativo à segurança e medicina do trabalho, dando outras providências.
- ( ) Instituiu a profissão de técnico de segurança do trabalho.

Assinale a opção que indica a sequência correta, segundo a ordem apresentada.

- (A) 1 – 2 – 3.
- (B) 1 – 3 – 2.
- (C) 2 – 3 – 1.
- (D) 2 – 1 – 3.
- (E) 3 – 2 – 1.

**32**

Os acidentes de trabalho impactam a sociedade como um todo. Sobre esses impactos, analise as afirmativas a seguir.

- I. Os acidentes de trabalho em uma sociedade empresária não impactam o preço final dos produtos fabricados, pois os custos de afastamentos são assumidos pela Previdência Social.
- II. O custo dos acidentes e doenças relativas ao trabalho no Brasil está na casa das dezenas de bilhões de reais, aproximadamente.
- III. A subnotificação de acidentes de trabalho é pequena no país, permitindo uma fácil quantificação dos impactos dos acidentes de trabalho na sociedade brasileira.

Está correto o que se afirma em

- (A) I, apenas.
- (B) II, apenas.
- (C) III, apenas.
- (D) I e II, apenas.
- (E) II e III, apenas.

**33**

Os acidentes de trabalho têm várias causas. Uma forma de classificá-los é dividi-los naqueles causados por atos inseguros ou por condições inseguras.

Assinale a opção que apresenta um exemplo de ato inseguro e um de condição insegura, nessa ordem.

- (A) Não dispor de EPI para desempenhar uma tarefa (falta de EPI). / Utilizar EPI de forma inadequada.
- (B) Não dispor de EPI para desempenhar uma tarefa. / Desviar a atenção durante a realização de alguma atividade.
- (C) Utilizar EPI de forma inadequada. / Improvisar ou usar ferramenta inadequada para realização de tarefa.
- (D) Executar tarefa em ambiente com produtos químicos armazenados inadequadamente. / Desviar a atenção durante a realização de alguma atividade.
- (E) Improvisar ou usar ferramenta inadequada para realização de tarefa. / Executar tarefa em ambiente com produtos químicos armazenados inadequadamente.

**34**

Um funcionário de uma sociedade empresária sofreu um acidente de trabalho fatal durante suas atividades laborais. Sabendo que esse acidente ocorreu no dia 11 de outubro de 2023, quarta-feira, a sociedade empresária deve registrar a Comunicação de Acidente de Trabalho (CAT), sem pagamento de multa, até

- (A) 11 de outubro de 2023.
- (B) 12 de outubro de 2023.
- (C) 13 de outubro de 2023.
- (D) 18 de outubro de 2023.
- (E) 11 de novembro de 2023.

**35**

Os Equipamentos de Proteção Individual (EPI) são utilizados pelos trabalhadores para protegê-los contra riscos que ameacem sua saúde e segurança durante suas atividades.

Sobre a seleção desses equipamentos para a execução de tarefas laborais em uma sociedade empresária de grande porte, analise as afirmativas a seguir.

- I. A seleção do EPI deve ser realizada pela sociedade empresária, ouvindo apenas os empregados usuários.
- II. Não há obrigação de se registrar a seleção dos EPI, mas, caso se opte pelo registro, as atividades exercidas e os respectivos EPI devem integrar ou serem referenciadas no Programa de Gerenciamento de Riscos (PGR) da empresa.
- III. A seleção do EPI deve considerar o uso de óculos de segurança de sobrepor em conjunto com lentes corretivas ou a adaptação do EPI, sem ônus para o trabalhador, quando for necessária a utilização de correção visual pelo empregado no desempenho de suas funções.

Está correto o que se afirma em

- (A) I, apenas.
- (B) II, apenas.
- (C) III, apenas.
- (D) I e II, apenas.
- (E) II e III, apenas.

**36**

As tubulações devem ser submetidas a inspeções de segurança para garantir sua integridade estrutural. Assim, de acordo com a NR-13, deve-se realizar inspeção extraordinária antes de se recolocar em funcionamento tubulações que permaneceram inativas por mais de

- (A) 1 mês.
- (B) 3 meses.
- (C) 6 meses.
- (D) 12 meses.
- (E) 24 meses.

**37**

Os incêndios podem ser classificados pelo tipo de material combustível e, em função dessa classificação, escolhem-se os extintores de incêndio mais adequados para seu combate.

Relacione as classes de incêndio a seguir aos materiais cujas combustões estejam a elas associados.

- Classe A ( ) Gasolina  
 Classe B ( ) Sódio  
 Classe C ( ) Fiação elétrica  
 Classe D ( ) Borracha

Assinale a opção que apresenta a sequência correta, na ordem apresentada.

- (A) 2 – 3 – 4 – 1.
- (B) 2 – 4 – 3 – 1.
- (C) 2 – 1 – 3 – 4.
- (D) 4 – 1 – 3 – 2.
- (E) 4 – 3 – 1 – 2.

38

Uma das técnicas empregadas na análise de modos de falha é a FMECA (*Failure Modes, Effects and Criticality Analysis*). Nessa técnica, o cálculo do Número de Probabilidade de Risco (NPR) e da criticidade são essenciais.

Para calcular o NPR e a criticidade associados a uma falha em uma sociedade empresária, um técnico de segurança do trabalho obteve os dados listados na tabela a seguir.

		Escore
Probabilidade de ocorrência	baixa	2
Severidade	insatisfação do cliente	4
Índice de detecção das falhas	baixo	3

Considerando os dados da tabela, o NPR e a criticidade para essa falha valem, respectivamente,

- (A) 8 e 24.
- (B) 12 e 8.
- (C) 12 e 24.
- (D) 24 e 8.
- (E) 24 e 12.

39

A NR-13 classifica os vasos de pressão de acordo com o tipo de fluido armazenado nas categorias A, B, C e D.

Um exemplo de vaso de pressão na categoria A é o que armazena

- (A) acetileno.
- (B) vapor de água.
- (C) ar comprimido.
- (D) gases asfixiantes simples.
- (E) fluidos combustíveis com temperatura inferior a 200°C.

40

Os cestos suspensos são utilizados para içar trabalhadores que executarão trabalhos em altura. Para uso desses equipamentos, a NR-12 prescreve uma série de aspectos a serem observados e, entre eles, o peso total da carga içada.

Desse modo, sabendo que o peso a ser içado em cesto suspenso, incluindo moitão, conjunto de cabos, caçamba, trabalhadores, ferramentas e material, é de 500kgf, a capacidade de carga nominal do equipamento de guindar a ser utilizado deve ser, no mínimo, de

- (A) 750kgf.
- (B) 1000kgf.
- (C) 1250kgf.
- (D) 1500kgf.
- (E) 2000kgf.

41

Em relação aos aspectos legais do Saneamento e Meio Ambiente, analise as afirmativas a seguir.

- I. O CONAMA tem a finalidade de planejar e coordenar o Sistema Nacional do Meio Ambiente.
- II. O plano regional de saneamento básico prevalece sobre planos municipais de saneamento, quando estes existirem.
- III. O licenciamento ambiental de unidades de tratamento de esgotos sanitários deve ser realizado observando-se o princípio da simplificação de procedimentos.

Está correto o que se afirma em

- (A) I, apenas.
- (B) III, apenas.
- (C) I e III, apenas.
- (D) II e III, apenas.
- (E) I, II e III.

42

Os elementos presentes em efluentes líquidos industriais que são tratados principalmente pelo processo de lodo ativado são os contaminantes

- (A) orgânicos biodegradáveis.
- (B) sólidos suspensos.
- (C) orgânicos voláteis.
- (D) patogênicos.
- (E) nutrientes.

43

Uma das formas de destinação final dos resíduos sólidos é a compostagem, que tem, como uma de suas características,

- (A) reciclar embalagens.
- (B) criar um aterro sanitário.
- (C) obter como resultado, adubo.
- (D) dispor os resíduos em aterro controlado.
- (E) separar os materiais que compõem o lixo.

44

Na prestação de primeiros socorros, uma medida fundamental é a avaliação dos sinais vitais, dentre os quais se inclui o pulso.

O pulso radial é aquele medido

- (A) no pescoço.
- (B) no punho.
- (C) no úmero.
- (D) na tibia.
- (E) no poplíteo.

45

Um funcionário de uma sociedade empresária sofreu uma queimadura térmica de segundo grau. Um procedimento adequado para tratamento imediato do acidentado, além da lavagem do local, é o de

- (A) proteger com papel alumínio.
- (B) eliminar as bolhas.
- (C) aplicar gelo.
- (D) aplicar pomada.
- (E) remover as roupas grudadas na queimadura.

46

Com relação ao transporte de acidentados, analise as afirmativas a seguir e assinale (V) para a verdadeira e (F) para a falsa.

- ( ) Se uma vítima estiver em decúbito ventral, apresentando vias áreas permeáveis e sinais vitais presentes, deve-se virá-la antes de posicioná-la para transporte na maca.
- ( ) Na ausência de maca, pode-se utilizar o transporte de colo de duas pessoas para uma vítima que sofreu fratura.
- ( ) No transporte de bombeiro, uma pessoa segura os braços da vítima e a outra, a perna da vítima.

As afirmativas são, respectivamente,

- (A) F – V – V.
- (B) F – V – F.
- (C) F – F – V.
- (D) V – V – F.
- (E) V – F – V.

47

O esforço repetitivo no ambiente de trabalho pode acarretar uma série de lesões. Relacione os três tipos de lesões listados a seguir, às suas respectivas regiões de ocorrência.

1. Tenossinovite de De Quervain
2. Síndrome do túnel do carpo
3. Epicondilite lateral

- ( ) tendões extensores do carpo
- ( ) face ventral do punho
- ( ) tendões abductor longo e extensor curto do polegar

Assinale a opção que apresenta a sequência correta, segundo a ordem apresentada.

- (A) 1 – 3 – 2.
- (B) 2 – 1 – 3.
- (C) 2 – 3 – 1.
- (D) 3 – 1 – 2.
- (E) 3 – 2 – 1.

48

O ramo da ergonomia voltado aos aspectos mentais da atividade de trabalho das pessoas é denominado ergonomia

- (A) organizacional.
- (B) de produção.
- (C) física.
- (D) cognitiva.
- (E) de concepção.

49

Os riscos no ambiente de trabalho podem ser classificados de acordo com os agentes causadores.

As poeiras e os vapores são exemplos de agentes de risco

- (A) físico.
- (B) biológico.
- (C) químico.
- (D) ergonômico.
- (E) de acidente.

50

A distinção entre radiação ionizante e não ionizante está relacionada à capacidade de uma radiação de arrancar elétrons de um átomo.

Assinale a opção que relaciona apenas radiações ionizantes.

- (A) Raios-X, raios gama e partículas Beta.
- (B) Micro-ondas, radiação infravermelha e raios-X.
- (C) Raios gama, micro-ondas e radiação infravermelha.
- (D) Partículas Beta, raios-X e micro-ondas.
- (E) Radiação infravermelha, partículas Beta e raios gama.

## PRINCÍPIOS DA ADMINISTRAÇÃO PÚBLICA

51

A Administração Direta é composta por órgãos e entidades que fazem parte da estrutura do Estado e operam diretamente sob a autoridade do poder público. Em contrapartida, a Administração Indireta inclui entidades com personalidade jurídica própria, mas vinculadas ao Estado. Enquanto a Administração Direta executa diretamente políticas públicas, a Indireta opera de forma mais especializada, muitas vezes em atividades empresariais.

Assinale a opção que indica a entidade dotada de personalidade jurídica de direito privado, com patrimônio próprio e capital exclusivo da União, criado por lei para a exploração de atividade econômica.

- (A) Autarquia.
- (B) Empresa pública.
- (C) Fundação pública.
- (D) Organização social.
- (E) Sociedade de economia mista.

52

A educação, a saúde, a alimentação, o trabalho, a moradia, o transporte, o lazer, a segurança, a previdência social, a proteção à maternidade e à infância, a assistência aos desamparados, na forma desta Constituição, são direitos sociais.

Assinale a opção que indica, corretamente, o direito devido ao brasileiro em situação de vulnerabilidade social.

- (A) Benefício de prestação continuada.
- (B) Fundo de garantia do tempo de serviço.
- (C) Seguro-desemprego.
- (D) Renda básica familiar.
- (E) Repouso semanal remunerado.

53

A Lei de Acesso à Informação (Lei nº 12.527/2011) garante ao cidadão o direito de obter informações públicas, promovendo a transparência e a *accountability* no setor público.

Assinale a opção que apresenta a qualidade da informação que pode ser conhecida e utilizada por indivíduos, equipamentos ou sistemas autorizados.

- (A) Integridade.
- (B) Autenticidade.
- (C) Transparência.
- (D) Primariedade.
- (E) Disponibilidade.

54

A Lei Geral de Proteção de Dados Pessoais (Lei nº 13.709/2018) estabelece regras para o tratamento de dados pessoais por parte de empresas e organizações, visando proteger a privacidade e os direitos dos cidadãos.

Assinale, entre as opções a seguir, a que apresenta um fundamento da disciplina da proteção de dados pessoais.

- (A) Anonimização.
- (B) Consentimento.
- (C) Não discriminação.
- (D) Uso compartilhado de dados.
- (E) Liberdade de expressão.

55

De acordo com a Lei nº 14.133/2021, conhecida como Nova Lei de Licitações e Contratos Administrativos, o processo licitatório visa prevenir contratações com sobrepreço, preços manifestamente inexequíveis e superfaturamento na execução dos contratos.

Com relação aos casos de superfaturamento em que há dano provocado ao patrimônio da Administração, analise as afirmativas a seguir.

- I. Medição de quantidades superiores às efetivamente executadas ou fornecidas.
- II. Alterações no orçamento de obras e de serviços de engenharia que causem desequilíbrio econômico-financeiro do contrato em favor do contratante.
- III. Deficiência na execução de obras e de serviços de engenharia que resultem em diminuição da sua qualidade, vida útil ou insegurança.

Está correto o que se afirma em

- (A) I, apenas.
- (B) I e II, apenas.
- (C) I e III, apenas.
- (D) II e III, apenas.
- (E) I, II e III.

## LEGISLAÇÃO INSTITUCIONAL

56

João, eleito Deputado Estadual, foi diplomado, mas ainda não tomou posse.

À luz da Constituição do Estado do Tocantins, João não poderá

- (A) exercer cargo em uma empresa concessionária de serviço público.
- (B) ser diretor de uma empresa que goze de favor decorrente de contrato com pessoa jurídica de direito público.
- (C) patrocinar uma causa em que seja interessada uma autarquia.
- (D) manter contrato com uma pessoa jurídica de direito privado.
- (E) ser titular de mais de um cargo ou de mandato público eletivo.

57

Considerando o que dispõe o Regimento Interno da Assembleia Legislativa de Tocantins a respeito das Comissões, assinale a afirmativa correta.

- (A) A Comissão de Constituição, Justiça e Redação tem poderes de investigação próprios das autoridades judiciais.
- (B) As Comissões Especiais não podem ser constituídas para investigação sumária de fato determinado.
- (C) À Comissão de Segurança Pública compete analisar questões ligadas à violência urbana e rural.
- (D) As Comissões de Representação devem ser aprovadas pela maioria absoluta do Plenário da Assembleia.
- (E) A Comissão Parlamentar de Inquérito poderá deslocar-se para qualquer ponto do território estadual para a realização de investigações e audiências públicas.

58

Joaquim é servidor estadual estável, detentor de cargo efetivo e aposentado voluntariamente. Depois de dois anos de sua aposentadoria, Joaquim manifestou interesse, perante a Administração, de retornar à atividade em que era estável.

Caso haja cargo vago disponível, conforme a Lei nº 1818/2017, que dispõe sobre o Estatuto dos Servidores Públicos Civis do Estado do Tocantins, assinale a modalidade de provimento adequada ao caso.

- (A) Aproveitamento.
- (B) Reversão.
- (C) Readaptação.
- (D) Reintegração.
- (E) Recondução.

59

Luiz, servidor público efetivo, encontra-se em estágio probatório e, nesse período, tem sido submetido a Avaliações Especiais de Desempenho.

Nos termos da Lei nº 4.208/2023, que cuida do plano de cargos, carreiras e remuneração dos Servidores da Assembleia Legislativa de Tocantins, assinale a afirmativa correta.

- (A) A Avaliação Especial de Desempenho dá-se em três etapas, que tem por base o acompanhamento trimestral do servidor.
- (B) O resultado da avaliação será levado ao conhecimento do avaliado e arquivado em caráter público.
- (C) O servidor, para ser aprovado, deverá obter média igual ou superior a 60% (sessenta por cento) dos pontos possíveis nas Avaliações Especiais de Desempenho.
- (D) O servidor, caso aprovado no estágio probatório, será imediatamente elevado para a classe seguinte do padrão inicial do seu cargo.
- (E) O servidor deve ser avaliado pelo chefe imediato.

60

Levando em conta a estrutura administrativa da Assembleia Legislativa de Tocantins e dos órgãos de assistência à Presidência da Assembleia, de acordo com a Lei nº 4.209/2023, a competência para encaminhar as denúncias recebidas ao Tribunal de Contas do Estado, à Polícia Civil, ao Ministério Público, ou a outro órgão competente, é da

- (A) Procuradoria-Geral.
- (B) Controladoria Interna.
- (C) Diretoria de Polícia Legislativa.
- (D) Assessoria Jurídica da Presidência.
- (E) Ouvidoria Geral da Assembleia Legislativa.



# ASSEMBLEIA LEGISLATIVA DO ESTADO DO TOCANTINS

CONCURSO PÚBLICO – EDITAL Nº 01/2023

## PROVA OBJETIVA – MANHÃ

### TÉCNICO LEGISLATIVO TRADUTOR E INTERPRETE DE LIBRAS

NÍVEL MÉDIO – TIPO 1 – BRANCA



#### SUA PROVA

- Além deste caderno contendo **60 (sessenta)** questões objetivas, você receberá do fiscal de prova o cartão de respostas;
- As questões objetivas têm **5 (cinco)** opções de resposta (A, B, C, D) e somente uma delas está correta.



#### TEMPO

- Você dispõe de **4 (quatro) horas** para a realização da prova, já incluído o tempo para a marcação do cartão de respostas;
- **3 (três) horas** após o início da prova, é possível retirar-se da sala, sem levar o caderno de questões;
- A partir dos **30 (trinta) minutos** anteriores ao término da prova é possível retirar-se da sala **levando o caderno de questões**.



#### NÃO SERÁ PERMITIDO

- Qualquer tipo de comunicação entre os candidatos durante a aplicação da prova;
- Anotar informações relativas às respostas em qualquer outro meio que não seja o caderno de questões;
- Levantar da cadeira sem autorização do fiscal de sala;
- Usar o sanitário ao término da prova, após deixar a sala.



#### INFORMAÇÕES GERAIS

- Verifique se seu caderno de questões está completo, sem repetição de questões ou falhas. Caso contrário, **notifique imediatamente o fiscal da sala**, para que sejam tomadas as devidas providências;
- Confira seus dados pessoais, especialmente nome, número de inscrição e documento de identidade e leia atentamente as instruções para preencher o cartão de respostas;
- Para o preenchimento do cartão de respostas, use somente caneta esferográfica, fabricada em material transparente, com tinta preta ou azul;
- Assine seu nome apenas no(s) espaço(s) reservado(s) no cartão de respostas;
- Confira seu cargo, cor e tipo do caderno de questões. Caso tenha recebido caderno de cargo ou cor ou tipo **diferente** do impresso em seu cartão de respostas, o fiscal deve ser **obrigatoriamente** informado para o devido registro na ata da sala;
- Reserve tempo suficiente para o preenchimento do seu cartão de respostas. O preenchimento é de sua responsabilidade e **não será permitida a troca do cartão de respostas em caso de erro cometido pelo candidato**;
- Para fins de avaliação, serão levadas em consideração apenas as marcações realizadas no cartão de respostas;
- A FGV coletará as impressões digitais dos candidatos na lista de presença;
- Os candidatos serão submetidos ao sistema de detecção de metais quando do ingresso e da saída de sanitários durante a realização das provas.
- **Boa prova!**

## CONHECIMENTOS BÁSICOS

### Língua Portuguesa

1

Leia o seguinte texto de um jornal de outros tempos:

*“Mudança nas moedas. A partir de junho começam a entrar em circulação as moedas de Cr\$100 e Cr\$500 substituindo as cédulas que trazem estampadas a poetisa Cecília Meireles e o naturalista Augusto Ruschi, respectivamente. O lançamento das moedas foi aprovado na reunião de ontem do Conselho Monetário Nacional, colocando fim à família de notas criadas no governo Sarney, sob a égide dos cruzados novos.”*

Sobre esse fragmento textual, analise as observações a seguir, feitas por um estudioso de nossa Língua, e assinale a correta.

- (A) “Começam a entrar em circulação” é bastante estranho, porque as moedas, pequenas que são e de pequeno valor, “entram” logo.
- (B) “trazem estampadas a poetisa Cecília Meireles e o naturalista Augusto Ruschi”, mas eu pensava que as moedas trazem estampadas as efígies de Fulano ou Beltrano.
- (C) “colocando fim à família” mostra o emprego inadequado de “colocar” em lugar de “ pôr”.
- (D) “criadas”, por questão de clareza e precisão, devia ser substituído por “lançadas” ou “emitidas”.
- (E) “sob”, por questão de correção gramatical, deve ser substituído por “sobre”.

2

Leia o fragmento a seguir.

*“Não somos daqueles que só em meio aos livros, estimulados por livros vêm a ter pensamentos – é nosso hábito pensar ao ar livre, andando, saltando, escalando, dançando, preferivelmente em montes solitários ou próximos ao mar, onde mesmo as trilhas se tornam pensativas.”* (Nietzsche, filósofo alemão).

Sobre o significado desse fragmento, assinale a afirmativa correta.

- (A) A leitura é importante para a criação de ideias originais.
- (B) As formas de gerúndio mostram a evolução cronológica das ações narradas pelo escritor.
- (C) O pronome relativo “onde” refere-se a locais ao ar livre.
- (D) A forma do verbo “tornar-se”, como verbo de ligação, indica um estado transitório.
- (E) Os ambientes solitários propiciam reflexões de valor.

3

As citações a seguir são compostas por dois segmentos; assinale a opção em que a relação lógica indicada pelo segundo segmento está correta.

- (A) Dize-me o que crês ser / e te direi o que não és. – relação de oposição.
- (B) Quem crê é forte / quem duvida é fraco. – relação de conclusão.
- (C) Seja lá por que um homem reza, / ele reza por um milagre. – relação de explicação.
- (D) Não adianta esperar que o navio chegue / se você não o mandou para lugar nenhum. – relação de causa.
- (E) Pense como um homem de ação / e aja como um pensador. – relação de conclusão.

4

Os textos a seguir mostram elementos de coesão em relação ao termo sublinhado; assinale a opção em que todos os termos seguintes, em coesão com ele, estão indicados.

- (A) Geralmente, entre nossos motivos de agir, há um mais forte que os demais: aquele que não é declarado. – *um, os demais, aquele, que.*
- (B) O que empobrece o homem não são seus atos, mas os desejos que ele possui. – *ele.*
- (C) O dinheiro, recebem-no todos os que trabalham e o perdem todos os irresponsáveis. – *no, que, o.*
- (D) Qual pode ser a vida que começa pelos gritos da mãe, que a dá, e o choro do filho que a recebe? – *que, que, a.*
- (E) Meu filho! Deus te enviou a este mundo. Cultiva-o e não te apresses em sair dele. – *o.*

5

As frases a seguir mostram termos repetidos; assinale a opção que apresenta a frase em que o significado dos dois termos não é o mesmo.

- (A) Morrer é mudar de corpo como o ator muda de roupa.
- (B) Janeiro é o mês que se fazem bons votos aos amigos; os outros são os meses em que esses votos não se concretizam.
- (C) Quem tempo espera, muito tempo consome.
- (D) A falsidade da História é tão velha como a própria História.
- (E) Viva todos os dias como se fosse o último. Um dia você acerta.

6

As opções a seguir mostram, corretamente, a substituição da forma sublinhada, composta de não + verbo, por um só verbo, de sentido equivalente, à exceção de uma. Assinale-a.

- (A) Os países da OTAN pediram que o exército russo não avançasse esta semana. / *parasse.*
- (B) O deputado informou que não dispunha de tempo para redigir uma nova versão do projeto. / *carecia.*
- (C) O Presidente não aceitou o convite para visitar a Alemanha. / *declinou do.*
- (D) Não abriu as portas do museu para evitar a curiosidade do público. / *fechou.*
- (E) Por seus futuros compromissos, preferia não gastar dinheiro / *economizar.*

7

As frases a seguir mostram uma locução adjetiva introduzida pela preposição sem; assinale a opção em que a substituição dessa locução por um adjetivo de valor equivalente foi feita de forma adequada.

- (A) Cartas sem autoria declarada são sempre mal recebidas / desautorizadas.
- (B) Os poços sem água são de pouca serventia para a lavoura / áridos.
- (C) Foram deixados muitos problemas sem solução / insolúveis.
- (D) O governo tomou muitas atitudes sem nexos / desconexas.
- (E) Com os fogos de artifício, o campo ficou sem visões / invisível.



8

Assinale a opção que apresenta a frase em que houve **erro** de concordância da palavra sublinhada.

- (A) O presidente fez questão de deixar bem claras as suas intenções.
- (B) O STF qualificou de antidemocrático aqueles atos.
- (C) O governo chinês torna visíveis os erros das ditaduras.
- (D) Os enfermeiros tiveram reconhecidos os direitos de greve.
- (E) Tomei emprestados à biblioteca vários livros.

9

As perguntas a seguir apresentam o pronome pessoal oblíquo em ênclise (após o verbo); assinale a que mostra formulação **incorreta**, porque só admite próclise.

- (A) Os dois bandidos evadiram-se do presídio em Mossoró?
- (B) Onde podemos vê-los?
- (C) Eles dedicar-se-iam às tarefas com prazer.
- (D) Numa entrevista como esta, isto pergunta-se?
- (E) Quem dir-me-á tantas barbaridades, senão ele?

10

Assinale a opção que apresenta as duas palavras que devem ser grafadas com **es** e não com **ex**.

- (A) Excremento / expurgo.
- (B) Excusar / expontâneo.
- (C) Excomungar / expressar.
- (D) Extirpar / extorquir.
- (E) Exterminar / extremoso.

## Raciocínio Lógico Matemático

11

Dois números diferentes serão escolhidos ao acaso entre os elementos do conjunto {5,7,9,11,14}.

A soma dos números escolhidos

- (A) certamente é ímpar.
- (B) certamente é par.
- (C) pode ser 26.
- (D) pode ser 18.
- (E) pode ser menor que 12.

12

Em um jogo, duas fichas azuis têm o mesmo valor de cinco fichas vermelhas e uma ficha preta vale o mesmo que três fichas azuis.

Assim, duas fichas pretas equivalem a

- (A) sete fichas vermelhas.
- (B) oito fichas vermelhas.
- (C) nove fichas vermelhas.
- (D) doze fichas vermelhas.
- (E) quinze fichas vermelhas.

13

Sabe-se que 20% de  $N$  é igual a 13,4. Logo, 90% de  $N$  é igual a

- (A) 59,6.
- (B) 60,3.
- (C) 61,2.
- (D) 62,5.
- (E) 63,2.

14

Marcelo é filho de Alberto. Pedro é filho de Luiz. Se Marcelo e Luiz são irmãos por parte de pai, então

- (A) Alberto é pai de Pedro.
- (B) Alberto é tio de Pedro.
- (C) Pedro é irmão de Marcelo.
- (D) Pedro é sobrinho de Marcelo.
- (E) Pedro é neto de Marcelo.

15

A seguir, são apresentados os 9 primeiros termos de uma sequência infinita de números inteiros.

13, 12, 14, 11, 15, 10, 16, 9, 17, ...

Os termos são, alternadamente, maiores e menores que seus antecessores imediatos, seguindo um padrão de construção.

Sabendo-se que esse padrão é mantido ao longo de toda a sequência, conclui-se que um termo negativo aparecerá pela primeira vez na

- (A) 28ª posição.
- (B) 27ª posição.
- (C) 26ª posição.
- (D) 15ª posição.
- (E) 14ª posição.

16

Para pagar um lanche, Temístocles usou uma nota de R\$20,00 e recebeu, de troco, uma nota de R\$5,00, duas notas de R\$2,00, nove moedas de R\$0,50 e 3 moedas de R\$0,25.

O lanche custou a Temístocles

- (A) R\$5,25.
- (B) R\$5,75.
- (C) R\$6,25.
- (D) R\$6,75.
- (E) R\$7,25.

17

Ana trabalha em sistema de *home-office*, mas precisa comparecer ao escritório de sua empresa em intervalos regulares.

Se Ana comparece ao escritório em determinado dia, ela precisa comparecer de novo três dias úteis depois, isto é, descontando-se os sábados e os domingos. Assim, se ela compareceu em uma quinta-feira, deverá voltar ao escritório na terça-feira da semana seguinte.

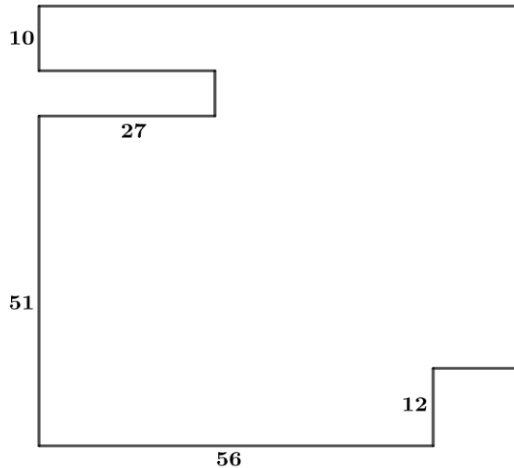
Hoje é sexta-feira e Ana está no escritório; assim, a *penúltima vez* em que ela esteve lá, foi uma

- (A) segunda-feira.
- (B) terça-feira.
- (C) quarta-feira.
- (D) quinta-feira.
- (E) sexta-feira.

18

De uma placa quadrada de madeira, foram recortados e, em seguida, descartados dois pedaços: o primeiro, em forma de um quadrado de lado 12 dm; o outro, em forma de retângulo, tendo comprimento igual a 27 dm.

A imagem a seguir ilustra o aspecto da placa após os descartes. Nela, estão indicadas as medidas, em decímetros, de alguns dos segmentos.



O menor lado do retângulo recortado dessa placa mede

- (A) 11 dm.
- (B) 10 dm.
- (C) 9 dm.
- (D) 8 dm.
- (E) 7 dm.

## Noções de Informática

19

No contexto dos sistemas operacionais Microsoft Windows, o Painel de Controle é uma área central para gerenciar as configurações do sistema, opções de personalização e outros.

Considerando as versões superiores ao Windows 7, assinale a opção que **não** indica uma funcionalidade encontrada no painel de controle.

- (A) Backup e Restauração.
- (B) Relógio e Região.
- (C) Hardware e Sons.
- (D) Contas de Usuário.
- (E) Configuração de Registro Avançadas.

20

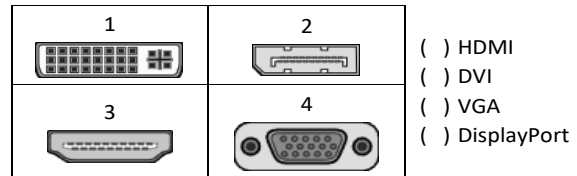
Nos sistemas operacionais Microsoft Windows 10, o recurso "Executar" permite aos usuários abrir rapidamente programas, pastas, documentos e recursos do sistema, ao digitar o caminho completo ou o nome do item.

Assinale a opção que apresenta a combinação de teclas usada para abrir a caixa de diálogo "Executar".

- (A) Windows + E
- (B) Windows + I
- (C) Windows + K
- (D) Windows + L
- (E) Windows + R

21

No contexto das interfaces para vídeo, relacione as portas às suas respectivas tecnologias.



Assinale a opção que indica a relação correta, segundo a ordem apresentada.

- (A) 2 – 3 – 1 – 4.
- (B) 2 – 4 – 1 – 3.
- (C) 3 – 2 – 1 – 4.
- (D) 3 – 1 – 4 – 2.
- (E) 4 – 2 – 3 – 1.

22

Sobre a inserção de tabelas no Microsoft Word 2019 em português, analise as afirmativas a seguir.

- I. As tabelas admitem diferentes estilos de borda, cores de preenchimento e fontes, para melhorar sua apresentação visual.
- II. Ao inserir uma tabela, é possível definir o número de linhas e colunas antes de criá-la, no entanto, não é possível alterar a estrutura após a inserção.
- III. As tabelas podem ser inseridas apenas no início de um documento e não podem ser movidas para outras partes do texto.

Está correto o que se afirma em

- (A) I, apenas.
- (B) I e II, apenas.
- (C) II e III, apenas.
- (D) I e III, apenas.
- (E) I, II e III.

23

Em uma planilha Microsoft Excel 2019 em português do Brasil, há um conjunto de dados com vendas listadas na coluna B.

Por meio da funcionalidade de Formatação Condicional, a seguinte função pode ser usada para destacar os 10% dos principais valores de vendas com preenchimento verde:

- (A) PERCENTIL.
- (B) MAXIMO.
- (C) SOMASES.
- (D) CONT.SE.
- (E) ABS.

24

Em uma pequena empresa, durante uma tentativa de realizar uma manutenção de rotina nos servidores ao final do expediente, José, um funcionário recém-contratado, com pouca experiência em TI, desliga um servidor que está rodando um serviço de DHCP. No dia seguinte, os usuários começam a reportar problemas.

Considerando que todas as estações de trabalho com sistema operacional Windows estavam utilizando o servidor DHCP, assinale a opção que indica o que os usuários reportaram.

- (A) As estações de trabalho não estão ligando, pois dependem do servidor DHCP.
- (B) Havia lentidão na conexão com a internet.
- (C) Perda de acesso à internet, enquanto o acesso à rede local entre as estações de trabalho permaneceu possível.
- (D) Interrupção do serviço de *e-mail*; os demais serviços funcionavam.
- (E) Impressão em rede local não funcionava, mas a internet estava acessível.

25

Os ataques de negação de serviço distribuídos, conhecidos como DDoS, representam uma ameaça significativa para a segurança da internet.

Com base nesse contexto, assinale a afirmativa **incorreta**.

- (A) Em um ataque DDoS, os atacantes usam uma rede de computadores comprometidos, conhecidos como botnets.
- (B) Os ataques DDoS geralmente visam comprometer os dados, tornando-os inacessíveis, mesmo para usuários autorizados.
- (C) Os ataques DDoS podem causar interrupções significativas nos serviços *online*.
- (D) Embora não seja usual, ataques DDoS já foram feitos a partir de dispositivos IoT comprometidos, como câmeras de segurança.
- (E) Os ataques de DDoS podem ter como alvo vários recursos de rede, incluindo servidores web, jogos *online* e infraestrutura de nuvem.

26

No contexto da computação em nuvem e seus serviços, assinale a opção que corresponde ao conceito de elasticidade.

- (A) A capacidade de expandir ou reduzir dinamicamente seus recursos de acordo com a demanda.
- (B) A flexibilidade de implementação de serviços.
- (C) A capacidade de uma nuvem de suportar múltiplos usuários, simultaneamente.
- (D) A velocidade da conexão entre a nuvem e os dispositivos do usuário.
- (E) A confiabilidade dos serviços oferecidos pelo provedor de computação em nuvem.

## História e Geografia do Estado de Tocantins

27



As bonecas Ritxoko são figuras de cerâmica confeccionadas por mulheres indígenas da etnia Karajá, do estado do Tocantins. Feitas a partir da mistura de argila e água, as peças representam tanto a forma humana e seus ciclos de vida quanto elementos da fauna e do sobrenatural. A pigmentação vermelha é extraída do urucum, enquanto a preta é retirada de uma árvore chamada ixarurina. As bonecas são usadas como instrumentos de socialização das crianças que se veem nesses objetos e aprendem a ser Karajá, recebendo ensinamentos e aprendendo as técnicas e saberes associados à sua confecção e usos. A pintura e a decoração das cerâmicas estão associadas à pintura corporal dos Karajá e às peças de vestuário e adorno.

Adaptado de <https://www.gov.br/funai>

Com base no trecho, é correto afirmar que as bonecas Ritxoko são um patrimônio

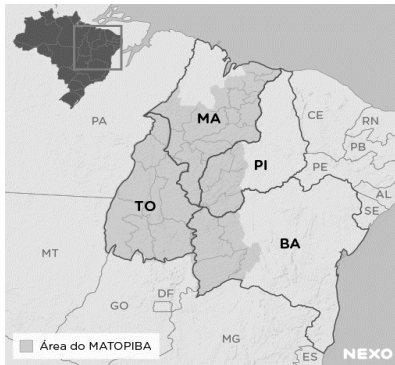
- (A) da humanidade, uma vez que constituem bens culturais e naturais significativos para todas as culturas, sendo contempladas como referência estética para todos os povos.
- (B) histórico nacional, pois exemplificam a riqueza dos modos de fazer e das formas de expressão que envolvem a tradição dos Karajás no Brasil.
- (C) cultural brasileiro, uma vez que são consideradas representações culturais com significados sociais e identitários profundos.
- (D) imaterial mundial, já que sua feitura envolve processos abstratos criativos de elaboração e variação de formas e grafismos.
- (E) material tocantinense, por expressar a arte, a memória e a identidade das comunidades indígenas da Ilha do Bananal, no Tocantins.

28

O Estado do Tocantins situa-se em uma zona de transição que apresenta dois tipos de vegetação: a Floresta Ombrófila e a Savana, pertencentes, respectivamente, aos biomas

- (A) Amazônia e Cerrado.
- (B) Mata Atlântica e Pampa.
- (C) Caatinga e Mata Atlântica.
- (D) Amazônia e Caatinga.
- (E) Cerrado e Pantanal.

29



A área do MATOPIBA caracteriza-se pelo baixo preço das terras e pela uniformidade do clima, do solo e do relevo, que facilitam a mecanização agrícola e tem atraído cada vez mais agricultores.

A respeito do MATOPIBA, analise as afirmativas a seguir.

- I. É uma região de transição entre o Cerrado e o Semiárido, com condições favoráveis para a agricultura: áreas planas e extensas, solos de alto potencial produtivo, disponibilidade de água, clima favorável com elevada intensidade de sol.
- II. É um grande produtor de *commodities*, com uso intenso de tecnologia (máquinas, colheitadeiras, insumos) e uso reduzido do fator trabalho, assim sendo, o crescimento do produto interno bruto (PIB) aumenta com velocidade, mas a geração de riqueza não é acompanhada, proporcionalmente, por uma melhora na distribuição de renda.
- III. É o maior produtor nacional de soja, pois concentra 90% da área de plantio, sendo também a região com o maior índice de produtividade sustentável de grãos, em função da colaboração do setor do agronegócio com a preservação das unidades de conservação locais.

Está correto o que se afirma em

- (A) I, apenas.
- (B) II, apenas.
- (C) III, apenas.
- (D) I e II, apenas.
- (E) II e III, apenas.

30

Sobre a formação histórica do território que hoje corresponde ao Estado do Tocantins, assinale a afirmativa que descreve corretamente o processo de desbravamento e ocupação da região no Período Colonial.

- (A) No final do século XVI, os primeiros a encontrar a foz do rio Tocantins junto ao Amazonas foram os espanhóis, então instalados no Maranhão para expulsar colonos franceses que haviam fundado a França equinocial.
- (B) Na primeira metade do século XVIII, a bandeira de Bartolomeu Bueno da Silva Filho descobriu ouro nas cabeceiras do rio Vermelho e fundou o Arraial de Sant'Anna, às margens do rio.
- (C) Nos anos de 1730-40 foi encontrado ouro no norte de Goiás, incentivando a fundação de cidades sob a jurisdição de Salvador, como Natividade, Almas, Chapada, Pontal e Porto Real, entre outras.
- (D) O declínio da mineração se acentuou na passagem do século XVIII para o XIX, agravado pela instituição de um novo imposto (capitação), cobrado proporcionalmente ao número de escravos de cada minerador.
- (E) Na segunda década do século XIX, em decorrência da crise da mineração, a região estava em uma situação de abandono, como relatado por Theotônio Segurado, futuro Governador da Capitania do Norte.

## CONHECIMENTOS ESPECÍFICOS

31

...quanto mais se reflete sobre a presença do Intérprete de Língua de Sinais (ILS), mais se compreende as complexidades de seu papel, as dimensões e a profundidade de sua atuação.

Perlin (2006, p.137)

Considerando o papel do tradutor e intérprete de Libras-Língua Portuguesa em um processo de interpretação simultânea, por exemplo, em que terá que utilizar um vocabulário desconhecido pelo surdo, o profissional precisará planejar muito bem o seu ato tradutório.

Assinale a opção que apresenta um ato de planejamento que o tradutor e intérprete de Libras-Língua Portuguesa deverá ter ao realizar a interpretação simultânea.

- (A) Apropriar-se de um conhecimento prévio do discurso, permitindo a possibilidade de compreensão, durante a interpretação, pelo surdo.
- (B) Construir uma rede de significações, discutindo termos, esquemas, no momento do discurso do locutor da fala.
- (C) Oferecer ao surdo alternativas úteis de ideias pertinentes ao que está sendo tratado, durante a interpretação simultânea.
- (D) Apropriar-se do discurso do locutor da fala, permitindo substituí-lo, durante a interpretação simultânea.
- (E) Se responsabilizar pela aquisição do conhecimento, organizando seu planejamento com a elaboração de estratégias somente no momento da interpretação simultânea.

32

O tradutor e intérprete de Língua de Sinais traduz e interpreta a língua de sinais para a língua falada, e vice-versa, em quaisquer modalidades que se apresentar, seja oral ou escrita.

Assinale a opção que define o processo de tradução- interpretação simultânea.

- (A) Ocorre de uma língua para outra ao mesmo tempo, pois o tradutor-intérprete precisa ouvir/ver a enunciação em uma língua alvo, processá-la, por meios digitais, e usar a língua fonte para sua passagem.
- (B) Ocorre de uma língua para outra de forma consecutiva, ou seja, o tradutor-intérprete ouve/vê um enunciado em uma língua fonte, processa a informação e faz a passagem para a língua alvo.
- (C) Ocorre de uma língua para outra ao mesmo tempo, pois o tradutor-intérprete precisa ouvir/ver a enunciação em uma língua fonte, processá-la e passar para a língua alvo, no tempo da enunciação.
- (D) Ocorre de uma língua para outra de forma consecutiva, ou seja, o tradutor-intérprete ouve/vê um enunciado em uma língua alvo, processa a informação e faz a passagem para a língua fonte.
- (E) Ocorre de uma língua fonte, em que o tradutor- intérprete ouve/vê o enunciado, aguarda um tempo para processar a informação e posteriormente faz a passagem para a língua alvo, através de meios digitais.

33

Estudos brasileiros sobre tradução apresentam várias abordagens técnicas a fim de contribuir para a teoria e a prática de tradução em relação à interpretação para língua de sinais. Há uma escala de treze pontos que representam as Modalidades de Tradução.

Relacione algumas dessas modalidades a exemplos utilizados pelos intérpretes.

1. Acréscimo
  2. Adaptação
  3. Empréstimo
  4. Modulação
- ( ) Quando o intérprete se utiliza do alfabeto manual para interpretar um nome próprio.
- ( ) Antes de interpretar o título do texto o intérprete contextualiza ao público, introduzindo os sinais TEMA LÍNGUA-DE-SINAIS, informando que o tema será sobre a língua de sinais.
- ( ) O intérprete ao interpretar o trecho textual “*Para a criança surda, a tarefa não é diferente.*”, ele utiliza os sinais: CRIANÇA SURDA IGUAL, alterando semanticamente a oração, embora mantendo a identidade da situação.
- ( ) Na interpretação do segmento textual: *Descobrimo quem somos nós*, o intérprete faz uso da palavra SINAL demonstrando uma aproximação com a língua e cultura da língua de sinais, tornando a recepção mais confortável.

Assinale a opção que apresenta a relação correta, segundo a ordem apresentada.

- (A) 3 – 1 – 2 – 4.
- (B) 3 – 1 – 4 – 2.
- (C) 3 – 2 – 1 – 4.
- (D) 2 – 3 – 1 – 4.
- (E) 2 – 4 – 1 – 3.

34

No curso de formação de tradutores e intérpretes de Libras-Língua Portuguesa, Alfredo participou de uma atividade que simulava uma aula sobre atletismo para alunos de diferentes etapas dos ensinos fundamental e médio. Ele escolheu simular a aula para alunos surdos do ensino médio. Observe como Alfredo interpretou a fala de outro aluno ouvinte que simulou ser o professor:

*‘Professor’- Agora vamos falar um pouquinho das corridas. Temos quatro tipos de corridas. A primeira é rasa, a segunda é meio fundo, a terceira é fundo e a quarta é de revezamento.*

*‘Intérprete’- (...) CORRIDA CONVERSAR CORRIDA 4. PRIMEIRA SEGUNDA. M-E-A R-E-V-E-E-S-A-M-A-T-O (...)*

Observando a atuação de Alfredo, nota-se uma significativa dificuldade na interpretação em acompanhar a aula simulada.

Sobre a estratégia que o aluno intérprete poderia utilizar adequadamente, na medida que os conceitos estavam sendo ainda introduzidos pelo aluno professor, assinale a afirmativa correta.

- (A) Demonstrar, unicamente, conhecimentos específicos sobre o assunto.
- (B) Usar a datilologia para uma efetiva comunicação de fatos do cotidiano.
- (C) O uso de classificadores em Libras, como uma estratégia de interpretação literal.
- (D) Valer-se da datilologia com habilidade para a transmissão dos conceitos.
- (E) Esclarecer os termos apresentados, por meio de diversas situações.

35

Um deputado estadual da Assembleia Legislativa de Mato Grosso, teve aprovada, em segunda votação, o Projeto de Lei que regulamenta o exercício e as condições de trabalho do profissional tradutor, intérprete e guia-intérprete para seu Estado. Ele declarou que: “*A regulamentação desse projeto de lei será um avanço significativo em nosso estado, a solidificação de uma política pública para a inclusão, que é um direito. Uma das principais intenções desse PL é justamente a valorização desses profissionais através da qualificação em sua área de atuação, o reconhecimento, levando esse acesso a todas as esferas. E esse é um passo essencial.*”

(ASSEMBLEIA LEGISLATIVA DO ESTADO DE MATO GROSSO- Assembleia Legislativa aprova projeto que regulamenta profissão de Intérprete de Libras em MT. Por Renata Neves-24/04/2023.)

Para a diplomação para o exercício da profissão de tradutor, intérprete e guia-intérprete, avalie se as seguintes exigências são necessárias:

- I. Curso de educação profissional técnica de nível médio em Tradução e Interpretação em Libras.
- II. Curso superior de bacharelado em Tradução e Interpretação em Libras-Língua Portuguesa, em Letras com Habilitação em Tradução e Interpretação em Libras ou em Letras-Libras.
- III. Formação em outras áreas de conhecimento, mas com diploma de cursos de extensão, de formação continuada ou de especialização com carga horária de 360 horas e com aprovação no Prolibras.

Está correto o que se afirma em

- (A) I e II, apenas.
- (B) I e III, apenas.
- (C) II e III, apenas.
- (D) I, II e III.
- (E) II, apenas.

36

Foi solicitado por um juiz da 4ª Vara Criminal-Execuções Penais, em Palmas-TO, a presença de um tradutor e intérprete de Libras para a realização de uma audiência com uma pessoa surda. O juiz relatou: "Acionei o tribunal para que mandasse o intérprete porque eu precisava saber as razões pelas quais ele se envolveu nesta situação e somente através do intérprete, tivemos condições de compreender qual seria a versão dele sobre os fatos."

(Poder Judiciário do Estado de Tocantins- PJTO garante ferramentas de acessibilidade e inclusão para assegurar justiça mais próxima e igualitária. Por Elisângela Farias- 24.04.2023)

É fundamental que o tradutor e intérprete de Libras-Língua Portuguesa, tenha em sua formação, competências que farão parte da sua prática de interpretar discursos de diferentes áreas do conhecimento.

Analise as afirmativas a seguir, acerca de competências de um profissional tradutor/intérprete, e assinale (V) para a verdadeira e (F) para a falsa.

- ( ) Competência metodológica é ter o conhecimento de crenças e valores, experiências e comportamentos dos utentes da língua fonte e da língua alvo.
- ( ) Competência linguística é a habilidade de entender o objeto da linguagem usada em todas as suas nuances e expressá-las corretamente, fluentemente e claramente a mesma informação na língua alvo.
- ( ) Competência bicultural é necessário ter conhecimento para compreender o conteúdo de uma mensagem que está sendo interpretada.
- ( ) Competência técnica é a habilidade para posicionar-se apropriadamente para interpretar.

As afirmativas são, na ordem apresentada, respectivamente,

- (A) F – V – V – F.
- (B) V – F – V – F.
- (C) F – F – V – V.
- (D) V – V – V – V.
- (E) F – V – F – V.

37

Carlos, tradutor e intérprete de Libras-Língua Portuguesa, da Assembleia Legislativa do Estado do Tocantins, observou que, em uma das sessões plenárias, havia a presença de uma pessoa surda-cega; seu parceiro de revezamento informou que a pessoa surda-cega preferia usar a forma de comunicação chamada Tadoma. Com isso, precisaram da presença de mais um intérprete na plenária.

Assinale a opção que apresenta a atuação mais adequada do profissional guia-intérprete de Libras.

- (A) Profissional que somente traduz e interpreta de uma língua de sinais para outra língua de sinais para os surdos.
- (B) Profissional que domina, no mínimo, uma das formas de comunicação utilizadas pelas pessoas surdo-cegas.
- (C) Profissional que traduz e interpreta da língua de sinais francesa para Libras, utilizando somente o Tadoma.
- (D) Profissional que domina, todas as formas de comunicação com as pessoas surdo-cegas.
- (E) Profissional que realiza a tradução em qualquer área e situação somente para pessoas surdas oralizadas.

38

Leia o trecho a seguir.

*Os profissionais que foram habilitados antes da nova lei, nos termos das legislações anteriores, não perdem o direito de exercer a profissão. E quem se capacitou por meio de cursos nos termos da legislação anterior- com carga horária menor do que a exigida atualmente, por exemplo- ainda poderá ser habilitado profissionalmente em um prazo máximo de seis anos.*

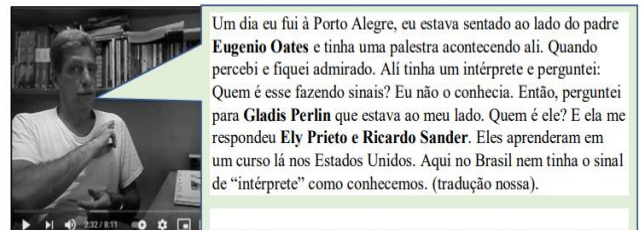
(VEJA- Lei inclui guia-intérprete no rol dos profissionais de Libras. Por Da Redação- 26/10/2023)

Sobre a duração do trabalho do tradutor, do intérprete e do guia-intérprete de Libras, segundo a legislação em vigor, assinale a afirmativa correta.

- (A) 6 horas diárias ou 30 horas semanais, sendo que o trabalho de tradução e interpretação for superior a 1 (uma) hora de duração deverá ser realizado em regime de revezamento, com, no mínimo, 2 profissionais.
- (B) 6 horas diárias ou 60 horas semanais, sendo que o trabalho de tradução e interpretação for superior a 1 hora de duração deverá ser realizado em regime de revezamento, com, no mínimo, 2 profissionais.
- (C) 3 horas diárias ou 30 horas semanais, sendo que o trabalho de tradução e interpretação for superior a 1 (uma) hora de duração deverá ser realizado em regime de revezamento, com, no mínimo, 3 profissionais.
- (D) 8 horas diárias ou 120 horas semanais, sendo que o trabalho de tradução e interpretação for superior a 2 hora de duração deverá ser realizado em regime de revezamento, com, no mínimo, 2 profissionais.
- (E) 6 horas diárias ou 20 horas semanais, sendo que o trabalho de tradução e interpretação for superior a 1 hora de duração deverá ser realizado em regime de revezamento, com, no mínimo, 4 profissionais.

39

Figura 1: Antônio Campos fazendo o sinal de Ricardo Ermani Sander



CAMPOS DE ABREU (2015)

Fonte: Blog História dos Surdos<sup>5</sup>.

Os discursos dos líderes surdos, no início dos anos 1980, marcam a história da presença dos surdos nos espaços políticos e sociais, assim como a presença de intérpretes de Libras.

A esse respeito, analise os fatos citados a seguir.

1. Fundação da Feneis, no Rio de Janeiro.
2. Decreto nº 5.626 de 2005.
3. Interpretação em igrejas, principalmente evangélicas.
4. Fundação da Feneida, no Rio de Janeiro.

Assinale a opção que indica a seqüência histórica que marca a atuação dos intérpretes de Libras.

- (A) 3 – 2 – 1 – 4.
- (B) 2 – 4 – 1 – 3.
- (C) 1 – 2 – 3 – 4.
- (D) 2 – 1 – 4 – 3.
- (E) 3 – 4 – 1 – 2.

40

Quanto à difusão da Libras e da Língua Portuguesa para o acesso das pessoas surdas à educação, as instituições federais de ensino devem garantir, obrigatoriamente, acesso à comunicação, à formação e à educação nos processos seletivos, nas atividades e nos conteúdos curriculares desenvolvidos em todos os níveis, etapas e modalidades de educação, desde a educação infantil até à superior.

Para garantir o atendimento educacional especializado dos alunos surdos e o acesso previsto em lei, assinale a opção que indica o que cabe às instituições federais de ensino, especificamente, no provimento das escolas.

- (A) Cursos de formação para o ensino e uso da Libras; de tradução e interpretação de Libras- Língua Portuguesa; de ensino da Língua Portuguesa como segunda língua para pessoas surdas e ouvintes.
- (B) Professor regente com conhecimento das singularidades linguísticas dos alunos surdos; professor de Libras; tradutor e intérprete de Libras-Língua Portuguesa; professor para o ensino de Língua Portuguesa como segunda língua.
- (C) Ofertar, desde a educação infantil, o ensino da Libras e da Língua Portuguesa, como a primeira língua para surdos.
- (D) Adotar mecanismos de avaliação coerentes com o aprendizado de primeira língua, na correção das provas escritas, valorizando o aspecto semântico.
- (E) Disponibilizar equipamentos, acesso às novas tecnologias de informação e comunicação, bem como recursos didáticos para apoiar os alunos ouvintes, aprendizes de Libras.

41

Cátia, tradutora e intérprete de Libras-Língua Portuguesa, precisou explicar a um deputado estadual da Assembleia Legislativa do Tocantins, que Libras é Língua e não linguagem.

Assinale a opção que, segundo a Lei nº 10.436/2002, define a Língua Brasileira de Sinais- Libras.

- (A) É uma forma de comunicação e expressão, em que o sistema linguístico de natureza visual-motora é utilizado pelas comunidades de pessoas surdas do Brasil, através de uma estrutura gramatical semelhante a Língua Portuguesa.
- (B) É uma língua com estrutura gramatical própria, constituindo um sistema linguístico que transmite ideias e fatos, através de uma linguagem associada a elementos visuais escolhidos pela comunidade surda.
- (C) É uma forma de comunicação e expressão, em que o sistema linguístico de natureza visual-motora, com estrutura gramatical própria, constitui um sistema linguístico de transmissão de ideias e fatos, oriundos de comunidades de pessoas surdas do Brasil.
- (D) É uma língua visual com elementos de linguagem própria, constituindo um sistema linguístico que transmite ideias e fatos, tanto das comunidades surdas quanto das comunidades ouvintes, do Brasil.
- (E) É um sistema linguístico que está atrelado ao sistema linguístico de uma língua estrangeira para a comunicação e expressão da comunidade de pessoas surdas do Brasil e do mundo.

42

Sílvia, tradutora e intérprete de Libras, ao participar do concurso do ENEM de sua cidade, foi designada a acompanhar um candidato surdo com baixa visão para a realização da prova. No entanto, Sílvia, além de contestar a idade do candidato, mais de 40 anos, sentou-se em uma mesa em frente ao candidato, durante a realização da prova.

Analise as afirmativas referentes aos valores éticos inerentes ao exercício da profissão de tradutor, intérprete e guia-intérprete de Libras-Língua Portuguesa, que **não** foram atendidos no caso acima.

- I. Honestidade e discrição, protegendo o direito de sigilo da informação recebida.
- II. Atuação livre de preconceito de origem, raça, credo religioso, idade, sexo ou orientação sexual ou gênero.
- III. Postura e conduta adequadas aos ambientes que frequentar, por causa do exercício profissional.

Está correto o que se afirma em

- (A) I, apenas.
- (B) I e II, apenas.
- (C) II e III, apenas.
- (D) I e III, apenas.
- (E) I, II e III.

43

A coordenadora de ações inclusivas do IFAC – Instituto Federal do Acre – comenta a primeira Capacitação para Tradutores e Intérpretes de Língua de Sinais: *toda formação é necessária para que possamos aprimorar nossos conhecimentos, para nos fortalecermos como profissionais e ampliarmos aquilo que já temos como base.*

A legislação regula o papel do poder público e das empresas que detêm concessão ou permissão de serviços públicos, no apoio ao uso e na difusão da Libras.

Sobre as ações que cabem a essas instituições, quanto aos serviços prestados por servidores capacitados para utilização de Libras e na realização da tradução e interpretação de Libras-Língua Portuguesa, analise as afirmativas a seguir.

- I. Devem implementar medidas de capacitação, no tratamento diferenciado para pessoas surdas ou deficientes auditivas com implante coclear.
- II. Devem implementar padrões de controle de atendimento e de avaliação da satisfação do usuário dos serviços públicos.
- III. Devem viabilizar ações, prioritariamente, relativas à formação, capacitação e qualificação de professores, sem os tradutores e intérpretes de Libras-Língua Portuguesa.

Está correto o que se afirma em

- (A) I, apenas.
- (B) II, apenas.
- (C) III, apenas.
- (D) I e II, apenas.
- (E) I e III, apenas.

44

A autora Ferreira-Brito (1995) menciona o processo de incorporação da negação: *por meio de vários processos o item a ser negado sofre alteração em um dos parâmetros, especialmente o parâmetro Movimento, acarretando, assim, o aparecimento de um item de estrutura 'fonético-fonológico' diferente daquele que é a base.*

Assinale a opção que apresenta um exemplo para a descrição da autora.



45

Matheus, aluno surdo do Ensino Médio de uma escola estadual de Tocantins, tem acesso ao conteúdo das aulas por meio dos recursos visuais que os professores utilizam, facilitando a compreensão dos conceitos trabalhados, assim como a presença de tradutor/intérprete de Libras- Língua Portuguesa.

Assinale a opção que caracteriza o papel da intermediação do tradutor/intérprete de Libras-Língua Portuguesa, nesse caso específico.

- (A) O tradutor-intérprete de Libras-Língua Portuguesa deve estabelecer uma relação direta com a criança surda, pois nesta fase, ela estabelece vínculo com quem lhe dirige o olhar.
- (B) Organizar a adequação da estrutura física da sala de aula, com a disposição do professor para a sua exposição.
- (C) Assumir a função de professor e de tradutor-intérprete de Libras-Língua Portuguesa, sendo denominado de professor-intérprete.
- (D) É recomendado que os tradutores-intérpretes de Libras-Língua Portuguesa redirecionem os questionamentos dos alunos surdos ao professor.
- (E) Apresentar a mesma postura e função em qualquer modalidade de ensino, buscando redirecionar os questionamentos dos alunos surdos ao professor.

46

Laura, funcionária recente no quadro da Assembleia Legislativa do Estado do Tocantins, participa de um curso de Libras básico ofertado pela instituição. Durante uma conversa com um instrutor surdo, ela observou que, no contexto sinalizado por ele, havia sinais que apresentavam movimentos diferentes.

Ele explicou que a gramática da Libras se apresenta a partir de alguns parâmetros com diferentes níveis linguísticos.

Relacione alguns tipos de movimentos multidirecionais e o agrupamento de sinais apresentados em glosas.

1. Movimento angular
  2. Movimento semicircular
  3. Movimento helicoidal
  4. Movimento sinuoso
- ( ) ALTO-MACARRÃO-AZEITE  
( ) RAIO-ELÉTRICO-DIFÍCIL  
( ) BRASIL-RIO-NAVIO  
( ) SURDO-SAPO-CORAGEM

Assinale a opção que apresenta a relação correta, na ordem apresentada.

- (A) 3 – 4 – 2 – 1.  
(B) 4 – 1 – 3 – 2.  
(C) 1 – 2 – 3 – 4.  
(D) 1 – 2 – 4 – 3.  
(E) 3 – 1 – 4 – 2.

47

As línguas geralmente apresentam várias possibilidades de uso em diferentes contextos. A Libras-Língua Brasileira de Sinais apresenta propriedades das línguas humanas. Uma delas se chama *arbitrariedade*, que consiste em sinais que não têm relação direta entre a forma e o significado.

Observando as glosas de sinais, assinale a opção que se refere à propriedade citada.

- (A) TRABALHO- CASA- AMOR  
(B) VOCÊ GOSTAR MAÇÃ  
(C) CONHECER- AMIGO- TRABALHO  
(D) TRABALHO/IGREJA/ MORENO-SURDO  
(E) PAULO TRABALHAR+asp \*TRABALHAR+asp PAULO



48

Uma forma de identificar os fonemas distintivos de uma língua é listar pares mínimos. Em Libras, há pares mínimos em relação às configurações de mão, à locação, ou ao movimento com apenas a mudança de um destes elementos em contraste com os demais idênticos, identificando o seu valor distintivo na língua.

Assinale a opção que apresenta a glosa de sinais quanto à mudança da configuração de mão mantendo a mesma locação entre os pares.

- (A) QUEIJO/FEIO  
 (B) AZAR/DESCULPA  
 (C) APRENDER/SÁBADO  
 (D) MARROM/ROXO  
 (E) QUEIJO/RIR

49

A possibilidade de oferecer cursos de Libras demonstra a relevância de uma comunicação mais inclusiva em quaisquer instâncias sociais.

De acordo com os tipos de verbos na Libras, analise as afirmativas a seguir e assinale (V) para a verdadeira e (F) para a falsa.

- ( ) Verbos espaciais são verbos que têm afixos locativos como, por exemplo, COLOCAR, IR, CHEGAR.  
 ( ) Verbos com concordância são verbos que se flexionam em pessoa, número e aspecto, mas não incorporam afixos locativos, como, por exemplo, DAR, ENVIAR, RESPONDER, PERGUNTAR.  
 ( ) Verbos simples são verbos que não se flexionam em pessoa e número e não incorporam afixos locativos, como, por exemplo, CONHECER, AMAR, APRENDER.  
 ( ) Verbos manuais são verbos que usam classificadores e incorporam a ação, como por exemplo: COLOCAR-BOLO-NO-FORNO; SENTAR-NO-MURO.

As afirmativas são, na ordem apresentada, respectivamente,

- (A) V – F – V – F.  
 (B) V – V – V – V.  
 (C) V – V – F – V.  
 (D) F – F – F – F.  
 (E) F – F – V – V.

50

Na morfologia das línguas de sinais existem algumas dimensões que apresentam informação semântica. Essas dimensões estão presentes na determinação da flexão e da derivação de sinais na Libras.

Relacione as dimensões observadas em Libras, a seguir, às suas informações semânticas.



- ( ) Direção  
 ( ) Velocidade/tensão  
 ( ) Tensão/tamanho  
 ( ) Duplicação das mãos

Assinale a opção que apresenta a relação correta, na ordem apresentada.

- (A) 4 – 2 – 1 – 3.  
 (B) 1 – 2 – 4 – 3.  
 (C) 2 – 4 – 1 – 3.  
 (D) 1 – 2 – 3 – 4.  
 (E) 2 – 1 – 4 – 3.

## PRINCÍPIOS DA ADMINISTRAÇÃO PÚBLICA

51

A Administração Direta é composta por órgãos e entidades que fazem parte da estrutura do Estado e operam diretamente sob a autoridade do poder público. Em contrapartida, a Administração Indireta inclui entidades com personalidade jurídica própria, mas vinculadas ao Estado. Enquanto a Administração Direta executa diretamente políticas públicas, a Indireta opera de forma mais especializada, muitas vezes em atividades empresariais.

Assinale a opção que indica a entidade dotada de personalidade jurídica de direito privado, com patrimônio próprio e capital exclusivo da União, criado por lei para a exploração de atividade econômica.

- (A) Autarquia.
- (B) Empresa pública.
- (C) Fundação pública.
- (D) Organização social.
- (E) Sociedade de economia mista.

52

A educação, a saúde, a alimentação, o trabalho, a moradia, o transporte, o lazer, a segurança, a previdência social, a proteção à maternidade e à infância, a assistência aos desamparados, na forma desta Constituição, são direitos sociais.

Assinale a opção que indica, corretamente, o direito devido ao brasileiro em situação de vulnerabilidade social.

- (A) Benefício de prestação continuada.
- (B) Fundo de garantia do tempo de serviço.
- (C) Seguro-desemprego.
- (D) Renda básica familiar.
- (E) Repouso semanal remunerado.

53

A Lei de Acesso à Informação (Lei nº 12.527/2011) garante ao cidadão o direito de obter informações públicas, promovendo a transparência e a *accountability* no setor público.

Assinale a opção que apresenta a qualidade da informação que pode ser conhecida e utilizada por indivíduos, equipamentos ou sistemas autorizados.

- (A) Integridade.
- (B) Autenticidade.
- (C) Transparência.
- (D) Primariedade.
- (E) Disponibilidade.

54

A Lei Geral de Proteção de Dados Pessoais (Lei nº 13.709/2018) estabelece regras para o tratamento de dados pessoais por parte de empresas e organizações, visando proteger a privacidade e os direitos dos cidadãos.

Assinale, entre as opções a seguir, a que apresenta um fundamento da disciplina da proteção de dados pessoais.

- (A) Anonimização.
- (B) Consentimento.
- (C) Não discriminação.
- (D) Uso compartilhado de dados.
- (E) Liberdade de expressão.

55

De acordo com a Lei nº 14.133/2021, conhecida como Nova Lei de Licitações e Contratos Administrativos, o processo licitatório visa prevenir contratações com sobrepreço, preços manifestamente inexequíveis e superfaturamento na execução dos contratos.

Com relação aos casos de superfaturamento em que há dano provocado ao patrimônio da Administração, analise as afirmativas a seguir.

- I. Medição de quantidades superiores às efetivamente executadas ou fornecidas.
- II. Alterações no orçamento de obras e de serviços de engenharia que causem desequilíbrio econômico-financeiro do contrato em favor do contratante.
- III. Deficiência na execução de obras e de serviços de engenharia que resultem em diminuição da sua qualidade, vida útil ou insegurança.

Está correto o que se afirma em

- (A) I, apenas.
- (B) I e II, apenas.
- (C) I e III, apenas.
- (D) II e III, apenas.
- (E) I, II e III.

## LEGISLAÇÃO INSTITUCIONAL

56

João, eleito Deputado Estadual, foi diplomado, mas ainda não tomou posse.

À luz da Constituição do Estado do Tocantins, João não poderá

- (A) exercer cargo em uma empresa concessionária de serviço público.
- (B) ser diretor de uma empresa que goze de favor decorrente de contrato com pessoa jurídica de direito público.
- (C) patrocinar uma causa em que seja interessada uma autarquia.
- (D) manter contrato com uma pessoa jurídica de direito privado.
- (E) ser titular de mais de um cargo ou de mandato público eletivo.

57

Considerando o que dispõe o Regimento Interno da Assembleia Legislativa de Tocantins a respeito das Comissões, assinale a afirmativa correta.

- (A) A Comissão de Constituição, Justiça e Redação tem poderes de investigação próprios das autoridades judiciais.
- (B) As Comissões Especiais não podem ser constituídas para investigação sumária de fato determinado.
- (C) À Comissão de Segurança Pública compete analisar questões ligadas à violência urbana e rural.
- (D) As Comissões de Representação devem ser aprovadas pela maioria absoluta do Plenário da Assembleia.
- (E) A Comissão Parlamentar de Inquérito poderá deslocar-se para qualquer ponto do território estadual para a realização de investigações e audiências públicas.

**58**

Joaquim é servidor estadual estável, detentor de cargo efetivo e aposentado voluntariamente. Depois de dois anos de sua aposentadoria, Joaquim manifestou interesse, perante a Administração, de retornar à atividade em que era estável.

Caso haja cargo vago disponível, conforme a Lei nº 1818/2017, que dispõe sobre o Estatuto dos Servidores Públicos Civis do Estado do Tocantins, assinale a modalidade de provimento adequada ao caso.

- (A) Aproveitamento.
- (B) Reversão.
- (C) Readaptação.
- (D) Reintegração.
- (E) Recondução.

**59**

Luiz, servidor público efetivo, encontra-se em estágio probatório e, nesse período, tem sido submetido a Avaliações Especiais de Desempenho.

Nos termos da Lei nº 4.208/2023, que cuida do plano de cargos, carreiras e remuneração dos Servidores da Assembleia Legislativa de Tocantins, assinale a afirmativa correta.

- (A) A Avaliação Especial de Desempenho dá-se em três etapas, que tem por base o acompanhamento trimestral do servidor.
- (B) O resultado da avaliação será levado ao conhecimento do avaliado e arquivado em caráter público.
- (C) O servidor, para ser aprovado, deverá obter média igual ou superior a 60% (sessenta por cento) dos pontos possíveis nas Avaliações Especiais de Desempenho.
- (D) O servidor, caso aprovado no estágio probatório, será imediatamente elevado para a classe seguinte do padrão inicial do seu cargo.
- (E) O servidor deve ser avaliado pelo chefe imediato.

**60**

Levando em conta a estrutura administrativa da Assembleia Legislativa de Tocantins e dos órgãos de assistência à Presidência da Assembleia, de acordo com a Lei nº 4.209/2023, a competência para encaminhar as denúncias recebidas ao Tribunal de Contas do Estado, à Polícia Civil, ao Ministério Público, ou a outro órgão competente, é da

- (A) Procuradoria-Geral.
- (B) Controladoria Interna.
- (C) Diretoria de Polícia Legislativa.
- (D) Assessoria Jurídica da Presidência.
- (E) Ouvidoria Geral da Assembleia Legislativa.



**CONCURSO PÚBLICO 2024**  
**GABARITOS PRELIMINARES**  
**PROVAS APLICADAS NO DIA 14/04/2024**

**FGV CONHECIMENTO**

**POLICIAL LEGISLATIVO II - POLÍCIA E SEGURANÇA II - PROVA TIPO 1**

1	2	3	4	5	6	7	8	9	10	11	12	13	14	15	16	17	18	19	20
B	E	C	A	E	D	C	B	E	B	D	E	B	D	A	C	E	E	D	A
21	22	23	24	25	26	27	28	29	30	31	32	33	34	35	36	37	38	39	40
A	C	A	E	B	C	C	A	D	B	A	B	E	C	D	C	E	A	E	B
41	42	43	44	45	46	47	48	49	50	51	52	53	54	55	56	57	58	59	60
C	B	C	D	A	D	B	E	A	A	C	B	C	C	A	E	B	D	E	A

**POLICIAL LEGISLATIVO II - POLÍCIA E SEGURANÇA II - PROVA TIPO 2**

1	2	3	4	5	6	7	8	9	10	11	12	13	14	15	16	17	18	19	20
B	B	B	C	E	E	D	C	A	E	C	D	E	B	D	A	E	E	D	C
21	22	23	24	25	26	27	28	29	30	31	32	33	34	35	36	37	38	39	40
A	A	C	A	E	B	A	C	B	D	D	A	B	E	C	C	C	B	C	E
41	42	43	44	45	46	47	48	49	50	51	52	53	54	55	56	57	58	59	60
A	B	E	B	C	A	D	C	E	D	A	B	A	A	C	A	E	B	D	E

**POLICIAL LEGISLATIVO II - POLÍCIA E SEGURANÇA II - PROVA TIPO 3**

1	2	3	4	5	6	7	8	9	10	11	12	13	14	15	16	17	18	19	20
B	B	A	C	B	E	E	C	E	D	A	C	D	E	B	D	E	E	D	A
21	22	23	24	25	26	27	28	29	30	31	32	33	34	35	36	37	38	39	40
C	A	B	C	A	E	B	C	A	D	C	D	A	B	E	E	C	C	B	A
41	42	43	44	45	46	47	48	49	50	51	52	53	54	55	56	57	58	59	60
B	E	C	A	B	A	A	C	D	A	C	D	B	E	C	E	A	E	B	D

**POLICIAL LEGISLATIVO II - POLÍCIA E SEGURANÇA II - PROVA TIPO 4**

1	2	3	4	5	6	7	8	9	10	11	12	13	14	15	16	17	18	19	20
E	B	B	E	C	B	A	E	D	C	D	A	C	D	E	B	E	E	D	A
21	22	23	24	25	26	27	28	29	30	31	32	33	34	35	36	37	38	39	40
A	C	E	B	C	A	D	B	A	C	E	C	D	A	B	C	B	E	C	B
41	42	43	44	45	46	47	48	49	50	51	52	53	54	55	56	57	58	59	60
E	C	A	C	C	C	A	A	A	B	D	E	A	B	D	D	E	A	E	B



**CONCURSO PÚBLICO 2024**  
**GABARITOS PRELIMINARES**  
**PROVAS APLICADAS NO DIA 14/04/2024**

**FGV CONHECIMENTO**

**TÉCNICO LEGISLATIVO ASSISTÊNCIA ADMINISTRATIVA - PROVA TIPO 1**

1	2	3	4	5	6	7	8	9	10	11	12	13	14	15	16	17	18	19	20
B	E	C	A	E	D	C	B	E	B	D	E	B	D	A	C	D	E	E	E
21	22	23	24	25	26	27	28	29	30	31	32	33	34	35	36	37	38	39	40
D	A	A	C	B	A	C	A	D	B	C	A	E	B	B	E	A	D	A	C
41	42	43	44	45	46	47	48	49	50	51	52	53	54	55	56	57	58	59	60
E	B	B	D	A	C	B	E	D	C	B	D	C	E	A	A	E	B	C	E

**TÉCNICO LEGISLATIVO ASSISTÊNCIA ADMINISTRATIVA - PROVA TIPO 2**

1	2	3	4	5	6	7	8	9	10	11	12	13	14	15	16	17	18	19	20
B	B	B	C	E	E	D	C	A	E	C	D	E	B	D	A	E	D	E	E
21	22	23	24	25	26	27	28	29	30	31	32	33	34	35	36	37	38	39	40
D	C	A	A	A	B	A	C	B	D	B	D	C	E	D	C	B	B	C	A
41	42	43	44	45	46	47	48	49	50	51	52	53	54	55	56	57	58	59	60
E	E	E	A	C	B	A	D	A	B	A	B	D	C	E	C	A	E	B	E

**TÉCNICO LEGISLATIVO ASSISTÊNCIA ADMINISTRATIVA - PROVA TIPO 3**

1	2	3	4	5	6	7	8	9	10	11	12	13	14	15	16	17	18	19	20
B	B	A	C	B	E	E	C	E	D	A	C	D	E	B	D	D	E	E	E
21	22	23	24	25	26	27	28	29	30	31	32	33	34	35	36	37	38	39	40
D	A	C	A	B	A	B	C	A	D	D	A	A	A	B	B	B	E	D	D
41	42	43	44	45	46	47	48	49	50	51	52	53	54	55	56	57	58	59	60
E	E	C	B	E	A	C	C	B	C	E	A	B	D	C	B	C	A	E	E

**TÉCNICO LEGISLATIVO ASSISTÊNCIA ADMINISTRATIVA - PROVA TIPO 4**

1	2	3	4	5	6	7	8	9	10	11	12	13	14	15	16	17	18	19	20
E	B	B	E	C	B	A	E	D	C	D	A	C	D	E	B	E	D	E	E
21	22	23	24	25	26	27	28	29	30	31	32	33	34	35	36	37	38	39	40
D	A	A	C	A	B	D	B	A	C	A	A	A	C	C	C	D	E	D	B
41	42	43	44	45	46	47	48	49	50	51	52	53	54	55	56	57	58	59	60
E	B	C	B	E	B	D	B	A	E	C	E	A	B	D	E	B	C	A	E



**CONCURSO PÚBLICO 2024**  
GABARITOS PRELIMINARES  
**PROVAS APLICADAS NO DIA 14/04/2024**

**FGV CONHECIMENTO**

**TÉCNICO LEGISLATIVO AUDIOEDITORAÇÃO - PROVA TIPO 1**

1	2	3	4	5	6	7	8	9	10	11	12	13	14	15	16	17	18	19	20
B	E	C	A	E	D	C	B	E	B	D	E	B	D	A	C	D	E	E	E
21	22	23	24	25	26	27	28	29	30	31	32	33	34	35	36	37	38	39	40
D	A	A	C	B	A	C	A	D	B	E	E	C	A	B	E	A	B	A	C
41	42	43	44	45	46	47	48	49	50	51	52	53	54	55	56	57	58	59	60
D	D	A	C	B	D	B	C	E	B	B	D	C	E	A	A	E	B	C	E



**CONCURSO PÚBLICO 2024**  
GABARITOS PRELIMINARES  
**PROVAS APLICADAS NO DIA 14/04/2024**

**FGV CONHECIMENTO**

**TÉCNICO LEGISLATIVO CINEGRAFIA - PROVA TIPO 1**

1	2	3	4	5	6	7	8	9	10	11	12	13	14	15	16	17	18	19	20
B	E	C	A	E	D	C	B	E	B	D	E	B	D	A	C	D	E	E	E
21	22	23	24	25	26	27	28	29	30	31	32	33	34	35	36	37	38	39	40
D	A	A	C	B	A	C	A	D	B	D	A	D	B	B	A	E	E	C	B
41	42	43	44	45	46	47	48	49	50	51	52	53	54	55	56	57	58	59	60
C	A	E	C	D	C	A	B	D	E	B	D	C	E	A	A	E	B	C	E



**CONCURSO PÚBLICO 2024**  
GABARITOS PRELIMINARES  
**PROVAS APLICADAS NO DIA 14/04/2024**

**FGV CONHECIMENTO**

**TÉCNICO LEGISLATIVO FOTOGRAFIA - PROVA TIPO 1**

1	2	3	4	5	6	7	8	9	10	11	12	13	14	15	16	17	18	19	20
B	E	C	A	E	D	C	B	E	B	D	E	B	D	A	C	D	E	E	E
21	22	23	24	25	26	27	28	29	30	31	32	33	34	35	36	37	38	39	40
D	A	A	C	B	A	C	A	D	B	C	A	B	E	B	D	C	B	D	B
41	42	43	44	45	46	47	48	49	50	51	52	53	54	55	56	57	58	59	60
A	D	D	E	C	E	C	A	E	A	B	D	C	E	A	A	E	B	C	E



**CONCURSO PÚBLICO 2024**  
GABARITOS PRELIMINARES  
**PROVAS APLICADAS NO DIA 14/04/2024**

**FGV CONHECIMENTO**

**TÉCNICO LEGISLATIVO TÉCNICO EM ÁUDIO - PROVA TIPO 1**

1	2	3	4	5	6	7	8	9	10	11	12	13	14	15	16	17	18	19	20
B	E	C	A	E	D	C	B	E	B	D	E	B	D	A	C	D	E	E	E
21	22	23	24	25	26	27	28	29	30	31	32	33	34	35	36	37	38	39	40
D	A	A	C	B	A	C	A	D	B	D	C	A	E	C	A	C	D	E	B
41	42	43	44	45	46	47	48	49	50	51	52	53	54	55	56	57	58	59	60
C	A	D	E	B	A	D	E	A	B	B	D	C	E	A	A	E	B	C	E



**CONCURSO PÚBLICO 2024**  
GABARITOS PRELIMINARES  
**PROVAS APLICADAS NO DIA 14/04/2024**

**FGV CONHECIMENTO**

**TÉCNICO LEGISLATIVO TÉCNICO EM DESIGN GRÁFICO - PROVA TIPO 1**

1	2	3	4	5	6	7	8	9	10	11	12	13	14	15	16	17	18	19	20
B	E	C	A	E	D	C	B	E	B	D	E	B	D	A	C	D	E	E	E
21	22	23	24	25	26	27	28	29	30	31	32	33	34	35	36	37	38	39	40
D	A	A	C	B	A	C	A	D	B	A	A	C	E	C	B	B	E	D	A
41	42	43	44	45	46	47	48	49	50	51	52	53	54	55	56	57	58	59	60
B	D	E	E	C	E	D	B	A	E	B	D	C	E	A	A	E	B	C	E



**CONCURSO PÚBLICO 2024**  
GABARITOS PRELIMINARES  
**PROVAS APLICADAS NO DIA 14/04/2024**

**FGV CONHECIMENTO**

**TÉCNICO LEGISLATIVO TÉCNICO EM ENFERMAGEM - PROVA TIPO 1**

1	2	3	4	5	6	7	8	9	10	11	12	13	14	15	16	17	18	19	20
B	E	C	A	E	D	C	B	E	B	D	E	B	D	A	C	D	E	E	E
21	22	23	24	25	26	27	28	29	30	31	32	33	34	35	36	37	38	39	40
D	A	A	C	B	A	C	A	D	B	C	E	C	B	C	B	E	E	A	E
41	42	43	44	45	46	47	48	49	50	51	52	53	54	55	56	57	58	59	60
C	B	A	D	E	C	B	B	C	A	B	D	C	E	A	A	E	B	C	E

**TÉCNICO LEGISLATIVO TÉCNICO EM ENFERMAGEM - PROVA TIPO 2**

1	2	3	4	5	6	7	8	9	10	11	12	13	14	15	16	17	18	19	20
B	B	B	C	E	E	D	C	A	E	C	D	E	B	D	A	E	D	E	E
21	22	23	24	25	26	27	28	29	30	31	32	33	34	35	36	37	38	39	40
D	C	A	A	A	B	A	C	B	D	C	E	B	C	B	C	B	E	B	A
41	42	43	44	45	46	47	48	49	50	51	52	53	54	55	56	57	58	59	60
E	C	B	E	A	D	A	C	E	C	A	B	D	C	E	C	A	E	B	E



**CONCURSO PÚBLICO 2024**  
GABARITOS PRELIMINARES  
**PROVAS APLICADAS NO DIA 14/04/2024**

**FGV CONHECIMENTO**

**TÉCNICO LEGISLATIVO TÉCNICO EM SEGURANÇA DO TRABALHO - PROVA TIPO 1**

1	2	3	4	5	6	7	8	9	10	11	12	13	14	15	16	17	18	19	20
B	E	C	A	E	D	C	B	E	B	D	E	B	D	A	C	D	E	E	E
21	22	23	24	25	26	27	28	29	30	31	32	33	34	35	36	37	38	39	40
D	A	A	C	B	A	C	A	D	B	C	B	E	A	C	D	B	D	A	B
41	42	43	44	45	46	47	48	49	50	51	52	53	54	55	56	57	58	59	60
D	A	C	B	A	B	E	D	C	A	B	D	C	E	A	A	E	B	C	E



**CONCURSO PÚBLICO 2024**  
GABARITOS PRELIMINARES  
**PROVAS APLICADAS NO DIA 14/04/2024**

**FGV CONHECIMENTO**

**TÉCNICO LEGISLATIVO TRADUTOR E INTERPRETE DE LIBRAS - PROVA TIPO 1**

1	2	3	4	5	6	7	8	9	10	11	12	13	14	15	16	17	18	19	20
B	E	C	A	E	D	C	B	E	B	D	E	B	D	A	C	D	E	E	E
21	22	23	24	25	26	27	28	29	30	31	32	33	34	35	36	37	38	39	40
D	A	A	C	B	A	C	A	D	B	A	C	B	D	D	E	B	A	E	B
41	42	43	44	45	46	47	48	49	50	51	52	53	54	55	56	57	58	59	60
C	C	B	A	D	E	C	D	B	C	B	D	C	E	A	A	E	B	C	E



**CONCURSO PÚBLICO 2024**  
GABARITOS PRELIMINARES  
**PROVAS APLICADAS NO DIA 14/04/2024**

**FGV CONHECIMENTO**

**ANALISTA LEGISLATIVO ADMINISTRAÇÃO - PROVA TIPO 1**

1	2	3	4	5	6	7	8	9	10	11	12	13	14	15	16	17	18	19	20
B	A	A	E	C	E	A	B	B	C	A	E	A	D	B	E	C	C	E	E
21	22	23	24	25	26	27	28	29	30	31	32	33	34	35	36	37	38	39	40
A	C	D	E	D	B	A	C	A	C	B	E	D	D	C	C	D	B	E	A
41	42	43	44	45	46	47	48	49	50	51	52	53	54	55	56	57	58	59	60
B	C	A	E	D	C	A	E	D	B	A	D	B	D	C	E	A	D	B	A
61	62	63	64	65	66	67	68	69	70										
D	E	B	C	E	D	B	E	A	C										

**ANALISTA LEGISLATIVO ADMINISTRAÇÃO - PROVA TIPO 2**

1	2	3	4	5	6	7	8	9	10	11	12	13	14	15	16	17	18	19	20
A	E	C	A	E	B	B	E	A	A	C	B	E	A	C	C	D	E	B	C
21	22	23	24	25	26	27	28	29	30	31	32	33	34	35	36	37	38	39	40
E	A	C	E	B	A	C	D	B	D	A	E	A	C	E	D	C	D	D	B
41	42	43	44	45	46	47	48	49	50	51	52	53	54	55	56	57	58	59	60
E	E	D	C	E	B	E	A	C	C	B	E	B	D	A	C	A	B	D	A
61	62	63	64	65	66	67	68	69	70										
A	D	B	D	D	C	D	B	E	A										



**CONCURSO PÚBLICO 2024**  
GABARITOS PRELIMINARES  
**PROVAS APLICADAS NO DIA 14/04/2024**

**FGV CONHECIMENTO**

**ANALISTA LEGISLATIVO ANÁLISE DE SISTEMA - PROVA TIPO 1**

1	2	3	4	5	6	7	8	9	10	11	12	13	14	15	16	17	18	19	20
B	A	A	E	C	E	A	B	B	C	A	E	A	D	B	E	C	C	E	E
21	22	23	24	25	26	27	28	29	30	31	32	33	34	35	36	37	38	39	40
A	C	D	E	D	B	A	C	A	C	B	E	D	D	C	C	D	B	E	A
41	42	43	44	45	46	47	48	49	50	51	52	53	54	55	56	57	58	59	60
D	C	D	C	A	B	E	B	A	E	B	A	E	C	D	E	D	D	E	B
61	62	63	64	65	66	67	68	69	70										
C	B	C	D	C	D	B	E	A	C										





**CONCURSO PÚBLICO 2024**  
GABARITOS PRELIMINARES  
**PROVAS APLICADAS NO DIA 14/04/2024**

**FGV CONHECIMENTO**

**ANALISTA LEGISLATIVO ANÁLISE DE SUPORTE EM INFORMÁTICA - PROVA TIPO 1**

1	2	3	4	5	6	7	8	9	10	11	12	13	14	15	16	17	18	19	20
B	A	A	E	C	E	A	B	B	C	A	E	A	D	B	E	C	C	E	E
21	22	23	24	25	26	27	28	29	30	31	32	33	34	35	36	37	38	39	40
A	C	D	E	D	B	A	C	A	C	B	E	D	D	C	C	D	B	E	A
41	42	43	44	45	46	47	48	49	50	51	52	53	54	55	56	57	58	59	60
A	B	C	D	E	A	C	E	D	C	E	B	A	E	C	A	E	B	A	E
61	62	63	64	65	66	67	68	69	70										
C	B	D	D	D	D	B	E	A	C										



**CONCURSO PÚBLICO 2024**  
GABARITOS PRELIMINARES  
**PROVAS APLICADAS NO DIA 14/04/2024**

**FGV CONHECIMENTO**

**ANALISTA LEGISLATIVO ARQUITETURA - PROVA TIPO 1**

1	2	3	4	5	6	7	8	9	10	11	12	13	14	15	16	17	18	19	20
B	A	A	E	C	E	A	B	B	C	A	E	A	D	B	E	C	C	E	E
21	22	23	24	25	26	27	28	29	30	31	32	33	34	35	36	37	38	39	40
A	C	D	E	D	B	A	C	A	C	B	E	D	D	C	C	D	B	E	A
41	42	43	44	45	46	47	48	49	50	51	52	53	54	55	56	57	58	59	60
E	A	C	B	D	B	A	B	A	B	B	D	A	C	E	D	C	E	B	D
61	62	63	64	65	66	67	68	69	70										
C	C	E	C	A	D	B	E	A	C										



**CONCURSO PÚBLICO 2024**  
GABARITOS PRELIMINARES  
**PROVAS APLICADAS NO DIA 14/04/2024**

**FGV CONHECIMENTO**

**ANALISTA LEGISLATIVO AUDITORIA E CONTROLE INTERNO - PROVA TIPO 1**

1	2	3	4	5	6	7	8	9	10	11	12	13	14	15	16	17	18	19	20
B	A	A	E	C	E	A	B	B	C	A	E	A	D	B	E	C	C	E	E
21	22	23	24	25	26	27	28	29	30	31	32	33	34	35	36	37	38	39	40
A	C	D	E	D	B	A	C	A	C	B	E	D	D	C	C	D	B	E	A
41	42	43	44	45	46	47	48	49	50	51	52	53	54	55	56	57	58	59	60
B	A	E	D	E	A	B	C	A	D	C	C	B	E	D	A	B	E	C	D
61	62	63	64	65	66	67	68	69	70										
E	A	D	C	B	D	B	E	A	C										



**CONCURSO PÚBLICO 2024**  
GABARITOS PRELIMINARES  
**PROVAS APLICADAS NO DIA 14/04/2024**

**FGV CONHECIMENTO**

**ANALISTA LEGISLATIVO CERIMONIAL - PROVA TIPO 1**

1	2	3	4	5	6	7	8	9	10	11	12	13	14	15	16	17	18	19	20
B	A	A	E	C	E	A	B	B	C	A	E	A	D	B	E	C	C	E	E
21	22	23	24	25	26	27	28	29	30	31	32	33	34	35	36	37	38	39	40
A	C	D	E	D	B	A	C	A	C	B	E	D	D	C	C	D	B	E	A
41	42	43	44	45	46	47	48	49	50	51	52	53	54	55	56	57	58	59	60
C	E	D	C	E	A	B	A	E	E	B	C	A	E	C	D	A	C	A	B
61	62	63	64	65	66	67	68	69	70										
A	C	D	D	E	D	B	E	A	C										



**CONCURSO PÚBLICO 2024**  
GABARITOS PRELIMINARES  
**PROVAS APLICADAS NO DIA 14/04/2024**

**FGV CONHECIMENTO**

**ANALISTA LEGISLATIVO CIÊNCIAS CONTÁBEIS - PROVA TIPO 1**

1	2	3	4	5	6	7	8	9	10	11	12	13	14	15	16	17	18	19	20
B	A	A	E	C	E	A	B	B	C	A	E	A	D	B	E	C	C	E	E
21	22	23	24	25	26	27	28	29	30	31	32	33	34	35	36	37	38	39	40
A	C	D	E	D	B	A	C	A	C	B	E	D	D	C	C	D	B	E	A
41	42	43	44	45	46	47	48	49	50	51	52	53	54	55	56	57	58	59	60
C	E	C	A	A	C	D	D	D	B	E	A	E	B	A	D	B	C	D	B
61	62	63	64	65	66	67	68	69	70										
E	B	C	A	E	D	B	E	A	C										



**CONCURSO PÚBLICO 2024**  
GABARITOS PRELIMINARES  
**PROVAS APLICADAS NO DIA 14/04/2024**

**FGV CONHECIMENTO**

**ANALISTA LEGISLATIVO CIÊNCIAS ECONÔMICAS - PROVA TIPO 1**

1	2	3	4	5	6	7	8	9	10	11	12	13	14	15	16	17	18	19	20
B	A	A	E	C	E	A	B	B	C	A	E	A	D	B	E	C	C	E	E
21	22	23	24	25	26	27	28	29	30	31	32	33	34	35	36	37	38	39	40
A	C	D	E	D	B	A	C	A	C	B	E	D	D	C	C	D	B	E	A
41	42	43	44	45	46	47	48	49	50	51	52	53	54	55	56	57	58	59	60
A	C	C	C	D	D	A	B	E	B	C	E	E	A	A	D	D	C	E	B
61	62	63	64	65	66	67	68	69	70										
E	A	A	B	B	D	B	E	A	C										



**CONCURSO PÚBLICO 2024**  
GABARITOS PRELIMINARES  
**PROVAS APLICADAS NO DIA 14/04/2024**

**FGV CONHECIMENTO**

**ANALISTA LEGISLATIVO DESENVOLVIMENTO DE SISTEMA - PROVA TIPO 1**

1	2	3	4	5	6	7	8	9	10	11	12	13	14	15	16	17	18	19	20
B	A	A	E	C	E	A	B	B	C	A	E	A	D	B	E	C	C	E	E
21	22	23	24	25	26	27	28	29	30	31	32	33	34	35	36	37	38	39	40
A	C	D	E	D	B	A	C	A	C	B	E	D	D	C	C	D	B	E	A
41	42	43	44	45	46	47	48	49	50	51	52	53	54	55	56	57	58	59	60
A	C	A	D	C	C	C	A	A	D	A	B	C	B	B	E	C	A	E	D
61	62	63	64	65	66	67	68	69	70										
B	B	C	C	A	D	B	E	A	C										



**CONCURSO PÚBLICO 2024**  
GABARITOS PRELIMINARES  
**PROVAS APLICADAS NO DIA 14/04/2024**

**FGV CONHECIMENTO**

**ANALISTA LEGISLATIVO DIREITO - PROVA TIPO 1**

1	2	3	4	5	6	7	8	9	10	11	12	13	14	15	16	17	18	19	20
B	A	A	E	C	E	A	B	B	C	A	E	A	D	B	E	C	C	E	E
21	22	23	24	25	26	27	28	29	30	31	32	33	34	35	36	37	38	39	40
A	C	D	E	D	B	A	C	A	C	B	E	D	D	C	C	D	B	E	A
41	42	43	44	45	46	47	48	49	50	51	52	53	54	55	56	57	58	59	60
A	C	B	D	D	D	C	A	E	C	C	A	B	B	D	B	D	A	E	A
61	62	63	64	65	66	67	68	69	70										
E	B	B	E	D	D	B	E	A	C										

**ANALISTA LEGISLATIVO DIREITO - PROVA TIPO 2**

1	2	3	4	5	6	7	8	9	10	11	12	13	14	15	16	17	18	19	20
A	E	C	A	E	B	B	E	A	A	C	B	E	A	C	C	D	E	B	C
21	22	23	24	25	26	27	28	29	30	31	32	33	34	35	36	37	38	39	40
E	A	C	E	B	A	C	D	B	D	A	E	A	C	E	D	C	D	D	B
41	42	43	44	45	46	47	48	49	50	51	52	53	54	55	56	57	58	59	60
D	A	C	B	C	D	D	A	C	E	A	C	B	D	B	B	D	E	A	E
61	62	63	64	65	66	67	68	69	70										
A	B	B	E	D	C	D	B	E	A										

**ANALISTA LEGISLATIVO DIREITO - PROVA TIPO 3**

1	2	3	4	5	6	7	8	9	10	11	12	13	14	15	16	17	18	19	20
B	B	A	E	C	C	A	E	E	B	A	A	A	B	C	D	E	A	C	E
21	22	23	24	25	26	27	28	29	30	31	32	33	34	35	36	37	38	39	40
C	E	E	C	C	E	B	A	D	B	D	A	C	D	D	B	C	E	A	D
41	42	43	44	45	46	47	48	49	50	51	52	53	54	55	56	57	58	59	60
B	D	A	C	D	C	D	A	E	C	C	A	B	B	D	B	D	A	E	A
61	62	63	64	65	66	67	68	69	70										
E	B	B	E	D	A	C	D	B	E										

**ANALISTA LEGISLATIVO DIREITO - PROVA TIPO 4**

1	2	3	4	5	6	7	8	9	10	11	12	13	14	15	16	17	18	19	20
E	A	B	C	A	B	E	A	C	A	E	B	C	E	E	A	A	B	E	D
21	22	23	24	25	26	27	28	29	30	31	32	33	34	35	36	37	38	39	40
C	C	C	A	E	E	C	D	A	D	B	B	C	E	A	D	D	C	B	D
41	42	43	44	45	46	47	48	49	50	51	52	53	54	55	56	57	58	59	60
C	B	D	A	C	D	D	A	C	E	A	C	B	D	B	B	D	E	A	E
61	62	63	64	65	66	67	68	69	70										
A	B	B	E	D	E	A	C	D	B										



**CONCURSO PÚBLICO 2024**  
GABARITOS PRELIMINARES  
**PROVAS APLICADAS NO DIA 14/04/2024**

**FGV CONHECIMENTO**

**ANALISTA LEGISLATIVO ENFERMAGEM - PROVA TIPO 1**

1	2	3	4	5	6	7	8	9	10	11	12	13	14	15	16	17	18	19	20
B	A	A	E	C	E	A	B	B	C	A	E	A	D	B	E	C	C	E	E
21	22	23	24	25	26	27	28	29	30	31	32	33	34	35	36	37	38	39	40
A	C	D	E	D	B	A	C	A	C	B	E	D	D	C	C	D	B	E	A
41	42	43	44	45	46	47	48	49	50	51	52	53	54	55	56	57	58	59	60
E	C	E	E	A	A	D	D	A	B	C	A	B	D	E	C	E	A	E	C
61	62	63	64	65	66	67	68	69	70										
B	B	C	C	D	D	B	E	A	C										

**ANALISTA LEGISLATIVO ENFERMAGEM - PROVA TIPO 2**

1	2	3	4	5	6	7	8	9	10	11	12	13	14	15	16	17	18	19	20
A	E	C	A	E	B	B	E	A	A	C	B	E	A	C	C	D	E	B	C
21	22	23	24	25	26	27	28	29	30	31	32	33	34	35	36	37	38	39	40
E	A	C	E	B	A	C	D	B	D	A	E	A	C	E	D	C	D	D	B
41	42	43	44	45	46	47	48	49	50	51	52	53	54	55	56	57	58	59	60
C	C	B	A	B	E	C	B	E	C	A	D	E	D	E	C	B	E	C	A
61	62	63	64	65	66	67	68	69	70										
D	A	D	A	E	C	D	B	E	A										



**CONCURSO PÚBLICO 2024**  
GABARITOS PRELIMINARES  
**PROVAS APLICADAS NO DIA 14/04/2024**

**FGV CONHECIMENTO**

**ANALISTA LEGISLATIVO ENGENHARIA - PROVA TIPO 1**

1	2	3	4	5	6	7	8	9	10	11	12	13	14	15	16	17	18	19	20
B	A	A	E	C	E	A	B	B	C	A	E	A	D	B	E	C	C	E	E
21	22	23	24	25	26	27	28	29	30	31	32	33	34	35	36	37	38	39	40
A	C	D	E	D	B	A	C	A	C	B	E	D	D	C	C	D	B	E	A
41	42	43	44	45	46	47	48	49	50	51	52	53	54	55	56	57	58	59	60
B	B	B	C	B	D	E	B	A	B	E	A	E	B	A	E	E	C	C	D
61	62	63	64	65	66	67	68	69	70										
D	C	C	A	D	D	B	E	A	C										



**CONCURSO PÚBLICO 2024**  
GABARITOS PRELIMINARES  
**PROVAS APLICADAS NO DIA 14/04/2024**

**FGV CONHECIMENTO**

**ANALISTA LEGISLATIVO JORNALISMO - PROVA TIPO 1**

1	2	3	4	5	6	7	8	9	10	11	12	13	14	15	16	17	18	19	20
B	A	A	E	C	E	A	B	B	C	A	E	A	D	B	E	C	C	E	E
21	22	23	24	25	26	27	28	29	30	31	32	33	34	35	36	37	38	39	40
A	C	D	E	D	B	A	C	A	C	B	E	D	D	C	C	D	B	E	A
41	42	43	44	45	46	47	48	49	50	51	52	53	54	55	56	57	58	59	60
C	A	A	D	C	B	E	D	A	D	E	E	C	D	A	B	B	C	B	E
61	62	63	64	65	66	67	68	69	70										
D	A	B	C	E	D	B	E	A	C										



**CONCURSO PÚBLICO 2024**  
GABARITOS PRELIMINARES  
**PROVAS APLICADAS NO DIA 14/04/2024**

**FGV CONHECIMENTO**

**ANALISTA LEGISLATIVO MEDICINA - PROVA TIPO 1**

1	2	3	4	5	6	7	8	9	10	11	12	13	14	15	16	17	18	19	20
B	A	A	E	C	E	A	B	B	C	A	E	A	D	B	E	C	C	E	E
21	22	23	24	25	26	27	28	29	30	31	32	33	34	35	36	37	38	39	40
A	C	D	E	D	B	A	C	A	C	B	E	D	D	C	C	D	B	E	A
41	42	43	44	45	46	47	48	49	50	51	52	53	54	55	56	57	58	59	60
E	B	C	C	B	D	A	C	E	A	B	C	D	C	B	A	D	B	D	A
61	62	63	64	65	66	67	68	69	70										
D	E	E	E	E	D	B	E	A	C										



**CONCURSO PÚBLICO 2024**  
GABARITOS PRELIMINARES  
**PROVAS APLICADAS NO DIA 14/04/2024**

**FGV CONHECIMENTO**

**ANALISTA LEGISLATIVO PEDAGOGIA - PROVA TIPO 1**

1	2	3	4	5	6	7	8	9	10	11	12	13	14	15	16	17	18	19	20
B	A	A	E	C	E	A	B	B	C	A	E	A	D	B	E	C	C	E	E
21	22	23	24	25	26	27	28	29	30	31	32	33	34	35	36	37	38	39	40
A	C	D	E	D	B	A	C	A	C	B	E	D	D	C	C	D	B	E	A
41	42	43	44	45	46	47	48	49	50	51	52	53	54	55	56	57	58	59	60
C	B	C	C	D	A	C	E	A	B	D	C	E	D	C	E	A	A	B	B
61	62	63	64	65	66	67	68	69	70										
E	A	D	B	B	D	B	E	A	C										

**ANALISTA LEGISLATIVO PEDAGOGIA - PROVA TIPO 2**

1	2	3	4	5	6	7	8	9	10	11	12	13	14	15	16	17	18	19	20
A	E	C	A	E	B	B	E	A	A	C	B	E	A	C	C	D	E	B	C
21	22	23	24	25	26	27	28	29	30	31	32	33	34	35	36	37	38	39	40
E	A	C	E	B	A	C	D	B	D	A	E	A	C	E	D	C	D	D	B
41	42	43	44	45	46	47	48	49	50	51	52	53	54	55	56	57	58	59	60
C	B	A	E	C	D	D	B	B	B	B	C	A	E	D	C	E	E	B	A
61	62	63	64	65	66	67	68	69	70										
C	C	A	A	D	C	D	B	E	A										



**CONCURSO PÚBLICO 2024**  
GABARITOS PRELIMINARES  
**PROVAS APLICADAS NO DIA 14/04/2024**

**FGV CONHECIMENTO**

**ANALISTA LEGISLATIVO PSICOLOGIA - PROVA TIPO 1**

1	2	3	4	5	6	7	8	9	10	11	12	13	14	15	16	17	18	19	20
B	A	A	E	C	E	A	B	B	C	A	E	A	D	B	E	C	C	E	E
21	22	23	24	25	26	27	28	29	30	31	32	33	34	35	36	37	38	39	40
A	C	D	E	D	B	A	C	A	C	B	E	D	D	C	C	D	B	E	A
41	42	43	44	45	46	47	48	49	50	51	52	53	54	55	56	57	58	59	60
B	D	C	E	B	A	A	E	D	D	A	C	B	E	C	E	E	B	B	E
61	62	63	64	65	66	67	68	69	70										
D	B	A	C	C	D	B	E	A	C										



**CONCURSO PÚBLICO 2024**  
GABARITOS PRELIMINARES  
**PROVAS APLICADAS NO DIA 14/04/2024**

**FGV CONHECIMENTO**

**ANALISTA LEGISLATIVO PUBLICIDADE - PROVA TIPO 1**

1	2	3	4	5	6	7	8	9	10	11	12	13	14	15	16	17	18	19	20
B	A	A	E	C	E	A	B	B	C	A	E	A	D	B	E	C	C	E	E
21	22	23	24	25	26	27	28	29	30	31	32	33	34	35	36	37	38	39	40
A	C	D	E	D	B	A	C	A	C	B	E	D	D	C	C	D	B	E	A
41	42	43	44	45	46	47	48	49	50	51	52	53	54	55	56	57	58	59	60
C	D	C	A	E	D	A	B	B	D	B	D	C	D	B	A	A	E	A	E
61	62	63	64	65	66	67	68	69	70										
B	E	C	E	C	D	B	E	A	C										



**CONCURSO PÚBLICO 2024**  
GABARITOS PRELIMINARES  
**PROVAS APLICADAS NO DIA 14/04/2024**

**FGV CONHECIMENTO**

**ANALISTA LEGISLATIVO RELAÇÕES PÚBLICAS - PROVA TIPO 1**

1	2	3	4	5	6	7	8	9	10	11	12	13	14	15	16	17	18	19	20
B	A	A	E	C	E	A	B	B	C	A	E	A	D	B	E	C	C	E	E
21	22	23	24	25	26	27	28	29	30	31	32	33	34	35	36	37	38	39	40
A	C	D	E	D	B	A	C	A	C	B	E	D	D	C	C	D	B	E	A
41	42	43	44	45	46	47	48	49	50	51	52	53	54	55	56	57	58	59	60
C	A	A	C	B	A	B	A	D	D	E	B	D	E	A	B	E	E	E	D
61	62	63	64	65	66	67	68	69	70										
B	D	C	C	C	D	B	E	A	C										



**CONCURSO PÚBLICO 2024**  
GABARITOS PRELIMINARES  
**PROVAS APLICADAS NO DIA 14/04/2024**

**FGV CONHECIMENTO**

**ANALISTA LEGISLATIVO REVISÃO - PROVA TIPO 1**

1	2	3	4	5	6	7	8	9	10	11	12	13	14	15	16	17	18	19	20
B	A	A	E	C	E	A	B	B	C	A	E	A	D	B	E	C	C	E	E
21	22	23	24	25	26	27	28	29	30	31	32	33	34	35	36	37	38	39	40
A	C	D	E	D	B	A	C	A	C	B	E	D	D	C	C	D	B	E	A
41	42	43	44	45	46	47	48	49	50	51	52	53	54	55	56	57	58	59	60
A	B	C	E	D	A	C	A	A	D	E	C	C	B	A	B	E	C	B	A
61	62	63	64	65	66	67	68	69	70										
B	B	D	B	C	D	B	E	A	C										

**ANALISTA LEGISLATIVO REVISÃO - PROVA TIPO 2**

1	2	3	4	5	6	7	8	9	10	11	12	13	14	15	16	17	18	19	20
A	E	C	A	E	B	B	E	A	A	C	B	E	A	C	C	D	E	B	C
21	22	23	24	25	26	27	28	29	30	31	32	33	34	35	36	37	38	39	40
E	A	C	E	B	A	C	D	B	D	A	E	A	C	E	D	C	D	D	B
41	42	43	44	45	46	47	48	49	50	51	52	53	54	55	56	57	58	59	60
E	D	B	B	A	C	B	E	A	A	C	A	D	E	D	A	B	C	B	C
61	62	63	64	65	66	67	68	69	70										
C	A	B	B	C	C	D	B	E	A										



**CONCURSO PÚBLICO 2024**  
GABARITOS PRELIMINARES  
**PROVAS APLICADAS NO DIA 14/04/2024**

**FGV CONHECIMENTO**

**ANALISTA LEGISLATIVO SUPORTE TÉCNICO EM INFORMÁTICA - PROVA TIPO 1**

1	2	3	4	5	6	7	8	9	10	11	12	13	14	15	16	17	18	19	20
B	A	A	E	C	E	A	B	B	C	A	E	A	D	B	E	C	C	E	E
21	22	23	24	25	26	27	28	29	30	31	32	33	34	35	36	37	38	39	40
A	C	D	E	D	B	A	C	A	C	B	E	D	D	C	C	D	B	E	A
41	42	43	44	45	46	47	48	49	50	51	52	53	54	55	56	57	58	59	60
C	B	C	E	B	C	C	B	B	D	A	C	D	E	B	D	A	A	B	E
61	62	63	64	65	66	67	68	69	70										
A	D	E	B	D	D	B	E	A	C										



**CONCURSO PÚBLICO 2024**  
GABARITOS PRELIMINARES  
**PROVAS APLICADAS NO DIA 14/04/2024**

**FGV CONHECIMENTO**

**ANALISTA LEGISLATIVO TÉCNICO JURÍDICO - PROVA TIPO 1**

1	2	3	4	5	6	7	8	9	10	11	12	13	14	15	16	17	18	19	20
B	A	A	E	C	E	A	B	B	C	A	E	A	D	B	E	C	C	E	E
21	22	23	24	25	26	27	28	29	30	31	32	33	34	35	36	37	38	39	40
A	C	D	E	D	B	A	C	A	C	B	E	D	D	C	C	D	B	E	A
41	42	43	44	45	46	47	48	49	50	51	52	53	54	55	56	57	58	59	60
B	E	D	A	A	D	D	A	E	B	B	A	C	E	D	A	A	D	C	A
61	62	63	64	65	66	67	68	69	70										
C	B	A	B	C	D	B	E	A	C										



**CONCURSO PÚBLICO 2024**  
GABARITOS PRELIMINARES  
**PROVAS APLICADAS NO DIA 14/04/2024**

**FGV CONHECIMENTO**

**ANALISTA LEGISLATIVO WEB DESIGNER - PROVA TIPO 1**

1	2	3	4	5	6	7	8	9	10	11	12	13	14	15	16	17	18	19	20
B	A	A	E	C	E	A	B	B	C	A	E	A	D	B	E	C	C	E	E
21	22	23	24	25	26	27	28	29	30	31	32	33	34	35	36	37	38	39	40
A	C	D	E	D	B	A	C	A	C	B	E	D	D	C	C	D	B	E	A
41	42	43	44	45	46	47	48	49	50	51	52	53	54	55	56	57	58	59	60
B	E	D	A	C	E	A	C	E	B	B	E	C	A	C	B	A	E	D	A
61	62	63	64	65	66	67	68	69	70										
D	D	A	B	A	D	B	E	A	C										



# ASSEMBLEIA LEGISLATIVA DO ESTADO DO TOCANTINS

CONCURSO PÚBLICO – EDITAL Nº 02/2023

## PROVA OBJETIVA – TARDE

# PROCURADOR JURÍDICO

NÍVEL SUPERIOR – TIPO 1 – BRANCA



### SUA PROVA

- Além deste caderno contendo **100 (cem)** questões objetivas, você receberá do fiscal de prova o cartão de respostas;
- As questões objetivas têm **5 (cinco)** opções de resposta (A, B, C, D) e somente uma delas está correta.



### TEMPO

- Você dispõe de **5 (cinco) horas** para a realização da prova, já incluído o tempo para a marcação do cartão de respostas;
- **3 (três) horas** após o início da prova, é possível retirar-se da sala, sem levar o caderno de questões;
- A partir dos **30 (trinta) minutos** anteriores ao término da prova é possível retirar-se da sala **levando o caderno de questões**.



### NÃO SERÁ PERMITIDO

- Qualquer tipo de comunicação entre os candidatos durante a aplicação da prova;
- Anotar informações relativas às respostas em qualquer outro meio que não seja o caderno de questões;
- Levantar da cadeira sem autorização do fiscal de sala;
- Usar o sanitário ao término da prova, após deixar a sala.



### INFORMAÇÕES GERAIS

- Verifique se seu caderno de questões está completo, sem repetição de questões ou falhas. Caso contrário, **notifique imediatamente o fiscal da sala**, para que sejam tomadas as devidas providências;
- Confira seus dados pessoais, especialmente nome, número de inscrição e documento de identidade e leia atentamente as instruções para preencher o cartão de respostas;
- Para o preenchimento do cartão de respostas, use somente caneta esferográfica, fabricada em material transparente, com tinta preta ou azul;
- Assine seu nome apenas no(s) espaço(s) reservado(s) no cartão de respostas;
- Confira seu cargo, cor e tipo do caderno de questões. Caso tenha recebido caderno de cargo ou cor ou tipo **diferente** do impresso em seu cartão de respostas, o fiscal deve ser **obrigatoriamente** informado para o devido registro na ata da sala;
- Reserve tempo suficiente para o preenchimento do seu cartão de respostas. O preenchimento é de sua responsabilidade e **não será permitida a troca do cartão de respostas em caso de erro cometido pelo candidato**;
- Para fins de avaliação, serão levadas em consideração apenas as marcações realizadas no cartão de respostas;
- A FGV coletará as impressões digitais dos candidatos na lista de presença;
- Os candidatos serão submetidos ao sistema de detecção de metais quando do ingresso e da saída de sanitários durante a realização das provas.
- **Boa prova!**



## CONHECIMENTOS BÁSICOS

### Língua Portuguesa

1

Texto 1

#### Platão

Diotima – Qual é, Sócrates, na sua opinião, a causa deste amor, deste desejo? Você já observou em que estranha crise se encontram todos os animais, os que voam e os que marcham, quando são tomados pelo desejo de procriar? Como ficam doentes e possuídos de desejo, primeiro no momento de se ligarem, depois, quando se torna necessário alimentar os filhos? [...] Tanto no caso dos humanos como no dos animais, a natureza mortal busca, na medida do possível, perpetuar-se e imortalizar-se. Apenas desse modo, por meio da procriação, a natureza mortal é capaz da imortalidade, deixando sempre um jovem no lugar do velho. [...] Pois saiba, Sócrates, que o mesmo vale para a ambição dos homens. Você fica assombrado com a sua misteriosa irracionalidade, a não ser que compreenda o que eu disse, e reflita sobre o que se passa com eles quando são tomados pela ambição e pelo desejo de glória eterna. É pela fama, mais ainda que por seus filhos, que eles se dispõem a encarar todos os riscos, suportar fadigas, esbanjar fortunas e até mesmo sacrificar suas vidas. [...] Aqueles cujo instinto criador é físico recorrem de preferência às mulheres e revelam seu amor dessa maneira, acreditando que pela geração de filhos podem se assegurar da imortalidade e de uma recordação perene de si. Mas existem alguns cujo instinto criador se aloja na alma e que desejam procriar não pelo corpo, mas espiritualmente, gerando filhos que são próprios da natureza da alma conceber e dar à luz. E o que é próprio da natureza da alma procriar? A sabedoria e as virtudes em geral, cujos progenitores são os poetas e os criadores fecundos.

(Platão, século IV a. C.)

Sobre a estruturação geral desse fragmento textual argumentativo, uma fala de Diotima (orientadora de Sócrates nos assuntos de amor) para Sócrates, assinale a observação correta.

- (A) A tese exposta nesse fragmento é a de que a procriação da alma é superior à do corpo.
- (B) Os argumentos apresentados para a defesa da tese se apoiam na autoridade dos participantes do diálogo.
- (C) O público-alvo de toda a argumentação do texto se reduz a Sócrates, citado na exposição da tese.
- (D) A exposição argumentativa tem estreita ligação com a época em que ocorre o diálogo.
- (E) O texto argumentativo acima se estrutura por meio de um debate informativo e expositivo.

2

Qual é, Sócrates, na sua opinião, a causa deste amor, deste desejo?

Essa pergunta inicial do texto

- (A) não é respondida na exposição de Diotima.
- (B) deve ser respondida por Sócrates, na continuidade do diálogo, ausente do fragmento lido.
- (C) a causa procurada do amor e do desejo aludidos está no desejo físico exacerbado.
- (D) é respondida pela própria Diotima, no meio do texto.
- (E) não tem uma resposta possível, já que está envolta em “misteriosa irracionalidade”.

3

Sobre a pergunta inicial do texto, é correto afirmar que

- (A) se trata de uma pergunta retórica, ou seja, para a qual não se espera nenhuma resposta.
- (B) constitui uma pergunta direta, isto é, aquela que se responde com a ajuda dos advérbios sim/não.
- (C) mostra uma estrutura motivadora, que procura despertar interesse no leitor.
- (D) é feita de forma a mostrar a autoridade intelectual de Sócrates, de quem se espera uma resposta valiosa.
- (E) indica que o texto lido é um fragmento intermediário, já que se refere a termos citados anteriormente.

4

No texto, há três ocorrências de colchetes com pontos no interior; isso significa que

- (A) algumas partes do original não puderam ser registradas.
- (B) partes do texto foram intencionalmente omitidas.
- (C) alguns segmentos abandonavam a orientação central do texto e, por isso, foram deixadas de lado.
- (D) foram inseridos do texto a fim de destacar a importância dos segmentos seguintes.
- (E) alguns trechos tiveram que ser eliminados por censura moral, política ou cultural.

5

O texto 1 foi retirado do *O Livro das Citações*, do novo acadêmico Eduardo Giannetti e está inserido numa seção intitulada “Monumentos mais duradouros que o bronze”.

Esse título de justifica porque os textos

- (A) são muito antigos.
- (B) testemunham momentos culturais significativos.
- (C) pertencem a autores famosos.
- (D) mostram valores hoje abandonados.
- (E) indicam textos vistos como obras de arte.

6

O texto explora dois temas em sequência, que são

- (A) a imortalidade pelo amor do corpo e pelo amor da alma.
- (B) algumas marcas dos homens e as marcas dos animais.
- (C) os valores materiais e os valores intelectuais.
- (D) os filhos do amor físico e os filhos do amor da alma.
- (E) os valores antigos e os valores modernos.

7

O texto utiliza adjetivos, que mostram em língua portuguesa alguns valores: estados, características, qualidades e relações.

Assinale a opção em que o adjetivo sublinhado mostra um valor **diferente** de todos os outros.

- (A) “Você já observou em que estranha crise se encontram todos os animais...”.
- (B) “Como ficam doentes e possuídos de desejo...”.
- (C) “Você ficará assombrado com a sua misteriosa irracionalidade...”.
- (D) “...cujos progenitores são os poetas e os criadores fecundos”.
- (E) “...quando são tomados pela ambição e pelo desejo de glória eterna”.

8

Nos segmentos textuais listados a seguir há orações reduzidas de infinitivo.

Assinale a forma em que essa forma foi transformada em uma oração desenvolvida de forma **inadequada**.

- (A) “quando são tomados pelo desejo de procriar” / quando são tomados pelo desejo de que procriação.
- (B) “quando se torna necessário alimentar os filhos?” / quando se torna necessário que alimentem os filhos?
- (C) “...a natureza mortal busca, na medida do possível, perpetuar-se” / a natureza mortal busca, na medida do possível, que se perpetue”.
- (D) “...desejam procriar não pelo corpo” / desejam que procriem não pelo corpo.
- (E) “...que são próprios da natureza da alma conceber” / que são próprios que a natureza da alma conceba.

9

Assinale o segmento textual que se enquadra entre os textos injuntivos.

- (A) Você já observou em que estranha crise se encontram todos os animais, os que voam e os que marcham, quando são tomados pelo desejo de procriar?
- (B) Como ficam doentes e possuídos de desejo, primeiro no momento de se ligarem, depois, quando se torna necessário alimentar os filhos?
- (C) Tanto no caso dos humanos como no dos animais, a natureza mortal busca, na medida do possível, perpetuar-se e imortalizar-se.
- (D) Apenas desse modo, por meio da procriação, a natureza mortal é capaz da imortalidade, deixando sempre um jovem no lugar do velho.
- (E) Pois saiba, Sócrates, que o mesmo vale para a ambição dos homens.

10

Nas frases a seguir ocorre a presença da preposição DE.

Assinale a frase em que o termo precedido por essa preposição que exerce a função de adjunto e não de complemento.

- (A) “...quando são tomados pelo desejo DE procriar?”
- (B) “...pela geração DE filhos”.
- (C) “...recorrem DE preferência às mulheres”.
- (D) “...e de uma recordação perene DE si”.
- (E) “...podem se assegurar da imortalidade e DE uma recordação”.

## Legislação Institucional

11

Determinada proposição legislativa foi apresentada por João, Deputado Estadual, perante a Assembleia Legislativa do Estado do Tocantins. O Presidente dessa Casa Legislativa procedeu à sua distribuição a três Comissões Permanentes.

À luz dessa narrativa e dos balizamentos estabelecidos pelo Regimento Interno da referida Casa Legislativa, é correto afirmar que

- (A) a proposição será objeto de parecer no âmbito das três Comissões Permanentes, sempre em manifestações de caráter puramente opinativo, competindo ao Plenário deliberar sobre o seu acolhimento ou não.
- (B) o despacho do Presidente pode atribuir caráter terminativo à análise a ser realizada em cada Comissão, o que condiciona a apreciação pelo Plenário à interposição de recurso, pelo autor da proposição ou por partido político.
- (C) o parecer de cada Comissão, por imposição regimental, tem caráter terminativo, mas isto não obsta a sua apreciação pelo Plenário mediante requerimento do autor da proposição, de partido político ou de bloco parlamentar.
- (D) somente tem caráter terminativo o parecer de cada Comissão indicada no Regimento Interno, o qual pode ser apreciado pelo Plenário, mediante requerimento do autor da proposição, apoiado por um sexto dos Deputados Estaduais.
- (E) o parecer das Comissões permanentes será terminativo em relação àquelas indicadas no Regimento Interno, o que pode ser estendido, pelo Presidente, a outras Comissões, cabendo, em qualquer caso, a interposição de recurso para o Plenário.

12

O Governador do Estado do Tocantins encaminhou projeto de lei à Assembleia Legislativa do Estado do Tocantins, o qual tramita em regime de urgência. Maria, servidora dessa Casa Legislativa, em uma apreciação preliminar do Regimento interno, concluiu que, em razão desse regime:

- I. o prazo destinado ao relator, no âmbito de uma Comissão, somente pode ser prorrogado mediante justificativa idônea e devidamente comprovada.
- II. a vista requerida no âmbito das Comissões será limitada a vinte e quatro horas.
- III. as Comissões que devem apreciar a proposição a discutirão e votarão ao mesmo tempo em cada uma delas.

É correto afirmar, em relação às três conclusões de Maria, que

- (A) todas as conclusões estão certas.
- (B) apenas a conclusão I está certa.
- (C) apenas a conclusão III está certa.
- (D) apenas as conclusões I e II estão certas.
- (E) apenas as conclusões II e III estão certas.

13

Ana, Deputada Estadual no âmbito da Assembleia Legislativa do Estado do Tocantins, almejava apresentar destaque de subemenda afeta a emenda ofertada em projeto de lei em tramitação nessa Casa Legislativa.

Ao analisar o Regimento Interno da Assembleia Legislativa do Estado do Tocantins, Ana concluiu corretamente que

- (A) qualquer Deputado Estadual pode requerer a votação, em momento antecedente à apreciação da proposição principal, de subemenda com a apresentação de destaque.
- (B) o requerimento de destaque de expressão cuja retirada modifique substancialmente o sentido da proposição, caso acolhido, exige novo parecer da Comissão de Constituição e Justiça.
- (C) o requerimento de destaque, para votação em separado, deve ser formulado por no mínimo um sêxtuplo dos Deputados Estaduais, até ser anunciada a votação da proposição.
- (D) o destaque, para votação em separado, somente pode ter por objeto parte do projeto ou emenda, não subemenda, e o requerimento deve ser apresentado por líder de partido ou bloco parlamentar.
- (E) o requerimento de destaque pretendido por Ana, para votação em separado, pode ser apresentado por um décimo dos Deputados Estaduais, sendo que, concedido o destaque, a matéria principal deve ser votada primeiramente.

14

Diversas organizações da sociedade civil do Estado de Tocantins iniciaram uma grande mobilização popular com o objetivo de propor, à Assembleia Legislativa, a alteração da sistemática de cadastramento das famílias carentes beneficiadas por determinada política pública de caráter prestacional, sendo que a sistemática atual está disciplinada na Lei estadual nº X.

Ao analisarem os balizamentos oferecidos pela Constituição do Estado do Tocantins, concluíram corretamente que

- (A) a iniciativa popular é reservada a cidadãos eleitores, que devem atender aos requisitos estabelecidos em lei complementar nacional.
- (B) o projeto de lei, de iniciativa das organizações não governamentais, exige que atendem requisitos de filiação mínima e distribuição territorial, conforme previstos em lei ordinária estadual.
- (C) o projeto de lei de iniciativa popular deve ser subscrito por, no mínimo, um por cento do eleitorado estadual, distribuído em pelo menos cinco Municípios, com percentual mínimo de três décimos dos eleitores de cada Município.
- (D) a iniciativa popular pressupõe a subscrição, do projeto de lei, por, no mínimo, três por cento do eleitorado estadual, distribuído em pelo menos dez Municípios, com percentual mínimo de cinco décimos dos eleitores de cada Município.
- (E) em razão da ausência de regulamentação da iniciativa popular, as propostas devem ser encaminhadas à comissão de legislação participativa da Assembleia Legislativa, podendo, ou não, serem subscritas por um Deputado Estadual.

15

Maria, poucos dias após tomar posse como ocupante de cargo de provimento efetivo no âmbito da Assembleia Legislativa do Estado do Tocantins, em razão de sua grande expertise na área de gestão, foi convidada, pelo Governador do Estado *Alfa*, para assumir o cargo de Secretária de Estado.

Muito lisonjeada com o convite, Maria consultou o respectivo Regime Jurídico, e concluiu corretamente que

- (A) em razão do seu tempo de exercício funcional, ela não pode ser cedida.
- (B) ela tem o direito subjetivo de ser cedida ao Poder Executivo do Estado *Alfa*.
- (C) é possível a sua cessão, mas deverá ocupar cargo em comissão no Estado *Alfa*.
- (D) é vedada a cessão de servidores estaduais a estruturas de poder de outros entes federativos.
- (E) a cessão somente é possível para estruturas de poder do próprio Estado ou para Municípios situados em seu território.

16

Um grupo de Deputados Estaduais, observadas as exigências regimentais, apresentou proposição legislativa visando à modificação da Lei Orgânica do Estado do Tocantins.

Maria, Deputada Estadual, almejava apresentar uma emenda aditiva a essa proposição legislativa. Ao consultar o Regimento Interno da Assembleia Legislativa do Estado do Tocantins, concluiu corretamente que

- (A) como a proposição está sujeita a dois turnos de discussão e votação, a emenda não pode ser apresentada no primeiro turno.
- (B) em razão do quórum qualificado para a apresentação e para a aprovação da proposição, a emenda somente pode ser apresentada por partido político ou bloco parlamentar.
- (C) a apresentação da emenda pode ocorrer tanto no âmbito das Comissões que irão apreciá-la como na Ordem do Dia com votação ainda não encerrada.
- (D) a emenda aditiva, além de não poder ser apresentada isoladamente por uma única parlamentar, não pode acarretar aumento de despesa na proposição descrita na narrativa.
- (E) embora seja possível a apresentação da emenda almejada, como ela apresenta contornos aditivos, sua apresentação somente pode ocorrer no âmbito da Comissão Especial que deve apreciar a proposição.

17

Maria e Joana eram servidoras públicas ocupantes de cargos de provimento efetivo no Estado do Tocantins e, por distintas razões, não mais estavam em exercício funcional. No caso de Maria, isto decorria da extinção do seu cargo, por desnecessidade. Joana, por sua vez, foi inabilitada no estágio probatório relativo a outro cargo de provimento efetivo estadual, para o qual tinha sido aprovada em concurso público de provas e títulos.

Ambas foram comunicadas que voltariam aos cargos de origem, o que significa dizer que ocorreu

- (A) a recondução de ambas.
- (B) a reversão de Maria e o retorno de Joana.
- (C) a recondução de Maria e a reintegração de Joana.
- (D) o aproveitamento de Maria, e a recondução de Joana.
- (E) a reintegração de Maria e o aproveitamento de Joana.

18

O Governador do Estado do Tocantins protocolizou, na Assembleia Legislativa, projeto de lei redefinindo determinada gratificação prevista no Regime Jurídico dos Servidores Públicos Civis do Estado. Enquanto a proposição tinha o seu trâmite regular, foram aprovadas outras normas estaduais que influenciavam diretamente na compreensão da razoabilidade da hipótese de incidência e do valor correspondente à referida gratificação. Por tal razão, o Chefe do Poder Executivo, após se reunir com o seu secretariado, entendeu que a aprovação da proposição legislativa continuava sendo relevante, mas uma parte deveria ser alterada, com a correlata supressão parcial de conteúdo.

Nesse caso, à luz do Regimento Interno da Assembleia Legislativa do Tocantins, é correto afirmar que o Governador do Estado deve

- (A) solicitar que o líder do governo apresente a emenda supressiva por delegação sua.
- (B) apresentar uma emenda supressiva à proposição de sua autoria, por meio de mensagem.
- (C) apresentar outra proposição, que será apensada à original, com a modificação que almeja realizar.
- (D) solicitar a retirada da proposição legislativa, o que somente pode ocorrer até a sua inclusão na Ordem do Dia.
- (E) comunicar à Mesa Diretora o seu interesse na aprovação da proposição legislativa, com a posterior apresentação de outra que se ajuste aos seus objetivos.

19

João, Procurador Jurídico no âmbito da Assembleia Legislativa do Estado de Tocantins, almejava concorrer à promoção no âmbito da carreira. Por tal razão, com base em alguns aspectos de sua situação pessoal, solicitou que sua estagiária analisasse os requisitos exigidos para essa promoção, sendo-lhe informado que:

- I. a promoção é imediata para o Procurador Jurídico aprovado em estágio probatório.
- II. não pode habilitar-se à promoção na carreira, o agente que tenha mais de cinco faltas injustificadas no ano anterior.
- III. o agente deve ter no mínimo sessenta meses de exercício no nível imediatamente inferior.

Ao cotejar as conclusões da estagiária com a legislação de regência, João concluiu corretamente que

- (A) todas as conclusões estão certas.
- (B) apenas a conclusão I está certa.
- (C) apenas a conclusão II está certa.
- (D) apenas as conclusões I e III estão certas.
- (E) apenas as conclusões II e III estão certas.

20

Ana, servidora ocupante de cargo de provimento efetivo na Assembleia Legislativa do Estado de Tocantins, foi instada, por seu superior hierárquico, a realizar uma análise geral da forma de estruturação da governança administrativa no âmbito dessa Casa Legislativa, com especial ênfase para o delineamento do processo decisório.

Ao fim de suas reflexões, Ana concluiu corretamente que o referido processo deve ser

- (A) concentrado nas autoridades de nível hierárquico superior, de modo a assegurar a unidade institucional, e a evitar tratamentos não igualitários.
- (B) compatibilizado com a atribuição, às chefias situadas na base da organização, da menor soma possível de competência decisória, de modo a evitar a fragmentação.
- (C) tanto quanto possível, atribuído a colegiados internos, aos quais devem ser submetidos casos concretos com potencial de repetição, de modo a assegurar o primado da isonomia.
- (D) atribuído ao menor nível hierárquico possível, de modo a conferir maior celeridade à atuação administrativa, reservando-se às autoridades superiores funções específicas na perspectiva da governança administrativa.
- (E) objeto de contínua fiscalização pelos superiores hierárquicos, de modo que a autoridade competente somente se recuse a proferir sua decisão, encaminhando o caso à apreciação superior, quando o interesse público o exigir.

## Realidade política, social e econômica do Estado de Tocantins

21

O projeto de integrar a Bacia Tocantins-Araguaia na logística regional e nacional de transportes remonta aos anos 1960-80, mas foi retomada recentemente, no bojo do Programa de Aceleração do Crescimento (PAC) para o período de 2023-2026, que prevê a ampliação da Hidrovia Araguaia-Tocantins.

A respeito dessa hidrovia, analise as afirmativas a seguir.

- I. É composta por quatro bacias hidrográficas: Araguaia, Marajó, Pará e Tocantins, localizadas na porção central do país entre as regiões Norte e Centro-Oeste, em um ambiente de geração de energia por hidrelétricas como as de Tucuruí e Belo Monte, entre outras.
- II. Possui uma estrutura aquaviária com vias navegáveis, terminais hidroviários e sistemas de transposição de nível, como as eclusas de Tucuruí, sem as quais a navegação no tramo de Peixe (TO) a Marabá (PA) seria inviável.
- III. É importante pela captação de insumos e para o escoamento de *commodities* tocantinenses e dos demais estados que ela tange, sobretudo na cadeia logística de escoamento da soja, interligando a região aos portos do Pará.
- IV. Impacta a qualidade biótica dos rios, sobretudo durante as obras de derrocamento e dragagem, e afeta aspectos socioeconômicos das comunidades envolvidas e das populações indígenas próximas à hidrovia.

As afirmativas que descrevem corretamente características, limites e potencialidades desse modal de transporte são

- (A) I e II, apenas.
- (B) I e III, apenas.
- (C) III e IV, apenas.
- (D) II e IV, apenas.
- (E) II e III, apenas.

22

Leia o fragmento a seguir.

*A Ilha do Bananal está situada entre os estados de Tocantins e Mato Grosso, cabendo sua jurisdição ao Estado do Tocantins, com uma área de aproximadamente 2 milhões de hectares. É considerada a maior ilha fluvial do mundo, com uma rica biodiversidade, mas tem se tornado objeto de disputas e conflitos entre ambientalistas, produtores rurais, representantes das comunidades indígenas e representantes dos poderes públicos.*

Fonte: <https://mapadeconflitos.ensp.fiocruz.br> (Adaptado)

Sobre os conflitos que envolvem a Ilha do Bananal, assinale a afirmativa correta.

- (A) A ilha abriga o Parque Nacional do Araguaia, cuja fiscalização é da Fundação Nacional do Índio (FUNAI), pois preserva as condições ambientais associadas à cultura indígena, gerando uma tensão com o Instituto Brasileiro do Meio Ambiente (IBAMA).
- (B) As principais etnias indígenas presentes na ilha, os Avá-Canoeiros, os Javaé e os Karajás, lutam pela integridade do território que ocupam, exigindo participar da gestão dos recursos gerados pelo uso da rodovia Transbananal.
- (C) A retirada massiva de água do Javaés, para o controle de poeira gerada pela extração de minério nas adjacências, acelera o processo de assoreamento do rio e impacta as dimensões da ilha, alimentando os protestos de ambientalistas.
- (D) A biodiversidade da Ilha do Bananal deve-se à sua localização em uma área de transição entre a Floresta Amazônica, a Caatinga e o Pantanal, motivo pelo qual ativistas reivindicam o ingresso dessa região na Amazônia Legal, contrariando o posicionamento da agroindústria.
- (E) Indigenistas e ambientalistas denunciam a ameaça à integridade física e cultural dos povos originários representada pela penetração de criadores de gado, com arrendamento de pastos, queimadas e instalação de retiros.

23

Leia o trecho a seguir.

*Além dos grandes tipos de vegetação, no Estado do Tocantins são encontradas áreas de transição ambiental, nas quais entram em contato diferentes comunidades ecológicas – isto é, a totalidade da flora e fauna que fazem parte de um mesmo ecossistema e suas interações, como a Amazônia-Cerrado e o Cerrado-Caatinga.*

O trecho refere-se ao conceito de

- (A) bioma.
- (B) ecótono.
- (C) reserva de fauna.
- (D) estação ecológica.
- (E) unidade de conservação.

24

Leia o trecho a seguir.

*A Rota Quilombola está localizada na região do Jalapão (TO) e é formada por três comunidades: Rio Novo, Mumbuca e Prata. O visitante que estabelecer uma conexão com essas comunidades poderá conhecer a história e a cultura quilombola tocantinense e degustar cachaça artesanal com infusão de frutos e raízes do cerrado jalapoeiro, participar de uma oficina de costura de capim dourado com artesãos locais ou ainda aprender a produzir a farofa do “boi curraleiro”.*

Adaptado de <https://sebrae.com.br>

O trecho refere-se às (ao)

- (A) inovações introduzidas pela cultura africana no manejo dos recursos naturais da região.
- (B) formas próprias e autônomas de organização social e política quilombolas.
- (C) modo como o território determina a ancestralidade das comunidades quilombolas.
- (D) conhecimento socioambiental das comunidades quilombolas enquanto um patrimônio cultural.
- (E) oportunidades de ter experiências autênticas de sociabilidade, como as vividas nos quilombos do século XVIII.

25

*A Praça dos Girassóis, marco central de Palmas (TO), abriga um conjunto de edifícios, cujas construções foram iniciadas logo após o lançamento da pedra fundamental da capital, no dia primeiro de janeiro de 1989. Entre esses edifícios, destacam-se o Palácio Araguaia (sede do governo do Estado), o Palácio Feliciano Machado Braga (Tribunal de Justiça), o Palácio João D’Abreu (Assembleia Legislativa), além do Memorial Coluna Prestes e da Catedral Católica do Divino Espírito Santo.*

Adaptado de <https://www.to.gov.br/noticias>

As afirmativas a seguir a respeito do conjunto arquitetônico da Praça dos Girassóis estão corretas, **à exceção de uma**. Assinale-a.

- (A) O Palácio Araguaia recebeu esse nome em referência ao rio que perpassa o limite oeste do novo estado, tendo sofrido sofreu várias modificações desde sua inauguração, como a inserção de uma reprodução monumental do brasão do Estado do Tocantins.
- (B) O edifício do Tribunal de Justiça recebeu o nome do Juiz Feliciano Machado Braga, devido à contribuição dada por ele no isolamento e na derrota do movimento conhecido como Guerrilha do Araguaia, na década de 1970.
- (C) O Memorial Coluna Prestes, projetado por Oscar Niemeyer, homenageia o movimento tenentista e a passagem da Coluna Prestes pelo território tocantinense entre os anos de 1920 e 1930.
- (D) Os edifícios e monumentos da Praça dos Girassóis são dotados de significados políticos, religiosos e culturais e contribuem para construir a história e a identidade para o Estado do Tocantins.
- (E) A linguagem arquitetônica da Praça dos Girassóis é marcada por uma escala monumental e pelo caráter palaciano de seus edifícios, remetendo à disposição e à grandza do eixo monumental do Plano Piloto de Brasília.

26

Atendendo às diretrizes de planejamento territorial, foram criados vários Polos Turísticos no Estado do Tocantins, com o intuito de atribuir Planos de Desenvolvimento do Turismo Sustentável a cada um deles.

Leia a descrição a seguir de um desses Polos.

*Localizado no oeste do Estado, o Polo compreende os municípios de Lagoa da Confusão, Pium, Araguacema e Caseara. A paisagem natural é um dos diferenciais da região, notadamente por se tratar de uma área de transição entre o cerrado e a densa floresta amazônica, motivo pelo qual a meta do Plano de Desenvolvimento é ampliar atividades ligadas à natureza, mas com a premissa de conservação ambiental e inclusão social. O trabalho envolve ainda estruturar os ramos de pesca esportiva e de turismo cultural, caracterizado por artesanato e festas populares.*

O trecho refere-se ao Polo Turístico de

- (A) Cantão.
- (B) Jalapão.
- (C) Serras Gerais.
- (D) Bico do Papagaio.
- (E) Vale dos Grandes Rios.

## CONHECIMENTOS ESPECÍFICOS

### Direito Administrativo, Urbanístico e Ambiental

27

João, agente público, editou uma instrução, contendo diversas diretrizes que devem ser observadas durante a atuação dos servidores públicos que lhe são subordinados. Nesse contexto, em observância à instrução que fora confeccionada, Matheus emitiu, a pedido de um particular, um atestado, declarando a existência de um determinado fato.

Nesse cenário, considerando o entendimento doutrinário e jurisprudencial dominante sobre as espécies de atos administrativos, é correto afirmar que

- (A) a instrução editada por João se caracteriza como um ato administrativo enunciativo. Por sua vez, o atestado emitido por Matheus é um ato administrativo ordinatório.
- (B) a instrução editada por João se caracteriza como um ato administrativo ordinatório. Por sua vez, o atestado emitido por Matheus é um ato administrativo enunciativo.
- (C) a instrução editada por João se caracteriza como um ato administrativo normativo. Por sua vez, o atestado emitido por Matheus é um ato administrativo ordinatório.
- (D) a instrução editada por João e o atestado emitido por Matheus se caracterizam como atos administrativos enunciativos.
- (E) a instrução editada por João e o atestado emitido por Matheus se caracterizam como atos administrativos ordinatórios.

28

Uma determinada associação privada, sem fins lucrativos, que atua na área da promoção do voluntariado, pretende, em observância às formalidades legais, se qualificar como Organização da Sociedade Civil de Interesse Público. Para tanto, os representantes da entidade, antes da formulação do requerimento escrito destinado ao Poder Público, passaram a estudar a legislação que trata sobre a matéria.

Nesse cenário, considerando as disposições da Lei nº 9.790/1999, é correto afirmar que

- (A) eventual pedido de qualificação será indeferido, porquanto a legislação de regência proscreeve que associações privadas, sem finalidade lucrativa, destinadas à promoção do voluntariado, se qualifiquem como Organização da Sociedade Civil de Interesse Público.
- (B) perde-se a qualificação de Organização da Sociedade Civil de Interesse Público, a pedido ou mediante decisão proferida em processo administrativo ou judicial, de iniciativa popular ou do Ministério Público, no qual serão assegurados, ampla defesa e o devido contraditório.
- (C) no caso de deferimento de eventual pedido, o Ministério da Casa Civil emitirá, no prazo de trinta dias da decisão, certificado de qualificação da requerente como Organização da Sociedade Civil de Interesse Público.
- (D) recebido o requerimento de qualificação como Organização da Sociedade Civil de Interesse Público, a autoridade competente decidirá, no prazo de quinze dias, deferindo ou não o pedido.
- (E) Indeferido eventual pedido de qualificação, o Ministério da Casa Civil dará ciência da decisão ao interessado, mediante publicação no Diário Oficial.

29

João e Matheus, amigos de longa data, debateram sobre a situação funcional de cada qual no âmbito da Administração Pública do Estado *Alfa*.

João, agente público aposentado, retornou ao cargo anteriormente ocupado, em razão da declaração de ilegalidade do ato de concessão de aposentadoria pelo órgão público competente, após a observância do contraditório e da ampla defesa. Matheus, por sua vez, servidor público estável, retornou ao cargo de origem, tendo em vista a reintegração do titular anterior, por força de decisão judicial transitada em julgado.

Nesse cenário, considerando as modalidades de provimento derivado, é correto afirmar que

- (A) a situação de João é caracterizadora da recondução. Por sua vez, Matheus retornou ao cargo de origem por força do aproveitamento.
- (B) a situação de João é caracterizadora do aproveitamento. Por sua vez, Matheus retornou ao cargo de origem por força da recondução.
- (C) a situação de João é caracterizadora da reversão. Por sua vez, Matheus retornou ao cargo de origem por força da recondução.
- (D) a situação de João é caracterizadora da recondução. Por sua vez, Matheus retornou ao cargo de origem por força da reversão.
- (E) a situação de João é caracterizadora da readaptação. Por sua vez, Matheus retornou ao cargo de origem por força da reversão.

30

João, agente público há mais de vinte anos, lida, rotineiramente, com procedimentos licitatórios. Desta forma, com o objetivo precípuo de se atualizar, o referido servidor passou a estudar, nas nuances, as regras aplicáveis aos agentes públicos no contexto das licitações, buscando, assim, prestigiar o princípio constitucional da eficiência.

Nesse cenário, considerando as disposições da Lei nº 14.133/2021, é **incorreto** afirmar que

- (A) as regras relativas à atuação do agente de contratação e da equipe de apoio, ao funcionamento da comissão de contratação e à atuação de fiscais e gestores de contratos de que trata a Lei nº 14.133/2021, serão estabelecidas em regulamento, e deverá ser prevista a possibilidade de eles contarem com o apoio dos órgãos de assessoramento jurídico e de controle interno para o desempenho das funções essenciais à execução do disposto na referida legislação.
- (B) em licitação que envolva bens ou serviços especiais, desde que observados os requisitos legais, o agente de contratação poderá ser substituído por comissão de contratação formada por, no mínimo, cinco membros, que responderão solidariamente por todos os atos praticados pela comissão, ressalvado o membro que expressar posição individual divergente fundamentada e registrada em ata lavrada na reunião em que houver sido tomada a decisão.
- (C) a licitação será conduzida por agente de contratação, pessoa designada pela autoridade competente, entre servidores efetivos ou empregados públicos dos quadros permanentes da Administração Pública, para tomar decisões, acompanhar o trâmite da licitação, dar impulso ao procedimento licitatório e executar quaisquer outras atividades necessárias ao bom andamento do certame até a homologação.
- (D) em licitação que envolva bens ou serviços especiais cujo objeto não seja rotineiramente contratado pela Administração, poderá ser contratado, por prazo determinado, serviço de empresa ou de profissional especializado para assessorar os agentes públicos responsáveis pela condução da licitação.
- (E) o agente de contratação será auxiliado por equipe de apoio e responderá individualmente pelos atos que praticar, salvo quando induzido a erro pela atuação da equipe.

31

A sociedade empresária XYZ celebrou um contrato administrativo com o Estado *Alfa*, após o regular procedimento licitatório. No curso da avença, houve a necessidade de alterar cláusulas regulamentares, procedendo-se, na sequência, ao reequilíbrio econômico-financeiro do contrato. Irresignado com a mudança repentina, o contratado procurou a sua equipe de advogados, a qual lhe informou que a Administração Pública atuou de forma escorregia, em razão da existência das cláusulas exorbitantes.

Nesse cenário, considerando o entendimento doutrinário e jurisprudencial dominantes, é correto afirmar que a presença de cláusulas exorbitantes é uma manifestação da seguinte característica dos contratos administrativos:

- (A) caráter personalíssimo.
- (B) comutatividade.
- (C) bilateralidade.
- (D) desequilíbrio.
- (E) formalidade.

32

João, membro de uma entidade da sociedade civil com atuação relacionada a proteção de dados pessoais, foi convidado para ocupar um assento no âmbito do Conselho Nacional de Proteção de Dados Pessoais e da Privacidade, tendo, de imediato, aquiescido com o convite. Nesse contexto, antes do início do exercício da novel função, João passou a analisar todas as normas que são aplicáveis ao referido órgão.

Nesse cenário, considerando as disposições da Lei nº 13.709/2018, é correto afirmar que

- (A) João, enquanto representante de entidade da sociedade civil com atuação relacionada a proteção de dados pessoais, não pode ser membro do Comitê Gestor da Internet no Brasil.
- (B) a participação no Conselho Nacional de Proteção de Dados Pessoais e da Privacidade será considerada prestação de serviço público relevante, de natureza remunerada.
- (C) os representantes do Conselho Nacional de Proteção de Dados Pessoais e da Privacidade serão designados por ato do Presidente da República, vedada a delegação.
- (D) o Conselho Nacional de Proteção de Dados Pessoais e da Privacidade será composto de vinte e cinco representantes, titulares e suplentes.
- (E) João terá mandato de quatro anos, permitida uma recondução.

33

João, após ser empossado no cargo de Presidente da República, tomou conhecimento de que, em momento pretérito, foi criado, no âmbito da Presidência da República, o Programa de Parcerias de Investimentos (PPI), destinado à ampliação e fortalecimento da interação entre o Estado e a iniciativa privada por meio da celebração de contratos de parceria para a execução de empreendimentos públicos de infraestrutura e de outras medidas de desestatização. Desta forma, o agente político, buscando a implementação de suas promessas de campanha, requereu que a sua equipe de assessores lhe apresentasse um panorama geral sobre a legislação de regência, abordando, em especial, os princípios aplicáveis à temática.

Nesse cenário, considerando as disposições da Lei nº 13.334/2016, é correto afirmar que, na implementação do Programa de Parcerias de Investimentos (PPI), será observado o seguinte princípio:

- (A) estímulo ao desenvolvimento tecnológico e industrial, em harmonia com as metas de desenvolvimento social e econômico do País.
- (B) garantia de segurança jurídica aos agentes públicos, às entidades estatais e aos particulares envolvidos.
- (C) promoção ampla e justa da competição na celebração das parcerias e na prestação dos serviços.
- (D) fortalecimento do papel regulador do Estado e da autonomia das entidades estatais de regulação.
- (E) garantia da expansão com qualidade da infraestrutura pública, com tarifas adequadas.

**34**

Após a observância de todas as formalidades constitucionais e legais aplicáveis à espécie, o Município *Alfa* procedeu à desapropriação do imóvel XYZ, uma vez que o proprietário do solo urbano subutilizado não promoveu o seu adequado aproveitamento, sendo certo que as medidas anteriores adotadas, de caráter menos gravoso – edificação compulsória e imposto sobre a propriedade predial e territorial urbana progressivo no tempo – foram infrutíferas.

Nesse cenário, considerando as disposições da Constituição Federal, é correto afirmar que se está diante de uma desapropriação

- (A) urbanística, com pagamento mediante títulos da dívida pública de emissão previamente aprovada pelo Senado Federal, com prazo de resgate de até dez anos, em parcelas anuais, iguais e sucessivas, assegurados o valor real da indenização e os juros legais.
- (B) urbanística, com pagamento mediante títulos da dívida pública de emissão previamente aprovada pelo Senado Federal, com prazo de resgate de até cinco anos, em parcelas anuais, iguais e sucessivas, assegurados o valor real da indenização e os juros legais.
- (C) por necessidade pública, mediante justa e prévia indenização em dinheiro.
- (D) por utilidade pública, mediante justa e prévia indenização em dinheiro.
- (E) urbanística, mediante justa e prévia indenização em dinheiro.

**35**

João compareceu, no período matutino, ao hospital público XYZ, em razão de uma forte crise alérgica. Após ser devidamente medicado, o particular aproveitou o pôr do sol na praça pública ABC, em um cenário paradisíaco. João observou, ainda, que, próximo ao local, existiam diversos terrenos públicos vazios, sem qualquer utilidade.

Nesse cenário, considerando a classificação dos bens públicos quanto ao critério da afetação pública, é correto afirmar que

- (A) o hospital XYZ é um bem público de uso especial. A praça ABC é reputada um bem público dominical. Por fim, os terrenos vazios são bens públicos de uso comum do povo.
- (B) o hospital XYZ é um bem público de uso especial. A praça ABC é reputada um bem público de uso comum do povo. Por fim, os terrenos vazios são bens públicos dominicais.
- (C) o hospital XYZ e a praça ABC são reputados bens públicos de uso comum do povo. Por sua vez, os terrenos vazios são bens públicos dominicais.
- (D) o hospital XYZ é um bem público de uso especial. Por sua vez, a praça ABC e os terrenos vazios são bens públicos de uso comum do povo.
- (E) o hospital XYZ e a praça ABC são reputados bens públicos especiais. Por sua vez, os terrenos vazios são bens públicos dominicais.

**36**

Ao analisar o Estatuto da Cidade (Lei nº 10.257/2001), Gilvan verificou que há previsão de um instrumento que pode ser estabelecido de forma interfederativa, mediante aprovação por lei estadual específica.

Observados os limites estabelecidos na mencionada norma, assinale a opção que indica, corretamente, esse instrumento.

- (A) Direito de preempção regional.
- (B) Estudo de impacto de vizinhança.
- (C) Operação urbana consorciada.
- (D) Parcelamento e edificação compulsórios.
- (E) Desapropriação com pagamento em título da dívida pública.

**37**

O diretor executivo da sociedade empresária XYZ, após tomar conhecimento de que a União Federal realizará licitação para a celebração de contrato administrativo no contexto das parcerias público-privadas, determinou que a sua assessoria jurídica lhe apresentasse um parecer sobre o Fundo Garantidor de Parcerias Público-Privadas (FGP). Nesse sentido, o empresário foi informado, nos termos da lei, que fica a União, seus fundos especiais, suas autarquias, suas fundações públicas e suas empresas estatais dependentes autorizadas a participar, no limite global de R\$6.000.000.000,00 (seis bilhões de reais), em Fundo Garantidor de Parcerias Público-Privadas (FGP), que terá por finalidade prestar garantia de pagamento de obrigações pecuniárias assumidas pelos parceiros públicos federais, distritais, estaduais ou municipais em virtude das parcerias de que trata a Lei nº 11.079/2004.

Nesse cenário, considerando as disposições da Lei nº 11.079/2004, é correto afirmar que

- (A) a integralização das cotas do Fundo Garantidor de Parcerias Público-Privadas (FGP) poderá ser realizada em dinheiro, títulos da dívida pública, bens imóveis dominicais, bens móveis, inclusive ações de sociedade de economia mista federal excedentes ao necessário para manutenção de seu controle pela União, ou outros direitos com valor patrimonial.
- (B) os bens e direitos transferidos ao Fundo Garantidor de Parcerias Público-Privadas (FGP) serão avaliados pelo Tribunal de Contas da União, que deverá apresentar laudo fundamentado, com indicação dos critérios de avaliação adotados e instruído com os documentos relativos aos bens avaliados.
- (C) o Fundo Garantidor de Parcerias Público-Privadas (FGP) responderá por suas obrigações com os bens e direitos integrantes de seu patrimônio, cabendo, aos cotistas, responsabilidade subsidiária pelas referidas obrigações.
- (D) a integralização do Fundo Garantidor de Parcerias Público-Privadas (FGP) com bens será feita mediante licitação e autorização específica do Presidente da República, por proposta do Ministro da Fazenda.
- (E) o Fundo Garantidor de Parcerias Público-Privadas (FGP) terá natureza pública e patrimônio próprio separado do patrimônio dos cotistas, e será sujeito a direitos e obrigações próprios.

**38**

Certo Município, que possui em sua estrutura órgão ambiental capacitado, integrante do SISNAMA, solicitou de órgão competente do respectivo Estado apoio técnico, administrativo e financeiro, a fim de realizar a fiscalização das atividades que estão no âmbito de suas atribuições, na medida em que não está logrando a desejada eficiência no seu exercício, o que pode comprometer a qualidade da proteção ao meio ambiente na localidade.

Nos termos da Lei Complementar nº 140/2011, assinale a opção que indica a denominação da atuação a ser realizada pelo Estado em comento.

- (A) Remanescente.
- (B) Supletiva.
- (C) Autônoma.
- (D) Concorrente.
- (E) Subsidiária.



39

No âmbito da Lei nº 11.445/2007, com a redação conferida pela Lei nº 14.026/2020, a prestação regionalizada é a modalidade de prestação integrada de um ou mais componentes dos serviços públicos de saneamento básico em determinada região cujo território abranja mais de um Município.

Nesse cenário, de acordo com o mencionado Diploma Legal é correto afirmar que a prestação regionalizada, pode ser estruturada em

- (A) *região metropolitana*, exclusivamente, que deve ser instituída pelo Estado mediante lei complementar, composta de agrupamento de municípios limítrofes, a fim de abarcar todos os componentes do serviço público em questão, podendo a prestação de apenas um deles ser estruturada de outras formas.
- (B) *bloco de referência*, a ser estabelecido pelo Estado por meio de lei complementar, relativo ao agrupamento de municípios não necessariamente limítrofes, formalmente criado por meio de gestão associada voluntária dos titulares dos serviços públicos em questão.
- (C) *aglomeração urbana* ou *microrregião*, a ser instituída pelo Estado mediante lei ordinária, sendo a primeira relativa a municípios limítrofes, enquanto a segunda aos não limítrofes, para fins de viabilizar a operacionalização dos serviços públicos em questão.
- (D) *unidade regional de saneamento básico*, a ser instituída pelo Estado mediante lei ordinária, constituída pelo agrupamento de Municípios não necessariamente limítrofes, para atender adequadamente às exigências de higiene e saúde pública, ou para dar viabilidade econômica e técnica aos municípios menos favorecidos.
- (E) *região metropolitana*, *aglomeração urbana* ou *microrregião*, a ser instituída pelo Estado mediante lei ordinária, com a finalidade de integrar municípios não necessariamente limítrofes, a fim de conferir viabilidade econômica e técnica para aqueles menos favorecidos com relação à prestação dos serviços públicos em questão.

40

Sociedade *Difusora* almeja realizar determinada atividade potencialmente lesiva ao meio ambiente e apurou que o respectivo licenciamento deve ser obtido junto ao Estado *Alfa*, que, por sua vez, editou a Lei XYZ acerca do tema, a qual determina que o empreendimento em questão é passível de obter licenciamento único, de forma simplificada, nos termos em que nela estabelecido, regulamentando a matéria de forma diversa da Resolução do CONAMA.

Diante dessa situação hipotética, à luz do entendimento do Supremo Tribunal Federal, é correto afirmar que a norma estadual é

- (A) constitucional, pois a atividade está submetida ao licenciamento do Estado, que tem competência plena para legislar sobre os assuntos que estão no âmbito de suas atribuições.
- (B) inconstitucional, pois o Estado não pode criar modalidade de licenciamento distinta e mais simplificada do que aquelas que estão previstas no ordenamento.
- (C) constitucional, pois há hierarquia entre normas, de modo que a lei, ainda que local, deve prevalecer sobre Resolução editada pelo CONAMA.
- (D) inconstitucional, pois o Estado não tem competência legislativa sobre qualquer aspecto atinente à proteção do meio ambiente, ainda que de forma suplementar.
- (E) constitucional, pois as normas editadas pelo CONAMA têm a sua aplicabilidade restrita ao âmbito federal.

41

Maria, no exercício de suas atribuições como servidora pública estadual, diante dos questionamentos e da análise de situações em concreto, entendeu ser necessário compreender a orientação do Supremo Tribunal Federal quanto aos efeitos do tempo em relação às demandas que envolvem reparação civil em decorrência de poluição.

Sobre as pretensões atinentes ao dano ambiental em tal seara, assinale a opção que apresenta, corretamente, a conclusão a que ela chegou.

- (A) Prescrevem em três anos, a contar da cessação do ilícito, envolvendo ou não ressarcimento ao erário.
- (B) Prescrevem em dez anos, a contar da prática do ilícito, salvo quando envolvem ressarcimento ao erário, situação em que são imprescritíveis.
- (C) Prescrevem em cinco anos, a contar da prática do ilícito, envolvendo ou não o ressarcimento ao erário, diante da natureza civil das infrações relacionadas aos danos ao meio ambiente.
- (D) São imprescritíveis nas hipóteses que envolvem ressarcimento ao erário, devendo ser aplicada a prescrição atinente ao respectivo ilícito civil nas demais hipóteses, cujo prazo depende da natureza e gravidade da infração.
- (E) São imprescritíveis, independentemente de envolver o ressarcimento ao erário, por se tratar de direito fundamental indisponível, sendo imperativo o reconhecimento de que não há prazo para a recomposição de tais danos.

42

Uma lei estadual do Tocantins, datada de 1986, prevê a concessão de pensão vitalícia à viúva de ex-Governadores do Estado. O Supremo Tribunal Federal (STF) foi provocado a decidir, em controle concentrado de constitucionalidade.

A respeito dessa situação e com base no pensamento da Suprema Corte, analise as afirmativas a seguir e assinale (V) para a verdadeira e (F) para a falsa.

- ( ) A referida provocação deve acontecer via Ação Direta de Inconstitucionalidade, visto que o assunto se pauta na aferição da compatibilidade da norma com a Constituição.
- ( ) Por se tratar de verba de caráter alimentício, é possível não se exigir a devolução dos valores pagos, modulando-se os efeitos de eventual decisão que reconheça a incompatibilidade da pensão com a Constituição da República de 1988.
- ( ) A concessão da aludida pensão contraria a Constituição da República de 1988, porquanto, dentre outros argumentos, afronta o princípio republicano, a impessoalidade e a moralidade administrativa.

As afirmativas são, respectivamente,

- (A) F – F – F.
- (B) F – F – V.
- (C) V – V – F.
- (D) F – V – V.
- (E) V – V – V.

**43**

Um dispositivo da Constituição estadual do Tocantins possibilita a reeleição consecutiva e em número ilimitado dos membros da Mesa Diretora da Assembleia Legislativa para os mesmos cargos que ocupam.

Com relação a essa situação, analise os itens a seguir.

- I. No modelo federal, a Constituição de 1988 previu eleição das respectivas Mesas, para mandato de dois anos, mas vedou a recondução para o mesmo cargo na eleição imediatamente subsequente.
- II. O Supremo Tribunal Federal já decidiu ser possível a recondução no mesmo cargo, do membro da Mesa Diretora da Assembleia Legislativa.
- III. É constitucionalmente legítima, em nível regional, a não fixação de limites para o número de reconduções dos membros da Mesa Diretora da Assembleia Legislativa para os mesmos cargos que ocupam.

Está correto o que se afirma em

- (A) I, apenas.
- (B) I e II, apenas.
- (C) I e III, apenas.
- (D) II e III, apenas.
- (E) I, II e III.

**44**

Determinada lei do Estado do Tocantins incluiu o pagamento de pessoal inativo nas despesas consideradas como de manutenção e desenvolvimento do ensino.

Sobre a situação jurídico-constitucional subjacente, analise as afirmativas a seguir e assinale (V) para a verdadeira e (F) para a falsa.

- ( ) Compete ao legislador estadual legislar sobre matéria de educação. No entanto, é preciso observar que diretrizes e bases da educação nacional são matéria de competência legislativa privativa da União.
- ( ) Servidor inativo não deve ser inserido no conceito de manutenção e desenvolvimento do ensino, não podendo as receitas oriundas de transferências, destinadas à educação, servir para o pagamento de aposentadoria.
- ( ) A receita proveniente de imposto não pode servir para pagar despesa que deveria ser arcada com receitas provenientes do regime previdenciário.

As afirmativas são, respectivamente,

- (A) V – V – V.
- (B) V – F – V.
- (C) V – V – F.
- (D) F – F – F.
- (E) F – V – F.

**45**

A fim de exercer seu direito de reunião, de modo pacífico e sem armas, em local público, uma organização não promoveu o prévio aviso à autoridade competente.

Em relação ao aludido direito fundamental, analise as afirmativas a seguir.

- I. O aviso prévio serve para viabilizar ao poder público que zele para que o exercício do direito se dê de forma pacífica e que não frustrate outra reunião no mesmo local.
- II. É necessário o mencionado prévio aviso, para se obter a autorização da autoridade competente, sem a qual o exercício do direito é ilícito.
- III. O Supremo Tribunal Federal entende que a falta de notificação, para concretizar o aviso prévio, por si só, não torna a reunião ilícita.

Está correto o que se afirma em

- (A) I, apenas.
- (B) I e II, apenas.
- (C) I e III, apenas.
- (D) II e III, apenas.
- (E) I, II e III.

**46**

Após a promulgação e publicação de determinada lei, foram republicados no Diário Oficial novos vetos à proposta legislativa. A respeito do processo legislativo de leis ordinárias, analise as afirmativas a seguir e assinale (V) para a verdadeira e (F) para a falsa.

- ( ) A republicação em Diário Oficial é forma legítima de alterar sanção anterior, já que é dado ao chefe do Poder Executivo promover a sanção ou o veto a um projeto de lei.
- ( ) Com a aquiescência do Poder Executivo ao projeto de lei, pela respectiva sanção, ocorre a preclusão entre as etapas do processo legislativo, sendo incabível eventual retratação.
- ( ) O exercício da prerrogativa do veto parcial, faz com que a parte não vetada seja promulgada, transformando-se o projeto de lei em lei. Por outro lado, a parte vetada vai para o Congresso Nacional, que deverá deliberar, em sessão conjunta, sobre a manutenção ou derrubada do veto.

As afirmativas são, respectivamente,

- (A) F – V – F.
- (B) V – F – V.
- (C) V – V – F.
- (D) F – V – V.
- (E) V – F – F.

47

Um juiz, em processo contra a Fazenda Pública estadual, proferiu decisão judicial e determinou a constrição de verbas públicas oriundas de Fundo Estadual de Saúde para atendimento de outras finalidades específicas.

Com relação ao tema, analise as afirmativas a seguir.

- I. A decisão judicial viola a separação de poderes, não podendo o Poder Judiciário, no caso específico, assim decidir porquanto nem mesmo o Executivo pode fazer tal remanejamento de verba; e atenta contra a eficiência da administração pública e a continuidade do serviço público.
- II. É legítima a decisão, mesmo que se considere que a aplicação da verba é compulsória à área da saúde, porquanto deve prevalecer a independência do Poder Judiciário e desde que o magistrado promova a ponderação de interesses e aplique os subprincípios da proporcionalidade – adequação, necessidade e proporcionalidade em sentido estrito.
- III. A solução encontrada esbarra na falta de capacidade institucional do Judiciário para avaliar os impactos de sua decisão sobre a atividade administrativa e a programação financeira do ente e não respeita a excepcional admissão de constrição prevista no sistema de precatórios.

Está correto o que se afirma em

- (A) I, apenas.
- (B) I e II, apenas.
- (C) I e III, apenas.
- (D) II e III, apenas.
- (E) I, II e III.

48

Um requerimento de abertura de uma Comissão Parlamentar de Inquérito foi protocolizado e conta com assinatura de metade dos parlamentares da Casa. O presidente da Mesa Diretora, contrário à abertura, afirmou que a instauração da Comissão é ato discricionário seu.

Sobre o instituto da Comissão Parlamentar de Inquérito, analise as afirmativas a seguir e assinale (V) para a verdadeira e (F) para a falsa.

- ( ) A Comissão Parlamentar de Inquérito e seu manejo são considerados prerrogativa político-jurídica das minorias parlamentares.
- ( ) Não é possível lei ordinária criar prioridade no tramite de procedimentos e processos derivados de relatórios de Comissão Parlamentar de Inquérito, porque seria uma ingerência na atividade do Ministério Público e do Poder Judiciário.
- ( ) Não é constitucionalmente legítima a convocação, por parte de Comissão Parlamentar de Inquérito em âmbito federal, de Governador de Estado.

As afirmativas são, respectivamente,

- (A) V – V – V.
- (B) V – F – V.
- (C) V – V – F.
- (D) F – F – F.
- (E) F – V – F.

49

A Constituição do Estado do Tocantins foi emendada para permitir, no processo legislativo de modificação dela, quórum de aprovação de dois terços dos votos dos respectivos membros. Depois disso, no texto constitucional estadual, foi incluída a concessão de porte de arma de fogo para o Procurador do Estado.

Por conta do trâmite do processo objetivo inaugurado no Supremo Tribunal Federal, foi ouvida a Casa Legislativa de origem que, acertadamente, explicou que

- (A) o assunto versa sobre segurança pública, matéria de competência legislativa concorrente a todos os entes políticos, o que significa a constitucionalidade formal da concessão de porte de arma de fogo para Procurador do Estado.
- (B) a modificação da Constituição estadual obedece a critérios próprios específicos de cada ente político, em homenagem a autoadministração e auto-organização e normatização própria, fruto da forma de estado adotada pela Constituição da República de 1988.
- (C) a concessão de porte de arma de fogo para Procurador do Estado não importa em tratamento anti-isonômico, se comparado com outras carreiras do sistema de justiça, já que o fator de diferenciação guarda justificção, posto a atividade ter vinculação com matéria penal.
- (D) é de competência legislativa privativa dos Estados a edição de normas gerais sobre material bélico e de competência administrativa exclusiva desse ente político a autorização e fiscalização do comércio de material bélico.
- (E) as regras e parâmetros do processo legislativo federal são de reprodução obrigatória nas Constituições estaduais, sendo inconstitucional a previsão de quórum diverso de três quintos dos membros do Poder Legislativo para aprovação de emenda constitucional.

50

Na Assembleia Legislativa, tramita uma proposta de emenda à Constituição do Estado do Tocantins para passar a contemplar que o Estado não intervirá no Município, salvo quando for verificada, sem justo motivo, impontualidade no pagamento de empréstimo garantido pelo Estado e quando forem praticados, na administração municipal, atos de corrupção devidamente comprovados. O assunto foi submetido ao Procurador Legislativo da Assembleia para análise.

Assinale a opção que apresenta, corretamente, sua manifestação.

- (A) A aludida proposta para ter hígidez constitucional precisa ter sido iniciada privativamente pelo Governador do Estado.
- (B) A referida proposta não tem amparo constitucional, pois intervenção é medida excepcional à lógica da autonomia dos entes políticos e assim as hipóteses, que a Carta de 1988 permite de intervenção estadual em Município, constituem rol taxativo.
- (C) A proposta, no tocante à impontualidade de pagamento por parte de município, não deve prosseguir, porquanto as dívidas entre entes políticos devem ser solucionadas judicialmente, em especial utilizando-se do sistema de precatórios.
- (D) A proposta, em relação ao combate à corrupção, tem respaldo na Constituição da República de 1988, porque ela resguarda a eficiência na administração da coisa pública.
- (E) A proposta de emenda, especificamente para a hipótese de corrupção, deveria contemplar a União Federal também como ente apto a intervir, já que de interesse da federação, como um todo, o combate à corrupção.

51

O Chefe do Poder Executivo do Estado do Tocantins editou medida provisória, tratando da fixação do subsídio mensal dos membros da carreira de Procurador do Estado, louvando-se no dispositivo positivado na Constituição da República de 1988.

Quando do seu trâmite na Assembleia Legislativa do Tocantins, houve emenda parlamentar em projeto de conversão de medida provisória que ensejou elevação de despesa por parte do Poder Executivo, porquanto foram criadas gratificações a servidores da Procuradoria-Geral do Estado.

Passados 150 dias de sua publicação, o Parlamento estadual ainda não havia encerrado sua análise, porque permaneceu trabalhando nos demais projetos usuais antes existentes.

À luz da jurisprudência do Supremo Tribunal Federal, assinale a opção que apresenta a solução correta para o caso descrito.

- (A) Por inexistir a espécie normativa no ordenamento jurídico estadual, não tem o respectivo Chefe do Poder Executivo possibilidade de editar medida provisória.
- (B) Pode haver emenda parlamentar que traga aumento de despesa, desde que, como no caso, haja pertinência temática entre a norma original e a emenda.
- (C) Em âmbito estadual, é possível que medida provisória tenha eficácia por oitenta dias, prorrogável uma vez, por igual período.
- (D) É facultado à Constituição Estadual estabelecer o ingresso em regime de urgência para análise da medida provisória, após superados quarenta e cinco dias de sua publicação.
- (E) Porquanto inaplicável o princípio da simetria, o regime de urgência eventualmente previsto para análise de medida provisória não enseja o sobrestamento das demais deliberações legislativas da casa.

52

A Defensoria Pública do Estado do Tocantins, após ser procurada por diversas pessoas, instaurou procedimento próprio para perquirir eventual violação ao direito fundamental de reunião de seus assistidos, concernente a estar presente nas galerias do Parlamento estadual, a fim de presenciarem o debate no plenário a respeito de determinado hospital público regional. Para aprofundar sua análise, fez requisições à Assembleia Legislativa do Estado. Endereçado o ofício requisitório, o tema foi ao Procurador da Casa Legislativa.

Assinale a opção que apresenta a orientação para o caso descrito.

- (A) A requisição deveria ser negada, pois apenas o Ministério Público possui poder de requisitar informações.
- (B) A resposta institucional deveria ser pelo indeferimento, porque a Defensoria Pública estadual não possui autonomia funcional a permitir comando mandatório dirigido à Assembleia Legislativa.
- (C) A Defensoria Pública pode expedir requisição ao particular, mas não a órgãos e agentes públicos, sendo, portanto, o caso de não prestação de informação.
- (D) A Defensoria Pública pode emitir requisições a órgãos e agentes públicos da estrutura do Poder Executivo, já que insere no mesmo, mas não a órgãos e agentes públicos situados no Poder Legislativo ou no Poder Judiciário, sob pena de violação à separação de poderes.
- (E) A requisição deve ser atendida, porquanto aplicável a teoria dos poderes implícitos e a Defensoria Pública é instituição autônoma e instrumentaliza a tutela dos direitos fundamentais, como acesso à Justiça.

53

Após a promulgação da Constituição de 1988, o Estado do Tocantins criou, por meio de lei, o órgão de Assessoria Jurídica Estadual, pela qual cargos de Assessor Jurídico exercem a função de consultoria jurídica da Administração Pública Indireta, em matéria de saúde e esporte. A par disso, existe também a Procuradoria-Geral do Estado.

A norma foi impugnada em controle concentrado junto ao Supremo Tribunal Federal e a Assembleia Legislativa, instada a se manifestar, corretamente expôs que

- (A) a autonomia administrativa das autarquias e fundações públicas deve prevalecer, porque o interesse público dessas entidades, como pessoas jurídicas de direito público responsáveis pela prestação de serviços típicos de Estado, confunde-se com o próprio interesse institucional do ente político do qual fazem parte.
- (B) a norma é constitucional na medida em que a Constituição de 1988 não previu privatividade das atividades de representação jurídica e de consultoria jurídica do ente político apenas à Procuradoria-Geral do Estado.
- (C) a unicidade orgânica da advocacia pública estadual não permite, como regra, a criação, para além da Procuradoria-Geral do Estado, de órgão com a função de consultoria jurídica da Administração Pública.
- (D) a Constituição de 1988 permite ao Estado manter consultoria jurídica separada de sua Procuradoria-Geral, desde que, na data da promulgação da Constituição, existam órgãos distintos para as respectivas funções, podendo isso ser ampliado em respeito a auto-organização e normatização própria do ente político.
- (E) as autarquias e as fundações públicas são dotadas de personalidade jurídica própria e seus atos não se confundem com os da Administração Direta, não podendo jamais ser defendidas pela Procuradoria-Geral, a significar a legitimidade da criação da Assessoria Jurídica Estadual.

54

De acordo com o processo de incorporação dos tratados de Direitos Humanos no nosso ordenamento jurídico interno, analise as afirmativas a seguir.

- I. As Constituições brasileiras já existentes, incluindo a Constituição de 1988, adotaram a autorização prévia do Poder Legislativo como pressuposto constitucional do processo de incorporação do tratado de direitos humanos na ordem jurídica interna, salvo a primeira Constituição de 1824.
- II. De acordo com a Constituição de 1988, compete exclusivamente ao Congresso Nacional resolver definitivamente sobre tratados, acordos ou atos internacionais que acarretem encargos ou compromissos gravosos ao patrimônio nacional.
- III. O processo de incorporação de um tratado envolve quatro fases: assinatura, aprovação legislativa, ratificação e decreto de promulgação. Nesse sentido, de acordo com a Convenção de Viena sobre o Direito dos Tratados, quando da assinatura do tratado, o Estado já estaria obrigado a abster-se da prática de atos que frustrariam o objeto e a finalidade desse tratado.

Está correto o que se afirma em

- (A) I, apenas.
- (B) I e II, apenas.
- (C) I e III, apenas.
- (D) II e III, apenas.
- (E) I, II e III.

55

De acordo com a jurisprudência da Corte Interamericana de Direitos Humanos (Corte IDH), analise as afirmativas a seguir.

- I. A Corte IDH, no caso *Tzompaxtle Tecpile vs. México*, decidiu que qualquer figura de natureza pré-processual que busque restringir a liberdade de uma pessoa para conduzir uma investigação sobre delito que supostamente cometeu resulta intrinsecamente contrária ao conteúdo da Convenção Americana de Direitos Humanos (CADH) e viola de forma manifesta seus direitos à liberdade pessoal e à presunção de inocência.
- II. A Corte IDH, no caso *Luiza Melinho vs. Brasil*, concluiu que o Estado brasileiro não garantiu acesso à saúde da vítima em igualdade de condições, o que foi demonstrado por meio dos obstáculos para acessar a cirurgia de transgenitalização solicitada.
- III. No caso *Manuela e outros vs. El Salvador* restou decidido pela Corte I.D.H. que, quando do atendimento de uma mulher que praticou o aborto, clandestino ou não, os profissionais da medicina e de enfermagem não podem denunciar essa prática às autoridades. Deve-se resguardar o sigilo médico.

Está correto o que se afirma em

- (A) I, apenas.
- (B) I e II, apenas.
- (C) I e III, apenas.
- (D) II e III, apenas.
- (E) I, II e III.

56

*A deficiência é considerada um conceito social (e não médico) em evolução, resultante da interação entre pessoas com deficiência e as barreiras geradas por atitudes e pelo ambiente que impedem a plena e efetiva participação dessas pessoas na sociedade em igualdade de oportunidades com as demais pessoas.*

RAMOS, André de Carvalho, *Curso de Direitos Humanos*. São Paulo: Saraiva Educação, 6ª ed. 2019, pág.839.

A luta pela implementação dos direitos das pessoas com deficiência culminou na edição do Estatuto da Pessoa com Deficiência (Lei nº 13.146/2015), entre outros diplomas legais, além de ensinar também constante evolução jurisprudencial dos Tribunais Superiores.

Nesse sentido, de acordo com a jurisprudência consolidada do STJ, analise as afirmativas a seguir.

- I. É possível a compensação por dano moral decorrente de falha na prestação de serviço de transporte coletivo público às pessoas com deficiência quando ofertado de forma negligente e/ou discriminatória, sem condições dignas de acessibilidade.
- II. Para fins de isenção tributária na aquisição de automóveis por pessoas com deficiência, o fato de o veículo ser conduzido por terceira pessoa constitui impedimento para o deferimento do benefício, posto que a isenção tributária é direito personalíssimo da pessoa com deficiência.
- III. O Caso *Damião Ximenes Lopes (2006)* foi a primeira condenação do Brasil na Corte IDH sobre violação de direitos humanos de pessoa com enfermidade mental. Restou decidido que a responsabilidade estatal também pode ocorrer por atos de particulares em princípio não atribuíveis ao Estado, tal como ocorre quando se prestam serviços em nome do Estado.

Está correto o que se afirma em

- (A) I, apenas.
- (B) III, apenas.
- (C) I e II, apenas.
- (D) I e III, apenas.
- (E) II e III, apenas.

## Direito Civil / Processual Civil

57

Em cumprimento de sentença contra a Fazenda Pública estadual movida por *Estela Estrela*, foi proferida decisão interlocutória que rejeitou a impugnação apresentada pela Fazenda Pública.

Assinale a opção que, corretamente, se aplica à hipótese.

- (A) Tem cabimento o recurso de agravo de instrumento pela Fazenda Pública, pois a lei prevê que as decisões interlocutórias são recorríveis em sede de cumprimento de sentença.
- (B) A Fazenda Pública pode interpor agravo de instrumento, com base no entendimento jurisprudencial da taxatividade mitigada.
- (C) Não cabe agravo de instrumento e a matéria será deduzida como preliminar de apelação.
- (D) Não cabe agravo de instrumento e a matéria não é passível de arguição.
- (E) Tem cabimento o recurso de agravo de instrumento pela Fazenda Pública, pois a hipótese está expressamente prevista no Código de Processo Civil.

58

*Clara da Gema* é ré em ação de cobrança proposta por *Pedro Sapateiro*. Ele propôs esta ação, exigindo seu crédito, muitos e muitos anos depois de sofrer a lesão pelo não pagamento, já tendo havido a passagem do prazo prescricional.

Assinale a opção que, corretamente, se aplica à hipótese.

- (A) O juiz não poderia reconhecer de ofício a prescrição, sendo necessário primeiro citar *Clara da Gema*, de acordo com as Normas Fundamentais do Processo Civil.
- (B) O juiz deve prosseguir com o processo para saber a verdade dos fatos, de acordo com as Normas Fundamentais do Processo Civil.
- (C) *Clara da Gema* não será citada, pois o juiz poderá julgar liminarmente improcedente o pedido por verificar a prescrição.
- (D) O juiz deve, no caso, estimular a autocomposição entre as partes *Clara da Gema* e *Pedro Sapateiro*, para a solução consensual do conflito.
- (E) *Clara da Gema* terá que cooperar com o propósito de *Pedro Sapateiro* de receber seu crédito, pois essa é a diretriz das Normas Fundamentais do Processo Civil do Código de Processo Civil.

59

*Lu Patinadora* propôs ação de responsabilidade civil contra o Estado do Tocantins e o cantor *João CantoBem*, alegando danos à sua imagem por brincadeiras de mau gosto que o cantor teria feito em um *show* comemorativo promovido pelo governo do Estado.

Assinale a opção que, corretamente, se aplica à hipótese apresentada.

- (A) O cantor *João CantoBem* e o Estado do Tocantins têm o prazo comum de 15 dias para contestarem, contados da citação por oficial de justiça do cantor, por se tratar de litisconsórcio.
- (B) O cantor *João CantoBem* tem o prazo de 15 dias para contestar e o Estado do Tocantins têm o prazo de 30 dias para contestar, ambos contados da citação por oficial de Justiça do cantor, por se tratar de litisconsórcio.
- (C) O cantor *João CantoBem* e o Estado do Tocantins têm o prazo comum de 30 dias para contestarem, contados da carga do processo pelo procurador do Estado, por se tratar de litisconsórcio.
- (D) O cantor *João CantoBem* tem o prazo de 15 dias, contados da juntada do mandado, para contestar e o Estado do Tocantins têm o prazo de 30 dias, contados da carga do processo pelo procurador do Estado, para contestar.
- (E) O cantor *João CantoBem* tem o prazo de 30 dias para contestar, contados da juntada do mandado, e o Estado do Tocantins têm o prazo de 30 dias para contestar, contados da carga do processo pelo procurador do Estado, por ser caso de litisconsórcio.

60

Vencedora em ação judicial de cobrança, *Fatima Faisão* iniciou cumprimento de sentença contra a Fazenda Pública estadual.

Em sede de impugnação, a Fazenda Pública estadual poderá alegar

- (A) falta ou nulidade da citação na fase de conhecimento, pois esta é essencial para a validade de qualquer processo.
- (B) qualquer causa modificativa ou extintiva da obrigação, como pagamento, novação, compensação, transação ou prescrição, ocorridas a qualquer tempo, pois afastam a existência da obrigação.
- (C) toda e qualquer matéria defensiva, com fundamento na garantia da ampla defesa constitucional.
- (D) o excesso de execução, não tendo o ônus de indicar o excesso, já que esse ônus cabe a quem alega o direito, ou seja, a *Fatima Faisão*.
- (E) a inexigibilidade da obrigação reconhecida em título executivo judicial fundado em lei considerada inconstitucional pelo Supremo Tribunal Federal.

61

Ana decidiu comprar o imóvel oferecido por Matheus, seu colega de trabalho. Contudo, afirma que não tem o dinheiro para o pagamento à vista, oferecendo o pagamento de um valor de entrada correspondente a 60% do preço, com o restante dividido em 24 (vinte e quatro) prestações mensais, sem interveniência de terceiro agente financiador.

Matheus aceita a contraproposta de Ana, mas decide que, enquanto o preço não estiver integralmente pago, a propriedade deve permanecer consigo, ainda que a posse do imóvel seja transferida à Ana desde o início, exigindo-se novo acordo de vontades após a quitação, para a transferência definitiva do bem. Por outro lado, Ana pretende firmar um acordo que garanta, após a quitação do preço, o direito de obter a propriedade de forma compulsória, isto é, ainda que encontre resistência da parte vendedora, desejando, também, obter direito real de aquisição, pelo registro do contrato. Ambas as partes pretendem que o negócio seja irretratável.

Diante desse caso, assinale a opção que indica o contrato que as partes devem firmar para atender ao concreto regulamento de interesses.

- (A) Contrato de compra e venda com reserva de domínio.
- (B) Promessa de compra e venda.
- (C) Contrato de arrendamento com opção de compra.
- (D) Alienação fiduciária em garantia.
- (E) Compromisso de compra e venda com cláusula de hipoteca.

62

Paulo Souza é casado com Marta Tereza. O casal sempre manteve uma boa relação e a única divergência constante era em relação à José, amigo de infância de Paulo. Marta nunca gostou de José, especialmente porque ele nunca se manteve em emprego fixo, sempre pedindo ajuda financeira. A última discussão do casal foi porque Paulo resolveu emprestar um imóvel adquirido na constância do matrimônio para José residir, visto que ele, novamente, encontrava-se desempregado.

Após muita discussão, considerando que, apesar de tudo, José é o melhor amigo de Paulo, Marta Tereza concordou com o empréstimo por dois anos, para fins de residência exclusiva de Paulo, constando do contrato que José deveria arcar com as despesas de condomínio, além da manutenção do imóvel e do uso exclusivo para fins de residência de José.

Nesses termos, celebraram o contrato. Após nove meses da celebração do acordo, José vem a óbito e Suzy se apresenta ao casal como companheira de José, informando que residia no imóvel há cerca de três meses e que lá permaneceria até o final do prazo de dois anos.

Diante da situação hipotética narrada, assinale a afirmativa correta.

- (A) O contrato de comodato *intutu personae*, favorece a família do comodatário, razão pela qual Suzy tem o direito de permanecer no imóvel.
- (B) O contrato celebrado entre as partes foi de locação, razão pela qual opera-se, em favor de Suzy, a cessão da posição contratual.
- (C) Como o contrato de comodato foi celebrado *intutu personae*, Paulo Souza e Marta Tereza, com a morte de José, podem exigir a restituição do imóvel, o que leva à extinção do contrato.
- (D) A obrigatoriedade imposta de pagar as despesas de condomínio transforma o contrato em modal, retirando o caráter da gratuidade, podendo Suzy permanecer desde que cumpra o ônus originalmente imposto.
- (E) Suzy, na qualidade de comodatária, poderá recobrar de Paulo Souza e Marta Tereza as despesas feitas com o uso do imóvel desde a morte de José.

63

Pedro Henrique ajuizou ação de cumprimento de cláusula contratual cumulada com perdas e danos em face de *ABC Construtora*. Consta da inicial, que as partes celebraram contrato de compra e venda de imóvel com previsão de entrega em até 18 meses após a assinatura, sob pena de multa mensal de 0,5% do valor do contrato, afastada a indenização suplementar, conforme cláusula contratual expressa. Pedro Henrique afirma que o imóvel foi entregue com atraso de 11 meses, razão pela qual, requer a execução da cláusula contratual. Alega também que, em virtude da mora da ré, experimentou danos materiais correspondentes aos valores gastos com a locação de outro imóvel durante o período de atraso, bem como danos morais pela frustração vivenciada.

Diante da situação hipotética, da legislação vigente e do entendimento do Superior Tribunal de Justiça (STJ), assinale a afirmativa correta.

- (A) Conforme o entendimento do STJ, é possível a cumulação da cláusula penal moratória, tal qual a estabelecida no contrato, com a indenização por lucros cessantes, pois possuem naturezas distintas.
- (B) Nos termos da legislação vigente, a cláusula penal estabelecida no contrato converte-se em benefício do credor, sendo sempre cumulável com a indenização por lucros cessantes.
- (C) Conforme o entendimento do STJ, é possível cumular a cláusula penal com a indenização por lucros cessantes mesmo quando a multa apresenta equivalência com os locativos desde que não exceda o valor da obrigação principal.
- (D) Conforme o entendimento do STJ, a cláusula penal moratória tem a finalidade de indenizar pelo inadimplemento relativo, e, em regra, estabelecida em valor equivalente ao locativo, afasta a cumulação com lucros cessantes.
- (E) Conforme a legislação vigente, a previsão expressa de cláusula penal compensatória representa renúncia a discussão posterior de lucros cessantes.

64

O *Hospital Sua Saúde* move ação de cobrança de despesas hospitalares de Roseli Silva, requerendo o pagamento de todas as despesas referentes à internação e tratamento de Augusto César, já falecido.

Em sua defesa, Roseli Silva alega que, na qualidade de empregada/cuidadora do falecido Augusto César, o acompanhou em sua internação no *Hospital Sua Saúde*, pois Augusto César passou mal durante a madrugada e nenhum dos filhos conseguiria chegar em tempo hábil para acompanhar o pai ao hospital. Afirma que assinou a documentação exigida e disponibilizada pelo Hospital, na qualidade de acompanhante, sem ter conhecimento de que estaria assumindo obrigações por despesas médico-hospitalares de seu empregador. Ao contrário, afirma que foi informada que a assinatura dos documentos era apenas para viabilizar a internação.

Diante da situação hipotética narrada, assinale a opção que indica, corretamente, o negócio jurídico celebrado entre Roseli Silva e o *Hospital Sua Saúde*.

- (A) É válido, pois a responsabilização pelo pagamento das despesas consta do contrato assinado.
- (B) É anulável por erro essencial quanto à natureza do negócio e ao objeto principal da declaração.
- (C) É anulável por estado de perigo, no prazo decadencial de quatro anos.
- (D) É anulável por dolo, no prazo decadencial de dois anos.
- (E) É nulo, pois configura coação moral absoluta.

65

O princípio da confiança conectado à cláusula geral da boa-fé objetiva serve de fundamento para justificar a modulação de certos efeitos negociais. Eis a razão pela qual o Superior Tribunal de Justiça já definiu que é possível a “*redução do conteúdo obrigacional pela inércia de uma das partes, ao longo da execução do contrato, em exercer determinado direito ou faculdade, criando para a outra a percepção válida e plausível – a ser apurada casuisticamente – de ter havido a renúncia àquela prerrogativa.*” (Recurso Especial nº 1.879.503).

Com base nesta corrente dogmática, segundo a jurisprudência do Superior Tribunal de Justiça, assinale a opção que, corretamente, deve ser qualificada como hipótese da *supressio* ou da *surrectio*.

- (A) Locadora que deixa de aplicar o reajuste no valor do aluguel, ao longo de cinco anos, perdendo o direito de cobrá-lo (*supressio*), tanto os retroativos, quanto os valores posteriores à notificação.
- (B) Obrigação alimentar extinta, mas que continua a ser paga por mera liberalidade do alimentante, ao longo de quinze anos, pode ser mantida com fundamento no instituto da *surrectio*.
- (C) Credor que, em dívida contratualmente portátil, aceita receber o primeiro pagamento no domicílio do devedor, perde o direito de receber em seu domicílio nos vencimentos subsequentes (*supressio*).
- (D) Investidor de fundo de investimento que permanece inerte por quarenta anos perde o direito de exigir a prestação de contas sobre o destino de suas aplicações, em razão da *supressio*.
- (E) Distribuidora que, por seis anos, não exige obrigação contratual, ao posto varejista, de aquisição de quantidade mínima mensal de combustível, perde o direito de cobrar a multa prevista (*supressio*).

66

Ângela Maria, viúva, mãe de Áurea e de Gabriel, contemplou a filha com um imóvel avaliado em dois milhões de reais em 2010, época da doação. Gabriel, em que pese o seu descontentamento, participou do ato como testemunha.

Em 2018, Ângela Maria vem a óbito. Em 2021, Gabriel promove ação anulatória da doação, afirmando em síntese, que desrespeitou a legítima. Anexa documentos comprobatórios do patrimônio deixado por Ângela, demonstrando que o montante, ao tempo da abertura da sucessão, equivalia a cerca de um milhão de reais.

Diante da situação hipotética, da legislação vigente e do entendimento do Superior Tribunal de Justiça, assinale a afirmativa correta.

- (A) Considera-se o momento da doação e não o da abertura da sucessão para a verificação de eventual excesso caracterizador da doação inoficiosa, a qual pode ser arguida no prazo decenal, contado da ciência inequívoca da liberalidade.
- (B) Considera-se o momento da abertura da sucessão para a verificação de eventual excesso caracterizador da doação inoficiosa, a qual pode ser arguida no prazo decenal, contado do registro do ato.
- (C) Considera-se o momento da doação e não o da abertura da sucessão para a verificação de eventual excesso caracterizador da doação inoficiosa, a qual pode ser arguida a qualquer momento.
- (D) Considera-se o momento da doação e não o da abertura da sucessão para a verificação de eventual excesso caracterizador da doação inoficiosa, a qual pode ser arguida no prazo decenal, contado da data do óbito do doador.
- (E) Considera-se o momento da abertura da sucessão e não o da doação para a verificação de eventual excesso caracterizador da doação inoficiosa, a qual pode ser arguida no prazo decenal, contado da data do óbito do doador.

## Direito Tributário / Direito Financeiro

67

As Leis nº 10.637/2002 e 10.833/2003 instituíram o regime de apuração não cumulativo da Contribuição para o PIS e para a COFINS, respectivamente.

Sobre o referido regime, assinale a afirmativa correta.

- (A) É aplicável às pessoas jurídicas optantes pelo regime de tributação denominado “Simples Nacional”.
- (B) O regime não cumulativo permite o desconto de créditos calculados em relação a determinados custos, despesas e encargos da sociedade empresária sobre o valor do PIS e da COFINS apurados.
- (C) Estabelece a incidência de alíquotas diferenciadas em razão da atividade prestada pela pessoa jurídica.
- (D) O regime não cumulativo contempla a possibilidade de se compensar o que for devido em cada operação com o montante cobrado nas operações anteriores.
- (E) É legítima a incidência da contribuição ao PIS e da COFINS não cumulativas sobre os valores recebidos por empresa exportadora em razão da transferência a terceiros de créditos de ICMS.



68

Determinado Decreto Estadual, com base na Lei Complementar nº 123/2006, instituiu diferencial de alíquota (DIFAL) do ICMS pelo Estado de destino na entrada de mercadoria em seu território devido por sociedade empresária aderente ao Simples Nacional, independentemente da posição desta na cadeia produtiva ou da possibilidade de compensação dos créditos.

Sobre a hipótese descrita, assinale a afirmativa correta.

- (A) O Decreto Estadual viola o princípio da legalidade, pois, a despeito de haver previsão da antecipação do DIFAL na Lei Complementar nº 123/2006, a norma complementar possui caráter geral e não dispensa a regulação por lei em sentido estrito pelo estado.
- (B) A imposição tributária imposta pelo Decreto Estadual é inconstitucional, pois não respeita o ideal regulatório do tratamento favorecido para as microempresas e empresas de pequeno porte a exigência do diferencial de alíquota.
- (C) A previsão do Decreto Estadual e da Lei Complementar nº 123/2006 viola o princípio da não-cumulatividade, pois a sistemática do Simples Nacional não permite o creditamento do ICMS.
- (D) A imposição tributária imposta pelo Decreto Estadual é constitucional, pois o diferencial de alíquota consiste apenas em uma modalidade de cálculo do ICMS, não se aplicando as limitações ao poder de tributar.
- (E) A previsão do Decreto Estadual está eivada de inconstitucionalidade formal, por ampliar a hipótese de cobrança do DIFAL prevista na Lei Complementar nº 123/2006.

69

*João é contribuinte do imposto sobre a renda. No entanto, no prazo legal, não declarou e nem antecipou o pagamento do tributo.*

Sobre o fato narrado, assinale a afirmativa correta.

- (A) Tratando-se de tributo sujeito ao lançamento por homologação, o prazo decadencial de cinco anos para a Fazenda Nacional constituir o crédito é contado da ocorrência do fato gerador.
- (B) Tratando-se de tributo sujeito ao lançamento por declaração, a Fazenda Nacional, o prazo decadencial de cinco anos para a Fazenda Nacional constituir o crédito é contado da ocorrência do fato gerador.
- (C) Tratando-se de tributo sujeito ao lançamento por ofício, o prazo decadencial de cinco anos para a Fazenda Nacional constituir o crédito é contado do primeiro dia do exercício seguinte àquele em que o lançamento poderia ter sido efetuado.
- (D) Tratando-se de tributo sujeito ao lançamento por homologação, o prazo decadencial de cinco anos para a Fazenda Nacional constituir o crédito é contado do primeiro dia do exercício seguinte àquele em que o lançamento poderia ter sido efetuado.
- (E) Tratando-se de tributo sujeito ao lançamento por declaração, o prazo decadencial de cinco anos para a Fazenda Nacional constituir o crédito é contado da data em que a declaração deveria ter sido entregue.

70

Determinada lei estadual, com amparo em convênio do Conselho Nacional de Política Fazendária – CONFAZ, concedeu remissão de créditos de ICMS surgidos em decorrência do gozo de benefícios fiscais anteriormente declarados inconstitucionais pelo Supremo Tribunal Federal – STF.

Sobre a hipótese, assinale a afirmativa correta.

- (A) A lei estadual foi devidamente precedida de regular autorização concedida por meio de Convênio celebrado no âmbito do CONFAZ, sendo, portanto, constitucional.
- (B) Por ter o ICMS potencial lesivo ao pacto federativo, somente o legislador complementar poderia conceder ou revogar benefícios fiscais a ele relacionados, sendo inconstitucional a lei estadual.
- (C) A lei estadual, ao convalidar os efeitos pretéritos dos benefícios fiscais de ICMS declarados inconstitucionais, violou a jurisdição constitucional dos tribunais.
- (D) A competência estadual para a concessão de remissão de créditos de ICMS é plena, sendo dispensável a autorização via CONFAZ, na hipótese, pois apenas as isenções devem ser autorizadas pelos convênios.
- (E) A lei estadual é formalmente inconstitucional, pois não há autorização constitucional para que os Estados legislem, unilateralmente, sobre anistia, remissão, transação, moratória, parcelamento de débitos fiscais e ampliação do prazo de recolhimento do ICMS.

71

Caio e Tício eram sócios e gerentes da pessoa jurídica XYZ. Em 2017, XYZ deixou de recolher o Imposto sobre a Propriedade de Veículos Automotores – IPVA incidente sobre veículo automotor de sua propriedade.

Em 2018, a Fazenda Estadual ajuizou execução fiscal visando à cobrança dos créditos de IPVA. No mesmo ano, XYZ foi citada e apresentou exceção de pré-executividade que não foi acolhida.

Em 2020, Caio e Tício se retiraram da sociedade e Mévio e Maria passaram a ser sócios e gerentes de XYZ.

Em 2023, no curso da tramitação do feito, ao tentar penhorar bens de propriedade de XYZ, o Oficial de Justiça verificou, após diversas tentativas, que a sociedade empresária não estava mais funcionando no local indicado aos órgãos competentes como seu domicílio fiscal.

Em 2024, a Fazenda Estadual solicitou a inclusão de Caio, Tício, Mévio e Maria no polo passivo da execução fiscal.

Sobre a hipótese, assinale a afirmativa correta.

- (A) A citação positiva de XYZ provocou, por si só, o início do prazo prescricional para o redirecionamento da execução fiscal para os sócios-gerentes.
- (B) O redirecionamento da execução fiscal, fundado na dissolução irregular de XYZ, não pode ser autorizado contra Mévio e Maria, pois eles não exerciam poderes de gerência quando ocorrido o fato gerador do tributo não adimplido.
- (C) O termo inicial do prazo prescricional para a cobrança do crédito dos sócios-gerentes é a data da prática de ato inequívoco indicador do intuito de inviabilizar a satisfação do crédito tributário já em curso de cobrança executiva promovida contra XYZ, a ser demonstrado pelo fisco estadual.
- (D) Aplica-se, no caso, o prazo de redirecionamento da execução fiscal para os sócios-gerentes Caio e Tício, fixado em cinco anos, contados da dissolução irregular.
- (E) A decretação da prescrição para o redirecionamento dos sócios-gerentes, após o decurso do prazo, poderá ser feita de ofício, independentemente de a Fazenda Estadual ter promovido atos de impulsão processual.

72

Em relação aos *crimes contra a ordem tributária*, assinale a afirmativa correta.

- (A) Na caracterização dos crimes contra a ordem tributária, não é suficiente a demonstração do dolo genérico.
- (B) O crime de omissão de informação às autoridades fazendárias, com o intuito de reduzir tributo, pode ser tipificado previamente ao lançamento definitivo do tributo.
- (C) Não se admite a extinção da punibilidade do crime pela satisfação do tributo devido, ainda que o pagamento ocorra antes do recebimento da denúncia.
- (D) A data do termo inicial para contagem do prazo prescricional é a data do lançamento definitivo do crédito tributário, quando ocorre a consumação do delito.
- (E) Para a incidência do princípio da insignificância, nos crimes contra a ordem tributária, é preciso considerar o montante principal, além dos juros e multa, sendo relevante o fato da conduta criminosa ter sido praticada em continuidade delitiva.

73

Determinado Estado da Federação editou emenda à constituição estadual para, especificamente, alterar a tramitação e os prazos do projeto de lei do plano plurianual.

A redação do artigo alterado restou assim consolidada:

*Art. XXX – O plano plurianual, as diretrizes orçamentárias, os orçamentos anuais e os créditos adicionais constarão de projetos de lei encaminhados ao Poder Legislativo.*

*§1º. Os projetos de lei do plano plurianual, de diretrizes orçamentárias e dos orçamentos anuais serão enviados ao Poder Legislativo, pelo Governador do Estado, nos seguintes prazos:*

- I - o projeto de lei do plano plurianual até 1º de agosto do primeiro ano do mandato do Governador;*
- II - o projeto de lei de diretrizes orçamentárias, anualmente, até 15 de maio;*
- III - os projetos de lei dos orçamentos anuais até 15 de setembro de cada ano.*

*§2º. Os projetos de lei de que trata o parágrafo anterior deverão ser encaminhados, para sanção, nos seguintes prazos:*

- I - o projeto de lei do plano plurianual até 1º outubro do primeiro ano do mandato do Governador, e o projeto de lei de diretrizes orçamentárias até 15 de julho de cada ano;*
- II - os projetos de lei dos orçamentos anuais até 30 de novembro de cada ano.”*

Sobre a emenda constitucional descrita, assinale a afirmativa correta.

- (A) Ofende o Princípio da Simetria, pois deixou de adotar tramitação e prazos previstos em lei complementar federal.
- (B) Deixou de respeitar a cronologia que ordena que o calendário para tramitação legislativa do plano plurianual, da lei de diretrizes orçamentárias, e da lei orçamentária anual, seja feito exatamente nessa ordem.
- (C) Os estados-membros não possuem qualquer autonomia para formular as normas necessárias à elaboração e ao controle dos orçamentos públicos, devendo, enquanto não sobrevier lei complementar federal, replicar o modelo federal quanto aos prazos e tramitação.
- (D) A lei de responsabilidade fiscal prevê a ordem de tramitação e prazos do plano plurianual, o que não foi cumprido pela emenda analisada.
- (E) Cabe aos estados-membros, enquanto não sobrevier lei complementar federal, a escolha de tramitação para os seus respectivos projetos de lei orçamentária, desde que resguardada a mesma estrutura do plano federal.

74

De acordo com a CRFB/88, os pagamentos devidos pelas Fazendas Públicas, em virtude de sentença judiciária, devem ser feitos por meio de precatórios.

Sobre o tema, analise as afirmativas a seguir.

- I. As empresas públicas e as sociedades de economia mista, para se submeterem ao regime constitucional dos precatórios, devem preencher os seguintes requisitos cumulativos: (i) prestar, exclusivamente, serviços públicos de caráter essencial, (ii) em regime não concorrencial e (iii) não ter a finalidade primária de distribuir lucros.
- II - Os Estados-membros e o Distrito Federal têm autonomia para dispor sobre obrigações de pequeno valor, no que se refere à fixação do valor referencial.
- III - Nos casos em que há risco de dano grave e irreversível à saúde, como exceção à regra dos precatórios, pode ser autorizado o sequestro do montante necessário à satisfação imediata dos direitos fundamentais do credor.

Está correto o que se afirma em

- (A) I, apenas.
- (B) I e II, apenas.
- (C) I e III, apenas.
- (D) II e III, apenas.
- (E) I, II e III.

75

O Tribunal de Contas da União (TCU) e os dos estados-membros (TCEs) são órgãos de controle e exercem papel fundamental na fiscalização da gestão fiscal e da prestação de contas.

Com relação às atribuições dos Tribunais de Conta, analise as afirmativas a seguir e assinale (V) para a verdadeira e (F) para a falsa.

- ( ) Permite-se, excepcionalmente, que as contas dos municípios sejam julgadas sem parecer prévio do TCE competente, caso este não emita parecer até o último dia do exercício financeiro.
- ( ) Caso, no período de 12 meses, a relação entre despesas correntes e receitas correntes superar 95% (noventa e cinco por cento), no âmbito dos Estados, é facultado ao TCE, enquanto permanecer a situação, aplicar o mecanismo de ajuste fiscal de vedação da criação de cargo, emprego ou função que implique aumento de despesa.
- ( ) Compete aos Tribunais de Contas verificarem os cálculos dos limites da despesa total com pessoal dos Poderes Executivo, Legislativo e Judiciário.

As afirmativas são, respectivamente,

- (A) F – V – F.
- (B) F – V – V.
- (C) V – F – F.
- (D) V – V – F.
- (E) F – F – V.

76

O Art. 167 da Constituição da República de 1988 prevê as vedações constitucionais ao orçamento, em suas diversas fases, positivando, dentre os seus incisos, princípios orçamentários, além de outras matérias orçamentárias.

Sobre o tema, a Constituição da República de 1988 permite

- (A) o início de programas ou projetos não incluídos na lei orçamentária anual, quando decorrente de necessidade urgente da população, como, por exemplo, para a construção de creches e hospitais.
- (B) a realização de despesas ou a assunção de obrigações diretas que excedam os créditos orçamentários ou adicionais, se aprovados pelo Poder Legislativo por maioria absoluta.
- (C) ao legislador estadual prever que os depósitos judiciais à disposição do Poder Judiciário Estadual serão utilizados para aplicação nas áreas de saúde, educação, segurança pública, infraestrutura viária, mobilidade urbana e pagamento de requisições judiciais de pequeno valor.
- (D) ao legislador estadual criar programa de incentivo às atividades esportivas mediante concessão de benefício fiscal a pessoas jurídicas, contribuintes do IPVA, que patrocinem, façam doações e investimentos em favor de atletas ou pessoas jurídicas.
- (E) a transposição, o remanejamento ou a transferência de recursos de uma categoria de programação para outra ou de um órgão para outro, desde que aprovados pelo Poder Legislativo.

## Direito Penal / Direito Processual Penal

77

No tocante ao delito de lavagem de capitais, analise as afirmativas a seguir.

- I. Não há rol taxativo de crimes antecedentes para sua configuração.
- II. A jurisprudência admite a teoria da cegueira deliberada para caracterização da lavagem.
- III. Quando praticado na modalidade típica de ocultar, é classificado como crime permanente.

Está correto o que se afirma em

- (A) I, apenas.
- (B) I e II, apenas.
- (C) I e III, apenas.
- (D) II e III, apenas.
- (E) I, II e III.

78

Aquiles pretendia comercializar vegetação de eucaliptos do terreno de seu vizinho. Para tanto, compareceu ao órgão ambiental competente e preencheu um requerimento, fazendo inserir informações como se fosse o proprietário do imóvel.

O vizinho, real proprietário do imóvel, compareceu àquela repartição pública e apontou que a informação prestada por Aquiles era falsa, de modo que a autorização foi cancelada e Aquiles sequer efetuou o corte de vegetação.

Pelo exposto, é correto afirmar que Aquiles

- (A) deverá responder pelo crime de falsidade ideológica na forma tentada.
- (B) deverá responder pelo crime de falsidade ideológica na forma consumada.
- (C) não deverá responder pelo crime de falsidade ideológica, em razão do arrependimento eficaz.
- (D) não deverá responder pelo crime de falsidade ideológica, em razão da desistência voluntária.
- (E) deverá responder pelo crime de falsidade ideológica com diminuição de pena, em razão do arrependimento posterior.

## Direito Processual Penal

79

Condenado pela prática dos crimes de lavagem de dinheiro (Lei nº 9.613/98) e corrupção passiva (Art. 317 do Código Penal), Felipo cumpre pena de 8 (oito) anos em uma unidade prisional do Tocantins. A defesa de Felipo, entendendo que o sentenciado cumpriu os requisitos necessários para a concessão da progressão de regime, postula o benefício legal ao Juízo das Execuções Penais. O pleito defensivo é indeferido pelo juiz. Inconformada, a defesa pretende interpor recurso perante o Tribunal.

Com base no caso descrito, assinale a opção que indica o recurso a ser interposto da decisão que indeferiu o pedido de progressão de regime.

- (A) Carta testemunhável.
- (B) Apelação.
- (C) Embargos infringentes.
- (D) Embargos à Execução.
- (E) Agravo em Execução.

80

[...] O princípio acusatório, avaliado estaticamente, consiste na distribuição do direito de ação, do direito de defesa e do poder jurisdicional, entre autor, réu (e seu defensor) e juiz. Tal consideração conduz ao esclarecimento, pelo menos sucinto, do que se considera direito de ação penal condenatória. [...]

PRADO, Geraldo. Sistema Acusatório. A conformidade Constitucional das Leis penais. RJ: Lumen Juris, 2001, 2ª. edição, p. 133.

Com relação à ação penal, analise os itens a seguir.

- I. Para o exercício da ação penal de iniciativa privada, deverá constar no instrumento do mandato a menção do fato criminoso, sem a qual poderá levar a rejeição da queixa-crime.
- II. É cabível ação penal de iniciativa privada subsidiária da pública quando o Ministério Público, dentro do prazo legal de 10 dias, se manifesta pelo arquivamento do inquérito policial.
- III. No âmbito penal, a sucessão processual, em caso de morte ou declaração de ausência da vítima, o direito de representar, por ordem de preferência, passa para o cônjuge, ascendentes, descendentes e irmãos.

Está correto o que se afirma em

- (A) I, II e III.
- (B) I e II, apenas.
- (C) II e III, apenas.
- (D) I e III, apenas.
- (E) I, apenas.

## Direito Empresarial

81

A Companhia Lajeado Novo Jardim, da espécie aberta e com capital autorizado, pretende emitir debêntures conversíveis em ações e da espécie simples.

Acerca da competência para autorizar a emissão deste valor mobiliário e com estas especificações, de acordo com a legislação societária, ela é do(a)

- (A) Conselho de Administração ou da diretoria, exceto se houver disposição estatutária em contrário que confira competência à assembleia-geral.
- (B) Conselho de Administração, não podendo o estatuto dispor em contrário por se tratar de competência privativa.
- (C) Assembleia-geral, mas o estatuto pode autorizar o conselho de administração, nos limites do capital autorizado, a deliberar sobre a emissão, especificando o limite do aumento de capital decorrente da conversão, em valor do capital social ou em número de ações, e as espécies e classes das ações que poderão ser emitidas.
- (D) Diretoria, mas o estatuto pode delegar competência ao Conselho de Administração, por se tratar de companhia aberta e de capital autorizado e as debêntures serem conversíveis em ações, desde que o órgão delibere sobre a época e as condições do pagamento dos juros, da participação nos lucros e do prêmio de reembolso, se houver.
- (E) Assembleia-geral, não podendo o estatuto dispor em contrário por se tratar de competência privativa.

82

Comercial Lavadeira Ltda. teve sua falência decretada pelo juízo da comarca de Pedro Afonso em razão da convalidação do processo de recuperação judicial.

Para fins de rateio na falência, o quadro geral de credores deverá ser formado pelos

- (A) (i) créditos não impugnados constantes do edital contendo a relação de credores elaborada pelo administrador judicial, após a verificação dos créditos constantes da relação de credores apresentada pelo falido, habilitações e divergências tempestivas; (ii) pelo julgamento de todas as impugnações apresentadas no prazo de dez dias da data da publicação da relação de credores do administrador judicial e (iii) pelo julgamento realizado até então das habilitações de crédito recebidas como retardatárias.
- (B) (i) créditos impugnados constantes do edital contendo a relação de credores elaborada pelo administrador judicial, após a verificação dos créditos constantes da relação de credores apresentada pelo falido, habilitações e divergências tempestivas; (ii) pelo julgamento de todas as impugnações apresentadas no prazo de quinze dias da data da publicação da relação de credores do administrador judicial e (iii) pelo julgamento realizado até então das habilitações de crédito recebidas como retardatárias e das reservas deferidas.
- (C) (i) créditos não impugnados constantes do edital contendo a relação de credores elaborada pelo administrador judicial, após a verificação dos créditos constantes da relação de credores apresentada pelo falido, habilitações e divergências e reservas tempestivas; (ii) pelo julgamento de todas as impugnações apresentadas no prazo de dez dias da data da publicação da sentença de falência e (iii) pelo julgamento realizado das habilitações de crédito recebidas como retardatárias, das reservas pleiteadas e das impugnações retardatárias.
- (D) (i) créditos impugnados constantes do edital contendo a relação de credores elaborada pelo administrador judicial, após a verificação dos créditos constantes da relação de credores apresentada pelo falido, divergências e reservas tempestivas; (ii) pelo julgamento de todas as impugnações apresentadas no prazo de quinze dias da data da publicação da sentença de falência e (iii) pelo julgamento realizado das habilitações de crédito recebidas como retardatárias e das impugnações retardatárias.
- (E) (i) créditos não impugnados constantes da relação de credores elaborada pelo falido, inclusas as habilitações tempestivas; (ii) pelo julgamento de todas as impugnações e divergências apresentadas no prazo de dez dias da data da publicação da relação de credores do falido e (iii) pelo julgamento realizado até então das habilitações de crédito e reservas recebidas como retardatárias.

83

O produtor rural empresário poderá realizar sua inscrição na Junta Comercial e, em decorrência dela, ficará equiparado ao empresário sujeito a registro. A mesma faculdade se aplica à sociedade rural que explore empresa.

Em razão desta constatação, a Lei nº 11.101/2005, ao tratar da legitimidade para o pedido de recuperação judicial pelo produtor rural, dispõe que:

- (A) tratando-se de exercício de atividade rural por pessoa jurídica, a comprovação do prazo de mais de dois anos de exercício de empresa é feita exclusivamente por meio da escrituração Contábil Fiscal (ECF).
- (B) tratando-se de produtor rural pessoa física, para a comprovação do prazo de mais de dois anos de exercício de empresa, o cálculo do período de exercício de atividade rural é feito com base no Livro Caixa Digital do Produtor Rural (LCDPR), ou por meio de obrigação legal de registros contábeis que venha a substituir o LCDPR, e pela Declaração do Imposto sobre a Renda da Pessoa Física (DIRPF) e balanço patrimonial, todos entregues tempestivamente.
- (C) tratando-se de exercício de atividade rural por pessoa jurídica, admite-se a comprovação do prazo de mais de dois anos de exercício de empresa, alternativamente, pela certidão da Junta Comercial, ou pela Declaração de Informações Econômico-fiscais da Pessoa Jurídica (DIPJ) entregue tempestivamente.
- (D) tratando-se de produtor rural pessoa física, a comprovação do prazo de mais de dois anos de exercício de empresa é feita com base no Livro Diário, devidamente autenticado pela Junta Comercial, ou pela entrega do Livro-caixa utilizado para a elaboração da Declaração do Imposto sobre a Renda da Pessoa Física (DIRPF).
- (E) a comprovação do prazo de mais de dois anos de exercício de empresa, tanto pelo produtor rural pessoa física quanto pessoa jurídica, se dá exclusivamente por certidão emitida pela Junta Comercial do lugar da inscrição do empresário ou da sociedade empresária, que deverá instruir a petição inicial.

84

A Lei nº 8.929/94 instituiu a Cédula de Produto Rural (CPR), título de crédito representativo de promessa de entrega de produtos rurais, com ou sem garantias cedularmente constituídas. Desde então, a lei em referência foi constantemente alterada para ampliar e aperfeiçoar a utilização do título pelos agentes econômicos ligados ao agronegócio e seus financiadores.

A respeito da CPR, analise as afirmativas a seguir.

- I. A validade e eficácia da CPR não dependem de registro em cartório, mas as garantias reais a ela vinculadas ficam sujeitas, para valer contra terceiros, à averbação no cartório de registro de imóveis do lugar dos bens dados em garantia, a ser efetuada no prazo de três dias úteis, contado da apresentação do título ou certidão de inteiro teor, sob pena de responsabilidade funcional do oficial encarregado de promover os atos necessários.
- II. Por se tratar de título de crédito emitido para o setor rural, a CPR apenas pode ter por objeto bens de natureza agrícola, pecuária, florestal, de extrativismo vegetal e de pesca e aquicultura, seus derivados, subprodutos e resíduos de valor econômico, desde que ainda não industrializados ou beneficiados.
- III. Aplicam-se à CPR, no que forem cabíveis, as normas de direito cambial, porém os endossantes não respondem pela entrega do produto, mas, tão-somente, pela existência da obrigação.

Está correto o que se afirma em

- (A) II, apenas.
- (B) III, apenas.
- (C) I e II, apenas.
- (D) I e III, apenas.
- (E) I, II e III.

## Direito Digital

85

Um candidato ao Parlamento estadual, no dia das eleições, fez uma *live* em sua rede social e a manteve postada, disseminando diversos conteúdos desinformativos (*fake news*).

Sobre as considerações jurídicas dessa situação, analise as afirmativas a seguir e assinale (V) para a verdadeira e (F) para a falsa.

- ( ) O Supremo Tribunal Federal já decidiu que redes sociais são meios de comunicação social.
- ( ) O Tribunal Superior Eleitoral, mesmo diante do problema representado pela desinformação (*fake news*), não normatizou uma definição para o fenômeno.
- ( ) Para a produção sistemática de desinformação (*fake news*), o Tribunal Superior Eleitoral, por meio de seu poder normativo, previu a possibilidade de suspensão temporária de perfis, contas ou canais em redes sociais.

As afirmativas são, respectivamente,

- (A) V – V – V.
- (B) V – F – V.
- (C) V – V – F.
- (D) F – F – V.
- (E) F – V – V.

86

O modelo regulatório da Internet é tema tormentoso no Brasil e fora dele, sobretudo com relação a discursos ilícitos e danosos.

Com relação ao *Efeito Bruxelas*, analise as afirmativas a seguir.

- I. Trata-se de uma teoria sobre regulação da Internet que busca explicar a influência dos Estados Unidos da América nos mercados globais através da regulação local, especialmente por conta da nacionalidade de grandes empresas do setor, como a Meta.
- II. O tamanho do mercado consumidor interno, a capacidade regulatória, o emprego de padrões rigorosos e a indivisibilidade do objeto, como o tratamento de dados pessoais, são alguns aspectos que compõem o Efeito Bruxelas.
- III. Dentro da teoria do Efeito Bruxelas, existiriam dois fenômenos, o Efeito Bruxelas *de facto* e o Efeito Bruxelas *de jures*, sendo o primeiro a conformação da conduta de certas empresas às normas de determinado regulador, buscando a formatação de padrões globais, o que ocasionaria o segundo, ou seja, a criação pelos demais governos de regulações semelhantes àquela do regulador antes mencionado.

Está correto o que se afirma em

- (A) I, apenas.
- (B) I e II, apenas.
- (C) I e III, apenas.
- (D) II e III, apenas.
- (E) I, II e III.

87

A Lei nº 12.965/2014, conhecida como Marco Civil da Internet (MCI), é um exemplo de produção legislativa pautada na democracia digital. Em seu trâmite, no Congresso Nacional, a sociedade civil foi chamada a contribuir para o seu resultado final.

A respeito do sistema inaugurado pelo Art. 19 da referida lei, analise as afirmativas a seguir e assinale (V) para a verdadeira e (F) para a falsa.

- ( ) A norma do dispositivo impõe que, para remoção de conteúdo postado por terceira pessoa, o provedor seja notificado judicialmente.
- ( ) Existe exigência legal de que a decisão judicial, para remoção de conteúdo, identifique clara e especificamente o conteúdo que se deseja remover, aceitando-se para tanto a indicação da URL – *Universal Resource Locator* – o que importa, a título de exemplo, respeito ao direito fundamental à liberdade de expressão.
- ( ) A sistemática de responsabilização civil inaugurada pelo Art. 19, do MCI, tem sua constitucionalidade debatida no plano acadêmico, com eco no Supremo Tribunal Federal, sendo um dos argumentos a impossibilidade de o legislador ordinário desfazer a lógica constitucional, para assentar que ocorrido o dano, a responsabilidade só advém em momento posterior.

As afirmativas são, respectivamente,

- (A) F – F – F.
- (B) V – V – V.
- (C) V – V – F.
- (D) F – F – V.
- (E) F – V – V.

88

A Assembleia Legislativa do Estado do Tocantins tem armazenada, de forma legítima, uma série de dados pessoais de parcela da sociedade tocantinense. Por conta disso, recebeu pedido de compartilhamento desses dados, proveniente da Secretaria de Estado de Educação.

Em relação a essa situação, analise as afirmativas a seguir.

- I. No compartilhamento dos dados pessoais feito pela Assembleia Legislativa do Estado do Tocantins, é preciso dar publicidade, com informações, por exemplo, sobre a finalidade em sítios eletrônicos.
- II. É preciso previamente analisar a finalidade – a eleição de propósitos legítimos, específicos e explícitos para o tratamento de dados – e a adequação – a compatibilidade do tratamento com as finalidades informadas –, dispensando-se a aferição da limitação do tratamento ao mínimo necessário para a realização de suas finalidades, porque quem solicitou o compartilhamento foi órgão do Estado.
- III. O tratamento de dados pessoais não tem especial relevância apenas no âmbito privado, sobretudo por conta dos direitos fundamentais da privacidade e da intimidade das pessoas, tendo o Estado igual ônus de atenção com relação à proteção de dados pessoais como possuem empresas privadas.

Está correto o que se afirma em

- (A) I, apenas.
- (B) I e II, apenas.
- (C) I e III, apenas.
- (D) II e III, apenas.
- (E) I, II e III.

## Direito Eleitoral

89

João, Prefeito Municipal de *Beta* e candidato à reeleição, foi acusado da prática de abuso de autoridade com base na descrição dessa figura realizada pela Lei nº 9.504/1997. A acusação, veiculada em investigação judicial eleitoral (IJE) pelo Partido Político *Alfa*, ao qual estava filiado Pedro, também candidato à Chefia do Executivo de *Beta*, consistiu na demonstração de que João veiculara inúmeros informes publicitários, custeados com recursos próprios, três meses antes do pleito. Como os informes tiveram grande penetração no ambiente social, isto teria afetado a normalidade e a legitimidade da eleição.

À luz da sistemática vigente, é correto afirmar que

- (A) João praticou abuso de autoridade, não conduta vedada aos agentes públicos.
- (B) João não praticou abuso de autoridade nem conduta vedada aos agentes públicos.
- (C) João praticou conduta vedada aos agentes públicos, não abuso de autoridade.
- (D) *Alfa* não tem legitimidade para ajuizar a IJE, que deveria ser proposta por Pedro, considerado se tratar de eleição pelo sistema majoritário.
- (E) o abuso de autoridade é tipificado na Lei Complementar nº 64/1990, não na Lei nº 9.504/1997, logo, há um erro na descrição da causa de pedir.

## 90

Os Presidentes dos Diretórios Nacionais dos Partidos Políticos *Alfa*, *Beta* e *Gama* iniciaram tratativas para formar uma federação partidária. O Presidente de *Alfa* observou que os partidos políticos devem inicialmente constituir a federação sob a forma de associação, averbando a respectiva constituição no Registro Civil das Pessoas Jurídicas da sede de cada um dos partidos. O Presidente de *Beta* ressaltou que a federação terá programa e estatuto comum, sendo que este último conterá regras para a composição de listas para as eleições proporcionais, que vinculará a escolha de candidatos em todos os níveis da federação.

Por fim, o Presidente de *Gama* defendeu que caberá impugnação do pedido de registro da federação por parte de qualquer interessado, sendo que o deferimento do pedido de registro não afetará a identidade e a autonomia dos partidos integrantes da federação, os quais manterão o dever de prestar contas.

À luz da sistemática vigente, em relação às conclusões dos referidos Presidentes, é correto afirmar que

- (A) todas estão certas.
- (B) todas estão parcialmente certas.
- (C) as conclusões do Presidente de *Gama* estão parcialmente certas, e as conclusões dos Presidentes de *Beta* e *Alfa* totalmente certas.
- (D) as conclusões do Presidente de *Beta* estão parcialmente certas, e as conclusões dos Presidentes de *Alfa* e *Gama* totalmente certas.
- (E) as conclusões do Presidente de *Alfa* estão parcialmente certas, e as conclusões dos Presidentes de *Beta* e *Gama* totalmente certas.

## 91

João, candidato a cargo eletivo pelo sistema majoritário, requereu a instauração de investigação policial em detrimento de Maria, também candidata ao mesmo cargo, embora sabendo ser ela inocente, com o só objetivo de comprometer a sua imagem e credibilidade perante o eleitorado. Pouco tempo depois, foi demonstrado que Maria não praticara qualquer infração penal, sendo instaurada nova investigação, desta feita em desfavor de João, isto com o objetivo de apurar a prática de crime.

Como os fatos, ao ver de Maria, estavam devidamente esclarecidos, ela consultou sua assessoria em relação aos distintos aspectos dessa narrativa na perspectiva da legislação eleitoral, sendo-lhe corretamente esclarecido que

- (A) como a persecução penal, pelo crime descrito na narrativa, se inicia mediante ação penal privada, Maria tem legitimidade para ajuizá-la.
- (B) o crime conhecido como “denúncia caluniosa” não está tipificado na legislação eleitoral, logo, a persecução penal deve ser iniciada no âmbito da Justiça Comum.
- (C) o crime conhecido como “denúncia caluniosa” está tipificado na legislação eleitoral, e é cabível a ação penal privada subsidiária pela prática de crime eleitoral.
- (D) eventual omissão do Ministério Público em iniciar a persecução penal no âmbito da Justiça Eleitoral, não permite o ajuizamento de ação penal privada subsidiária pela prática de crime eleitoral.
- (E) Maria pode ajuizar a ação penal privada, perante a instância própria, caso o membro do Ministério Público com atribuição, apesar das provas existentes, promova o arquivamento da investigação policial.

## 92

Joana, influenciadora digital, filiada ao Partido Político *Alfa*, no início do ano em que seriam realizadas eleições para a Câmara dos Deputados, passou a veicular diversos expedientes publicitários em suas redes sociais, nos quais refletia sobre a situação política do país, os problemas enfrentados naquele momento histórico e as medidas a serem adotadas, na futura legislatura, para a alteração desse quadro.

Nesse contexto, concluía cada expediente publicitário com frases preestabelecidas, seguidamente: “vamos lutar para colocar mais mulheres na política”; “realize esse sonho conosco”; “Joana é pré-candidata a Deputada Federal”; “com Joana como Deputada Federal teremos um legislativo ético e produtivo”. Por entender que a conduta de Joana era ilícita, o Partido Político *Beta* ajuizou representação eleitoral em face dela.

A esse respeito, é correto afirmar que

- (A) a propaganda eleitoral é permitida no ano de realização das eleições, logo, a conduta de Joana é ilícita.
- (B) é vedada a menção à pretensa candidatura em momento anterior a 15 de agosto, logo, a conduta de Joana é ilícita.
- (C) como Joana se limitou a exaltar suas qualidades pessoais, não há propaganda eleitoral antecipada, logo, sua conduta é ilícita.
- (D) os expedientes publicitários de Joana devem ser considerados lícitos, caso sejam veiculados de forma gratuita, sendo vedada a propaganda paga.
- (E) a conduta de Joana, ao apresentar pedido expresso de voto, em momento anterior ao dia subsequente ao último dia do prazo para o registro de candidaturas, é ilícita.

## Direito do Consumidor

93

Bel Lima ajuizou ação resolutória e reparatória contra a *Incorporadora Obra Certa Empreendimentos Imobiliários* e a intermediária *Bom Negócio Imóveis*, visando à resolução do contrato de aquisição de duas unidades imobiliárias (*apart-hotel*) do empreendimento *Good Life RJ*, o ressarcimento dos valores pagos e a compensação por danos morais, haja vista a paralisação das obras há quase dois anos sem a perspectiva de conclusão e de entrega dos apartamentos.

Em sua inicial, requereu a condenação solidária das rés, na condição de fornecedoras. Em contestação, dentre outros argumentos aduzidos, as rés pugnam pela não incidência do Código de Defesa do Consumidor, uma vez que a aquisição das unidades imobiliárias foi a título de investimento, conforme prova documental anexada, na qual a autora afirma sua intenção de adquirir os bens a título de investimento e não como destinatária final.

Diante da situação hipotética narrada, da legislação vigente e do entendimento do Superior Tribunal de Justiça, analise as afirmativas a seguir.

- I. Aos contratos de incorporação imobiliária, embora regidos por princípios e normas que lhes são próprios, também se aplica subsidiariamente a legislação consumerista sempre que a unidade imobiliária for destinada a uso próprio do adquirente ou de sua família.
- II. Apesar de o Código de Defesa do Consumidor incidir na dinâmica dos negócios imobiliários em geral, não se aplica ao caso, pois as unidades imobiliárias não se destinavam a moradia do comprador e de sua família.
- III. Conforme a jurisprudência do Superior Tribunal de Justiça, incide o Código de Defesa do Consumidor na hipótese de investidor ocasional, desde que demonstrada a boa-fé e a falta de *expertise* em incorporação, construção e venda de imóveis do adquirente.

Está correto o que se afirma em

- (A) I, apenas.
- (B) II, apenas.
- (C) I e II, apenas.
- (D) I e III, apenas.
- (E) II e III, apenas.

94

Letícia Almeida ajuíza ação de obrigação de fazer contra *Viajar.com* e *No Ar Companhia Aérea*. Alega que, com o intuito de participar de relevante Congresso de Direito, adquiriu, em 10/01/2023, passagem aérea fornecida pelo *site* da primeira ré e de execução da segunda ré, de ida e volta, saindo do Rio de Janeiro e tendo como destino a cidade de Paris, pelo valor de R\$850,00 (oitocentos e cinquenta reais), incluídos impostos e taxas. Alega ter realizado todo o procedimento de compra e ter recebido *e-mail* de confirmação da reserva dos bilhetes e recibo. No entanto, cerca de 6 horas após a compra, foi surpreendida por um *e-mail* da primeira ré, informando a ocorrência de um erro sistêmico no carregamento de preços e, consequentemente, o cancelamento da operação para aquisição da passagem, que não havia sido emitida e que o valor de R\$850,00 (oitocentos e cinquenta reais) não havia sido debitado do cartão de crédito informado.

Assim, diante dos fatos, Letícia requer o reconhecimento da falha na prestação de serviços e a condenação das rés à emissão de nova passagem, nos termos e valores previamente ofertados, conforme preceitua o Art. 35, inciso I, do Código de Defesa do Consumidor.

Diante da situação hipotética narrada, da legislação vigente e do entendimento do Superior Tribunal de Justiça, assinale a afirmativa correta.

- (A) Conforme o entendimento do STJ, o erro grosseiro no carregamento de preços, de fácil percepção pelo consumidor não afasta a responsabilidade das rés que, em razão do princípio da vinculação da oferta, são obrigadas a emitir os bilhetes nas condições anteriormente divulgadas.
- (B) Letícia titulariza direito subjetivo absoluto de exigir o cumprimento da oferta, não podendo o exercício do seu direito ser obstado pela alegação de erro grosseiro ou de ausência de prejuízo.
- (C) Diante da vulnerabilidade do consumidor e da incidência da teoria do risco integral em relação as práticas comerciais, as rés são obrigadas a cumprir a oferta.
- (D) Em razão da presunção absoluta de vulnerabilidade do consumidor, não há a possibilidade de afastar a responsabilidade das rés pela falha na prestação de serviços, mesmo diante de erro grosseiro e cognoscível.
- (E) Conforme o entendimento do STJ, diante da particularidade dos fatos em que se constatou erro grosseiro na oferta e da ausência de qualquer cobrança, bem como do propósito de promoção da harmonia e equilíbrio das relações de consumo, não há, no caso, violação ao princípio da vinculação da oferta.



95

O Ministério Público de um dos Estados da Federação identificou que um banco de dados de proteção ao crédito estava incluindo em cadastro de inadimplentes dados referentes a débitos em fase de discussão judicial, mesmo quando informado sobre tal circunstância. Em razão disso, decidiu mover Ação Civil Pública contra a empresa que realiza a gestão do banco de dados.

Após isso, vários consumidores afetados, individualmente, também propuseram ações individuais autônomas. Nas ações individuais, a advogada da parte ré argumentou, em sua defesa, que, em se tratando de interesse difuso ou coletivo, os consumidores não podem propor ações individuais, considerando para a defesa de interesses metaindividuais a resposta deve ser pela via da tutela coletiva. Na Ação Civil Pública, a advogada da parte ré sustentou que a hipótese é de interesse individual, de modo que só é possível a tutela individual por via de ações autônomas promovidas por cada consumidor afetado.

Diante deste caso, assinale a afirmativa correta.

- (A) A hipótese é de interesse individual homogêneo, mas, ainda assim, o Ministério Público está legitimado a propor a tutela coletiva de tais direitos, mesmo de natureza disponível, quando a lesão a eles comprometer relevantes interesses sociais.
- (B) A hipótese é de interesse coletivo, acrescentando-se que a defesa tem razão ao apontar que não é possível a propositura de ação individual para a defesa de interesse coletivo.
- (C) A hipótese é de interesse difuso, mas a defesa não tem razão ao indicar a exclusividade da tutela coletiva, na medida em que a defesa de interesse difuso pode ser individual.
- (D) A hipótese é de interesse individual heterogêneo, assistindo razão à defesa ao afirmar que a tutela do consumidor, neste caso, só pode ser buscada por meio de ações individuais a serem propostas por cada consumidor afetado.
- (E) A hipótese é de interesse difuso, de natureza divisível, razão pela qual a defesa não tem razão ao indicar a exclusividade da tutela coletiva, na medida em que a defesa de interesse difuso divisível pode ser individual.

96

Carmen Santos move ação de obrigação de fazer em face do *Banco Alfa* e do *Banco Gama*, alegando que celebrou vários contratos de empréstimos com os réus, representando cerca de 40% dos seus rendimentos, o que compromete a sua subsistência. Assim, requer que os réus se abstenham de efetuar descontos em sua conta corrente em percentual superior a 30% dos seus vencimentos, bem como se abstenham de negativar o seu nome por falta de pagamento.

Em contestação, os réus alegam, em síntese, que os contratos foram livremente pactuados e que não se trata de empréstimos consignados. O *Banco Alfa*, especificamente, juntou três contratos de mútuo comum com cláusula expressa de desconto das parcelas em conta corrente, além de alegar a impossibilidade de aplicação do Código de Defesa do Consumidor. O *Banco Beta* alegou que os contratos de empréstimo com desconto em conta corrente são lícitos e não estão sujeitos à margem consignável de 30%.

Diante da situação hipotética, analise as afirmativas a seguir.

- I. O juízo, de ofício e independentemente da manifestação de Carmen, deve instaurar o processo de repactuação de dívidas.
- II. Não assiste razão ao *Banco Alfa* de que não se aplica o Código de Defesa do Consumidor ao caso.
- III. Assiste razão ao *Banco Beta* de que os contratos de empréstimo livremente pactuados e com desconto em conta corrente não estão sujeitos à margem consignável de 30%.
- IV. Conforme o entendimento do Superior Tribunal de Justiça, os empréstimos com desconto em conta-salário sujeitam-se à margem consignável de 30%.

Está correto o que se afirma em

- (A) I e II, apenas.
- (B) I e III, apenas.
- (C) II e III, apenas.
- (D) II e IV, apenas.
- (E) III e IV, apenas.

## Estatuto da Criança e da Adolescência

97

Em uma cidade do interior do Estado do Tocantins, um grupo de advogados tomou conhecimento de que a entidade de atendimento socioeducativo estava funcionando com numerosas irregularidades. Falta água aos adolescentes, além de haver superlotação e péssimas condições de higiene. Todas as informações foram prestadas por familiares das pessoas que estavam na entidade e não quiseram se identificar.

Diante disso, os advogados resolveram expedir ofício à OAB, à Defensoria Pública, ao Ministério Público, ao Conselho Tutelar e também ao Juízo com competência em matéria de infância.

Diante desse cenário, de acordo com o ECA, analise as afirmativas a seguir.

- I. O Ministério Público e a Defensoria Pública possuem legitimidade para ingressar com procedimento para apuração de irregularidades em entidade de atendimento, de acordo com expresso texto legal do ECA.
- II. A OAB do Tocantins e o Ministério Público possuem legitimidade para apuração de irregularidades em entidades de atendimento, de acordo com expresso texto legal do ECA.
- III. A autoridade judiciária, por portaria, pode iniciar o procedimento de apuração de irregularidade em entidade de atendimento.
- IV. O Conselho Tutelar pode representar para apurar irregularidades em entidade de atendimento, sendo viável pedir liminarmente o afastamento provisório do dirigente da entidade.

Está correto o que se afirma em

- (A) I e II, apenas.
- (B) I e III, apenas.
- (C) III e IV, apenas.
- (D) II e III, apenas.
- (E) II e IV, apenas.

98

Carlos, 17 anos, foi apreendido em flagrante pela polícia após subtrair sabonetes e cremes para cabelo em uma farmácia. De acordo com o laudo de apreensão e avaliação, o valor total dos bens furtados era de R\$300,00 (trezentos reais).

Apresentado ao membro do Ministério Público, o Promotor de Justiça resolveu conceder remissão, com aplicação de liberdade assistida, o que foi aceito pelo adolescente, seus responsáveis e a defesa técnica.

Diante desse panorama, assinale a opção correta.

- (A) A remissão aplicada pelo Ministério Público em conjunto com liberdade assistida é uma forma de suspensão do processo, já que o feito aguarda que o adolescente cumpra a medida para, após isso, ser extinto.
- (B) Pelos fatos narrados, Carlos só poderá receber medidas socioeducativas. Por isso, incabível o princípio da insignificância, pois o STF não aceita essa tese aos atos infracionais.
- (C) A remissão aplicada pelo MP em conjunto com medida socioeducativa faz com que o adolescente possa ter problemas no futuro, já que ficará com a folha de antecedentes maculada.
- (D) A remissão aplicada pelo Ministério Público é forma de exclusão do processo, sendo certo que Carlos, mesmo com a aplicação de medida socioeducativa, não está reconhecendo sua responsabilidade pelo ato infracional.
- (E) De acordo com o ECA, se o membro do Ministério Público promover o arquivamento dos autos, deverá comunicar à vítima, ao adolescente, à autoridade policial e encaminhará os autos para a instância de revisão ministerial para fins de homologação.

99

Renato, criança de 7 anos, foi encontrado sozinho em casa, sem alimentação adequada e em péssimas condições de higiene. Conforme relatório feito pelo Conselho Tutelar, os vizinhos ouviram os gritos da criança e acionaram a polícia, que adentrou o recinto e resgatou o infante. O Conselho Tutelar, de forma emergencial e considerada a urgência, aplicou a medida protetiva de acolhimento institucional. Dentro do prazo de 24 horas, o Juízo da Infância foi comunicado do acolhimento emergencial.

Foi verificado que a criança estava sob os cuidados da mãe, Maria, que é usuária compulsiva de drogas e deixou o filho abandonado em casa. Também se constatou que o pai de Renato, Marcelo, não sabia do abandono por estar divorciado de Maria. Marcelo trabalha com carteira assinada e se prontificou a ficar com a criança, sendo certo que os relatórios técnicos produzidos indicam que Marcelo possui local adequado para receber Renato.

Diante desse panorama, considerando o Estatuto da Criança e do Adolescente e o posicionamento do STJ, assinale a afirmativa correta.

- (A) O STJ entende que, em regra, o acolhimento familiar temporário representa o melhor interesse da criança, salvo quando há evidente risco à integridade física ou psíquica do infante.
- (B) O acolhimento institucional aplicado deve ser visto como uma medida provisória, devendo ser priorizada a reintegração familiar ou, não sendo possível, a colocação em família substituta.
- (C) O acolhimento institucional aplicado deve permanecer por, no mínimo, 3 meses, que é o prazo previsto em lei para a reavaliação.
- (D) Renato é integrante da família extensa, conforme o Art. 25 do ECA. Por isso, terá prioridade para obter a guarda da criança.
- (E) O acolhimento familiar, por ser melhor para a criança, não precisa ser reavaliado.

100

De acordo com o Estatuto da Criança e do Adolescente, assinale a opção que apresenta *linhas* da política de atendimento.

- (A) As políticas sociais básicas e a municipalização do atendimento.
- (B) A manutenção de fundos nacional, estaduais e municipais vinculados aos respectivos conselhos de direitos da criança e do adolescente e a mobilização da opinião pública para a participação dos segmentos sociais.
- (C) A realização e a divulgação de pesquisas sobre desenvolvimento infantil e a proteção jurídico-social por entidades de defesa dos direitos da criança e do adolescente.
- (D) O serviço de identificação e localização de pais e responsáveis de crianças e adolescentes desaparecidos e a criação de programas específicos voltados para a descentralização político-administrativa.
- (E) Os serviços especiais de prevenção e de atendimento médico e psicossocial às vítimas de negligência, maus-tratos, exploração, abuso, crueldade e opressão, e as campanhas de estímulo ao acolhimento sob forma de guarda de crianças e adolescentes afastados do convívio familiar e à adoção, especificamente inter-racial, de crianças maiores ou de adolescentes, com necessidades específicas de saúde ou com deficiências e de grupos de irmãos.



# ASSEMBLEIA LEGISLATIVA DO ESTADO DO TOCANTINS

CONCURSO PÚBLICO – EDITAL Nº 02/2023

**PROVA OBJETIVA – TARDE**

# PROCURADOR JURÍDICO

NÍVEL SUPERIOR – TIPO 2 – VERDE



## SUA PROVA

- Além deste caderno contendo **100 (cem)** questões objetivas, você receberá do fiscal de prova o cartão de respostas;
- As questões objetivas têm **5 (cinco)** opções de resposta (A, B, C, D) e somente uma delas está correta.



## TEMPO

- Você dispõe de **5 (cinco) horas** para a realização da prova, já incluído o tempo para a marcação do cartão de respostas;
- **3 (três) horas** após o início da prova, é possível retirar-se da sala, sem levar o caderno de questões;
- A partir dos **30 (trinta) minutos** anteriores ao término da prova é possível retirar-se da sala **levando o caderno de questões**.



## NÃO SERÁ PERMITIDO

- Qualquer tipo de comunicação entre os candidatos durante a aplicação da prova;
- Anotar informações relativas às respostas em qualquer outro meio que não seja o caderno de questões;
- Levantar da cadeira sem autorização do fiscal de sala;
- Usar o sanitário ao término da prova, após deixar a sala.



## INFORMAÇÕES GERAIS

- Verifique se seu caderno de questões está completo, sem repetição de questões ou falhas. Caso contrário, **notifique imediatamente o fiscal da sala**, para que sejam tomadas as devidas providências;
- Confira seus dados pessoais, especialmente nome, número de inscrição e documento de identidade e leia atentamente as instruções para preencher o cartão de respostas;
- Para o preenchimento do cartão de respostas, use somente caneta esferográfica, fabricada em material transparente, com tinta preta ou azul;
- Assine seu nome apenas no(s) espaço(s) reservado(s) no cartão de respostas;
- Confira seu cargo, cor e tipo do caderno de questões. Caso tenha recebido caderno de cargo ou cor ou tipo **diferente** do impresso em seu cartão de respostas, o fiscal deve ser **obrigatoriamente** informado para o devido registro na ata da sala;
- Reserve tempo suficiente para o preenchimento do seu cartão de respostas. O preenchimento é de sua responsabilidade e **não será permitida a troca do cartão de respostas em caso de erro cometido pelo candidato**;
- Para fins de avaliação, serão levadas em consideração apenas as marcações realizadas no cartão de respostas;
- A FGV coletará as impressões digitais dos candidatos na lista de presença;
- Os candidatos serão submetidos ao sistema de detecção de metais quando do ingresso e da saída de sanitários durante a realização das provas.
- **Boa prova!**

## CONHECIMENTOS BÁSICOS

### Língua Portuguesa

1

O texto explora dois temas em sequência, que são

- (A) a imortalidade pelo amor do corpo e pelo amor da alma.
- (B) algumas marcas dos homens e as marcas dos animais.
- (C) os valores materiais e os valores intelectuais.
- (D) os filhos do amor físico e os filhos do amor da alma.
- (E) os valores antigos e os valores modernos.

2

O texto utiliza adjetivos, que mostram em língua portuguesa alguns valores: estados, características, qualidades e relações.

Assinale a opção em que o adjetivo sublinhado mostra um valor **diferente** de todos os outros.

- (A) "Você já observou em que estranha crise se encontram todos os animais..."
- (B) "Como ficam doentes e possuídos de desejo..."
- (C) "Você ficará assombrado com a sua misteriosa irracionalidade..."
- (D) "...cujos progenitores são os poetas e os criadores fecundos".
- (E) "...quando são tomados pela ambição e pelo desejo de glória eterna".

3

Assinale o segmento textual que se enquadra entre os textos injuntivos.

- (A) Você já observou em que estranha crise se encontram todos os animais, os que voam e os que marcham, quando são tomados pelo desejo de procriar?
- (B) Como ficam doentes e possuídos de desejo, primeiro no momento de se ligarem, depois, quando se torna necessário alimentar os filhos?
- (C) Tanto no caso dos humanos como no dos animais, a natureza mortal busca, na medida do possível, perpetuar-se e imortalizar-se.
- (D) Apenas desse modo, por meio da procriação, a natureza mortal é capaz da imortalidade, deixando sempre um jovem no lugar do velho.
- (E) Pois saiba, Sócrates, que o mesmo vale para a ambição dos homens.

4

*Qual é, Sócrates, na sua opinião, a causa deste amor, deste desejo?*

Essa pergunta inicial do texto

- (A) não é respondida na exposição de Diotima.
- (B) deve ser respondida por Sócrates, na continuidade do diálogo, ausente do fragmento lido.
- (C) a causa procurada do amor e do desejo aludidos está no desejo físico exacerbado.
- (D) é respondida pela própria Diotima, no meio do texto.
- (E) não tem uma resposta possível, já que está envolta em "misteriosa irracionalidade".

5

Nos segmentos textuais listados a seguir há orações reduzidas de infinitivo.

Assinale a forma em que essa forma foi transformada em uma oração desenvolvida de forma **inadequada**.

- (A) "quando são tomados pelo desejo de procriar" / quando são tomados pelo desejo de que procriação.
- (B) "quando se torna necessário alimentar os filhos?" / quando se torna necessário que alimentem os filhos?
- (C) "...a natureza mortal busca, na medida do possível, perpetuar-se" / a natureza mortal busca, na medida do possível, que se perpetue".
- (D) "...desejam procriar não pelo corpo" / desejam que procriem não pelo corpo.
- (E) "...que são próprios da natureza da alma conceber" / que são próprios que a natureza da alma conceba.

6

Sobre a pergunta inicial do texto, é correto afirmar que

- (A) se trata de uma pergunta retórica, ou seja, para a qual não se espera nenhuma resposta.
- (B) constitui uma pergunta direta, isto é, aquela que se responde com a ajuda dos advérbios sim/não.
- (C) mostra uma estrutura motivadora, que procura despertar interesse no leitor.
- (D) é feita de forma a mostrar a autoridade intelectual de Sócrates, de quem se espera uma resposta valiosa.
- (E) indica que o texto lido é um fragmento intermediário, já que se refere a termos citados anteriormente.

7

No texto, há três ocorrências de colchetes com pontos no interior; isso significa que

- (A) algumas partes do original não puderem ser registradas.
- (B) partes do texto foram intencionalmente omitidas.
- (C) alguns segmentos abandonavam a orientação central do texto e, por isso, foram deixadas de lado.
- (D) foram inseridos do texto a fim de destacar a importância dos segmentos seguintes.
- (E) alguns trechos tiveram que ser eliminados por censura moral, política ou cultural.

8

Texto 1

**Platão**

*Diotima – Qual é, Sócrates, na sua opinião, a causa deste amor, deste desejo? Você já observou em que estranha crise se encontram todos os animais, os que voam e os que marcham, quando são tomados pelo desejo de procriar? Como ficam doentes e possuídos de desejo, primeiro no momento de se ligarem, depois, quando se torna necessário alimentar os filhos? [...] Tanto no caso dos humanos como no dos animais, a natureza mortal busca, na medida do possível, perpetuar-se e imortalizar-se. Apenas desse modo, por meio da procriação, a natureza mortal é capaz da imortalidade, deixando sempre um jovem no lugar do velho. [...] Pois saiba, Sócrates, que o mesmo vale para a ambição dos homens. Você fica assombrado com a sua misteriosa irracionalidade, a não ser que compreenda o que eu disse, e reflita sobre o que se passa com eles quando são tomados pela ambição e pelo desejo de glória eterna. É pela fama, mais ainda que por seus filhos, que eles se dispõem a encarar todos os riscos, suportar fadigas, esbanjar fortunas e até mesmo sacrificar suas vidas. [...] Aqueles cujo instinto criador é físico recorrem de preferência às mulheres e revelam seu amor dessa maneira, acreditando que pela geração de filhos podem se assegurar da imortalidade e de uma recordação perene de si. Mas existem alguns cujo instinto criador se aloja na alma e que desejam procriar não pelo corpo, mas espiritualmente, gerando filhos que são próprios da natureza da alma conceber e dar à luz. E o que é próprio da natureza da alma procriar? A sabedoria e as virtudes em geral, cujos progenitores são os poetas e os criadores fecundos.*

(Platão, século IV a. C.)

Sobre a estruturação geral desse fragmento textual argumentativo, uma fala de Diotima (orientadora de Sócrates nos assuntos de amor) para Sócrates, assinale a observação correta.

- (A) A tese exposta nesse fragmento é a de que a procriação da alma é superior à do corpo.
- (B) Os argumentos apresentados para a defesa da tese se apoiam na autoridade dos participantes do diálogo.
- (C) O público-alvo de toda a argumentação do texto se reduz a Sócrates, citado na exposição da tese.
- (D) A exposição argumentativa tem estreita ligação com a época em que ocorre o diálogo.
- (E) O texto argumentativo acima se estrutura por meio de um debate informativo e expositivo.

9

Nas frases a seguir ocorre a presença da preposição DE.

Assinale a frase em que o termo precedido por essa preposição que exerce a função de adjunto e não de complemento.

- (A) "...quando são tomados pelo desejo DE procriar?"
- (B) "...pela geração DE filhos".
- (C) "...recorrem DE preferência às mulheres".
- (D) "...e de uma recordação perene DE si".
- (E) "...podem se assegurar da imortalidade e DE uma recordação".

10

O texto 1 foi retirado do *O Livro das Citações*, do novo acadêmico Eduardo Giannetti e está inserido numa seção intitulada "Monumentos mais duradouros que o bronze".

Esse título de justifica porque os textos

- (A) são muito antigos.
- (B) testemunham momentos culturais significativos.
- (C) pertencem a autores famosos.
- (D) mostram valores hoje abandonados.
- (E) indicam textos vistos como obras de arte.

**Legislação Institucional**

11

João, Procurador Jurídico no âmbito da Assembleia Legislativa do Estado de Tocantins, almejava concorrer à promoção no âmbito da carreira. Por tal razão, com base em alguns aspectos de sua situação pessoal, solicitou que sua estagiária analisasse os requisitos exigidos para essa promoção, sendo-lhe informado que:

- I. a promoção é imediata para o Procurador Jurídico aprovado em estágio probatório.
- II. não pode habilitar-se à promoção na carreira, o agente que tenha mais de cinco faltas injustificadas no ano anterior.
- III. o agente deve ter no mínimo sessenta meses de exercício no nível imediatamente inferior.

Ao cotejar as conclusões da estagiária com a legislação de regência, João concluiu corretamente que

- (A) todas as conclusões estão certas.
- (B) apenas a conclusão I está certa.
- (C) apenas a conclusão II está certa.
- (D) apenas as conclusões I e III estão certas.
- (E) apenas as conclusões II e III estão certas.

12

Maria e Joana eram servidoras públicas ocupantes de cargos de provimento efetivo no Estado do Tocantins e, por distintas razões, não mais estavam em exercício funcional. No caso de Maria, isto decorria da extinção do seu cargo, por desnecessidade. Joana, por sua vez, foi inabilitada no estágio probatório relativo a outro cargo de provimento efetivo estadual, para o qual tinha sido aprovada em concurso público de provas e títulos.

Ambas foram comunicadas que voltariam aos cargos de origem, o que significa dizer que ocorreu

- (A) a recondução de ambas.
- (B) a reversão de Maria e o retorno de Joana.
- (C) a recondução de Maria e a reintegração de Joana.
- (D) o aproveitamento de Maria, e a recondução de Joana.
- (E) a reintegração de Maria e o aproveitamento de Joana.

13

Maria, poucos dias após tomar posse como ocupante de cargo de provimento efetivo no âmbito da Assembleia Legislativa do Estado do Tocantins, em razão de sua grande expertise na área de gestão, foi convidada, pelo Governador do Estado *Alfa*, para assumir o cargo de Secretária de Estado.

Muito lisonjeada com o convite, Maria consultou o respectivo Regime Jurídico, e concluiu corretamente que

- (A) em razão do seu tempo de exercício funcional, ela não pode ser cedida.
- (B) ela tem o direito subjetivo de ser cedida ao Poder Executivo do Estado *Alfa*.
- (C) é possível a sua cessão, mas deverá ocupar cargo em comissão no Estado *Alfa*.
- (D) é vedada a cessão de servidores estaduais a estruturas de poder de outros entes federativos.
- (E) a cessão somente é possível para estruturas de poder do próprio Estado ou para Municípios situados em seu território.

14

Um grupo de Deputados Estaduais, observadas as exigências regimentais, apresentou proposição legislativa visando à modificação da Lei Orgânica do Estado do Tocantins.

Maria, Deputada Estadual, almejava apresentar uma emenda aditiva a essa proposição legislativa. Ao consultar o Regimento Interno da Assembleia Legislativa do Estado do Tocantins, concluiu corretamente que

- (A) como a proposição está sujeita a dois turnos de discussão e votação, a emenda não pode ser apresentada no primeiro turno.
- (B) em razão do quórum qualificado para a apresentação e para a aprovação da proposição, a emenda somente pode ser apresentada por partido político ou bloco parlamentar.
- (C) a apresentação da emenda pode ocorrer tanto no âmbito das Comissões que irão apreciá-la como na Ordem do Dia com votação ainda não encerrada.
- (D) a emenda aditiva, além de não poder ser apresentada isoladamente por uma única parlamentar, não pode acarretar aumento de despesa na proposição descrita na narrativa.
- (E) embora seja possível a apresentação da emenda almejada, como ela apresenta contornos aditivos, sua apresentação somente pode ocorrer no âmbito da Comissão Especial que deve apreciar a proposição.

15

O Governador do Estado do Tocantins encaminhou projeto de lei à Assembleia Legislativa do Estado do Tocantins, o qual tramita em regime de urgência. Maria, servidora dessa Casa Legislativa, em uma apreciação preliminar do Regimento interno, concluiu que, em razão desse regime:

- I. o prazo destinado ao relator, no âmbito de uma Comissão, somente pode ser prorrogado mediante justificativa idônea e devidamente comprovada.
- II. a vista requerida no âmbito das Comissões será limitada a vinte e quatro horas.
- III. as Comissões que devem apreciar a proposição a discutirão e votarão ao mesmo tempo em cada uma delas.

É correto afirmar, em relação às três conclusões de Maria, que

- (A) todas as conclusões estão certas.
- (B) apenas a conclusão I está certa.
- (C) apenas a conclusão III está certa.
- (D) apenas as conclusões I e II estão certas.
- (E) apenas as conclusões II e III estão certas.

16

Diversas organizações da sociedade civil do Estado de Tocantins iniciaram uma grande mobilização popular com o objetivo de propor, à Assembleia Legislativa, a alteração da sistemática de cadastramento das famílias carentes beneficiadas por determinada política pública de caráter prestacional, sendo que a sistemática atual está disciplinada na Lei estadual nº X.

Ao analisarem os balizamentos oferecidos pela Constituição do Estado do Tocantins, concluíram corretamente que

- (A) a iniciativa popular é reservada a cidadãos eleitores, que devem atender aos requisitos estabelecidos em lei complementar nacional.
- (B) o projeto de lei, de iniciativa das organizações não governamentais, exige que atendem requisitos de filiação mínima e distribuição territorial, conforme previstos em lei ordinária estadual.
- (C) o projeto de lei de iniciativa popular deve ser subscrito por, no mínimo, um por cento do eleitorado estadual, distribuído em pelo menos cinco Municípios, com percentual mínimo de três décimos dos eleitores de cada Município.
- (D) a iniciativa popular pressupõe a subscrição, do projeto de lei, por, no mínimo, três por cento do eleitorado estadual, distribuído em pelo menos dez Municípios, com percentual mínimo de cinco décimos dos eleitores de cada Município.
- (E) em razão da ausência de regulamentação da iniciativa popular, as propostas devem ser encaminhadas à comissão de legislação participativa da Assembleia Legislativa, podendo, ou não, serem subscritas por um Deputado Estadual.

17

O Governador do Estado do Tocantins protocolizou, na Assembleia Legislativa, projeto de lei redefinindo determinada gratificação prevista no Regime Jurídico dos Servidores Públicos Civis do Estado. Enquanto a proposição tinha o seu trâmite regular, foram aprovadas outras normas estaduais que influenciavam diretamente na compreensão da razoabilidade da hipótese de incidência e do valor correspondente à referida gratificação. Por tal razão, o Chefe do Poder Executivo, após se reunir com o seu secretariado, entendeu que a aprovação da proposição legislativa continuava sendo relevante, mas uma parte deveria ser alterada, com a correlata supressão parcial de conteúdo.

Nesse caso, à luz do Regimento Interno da Assembleia Legislativa do Tocantins, é correto afirmar que o Governador do Estado deve

- (A) solicitar que o líder do governo apresente a emenda supressiva por delegação sua.
- (B) apresentar uma emenda supressiva à proposição de sua autoria, por meio de mensagem.
- (C) apresentar outra proposição, que será apensada à original, com a modificação que almeja realizar.
- (D) solicitar a retirada da proposição legislativa, o que somente pode ocorrer até a sua inclusão na Ordem do Dia.
- (E) comunicar à Mesa Diretora o seu interesse na aprovação da proposição legislativa, com a posterior apresentação de outra que se ajuste aos seus objetivos.

**18**

Ana, Deputada Estadual no âmbito da Assembleia Legislativa do Estado do Tocantins, almejava apresentar destaque de subemenda afeta a emenda ofertada em projeto de lei em tramitação nessa Casa Legislativa.

Ao analisar o Regimento Interno da Assembleia Legislativa do Estado do Tocantins, Ana concluiu corretamente que

- (A) qualquer Deputado Estadual pode requerer a votação, em momento antecedente à apreciação da proposição principal, de subemenda com a apresentação de destaque.
- (B) o requerimento de destaque de expressão cuja retirada modifique substancialmente o sentido da proposição, caso acolhido, exige novo parecer da Comissão de Constituição e Justiça.
- (C) o requerimento de destaque, para votação em separado, deve ser formulado por no mínimo um sêxtuplo dos Deputados Estaduais, até ser anunciada a votação da proposição.
- (D) o destaque, para votação em separado, somente pode ter por objeto parte do projeto ou emenda, não subemenda, e o requerimento deve ser apresentado por líder de partido ou bloco parlamentar.
- (E) o requerimento de destaque pretendido por Ana, para votação em separado, pode ser apresentado por um décimo dos Deputados Estaduais, sendo que, concedido o destaque, a matéria principal deve ser votada primeiramente.

**19**

Ana, servidora ocupante de cargo de provimento efetivo na Assembleia Legislativa do Estado de Tocantins, foi instada, por seu superior hierárquico, a realizar uma análise geral da forma de estruturação da governança administrativa no âmbito dessa Casa Legislativa, com especial ênfase para o delineamento do processo decisório.

Ao fim de suas reflexões, Ana concluiu corretamente que o referido processo deve ser

- (A) concentrado nas autoridades de nível hierárquico superior, de modo a assegurar a unidade institucional, e a evitar tratamentos não igualitários.
- (B) compatibilizado com a atribuição, às chefias situadas na base da organização, da menor soma possível de competência decisória, de modo a evitar a fragmentação.
- (C) tanto quanto possível, atribuído a colegiados internos, aos quais devem ser submetidos casos concretos com potencial de repetição, de modo a assegurar o primado da isonomia.
- (D) atribuído ao menor nível hierárquico possível, de modo a conferir maior celeridade à atuação administrativa, reservando-se às autoridades superiores funções específicas na perspectiva da governança administrativa.
- (E) objeto de contínua fiscalização pelos superiores hierárquicos, de modo que a autoridade competente somente se recuse a proferir sua decisão, encaminhando o caso à apreciação superior, quando o interesse público o exigir.

**20**

Determinada proposição legislativa foi apresentada por João, Deputado Estadual, perante a Assembleia Legislativa do Estado do Tocantins. O Presidente dessa Casa Legislativa procedeu à sua distribuição a três Comissões Permanentes.

À luz dessa narrativa e dos balizamentos estabelecidos pelo Regimento Interno da referida Casa Legislativa, é correto afirmar que

- (A) a proposição será objeto de parecer no âmbito das três Comissões Permanentes, sempre em manifestações de caráter puramente opinativo, competindo ao Plenário deliberar sobre o seu acolhimento ou não.
- (B) o despacho do Presidente pode atribuir caráter terminativo à análise a ser realizada em cada Comissão, o que condiciona a apreciação pelo Plenário à interposição de recurso, pelo autor da proposição ou por partido político.
- (C) o parecer de cada Comissão, por imposição regimental, tem caráter terminativo, mas isto não obsta a sua apreciação pelo Plenário mediante requerimento do autor da proposição, de partido político ou de bloco parlamentar.
- (D) somente tem caráter terminativo o parecer de cada Comissão indicada no Regimento Interno, o qual pode ser apreciado pelo Plenário, mediante requerimento do autor da proposição, apoiado por um sexto dos Deputados Estaduais.
- (E) o parecer das Comissões permanentes será terminativo em relação àquelas indicadas no Regimento Interno, o que pode ser estendido, pelo Presidente, a outras Comissões, cabendo, em qualquer caso, a interposição de recurso para o Plenário.

## Realidade política, social e econômica do Estado de Tocantins

**21**

Atendendo às diretrizes de planejamento territorial, foram criados vários Polos Turísticos no Estado do Tocantins, com o intuito de atribuir Planos de Desenvolvimento do Turismo Sustentável a cada um deles.

Leia a descrição a seguir de um desses Polos.

*Localizado no oeste do Estado, o Polo compreende os municípios de Lagoa da Confusão, Pium, Araguacema e Caseara. A paisagem natural é um dos diferenciais da região, notadamente por se tratar de uma área de transição entre o cerrado e a densa floresta amazônica, motivo pelo qual a meta do Plano de Desenvolvimento é ampliar atividades ligadas à natureza, mas com a premissa de conservação ambiental e inclusão social. O trabalho envolve ainda estruturar os ramos de pesca esportiva e de turismo cultural, caracterizado por artesanato e festas populares.*

O trecho refere-se ao Polo Turístico de

- (A) Cantão.
- (B) Jalapão.
- (C) Serras Gerais.
- (D) Bico do Papagaio.
- (E) Vale dos Grandes Rios.



22

A Praça dos Girassóis, marco central de Palmas (TO), abriga um conjunto de edifícios, cujas construções foram iniciadas logo após o lançamento da pedra fundamental da capital, no dia primeiro de janeiro de 1989. Entre esses edifícios, destacam-se o Palácio Araguaia (sede do governo do Estado), o Palácio Feliciano Machado Braga (Tribunal de Justiça), o Palácio João D'Abreu (Assembleia Legislativa), além do Memorial Coluna Prestes e da Catedral Católica do Divino Espírito Santo.

Adaptado de <https://www.to.gov.br/noticias>

As afirmativas a seguir a respeito do conjunto arquitetônico da Praça dos Girassóis estão corretas, **à exceção de uma**. Assinale-a.

- (A) O Palácio Araguaia recebeu esse nome em referência ao rio que perpassa o limite oeste do novo estado, tendo sofrido sofreu várias modificações desde sua inauguração, como a inserção de uma reprodução monumental do brasão do Estado do Tocantins.
- (B) O edifício do Tribunal de Justiça recebeu o nome do Juiz Feliciano Machado Braga, devido à contribuição dada por ele no isolamento e na derrota do movimento conhecido como Guerrilha do Araguaia, na década de 1970.
- (C) O Memorial Coluna Prestes, projetado por Oscar Niemeyer, homenageia o movimento tenentista e a passagem da Coluna Prestes pelo território tocantinense entre os anos de 1920 e 1930.
- (D) Os edifícios e monumentos da Praça dos Girassóis são dotados de significados políticos, religiosos e culturais e contribuem para construir a história e a identidade para o Estado do Tocantins.
- (E) A linguagem arquitetônica da Praça dos Girassóis é marcada por uma escala monumental e pelo caráter palaciano de seus edifícios, remetendo à disposição e à grandeza do eixo monumental do Plano Piloto de Brasília.

23

Leia o fragmento a seguir.

A Ilha do Bananal está situada entre os estados de Tocantins e Mato Grosso, cabendo sua jurisdição ao Estado do Tocantins, com uma área de aproximadamente 2 milhões de hectares. É considerada a maior ilha fluvial do mundo, com uma rica biodiversidade, mas tem se tornado objeto de disputas e conflitos entre ambientalistas, produtores rurais, representantes das comunidades indígenas e representantes dos poderes públicos.

Fonte: <https://mapadeconflitos.ensp.fiocruz.br> (Adaptado)

Sobre os conflitos que envolvem a Ilha do Bananal, assinale a afirmativa correta.

- (A) A ilha abriga o Parque Nacional do Araguaia, cuja fiscalização é da Fundação Nacional do Índio (FUNAI), pois preserva as condições ambientais associadas à cultura indígena, gerando uma tensão com o Instituto Brasileiro do Meio Ambiente (IBAMA).
- (B) As principais etnias indígenas presentes na ilha, os Avá-Canoeiros, os Javaé e os Karajás, lutam pela integridade do território que ocupam, exigindo participar da gestão dos recursos gerados pelo uso da rodovia Transbananal.
- (C) A retirada massiva de água do Javaés, para o controle de poeira gerada pela extração de minério nas adjacências, acelera o processo de assoreamento do rio e impacta as dimensões da ilha, alimentando os protestos de ambientalistas.
- (D) A biodiversidade da Ilha do Bananal deve-se à sua localização em uma área de transição entre a Floresta Amazônica, a Caatinga e o Pantanal, motivo pelo qual ativistas reivindicam o ingresso dessa região na Amazônia Legal, contrariando o posicionamento da agroindústria.
- (E) Indigenistas e ambientalistas denunciam a ameaça à integridade física e cultural dos povos originários representada pela penetração de criadores de gado, com arrendamento de pastos, queimadas e instalação de retiros.

24

O projeto de integrar a Bacia Tocantins-Araguaia na logística regional e nacional de transportes remonta aos anos 1960-80, mas foi retomada recentemente, no bojo do Programa de Aceleração do Crescimento (PAC) para o período de 2023-2026, que prevê a ampliação da Hidrovia Araguaia-Tocantins.

A respeito dessa hidrovia, analise as afirmativas a seguir.

- I. É composta por quatro bacias hidrográficas: Araguaia, Marajó, Pará e Tocantins, localizadas na porção central do país entre as regiões Norte e Centro-Oeste, em um ambiente de geração de energia por hidrelétricas como as de Tucuruí e Belo Monte, entre outras.
- II. Possui uma estrutura aquaviária com vias navegáveis, terminais hidroviários e sistemas de transposição de nível, como as eclusas de Tucuruí, sem as quais a navegação no tramo de Peixe (TO) a Marabá (PA) seria inviável.
- III. É importante pela captação de insumos e para o escoamento de *commodities* tocaninenses e dos demais estados que ela tange, sobretudo na cadeia logística de escoamento da soja, interligando a região aos portos do Pará.
- IV. Impacta a qualidade biótica dos rios, sobretudo durante as obras de derrocamento e dragagem, e afeta aspectos socioeconômicos das comunidades envolvidas e das populações indígenas próximas à hidrovia.

As afirmativas que descrevem corretamente características, limites e potencialidades desse modal de transporte são

- (A) I e II, apenas.
- (B) I e III, apenas.
- (C) III e IV, apenas.
- (D) II e IV, apenas.
- (E) II e III, apenas.

25

Leia o trecho a seguir.

*Além dos grandes tipos de vegetação, no Estado do Tocantins são encontradas áreas de transição ambiental, nas quais entram em contato diferentes comunidades ecológicas – isto é, a totalidade da flora e fauna que fazem parte de um mesmo ecossistema e suas interações, como a Amazônia-Cerrado e o Cerrado-Caatinga.*

O trecho refere-se ao conceito de

- (A) bioma.
- (B) ecótono.
- (C) reserva de fauna.
- (D) estação ecológica.
- (E) unidade de conservação.

26

Leia o trecho a seguir.

*A Rota Quilombola está localizada na região do Jalapão (TO) e é formada por três comunidades: Rio Novo, Mumbuca e Prata. O visitante que estabelecer uma conexão com essas comunidades poderá conhecer a história e a cultura quilombola tocaninense e degustar cachaça artesanal com infusão de frutos e raízes do cerrado jalapoeiro, participar de uma oficina de costura de capim dourado com artesanos locais ou ainda aprender a produzir a farofa do “boi curraleiro”.*

Adaptado de <https://sebrae.com.br>

O trecho refere-se às (ao)

- (A) inovações introduzidas pela cultura africana no manejo dos recursos naturais da região.
- (B) formas próprias e autônomas de organização social e política quilombolas.
- (C) modo como o território determina a ancestralidade das comunidades quilombolas.
- (D) conhecimento socioambiental das comunidades quilombolas enquanto um patrimônio cultural.
- (E) oportunidades de ter experiências autênticas de sociabilidade, como as vividas nos quilombos do século XVIII.

## CONHECIMENTOS ESPECÍFICOS

### Direito Administrativo, Urbanístico e Ambiental

27

Uma determinada associação privada, sem fins lucrativos, que atua na área da promoção do voluntariado, pretende, em observância às formalidades legais, se qualificar como Organização da Sociedade Civil de Interesse Público. Para tanto, os representantes da entidade, antes da formulação do requerimento escrito destinado ao Poder Público, passaram a estudar a legislação que trata sobre a matéria.

Nesse cenário, considerando as disposições da Lei nº 9.790/1999, é correto afirmar que

- (A) eventual pedido de qualificação será indeferido, porquanto a legislação de regência proscreeve que associações privadas, sem finalidade lucrativa, destinadas à promoção do voluntariado, se qualifiquem como Organização da Sociedade Civil de Interesse Público.
- (B) perde-se a qualificação de Organização da Sociedade Civil de Interesse Público, a pedido ou mediante decisão proferida em processo administrativo ou judicial, de iniciativa popular ou do Ministério Público, no qual serão assegurados, ampla defesa e o devido contraditório.
- (C) no caso de deferimento de eventual pedido, o Ministério da Casa Civil emitirá, no prazo de trinta dias da decisão, certificado de qualificação da requerente como Organização da Sociedade Civil de Interesse Público.
- (D) recebido o requerimento de qualificação como Organização da Sociedade Civil de Interesse Público, a autoridade competente decidirá, no prazo de quinze dias, deferindo ou não o pedido.
- (E) Indeferido eventual pedido de qualificação, o Ministério da Casa Civil dará ciência da decisão ao interessado, mediante publicação no Diário Oficial.

## 28

João e Matheus, amigos de longa data, debateram sobre a situação funcional de cada qual no âmbito da Administração Pública do Estado *Alfa*.

João, agente público aposentado, retornou ao cargo anteriormente ocupado, em razão da declaração de ilegalidade do ato de concessão de aposentadoria pelo órgão público competente, após a observância do contraditório e da ampla defesa. Matheus, por sua vez, servidor público estável, retornou ao cargo de origem, tendo em vista a reintegração do titular anterior, por força de decisão judicial transitada em julgado.

Nesse cenário, considerando as modalidades de provimento derivado, é correto afirmar que

- (A) a situação de João é caracterizadora da recondução. Por sua vez, Matheus retornou ao cargo de origem por força do aproveitamento.
- (B) a situação de João é caracterizadora do aproveitamento. Por sua vez, Matheus retornou ao cargo de origem por força da recondução.
- (C) a situação de João é caracterizadora da reversão. Por sua vez, Matheus retornou ao cargo de origem por força da recondução.
- (D) a situação de João é caracterizadora da recondução. Por sua vez, Matheus retornou ao cargo de origem por força da reversão.
- (E) a situação de João é caracterizadora da readaptação. Por sua vez, Matheus retornou ao cargo de origem por força da reversão.

## 29

Ao analisar o Estatuto da Cidade (Lei nº 10.257/2001), Gilvan verificou que há previsão de um instrumento que pode ser estabelecido de forma interfederativa, mediante aprovação por lei estadual específica.

Observados os limites estabelecidos na mencionada norma, assinale a opção que indica, corretamente, esse instrumento.

- (A) Direito de preempção regional.
- (B) Estudo de impacto de vizinhança.
- (C) Operação urbana consorciada.
- (D) Parcelamento e edificação compulsórios.
- (E) Desapropriação com pagamento em título da dívida pública.

## 30

No âmbito da Lei nº 11.445/2007, com a redação conferida pela Lei nº 14.026/2020, a prestação regionalizada é a modalidade de prestação integrada de um ou mais componentes dos serviços públicos de saneamento básico em determinada região cujo território abranja mais de um Município.

Nesse cenário, de acordo com o mencionado Diploma Legal é correto afirmar que a prestação regionalizada, pode ser estruturada em

- (A) *região metropolitana*, exclusivamente, que deve ser instituída pelo Estado mediante lei complementar, composta de agrupamento de municípios limítrofes, a fim de abarcar todos os componentes do serviço público em questão, podendo a prestação de apenas um deles ser estruturada de outras formas.
- (B) *bloco de referência*, a ser estabelecido pelo Estado por meio de lei complementar, relativo ao agrupamento de municípios não necessariamente limítrofes, formalmente criado por meio de gestão associada voluntária dos titulares dos serviços públicos em questão.
- (C) *aglomeração urbana* ou *microrregião*, a ser instituída pelo Estado mediante lei ordinária, sendo a primeira relativa a municípios limítrofes, enquanto a segunda aos não limítrofes, para fins de viabilizar a operacionalização dos serviços públicos em questão.
- (D) *unidade regional de saneamento básico*, a ser instituída pelo Estado mediante lei ordinária, constituída pelo agrupamento de Municípios não necessariamente limítrofes, para atender adequadamente às exigências de higiene e saúde pública, ou para dar viabilidade econômica e técnica aos municípios menos favorecidos.
- (E) *região metropolitana*, *aglomeração urbana* ou *microrregião*, a ser instituída pelo Estado mediante lei ordinária, com a finalidade de integrar municípios não necessariamente limítrofes, a fim de conferir viabilidade econômica e técnica para aqueles menos favorecidos com relação à prestação dos serviços públicos em questão.

**31**

João, agente público há mais de vinte anos, lida, rotineiramente, com procedimentos licitatórios. Desta forma, com o objetivo precípuo de se atualizar, o referido servidor passou a estudar, nas nuances, as regras aplicáveis aos agentes públicos no contexto das licitações, buscando, assim, prestigiar o princípio constitucional da eficiência.

Nesse cenário, considerando as disposições da Lei nº 14.133/2021, é **incorreto** afirmar que

- (A) as regras relativas à atuação do agente de contratação e da equipe de apoio, ao funcionamento da comissão de contratação e à atuação de fiscais e gestores de contratos de que trata a Lei nº 14.133/2021, serão estabelecidas em regulamento, e deverá ser prevista a possibilidade de eles contarem com o apoio dos órgãos de assessoramento jurídico e de controle interno para o desempenho das funções essenciais à execução do disposto na referida legislação.
- (B) em licitação que envolva bens ou serviços especiais, desde que observados os requisitos legais, o agente de contratação poderá ser substituído por comissão de contratação formada por, no mínimo, cinco membros, que responderão solidariamente por todos os atos praticados pela comissão, ressalvado o membro que expressar posição individual divergente fundamentada e registrada em ata lavrada na reunião em que houver sido tomada a decisão.
- (C) a licitação será conduzida por agente de contratação, pessoa designada pela autoridade competente, entre servidores efetivos ou empregados públicos dos quadros permanentes da Administração Pública, para tomar decisões, acompanhar o trâmite da licitação, dar impulso ao procedimento licitatório e executar quaisquer outras atividades necessárias ao bom andamento do certame até a homologação.
- (D) em licitação que envolva bens ou serviços especiais cujo objeto não seja rotineiramente contratado pela Administração, poderá ser contratado, por prazo determinado, serviço de empresa ou de profissional especializado para assessorar os agentes públicos responsáveis pela condução da licitação.
- (E) o agente de contratação será auxiliado por equipe de apoio e responderá individualmente pelos atos que praticar, salvo quando induzido a erro pela atuação da equipe.

**32**

A sociedade empresária XYZ celebrou um contrato administrativo com o Estado *Alfa*, após o regular procedimento licitatório. No curso da avença, houve a necessidade de alterar cláusulas regulamentares, procedendo-se, na sequência, ao reequilíbrio econômico-financeiro do contrato. Irresignado com a mudança repentina, o contratado procurou a sua equipe de advogados, a qual lhe informou que a Administração Pública atuou de forma escorregia, em razão da existência das cláusulas exorbitantes.

Nesse cenário, considerando o entendimento doutrinário e jurisprudencial dominantes, é correto afirmar que a presença de cláusulas exorbitantes é uma manifestação da seguinte característica dos contratos administrativos:

- (A) caráter personalíssimo.
- (B) comutatividade.
- (C) bilateralidade.
- (D) desequilíbrio.
- (E) formalidade.

**33**

Sociedade *Difusora* almeja realizar determinada atividade potencialmente lesiva ao meio ambiente e apurou que o respectivo licenciamento deve ser obtido junto ao Estado *Alfa*, que, por sua vez, editou a Lei XYZ acerca do tema, a qual determina que o empreendimento em questão é passível de obter licenciamento único, de forma simplificada, nos termos em que nela estabelecido, regulamentando a matéria de forma diversa da Resolução do CONAMA.

Diante dessa situação hipotética, à luz do entendimento do Supremo Tribunal Federal, é correto afirmar que a norma estadual é

- (A) constitucional, pois a atividade está submetida ao licenciamento do Estado, que tem competência plena para legislar sobre os assuntos que estão no âmbito de suas atribuições.
- (B) inconstitucional, pois o Estado não pode criar modalidade de licenciamento distinta e mais simplificada do que aquelas que estão previstas no ordenamento.
- (C) constitucional, pois há hierarquia entre normas, de modo que a lei, ainda que local, deve prevalecer sobre Resolução editada pelo CONAMA.
- (D) inconstitucional, pois o Estado não tem competência legislativa sobre qualquer aspecto atinente à proteção do meio ambiente, ainda que de forma suplementar.
- (E) constitucional, pois as normas editadas pelo CONAMA têm a sua aplicabilidade restrita ao âmbito federal.

**34**

João, agente público, editou uma instrução, contendo diversas diretrizes que devem ser observadas durante a atuação dos servidores públicos que lhe são subordinados. Nesse contexto, em observância à instrução que fora confeccionada, Matheus emitiu, a pedido de um particular, um atestado, declarando a existência de um determinado fato.

Nesse cenário, considerando o entendimento doutrinário e jurisprudencial dominante sobre as espécies de atos administrativos, é correto afirmar que

- (A) a instrução editada por João se caracteriza como um ato administrativo enunciativo. Por sua vez, o atestado emitido por Matheus é um ato administrativo ordinatório.
- (B) a instrução editada por João se caracteriza como um ato administrativo ordinatório. Por sua vez, o atestado emitido por Matheus é um ato administrativo enunciativo.
- (C) a instrução editada por João se caracteriza como um ato administrativo normativo. Por sua vez, o atestado emitido por Matheus é um ato administrativo ordinatório.
- (D) a instrução editada por João e o atestado emitido por Matheus se caracterizam como atos administrativos enunciativos.
- (E) a instrução editada por João e o atestado emitido por Matheus se caracterizam como atos administrativos ordinatórios.

**35**

João, após ser empossado no cargo de Presidente da República, tomou conhecimento de que, em momento pretérito, foi criado, no âmbito da Presidência da República, o Programa de Parcerias de Investimentos (PPI), destinado à ampliação e fortalecimento da interação entre o Estado e a iniciativa privada por meio da celebração de contratos de parceria para a execução de empreendimentos públicos de infraestrutura e de outras medidas de desestatização. Desta forma, o agente político, buscando a implementação de suas promessas de campanha, requereu que a sua equipe de assessores lhe apresentasse um panorama geral sobre a legislação de regência, abordando, em especial, os princípios aplicáveis à temática.

Nesse cenário, considerando as disposições da Lei nº 13.334/2016, é correto afirmar que, na implementação do Programa de Parcerias de Investimentos (PPI), será observado o seguinte princípio:

- (A) estímulo ao desenvolvimento tecnológico e industrial, em harmonia com as metas de desenvolvimento social e econômico do País.
- (B) garantia de segurança jurídica aos agentes públicos, às entidades estatais e aos particulares envolvidos.
- (C) promoção ampla e justa da competição na celebração das parcerias e na prestação dos serviços.
- (D) fortalecimento do papel regulador do Estado e da autonomia das entidades estatais de regulação.
- (E) garantia da expansão com qualidade da infraestrutura pública, com tarifas adequadas.

**36**

Certo Município, que possui em sua estrutura órgão ambiental capacitado, integrante do SISNAMA, solicitou de órgão competente do respectivo Estado apoio técnico, administrativo e financeiro, a fim de realizar a fiscalização das atividades que estão no âmbito de suas atribuições, na medida em que não está logrando a desejada eficiência no seu exercício, o que pode comprometer a qualidade da proteção ao meio ambiente na localidade.

Nos termos da Lei Complementar nº 140/2011, assinale a opção que indica a denominação da atuação a ser realizada pelo Estado em comento.

- (A) Remanescente.
- (B) Supletiva.
- (C) Autônoma.
- (D) Concorrente.
- (E) Subsidiária.

**37**

Maria, no exercício de suas atribuições como servidora pública estadual, diante dos questionamentos e da análise de situações em concreto, entendeu ser necessário compreender a orientação do Supremo Tribunal Federal quanto aos efeitos do tempo em relação às demandas que envolvem reparação civil em decorrência de poluição.

Sobre as pretensões atinentes ao dano ambiental em tal seara, assinale a opção que apresenta, corretamente, a conclusão a que ela chegou.

- (A) Prescrevem em três anos, a contar da cessação do ilícito, envolvendo ou não ressarcimento ao erário.
- (B) Prescrevem em dez anos, a contar da prática do ilícito, salvo quando envolvem ressarcimento ao erário, situação em que são imprescritíveis.
- (C) Prescrevem em cinco anos, a contar da prática do ilícito, envolvendo ou não o ressarcimento ao erário, diante da natureza civil das infrações relacionadas aos danos ao meio ambiente.
- (D) São imprescritíveis nas hipóteses que envolvem ressarcimento ao erário, devendo ser aplicada a prescrição atinente ao respectivo ilícito civil nas demais hipóteses, cujo prazo depende da natureza e gravidade da infração.
- (E) São imprescritíveis, independentemente de envolver o ressarcimento ao erário, por se tratar de direito fundamental indisponível, sendo imperativo o reconhecimento de que não há prazo para a recomposição de tais danos.

**38**

João, membro de uma entidade da sociedade civil com atuação relacionada a proteção de dados pessoais, foi convidado para ocupar um assento no âmbito do Conselho Nacional de Proteção de Dados Pessoais e da Privacidade, tendo, de imediato, aquiescido com o convite. Nesse contexto, antes do início do exercício da novel função, João passou a analisar todas as normas que são aplicáveis ao referido órgão.

Nesse cenário, considerando as disposições da Lei nº 13.709/2018, é correto afirmar que

- (A) João, enquanto representante de entidade da sociedade civil com atuação relacionada a proteção de dados pessoais, não pode ser membro do Comitê Gestor da Internet no Brasil.
- (B) a participação no Conselho Nacional de Proteção de Dados Pessoais e da Privacidade será considerada prestação de serviço público relevante, de natureza remunerada.
- (C) os representantes do Conselho Nacional de Proteção de Dados Pessoais e da Privacidade serão designados por ato do Presidente da República, vedada a delegação.
- (D) o Conselho Nacional de Proteção de Dados Pessoais e da Privacidade será composto de vinte e cinco representantes, titulares e suplentes.
- (E) João terá mandato de quatro anos, permitida uma recondução.

**39**

Após a observância de todas as formalidades constitucionais e legais aplicáveis à espécie, o Município *Alfa* procedeu à desapropriação do imóvel XYZ, uma vez que o proprietário do solo urbano subutilizado não promoveu o seu adequado aproveitamento, sendo certo que as medidas anteriores adotadas, de caráter menos gravoso – edificação compulsória e imposto sobre a propriedade predial e territorial urbana progressivo no tempo – foram infrutíferas.

Nesse cenário, considerando as disposições da Constituição Federal, é correto afirmar que se está diante de uma desapropriação

- (A) urbanística, com pagamento mediante títulos da dívida pública de emissão previamente aprovada pelo Senado Federal, com prazo de resgate de até dez anos, em parcelas anuais, iguais e sucessivas, assegurados o valor real da indenização e os juros legais.
- (B) urbanística, com pagamento mediante títulos da dívida pública de emissão previamente aprovada pelo Senado Federal, com prazo de resgate de até cinco anos, em parcelas anuais, iguais e sucessivas, assegurados o valor real da indenização e os juros legais.
- (C) por necessidade pública, mediante justa e prévia indenização em dinheiro.
- (D) por utilidade pública, mediante justa e prévia indenização em dinheiro.
- (E) urbanística, mediante justa e prévia indenização em dinheiro.

**40**

João compareceu, no período matutino, ao hospital público XYZ, em razão de uma forte crise alérgica. Após ser devidamente medicado, o particular aproveitou o pôr do sol na praça pública ABC, em um cenário paradisíaco. João observou, ainda, que, próximo ao local, existiam diversos terrenos públicos vazios, sem qualquer utilidade.

Nesse cenário, considerando a classificação dos bens públicos quanto ao critério da afetação pública, é correto afirmar que

- (A) o hospital XYZ é um bem público de uso especial. A praça ABC é reputada um bem público dominical. Por fim, os terrenos vazios são bens públicos de uso comum do povo.
- (B) o hospital XYZ é um bem público de uso especial. A praça ABC é reputada um bem público de uso comum do povo. Por fim, os terrenos vazios são bens públicos dominicais.
- (C) o hospital XYZ e a praça ABC são reputados bens públicos de uso comum do povo. Por sua vez, os terrenos vazios são bens públicos dominicais.
- (D) o hospital XYZ é um bem público de uso especial. Por sua vez, a praça ABC e os terrenos vazios são bens públicos de uso comum do povo.
- (E) o hospital XYZ e a praça ABC são reputados bens públicos especiais. Por sua vez, os terrenos vazios são bens públicos dominicais.

**41**

O diretor executivo da sociedade empresária XYZ, após tomar conhecimento de que a União Federal realizará licitação para a celebração de contrato administrativo no contexto das parcerias público-privadas, determinou que a sua assessoria jurídica lhe apresentasse um parecer sobre o Fundo Garantidor de Parcerias Público-Privadas (FGP). Nesse sentido, o empresário foi informado, nos termos da lei, que fica a União, seus fundos especiais, suas autarquias, suas fundações públicas e suas empresas estatais dependentes autorizadas a participar, no limite global de R\$6.000.000.000,00 (seis bilhões de reais), em Fundo Garantidor de Parcerias Público-Privadas (FGP), que terá por finalidade prestar garantia de pagamento de obrigações pecuniárias assumidas pelos parceiros públicos federais, distritais, estaduais ou municipais em virtude das parcerias de que trata a Lei nº 11.079/2004.

Nesse cenário, considerando as disposições da Lei nº 11.079/2004, é correto afirmar que

- (A) a integralização das cotas do Fundo Garantidor de Parcerias Público-Privadas (FGP) poderá ser realizada em dinheiro, títulos da dívida pública, bens imóveis dominicais, bens móveis, inclusive ações de sociedade de economia mista federal excedentes ao necessário para manutenção de seu controle pela União, ou outros direitos com valor patrimonial.
- (B) os bens e direitos transferidos ao Fundo Garantidor de Parcerias Público-Privadas (FGP) serão avaliados pelo Tribunal de Contas da União, que deverá apresentar laudo fundamentado, com indicação dos critérios de avaliação adotados e instruído com os documentos relativos aos bens avaliados.
- (C) o Fundo Garantidor de Parcerias Público-Privadas (FGP) responderá por suas obrigações com os bens e direitos integrantes de seu patrimônio, cabendo, aos cotistas, responsabilidade subsidiária pelas referidas obrigações.
- (D) a integralização do Fundo Garantidor de Parcerias Público-Privadas (FGP) com bens será feita mediante licitação e autorização específica do Presidente da República, por proposta do Ministro da Fazenda.
- (E) o Fundo Garantidor de Parcerias Público-Privadas (FGP) terá natureza pública e patrimônio próprio separado do patrimônio dos cotistas, e será sujeito a direitos e obrigações próprios.

42

A Defensoria Pública do Estado do Tocantins, após ser procurada por diversas pessoas, instaurou procedimento próprio para perquirir eventual violação ao direito fundamental de reunião de seus assistidos, concernente a estar presente nas galerias do Parlamento estadual, a fim de presenciarem o debate no plenário a respeito de determinado hospital público regional. Para aprofundar sua análise, fez requisições à Assembleia Legislativa do Estado. Endereçado o ofício requisitório, o tema foi ao Procurador da Casa Legislativa.

Assinale a opção que apresenta a orientação para o caso descrito.

- (A) A requisição deveria ser negada, pois apenas o Ministério Público possui poder de requisitar informações.
- (B) A resposta institucional deveria ser pelo indeferimento, porque a Defensoria Pública estadual não possui autonomia funcional a permitir comando mandatório dirigido à Assembleia Legislativa.
- (C) A Defensoria Pública pode expedir requisição ao particular, mas não a órgãos e agentes públicos, sendo, portanto, o caso de não prestação de informação.
- (D) A Defensoria Pública pode emitir requisições a órgãos e agentes públicos da estrutura do Poder Executivo, já que insere no mesmo, mas não a órgãos e agentes públicos situados no Poder Legislativo ou no Poder Judiciário, sob pena de violação à separação de poderes.
- (E) A requisição deve ser atendida, porquanto aplicável a teoria dos poderes implícitos e a Defensoria Pública é instituição autônoma e instrumentaliza a tutela dos direitos fundamentais, como acesso à Justiça.

43

Um requerimento de abertura de uma Comissão Parlamentar de Inquérito foi protocolizado e conta com assinatura de metade dos parlamentares da Casa. O presidente da Mesa Diretora, contrário à abertura, afirmou que a instauração da Comissão é ato discricionário seu.

Sobre o instituto da Comissão Parlamentar de Inquérito, analise as afirmativas a seguir e assinale (V) para a verdadeira e (F) para a falsa.

- ( ) A Comissão Parlamentar de Inquérito e seu manejo são considerados prerrogativa político-jurídica das minorias parlamentares.
- ( ) Não é possível lei ordinária criar prioridade no tramite de procedimentos e processos derivados de relatórios de Comissão Parlamentar de Inquérito, porque seria uma ingerência na atividade do Ministério Público e do Poder Judiciário.
- ( ) Não é constitucionalmente legítima a convocação, por parte de Comissão Parlamentar de Inquérito em âmbito federal, de Governador de Estado.

As afirmativas são, respectivamente,

- (A) V – V – V.
- (B) V – F – V.
- (C) V – V – F.
- (D) F – F – F.
- (E) F – V – F.

44

Um juiz, em processo contra a Fazenda Pública estadual, proferiu decisão judicial e determinou a constrição de verbas públicas oriundas de Fundo Estadual de Saúde para atendimento de outras finalidades específicas.

Com relação ao tema, analise as afirmativas a seguir.

- I. A decisão judicial viola a separação de poderes, não podendo o Poder Judiciário, no caso específico, assim decidir porquanto nem mesmo o Executivo pode fazer tal remanejamento de verba; e atenta contra a eficiência da administração pública e a continuidade do serviço público.
- II. É legítima a decisão, mesmo que se considere que a aplicação da verba é compulsória à área da saúde, porquanto deve prevalecer a independência do Poder Judiciário e desde que o magistrado promova a ponderação de interesses e aplique os subprincípios da proporcionalidade – adequação, necessidade e proporcionalidade em sentido estrito.
- III. A solução encontrada esbarra na falta de capacidade institucional do Judiciário para avaliar os impactos de sua decisão sobre a atividade administrativa e a programação financeira do ente e não respeita a excepcional admissão de constrição prevista no sistema de precatórios.

Está correto o que se afirma em

- (A) I, apenas.
- (B) I e II, apenas.
- (C) I e III, apenas.
- (D) II e III, apenas.
- (E) I, II e III.

45

Na Assembleia Legislativa, tramita uma proposta de emenda à Constituição do Estado do Tocantins para passar a contemplar que o Estado não intervirá no Município, salvo quando for verificada, sem justo motivo, impontualidade no pagamento de empréstimo garantido pelo Estado e quando forem praticados, na administração municipal, atos de corrupção devidamente comprovados. O assunto foi submetido ao Procurador Legislativo da Assembleia para análise.

Assinale a opção que apresenta, corretamente, sua manifestação.

- (A) A aludida proposta para ter higidez constitucional precisa ter sido iniciada privativamente pelo Governador do Estado.
- (B) A referida proposta não tem amparo constitucional, pois intervenção é medida excepcional à lógica da autonomia dos entes políticos e assim as hipóteses, que a Carta de 1988 permite de intervenção estadual em Município, constituem rol taxativo.
- (C) A proposta, no tocante à impontualidade de pagamento por parte de município, não deve prosseguir, porquanto as dívidas entre entes políticos devem ser solucionadas judicialmente, em especial utilizando-se do sistema de precatórios.
- (D) A proposta, em relação ao combate à corrupção, tem respaldo na Constituição da República de 1988, porque ela resguarda a eficiência na administração da coisa pública.
- (E) A proposta de emenda, especificamente para a hipótese de corrupção, deveria contemplar a União Federal também como ente apto a intervir, já que de interesse da federação, como um todo, o combate à corrupção.

46

Após a promulgação da Constituição de 1988, o Estado do Tocantins criou, por meio de lei, o órgão de Assessoria Jurídica Estadual, pela qual cargos de Assessor Jurídico exercem a função de consultoria jurídica da Administração Pública Indireta, em matéria de saúde e esporte. A par disso, existe também a Procuradoria-Geral do Estado.

A norma foi impugnada em controle concentrado junto ao Supremo Tribunal Federal e a Assembleia Legislativa, instada a se manifestar, corretamente expôs que

- (A) a autonomia administrativa das autarquias e fundações públicas deve prevalecer, porque o interesse público dessas entidades, como pessoas jurídicas de direito público responsáveis pela prestação de serviços típicos de Estado, confunde-se com o próprio interesse institucional do ente político do qual fazem parte.
- (B) a norma é constitucional na medida em que a Constituição de 1988 não previu privatividade das atividades de representação jurídica e de consultoria jurídica do ente político apenas à Procuradoria-Geral do Estado.
- (C) a unicidade orgânica da advocacia pública estadual não permite, como regra, a criação, para além da Procuradoria-Geral do Estado, de órgão com a função de consultoria jurídica da Administração Pública.
- (D) a Constituição de 1988 permite ao Estado manter consultoria jurídica separada de sua Procuradoria-Geral, desde que, na data da promulgação da Constituição, existam órgãos distintos para as respectivas funções, podendo isso ser ampliado em respeito a auto-organização e normatização própria do ente político.
- (E) as autarquias e as fundações públicas são dotadas de personalidade jurídica própria e seus atos não se confundem com os da Administração Direta, não podendo jamais ser defendidas pela Procuradoria-Geral, a significar a legitimidade da criação da Assessoria Jurídica Estadual.

47

Após a promulgação e publicação de determinada lei, foram republicados no Diário Oficial novos vetos à proposta legislativa. A respeito do processo legislativo de leis ordinárias, analise as afirmativas a seguir e assinale (V) para a verdadeira e (F) para a falsa.

- ( ) A republicação em Diário Oficial é forma legítima de alterar sanção anterior, já que é dado ao chefe do Poder Executivo promover a sanção ou o veto a um projeto de lei.
- ( ) Com a aquiescência do Poder Executivo ao projeto de lei, pela respectiva sanção, ocorre a preclusão entre as etapas do processo legislativo, sendo incabível eventual retratação.
- ( ) O exercício da prerrogativa do veto parcial, faz com que a parte não vetada seja promulgada, transformando-se o projeto de lei em lei. Por outro lado, a parte vetada vai para o Congresso Nacional, que deverá deliberar, em sessão conjunta, sobre a manutenção ou derrubada do veto.

As afirmativas são, respectivamente,

- (A) F – V – F.  
 (B) V – F – V.  
 (C) V – V – F.  
 (D) F – V – V.  
 (E) V – F – F.

48

O Chefe do Poder Executivo do Estado do Tocantins editou medida provisória, tratando da fixação do subsídio mensal dos membros da carreira de Procurador do Estado, louvando-se no dispositivo positivado na Constituição da República de 1988.

Quando do seu trâmite na Assembleia Legislativa do Tocantins, houve emenda parlamentar em projeto de conversão de medida provisória que ensejou elevação de despesa por parte do Poder Executivo, porquanto foram criadas gratificações a servidores da Procuradoria-Geral do Estado.

Passados 150 dias de sua publicação, o Parlamento estadual ainda não havia encerrado sua análise, porque permaneceu trabalhando nos demais projetos usuais antes existentes.

À luz da jurisprudência do Supremo Tribunal Federal, assinale a opção que apresenta a solução correta para o caso descrito.

- (A) Por inexistir a espécie normativa no ordenamento jurídico estadual, não tem o respectivo Chefe do Poder Executivo possibilidade de editar medida provisória.
- (B) Pode haver emenda parlamentar que traga aumento de despesa, desde que, como no caso, haja pertinência temática entre a norma original e a emenda.
- (C) Em âmbito estadual, é possível que medida provisória tenha eficácia por oitenta dias, prorrogável uma vez, por igual período.
- (D) É facultado à Constituição Estadual estabelecer o ingresso em regime de urgência para análise da medida provisória, após superados quarenta e cinco dias de sua publicação.
- (E) Porquanto inaplicável o princípio da simetria, o regime de urgência eventualmente previsto para análise de medida provisória não enseja o sobrestamento das demais deliberações legislativas da casa.

49

Um dispositivo da Constituição estadual do Tocantins possibilita a reeleição consecutiva e em número ilimitado dos membros da Mesa Diretora da Assembleia Legislativa para os mesmos cargos que ocupam.

Com relação a essa situação, analise os itens a seguir.

- I. No modelo federal, a Constituição de 1988 previu eleição das respectivas Mesas, para mandato de dois anos, mas vedou a recondução para o mesmo cargo na eleição imediatamente subsequente.
- II. O Supremo Tribunal Federal já decidiu ser possível a recondução no mesmo cargo, do membro da Mesa Diretora da Assembleia Legislativa.
- III. É constitucionalmente legítima, em nível regional, a não fixação de limites para o número de reconduções dos membros da Mesa Diretora da Assembleia Legislativa para os mesmos cargos que ocupam.

Está correto o que se afirma em

- (A) I, apenas.  
 (B) I e II, apenas.  
 (C) I e III, apenas.  
 (D) II e III, apenas.  
 (E) I, II e III.



50

Uma lei estadual do Tocantins, datada de 1986, prevê a concessão de pensão vitalícia à viúva de ex-Governadores do Estado. O Supremo Tribunal Federal (STF) foi provocado a decidir, em controle concentrado de constitucionalidade.

A respeito dessa situação e com base no pensamento da Suprema Corte, analise as afirmativas a seguir e assinale (V) para a verdadeira e (F) para a falsa.

- ( ) A referida provocação deve acontecer via Ação Direta de Inconstitucionalidade, visto que o assunto se pauta na aferição da compatibilidade da norma com a Constituição.
- ( ) Por se tratar de verba de caráter alimentício, é possível não se exigir a devolução dos valores pagos, modulando-se os efeitos de eventual decisão que reconheça a incompatibilidade da pensão com a Constituição da República de 1988.
- ( ) A concessão da aludida pensão contraria a Constituição da República de 1988, porquanto, dentre outros argumentos, afronta o princípio republicano, a impessoalidade e a moralidade administrativa.

As afirmativas são, respectivamente,

- (A) F – F – F.
- (B) F – F – V.
- (C) V – V – F.
- (D) F – V – V.
- (E) V – V – V.

51

Determinada lei do Estado do Tocantins incluiu o pagamento de pessoal inativo nas despesas consideradas como de manutenção e desenvolvimento do ensino.

Sobre a situação jurídico-constitucional subjacente, analise as afirmativas a seguir e assinale (V) para a verdadeira e (F) para a falsa.

- ( ) Compete ao legislador estadual legislar sobre matéria de educação. No entanto, é preciso observar que diretrizes e bases da educação nacional são matéria de competência legislativa privativa da União.
- ( ) Servidor inativo não deve ser inserido no conceito de manutenção e desenvolvimento do ensino, não podendo as receitas oriundas de transferências, destinadas à educação, servir para o pagamento de aposentadoria.
- ( ) A receita proveniente de imposto não pode servir para pagar despesa que deveria ser arcada com receitas provenientes do regime previdenciário.

As afirmativas são, respectivamente,

- (A) V – V – V.
- (B) V – F – V.
- (C) V – V – F.
- (D) F – F – F.
- (E) F – V – F.

52

A fim de exercitar seu direito de reunião, de modo pacífico e sem armas, em local público, uma organização não promoveu o prévio aviso à autoridade competente.

Em relação ao aludido direito fundamental, analise as afirmativas a seguir.

- I. O aviso prévio serve para viabilizar ao poder público que zele para que o exercício do direito se dê de forma pacífica e que não frustre outra reunião no mesmo local.
- II. É necessário o mencionado prévio aviso, para se obter a autorização da autoridade competente, sem a qual o exercício do direito é ilícito.
- III. O Supremo Tribunal Federal entende que a falta de notificação, para concretizar o aviso prévio, por si só, não torna a reunião ilícita.

Está correto o que se afirma em

- (A) I, apenas.
- (B) I e II, apenas.
- (C) I e III, apenas.
- (D) II e III, apenas.
- (E) I, II e III.

53

A Constituição do Estado do Tocantins foi emendada para permitir, no processo legislativo de modificação dela, quórum de aprovação de dois terços dos votos dos respectivos membros. Depois disso, no texto constitucional estadual, foi incluída a concessão de porte de arma de fogo para o Procurador do Estado.

Por conta do trâmite do processo objetivo inaugurado no Supremo Tribunal Federal, foi ouvida a Casa Legislativa de origem que, acertadamente, explicou que

- (A) o assunto versa sobre segurança pública, matéria de competência legislativa concorrente a todos os entes políticos, o que significa a constitucionalidade formal da concessão de porte de arma de fogo para Procurador do Estado.
- (B) a modificação da Constituição estadual obedece a critérios próprios específicos de cada ente político, em homenagem a autoadministração e auto-organização e normatização própria, fruto da forma de estado adotada pela Constituição da República de 1988.
- (C) a concessão de porte de arma de fogo para Procurador do Estado não importa em tratamento anti-isonômico, se comparado com outras carreiras do sistema de justiça, já que o fator de diferenciação guarda justificção, posto a atividade ter vinculação com matéria penal.
- (D) é de competência legislativa privativa dos Estados a edição de normas gerais sobre material bélico e de competência administrativa exclusiva desse ente político a autorização e fiscalização do comércio de material bélico.
- (E) as regras e parâmetros do processo legislativo federal são de reprodução obrigatória nas Constituições estaduais, sendo inconstitucional a previsão de quórum diverso de três quintos dos membros do Poder Legislativo para aprovação de emenda constitucional.

54

De acordo com a jurisprudência da Corte Interamericana de Direitos Humanos (Corte IDH), analise as afirmativas a seguir.

- I. A Corte IDH, no caso *Tzompaxtle Tecpile vs. México*, decidiu que qualquer figura de natureza pré-processual que busque restringir a liberdade de uma pessoa para conduzir uma investigação sobre delito que supostamente cometeu resulta intrinsecamente contrária ao conteúdo da Convenção Americana de Direitos Humanos (CADH) e viola de forma manifesta seus direitos à liberdade pessoal e à presunção de inocência.
- II. A Corte IDH, no caso *Luiza Melinho vs. Brasil*, concluiu que o Estado brasileiro não garantiu acesso à saúde da vítima em igualdade de condições, o que foi demonstrado por meio dos obstáculos para acessar a cirurgia de transgenitalização solicitada.
- III. No caso *Manuela e outros vs. El Salvador* restou decidido pela Corte I.D.H. que, quando do atendimento de uma mulher que praticou o aborto, clandestino ou não, os profissionais da medicina e de enfermagem não podem denunciar essa prática às autoridades. Deve-se resguardar o sigilo médico.

Está correto o que se afirma em

- (A) I, apenas.
- (B) I e II, apenas.
- (C) I e III, apenas.
- (D) II e III, apenas.
- (E) I, II e III.

55

De acordo com o processo de incorporação dos tratados de Direitos Humanos no nosso ordenamento jurídico interno, analise as afirmativas a seguir.

- I. As Constituições brasileiras já existentes, incluindo a Constituição de 1988, adotaram a autorização prévia do Poder Legislativo como pressuposto constitucional do processo de incorporação do tratado de direitos humanos na ordem jurídica interna, salvo a primeira Constituição de 1824.
- II. De acordo com a Constituição de 1988, compete exclusivamente ao Congresso Nacional resolver definitivamente sobre tratados, acordos ou atos internacionais que acarretem encargos ou compromissos gravosos ao patrimônio nacional.
- III. O processo de incorporação de um tratado envolve quatro fases: assinatura, aprovação legislativa, ratificação e decreto de promulgação. Nesse sentido, de acordo com a Convenção de Viena sobre o Direito dos Tratados, quando da assinatura do tratado, o Estado já estaria obrigado a abster-se da prática de atos que frustrariam o objeto e a finalidade desse tratado.

Está correto o que se afirma em

- (A) I, apenas.
- (B) I e II, apenas.
- (C) I e III, apenas.
- (D) II e III, apenas.
- (E) I, II e III.

56

*A deficiência é considerada um conceito social (e não médico) em evolução, resultante da interação entre pessoas com deficiência e as barreiras geradas por atitudes e pelo ambiente que impedem a plena e efetiva participação dessas pessoas na sociedade em igualdade de oportunidades com as demais pessoas.*

RAMOS, André de Carvalho, *Curso de Direitos Humanos*. São Paulo: Saraiva Educação, 6ª ed. 2019, pág.839.

A luta pela implementação dos direitos das pessoas com deficiência culminou na edição do Estatuto da Pessoa com Deficiência (Lei nº 13.146/2015), entre outros diplomas legais, além de ensejar também constante evolução jurisprudencial dos Tribunais Superiores.

Nesse sentido, de acordo com a jurisprudência consolidada do STJ, analise as afirmativas a seguir.

- I. É possível a compensação por dano moral decorrente de falha na prestação de serviço de transporte coletivo público às pessoas com deficiência quando ofertado de forma negligente e/ou discriminatória, sem condições dignas de acessibilidade.
- II. Para fins de isenção tributária na aquisição de automóveis por pessoas com deficiência, o fato de o veículo ser conduzido por terceira pessoa constitui impedimento para o deferimento do benefício, posto que a isenção tributária é direito personalíssimo da pessoa com deficiência.
- III. O Caso *Damião Ximenes Lopes* (2006) foi a primeira condenação do Brasil na Corte IDH sobre violação de direitos humanos de pessoa com enfermidade mental. Restou decidido que a responsabilidade estatal também pode ocorrer por atos de particulares em princípio não atribuíveis ao Estado, tal como ocorre quando se prestam serviços em nome do Estado.

Está correto o que se afirma em

- (A) I, apenas.
- (B) III, apenas.
- (C) I e II, apenas.
- (D) I e III, apenas.
- (E) II e III, apenas.

## Direito Civil / Processual Civil

57

O *Hospital Sua Saúde* move ação de cobrança de despesas hospitalares de Roseli Silva, requerendo o pagamento de todas as despesas referentes à internação e tratamento de Augusto César, já falecido.

Em sua defesa, Roseli Silva alega que, na qualidade de empregada/cuidadora do falecido Augusto César, o acompanhou em sua internação no *Hospital Sua Saúde*, pois Augusto César passou mal durante a madrugada e nenhum dos filhos conseguiria chegar em tempo hábil para acompanhar o pai ao hospital. Afirma que assinou a documentação exigida e disponibilizada pelo Hospital, na qualidade de acompanhante, sem ter conhecimento de que estaria assumindo obrigações por despesas médico-hospitalares de seu empregador. Ao contrário, afirma que foi informada que a assinatura dos documentos era apenas para viabilizar a internação.

Diante da situação hipotética narrada, assinale a opção que indica, corretamente, o negócio jurídico celebrado entre Roseli Silva e o *Hospital Sua Saúde*.

- (A) É válido, pois a responsabilização pelo pagamento das despesas consta do contrato assinado.
- (B) É anulável por erro essencial quanto à natureza do negócio e ao objeto principal da declaração.
- (C) É anulável por estado de perigo, no prazo decadencial de quatro anos.
- (D) É anulável por dolo, no prazo decadencial de dois anos.
- (E) É nulo, pois configura coação moral absoluta.

58

Ângela Maria, viúva, mãe de Áurea e de Gabriel, contemplou a filha com um imóvel avaliado em dois milhões de reais em 2010, época da doação. Gabriel, em que pese o seu descontentamento, participou do ato como testemunha.

Em 2018, Ângela Maria vem a óbito. Em 2021, Gabriel promove ação anulatória da doação, afirmando em síntese, que desrespeitou a legítima. Anexa documentos comprobatórios do patrimônio deixado por Ângela, demonstrando que o montante, ao tempo da abertura da sucessão, equivalia a cerca de um milhão de reais.

Diante da situação hipotética, da legislação vigente e do entendimento do Superior Tribunal de Justiça, assinale a afirmativa correta.

- (A) Considera-se o momento da doação e não o da abertura da sucessão para a verificação de eventual excesso caracterizador da doação inoficiosa, a qual pode ser arguida no prazo decenal, contado da ciência inequívoca da liberalidade.
- (B) Considera-se o momento da abertura da sucessão para a verificação de eventual excesso caracterizador da doação inoficiosa, a qual pode ser arguida no prazo decenal, contado do registro do ato.
- (C) Considera-se o momento da doação e não o da abertura da sucessão para a verificação de eventual excesso caracterizador da doação inoficiosa, a qual pode ser arguida a qualquer momento.
- (D) Considera-se o momento da doação e não o da abertura da sucessão para a verificação de eventual excesso caracterizador da doação inoficiosa, a qual pode ser arguida no prazo decenal, contado da data do óbito do doador.
- (E) Considera-se o momento da abertura da sucessão e não o da doação para a verificação de eventual excesso caracterizador da doação inoficiosa, a qual pode ser arguida no prazo decenal, contado da data do óbito do doador.

59

Ana decidiu comprar o imóvel oferecido por Matheus, seu colega de trabalho. Contudo, afirma que não tem o dinheiro para o pagamento à vista, oferecendo o pagamento de um valor de entrada correspondente a 60% do preço, com o restante dividido em 24 (vinte e quatro) prestações mensais, sem intervenção de terceiro agente financiador.

Matheus aceita a contraproposta de Ana, mas decide que, enquanto o preço não estiver integralmente pago, a propriedade deve permanecer consigo, ainda que a posse do imóvel seja transferida à Ana desde o início, exigindo-se novo acordo de vontades após a quitação, para a transferência definitiva do bem. Por outro lado, Ana pretende firmar um acordo que garanta, após a quitação do preço, o direito de obter a propriedade de forma compulsória, isto é, ainda que encontre resistência da parte vendedora, desejando, também, obter direito real de aquisição, pelo registro do contrato. Ambas as partes pretendem que o negócio seja irrevogável.

Diante desse caso, assinale a opção que indica o contrato que as partes devem firmar para atender ao concreto regulamento de interesses.

- (A) Contrato de compra e venda com reserva de domínio.
- (B) Promessa de compra e venda.
- (C) Contrato de arrendamento com opção de compra.
- (D) Alienação fiduciária em garantia.
- (E) Compromisso de compra e venda com cláusula de hipoteca.

60

Pedro Henrique ajuizou ação de cumprimento de cláusula contratual cumulada com perdas e danos em face de *ABC Construtora*. Consta da inicial, que as partes celebraram contrato de compra e venda de imóvel com previsão de entrega em até 18 meses após a assinatura, sob pena de multa mensal de 0,5% do valor do contrato, afastada a indenização suplementar, conforme cláusula contratual expressa. Pedro Henrique afirma que o imóvel foi entregue com atraso de 11 meses, razão pela qual, requer a execução da cláusula contratual. Alega também que, em virtude da mora da ré, experimentou danos materiais correspondentes aos valores gastos com a locação de outro imóvel durante o período de atraso, bem como danos morais pela frustração vivenciada.

Diante da situação hipotética, da legislação vigente e do entendimento do Superior Tribunal de Justiça (STJ), assinale a afirmativa correta.

- (A) Conforme o entendimento do STJ, é possível a cumulação da cláusula penal moratória, tal qual a estabelecida no contrato, com a indenização por lucros cessantes, pois possuem naturezas distintas.
- (B) Nos termos da legislação vigente, a cláusula penal estabelecida no contrato converte-se em benefício do credor, sendo sempre cumulável com a indenização por lucros cessantes.
- (C) Conforme o entendimento do STJ, é possível cumular a cláusula penal com a indenização por lucros cessantes mesmo quando a multa apresenta equivalência com os locativos desde que não exceda o valor da obrigação principal.
- (D) Conforme o entendimento do STJ, a cláusula penal moratória tem a finalidade de indenizar pelo inadimplemento relativo, e, em regra, estabelecida em valor equivalente ao locativo, afasta a cumulação com lucros cessantes.
- (E) Conforme a legislação vigente, a previsão expressa de cláusula penal compensatória representa renúncia a discussão posterior de lucros cessantes.

61

*Lu Patinadora* propôs ação de responsabilidade civil contra o Estado do Tocantins e o cantor *João CantoBem*, alegando danos à sua imagem por brincadeiras de mau gosto que o cantor teria feito em um *show* comemorativo promovido pelo governo do Estado.

Assinale a opção que, corretamente, se aplica à hipótese apresentada.

- (A) O cantor *João CantoBem* e o Estado do Tocantins têm o prazo comum de 15 dias para contestarem, contados da citação por oficial de justiça do cantor, por se tratar de litisconsórcio.
- (B) O cantor *João CantoBem* tem o prazo de 15 dias para contestar e o Estado do Tocantins tem o prazo de 30 dias para contestar, ambos contados da citação por oficial de justiça do cantor, por se tratar de litisconsórcio.
- (C) O cantor *João CantoBem* e o Estado do Tocantins têm o prazo comum de 30 dias para contestarem, contados da carga do processo pelo procurador do Estado, por se tratar de litisconsórcio.
- (D) O cantor *João CantoBem* tem o prazo de 15 dias, contados da juntada do mandado, para contestar e o Estado do Tocantins tem o prazo de 30 dias, contados da carga do processo pelo procurador do Estado, para contestar.
- (E) O cantor *João CantoBem* tem o prazo de 30 dias para contestar, contados da juntada do mandado, e o Estado do Tocantins tem o prazo de 30 dias para contestar, contados da carga do processo pelo procurador do Estado, por ser caso de litisconsórcio.

## 62

O princípio da confiança conectado à cláusula geral da boa-fé objetiva serve de fundamento para justificar a modulação de certos efeitos negociais. Eis a razão pela qual o Superior Tribunal de Justiça já definiu que é possível a “*redução do conteúdo obrigacional pela inércia de uma das partes, ao longo da execução do contrato, em exercer determinado direito ou faculdade, criando para a outra a percepção válida e plausível – a ser apurada casuisticamente – de ter havido a renúncia àquela prerrogativa.*” (Recurso Especial nº 1.879.503).

Com base nesta corrente dogmática, segundo a jurisprudência do Superior Tribunal de Justiça, assinale a opção que, corretamente, deve ser qualificada como hipótese da *supressio* ou da *surrectio*.

- (A) Locadora que deixa de aplicar o reajuste no valor do aluguel, ao longo de cinco anos, perdendo o direito de cobrá-lo (*supressio*), tanto os retroativos, quanto os valores posteriores à notificação.
- (B) Obrigação alimentar extinta, mas que continua a ser paga por mera liberalidade do alimentante, ao longo de quinze anos, pode ser mantida com fundamento no instituto da *surrectio*.
- (C) Credor que, em dívida contratualmente portátil, aceita receber o primeiro pagamento no domicílio do devedor, perde o direito de receber em seu domicílio nos vencimentos subsequentes (*supressio*).
- (D) Investidor de fundo de investimento que permanece inerte por quarenta anos perde o direito de exigir a prestação de contas sobre o destino de suas aplicações, em razão da *supressio*.
- (E) Distribuidora que, por seis anos, não exige obrigação contratual, ao posto varejista, de aquisição de quantidade mínima mensal de combustível, perde o direito de cobrar a multa prevista (*supressio*).

## 63

Paulo Souza é casado com Marta Tereza. O casal sempre manteve uma boa relação e a única divergência constante era em relação à José, amigo de infância de Paulo. Marta nunca gostou de José, especialmente porque ele nunca se manteve em emprego fixo, sempre pedindo ajuda financeira. A última discussão do casal foi porque Paulo resolveu emprestar um imóvel adquirido na constância do matrimônio para José residir, visto que ele, novamente, encontrava-se desempregado.

Após muita discussão, considerando que, apesar de tudo, José é o melhor amigo de Paulo, Marta Tereza concordou com o empréstimo por dois anos, para fins de residência exclusiva de Paulo, constando do contrato que José deveria arcar com as despesas de condomínio, além da manutenção do imóvel e do uso exclusivo para fins de residência de José.

Nesses termos, celebraram o contrato. Após nove meses da celebração do acordo, José vem a óbito e Suzy se apresenta ao casal como companheira de José, informando que residia no imóvel há cerca de três meses e que lá permaneceria até o final do prazo de dois anos.

Diante da situação hipotética narrada, assinale a afirmativa correta.

- (A) O contrato de comodato *intutu personae*, favorece a família do comodatário, razão pela qual Suzy tem o direito de permanecer no imóvel.
- (B) O contrato celebrado entre as partes foi de locação, razão pela qual opera-se, em favor de Suzy, a cessão da posição contratual.
- (C) Como o contrato de comodato foi celebrado *intutu personae*, Paulo Souza e Marta Tereza, com a morte de José, podem exigir a restituição do imóvel, o que leva à extinção do contrato.
- (D) A obrigatoriedade imposta de pagar as despesas de condomínio transforma o contrato em modal, retirando o caráter da gratuidade, podendo Suzy permanecer desde que cumpra o ônus originalmente imposto.
- (E) Suzy, na qualidade de comodatária, poderá recobrar de Paulo Souza e Marta Tereza as despesas feitas com o uso do imóvel desde a morte de José.

64

*Clara da Gema* é ré em ação de cobrança proposta por *Pedro Sapateiro*. Ele propôs esta ação, exigindo seu crédito, muitos e muitos anos depois de sofrer a lesão pelo não pagamento, já tendo havido a passagem do prazo prescricional.

Assinale a opção que, corretamente, se aplica à hipótese.

- (A) O juiz não poderia reconhecer de ofício a prescrição, sendo necessário primeiro citar *Clara da Gema*, de acordo com as Normas Fundamentais do Processo Civil.
- (B) O juiz deve prosseguir com o processo para saber a verdade dos fatos, de acordo com as Normas Fundamentais do Processo Civil.
- (C) *Clara da Gema* não será citada, pois o juiz poderá julgar liminarmente improcedente o pedido por verificar a prescrição.
- (D) O juiz deve, no caso, estimular a autocomposição entre as partes *Clara da Gema* e *Pedro Sapateiro*, para a solução consensual do conflito.
- (E) *Clara da Gema* terá que cooperar com o propósito de *Pedro Sapateiro* de receber seu crédito, pois essa é a diretriz das Normas Fundamentais do Processo Civil do Código de Processo Civil.

65

Em cumprimento de sentença contra a Fazenda Pública estadual movida por *Estela Estrela*, foi proferida decisão interlocutória que rejeitou a impugnação apresentada pela Fazenda Pública.

Assinale a opção que, corretamente, se aplica à hipótese.

- (A) Tem cabimento o recurso de agravo de instrumento pela Fazenda Pública, pois a lei prevê que as decisões interlocutórias são recorríveis em sede de cumprimento de sentença.
- (B) A Fazenda Pública pode interpor agravo de instrumento, com base no entendimento jurisprudencial da taxatividade mitigada.
- (C) Não cabe agravo de instrumento e a matéria será deduzida como preliminar de apelação.
- (D) Não cabe agravo de instrumento e a matéria não é passível de arguição.
- (E) Tem cabimento o recurso de agravo de instrumento pela Fazenda Pública, pois a hipótese está expressamente prevista no Código de Processo Civil.

66

Vencedora em ação judicial de cobrança, *Fatima Faisão* iniciou cumprimento de sentença contra a Fazenda Pública estadual.

Em sede de impugnação, a Fazenda Pública estadual poderá alegar

- (A) falta ou nulidade da citação na fase de conhecimento, pois esta é essencial para a validade de qualquer processo.
- (B) qualquer causa modificativa ou extintiva da obrigação, como pagamento, novação, compensação, transação ou prescrição, ocorridas a qualquer tempo, pois afastam a existência da obrigação.
- (C) toda e qualquer matéria defensiva, com fundamento na garantia da ampla defesa constitucional.
- (D) o excesso de execução, não tendo o ônus de indicar o excesso, já que esse ônus cabe a quem alega o direito, ou seja, a *Fatima Faisão*.
- (E) a inexigibilidade da obrigação reconhecida em título executivo judicial fundado em lei considerada inconstitucional pelo Supremo Tribunal Federal.

## Direito Tributário / Direito Financeiro

67

*João* é contribuinte do imposto sobre a renda. No entanto, no prazo legal, não declarou e nem antecipou o pagamento do tributo.

Sobre o fato narrado, assinale a afirmativa correta.

- (A) Tratando-se de tributo sujeito ao lançamento por homologação, o prazo decadencial de cinco anos para a Fazenda Nacional constituir o crédito é contado da ocorrência do fato gerador.
- (B) Tratando-se de tributo sujeito ao lançamento por declaração, a Fazenda Nacional, o prazo decadencial de cinco anos para a Fazenda Nacional constituir o crédito é contado da ocorrência do fato gerador.
- (C) Tratando-se de tributo sujeito ao lançamento por ofício, o prazo decadencial de cinco anos para a Fazenda Nacional constituir o crédito é contado do primeiro dia do exercício seguinte àquele em que o lançamento poderia ter sido efetuado.
- (D) Tratando-se de tributo sujeito ao lançamento por homologação, o prazo decadencial de cinco anos para a Fazenda Nacional constituir o crédito é contado do primeiro dia do exercício seguinte àquele em que o lançamento poderia ter sido efetuado.
- (E) Tratando-se de tributo sujeito ao lançamento por declaração, o prazo decadencial de cinco anos para a Fazenda Nacional constituir o crédito é contado da data em que a declaração deveria ter sido entregue.

68

As Leis nº 10.637/2002 e 10.833/2003 instituíram o regime de apuração não cumulativo da Contribuição para o PIS e para a COFINS, respectivamente.

Sobre o referido regime, assinale a afirmativa correta.

- (A) É aplicável às pessoas jurídicas optantes pelo regime de tributação denominado "Simples Nacional".
- (B) O regime não cumulativo permite o desconto de créditos calculados em relação a determinados custos, despesas e encargos da sociedade empresária sobre o valor do PIS e da COFINS apurados.
- (C) Estabelece a incidência de alíquotas diferenciadas em razão da atividade prestada pela pessoa jurídica.
- (D) O regime não cumulativo contempla a possibilidade de se compensar o que for devido em cada operação com o montante cobrado nas operações anteriores.
- (E) É legítima a incidência da contribuição ao PIS e da COFINS não cumulativas sobre os valores recebidos por empresa exportadora em razão da transferência a terceiros de créditos de ICMS.

69

Determinada lei estadual, com amparo em convênio do Conselho Nacional de Política Fazendária – CONFAZ, concedeu remissão de créditos de ICMS surgidos em decorrência do gozo de benefícios fiscais anteriormente declarados inconstitucionais pelo Supremo Tribunal Federal – STF.

Sobre a hipótese, assinale a afirmativa correta.

- (A) A lei estadual foi devidamente precedida de regular autorização concedida por meio de Convênio celebrado no âmbito do CONFAZ, sendo, portanto, constitucional.
- (B) Por ter o ICMS potencial lesivo ao pacto federativo, somente o legislador complementar poderia conceder ou revogar benefícios fiscais a ele relacionados, sendo inconstitucional a lei estadual.
- (C) A lei estadual, ao convalidar os efeitos pretéritos dos benefícios fiscais de ICMS declarados inconstitucionais, violou a jurisdição constitucional dos tribunais.
- (D) A competência estadual para a concessão de remissão de créditos de ICMS é plena, sendo dispensável a autorização via CONFAZ, na hipótese, pois apenas as isenções devem ser autorizadas pelos convênios.
- (E) A lei estadual é formalmente inconstitucional, pois não há autorização constitucional para que os Estados legislem, unilateralmente, sobre anistia, remissão, transação, moratória, parcelamento de débitos fiscais e ampliação do prazo de recolhimento do ICMS.

70

Caio e Tício eram sócios e gerentes da pessoa jurídica XYZ. Em 2017, XYZ deixou de recolher o Imposto sobre a Propriedade de Veículos Automotores – IPVA incidente sobre veículo automotor de sua propriedade.

Em 2018, a Fazenda Estadual ajuizou execução fiscal visando à cobrança dos créditos de IPVA. No mesmo ano, XYZ foi citada e apresentou exceção de pré-executividade que não foi acolhida.

Em 2020, Caio e Tício se retiraram da sociedade e Mévio e Maria passaram a ser sócios e gerentes de XYZ.

Em 2023, no curso da tramitação do feito, ao tentar penhorar bens de propriedade de XYZ, o Oficial de Justiça verificou, após diversas tentativas, que a sociedade empresária não estava mais funcionando no local indicado aos órgãos competentes como seu domicílio fiscal.

Em 2024, a Fazenda Estadual solicitou a inclusão de Caio, Tício, Mévio e Maria no polo passivo da execução fiscal.

Sobre a hipótese, assinale a afirmativa correta.

- (A) A citação positiva de XYZ provocou, por si só, o início do prazo prescricional para o redirecionamento da execução fiscal para os sócios-gerentes.
- (B) O redirecionamento da execução fiscal, fundado na dissolução irregular de XYZ, não pode ser autorizado contra Mévio e Maria, pois eles não exerciam poderes de gerência quando ocorrido o fato gerador do tributo não adimplido.
- (C) O termo inicial do prazo prescricional para a cobrança do crédito dos sócios-gerentes é a data da prática de ato inequívoco indicador do intuito de inviabilizar a satisfação do crédito tributário já em curso de cobrança executiva promovida contra XYZ, a ser demonstrado pelo fisco estadual.
- (D) Aplica-se, no caso, o prazo de redirecionamento da execução fiscal para os sócios-gerentes Caio e Tício, fixado em cinco anos, contados da dissolução irregular.
- (E) A decretação da prescrição para o redirecionamento dos sócios-gerentes, após o decurso do prazo, poderá ser feita de ofício, independentemente de a Fazenda Estadual ter promovido atos de impulsão processual.

71

Determinado Estado da Federação editou emenda à constituição estadual para, especificamente, alterar a tramitação e os prazos do projeto de lei do plano plurianual.

A redação do artigo alterado restou assim consolidada:

*Art. XXX – O plano plurianual, as diretrizes orçamentárias, os orçamentos anuais e os créditos adicionais constarão de projetos de lei encaminhados ao Poder Legislativo.*

*§1º. Os projetos de lei do plano plurianual, de diretrizes orçamentárias e dos orçamentos anuais serão enviados ao Poder Legislativo, pelo Governador do Estado, nos seguintes prazos:*

*I - o projeto de lei do plano plurianual até 1º de agosto do primeiro ano do mandato do Governador;*

*II - o projeto de lei de diretrizes orçamentárias, anualmente, até 15 de maio;*

*III - os projetos de lei dos orçamentos anuais até 15 de setembro de cada ano.*

*§2º. Os projetos de lei de que trata o parágrafo anterior deverão ser encaminhados, para sanção, nos seguintes prazos:*

*I - o projeto de lei do plano plurianual até 1º outubro do primeiro ano do mandato do Governador, e o projeto de lei de diretrizes orçamentárias até 15 de julho de cada ano;*

*II - os projetos de lei dos orçamentos anuais até 30 de novembro de cada ano.”*

Sobre a emenda constitucional descrita, assinale a afirmativa correta.

- (A) Ofende o Princípio da Simetria, pois deixou de adotar tramitação e prazos previstos em lei complementar federal.
- (B) Deixou de respeitar a cronologia que ordena que o calendário para tramitação legislativa do plano plurianual, da lei de diretrizes orçamentárias, e da lei orçamentária anual, seja feito exatamente nessa ordem.
- (C) Os estados-membros não possuem qualquer autonomia para formular as normas necessárias à elaboração e ao controle dos orçamentos públicos, devendo, enquanto não sobrevier lei complementar federal, replicar o modelo federal quanto aos prazos e tramitação.
- (D) A lei de responsabilidade fiscal prevê a ordem de tramitação e prazos do plano plurianual, o que não foi cumprido pela emenda analisada.
- (E) Cabe aos estados-membros, enquanto não sobrevier lei complementar federal, a escolha de tramitação para os seus respectivos projetos de lei orçamentária, desde que resguardada a mesma estrutura do plano federal.

72

Em relação aos crimes contra a ordem tributária, assinale a afirmativa correta.

- (A) Na caracterização dos crimes contra a ordem tributária, não é suficiente a demonstração do dolo genérico.
- (B) O crime de omissão de informação às autoridades fazendárias, com o intuito de reduzir tributo, pode ser tipificado previamente ao lançamento definitivo do tributo.
- (C) Não se admite a extinção da punibilidade do crime pela satisfação do tributo devido, ainda que o pagamento ocorra antes do recebimento da denúncia.
- (D) A data do termo inicial para contagem do prazo prescricional é a data do lançamento definitivo do crédito tributário, quando ocorre a consumação do delito.
- (E) Para a incidência do princípio da insignificância, nos crimes contra a ordem tributária, é preciso considerar o montante principal, além dos juros e multa, sendo relevante o fato da conduta criminosa ter sido praticada em continuidade delitiva.

**73**

O Tribunal de Contas da União (TCU) e os dos estados-membros (TCEs) são órgãos de controle e exercem papel fundamental na fiscalização da gestão fiscal e da prestação de contas.

Com relação às atribuições dos Tribunais de Conta, analise as afirmativas a seguir e assinale (V) para a verdadeira e (F) para a falsa.

- ( ) Permite-se, excepcionalmente, que as contas dos municípios sejam julgadas sem parecer prévio do TCE competente, caso este não emita parecer até o último dia do exercício financeiro.
- ( ) Caso, no período de 12 meses, a relação entre despesas correntes e receitas correntes superar 95% (noventa e cinco por cento), no âmbito dos Estados, é facultado ao TCE, enquanto permanecer a situação, aplicar o mecanismo de ajuste fiscal de vedação da criação de cargo, emprego ou função que implique aumento de despesa.
- ( ) Compete aos Tribunais de Contas verificarem os cálculos dos limites da despesa total com pessoal dos Poderes Executivo, Legislativo e Judiciário.

As afirmativas são, respectivamente,

- (A) F – V – F.
- (B) F – V – V.
- (C) V – F – F.
- (D) V – V – F.
- (E) F – F – V.

**74**

O Art. 167 da Constituição da República de 1988 prevê as vedações constitucionais ao orçamento, em suas diversas fases, positivamente, dentre os seus incisos, princípios orçamentários, além de outras matérias orçamentárias.

Sobre o tema, a Constituição da República de 1988 permite

- (A) o início de programas ou projetos não incluídos na lei orçamentária anual, quando decorrente de necessidade urgente da população, como, por exemplo, para a construção de creches e hospitais.
- (B) a realização de despesas ou a assunção de obrigações diretas que excedam os créditos orçamentários ou adicionais, se aprovados pelo Poder Legislativo por maioria absoluta.
- (C) ao legislador estadual prever que os depósitos judiciais à disposição do Poder Judiciário Estadual serão utilizados para aplicação nas áreas de saúde, educação, segurança pública, infraestrutura viária, mobilidade urbana e pagamento de requisições judiciais de pequeno valor.
- (D) ao legislador estadual criar programa de incentivo às atividades esportivas mediante concessão de benefício fiscal a pessoas jurídicas, contribuintes do IPVA, que patrocinem, façam doações e investimentos em favor de atletas ou pessoas jurídicas.
- (E) a transposição, o remanejamento ou a transferência de recursos de uma categoria de programação para outra ou de um órgão para outro, desde que aprovados pelo Poder Legislativo.

**75**

Determinado Decreto Estadual, com base na Lei Complementar nº 123/2006, instituiu diferencial de alíquota (DIFAL) do ICMS pelo Estado de destino na entrada de mercadoria em seu território devido por sociedade empresária aderente ao Simples Nacional, independentemente da posição desta na cadeia produtiva ou da possibilidade de compensação dos créditos.

Sobre a hipótese descrita, assinale a afirmativa correta.

- (A) O Decreto Estadual viola o princípio da legalidade, pois, a despeito de haver previsão da antecipação do DIFAL na Lei Complementar nº 123/2006, a norma complementar possui caráter geral e não dispensa a regulação por lei em sentido estrito pelo estado.
- (B) A imposição tributária imposta pelo Decreto Estadual é inconstitucional, pois não respeita o ideal regulatório do tratamento favorecido para as microempresas e empresas de pequeno porte a exigência do diferencial de alíquota.
- (C) A previsão do Decreto Estadual e da Lei Complementar nº 123/2006 viola o princípio da não-cumulatividade, pois a sistemática do Simples Nacional não permite o creditamento do ICMS.
- (D) A imposição tributária imposta pelo Decreto Estadual é constitucional, pois o diferencial de alíquota consiste apenas em uma modalidade de cálculo do ICMS, não se aplicando as limitações ao poder de tributar.
- (E) A previsão do Decreto Estadual está eivada de inconstitucionalidade formal, por ampliar a hipótese de cobrança do DIFAL prevista na Lei Complementar nº 123/2006.

**76**

De acordo com a CRFB/88, os pagamentos devidos pelas Fazendas Públicas, em virtude de sentença judiciária, devem ser feitos por meio de precatórios.

Sobre o tema, analise as afirmativas a seguir.

- I. As empresas públicas e as sociedades de economia mista, para se submeterem ao regime constitucional dos precatórios, devem preencher os seguintes requisitos cumulativos: (i) prestar, exclusivamente, serviços públicos de caráter essencial, (ii) em regime não concorrencial e (iii) não ter a finalidade primária de distribuir lucros.
- II - Os Estados-membros e o Distrito Federal têm autonomia para dispor sobre obrigações de pequeno valor, no que se refere à fixação do valor referencial.
- III - Nos casos em que há risco de dano grave e irreversível à saúde, como exceção à regra dos precatórios, pode ser autorizado o sequestro do montante necessário à satisfação imediata dos direitos fundamentais do credor.

Está correto o que se afirma em

- (A) I, apenas.
- (B) I e II, apenas.
- (C) I e III, apenas.
- (D) II e III, apenas.
- (E) I, II e III.

## Direito Penal / Direito Processual Penal

77

No tocante ao delito de lavagem de capitais, analise as afirmativas a seguir.

- I. Não há rol taxativo de crimes antecedentes para sua configuração.
- II. A jurisprudência admite a teoria da cegueira deliberada para caracterização da lavagem.
- III. Quando praticado na modalidade típica de ocultar, é classificado como crime permanente.

Está correto o que se afirma em

- (A) I, apenas.
- (B) I e II, apenas.
- (C) I e III, apenas.
- (D) II e III, apenas.
- (E) I, II e III.

78

Aquiles pretendia comercializar vegetação de eucaliptos do terreno de seu vizinho. Para tanto, compareceu ao órgão ambiental competente e preencheu um requerimento, fazendo inserir informações como se fosse o proprietário do imóvel.

O vizinho, real proprietário do imóvel, compareceu àquela repartição pública e apontou que a informação prestada por Aquiles era falsa, de modo que a autorização foi cancelada e Aquiles sequer efetuou o corte de vegetação.

Pelo exposto, é correto afirmar que Aquiles

- (A) deverá responder pelo crime de falsidade ideológica na forma tentada.
- (B) deverá responder pelo crime de falsidade ideológica na forma consumada.
- (C) não deverá responder pelo crime de falsidade ideológica, em razão do arrependimento eficaz.
- (D) não deverá responder pelo crime de falsidade ideológica, em razão da desistência voluntária.
- (E) deverá responder pelo crime de falsidade ideológica com diminuição de pena, em razão do arrependimento posterior.

## Direito Processual Penal

79

Condenado pela prática dos crimes de lavagem de dinheiro (Lei nº 9.613/98) e corrupção passiva (Art. 317 do Código Penal), Felipo cumpre pena de 8 (oito) anos em uma unidade prisional do Tocantins. A defesa de Felipo, entendendo que o sentenciado cumpriu os requisitos necessários para a concessão da progressão de regime, postula o benefício legal ao Juízo das Execuções Penais. O pleito defensivo é indeferido pelo juiz. Inconformada, a defesa pretende interpor recurso perante o Tribunal.

Com base no caso descrito, assinale a opção que indica o recurso a ser interposto da decisão que indeferiu o pedido de progressão de regime.

- (A) Carta testemunhável.
- (B) Apelação.
- (C) Embargos infringentes.
- (D) Embargos à Execução.
- (E) Agravo em Execução.

80

[...] O princípio acusatório, avaliado estaticamente, consiste na distribuição do direito de ação, do direito de defesa e do poder jurisdicional, entre autor, réu (e seu defensor) e juiz. Tal consideração conduz ao esclarecimento, pelo menos sucinto, do que se considera direito de ação penal condenatória. [...]

PRADO, Geraldo. Sistema Acusatório. A conformidade Constitucional das Leis penais. RJ: Lumen Juris, 2001, 2ª. edição, p. 133.

Com relação à ação penal, analise os itens a seguir.

- I. Para o exercício da ação penal de iniciativa privada, deverá constar no instrumento do mandato a menção do fato criminoso, sem a qual poderá levar a rejeição da queixa-crime.
- II. É cabível ação penal de iniciativa privada subsidiária da pública quando o Ministério Público, dentro do prazo legal de 10 dias, se manifesta pelo arquivamento do inquérito policial.
- III. No âmbito penal, a sucessão processual, em caso de morte ou declaração de ausência da vítima, o direito de representar, por ordem de preferência, passa para o cônjuge, ascendentes, descendentes e irmãos.

Está correto o que se afirma em

- (A) I, II e III.
- (B) I e II, apenas.
- (C) II e III, apenas.
- (D) I e III, apenas.
- (E) I, apenas.

## Direito Empresarial

81

A Companhia Lajeado Novo Jardim, da espécie aberta e com capital autorizado, pretende emitir debêntures conversíveis em ações e da espécie simples.

Acerca da competência para autorizar a emissão deste valor mobiliário e com estas especificações, de acordo com a legislação societária, ela é do(a)

- (A) Conselho de Administração ou da diretoria, exceto se houver disposição estatutária em contrário que confira competência à assembleia-geral.
- (B) Conselho de Administração, não podendo o estatuto dispor em contrário por se tratar de competência privativa.
- (C) Assembleia-geral, mas o estatuto pode autorizar o conselho de administração, nos limites do capital autorizado, a deliberar sobre a emissão, especificando o limite do aumento de capital decorrente da conversão, em valor do capital social ou em número de ações, e as espécies e classes das ações que poderão ser emitidas.
- (D) Diretoria, mas o estatuto pode delegar competência ao Conselho de Administração, por se tratar de companhia aberta e de capital autorizado e as debêntures serem conversíveis em ações, desde que o órgão delibere sobre a época e as condições do pagamento dos juros, da participação nos lucros e do prêmio de reembolso, se houver.
- (E) Assembleia-geral, não podendo o estatuto dispor em contrário por se tratar de competência privativa.



82

Comercial Lavandeira Ltda. teve sua falência decretada pelo juízo da comarca de Pedro Afonso em razão da convolação do processo de recuperação judicial.

Para fins de rateio na falência, o quadro geral de credores deverá ser formado pelos

- (A) (i) créditos não impugnados constantes do edital contendo a relação de credores elaborada pelo administrador judicial, após a verificação dos créditos constantes da relação de credores apresentada pelo falido, habilitações e divergências tempestivas; (ii) pelo julgamento de todas as impugnações apresentadas no prazo de dez dias da data da publicação da relação de credores do administrador judicial e (iii) pelo julgamento realizado até então das habilitações de crédito recebidas como retardatárias.
- (B) (i) créditos impugnados constantes do edital contendo a relação de credores elaborada pelo administrador judicial, após a verificação dos créditos constantes da relação de credores apresentada pelo falido, habilitações e divergências tempestivas; (ii) pelo julgamento de todas as impugnações apresentadas no prazo de quinze dias da data da publicação da relação de credores do administrador judicial e (iii) pelo julgamento realizado até então das habilitações de crédito recebidas como retardatárias e das reservas deferidas.
- (C) (i) créditos não impugnados constantes do edital contendo a relação de credores elaborada pelo administrador judicial, após a verificação dos créditos constantes da relação de credores apresentada pelo falido, habilitações e divergências e reservas tempestivas; (ii) pelo julgamento de todas as impugnações apresentadas no prazo de dez dias da data da publicação da sentença de falência e (iii) pelo julgamento realizado das habilitações de crédito recebidas como retardatárias, das reservas pleiteadas e das impugnações retardatárias.
- (D) (i) créditos impugnados constantes do edital contendo a relação de credores elaborada pelo administrador judicial, após a verificação dos créditos constantes da relação de credores apresentada pelo falido, divergências e reservas tempestivas; (ii) pelo julgamento de todas as impugnações apresentadas no prazo de quinze dias da data da publicação da sentença de falência e (iii) pelo julgamento realizado das habilitações de crédito recebidas como retardatárias e das impugnações retardatárias.
- (E) (i) créditos não impugnados constantes da relação de credores elaborada pelo falido, inclusas as habilitações tempestivas; (ii) pelo julgamento de todas as impugnações e divergências apresentadas no prazo de dez dias da data da publicação da relação de credores do falido e (iii) pelo julgamento realizado até então das habilitações de crédito e reservas recebidas como retardatárias.

83

A Lei nº 8.929/94 instituiu a Cédula de Produto Rural (CPR), título de crédito representativo de promessa de entrega de produtos rurais, com ou sem garantias cedularmente constituídas. Desde então, a lei em referência foi constantemente alterada para ampliar e aperfeiçoar a utilização do título pelos agentes econômicos ligados ao agronegócio e seus financiadores.

A respeito da CPR, analise as afirmativas a seguir.

- I. A validade e eficácia da CPR não dependem de registro em cartório, mas as garantias reais a ela vinculadas ficam sujeitas, para valer contra terceiros, à averbação no cartório de registro de imóveis do lugar dos bens dados em garantia, a ser efetuada no prazo de três dias úteis, contado da apresentação do título ou certidão de inteiro teor, sob pena de responsabilidade funcional do oficial encarregado de promover os atos necessários.
- II. Por se tratar de título de crédito emitido para o setor rural, a CPR apenas pode ter por objeto bens de natureza agrícola, pecuária, florestal, de extrativismo vegetal e de pesca e aquicultura, seus derivados, subprodutos e resíduos de valor econômico, desde que ainda não industrializados ou beneficiados.
- III. Aplicam-se à CPR, no que forem cabíveis, as normas de direito cambial, porém os endossantes não respondem pela entrega do produto, mas, tão-somente, pela existência da obrigação.

Está correto o que se afirma em

- (A) II, apenas.  
(B) III, apenas.  
(C) I e II, apenas.  
(D) I e III, apenas.  
(E) I, II e III.

84

O produtor rural empresário poderá realizar sua inscrição na Junta Comercial e, em decorrência dela, ficará equiparado ao empresário sujeito a registro. A mesma faculdade se aplica à sociedade rural que explore empresa.

Em razão desta constatação, a Lei nº 11.101/2005, ao tratar da legitimidade para o pedido de recuperação judicial pelo produtor rural, dispõe que:

- (A) tratando-se de exercício de atividade rural por pessoa jurídica, a comprovação do prazo de mais de dois anos de exercício de empresa é feita exclusivamente por meio da escrituração Contábil Fiscal (ECF).
- (B) tratando-se de produtor rural pessoa física, para a comprovação do prazo de mais de dois anos de exercício de empresa, o cálculo do período de exercício de atividade rural é feito com base no Livro Caixa Digital do Produtor Rural (LCDPR), ou por meio de obrigação legal de registros contábeis que venha a substituir o LCDPR, e pela Declaração do Imposto sobre a Renda da Pessoa Física (DIRPF) e balanço patrimonial, todos entregues tempestivamente.
- (C) tratando-se de exercício de atividade rural por pessoa jurídica, admite-se a comprovação do prazo de mais de dois anos de exercício de empresa, alternativamente, pela certidão da Junta Comercial, ou pela Declaração de Informações Econômico-fiscais da Pessoa Jurídica (DIPJ) entregue tempestivamente.
- (D) tratando-se de produtor rural pessoa física, a comprovação do prazo de mais de dois anos de exercício de empresa é feita com base no Livro Diário, devidamente autenticado pela Junta Comercial, ou pela entrega do Livro-caixa utilizado para a elaboração da Declaração do Imposto sobre a Renda da Pessoa Física (DIRPF).
- (E) a comprovação do prazo de mais de dois anos de exercício de empresa, tanto pelo produtor rural pessoa física quanto pessoa jurídica, se dá exclusivamente por certidão emitida pela Junta Comercial do lugar da inscrição do empresário ou da sociedade empresária, que deverá instruir a petição inicial.

## Direito Digital

85

Um candidato ao Parlamento estadual, no dia das eleições, fez uma *live* em sua rede social e a manteve postada, disseminando diversos conteúdos desinformativos (*fake news*).

Sobre as considerações jurídicas dessa situação, analise as afirmativas a seguir e assinale (V) para a verdadeira e (F) para a falsa.

- ( ) O Supremo Tribunal Federal já decidiu que redes sociais são meios de comunicação social.
- ( ) O Tribunal Superior Eleitoral, mesmo diante do problema representado pela desinformação (*fake news*), não normatizou uma definição para o fenômeno.
- ( ) Para a produção sistemática de desinformação (*fake news*), o Tribunal Superior Eleitoral, por meio de seu poder normativo, previu a possibilidade de suspensão temporária de perfis, contas ou canais em redes sociais.

As afirmativas são, respectivamente,

- (A) V – V – V.  
 (B) V – F – V.  
 (C) V – V – F.  
 (D) F – F – V.  
 (E) F – V – V.

86

A Assembleia Legislativa do Estado do Tocantins tem armazenada, de forma legítima, uma série de dados pessoais de parcela da sociedade tocaninense. Por conta disso, recebeu pedido de compartilhamento desses dados, proveniente da Secretaria de Estado de Educação.

Em relação a essa situação, analise as afirmativas a seguir.

- I. No compartilhamento dos dados pessoais feito pela Assembleia Legislativa do Estado do Tocantins, é preciso dar publicidade, com informações, por exemplo, sobre a finalidade em sítios eletrônicos.
- II. É preciso previamente analisar a finalidade – a eleição de propósitos legítimos, específicos e explícitos para o tratamento de dados – e a adequação – a compatibilidade do tratamento com as finalidades informadas –, dispensando-se a aferição da limitação do tratamento ao mínimo necessário para a realização de suas finalidades, porque quem solicitou o compartilhamento foi órgão do Estado.
- III. O tratamento de dados pessoais não tem especial relevância apenas no âmbito privado, sobretudo por conta dos direitos fundamentais da privacidade e da intimidade das pessoas, tendo o Estado igual ônus de atenção com relação à proteção de dados pessoais como possuem empresas privadas.

Está correto o que se afirma em

- (A) I, apenas.  
 (B) I e II, apenas.  
 (C) I e III, apenas.  
 (D) II e III, apenas.  
 (E) I, II e III.

87

A Lei nº 12.965/2014, conhecida como Marco Civil da Internet (MCI), é um exemplo de produção legislativa pautada na democracia digital. Em seu trâmite, no Congresso Nacional, a sociedade civil foi chamada a contribuir para o seu resultado final.

A respeito do sistema inaugurado pelo Art. 19 da referida lei, analise as afirmativas a seguir e assinale (V) para a verdadeira e (F) para a falsa.

- ( ) A norma do dispositivo impõe que, para remoção de conteúdo postado por terceira pessoa, o provedor seja notificado judicialmente.
- ( ) Existe exigência legal de que a decisão judicial, para remoção de conteúdo, identifique clara e especificamente o conteúdo que se deseja remover, aceitando-se para tanto a indicação da URL – *Universal Resource Locator* – o que importa, a título de exemplo, respeito ao direito fundamental à liberdade de expressão.
- ( ) A sistemática de responsabilização civil inaugurada pelo Art. 19, do MCI, tem sua constitucionalidade debatida no plano acadêmico, com eco no Supremo Tribunal Federal, sendo um dos argumentos a impossibilidade de o legislador ordinário desfazer a lógica constitucional, para assentar que ocorrido o dano, a responsabilidade só advém em momento posterior.

As afirmativas são, respectivamente,

- (A) F – F – F.  
 (B) V – V – V.  
 (C) V – V – F.  
 (D) F – F – V.  
 (E) F – V – V.

88

O modelo regulatório da Internet é tema tormentoso no Brasil e fora dele, sobretudo com relação a discursos ilícitos e danosos.

Com relação ao *Efeito Bruxelas*, analise as afirmativas a seguir.

- I. Trata-se de uma teoria sobre regulação da Internet que busca explicar a influência dos Estados Unidos da América nos mercados globais através da regulação local, especialmente por conta da nacionalidade de grandes empresas do setor, como a Meta.
- II. O tamanho do mercado consumidor interno, a capacidade regulatória, o emprego de padrões rigorosos e a indivisibilidade do objeto, como o tratamento de dados pessoais, são alguns aspectos que compõem o Efeito Bruxelas.
- III. Dentro da teoria do Efeito Bruxelas, existiriam dois fenômenos, o Efeito Bruxelas *de facto* e o Efeito Bruxelas *de jures*, sendo o primeiro a conformação da conduta de certas empresas às normas de determinado regulador, buscando a formatação de padrões globais, o que ocasionaria o segundo, ou seja, a criação pelos demais governos de regulações semelhantes àquela do regulador antes mencionado.

Está correto o que se afirma em

- (A) I, apenas.
- (B) I e II, apenas.
- (C) I e III, apenas.
- (D) II e III, apenas.
- (E) I, II e III.

## Direito Eleitoral

89

Os Presidentes dos Diretórios Nacionais dos Partidos Políticos *Alfa*, *Beta* e *Gama* iniciaram tratativas para formar uma federação partidária. O Presidente de *Alfa* observou que os partidos políticos devem inicialmente constituir a federação sob a forma de associação, averbando a respectiva constituição no Registro Civil das Pessoas Jurídicas da sede de cada um dos partidos. O Presidente de *Beta* ressaltou que a federação terá programa e estatuto comum, sendo que este último conterà regras para a composição de listas para as eleições proporcionais, que vinculará a escolha de candidatos em todos os níveis da federação.

Por fim, o Presidente de *Gama* defendeu que caberá impugnação do pedido de registro da federação por parte de qualquer interessado, sendo que o deferimento do pedido de registro não afetará a identidade e a autonomia dos partidos integrantes da federação, os quais manterão o dever de prestar contas.

À luz da sistemática vigente, em relação às conclusões dos referidos Presidentes, é correto afirmar que

- (A) todas estão certas.
- (B) todas estão parcialmente certas.
- (C) as conclusões do Presidente de *Gama* estão parcialmente certas, e as conclusões dos Presidentes de *Beta* e *Alfa* totalmente certas.
- (D) as conclusões do Presidente de *Beta* estão parcialmente certas, e as conclusões dos Presidentes de *Alfa* e *Gama* totalmente certas.
- (E) as conclusões do Presidente de *Alfa* estão parcialmente certas, e as conclusões dos Presidentes de *Beta* e *Gama* totalmente certas.

90

João, Prefeito Municipal de *Beta* e candidato à reeleição, foi acusado da prática de abuso de autoridade com base na descrição dessa figura realizada pela Lei nº 9.504/1997. A acusação, veiculada em investigação judicial eleitoral (IJE) pelo Partido Político *Alfa*, ao qual estava filiado Pedro, também candidato à Chefia do Executivo de *Beta*, consistiu na demonstração de que João veiculara inúmeros informes publicitários, custeados com recursos próprios, três meses antes do pleito. Como os informes tiveram grande penetração no ambiente social, isto teria afetado a normalidade e a legitimidade da eleição.

À luz da sistemática vigente, é correto afirmar que

- (A) João praticou abuso de autoridade, não conduta vedada aos agentes públicos.
- (B) João não praticou abuso de autoridade nem conduta vedada aos agentes públicos.
- (C) João praticou conduta vedada aos agentes públicos, não abuso de autoridade.
- (D) *Alfa* não tem legitimidade para ajuizar a IJE, que deveria ser proposta por Pedro, considerado se tratar de eleição pelo sistema majoritário.
- (E) o abuso de autoridade é tipificado na Lei Complementar nº 64/1990, não na Lei nº 9.504/1997, logo, há um erro na descrição da causa de pedir.

91

Joana, influenciadora digital, filiada ao Partido Político *Alfa*, no início do ano em que seriam realizadas eleições para a Câmara dos Deputados, passou a veicular diversos expedientes publicitários em suas redes sociais, nos quais refletia sobre a situação política do país, os problemas enfrentados naquele momento histórico e as medidas a serem adotadas, na futura legislatura, para a alteração desse quadro.

Nesse contexto, concluía cada expediente publicitário com frases preestabelecidas, seguidamente: “vamos lutar para colocar mais mulheres na política”; “realize esse sonho conosco”; “Joana é pré-candidata a Deputada Federal”; “com Joana como Deputada Federal teremos um legislativo ético e produtivo”. Por entender que a conduta de Joana era ilícita, o Partido Político *Beta* ajuizou representação eleitoral em face dela.

A esse respeito, é correto afirmar que

- (A) a propaganda eleitoral é permitida no ano de realização das eleições, logo, a conduta de Joana é lícita.
- (B) é vedada a menção à pretensa candidatura em momento anterior a 15 de agosto, logo, a conduta de Joana é ilícita.
- (C) como Joana se limitou a exaltar suas qualidades pessoais, não há propaganda eleitoral antecipada, logo, sua conduta é lícita.
- (D) os expedientes publicitários de Joana devem ser considerados lícitos, caso sejam veiculados de forma gratuita, sendo vedada a propaganda paga.
- (E) a conduta de Joana, ao apresentar pedido expresso de voto, em momento anterior ao dia subsequente ao último dia do prazo para o registro de candidaturas, é ilícita.

92

João, candidato a cargo eletivo pelo sistema majoritário, requereu a instauração de investigação policial em detrimento de Maria, também candidata ao mesmo cargo, embora sabendo ser ela inocente, com o só objetivo de comprometer a sua imagem e credibilidade perante o eleitorado. Pouco tempo depois, foi demonstrado que Maria não praticara qualquer infração penal, sendo instaurada nova investigação, desta feita em desfavor de João, isto com o objetivo de apurar a prática de crime.

Como os fatos, ao ver de Maria, estavam devidamente esclarecidos, ela consultou sua assessoria em relação aos distintos aspectos dessa narrativa na perspectiva da legislação eleitoral, sendo-lhe corretamente esclarecido que

- (A) como a persecução penal, pelo crime descrito na narrativa, se inicia mediante ação penal privada, Maria tem legitimidade para ajuizá-la.
- (B) o crime conhecido como “denúncia caluniosa” não está tipificado na legislação eleitoral, logo, a persecução penal deve ser iniciada no âmbito da Justiça Comum.
- (C) o crime conhecido como “denúncia caluniosa” está tipificado na legislação eleitoral, e é cabível a ação penal privada subsidiária pela prática de crime eleitoral.
- (D) eventual omissão do Ministério Público em iniciar a persecução penal no âmbito da Justiça Eleitoral, não permite o ajuizamento de ação penal privada subsidiária pela prática de crime eleitoral.
- (E) Maria pode ajuizar a ação penal privada, perante a instância própria, caso o membro do Ministério Público com atribuição, apesar das provas existentes, promova o arquivamento da investigação policial.

## Direito do Consumidor

93

Carmen Santos move ação de obrigação de fazer em face do *Banco Alfa* e do *Banco Gama*, alegando que celebrou vários contratos de empréstimos com os réus, representando cerca de 40% dos seus rendimentos, o que compromete a sua subsistência. Assim, requer que os réus se abstenham de efetuar descontos em sua conta corrente em percentual superior a 30% dos seus vencimentos, bem como se abstenham de negativar o seu nome por falta de pagamento.

Em contestação, os réus alegam, em síntese, que os contratos foram livremente pactuados e que não se trata de empréstimos consignados. O *Banco Alfa*, especificamente, juntou três contratos de mútuo comum com cláusula expressa de desconto das parcelas em conta corrente, além de alegar a impossibilidade de aplicação do Código de Defesa do Consumidor. O *Banco Beta* alegou que os contratos de empréstimo com desconto em conta corrente são lícitos e não estão sujeitos à margem consignável de 30%.

Diante da situação hipotética, analise as afirmativas a seguir.

- I. O juízo, de ofício e independentemente da manifestação de Carmen, deve instaurar o processo de repactuação de dívidas.
- II. Não assiste razão ao *Banco Alfa* de que não se aplica o Código de Defesa do Consumidor ao caso.
- III. Assiste razão ao *Banco Beta* de que os contratos de empréstimo livremente pactuados e com desconto em conta corrente não estão sujeitos à margem consignável de 30%.
- IV. Conforme o entendimento do Superior Tribunal de Justiça, os empréstimos com desconto em conta-salário sujeitam-se à margem consignável de 30%.

Está correto o que se afirma em

- (A) I e II, apenas.
- (B) I e III, apenas.
- (C) II e III, apenas.
- (D) II e IV, apenas.
- (E) III e IV, apenas.

94

Bel Lima ajuizou ação resolutória e reparatória contra a *Incorporadora Obra Certa Empreendimentos Imobiliários* e a intermediária *Bom Negócio Imóveis*, visando à resolução do contrato de aquisição de duas unidades imobiliárias (*apart-hotel*) do empreendimento *Good Life RJ*, o ressarcimento dos valores pagos e a compensação por danos morais, haja vista a paralização das obras há quase dois anos sem a perspectiva de conclusão e de entrega dos apartamentos.

Em sua inicial, requereu a condenação solidária das rés, na condição de fornecedoras. Em contestação, dentre outros argumentos aduzidos, as rés pugnam pela não incidência do Código de Defesa do Consumidor, uma vez que a aquisição das unidades imobiliárias foi a título de investimento, conforme prova documental anexada, na qual a autora afirma sua intenção de adquirir os bens a título de investimento e não como destinatária final.

Diante da situação hipotética narrada, da legislação vigente e do entendimento do Superior Tribunal de Justiça, analise as afirmativas a seguir.

- I. Aos contratos de incorporação imobiliária, embora regidos por princípios e normas que lhes são próprios, também se aplica subsidiariamente a legislação consumerista sempre que a unidade imobiliária for destinada a uso próprio do adquirente ou de sua família.
- II. Apesar de o Código de Defesa do Consumidor incidir na dinâmica dos negócios imobiliários em geral, não se aplica ao caso, pois as unidades imobiliárias não se destinavam a moradia do comprador e de sua família.
- III. Conforme a jurisprudência do Superior Tribunal de Justiça, incide o Código de Defesa do Consumidor na hipótese de investidor ocasional, desde que demonstrada a boa-fé e a falta de *expertise* em incorporação, construção e venda de imóveis do adquirente.

Está correto o que se afirma em

- (A) I, apenas.
- (B) II, apenas.
- (C) I e II, apenas.
- (D) I e III, apenas.
- (E) II e III, apenas.

95

Letícia Almeida ajuíza ação de obrigação de fazer contra *Viajar.com* e *No Ar Companhia Aérea*. Alega que, com o intuito de participar de relevante Congresso de Direito, adquiriu, em 10/01/2023, passagem aérea fornecida pelo *site* da primeira ré e de execução da segunda ré, de ida e volta, saindo do Rio de Janeiro e tendo como destino a cidade de Paris, pelo valor de R\$850,00 (oitocentos e cinquenta reais), incluídos impostos e taxas. Alega ter realizado todo o procedimento de compra e ter recebido *e-mail* de confirmação da reserva dos bilhetes e recibo. No entanto, cerca de 6 horas após a compra, foi surpreendida por um *e-mail* da primeira ré, informando a ocorrência de um erro sistêmico no carregamento de preços e, conseqüentemente, o cancelamento da operação para aquisição da passagem, que não havia sido emitida e que o valor de R\$850,00 (oitocentos e cinquenta reais) não havia sido debitado do cartão de crédito informado.

Assim, diante dos fatos, Letícia requer o reconhecimento da falha na prestação de serviços e a condenação das rés à emissão de nova passagem, nos termos e valores previamente ofertados, conforme preceitua o Art. 35, inciso I, do Código de Defesa do Consumidor.

Diante da situação hipotética narrada, da legislação vigente e do entendimento do Superior Tribunal de Justiça, assinale a afirmativa correta.

- (A) Conforme o entendimento do STJ, o erro grosseiro no carregamento de preços, de fácil percepção pelo consumidor não afasta a responsabilidade das rés que, em razão do princípio da vinculação da oferta, são obrigadas a emitir os bilhetes nas condições anteriormente divulgadas.
- (B) Letícia titulariza direito subjetivo absoluto de exigir o cumprimento da oferta, não podendo o exercício do seu direito ser obstado pela alegação de erro grosseiro ou de ausência de prejuízo.
- (C) Diante da vulnerabilidade do consumidor e da incidência da teoria do risco integral em relação as práticas comerciais, as rés são obrigadas a cumprir a oferta.
- (D) Em razão da presunção absoluta de vulnerabilidade do consumidor, não há a possibilidade de afastar a responsabilidade das rés pela falha na prestação de serviços, mesmo diante de erro grosseiro e cognoscível.
- (E) Conforme o entendimento do STJ, diante da particularidade dos fatos em que se constatou erro grosseiro na oferta e da ausência de qualquer cobrança, bem como do propósito de promoção da harmonia e equilíbrio das relações de consumo, não há, no caso, violação ao princípio da vinculação da oferta.

96

O Ministério Público de um dos Estados da Federação identificou que um banco de dados de proteção ao crédito estava incluindo em cadastro de inadimplentes dados referentes a débitos em fase de discussão judicial, mesmo quando informado sobre tal circunstância. Em razão disso, decidiu mover Ação Civil Pública contra a empresa que realiza a gestão do banco de dados.

Após isso, vários consumidores afetados, individualmente, também propuseram ações individuais autônomas. Nas ações individuais, a advogada da parte ré argumentou, em sua defesa, que, em se tratando de interesse difuso ou coletivo, os consumidores não podem propor ações individuais, considerando para a defesa de interesses metaindividuais a resposta deve ser pela via da tutela coletiva. Na Ação Civil Pública, a advogada da parte ré sustentou que a hipótese é de interesse individual, de modo que só é possível a tutela individual por via de ações autônomas promovidas por cada consumidor afetado.

Diante deste caso, assinale a afirmativa correta.

- (A) A hipótese é de interesse individual homogêneo, mas, ainda assim, o Ministério Público está legitimado a propor a tutela coletiva de tais direitos, mesmo de natureza disponível, quando a lesão a eles comprometer relevantes interesses sociais.
- (B) A hipótese é de interesse coletivo, acrescentando-se que a defesa tem razão ao apontar que não é possível a propositura de ação individual para a defesa de interesse coletivo.
- (C) A hipótese é de interesse difuso, mas a defesa não tem razão ao indicar a exclusividade da tutela coletiva, na medida em que a defesa de interesse difuso pode ser individual.
- (D) A hipótese é de interesse individual heterogêneo, assistindo razão à defesa ao afirmar que a tutela do consumidor, neste caso, só pode ser buscada por meio de ações individuais a serem propostas por cada consumidor afetado.
- (E) A hipótese é de interesse difuso, de natureza divisível, razão pela qual a defesa não tem razão ao indicar a exclusividade da tutela coletiva, na medida em que a defesa de interesse difuso divisível pode ser individual.

## Estatuto da Criança e da Adolescência

97

Carlos, 17 anos, foi apreendido em flagrante pela polícia após subtrair sabonetes e cremes para cabelo em uma farmácia. De acordo com o laudo de apreensão e avaliação, o valor total dos bens furtados era de R\$300,00 (trezentos reais).

Apresentado ao membro do Ministério Público, o Promotor de Justiça resolveu conceder remissão, com aplicação de liberdade assistida, o que foi aceito pelo adolescente, seus responsáveis e a defesa técnica.

Diante desse panorama, assinale a opção correta.

- (A) A remissão aplicada pelo Ministério Público em conjunto com liberdade assistida é uma forma de suspensão do processo, já que o feito aguarda que o adolescente cumpra a medida para, após isso, ser extinto.
- (B) Pelos fatos narrados, Carlos só poderá receber medidas socioeducativas. Por isso, incabível o princípio da insignificância, pois o STF não aceita essa tese aos atos infracionais.
- (C) A remissão aplicada pelo MP em conjunto com medida socioeducativa faz com que o adolescente possa ter problemas no futuro, já que ficará com a folha de antecedentes maculada.
- (D) A remissão aplicada pelo Ministério Público é forma de exclusão do processo, sendo certo que Carlos, mesmo com a aplicação de medida socioeducativa, não está reconhecendo sua responsabilidade pelo ato infracional.
- (E) De acordo com o ECA, se o membro do Ministério Público promover o arquivamento dos autos, deverá comunicar à vítima, ao adolescente, à autoridade policial e encaminhará os autos para a instância de revisão ministerial para fins de homologação.

98

Renato, criança de 7 anos, foi encontrado sozinho em casa, sem alimentação adequada e em péssimas condições de higiene. Conforme relatório feito pelo Conselho Tutelar, os vizinhos ouviram os gritos da criança e acionaram a polícia, que adentrou o recinto e resgatou o infante. O Conselho Tutelar, de forma emergencial e considerada a urgência, aplicou a medida protetiva de acolhimento institucional. Dentro do prazo de 24 horas, o Juízo da Infância foi comunicado do acolhimento emergencial.

Foi verificado que a criança estava sob os cuidados da mãe, Maria, que é usuária compulsiva de drogas e deixou o filho abandonado em casa. Também se constatou que o pai de Renato, Marcelo, não sabia do abandono por estar divorciado de Maria. Marcelo trabalha com carteira assinada e se prontificou a ficar com a criança, sendo certo que os relatórios técnicos produzidos indicam que Marcelo possui local adequado para receber Renato. Diante desse panorama, considerando o Estatuto da Criança e do Adolescente e o posicionamento do STJ, assinale a afirmativa correta.

- (A) O STJ entende que, em regra, o acolhimento familiar temporário representa o melhor interesse da criança, salvo quando há evidente risco à integridade física ou psíquica do infante.
- (B) O acolhimento institucional aplicado deve ser visto como uma medida provisória, devendo ser priorizada a reintegração familiar ou, não sendo possível, a colocação em família substituta.
- (C) O acolhimento institucional aplicado deve permanecer por, no mínimo, 3 meses, que é o prazo previsto em lei para a reavaliação.
- (D) Renato é integrante da família extensa, conforme o Art. 25 do ECA. Por isso, terá prioridade para obter a guarda da criança.
- (E) O acolhimento familiar, por ser melhor para a criança, não precisa ser reavaliado.

99

De acordo com o Estatuto da Criança e do Adolescente, assinale a opção que apresenta *linhas* da política de atendimento.

- (A) As políticas sociais básicas e a municipalização do atendimento.
- (B) A manutenção de fundos nacional, estaduais e municipais vinculados aos respectivos conselhos de direitos da criança e do adolescente e a mobilização da opinião pública para a participação dos segmentos sociais.
- (C) A realização e a divulgação de pesquisas sobre desenvolvimento infantil e a proteção jurídico-social por entidades de defesa dos direitos da criança e do adolescente.
- (D) O serviço de identificação e localização de pais e responsáveis de crianças e adolescentes desaparecidos e a criação de programas específicos voltados para a descentralização político-administrativa.
- (E) Os serviços especiais de prevenção e de atendimento médico e psicossocial às vítimas de negligência, maus-tratos, exploração, abuso, crueldade e opressão, e as campanhas de estímulo ao acolhimento sob forma de guarda de crianças e adolescentes afastados do convívio familiar e à adoção, especificamente inter-racial, de crianças maiores ou de adolescentes, com necessidades específicas de saúde ou com deficiências e de grupos de irmãos.

100

Em uma cidade do interior do Estado do Tocantins, um grupo de advogados tomou conhecimento de que a entidade de atendimento socioeducativo estava funcionando com numerosas irregularidades. Falta água aos adolescentes, além de haver superlotação e péssimas condições de higiene. Todas as informações foram prestadas por familiares das pessoas que estavam na entidade e não quiseram se identificar.

Diante disso, os advogados resolveram expedir ofício à OAB, à Defensoria Pública, ao Ministério Público, ao Conselho Tutelar e também ao Juízo com competência em matéria de infância.

Diante desse cenário, de acordo com o ECA, analise as afirmativas a seguir.

- I. O Ministério Público e a Defensoria Pública possuem legitimidade para ingressar com procedimento para apuração de irregularidades em entidade de atendimento, de acordo com exposto texto legal do ECA.
- II. A OAB do Tocantins e o Ministério Público possuem legitimidade para apuração de irregularidades em entidades de atendimento, de acordo com exposto texto legal do ECA.
- III. A autoridade judiciária, por portaria, pode iniciar o procedimento de apuração de irregularidade em entidade de atendimento.
- IV. O Conselho Tutelar pode representar para apurar irregularidades em entidade de atendimento, sendo viável pedir liminarmente o afastamento provisório do dirigente da entidade.

Está correto o que se afirma em

- (A) I e II, apenas.
- (B) I e III, apenas.
- (C) III e IV, apenas.
- (D) II e III, apenas.
- (E) II e IV, apenas.



# ASSEMBLEIA LEGISLATIVA DO ESTADO DO TOCANTINS

CONCURSO PÚBLICO – EDITAL Nº 02/2023

## PROVA DISCURSIVA – MANHÃ

# PROCURADOR JURÍDICO

NÍVEL SUPERIOR – TIPO 1 – BRANCA



### SUA PROVA

- Além deste caderno contendo **3 (três)** questões discursivas e **1 (uma)** peça jurídica, você receberá do fiscal de prova as folhas de textos definitivos;
- A peça jurídica deverá ser respondida em até **180 (cento e oitenta)** linhas e cada questão discursiva deverá ser respondida em até **30 (trinta)** linhas.



### TEMPO

- Você dispõe de **5 (cinco) horas** para a realização da prova, já incluído o tempo para o preenchimento das folhas de textos definitivos;
- **3 (três) horas** após o início da prova, é possível retirar-se da sala, sem levar o caderno de questões;
- A partir dos **30 (trinta) minutos** anteriores ao término da prova é possível retirar-se da sala **levando o caderno de questões**.



### NÃO SERÁ PERMITIDO

- Qualquer tipo de comunicação entre os candidatos durante a aplicação da prova;
- Anotar informações relativas às respostas em qualquer outro meio que não seja o caderno de questões;
- Levantar da cadeira sem autorização do fiscal de sala;
- Usar o sanitário ao término da prova, após deixar a sala.



### INFORMAÇÕES GERAIS

- Verifique se seu caderno de questões está completo, sem repetição de questões ou falhas. Caso contrário, **notifique imediatamente o fiscal da sala**, para que sejam tomadas as devidas providências;
- Confira seus dados pessoais, especialmente nome, número de inscrição e documento de identidade e leia atentamente as instruções para preencher as folhas de textos definitivos;
- Para o preenchimento da folha de textos definitivos, use somente caneta esferográfica, fabricada em material transparente, com tinta preta ou azul;
- Assine seu nome apenas no(s) espaço(s) reservado(s) no cartão de respostas;
- Confira seu cargo, cor e tipo do caderno de questões. Caso tenha recebido caderno de cargo ou cor ou tipo **diferente** do impresso em suas folhas de textos definitivos, o fiscal deve ser **obrigatoriamente** informado para o devido registro na ata da sala;
- Reserve tempo suficiente para o preenchimento das folhas de textos definitivos. O preenchimento é de sua responsabilidade e **não será permitida a troca de folha de textos definitivos em caso de erro cometido pelo candidato**;
- Para fins de avaliação, serão levadas em consideração apenas as marcações realizadas nas folhas de textos definitivos;
- A FGV coletará as impressões digitais dos candidatos na lista de presença;
- Os candidatos serão submetidos ao sistema de detecção de metais quando do ingresso e da saída de sanitários durante a realização das provas.
- **Boa prova!**



## QUESTÃO DISCURSIVA 1

Responda aos itens a seguir, de forma objetivamente fundamentada, à luz da jurisprudência do Supremo Tribunal Federal.

1. Replicando a redação do Estatuto dos Servidores Públicos Civis da União, o Estatuto dos Servidores Públicos do *Estado Alfa* contém norma que prevê que, entre os requisitos básicos para investidura em cargo público, estão o gozo dos direitos políticos e a quitação com as obrigações militares e eleitorais. **Neste contexto, a suspensão dos direitos políticos prevista no Art. 15, inciso III, da Constituição Federal ("condenação criminal transitada em julgado, enquanto durarem seus efeitos") impede a nomeação e a posse de candidato aprovado em concurso público? Justifique.**
2. João foi aprovado em concurso público dentro do número de vagas previsto no edital, para provimento do cargo efetivo de técnico administrativo no *Estado Beta*. Convocado, João compareceu à junta médica do Estado para exame. Contudo, o citado órgão o considerou inapto para o cargo, pois de acordo com o manual de perícias médicas do órgão, o candidato aprovado somente pode ser considerado apto para tomar posse se tratou o câncer há mais de cinco anos, sendo certo que João teve câncer de estômago há três anos, mas foi comprovada e adequadamente tratado, com êxito total, e atualmente não apresenta qualquer sintoma ou restrição para o trabalho. **Nesse contexto, João tem direito subjetivo à posse? Justifique.**
3. Tramita na Assembleia legislativa do *Estado Delta* proposta de emenda à Constituição Estadual que pretende promover reestruturação administrativa na Secretaria Estadual de Administração Penitenciária, prevendo que *"o preenchimento do quadro de servidores das polícias penais será feito, exclusivamente, por meio de concurso público e por meio do aproveitamento e transformação dos cargos de carreira dos atuais agentes penitenciários."* Sabe-se que, de acordo com a legislação daquele Estado, os policiais penais precisam ter nível superior, já a escolaridade exigida para os agentes penitenciários é apenas nível médio, além de que as atribuições dos cargos são distintas. Foi solicitado pelo Presidente da Comissão de Constituição e Justiça que o Procurador Jurídico daquela Casa Legislativa, emitisse parecer sobre a constitucionalidade da referida proposta. **Dispensada a forma de parecer, como deve opinar o Procurador Jurídico?**

1  
-----  
2  
-----  
3  
-----  
4  
-----  
5  
-----  
6  
-----  
7  
-----  
8  
-----  
9  
-----  
10  
-----  
11  
-----  
12  
-----  
13  
-----  
14  
-----  
15  
-----  
16  
-----  
17  
-----  
18  
-----  
19  
-----  
20  
-----  
21  
-----  
22  
-----  
23  
-----  
24  
-----  
25  
-----  
26  
-----  
27  
-----  
28  
-----  
29  
-----  
30  
-----

## QUESTÃO DISCURSIVA 2

Determinado Estado da Federação editou a Lei Ordinária nº 123/2022, que disciplinava e instituía normas gerais do Imposto sobre Transmissão *Causa Mortis* e Doação de quaisquer Bens ou Direitos (ITCMD), especificamente sobre transmissão *causa mortis* e doação de quaisquer bens móveis ou direitos.

Ao fixar algumas regras de competência do ITCMD, a lei estadual previu:

*“Artigo X – O imposto será devido nas hipóteses abaixo especificadas, sempre que o doador residir ou tiver domicílio no exterior, e, no caso de morte, se o ‘de cujus’ possuía bens, era residente ou teve seu inventário processado fora do país:*

*I – sendo corpóreo o bem transmitido:*

*a) quando se encontrar no território do Estado;*

*b) quando se encontrar no exterior e o herdeiro, legatário ou donatário tiver domicílio neste Estado.*

*II – sendo incorpóreo o bem transmitido:*

*a) quando o ato de sua transferência ou liquidação ocorrer neste Estado;*

*b) quando o ato referido na alínea anterior ocorrer no exterior e o herdeiro, legatário ou donatário tiver domicílio neste Estado.*

Com base na hipótese acima, considerando o ordenamento jurídico em vigor e o entendimento jurisprudencial sobre o ITCMD, responda aos itens a seguir.

- a) **Os Estados e o Distrito Federal, de acordo com a Constituição Federal, têm competência para disciplinar e instituir normas gerais do ITCMD? Justifique.**
- b) **Em relação às regras de competência acima fixadas, analise o Art. X da Lei Ordinária nº 123 sob a ótica da Constituição Federal e a jurisprudência. Justifique.**
- c) **Caso o contribuinte do ITCMD não declare ao fisco estadual doação de bem móvel não sujeito a registro administrativo, quando se inicia o prazo decadencial para o lançamento do crédito tributário? Nesse caso, considere que o doador tem domicílio naquele Estado da Federação. Justifique.**

1

2

3

4

5

6

7

8

9

10

11

12

13

14

15

16

17

18

19

20

21

22

23

24

25

26

27

28

29

30

## QUESTÃO DISCURSIVA 3

---

Na sua atuação como Deputado Estadual, chegou em suas mãos um projeto de lei que determina a obrigatoriedade de implementação de escolas para o acolhimento exclusivo de pessoa com transtorno de espectro autista, seguindo os ditames da Lei Federal nº 12.764, de 27 de dezembro de 2012, Art. 3º, IV, letra a (Institui a Política Nacional de Proteção dos Direitos da Pessoa com Transtorno do Espectro Autista; e altera o § 3º do Art. 98 da Lei nº 8.112, de 11 de dezembro de 1990).

Conforme consta da justificativa do texto do projeto de lei apresentado, o oferecimento de um espaço onde só alunos autistas possam estudar, é fundamental ao seu pleno desenvolvimento.

Você integra uma das comissões que é responsável por analisar esse projeto de lei e sugerir a sua aprovação, a sua rejeição, ou eventual emenda ao texto inicial.

**Com base nos seus conhecimentos sobre a legislação referente à pessoa com deficiência, como você se manifestaria sobre o referido projeto de lei? Justifique a sua resposta com base na doutrina do controle de convencionalidade e nos atos normativos que entenda aplicáveis ao caso concreto.**

1  
-----  
2  
-----  
3  
-----  
4  
-----  
5  
-----  
6  
-----  
7  
-----  
8  
-----  
9  
-----  
10  
-----  
11  
-----  
12  
-----  
13  
-----  
14  
-----  
15  
-----  
16  
-----  
17  
-----  
18  
-----  
19  
-----  
20  
-----  
21  
-----  
22  
-----  
23  
-----  
24  
-----  
25  
-----  
26  
-----  
27  
-----  
28  
-----  
29  
-----  
30  
-----

## PEÇA JURÍDICA

Diversos segmentos da sociedade realizaram uma grande mobilização no território do pequeno Estado *Alfa*, os quais buscaram chamar a atenção das autoridades para a incompatibilidade do nível de desenvolvimento econômico da região metropolitana Y com as tarifas praticadas no transporte intermunicipal de passageiros, tanto individual como coletivo.

No âmbito do transporte coletivo intermunicipal, era grande a insatisfação dos estudantes que precisavam se locomover entre Municípios limítrofes entre si, situados na mesma região metropolitana, de modo a se deslocar de sua residência para o estabelecimento de ensino. Afinal, arcavam com um valor mais elevado da passagem, quando cotejada com o transporte municipal, considerando a distância percorrida. Em relação ao transporte individual intermunicipal, realizado por agentes autorizados a atuar no âmbito de cada Município dessa região, a principal reclamação, embora também decorresse da excessiva onerosidade, tinha conexão não propriamente com a educação, mas com a saúde. Assim ocorria porque o Estado *Alfa* não concentrava em sua capital as unidades de saúde especializadas em patologias e tratamentos específicos. Pelo contrário, as pulverizava em diversos Municípios, o que tornava os deslocamentos com esses veículos relativamente comuns, principalmente por parte de doentes crônicos e de idosos.

Por tal razão, a partir de projeto de lei de iniciativa parlamentar, em cujo processo legislativo ocorreu a rejeição do veto apostado pelo Governador do Estado, foi editada a Lei Complementar estadual nº X. O Art. 1º dispôs sobre o seu objeto: a veiculação de regras sobre o transporte intermunicipal de passageiros, tanto individual como coletivo, no âmbito da região metropolitana Y, do Estado *Alfa*. O Art. 2º dispôs que os estudantes da educação básica teriam o direito de pagar metade da tarifa praticada no transporte coletivo intermunicipal de passageiros, no deslocamento de sua residência para o estabelecimento de ensino, bem como no respectivo retorno. O Art. 3º disciplinou, de modo detalhado, a concessão de autorização, pelo Estado *Alfa*, para a exploração do serviço de transporte individual intermunicipal de passageiros, que poderia ser explorado pelos agentes que já atuavam no território de cada um dos Municípios da região metropolitana Y, fixando, ainda, a política tarifária. O Art. 4º dispôs que o Art. 2º incidiria sobre os contratos de concessão e de permissão em curso, indicando as fontes de custeio necessárias à preservação do equilíbrio econômico e financeiro. O Art. 5º, por fim, dispôs que esse diploma normativo entraria em vigor 60 (sessenta) dias após a sua publicação.

Apesar de amplamente comemorada pela camada da população beneficiada pelos seus efeitos, a Lei Complementar estadual nº X foi duramente criticada pelas sociedades empresárias do setor e pelos Prefeitos dos Municípios que integram a região metropolitana Y. Entre os principais argumentos apresentados, estavam os seguintes: (a) em relação ao direito de os estudantes da educação básica pagarem metade da tarifa no transporte coletivo intermunicipal – a Constituição da República não outorgou aos Estados competência para legislar sobre a matéria; a outorga de benefícios aos estudantes da rede municipal invadiu a autonomia política desse ente federativo; e foi afrontado o ato jurídico perfeito, ao ser determinada a sua incidência nos contratos em curso; (b) em relação à disciplina, pelo Estado, da concessão de autorização para a exploração do serviço de transporte individual intermunicipal de passageiros - o exercício, pelo Estado, de competência tipicamente municipal, a qual, se fosse o caso, deveria ficar a cargo da região metropolitana, com a necessária participação dos Municípios no processo decisório; e a restrição indevida à livre iniciativa; e c) ainda que o Estado fosse competente para legislar sobre a matéria, houve vício de iniciativa no projeto de lei que culminou com a Lei Complementar estadual nº X, já que dispõe sobre o funcionamento do Poder Executivo. Esses argumentos se difundiram e foram proferidas diversas decisões judiciais, em sede de cognição sumária, no âmbito da tutela individual e coletiva, inclusive em segunda instância, em que era reconhecida incidentalmente a inconstitucionalidade da Lei Complementar estadual nº Y, permitindo que as sociedades empresárias que exploravam o serviço de transporte coletivo, bem como os agentes que atuavam no transporte individual, não cumprissem os seus comandos.

Sensibilizada com os efeitos daninhos que o descumprimento da Lei Complementar estadual nº X acarretava para o ambiente social, que se avolumavam a cada dia, a Mesa da Assembleia Legislativa do Estado *Alfa* solicitou que o Procurador-Geral da Assembleia elaborasse a petição inicial da ação constitucional cabível, para que o referido diploma normativo fosse submetido ao controle concentrado de constitucionalidade perante o Tribunal competente da União, com o correlato reconhecimento de sua plena compatibilidade com a Constituição da República.

**Redija a peça processual adequada aos objetivos almejados pela Mesa da Assembleia Legislativa do Estado *Alfa*.**

*Ressalte-se que a peça deve abranger todos os fundamentos de Direito que possam ser utilizados para dar respaldo à pretensão.*

- 1
- 2
- 3
- 4
- 5
- 6
- 7
- 8
- 9
- 10
- 11
- 12
- 13
- 14
- 15
- 16
- 17
- 18
- 19
- 20
- 21
- 22
- 23
- 24
- 25
- 26
- 27
- 28
- 29
- 30
- 31
- 32
- 33
- 34
- 35



36

37

38

39

40

41

42

43

44

45

46

47

48

49

50

51

52

53

54

55

56

57

58

59

60

61

62

63

64

65

66

67

68

69

70

71

72

73

74

75

76

77

78

79

80

81

82

83

84

85

86

87

88

89

90

91

92

93

94

95

96

97

98

99

100

101

102

103

104

105

- 106
- 107
- 108
- 109
- 110
- 111
- 112
- 113
- 114
- 115
- 116
- 117
- 118
- 119
- 120
- 121
- 122
- 123
- 124
- 125
- 126
- 127
- 128
- 129
- 130
- 131
- 132
- 133
- 134
- 135
- 136
- 137
- 138
- 139
- 140

- 141
- 142
- 143
- 144
- 145
- 146
- 147
- 148
- 149
- 150
- 151
- 152
- 153
- 154
- 155
- 156
- 157
- 158
- 159
- 160
- 161
- 162
- 163
- 164
- 165
- 166
- 167
- 168
- 169
- 170
- 171
- 172
- 173
- 174
- 175

176

177

178

179

180



## CONCURSO PÚBLICO 2024

GABARITOS PRELIMINARES  
(PROCURADOR)

**PROVAS APLICADAS NO DIA 14/04/2024**

FGV CONHECIMENTO

### PROCURADOR - PROVA TIPO 1

1	2	3	4	5	6	7	8	9	10	11	12	13	14	15	16	17	18	19	20
A	D	E	B	B	A	B	A	E	C	D	E	E	C	C	A	D	B	D	D
21	22	23	24	25	26	27	28	29	30	31	32	33	34	35	36	37	38	39	40
C	E	B	D	B	A	B	B	C	B	D	A	B	A	B	C	A	E	D	B
41	42	43	44	45	46	47	48	49	50	51	52	53	54	55	56	57	58	59	60
E	D	B	A	C	D	C	B	E	B	A	E	C	E	C	D	A	C	D	E
61	62	63	64	65	66	67	68	69	70	71	72	73	74	75	76	77	78	79	80
B	C	D	B	E	A	B	A	D	A	C	D	E	B	B	E	E	B	E	D
81	82	83	84	85	86	87	88	89	90	91	92	93	94	95	96	97	98	99	100
C	A	B	D	B	D	E	C	B	E	C	E	D	E	A	C	C	D	B	E

### PROCURADOR - PROVA TIPO 2

1	2	3	4	5	6	7	8	9	10	11	12	13	14	15	16	17	18	19	20
A	B	E	D	A	E	B	A	C	B	D	D	C	A	E	C	B	E	D	D
21	22	23	24	25	26	27	28	29	30	31	32	33	34	35	36	37	38	39	40
A	B	E	C	B	D	B	C	C	D	B	D	B	B	B	E	E	A	A	B
41	42	43	44	45	46	47	48	49	50	51	52	53	54	55	56	57	58	59	60
A	E	B	C	B	C	D	A	B	D	A	C	E	C	E	D	B	A	B	D
61	62	63	64	65	66	67	68	69	70	71	72	73	74	75	76	77	78	79	80
D	E	C	C	A	E	D	B	A	C	E	D	B	E	A	B	E	B	E	D
81	82	83	84	85	86	87	88	89	90	91	92	93	94	95	96	97	98	99	100
C	A	D	B	B	C	E	D	E	B	E	C	C	D	E	A	D	B	E	C